

**Delhi Police Head  
Constable**

**Previous Year Paper  
(Ministerial) 19 Oct 2022  
Shift 2**

# Head Constable Ministerial in Delhi Police Examination 2022

Roll Number	
Candidate Name	
Venue Name	
Exam Date	19/10/2022
Exam Time	1:00 PM - 2:30 PM
Subject	Head Constable Ministerial in Delhi Police Examination 2022

## Section : Part-A-General Awareness

Q.1 निम्नलिखित में से कौन-सी पर्वत श्रृंखला दक्षिण में सतपुड़ा श्रेणी और उत्तर-पश्चिम में अरावली से घिरी हुई है?

- Ans
- ☒ 1. मैकाल
  - ☒ 2. मालवा
  - ☒ 3. विंध्य
  - ☒ 4. बघेलखंड

Question ID : 26433071593  
Status : Not Attempted and Marked For Review  
Chosen Option : --

Q.2 फरवरी 2022 में प्रधानमंत्री की आर्थिक सलाहकार परिषद (EAC-PM) में पूर्णकालिक सदस्य के रूप में किसे शामिल किया गया?

- Ans
- ☒ 1. कृष्णमूर्ति सुब्रमण्यम
  - ☒ 2. वी अनंत नागेश्वरन
  - ☒ 3. बिबेक देबरॉय
  - ☒ 4. संजीव सान्याल

Question ID : 26433055046  
Status : Not Answered  
Chosen Option : --

Q.3 1301 में जब अलाउद्दीन खिलजी ने रणथंभौर पर हमला किया था, तब वहाँ का हिंदू शासक कौन था?

- Ans
- ☒ 1. रामदेव
  - ☒ 2. प्रताप रुद्र देव
  - ☒ 3. कर्ण
  - ☒ 4. हम्मीर देव

Question ID : 26433095244  
Status : Not Attempted and Marked For Review  
Chosen Option : --

Q.4 तरलता पाश की स्थिति में मुद्रा की अपेक्षी माँग के लिए मूल्य-सापेक्षता क्या होती है?

- Ans
- ☒ 1. एकक लोचपूर्ण
  - ☒ 2. पूर्णतः लोचपूर्ण
  - ☒ 3. लोचपूर्ण
  - ☒ 4. मूल्यनिरपेक्ष

Question ID : 26433059250  
Status : Not Attempted and Marked For Review  
Chosen Option : --

Q.5 दिए गए कथनों में, भारत में प्रवासन के बारे में कौन सा कथन सही नहीं है?

- Ans
- ☒ 1. प्रवासन शहरी से ग्रामीण क्षेत्रों की ओर हो सकता है।
  - ☒ 2. प्रवासन ग्रामीण से शहरी क्षेत्रों की ओर हो सकता है।
  - ☒ 3. प्रवासन आर्थिक कारकों पर निर्भर नहीं करता है।
  - ☒ 4. प्रवासन में प्रतिकर्ष और अपकर्ष कारक होते हैं।

Question ID : 26433071628  
Status : Not Answered  
Chosen Option : --

Q.6 Which Viceroy introduced a Vernacular Press Act in 1878?

- Ans
- ☒ 1. Viceroy Lord Ripon
  - ☒ 2. Viceroy Marquess of Wellesley
  - ☒ 3. Viceroy Lord Lytton
  - ☒ 4. Viceroy Lord Curzon

Question ID : 26433064731  
Status : Answered  
Chosen Option : 2

Q.7 प्रस्तावना में, \_\_\_\_\_ एक व्यक्ति की गरिमा और राष्ट्र की एकता और अखंडता का आश्वासन देता है।

- Ans
- ☒ 1. स्वतंत्रता
  - ☒ 2. न्याय
  - ☒ 3. बंधुत्व
  - ☒ 4. समानता

Question ID : 26433055538  
Status : Answered  
Chosen Option : 4

Q.8 निम्नलिखित में से किसने 'पॉवर्टी एंड अन-ब्रिटिश रूल इन इंडिया' पुस्तक लिखी है?

- Ans ☒ 1. दादाभाई नौरोजी
- ☒ 2. बाल गंगाधर तिलक
- ☒ 3. बंकिम चंद्र चट्टोपाध्याय
- ☒ 4. महात्मा गांधी

Question ID : 26433055643  
Status : Answered  
Chosen Option : 1

Q.9 नागालैंड का प्रसिद्ध हॉर्नबिल महोत्सव हर साल किस दिन शुरू होता है?

- Ans ☒ 1. 1 फरवरी
- ☒ 2. 1 जनवरी
- ☒ 3. 1 दिसंबर
- ☒ 4. 1 नवंबर

Question ID : 26433064388  
Status : Not Attempted and Marked For Review  
Chosen Option : --

Q.10 \_\_\_\_\_ ने 2022 में ओडिशा ओपन बैडमिंटन टूर्नामेंट 2022 में महिला एकल खिताब जीता।

- Ans ☒ 1. उन्नति हुड्डा
- ☒ 2. प्रियांशु रजावत
- ☒ 3. किरण जॉर्ज
- ☒ 4. स्मिट तोशनीवाल

Question ID : 26433071495  
Status : Answered  
Chosen Option : 4

Q.11 Development in irrigation technology of India resulted in \_\_\_\_\_ in the net irrigated area.

- Ans ☒ 1. no change
- ☒ 2. increase
- ☒ 3. sudden decline
- ☒ 4. decrease

Question ID : 26433069784  
Status : Not Attempted and Marked For Review  
Chosen Option : --

Q.12 'फुगड़ी' एक लोक नृत्य है जो मुख्य रूप से \_\_\_\_\_ में किया जाता है।

- Ans
- ☒ 1. सिक्किम
  - ☒ 2. गोवा
  - ☒ 3. तमिलनाडु
  - ☒ 4. उत्तराखंड

Question ID : 26433064296  
Status : Answered  
Chosen Option : 2

Q.13 The Delhi Special Police Establishment (Amendment) Bill, 2021, permits the extension of tenure of the Director of the Delhi Special Police Establishment by up to \_\_\_\_\_ at a time, till the completion of five years from the initial date of appointment.

- Ans
- ☒ 1. one year
  - ☒ 2. two years
  - ☒ 3. three months
  - ☒ 4. six months

Question ID : 26433061836  
Status : Not Answered  
Chosen Option : --

Q.14 Toothbrush, cycle, bread are examples of which types of goods?

- Ans
- ☒ 1. Inferior goods
  - ☒ 2. Consumer goods
  - ☒ 3. Intermediate goods
  - ☒ 4. Capital goods

Question ID : 26433059253  
Status : Answered  
Chosen Option : 4

Q.15 महाबलीपुरम में शोर मंदिर, मंदिर-वास्तुकला की \_\_\_\_\_ शैली का एक उदाहरण है।

- Ans
- ☒ 1. नायक
  - ☒ 2. होयसल
  - ☒ 3. नागर
  - ☒ 4. द्रविड़

Question ID : 26433064370  
Status : Not Attempted and Marked For Review  
Chosen Option : --

Q.16 फरवरी 2022 में भारत सरकार द्वारा शुरू की गई नव भारत साक्षरता कार्यक्रम (New India Literacy Programme) योजना का मुख्य बिंदु निम्नलिखित में से कौन-सा नहीं है?

- Ans
- ☒ 1. वाणिज्यिक कौशल
  - ☒ 2. डिजिटल साक्षरता
  - ☒ 3. परिवार कल्याण
  - ☒ 4. उच्च अध्ययन के लिए छात्रवृत्ति

Question ID : 26433061845

Status : Not Attempted and Marked For Review

Chosen Option : --

Q.17 In the context of chemical fertilisers, the term NPK is a composition, where symbol 'N' represents \_\_\_\_\_.

- Ans
- ☒ 1. Nickel
  - ☒ 2. Niobium
  - ☒ 3. nitrogen
  - ☒ 4. Nobelium

Question ID : 26433059288

Status : Answered

Chosen Option : 2

Q.18 कार्बन मोनोऑक्साइड गैस में ऑक्सीजन के कितने अणु होते हैं?

- Ans
- ☒ 1. एक
  - ☒ 2. तीन
  - ☒ 3. चार
  - ☒ 4. दो

Question ID : 26433095253

Status : Answered

Chosen Option : 1

Q.19 निम्नलिखित में से किस आई.आई.टी. ने नवंबर 2020 में कोरोनावायरस जागरूकता प्रसार के लिए एक ऑनलाइन गेम बनाया था?

- Ans
- ☒ 1. आई.आई.टी. गुवाहाटी
  - ☒ 2. आई.आई.टी. खड़गपुर
  - ☒ 3. आई.आई.टी. दिल्ली
  - ☒ 4. आई.आई.टी. मद्रास

Question ID : 26433095266

Status : Answered

Chosen Option : 3

Q.20 भारतीय कारखाना अधिनियम की किस धारा में यह उल्लेख किया गया है कि यदि किसी कारखाने के उद्योग में 30 से अधिक महिलाओं को नियोजित किया जाता है तो शिशुगृह की व्यवस्था की जानी अपेक्षित है?

- Ans
- ☒ 1. धारा 38
  - ☒ 2. धारा 37
  - ☒ 3. धारा 48
  - ☒ 4. धारा 52

Question ID : 26433066605

Status : **Not Attempted and Marked For Review**

Chosen Option : --

Section : Part-B-Quantitative Aptitude

Q.1 एक गाँव में, यदि पुरुषों और महिलाओं का अनुपात 3 : 2 है, तो गाँव में पुरुषों का प्रतिशत कितना है?

- Ans
- ☒ 1. 60%
  - ☒ 2. 90%
  - ☒ 3. 80%
  - ☒ 4. 70%

Question ID : 26433056873

Status : **Answered**

Chosen Option : 1

Q.2 A and B can paint the walls of a building in 25 days. 'A' alone can do  $\frac{1}{3}$  of this job in 15 days. In how many days can 'B' alone paint the walls of the building?

- Ans
- ☒ 1.  $56\frac{1}{4}$  days
  - ☒ 2. 56 days
  - ☒ 3.  $56\frac{1}{2}$  days
  - ☒ 4.  $56\frac{3}{4}$  days

Question ID : 26433061223

Status : **Answered**

Chosen Option : 3

Q.3  $\sin^2 5^\circ + \sin^2 10^\circ + \sin^2 15^\circ + \dots + \sin^2 85^\circ + \sin^2 90^\circ$  का मान \_\_\_\_\_ के बराबर है।

- Ans
- ☒ 1. 9
  - ☒ 2. 8
  - ☒ 3.  $8\frac{1}{2}$
  - ☒ 4.  $9\frac{1}{2}$

Question ID : 26433058933  
Status : Answered  
Chosen Option : 4

Q.4 एक व्यापारी अपने माल पर लागत मूल्य से 32% अधिक अंकित करता है और अपने ग्राहकों को उनके बिलों में 10% की कटौती कर देता है। उसे कितने प्रतिशत लाभ होता है?

- Ans
- ☒ 1. 18.8%
  - ☒ 2. 18.6%
  - ☒ 3. 19%
  - ☒ 4. 19.2%

Question ID : 26433056310  
Status : Not Attempted and Marked For Review  
Chosen Option : --

Q.5 सीमा एक कार्य को 7 दिन में पूरा कर सकती है, जबकि कार्तिक उसी कार्य को 12 दिन में पूरा कर सकता है। प्रबंधक ने उन्हें एक साथ कार्य करने के लिए कहा ताकि कार्य पहले पूरा किया जा सके। उन्हें एक साथ मिलकर कार्य को पूरा करने में कितने दिन लगेंगे?

- Ans
- ☒ 1. 5.12 दिन
  - ☒ 2. 4.89 दिन
  - ☒ 3. 3.42 दिन
  - ☒ 4. 4.42 दिन

Question ID : 26433058803  
Status : Answered  
Chosen Option : 4







Q.6 एक परीक्षा में पांच पेपर हैं। निम्नलिखित तालिका में तीन छात्रों द्वारा प्राप्त अंकों को सारणीबद्ध किया गया है।  
सबसे कम अंक किसने और किस पेपर में प्राप्त किए हैं?

छात्रों का नाम	गणित	भौतिक विज्ञान	रसायन विज्ञान	अंग्रेजी	कंप्यूटर
नेहा	85	88	78	75	89
अंकित	89	75	80	72	80
केवल	78	71	81	73	83

- Ans  1. अंकित, अंग्रेजी  
 2. केवल, भौतिक विज्ञान  
 3. नेहा, अंग्रेजी  
 4. केवल, अंग्रेजी

Question ID : 26433074316  
Status : Answered  
Chosen Option : 2

Q.7 यदि  $a^4 + b^4 = -a^2 b^2$  है, तो  $a^6 - b^6 = ?$

- Ans  1. 1  
 2. -1  
 3. 0  
 4. 2

Question ID : 26433061377  
Status : Marked For Review  
Chosen Option : 3

Q.8 The marked price of a TV set is Rs.12,500. It sells with two successive discounts of 16% and 12%. An additional 5% discount is given on cash payment. What is the selling price of the TV set on cash payment?

- Ans  1. Rs.9,760  
 2. Rs.8,778  
 3. Rs.8,578  
 4. Rs.7,750

Question ID : 26433064909  
Status : Not Attempted and Marked For Review  
Chosen Option : --

Q.9 एक मोटर बोट 10 घंटे में धारा की दिशा में 40 km और धारा की विपरीत दिशा में 30 km की दूरी तय कर सकती है। यह 15 घंटे में धारा की दिशा में 80 km और धारा की विपरीत दिशा में 40 km की दूरी तय कर सकती है। शांत जल में बोट की चाल ज्ञात कीजिए।

- Ans
- ☐ 1. 4 km/h
  - ☐ 2. 16 km/h
  - ☐ 3. 8 km/h
  - ☒ 4. 10 km/h

Question ID : 26433061439

Status : Answered

Chosen Option : 2

Q.10 7 cm की आंतरिक त्रिज्या वाला एक गोला Rs.24 प्रति  $\text{cm}^3$  की लागत वाले रसायन से पूरी तरह से भरा है। यदि गोले से 50% रसायन लिया जाए, तो रसायन की कीमत (Rs. में) क्या होगी?

- Ans
- ☒ 1. 17248
  - ☐ 2. 16248
  - ☐ 3. 34496
  - ☐ 4. 34248

Question ID : 26433056341

Status : Not Attempted and Marked For Review

Chosen Option : --

Q.11 यदि दो संख्याओं में 3 जोड़ा जाता है, तो अनुपात 4 : 5 होता है और यदि दो संख्याओं में से वही संख्या घटा दी जाती है, तो अनुपात 1 : 2 होता है। वे संख्याएँ कौन सी हैं?

- Ans
- ☒ 1. 5 और 7
  - ☐ 2. 4 और 5
  - ☐ 3. 1 और 2
  - ☐ 4. 7 और 5

Question ID : 26433061628

Status : Answered

Chosen Option : 1

Q.12 एक त्रिभुज ABC में, D और E बिंदु, क्रमशः AB और AC पर इस प्रकार हैं कि  $AD = \frac{1}{3} AB$ , और  $AE = \frac{1}{3} AC$  है। यदि  $BC = 18 \text{ cm}$  है, तो DE की लंबाई ज्ञात कीजिए।

- Ans
- ☐ 1. 12 cm
  - ☒ 2. 6 cm
  - ☐ 3. 18 cm
  - ☐ 4. 3 cm

Question ID : 26433075016

Status : Answered

Chosen Option : 1

Q.13 Rs.420 के लिए  $4\frac{1}{2}\%$  प्रति वर्ष की दर से 3 वर्ष का साधारण ब्याज ज्ञात कीजिए।

- Ans
- ☒ 1. Rs.57.70
  - ☒ 2. Rs.55.70
  - ☒ 3. Rs.56.70
  - ☒ 4. Rs.54.70

Question ID : 26433063878  
Status : Answered  
Chosen Option : 3

Q.14 12 cm त्रिज्या वाले एक ठोस अर्धगोले को पिघलाकर 'n' समरूप शंकु ढाले जाते हैं, जिनकी त्रिज्या 6 cm और ऊँचाई 8 cm है। 'n' का मान क्या है?

- Ans
- ☒ 1. 12
  - ☒ 2. 13
  - ☒ 3. 15
  - ☒ 4. 14

Question ID : 26433061424  
Status : Not Attempted and Marked For Review  
Chosen Option : --

Q.15 7 और 63 के बीच माध्य आनुपातिक (mean proportional) क्या है?

- Ans
- ☒ 1. 52
  - ☒ 2. 17
  - ☒ 3. 441
  - ☒ 4. 21

Question ID : 26433058408  
Status : Answered  
Chosen Option : 4

Q.16  $0.1\overline{65}$  को साधारण भिन्न में व्यक्त कीजिए।

- Ans
- ☒ 1.  $\frac{164}{99}$
  - ☒ 2.  $\frac{165}{990}$
  - ☒ 3.  $\frac{165}{99}$
  - ☒ 4.  $\frac{164}{990}$

Question ID : 26433065043  
Status : Answered  
Chosen Option : 2

Q.17 एक परीक्षा में, 6 छात्रों द्वारा प्राप्त अंक 76, 68, 79, 84, 88 और 85 हैं। समूह के औसत अंक क्या हैं?

- Ans
- ☒ 1. 60
  - ☒ 2. 90
  - ☒ 3. 85
  - ☒ 4. 80

Question ID : 26433071296  
Status : Answered  
Chosen Option : 4

Q.18 Which of the following is a pair of co-prime numbers?

- Ans
- ☒ 1. 15, 312
  - ☒ 2. 68, 85
  - ☒ 3. 91, 141
  - ☒ 4. 143, 169

Question ID : 26433079836  
Status : Answered  
Chosen Option : 1

Q.19 एक शहर की जनसंख्या 10% प्रति वर्ष की दर से बढ़ती है। यदि 2005 में इसकी जनसंख्या 2 करोड़ थी, तो वर्ष 2007 में शहर की जनसंख्या कितनी होगी?

- Ans
- ☒ 1. 2.40 करोड़
  - ☒ 2. 2.42 करोड़
  - ☒ 3. 2.22 करोड़
  - ☒ 4. 2.20 करोड़

Question ID : 26433058148  
Status : Answered  
Chosen Option : 1

Q.20 संख्या  $1.\overline{0123}$  का साधारण भिन्न क्या होगा?

- Ans
- ☒ 1.  $\frac{10122}{9999}$
  - ☒ 2.  $\frac{10111}{9990}$
  - ☒ 3.  $\frac{10122}{9990}$
  - ☒ 4.  $\frac{10222}{9999}$

Question ID : 26433066168  
Status : Answered  
Chosen Option : 4

Q.1 उस विकल्प का चयन करें, जो पाँचवें अक्षर-समूह से उसी प्रकार संबंधित है, जैसे दूसरा अक्षर-समूह पहले अक्षर-समूह से संबंधित है और चौथा अक्षर-समूह तीसरे अक्षर-समूह से संबंधित है।  
PAT : WFW :: TIN : ANQ :: MUG : ?

- Ans
- ✓ 1. TZJ
  - ✗ 2. TYJ
  - ✗ 3. TZH
  - ✗ 4. TZI

Question ID : 26433056670  
Status : Answered  
Chosen Option : 1

Q.2 उस विकल्प का चयन कीजिए जो पाँचवें अक्षर समूह से उसी तरह संबंधित है जिस तरह दूसरा अक्षर समूह पहले अक्षर समूह से संबंधित है और चौथा अक्षर समूह तीसरे अक्षर समूह से संबंधित है।  
GNJCS : XBAQJ :: ANDHX : RBUVO :: BDXLT : ?

- Ans
- ✗ 1. SORKZ
  - ✗ 2. ROZKS
  - ✗ 3. ROSKZ
  - ✓ 4. SROZK

Question ID : 26433074705  
Status : Answered  
Chosen Option : 4

Q.3 दिए गए विकल्पों में से उस आकृति का चयन करें जो निम्नलिखित श्रृंखला में

प्रश्नवाचक चिह्न (?) का स्थान ले सकती है।



Ans

- ✗ 1.
- ✗ 2.
- ✓ 3.
- ✗ 4.

Question ID : 26433080535

Status : Answered

Chosen Option : 3

Q.4 उस विकल्प का चयन कीजिए, जो तीसरे पद से उसी प्रकार संबंधित है, जिस प्रकार दूसरा पद पहले पद से और छठा पद पाँचवें पद से संबंधित है।

129 : 95 :: 87 : ? :: 118 : 84

Ans ✓ 1. 53

- ✗ 2. 51
- ✗ 3. 49
- ✗ 4. 55

Question ID : 26433057059

Status : Answered

Chosen Option : 1

Q.5 एक कूट भाषा में 'RATIO' को P78Q के रूप में और 'QUIET' को U87P के रूप में कूटबद्ध किया जाता है। उसी भाषा में 'CLEAN' को किस प्रकार कूटबद्ध किया जाएगा?

- Ans
- ☒ 1. B70M
  - ☒ 2. O68B
  - ☒ 3. O50B
  - ☒ 4. B68M

Question ID : 26433057826

Status : Answered

Chosen Option : 1

Q.6 चार अक्षर-समूह दिए गए हैं जिनमें से तीन किसी न किसी तरह से एकसमान हैं और एक असंगत है। उस असंगत अक्षर-समूह का चयन कीजिए।

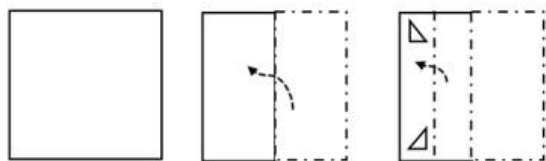
- Ans
- ☒ 1. HJL
  - ☒ 2. NPR
  - ☒ 3. SUX
  - ☒ 4. BDF

Question ID : 26433068499

Status : Answered

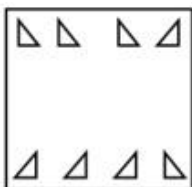
Chosen Option : 3

Q.7 एक कागज को नीचे दर्शाए गए अनुसार मोड़ा और काटा जाता है। खुलने पर यह कैसा दिखाई देगा?




Ans

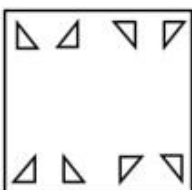
✗ 1.



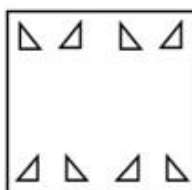
✗ 2.



✗ 3.



✓ 4.



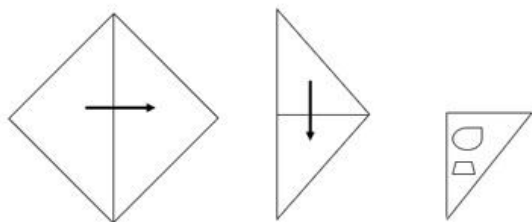
Question ID : 26433056118

Status : Answered

Chosen Option : 4

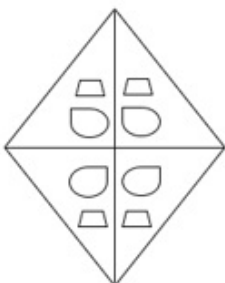


Q.8 एक कागज को नीचे दर्शाए गए अनुसार मोड़ा और काटा जाता है। खोलने पर यह कैसा दिखाई देगा?

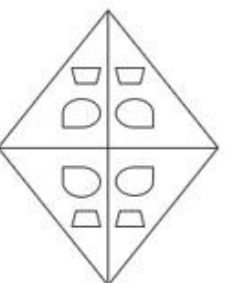


Ans

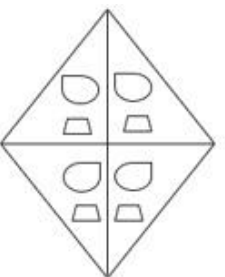
✗ 1.



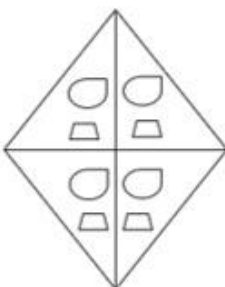
✓ 2.



✗ 3.



✗ 4.



Question ID : 26433056543

Status : Answered

Chosen Option : 2

Q.9 J, K, M, P, S, T, Y और Z एक वर्गाकार मेज के चारों ओर मेज के केंद्र की ओर मुख करके बैठे हैं। उनमें से कुछ कोनों पर बैठे हैं, जबकि कुछ कोनों के ठीक केंद्र में बैठे हैं।

M किसी एक भुजा के केंद्र में बैठा है। M और P के बीच केवल दो व्यक्ति बैठे हैं। J, P के दाएँ से दूसरे स्थान पर बैठा है। J और K के बीच केवल तीन व्यक्ति बैठे हैं। S, Y के ठीक दाएँ बैठा है। S और Z के बीच केवल तीन लोग बैठे हैं।

Z के ठीक दाएँ कौन बैठा है?

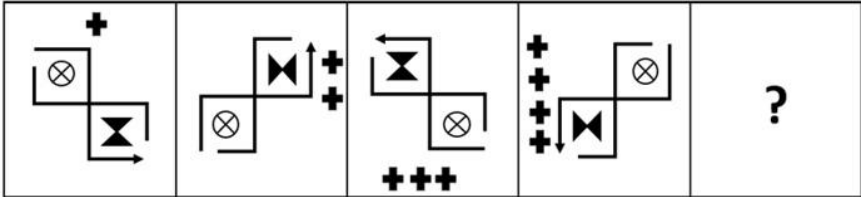
- Ans
- ☒ 1. Y
  - ☒ 2. T
  - ☒ 3. P
  - ☒ 4. J

Question ID : 26433058032

Status : Answered

Chosen Option : 2

Q.10 उस आकृति का चयन कीजिए, जो निम्नलिखित आकृति शृंखला में प्रश्न-चिह्न (?) को प्रतिस्थापित करेगी।



Ans

- ✗ 1.
- ✓ 2.
- ✗ 3.
- ✗ 4.

Question ID : 26433056098  
 Status : Answered  
 Chosen Option : 2

Q.11 तीन कथनों के बाद I, II और III अंकित करके तीन निष्कर्ष प्रस्तुत हैं। कथनों को सत्य मानकर आप तय करें कि कौन निष्कर्ष तार्किक रूप से उन कथनों का अनुपालन करता है/करते हैं, भले ही वे सामान्य ज्ञात तथ्यों से भिन्न लगते हों।

निष्कर्ष:

सभी आलू, प्याज हैं।

सभी प्याज, टमाटर हैं।

सभी गाजर, प्याज हैं।

निष्कर्ष:

I. सभी टमाटर, आलू हैं।

II. कुछ टमाटर, प्याज हैं।

III. सभी गाजर, टमाटर हैं।

- Ans ☒ 1. केवल कथन I और II अनुपालन करते हैं
- ☒ 2. केवल कथन II और III अनुपालन करते हैं
- ☒ 3. सभी कथन अनुपालन करते हैं
- ☒ 4. केवल कथन I और III अनुपालन करते हैं

Question ID : 26433076530  
Status : Answered  
Chosen Option : 2

Q.12 दिए गए समीकरण को संतुलित करने के लिए कौन-से दो संख्या समूहों को आपस में बदला जाना चाहिए?  
 $509 + 346 \div 2 \times 45 - 197 \times 11 = 10 \times 3 + 791$

- Ans ☒ 1. (346 और 197), तथा (2 और 11)
- ☒ 2. (45 और 11), तथा (2 और 197)
- ☒ 3. (509 और 197), तथा (10 और 791)
- ☒ 4. (509 और 197), तथा (45 और 11)

Question ID : 26433056519  
Status : Not Attempted and Marked For Review  
Chosen Option : --

Q.13 निम्नलिखित में से कौन-सी संख्या दी गई श्रृंखला में प्रश्न चिह्न (?) को प्रतिस्थापित करेगी?  
435, 429, 417, 393, ?

- Ans ☒ 1. 351
- ☒ 2. 347
- ☒ 3. 345
- ☒ 4. 335

Question ID : 26433057540  
Status : Answered  
Chosen Option : 3

Q.14 कौन-सा अक्षर-समूह दी गई श्रृंखला को पूर्ण करने के लिए प्रश्नवाचक चिह्न (?) को प्रतिस्थापित करेगा?  
KJFC, MNLK, ?, QVXA, SZDI

- Ans ☒ 1. PQRT
- ☒ 2. NQPT
- ☒ 3. PRQS
- ☒ 4. ORRS

Question ID : 26433057427  
Status : Answered  
Chosen Option : 4

Q.15 दिए गए विकल्पों में से उन संख्याओं को चुनिए, जो निम्नलिखित शृंखला में प्रश्न-चिह्नों (?) को प्रतिस्थापित कर सके।  
75, 93.4, 111.8, 130.2, ?, ?

- Ans ☒ 1. 148.6, 164.8  
☒ 2. 148.6, 167  
☒ 3. 148, 166.8  
☒ 4. 147.2, 166.2

Question ID : 26433057055  
Status : Answered  
Chosen Option : 2

Q.16 \* चिह्नों को क्रमानुसार बदलने और दिए गए समीकरण को संतुलित करने के लिए गणितीय चिह्नों के सही संयोजन का चयन कीजिए।  
 $63 * 7 * 32 * 98 * 36 * 350$

- Ans ☒ 1. +, -, x, ÷, =  
☒ 2. ÷, x, +, -, =  
☒ 3. +, x, -, ÷, =  
☒ 4. x, +, -, ÷, =

Question ID : 26433056456  
Status : Answered  
Chosen Option : 2

Q.17 उस विकल्प का चयन करें, जो दिए गए शब्दों के उस सही क्रम का प्रतिनिधित्व करता है, जिस क्रम में वे अंग्रेजी शब्दकोश में दिखाई देते हैं।  
1. Synthetic  
2. Sympathy  
3. Syrup  
4. Synopsis  
5. System  
6. Symphony

- Ans ☒ 1. 2, 6, 1, 4, 3, 5  
☒ 2. 2, 6, 4, 1, 3, 5  
☒ 3. 2, 6, 4, 1, 5, 3  
☒ 4. 6, 2, 4, 1, 3, 5

Question ID : 26433056726  
Status : Answered  
Chosen Option : 3

Q.18 एक कूट भाषा में 'FROST' को 63 के रूप में और 'HOPE' को 32 के रूप में कूटबद्ध किया जाता है। उसी भाषा में 'SLATE' को किस प्रकार कूटबद्ध किया जाएगा?

- Ans ☒ 1. 36  
☒ 2. 40  
☒ 3. 46  
☒ 4. 42

Question ID : 26433057819  
Status : Answered  
Chosen Option : 3

Q.19 उस विकल्प का चयन करें जो चौथी संख्या से ठीक उसी प्रकार संबंधित है जिस प्रकार पहली संख्या दूसरी संख्या से और पांचवीं संख्या छठी संख्या से संबंधित है।  
1681 : 328 :: ? : 248 :: 729 : 216

- Ans ☒ 1. 961  
☒ 2. 900  
☒ 3. 784  
☒ 4. 841

Question ID : 26433056485  
Status : Answered  
Chosen Option : 1

Q.20 मेरे पिता की बहन के बेटे का बेटा मेरा \_\_\_\_\_ है।

- Ans ☒ 1. भतीजा/ भांजा  
☒ 2. चाचा/ मामा  
☒ 3. पिता  
☒ 4. भाई

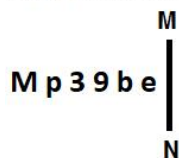
Question ID : 26433067257  
Status : Answered  
Chosen Option : 1

Q.21 छः विद्यार्थी किसी वृत्ताकार मेज के परितः केंद्राभिमुख होकर बैठे हैं। फातिमा चंदन और बाला दोनों के बिल्कुल निकटस्थ है। दिनेश, बाला के बाएँ दूसरे स्थान पर बैठा है। इशा, चंदन के बाएँ तीसरे स्थान पर बैठी है। अनुज दिनेश और चंदन दोनों के बिल्कुल निकटस्थ है। अनुज और फातिमा के बीच कौन बैठा/बैठी है?

- Ans ☒ 1. इशा  
☒ 2. बाला  
☒ 3. दिनेश  
☒ 4. चंदन

Question ID : 26433076511  
Status : Answered  
Chosen Option : 3

Q.22 Select the correct mirror image of the given figure when the mirror is placed at MN as shown below.



- Ans ☒ 1. e d e 3 p M  
☒ 2. e d e 3 q M  
☒ 3. e q e 3 d M  
☒ 4. e d 6 3 q W

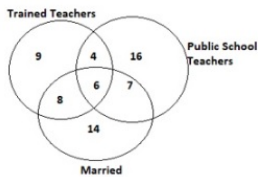
Question ID : 26433056973  
Status : Answered  
Chosen Option : 2

Q.23 अक्षरों के उस संयोजन का चयन कीजिए, जिसे दी गई श्रृंखला में रिक्त स्थानों पर क्रमिक रूप से रखने पर श्रृंखला पूर्ण हो जाएगी।  
MNO \_ NOM \_ NOM \_ M \_ OMNOM

- Ans ☒ 1. MMNN
- ☒ 2. MNMN
- ☒ 3. NMMN
- ☒ 4. NNOO

Question ID : 26433057711  
Status : Answered  
Chosen Option : 2

Q.24 Study the given diagram carefully and answer the question. The numbers in different sections indicate the number of persons.



Which of the following numbers represents married trained teachers who are public school teachers?

- Ans ☒ 1. 6
- ☒ 2. 4
- ☒ 3. 7
- ☒ 4. 8

Question ID : 26433070413  
Status : Answered  
Chosen Option : 1

Q.25 'A + B' का अर्थ है कि 'A, B का भाई है'  
'A - B' का अर्थ है कि 'A, B का पिता है'  
'A × B' का अर्थ है कि 'A, B का पति है'  
'A ÷ B' का अर्थ है कि 'A, B की माता है'

यदि  $P \div Q - S + K - T \times R$  है, तो निम्नलिखित में से कौन-सा कथन सही नहीं है?

- Ans ☒ 1. K, R का ससुर है।
- ☒ 2. Q, T के पिता का पिता है।
- ☒ 3. P, K की माता की माता है।
- ☒ 4. S, T के पिता का भाई है।

Question ID : 26433056921  
Status : Answered  
Chosen Option : 1

Q.1 Select the most appropriate synonym of the given word.

Calamity

- Ans
- ☒ 1. Fortune
  - ☒ 2. Disaster
  - ☒ 3. Prosperity
  - ☒ 4. Tranquillity

Question ID : 26433073270

Status : **Not Attempted and Marked For Review**

Chosen Option : --

Q.2 Select the most appropriate meaning of the given idiom.  
Pull someone's leg

- Ans
- ☒ 1. To pull the trigger
  - ☒ 2. To joke with someone
  - ☒ 3. To tightly cling on to someone
  - ☒ 4. To refrain from humour

Question ID : 26433066122

Status : **Answered**

Chosen Option : 1

Q.3 Select the most appropriate meaning of the underlined idiom in the given sentence.  
I take a dim view of that law.

- Ans
- ☒ 1. see off
  - ☒ 2. view
  - ☒ 3. approve of
  - ☒ 4. disapprove of

Question ID : 26433055457

Status : **Answered**

Chosen Option : 3

Q.4 Select the option that can be used as a one-word substitute for the given group of words.  
A range of different things

- Ans
- ☒ 1. Similarity
  - ☒ 2. Diversity
  - ☒ 3. Homogeneity
  - ☒ 4. Uniformity

Question ID : 26433060739

Status : **Answered**

Chosen Option : 2



Q.5 Select the most appropriate synonym of the underlined word in the given sentence.  
Seeing such traffic jam, I am afraid of the fact that today I may miss the train for Mumbai.

- Ans
- ☒ 1. aghast
  - ☒ 2. agitated
  - ☒ 3. allergic
  - ☒ 4. scared

Question ID : 26433058541

Status : **Not Attempted and  
Marked For Review**

Chosen Option : --

Q.6 Select the most appropriate ANTONYM of the underlined word.

The police expressed doubts about the veracity of her story.

- Ans
- ☒ 1. Passion
  - ☒ 2. Events
  - ☒ 3. Viciousness
  - ☒ 4. Myth

Question ID : 26433055850

Status : **Not Attempted and  
Marked For Review**

Chosen Option : --

Q.7 Select the most appropriate option to fill in the blanks.

We tap our shoes. We sway in our seats. We groove to the beat. This engages many parts of the brain that process speech and \_\_\_\_\_. Therefore, some people believe that our sense of rhythm is related to our communication \_\_\_\_\_.

- Ans
- ☒ 1. gesture; aptitude
  - ☒ 2. activity; gift
  - ☒ 3. movement; skills
  - ☒ 4. sign; talent

Question ID : 26433070746

Status : **Not Attempted and  
Marked For Review**

Chosen Option : --

Q.8 Select the most appropriate meaning of the underlined word in a sentence.

Despite her earnest efforts, she could not find a job.

- Ans
- ☒ 1. serious
  - ☒ 2. valiant
  - ☒ 3. stupendous
  - ☒ 4. careless

Question ID : 26433055990

Status : **Not Attempted and  
Marked For Review**

Chosen Option : --

Q.9 The following sentence has been divided into parts. One of them may contain an error. Select the part that contains the error from the given options. If you don't find any error, mark 'No error' as your answer.

The museum urgency needs / a curator for the proper maintenance / and documentation of all the collections.

- Ans
- ☒ 1. and documentation of all the collections
  - ☒ 2. The museum urgency needs
  - ☒ 3. No error
  - ☒ 4. a curator for the proper maintenance

Question ID : 26433058617  
Status : Not Attempted and Marked For Review  
Chosen Option : --

Q.10 Select the most appropriate option that can substitute the italicised words in the given sentence.

I have a diploma in computer science *and application*.

- Ans
- ☒ 1. tools
  - ☒ 2. technology
  - ☒ 3. apparatus
  - ☒ 4. equipment

Question ID : 26433060504  
Status : Not Attempted and Marked For Review  
Chosen Option : --

Q.11 Select the most appropriate synonym of the given word.  
Venerate

- Ans
- ☒ 1. Respect
  - ☒ 2. Abuse
  - ☒ 3. Condemn
  - ☒ 4. Insult

Question ID : 26433063581  
Status : Not Answered  
Chosen Option : --

Q.12 Select the INCORRECTLY spelt word.

- Ans
- ☒ 1. Wierd
  - ☒ 2. Psychology
  - ☒ 3. Heretic
  - ☒ 4. Entrepreneur

Question ID : 26433066147  
Status : Answered  
Chosen Option : 4

Q.13 Select the most appropriate option that can substitute the underlined words in the given sentence.  
People who live abroad have a sentimental longing for their native country.

- Ans
- ☒ 1. celia
  - ☒ 2. memorabilia
  - ☒ 3. disconnect
  - ☒ 4. nostalgia

Question ID : 26433059724  
Status : Not Answered  
Chosen Option : --

Q.14 The following sentence has been divided into parts. One of them may contain an error. Select the part that contains the error from the given options. If you don't find any error, mark 'No error' as your answer.

The monkey sat up on / the branch of a tree / and stared at us.

- Ans
- ☒ 1. the branch of a tree
  - ☒ 2. The monkey sat up on
  - ☒ 3. No error
  - ☒ 4. and stared at us

Question ID : 26433061479  
Status : Not Answered  
Chosen Option : --

Q.15 Select the option that will improve the underlined part of the given sentence. In case no improvement is needed, select 'No improvement required'.  
The water is overflowing from the rim of the cup.

- Ans
- ☒ 1. overflow
  - ☒ 2. No improvement required
  - ☒ 3. overflown
  - ☒ 4. overflowed

Question ID : 26433060752  
Status : Not Answered  
Chosen Option : --

Q.16 Select the INCORRECTLY spelt word in the following sentence.  
In my village, I was astonished to witness the events in the fair remaining indistinguishable.

- Ans
- ☒ 1. astonished
  - ☒ 2. ago
  - ☒ 3. indistinguishable
  - ☒ 4. witness

Question ID : 26433058602  
Status : Not Answered  
Chosen Option : --

Q.17 Select the most appropriate synonym of the highlighted word.  
This decree was passed by the court of law.

- Ans
- ☐ 1. Rule
  - ☐ 2. Reply
  - ☐ 3. Query
  - ☒ 4. verdict

Question ID : 26433058290  
Status : Not Answered  
Chosen Option : --

Q.18 Select the option that can be used as a one-word substitute for the given group of words.  
A place of burial

- Ans
- ☐ 1. Womb
  - ☐ 2. Church
  - ☒ 3. Sepulchre
  - ☐ 4. Cathedral

Question ID : 26433060737  
Status : Not Answered  
Chosen Option : --

Q.19 Select the most appropriate option to substitute the underlined segment in the given sentence.

My roommates don't feel like cooking tonight, so we had planned to eat out.

- Ans
- ☐ 1. we planned to eat from out
  - ☐ 2. we had planned to eat from out
  - ☐ 3. we planned to eat out
  - ☒ 4. we plan to eat out

Question ID : 26433058285  
Status : Not Answered  
Chosen Option : --

Q.20 Select the most appropriate option to fill in the blank.

Ferdinand Magellan\_\_\_\_\_ the first circum-navigational voyage in the 16th century, an era of excellent terrestrial and marine investigations.

- Ans
- ☐ 1. complete
  - ☒ 2. led
  - ☐ 3. has done
  - ☐ 4. performed





Question ID : 26433070600  
Status : Not Answered  
Chosen Option : --

**Comprehension:**

In the following passage some words have been deleted. Read the passage carefully and select the most appropriate option to fill in each blank.  
Maintaining good health doesn't happen by (1)\_\_\_\_. It requires work and smart lifestyle choices. A healthy diet is rich in fibre, whole grains, fresh fruits, and vegetables, 'good' or unsaturated fats, and omega-3 fatty acids. Going easy on processed foods is another element of healthy eating. Physical activity is also necessary for good health. It can greatly (2)\_\_\_\_ your risk of heart disease, stroke, type 2 diabetes, breast and colon cancer, depression, and falls. Physical activity (3)\_\_\_\_ sleep, endurance, and even sex. Finding ways to reduce stress is another strategy that can help you stay healthy, given the connection between stress and a variety of (4)\_\_\_\_. Try meditation, mindfulness, yoga, (5)\_\_\_\_ on weekends, and taking vacations.

**SubQuestion No : 21**

**Q.21 Select the most appropriate word to fill in blank 1.**

- Ans  1. diet  
 2. work  
 3. accident  
 4. choice

Question ID : 26433059479  
Status : Answered  
Chosen Option : 1

**Comprehension:**

In the following passage some words have been deleted. Read the passage carefully and select the most appropriate option to fill in each blank.  
Maintaining good health doesn't happen by (1)\_\_\_\_. It requires work and smart lifestyle choices. A healthy diet is rich in fibre, whole grains, fresh fruits, and vegetables, 'good' or unsaturated fats, and omega-3 fatty acids. Going easy on processed foods is another element of healthy eating. Physical activity is also necessary for good health. It can greatly (2)\_\_\_\_ your risk of heart disease, stroke, type 2 diabetes, breast and colon cancer, depression, and falls. Physical activity (3)\_\_\_\_ sleep, endurance, and even sex. Finding ways to reduce stress is another strategy that can help you stay healthy, given the connection between stress and a variety of (4)\_\_\_\_. Try meditation, mindfulness, yoga, (5)\_\_\_\_ on weekends, and taking vacations.

**SubQuestion No : 22**

**Q.22 Select the most appropriate word to fill in blank 2.**

- Ans  1. reduce  
 2. increase  
 3. compensate  
 4. manage

Question ID : 26433059480  
Status : Not Answered  
Chosen Option : --

**Comprehension:**

In the following passage some words have been deleted. Read the passage carefully and select the most appropriate option to fill in each blank.  
Maintaining good health doesn't happen by (1)\_\_\_\_. It requires work and smart lifestyle choices. A healthy diet is rich in fibre, whole grains, fresh fruits, and vegetables, 'good' or unsaturated fats, and omega-3 fatty acids. Going easy on processed foods is another element of healthy eating. Physical activity is also necessary for good health. It can greatly (2)\_\_\_\_ your risk of heart disease, stroke, type 2 diabetes, breast and colon cancer, depression, and falls. Physical activity (3)\_\_\_\_ sleep, endurance, and even sex. Finding ways to reduce stress is another strategy that can help you stay healthy, given the connection between stress and a variety of (4)\_\_\_\_. Try meditation, mindfulness, yoga, (5)\_\_\_\_ on weekends, and taking vacations.

**SubQuestion No : 23**

**Q.23 Select the most appropriate word to fill in blank 3.**

- Ans  1. reduces
-  2. improves
-  3. encourages
-  4. disrupts





Question ID : 26433059481  
Status : Answered  
Chosen Option : 3

**Comprehension:**

In the following passage some words have been deleted. Read the passage carefully and select the most appropriate option to fill in each blank.  
Maintaining good health doesn't happen by (1)\_\_\_\_. It requires work and smart lifestyle choices. A healthy diet is rich in fibre, whole grains, fresh fruits, and vegetables, 'good' or unsaturated fats, and omega-3 fatty acids. Going easy on processed foods is another element of healthy eating. Physical activity is also necessary for good health. It can greatly (2)\_\_\_\_ your risk of heart disease, stroke, type 2 diabetes, breast and colon cancer, depression, and falls. Physical activity (3)\_\_\_\_ sleep, endurance, and even sex. Finding ways to reduce stress is another strategy that can help you stay healthy, given the connection between stress and a variety of (4)\_\_\_\_. Try meditation, mindfulness, yoga, (5)\_\_\_\_ on weekends, and taking vacations.

**SubQuestion No : 24**

**Q.24 Select the most appropriate word to fill in blank 4.**

- Ans  1. skills
-  2. disorders
-  3. exercises
-  4. benefits

Question ID : 26433059482  
Status : Answered  
Chosen Option : 4

**Comprehension:**

In the following passage some words have been deleted. Read the passage carefully and select the most appropriate option to fill in each blank.  
Maintaining good health doesn't happen by (1)\_\_\_\_. It requires work and smart lifestyle choices. A healthy diet is rich in fibre, whole grains, fresh fruits, and vegetables, 'good' or unsaturated fats, and omega-3 fatty acids. Going easy on processed foods is another element of healthy eating. Physical activity is also necessary for good health. It can greatly (2)\_\_\_\_ your risk of heart disease, stroke, type 2 diabetes, breast and colon cancer, depression, and falls. Physical activity (3)\_\_\_\_ sleep, endurance, and even sex. Finding ways to reduce stress is another strategy that can help you stay healthy, given the connection between stress and a variety of (4)\_\_\_\_. Try meditation, mindfulness, yoga, (5)\_\_\_\_ on weekends, and taking vacations.

**SubQuestion No : 25**





**Q.25** Select the most appropriate word to fill in blank 5.

- Ans  1. sleeping  
 2. working  
 3. playing  
 4. eating

Question ID : 26433059483  
Status : Answered  
Chosen Option : 2





**Section : Part-E- Computer Fundamentals**

**Q.1** In MS-Excel 2010, what will be the value of the following expression?  
 $= 6 \ 5 \ 6 \ / \ 4 \ ^ \ 2$

- Ans  1. 61  
 2. 81  
 3. 21  
 4. 41

Question ID : 26433095320  
Status : Answered  
Chosen Option : 1

**Q.2** Which of the following is not present in the Quick Access Toolbar by default in MS-Word 2010?

- Ans  1. Cut  
 2. Redo  
 3. Undo  
 4. Save

Question ID : 26433095542  
Status : Answered  
Chosen Option : 3

Q.3 एमएस-एक्सेल 2010 में \_\_\_\_\_ का उपयोग, शीट के भीतर रो (rows) को छिपाने (hiding) के लिए किया जाता है।

- Ans
- ☐ 1. Alt+9
  - ☐ 2. Alt+0
  - ☐ 3. Ctrl+0
  - ☒ 4. Ctrl+9

Question ID : 26433095473  
Status : Answered  
Chosen Option : 3

Q.4 In MS-Word 2010, which of the following statement is incorrect about Ruler?

- Ans
- ☒ 1. It helps to change font styles
  - ☐ 2. It helps to change a line's indentation
  - ☐ 3. It helps to control the margins of document pages.
  - ☐ 4. It helps to set tabs

Question ID : 26433095534  
Status : Answered  
Chosen Option : 4

Q.5 A collection of associated web pages is called \_\_\_\_\_.

- Ans
- ☐ 1. Xml
  - ☐ 2. Webserver
  - ☐ 3. Html
  - ☒ 4. Website

Question ID : 26433095396  
Status : Answered  
Chosen Option : 4

Q.6 In MS-Excel 2010 ribbon \_\_\_\_\_ contains tools for inserting functions, defining names and controlling the calculation options.

- Ans
- ☐ 1. DATA
  - ☒ 2. FORMULA
  - ☐ 3. REVIEW
  - ☐ 4. FILE

Question ID : 26433095398  
Status : Answered  
Chosen Option : 2



Q.7 MS-Word 2010, opens a new document with the temporary name as \_\_\_\_.

- Ans ☒ 1. Book 1  
☒ 2. Document1  
☒ 3. Document  
☒ 4. Book

Question ID : 26433095312  
Status : Answered  
Chosen Option : 2

Q.8 वर्ल्ड वाइड वेब का विकास निम्नलिखित में से किस वर्ष में शुरू हुआ था?

- Ans ☒ 1. 1979  
☒ 2. 1989  
☒ 3. 1959  
☒ 4. 1969

Question ID : 26433095387  
Status : Answered  
Chosen Option : 1

Q.9 \_\_\_\_\_ icon is used to represent attachment in email.

- Ans ☒ 1. Paper clip  
☒ 2. Smiley  
☒ 3. Emoji  
☒ 4. Phone

Question ID : 26433095405  
Status : Answered  
Chosen Option : 1

Q.10 The \_\_\_\_\_ tab in MS-Word 2010 is the default tab which appears when you open the document.

- Ans ☒ 1. Layout  
☒ 2. Review  
☒ 3. Home  
☒ 4. Insert

Question ID : 26433095341  
Status : Answered  
Chosen Option : 1