

Delhi Police Head Constable

**Previous Year Paper
(Ministerial) 19 Oct 2022
Shift 1**

Head Constable Ministerial in Delhi Police Examination 2022

Roll Number	
Candidate Name	
Venue Name	iON Digital Zone Phulwarisharif
Exam Date	19/10/2022
Exam Time	9:00 AM - 10:30 AM
Subject	Head Constable Ministerial in Delhi Police Examination 2022

Section : **Part-A-General Awareness**

Q.1 भारत की जनगणना द्वारा अशोधित साक्षरता दर की गणना के लिए सही सूत्र का चयन कीजिए।

- Ans** ☒ 1. (साक्षर व्यक्तियों की संख्या/कुल जनसंख्या) * 100
☒ 2. (साक्षर व्यक्तियों की संख्या/कुल जनसंख्या) * 10
☒ 3. (कुल जनसंख्या/साक्षर व्यक्तियों की संख्या) * 100
☒ 4. (साक्षर व्यक्तियों की संख्या/कुल जनसंख्या) / 100

Question ID : **26433066602**
Status : **Answered**
Chosen Option : 1

Q.2 निम्नलिखित में से किस वर्ष में भारतीय सैन्य अकादमी की स्थापना देहरादून में की गई थी?

- Ans** ☒ 1. 1925
☒ 2. 1905
☒ 3. 1932
☒ 4. 1935

Question ID : **26433065579**
Status : **Not Answered**
Chosen Option : --

Q.3 महमूद गवाँ _____ के राज्य का वज़ीर था।

- Ans** ☒ 1. मालवा
☒ 2. विजयनगर
☒ 3. गुजरात
☒ 4. बहमनी

Question ID : **26433055010**
Status : **Answered**
Chosen Option : 4

Q.4 जब 'व्यपगत का सिद्धांत (डॉक्ट्राइन ऑफ लैप्स)' जारी किया गया था, तब भारत का गवर्नर-जनरल निम्नलिखित में से कौन था?

- Ans** ☒ 1. लॉर्ड डलहौजी
☒ 2. लॉर्ड विलियम बेंटिक
☒ 3. लॉर्ड हार्डिंग
☒ 4. लॉर्ड कैनिंग

Question ID : **26433055620**
Status : **Answered**
Chosen Option : 1

Q.5 टोक्यो 2020 में, ओलंपिक बॉक्सर लवलीना बोरगोहेन ने महिलाओं की _____ श्रेणी में कांस्य पदक हासिल किया।

- Ans
- ☐ 1. बेंटमवेट
 - ☐ 2. फेदरवेट
 - ☐ 3. क्वॉटरवेट
 - ☒ 4. वेल्टरवेट

Question ID : 26433061817
Status : Answered
Chosen Option : 4

Q.6 पृथ्वी विज्ञान मंत्रालय के 'डीप ओशन मिशन' प्रस्ताव को प्रधानमंत्री श्री नरेंद्र मोदी की अध्यक्षता वाली आर्थिक मामलों की मंत्रिमंडलीय समिति द्वारा कब अनुमोदित किया गया था?

- Ans
- ☐ 1. मई 2021
 - ☐ 2. अगस्त 2021
 - ☐ 3. जुलाई 2021
 - ☒ 4. जून 2021

Question ID : 26433061831
Status : Not Answered
Chosen Option : --

Q.7 भारत के निम्नलिखित में से किस क्षेत्र में स्पष्ट रूप से परिभाषित शीत ऋतु नहीं है?

- Ans
- ☐ 1. थार रेगिस्तान
 - ☐ 2. उत्तरी मैदान
 - ☐ 3. छोटा नागपुर का पठार
 - ☒ 4. प्रायद्वीपीय भारत

Question ID : 26433055311
Status : Not Answered
Chosen Option : --

Q.8 निम्नलिखित में से किस राज्य ने राज्य के निर्माण और औद्योगिक श्रमिकों को रियायती दरों पर इलेक्ट्रिक दोपहिया वाहन उपलब्ध कराने के लिए अक्टूबर 2021 में एक योजना शुरू की थी?

- Ans
- ☒ 1. गुजरात
 - ☐ 2. महाराष्ट्र
 - ☐ 3. असम
 - ☐ 4. उत्तराखंड

Question ID : 26433054829
Status : Not Answered
Chosen Option : --

Q.9 यदि कैश रिज़र्व रेशियो (CRR) का मूल्य 40% हो, तो उस मुद्रागुणक का मूल्य कितना होगा?

- Ans
- ☐ 1. 2.0
 - ☐ 2. 2.8
 - ☒ 3. 2.5
 - ☐ 4. 1.2

Question ID : 26433059247
Status : Not Answered
Chosen Option : --

Q.10 जल की सतह पर तैरती हुई सुई किसका उदाहरण है?

- Ans
- ☒ 1. संसजन बल
 - ☒ 2. आसंजक बल
 - ☒ 3. पृष्ठ तनाव
 - ☒ 4. उत्प्लावकता

Question ID : 26433095246
Status : Answered
Chosen Option : 3

Q.11 कुचिपुड़ी नृत्य रूप में निम्नलिखित में से कौन सा पसंदीदा पारंपरिक 'शब्दम' संख्या में से एक है?

- Ans
- ☒ 1. कृष्ण लीला
 - ☒ 2. दशावतार
 - ☒ 3. गणेश वंदना
 - ☒ 4. जातिस्वरम

Question ID : 26433072624
Status : Not Answered
Chosen Option : --

Q.12 किसी मध्यवर्ती द्रव अवस्था के बिना पदार्थ की ठोस और गैसीय अवस्थाओं के बीच परिवर्तन को क्या कहते हैं?

- Ans
- ☒ 1. निक्षेपण
 - ☒ 2. घनीकरण
 - ☒ 3. वाष्पन
 - ☒ 4. उर्ध्वपातन

Question ID : 26433095247
Status : Answered
Chosen Option : 4

Q.13 कार्ला गुफाएं भारत के निम्नलिखित में से किस राज्य में स्थित हैं?

- Ans
- ☒ 1. महाराष्ट्र
 - ☒ 2. बिहार
 - ☒ 3. कर्नाटक
 - ☒ 4. मध्य प्रदेश

Question ID : 26433064346
Status : Not Answered
Chosen Option : --

Q.14 गणगौर उत्सव किस मौसम के स्वागत का उत्सव है?

- Ans
- ☒ 1. पतझड़
 - ☒ 2. वसन्त
 - ☒ 3. शीतकाल
 - ☒ 4. मानसून

Question ID : 26433066537
Status : Not Answered
Chosen Option : --

Q.15 भारतीय रिजर्व बैंक के मास्टर निर्देश के अनुसार, सूक्ष्मवित्त ऋण के प्रयोजन के लिए, 'परिवार' का अर्थ '_____ ' होगा।

- Ans
- ☒ 1. एक संयुक्त पारिवारिक इकाई, यानी आश्रित माता, पिता, पति, पत्नी और उनके अविवाहित बच्चे
 - ☒ 2. एक व्यक्तिगत पारिवारिक इकाई, अर्थात पति, पत्नी और उनके अविवाहित बच्चे
 - ☒ 3. एक संयुक्त पारिवारिक इकाई, यानी आश्रित माता, पिता, पति, पत्नी और उनके बच्चे
 - ☒ 4. एक व्यक्तिगत पारिवारिक इकाई, अर्थात पति, पत्नी और उनके बच्चे

Question ID : 26433064492

Status : Not Answered

Chosen Option : --

Q.16 भारत में राष्ट्रीय डिजाइन नीति की घोषणा किस वर्ष की गई थी?

- Ans
- ☒ 1. 2010 में
 - ☒ 2. 2008 में
 - ☒ 3. 2009 में
 - ☒ 4. 2007 में

Question ID : 26433066589

Status : Not Answered

Chosen Option : --

Q.17 आर्थिक सिद्धांत के अनुसार, जब कोई राष्ट्र अधिक समृद्ध होता है, तो _____।

- Ans
- ☒ 1. जीडीपी (GDP) में कृषि क्षेत्र के योगदान का अनुपात और क्षेत्र की कार्यशील जनसंख्या 50% से अधिक बढ़ जानी चाहिए
 - ☒ 2. विकासशील देश के लिए जीडीपी (GDP) में कृषि क्षेत्र के योगदान के अनुपात और क्षेत्र की कार्यशील जनसंख्या पर विचार नहीं किया जाना चाहिए
 - ☒ 3. जीडीपी (GDP) में कृषि क्षेत्र के योगदान का अनुपात और क्षेत्र की कार्यशील जनसंख्या घट जाती है
 - ☒ 4. जीडीपी (GDP) में कृषि क्षेत्र के योगदान का अनुपात और क्षेत्र की कार्यशील जनसंख्या में भारी वृद्धि होती है

Question ID : 26433059113

Status : Answered

Chosen Option : 3

Q.18 2002 में भारत के संविधान में मौलिक कर्तव्यों की संख्या को _____ तक बढ़ा दिया गया था।

- Ans
- ☒ 1. 10
 - ☒ 2. 12
 - ☒ 3. 13
 - ☒ 4. 11

Question ID : 26433054891

Status : Answered

Chosen Option : 4

Q.19 निम्न का मिलान कीजिए।

जनगणना वर्ष		भारत का लिंगानुपात (प्रति 1000 पुरुषों पर महिलाएं)	
1	1961	a	943
2	1971	b	941
3	1981	c	930
4	2011	c	934

- Ans ☒ 1. 1-b, 2-a, 3-c, 4-d
☒ 2. 1-b, 2-c, 3-d, 4-a
☒ 3. 1-a, 2-b, 3-c, 4-d
☒ 4. 1-a, 2-d, 3-c, 4-b

Question ID : 26433082196

Status : Answered

Chosen Option : 2

Q.20 संविधान (अनुसूचित जाति) आदेश (संशोधन) विधेयक, 2021, किस राज्य के संबंध में संविधान (अनुसूचित जाति) आदेश, 1950 में संशोधन करता है?

- Ans ☒ 1. असम
☒ 2. गुजरात
☒ 3. हिमाचल प्रदेश
☒ 4. तमिलनाडु

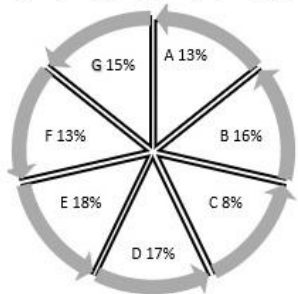
Question ID : 26433054826

Status : Not Answered

Chosen Option : --

Section : Part-B-Quantitative Aptitude

Q.1 निम्न पाई चार्ट में 7 गाँवों की जनसंख्या को दर्शाया गया है।



यदि गाँव C की जनसंख्या 4000 है, तो सभी गाँवों की कुल जनसंख्या कितनी है?

- Ans ☒ 1. 40000
☒ 2. 80000
☒ 3. 50000
☒ 4. 60000

Question ID : 26433066385

Status : Answered

Chosen Option : 3

Q.2 किशोर के पास Rs.63,888 का एक कीमती माणिक्य था। इसे अपने एक मित्र को दिखाते समय, यह नीचे गिर गया और 4 टुकड़ों में टूट गया, जिसका वजन 1 : 2 : 3 : 5 के समानुपाती है। प्रत्येक टुकड़े का मूल्य उसके वजन के घन के अनुक्रमानुपाती है। माणिक्य के गिरने और टुकड़े-टुकड़े हो जाने से किशोर को कितनी हानि होगी?

- Ans
- ☒ 1. Rs.48,562
 - ☒ 2. Rs.50,000
 - ☒ 3. Rs.45,280
 - ☒ 4. Rs.56,160

Question ID : 26433061311
Status : Not Answered
Chosen Option : --

Q.3 $\cos\alpha \cdot \cos(60^\circ - \alpha) \cdot \cos(60^\circ + \alpha)$ का मान क्या है?

- Ans
- ☒ 1. $\frac{1}{2} \cos 3\alpha$
 - ☒ 2. $\frac{1}{4} \sin \alpha$
 - ☒ 3. $\frac{1}{3} \cos 3\alpha$
 - ☒ 4. $\frac{1}{4} \cos 3\alpha$

Question ID : 26433061368
Status : Answered
Chosen Option : 4

Q.4 एक निश्चित धनराशि पर 15% वार्षिक दर से 5 वर्ष और 4 वर्ष के साधारण ब्याज में Rs.255 का अंतर है। राशि (Rs. में) ज्ञात करें।

- Ans
- ☒ 1. Rs.1,700
 - ☒ 2. Rs.1,800
 - ☒ 3. Rs.1,750
 - ☒ 4. Rs.1,560

Question ID : 26433061266
Status : Answered
Chosen Option : 1

Q.5 एक व्यक्ति ने दो वस्तुएं ₹1,800 में खरीदी और पहली को 15% लाभ पर और दूसरी को 30% लाभ पर बेचा। यदि वह पहली वस्तु को 30% लाभ पर और दूसरी वस्तु को 15% लाभ पर बेचता, तो उसे ₹3 अधिक मिलता। दो वस्तुओं के क्रय मूल्य में कितना अंतर था?

- Ans
- ☒ 1. ₹15
 - ☒ 2. ₹20
 - ☒ 3. ₹50
 - ☒ 4. ₹30

Question ID : 26433058908
Status : Not Answered
Chosen Option : --

Q.6 एक बेलन पूरी तरह पानी से भरा है। व्यास 1.4 cm और ऊँचाई 3 cm की कुछ बेलनाकार गोलियों को एक-एक करके बेलन में डुबोया जाता है। बेलन से 5.544 लीटर पानी ओवरफ्लो (बाहर निकल जाता) होता है जिसे एक बर्तन में इकट्ठा किया जाता है। बेलन में कितनी गोलियाँ डुबोई गई थीं? ($\pi = \frac{22}{7}$ लीजिए)

- Ans** ☒ 1. 1200
☒ 2. 1060
☒ 3. 1400
☒ 4. 950

Question ID : 26433063268
 Status : Answered
 Chosen Option : 1

Q.7 30 और 60 के बीच कितनी अभाज्य संख्याएँ हैं?

- Ans** ☒ 1. 7
☒ 2. 5
☒ 3. 9
☒ 4. 11

Question ID : 26433075095
 Status : Answered
 Chosen Option : 2

Q.8

निम्न को सरल करें।

$$3\frac{1}{7} + 2\frac{2}{9} - 1\frac{4}{63}$$

- Ans** ☒ 1. $4\frac{19}{63}$
☒ 2. $1\frac{19}{63}$
☒ 3. $3\frac{11}{63}$
☒ 4. $2\frac{25}{63}$

Question ID : 26433079830
 Status : Answered
 Chosen Option : 1

Q.9 यदि $x^4 + x^2y^2 + y^4 = 128$ है और $x^2 + y^2 + xy = 16$ है, तो $x^2 + y^2 - xy$ का मान ज्ञात कीजिए।

- Ans** ☒ 1. -8
☒ 2. 8
☒ 3. 128
☒ 4. -16

Question ID : 26433061780
 Status : Answered
 Chosen Option : 2

Q.10 A अकेला एक कार्य को 15 दिनों में पूरा कर सकता है और B अकेला इसे 20 दिनों में कर सकता है। A से शुरू करके, वे एकांतर दिन में कार्य करते हैं। पूर्ण कार्य _____ में समाप्त होगा।

- Ans
- ✓ 1. 17 दिनों
 - ✗ 2. $17\frac{2}{3}$ दिनों
 - ✗ 3. $9\frac{1}{5}$ दिनों
 - ✗ 4. 9 दिनों

Question ID : 26433062650
Status : Answered
Chosen Option : 1

Q.11 एक व्यक्ति Rs.18,000 की राशि उधार लेता है और दो समान वार्षिक किश्तों में वार्षिक 20% की दर से चक्रवृद्धि ब्याज के साथ वापस भुगतान करने का दावा करता है। प्रत्येक किश्त की राशि क्या होगी?

- Ans
- ✗ 1. Rs.12,102.74
 - ✗ 2. Rs.12,152.35
 - ✓ 3. Rs.11,781.82
 - ✗ 4. Rs.11,555.32

Question ID : 26433061158
Status : Not Answered
Chosen Option : --

Q.12 एक वस्तु का क्रय मूल्य Rs.500 है। ऐसी 5 वस्तुएं खरीदने पर ग्राहक को एक वस्तु मुफ्त में मिलती है। यदि प्रत्येक वस्तु का विक्रय मूल्य Rs.800 है तो 5 वस्तु बेचने (और एक मुफ्त देने) पर दुकानदार द्वारा अर्जित शुद्ध लाभ प्रतिशत ज्ञात कीजिए।

- Ans
- ✓ 1. 33.33%
 - ✗ 2. 60%
 - ✗ 3. 50%
 - ✗ 4. 25%

Question ID : 26433071316
Status : Answered
Chosen Option : 2

Q.13 A 1 किमी की दूरी 12 मिनट में तय करता है जबकि B समान दूरी को 15 मिनट में तय करता है। A, B से कितना आगे (m में) है?

- Ans
- ✗ 1. 300 मीटर
 - ✗ 2. 220 मीटर
 - ✗ 3. 250 मीटर
 - ✓ 4. 200 मीटर

Question ID : 26433058973
Status : Answered
Chosen Option : 1

Q.14 कोर (edge) 'a' वाले तीन बराबर घन एक पंक्ति में आसन्न रूप से रखे गए हैं। इस प्रकार निर्मित नए घनाभ का संपूर्ण पृष्ठीय क्षेत्रफल क्या है?

- Ans
- ☐ 1. $54a^2$
 - ☐ 2. $6a^2$
 - ☐ 3. $18a^2$
 - ☒ 4. $14a^2$

Question ID : 26433058917

Status : Answered

Chosen Option : 4

Q.15 एक पैकेजिंग फर्म में, एक ऑर्डर प्राप्त हुआ है जिसे तीन कर्मचारियों द्वारा पूरा किया जाना है। राजेश अकेले ऑर्डर को 9 दिन में पूरा कर सकता है, जबकि सुनील इसे 12 दिन में पूरा कर सकता है। नरेश को ऑर्डर पूरा करने में 18 दिन लगेंगे। यदि वे एक साथ मिलकर कार्य करते हैं तो वे कितने दिन में ऑर्डर पूरा कर सकते हैं?

- Ans
- ☒ 1. 4
 - ☐ 2. 7
 - ☐ 3. 6
 - ☐ 4. 5

Question ID : 26433058243

Status : Answered

Chosen Option : 1

Q.16 $0.\overline{35} + 0.\overline{15} + 0.50$ का मान क्या है?

- Ans
- ☒ 1. $1.00\overline{50}$
 - ☐ 2. $1.00\overline{70}$
 - ☐ 3. $1.00\overline{40}$
 - ☐ 4. $1.00\overline{20}$

Question ID : 26433079833

Status : Answered

Chosen Option : 2

Q.17 यदि $\sqrt[3]{y} + \frac{48}{\sqrt[3]{y}} = 16$ है, तो $y =$ _____

- Ans
- ☐ 1. 2197
 - ☐ 2. 1331
 - ☐ 3. 27
 - ☒ 4. 1728

Question ID : 26433058188

Status : Answered

Chosen Option : 4

Q.18 भौतिकी की एक प्रायोगिक परीक्षा में, 40 प्रेक्षकों का औसत 32 है। पहले 15 प्रेक्षकों का औसत 16 है, जबकि अगले 16 प्रेक्षकों का औसत 20 है। शेष प्रेक्षकों का औसत ज्ञात कीजिए।

- Ans
- ☐ 1. 52
 - ☐ 2. 75
 - ☐ 3. 40
 - ☒ 4. 80

Question ID : 26433073078
Status : Answered
Chosen Option : 4

Q.19 एक समकोण $\triangle ABC$ में, यदि $\angle ABC = 90^\circ$, BN, AC पर लंबवत है, AB = 12 cm, और AC = 20 cm है, तो AN : NC ज्ञात कीजिए।

- Ans
- ☐ 1. 2 : 3
 - ☐ 2. 1 : 4
 - ☐ 3. 3 : 1
 - ☒ 4. 9 : 16

Question ID : 26433075014
Status : Not Answered
Chosen Option : --

Q.20 A की आय, B की आय से 30% अधिक है। B की आय, A की आय से कितने प्रतिशत कम है?

- Ans
- ☐ 1. $23\frac{4}{13}\%$
 - ☐ 2. $23\frac{3}{13}\%$
 - ☐ 3. $23\frac{2}{13}\%$
 - ☒ 4. $23\frac{1}{13}\%$

Question ID : 26433063381
Status : Answered
Chosen Option : 4

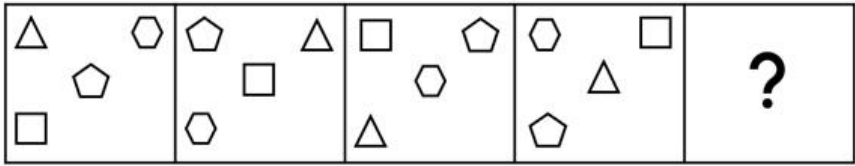
Section : Part-C-General Intelligence

Q.1 रोहन ने एक लड़की की ओर इशारा करते हुए कहा, "वह मेरे पिता की पत्नी के बेटे की दो बहनों में से बड़ी बहन है।" इस लड़की का रोहन से क्या सम्बन्ध है?

- Ans
- ☐ 1. माँ
 - ☐ 2. बुआ
 - ☐ 3. दादी
 - ☒ 4. बहन

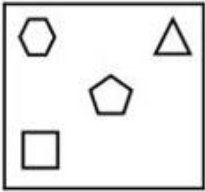
Question ID : 26433057700
Status : Answered
Chosen Option : 4

Q.2 उस आकृति का चयन करें, जो निम्न आकृति श्रृंखला में आगे आएगी।

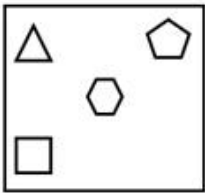


Ans

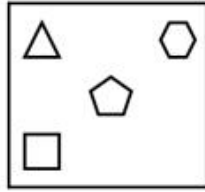
✗ 1.



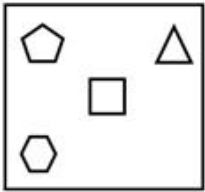
✗ 2.



✓ 3.

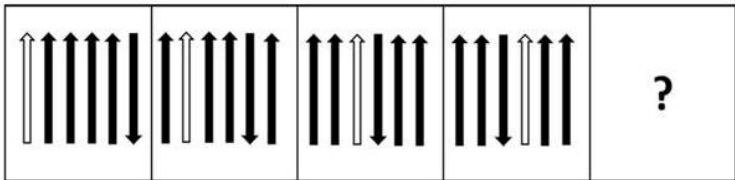


✗ 4.



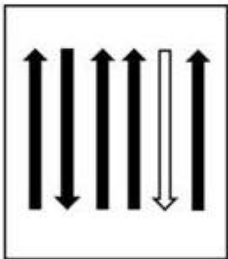
Question ID : 26433076498
Status : Not Answered
Chosen Option : --

Q.3 उस आकृति का चयन कीजिए, जो निम्नलिखित आकृति श्रृंखला में प्रश्न-चिह्न (?) को प्रतिस्थापित करेगी।

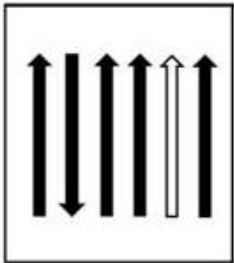


Ans

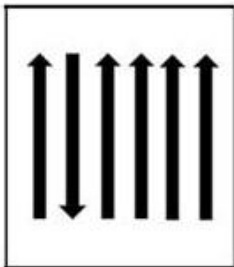
✗ 1.



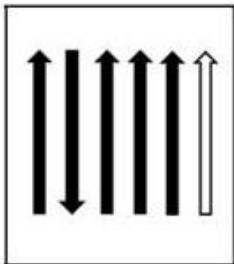
✓ 2.



✗ 3.



✗ 4.



Question ID : 26433056093

Status : Answered

Chosen Option : 2

Q.4 उस विकल्प का चयन करें, जो उन अक्षरों को दर्शाता है, जिन्हें निम्नलिखित रिक्त स्थानों में बाएँ से दाएँ क्रमिक रूप से रखे जाने पर दी गई अक्षर-श्रृंखला पूरी हो जाएगी।

H _ T _ N _ M T U _ H M _ _ N _ M T U _

Ans ✓ 1. MUHNTUHN

✗ 2. MUNTTHUN

✗ 3. MUNHTHUN

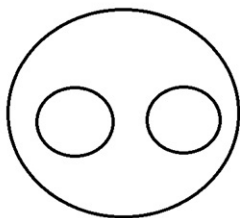
✗ 4. MUNHTUHN

Question ID : 26433056143

Status : Answered

Chosen Option : 1

Q.5 वर्गों के उस समुच्चय का चयन करें, जिनके बीच के संबंध को नीचे दिए गए वेन आरेख द्वारा सबसे अच्छे तरीके से निरूपित किया गया है।



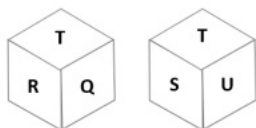
- Ans ☒ 1. घड़ी, पंखा, फ्रिज
☒ 2. पेय, चाय, कॉफी
☒ 3. हाथी, हिरण, बाघ
☒ 4. डॉक्टर, एम.बी.ए., इंजीनियर

Question ID : 26433085346

Status : Answered

Chosen Option : 2

Q.6 एक पासे के विभिन्न फलकों पर छह अक्षर P, Q, R, S, T और U लिखे गए हैं। दी गई आकृति में इस पासे की दो स्थितियों को दिखाया गया है। S अक्षर वाले फलक के विपरीत फलक पर कौन-सा अक्षर होगा?



- Ans ☒ 1. P
☒ 2. R
☒ 3. U
☒ 4. Q

Question ID : 26433057796

Status : Answered

Chosen Option : 2

Q.7 विकल्पों में से कौन सा अक्षर-समूह प्रश्नवाचक चिह्न (?) को प्रतिस्थापित करके दी गई श्रेणी को पूरा करेगा?

WXYZ, XWZY, YVAX, ?, ATCV

- Ans ☒ 1. ZUBW
☒ 2. ZUBV
☒ 3. ZBMW
☒ 4. WBUZ

Question ID : 26433065590

Status : Answered

Chosen Option : 1

Q.8 उस विकल्प का चयन कीजिए जो पांचवें अक्षर समूह से उसी तरह संबंधित है जिस तरह दूसरा अक्षर समूह पहले अक्षर समूह से संबंधित है और चौथा अक्षर समूह तीसरे अक्षर समूह से संबंधित है।
JRO : GOL :: HER : EBO :: STL : ?

- Ans ☒ 1. GWL
☒ 2. TED
☒ 3. PQI
☒ 4. HTA

Question ID : 26433074677

Status : Answered

Chosen Option : 3

Q.9 उस समुच्चय का चयन करें जिसमें दी गई संख्याएं आपस में उसी प्रकार संबंधित हैं, जिस प्रकार प्रश्न में दिए गए समुच्चय की संख्याएं आपस में संबंधित हैं।
(नोट: संख्याओं को उनके घटक अंकों में तोड़े बिना, पूर्ण संख्याओं पर गणितीय संक्रियाएं की जानी चाहिए। जैसे, 13 के मामले में - 13 पर विभिन्न गणितीय संक्रियाएं जैसे 13 में जोड़ना / घटाना / गुणा करना आदि की जा सकती हैं। लेकिन 13 को 1 और 3 में तोड़ने और फिर 1 और 3 पर गणितीय संक्रियाएं करने की अनुमति नहीं है।)
(6, 42, 16)
(56, 10, 22)


- Ans ☒ 1. (45, 9, 56)
☒ 2. (56, 22, 32)
☒ 3. (72, 12, 28)
☒ 4. (23, 7, 13)

Question ID : 26433074775

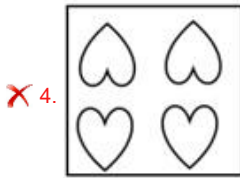
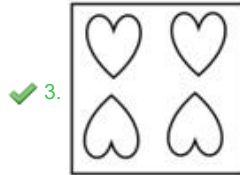
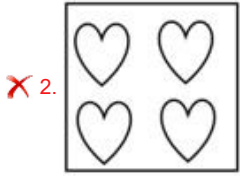

Status : Not Answered

Chosen Option : --

Q.10 एक कागज को नीचे दर्शाए गए अनुसार मोड़ा और काटा जाता है। खुलने पर यह कैसा दिखाई देगा?



Ans



Question ID : 26433056120

Status : Answered

Chosen Option : 3

Q.11 उस विकल्प का चयन करें जो पांचवें अक्षर समूह से उसी प्रकार संबंधित है जिस प्रकार दूसरा अक्षर समूह, पहले अक्षर समूह से संबंधित है और चौथा अक्षर समूह, तीसरे अक्षर समूह से संबंधित है।
ACE : BDF :: EGI : FHJ :: HJL : ?

Ans ✗ 1. LJH

✗ 2. LNP

✓ 3. IKM

✗ 4. NPR

Question ID : 26433067505

Status : Answered

Chosen Option : 3

Q.12 दर्पण को नीचे दिखाए अनुसार 'PQ' पर रखे जाने पर दिए गए संयोजन की सही दर्पण छवि का चयन करें।

N L A W 2 8

P _____ Q

Ans

- ✓ 1. N L A W 2 8
- ✗ 2. N L A W 5 8
- ✗ 3. 8 5 W A L N
- ✗ 4. N L A W 2 8

Question ID : 26433056846

Status : Answered

Chosen Option : 1

Q.13 उस समुच्चय का चयन करें जिसमें दी गई संख्याएं आपस में उसी प्रकार संबंधित हैं जिस प्रकार निम्नलिखित समुच्चयों की संख्याएं हैं।

(ध्यान दें: संख्याओं को उसके घटक अंकों में विभाजित किए बिना, पूर्ण संख्याओं पर गणितीय संक्रियाएं की जानी चाहिए। उदाहरण के लिए 13 - जोड़ने/घटाने/गुणा करने जैसी गणितीय संक्रियाएं पूर्ण 13 पर की जा सकती हैं। 13 को 1 और 3 में विभाजित करने और फिर 1 और 3 पर गणितीय संक्रियाएं करने की अनुमति नहीं है।)

(46, 45, 93)

(56, 27, 141)

Ans

- ✗ 1. (34, 21, 82)
- ✓ 2. (34, 21, 81)
- ✗ 3. (39, 21, 81)
- ✗ 4. (34, 22, 81)

Question ID : 26433068660

Status : Not Answered

Chosen Option : --

Q.14 निम्न चार अक्षर-समूहों में से तीन एक निश्चित प्रकार से एकसमान हैं और एक उनसे असंगत है। उस असंगत अक्षर-समूह का चयन कीजिए।

Ans

- ✓ 1. QNOM
- ✗ 2. MDKB
- ✗ 3. FRDP
- ✗ 4. HLFJ

Question ID : 26433056027

Status : Answered

Chosen Option : 1

Q.15 निम्नलिखित में से कौन-सी संख्या दी गई श्रृंखला में प्रश्न चिह्न (?) का स्थान लेगी?
2548, 3150, ?, 4624, 5508

Ans

- ✗ 1. 4096
- ✓ 2. 3840
- ✗ 3. 3375
- ✗ 4. 3600


Question ID : 26433056474

Status : Answered

Chosen Option : 2

Q.16 निम्नलिखित में से कौन-सा विकल्प दिए गए शब्दों के उस सही क्रम को दर्शाता है जिस क्रम में वे अंग्रेजी शब्दकोश में दिखाई देते हैं?

1. Esteem
2. Estate
3. Estimate
4. Eternal
5. Estrange

Ans  1. 2, 1, 5, 3, 4
 2. 2, 1, 3, 4, 5
 3. 1, 2, 3, 5, 4
 4. 2, 1, 3, 5, 4

Question ID : 26433057212

Status : Answered

Chosen Option : 4

Q.17 तीन कथनों के बाद I, II और III अंकित करके तीन निष्कर्ष प्रस्तुत हैं। कथनों को सत्य मानकर आप तय करें कि कौन निष्कर्ष तार्किक रूप से उन कथनों का अनुसरण करता है/करते हैं, भले ही वे सामान्य ज्ञात तथ्यों से भिन्न लगते हों।

कथन:

सभी आम, अंगूर हैं।

सभी आड़ू, अंगूर हैं।





सभी अंगूर, अनार हैं।

निष्कर्ष:

I. सभी आम, अनार हैं।

II. सभी आड़ू, अनार हैं।

III. कुछ अनार, अंगूर हैं।





Ans  1. केवल कथन I और II अनुपालन करते हैं
 2. सभी कथन अनुपालन करते हैं
 3. केवल कथन I और III अनुपालन करते हैं
 4. केवल कथन II और III अनुपालन करते हैं

Question ID : 26433076528

Status : Answered

Chosen Option : 4

Q.18 निम्नलिखित में से कौन-सी संख्या दी गई श्रृंखला में प्रश्न चिह्न (?) को प्रतिस्थापित करेगी?
14, 16, 36, 132, ?

Ans  1. 656
 2. 648
 3. 632
 4. 636

Question ID : 26433057562

Status : Not Answered

Chosen Option : --

Q.19 P @ Q' का अर्थ है 'P, Q का पति है'
'P & Q' का अर्थ है 'P, Q की माँ है'
'P # Q' का अर्थ है 'P, Q का पिता है'
'P x Q' का अर्थ है 'P, Q' की बहन है'

यदि 'A # B @ C & D x E', तो D, A से किस प्रकार संबंधित है?

- Ans ☒ 1. बेटे की बेटी
☒ 2. पिता के पिता
☒ 3. माँ के पिता
☒ 4. बेटी की बेटी

Question ID : 26433056793

Status : Answered

Chosen Option : 2

Q.20 एक कूट भाषा में, 'ROSE' को 228 के रूप में कूटबद्ध किया जाता है और 'LOTUS' को 435 के रूप में कूटबद्ध किया जाता है। उसी भाषा में 'ORCHID' को कैसे कूटबद्ध किया जाएगा?

- Ans ☒ 1. 375
☒ 2. 399
☒ 3. 342
☒ 4. 285

Question ID : 26433057771

Status : Answered

Chosen Option : 3

Q.21 एक निश्चित कूट भाषा में 'FRIENDSHIP' को 'EIRFNDPIHS' लिखा जाता है और 'GENERATION' को 'ENEGRANOIT' लिखा जाता है। उसी भाषा में 'ADAPTATION' को कैसे लिखा जाएगा?

- Ans ☒ 1. PADATANOIT
☒ 2. APDTAANOIT
☒ 3. APDTANAOIT
☒ 4. PADTAANIOT

Question ID : 26433070272

Status : Answered

Chosen Option : 1

Q.22 A, B, C, D, E, F, G और H एक वर्गाकार मेज के चारों ओर मेज के केंद्र की ओर मुख करके बैठे हैं। उनमें से कुछ कोनों पर बैठे हैं, जबकि कुछ कोनों के ठीक केंद्र में बैठे हैं। C और D के बीच केवल तीन व्यक्ति बैठे हैं। C और D दोनों मेज के कोनों के केंद्र में बैठे हैं। A, D के बाएँ से तीसरे स्थान पर बैठा है। B न तो C का और न ही D का निकटतम पड़ोसी है। F, B के दाएँ से तीसरे स्थान पर बैठा है। E, H के ठीक दाएँ बैठा है। G के दाएँ से तीसरे स्थान पर कौन बैठा है?

- Ans ☒ 1. B
☒ 2. C
☒ 3. D
☒ 4. H

Question ID : 26433058029

Status : Answered

Chosen Option : 4

Q.23 दिए गए समीकरण को सही (संतुलित) बनाने के लिए किन दो गणितीय चिह्नों को आपस में बदलना होगा?

$$56 \div 2 + 45 - 21 \times 3 = 150$$

- Ans
- ☒ 1. + और ×
 - ☒ 2. ÷ और ×
 - ☒ 3. × और -
 - ☒ 4. - और ÷

Question ID : 26433056855

Status : Answered

Chosen Option : 2

Q.24 आठ व्यक्ति दो समानांतर पंक्तियों में बैठे हैं। प्रत्येक पंक्ति में चार व्यक्ति हैं और वो इस प्रकार बैठे हैं कि पास बैठे व्यक्तियों के बीच समान दूरी है।

पहली पंक्ति में D, E, F और G बैठे हैं और उन सभी का मुख दक्षिण की ओर है।

दूसरी पंक्ति में P, Q, R और S बैठे हैं और उन सभी का मुख उत्तर की ओर है।

इस प्रकार प्रत्येक व्यक्ति दूसरी पंक्ति के अन्य व्यक्ति के ठीक सामने बैठा है।

P, R के बाएँ से तीसरे स्थान पर बैठा है। G की ओर मुख करके बैठा व्यक्ति R के सबसे निकट है,

जबकि Q की ओर मुख करके बैठा व्यक्ति D के सबसे निकट बैठा है। F, D के बाएँ से तीसरे स्थान पर

बैठा है। E, F के दाएँ से दूसरे स्थान पर बैठा है।

निम्नलिखित में से किस व्यक्ति का मुख P की ओर है?

- Ans
- ☒ 1. E
 - ☒ 2. D
 - ☒ 3. G
 - ☒ 4. F

Question ID : 26433080715

Status : Answered

Chosen Option : 2

Q.25 दिए गए समीकरण को संतुलित करने के लिए कौन-से दो संख्या समूहों को आपस में बदला जाना चाहिए?

$$663 \div 3 - 706 + 435 \times 3 = 50 \times 4 + 7 \times 28$$

- Ans
- ☒ 1. (663 और 435), तथा (50 और 28)
 - ☒ 2. (663 और 435), तथा (4 और 28)
 - ☒ 3. (706 और 663), तथा (4 और 7)
 - ☒ 4. (706 और 435), तथा (50 और 7)

Question ID : 26433056520

Status : Answered

Chosen Option : 2

Section : Part-D- English Language

Q.1 Select the most appropriate ANTONYM of the underlined word in a sentence.

My grandmother was a very religious woman who saved her greatest adulation for God.

- Ans
- ☒ 1. Preach
 - ☒ 2. Praise
 - ☒ 3. Abuse
 - ☒ 4. Chant

Question ID : 26433056004

Status : Not Answered

Chosen Option : --

Q.2 Select the most appropriate synonym of the given word.
Rendezvous

- Ans ☒ 1. Farewell
☒ 2. Meeting
☒ 3. Conversation
☒ 4. Travel

Question ID : 26433059132
Status : Not Answered
Chosen Option : --

Q.3 Identify the error in tense and choose the correct form of the verb in present tense
from the following options.
The train is arriving in Bangalore at 9 o'clock tomorrow morning.

- Ans ☒ 1. have been arriving
☒ 2. will be arriving
☒ 3. arrives
☒ 4. has to arrive

Question ID : 26433059190
Status : Answered
Chosen Option : 3

Q.4 Select the most appropriate synonym of the underlined word.
People think that ripeness comes with the age.

- Ans ☒ 1. mellowness
☒ 2. softness
☒ 3. mildness
☒ 4. maturity

Question ID : 26433063589
Status : Answered
Chosen Option : 4

Q.5 Identify the error in tense and choose the correct sentence from the following options.
Shreya work in Delhi. She usually drive to work.

- Ans ☒ 1. Shreya work in Delhi. She usually is driving to work.
☒ 2. Shreya work in Delhi. She usually drove to work.
☒ 3. Shreya has been working in Delhi. She usually was driving to work.
☒ 4. Shreya works in Delhi. She usually drives to work.

Question ID : 26433059185
Status : Answered
Chosen Option : 4

Q.6 Select the most appropriate option to fill in the blank.
It would be cowardice _____ run back to India without fulfilling my obligation.

- Ans ☒ 1. of
☒ 2. with
☒ 3. on
☒ 4. to

Question ID : 26433063553
Status : Answered
Chosen Option : 4

Q.7 Select the most appropriate **ANTONYM** of the given word.
Wisdom

- Ans**  1. Insight
 2. Folly
 3. Foresight
 4. Enlightenment

Question ID : **26433060425**
Status : **Answered**
Chosen Option : **2**

Q.8 Select the most appropriate meaning of the given idiom.

Milk and water

- Ans**  1. Weak ideas
 2. Remaining goods
 3. Essential goods
 4. Small items

Question ID : **26433072426**
Status : **Answered**
Chosen Option : **3**

Q.9 Select the **INCORRECTLY** spelt word.

- Ans**  1. Orchestra
 2. Perliament
 3. Executive
 4. Delegation

Question ID : **26433055473**
Status : **Answered**
Chosen Option : **2**

Q.10 Select the option that can be used as a one-word substitute for the given group of words.

One who knows everything

- Ans**  1. Nerd
 2. Intellectual
 3. Omniscient
 4. Intelligent

Question ID : **26433072318**
Status : **Answered**
Chosen Option : **3**

Q.11 Select the option that can be used as a one-word substitute for the given group of words.

One who knows everything and has infinite understanding

- Ans
- ☒ 1. Orthodox
 - ☒ 2. Omnivorous
 - ☒ 3. Omniscient
 - ☒ 4. Orthopaedic

Question ID : 26433072447
Status : Answered
Chosen Option : 2

Q.12 Select the most appropriate meaning of the given idiom.

Hold up one's head

- Ans
- ☒ 1. Be proud
 - ☒ 2. Make one proceed
 - ☒ 3. Move forward
 - ☒ 4. Be confident

Question ID : 26433058278
Status : Not Answered
Chosen Option : --

Q.13 Select the option that can be used as a one-word substitute for the given group of words.

One who is very curious to know things and asks questions

- Ans
- ☒ 1. Conscious
 - ☒ 2. Smart
 - ☒ 3. Inquisitive
 - ☒ 4. Brilliant

Question ID : 26433072317
Status : Answered
Chosen Option : 1

Q.14 Select the option that can be used as a one-word substitute for the given group of words.

Well known for bad qualities

- Ans
- ☒ 1. Toxic
 - ☒ 2. Naughty
 - ☒ 3. Incongruous
 - ☒ 4. Notorious

Question ID : 26433072390
Status : Answered
Chosen Option : 3

Q.15 Select the option that will improve the underlined part of the given sentence. In case no improvement is needed, select 'No improvement required'.
Humankind is sure to become extinct for 2050.

- Ans ☒ 1. become extinct by
☒ 2. No improvement required
☒ 3. become extinct of
☒ 4. become extinct till

Question ID : 26433060757
Status : Not Answered
Chosen Option : --

Q.16 Select the most appropriate ANTONYM of the given word.

Exultation

- Ans ☒ 1. Celebration
☒ 2. Agony
☒ 3. Surprise
☒ 4. Elation

@Qmaths

Question ID : 26433058313
Status : Not Answered
Chosen Option : --

Q.17 Select the option that can be used as a one-word substitute for the given group of words.

Feeling or showing deep and solemn respect

- Ans ☒ 1. Revenant
☒ 2. Reverent
☒ 3. Relevant
☒ 4. Deceitful

Question ID : 26433060742
Status : Answered
Chosen Option : 4

Q.18 Select the option that can be used as a one-word substitute for the given group of words.

Religious madness (wherein the patient think he is the deity)

- Ans ☒ 1. Secularism
☒ 2. Extremism
☒ 3. Theomania
☒ 4. Pantheism

Question ID : 26433070579
Status : Answered
Chosen Option : 1

Q.19 Select the most appropriate **ANTONYM** of the underlined word.
The traditional systems of harvesting drinking water from shallow sub-surface capillaries are unable to meet the needs of the ever growing population.

- Ans** ☒ 1. deep
 ☐ 2. sudden
 ☐ 3. superficial
 ☐ 4. camouflaged

Question ID : **26433059955**
Status : **Not Answered**
Chosen Option : --

Q.20 Select the **INCORRECTLY** spelt word in the following sentence.
With my old and enthuciastic friends, I went to the fair on foot and relished the moment.

- Ans** ☐ 1. relished
 ☒ 2. enthuciastic
 ☐ 3. fair
 ☐ 4. foot

Question ID : **26433058600**
Status : **Not Answered**
Chosen Option : --

Comprehension:

In the following passage, some words have been deleted. Read the passage carefully and select the most appropriate option to fill in each blank.

The rate of utilisation of productive capacity in an economy is an important information for economic policy making. An estimate of capacity utilisation (CU) measures the extent of unused productive resources, i.e., economic slack, and helps assess the (1) _____ demand conditions and economic activity in the economy. Under rising demand pressure, productive units may increase the utilisation of installed capacity through higher use of (2) _____ resources and less productive factors of production, which may lead to a rise in the unit cost of production, hence output prices and (3) _____.

Official agencies, however, rarely compile statistics on capacity utilisation (CU). The limited official statistics on CU often also suffer from the limitations of low frequency, inadequate coverage and (4) _____ time lag. Researchers sometimes address this data gap issue indirectly through several alternative techniques. First, methods under the popular 'trend-through-peak' approach are applied. These methods assume that output would have achieved full capacity levels in the past, when output correspondingly (5) _____ witnessed local maximum.

SubQuestion No : 21

Q.21 Select the most appropriate option to fill in blank number 1.

- Ans** ☒ 1. overall
 ☐ 2. minute
 ☐ 3. specific
 ☐ 4. narrow

Question ID : **26433058866**
Status : **Answered**
Chosen Option : **3**

Comprehension:

In the following passage, some words have been deleted. Read the passage carefully and select the most appropriate option to fill in each blank.

The rate of utilisation of productive capacity in an economy is an important information for economic policy making. An estimate of capacity utilisation (CU) measures the extent of unused productive resources, i.e., economic slack, and helps assess the (1) _____ demand conditions and economic activity in the economy. Under rising demand pressure, productive units may increase the utilisation of installed capacity through higher use of (2) _____ resources and less productive factors of production, which may lead to a rise in the unit cost of production, hence output prices and (3) _____.

Official agencies, however, rarely compile statistics on capacity utilisation (CU). The limited official statistics on CU often also suffer from the limitations of low frequency, inadequate coverage and (4) _____ time lag. Researchers sometimes address this data gap issue indirectly through several alternative techniques. First, methods under the popular 'trend-through-peak' approach are applied. These methods assume that output would have achieved full capacity levels in the past, when output correspondingly (5) _____ witnessed local maximum.

SubQuestion No : 22

Q.22 Select the most appropriate option to fill in blank number 2.

- Ans  1. extraordinary
 2. best
 3. important
 4. inferior

Question ID : 26433058867
Status : Answered
Chosen Option : 1

Comprehension:





In the following passage, some words have been deleted. Read the passage carefully and select the most appropriate option to fill in each blank.

The rate of utilisation of productive capacity in an economy is an important information for economic policy making. An estimate of capacity utilisation (CU) measures the extent of unused productive resources, i.e., economic slack, and helps assess the (1) _____ demand conditions and economic activity in the economy. Under rising demand pressure, productive units may increase the utilisation of installed capacity through higher use of (2) _____ resources and less productive factors of production, which may lead to a rise in the unit cost of production, hence output prices and (3) _____.

Official agencies, however, rarely compile statistics on capacity utilisation (CU). The limited official statistics on CU often also suffer from the limitations of low frequency, inadequate coverage and (4) _____ time lag. Researchers sometimes address this data gap issue indirectly through several alternative techniques. First, methods under the popular 'trend-through-peak' approach are applied. These methods assume that output would have achieved full capacity levels in the past, when output correspondingly (5) _____ witnessed local maximum.

SubQuestion No : 23

Q.23 Select the most appropriate option to fill in blank number 3.

- Ans  1. inflation
 2. reduction
 3. abridgment
 4. shrinkage

Question ID : 26433058868
Status : Not Answered
Chosen Option : --

Comprehension:

In the following passage, some words have been deleted. Read the passage carefully and select the most appropriate option to fill in each blank.

The rate of utilisation of productive capacity in an economy is an important information for economic policy making. An estimate of capacity utilisation (CU) measures the extent of unused productive resources, i.e., economic slack, and helps assess the (1) _____ demand conditions and economic activity in the economy. Under rising demand pressure, productive units may increase the utilisation of installed capacity through higher use of (2) _____ resources and less productive factors of production, which may lead to a rise in the unit cost of production, hence output prices and (3) _____.

Official agencies, however, rarely compile statistics on capacity utilisation (CU). The limited official statistics on CU often also suffer from the limitations of low frequency, inadequate coverage and (4) _____ time lag. Researchers sometimes address this data gap issue indirectly through several alternative techniques. First, methods under the popular 'trend-through-peak' approach are applied. These methods assume that output would have achieved full capacity levels in the past, when output correspondingly (5) _____ witnessed local maximum.

SubQuestion No : 24

Q.24 Select the most appropriate option to fill in blank number 4.

- Ans  1. insignificant
 2. substantial
 3. miniature
 4. little

Question ID : 26433058869

Status : Not Answered

Chosen Option : --

Comprehension:





In the following passage, some words have been deleted. Read the passage carefully and select the most appropriate option to fill in each blank.

The rate of utilisation of productive capacity in an economy is an important information for economic policy making. An estimate of capacity utilisation (CU) measures the extent of unused productive resources, i.e., economic slack, and helps assess the (1) _____ demand conditions and economic activity in the economy. Under rising demand pressure, productive units may increase the utilisation of installed capacity through higher use of (2) _____ resources and less productive factors of production, which may lead to a rise in the unit cost of production, hence output prices and (3) _____.

Official agencies, however, rarely compile statistics on capacity utilisation (CU). The limited official statistics on CU often also suffer from the limitations of low frequency, inadequate coverage and (4) _____ time lag. Researchers sometimes address this data gap issue indirectly through several alternative techniques. First, methods under the popular 'trend-through-peak' approach are applied. These methods assume that output would have achieved full capacity levels in the past, when output correspondingly (5) _____ witnessed local maximum.

SubQuestion No : 25

Q.25 Select the most appropriate option to fill in blank number 5.

- Ans  1. will have
 2. may have
 3. might have
 4. would have

Question ID : 26433058870

Status : Answered

Chosen Option : 3

Q.1 _____ ईमेल एड्रेस का पहला भाग है।

- Ans
- ☒ 1. मेल सर्वर (mail server)
 - ☒ 2. सिस्टम नेम (system name)
 - ☒ 3. यूज़रनेम (username)
 - ☒ 4. डोमेन नेम (domain name)

Question ID : 26433095315
Status : Answered
Chosen Option : 3

Q.2 एमएस-एक्सेल 2010 में fx बटन _____ ऑपरेशन का निरूपण करता है।

- Ans
- ☒ 1. इंसर्ट फंक्शन (Insert function)
 - ☒ 2. फॉर्मेट (Format)
 - ☒ 3. कैंसल (Cancel)
 - ☒ 4. एक्सेप्ट/इंटर (Accept/Enter)

Question ID : 26433095379
Status : Answered
Chosen Option : 1

Q.3 एमएस-वर्ड 2010 (MS-Word 2010) में 'स्टाइल्स' (Styles) के संदर्भ में निम्नलिखित में से कौन-सा कथन सत्य है?

- (i) स्टाइल्स (Styles) केवल एक परिभाषा है, जो यह बताती है कि टेक्स्ट को कैसा दिखना चाहिए।
- (ii) स्टाइल्स (Styles) पूरे डॉक्यूमेंट में क्लिक फॉर्मेटिंग संशोधनों की सुविधा देती हैं।

- Ans
- ☒ 1. (i) और (ii) दोनों
 - ☒ 2. केवल (i)
 - ☒ 3. केवल (ii)
 - ☒ 4. न तो (i) और न ही (ii)

Question ID : 26433095304
Status : Not Answered
Chosen Option : --

Q.4 जब आप एमएस-एक्सेल 2010 (MS-Excel 2010) में एक नई वर्कबुक ओपन करते हैं, तो स्क्रीन पर सबसे ऊपर निम्नलिखित में से क्या दिखाई देता है?

- Ans
- ☒ 1. हॉरिजॉन्टल स्क्रॉल बार (Horizontal scroll bar)
 - ☒ 2. स्टेटस बार (Status bar)
 - ☒ 3. वर्टीकल स्क्रॉल बार (Vertical scroll bar)
 - ☒ 4. टाइटल बार (Title bar)

Question ID : 26433095358
Status : Answered
Chosen Option : 4

Q.5 एमएस-एक्सेल 2010 (MS-Excel 2010) में निम्नलिखित व्यंजक का परिणाम क्या होगा?
 $= 8 / 8 ^ 2 * 16$

- Ans
- ☒ 1. 32
 - ☒ 2. 2
 - ☒ 3. 16
 - ☒ 4. 0

Question ID : 26433095310
Status : Answered
Chosen Option : 2

Q.6 इंटरनेट से जुड़े प्रत्येक कंप्यूटर को एक आईपी (IP) पते की आवश्यकता होती है। IP का पूर्ण रूप क्या है?

- Ans
- ☒ 1. Internet Partner (इंटरनेट पार्टनर)
 - ☒ 2. Internal Protocol (इंटरनल प्रोटोकॉल)
 - ☒ 3. Internet Protocol (इंटरनेट प्रोटोकॉल)
 - ☒ 4. International Partner (इंटरनेशनल पार्टनर)

Question ID : 26433095306
Status : Answered
Chosen Option : 3

Q.7 एमएस-वर्ड 2010 (MS-Word 2010) में, निम्नलिखित में से कौन सा/से मान्य पेज ओरिएंटेशन है/हैं?
(i) लैंडस्केप (Landscape)
(ii) पोर्ट्रेट (Portrait)

- Ans
- ☒ 1. केवल (i)
 - ☒ 2. न तो (i) और न ही (ii)
 - ☒ 3. (i) और (ii) दोनों
 - ☒ 4. केवल (ii)

Question ID : 26433095313
Status : Answered
Chosen Option : 3

Q.8 एचटीएमएल (HTML) के संदर्भ में निम्नलिखित कथनों पर विचार करें।
P: एचटीएमएल (HTML) को डाटा को स्टोर और ट्रांसपोर्ट करने के लिए डिजाइन किया गया है।
Q: सभी एचटीएमएल (HTML) डॉक्यूमेंट, डॉक्यूमेंट प्रकार डिक्लेरेशन: <!DOCTYPE html> से शुरू होने चाहिए।
R: एचटीएमएल (HTML), वेब पेजों के लिए मानक मार्कअप लैंग्वेज है।
इनमें से कौन सा/से कथन असत्य है/हैं?

- Ans
- ☒ 1. केवल P
 - ☒ 2. केवल R
 - ☒ 3. केवल P और R
 - ☒ 4. केवल P और Q

Question ID : 26433095517
Status : Answered
Chosen Option : 2

Q.9 एमएस-एक्सेल 2010 (MS-Excel 2010) वर्कबुक में पहली वर्कशीट का डिफॉल्ट नेम (default name) क्या होता है?

- Ans
- ☒ 1. WSheet1
 - ☒ 2. Spreadsheet1
 - ☒ 3. Sheet1
 - ☒ 4. Worksheet1

Question ID : 26433095298
Status : Answered
Chosen Option : 3

Q.10 जब आप एमएस-एक्सेल 2010 वर्कशीट के सेल का चयन (सेलेक्ट) करते हैं और F2 की (key) दबाते हैं तो क्या होगा?

Ans  1. सेल के कंटेंट के फ्रॉन्ट का रंग बदल जाएगा

 2. सेल का कंटेंट डिलीट हो जाएगा

 3. सेल एडिटिंग मोड में बदल जाएगी, ताकि इसके कंटेंट को संशोधित किया जा सके

 4. सेल के बैकग्राउंड का रंग बदल जाएगा

Question ID : 26433095339

Status : Answered

Chosen Option : 3