

Delhi Police Head Constable

**Previous Year Paper
(Ministerial) 18 Oct 2022
Shift 3**

Head Constable Ministerial in Delhi Police Examination 2022

Roll Number	
Candidate Name	
Venue Name	Aspiring Wings Infotech
Exam Date	18/10/2022
Exam Time	5:00 PM - 6:30 PM
Subject	Head Constable Ministerial in Delhi Police Examination 2022

Section : Part-A-General Awareness

Q.1 जब मुद्रा का यथार्थ मूल्य नहीं होता है, तो इस प्रकार की मुद्रा को _____ कहा जाता है।

- Ans
- ☒ 1. आरक्षित मुद्रा
 - ☒ 2. वैध मुद्रा
 - ☒ 3. द्रव्य मुद्रा
 - ☒ 4. धातु मुद्रा

Question ID : 26433059246

Status : Not Answered

Chosen Option : --

Q.2 आर्थिक सर्वेक्षण 2022 के अनुसार मार्च 2021 में भारत में टेलीफोन का उपयोग करने वाले उपभोक्ताओं की कुल संख्या कितनी है?

- Ans
- ☒ 1. 1.2 अरब से अधिक
 - ☒ 2. 0.5 अरब
 - ☒ 3. 1 अरब
 - ☒ 4. 0.2 अरब

Question ID : 26433071578

Status : Answered

Chosen Option : 1

Q.3 हिमंत बिस्वा सरमा ने, मई 2021 में असम के _____ मुख्यमंत्री के रूप में शपथ ग्रहण की थी।

- Ans
- ☒ 1. 16वें
 - ☒ 2. 15वें
 - ☒ 3. 14वें
 - ☒ 4. 13वें

Question ID : 26433061787

Status : Not Answered

Chosen Option : --

Q.4 वर्ष 2011 की जनगणना के अनुसार, भारत का कौन-सा राज्य /केंद्रशासित प्रदेश पुरुष और महिला साक्षरता दर के मामले में प्रथम स्थान पर है?

- Ans
- ☒ 1. केरल
 - ☒ 2. मिजोरम
 - ☒ 3. त्रिपुरा
 - ☒ 4. गोवा

Question ID : 26433067216

Status : Answered

Chosen Option : 1

Q.5 सिंगालीला राष्ट्रीय उद्यान निम्नलिखित में से किस राज्य में स्थित है?

- Ans
- ☒ 1. छत्तीसगढ़
 - ☒ 2. कर्नाटक
 - ☒ 3. केरल
 - ☒ 4. पश्चिम बंगाल

Question ID : 26433095250
Status : Answered
Chosen Option : 1

Q.6 निम्नलिखित में से कौन सी विशेषता यौगिक की विशेषता है?

- Ans
- ☒ 1. संघटक तत्व विजातीय होते हैं।
 - ☒ 2. निर्माण में ऊष्मा या प्रकाश का कोई उत्पादन या अवशोषण नहीं होता है।
 - ☒ 3. उपस्थित संघटकों को सरल भौतिक प्रक्रियाओं द्वारा अलग किया जा सकता है।
 - ☒ 4. परिणामी पदार्थ के गुण उसके संघटकों के गुणों से भिन्न होते हैं।

Question ID : 26433095248
Status : Not Answered
Chosen Option : --

Q.7 मोहनजोदड़ो में पाई गई 'नृत्यांगना' (Dancing Girl) _____ से बनी है।

- Ans
- ☒ 1. टेराकोटा
 - ☒ 2. ताँबे
 - ☒ 3. सोने
 - ☒ 4. कांसे

Question ID : 26433064352
Status : Answered
Chosen Option : 4

Q.8 भारत के संविधान में मूल रूप से कितने मौलिक अधिकार प्रदान किए गए थे?

- Ans
- ☒ 1. पाँच
 - ☒ 2. सात
 - ☒ 3. छह
 - ☒ 4. आठ

Question ID : 26433064703
Status : Answered
Chosen Option : 4

Q.9 निम्नलिखित में से किसे भारतीय शास्त्रीय नृत्य संस्थान द्वारा प्रतिष्ठित अभिनंदन सरोजा राष्ट्रीय पुरस्कार 2021 प्राप्त हुआ है?

- Ans
- ☒ 1. सुरुपा सेन
 - ☒ 2. अपर्णा सतीशन
 - ☒ 3. अखम लक्ष्मी देवी
 - ☒ 4. ईशिरा पारेख

Question ID : 26433064641
Status : Not Answered
Chosen Option : --

Q.10 निम्नलिखित में से कौन-सा भारत में हरित क्रांति के प्रमुख घटकों में से एक नहीं था?

- Ans ☒ 1. बैकिंग सेवाएँ
- ☒ 2. HYV बीज
- ☒ 3. सिचाई सुविधा
- ☒ 4. कीटनाशक

Question ID : 26433059289
Status : Answered
Chosen Option : 1

Q.11 भारत की जनगणना 2011 के अनुसार, साक्षरता दर दी गई है। सही विकल्प का चयन कीजिए।

सूची-1		सूची-2	
1	महिलाएं	a	82.14%
2	पुरुष	b	65.46%
3	केरल	c	94.0%

- Ans ☒ 1. 1-b, 2-a, 3-c
- ☒ 2. 1-a, 2-b, 3-c
- ☒ 3. 1-a, 2-c, 3-b
- ☒ 4. 1-c, 2-b, 3-a

Question ID : 26433082198
Status : Answered
Chosen Option : 1

Q.12 नीरज चोपड़ा स्वतंत्रता के बाद भारत के लिए एथलिटिक्स में ओलंपिक स्वर्ण पदक लाने वाले पहले भारतीय खिलाड़ी बने, जब उन्होंने 2020 के टोक्यो ओलंपिक में पुरुषों की भाला फेंक स्पर्धा में _____ दूरी तक भाला फेंककर यह उपलब्धि हासिल की।

- Ans ☒ 1. 87.58 m
- ☒ 2. 88.23 m
- ☒ 3. 84.56 m
- ☒ 4. 85.47 m

Question ID : 26433061805
Status : Answered
Chosen Option : 2

Q.13 निम्नलिखित में से किस वर्ष में महात्मा गांधी की 150 वीं जयंती मनाई गई?

- Ans ☒ 1. 2018
- ☒ 2. 2019
- ☒ 3. 2021
- ☒ 4. 2020

Question ID : 26433054874
Status : Answered
Chosen Option : 2

Q.14 निम्नलिखित में से कौन-सा स्टॉक चर का उदाहरण है?

- Ans
- ☐ 1. किसी विशेष वित्तीय वर्ष में खाद्यान्न का निर्यात
 - ☐ 2. किसी विशेष वित्तीय वर्ष में खाद्यान्न का आयात
 - ☐ 3. किसी देश में खाद्यान्न का वार्षिक उत्पादन
 - ☒ 4. वित्तीय वर्ष के पहले दिन देश के सभी गोदामों में उपलब्ध खाद्यान्न की मात्रा

Question ID : 26433064508
Status : Not Answered
Chosen Option : --

Q.15 निम्नलिखित में से किसने 'द अदर साइड ऑफ साइलेंस' पुस्तक लिखी है?

- Ans
- ☐ 1. अमृता प्रीतम
 - ☒ 2. उर्वशी बुटालिया
 - ☐ 3. खुशवंत सिंह
 - ☐ 4. अमिताव घोष

Question ID : 26433055645
Status : Not Answered
Chosen Option : --

Q.16 निम्नलिखित में से कौन 1901 में शांतिनिकेतन के संस्थापक थे, जिसे मूल रूप से ब्रह्मचर्य आश्रम के रूप में नामित किया गया था?

- Ans
- ☐ 1. केशव चंद सेन
 - ☒ 2. रविंद्रनाथ टैगोर
 - ☐ 3. देबेन्द्रनाथ टैगोर
 - ☐ 4. सत्येन्द्रनाथ बोस

Question ID : 26433065551
Status : Answered
Chosen Option : 2

Q.17 फ़रवरी 2022 में निम्नलिखित में से किस राज्य सरकार ने शहरी क्षेत्रों में सौ दिन का रोजगार उपलब्ध कराने के उद्देश्य से इंदिरा गांधी शहरी रोजगार गारंटी योजना शुरू की थी?

- Ans
- ☐ 1. महाराष्ट्र
 - ☐ 2. तमिलनाडु
 - ☒ 3. राजस्थान
 - ☐ 4. छत्तीसगढ़

Question ID : 26433072870
Status : Answered
Chosen Option : 3

Q.18 निम्नलिखित में से किस राजपूत शासक को बाबर ने 1527 में खानवा में पराजित किया था?

- Ans
- ☐ 1. महाराणा प्रताप
 - ☒ 2. राणा सांगा
 - ☐ 3. राणा हम्मीर सिंह
 - ☐ 4. राणा कुंभा

Question ID : 26433071500
Status : Answered
Chosen Option : 4

Q.19 अमरकंटक से निकलने वाली प्रमुख नदियां कौन-सी हैं?

- Ans ☒ 1. नर्मदा और सोन
☒ 2. चंबल और बेतवा
☒ 3. सोन और चंबल
☒ 4. महानदी और सोन

Question ID : 26433054987
Status : Answered
Chosen Option : 3

Q.20 असंगठित क्षेत्र की मदद के लिए भारतीय सरकार ने अगस्त 2021 में _____ पोर्टल स्कीम नामक योजना का शुभारंभ किया।

- Ans ☒ 1. ई-हाट (e-Haat)
☒ 2. युक्तधारा (Yuktdhara)
☒ 3. पीएम-दक्ष (PM-Daksh)
☒ 4. ई-श्रम (e-SHRAM)

Question ID : 26433061789
Status : Answered
Chosen Option : 4

Section : Part-B-Quantitative Aptitude

Q.1 A और B एक कार्य को क्रमशः 20 दिन और 10 दिन में पूरा कर सकते हैं। A अकेले कार्य शुरू करता है, और फिर 5 दिनों के बाद, B, A के साथ कार्य में जुड़ जाता है। वे दोनों शेष कार्य को पूरा करते हैं। कार्य कितने समय तक चला?

- Ans ☒ 1. $10\frac{1}{3}$ दिन
☒ 2. 5 दिन
☒ 3. $5\frac{2}{3}$ दिन
☒ 4. 10 दिन

Question ID : 26433062649
Status : Answered
Chosen Option : 3

Q.2 Rs.17,000 पर एक निश्चित ब्याज दर पर चार वर्षों में अर्जित साधारण ब्याज Rs.5,440 है। उसी राशि पर चार वर्षों के लिए समान ब्याज दर पर चक्रवृद्धि ब्याज की गणना करें।

- Ans ☒ 1. Rs.6,175.32
☒ 2. Rs.6,234.33
☒ 3. Rs.6,128.31
☒ 4. Rs.6,052.30

Question ID : 26433056325
Status : Not Answered
Chosen Option : --

Q.3 $\triangle ABC$ में, $AB = BC$ और D, E, F क्रमशः भुजाओं AB, BC और AC के मध्य-बिंदु हैं। यदि $DF = 5$ cm, तो EF निम्न में से किसके बराबर है?

- Ans
- ☒ 1. 4 cm
 - ☒ 2. 3 cm
 - ☒ 3. 2 cm
 - ☒ 4. 5 cm

Question ID : 26433058422

Status : Answered

Chosen Option : 4

Q.4 यदि $x + \frac{1}{x} = 8$ है, तो $x^2 - \frac{1}{x^2}$ ज्ञात कीजिए।

- Ans
- ☒ 1. $16\sqrt{15}$
 - ☒ 2. $10\sqrt{15}$
 - ☒ 3. 62
 - ☒ 4. $15\sqrt{15}$

Question ID : 26433061777

Status : Answered

Chosen Option : 3

Q.5 किसी वाहन के ईंधन की खपत (mpg) में परिवर्तन उसके वजन के व्युत्क्रमानुपाती होता है। 3800 पाउंड वजन वाली कार हाईवे पर 25 mpg की खपत करती है। एक ऐसी कार की ईंधन खपत (mpg) में ज्ञात कीजिए, जिसका वजन 4750 पाउंड है।

- Ans
- ☒ 1. 20
 - ☒ 2. 25
 - ☒ 3. 23.75
 - ☒ 4. 18

Question ID : 26433058913

Status : Not Answered

Chosen Option : --

Q.6 एक शंकवाकार तम्बू के आधार का व्यास 28 फीट है और शंकु की तिर्यक ऊंचाई 18 फीट है। इस तंबू को बनाने के लिए आवश्यक कैनवास का क्षेत्रफल (फीट² में) ज्ञात कीजिए। कैनवास की बर्बादी को नजरअंदाज करें।

($\pi = \frac{22}{7}$ लीजिए)

- Ans
- ☒ 1. 790
 - ☒ 2. 793
 - ☒ 3. 792
 - ☒ 4. 791

Question ID : 26433061426

Status : Answered

Chosen Option : 3

Q.7 एक व्यक्ति ने कुल ₹57,500 को 4%, 5% और 8% वार्षिक की दर से साधारण ब्याज पर निवेश किया। वर्ष के अंत में, उसे तीनों मामलों में समान ब्याज प्राप्त हुआ। 5% पर निवेशित राशि क्या थी?

- Ans ☒ 1. ₹20,000
- ☐ 2. ₹20,750
- ☐ 3. ₹25,000
- ☐ 4. ₹37,500

Question ID : 26433062643
Status : Not Answered
Chosen Option : --

Q.8 निम्न तालिका उन विभिन्न कॉलेजों के डेटा दिखाती है जिनके छात्रों ने ओलंपियाड में भाग लिया था।

विषय	कॉलेज A	कॉलेज B	कॉलेज C	कॉलेज D	कॉलेज E
हिंदी	110	100	125	103	112
अंग्रेजी	98	120	80	122	105
गणित	130	110	250	160	180
विज्ञान	100	100	150	200	80
सामान्य ज्ञान	182	200	120	130	183

सभी कॉलेजों से अंग्रेजी ओलंपियाड में भाग लेने वाले छात्रों की संख्या का सभी कॉलेजों से गणित ओलंपियाड में भाग लेने वाले छात्रों की संख्या से अनुपात ज्ञात कीजिए।

- Ans ☐ 1. 166 : 105
- ☒ 2. 105 : 166
- ☐ 3. 102 : 166
- ☐ 4. 166 : 102

Question ID : 26433073154
Status : Not Answered
Chosen Option : --

Q.9 सरिता ने एक ही तरह की दो कमीज Rs.4,400 में खरीदी। सरिता को खरीद पर 20% की छूट मिली। एक कमीज का अंकित मूल्य क्या था?

- Ans ☐ 1. Rs.5,400
- ☐ 2. Rs.5,500
- ☒ 3. Rs.2,750
- ☐ 4. Rs.2,200

Question ID : 26433075061
Status : Answered
Chosen Option : 4

Q.10 19 वस्तुओं का क्रय मूल्य 21 वस्तुओं के विक्रय मूल्य के बराबर है। हानि प्रतिशत क्या होगा?

- Ans ☐ 1. $11\frac{1}{21}\%$
- ☒ 2. $9\frac{11}{21}\%$
- ☐ 3. $8\frac{9}{21}\%$
- ☐ 4. $7\frac{10}{21}\%$

Question ID : 26433061067
Status : Answered
Chosen Option : 2

Q.11 एक चोर ने ज्वैलरी की दुकान पर लूटपाट की और 2 kg सोना ले गया। दुकान, एक पुलिसकर्मी से 1125 m दूर है। चोर x km/h की गति से भागने लगता है और पुलिसकर्मी उसी समय 11 km/h की गति से पीछा करने लगता है। पुलिसकर्मी ने 810 सेकंड में चोर को पकड़ लिया। चोर द्वारा तय की गई दूरी कितनी है?

- Ans
- ☒ 1. 1375 m
 - ☒ 2. 1350 m
 - ☒ 3. 2350 m
 - ☒ 4. 1276 m

Question ID : 26433058238
Status : Not Answered
Chosen Option : --

Q.12 4 पुरुष या 5 महिलाएं एक दीवार का निर्माण 123 दिनों में कर सकते हैं। 5 पुरुषों और 4 महिलाओं को यही कार्य करने में कितना समय लगेगा?

- Ans
- ☒ 1. 122 दिन
 - ☒ 2. 61 दिन
 - ☒ 3. 60 दिन
 - ☒ 4. 123 दिन

Question ID : 26433058155
Status : Answered
Chosen Option : 4

Q.13 एक चुनाव में एक प्रत्याशी, जिसे कुल मतों का 35% प्राप्त होता है, वह 150 मतों के बहुमत हार जाता है। दर्ज किए गए मतों की कुल संख्या ज्ञात कीजिए।

- Ans
- ☒ 1. 500
 - ☒ 2. 700
 - ☒ 3. 800
 - ☒ 4. 600

Question ID : 26433063854
Status : Answered
Chosen Option : 1

Q.14 3, 4 और 5 cm की भुजाओं वाले तीन छोटे घनों को पिघलाकर एक बड़ा घन बनाया जाता है। छोटे घनों और बड़े घन के संपूर्ण पृष्ठीय क्षेत्रफलों का अनुपात क्या है?

- Ans
- ☒ 1. 4 : 1
 - ☒ 2. 7 : 3
 - ☒ 3. 5 : 3
 - ☒ 4. 25 : 18

Question ID : 26433057149
Status : Not Answered
Chosen Option : --

Q.15 एक दूधवाले के पास 15 लीटर का ड्रम है जिसमें 9 लीटर दूध है। उसने ड्रम को पानी से भर दिया और अब मिश्रण का $\frac{1}{2}$ लीटर निकाल लिया। निकाले गए मिश्रण में दूध की मात्रा (मिलीलीटर में) कितनी है?

- Ans
- ☒ 1. 250
 - ☒ 2. 266
 - ☒ 3. 300
 - ☒ 4. 333

Question ID : 26433071243
Status : Not Answered
Chosen Option : --

Q.16 एक वर्गाकार भूखंड का क्षेत्रफल 6561 m^2 है। वर्गाकार भूखंड के विकर्ण की लंबाई क्या है?

- Ans
- ☒ 1. $27\sqrt{3} \text{ m}$
 - ☒ 2. $81\sqrt{3} \text{ m}$
 - ☒ 3. $81\sqrt{2} \text{ m}$
 - ☒ 4. $27\sqrt{2} \text{ m}$

Question ID : 26433058189
Status : Answered
Chosen Option : 3

Q.17 172.2896×10^{-5} का मान ज्ञात कीजिए

- Ans
- ☒ 1. 0.001722896
 - ☒ 2. 1722896
 - ☒ 3. 0.1722896
 - ☒ 4. 0.01722896

Question ID : 26433063672
Status : Answered
Chosen Option : 1

Q.18 यदि $x = \sin 130^\circ \cos 80^\circ$, $y = \sin 80^\circ \cos 130^\circ$, और $z = 1 + xy$ है, तो निम्नलिखित में से कौन – सा विकल्प सत्य है?

- Ans
- ☒ 1. $x > 0$, $y < 0$ और $0 < z < 1$
 - ☒ 2. $x > 0$, $y > 0$ और $z > 0$
 - ☒ 3. $x > 0$, $y < 0$ और $z > 1$
 - ☒ 4. $x < 0$, $y < 0$ और $0 < z < 1$

Question ID : 26433058935
Status : Not Answered
Chosen Option : --

Q.19 निम्नलिखित को हल करें।

$$963 + 306 \times 102 \div 6 - 86 + (218 - 15)$$

Ans ☒ 1. 6654

☒ 2. 6282

☒ 3. 6682

☒ 4. 6454

Question ID : 26433056292

Status : Answered

Chosen Option : 2

Q.20 $7.\overline{15}$ का मान ज्ञात करें।

Ans ☒ 1. $9\frac{7}{45}$

☒ 2. $7\frac{7}{45}$

☒ 3. $6\frac{7}{45}$

☒ 4. $8\frac{9}{45}$

Question ID : 26433063368

Status : Not Answered

Chosen Option : --

Section : Part-C-General Intelligence

Q.1 यदि दर्पण को नीचे दर्शाए गए अनुसार MN पर रखा जाए, तो दी गई आकृति के सही दर्पण प्रतिबिम्ब का चयन कीजिए।

h R t j 7 2 p

M

N

Ans ☒ 1. q 5 7 j t R n

☒ 2. b 5 7 j t R n

☒ 3. p 2 7 j t R n

☒ 4. p 2 7 j t R n

Question ID : 26433056991

Status : Answered

Chosen Option : 1

Q.2 उस विकल्प का चयन करें, जो तीसरे शब्द से उसी प्रकार संबंधित है, जिस प्रकार दूसरा शब्द पहले शब्द से संबंधित है।
(शब्दों को अर्थपूर्ण हिंदी शब्दों के रूप में माना जाना चाहिए और शब्द में अक्षरों की संख्या/व्यंजनों/स्वरों की संख्या के आधार पर एक-दूसरे से संबंधित नहीं होना चाहिए)
त्वचाविज्ञान : त्वचा :: वृक्क विज्ञान : ?

- Ans ☒ 1. मस्तिष्क
☒ 2. वृक्क
☒ 3. यकृत
☒ 4. हृदय

Question ID : 26433078891

Status : Answered

Chosen Option : 2

Q.3 दिए गए समीकरण को सही (संतुलित) बनाने के लिए किन दो गणितीय चिह्नों को आपस में बदलना होगा?
 $84 - 12 + 72 \div 8 \times 7 = 23$

- Ans ☒ 1. + और -
☒ 2. + और -
☒ 3. × और ÷
☒ 4. + और ×

Question ID : 26433056862

Status : Answered

Chosen Option : 1

Q.4 उस समुच्चय का चयन कीजिए जिसमें संख्याएँ उसी प्रकार संबंधित हैं जिस प्रकार निम्नलिखित समुच्चयों की संख्याएँ आपस में संबंधित हैं।
(नोट: संख्याओं को उसके घटक अंकों में विभाजित किए बिना, पूर्ण संख्याओं पर गणितीय संक्रियाएँ की जानी चाहिए। उदाहरण के लिए 13 - अगर आपको 13 पर गणितीय संक्रियाएँ जैसे कि जोड़ने/घटाने/गुणा करने आदि करना है तो वह 13 पर ही की जा सकती हैं। 13 को 1 और 3 में तोड़ना और फिर 1 और 3 पर गणितीय संक्रियाएँ करने की अनुमति नहीं है।)
(17, 51, 79)
(23, 57, 85)

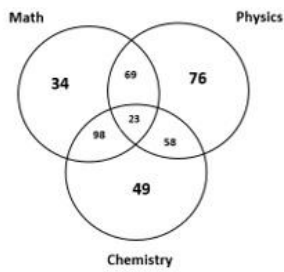
- Ans ☒ 1. (21, 54, 89)
☒ 2. (32, 66, 80)
☒ 3. (19, 48, 76)
☒ 4. (11, 45, 73)

Question ID : 26433057595

Status : Not Answered

Chosen Option : --

Q.5 दिए गए आरेख का ध्यानपूर्वक अध्ययन करें और प्रश्नों के उत्तर दें। विभिन्न वर्गों में दी गई संख्याएँ उन छात्रों की संख्या को दर्शाती हैं, जो विभिन्न विषयों में उत्तीर्ण हुए हैं। ऐसे कितने छात्र हैं, जो रसायनविज्ञान (Chemistry) में उत्तीर्ण, लेकिन भौतिकी (Physics) में अनुत्तीर्ण हुए हैं?



Ans ☒ 1. 147

☒ 2. 107

☒ 3. 228

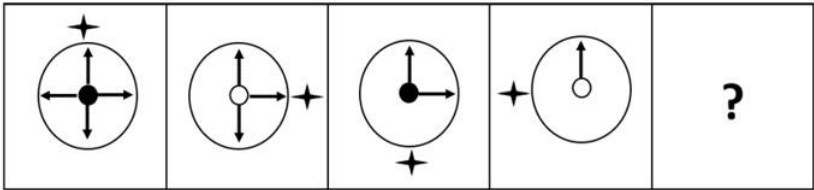
☒ 4. 157

Question ID : 26433069368

Status : Answered

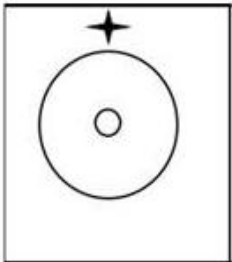
Chosen Option : 1

Q.6 उस आकृति का चयन कीजिए, जो निम्नलिखित आकृति शृंखला में प्रश्न-चिह्न (?) को प्रतिस्थापित करेगी।

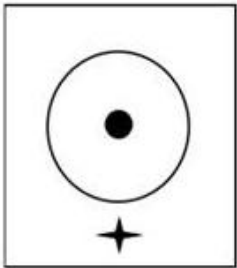


Ans

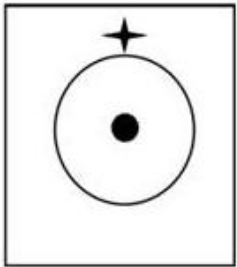
✗ 1.



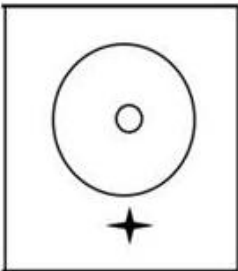
✗ 2.



✓ 3.



✗ 4.



Question ID : 26433056095
 Status : Answered
 Chosen Option : 3

Q.7 निम्नलिखित में से कौन-सा विकल्प दिए गए शब्दों के उस सही क्रम को दर्शाता है जिस क्रम में वे अंग्रेजी शब्दकोश में दिखाई देते हैं?

1. Break
2. Breeze
3. Bribe
4. Bridge
5. Breath

Ans  1. 1, 5, 2, 3, 4

 2. 1, 5, 3, 2, 4

 3. 5, 1, 3, 2, 4

 4. 1, 2, 5, 3, 4

Question ID : 26433057206

Status : Answered

Chosen Option : 1

Q.8 निम्नलिखित में से कौन-सी संख्या दी गई श्रृंखला में प्रश्न चिह्न (?) को प्रतिस्थापित करेगी?
24.8, 37, 50.2, ?, 79.6, 95.8

Ans  1. 61.2

 2. 60.8

 3. 62.6

 4. 64.4

Question ID : 26433057550

Status : Answered

Chosen Option : 4

Q.9 अंग्रेजी वर्णमाला क्रम में स्थिति के आधार पर, निम्नलिखित में से तीन अक्षर-समूह किसी न किसी रूप में संगत हैं और एक असंगत है। असंगत अक्षर-समूह का चयन करें।

Ans  1. PWSU

 2. NUQS

 3. SZVX

 4. KRNQ

Question ID : 26433095711

Status : Answered

Chosen Option : 1

Q.10 एक कूट भाषा में, 'where are you now' को 'jo no pa mo' के रूप में कूटबद्ध किया जाता है, 'you are very far' को 'ho jo do pa' के रूप में कूटबद्ध किया जाता है, 'now not very far' को 'do ho no he' के रूप में कूटबद्ध किया जाता है। शब्द 'where' के लिए कूट क्या होगा?

Ans  1. no

 2. pa

 3. mo

 4. jo

Question ID : 26433057278

Status : Answered

Chosen Option : 3

Q.11 एक निश्चित कूट भाषा में, 'EATING' को '41' लिखा जाता है और 'STREET' को '77' लिखा जाता है। उसी भाषा में 'AUGUST' को कैसे लिखा जाएगा?

- Ans ☒ 1. 34
☒ 2. 46
☒ 3. 52
☒ 4. 40

Question ID : 26433056409
Status : Not Answered
Chosen Option : --

Q.12 उस विकल्प का चयन कीजिए जो पांचवें पद से उसी प्रकार संबंधित है जिस प्रकार दूसरा पद पहले पद से संबंधित है और चौथा पद तीसरे पद से संबंधित है।
ADVERTISE: VTSRIEEDA :: BEHAVIOUR : VUROIHEBA :: BEAUTIFUL: ?

- Ans ☒ 1. UUILTABFE
☒ 2. UUFEBATLI
☒ 3. UULITFEBA
☒ 4. UUTLIFEBA

Question ID : 26433056384
Status : Answered
Chosen Option : 4

Q.13 अक्षरों के उस संयोजन का चयन कीजिए, जिसे दी गई श्रृंखला के रिक्त स्थानों में क्रमानुसार रखने पर, श्रृंखला पूर्ण हो जाएगी।
L _ ST _ ÖSTN _ STÖÖ _ T

- Ans ☒ 1. OMLP
☒ 2. ONLO
☒ 3. OLRŠ
☒ 4. OMOS

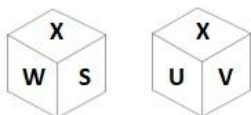
Question ID : 26433057815
Status : Answered
Chosen Option : 4

Q.14 दिए गए समीकरण को संतुलित करने के लिए कौन-से दो संख्या समूहों को आपस में बदला जाना चाहिए?
 $396 \div 4 + 772 - 257 \times 5 + 944 = 16 \times 2 + 60 \times 8$

- Ans ☒ 1. (4 और 5), तथा (2 और 8)
☒ 2. (396 और 772), तथा (16 और 8)
☒ 3. (257 और 772), तथा (396 और 944)
☒ 4. (396 और 772), तथा (16 और 60)

Question ID : 26433056518
Status : Not Attempted and Marked For Review
Chosen Option : --

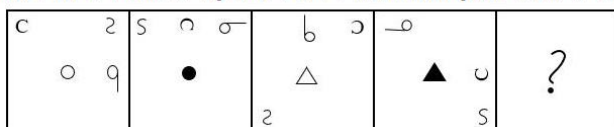
Q.15 एक पासे के विभिन्न फलकों पर छः अक्षर S, T, U, V, W और X लिखे गए हैं। इस पासे की दो स्थितियाँ दी गई आकृतियों में दर्शाई गई हैं। S के विपरीत फलक पर अक्षर ज्ञात कीजिए।



- Ans
- ☒ 1. X
 - ☒ 2. U
 - ☒ 3. V
 - ☒ 4. W

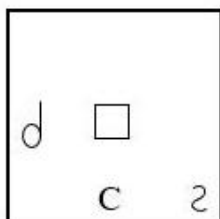
Question ID : 26433067534
Status : Answered
Chosen Option : 3

Q.16 दिए गए विकल्पों में से उस आकृति का चयन करें जो निम्नलिखित श्रृंखला में प्रश्नवाचक चिह्न (?) को प्रतिस्थापित कर सकती है।

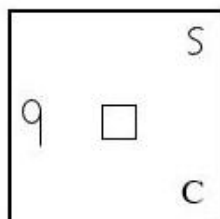


Ans

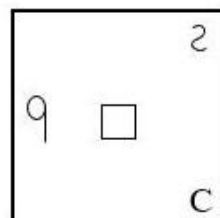
☒ 1.



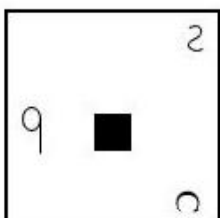
☒ 2.



☒ 3.



☒ 4.



Question ID : 26433058074
Status : Not Attempted and Marked For Review
Chosen Option : --

Q.17 7 व्यक्ति - A, B, C, D, E, F और G – उत्तर में मुख किए एक कतार में बैठे हैं। केवल तीन व्यक्ति F के दाएँ बैठे हैं। C, F के बाएँ से दूसरा है। A, F के दाएँ से तीसरा है। D, A और E के ठीक पास में हैं। यदि G, F के पास में न हो, तो B का स्थान कहाँ है?

- Ans
- ☒ 1. F के बाएँ से दूसरा
 - ☒ 2. D के बाएँ से चौथा
 - ☒ 3. A के बाएँ से चौथा
 - ☒ 4. G के दाएँ से तीसरा

Question ID : 26433068821

Status : Answered

Chosen Option : 3

Q.18 'A ÷ B' का अर्थ है कि 'A, B का पिता है'
'A * B' का अर्थ है कि 'A, B का भाई है'
'A + B' का अर्थ है कि 'A, B की माता है'
'A - B' का अर्थ है कि 'A, B की बहन है'

यदि $P + Q + R - S \div T * U$ है, तो T का P से क्या संबंध है?

- Ans
- ☒ 1. भांजा
 - ☒ 2. पुत्री के पुत्र का पुत्र
 - ☒ 3. भतीजा
 - ☒ 4. बहन

Question ID : 26433056417

Status : Answered

Chosen Option : 2

Q.19 उस समुच्चय का चयन करें जिसमें दी गई संख्याएं आपस में उसी प्रकार संबंधित हैं जिस प्रकार निम्नलिखित समुच्चयों की संख्याएं हैं।
(ध्यान दें: संख्याओं को उसके घटक अंकों में विभाजित किए बिना, पूर्ण संख्याओं पर गणितीय संक्रियाएं की जानी चाहिए। उदाहरण के लिए 13 - जोड़ने/घटाने/गुणा करने जैसी गणितीय संक्रियाएं पूर्ण 13 पर की जा सकती हैं। 13 को 1 और 3 में विभाजित करने और फिर 1 और 3 पर गणितीय संक्रियाएं करने की अनुमति नहीं है।)
(5, 82, 97)
(7, 39, 60)

- Ans
- ☒ 1. (18, 48, 102)
 - ☒ 2. (18, 49, 102)
 - ☒ 3. (18, 48, 107)
 - ☒ 4. (18, 48, 101)

Question ID : 26433068661

Status : Not Answered

Chosen Option : --

Q.20 निम्नलिखित में से कौन-सी संख्या दी गई श्रृंखला में प्रश्न चिह्न (?) को प्रतिस्थापित करेगी?
7, 26, 63, ?, 215

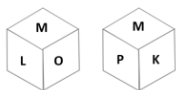
- Ans
- ☒ 1. 128
 - ☒ 2. 135
 - ☒ 3. 210
 - ☒ 4. 124

Question ID : 26433056443

Status : Answered

Chosen Option : 4

Q.21 एक पासे के विभिन्न फलकों पर छह अक्षर K, L, M, O, P और Q लिखे गए हैं। दी गई आकृति में इस पासे की दो स्थितियों को दिखाया गया है। K अक्षर वाले फलक के विपरीत फलक पर कौन-सा अक्षर होगा?



- Ans
- ☒ 1. Q
 - ☒ 2. O
 - ☒ 3. L
 - ☒ 4. P

Question ID : 26433057798
Status : Answered
Chosen Option : 2

Q.22 छः मित्र किसी वृत्ताकार मेज के परितः केंद्राभिमुख होकर बैठे हैं। साहिल बिल्कुल सोमा और दशाद दोनों के निकटस्थ है। धवल, दशाद के दाएँ दूसरे स्थान पर बैठा है। निशा, सोमा के दाएँ तीसरे स्थान पर बैठी है। चैताली बिल्कुल धवल और सोमा दोनों की निकटस्थ है। साहिल और निशा के बीच कौन बैठा/बैठी है?

- Ans
- ☒ 1. दशाद
 - ☒ 2. धवल
 - ☒ 3. चैताली
 - ☒ 4. सोमा

Question ID : 26433076518
Status : Not Attempted and Marked For Review
Chosen Option : --

Q.23 दिए गए कथनों और निष्कर्षों को ध्यानपूर्वक पढ़ें। यह मानते हुए कि कथनों में दी गई जानकारी सत्य है, भले ही वह सामान्यतः ज्ञात तथ्यों से भिन्न प्रतीत होती हो, उस आधार पर यह तय करें कि दिए गए निष्कर्षों में से कौन-सा/से निष्कर्ष कथनों का तार्किक रूप से अनुसरण करता है/करते हैं।

कथन:
सभी तोते रैक हैं।
कुछ रैक चारपाई हैं।
सभी चारपाई बंदरगाह हैं।
निष्कर्ष:
I. कुछ बंदरगाह तोते हैं।
II. कुछ चारपाई तोते हैं।

- Ans
- ☒ 1. केवल निष्कर्ष (II) अनुसरण करता है
 - ☒ 2. या तो निष्कर्ष (I) या (II) अनुसरण करता है
 - ☒ 3. केवल निष्कर्ष (I) अनुसरण करता है
 - ☒ 4. न तो निष्कर्ष (I) और न ही (II) अनुसरण करता है

Question ID : 26433079071
Status : Answered
Chosen Option : 4

Q.24 एक तस्वीर में एक व्यक्ति की ओर इशारा करते हुए रोहन ने कहा, "वह मेरे पिता के इकलौते भाई का भतीजा है।" वह व्यक्ति रोहन से किस प्रकार संबंधित है?

- Ans
- ☒ 1. भाई
 - ☒ 2. पिता
 - ☒ 3. चाचा
 - ☒ 4. दादा

Question ID : 26433057684
Status : Answered
Chosen Option : 1

Q.25 विकल्पों में से कौन सा अक्षर-समूह प्रश्नवाचक चिह्न (?) को प्रतिस्थापित करके दी गई श्रेणी को पूरा करेगा?
UQMI, VOPE, WMSA,?, YIYS

- Ans ☒ 1. KXWV
☒ 2. XVWK
☒ 3. XKVW
☒ 4. XKWV

Question ID : 26433065588
Status : Answered
Chosen Option : 3

Section : Part-D- English Language

Q.1 Select the most appropriate ANTONYM of the underlined word.

@Qmaths

The way she behaves enticed the guests.

- Ans ☒ 1. Scolded
☒ 2. Persuaded
☒ 3. Invited
☒ 4. Repulsed

Question ID : 26433063642
Status : Answered
Chosen Option : 3

Q.2 Identify the error in tense and choose the correct form of the verbs in present tense from the following options.
Sachin is passing the ball to Vivek. Vivek is moving inside, but Tom won it back for the club.

- Ans ☒ 1. has been passing the ball, has been moving inside, has been winning it back
☒ 2. was passing the ball, was moving inside, was winning it back
☒ 3. passes the ball, moves inside, wins it back
☒ 4. pass the ball, move inside, win it back

Question ID : 26433059191
Status : Not Answered
Chosen Option : --

Q.3 Parts of a sentence are given below in jumbled order. Arrange the parts in the correct order to form a meaningful sentence.

Clean water supplies / in the home / are essential / good health and cleanliness / for

- Ans ☒ 1. Good health and cleanliness are essential for clean water supplies in the home
☒ 2. Clean water supplies are essential for good health and cleanliness in the home.
☒ 3. For clean water supplies, good health and cleanliness are essential in the home
☒ 4. Clean water supplies for good health and cleanliness are essential in the home.

Question ID : 26433059616
Status : Answered
Chosen Option : 4

Q.4 Select the most appropriate synonym of the underlined word.

He is known for his opulent life style.

- Ans
- ☐ 1. Laudable
 - ☐ 2. Lamentable
 - ☐ 3. Penurious
 - ☒ 4. Lavish

Question ID : 26433073277
Status : Answered
Chosen Option : 3

Q.5 Select the option that can be used as a one-word substitute for the given group of words.

Of, concerning or consisting of money

- Ans
- ☐ 1. Peculate
 - ☐ 2. Peculiarly
 - ☐ 3. Pectoral
 - ☒ 4. Pecuniary

Question ID : 26433060495
Status : Answered
Chosen Option : 4

Q.6 Select the most appropriate meaning of the given idiom.
The best of both worlds

- Ans
- ☐ 1. Trying times
 - ☒ 2. An ideal situation
 - ☐ 3. An inescapable situation
 - ☐ 4. Worldly success

Question ID : 26433066123
Status : Answered
Chosen Option : 4

Q.7 Select the most appropriate option that can substitute the underlined segment in the given sentence. If there is no need to substitute it, select 'No substitution'.

He killed the dog by a stick.

- Ans
- ☐ 1. through a stick
 - ☐ 2. from a stick
 - ☒ 3. with a stick
 - ☐ 4. No substitution

Question ID : 26433073254
Status : Answered
Chosen Option : 1

Q.8 Select the most appropriate ANTONYM of the given word.
Praise

- Ans ☒ 1. Condemn
☐ 2. Appreciate
☐ 3. Improve
☐ 4. Command

Question ID : 26433063111
Status : Answered
Chosen Option : 1

Q.9 Select the INCORRECTLY spelt word.

- Ans ☐ 1. Narrated
☐ 2. Animated
☒ 3. Designeted
☐ 4. Separated

Question ID : 26433055474
Status : Answered
Chosen Option : 3

Q.10 Parts of a sentence are given below in jumbled order. Arrange the parts in the correct order to form a meaningful sentence.

We / are proud / live / to call ourselves civilised / who / in the present-day world

- Ans ☐ 1. We are proud to live in the present-day world who call ourselves civilised.
☐ 2. We live in the present-day world who are proud to call ourselves civilised.
☐ 3. We are proud in the present-day world who live to call ourselves civilised.
☒ 4. We who live in the present-day world are proud to call ourselves civilised.

Question ID : 26433059615
Status : Not Answered
Chosen Option : --

Q.11 Select the most appropriate meaning of the underlined word in a sentence.

She was trying to mystify her opponent.

- Ans ☐ 1. convince
☐ 2. pursue
☒ 3. bewilder
☐ 4. anger

Question ID : 26433055991
Status : Answered
Chosen Option : 1

Q.12 The following sentence has been split into four segments. Identify the segment that contains a grammatical error.

The yellow pair of scissors / you have searching for / since yesterday, / is on the dining table.

- Ans ☒ 1. since yesterday
- ☒ 2. you have searching for
- ☒ 3. The yellow pair of scissors
- ☒ 4. is on the dining table

Question ID : 26433055597
Status : Answered
Chosen Option : 2

Q.13 Select the most appropriate option to fill in the blank.

Often in our country the _____ forces of communalism and casteism severally impact the nation's unity.

- Ans ☒ 1. vigilant
- ☒ 2. disruptive
- ☒ 3. substantive
- ☒ 4. constructive

Question ID : 26433072414
Status : Not Answered
Chosen Option : --

Q.14 Parts of sentences are given below in jumbled order. Arrange the parts in the correct order to form meaningful sentences.

- a) this is a powerful means by which many who have wielded
b) writing can instil a number of emotions
c) a pen has been able to connect with readers and trigger massive changes
d) within a reader; joy, grief, love, anger, jealousy, etc.

- Ans ☒ 1. b, d, a, c
- ☒ 2. a, b, c, d
- ☒ 3. b, a, c, d
- ☒ 4. c, d, a, b

Question ID : 26433058272
Status : Not Answered
Chosen Option : --

Q.15 Select the most appropriate option to fill in the blank.

The consciousness of a human _____ when committing something unethical.

- Ans ☒ 1. tricks
- ☒ 2. licks
- ☒ 3. bricks
- ☒ 4. pricks

Question ID : 26433058380
Status : Not Answered
Chosen Option : --

Q.16 Parts of a sentence/paragraph are given below. While the first and the last parts (A and F) are in the correct order, the parts in between are jumbled up. Arrange the parts in the correct order to form a meaningful and coherent sentence/paragraph.



- A.Throughout your life, you have the option of mastering a variety of abilities.
B.Some will be useful in very particular scenarios,
C.while others will be useful in a wider range of situations.
D.Certain talents, on the other hand, have such a broad impact on your life
E.that it would be almost irresponsible not to master them.
F.One of them is writing.

- Ans  1. D, E, B, C
 2. E, D, C, B
 3. C, B, D, E
 4. B, C, D, E

Question ID : 26433072506
Status : Not Answered
Chosen Option : --





Q.17 Select the most appropriate idiom or phrase to complete the given sentence.

They indeed live _____as they always dream about making a huge fortune overnight

- Ans  1. to eat my hat
 2. to pull someone's leg
 3. in a fool's paradise
 4. on a bed of thorns

Question ID : 26433056018
Status : Answered
Chosen Option : 3





Q.18 Select the INCORRECTLY spelt word.

- Ans  1. Lunacy
 2. Handling
 3. Vehical
 4. Chronic

Question ID : 26433066143
Status : Answered
Chosen Option : 1

Q.19 Select the most appropriate option to fill in the blanks.

The young police officer acted with _____ and took the robbers into _____.

- Ans  1. anomaly; captivity
 2. ability; protection
 3. anonymity; preservation
 4. agility; custody

Question ID : 26433065181
Status : Answered
Chosen Option : 4

Q.20 Select the most appropriate synonym of the underlined word in the given sentence.
Sabuj is seeking his doctoral research from a reputed university.

- Ans ☒ 1. pursuing
 ☐ 2. running after
 ☐ 3. fulfilling
 ☐ 4. getting

Question ID : 26433058587
Status : Answered
Chosen Option : 1

Comprehension:

Read the given passage and answer the questions that follow.

Advertising, without a doubt, aims to persuade customers to 1. _____ their items. However, it is now a serious worry that advertising only promotes the product's positive 2. _____ and pushes customers to follow the latest fashion 3. _____. As a result, advertising develops unnatural and needless 4. _____ and demands. The important point is that advertising only promotes the positive aspects of their products in order to 5. _____ customers to purchase them. As a result, consumers are given an incomplete picture of the product. As a result, customers will want to acquire the products because they have no flaws.

SubQuestion No : 21

Q.21 Select the most appropriate option to fill in blank number 1.

- Ans ☒ 1. buy
 ☐ 2. enclose
 ☐ 3. fix
 ☐ 4. deceive

Question ID : 26433060659
Status : Answered
Chosen Option : 1

Comprehension:

Read the given passage and answer the questions that follow.

Advertising, without a doubt, aims to persuade customers to 1. _____ their items. However, it is now a serious worry that advertising only promotes the product's positive 2. _____ and pushes customers to follow the latest fashion 3. _____. As a result, advertising develops unnatural and needless 4. _____ and demands. The important point is that advertising only promotes the positive aspects of their products in order to 5. _____ customers to purchase them. As a result, consumers are given an incomplete picture of the product. As a result, customers will want to acquire the products because they have no flaws.

SubQuestion No : 22

Q.22 Select the most appropriate option to fill in blank number 2.

- Ans ☐ 1. criticises
 ☒ 2. aspects
 ☐ 3. limitations
 ☐ 4. glances

Question ID : 26433060660
Status : Answered
Chosen Option : 4

Comprehension:

Read the given passage and answer the questions that follow.

Advertising, without a doubt, aims to persuade customers to 1. _____ their items. However, it is now a serious worry that advertising only promotes the product's positive 2. _____ and pushes customers to follow the latest fashion 3. _____. As a result, advertising develops unnatural and needless 4. _____ and demands. The important point is that advertising only promotes the positive aspects of their products in order to 5. _____ customers to purchase them. As a result, consumers are given an incomplete picture of the product. As a result, customers will want to acquire the products because they have no flaws.

SubQuestion No : 23

Q.23 Select the most appropriate option to fill in blank number 3.

- Ans
- ☒ 1. modes
 - ☒ 2. gifts
 - ☒ 3. trends
 - ☒ 4. enlists

Question ID : 26433060661
Status : Not Answered
Chosen Option : --

Comprehension:

Read the given passage and answer the questions that follow.

Advertising, without a doubt, aims to persuade customers to 1. _____ their items. However, it is now a serious worry that advertising only promotes the product's positive 2. _____ and pushes customers to follow the latest fashion 3. _____. As a result, advertising develops unnatural and needless 4. _____ and demands. The important point is that advertising only promotes the positive aspects of their products in order to 5. _____ customers to purchase them. As a result, consumers are given an incomplete picture of the product. As a result, customers will want to acquire the products because they have no flaws.

SubQuestion No : 24

Q.24 Select the most appropriate option to fill in blank number 4.

- Ans
- ☒ 1. cravings
 - ☒ 2. appetite
 - ☒ 3. passions
 - ☒ 4. addictions

Question ID : 26433060662
Status : Answered
Chosen Option : 3

Comprehension:

Read the given passage and answer the questions that follow.

Advertising, without a doubt, aims to persuade customers to 1. _____ their items. However, it is now a serious worry that advertising only promotes the product's positive 2. _____ and pushes customers to follow the latest fashion 3. _____. As a result, advertising develops unnatural and needless 4. _____ and demands. The important point is that advertising only promotes the positive aspects of their products in order to 5. _____ customers to purchase them. As a result, consumers are given an incomplete picture of the product. As a result, customers will want to acquire the products because they have no flaws.

SubQuestion No : 25

Q.25 Select the most appropriate option to fill in blank number 5.

- Ans ☒ 1. appeal
☒ 2. entice
☒ 3. increase
☒ 4. converge

Question ID : 26433060663

Status : Not Answered

Chosen Option : --

Section : Part-E- Computer Fundamentals

Q.1 एमएस-वर्ड 2010 (MS-Word 2010) के _____ में, पहली लाइन के अतिरिक्त अन्य सभी लाइनें इंडेंट होती हैं।

- Ans ☒ 1. लेफ्ट इंडेंट(left indent)
☒ 2. सेकंड लाइन इंडेंट(second line indent)
☒ 3. राइट इंडेंट(right indent)
☒ 4. हैंगिंग इंडेंट(hanging indent)

Question ID : 26433095324

Status : Not Answered

Chosen Option : --

Q.2 MS-Excel 2010 में नीचे दिए गए फंक्शन किसे रिटर्न करेंगे?
=EXACT("Word", "word")

- Ans ☒ 1. 1
☒ 2. TRUE
☒ 3. 0
☒ 4. FALSE

Question ID : 26433095540

Status : Not Answered

Chosen Option : --

Q.3 _____, एप्लिकेशन के शीर्षतम क्षेत्र को संदर्भित करता है, जिसमें एमएस- एक्सेल 2010 (MS-Excel 2010) में उपलब्ध मेन्यू आइटम और टूलबार शामिल होते हैं।

- Ans ☒ 1. रूलर बार (Ruler bar)
☒ 2. टाइटल बार (Title bar)
☒ 3. टास्क बार (Task bar)
☒ 4. रिबन (Ribbon)

Question ID : 26433095388

Status : Not Answered

Chosen Option : --

Q.4 डिलीट किए गए मेल, _____ फ़ोल्डर में पाए जा सकते हैं।

- Ans
- ☒ 1. ड्राफ्ट (Draft)
 - ☒ 2. सेंट (Sent)
 - ☒ 3. ट्रेस (Trash)
 - ☒ 4. इनबॉक्स (Inbox)

Question ID : 26433095425
Status : Answered
Chosen Option : 3

Q.5 एमएस-वर्ड 2010 (MS-Word 2010) के पैराग्राफ फॉर्मेटिंग में, कीबोर्ड शॉर्टकट Ctrl + Q का उपयोग निम्नलिखित में से किस उद्देश्य के लिए किया जाता है?

- Ans
- ☒ 1. अप्लाई स्टाइल टास्क पैन खोलने के लिए
 - ☒ 2. हाइलाइट किए गए पैराग्राफ से पैराग्राफ फॉर्मेटिंग हटाने के लिए
 - ☒ 3. पैराग्राफ इंडेंटेशन हटाने के लिए
 - ☒ 4. पैराग्राफ स्पेसिंग को डबल लाइन में बदलने के लिए

Question ID : 26433095333
Status : Answered
Chosen Option : 3

Q.6 _____ एक टूल है जिसका उपयोग एमएस-एक्सेल 2010 (MS-Excel 2010) में डेटा की गणना, सारांश और विश्लेषण करने के लिए किया जाता है और यह आपको आपके डेटा में तुलना, पैटर्न और रुझान देखने की सुविधा देता है।

- Ans
- ☒ 1. पिवट टेबल (pivot table)
 - ☒ 2. लुकअप टेबल (lookup table)
 - ☒ 3. कंडीशनल टेबल (conditional table)
 - ☒ 4. रिफ्रेंस टेबल (reference table)

Question ID : 26433095330
Status : Answered
Chosen Option : 2

Q.7 निम्नलिखित में से कौन सी सबसे धीमी प्रकार की इंटरनेट सर्विस है?

- Ans
- ☒ 1. 3G और 4G (3G and 4G)
 - ☒ 2. डायल अप (Dial up)
 - ☒ 3. डिजिटल सब्सक्राइबर लाइन (Digital subscriber line)
 - ☒ 4. सेटेलाइट (Satellite)

Question ID : 26433095376
Status : Answered
Chosen Option : 2

Q.8 _____, एमएस-वर्ड 2010 (MS-Word 2010) में डॉक्यूमेंट के एप्लिकेशन नाम को प्रदर्शित करता है।

- Ans
- ☒ 1. रिबन (Ribbon)
 - ☒ 2. फाइल टैब (File tab)
 - ☒ 3. क्वीक एक्सेस टूलबार (Quick Access toolbar)
 - ☒ 4. टाइटल बार (Title bar)

Question ID : 26433095342
Status : Not Answered
Chosen Option : --

Q.9 एमएस-वर्ड 2010 (MS-Word 2010) डॉक्यूमेंट में डिफ़ॉल्ट फॉन्ट फेस क्या होता है?

- Ans ☒ 1. टाइम्स न्यू रोमन (Times New Roman)
- ☒ 2. कैलिबरी (Calibri)
- ☒ 3. एरियल (Arial)
- ☒ 4. इटैलिक (Italic)

Question ID : 26433095303
Status : Answered
Chosen Option : 2

Q.10 _____ एक दूरसंचार तकनीक है, जिससे अलग-अलग स्थानों पर मौजूद दो या दो से अधिक लोग परस्पर वीडियो या ऑडियो प्रसारण के माध्यम से एक साथ बातचीत कर सकते हैं।

- Ans ☒ 1. पेमेंट गेटवे (Payment gateway)
- ☒ 2. विडियोकॉन्फ्रेंसिंग (Videoconferencing)
- ☒ 3. ईमेल (EMAIL)
- ☒ 4. ब्लॉग (BLOG)

Question ID : 26433095417
Status : Answered
Chosen Option : 2