

Delhi Police
Head Constable
Previous Year Paper
(Ministerial) 18 Oct 2022
Shift 1

Head Constable Ministerial in Delhi Police Examination 2022

| | |
|----------------|-------------------------------------------------------------|
| Roll Number | |
| Candidate Name | |
| Venue Name | Arya College of Engineering and Information Technology |
| Exam Date | 18/10/2022 |
| Exam Time | 9:00 AM - 10:30 AM |
| Subject | Head Constable Ministerial in Delhi Police Examination 2022 |

Section : Part-A-General Awareness

Q.1 MUDRA योजना में M से क्या तात्पर्य है?

- Ans
- ☒ 1. मॉनेटरी
 - ☒ 2. माइक्रो
 - ☒ 3. मनी
 - ☒ 4. मैक्रो

Question ID : 26433059238

Status : Answered

Chosen Option : 2

Q.2 सोनालिका किस खाद्यान्न से संबंधित HYV है?

- Ans
- ☒ 1. गेहूँ
 - ☒ 2. मकई
 - ☒ 3. मक्का
 - ☒ 4. चावल

Question ID : 26433059286

Status : Not Answered

Chosen Option : --

Q.3 किसने इस बात की वकालत की थी कि भारत वास्तव में तभी स्वतंत्र होगा जब उसके सबसे गरीब लोग मानवीय पीड़ा से मुक्त होंगे?

- Ans
- ☒ 1. इंदिरा गांधी
 - ☒ 2. जवाहर लाल नेहरू
 - ☒ 3. महात्मा गांधी
 - ☒ 4. सुभाष चंद्र बोस

Question ID : 26433081928

Status : Answered

Chosen Option : 3

Q.4 Meningitis is an inflammation of the fluid and membranes of which of the following organs?

- Ans
- ☒ 1. Kidney
 - ☒ 2. Liver
 - ☒ 3. Brain
 - ☒ 4. Intestine

Question ID : 26433095251

Status : Answered

Chosen Option : 3

Q.5 विभिन्न समानांतर हिमालय पर्वतमालाओं पर विचार कीजिए। उनकी बढ़ती ऊंचाई के अनुसार सही क्रम कौन सा है?

- 1) शिवालिक
- 2) हिमाचल
- 3) ग्रेटर हिमालय

Ans ☒ 1. 3-1-2

☒ 2. 2-1-3

☒ 3. 1-2-3

☒ 4. 3-2-1

Question ID : 26433055318

Status : Answered

Chosen Option : 3

Q.6 निम्नलिखित में से कौन-सा, ऐसा स्पेस टेक स्टार्टअप (space tech startup) है जिसने LIDAR (लाइट डिटेक्शन एंड रेंजिंग) तकनीक पर आधारित भारत का पहला इन-ऑर्बिट स्पेस डेब्रिस मॉनिटरिंग और ट्रैकिंग सिस्टम (In-orbit Space Debris Monitoring and tracking system) विकसित किया है?

Ans ☒ 1. अग्रिकुल

☒ 2. पिक्सेल (Pixxel)

☒ 3. ध्रुव

☒ 4. डिजिअंतरा (Digiantra) रिसर्च एंड टेक्नालॉजी (DRT)

Question ID : 26433095271

Status : Not Answered

Chosen Option : --

Q.7 सिन्धु घाटी सभ्यता के निम्नलिखित में से किस स्थल से जुते हुए खेत के साक्ष्य मिले हैं?

Ans ☒ 1. कालीबंगा

☒ 2. बनावली

☒ 3. मोहनजोदड़ो

☒ 4. लोथल

Question ID : 26433064348

Status : Answered

Chosen Option : 1

Q.8 मेजर ध्यानचंद खेल रत्न पुरस्कार 2021 _____ खिलाड़ियों को दिया गया था।

Ans ☒ 1. 18

☒ 2. 9

☒ 3. 12

☒ 4. 15

Question ID : 26433061808

Status : Answered

Chosen Option : 3

Q.9 भारत में रेपो दर क्या है?

- Ans ☒ 1. वह दर जिस पर वाणिज्यिक बैंक अपनी प्रतिभूतियों को भारतीय रिजर्व बैंक (RBI) को अल्पावधि के लिए बेचकर उधार लेते हैं।
- ☒ 2. वह दर जिस पर भारतीय रिजर्व बैंक (RBI) अल्पावधि के लिए वाणिज्यिक बैंकों से धन उधार लेता है।
- ☒ 3. वह दर जिस पर वाणिज्यिक बैंक अपनी प्रतिभूतियों को भारतीय रिजर्व बैंक (RBI) को दीर्घावधि के लिए बेचकर धन उधार लेते हैं।
- ☒ 4. वह दर जिस पर भारतीय रिजर्व बैंक (RBI) वाणिज्यिक बैंकों से दीर्घावधि के लिए धन उधार लेता है।

Question ID : 26433064499

Status : Answered

Chosen Option : 3

Q.10 वर्ष 2022 में उत्तर प्रदेश विधानसभा चुनाव कितने चरणों में हुए थे?

- Ans ☒ 1. चार
- ☒ 2. पाँच
- ☒ 3. आठ
- ☒ 4. सात

Question ID : 26433061826

Status : Answered

Chosen Option : 2

Q.11 मलयालम नव वर्ष के अवसर पर निम्नलिखित में से किस देवता की पूजा की जाती है?

- Ans ☒ 1. भगवान ब्रह्मा
- ☒ 2. भगवान इंद्र
- ☒ 3. भगवान गणेश
- ☒ 4. भगवान विष्णु

Question ID : 26433069905

Status : Not Answered

Chosen Option : --

Q.12 26 जनवरी 2021 तक की स्थिति के अनुसार, इनमें से कौन भारत सरकार में सड़क परिवहन और राजमार्ग मंत्री हैं?

- Ans ☒ 1. कपिल मोरेश्वर पाटिल
- ☒ 2. नितिन जयराम गडकरी
- ☒ 3. राजकुमार रंजन सिंह
- ☒ 4. भागवत किशनराव कराड

Question ID : 26433061793

Status : Answered

Chosen Option : 2

Q.13 निम्नलिखित में से किस योजना को 'आजीविका' के नाम से भी जाना जाता है?

- Ans ☒ 1. राष्ट्रीय ग्रामीण आजीविका मिशन
- ☒ 2. राष्ट्रीय ग्रामीण रोजगार मिशन
- ☒ 3. राष्ट्रीय पिछड़ा वर्ग रोजगार मिशन
- ☒ 4. राष्ट्रीय शहरी रोजगार मिशन

Question ID : 26433066606

Status : Not Answered

Chosen Option : --

Q.14 ब्रिटिश भारत के निम्नलिखित में से किस अधिनियम के तहत, ब्रिटेन में एक नियंत्रण बोर्ड स्थापित किया गया था, और ब्रिटिश सरकार और ईस्ट इंडिया कंपनी द्वारा ब्रिटिश भारत पर शासन की दोहरी व्यवस्था लागू की गई थी?

- Ans
- ☒ 1. चार्टर अधिनियम, 1793
 - ☒ 2. भारतीय संविदा अधिनियम, 1872
 - ☒ 3. पिट्स इंडिया अधिनियम, 1784
 - ☒ 4. चार्टर अधिनियम, 1813

Question ID : 26433065537

Status : Answered

Chosen Option : 3

Q.15 बहमनी शासक हुमायूँ शाह द्वारा निम्नलिखित में से किसे मलिक-उत-तुज्जर, 'सौदागरों के मुखिया' की उपाधि दी गई थी?

- Ans
- ☒ 1. हरन कांगू
 - ☒ 2. मोहम्मद शाह
 - ☒ 3. महमूद गवान
 - ☒ 4. बहराम शाह

@Qmaths

Question ID : 26433064604

Status : Not Answered

Chosen Option : --

Q.16 श्रम और रोज़गार मंत्री ने _____ 2021 में घरेलू कामगारों पर पहले अखिल भारतीय सर्वेक्षण को झंडी दिखाई, जिसे एक साल में पूरा किए जाने का प्रस्ताव था।

- Ans
- ☒ 1. नवंबर
 - ☒ 2. सितंबर
 - ☒ 3. अक्टूबर
 - ☒ 4. जुलाई

Question ID : 26433061804

Status : Not Answered

Chosen Option : --

Q.17 'सैला' एक लोक नृत्य है जो _____ में बांस की छड़ियों के साथ किया जाता है।

- Ans
- ☒ 1. छत्तीसगढ़
 - ☒ 2. केरल
 - ☒ 3. मणिपुर
 - ☒ 4. लद्दाख

Question ID : 26433064298

Status : Not Answered

Chosen Option : --

Q.18 मौलिक कर्तव्यों के संबंध में नियुक्त की गई स्वर्ण सिंह समिति द्वारा प्रारंभ में कितने मौलिक कर्तव्यों की सिफारिश की गई थी?

- Ans
- ☒ 1. 9
 - ☒ 2. 8
 - ☒ 3. 7
 - ☒ 4. 10

Question ID : 26433054892

Status : Answered

Chosen Option : 4

Q.19 वर्ष 1913 में गदर पार्टी की स्थापना किसने की और भारत में सशस्त्र क्रांति के लिए प्रयास किए?

- Ans ☒ 1. लाला लाजपत राय
☒ 2. सुभाष चंद्र बोस
☒ 3. लाला हरदयाल
☒ 4. चंद्रशेखर आजाद

Question ID : 26433054291
Status : Answered
Chosen Option : 3

Q.20 निम्नलिखित में से कौन सी फसल हरियाणा और पंजाब में एक व्यावसायिक फसल है, लेकिन ओडिशा में एक निर्वाह फसल है?

- Ans ☒ 1. चावल
☒ 2. गन्ना
☒ 3. मूँग
☒ 4. बाजरा

Question ID : 26433071576
Status : Not Answered
Chosen Option : --

Section : Part-B-Quantitative Aptitude

Q.1 54 km/h की चाल से चलने वाली 225 m लंबी ट्रेन को प्लेटफार्म पर खड़े एक व्यक्ति को पार करने में कितना समय लगता है?

- Ans ☒ 1. 12 सेकंड
☒ 2. 4.5 सेकंड
☒ 3. 4.16 सेकंड
☒ 4. 15 सेकंड

Question ID : 26433058150
Status : Answered
Chosen Option : 4

Q.2 A man, a woman and a boy can complete a job in 3, 5 and 15 days respectively. When working together, how many boys must assist one man and one woman to complete the work in $\frac{1}{4}$ of a day?

- Ans ☒ 1. 58
☒ 2. 63
☒ 3. 60
☒ 4. 52

Question ID : 26433063801
Status : Answered
Chosen Option : 4

Q.3 एक नाव में 16 नाविकों के औसत भार में $\frac{1}{4}$ kg की वृद्धि तब होती है, जब नाविकों में से किसी एक को, जिसका भार 50 kg है, एक नए व्यक्ति द्वारा प्रतिस्थापित किया जाता है। उस नए व्यक्ति का भार कितना है?

- Ans ☒ 1. 55 kg
☒ 2. 54 kg
☒ 3. 52 kg
☒ 4. 53 kg

Question ID : 26433064003
Status : Answered
Chosen Option : 2

Q.4 निम्नलिखित समीकरण में लुप्त संख्या (* द्वारा निरूपित) ज्ञात कीजिए।

$$15\frac{3}{5} \times \frac{*}{3} = 26$$

- Ans ☒ 1. 5
☐ 2. 45
☐ 3. 55
☐ 4. 15

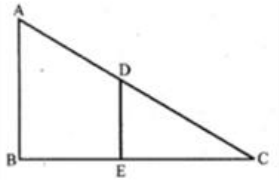
Question ID : 26433065042
Status : Answered
Chosen Option : 1

Q.5 विजय सभी उपलब्ध सब्जियों को बिशाका से 4 मिनट कम समय में काट सकता है। अगर दोनों एक साथ काम करते हैं, तो वे सभी सब्जियों को काटने में 288 सेकेंड का समय लेते हैं। विजय अकेले सभी सब्जियों को काटने में कितना समय लेगा?

- Ans ☐ 1. 7 मिनट
☐ 2. 9 मिनट
☒ 3. 8 मिनट
☐ 4. 6 मिनट

Question ID : 26433061319
Status : Answered
Chosen Option : 3

Q.6 आकृति में, यदि $AB \parallel DE$; $AB = 8$ cm, $DE = 6$ cm और $AC = 18$ cm; और DE , BC पर लंबवत है; तो $AB : CD$ का अनुपात कितना है?



- Ans ☐ 1. 4 : 3
☐ 2. 3 : 4
☒ 3. 16 : 27
☐ 4. 9 : 4

Question ID : 26433061601
Status : Not Answered
Chosen Option : --

Q.7 यदि $x^8 - 32x^4 + 256 = 0$ है, तो $(x^2 + \frac{1}{x^2})$ का धनात्मक मान क्या होगा?

- Ans ☐ 1. 2.25
☒ 2. 4.25
☐ 3. 5.75
☐ 4. 3.75

Question ID : 26433061950
Status : Answered
Chosen Option : 2

Q.8 $\frac{\sec\theta(\sin\theta - 2\sin^3\theta)}{2\cos^3\theta - \cos\theta}$ का मान क्या है?

- Ans
- ☒ 1. $\tan\theta.\cos\theta$
 - ☒ 2. $\sec\theta\sin\theta$
 - ☒ 3. $\sec\theta.\tan\theta$
 - ☒ 4. $\sin\theta.\cos\theta$

Question ID : 26433058174
Status : Answered
Chosen Option : 3

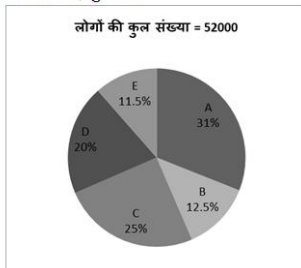
Q.9 निम्नलिखित व्यंजक को सरल कीजिए।

$$\sqrt{\frac{0.081 \times 0.64 \times 0.09 \times 0.021}{0.00007 \times 0.00003}}$$

- Ans
- ☒ 1. 216
 - ☒ 2. 512
 - ☒ 3. 324
 - ☒ 4. 729

Question ID : 26433063673
Status : Answered
Chosen Option : 1

Q.10 दिया गया पाई चार्ट एक शहर में उन लोगों के प्रतिशत को दर्शाता है जो पांच अलग-अलग कंपनियों - A, B, C, D और E के लैपटॉप खरीदने के इच्छुक हैं।



कंपनी B का लैपटॉप खरीदने के इच्छुक लोगों की संख्या का कंपनी E का लैपटॉप खरीदने के इच्छुक लोगों की संख्या से अनुपात कितना है?

- Ans
- ☒ 1. 23 : 25
 - ☒ 2. 25 : 31
 - ☒ 3. 31 : 25
 - ☒ 4. 25 : 23

Question ID : 26433073103
Status : Answered
Chosen Option : 4

Q.11 एक टेलीविजन के अंकित मूल्य पर 12%, 18% और 24% की क्रमिक छूट के लिए एकल समतुल्य छूट क्या है? (2 दशमलव स्थानों तक सही)

- Ans
- ☒ 1. 54.25%
 - ☒ 2. 45.16%
 - ☒ 3. 34.18%
 - ☒ 4. 48.64%

Question ID : 26433063702
Status : Answered
Chosen Option : 2

Q.12 एक आइसक्रीम विक्रेता को 12 cm त्रिज्या और 21 cm ऊँचाई वाले एक आइसक्रीम कोन का आयतन ज्ञात करने की आवश्यकता है? ($\pi = \frac{22}{7}$ लें)

- Ans
- ☒ 1. 3268 cm³
 - ☒ 2. 3168 cm³
 - ☒ 3. 3078 cm³
 - ☒ 4. 3188 cm³

Question ID : 26433058252
Status : Answered
Chosen Option : 2

Q.13 एक व्यक्ति ने अपनी पुस्तक ₹96 में बेची और उसे पुस्तक के क्रय मूल्य के बराबर प्रतिशत लाभ प्राप्त हुआ। पुस्तक का क्रय मूल्य ज्ञात करें।

- Ans
- ☒ 1. ₹60
 - ☒ 2. ₹80
 - ☒ 3. ₹70
 - ☒ 4. ₹50

Question ID : 26433058965
Status : Answered
Chosen Option : 1

Q.14 आनंद ने एक राशि को 8% वार्षिक दर से साधारण ब्याज पर एक बैंक में निवेश किया। यह राशि 5 वर्षों में Rs.1,680 हो जाती है, जबकि 9 वर्षों में यह Rs.2,064 हो जाती है। उसने कितनी धनराशि (Rs. में) निवेश की थी?

- Ans
- ☒ 1. Rs.1,250
 - ☒ 2. Rs.1,100
 - ☒ 3. Rs.1,150
 - ☒ 4. Rs.1,200

Question ID : 26433063336
Status : Answered
Chosen Option : 1

Q.15 निम्नलिखित विकल्पों में से गलत कथन को चुनें।

- Ans
- ☒ 1. 1, प्रत्येक अभाज्य संख्या के साथ असहभाज्य संख्या युग्म बनाता है।
 - ☒ 2. दो असहभाज्य संख्याओं का लघुत्तम समापवर्त्य (LCM) हमेशा उनका गुणनफल होता है।
 - ☒ 3. दो असहभाज्य संख्याओं का महत्तम समापवर्तक (HCF) हमेशा 1 होता है।
 - ☒ 4. दो सम संख्याएँ असहभाज्य संख्याएँ हो सकती हैं।

Question ID : 26433075094
Status : Answered
Chosen Option : 4

Q.16 यदि a, 4 और 9 के बीच मध्यानुपाती है और b, 2a और 48 के बीच मध्यानुपाती है, तो $5b - 9a$ का मान है।

- Ans
- ☒ 1. 22
 - ☒ 2. 88
 - ☒ 3. 66
 - ☒ 4. 44

Question ID : 26433061309
Status : Answered
Chosen Option : 3

Q.17 एक गोले का पृष्ठीय क्षेत्रफल 1386 cm^2 है। इसके व्यास का 40% (cm में) क्या होगा?

$(\pi = \frac{22}{7} \text{ लीजिए})$

- Ans
- ☒ 1. 10.5
 - ☒ 2. 6.3
 - ☒ 3. 4.2
 - ☒ 4. 8.4

Question ID : 26433063260
Status : Answered
Chosen Option : 4

Q.18 रमेश ने अमन से ₹1,20,000 ब्याज रहित उधार लिया। यदि वह इस राशि का 6.25% तिमाही भुगतान करता है और पहले ही ₹30,000 का भुगतान कर चुका है, तो उसे शेष राशि के लिए अपने ऋण को कितने महीनों में चुकाना होगा?

- Ans
- ☒ 1. 36 महीने
 - ☒ 2. 24 महीने
 - ☒ 3. 42 महीने
 - ☒ 4. 38 महीने

Question ID : 26433061737
Status : Not Answered
Chosen Option : --

Q.19 दिए गए व्यंजक के लिए 'a' का मान क्या है, यदि $(x + y + z) \neq 0$?

$$\frac{x}{3x + y + z} = \frac{y}{x + 3y + z} = \frac{z}{x + y + 3z} = 2a$$

- Ans
- ☒ 1. $\frac{1}{2}$
 - ☒ 2. $\frac{1}{10}$
 - ☒ 3. $\frac{1}{5}$
 - ☒ 4. $\frac{1}{15}$

Question ID : 26433058831
Status : Answered
Chosen Option : 2

Q.20 यदि चावल की कीमत में 28% की वृद्धि की जाती है, तो एक व्यक्ति को चावल की खपत में कितने प्रतिशत की कमी करनी चाहिए, ताकि उसके व्यय में कोई परिवर्तन नहीं हो?

- Ans
- ☒ 1. 23.875%
 - ☒ 2. 22.875%
 - ☒ 3. 24.875%
 - ☒ 4. 21.875%

Question ID : 26433063386
Status : Answered
Chosen Option : 4

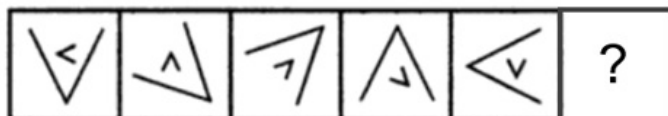
Section : Part-C-General Intelligence

Q.1 एक कूट भाषा में, 'BLUE' को 160 के रूप में कूटबद्ध किया जाता है और 'GREEN' को 245 के रूप में कूटबद्ध किया जाता है। उसी भाषा में 'ORANGE' को कैसे कूटबद्ध किया जाएगा?

- Ans
- ☒ 1. 300
 - ☒ 2. 420
 - ☒ 3. 390
 - ☒ 4. 360

Question ID : 26433057770
Status : Answered
Chosen Option : 4

Q.2 दिए गए विकल्पों में से उस आकृति का चयन करें जो निम्नलिखित श्रृंखला में प्रश्नवाचक चिह्न (?) का स्थान ले सकती है।



Ans

- ☒ 1.
- ☒ 2.
- ☒ 3.
- ☒ 4.

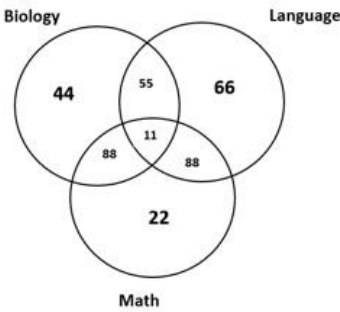
Question ID : 26433080531
Status : Answered
Chosen Option : 1

Q.3 एक कूट भाषा में 'SCENE' को D31T के रूप में और 'PRESS' को R62Q के रूप में कूटबद्ध किया जाता है। उसी भाषा में 'USAGE' को किस प्रकार कूटबद्ध किया जाएगा?

- Ans ☒ 1. D34T
☒ 2. D26V
☒ 3. D38V
☒ 4. T38D

Question ID : 26433057827
Status : Not Answered
Chosen Option : --

Q.4 दिए गए आरेख का ध्यानपूर्वक अध्ययन करें और प्रश्नों के उत्तर दें। विभिन्न वर्गों में दी गई संख्याएँ उन छात्रों की संख्या को दर्शाती हैं, जो विभिन्न विषयों में उत्तीर्ण हुए हैं। ऐसे कितने छात्र हैं, जो भाषा (Language) में उत्तीर्ण हुए हैं, लेकिन जीवविज्ञान (Biology) में अनुत्तीर्ण हुए हैं?



- Ans ☒ 1. 154
☒ 2. 132
☒ 3. 121
☒ 4. 110

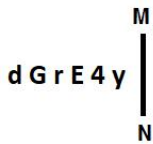
Question ID : 26433069369
Status : Answered
Chosen Option : 1

Q.5 दिए गए विकल्पों में से वह संख्या चुनिए, जो निम्नलिखित श्रृंखला में प्रश्न-चिह्न (?) को प्रतिस्थापित कर सके।
219, 197, 173, ?, 111, 69

- Ans ☒ 1. 147
☒ 2. 142
☒ 3. 150
☒ 4. 145

Question ID : 26433057054
Status : Answered
Chosen Option : 1

Q.6 यदि दर्पण को नीचे दर्शाए गए अनुसार MN पर रखा जाए, तो दी गई आकृति के सही दर्पण प्रतिबिम्ब का चयन कीजिए।



- Ans
- ☒ 1.
 - ☒ 2.
 - ☒ 3.
 - ☒ 4.

Question ID : 26433056984

Status : Answered

Chosen Option : 4

Q.7 दिए गए कथनों और निष्कर्षों को ध्यानपूर्वक पढ़ें। यह मानते हुए कि कथनों में दी गई जानकारी सत्य है, भले ही वह सामान्यतः ज्ञात तथ्यों से भिन्न प्रतीत होती हो, उस आधार पर यह तय करें कि दिए गए निष्कर्षों में से कौन-सा/से निष्कर्ष कथनों का तार्किक रूप से अनुसरण करता है/करते हैं।

कथन:

कुछ किट सॉल्यूशन हैं।

कुछ सॉल्यूशन स्टिक हैं।

सभी स्टिक कविताएं हैं।

निष्कर्ष:

I. कुछ कविताएं सॉल्यूशन हैं।

II. कुछ स्टिक किट हैं।

III. कोई स्टिक किट नहीं है।

IV. कुछ सॉल्यूशन किट हैं।

- Ans
- ☒ 1. केवल निष्कर्ष II और IV अनुसरण करते हैं
 - ☒ 2. केवल निष्कर्ष I और IV और या तो निष्कर्ष II या III अनुसरण करते हैं
 - ☒ 3. केवल निष्कर्ष II और III अनुसरण करते हैं
 - ☒ 4. केवल निष्कर्ष I और II अनुसरण करते हैं

Question ID : 26433079075

Status : Answered

Chosen Option : 2

Q.8 दी गई श्रृंखला को पूरा करने के लिए कौन-सा अक्षर-समूह प्रश्न-चिह्न (?) को प्रतिस्थापित करेगा?
FZOI, AFHM, VLAQ, ?

- Ans
- ☒ 1. QPTU
 - ☒ 2. QRTU
 - ☒ 3. QRUU
 - ☒ 4. QPUU

Question ID : 26433057971

Status : Answered

Chosen Option : 2

Q.9 निम्नलिखित में से तीन अक्षर-समूह किसी न किसी तरह में एक जैसे हैं और इसलिए एक समूह बनाते हैं। कौन-सा अक्षर-समूह उस समूह से संबंधित नहीं है?

- Ans ☒ 1. EVCX
☒ 2. GTEV
☒ 3. DWBU
☒ 4. BYZA

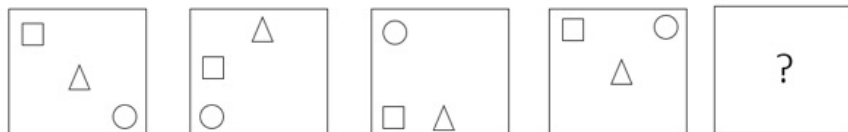
Question ID : 26433056172
 Status : Answered
 Chosen Option : 3

Q.10 उस विकल्प का चयन करें जो पांचवें अक्षर-समूह से उसी प्रकार संबंधित है जिस प्रकार दूसरा अक्षर-समूह पहले अक्षर-समूह से संबंधित है और चौथा अक्षर-समूह तीसरे अक्षर-समूह से संबंधित है।
 DAIRY : TXOGY :: MILKY : KPLNY :: CAKES : ?

- Ans ☒ 1. UXMTE
☒ 2. UXMTF
☒ 3. UXNTE
☒ 4. UYMTE

Question ID : 26433057263
 Status : Answered
 Chosen Option : 1

Q.11 दिए गए विकल्पों में से उस आकृति का चयन करें जो निम्नलिखित श्रृंखला में प्रश्नवाचक चिह्न (?) का स्थान ले सकती है।



Ans

- ☒ 1.
- ☒ 2.
- ☒ 3.
- ☒ 4.

Question ID : 26433068713
 Status : Answered
 Chosen Option : 2

Q.12 निम्नलिखित में से कौन-सा विकल्प दिए गए शब्दों के उस सही क्रम को दर्शाता है जिस क्रम में वे अंग्रेजी शब्दकोश में दिखाई देते हैं?

1. Comma
2. Comet
3. Comfort
4. Comedy
5. Combine

Ans ☒ 1. 4, 5, 2, 3, 1
☒ 2. 5, 2, 4, 3, 1
☒ 3. 5, 4, 2, 3, 1
☒ 4. 5, 4, 2, 1, 3

Question ID : 26433057208

Status : Answered

Chosen Option : 3

Q.13 छः छात्र किसी वृत्ताकार मेज के परितः केंद्राभिमुख होकर बैठे हैं। हर्ष बिल्कुल अजय और अंजली दोनों के निकटस्थ है। ध्रुव, अंजली के बाएँ पहले स्थान पर बैठा है। साहिल, हर्ष के दाएँ तीसरे स्थान पर बैठा है। दिव्या बिल्कुल अजय और साहिल दोनों की निकटस्थ है। हर्ष और ध्रुव के बीच कौन बैठा/बैठी है?

Ans ☒ 1. साहिल
☒ 2. अजय
☒ 3. दिव्या
☒ 4. अंजली

Question ID : 26433076517

Status : Answered

Chosen Option : 4

Q.14 एक महिला के चित्र की ओर इशारा करते हुए शकुंतला ने कहा, "वह मेरे पिता की दादी की बेटी है।" महिला का शकुंतला से क्या संबंध है?

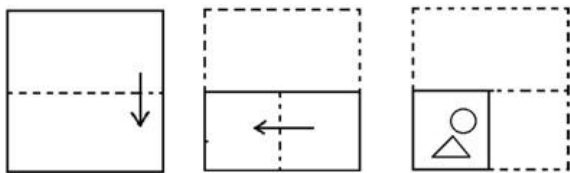
Ans ☒ 1. दादी
☒ 2. बहन
☒ 3. दादा की बहन
☒ 4. माँ

Question ID : 26433057709

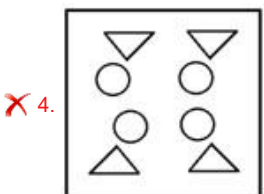
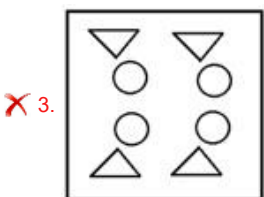
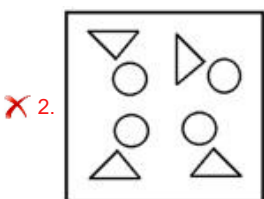
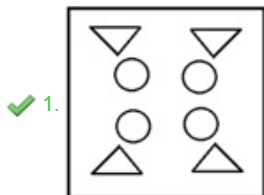
Status : Answered

Chosen Option : 3

Q.15 नीचे कागज के एक टुकड़े को मोड़ने का क्रम और मोड़े गए कागज को काटने का तरीका दिखाया गया है। उस आकृति का चयन करें, जो कागज के खुले रूप से सर्वाधिक मिलती-जुलती हो।



Ans



Question ID : 26433056680

Status : Answered

Chosen Option : 1

Q.16 उस विकल्प का चयन कीजिए जो उन अक्षरों को निरूपित करता है, जिन्हें नीचे दिए गए रिक्त स्थानों में क्रमिक रूप से बाएं से दाएं रखने पर अक्षर श्रृंखला पूर्ण हो जाएगी।

A E _ _ U A _ I _ U _ E _ O _ _ _ I _ U

Ans ✗ 1. OUIAEIUOAE

✓ 2. IOEOAIUAEO

✗ 3. IOEAIUOAE

✗ 4. UIEOUAIEOA

Question ID : 26433056387

Status : Answered

Chosen Option : 2

Q.17 उस विकल्प का चयन कीजिए, जो तीसरे पद से उसी प्रकार संबंधित है, जिस प्रकार दूसरा पद पहले पद से और छठा पद पाँचवें पद से संबंधित है।
24 : 96 :: 32 : ? :: 29 : 116

- Ans ☒ 1. 124
☒ 2. 138
☒ 3. 134
☒ 4. 128

Question ID : 26433057061
Status : Answered
Chosen Option : 4

Q.18 दिए गए समीकरण को सही (संतुलित) बनाने के लिए किन दो गणितीय चिह्नों को आपस में बदलना होगा?
 $49 + 60 \times 12 - 8 \div 4 = 22$

- Ans ☒ 1. + और \times
☒ 2. \times और +
☒ 3. - और +
☒ 4. + और -

Question ID : 26433056857
Status : Answered
Chosen Option : 2

Q.19 उस विकल्प का चयन करें जो तीसरे पद से उसी प्रकार संबंधित है जिस प्रकार दूसरा पद पहले पद से और छठा पद पाँचवें पद से संबंधित है।
88 : 139 :: 65 : ? :: 93 : 144

- Ans ☒ 1. 112
☒ 2. 116
☒ 3. 119
☒ 4. 120


Question ID : 26433057564
Status : Answered
Chosen Option : 2

Q.20 उस विकल्प का चयन कीजिए जो पाँचवें अक्षर समूह से उसी तरह संबंधित है जिस तरह दूसरा अक्षर समूह पहले अक्षर समूह से संबंधित है और चौथा अक्षर समूह तीसरे अक्षर समूह से संबंधित है।
RJB : NFX :: ICK : EYG :: DYI : ?

- Ans ☒ 1. GTZ
☒ 2. ZUE
☒ 3. BYQ
☒ 4. LPS

Question ID : 26433074679
Status : Answered
Chosen Option : 2

Q.21 एक पासे के विभिन्न फलकों पर छः अक्षर U, V, W, X, Y और Z लिखे गए हैं। इस पासे की दो स्थितियों को आकृति में दिखाया गया है। Y के विपरीत फलक वाला अक्षर ज्ञात कीजिए।



Ans ☒ 1. X

☒ 2. W

☒ 3. Z

☒ 4. V

Question ID : 26433057864

Status : Answered

Chosen Option : 1

Q.22 निम्नलिखित में से कौन-सी संख्या दी गई श्रृंखला में प्रश्न चिह्न (?) को प्रतिस्थापित करेगी?
5, 8, 12, 18, 28, ?

Ans ☒ 1. 52

☒ 2. 48

☒ 3. 50

☒ 4. 46

Question ID : 26433057554

Status : Answered

Chosen Option : 4

Q.23 दिए गए समीकरण को संतुलित करने के लिए संख्याओं के किन दो समूहों को आपस में बदला जाना चाहिए?

$$741 \div 19 + 13 \times 3 - 260 + 524 = 10 \times 8 + 25 \times 16$$

Ans ☒ 1. (741 और 260), तथा (10 और 16)

☒ 2. (13 और 19), तथा (8 और 25)

☒ 3. (260 और 524), तथा (10 और 25)

☒ 4. (3 और 19), तथा (741 और 524)

Question ID : 26433056529

Status : Answered

Chosen Option : 2

Q.24 छह विद्यार्थी एक वृत्ताकार मेज के परितः केंद्र की ओर मुख करके बैठे हैं। चमन, अमन के बायें दूसरे स्थान पर बैठा है। चमन, तेज के दायें दूसरे स्थान पर बैठा है। प्रदीप, कीर्ति के बायें दूसरे स्थान पर बैठा है। तेज, प्रदीप और रवि दोनों का निकटतम पड़ोसी है। तेज और अमन के बीच में कौन बैठा/बैठी है?

Ans ☒ 1. रवि

☒ 2. कीर्ति

☒ 3. चमन

☒ 4. प्रदीप

Question ID : 26433055682

Status : Answered

Chosen Option : 1

Q.25 U, S की माँ है। Q, S की साली/ननद/भाभी और R की पत्नी है। P, R का पिता है। यदि S T की पत्नी हो, तो P का T से कैसा संबंध है?

- Ans
- ☒ 1. बहनोई
 - ☒ 2. दामाद
 - ☒ 3. भाई
 - ☒ 4. ससुर

Question ID : 26433068808
Status : Answered
Chosen Option : 4

Section : Part-D- English Language

Q.1 Select the most appropriate idiom or phrase to complete the given sentence.

Some of the students often _____ before exams.

- Ans
- ☒ 1. burn their fingers
 - ☒ 2. talk chalk and cheese
 - ☒ 3. are dog tired
 - ☒ 4. burn the midnight oil

Question ID : 26433056019
Status : Answered
Chosen Option : 4

Q.2 Sentences of a paragraph are given below in jumbled order. Arrange the sentences in the correct order to form a meaningful and coherent paragraph.

- A.The plot of Wuthering Heights focuses on Heathcliff, who is a mysterious person.
B.Then, he returns as rich and educated, and sets about to get his revenge on the two families that he believed ruined his life.
C.Heathcliff was raised in the family who had adopted him, but then he was reduced to the status of a servant there.
D.Further, he ran away from the young woman whom he loved very much and decided to marry another.

- Ans
- ☒ 1. ABDC
 - ☒ 2. ACBD
 - ☒ 3. ACDB
 - ☒ 4. ABCD

Question ID : 26433058357
Status : Answered
Chosen Option : 3

Q.3 Select the option that can be used as a one-word substitute for the given group of words.

Extreme form of patriotism

- Ans
- ☒ 1. Nationalism
 - ☒ 2. Humanism
 - ☒ 3. Vandalism
 - ☒ 4. Jingoism

Question ID : 26433072319
Status : Answered
Chosen Option : 1

Q.4 Select the most appropriate synonym of the given word.
Populace

- Ans ☒ 1. Popularity
- ☒ 2. Crowd
- ☒ 3. Domination
- ☒ 4. People

Question ID : 26433059130
Status : Answered
Chosen Option : 1

Q.5 Select the most appropriate option to fill in the blank.
Ultimately he _____ his guilt, in the court.

- Ans ☒ 1. proved
- ☒ 2. lied
- ☒ 3. faced
- ☒ 4. confessed

Question ID : 26433059695
Status : Answered
Chosen Option : 4

Q.6 The following sentence has been split into four segments. Identify the segment that contains a grammatical error.

Joe's favourite / water sports are / sailing, swimming / and to surf.

- Ans ☒ 1. sailing, swimming
- ☒ 2. Joe's favourite
- ☒ 3. and to surf
- ☒ 4. water sports are

Question ID : 26433061496
Status : Answered
Chosen Option : 3

Q.7 Select the most appropriate ANTONYM of the highlighted word.
People's dreams perish under pressure.

- Ans ☒ 1. drive
- ☒ 2. thrive
- ☒ 3. disappear
- ☒ 4. provoke

Question ID : 26433058298
Status : Answered
Chosen Option : 3

Q.8 Parts of the given sentence have been given as options. One of them contains a spelling error. Select the option that rectifies the error.

The Bechdel test is a test that uses a set criterion to evaluate a work of fiction based on its inclusion and representantion of female characters.

- Ans
- ☐ 1. criterion
 - ☐ 2. character
 - ☐ 3. inclusion
 - ☒ 4. representation

Question ID : 26433059580
Status : Answered
Chosen Option : 1

Q.9 Select the INCORRECTLY spelt word.

- Ans
- ☐ 1. Enlist
 - ☐ 2. Neuron
 - ☐ 3. Neither
 - ☒ 4. Wether

Question ID : 26433066142
Status : Answered
Chosen Option : 4

Q.10 Select the most appropriate ANTONYM of the word countless from the given sentence :

In my childhood days, during my limited holidays in autumn, I used to see the immeasurable night sky that looked beautiful with countless stars from various positions.

- Ans
- ☐ 1. beautiful
 - ☒ 2. limited
 - ☐ 3. various
 - ☐ 4. immeasurable

Question ID : 26433058545
Status : Answered
Chosen Option : 2

Q.11 Select the most appropriate homonym to fill in the blank.
She is not keeping ____ these days.

- Ans
- ☐ 1. better
 - ☐ 2. good
 - ☐ 3. notes
 - ☒ 4. well

Question ID : 26433055489
Status : Answered
Chosen Option : 4

Q.12 Select the most appropriate synonym of the word given in brackets to fill in the blank.

A mother always tries to _____ (protect) her children.

- Ans ☒ 1. guard
☐ 2. shoulder
☐ 3. command
☐ 4. serve

Question ID : 26433058390
Status : Answered
Chosen Option : 4

Q.13 Select the most appropriate meaning of the underlined word.

The father advised his son, "Don't be a fool who squanders on idle lavishness and laziness".

- Ans ☐ 1. Never talks of his achievements
☒ 2. Wastes time and money extravagantly
☐ 3. Violates the sanctity of a religious place
☐ 4. Utilises any opportunity prudently

Question ID : 26433058630
Status : Answered
Chosen Option : 2

Q.14 Select the most appropriate meaning of the given idiom.

Bosom Friend

- Ans ☐ 1. Fake friend
☒ 2. Close friend
☐ 3. College friend
☐ 4. Enemy

Question ID : 26433072305
Status : Answered
Chosen Option : 2

Q.15 Sentences of a paragraph are given below in jumbled order. Arrange the sentences in the correct order to form a meaningful and coherent paragraph.

- A.Discipline is what continues to keep each individual in regulation.
B.Students must follow some form of discipline in their lives.
C.Additionally, each individual has his or her own perspective on discipline.
D.Discipline can drive a student forward towards a better life and success.

- Ans ☐ 1. CADB
☐ 2. BDCA
☒ 3. ACBD
☐ 4. DACB

Question ID : 26433070630
Status : Answered
Chosen Option : 4

Q.16 Select the most appropriate homophone of the italicised word.

I do not need unnecessary *advice*.

- Ans
- ☒ 1. Advance
 - ☒ 2. Adessive
 - ☒ 3. Adverse
 - ☒ 4. Advise

Question ID : 26433071900
Status : Answered
Chosen Option : 3

Q.17 Select the most appropriate option to fill in the blank.

I joined the local branch of the NAACP and began to take an active interest in implementing its program in the community itself. By attending most of the monthly meetings I was brought face-to-face with some of the racial problems that plagued the community, especially those involving the courts. Around the time that I started working with the NAACP, the Alabama Council on Human Relations also caught my attention. This interracial group was concerned with human relations in Alabama and employed educational methods to achieve its purpose. It _____ attain, through research and action, equal opportunity for all the people of Alabama.

- Ans
- ☒ 1. found to
 - ☒ 2. sought to
 - ☒ 3. abhorred to
 - ☒ 4. rested to

Question ID : 26433069766
Status : Not Answered
Chosen Option : --

Q.18 The following sentence has been divided into parts. One of them may contain an error. Select the part that contains the error from the given options. If you don't find any error, mark 'No error' as your answer.

The river leisurely flows / through various cities / before it meets the sea.

- Ans
- ☒ 1. The river leisurely flows
 - ☒ 2. before it meets the sea
 - ☒ 3. through various cities
 - ☒ 4. No error

Question ID : 26433061465
Status : Answered
Chosen Option : 2

Q.19 Select the most appropriate option to fill in the blank.
You may sit _____ you like.

- Ans
- ☒ 1. which
 - ☒ 2. wherever
 - ☒ 3. however
 - ☒ 4. whatever

Question ID : 26433059693
Status : Answered
Chosen Option : 2

Q.20 Sentences of a paragraph are given below in jumbled order. Arrange the sentences in the correct order to form a meaningful and coherent paragraph.

- A. Unlike most people, you do not have to make dietary changes or undergo any medication procedures.
- B. Poor diet, lack of physical activity, medication or underlying health conditions can lead to weight gain in an individual.
- C. But if your metabolism is fine, you can lose weight quickly by making minimum efforts.
- D. Weight gain is inevitable if you are not paying attention or not prioritising your health for any reason.

Ans  1. BDCA

 2. ADCB

 3. ACBD

 4. DBCA

Question ID : 26433058282

Status : Answered

Chosen Option : 3

Comprehension:

In the following passage, some words have been deleted. Read the passage carefully and select the most appropriate option to fill in each blank.


One of 1. _____ era's greatest scourges is air pollution, on account not only of its impact on climate change 2. _____ its impact on public and individual health due to increasing morbidity and mortality. There are 3. _____ pollutants that are major factors in disease in humans. Among them, Particulate Matter (PM), particles of variable but very small diameter, penetrate the respiratory system via inhalation, causing respiratory and cardiovascular diseases, reproductive and central nervous system dysfunctions, and cancer. 4. _____ the fact that ozone in the stratosphere plays a protective role against ultraviolet irradiation, it is harmful when in high concentration at ground level, also affecting the respiratory and cardiovascular system. Furthermore, nitrogen oxide, sulphur dioxide, Volatile Organic Compounds (VOCs), dioxins, and polycyclic aromatic hydrocarbons are all considered air pollutants that are 5. _____ to humans.

SubQuestion No : 21

Q.21 Select the most appropriate option to fill in blank no. 1.

Ans  1. my

 2. own

 3. every

 4. our

Question ID : 26433059016

Status : Answered

Chosen Option : 3


Comprehension:

In the following passage, some words have been deleted. Read the passage carefully and select the most appropriate option to fill in each blank.

One of 1. _____ era's greatest scourges is air pollution, on account not only of its impact on climate change 2. _____ its impact on public and individual health due to increasing morbidity and mortality. There are 3. _____ pollutants that are major factors in disease in humans. Among them, Particulate Matter (PM), particles of variable but very small diameter, penetrate the respiratory system via inhalation, causing respiratory and cardiovascular diseases, reproductive and central nervous system dysfunctions, and cancer. 4. _____ the fact that ozone in the stratosphere plays a protective role against ultraviolet irradiation, it is harmful when in high concentration at ground level, also affecting the respiratory and cardiovascular system. Furthermore, nitrogen oxide, sulphur dioxide, Volatile Organic Compounds (VOCs), dioxins, and polycyclic aromatic hydrocarbons are all considered air pollutants that are 5. _____ to humans.

SubQuestion No : 22

Q.22 Select the most appropriate option to fill in blank no. 2.

- Ans  1. either
-  2. but also
-  3. nor
-  4. or

Question ID : 26433059017

Status : Answered

Chosen Option : 2





Comprehension:

In the following passage, some words have been deleted. Read the passage carefully and select the most appropriate option to fill in each blank.

One of 1. _____ era's greatest scourges is air pollution, on account not only of its impact on climate change 2. _____ its impact on public and individual health due to increasing morbidity and mortality. There are 3. _____ pollutants that are major factors in disease in humans. Among them, Particulate Matter (PM), particles of variable but very small diameter, penetrate the respiratory system via inhalation, causing respiratory and cardiovascular diseases, reproductive and central nervous system dysfunctions, and cancer. 4. _____ the fact that ozone in the stratosphere plays a protective role against ultraviolet irradiation, it is harmful when in high concentration at ground level, also affecting the respiratory and cardiovascular system. Furthermore, nitrogen oxide, sulphur dioxide, Volatile Organic Compounds (VOCs), dioxins, and polycyclic aromatic hydrocarbons are all considered air pollutants that are 5. _____ to humans.

SubQuestion No : 23

Q.23 Select the most appropriate option to fill in blank no. 3.

- Ans  1. less
-  2. many
-  3. more
-  4. very

Question ID : 26433059018

Status : Answered

Chosen Option : 2



Comprehension:

In the following passage, some words have been deleted. Read the passage carefully and select the most appropriate option to fill in each blank.

One of 1. _____ era's greatest scourges is air pollution, on account not only of its impact on climate change 2. _____ its impact on public and individual health due to increasing morbidity and mortality. There are 3. _____ pollutants that are major factors in disease in humans. Among them, Particulate Matter (PM), particles of variable but very small diameter, penetrate the respiratory system via inhalation, causing respiratory and cardiovascular diseases, reproductive and central nervous system dysfunctions, and cancer. 4. _____ the fact that ozone in the stratosphere plays a protective role against ultraviolet irradiation, it is harmful when in high concentration at ground level, also affecting the respiratory and cardiovascular system. Furthermore, nitrogen oxide, sulphur dioxide, Volatile Organic Compounds (VOCs), dioxins, and polycyclic aromatic hydrocarbons are all considered air pollutants that are 5. _____ to humans.

SubQuestion No : 24

Q.24 Select the most appropriate option to fill in blank no. 4.

- Ans  1. Doubting
 2. Disregarding
 3. In spite
 4. Despite

Question ID : 26433059019

Status : Answered

Chosen Option : 4

Comprehension:

In the following passage, some words have been deleted. Read the passage carefully and select the most appropriate option to fill in each blank.

One of 1. _____ era's greatest scourges is air pollution, on account not only of its impact on climate change 2. _____ its impact on public and individual health due to increasing morbidity and mortality. There are 3. _____ pollutants that are major factors in disease in humans. Among them, Particulate Matter (PM), particles of variable but very small diameter, penetrate the respiratory system via inhalation, causing respiratory and cardiovascular diseases, reproductive and central nervous system dysfunctions, and cancer. 4. _____ the fact that ozone in the stratosphere plays a protective role against ultraviolet irradiation, it is harmful when in high concentration at ground level, also affecting the respiratory and cardiovascular system. Furthermore, nitrogen oxide, sulphur dioxide, Volatile Organic Compounds (VOCs), dioxins, and polycyclic aromatic hydrocarbons are all considered air pollutants that are 5. _____ to humans.

SubQuestion No : 25

Q.25 Select the most appropriate option to fill in blank no. 5.

- Ans  1. dangerous
 2. scary
 3. violent
 4. harmful

Question ID : 26433059020

Status : Answered

Chosen Option : 4

Q.1 जीमेल (Gmail) में ब्लाइंड कार्बन कॉपी (BCC) के उपयोग के संबंध में निम्नलिखित में से कौन सा कथन सही है?

- Ans ☒ 1. इसका उपयोग प्राथमिक प्राप्तकर्ता को इसके बारे में बताए बिना किसी के साथ ईमेल की कॉपी शेयर करने के लिए किया जाता है।
- ☒ 2. इसका उपयोग ईमेल की कॉपी को 100 प्राथमिक प्राप्तकर्ताओं के साथ शेयर करने के लिए किया जाता है।
- ☒ 3. इसका उपयोग 10 प्राथमिक प्राप्तकर्ताओं के साथ ईमेल की कॉपी शेयर करने के लिए किया जाता है।
- ☒ 4. इसका उपयोग सभी प्राथमिक प्राप्तकर्ताओं के साथ ईमेल की कॉपी शेयर करने के लिए किया जाता है।

Question ID : 26433095495
Status : Not Answered
Chosen Option : --

Q.2 एमएस-एक्सेल 2010 के रिबन बार में _____ टैब, वर्कशीट व्यू, फ्रीजिंग पैन, देखने और कई विंडो को व्यवस्थित करने के बीच स्विच करने के लिए कमांड प्रदान करता है।

- Ans ☒ 1. REVIEW
- ☒ 2. HOME
- ☒ 3. FORMULA
- ☒ 4. VIEW

Question ID : 26433095468
Status : Not Answered
Chosen Option : --

Q.3 निम्नलिखित कथनों पर विचार करें।
P: उस सेल पर डबल-क्लिक करें जिसमें वह डाटा है जिसे आप एडिट करना चाहते हैं।
Q: उस सेल पर क्लिक करें जिसमें वह डाटा है जिसे आप एडिट करना चाहते हैं, और फिर F2 दबाएं।
R: उस सेल पर क्लिक करें जिसमें वह डाटा है जिसे आप एडिट करना चाहते हैं, और फिर शिफ्ट की (Shift key) दबाएं।
S: उस सेल पर क्लिक करें जिसमें वह डाटा है जिसे आप एडिट करना चाहते हैं, और फिर कंट्रोल की (Ctrl key) दबाएं।
एमएस-एक्सेल 2010 वर्कशीट के एडिट मोड में कार्य आरंभ करने के संबंध में निम्नलिखित में से कौन सा कथन सही है?

- Ans ☒ 1. P, Q, R, S सभी
- ☒ 2. केवल P
- ☒ 3. केवल P, Q, R
- ☒ 4. केवल P, Q

Question ID : 26433095509
Status : Not Answered
Chosen Option : --

Q.4 एमएस-एक्सेल 2010 (MS-Excel 2010) में रिव्यू (review) टैब खोलने के लिए _____ शॉर्टकट की (key) का उपयोग किया जाता है।

- Ans ☒ 1. ALT + I
- ☒ 2. ALT + N
- ☒ 3. ALT + R
- ☒ 4. ALT + A

Question ID : 26433095422
Status : Answered
Chosen Option : 3

Q.5 हैथवे (Hathway) एक _____ है।

- Ans
- ☒ 1. ब्राउज़र (Browser)
 - ☒ 2. इंटरनेट सेवा प्रदाता (Internet service provider)
 - ☒ 3. सोशल नेटवर्क साइट (Social network site)
 - ☒ 4. सर्च इंजन (Search engine)

Question ID : 26433095476
Status : Not Answered
Chosen Option : --

Q.6 एमएस-एक्सेल 2010 (MS-Excel 2010) के रिबन बार में मौजूद _____ टैब, आपको वर्तनी की जांच करने, परिवर्तनों को ट्रैक करने, कमेंट और नोट्स लिखने, वर्कशीटों और वर्कबुक्सों को सुरक्षित करने की अनुमति देता है।

- Ans
- ☒ 1. फॉर्मूला (FORMULA)
 - ☒ 2. फाइल (FILE)
 - ☒ 3. डाटा (DATA)
 - ☒ 4. रिव्यू (REVIEW)

@Qmaths

Question ID : 26433095418
Status : Not Answered
Chosen Option : --

Q.7 एमएस-एक्सेल 2010 (MS-Excel 2010) में, _____ ऑपरेशन का उपयोग पहले से सेव की गई फ़ाइल को किसी भिन्न नाम से सेव करने के लिए किया जाता है।

- Ans
- ☒ 1. SAVE
 - ☒ 2. NEW
 - ☒ 3. SAVE AS
 - ☒ 4. OPEN

Question ID : 26433095421
Status : Answered
Chosen Option : 3

Q.8 एमएस-एक्सेल 2010 में _____ फंक्शन, किसी टेक्स्ट वैल्यू के प्रत्येक शब्द के पहले अक्षर को कैपिटल कर देता है।

- Ans
- ☒ 1. UPPER
 - ☒ 2. PROPER
 - ☒ 3. LOWER
 - ☒ 4. LEN

Question ID : 26433095470
Status : Answered
Chosen Option : 1

Q.9 एमएस-वर्ड 2010 के पैराग्राफ फॉर्मेटिंग में, Ctrl + Q का उपयोग निम्नलिखित में से किस उद्देश्य के लिए किया जाता है?

- Ans
- ☒ 1. स्टाइल टास्क पेन ओपन और अप्लाई करने के लिए
 - ☒ 2. पैराग्राफ इंडेंटेशन हटाने के लिए
 - ☒ 3. हाइलाइट किए गए पैराग्राफ की पैराग्राफ फॉर्मेटिंग हटाने के लिए
 - ☒ 4. पैराग्राफ स्पेसिंग को डबल लाइन में बदलने के लिए

Question ID : 26433095384
Status : Not Answered
Chosen Option : --

Q.10 फ़्लिपकार्ट भारत में अग्रणी ई-कॉमर्स बाजारों में से एक है। यह किस खंड से संबंधित है?

- Ans
- ☒ 1. व्यवसाय से सरकार
 - ☒ 2. व्यवसाय से उपभोक्ता
 - ☒ 3. सरकार से उपभोक्ता
 - ☒ 4. सरकार से व्यवसाय

Question ID : 26433095527

Status : Answered

Chosen Option : 2