

Delhi Police
Head Constable
Previous Year Paper
(Ministerial) 17 Oct 2022
Shift 3

Head Constable Ministerial in Delhi Police Examination 2022

Roll Number	
Candidate Name	
Venue Name	Arya College of Engineering and Information Technology
Exam Date	17/10/2022
Exam Time	5:00 PM - 6:30 PM
Subject	Head Constable Ministerial in Delhi Police Examination 2022

Section : Part-A-General Awareness

Q.1 सरकार ने 9 मार्च 2022 को केंद्रीय सार्वजनिक क्षेत्र के उद्यमों (CPSEs) और सरकार से जुड़ी अन्य एजेंसियों की अधिशेष भूमि और भवन संपत्ति का मुद्राकरण करने के लिए _____ की स्थापना को मंजूरी दी।

- Ans
- 1. भूमि और भवन मुद्राकरण निगम
 - 2. केंद्रीय मुद्राकरण उद्यम
 - 3. राष्ट्रीय भूमि मुद्राकरण निगम
 - 4. राष्ट्रीय मुद्राकरण कंपनी लिमिटेड

Question ID : 26433055027
Status : Answered
Chosen Option : 3

Q.2 16वीं शताब्दी में निर्मित रंगीन महल कर्नाटक के निम्नलिखित में से किस शहर में स्थित है?

- Ans
- 1. उडुपी
 - 2. बीदर
 - 3. हुबली
 - 4. कोलार

Question ID : 26433064355
Status : Not Answered
Chosen Option : --

Q.3 भारत में केंद्रीय ग्रामीण स्वच्छता कार्यक्रम किस वर्ष शुरू किया गया था?

- Ans
- 1. 1986 में
 - 2. 1988 में
 - 3. 1984 में
 - 4. 1987 में

Question ID : 26433071579
Status : Not Answered
Chosen Option : --

Q.4 दुनिया का सबसे बड़ा फूल कौन सा है जो सबसे बड़ा एकल फूल उत्पन्न करता है?

- Ans
- 1. कीन ऑफ़ एंडीज़
 - 2. रैफ्लेशिया अर्नोल्डी
 - 3. तालीपात ताड़
 - 4. कॉर्प्स फ्लावर

Question ID : 26433095243
Status : Not Answered
Chosen Option : --

Q.5 भारत की पहली एसी (AC) डबल डेकर इलेक्ट्रिक बस जिसका नाम 'स्विच ईआईवी 22' (Switch EiV 22) है, किस कंपनी द्वारा विकसित की गई है?

- Ans 1. अशोक लीलैंड
 2. महिंद्रा इलेक्ट्रिक
 3. ओलेक्ट्रा ग्रीनटेक
 4. टाटा मोटर्स

Question ID : 26433095285
Status : Not Answered
Chosen Option : --

Q.6 भारत के लिए निर्मित राष्ट्रमंडल विधेयक, 1925 में भारतीयों के लिए कितने मौलिक अधिकारों की मांग की गई थी?

- Ans 1. 11
 2. 5
 3. 7
 4. 6

Question ID : 26433055178
Status : Answered
Chosen Option : 1

Q.7 इनमें से कौन 2021 में दो ओलंपिक पदक जीतने वाली पहली भारतीय महिला एथलीट बनीं?

- Ans 1. साइखोम मीराबाई चानू
 2. एमसी मेरी कॉम
 3. साइना नेहवाल
 4. पीवी सिंधु

Question ID : 26433061806
Status : Answered
Chosen Option : 4

Q.8 भारतीय योजना आयोग के अंतिम उपाध्यक्ष कौन थे?

- Ans 1. जसवंत सिंह
 2. प्रणब मुखर्जी
 3. के.सी. पंत
 4. मोटेक सिंह अहलुवालिया

Question ID : 26433059262
Status : Answered
Chosen Option : 2

Q.9 पद्म भूषण पुरस्कार से सम्मानित, अलार्मेल वल्ली भारत की एक _____ नृत्यांगना है।

- Ans 1. कथक
 2. भरतनाट्यम
 3. कथकली
 4. मोहिनीअट्टम

Question ID : 26433064310
Status : Not Answered
Chosen Option : --

Q.10 स्वामी विवेकानंद का जन्म का नाम क्या था?

- Ans 1. नरेंद्रनाथ दत्त
 2. सुरेंद्रनाथ दत्त
 3. नागेंद्रनाथ दत्त
 4. देबेंद्रनाथ दत्त

Question ID : 26433066652
Status : Not Answered
Chosen Option : --

Q.11 एक राजकोषीय वर्ष किसी वर्ष की कितनी तिमाहियों को कवर करता है?

- Ans 1. तीन
 2. दो
 3. चार
 4. एक

Question ID : 26433059233
Status : Not Answered
Chosen Option : --

Q.12 महावीर जयंती जैन धर्म के _____ तीर्थंकर की जयंती का प्रतीक है।

- Ans 1. चैबीसवें
 2. पहले
 3. बाइसवें
 4. दूसरे

Question ID : 26433064324
Status : Answered
Chosen Option : 1

Q.13 बहुआयामी गरीब लोगों का अनुपात सबसे अधिक किस राज्य में है?

- Ans 1. झारखंड
 2. उत्तर प्रदेश
 3. छत्तीसगढ़
 4. बिहार

Question ID : 26433055343
Status : Answered
Chosen Option : 4

Q.14 भारत के सर्वोच्च न्यायालय ने, _____ को एक महत्वपूर्ण फैसले में, घोषणा की कि एक पुरुष हिंदू के मरणोपरांत, उसकी बेटियां पिता द्वारा विभाजन में प्राप्त स्व-अर्जित के साथ-साथ अन्य संपत्तियों को प्राप्त करने की हकदार होंगी।

- Ans 1. 20 दिसंबर 2021
 2. 20 मार्च 2022
 3. 20 फरवरी 2022
 4. 20 जनवरी 2022

Question ID : 26433055036
Status : Not Answered
Chosen Option : --

Q.15 विक्रमशिला विश्वविद्यालय का निर्माण निम्नलिखित में से किस राजवंश के शासन काल में हुआ था?

- Ans 1. चोल
 2. पाल
 3. चालुक्य
 4. पल्लव

Question ID : 26433055606
Status : Not Answered
Chosen Option : --

Q.16 कोपेन की योजना के अनुसार, भारत में कई प्रकार के जलवायु क्षेत्र हैं। किस प्रकार की जलवायु को अक्षर कोड 'As' से प्रदर्शित किया जाता है?

- Ans 1. शुष्क ग्रीष्म कालीन मानसून
 2. उष्णकटिबंधीय सवाना
 3. ध्रुवीय प्रकार
 4. उष्ण मरुस्थलीय

Question ID : 26433064098
Status : Not Answered
Chosen Option : --

Q.17 भारत में साक्षरता दर किस आयु वर्ग के आधार पर गणना करके निर्धारित की जाती है?

- Ans 1. 6 वर्ष से अधिक
 2. 15 वर्ष से अधिक
 3. 7 वर्ष से अधिक
 4. 10 वर्ष से अधिक

Question ID : 26433055340
Status : Answered
Chosen Option : 2

Q.18 मार्च 2022 में किस राज्य सरकार ने 2022 और 2024 के बीच लागू की जाने वाली विभिन्न योजनाओं के कार्यान्वयन में विविध शैक्षणिक पृष्ठभूमि के युवा पेशेवरों की प्रतिभा का उपयोग करने के उद्देश्य से एक फ़ेलोशिप कार्यक्रम की घोषणा की थी?

- Ans 1. तेलंगाना
 2. उड़ीसा
 3. महाराष्ट्र
 4. तमिलनाडु

Question ID : 26433072871
Status : Not Answered
Chosen Option : --

Q.19 कांग्रेस सोशलिस्ट पार्टी की स्थापना किस वर्ष हुई थी?

- Ans 1. 1933
 2. 1935
 3. 1932
 4. 1934

Question ID : 26433064735
Status : Not Answered
Chosen Option : --

Q.20 निम्नलिखित में से किसे भारत में केंद्र सरकार के बजट में राजस्व प्राप्ति के रूप में वर्गीकृत नहीं किया जाएगा?

- Ans
- 1. कर प्राप्तियां
 - 2. सार्वजनिक क्षेत्र के उपक्रमों में शेयरों की बिक्री से प्राप्तियां
 - 3. केंद्र सरकार द्वारा किए गए निवेश पर लाभांश और लाभ
 - 4. केंद्र सरकार द्वारा ऋण पर ब्याज प्राप्तियां

Question ID : 26433064483
Status : Answered
Chosen Option : 4

Section : Part-B-Quantitative Aptitude

Q.1 अमेलिया अपनी मासिक आय का 68% बचाती है। यदि उसका मासिक व्यय Rs.25,720 है, तो उसकी मासिक बचत है:

- Ans
- 1. Rs.80,375
 - 2. Rs.54,655
 - 3. Rs.64,655
 - 4. Rs.35,720

Question ID : 26433063686
Status : Answered
Chosen Option : 1

Q.2 राम एक काम को 30 दिनों में करता है, जबकि राजू उसे 20 दिनों में करता है। यदि वे राम के साथ काम शुरू करते हुए एकांतर रूप से काम करते हैं, तो काम कितने दिनों में समाप्त हो जाएगा?

- Ans
- 1. 24
 - 2. 25
 - 3. 12
 - 4. 20

Question ID : 26433063494
Status : Answered
Chosen Option : 1

Q.3 $0.7\bar{7}$ का मान ज्ञात करें।

- Ans
- 1. $\frac{8}{9}$
 - 2. $\frac{5}{9}$
 - 3. $\frac{9}{7}$
 - 4. $\frac{7}{9}$

Question ID : 26433063369
Status : Answered
Chosen Option : 2

Q.4 8 cm भुजा वाले एक समबाहु त्रिभुज में इसकी भुजा को स्पर्श करते हुए एक वृत्त उत्कीर्णित है। त्रिभुज के उस भाग का क्षेत्रफल ज्ञात कीजिए जो वृत्त में शामिल नहीं है। ($\sqrt{3} = 1.732$ और $\pi = 3.14$) (दशमलव के दो स्थानों तक सही)

- Ans
- 1. 12.97 cm²
 - 2. 11.34 cm²
 - 3. 10.44 cm²
 - 4. 10.97 cm²

Question ID : 26433061755

Status : Not Answered

Chosen Option : --

Q.5 5 साल में ₹1,61,051 इकट्ठा करने के लिए आज आपको वार्षिक रूप से चक्रवृद्धि होने वाले 10% वार्षिक चक्रवृद्धि ब्याज पर कितना निवेश करना चाहिए?

- Ans
- 1. ₹111100
 - 2. ₹100000
 - 3. ₹110000
 - 4. ₹111000

Question ID : 26433061411

Status : Answered

Chosen Option : 2

Q.6 यदि $(x - \frac{1}{x}) = 2\sqrt{3}$ है, x एक धनात्मक संख्या है, तो $(x^3 + \frac{1}{x^3})$ का मान क्या होगा?

- Ans
- 1. 52
 - 2. 49
 - 3. 81
 - 4. 64

Question ID : 26433061948

Status : Not Answered

Chosen Option : --

Q.7 Rs.25,000 के बिल पर लागू 30% की एकल छूट और 25% एवं 5% वाली दो क्रमिक छूटों के बीच का अंतर _____ है।

- Ans
- 1. Rs.350.5
 - 2. Rs.312.5
 - 3. Rs.325.75
 - 4. Rs.375

Question ID : 26433063934

Status : Not Answered

Chosen Option : --

Q.8 यदि $x + y + z = 10$ और $x^2 + y^2 + z^2 = 30$ है, तो $x^3 + y^3 + z^3 - 3xyz$ का मान क्या है?

- Ans
- 1. -60
 - 2. -40
 - 3. -50
 - 4. 50

Question ID : 26433061380

Status : Not Answered

Chosen Option : --

Q.9 यदि $\sin^2 x + \sin^4 x = 1$ है, तो $\cot^2 x + \cot^4 x =$ _____ होगा।

- Ans 1. 1
 2. 0
 3. 2
 4. -1

Question ID : 26433061392
Status : Not Answered
Chosen Option : --

Q.10 यदि एक घन की सभी कोरों का योग 48 cm है, तो उस घन का आयतन (cm^3 में) ज्ञात कीजिए।

- Ans 1. 125
 2. 27
 3. 216
 4. 64

Question ID : 26433058916
Status : Answered
Chosen Option : 4

Q.11 $\frac{2^3}{3^2} \div \frac{3}{2} + (2^3 - 3^2) =$ _____.

- Ans 1. $\frac{2^2}{3^3}$
 2. $\frac{27}{11}$
 3. $-\frac{11}{27}$
 4. $\frac{11}{27}$

Question ID : 26433058119
Status : Answered
Chosen Option : 3

Q.12 अनुराग के पास कोलकाता पहुँचने के लिए 10 घंटे हैं, जो 500 km की दूरी पर है। उसकी प्रारंभिक चाल पहले 3 घंटों में 60 km/h थी। अगले 200 km में उसकी चाल 50 km/h थी। निर्धारित 10 घंटों में कोलकाता पहुँचने के लिए उसे अब किस चाल से यात्रा करनी चाहिए?

- Ans 1. 44 km/h
 2. 35 km/h
 3. 42.5 km/h
 4. 40 km/h

Question ID : 26433057137
Status : Answered
Chosen Option : 4

Q.13 नीचे दिए गए कथनों में से कौन-सा सही है?

- Ans 1. अभाज्य संख्याओं का लघुत्तम समापवर्त्य (LCM) अभाज्य संख्याओं का योग होता है।
 2. दी गई संख्याओं का लघुत्तम समापवर्त्य (LCM) दी गई संख्याओं से बड़ा नहीं हो सकता।
 3. लघुत्तम समापवर्त्य (LCM) का अर्थ सबसे बड़ा सामान्य गुणक होता है।
 4. दी गई संख्याओं में से सबसे छोटी सामान्य गुणक, लघुत्तम समापवर्त्य (LCM) कहलाती है।

Question ID : 26433063277

Status : Answered

Chosen Option : 1

Q.14 निम्न तालिका 5 वर्षों की अवधि के दौरान बैंकों द्वारा संवितरित ऋणों (करोड़ ₹ में) को दर्शाती है।

बैंक	1982	1983	1984	1985	1986
A	18	23	45	30	70
B	27	33	18	41	37
C	29	29	22	17	11
D	31	16	28	32	43
E	13	19	27	34	42
कुल	118	120	140	154	203

1982 से 1986 तक के वर्षों में बैंक C ने किस वर्ष ऋण की न्यूनतम राशि का संवितरण किया?

- Ans 1. 1983
 2. 1986
 3. 1984
 4. 1982

Question ID : 26433066383

Status : Answered

Chosen Option : 2

Q.15 यदि 3, 7, x और 21 समानुपात में हों तो x का मान क्या है?

- Ans 1. 9
 2. 12
 3. 11
 4. 10

Question ID : 26433058793

Status : Answered

Chosen Option : 1

Q.16 एक व्यापारी ₹b में 'a' संख्या में माल खरीदता है और ₹a में 'b' संख्या में माल बेचता है। यदि $b < a$ है, तो पूरे परिव्यय में, उसे _____।

- Ans
- 1. $100 \frac{(b^2 - a^2)}{b^2} \%$ की हानि होती है
 - 2. $100 \frac{(a^2 - b^2)}{b^2} \%$ का लाभ होता है
 - 3. $100 \frac{(b^2 - a^2)}{b^2} \%$ का लाभ होता है
 - 4. $100 \frac{(a^2 - b^2)}{b^2} \%$ की हानि होती है

Question ID : 26433058907
Status : Answered
Chosen Option : 2

Q.17 10 छात्रों के औसत भार में आधे kg की तब वृद्धि होती है, जब छात्रों में से 45 kg भार वाले छात्र को एक नए छात्र द्वारा प्रतिस्थापित किया जाता है। उस नए छात्र का भार ज्ञात कीजिए।

- Ans
- 1. 45 kg
 - 2. 50 kg
 - 3. 55 kg
 - 4. 40 kg

Question ID : 26433063846
Status : Not Answered
Chosen Option : --

Q.18 एक शंकु के छिन्नक का आयतन (cm^3 में, निकटतम पूर्णांक तक पूर्णांकित) क्या होगा, जिसके दो सिरों का व्यास 70 cm और 42 cm है और गहराई 50 cm है? ($\pi = \frac{22}{7}$ लीजिए)

- Ans
- 1. 1,25,767
 - 2. 1,56,810
 - 3. 1,64,265
 - 4. 1,27,560

Question ID : 26433063266
Status : Not Answered
Chosen Option : --

Q.19 एक निश्चित धनराशि द्वारा 5 वर्ष और 8 के लिए समान ब्याज दर पर अर्जित साधारण ब्याज का अनुपात ज्ञात कीजिए।

- Ans
- 1. 3 : 4
 - 2. 6 : 7
 - 3. 4 : 5
 - 4. 5 : 8

Question ID : 26433073025
Status : Answered
Chosen Option : 4

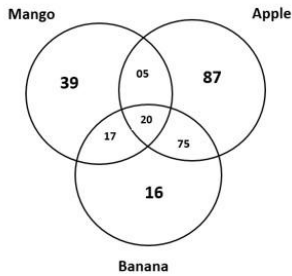
Q.20 A और B एक कार्य का अनुबंध (कान्ट्रैक्ट) Rs.10,800 में करते हैं। A और B क्रमशः 45 दिनों और 60 दिनों में कार्य को पूरा कर सकते हैं। हालांकि, काम को जल्दी खत्म करने के लिए, वे C की मदद लेते हैं और पूरे कार्य को 20 दिनों में पूरा करते हैं। $(a - b + 2c)$ का मान (Rs.में) ज्ञात कीजिए, जहाँ a, b और c क्रमशः A, B और C के हिस्से हैं, जो कार्य को पूरा करने में उनके योगदान के लिए प्राप्त धन है।

- Ans 1. 3000
 2. 6000
 3. 4000
 4. 8000

Question ID : 26433063247
 Status : Answered
 Chosen Option : 2

Section : Part-C-General Intelligence

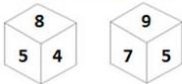
Q.1 दिए गए आरेख का ध्यानपूर्वक अध्ययन करें और प्रश्नों के उत्तर दें।
 विभिन्न वर्गों में दी गई संख्याएँ उन व्यक्तियों की संख्या को दर्शाती हैं, जो विभिन्न फलों को पसंद करते हैं।
 ऐसे कितने व्यक्ति हैं, जो केला (Banana) पसंद हैं, लेकिन सेब (Apple) नहीं?



- Ans 1. 87
 2. 37
 3. 33
 4. 95

Question ID : 26433069377
 Status : Answered
 Chosen Option : 3

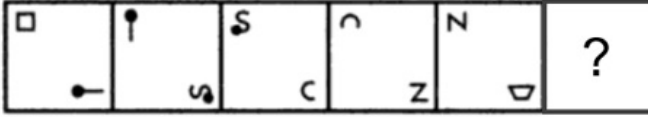
Q.2 एक पासे के विभिन्न फलकों पर छः संख्याएँ 4, 5, 6, 7, 8 और 9 लिखी हुई हैं। इस पासे की दो स्थितियों को चित्र में दिखाया गया है।
 7 वाले फलक के विपरीत वाले फलक पर कौन सी संख्या आएगी?



- Ans 1. 5
 2. 6
 3. 8
 4. 4

Question ID : 26433057941
 Status : Answered
 Chosen Option : 3

Q.3 दिए गए विकल्पों में से उस आकृति का चयन करें जो निम्नलिखित श्रृंखला में प्रश्नवाचक चिह्न (?) का स्थान ले सकती है।

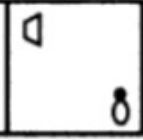


Ans

✗ 1.



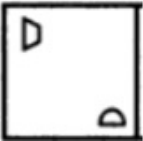
✓ 2.



✗ 3.



✗ 4.



Question ID : 26433080529

Status : Answered

Chosen Option : 2

Q.4 दिया गया समीकरण संतुलित करने के लिए प्रस्तुत विकल्पों में से किन दो संख्याओं को परस्पर बदला जाना चाहिए?

$$56 \div 8 + 7 - 4 \times 3 = 4$$

Ans ✗ 1. 3 और 7

✓ 2. 8 और 7

✗ 3. 56 और 3

✗ 4. 4 और 8

Question ID : 26433055973

Status : Answered

Chosen Option : 2

Q.5 यदि दर्पण को नीचे दर्शाए गए अनुसार MN पर रखा जाए, तो दी गई आकृति के सही दर्पण प्रतिबिम्ब का चयन कीजिए।

d k 6 3 2 a q

M

N

- Ans
- ✓ 1. p k 9 3 2 a d
- ✗ 2. b k 9 3 2 a d
- ✗ 3. p k 9 3 2 a d
- ✗ 4. p k 9 3 2 a d

Question ID : 26433056990
Status : Answered
Chosen Option : 1

Q.6 उस विकल्प का चयन करें जो चौथी संख्या से ठीक उसी प्रकार संबंधित है जिस प्रकार पहली संख्या दूसरी संख्या से और पांचवीं संख्या छठी संख्या से संबंधित है।
512 : 24 :: ? : 48 :: 2197 : 39

- Ans
- ✗ 1. 2378
- ✗ 2. 4438
- ✓ 3. 4096
- ✗ 4. 9261

Question ID : 26433056484
Status : Answered
Chosen Option : 3

Q.7 एक निश्चित कूट भाषा में, 'COACH' को 'LXZSX' और 'AWARD' को 'DZZWI' के रूप में लिखा जाता है। इसी कूट भाषा में 'AGENT' को किस प्रकार लिखा जाएगा?

- Ans
- ✓ 1. TZVGM
- ✗ 2. TZVMG
- ✗ 3. ZTVMG
- ✗ 4. TAVGM

Question ID : 26433057268
Status : Answered
Chosen Option : 1

Q.8 अंग्रेजी वर्णमाला क्रम में स्थिति के आधार पर, निम्नलिखित में से तीन अक्षर-समूह किसी न किसी रूप में संगत हैं और एक असंगत है। असंगत अक्षर-समूह का चयन करें।

- Ans
- ✗ 1. JMQN
- ✗ 2. TWGD
- ✗ 3. MPNK
- ✓ 4. PSKI

Question ID : 26433095719
Status : Answered
Chosen Option : 4

Q.9 उस विकल्प का चयन कीजिए जो पांचवें अक्षर समूह से उसी तरह संबंधित है जिस तरह दूसरा अक्षर समूह पहले अक्षर समूह से संबंधित है और चौथा अक्षर समूह तीसरे अक्षर समूह से संबंधित है।
BFSSQ : WVNEL :: NZJRT : IPEHO :: YBFSR : ?

- Ans 1. RKLDA
 2. TRIME
 3. TRAIM
 4. RMAID

Question ID : 26433074703
Status : Answered
Chosen Option : 3

Q.10 निम्नलिखित श्रृंखला में प्रश्नवाचक चिन्ह (?) के स्थान पर कौन-सी संख्या आएगी?
12, 30, 66, 138, ?, 570

- Ans 1. 256
 2. 408
 3. 282
 4. 314

Question ID : 26433055287
Status : Answered
Chosen Option : 3

Q.11 इस प्रश्न में तीन कथन दिए गए हैं, जिनके बाद दो निष्कर्ष I और II दिए गए हैं। कथनों को सत्य मानते हुए, भले ही वे सामान्यतः ज्ञात तथ्यों से भिन्न प्रतीत होते हों, निर्णय लें कि कौन-सा/से निष्कर्ष, कथनों का तार्किक रूप से अनुसरण करता है/करते हैं।

कथन:

सभी दरवाजे, खिड़कियाँ हैं।

कुछ खिड़कियाँ, पर्दे हैं।

सभी पर्दे, कुर्सियाँ हैं।

निष्कर्ष:

I. सभी दरवाजे, पर्दे हैं।

II. कुछ कुर्सियाँ, खिड़कियाँ हैं।

- Ans 1. न तो निष्कर्ष I अनुसरण करता है और न ही II अनुसरण करता है।
 2. केवल निष्कर्ष II अनुसरण करता है।
 3. निष्कर्ष I और II दोनों अनुसरण करते हैं।
 4. केवल निष्कर्ष I अनुसरण करता है।

Question ID : 26433057920
Status : Answered
Chosen Option : 2

Q.12 छः मित्र - A, B, C, D, E और F - किसी वृत्ताकार मेज के परितः केंद्राभिमुख हो बैठे हैं। B, C और D के ठीक पास में है। E, B के दाएँ से दूसरा है। यदि F, A के ठीक पास में और C के दाएँ से तीसरा हो, तो A कहाँ बैठा है?

- Ans 1. B के दाएँ से दूसरा
 2. C के दाएँ से दूसरा
 3. D के ठीक बाएँ
 4. E के ठीक बाएँ

Question ID : 26433068815
Status : Answered
Chosen Option : 2

Q.13 अक्षरों के उस संयोजन का चयन कीजिए, जिसे दी गई श्रृंखला के रिक्त स्थानों में क्रमानुसार रखने पर, श्रृंखला पूर्ण हो जाएगी।
ANFYH_NFYHC_FYH_NF_H

- Ans
- 1. AYDY
 - 2. ADYY
 - 3. BNDY
 - 4. FDYB

Question ID : 26433057809
Status : Answered
Chosen Option : 3

Q.14 एक पासे के विभिन्न फलकों पर छः अक्षर U, V, W, X, Y और Z लिखे गए हैं। इस पासे की दो स्थितियों को आकृति में दिखाया गया है। V के विपरीत फलक वाला अक्षर ज्ञात कीजिए।



- Ans
- 1. U
 - 2. Z
 - 3. W
 - 4. Y

Question ID : 26433057866
Status : Answered
Chosen Option : 2

Q.15 एक आदमी की ओर इशारा करते हुए, राहुल कहता है कि, "वह मेरी माँ के भाई के पिता का इकलौता दामाद है।" इस आदमी का राहुल से क्या सम्बन्ध है?

- Ans
- 1. चाचा
 - 2. भाई
 - 3. पिता
 - 4. दादा

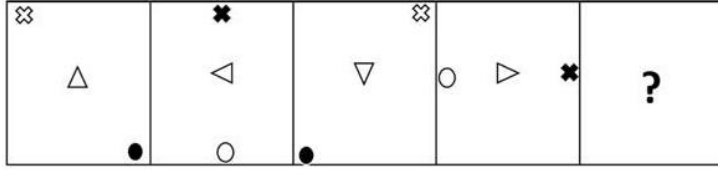
Question ID : 26433057697
Status : Answered
Chosen Option : 3

Q.16 दिए गए समीकरण को संतुलित करने के लिए * चिह्नों को क्रमिक रूप से बदलने के लिए गणितीय चिह्नों के सही संयोजन का चयन करें।
 $676 * 13 * 169 * 15 * 497 * 3 = 137 * 8$

- Ans
- 1. ÷, +, ×, -, ×, ×
 - 2. -, +, ÷, ×, +, -
 - 3. +, ×, ÷, -, +, ×
 - 4. ×, +, ÷, -, ×, +

Question ID : 26433056532
Status : Answered
Chosen Option : 1

Q.17 उस आकृति का चयन कीजिए, जो निम्नलिखित आकृति श्रृंखला में प्रश्न-चिह्न (?) को प्रतिस्थापित करेगी।



Ans

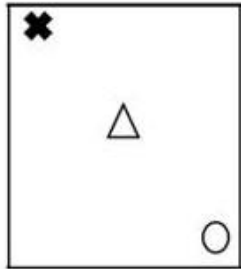
✗ 1.



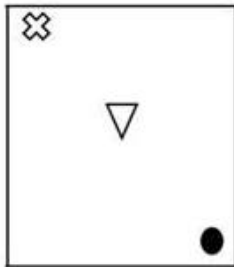
✓ 2.



✗ 3.



✗ 4.



Question ID : 26433056104

Status : Answered

Chosen Option : 2

Q.18 A, B के पिता है। C और D, B के भाई हैं। E, D की पत्नी है और F, E की पुत्री है। E, A से किस प्रकार संबंधित है?

Ans ✗ 1. पत्नी

✓ 2. पुत्रवधू

✗ 3. पुत्री

✗ 4. बहन

Question ID : 26433074716

Status : Answered

Chosen Option : 2

Q.19 उस विकल्प का चयन करें, जो तीसरे शब्द से उसी प्रकार संबंधित है, जिस प्रकार दूसरा शब्द पहले शब्द से संबंधित है।
(शब्दों को अर्थपूर्ण हिंदी शब्दों के रूप में माना जाना चाहिए और शब्द में अक्षरों की संख्या/व्यंजनों/स्वरों की संख्या के आधार पर एक-दूसरे से संबंधित नहीं होना चाहिए)
असम : दिसपुर :: झारखंड : ?

- Ans
- 1. गया
 - 2. बोकारो
 - 3. धनबाद
 - 4. रांची

Question ID : 26433078890
Status : Answered
Chosen Option : 4

Q.20 एक निश्चित कूट भाषा में, 'LADDER' को '122441018' लिखा जाता है और 'MARBLE' को '1321821210' लिखा जाता है। उसी भाषा में, 'HOUSE' को किस प्रकार लिखा जाएगा?

- Ans
- 1. 81521195
 - 2. 161521385
 - 3. 1630213810
 - 4. 830421910

Question ID : 26433068011
Status : Answered
Chosen Option : 4

Q.21 P, Q, R, S, T, U और V किसी वर्गाकार मेज के चारों ओर मेज के केंद्राभिमुख होकर बैठे हैं। उनमें से कुछ कोने में, जबकि कुछ भुजा के ठीक केंद्र पर बैठे हैं। एक सीट खाली है।
P उस मेज की एक भुजा के बीच में बैठा है। V, P के बाएँ से तीसरा है। U और T, V के ठीक पास में हैं।
Q, P के दाएँ से दूसरा है। V के बाएँ और दाएँ दूसरी सीटों पर कब्जा है। यदि S, T के बाएँ से तीसरा हो, तो खाली सीट की स्थिति बताइए।

- Ans
- 1. R के ठीक बाएँ
 - 2. U के बाएँ से दूसरा
 - 3. R के दाएँ से दूसरा
 - 4. V के बाएँ से तीसरा

Question ID : 26433068819
Status : Not Answered
Chosen Option : --

Q.22 दिए गए विकल्पों में से उस संख्या का चयन करें जो निम्नलिखित श्रृंखला में प्रश्नवाचक चिन्ह (?) का स्थान ले सकती है।
93, 88, 78, 63, 43, ?

- Ans
- 1. 18
 - 2. 28
 - 3. 33
 - 4. 13

Question ID : 26433057780
Status : Answered
Chosen Option : 2

Q.23 उस समुच्चय का चयन कीजिए जिसमें संख्याएँ उसी प्रकार संबंधित हैं जिस प्रकार निम्नलिखित समुच्चयों की संख्याएँ आपस में संबंधित हैं।
(नोट: संख्याओं को उसके घटक अंकों में विभाजित किए बिना, पूर्ण संख्याओं पर गणितीय संक्रियाएं की जानी चाहिए। उदाहरण के लिए 13 - अगर आपको 13 पर गणितीय संक्रियाएं जैसे कि जोड़ने/घटाने/गुणा करने आदि करना है तो वह 13 पर ही की जा सकती हैं। 13 को 1 और 3 में तोड़ना और फिर 1 और 3 पर गणितीय संक्रियाएं करने की अनुमति नहीं है।)
(7, 24, 319)
(5, 33, 92)

- Ans 1. (11, 97, 734)
 2. (8, 77, 339)
 3. (6, 45, 170)
 4. (9, 58, 671)

Question ID : 26433057522
Status : Answered
Chosen Option : 4

Q.24 विकल्पों में से कौन सा अक्षर-समूह प्रश्नवाचक चिह्न (?) को प्रतिस्थापित करके दी गई श्रेणी को पूरा करेगा?
FGHI, GEKE, ?, IAQW, JYTS

- Ans 1. HANB
 2. HCBA
 3. HCNA
 4. HNCA

Question ID : 26433065587
Status : Answered
Chosen Option : 3

Q.25 उस विकल्प का चयन करें, जो दिए गए शब्दों के उस सही क्रम का प्रतिनिधित्व करता है, जिस क्रम में वे अंग्रेजी शब्दकोश में दिखाई देते हैं।
1. Network
2. Nervous
3. Neutral
4. Neighbour
5. Nestle
6. Negotiate

- Ans 1. 6, 4, 5, 2, 1, 3
 2. 6, 2, 5, 4, 1, 3
 3. 6, 4, 2, 5, 1, 3
 4. 4, 2, 6, 5, 1, 3

Question ID : 26433056730
Status : Answered
Chosen Option : 3

Q.1 Select the most appropriate option to fill in the blank.

Anticipation of threats to the sustainability of human civilisation needs to encompass time periods that span not just decades but millennia. All existential risks need to be jointly assessed, as opposed to addressing risks such as climate change and pandemics separately. Exploring the potential events that are likely to cause the biggest risks as well as asking why we should even desire to thrive into the distant future, this work looks at the 'biggest picture possible' in order to argue that futures-oriented decision-making _____ be a permanent aspect of human society and futures-oriented policy making must take precedent over the day-to-day policy making of current generations in times of great peril.

- Ans 1. ought out
 2. ought to
 3. might to
 4. may to

Question ID : 26433069772
Status : Answered
Chosen Option : 2

Q.2 The following sentence has been divided into parts. One of them may contain an error. Select the part that contains the error from the given options. If you don't find any error, mark 'No error' as your answer.

As we lay on the couch, / she lied to me / about her trip.

- Ans 1. she lied to me
 2. No error
 3. about her trip
 4. As we lay on the couch

Question ID : 26433061498
Status : Answered
Chosen Option : 2

Q.3 Select the most appropriate meaning of the underlined word given in a sentence.

The Charlie family are forced to subsist on bread and margarine for breakfast and cabbage soup for supper.

- Ans 1. argue
 2. prepare
 3. scrutinise
 4. survive

Question ID : 26433055994
Status : Answered
Chosen Option : 4

Q.4 Select the most appropriate homonym to fill in the blank.

Sometimes, when a speaker changes his pitch of voice, it conveys a different _____ to the listeners.

- Ans 1. cents
 2. cense
 3. sense
 4. scents

Question ID : 26433058386
Status : Answered
Chosen Option : 3

Q.5 Select the most appropriate option to fill in the blanks.

Shigeru Miyamoto is a famous game designer from Japan. His biggest _____ include Donkey Kong, Super Mario Bros, The legend of Zelda and Mario Kart, among others. He is called the Steven Spielberg of video games. His characters are a _____ of pleasant and charming personalities.

- Ans
- 1. creations; combination
 - 2. designs; competition
 - 3. fabrics; collaboration
 - 4. models; cooperation

Question ID : 26433070748
Status : Answered
Chosen Option : 2

Q.6 Select the option that can be used as a one-word substitute for the given group of words.

One who walks in sleep

- Ans
- 1. Somnambulist
 - 2. Noctambulist
 - 3. Ventriloquist
 - 4. Somniloquist

Question ID : 26433060830
Status : Not Answered
Chosen Option : --

Q.7 Select the most appropriate option to fill in the blank.

The newspaper as a public _____ plays a vital role in maintaining democracy.

- Ans
- 1. movement
 - 2. agenda
 - 3. policy
 - 4. forum

Question ID : 26433072415
Status : Answered
Chosen Option : 4

Q.8 Select the most appropriate option to substitute the underlined segment in the given sentence.

Robin also gives reference of Sadhya Tara, a poem written by an unknown author.

- Ans
- 1. anonymous
 - 2. unspecified
 - 3. nameless
 - 4. faceless

Question ID : 26433060848
Status : Answered
Chosen Option : 1

Q.9 Select the most appropriate ANTONYM of the underlined word in a sentence.

He had been Director of the project since its inception.

- Ans
- 1. Estimation
 - 2. Conclusion
 - 3. Finalisation
 - 4. Calculation

Question ID : 26433056006
Status : Not Answered
Chosen Option : --

Q.10 Select the most appropriate ANTONYM of the underlined word.

I don't consider him as my foe.

- Ans
- 1. Boss
 - 2. Antagonist
 - 3. Neighbour
 - 4. Companion

Question ID : 26433063637
Status : Answered
Chosen Option : 2

Q.11 Select the option that can be used as a one-word substitute for the underlined group of words.

The wild honey collectors lived as a community that is smaller than a village.

- Ans
- 1. Hamlet
 - 2. Organisation
 - 3. Group
 - 4. Gang

Question ID : 26433060396
Status : Answered
Chosen Option : 3

Q.12 Select the most appropriate option to fill in the blanks.

The _____ met every Sunday morning in the church and _____ on their ideas on religion.

- Ans
- 1. consternation; dominated
 - 2. congregation; deliberated
 - 3. convoy; debated
 - 4. formation; discovered

Question ID : 26433065184
Status : Not Answered
Chosen Option : --

Q.13 Select the most appropriate synonym of the given word.
Adore

- Ans 1. Admit
 2. Criticise
 3. Admire
 4. Deprecate

Question ID : 26433063582
Status : Not Answered
Chosen Option : --

Q.14 Select the most appropriate synonym of the given word.

Zenith

- Ans 1. Summit
 2. Surface
 3. Depth
 4. Height

Question ID : 26433055855
Status : Not Answered
Chosen Option : --

Q.15 Select the most appropriate meaning of the given idiom.

Neck and crop

- Ans 1. Totally and completely
 2. Forward and backward
 3. In and out
 4. To and for

Question ID : 26433072431
Status : Answered
Chosen Option : 2

Q.16 Parts of the given sentence have been given as options. One of them contains a spelling error. Select the option that rectifies the error.

A chamelelon changes its colour to regulate its body temperature according to the environment.

- Ans 1. temperature
 2. regulate
 3. chameleon
 4. environment

Question ID : 26433059581
Status : Not Answered
Chosen Option : --

Q.17 Identify the error in tense and choose the correct sentence from the following options.
Sunlight is providing you energy.

- Ans** 1. Sunlight provides you energy.
 2. Sunlight was providing you energy.
 3. Sunlight were providing you energy.
 4. Sunlight has been providing you energy.

Question ID : 26433059188
Status : Answered
Chosen Option : 1

Q.18 Select the most appropriate meaning of the highlighted idiom.
The condition of the Russian economy is in dire straits.

- Ans** 1. Hard to comprehend
 2. Unduly harsh
 3. Very optimistic
 4. In a very bad or difficult situation

Question ID : 26433058300
Status : Answered
Chosen Option : 4

Q.19 Select the INCORRECTLY spelt word.

- Ans** 1. Lose
 2. Lucid
 3. Loude
 4. Loot

Question ID : 26433071853
Status : Answered
Chosen Option : 3

Q.20 Select the option that can be used as a one-word substitute for the given group of words.

The quality of being new and original

- Ans** 1. Novelty
 2. Neophyte
 3. Nuance
 4. Novice

Question ID : 26433070713
Status : Not Answered
Chosen Option : --

Comprehension:

In the following passage, some words have been deleted. Read the passage carefully and select the most appropriate option to fill in each blank.

Dolphins are regarded as the 1. _____ creatures in the sea and stories of them helping 2. _____ sailors have been common since Roman times. The more we learn about dolphins, the more we realise that their society is more complex than people previously imagined. They look after other dolphins when they are ill, care for pregnant mothers and protect the 3. _____ in the community, as we do. Some scientists have 4. _____ that dolphins have a language but it is much more probable that they communicate with each other without needing words. Could any of these mammals be more intelligent than man? Certainly, the most common argument in favour of man's superiority over them that we can kill them more easily than they can kill us is the least satisfactory. On the 5. _____, the more we discover about these remarkable creatures, the less we appear superior when we destroy them.

SubQuestion No : 21

Q.21 Select the most appropriate option to fill in blank no. 1.

- Ans 1. most dangerous
 2. trickiest
 3. friendliest
 4. most ferocious

Question ID : 26433059022

Status : Answered

Chosen Option : 4

Comprehension:

In the following passage, some words have been deleted. Read the passage carefully and select the most appropriate option to fill in each blank.

Dolphins are regarded as the 1. _____ creatures in the sea and stories of them helping 2. _____ sailors have been common since Roman times. The more we learn about dolphins, the more we realise that their society is more complex than people previously imagined. They look after other dolphins when they are ill, care for pregnant mothers and protect the 3. _____ in the community, as we do. Some scientists have 4. _____ that dolphins have a language but it is much more probable that they communicate with each other without needing words. Could any of these mammals be more intelligent than man? Certainly, the most common argument in favour of man's superiority over them that we can kill them more easily than they can kill us is the least satisfactory. On the 5. _____, the more we discover about these remarkable creatures, the less we appear superior when we destroy them.

SubQuestion No : 22

Q.22 Select the most appropriate option to fill in blank no. 2.

- Ans 1. sailing
 2. drowning
 3. laughing
 4. swimming

Question ID : 26433059023

Status : Answered

Chosen Option : 2

Comprehension:

In the following passage, some words have been deleted. Read the passage carefully and select the most appropriate option to fill in each blank.

Dolphins are regarded as the 1. _____ creatures in the sea and stories of them helping 2. _____ sailors have been common since Roman times. The more we learn about dolphins, the more we realise that their society is more complex than people previously imagined. They look after other dolphins when they are ill, care for pregnant mothers and protect the 3. _____ in the community, as we do. Some scientists have 4. _____ that dolphins have a language but it is much more probable that they communicate with each other without needing words. Could any of these mammals be more intelligent than man? Certainly, the most common argument in favour of man's superiority over them that we can kill them more easily than they can kill us is the least satisfactory. On the 5. _____, the more we discover about these remarkable creatures, the less we appear superior when we destroy them.

SubQuestion No : 23

Q.23 Select the most appropriate option to fill in blank no. 3.

- Ans 1. strangest
 2. weakest
 3. strongest
 4. healthiest

Question ID : 26433059024

Status : Answered

Chosen Option : 4

Comprehension:

In the following passage, some words have been deleted. Read the passage carefully and select the most appropriate option to fill in each blank.

Dolphins are regarded as the 1. _____ creatures in the sea and stories of them helping 2. _____ sailors have been common since Roman times. The more we learn about dolphins, the more we realise that their society is more complex than people previously imagined. They look after other dolphins when they are ill, care for pregnant mothers and protect the 3. _____ in the community, as we do. Some scientists have 4. _____ that dolphins have a language but it is much more probable that they communicate with each other without needing words. Could any of these mammals be more intelligent than man? Certainly, the most common argument in favour of man's superiority over them that we can kill them more easily than they can kill us is the least satisfactory. On the 5. _____, the more we discover about these remarkable creatures, the less we appear superior when we destroy them.

SubQuestion No : 24

Q.24 Select the most appropriate option to fill in blank no. 4.

- Ans 1. believing
 2. telling
 3. suggested
 4. suggesting

Question ID : 26433059025

Status : Answered

Chosen Option : 3

Comprehension:

In the following passage, some words have been deleted. Read the passage carefully and select the most appropriate option to fill in each blank.

Dolphins are regarded as the 1. _____ creatures in the sea and stories of them helping 2. _____ sailors have been common since Roman times. The more we learn about dolphins, the more we realise that their society is more complex than people previously imagined. They look after other dolphins when they are ill, care for pregnant mothers and protect the 3. _____ in the community, as we do. Some scientists have 4. _____ that dolphins have a language but it is much more probable that they communicate with each other without needing words. Could any of these mammals be more intelligent than man? Certainly, the most common argument in favour of man's superiority over them that we can kill them more easily than they can kill us is the least satisfactory. On the 5. _____, the more we discover about these remarkable creatures, the less we appear superior when we destroy them.

SubQuestion No : 25

Q.25 Select the most appropriate option to fill in blank no. 5.

- Ans 1. opposite
 2. contrary
 3. side
 4. besides

Question ID : 26433059026
Status : Answered
Chosen Option : 1

Section : Part-E- Computer Fundamentals

Q.1 निम्नलिखित में से कौन-सा विकल्प एक वर्ड प्रोसेसर नहीं है?

- Ans 1. माइक्रोसॉफ्ट वर्ड (Microsoft Word)
 2. क्रोम (Chrome)
 3. लिब्रेऑफिस राइटर (LibreOffice Writer)
 4. नोटपैड (Notepad)

Question ID : 26433095504
Status : Answered
Chosen Option : 2

Q.2 एमएस-एक्सेल 2010 (MS-Excel 2010) में पहले से मौजूद फाइल को खोलने के लिए _____ का उपयोग किया जाता है।

- Ans 1. OPEN
 2. SAVE
 3. NEW
 4. SAVE AS

Question ID : 26433095401
Status : Answered
Chosen Option : 1

Q.3 एमएस वर्ड में फंक्शन की (key) F12 का उपयोग _____ के लिए किया जाता है।

- Ans 1. अगली कार्यशील विंडो ओपन करने
 2. फाइल मेनू ओपन करने
 3. कार्यशील विंडो को बंद करने
 4. सेव एज (Save As) डायलॉग बॉक्स ओपन करने

Question ID : 26433095503
Status : Answered
Chosen Option : 4

Q.4 एमएस-वर्ड 2010 (MS-Word 2010) की एक टेबल में असीमित रो (rows) और अधिकतम _____ कॉलम (columns) हो सकते हैं।

- Ans
- 1. 62
 - 2. 61
 - 3. 63
 - 4. 64

Question ID : 26433095362
Status : Answered
Chosen Option : 4

Q.5 एमएस-एक्सेल 2010 के रिबन बार में हेडर (Header) और फुटर (Footer) विकल्प _____ टैब में उपस्थित होते हैं।

- Ans
- 1. व्यू (View)
 - 2. डेटा (Data)
 - 3. इन्सर्ट (Insert)
 - 4. फाइल (File)

Question ID : 26433095459
Status : Answered
Chosen Option : 1

Q.6 आप एक _____ क्रिएट कर सकते हैं, जो आपके द्वारा भेजे जाने वाले प्रत्येक ईमेल के अंत में दिखाई देगा।

- Ans
- 1. सिग्नेचर (Signature)
 - 2. अटैचमेंट (Attachments)
 - 3. फॉर्मेटिंग ऑप्शन्स (Formatting options)
 - 4. सब्जेक्ट (Subject)

Question ID : 26433095345
Status : Answered
Chosen Option : 2

Q.7 बिंग (Bing) एक _____ है

- Ans
- 1. सर्च इंजन (Search engine)
 - 2. सोशल नेटवर्क साइट (Social network site)
 - 3. इंटरनेट सेवा प्रदाता (Internet service provider)
 - 4. ब्राउज़र (Browser)

Question ID : 26433095466
Status : Answered
Chosen Option : 1

Q.8 निम्नलिखित डोमेन नामों की सूची को उनके अर्थों से सुमेलित करें।

डोमेन नेम अर्थ

P. .net 1. गैर - सरकारी संगठन

Q. .edu 2. वाणिज्यिक संगठन

R. .org 3. शैक्षिक संगठन

S. .com 4. राज्य और राष्ट्रीय सरकारी एजेंसियों को इंगित करता है

5. रक्षा विभाग

6. नेटवर्क संगठन

Ans 1. P-6, Q-3, R-1, S-2

2. P-5, Q-1, R-2, S-4

3. P-6, Q-2, R-4, S-2

4. P-1, Q-3, R-4, S-2

Question ID : 26433095537

Status : Answered

Chosen Option : 4

Q.9 एमएस-एक्सेल 2010 (MS-Excel 2010) में, निम्न व्यंजक का मान क्या होगा?

$$= 22 - 12 / 3 / 2 + 4$$

Ans 1. 26

2. 20

3. 8

4. 24

Question ID : 26433095380

Status : Answered

Chosen Option : 4

Q.10 MS-Word 2010 एप्लिकेशन में न्यूनतम जूम प्रतिशत क्या है?

Ans 1. 5%

2. 15%

3. 25%

4. 10%

Question ID : 26433095531

Status : Answered

Chosen Option : 4