

Delhi Police
Head Constable
Previous Year Paper
(Ministerial) 14 Oct 2022
Shift 3

Head Constable Ministerial in Delhi Police Examination 2022

Roll Number	
Candidate Name	
Venue Name	
Exam Date	14/10/2022
Exam Time	1:00 PM - 2:30 PM
Subject	Head Constable Ministerial in Delhi Police Examination 2022

Section : Part-A-General Awareness

Q.1 'हिंद स्वराज' किस वर्ष प्रकाशित हुआ था?

- Ans
- 1. 1908
 - 2. 1920
 - 3. 1909
 - 4. 1911

Question ID : 2643305534

Status : Not Answered

Chosen Option : --

Q.2 तेलंगाना में कई कपास कताई मिलें स्थित हैं। निम्नलिखित में से कौन-सा तेलंगाना में सूती वस्त्र उद्योग का केंद्र नहीं है?

- Ans
- 1. सिकंदराबाद
 - 2. गुंटूर
 - 3. वारंगल
 - 4. हैदराबाद

Question ID : 26433055656

Status : Not Answered

Chosen Option : --

Q.3 निम्नलिखित में से किस केंद्र शासित प्रदेश में शून्य प्रतिशत वन क्षेत्र है?

- Ans
- 1. अण्डमान और निकोबार
 - 2. चंडीगढ़
 - 3. लक्षद्वीप
 - 4. पुदुचेरी

Question ID : 26433055323

Status : Not Answered

Chosen Option : --

Q.4 राष्ट्रीय ओवरसीज छात्रवृत्ति (National Overseas Scholarship) की केंद्रीय क्षेत्र योजना निम्नलिखित में से किस वर्ग से संबंधित निम्न आय वाले छात्रों की सहायता के लिए नहीं है?

- Ans
- 1. अर्ध-खानाबदोश जनजाति
 - 2. अनुसूचित जाति
 - 3. परंपरागत कारीगर
 - 4. सामान्य वर्ग

Question ID : 26433061857

Status : Not Answered

Chosen Option : --

Q.5 निम्नलिखित में से किस राज्य ने 2001-2011 की दशकीय वृद्धि दर में सबसे अधिक प्रतिशत गिरावट दर्ज की?

- Ans
- 1. केरल
 - 2. उत्तर प्रदेश
 - 3. आंध्र प्रदेश
 - 4. महाराष्ट्र

Question ID : 26433055331

Status : Not Answered

Chosen Option : --

Q.6 अल-बरूनी द्वारा अरबी भाषा में लिखी गई पुस्तक 'किताब-उल-हिंद' को _____ अध्यायों में विभाजित किया गया है।

- Ans
- 1. 40
 - 2. 100
 - 3. 80
 - 4. 60

Question ID : 26433066648

Status : Not Answered

Chosen Option : --

Q.7 हॉर्नबिल उत्सव भारत के किस राज्य से संबंधित है?

- Ans
- 1. मणिपुर
 - 2. नागालैंड
 - 3. सिक्किम
 - 4. असम

Question ID : 26433066539

Status : Answered

Chosen Option : 2

Q.8 वर्ल्ड गेम्स एथलीट ऑफ द ईयर अवार्ड 2021 जीतने वाले पीआर श्रीजेश किस खेल से जुड़े हैं?

- Ans 1. हॉकी
 2. तीरंदाजी
 3. कराटे
 4. पावर लिफ्टिंग

Question ID : 26433061863
Status : Answered
Chosen Option : 1

Q.9 महात्मा गांधी पहली बार कांग्रेस के मंच पर कब आए थे?

- Ans 1. 1915 बॉम्बे अधिवेशन
 2. 1901 कलकत्ता अधिवेशन
 3. 1899 लखनऊ अधिवेशन
 4. 1904 बॉम्बे अधिवेशन

Question ID : 26433064610
Status : Not Answered
Chosen Option : --

Q.10 विच्छेदनीयता का सिद्धांत (Doctrine of Severability), जो संविधान में निहित मौलिक अधिकारों की रक्षा करता है, उसे निम्नलिखित में से किस अन्य रूप में भी जाना जाता है?

- Ans 1. व्यपगत का सिद्धांत या हड़प नीति (Doctrine of Lapse)
 2. अल्ट्रा वायर्स का सिद्धांत (Doctrine of Ultra Vires)
 3. शक्ति का सिद्धांत (Doctrine of Power)
 4. पृथक्करणीयता का सिद्धांत (Doctrine of Separability)

Question ID : 26433069849
Status : Answered
Chosen Option : 4

Q.11 16 फरवरी 2022 से प्रभावी भारतीय रिजर्व बैंक के केंद्रीय बोर्ड के निदेशक के रूप में केंद्र सरकार द्वारा किसे नियुक्त किया गया था?

- Ans 1. महेश कुमार जैन
 2. टी रबी शंकर
 3. देबाशीष पांडा
 4. संजय मल्होत्रा

Question ID : 26433055047
Status : Not Answered
Chosen Option : --

Q.12 स्वतंत्रता की पूर्व संध्या पर, भारतीय विदेशी व्यापार व्यापक रूप से किस ओर उन्मुख था?

- Ans
- 1. चीन तक सीमित था
 - 2. कोई सीमा नहीं थी
 - 3. संयुक्त राज्य अमेरिका तक सीमित था
 - 4. ब्रिटेन तक सीमित था

Question ID : 26433059110
Status : Not Answered
Chosen Option : --

Q.13 सिंधु घाटी सभ्यता के निम्नलिखित में से किस स्थल में 'पुजारी-राजा' की मूर्ति मिली है?

- Ans
- 1. लोधल
 - 2. मोहनजोदड़ो
 - 3. कालीबंगा
 - 4. हड़प्पा

Question ID : 26433064350
Status : Not Answered
Chosen Option : --

Q.14 निम्नलिखित में से कौन सा ऑनलाइन मार्केट प्लेस फीचर अगस्त 2022 में "मत्स्यसेतु" मोबाइल ऐप में लॉन्च किया गया था?

- Ans
- 1. एका आउटलेट
 - 2. एका मार्केट
 - 3. एका हाट
 - 4. एका बाजार

Question ID : 26433095283
Status : Not Answered
Chosen Option : --

Q.15 भारत में असंगठित कामगार सामाजिक सुरक्षा अधिनियम किस वर्ष में अधिनियमित किया गया था, जिसका उद्देश्य समान क्षेत्र में लोगों का कल्याण करना था?

- Ans
- 1. 2009 में
 - 2. 2012 में
 - 3. 2011 में
 - 4. 2008 में

Question ID : 26433081930
Status : Not Answered
Chosen Option : --

Q.16 दिसंबर 2021 में, किस राज्य सरकार ने एक आपातकालीन देखभाल योजना शुरू की जिसके माध्यम से राज्य सरकार दुर्घटना पीड़ितों के पहले 48 घंटों की आपातकालीन देखभाल का खर्च वहन करेगी?

- Ans 1. केरल
 2. तमिलनाडु
 3. पश्चिम बंगाल
 4. तेलंगाना

Question ID : 2643305560
Status : Not Answered
Chosen Option : --

Q.17 निम्नलिखित में से कौन व्यापारसंबंधी वस्तु-विनिमय प्रणाली में कोई बाधा नहीं है?

- Ans 1. व्यापार में व्यक्तिगत संबंधों का विकास
 2. धन-संचयन में कठिनाई
 3. अविभाज्य वस्तुओं के आदान-प्रदान में कठिनाई
 4. मूल्य-मापन का कोई प्रारूप बनाना कठिन है, जो सर्वमान्य हो

Question ID : 26433059245
Status : Answered
Chosen Option : 1

Q.18 निम्नलिखित में से किस संस्थान के वैज्ञानिकों ने अत्यधिक विश्वसनीय, हाई इलेक्ट्रॉन मोबिलिटी ट्रांजिस्टर (HEMTs) को विकसित किया है?

- Ans 1. आई.आई.टी. मद्रास
 2. आई.आई.एस.सी. बैंगलोर
 3. डी.आर.डी.ओ. (DRDO)
 4. आई.आई.टी. दिल्ली

Question ID : 26433095260
Status : Not Answered
Chosen Option : --

Q.19 निम्नलिखित में से कौन-सा कथन सही नहीं है?

- Ans 1. उत्पादन लागत पर शुद्ध राष्ट्रीय उत्पाद \equiv बाजार कीमतों पर शुद्ध राष्ट्रीय उत्पाद - शुद्ध अप्रत्यक्ष कर (शुद्ध अप्रत्यक्ष कर \equiv अप्रत्यक्ष कर + सब्सिडी)
 2. राष्ट्रीय प्रयोज्य आय = बाजार मूल्यों पर शुद्ध राष्ट्रीय उत्पाद + शेष विश्व से अन्य वर्तमान अंतरण
 3. निजी आय = निजी क्षेत्र को अर्जित शुद्ध घरेलू उत्पाद से कारक आय + राष्ट्रीय ऋण ब्याज + विदेश से शुद्ध उत्पादन आय + सरकार से वर्तमान अंतरण + शेष विश्व से अन्य शुद्ध अंतरण
 4. वैयक्तिक प्रयोज्य आय (PDI) \equiv वैयक्तिक आय - वैयक्तिक कर भुगतान - गैर कर भुगतान

Question ID : 26433064507
Status : Not Answered
Chosen Option : --

Q.20 भारिया जनजाति का लोकप्रिय नृत्य कौन-सा है?

- Ans 1. सहरिया
 2. थाप्ती
 3. अटारी
 4. भदाम

Question ID : 26433064379
Status : Not Answered
Chosen Option : --

Section : Part-B-Quantitative Aptitude

Q.1 $(a - b)^3 + (b - c)^3 + (c - a)^3$ का मान क्या है?

- Ans 1. $3abc$
 2. $3(a - b)(b - c)(c - a)$
 3. 0
 4. $3(a + b)(b + c)(c + a)$

Question ID : 26433061378
Status : Answered
Chosen Option : 2

Q.2 A एक कार्य को 120 दिनों में कर सकता है और B उसे 150 दिनों में कर सकता है। वे 20 दिनों तक एक साथ कार्य करते हैं। फिर B चला जाता है और A अकेला कार्य जारी रखता है। उसके 12 दिन बाद C, A से जुड़ जाता है और कार्य 48 और दिनों में पूरा हो जाता है। C कितने दिनों में कार्य कर सकता है, यदि वह अकेले कार्य करता है?

- Ans 1. 270 दिन
 2. 240 दिन
 3. 280 दिन
 4. 320 दिन

Question ID : 26433063726
Status : Answered
Chosen Option : 2

Q.3 निम्न तालिका 5 वर्षों की अवधि के दौरान बैंकों द्वारा संवितरित ऋणों (करोड़ ₹ में) को दर्शाती है।

बैंक	1982	1983	1984	1985	1986
A	18	23	45	30	70
B	27	33	18	41	37
C	29	29	22	17	11
D	31	16	28	32	43
E	13	19	27	34	42
कुल	118	120	140	154	203

निम्नलिखित में से किस बैंक में दिए गए वर्षों में ऋण के संवितरण में लगातार वृद्धि हुई है?

- Ans
- 1. D
 - 2. A
 - 3. B
 - 4. E

Question ID : 26433066382

Status : Answered

Chosen Option : 4

Q.4 एक सब्जी विक्रेता आलू ₹22/ kg बेचता है जिसे उसने ₹18/ kg पर खरीदा था। परन्तु वह बेचते समय 1 kg की जगह 850 ग्राम ही आलू देता है। विक्रेता द्वारा अर्जित वास्तविक लाभ प्रतिशत कितना है?

- Ans
- 1. 43.79%
 - 2. 42.79%
 - 3. 30.45%
 - 4. 45.29%

Question ID : 26433058789

Status : Not Answered

Chosen Option : --

Q.5 एक शोरूम में एक वाहन की कीमत Rs.85,000 है। ग्राहक को Rs.5,000 की नकद छूट मिलती है और एक स्क्रेच कार्ड मिलता है जिसमें 12.5% से 20% की छूट का वादा किया जाता है। वाहन के न्यूनतम और अधिकतम विक्रय मूल्य (Rs. में) के बीच का अंतर ज्ञात कीजिए।

- Ans
- 1. 5000
 - 2. 8000
 - 3. 6000
 - 4. 7000

Question ID : 26433071317

Status : Answered

Chosen Option : 3

Q.6 Rs.16,340 की राशि 13% वार्षिक साधारण ब्याज की दर पर उधार दी जाती है। यदि 5 वर्ष बाद ब्याज Rs.X है, तो X के अंकों का योग _____ है।

Ans 1. 10

2. 18

3. 15

4. 19

Question ID : 26433061312

Status : Answered

Chosen Option : 1

Q.7 28 cm आधार व्यास वाले एक गोले के परिवृत्तीय बेलन का आयतन ज्ञात कीजिए। (मान लीजिए $\pi = \frac{22}{7}$)

Ans 1. 17244 cm³

2. 17250 cm³

3. 17246 cm³

4. 17248 cm³

Question ID : 26433058699

Status : Not Answered

Chosen Option : --

Q.8 शिवा ने एक फाइनेंस कंपनी से वार्षिक रूप से चक्रवृद्धि की जाने वाली 20% वार्षिक ब्याज दर पर Rs.12,000 की राशि उधार ली। 2 वर्ष की अवधि के लिए चक्रवृद्धि ब्याज (CI) क्या है?

Ans 1. Rs.5,280

2. Rs.2,400

3. Rs.4,280

4. Rs.4,800

Question ID : 26433058149

Status : Answered

Chosen Option : 1

Q.9 एक कंपनी ने अपने उत्पादन में लगातार दो वर्षों में 10% और 15% की वृद्धि दर्ज की। कंपनी ने 2 वर्ष पहले कितनी इकाइयों का उत्पादन किया था यदि वर्तमान उत्पादन 101200 इकाई है?

Ans 1. 85000

2. 90000

3. 80000

4. 70000

Question ID : 26433063302

Status : Answered

Chosen Option : 3

Q.10 यदि कोई व्यक्ति 5 km/h के बजाय 6 km/h की चाल से चलता है, तो वह 5 km अधिक चल पाता है। 5 km/h की चाल से उसके द्वारा तय की गई दूरी कितनी है?

- Ans 1. 25 km
 2. 24 km
 3. 18 km
 4. 15 km

Question ID : 26433076232
Status : Answered
Chosen Option : 1

Q.11 अगर $\frac{1}{a} + \frac{1}{b} + \frac{1}{c} = 0$ है, तो :

- Ans 1. $ab + bc + ca = 1$
 2. $\frac{1}{a^2 - bc} + \frac{1}{b^2 - ac} + \frac{1}{c^2 - ab} = 1$
 3. $a^2 + b^2 + c^2 = (a + b + c)^2$
 4. $\frac{1}{a^2} + \frac{1}{b^2} + \frac{1}{c^2} = a^2 + b^2 + c^2$

Question ID : 26433061629
Status : Not Answered
Chosen Option : --

Q.12 $2019 \div 3 + \left[\frac{1}{27} \text{ of } 729 \right]$ का मान क्या है?

- Ans 1. 1400
 2. 700
 3. 1402
 4. 701

Question ID : 26433056866
Status : Answered
Chosen Option : 2

Q.13 $\frac{5}{2} \left\{ \frac{\cos 37^\circ}{\sin 53^\circ} \right\} - \frac{1}{2} (\sin^2 39^\circ + \sin^2 51^\circ)$ का मान क्या है?

- Ans 1. $\sin^2 51^\circ - \sin 53^\circ$
 2. 1
 3. 2
 4. $\sin 53^\circ + \tan 51^\circ$

Question ID : 26433058821
Status : Answered
Chosen Option : 3

Q.14 कुछ श्रमिक 30 दिनों में एक कार्य पूरा करने के लिए सहमत होते हैं। 10 श्रमिक काम पर नहीं आते, शेष श्रमिक 50 दिनों में कार्य पूरा करते हैं। मूल रूप से कार्य करने के लिए कितने श्रमिक सहमत हुए थे?

- Ans 1. 20
 2. 25
 3. 22
 4. 15

Question ID : 26433061174

Status : Not Answered

Chosen Option : --

Q.15 प्रथम पाँच अभाज्य संख्याओं का औसत ज्ञात कीजिए।

- Ans 1. 6.5
 2. 7.8
 3. 5.6
 4. 8.7

Question ID : 26433073072

Status : Answered

Chosen Option : 3

Q.16 यदि $10 \times 5 \times 6$ आयाम वाले एक ठोस घनाभ को इकाई लंबाई के घन बनाने के लिए पिघलाया जाता है, तो ऐसे सभी घनों की लागत क्या होगी, यदि एक घन की लागत Rs.20 है?

- Ans 1. Rs.8,000
 2. Rs.5,000
 3. Rs.6,000
 4. Rs.3,000

Question ID : 26433056344

Status : Not Answered

Chosen Option : --

Q.17 दो संख्याएँ एक तीसरी संख्या से क्रमशः 25% और 60% अधिक हैं। पहली दो संख्याओं का अनुपात क्या है?

- Ans 1. 5 : 8
 2. 12 : 19
 3. 25 : 32
 4. 33 : 25

Question ID : 26433061732

Status : Answered

Chosen Option : 3

Q.18 माना $a = \frac{11}{100}$, और $b = 1.\overline{01}$, तो $a - b$ क्या होगा?

Ans 1. $-\frac{8911}{9900}$

2. $\frac{8911}{9900}$

3. $-\frac{8911}{9090}$

4. $\frac{8911}{9090}$

Question ID : 26433066170

Status : Answered

Chosen Option : 1

Q.19 $6.00\overline{893}$ को साधारण भिन्न में व्यक्त कीजिए।

Ans 1. $6\frac{893}{99900}$

2. $6\frac{893}{9900}$

3. $\frac{6893}{99900}$

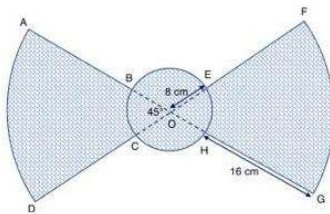
4. $6\frac{893}{999}$

Question ID : 26433065044

Status : Not Answered

Chosen Option : --

Q.20 निम्न आरेख एक पंखे का भाग दर्शाता है। OAD और OFG केंद्र O वाले वृत्त के त्रिज्यखंड हैं, जिनकी त्रिज्या 24 cm है। त्रिज्यखंडों का केंद्रीय कोण 45° है, जैसा कि चित्र में दर्शाया गया है। B, C, H और E केंद्र O और 8 cm त्रिज्या वाले एक वृत्त पर स्थित हैं। छायांकित क्षेत्र कितना है (cm^2 में)? $\pi = 3.14$ लें।



Ans 1. 620.88

2. 602.88

3. 452.16

4. 425.16

Question ID : 26433075778

Status : Not Answered

Chosen Option : --

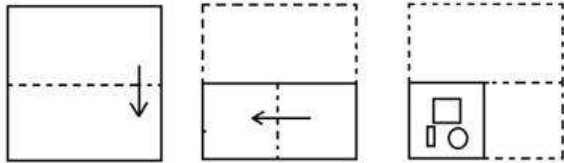
Section : Part-C-General Intelligence

Q.1 निम्नलिखित में से कौन-सी संख्या दी गई श्रृंखला में प्रश्न चिह्न (?) को प्रतिस्थापित करेगी?
38, 47, 31, 56, 20, 69, ?

- Ans 1. 5
 2. 8
 3. 9
 4. 12

Question ID : 26433057558
 Status : Answered
 Chosen Option : 1

Q.2 नीचे कागज के एक टुकड़े को मोड़ने का क्रम और मोड़े गए कागज को काटने का तरीका दिखाया गया है। उस आकृति का चयन करें, जो कागज के खुले रूप से सर्वाधिक मिलती-जुलती हो।



- Ans 1.
- 2.
- 3.
- 4.

Question ID : 26433056681
 Status : Answered
 Chosen Option : 3

Q.3 उस विकल्प का चयन कीजिए, जो तीसरे पद से उसी प्रकार संबंधित है, जिस प्रकार दूसरा पद पहले पद से और छठा पद पाँचवें पद से संबंधित है।
8 : 44 :: 5 : ? :: 11 : 92

- Ans
- 1. 20
 - 2. 25
 - 3. 9
 - 4. 14

Question ID : 26433057060
Status : Answered
Chosen Option : 4

Q.4 चार अक्षर-समूह दिए गए हैं जिनमें से तीन किसी न किसी तरह से एकसमान हैं और एक असंगत है। उस असंगत अक्षर-समूह का चयन कीजिए।

- Ans
- 1. CEH
 - 2. JLO
 - 3. VXZ
 - 4. PRU

Question ID : 26433068498
Status : Answered
Chosen Option : 3

Q.5 यदि दर्पण को नीचे दर्शाए गए अनुसार MN पर रखा जाए, तो दी गई आकृति के सही दर्पण प्रतिबिम्ब का चयन कीजिए।

R p 5 8 2 e

M

N

- Ans
- 1. R p 5 8 2 e
 - 2. R p 5 8 2 e
 - 3. R p 5 8 2 e
 - 4. R p 5 8 2 e

Question ID : 26433056980
Status : Answered
Chosen Option : 3

Q.6 सात लोग M, N, O, P, Q, R और S सीधी रेखा में उत्तर की ओर मुख करके बैठे हैं। केवल चार लोग N के बाएँ बैठे हैं। केवल तीन लोग Q और N के बीच बैठे हैं। M, R के बाएँ दूसरे स्थान पर बैठा है। S बिल्कुल P और N के निकटस्थ है। N के बाएँ दूसरे स्थान पर कौन बैठा है?

- Ans
- 1. R
 - 2. O
 - 3. P
 - 4. M

Question ID : 26433076520
Status : Answered
Chosen Option : 2

Q.7 दिए गए कथनों और निष्कर्षों को ध्यानपूर्वक पढ़ें। यह मानते हुए कि कथनों में दी गई जानकारी सत्य है, भले ही वह सामान्यतः ज्ञात तथ्यों से भिन्न प्रतीत होती हो, उस आधार पर यह तय करें कि दिए गए निष्कर्षों में से कौन-सा/से निष्कर्ष कथनों का तार्किक रूप से अनुसरण करता है/करते हैं।

कथन:

केवल कुछ लैब वॉच हैं।

कुछ लैब वैन हैं।

सभी वैन कैन हैं।

निष्कर्ष:

I. कुछ कैन लैब हैं।

II. सभी वॉच के कैन होने की संभावना है।

III. कोई भी वैन वॉच नहीं हो सकती है।

- Ans
- 1. I, II और III अनुसरण करते हैं।
 - 2. II और III दोनों अनुसरण करते हैं।
 - 3. I और II दोनों अनुसरण करते हैं।
 - 4. I और III दोनों अनुसरण करते हैं।

Question ID : 26433079072

Status : Answered

Chosen Option : 3

Q.8 निम्नलिखित में से कौन-सा विकल्प दिए गए शब्दों के उस सही क्रम को दर्शाता है जिस क्रम में वे अंग्रेजी शब्दकोश में दिखाई देते हैं?

1. Literate
2. Literature
3. Literacy
4. Literary
5. Literal

- Ans
- 1. 3, 5, 1, 4, 2
 - 2. 3, 5, 4, 2, 1
 - 3. 5, 3, 4, 1, 2
 - 4. 3, 5, 4, 1, 2

Question ID : 26433057210

Status : Answered

Chosen Option : 4

Q.9 निम्नलिखित में से कौन-सी संख्या दी गई श्रृंखला में प्रश्न चिह्न (?) को प्रतिस्थापित करेगी?
96, 83, 72, 65, ?, 57

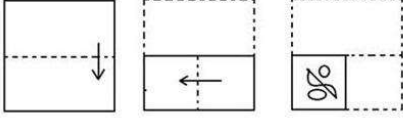
- Ans
- 1. 53
 - 2. 63
 - 3. 60
 - 4. 55

Question ID : 26433056444

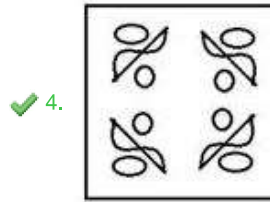
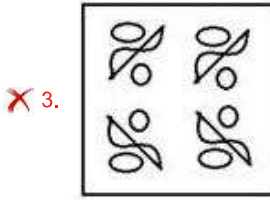
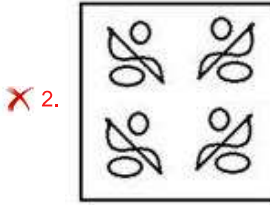
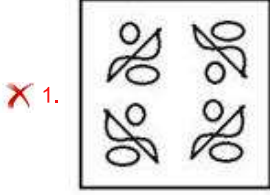
Status : Answered

Chosen Option : 3

Q.10 नीचे कागज के एक टुकड़े को मोड़ने का क्रम और मोड़े गए कागज को काटने का तरीका दिखाया गया है। उस आकृति का चयन करें, जो कागज के खुले रूप से सर्वाधिक मिलती-जुलती हो।



Ans



Question ID : 26433056688

Status : Not Answered

Chosen Option : --

Q.11 मीरा को, लोगों के एक समूह से परिचित करवाते हुए राजीव ने कहा, “ यह मेरे भाई की पत्नी के बेटे की बहन है।” मीरा का राजीव से क्या रिश्ता है?

Ans ✗ 1. बेटी

✗ 2. बहन

✓ 3. भतीजी/ भांजी

✗ 4. चचेरी या ममेरी बहन

Question ID : 26433067259

Status : Answered

Chosen Option : 3

Q.12 निम्नलिखित में से कौन-सा पद दी गई श्रृंखला में प्रश्नवाचक चिह्न (?) का स्थान लेगा?

?, YST, YTU, YUV, YVW

- Ans 1. YUS
 2. YRS
 3. YES
 4. YRZ

Question ID : 26433085324

Status : Answered

Chosen Option : 2

Q.13 उस विकल्प का चयन कीजिए जो उन अक्षरों को निरूपित करता है, जिन्हें नीचे दिए गए रिक्त स्थानों में क्रमिक रूप से बाएं से दाएं रखने पर अक्षर श्रृंखला पूर्ण हो जाएगी।

C _ I _ K E _ _ R I _ _ E T _ _ I C _ E T C R _ C K _ _

- Ans 1. TRICKCKIEEIE
 2. IKTECKERRCIT
 3. RCTCKCKRKIET
 4. TICKETRCIRKE

Question ID : 26433056389

Status : Answered

Chosen Option : 3

Q.14 * चिह्नों को क्रमिक रूप से बदलने और दिए गए समीकरण को संतुलित करने के लिए गणितीय चिह्नों के सही संयोजन का चयन कीजिए।

$23 * 15 * 5 * 12 * 6 * 92$

- Ans 1. +, -, +, x, =
 2. x, -, +, +, =
 3. -, +, +, x, =
 4. +, x, +, -, =

Question ID : 26433056939

Status : Answered

Chosen Option : 3

Q.15 उस विकल्प का चयन करें जो चौथी संख्या से ठीक उसी प्रकार संबंधित है जिस प्रकार पहली संख्या दूसरी संख्या से और पांचवीं संख्या छठी संख्या से संबंधित है।

$128 : 4 :: ? : 11 :: 2592 : 18$

- Ans 1. 847
 2. 968
 3. 1331
 4. 1089

Question ID : 26433056496

Status : Not Answered

Chosen Option : --

Q.16 एक कूट भाषा में, 'HEAD' को JHCG के रूप में कूटबद्ध किया जाता है और 'NOSE' को PRUH के रूप में कूटबद्ध किया जाता है। उसी भाषा में 'HAND' को किस प्रकार कूटबद्ध किया जाएगा?

- Ans
- 1. KCQF
 - 2. KDQG
 - 3. JDQG
 - 4. JDPG

Question ID : 26433057768

Status : Answered

Chosen Option : 4

Q.17 * चिह्नों को क्रमानुसार बदलने और दिए गए समीकरण को संतुलित करने के लिए गणितीय चिह्नों के सही संयोजन का चयन कीजिए।
11 * 9 * 69 * 6 * 2 * 165

- Ans
- 1. +, -, ×, ÷, =
 - 2. +, ×, -, =, ÷
 - 3. +, ×, -, ÷, =
 - 4. ×, +, -, ÷, =

Question ID : 26433056453

Status : Answered

Chosen Option : 4

Q.18 छह छात्र J, K, L, M, N और O एक वृत्ताकार मेज के परितः इसके केंद्र की ओर अभिमुख होकर बैठे हैं। J ठीक N और M दोनों के पड़ोस में है। K, N के दायें तीसरे स्थान पर बैठा है। N ठीक O और J दोनों के पड़ोस में है। O, K के बायें दूसरे स्थान पर बैठा है। O के ठीक दायें पड़ोस में कौन बैठा है?

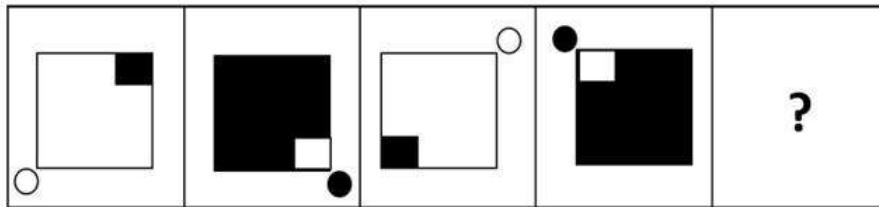
- Ans
- 1. J
 - 2. L
 - 3. M
 - 4. N

Question ID : 26433055173

Status : Answered

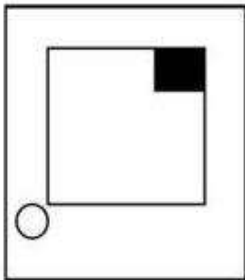
Chosen Option : 2

Q.19 उस आकृति का चयन कीजिए, जो निम्नलिखित आकृति शृंखला में प्रश्न-चिह्न (?) को प्रतिस्थापित करेगी।




Ans


✓ 1.



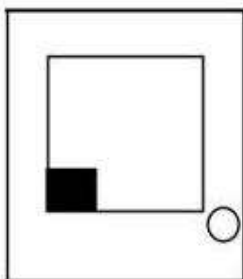
✗ 2.



✗ 3.



✗ 4.



Question ID : 26433056094
 Status : Answered
 Chosen Option : 1

Q.20 एक निश्चित कूट भाषा में, 'WATER' को '46140536' लिखा जाता है और 'TORCH' को '401536616' लिखा जाता है। उसी भाषा में, 'COFFEE' को किस प्रकार लिखा जाएगा?

Ans ✓ 1. 615121255

✗ 2. 330661010

✗ 3. 6151255

✗ 4. 3306610

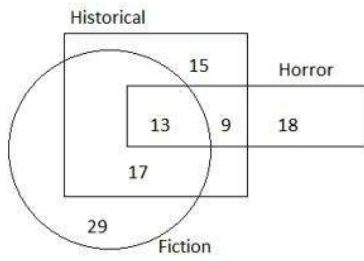
Question ID : 26433068010

Status : Answered

Chosen Option : 1

Q.21 दिए गए आरेख का ध्यानपूर्वक अध्ययन कीजिए और प्रश्न का उत्तर दीजिए।

विभिन्न वर्गों/खंडों की संख्याएँ व्यक्तियों की संख्या को दर्शाती हैं।



ऐसे कितने व्यक्ति हैं जो ऐतिहासिक (Historical) और डरावने (Horror) दोनों तरह के उपन्यास (Fiction) पसंद करते हैं लेकिन काल्पनिक उपन्यास (Fiction) पसंद नहीं करते हैं?

Ans ✓ 1. 9

✗ 2. 27

✗ 3. 22

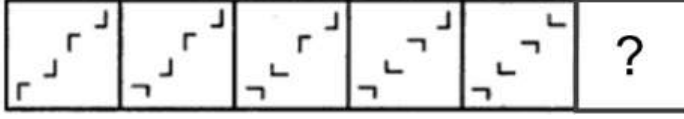
✗ 4. 13

Question ID : 26433070414

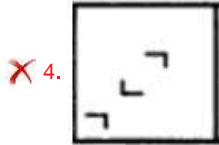
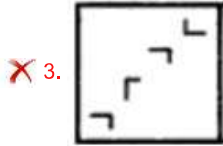
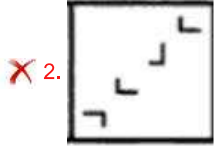
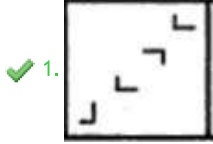
Status : Answered

Chosen Option : 1

Q.22 दिए गए विकल्पों में से उस आकृति का चयन करें जो निम्नलिखित श्रृंखला में प्रश्नवाचक चिह्न (?) का स्थान ले सकती है।



Ans



Question ID : 26433080527

Status : Answered

Chosen Option : 1

Q.23 उस विकल्प का चयन कीजिए जो पांचवें अक्षर समूह से उसी तरह संबंधित है जिस तरह दूसरा अक्षर समूह पहले अक्षर समूह से संबंधित है और चौथा अक्षर समूह तीसरे अक्षर समूह से संबंधित है।
GTDNE : YGVAW :: IPDHC : ACVUU :: JSRXK : ?

Ans ✓ 1. BFJKC

✗ 2. KJVFC

✗ 3. KFBKC

✗ 4. BJFCK

Question ID : 26433074701

Status : Not Answered

Chosen Option : --

Q.24 उस विकल्प का चयन कीजिए जो पांचवें अक्षर समूह से उसी तरह संबंधित है जिस तरह दूसरा अक्षर समूह पहले अक्षर समूह से संबंधित है और चौथा अक्षर समूह तीसरे अक्षर समूह से संबंधित है।
UFZ : NYS :: FBW : YUP :: DKS : ?

- Ans
- 1. SDL
 - 2. BKE
 - 3. WDL
 - 4. POF

Question ID : 26433074680
Status : Not Answered
Chosen Option : --

Q.25 तस्वीर में एक व्यक्ति की ओर इशारा करते हुए, एक महिला कुसुम ने कहा, "वह मेरे पिता की माँ की बहू की बेटी की माँ है।" यदि कुसुम के पिता अपने माता-पिता की इकलौती संतान हैं, तो वह व्यक्ति कुसुम से किस प्रकार संबंधित है?

- Ans
- 1. पुत्री
 - 2. माँ
 - 3. सास
 - 4. बहन

Question ID : 26433055667
Status : Answered
Chosen Option : 2

Section : Part-D- English Language

Q.1 Select the most appropriate synonym of the underlined word in the given sentence.

The opposition criticised the ruling party on several issues.

- Ans
- 1. censured
 - 2. vocalised
 - 3. complained
 - 4. shunned

Question ID : 26433055508
Status : Answered
Chosen Option : 4

Q.2 Select the most appropriate homonym to fill in the blank.

_____ worship is a predominant part of some religions.

- Ans
- 1. Idol
 - 2. Idyll
 - 3. Idyl
 - 4. Idle

Question ID : 26433058387
Status : Answered
Chosen Option : 1

Q.3 For the four-sentence (S1 to S4) paragraph below, sentences S1 and S4 are given. From the options P, Q, R and S select the appropriate sentences for S2 and S3, respectively.

(S1) For almost every piece of advice, you will find someone recommending just the opposite.

(S2)

(S3)

(S4) What you should certainly not do is try and please everyone.

(P) The greater danger for most of us lies in setting our aim too low and achieving our mark.

(Q) Try and understand the underlying philosophy in the advice, and choose what works well for you.

(R) The trick is to find what works for you – in your specific case – and go with it.

(S) You can achieve any goal you desire only if you help other people achieve their goals.

Ans 1. S, Q

2. R, Q

3. Q, S

4. P, R

Question ID : 26433065210

Status : Answered

Chosen Option : 3

Q.4 Select the INCORRECTLY spelt word in the following sentence.
A newspaper must be progmatic, impartial and provide reliable information to the public so that they are not misled by prejudiced opinions.

Ans 1. reliable

2. misled

3. progmatic

4. impartial

Question ID : 26433058604

Status : Answered

Chosen Option : 3

Q.5 Select the most appropriate homonym to fill in the blank.

The old doors _____ whenever they are opened.

Ans 1. creak

2. cry

3. crick

4. creek

Question ID : 26433058371

Status : Not Answered

Chosen Option : --

Q.6 Select the most appropriate ANTONYM of the underlined word.

Being generous is a noble virtue.

- Ans 1. Rich
 2. Miserly
 3. Affluent
 4. Wealthy

Question ID : 26433073194
Status : Answered
Chosen Option : 2

Q.7 Select the most appropriate ANTONYM of the underlined word in the given sentence.

The police tried to reveal the truth.

- Ans 1. ignore
 2. conceal
 3. reinstate
 4. flatter

Question ID : 26433055487
Status : Answered
Chosen Option : 2

Q.8 Select the most appropriate option that can substitute the underlined segment in the given sentence. If there is no need to substitute it, select 'No substitution required'.

Today is more hot than yesterday.

- Ans 1. most hot than
 2. No substitution required
 3. hotter than
 4. more hotter

Question ID : 26433063625
Status : Answered
Chosen Option : 3

Q.9 The following sentence has been divided into parts. One of them may contain an error. Select the part that contains the error from the given options. If you don't find any error, mark 'No error' as your answer.

The prophecy dictates / the end of the world / unless the wrongs are righted.

- Ans 1. the end of the world
 2. No error
 3. The prophecy dictates
 4. unless the wrongs are righted

Question ID : 26433059063
Status : Answered
Chosen Option : 4

Q.10 Parts of a sentence are given below in jumbled order. Arrange the parts in the correct order to form a meaningful sentence.

The last man / who / was / the captain / left the sinking ship

- Ans**
- 1. The last man left the sinking ship who was the captain.
 - 2. The last man who was left the sinking ship the captain.
 - 3. The captain who was left the sinking ship the last man.
 - 4. The captain was the last man who left the sinking ship.

Question ID : 26433059606
Status : Answered
Chosen Option : 4

Q.11 Select the most appropriate option to fill in the blank.

Ratna has the capacity to remain _____ and humble in all situations.

- Ans**
- 1. silent
 - 2. violent
 - 3. grounded
 - 4. rooted

Question ID : 26433072405
Status : Answered
Chosen Option : 1

Q.12 Select the most appropriate meaning of the given idiom.

Stabbed in the back

- Ans**
- 1. Criticising someone
 - 2. Injuring someone
 - 3. Betraying someone
 - 4. Killing someone

Question ID : 26433072304
Status : Answered
Chosen Option : 3

Q.13 Select the option that can be used as a one-word substitute for the given group of words.

Performed or occurring as a result of a sudden impulse

- Ans**
- 1. Refined
 - 2. Volitional
 - 3. Cultivated
 - 4. Spontaneous

Question ID : 26433060740
Status : Not Answered
Chosen Option : --

Q.14 Select the option that can be used as a one-word substitute for the given group of words.

Something that is modern or existing in the prevailing times

- Ans 1. Contemporary
 2. Contradictory
 3. Ancient
 4. Contemptuous

Question ID : 26433072315
Status : Answered
Chosen Option : 4

Q.15 Parts of a sentence are given below in jumbled order. Arrange the parts in the correct order to form a meaningful sentence.

People / their duties and responsibilities / become aware of / only through education / rights and obligations

- Ans 1. Their duties and responsibilities become aware of people only through education rights and obligations
 2. People become aware of only through education rights and obligations, their duties, and responsibilities.
 3. People only through education, rights and obligations become aware of their duties and responsibilities.
 4. People become aware of their duties and responsibilities, rights, and obligations only through education.

Question ID : 26433059613
Status : Answered
Chosen Option : 4

Q.16 For the four-sentence (S1 to S4) paragraph below, sentences S1 and S4 are given. From the options P, Q, R and S, select the appropriate sentences for S2 and S3, respectively.

(S1) When the men had gone, I looked around for a place where I could sit.

(S2)

(S3)

(S4) From under it a second path took off and ran across the face of the mountain skirting the upper edge of the broken ground.

(P) The pine was not easy to climb, for there were no branches for twenty feet, but once having reached the lowest branch, the rest was easy.

(Q) The only tree on the whole of this part of the mountain was a solitary pine.

(R) When the men had tied my rifle to one end of it, I drew it up and climbed to the top of the tree.

(S) It was growing on the ridge close to the path down which the men had gone.

- Ans 1. P, Q
 2. Q, S
 3. R, S
 4. R, Q

Question ID : 26433065212
Status : Answered
Chosen Option : 2

Q.17 Select the most appropriate meaning of the given idiom.

By and by

- Ans 1. On the whole
 2. Gradually
 3. Altogether
 4. One after the other

Question ID : 26433070664
Status : Not Answered
Chosen Option : --

Q.18 The following sentence has been split into four segments. Identify the segment that contains a grammatical error.

Tropic of Cancer / passes through / the state / of Jharkhand.

- Ans 1. the state
 2. passes through
 3. Tropic of Cancer
 4. of Jharkhand

Question ID : 26433055843
Status : Answered
Chosen Option : 1

Q.19 Select the INCORRECTLY spelt word.

- Ans 1. Department
 2. Congregation
 3. Government
 4. Committee

Question ID : 26433055475
Status : Answered
Chosen Option : 2

Q.20 Select the most appropriate homophone of the italicised word.
May god *heal* the pain of her suffering.

- Ans 1. Heel
 2. Hail
 3. Hale
 4. Hall

Question ID : 26433055498
Status : Answered
Chosen Option : 1

Comprehension:

In the following passage, some words have been deleted. Read the passage carefully and select the most appropriate option to fill in each blank.

Even (1) _____ we find in our individual hearts, (2) _____ all the broadcast and telecast teachings of science and the discoveries of the (3) _____, that we cannot (4) _____ the Garden of Eden from our imagination and (5) _____ it is a blessing.

SubQuestion No : 21

Q.21 Select the most appropriate option to fill in blank number 1.

- Ans 1. tomorrow
 2. today
 3. yesterday
 4. then

Question ID : 26433058878
Status : Answered
Chosen Option : 2

Comprehension:

In the following passage, some words have been deleted. Read the passage carefully and select the most appropriate option to fill in each blank.

Even (1) _____ we find in our individual hearts, (2) _____ all the broadcast and telecast teachings of science and the discoveries of the (3) _____, that we cannot (4) _____ the Garden of Eden from our imagination and (5) _____ it is a blessing.

SubQuestion No : 22

Q.22 Select the most appropriate option to fill in blank number 2.

- Ans 1. nor
 2. therefore
 3. because
 4. in spite of

Question ID : 26433058879
Status : Not Answered
Chosen Option : --

Comprehension:

In the following passage, some words have been deleted. Read the passage carefully and select the most appropriate option to fill in each blank.

Even (1) _____ we find in our individual hearts, (2) _____ all the broadcast and telecast teachings of science and the discoveries of the (3) _____, that we cannot (4) _____ the Garden of Eden from our imagination and (5) _____ it is a blessing.

SubQuestion No : 23

Q.23 Select the most appropriate option to fill in blank number 3.

- Ans 1. anthropologists
 2. sycophants
 3. poets
 4. priests

Question ID : 26433058880
Status : Not Answered
Chosen Option : --

Comprehension:

In the following passage, some words have been deleted. Read the passage carefully and select the most appropriate option to fill in each blank.

Even (1) _____ we find in our individual hearts, (2) _____ all the broadcast and telecast teachings of science and the discoveries of the (3) _____, that we cannot (4) _____ the Garden of Eden from our imagination and (5) _____ it is a blessing.

SubQuestion No : 24

Q.24 Select the most appropriate option to fill in blank number 4.

- Ans 1. include
 2. pick
 3. eradicate
 4. halt

Question ID : 26433058881
Status : Not Answered
Chosen Option : --

Comprehension:

In the following passage, some words have been deleted. Read the passage carefully and select the most appropriate option to fill in each blank.

Even (1) _____ we find in our individual hearts, (2) _____ all the broadcast and telecast teachings of science and the discoveries of the (3) _____, that we cannot (4) _____ the Garden of Eden from our imagination and (5) _____ it is a blessing.

SubQuestion No : 25

Q.25 Select the most appropriate option to fill in blank number 5.

- Ans 1. if
 2. may
 3. because
 4. perhaps

Question ID : 26433058882
Status : Not Answered
Chosen Option : --

Section : Part-E- Computer Fundamentals

Q.1 एमएस-एक्सेल 2010 रिबन बार में _____ टैब में सबसे अधिक उपयोग किए जाने वाले कमांड होते हैं जैसे कॉपी और पेस्ट करना, सॉर्ट करना और फ़िल्टर करना, फॉर्मेट करना आदि।

- Ans 1. HOME
 2. FILE
 3. REVIEW
 4. FORMULA

Question ID : 26433095448
Status : Answered
Chosen Option : 1

Q.2 क्रोम ब्राउज़र में दाईं ओर के प्रत्येक खुले हुए टैब में जाने के लिए निम्नलिखित में से किस कीबोर्ड शॉर्टकट उपयोग किया जाता है?

- Ans
- 1. Alt + N
 - 2. Ctrl + N
 - 3. Ctrl + Tab
 - 4. Alt + Tab

Question ID : 26433095327
Status : Not Answered
Chosen Option : --

Q.3 एमएस-एक्सेल 2010 (MS-Excel 2010) शीट में, टेक्स्ट ओवरफ्लो समस्या वाले सेल को _____ द्वारा ठीक किया जा सकता है।

- Ans
- 1. टेक्स्ट रैपिंग (Text Wrapping)
 - 2. टेक्स्ट मर्जिंग (Text Merging)
 - 3. टेक्स्ट अलाइनिंग (Text Aligning)
 - 4. टेक्स्ट बम्पिंग (Text Bumping)

Question ID : 26433095369
Status : Not Answered
Chosen Option : --

Q.4 फेसबुक एक _____ है।

- Ans
- 1. सोशल नेटवर्क साइट (Social network site)
 - 2. इंटरनेट सेवा प्रदाता (Internet service provider)
 - 3. ब्राउज़र (Browser)
 - 4. सर्च इंजन (Search engine)

Question ID : 26433095456
Status : Answered
Chosen Option : 1

Q.5 एमएस-एक्सेल 2010 (MS-Excel 2010) के संबंध में गलत विकल्प चुनें।

- Ans
- 1. एमएस-एक्सेल 2010 (MS-Excel 2010) में, हम किसी सेल (cell) में कमेंट प्रविष्ट कर सकते हैं।
 - 2. एमएस-एक्सेल 2010 (MS-Excel 2010) में, हम F12 का उपयोग करके फाइल को सेव कर सकते हैं।
 - 3. एमएस-एक्सेल 2010 (MS-Excel 2010) में, एक नई रिक्त (ब्लैंक) फ़ाइल खोलने के लिए Ctrl+O का उपयोग किया जाता है।
 - 4. एमएस-एक्सेल 2010 (MS-Excel 2010) में, हम इन्सर्ट टैब से टेबल प्रविष्ट कर सकते हैं।

Question ID : 26433095424
Status : Answered
Chosen Option : 3

Q.6 निम्नलिखित में से क्या एक वेब मेल प्रोवाइडर नहीं है?

- Ans
- 1. याहू (Yahoo)
 - 2. जीमेल (Gmail)
 - 3. आउटलुक (Outlook)
 - 4. बाईडू (Baidu)

Question ID : 26433095365
Status : Answered
Chosen Option : 4

Q.7 एमएस-एक्सेल 2010 में संपूर्ण वर्कशीट (worksheet) को सेलेक्ट करने के लिए _____ शॉर्टकट कुंजी (key) का उपयोग किया जाता है।

- Ans
- 1. Ctrl+R
 - 2. Ctrl+A
 - 3. Shift+R
 - 4. ALT+A

Question ID : 26433095482
Status : Answered
Chosen Option : 2

Q.8 एमएस-एक्सेल (MS-Excel 2010) के रिबन में मौजूद, _____ का उपयोग वर्कशीट में विभिन्न ऑब्जेक्ट्स जैसे कि चित्र, चार्ट, पिवट टेबल, हाइपरलिंक, विशेष सिंबल, समीकरण, हेडर और फुटर को जोड़ने के लिए किया जाता है।

- Ans
- 1. फॉर्मूला (FORMULA)
 - 2. डाटा (DATA)
 - 3. फाइल (FILE)
 - 4. इन्सर्ट (INSERT)

Question ID : 26433095408
Status : Answered
Chosen Option : 4

Q.9 एमएस-वर्ड 2010 (MS-Word 2010) डॉक्यूमेंट में, हाइपरलिंक इन्सर्ट करने के लिए निम्नलिखित में से किस कीबोर्ड शॉर्टकट की (key) का उपयोग किया जा सकता है?

- Ans
- 1. Alt + K
 - 2. Alt + L
 - 3. Ctrl + K
 - 4. Ctrl + L

Question ID : 26433095353
Status : Answered
Chosen Option : 3

Q.10 सेल A5 में टाइप किए गए एक फॉर्मूला =A3+B4 पर विचार करें। यदि सेल A5 को कॉपी किया जाता है और सेल E9 में पेस्ट किया जाता है, तो सेल E9 में फॉर्मूला क्या होगा?

Ans 1. =A3+B4

2. =E8+F7

3. =B4+C5

4. =E7+F8

Question ID : 26433095359

Status : Answered

Chosen Option : 2