

Delhi Police
Head Constable
Previous Year Paper
(Ministerial) 14 Oct 2022
Shift 1

Head Constable Ministerial in Delhi Police Examination 2022

| | |
|----------------|---|
| Roll Number | |
| Candidate Name | |
| Venue Name | Yagyavalkya Institute of Technology |
| Exam Date | 14/10/2022 |
| Exam Time | 9:00 AM - 10:30 AM |
| Subject | Head Constable Ministerial in Delhi Police Examination 2022 |

Section : Part-A-General Awareness

Q.1 2021 में, दुनिया के सबसे बड़े क्रिकेट स्टेडियम, अहमदाबाद के नरेंद्र मोदी स्टेडियम ने अपने पहले अंतरराष्ट्रीय मैच की मेज़बानी की, जब भारत ने _____ के साथ तीसरा टेस्ट मैच खेला।

- Ans
- ☒ 1. दक्षिण अफ्रीका
 - ☒ 2. इंग्लैंड
 - ☒ 3. ऑस्ट्रेलिया
 - ☒ 4. न्यूज़ीलैंड

Question ID : 26433061816

Status : Answered

Chosen Option : 1

Q.2 भारत में गरीबी आकलन गतिविधियों पर ध्यान केंद्रित करने के लिए रंगराजन समिति का गठन किस वर्ष किया गया था?

- Ans
- ☒ 1. 2008 में
 - ☒ 2. 2012 में
 - ☒ 3. 2010 में
 - ☒ 4. 2011 में

Question ID : 26433081929

Status : Answered

Chosen Option : 2

Q.3 संशोधित आरबीआई अधिनियम के अंतर्गत मौद्रिक नीति समिति को वर्ष में कम से कम कितनी बैठक करनी चाहिए?

- Ans
- ☒ 1. दो बार
 - ☒ 2. चार बार
 - ☒ 3. तीन बार
 - ☒ 4. छः बार

Question ID : 26433059248

Status : Answered

Chosen Option : 2

Q.4 निम्नलिखित में से किसे बाद में शेरशाह सूरी के नाम से जाना जाने लगा?

- Ans
- ☒ 1. सलीम
 - ☒ 2. नासिर
 - ☒ 3. आदिल
 - ☒ 4. फरीद

Question ID : 26433064605

Status : Answered

Chosen Option : 4

Q.5 धमेक स्तूप भारत के निम्नलिखित में से किस राज्य में स्थित है?

- Ans
- ☐ 1. बिहार
 - ☐ 2. पंजाब
 - ☐ 3. मध्य प्रदेश
 - ☒ 4. उत्तर प्रदेश

Question ID : 26433064342
Status : Answered
Chosen Option : 3

Q.6 राजा राधा रेड्डी और कौशल्या रेड्डी की बेटी यामिनी रेड्डी एक _____ नृत्यांगना हैं।

- Ans
- ☐ 1. मणिपुरी
 - ☐ 2. कथक
 - ☒ 3. कुचिपुड़ी
 - ☐ 4. भरतनाट्यम

Question ID : 26433064312
Status : Answered
Chosen Option : 3

Q.7 निम्नलिखित में से कौन-सा भारतीय संविधान के अनुच्छेद 51A में सूचीबद्ध एक मौलिक कर्तव्य है?

- Ans
- ☐ 1. सहकारी समितियों को बढ़ावा देना
 - ☐ 2. समान न्याय और मुफ्त कानूनी सहायता प्रदान करना
 - ☒ 3. हमारी मिश्रित संस्कृति की समृद्ध विरासत को महत्व देना और उसे संरक्षित करना
 - ☐ 4. अंतर्राष्ट्रीय शांति और सुरक्षा को बढ़ावा देना

Question ID : 26433055177
Status : Answered
Chosen Option : 3

Q.8 भारत के योजना आयोग का स्थान लेने के लिए नीति (NITI) आयोग का गठन कब किया गया था?

- Ans
- ☒ 1. जनवरी 2015 में
 - ☐ 2. मई 2014 में
 - ☐ 3. अप्रैल 2017 में
 - ☐ 4. मई 2015 में

Question ID : 26433064509
Status : Answered
Chosen Option : 1

Q.9 जैव प्रौद्योगिकी विभाग के साथ साझेदारी में सीरम इंस्टीट्यूट ऑफ इंडिया द्वारा भारत का पहला स्वदेशी रूप से विकसित चतुःसंयोजी ह्यूमन पेपिलोमा वायरस (HPV) वैक्सीन सितंबर 2022 में किस प्रकार के कैंसर की रोकथाम के लिए शुरू की गई थी?

- Ans
- ☐ 1. थाइरॉइड कैंसर
 - ☐ 2. कोलोन कैंसर
 - ☐ 3. अंडाशयी कैंसर
 - ☒ 4. ग्रीवा कैंसर

Question ID : 26433095282
Status : Answered
Chosen Option : 4

Q.10 सुरेश तेंदुलकर समिति ने किस वर्ष अपनी रिपोर्ट प्रस्तुत की थी?

- Ans
- ☐ 1. 2008
 - ☐ 2. 2010
 - ☐ 3. 2007
 - ☒ 4. 2009

Question ID : 26433054997
Status : Answered
Chosen Option : 4

Q.11 दिसंबर 2021 में, ईपीएफओ (EPFO) ने विनिवेश के अंतर्गत निम्नलिखित में से किस संस्थान के कर्मचारियों को शामिल किया है?

- Ans
- ☒ 1. एयर इंडिया
 - ☐ 2. इलाहाबाद बैंक
 - ☐ 3. पीएमसी बैंक
 - ☐ 4. सेंट्रल इलेक्ट्रॉनिक्स लिमिटेड

Question ID : 26433055578
Status : Not Answered
Chosen Option : --

Q.12 केंद्रीय बजट 2022-23 के अनुसार, पी.एम. ई-विद्या (PM eVIDYA) कार्यक्रम के तहत 'एक वर्ग, एक टी.वी.' को 12 से _____ टी.वी. चैनलों तक विस्तारित करने का प्रस्ताव है।

- Ans
- ☐ 1. 50
 - ☐ 2. 100
 - ☒ 3. 200
 - ☐ 4. 150

Question ID : 26433054822
Status : Answered
Chosen Option : 3

Q.13 शब्द बजट (budget) की व्युत्पत्ति शब्द बौजेट (Bougette) से हुई है। यह 'Bougette' एक _____ शब्द है।

- Ans
- ☐ 1. अरबी
 - ☐ 2. जर्मन
 - ☐ 3. स्पेनिश
 - ☒ 4. फ्रेंच

Question ID : 26433059231
Status : Answered
Chosen Option : 2

Q.14 स्वामी विवेकानंद के गुरु निम्नलिखित में से कौन थे?

- Ans
- ☐ 1. महादेव गोविंद रानाडे
 - ☐ 2. बाल शास्त्री जांभेकर
 - ☐ 3. दयानंद सरस्वती
 - ☒ 4. रामकृष्ण परमहंस

Question ID : 26433055648
Status : Not Answered
Chosen Option : --

Q.15 सितंबर 2021 में, निम्नलिखित में से किस राज्य सरकार ने अति बृहत् एकीकरण (VLSI) और फैबलेस चिप डिजाइनिंग में नए उद्योगों का समर्थन करने के लिए, T-FACE (फैबलेस एक्सेलेरेटर थ्रू क्लाउड इनेबलमेंट) नामक एक आभासी उद्भवन मंच लॉन्च किया है?

- Ans
- ☒ 1. तमिलनाडु
 - ☒ 2. तेलंगाना
 - ☒ 3. कर्नाटक
 - ☒ 4. आंध्र प्रदेश

Question ID : 26433055559

Status : Not Answered

Chosen Option : --

Q.16 जुलाई 2022 में, जीवन विज्ञान मंत्रालय ने समुद्र के पानी को पेयजल में बदलने के लिए कम तापमान वाले थर्मल डिसेलिनेशन टेक्नालॉजी (thermal desalination technology) पर आधारित 3 विलवणन संयंत्रों का सफलतापूर्वक प्रदर्शन कहाँ किया था?

- Ans
- ☒ 1. निकोबार द्वीप
 - ☒ 2. अंडमान द्वीप
 - ☒ 3. लक्षद्वीप समूह
 - ☒ 4. भवानी द्वीप

Question ID : 26433095281

Status : Not Answered

Chosen Option : --

Q.17 मकर संक्रांति, _____ को समर्पित एक त्योहार है।

- Ans
- ☒ 1. शनि ग्रह
 - ☒ 2. तारों
 - ☒ 3. सूर्य
 - ☒ 4. मंगल ग्रह

Question ID : 26433066544

Status : Answered

Chosen Option : 3

Q.18 पुर्तगाली भारत के निम्नलिखित में से किस वायसराय ने 1510 में गोवा पर कब्जा कर लिया था?

- Ans
- ☒ 1. मार्टिम अल्फोंसो दे सूसा (Martim Alfonso de Sousa)
 - ☒ 2. डी फ्रांसिस्को दे अल्मेडा (D Francisco de Almeida)
 - ☒ 3. डी एस्टेवाओ दा गामा (D Estevao da Gama)
 - ☒ 4. अफोंसो दे अल्बुकर्क (Afonso de Albuquerque)

Question ID : 26433065545

Status : Answered

Chosen Option : 3

Q.19 वर्ष 2020-21 में भारत के कुल मक्का उत्पादन (मिलियन टन में) में किस राज्य का सर्वाधिक योगदान रहा?

- Ans
- ☒ 1. कर्नाटक
 - ☒ 2. गुजरात
 - ☒ 3. महाराष्ट्र
 - ☒ 4. हिमाचल प्रदेश

Question ID : 26433067171

Status : Answered

Chosen Option : 3

Q.20 सुंदरवन डेल्टा के निर्माण में गंगा, ब्रह्मपुत्र और उनकी सहायक नदियाँ योगदान करती हैं। डेल्टा के निर्माण में नदियों का कौन-सा समूह योगदान नहीं देता है?

- Ans ☒ 1. नर्मदा और तापी
☒ 2. यमुना और घाघरा
☒ 3. गंडक और कोसी
☒ 4. चंबल और बेतवा

Question ID : 26433055658
Status : Answered
Chosen Option : 1

Section : Part-B-Quantitative Aptitude

Q.1 $\frac{x^2 + 8x + 16}{2x - 2} \times \frac{x^2 - 1}{x^2 + 5x + 4}$ का मान, जब $x = 2022$, _____ है।

- Ans ☒ 1. 1013
☒ 2. 1000
☒ 3. 1012
☒ 4. 1011

Question ID : 26433061341
Status : Answered
Chosen Option : 1

Q.2 एक व्यक्ति अपनी मासिक आय का 78% खर्च करता है और Rs.1,100 बचाता है। उसकी मासिक आय कितनी है?

- Ans ☒ 1. Rs.7,800
☒ 2. Rs.11,000
☒ 3. Rs.5,000
☒ 4. Rs.78,000

Question ID : 26433058120
Status : Answered
Chosen Option : 3

Q.3 दो वृत्त एक-दूसरे को बाह्यतः किसी बिंदु X पर स्पर्श करते हैं। AB, बिंदु A और बिंदु B पर वृत्तों को स्पर्श करने वाले दोनों वृत्तों की उभयनिष्ठ अनुस्पर्श रेखा है। यदि वृत्तों की त्रिज्याएँ क्रमशः 16 cm और 4 cm हैं, तो AB की लंबाई क्या होगी?

- Ans ☒ 1. 8 cm
☒ 2. 256 cm
☒ 3. 64 cm
☒ 4. 16 cm

Question ID : 26433062667
Status : Answered
Chosen Option : 4

Q.4 रूपा, शिल्पा को एक कंप्यूटर 20% हानि पर बेचती है। शिल्पा इसे नीलिमा को 20% लाभ पर बेचती है। यदि नीलिमा इसके लिए Rs.24,000 का भुगतान करती है, तो रूपा ने इसके लिए कितना भुगतान किया था?

- Ans ☒ 1. Rs.25,000
- ☐ 2. Rs.20,000
- ☐ 3. Rs.35,000
- ☐ 4. Rs.30,000

Question ID : 26433058404
Status : Answered
Chosen Option : 1

Q.5 36 और 12 के तीसरे अनुपातिक का वर्ग कितना है?

- Ans ☐ 1. 12
- ☐ 2. 3
- ☐ 3. 4
- ☒ 4. 16

Question ID : 26433061616
Status : Answered
Chosen Option : 2

Q.6 साधारण ब्याज की 4% वार्षिक दर से दो समान छमाही किश्तों में देय Rs.2,652 का वर्तमान मूल्य क्या होगा?

- Ans ☒ 1. Rs.2,575
- ☐ 2. Rs.2,435
- ☐ 3. Rs.2,875
- ☐ 4. Rs.2,654

Question ID : 26433061385
Status : Not Attempted and Marked For Review
Chosen Option : --

Q.7 दी गई तालिका एक कंपनी द्वारा वर्ष 2011 से 2015 तक चार प्रकार की मोटरसाइकिलों का उत्पादन दर्शाती है। तालिका का अध्ययन कीजिए और उसके बाद पूछे गए प्रश्न का उत्तर दीजिए।

| वर्ष/प्रकार | 2011 | 2012 | 2013 | 2014 | 2015 |
|-------------|------|------|------|------|------|
| A | 1032 | 1400 | 789 | 1478 | 545 |
| B | 1235 | 1521 | 938 | 1196 | 654 |
| C | 1152 | 1356 | 852 | 1350 | 210 |
| D | 1045 | 1589 | 951 | 1100 | 112 |

वर्ष 2015 में किस प्रकार की बाइक का न्यूनतम उत्पादन हुआ है?

- Ans ☐ 1. प्रकार-A
- ☒ 2. प्रकार-D
- ☐ 3. प्रकार-B
- ☐ 4. प्रकार-C

Question ID : 26433073096
Status : Answered
Chosen Option : 2

Q.8 दो संख्याओं का गुणनफल 800 है और उनका म. स. प. 20 है। संख्याओं का ल. स. प. ज्ञात कीजिए।

- Ans
- ☒ 1. 30
 - ☒ 2. 4.0
 - ☒ 3. 50
 - ☒ 4. 40

Question ID : 26433063438
Status : Answered
Chosen Option : 4

Q.9 यदि $(3x^2 + \frac{1}{2x^2}) = 2.5$ है, तो $(27x^6 + \frac{1}{8x^6})$ का मान क्या होगा?

- Ans
- ☒ 1. 5.125
 - ☒ 2. 6.275
 - ☒ 3. 3.325
 - ☒ 4. 4.375

Question ID : 26433061949
Status : Answered
Chosen Option : 4

Q.10 A, B की तुलना में दोगुना अच्छा कार्मिक है, और मिलकर वे एक कार्य को 14 दिनों में समाप्त करते हैं। वह कार्य अकेले प्रत्येक द्वारा कितने-कितने दिनों में पूरा किया जा सकता है?

- Ans
- ☒ 1. A = 42, B = 21
 - ☒ 2. A = 26, B = 52
 - ☒ 3. A = 21, B = 42
 - ☒ 4. A = 52, B = 26

Question ID : 26433063896
Status : Answered
Chosen Option : 3

Q.11 निम्नलिखित का मान त्रिकोणमितीय अनुपातों के पदों में ज्ञात करें।

$$\frac{\cot^2 A (\sec A - 1)}{1 + \sin A}$$

- Ans
- ☒ 1. $\frac{\sec^2 A (1 + \sin A)}{(1 - \sec A)}$
 - ☒ 2. $\frac{\sec^2 A (1 - \sin A)}{(1 + \sec A)}$
 - ☒ 3. $\frac{\cot^2 A (1 + \sin A)}{(1 - \sec A)}$
 - ☒ 4. $\frac{\cot^2 A (1 - \sin A)}{(1 - \sec A)}$

Question ID : 26433061934
Status : Not Attempted and Marked For Review
Chosen Option : --

Q.12 5% चक्रवृद्धि वार्षिक ब्याज की दर से 3 वर्षों में देय Rs.9,261 की राशि का मूलधन कितना होगा?

Ans ☒ 1. Rs.9,739

☒ 2. Rs.8,000

☒ 3. Rs.8,739

☒ 4. Rs.9,000

Question ID : 26433056327

Status : Answered

Chosen Option : 2

Q.13 एक व्यापारी खरीद पर 15% और बेचने पर 10% का धोखा देता है। उसे कितना प्रतिशत लाभ होता है?

Ans ☒ 1. 26.5% लाभ

☒ 2. 27.5% लाभ

☒ 3. 26% लाभ

☒ 4. 25% लाभ

Question ID : 26433063453

Status : Answered

Chosen Option : 1

Q.14 एक समद्विबाहु समलंब चतुर्भुज की समानांतर भुजाएं 20 cm और 34 cm हैं। यदि गैर-समानांतर भुजाओं में से एक की लंबाई 25 cm है, तो समलंब चतुर्भुज का क्षेत्रफल (cm² में) ज्ञात करें।

Ans ☒ 1. 648

☒ 2. 729

☒ 3. 675

☒ 4. 596

Question ID : 26433061916

Status : Answered

Chosen Option : 1

Q.15 $\frac{1}{6} + \frac{1}{12} + \frac{1}{20} + \frac{1}{30}$ का सरलीकृत रूप क्या होगा?

Ans ☒ 1. $\frac{1}{2}$

☒ 2. $\frac{1}{4}$

☒ 3. $\frac{1}{5}$

☒ 4. $\frac{1}{3}$

Question ID : 26433063366

Status : Answered

Chosen Option : 4

Q.16 एक दुकानदार ने एक बिजली के पंखे को Rs.1,800 में बेचा और 10% छूट पर Rs.200 का लाभ प्राप्त किया। यदि कोई छूट न दी गई होती तो उसका लाभ क्या होता?

- Ans ☒ 1. 25%
☒ 2. 20%
☒ 3. 27%
☒ 4. $22\frac{2}{9}\%$

Question ID : 26433073108

Status : Answered

Chosen Option : 1

Q.17 एक ठोस गोले को उसके केंद्र से दो बराबर भागों में काटा जाता है। यदि गोले की त्रिज्या 7 cm है, तो प्रत्येक भाग का संपूर्ण पृष्ठीय क्षेत्रफल क्या है?

- Ans ☒ 1. 462 cm^2
☒ 2. 231 cm^2
☒ 3. 308 cm^2
☒ 4. 154 cm^2

Question ID : 26433058158

Status : Answered

Chosen Option : 1

Q.18 अमित और बीनू 400 m की दौड़ क्रमशः 44 सेकंड और 50 सेकंड में पूरी कर सकते हैं। जब अमित दौड़ पूरी कर लेता है, तो बीनू समापन रेखा से कितनी दूर होती है?

- Ans ☒ 1. 48 m
☒ 2. 52 m
☒ 3. 45 m
☒ 4. 50 m

Question ID : 26433061276

Status : Answered

Chosen Option : 1

Q.19 कक्षा 12 में, R के पास दो भाषा-विषय और तीन विज्ञान-विषय हैं। भाषा विषयों में उसके औसत अंक 65 हैं और उसके कुल औसत अंक 72 हैं। विज्ञान विषयों में उसके औसत अंक क्या हैं?

- Ans ☒ 1. 82.5
☒ 2. 76.67
☒ 3. 79
☒ 4. 77.67

Question ID : 26433071242

Status : Answered

Chosen Option : 2

Q.20 3 पुरुष और 8 महिलाएं एक काम को $\frac{75}{8}$ दिनों में पूरा कर सकते हैं, जबकि 9 पुरुष और 12 महिलाएं इसे $\frac{25}{7}$ दिनों में पूरा कर सकते हैं। 15 महिलाएं इसे कितने दिनों में पूरा करेंगी?

- Ans
- ☒ 1. 24
 - ☒ 2. 18
 - ☒ 3. 20
 - ☒ 4. 22

Question ID : 26433056338
Status : Answered
Chosen Option : 3

Section : Part-C-General Intelligence

Q.1 आठ व्यक्ति दो समानांतर पंक्तियों में बैठे हैं। प्रत्येक पंक्ति में चार व्यक्ति हैं और वो इस प्रकार बैठे हैं कि पास बैठे व्यक्तियों के बीच समान दूरी है। पहली पंक्ति में J, K, L और M बैठे हैं और उन सभी का मुख दक्षिण की ओर है। दूसरी पंक्ति में E, F, G और H बैठे हैं और उन सभी का मुख उत्तर की ओर है। इस प्रकार प्रत्येक व्यक्ति दूसरी पंक्ति के अन्य व्यक्ति के ठीक सामने बैठा है। G, E के बाएँ से तीसरे स्थान पर बैठा है। H की ओर मुख किए बैठा व्यक्ति J के ठीक दाएँ बैठा है। K, J के दाएँ से तीसरे स्थान पर बैठा है। L, F के सामने बैठा है, निम्नलिखित में से किस व्यक्ति का मुख E की ओर है?

- Ans
- ☒ 1. J
 - ☒ 2. K
 - ☒ 3. L
 - ☒ 4. M

Question ID : 26433080712
Status : Answered
Chosen Option : 1

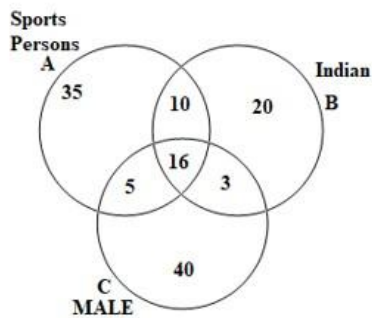
Q.2 एक निश्चित कूट भाषा में, 'ALLOW' को 'YSNPC' और 'UNION' को 'PSKRW' के रूप में लिखा जाता है। इसी कूट भाषा में 'VOICE' को किस प्रकार लिखा जाएगा?

- Ans
- ☒ 1. XSKGG
 - ☒ 2. GGKSX
 - ☒ 3. GGKYS
 - ☒ 4. SXGKG

Question ID : 26433057270
Status : Answered
Chosen Option : 2

Q.3 दिए गए आरेख का ध्यानपूर्वक अध्ययन कीजिए और प्रश्न का उत्तर दीजिए।

विभिन्न सेक्शनों की संख्याएँ व्यक्तियों की संख्या को दर्शाती हैं।



कुल कितने भारतीय (Indian) हैं?

- Ans
- ☒ 1. 46
 - ☒ 2. 33
 - ☒ 3. 49
 - ☒ 4. 20

Question ID : 26433069672

Status : Answered

Chosen Option : 3

Q.4 दिए गए समीकरण को संतुलित करने के लिए संख्याओं के किन दो समूहों को आपस में बदला जाना चाहिए?

$$284 \div 6 + 144 \times 4 - 326 \div 163 \times 125 = 27 \times 25 + 30 \times 4$$

- Ans
- ☒ 1. (284 और 326), तथा (6 और 4)
 - ☒ 2. (284 और 144), तथा (25 और 30)
 - ☒ 3. (6 और 4), तथा (27 और 30)
 - ☒ 4. (284 और 144), तथा (25 और 4)

Question ID : 26433056528

Status : Answered

Chosen Option : 1

Q.5 निम्नलिखित में से कौन-सा विकल्प दिए गए शब्दों के उस सही क्रम का निरूपण करता है, जिस क्रम में वे अंग्रेजी

शब्दकोश में दिखाई देते हैं?

- 1 Sovereignty
- 2 Sociability
- 3 Socialistic
- 4 Soteriology
- 5 Southeaster

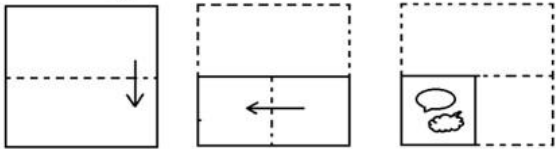
- Ans
- ☒ 1. 5, 2, 3, 1, 4
 - ☒ 2. 2, 3, 4, 5, 1
 - ☒ 3. 5, 2, 1, 3, 4
 - ☒ 4. 5, 2, 4, 1, 3

Question ID : 26433085333

Status : Answered


Chosen Option : 2

Q.6 कागज के एक टुकड़े को मोड़ने का क्रम और मोड़े गए कागज को काटने का तरीका नीचे दर्शाया गया है। उस आकृति का चयन करें जो कागज को खोलने पर उसके खुले रूप से सबसे अधिक मिलती जुलती होगी।




Ans


✗ 1.




✓ 2.



✗ 3.



✗ 4.



Question ID : 26433067447
Status : Answered
Chosen Option : 2

Q.7 A % B का अर्थ है, 'A, B का बेटा है'।
A # B का अर्थ है, 'A, B की बेटी है'।
A & B का अर्थ है, 'A, B का भाई है'।
A @ B का अर्थ है, 'A, B की बहन है'।

W @ Q % R & S & T में, W का T से क्या संबंध है?

- Ans
- ✗ 1. बेटे का बेटा (पौत्र)
 - ✗ 2. आंटी (चाची)
 - ✗ 3. माँ
 - ✓ 4. भाई की बेटी (भतीजी)

Question ID : 26433067508
Status : Answered
Chosen Option : 4

Q.8 उस विकल्प का चयन करें जो तीसरे पद से उसी प्रकार संबंधित है जिस प्रकार दूसरा पद पहले पद से और छठा पद पांचवें पद से संबंधित है।

$\left[\frac{1}{54}\right] : \left[\frac{1}{67}\right] :: \left[\frac{1}{68}\right] : ? :: \left[\frac{1}{46}\right] : \left[\frac{1}{59}\right]$

- Ans
- ✓ 1. $\left[\frac{1}{81}\right]$
 - ✗ 2. $\left[\frac{1}{85}\right]$
 - ✗ 3. $\left[\frac{1}{83}\right]$
 - ✗ 4. $\left[\frac{1}{77}\right]$

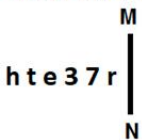
Question ID : 26433057565
Status : Answered
Chosen Option : 1

Q.9 दिए गए विकल्पों में से उन संख्याओं को चुनिए, जो निम्नलिखित श्रृंखला में प्रश्न-चिह्न (?) को प्रतिस्थापित कर सके।
69, 73, 67, 75, ?, ?, 63, 79, 61

- Ans
- ✗ 1. 65, 79
 - ✗ 2. 65, 76
 - ✗ 3. 60, 75
 - ✓ 4. 65, 77

Question ID : 26433057048
Status : Answered
Chosen Option : 4

Q.10 यदि दर्पण को नीचे दर्शाए गए अनुसार MN पर रखा जाए, तो दी गई आकृति के सही दर्पण प्रतिबिम्ब का चयन कीजिए।



- Ans
- ✓ 1.
 - ✗ 2.
 - ✗ 3.
 - ✗ 4.

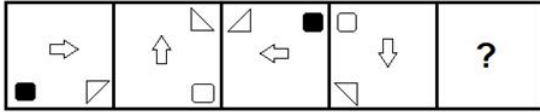
Question ID : 26433056985
Status : Answered
Chosen Option : 1

Q.11 एक निश्चित कूट भाषा में, 'THINK' को '208181411' लिखा जाता है और 'DECIDE' को '410318410' लिखा जाता है। उसी भाषा में 'IMPLEMENT' को क्या लिखा जाएगा?

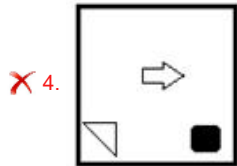
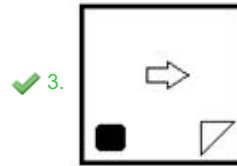
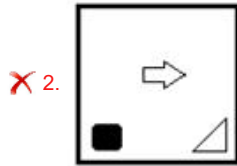
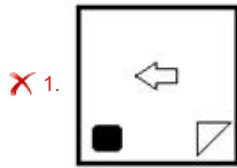
- Ans
- ✗ 1. 913161251351420
 - ✓ 2. 181316121013101420
 - ✗ 3. 1813161213101420
 - ✗ 4. 91316121351420

Question ID : 26433065604
Status : Answered
Chosen Option : 2

Q.12 प्रस्तुत विकल्पों में से वह आकृति चुनिए, जो निम्नलिखित श्रृंखला में प्रश्न-चिह्न (?) को प्रतिस्थापित कर सके।



Ans



Question ID : 26433055951

Status : Answered

Chosen Option : 3

Q.13 तीन कथनों के बाद I, II और III अंकित करके तीन निष्कर्ष प्रस्तुत हैं। कथनों को सत्य मानकर आप तय करें कि कौन निष्कर्ष तार्किक रूप से उन कथनों का अनुपालन करता है/करते हैं, भले ही वे सामान्य ज्ञात तथ्यों से भिन्न लगते हों।

निष्कर्ष:

सभी बस, ट्रक हैं।

सभी मोटरबाइक, ट्रक हैं।

सभी कार, ट्रक हैं।

Conclusions:

I. कुछ ट्रक, मोटरबाइक हैं।

II. कुछ कार, मोटरबाइक हैं।

III. कुछ ट्रक, बस हैं।

Ans

✗ 1. सभी कथन अनुपालन करते हैं

✗ 2. केवल कथन II और III अनुपालन करते हैं

✗ 3. केवल कथन I और II अनुपालन करते हैं

✓ 4. केवल कथन I और III अनुपालन करते हैं

Question ID : 26433076533

Status : Answered

Chosen Option : 1

Q.14 'A ÷ B' का अर्थ है कि 'A, B का पिता है'।
'A * B' का अर्थ है कि 'A, B का भाई है'।
'A + B' का अर्थ है कि 'A, B की माता है'।
'A - B' का अर्थ है कि 'A, B की बहन है'।

यदि $P + Q + R - S \div T * U$ है, तो T का Q से क्या संबंध है?

- Ans ☒ 1. पौत्र
☒ 2. भाई
☒ 3. पुत्र
☒ 4. भतीजा

Question ID : 26433056416

Status : Answered

Chosen Option : 1

Q.15 A, B, C, D, E, F, G और H एक वर्गाकार मेज के चारों ओर मेज के केंद्र की ओर मुख करके बैठे हैं। उनमें से कुछ कोनों पर बैठे हैं, जबकि कुछ भुजाओं के ठीक केंद्र में बैठे हैं। A एक भुजा के केंद्र में बैठा है। B, A के दाएँ से दूसरे स्थान पर बैठा है। B और C के बीच केवल तीन व्यक्ति बैठे हैं। F न तो C का निकटतम पड़ोसी है और न ही B का। E, F के दाएँ से तीसरे स्थान पर बैठा है। G, A का निकटतम पड़ोसी है। H, D के दाएँ से दूसरे स्थान पर बैठा है। G के बाएँ से तीसरे स्थान पर कौन बैठा है?

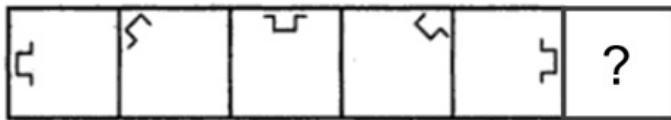
- Ans ☒ 1. B
☒ 2. C
☒ 3. D
☒ 4. H

Question ID : 26433058024

Status : Answered

Chosen Option : 2

Q.16 दिए गए विकल्पों में से उस आकृति का चयन करें जो निम्नलिखित श्रृंखला में प्रश्नवाचक चिह्न (?) का स्थान ले सकती है।



Ans

✗ 1.



✓ 2.



✗ 3.



✗ 4.



Question ID : 26433080528

Status : Answered

Chosen Option : 1

Q.17 विकल्पों में से कौन सा अक्षर-समूह प्रश्नवाचक चिह्न (?) को प्रतिस्थापित करके दी गई श्रेणी को पूरा करेगा?

ABCD, BCDE, ?, DEFG, EFGH

Ans

✗ 1. CDFE

✗ 2. CBDE

✓ 3. CDEF

✗ 4. CBGH

Question ID : 26433065584

Status : Answered

Chosen Option : 3

Q.18 उस समुच्चय का चयन करें जिसमें दी गई संख्याएं आपस में उसी प्रकार संबंधित हैं, जिस प्रकार प्रश्न में दिए गए समुच्चय की संख्याएं आपस में संबंधित हैं।
(नोट: संख्याओं को उनके घटक अंकों में तोड़े बिना, पूर्ण संख्याओं पर गणितीय संक्रियाएं की जानी चाहिए। जैसे, 13 के मामले में - 13 पर विभिन्न गणितीय संक्रियाएं जैसे 13 में जोड़ना / घटाना / गुणा करना आदि की जा सकती हैं। लेकिन 13 को 1 और 3 में तोड़ने और फिर 1 और 3 पर गणितीय संक्रियाएं करने की अनुमति नहीं है।)
(68, 15, 204)
(20, 67, 268)

- Ans
- ☒ 1. (54, 89, 438)
 - ☒ 2. (38, 72, 385)
 - ☒ 3. (41, 75, 515)
 - ☒ 4. (65, 27, 351)

Question ID : 26433074772

Status : Not Attempted and
Marked For Review

Chosen Option : --

Q.19 अक्षरों के उस संयोजन का चयन कीजिए, जिसे दी गई श्रृंखला के रिक्त स्थानों में क्रमानुसार रखने पर, श्रृंखला पूर्ण हो जाएगी।
TG_WUGR_VGR_W_RW

- Ans
- ☒ 1. RWWG
 - ☒ 2. RWVG
 - ☒ 3. WRVG
 - ☒ 4. VRGW

Question ID : 26433057813

Status : Answered

Chosen Option : 1

Q.20 दिए गए समीकरण को सही (संतुलित) बनाने के लिए किन दो गणितीय चिह्नों को आपस में बदलना होगा?
 $160 - 32 \times 3 + 26 \div 17 = 24$

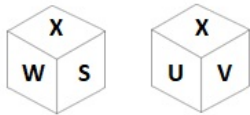
- Ans
- ☒ 1. + और -
 - ☒ 2. \times और -
 - ☒ 3. - और +
 - ☒ 4. + और \times

Question ID : 26433056847

Status : Answered

Chosen Option : 1

Q.21 एक पासे के विभिन्न फलकों पर छः अक्षर S, T, U, V, W और X लिखे गए हैं। इस पासे की दो स्थितियाँ दी गई आकृतियों में दर्शाई गई हैं। W के विपरीत फलक पर अक्षर ज्ञात कीजिए।



Ans ☒ 1. X
☒ 2. S
☒ 3. U
☒ 4. V

Question ID : 26433067532
 Status : Answered
 Chosen Option : 3

Q.22 अंग्रेजी वर्णमाला क्रम में स्थिति के आधार पर, निम्नलिखित में से तीन अक्षर-समूह किसी न किसी रूप में संगत हैं और एक असंगत है। असंगत अक्षर-समूह का चयन करें।

Ans ☒ 1. MPUT
☒ 2. SUZY
☒ 3. PRVV
☒ 4. QSWX

Question ID : 26433095720
 Status : Answered
 Chosen Option : 1

Q.23 निम्नलिखित में से कौन-सी संख्या दी गई श्रृंखला में प्रश्न चिह्न (?) को प्रतिस्थापित करेगी?
 2, 6, 17, 53, 156, ?

Ans ☒ 1. 493
☒ 2. 480
☒ 3. 466
☒ 4. 472

Question ID : 26433057555
 Status : Answered
 Chosen Option : 3

Q.24 उस विकल्प का चयन कीजिए जो पांचवें अक्षर समूह से उसी तरह संबंधित है जिस तरह दूसरा अक्षर समूह पहले अक्षर समूह से संबंधित है और चौथा अक्षर समूह तीसरे अक्षर समूह से संबंधित है।
 NRPAT : CKETI :: HENTO : WXCMD :: PODSA : ?

Ans ☒ 1. HSPLE
☒ 2. EPSHE
☒ 3. HSECH
☒ 4. EHSPL

Question ID : 26433074706
 Status : Not Attempted and Marked For Review
 Chosen Option : --

Q.25 उस विकल्प का चयन करें, जो पाँचवें अक्षर-समूह से उसी प्रकार संबंधित है, जैसे दूसरा अक्षर-समूह पहले अक्षर-समूह से संबंधित है और चौथा अक्षर-समूह तीसरे अक्षर-समूह से संबंधित है।
JOB : RMZ :: TOM : HMO :: NOT : ?

- Ans ☒ 1. MMH
☒ 2. NNH
☒ 3. NMG
☒ 4. NMH

Question ID : 26433056667

Status : Not Attempted and
Marked For Review

Chosen Option : --

Section : Part-D- English Language

Q.1 Select the most appropriate option to fill in the blank.

Due to their recent illness, they have become_____.

- Ans ☒ 1. wick
☒ 2. wink
☒ 3. week
☒ 4. weak

Question ID : 26433058304

Status : Answered

Chosen Option : 4

Q.2 Select the most appropriate synonym of the underlined word in the given sentence.
They fought a courageous battle.

- Ans ☒ 1. timid
☒ 2. encourage
☒ 3. valiant
☒ 4. cowardly

Question ID : 26433055506

Status : Answered

Chosen Option : 2

Q.3 Select the option that can be used as a one-word substitute for the given group of words.

A soldier who fights for the sake of money

- Ans ☒ 1. Mercenary
☒ 2. Marine
☒ 3. Patriot
☒ 4. Nationalist

Question ID : 26433060786

Status : Answered

Chosen Option : 4

Q.4 Select the most appropriate option to substitute the underlined segment in the given sentence.

It's a fact that we need to preserve various plants and animals for sustaining the balance of ecosystem on this planet.

- Ans
- ☒ 1. natural elements
 - ☒ 2. species
 - ☒ 3. flora and fauna
 - ☒ 4. non-human beings

Question ID : 26433066413
Status : Answered
Chosen Option : 1

Q.5 Select the most appropriate option to fill in the blank.

A sanctuary can be _____ as a place where humans are passive and the rest of nature is dynamic and vibrant.

- Ans
- ☒ 1. demonstrated
 - ☒ 2. used
 - ☒ 3. envisioned
 - ☒ 4. considered

Question ID : 26433070602
Status : Answered
Chosen Option : 4

Q.6 In the following questions a statement has been given with highlighted text. Select the options that can replace the text with correct idiom or phrase.
He is facing the consequences of his corrupt practices.

- Ans
- ☒ 1. Facing the music
 - ☒ 2. Your guess is as good as mine
 - ☒ 3. Beat around the bush
 - ☒ 4. Break new ground

Question ID : 26433058301
Status : Not Answered
Chosen Option : --

Q.7 Select the INCORRECTLY spelt word

- Ans
- ☒ 1. Humongous
 - ☒ 2. Acrimonious
 - ☒ 3. Reservoir
 - ☒ 4. Sacriledge

Question ID : 26433055865
Status : Answered
Chosen Option : 1

Q.8 Select the most appropriate homonym to fill in the blank.

A huge _____ will be erected outdoors for the birthday celebrations.

- Ans
- ☒ 1. tend
 - ☒ 2. dent
 - ☒ 3. tenth
 - ☒ 4. tent

Question ID : 26433058376
Status : Not Answered
Chosen Option : --

Q.9 Select the most appropriate synonym of the given word.

Comely

- Ans
- ☒ 1. Prudent
 - ☒ 2. Pretty
 - ☒ 3. Cruel
 - ☒ 4. Nosey

Question ID : 26433058324
Status : Not Answered
Chosen Option : --

Q.10 Select the most appropriate synonym of the given word.

Peevish

- Ans
- ☒ 1. Bad tempered
 - ☒ 2. Mild tempered
 - ☒ 3. Sleepy
 - ☒ 4. Shy

Question ID : 26433055857
Status : Not Answered
Chosen Option : --

Q.11 Select the most appropriate option that can substitute the underlined segment in the given sentence. If there is no need to substitute it, select 'No substitution required'.

Swami is looking forward to go back to college.

- Ans
- ☒ 1. to going back to college
 - ☒ 2. No substitution required
 - ☒ 3. going back to college
 - ☒ 4. for going back to college

Question ID : 26433063628
Status : Answered
Chosen Option : 1

Q.12 Select the most appropriate synonym of the highlighted word in the following sentence.

Mary's apathy towards studies is a matter of concern for her parents.

- Ans ☒ 1. Disgrace
☒ 2. Dishonesty
☒ 3. Disappointment
☒ 4. Disinterest

Question ID : 26433065214
Status : Answered
Chosen Option : 1

Q.13 Sentences of a paragraph are given below in jumbled order. Arrange the sentences in the correct order to form a meaningful and coherent paragraph.

- A.It is very difficult to find a true and honest politician who works for the welfare of the people in the current era.
B.As this is a service-oriented profession and those who want to make money should not enter politics.
C.These political leaders should study the lives of true democratic leaders who left the world without possessing even a single bedroom house after holding high offices.
D.Politics has become a profit yielding business and some millionaires are entering politics for making more and more money.

@Qmaths

- Ans ☒ 1. ABCD
☒ 2. BCDA
☒ 3. ACBD
☒ 4. CADB

Question ID : 26433072579
Status : Answered
Chosen Option : 4

Q.14 The following sentence has been divided into parts. One of them may contain an error. Select the part that contains the error from the given options. If you don't find any error, mark 'No error' as your answer.
Try whatever you want, / but you should never / get the job unless I allow it.

- Ans ☒ 1. Try whatever you want
☒ 2. get the job unless I allow it
☒ 3. but you should never
☒ 4. No error

Question ID : 26433059065
Status : Not Answered
Chosen Option : --

Q.15 The following sentence has been divided into parts. One of them may contain an error. Select the part that contains the error from the given options. If you don't find any error, mark 'No error' as your answer.

Myself baked / this cake / today.

- Ans ☒ 1. No error
☒ 2. Myself baked
☒ 3. today
☒ 4. this cake

Question ID : 26433061480
Status : Answered
Chosen Option : 2

Q.16 Select the INCORRECTLY spelt word.

- Ans ☒ 1. Aerosal
☒ 2. Pungent
☒ 3. Smelly
☒ 4. Carbonated

Question ID : 26433055469
Status : Answered
Chosen Option : 1

Q.17 Select the most appropriate option to fill in the blank.
I began to think of my duty. Should I fight for my rights or go back _____ India?

- Ans ☒ 1. with
☒ 2. for
☒ 3. on
☒ 4. to

@Qmaths

Question ID : 26433063550
Status : Answered
Chosen Option : 4

Q.18 Select the option that can be used as a one-word substitute for the given group of words.
Fill up again

- Ans ☒ 1. Replenish
☒ 2. Repine
☒ 3. Repot
☒ 4. Reprehend

Question ID : 26433060497
Status : Not Answered
Chosen Option : --

Q.19 Parts of a sentence are given below in jumbled order. Arrange the parts in the correct order to form a meaningful sentence.

A good / the best / of a man / book / is / friend

- Ans ☒ 1. A good book friend is the best of a man.
☒ 2. A good book is the best friend of a man.
☒ 3. Friend is the best a good book of a man.
☒ 4. The best of a man is a good friend book.

Question ID : 26433059608
Status : Answered
Chosen Option : 2

Q.20 Select the most appropriate meaning of the given idiom.
Play devil's advocate

- Ans ☒ 1. Influenced by the devil
☒ 2. To argue the opposite, just for the sake of argument
☒ 3. Arguing in favour of the right
☒ 4. A good advocate

Question ID : 26433066129
Status : Not Answered
Chosen Option : --

Comprehension:

In the following passage, some words have been deleted. Read the passage carefully and select the most appropriate option to fill in each blank.

With Siya's next step she was standing (1) _____ a lake, and the candlelight shone brightly on the water. She was walking through the mountains, (2) _____ lonely crags, where the candlelight was reflected in the eyes of the creatures of the high snows. She (3) _____ a chariot being pulled. She could hear the (4) _____ of water as it splashed and sang its way into a small (5) _____.

SubQuestion No : 21

Q.21 Select the most appropriate option to fill in blank number 1.

- Ans ☒ 1. along
☒ 2. at
☒ 3. by
☒ 4. before

Question ID : 26433058842
Status : **Answered**
Chosen Option : 2

Comprehension:

In the following passage, some words have been deleted. Read the passage carefully and select the most appropriate option to fill in each blank.

With Siya's next step she was standing (1) _____ a lake, and the candlelight shone brightly on the water. She was walking through the mountains, (2) _____ lonely crags, where the candlelight was reflected in the eyes of the creatures of the high snows. She (3) _____ a chariot being pulled. She could hear the (4) _____ of water as it splashed and sang its way into a small (5) _____.

SubQuestion No : 22

Q.22 Select the most appropriate option to fill in blank number 2.

- Ans ☒ 1. into
☒ 2. on
☒ 3. through
☒ 4. upon

Question ID : 26433058843
Status : **Not Answered**
Chosen Option : --

Comprehension:

In the following passage, some words have been deleted. Read the passage carefully and select the most appropriate option to fill in each blank.

With Siya's next step she was standing (1) _____ a lake, and the candlelight shone brightly on the water. She was walking through the mountains, (2) _____ lonely crags, where the candlelight was reflected in the eyes of the creatures of the high snows. She (3) _____ a chariot being pulled. She could hear the (4) _____ of water as it splashed and sang its way into a small (5) _____.

SubQuestion No : 23

Q.23 Select the most appropriate option to fill in blank number 3.

- Ans ☒ 1. grimaced
☒ 2. piqued
☒ 3. ogled
☒ 4. glimpsed

Question ID : 26433058844
Status : **Not Answered**
Chosen Option : --

Comprehension:

In the following passage, some words have been deleted. Read the passage carefully and select the most appropriate option to fill in each blank.

With Siya's next step she was standing (1) _____ a lake, and the candlelight shone brightly on the water. She was walking through the mountains, (2) _____ lonely crags, where the candlelight was reflected in the eyes of the creatures of the high snows. She (3) _____ a chariot being pulled. She could hear the (4) _____ of water as it splashed and sang its way into a small (5) _____.

SubQuestion No : 24

Q.24 Select the most appropriate option to fill in blank number 4.

- Ans
- ☒ 1. whimper
 - ☒ 2. scream
 - ☒ 3. chuckle
 - ☒ 4. gust

Question ID : 26433058845
Status : Answered
Chosen Option : 2

Comprehension:

In the following passage, some words have been deleted. Read the passage carefully and select the most appropriate option to fill in each blank.

With Siya's next step she was standing (1) _____ a lake, and the candlelight shone brightly on the water. She was walking through the mountains, (2) _____ lonely crags, where the candlelight was reflected in the eyes of the creatures of the high snows. She (3) _____ a chariot being pulled. She could hear the (4) _____ of water as it splashed and sang its way into a small (5) _____.

SubQuestion No : 25

Q.25 Select the most appropriate option to fill in blank number 5.

- Ans
- ☒ 1. cauldron
 - ☒ 2. well
 - ☒ 3. brook
 - ☒ 4. utensil

Question ID : 26433058846
Status : Not Answered
Chosen Option : --

Section : Part-E- Computer Fundamentals

Q.1 एमएस-वर्ड 2010 में (MS-Word 2010), रो (rows) और कॉलम्स (columns) में डेटा की व्यवस्था को _____ कहा जाता है।

- Ans
- ☒ 1. रो (row)
 - ☒ 2. कॉलम (Column)
 - ☒ 3. टेबल (table)
 - ☒ 4. सेल (Cell)

Question ID : 26433095361
Status : Answered
Chosen Option : 3

Q.2 एमएस-वर्ड 2010 (MS-Word 2010) में निम्नलिखित में से किस कीबोर्ड शॉर्टकट की (shortcut key) का उपयोग पैराग्राफ स्पेसिंग को 1.5-लाइन स्पेसिंग में बदलने के लिए किया जाता है?

- Ans
- ☒ 1. Ctrl + 2
 - ☒ 2. Ctrl + 3
 - ☒ 3. Ctrl + 5
 - ☒ 4. Ctrl + 1

Question ID : 26433095294
Status : Not Answered
Chosen Option : --

Q.3 गूगल क्रोम में बुकमार्क बार को दिखाने या छिपाने के लिए निम्नलिखित में से कौन सा कीबोर्ड शॉर्टकट उपयोग किया जा सकता है?

- Ans
- ☒ 1. Ctrl + Shift + B
 - ☒ 2. Ctrl + Shift + K
 - ☒ 3. Ctrl + Shift + C
 - ☒ 4. Alt + Ctrl + K

@Qmaths

Question ID : 26433095297
Status : Answered
Chosen Option : 1

Q.4 निम्नलिखित में से कौन सा एमएस-एक्सेल 2010 में एक फंक्शन नहीं है?

- Ans
- ☒ 1. Sum()
 - ☒ 2. Avg()
 - ☒ 3. Max()
 - ☒ 4. Average()

Question ID : 26433095500
Status : Answered
Chosen Option : 3

Q.5 इंटरनेट एक्सप्लोरर एक वेब ब्राउजिंग सॉफ्टवेयर है, जिसे वर्ष 1995 में _____ द्वारा विकसित किया गया था।

- Ans
- ☒ 1. गूगल (Google)
 - ☒ 2. माइक्रोसॉफ्ट (Microsoft)
 - ☒ 3. मोज़िला (Mozilla)
 - ☒ 4. याहू (Yahoo)

Question ID : 26433095436
Status : Answered
Chosen Option : 3

Q.6 एमएस-एक्सेल 2010 में, डेटा टेबल पर _____ ऑपरेशन का उपयोग केवल उन रो (rows) को प्रदर्शित करने के लिए किया जाता है जो कुछ शर्तों को पूरा करती हैं और अन्य रो (rows) छिपी होती हैं।

- Ans
- ☒ 1. CHART
 - ☒ 2. FILTER
 - ☒ 3. SORT
 - ☒ 4. TABLE

Question ID : 26433095451
Status : Not Answered
Chosen Option : --

Q.7 Gmail में, जब आप कोई संदेश प्राप्त करते हैं और किसी ऐसे व्यक्ति को संदेश भेजना चाहते हैं जो To या Cc लाइनों पर न हो, तो आप क्या उपयोग करते हैं?

- Ans
- ☒ 1. रिपोर्ट स्पैम (Report Spam)
 - ☒ 2. फॉरवर्ड (Forward)
 - ☒ 3. प्रिंट (Print)
 - ☒ 4. शो ऑरिजिनल (Show original)

Question ID : 26433095545
Status : Answered
Chosen Option : 2

Q.8 एमएस-वर्ड 2010 (MS-Word 2010) में, कीबोर्ड शॉर्टकट Ctrl + X का उपयोग _____ के लिए किया जाता है।

- Ans
- ☒ 1. पूरे टेक्स्ट को सेलेक्ट करने
 - ☒ 2. सेलेक्टेड आइटमों को क्लिपबोर्ड में कट करने
 - ☒ 3. हाइलाइटेड सेलेक्शन को बोल्ड करने
 - ☒ 4. आप्शन को ओपन करने

@Qmaths

Question ID : 26433095302
Status : Answered
Chosen Option : 1

Q.9 एमएस-एक्सेल 2010 (MS-Excel 2010) में _____ शॉर्टकट की (key) का उपयोग डेटा टैब पर जाने के लिए किया जाता है।

- Ans
- ☒ 1. ALT+I
 - ☒ 2. ALT+A
 - ☒ 3. ALT+F
 - ☒ 4. ALT+N

Question ID : 26433095412
Status : Answered
Chosen Option : 1

Q.10 एमएस-एक्सेल 2010 में _____ का उपयोग शीट के भीतर टेक्स्ट खोजने में किया जाता है।

- Ans
- ☒ 1. Ctrl+T
 - ☒ 2. Alt+R
 - ☒ 3. Ctrl+F
 - ☒ 4. Alt+F

Question ID : 26433095453
Status : Answered
Chosen Option : 3