

**Delhi Police
Head Constable**

**Previous Year Paper
(Ministerial) 13 Oct 2022
Shift 3**

Head Constable Ministerial in Delhi Police Examination 2022

Roll Number	
Candidate Name	
Venue Name	Sri Balaji College Of Engineering And Technology
Exam Date	13/10/2022
Exam Time	5:00 PM - 6:30 PM
Subject	Head Constable Ministerial in Delhi Police Examination 2022

Section : Part-A-General Awareness

Q.1 बाल मुख्य रूप से निम्नलिखित में से किस प्रोटीन से बने होते हैं?

- Ans
- 1. ट्युबुलिन
 - 2. किरेटिन
 - 3. मायोसिन
 - 4. डिस्ट्रोफ़िन

Question ID : 26433095254

Status : Not Attempted and Marked For Review

Chosen Option : --

Q.2 कौन सा अधिकार भारत के किसी भी भाग में रहने और बसने का उपबंध करता है?

- Ans
- 1. स्वतंत्रता का अधिकार
 - 2. समानता का अधिकार
 - 3. शोषण के विरुद्ध अधिकार
 - 4. सांस्कृतिक और शैक्षणिक अधिकार

Question ID : 26433054083

Status : Answered

Chosen Option : 1

Q.3 निम्नलिखित में से किस हड़प्पा स्थल में पोतगाह जैसी संरचना पाई गई है?

- Ans
- 1. लोथल
 - 2. धोलावीरा
 - 3. आलमगीरपुर
 - 4. कालीबंगा

Question ID : 26433064353

Status : Marked For Review

Chosen Option : 1

Q.4 निम्नलिखित में से किस मंत्रालय ने भारतीय अंटार्कटिक विधेयक, 2022 पेश किया है, जिसका उद्देश्य अंटार्कटिक पर्यावरण के साथ-साथ आश्रित और संबद्ध पारिस्थितिकी तंत्र की रक्षा के लिए भारत के अपने राष्ट्रीय उपाय करना है?

- Ans
- 1. पृथ्वी विज्ञान मंत्रालय
 - 2. पर्यावरण, वन एवं जलवायु परिवर्तन मंत्रालय
 - 3. रक्षा मंत्रालय
 - 4. विज्ञान एवं प्रौद्योगिकी मंत्रालय

Question ID : 26433095269

Status : Answered

Chosen Option : 1

Q.5 कौन-सी नदी ब्रह्मगिरी की पहाड़ियों से निकलती है?

- Ans
- 1. कृष्णा
 - 2. पेरियार
 - 3. कावेरी
 - 4. शरावती

Question ID : 26433054988

Status : Not Attempted and Marked For Review

Chosen Option : --

Q.6 मुद्रा का वेग अधिकांशतः किस समयावधि में स्थिर होता है?

- Ans
- 1. अति दीर्घावधि
 - 2. दीर्घावधि
 - 3. दीर्घावधि और अति दीर्घावधि दोनों में
 - 4. अल्पावधि

Question ID : 26433059252

Status : Not Attempted and Marked For Review

Chosen Option : --

Q.7 निम्नलिखित में से कौन अखिल भारतीय मुस्लिम लीग से संबंधित नहीं था?

- Ans
- 1. आगा खान
 - 2. मुहम्मद अली जिन्ना
 - 3. मियां अब्दुल अज़ीज़
 - 4. बदरुद्दीन तैयबजी

Question ID : 26433055637

Status : Answered

Chosen Option : 4

Q.8 सितंबर 2021 में प्रधानमंत्री नरेंद्र मोदी द्वारा वर्चुअल तरीके से शुरू किया गया आयुष्मान भारत डिजिटल मिशन निम्नलिखित में से किसके जरिए नागरिकों को सशक्त बनाने में मदद करेगा?

- Ans
- 1. आधुनिक स्वास्थ्य सेवा प्रणालियाँ
 - 2. निःशुल्क स्वास्थ्य जाँच
 - 3. स्वास्थ्य और कल्याण पाठ्यक्रम
 - 4. आयुर्वेदिक उपचार प्रणालियाँ

Question ID : 26433061830

Status : Answered

Chosen Option : 1

Q.9 एकमात्र महिला सुल्तान, रजिया सुल्तान दिल्ली सल्तनत के निम्नलिखित सुल्तानों में से किसकी पुत्री थी?

- Ans
- 1. इल्तुतमिश
 - 2. मुईजुद्दीन कैकाबाद
 - 3. ऐरम शाह
 - 4. रुकनुद्दीन फ़िरोज़

Question ID : 26433065524

Status : Answered

Chosen Option : 1

Q.10 भारत की 2011 की जनगणना के अनुसार, राज्यों के किस समूह में महिला साक्षरता दर सबसे कम है?

- Ans 1. राजस्थान और बिहार
 2. मिजोरम और केरल
 3. सिक्किम और नागालैंड
 4. केरल और तमिलनाडु

Question ID : 26433071629
Status : Answered
Chosen Option : 1

Q.11 श्रम और रोजगार मंत्रालय श्रम संहिताओं को लागू करने से पहले प्रत्येक राज्य को साथ लेकर चलने का प्रयास कर रहा है और मौजूदा सामाजिक सुरक्षा योजनाओं, जैसे अनौपचारिक क्षेत्र के श्रमिकों के लिए पेंशन, को 2022 तक असंगठित क्षेत्र के डेटाबेस के साथ एकीकृत कर लिया जाएगा। कितनी श्रम संहिताएं हैं?

- Ans 1. दो
 2. एक
 3. तीन
 4. चार

Question ID : 26433055577
Status : Not Attempted and Marked For Review
Chosen Option : --

Q.12 निम्नलिखित में से कौन-सी संस्थाएँ MUDRA ऋण उपलब्ध नहीं कराती है?

- Ans 1. लघु-वित्त बैंक
 2. क्षेत्रीय ग्रामीण बैंक
 3. भारतीय रिज़र्व बैंक
 4. वाणिज्यिक बैंक

Question ID : 26433059240
Status : Answered
Chosen Option : 3

Q.13 हरिके बैराज, जहाँ से इंदिरा गांधी नहर (राजस्थान नहर) निकलती है, किस राज्य में स्थित है?

- Ans 1. पंजाब
 2. हिमाचल प्रदेश
 3. राजस्थान
 4. हरियाणा

Question ID : 26433054972
Status : Answered
Chosen Option : 4

Q.14 सत्रहवीं लोकसभा में सबसे अधिक सांसद भारत के निम्नलिखित में से किस राज्य से हैं?

- Ans 1. मध्य प्रदेश
 2. उत्तर प्रदेश
 3. राजस्थान
 4. ओडिशा

Question ID : 26433061820
Status : Answered
Chosen Option : 2

Q.15 पीएलएफएस (PLFS) के अनुसार, किसी व्यक्ति को तब बेरोजगार माना जाता है यदि वह _____ के लिए भी काम नहीं करता है।

- Ans 1. सप्ताह के दौरान किसी भी दिन 1 घंटा
 2. सप्ताह के दौरान किसी भी दिन 5 घंटे
 3. सप्ताह के दौरान किसी भी दिन 24 घंटे
 4. सप्ताह के दौरान किसी भी दिन 10 घंटे

Question ID : 26433055345
Status : Answered
Chosen Option : 4

Q.16 निम्नलिखित में से कौन 'गदर पार्टी' के गठन से संबंधित है?

- Ans 1. लाला हरदयाल
 2. लाला लाजपत राय
 3. बिपिन चंद्र पाल
 4. अरबिंदो घोष

Question ID : 26433055636
Status : Answered
Chosen Option : 1

Q.17 निम्नलिखित में से किस राज्य ने 'विजय हजारे ट्रॉफी 2021' जीती?

- Ans 1. पंजाब
 2. महाराष्ट्र
 3. तमिलनाडु
 4. हिमाचल प्रदेश

Question ID : 26433055581
Status : Answered
Chosen Option : 3

Q.18 'करगाम' भारत के निम्नलिखित में से किस राज्य का लोक नृत्य है?

- Ans 1. राजस्थान
 2. असम
 3. ओडिशा
 4. तमिलनाडु

Question ID : 26433064295
Status : Answered
Chosen Option : 3

Q.19 फूल देई त्योहार मुख्य रूप से भारत में _____ के लोगों द्वारा मनाया जाता है।

- Ans 1. गुजरात
 2. कर्नाटक
 3. उत्तराखंड
 4. सिक्किम

Question ID : 26433064331
Status : Answered
Chosen Option : 3

Q.20 निम्नलिखित में से किस विभूति ने भारत में हरित क्रांति की प्रस्तुति में महती भूमिका निभाई थी?

- Ans 1. एम.एस. स्वामीनाथन
 2. विरेंद्र लाल चोपड़ा
 3. मडप्पा महादेवप्पा
 4. वेंकटराव के. बदामी

Question ID : 26433059287
Status : Answered
Chosen Option : 1

Section : Part-B-Quantitative Aptitude

Q.1 यदि $p + q = 3$ और $p^3 + q^3 = 9$ है, तो $(p^2 + q^2)^2$ का मान क्या होगा?

- Ans 1. 25
 2. 2
 3. 4
 4. 5

Question ID : 26433062680
Status : Answered
Chosen Option : 1

Q.2 एक डीलर चीनी को 20% लाभ पर बेचता है और वास्तविक माप से 10% कम वजन का उपयोग करता है। उसका लाभ प्रतिशत ज्ञात करें।

- Ans 1. $35\frac{1}{3}\%$
 2. 30%
 3. 25%
 4. $33\frac{1}{3}\%$

Question ID : 26433058967
Status : Answered
Chosen Option : 4

Q.3 Rs.2,00,000 के बिल पर लागू, 46% की छूट तथा 35% और 8% की दो क्रमिक छूटों के बीच का अंतर कितना है?

- Ans 1. Rs.11,600
 2. Rs.11,500
 3. Rs.11,800
 4. Rs.11,700

Question ID : 26433064979
Status : Answered
Chosen Option : 1

Q.4 1547 m की दौड़ में अर्जुन 78 सेकंड में अंतिम बिंदु तक पहुँचता है, जबकि करण 91 सेकंड में अंतिम बिंदु तक पहुँचता है। अर्जुन, करण को कितनी दूरी से हराता है?

- Ans 1. 220 m
 2. 221 m
 3. 245 m
 4. 231 m

Question ID : 26433058240
Status : Answered
Chosen Option : 2

Q.5 Rs.1,800 की राशि को कुछ वर्षों के लिए 6% वार्षिक साधारण ब्याज दर पर निवेश किया जाता है। परिपक्वता पर देय ब्याज Rs.756 है। निवेश की समयावधि ज्ञात कीजिए।

- Ans 1. 6 वर्ष
 2. 7 वर्ष
 3. 5 वर्ष
 4. 8 वर्ष

Question ID : 26433061212
Status : Answered
Chosen Option : 2

Q.6 यदि $\cos(A - \alpha) = p$, $\sin(A - \beta) = q$ है, तो $\cos^2(\alpha - \beta) + 2pq \sin(\alpha - \beta)$ का मान ज्ञात कीजिए।

- Ans 1. $4p^2q^2$
 2. $p^2 - q^2$
 3. $p^2 + q^2$
 4. p^2q^2

Question ID : 26433058934
Status : Answered
Chosen Option : 3

Q.7 यदि A (12, 21), B (3, p) और C (9, 0), AC कर्ण वाले समकोण त्रिभुज के शीर्ष हैं, तो $p =$ _____।

- Ans 1. 4
 2. 6
 3. 3
 4. 5

Question ID : 26433056372
Status : Answered
Chosen Option : 3

Q.8 $\frac{17}{10} + \frac{52}{100} + \frac{37}{1000}$ का दशमलव रूप में योग ज्ञात कीजिए।

- Ans 1. 1.537
 2. 2.257
 3. 0.257
 4. 1.789

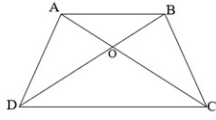
Question ID : 26433063671
Status : Answered
Chosen Option : 2

Q.9 यदि एक परिवार में, 24 दिनों के लिए गेहूं की खपत 60 kg है, तो 18 दिनों में गेहूं की खपत कितनी होगी?

- Ans 1. 27 kg
 2. 54 kg
 3. 72 kg
 4. 45 kg

Question ID : 26433058143
Status : Answered
Chosen Option : 4

Q.10 दी गई आकृति में, यदि $AB \parallel CD$, $AO=4$ cm; $OC=(4x - 2)$ cm; $OD=(2x+4)$ cm; $OB=(x+1)$ cm हैं, तो x का मान ज्ञात कीजिए।



- Ans 1. 1
 2. 2
 3. 0.5
 4. 3

Question ID : 26433074482
Status : Answered
Chosen Option : 4

Q.11 दो संख्याओं का योग 15 है और उनका अंतर उनके योग का $\frac{1}{5}$ है। इन दो संख्याओं का लघुत्तम समापवर्त्य (LCM) ज्ञात करें।

- Ans 1. 12
 2. 14
 3. 18
 4. 16

Question ID : 26433063359
Status : Answered
Chosen Option : 3

Q.12 पंद्रह पुरुष प्रतिदिन 12 घंटे कार्य करके एक घर को पूरा करने में 10 दिन लेते हैं। दस पुरुषों द्वारा इसी कार्य को 20 दिनों में पूरा करने के लिए प्रतिदिन कितने घंटे कार्य करना चाहिए?

- Ans 1. 9.5
 2. 6
 3. 9
 4. 8

Question ID : 26433058154
Status : Answered
Chosen Option : 3

Q.13 एक कंटेनर में 20% दूध और 80% पानी है। इसे एक अन्य नमूने (समान मात्रा में) के साथ मिलाया जाता है जिसमें 80% दूध और 20% पानी है। अंतिम मिश्रण में दूध का अंश क्या होगा?

- Ans
- 1. 80%
 - 2. 100%
 - 3. 50%
 - 4. 60%

Question ID : 26433071298
Status : Answered
Chosen Option : 3

Q.14 Rs.18,000 की राशि 18% की दर पर अर्धवार्षिक चक्रवृद्धि ब्याज पर उधार दी जाती है। यदि ऋण 18 महीने के बाद अदा किया जाता है और इसे निकटतम दस रुपये में पूर्णांकित कर दिया जाता है, तो चुकाया गया ब्याज _____ के बराबर होता है।

- Ans
- 1. Rs.5,230
 - 2. Rs.5,310
 - 3. Rs.5,050
 - 4. Rs.5,120

Question ID : 26433061313
Status : Answered
Chosen Option : 2

Q.15 5 cm त्रिज्या और 7 cm ऊँचाई वाले एक बेलन के संपूर्ण पृष्ठीय क्षेत्रफल और वक्र पृष्ठीय क्षेत्रफल के बीच का अंतर कितना है? ($\pi = 3.14$ लें)

- Ans
- 1. 155.7 cm²
 - 2. 159.2 cm²
 - 3. 157 cm²
 - 4. 159.3 cm²

Question ID : 26433058255
Status : Answered
Chosen Option : 3

Q.16 वर्ष 2019 की तुलना में 2020 में एक ऑटोमोबाइल कंपनी की बिक्री में 20% की वृद्धि हुई। हालांकि, 2021 में, यह पिछले वर्ष की तुलना में 20% कम हो गई। कंपनी ने यदि वर्ष 2019 में 6000 यूनिट बेची, तो 2021 में कितनी यूनिट बेची गई?

- Ans
- 1. 5760
 - 2. 5860
 - 3. 6000
 - 4. 5600

Question ID : 26433063301
Status : Answered
Chosen Option : 1

Q.17 एक समद्विबाहु त्रिभुज का असमान लंबाई वाली भुजा 16 cm और परिमाप 50 cm है। त्रिभुज का क्षेत्रफल (cm² में) ज्ञात करें।

- Ans
- 1. 120
 - 2. 240
 - 3. 136
 - 4. 200

Question ID : 26433061915
Status : Answered
Chosen Option : 1

Q.18 निम्न तालिका में एक परीक्षा में विभिन्न विषयों में पांच विद्यार्थियों के अंक (150 में से) दिए गए हैं।

विषय/छात्र	हिंदी	अंग्रेजी	भौतिक विज्ञान	रसायन विज्ञान	गणित
रवि	135	140	132	121	141
दीपक	120	135	139	112	136
सरिता	110	126	120	97	130
कमल	130	125	98	102	120
दिव्या	136	130	101	100	115

परीक्षा में न्यूनतम अंक किसने प्राप्त किए हैं?

- Ans
- 1. सरिता
 - 2. दीपक
 - 3. कमल
 - 4. दिव्या

Question ID : 26433073098

Status : Answered

Chosen Option : 3

Q.19 A, B से दोगुना दक्ष है और दोनों मिलकर एक कार्य को 16 दिनों में पूरा कर सकते हैं। A अकेला इसे कितने दिनों में कर सकता है?

- Ans
- 1. 24
 - 2. 26
 - 3. 25
 - 4. 28

Question ID : 26433063800

Status : Answered

Chosen Option : 1

Q.20 $20 \times [24 \div 105 \times \{75 \times 119 \div (15 \times 17)\}]$ को हल कीजिए।

- Ans
- 1. 155
 - 2. 160
 - 3. 162
 - 4. 158

Question ID : 26433058646

Status : Answered

Chosen Option : 2

Section : Part-C-General Intelligence

Q.1 अक्षरों के उस संयोजन का चयन करें जो दी गई श्रृंखला के रिक्त स्थानों में क्रमिक रूप से रखे जाने पर श्रृंखला को पूर्ण करेगा।

TUVT _ UUVV _ TT _ UU _ VVT

- Ans
- 1. TVUU
 - 2. TTUV
 - 3. UTTU
 - 4. UVUV

Question ID : 26433057741

Status : Not Attempted and Marked For Review

Chosen Option : --

Q.2 A, B, C, D, E, F, G और H किसी वर्गाकार मेज के परितः मेज के केंद्राभिमुख होकर बैठे हैं। उनमें से कुछ कोने में, जबकि कुछ भुजा के ठीक केंद्र पर बैठे हैं।
A कोने की सीट पर B के बाएँ से तीसरे स्थान पर काबिज है। H, A के बाएँ से दूसरा है। E, B के ठीक पास और A के दाएँ से चौथा है। F किसी कोने में नहीं है। G, F के बाएँ से तीसरा है। यदि D, A के पास में नहीं है, तो C कहाँ बैठा है?

- Ans
- 1. A के ठीक बाएँ
 - 2. B के दाएँ से दूसरा
 - 3. E के दाएँ से तीसरा
 - 4. F के ठीक बाएँ

Question ID : 26433068817

Status : Not Attempted and Marked For Review

Chosen Option : --

Q.3 एक निश्चित कूट भाषा में,
A = B का अर्थ है, 'A, B का पति है',
A + B का अर्थ है, 'A, B का भाई है',
A / B का अर्थ है, 'A, B का पिता है'।

दी गई जानकारी के आधार पर, यदि 'P / Q / R + S' है तो P का S से क्या संबंध है?

- Ans
- 1. पिता की माँ (दादी)
 - 2. भाई
 - 3. पिता
 - 4. पिता का पिता (दादा)

Question ID : 26433067506

Status : Answered

Chosen Option : 4

Q.4 निम्नलिखित समीकरण को सही करने के लिए किन दो चिह्नों को आपस में और दो संख्याओं को आपस में बदला जाना चाहिए?

$$11 + 68 - 8 \times 121 \div 32 = 565$$

- Ans
- 1. 68 और 121; + और x
 - 2. 11 और 8; x और +
 - 3. 11 और 32; -और x
 - 4. 8 और 32; x और +

Question ID : 26433056458

Status : Answered

Chosen Option : 3

Q.5 'P @ Q' का अर्थ है 'P, Q की बहन है'
'P & Q' का अर्थ है 'P, Q का पिता है'
'P # Q' का अर्थ है 'P, Q का भाई है'

यदि 'A @ B # C & D @ E', तो D, A से किस प्रकार संबंधित है?

- Ans
- 1. बेटी
 - 2. बहन की बेटी
 - 3. भाई की बेटी
 - 4. भाई का बेटा

Question ID : 26433056806

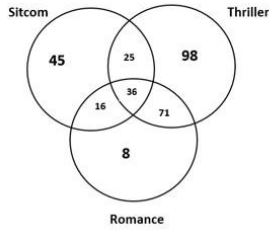
Status : Answered

Chosen Option : 3

Q.6 दिए गए आरेख का ध्यानपूर्वक अध्ययन करें और प्रश्नों के उत्तर दें।

विभिन्न वर्गों में दी गई संख्याएँ उन व्यक्तियों की संख्या को दर्शाती हैं, जो विभिन्न प्रकार की फिल्मों देखते हैं।

उन व्यक्तियों की संख्या क्या है, जो थ्रिलर (Thriller) देखते हैं, लेकिन रोमांस (Romance) नहीं?



- Ans
- 1. 98
 - 2. 169
 - 3. 134
 - 4. 123

Question ID : 26433069380

Status : Answered

Chosen Option : 4

Q.7 छः मित्र किसी वृत्ताकार मेज के परितः केंद्राभिमुख होकर बैठे हैं। इलियाना बिल्कुल लायला और जूलियन दोनों की निकटस्थ है। केविन, जूलियन के बाएँ दूसरे स्थान पर बैठा है। इवान, लायला के दाएँ तीसरे स्थान पर बैठा है। जैक बिल्कुल केविन और लायला दोनों के निकटस्थ है। इवान और इलियाना के बीच कौन बैठा/बैठी है?

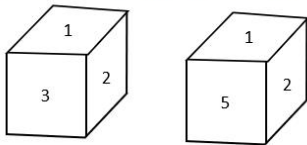
- Ans
- 1. केविन
 - 2. जैक
 - 3. जूलियन
 - 4. लायला

Question ID : 26433076515

Status : Answered

Chosen Option : 3

Q.8 एक ही पासे की दो अलग-अलग स्थितियाँ दर्शाई गई हैं, जिसके छह फलकों को 1 से 6 से क्रमांकित किया गया है। उस संख्या का चयन करें जो 5 दर्शाने वाले फलक के विपरीत फलक पर होगी।



- Ans
- 1. 3
 - 2. 4
 - 3. 2
 - 4. 1

Question ID : 26433068022

Status : Answered

Chosen Option : 1

Q.9 एक कूट भाषा में 'RAJ' को 10 और 'PAWAN' को 26 के रूप में कूटबद्ध किया जाता है। उसी भाषा में 'MAYURI' को किस प्रकार कूटबद्ध किया जाएगा?

- Ans
- 1. 38
 - 2. 36
 - 3. 35
 - 4. 37

Question ID : 26433078900
Status : Answered
Chosen Option : 4

Q.10 उस विकल्प का चयन कीजिए जो पांचवें पद से उसी प्रकार संबंधित है जिस प्रकार दूसरा पद पहले पद से और चौथा पद तीसरे पद से संबंधित है।
DIVERSE : VIDEESR :: ECONOMY : OCENYMO :: EDITION : ?

- Ans
- 1. IDETNOI
 - 2. IDENTOI
 - 3. IDETOIN
 - 4. IDTENIO

Question ID : 26433057965
Status : Answered
Chosen Option : 1

Q.11 * चिह्नों को क्रमानुसार बदलने और दिए गए समीकरण को संतुलित करने के लिए गणितीय चिह्नों के सही संयोजन का चयन कीजिए।
 $75 * 5 * 32 * 50 * 20 * 450$

- Ans
- 1. +, -, ×, ÷, =
 - 2. ÷, +, ×, -, =
 - 3. +, ×, -, ÷, =
 - 4. ÷, ×, -, +, =

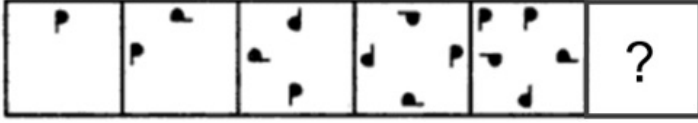
Question ID : 26433056455
Status : Answered
Chosen Option : 4

Q.12 निम्नलिखित में से कौन-सी संख्या दी गई श्रृंखला में प्रश्न चिह्न (?) को प्रतिस्थापित करेगी?
229, 148, 212, 117, 195, 86, ?, 55

- Ans
- 1. 182
 - 2. 178
 - 3. 180
 - 4. 172

Question ID : 26433057549
Status : Answered
Chosen Option : 2

Q.13 दिए गए विकल्पों में से उस आकृति का चयन करें जो निम्नलिखित श्रृंखला में प्रश्नवाचक चिह्न (?) का स्थान ले सकती है।



Ans

✗ 1.



✗ 2.



✗ 3.



✓ 4.



Question ID : 26433080526

Status : Answered

Chosen Option : 1

Q.14 उस विकल्प का चयन कीजिए जो पांचवें अक्षर समूह से उसी तरह संबंधित है जिस तरह दूसरा अक्षर समूह पहले अक्षर समूह से संबंधित है और चौथा अक्षर समूह तीसरे अक्षर समूह से संबंधित है।
UBMKT : FTXCE :: YJSRF : JBDJQ :: BEXPH : ?

Ans ✗ 1. PLTVH

✓ 2. MWIHS

✗ 3. MCHIZ

✗ 4. PLDBA

Question ID : 26433074698

Status : Not Attempted and Marked For Review

Chosen Option : --

Q.15 एक कूट भाषा में, 'FOUR' को DKSJ के रूप में कूटबद्ध किया जाता है और 'FIVE' को DETA के रूप में कूटबद्ध किया जाता है। उसी भाषा में 'NINE' को किस प्रकार कूटबद्ध किया जाएगा?

Ans ✗ 1. KGKC

✗ 2. KEKA

✗ 3. LELB

✓ 4. LELA

Question ID : 26433057767

Status : Answered

Chosen Option : 4

Q.16 दिए गए कथनों और निष्कर्षों को ध्यानपूर्वक पढ़िए। यह मानते हुए कि कथनों में दी गई जानकारी सत्य है, भले ही वह सामान्य रूप से ज्ञात तथ्यों से भिन्न प्रतीत होती हो, निर्णय लीजिए कि दिए गए निष्कर्षों में से कौन-सा/से कथनों का तार्किक रूप से अनुसरण करता है/करते हैं।

कथन:

सभी बाइक कार हैं।

कुछ कार साइकिल हैं।

सभी साइकिल ट्रक हैं।

निष्कर्ष:

I. कुछ ट्रक कार हैं।

II. सभी बाइक साइकिल हैं।

Ans 1. केवल निष्कर्ष I अनुसरण करता है।

2. न तो निष्कर्ष I और न ही निष्कर्ष II अनुसरण करता है।

3. निष्कर्ष I और II दोनों अनुसरण करते हैं।

4. केवल निष्कर्ष II अनुसरण करता है।

Question ID : 26433074722

Status : Answered

Chosen Option : 1

Q.17 उस समुच्चय का चयन कीजिए जिसमें संख्याएँ उसी प्रकार संबंधित हैं जिस प्रकार निम्नलिखित समुच्चयों की संख्याएँ आपस में संबंधित हैं।

(नोट: संख्याओं को उसके घटक अंकों में विभाजित किए बिना, पूर्ण संख्याओं पर गणितीय संक्रियाएँ की जानी चाहिए। उदाहरण के लिए 13 - अगर आपको 13 पर गणितीय संक्रियाएँ जैसे कि जोड़ने/घटाने/गुणा करने आदि करना है तो वह 13 पर ही की जा सकती हैं। 13 को 1 और 3 में तोड़ना और फिर 1 और 3 पर गणितीय संक्रियाएँ करने की अनुमति नहीं है।)

(17, 42, 11)

(7, 24, 9)

Ans 1. (9, 36, 17)

2. (13, 39, 9)

3. (6, 27, 12)

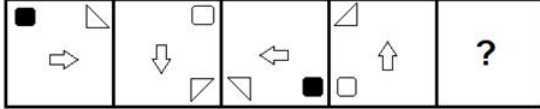
4. (11, 21, 5)

Question ID : 26433057605

Status : Answered

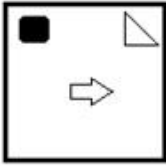
Chosen Option : 3

Q.18 प्रस्तुत विकल्पों में से वह आकृति चुनिए, जो निम्नलिखित श्रृंखला में प्रश्न-चिह्न (?) को प्रतिस्थापित कर सके।

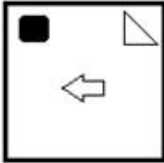


Ans

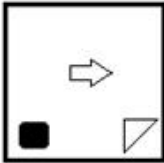
✓ 1.



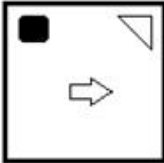
✗ 2.



✗ 3.



✗ 4.



Question ID : 26433055948

Status : Answered

Chosen Option : 1

Q.19 दिए गए विकल्पों में से उन संख्याओं को चुनिए, जो निम्नलिखित श्रृंखला में प्रश्न-चिह्नों (?) को प्रतिस्थापित कर सके।

259, 235, ?, ?, 163, 139

Ans ✗ 1. 215, 184

✗ 2. 211, 188

✗ 3. 209, 187

✓ 4. 211, 187

Question ID : 26433057040

Status : Answered

Chosen Option : 4

Q.20 उस समुच्चय का चयन कीजिए जिसमें संख्याएँ उसी प्रकार संबंधित हैं जिस प्रकार निम्नलिखित समुच्चयों की संख्याएँ आपस में संबंधित हैं।

(नोट: संख्याओं को उसके घटक अंकों में विभाजित किए बिना, पूर्ण संख्याओं पर गणितीय संक्रियाएँ की जानी चाहिए। उदाहरण के लिए 13 - अगर आपको 13 पर गणितीय संक्रियाएँ जैसे कि जोड़ने/घटाने/गुणा करने आदि करना है तो वह 13 पर ही की जा सकती है। 13 को 1 और 3 में तोड़ना और फिर 1 और 3 पर गणितीय संक्रियाएँ करने की अनुमति नहीं है।)

(38 , 92 , 15)

(26 , 60 , 11)

Ans ✗ 1. (28, 52, 16)

✓ 2. (18, 44, 7)

✗ 3. (32, 84, 19)

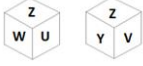
✗ 4. (21, 28, 13)

Question ID : 26433057606

Status : Answered

Chosen Option : 2

Q.21 एक पासे के विभिन्न फलकों पर छः अक्षर U, v, w, x, Y और Z लिखे गए हैं। इस पासे की दो स्थितियों को आकृति में दिखाया गया है। v के विपरीत फलक वाला अक्षर ज्ञात कीजिए।



- Ans 1. U
 2. W
 3. Y
 4. X

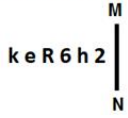
Question ID : 26433057862
 Status : Answered
 Chosen Option : 1

Q.22 निम्नलिखित में से तीन अक्षर-समूह किसी न किसी तरह में एक जैसे हैं और इसलिए एक समूह बनाते हैं। कौन-सा अक्षर-समूह उस समूह से संबंधित नहीं है?

- Ans 1. IRMV
 2. FUJY
 3. HSKW
 4. DWHA

Question ID : 26433056167
 Status : Answered
 Chosen Option : 3

Q.23 यदि दर्पण को नीचे दर्शाए गए अनुसार MN पर रखा जाए, तो दी गई आकृति के सही दर्पण प्रतिबिम्ब का चयन कीजिए।



- Ans 1. 2 4 6 R e k
 2. 2 4 6 R e k
 3. 2 4 6 R e k
 4. 2 4 6 R e k

Question ID : 26433056996
 Status : Answered
 Chosen Option : 4

Q.24 दी गई श्रृंखला को पूरा करने के लिए कौन-सा अक्षर-समूह प्रश्न-चिह्न (?) को प्रतिस्थापित करेगा?
 DUMT, BZJX, ZEGB, ?

- Ans 1. XJDG
 2. XJDF
 3. XJEG
 4. XJEF

Question ID : 26433057970
 Status : Answered
 Chosen Option : 2

Q.25 कौन-सा विकल्प दिए गए शब्दों के सही क्रम को निरूपित करता है जिस प्रकार वे एक अंग्रेजी शब्दकोश में दिखाई देंगे?

1. Approval
2. Appropriate
3. Approve
4. Apron
5. Appreciate

Ans 1. 5, 2, 1, 3, 4

2. 5, 1, 3, 2, 4

3. 5, 1, 3, 4, 2

4. 5, 2, 3, 1, 4

Question ID : 26433069219

Status : Answered

Chosen Option : 1

Section : Part-D- English Language

Q.1 The following sentence has been divided into parts. One of them may contain an error. Select the part that contains the error from the given options. If you don't find any error, mark 'No error' as your answer.

The judicial process of our country / is so cumbersome that often / the victims lose patience and faith.

Ans 1. The judicial process of our country

2. the victims lose patience and faith.

3. is so cumbersome that often

4. No error

Question ID : 26433058618

Status : Answered

Chosen Option : 2

Q.2 Select the INCORRECTLY spelt word

Ans 1. Reservoir

2. Endeavour

3. Pseudonym

4. Petriotisam

Question ID : 26433072578

Status : Answered

Chosen Option : 3

Q.3 Select the most appropriate homophone of the italicised word.

The boy is so thin that his *veins* are visible.

Ans 1. Vain

2. Vanity

3. Van

4. Vine

Question ID : 26433071899

Status : Answered

Chosen Option : 1

Q.4 Select the most appropriate meaning of the given idiom.

Blaze the trail

- Ans
- 1. To get into trouble
 - 2. To escape narrowly
 - 3. To burn an evidence
 - 4. To start a movement

Question ID : 26433065226
Status : Answered
Chosen Option : 4

Q.5 Select the most appropriate homonym to fill in the blank.
The institute is known for _____ discipline.

- Ans
- 1. marginal
 - 2. marshal
 - 3. martial
 - 4. marked

Question ID : 26433058372
Status : Answered
Chosen Option : 2

Q.6 Select the most appropriate ANTONYM of the underlined word.

He is a man of many qualities. One of the qualities is zest.

- Ans
- 1. Monotonousness
 - 2. Sensibility
 - 3. Crazyiness
 - 4. Injustice

Question ID : 26433073818
Status : Answered
Chosen Option : 1

Q.7 Select the most appropriate synonym of the underlined word in the given sentence.
Chayan exercises great influence over his pupils.

- Ans
- 1. experts
 - 2. beginners
 - 3. students
 - 4. attendants

Question ID : 26433058585
Status : Marked For Review
Chosen Option : 4

Q.8 Identify the error in tense and choose the correct sentence from the following options.
It always rained at the weekend.

- Ans
- 1. It always has been raining at the weekend.
 - 2. It always was raining at the weekend.
 - 3. It always rains at the weekend.
 - 4. It always rain at the weekend.

Question ID : 26433059184
Status : Answered
Chosen Option : 3

Q.9 Sentences of a paragraph are given below in jumbled order. Arrange the sentences in the correct order to form a meaningful and coherent paragraph.

- A. It is monitored and organised by a peer-to-peer network known as a 'blockchain'.
- B. Cryptocurrency is a data string that has been encrypted and represents a unit of currency.
- C. Unlike actual money, cryptocurrencies are decentralised, which means they cannot be manipulated by the government.
- D. This chain functions as a secure database of transactions such as buying, selling, and transferring

- Ans
- 1. BCDA
 - 2. BADC
 - 3. BCAD
 - 4. CADB

Question ID : 26433058348
Status : Answered
Chosen Option : 3

Q.10 Select the most appropriate synonym of the underlined word.
I found the TV show to be vulgar.

- Ans
- 1. defined
 - 2. refined
 - 3. entertaining
 - 4. abusive

Question ID : 26433063588
Status : Answered
Chosen Option : 2

Q.11 Select the option that can be used as a one-word substitute for the given group of words.
Causing or affected by anxiety or stress

- Ans
- 1. Devoid
 - 2. Fraught
 - 3. Divested
 - 4. Scant

Question ID : 26433060743
Status : Marked For Review
Chosen Option : 4

Q.12 Select the most appropriate option that can substitute the underlined segment in the given sentence.

For checking the patient's status in the ICU, the doctor entered there in a quick manner.

- Ans
- 1. hurriedly
 - 2. realistically
 - 3. ghastly
 - 4. firstly

Question ID : 26433072394
Status : Answered
Chosen Option : 1

Q.13 Parts of a sentence are given below in jumbled order. Arrange the parts in the correct order to form a meaningful sentence.

The finest / writers of tragedy / was / Christopher Marlowe / of the Elizabethan

- Ans
- 1. Christopher Marlowe was writers of tragedy of the Elizabethan the finest.
 - 2. Christopher Marlowe of the Elizabethan was writers of tragedy the finest.
 - 3. Christopher Marlowe was the finest of the Elizabethan writers of tragedy.
 - 4. Writers of tragedy of the Elizabethan was the finest Christopher Marlowe.

Question ID : 26433059609

Status : Answered

Chosen Option : 3

Q.14 For the four-sentence (S1 to S4) paragraph below, sentences S1 and S4 are given. From the options P, Q, R and S, select the appropriate sentences for S2 and S3, respectively.

(S1) In order to use wealth it is not enough just to store it.

(S2)

(S3)

(S4) Commodities such as wheat and rice can be transported only with difficulty.

(P) Some forms of wealth, such as real estate, cannot be transported at all.

(Q) Money isn't a material reality – it is a psychological construct.

(R) It often needs to be transported from place to place.

(S) Without money, commercial networks and markets would have been doomed to remain very limited in size, complexity and dynamism.

- Ans
- 1. P, Q
 - 2. R, P
 - 3. P, S
 - 4. S, Q

Question ID : 26433065213

Status : Answered

Chosen Option : 2

Q.15 Select the option that can be used as a one-word substitute for the underlined group of words.

Robert walked into a room filled with equipment for games and physical exercise.

- Ans
- 1. Ring
 - 2. Arena
 - 3. Gymnasium
 - 4. Sanctorum

Question ID : 26433060397

Status : Answered

Chosen Option : 3

Q.16 Parts of the given sentence have been given as options. One of them contains a spelling error. Select the option that rectifies the error.

'Netiquette' is a combination of the words 'internet' and 'atiquette'.

- Ans
- 1. internet
 - 2. combination
 - 3. etiquette
 - 4. Netiquette

Question ID : 26433059578

Status : Answered

Chosen Option : 3

Q.17 Select the most appropriate idiom based on the situation given below.

The government is keen to end the disagreement and offer peace after the death of several innocent people.
Hence, they decided to _____ to the terrorists.

- Ans
- 1. have a brush with
 - 2. hit the nail on the head
 - 3. hit the jackpot
 - 4. hold out an olive branch

Question ID : 26433065228
Status : Answered
Chosen Option : 4

Q.18 Select the most appropriate synonym of the underlined word.

The production of a solar powered vehicle in 2015 was in nascent stage.

- Ans
- 1. Budding
 - 2. Coherent
 - 3. Grateful
 - 4. Endless

Question ID : 26433073189
Status : Answered
Chosen Option : 1

Q.19 Select the option that can be used as a one-word substitute for the given group of words.

A group of things that have been hidden in some place

- Ans
- 1. Cache
 - 2. Treasure
 - 3. Clothes
 - 4. Jewels

Question ID : 26433059699
Status : Answered
Chosen Option : 2

Q.20 Parts of a sentence are given below in jumbled order. Arrange the parts in the correct order to form a meaningful sentence.

A golden chain / came across / man / the poor

- Ans
- 1. The poor man came across a golden chain.
 - 2. Man came across a golden chain the poor.
 - 3. A golden chain man came across the poor.
 - 4. A golden chain came across the man poor.

Question ID : 26433059605
Status : Answered
Chosen Option : 1

Comprehension:

In the following passage, some words have been deleted. Read the passage carefully and select the most appropriate option to fill in each blank.

We planned to visit Shimla (1)_____went to Agra. My friends and I (2)_____disappointed as I really wanted to be in the snow valleys. As they say, 'All is well that ends (3)_____'. I was mesmerised to see the beauty of the greatest (4)_____ of Indian history. It was the moment of life for me to (5)_____ there.

SubQuestion No : 21

Q.21 Select the most appropriate option to fill in blank number 1.

- Ans 1. so
 2. and
 3. but
 4. nor

Question ID : 26433058890

Status : Answered

Chosen Option : 2

Comprehension:

In the following passage, some words have been deleted. Read the passage carefully and select the most appropriate option to fill in each blank.

We planned to visit Shimla (1)_____went to Agra. My friends and I (2)_____disappointed as I really wanted to be in the snow valleys. As they say, 'All is well that ends (3)_____'. I was mesmerised to see the beauty of the greatest (4)_____ of Indian history. It was the moment of life for me to (5)_____ there.

SubQuestion No : 22

Q.22 Select the most appropriate option to fill in blank number 2.

- Ans 1. are
 2. was
 3. is
 4. were

Question ID : 26433058891

Status : Answered

Chosen Option : 4

Comprehension:

In the following passage, some words have been deleted. Read the passage carefully and select the most appropriate option to fill in each blank.

We planned to visit Shimla (1)_____went to Agra. My friends and I (2)_____disappointed as I really wanted to be in the snow valleys. As they say, 'All is well that ends (3)_____'. I was mesmerised to see the beauty of the greatest (4)_____ of Indian history. It was the moment of life for me to (5)_____ there.

SubQuestion No : 23

Q.23 Select the most appropriate option to fill in blank number 3.

- Ans 1. good
 2. best
 3. very well
 4. well

Question ID : 26433058892

Status : Answered

Chosen Option : 4

Comprehension:

In the following passage, some words have been deleted. Read the passage carefully and select the most appropriate option to fill in each blank.

We planned to visit Shimla (1)_____went to Agra. My friends and I (2)_____disappointed as I really wanted to be in the snow valleys. As they say, 'All is well that ends (3)_____'. I was mesmerised to see the beauty of the greatest (4)_____ of Indian history. It was the moment of life for me to (5)_____ there.

SubQuestion No : 24

Q.24 Select the most appropriate option to fill in blank number 4.

- Ans 1. building
 2. monument
 3. destination
 4. palace

Question ID : 26433058893

Status : Answered

Chosen Option : 2

Comprehension:

In the following passage, some words have been deleted. Read the passage carefully and select the most appropriate option to fill in each blank.

We planned to visit Shimla (1)_____went to Agra. My friends and I (2)_____disappointed as I really wanted to be in the snow valleys. As they say, 'All is well that ends (3)_____'. I was mesmerised to see the beauty of the greatest (4)_____ of Indian history. It was the moment of life for me to (5)_____ there.

SubQuestion No : 25

Q.25 Select the most appropriate option to fill in blank number 5.

- Ans 1. being
 2. lived
 3. be
 4. living

Question ID : 26433058894

Status : Answered

Chosen Option : 3

Section : Part-E- Computer Fundamentals

Q.1 निम्नलिखित में से कौन सी इंटरनेट द्वारा प्रदान की जाने वाली सेवा / सेवाएँ है / हैं?

- (i) वेबसाइट (Websites)
(ii) इलेक्ट्रॉनिक मेल (Electronic mail)
(iii) समाचार समूह (Newsgroup)
(iv) चर्चा समूह (Newsgroup)

- Ans 1. केवल (ii), (iii) और (iv)
 2. (i), (ii), (iii) और (iv)
 3. केवल (i), (ii) और (iii)
 4. केवल (iii) और (iv)

Question ID : 26433095296

Status : Answered

Chosen Option : 3

Q.2 एमएस-वर्ड 2010 (MS-Word 2010) में, रि्यू (Review) टैब के प्रूफिंग (Proofing) ग्रुप में निम्नलिखित में से कौन सा विकल्प उपलब्ध नहीं है?

- Ans
- 1. वर्ड काउंट (Word Count)
 - 2. एडिटर (Editor)
 - 3. थिसॉरस (Thesaurus)
 - 4. कमेंट (Comment)

Question ID : 26433095314
Status : Marked For Review
Chosen Option : 2

Q.3 Gmail में, जब आप कोई संदेश प्राप्त करते हैं और मूल प्रेषक और अन्य सभी प्राप्तकर्ताओं को To और Cc लाइनों पर नया संदेश भेजना चाहते हैं, तो आप क्या उपयोग करते हैं?

- Ans
- 1. फॉरवर्ड ऑल (Forward All)
 - 2. रिप्लाई (Reply)
 - 3. रिप्लाई ऑल (Reply All)
 - 4. फॉरवर्ड (Forward)

Question ID : 26433095535
Status : Answered
Chosen Option : 3

Q.4 एमएस-एक्सेल 2010 में किसी रो (row) को सेलेक्ट करने के लिए _____ शॉर्टकट कुंजी (key) का उपयोग किया जाता है।

- Ans
- 1. Ctrl+Spacebar
 - 2. ALT+Enter
 - 3. Shift+Spacebar
 - 4. Ctrl+Enter

Question ID : 26433095462
Status : Answered
Chosen Option : 1

Q.5 एमएस-एक्सेल 2010 (MS-Excel 2010) में संख्या को उससे छोटे निकटतम पूर्णांकित मान में लाने (Rounding the number down) के लिए _____ फ़ंक्शन का उपयोग किया जाता है।

- Ans
- 1. IF
 - 2. CEILING
 - 3. COUNTIF
 - 4. FLOOR

Question ID : 26433095420
Status : Marked For Review
Chosen Option : 3

Q.6 टेक्स्ट एडिटर और टेक्स्ट फॉर्मैटर कंप्यूटिंग की किस श्रेणी से संबंधित हैं?

- Ans
- 1. इंटरप्रेटर (Interpreter)
 - 2. लैंग्वेज ट्रांसलेटर (Language Translator)
 - 3. वर्ड प्रोसेसर (Word Processors)
 - 4. कम्पाइलर (Compiler)

Question ID : 26433095513
Status : Answered
Chosen Option : 3

Q.7 एमएस-एक्सेल 2010 (MS-Excel 2010) में, चयनित टेक्स्ट को बोल्ड करने के लिए किस शॉर्टकट की (key) का उपयोग किया जाता है?

- Ans
- 1. Shift + B
 - 2. Ctrl + B
 - 3. Ctrl + O
 - 4. Shift + O

Question ID : 26433095378
Status : Answered
Chosen Option : 2

Q.8 ऑनलाइन वार्तालाप, जिसमें आप तुरंत एक-दूसरे को संदेश भेजने में सक्षम होते हैं, वह _____ कहलाता है।

- Ans
- 1. ईमेल (EMAIL)
 - 2. व्लॉग (VLOG)
 - 3. चैट (CHAT)
 - 4. ब्लॉग (BLOG)

Question ID : 26433095427
Status : Answered
Chosen Option : 3

Q.9 एमएस-वर्ड 2010 (MS-Word 2010) में, सेलेक्ट किए हुए टेक्स्ट को सेंटर अलाइन करने के लिए निम्न में से किस कीबोर्ड शॉर्टकट का उपयोग किया जाता है?

- Ans
- 1. Ctrl + W
 - 2. Ctrl + E
 - 3. Ctrl + C
 - 4. Ctrl + A

Question ID : 26433095323
Status : Answered
Chosen Option : 2

Q.10 निम्नलिखित में से कौन सा प्रभाव (effect) एमएस-वर्ड 2010 फॉन्ट डायलॉग बॉक्स में उपलब्ध नहीं होता है?

- Ans
- 1. स्ट्राइकथ्रू (Strikethrough)
 - 2. इटैलिक (Italic)
 - 3. इक्वलाइज करैक्टर हाइट (Equalize Character Height)
 - 4. बोल्ड (Bold)

Question ID : 26433095492
Status : Answered
Chosen Option : 3