

**Delhi Police Head
Constable
Previous Year Paper
(Ministerial) 13 Oct 2022
Shift 1**

Head Constable Ministerial in Delhi Police Examination 2022

Roll Number	
Candidate Name	
Venue Name	
Exam Date	13/10/2022
Exam Time	9:00 AM - 10:30 AM
Subject	Head Constable Ministerial in Delhi Police Examination 2022

Section : Part-A-General Awareness

Q.1 निम्नलिखित में से किस स्थान पर तापमान की वार्षिक सीमा उच्चतम होगी?

- Ans
- ☒ 1. श्रीनगर
 - ☒ 2. मुंबई
 - ☒ 3. जैसलमेर
 - ☒ 4. कोलकाता

Question ID : 26433055312
Status : Answered
Chosen Option : 3

Q.2 भारत में सामान्य तौर पर वार्षिक वित्तीय विवरण को कितनी अवधि के लिए लागू किया जाता है?

- Ans
- ☒ 1. 1 जनवरी से 31 दिसंबर तक
 - ☒ 2. 1 जुलाई से 30 जून तक
 - ☒ 3. 1 अप्रैल से 30 सितंबर तक
 - ☒ 4. 1 अप्रैल से 31 मार्च

Question ID : 26433059087
Status : Answered
Chosen Option : 4

Q.3 निम्नलिखित में से कौन-सा युद्ध मेदिनी राय और बाबर के बीच लड़ा गया था?

- Ans
- ☒ 1. कन्नौज का युद्ध
 - ☒ 2. पानीपत का प्रथम युद्ध
 - ☒ 3. चंदेरी का युद्ध
 - ☒ 4. पानीपत का द्वितीय युद्ध

Question ID : 26433055617
Status : Answered
Chosen Option : 3

Q.4 शिगमो त्योहार मुख्य रूप से भारत के निम्नलिखित में से किस राज्य में मनाया जाता है?

- Ans ☒ 1. गोवा
- ☐ 2. कर्नाटक
- ☐ 3. बिहार
- ☐ 4. मणिपुर

Question ID : 26433064335
Status : Not Answered
Chosen Option : --

Q.5 भारत में गरीबी एक बड़ी समस्या है। निम्नलिखित में से कौन सा कथन गरीबी के बारे में सही नहीं है?

- Ans ☒ 1. लोग गुणवत्तापूर्ण जीवन का आनंद लेते हैं और पीने के पानी तक उनकी पहुंच है।
- ☐ 2. लोगों के पास आवास की कमी है।
- ☐ 3. लोग बेरोजगार हैं।
- ☐ 4. लोगों का काम अनियमित है।

Question ID : 26433079543
Status : Answered
Chosen Option : 1

Q.6 बीमा (संशोधन) अधिनियम, 2021 निम्नलिखित में से किस अधिनियम में संशोधन करता है?

- Ans ☐ 1. समुद्री बीमा अधिनियम, 1963
- ☒ 2. बीमा अधिनियम, 1938
- ☐ 3. आपातकालीन जोखिम (माल) बीमा अधिनियम, 1971
- ☐ 4. साधारण बीमा कारोबार (राष्ट्रीयकरण) अधिनियम, 1972

Question ID : 26433055564
Status : Answered
Chosen Option : 4

Q.7 अप्रैल 2021 में नियुक्त श्री सुशील चंद्र भारत के _____ मुख्य चुनाव आयुक्त हैं।

- Ans ☐ 1. 23 वें
- ☐ 2. 44 वें
- ☐ 3. 43 वें
- ☒ 4. 24 वें

Question ID : 26433061822
Status : Answered
Chosen Option : 4

Q.8 निम्नलिखित में से कौन सा संक्षिप्त नाम भारत में सीमेंट उद्योग से जुड़ा हुआ है?

- Ans ☒ 1. ACC
- ☐ 2. MCI
- ☐ 3. BCCI
- ☐ 4. FCI

Question ID : 26433066588
Status : Answered
Chosen Option : 1

Q.9 चंदेल वंश द्वारा मंदिर वास्तुकला का निम्नलिखित में से किस शैली को विकसित किया गया था?

- Ans
- ☒ 1. द्रविड़
 - ☒ 2. सोलंकी
 - ☒ 3. खजुराहो
 - ☒ 4. ओडिशा

Question ID : 26433064367
Status : Not Answered
Chosen Option : --

Q.10 निम्नलिखित में से कौन-सा मुद्रा आपूर्ति का सबसे अधिक इस्तेमाल किया जाने वाला उपाय है और इसे समय मौद्रिक संसाधन के रूप में भी जाना जाता है?

- Ans
- ☒ 1. M1
 - ☒ 2. M3
 - ☒ 3. M2
 - ☒ 4. M4

Question ID : 26433064498
Status : Answered
Chosen Option : 4

Q.11 मार्च 2022 में, किस राज्य सरकार ने राज्य भर में हर वर्ष 10 लाख युवाओं को शिक्षा, ज्ञान, कौशल और ऊर्जा से लैस करने के लिए 'नान मुधलवन' परियोजना शुरू की, जो उन्हें देश के हित के लिए अपनी प्रतिभा को पहचानने में मदद करेगी?

- Ans
- ☒ 1. हिमाचल प्रदेश
 - ☒ 2. तमिलनाडु
 - ☒ 3. हरियाणा
 - ☒ 4. ओडिशा

Question ID : 26433054832
Status : Not Answered
Chosen Option : --

Q.12 प्राकृतिक पर्यावरण की रक्षा निम्नलिखित में से किस प्रकार का संवैधानिक प्रावधान है?

- Ans
- ☒ 1. मौलिक कर्तव्य
 - ☒ 2. राज्य के नीति निर्देशक तत्व
 - ☒ 3. प्राकृतिक कर्तव्य
 - ☒ 4. मौलिक अधिकार

Question ID : 26433071649
Status : Answered
Chosen Option : 2

Q.13 2011 की जनगणना में किस राज्य ने भारत में सबसे अधिक महिला साक्षरता दर दर्ज की?

- Ans
- ☐ 1. मिज़ोरम
 - ☐ 2. महाराष्ट्र
 - ☐ 3. चंडीगढ़
 - ☒ 4. केरल

Question ID : 26433055338
Status : Answered
Chosen Option : 3

Q.14 इनमें से कौन BWF विश्व चैंपियनशिप 2021 में रजत पदक जीतने वाले पहले भारतीय पुरुष शटलर हैं?

- Ans
- ☐ 1. चिराग शेटी
 - ☐ 2. पारुपल्ली कश्यप
 - ☒ 3. किदांबी श्रीकांत
 - ☐ 4. प्रणय कुमार

Question ID : 26433061807
Status : Not Answered
Chosen Option : --

Q.15 फार्माकोपिया कमीशन फॉर इंडियन मेडिसिन एंड होमियोपैथी (आयुष मंत्रालय) और इंडियन फार्माकोपिया कमीशन (स्वास्थ्य मंत्रालय) के बीच अगस्त 2022 में निम्नलिखित में से किस कार्यक्रम के प्रचार और सुगमीकरण के लिए अंतर-मंत्रालयी सहयोग हेतु एक समझौता ज्ञापन (MoU) पर हस्ताक्षर किए गए?

- Ans
- ☐ 1. महिला और स्वास्थ्य
 - ☒ 2. वन हर्ब, वन स्टैंडर्ड- (एक जड़ी-बूटी, एक मानक)
 - ☐ 3. पोषण अभियान
 - ☐ 4. बच्चा और शिक्षा

Question ID : 26433095263
Status : Answered
Chosen Option : 2

Q.16 तापू (Tapu) नृत्य मुख्य रूप से भारतीय राज्य _____ में किया जाता है।

- Ans
- ☐ 1. गुजरात
 - ☐ 2. आंध्र प्रदेश
 - ☒ 3. अरुणाचल प्रदेश
 - ☐ 4. उत्तर प्रदेश

Question ID : 26433064301
Status : Not Answered
Chosen Option : --

Q.17 टाटा आयरन एंड स्टील कंपनी की स्थापना किस वर्ष हुई थी?

- Ans
- ☒ 1. 1905
 - ☒ 2. 1906
 - ☒ 3. 1907
 - ☒ 4. 1909

Question ID : 2643305531
Status : Answered
Chosen Option : 4

Q.18 17 दिसंबर 1928 को भगत सिंह और उनके अनुयायियों द्वारा निम्नलिखित में से किस ब्रिटिश पुलिस अधिकारी को जेम्स स्कॉट के बजाय गलती से मार दिया गया था?

- Ans
- ☒ 1. जॉन सॉन्डर्स
 - ☒ 2. एडवर्ड ब्रैडफोर्ड
 - ☒ 3. जेम्स मोनरो
 - ☒ 4. चार्ल्स जॉर्ज बकर

Question ID : 2643306543
Status : Answered
Chosen Option : 1

Q.19 किस संस्थान के शोधकर्ताओं की एक टीम ने एक नवीन नैनोपार्टिकल-आधारित बायो-डिग्रेडेबल-कार्बोनाइड-मेटाबोलाइट (BioDCM) विकसित किया है जो कृषि फसलों को कवक और जीवाणु के संक्रमण से बचा सकता है?

- Ans
- ☒ 1. भारतीय प्रौद्योगिकी संस्थान, कानपुर
 - ☒ 2. भारतीय प्रौद्योगिकी संस्थान, खड़गपुर
 - ☒ 3. भारतीय प्रौद्योगिकी संस्थान, मुंबई
 - ☒ 4. भारतीय प्रौद्योगिकी संस्थान, चेन्नई

Question ID : 26433095284
Status : Answered
Chosen Option : 1

Q.20 भारत में द्वितीय पंचवर्षीय योजना का मुख्य वास्तुकार किसे माना जाता है?

- Ans
- ☒ 1. डी.आर. गाडगिल
 - ☒ 2. वी.के.आर.वी. राव
 - ☒ 3. पी.सी. महालनोबिस
 - ☒ 4. डी.टी. लकड़ावाला

Question ID : 26433059264
Status : Answered
Chosen Option : 3

Q.1 यदि एक धनात्मक संख्या x के लिए $4x^2 + \frac{1}{x^2} = 12$ है, तो $8x^3 + \frac{1}{x^3}$ का मान क्या होगा?

- Ans
- ☐ 1. 4
 - ☐ 2. 64
 - ☒ 3. 40
 - ☐ 4. 16

Question ID : 26433062681

Status : Answered

Chosen Option : 3

Q.2 A और B मिलकर एक काम को 12 दिनों में कर सकते हैं। यदि A अकेले 36 दिनों में कार्य कर सकता है, तो कार्य को पूरा करने के लिए B द्वारा आवश्यक दिनों की संख्या _____ है।

- Ans
- ☐ 1. 16
 - ☐ 2. 22
 - ☒ 3. 18
 - ☐ 4. 20

Question ID : 26433063492

Status : Answered

Chosen Option : 3

Q.3 $0.4\overline{54}$ को भिन्न में परिवर्तित कीजिए।

- Ans
- ☐ 1. $\frac{11}{5}$
 - ☐ 2. $\frac{7}{11}$
 - ☒ 3. $\frac{5}{11}$
 - ☐ 4. $\frac{11}{7}$

Question ID : 26433063445

Status : Answered

Chosen Option : 3

Q.4 एक 20 सेमी व्यास के वृत्त की दो समानांतर जीवाएँ क्रमशः 16 सेमी और 12 सेमी हैं। यदि दोनों जीवाएँ व्यास के एक ही ओर हों, तो इन जीवाओं के बीच की दूरी क्या है?

- Ans
- ☐ 1. 1 सेमी
 - ☐ 2. 1.5 सेमी
 - ☐ 3. 3 सेमी
 - ☒ 4. 2 सेमी

Question ID : 26433058983

Status : Not Answered

Chosen Option : --

Q.5 निम्न सारणी 5 विभागों में विभिन्न वर्गों के छात्रों की संख्या को दर्शाती है। सारणी का ध्यानपूर्वक अध्ययन करें और इस सारणी के आधार पर प्रश्न का उत्तर दीजिए।

वर्ग	विभाग				
	A	B	C	D	E
भौतिकी	400	500	350	300	600
रसायन विज्ञान	750	600	700	500	450
गणित	300	400	450	500	650
कम्प्यूटर विज्ञान	250	300	380	550	750

भौतिकी, रसायन विज्ञान और कम्प्यूटर विज्ञान में विभागों A और B में छात्रों का अनुपात ज्ञात कीजिए।

- Ans
1. 2 : 13
-
2. 2 : 1

Question ID : 26433064037

Status : Answered

Chosen Option : 3

Q.6 दो संख्याओं का लघुत्तम समापवर्त्य (LCM) 150 है और उनका महत्तम समापवर्तक (HCF) 3 है। यदि उनमें से एक संख्या 25 है, तो दूसरी संख्या ज्ञात करें।

- Ans
-
1. 17

Question ID : 26433063361

Status : Answered

Chosen Option : 3

Q.7 निम्न में से कौन-सी एक अभाज्य संख्या है?

- Ans
-
1. 657

Question ID : 26433079839

Status : Answered

Chosen Option : 3

Q.8 यदि दो गोलों के पृष्ठीय क्षेत्रफलों का अनुपात 9 : 4 है, तो उनके व्यासों का अनुपात _____ होगा।

- Ans
-
1. 2 : 3

Question ID : 26433056342

Status : Answered

Chosen Option : 2

Q.9 $\frac{(p-q)^3+(q-r)^3+(r-p)^3}{(p^2-q^2)^3+(q^2-r^2)^3+(r^2-p^2)^3}$ का मान क्या होगा?
जहाँ $(p \neq q \neq r)$

- Ans
- ☐ 1. 0
 - ☐ 2. 1
 - ☒ 3. $\frac{1}{(p+q)(q+r)(r+p)}$
 - ☐ 4. $\frac{1}{(p+q+r)}$

Question ID : 26433061115
Status : Answered
Chosen Option : 1

Q.10 एक डीलर अपनी वस्तुओं पर क्रय मूल्य से 32% अधिक मूल्य अंकित करता है और 12% की छूट देता है। उसका लाभ प्रतिशत ज्ञात कीजिए।

- Ans
- ☐ 1. 44%
 - ☐ 2. 18.25%
 - ☐ 3. 20%
 - ☒ 4. 16.16%

Question ID : 26433074926
Status : Answered
Chosen Option : 2

Q.11 25 छात्रों की एक कक्षा में विज्ञान की परीक्षा ली गई। 10 छात्रों को औसत 80 अंक मिले। अन्य छात्रों को औसत 60 अंक मिले। पूरी कक्षा का औसत अंक क्या है?

- Ans
- ☐ 1. 140
 - ☐ 2. 5.6
 - ☐ 3. 70
 - ☒ 4. 68

Question ID : 26433061190
Status : Answered
Chosen Option : 4

Q.12 नमिता ने एक सेल फोन ₹2,575 में खरीदा और उसे 12% के लाभ पर बेच दिया। विक्रय मूल्य (₹ में) कितना है?

- Ans
- ☒ 1. 2884
 - ☐ 2. 2657
 - ☐ 3. 2874
 - ☐ 4. 2557

Question ID : 26433058273
Status : Answered
Chosen Option : 1

Q.13 P और Q मिलकर किसी काम को 30 दिनों में पूरा कर सकते हैं। Q और R उसी काम को 24 दिनों में कर सकते हैं, जबकि R और P उसे 20 दिनों में पूरा कर सकते हैं। उन्होंने एक साथ मिलकर काम करना शुरू किया, लेकिन 10 दिन बाद, Q और R ने काम छोड़ दिया। P शेष काम को कितने दिनों में पूरा कर लेगा?

- Ans
- ☒ 1. 14 दिन
 - ☒ 2. 18 दिन
 - ☒ 3. 17 दिन
 - ☒ 4. 21 दिन

Question ID : 26433061444

Status : Not Answered

Chosen Option : --

Q.14 $(a - b)^3(a + b)^3, (a - b)(a + b)$ का मध्यानुपाती क्या होगा?

- Ans
- ☒ 1. $(a^2 - b^2)^2$
 - ☒ 2. $a^2 + b^2$
 - ☒ 3. $(a^2 + b^2)^2$
 - ☒ 4. $a^2 - b^2$

Question ID : 26433061147

Status : Answered

Chosen Option : 4

Q.15 यदि किसी भिन्न के अंश में 25% की वृद्धि की जाती है और उसके हर में 10% की कमी की जाती है, तो भिन्न का मान $\frac{15}{16}$ होता है। मूल भिन्न क्या है?

- Ans
- ☒ 1. $\frac{3}{4}$
 - ☒ 2. $\frac{27}{40}$
 - ☒ 3. $\frac{43}{47}$
 - ☒ 4. $\frac{11}{13}$

Question ID : 26433061244

Status : Answered

Chosen Option : 2

Q.16 1 cm त्रिज्या वाले धातु के गोले $12\text{ cm} \times 4\text{ cm} \times 4\text{ cm}$ विमाओं वाले एक आयताकार बॉक्स में पैक किए जाते हैं। जब 24 गोले पैक किए जाते हैं, तो बॉक्स को परिरक्षक द्रव से भरा जाता है। द्रव का आयतन (cm^3 में, दशमलव के बाद एक अंक तक) क्या होगा?

($\pi = \frac{22}{7}$ लीजिए)

- Ans
- ☒ 1. 101
 - ☒ 2. 91.4
 - ☒ 3. 87.5
 - ☒ 4. 192

Question ID : 26433063261

Status : Not Answered

Chosen Option : --

Q.17 निम्नलिखित का मान त्रिकोणमितीय अनुपातों के पदों में ज्ञात करें।

$$\frac{\tan A + \sec A - 1}{\tan A - \sec A + 1}$$

- Ans
- ☒ 1. $\frac{1 + \sin A}{\cos A}$
 - ☒ 2. $\frac{1 + \cos A}{\sin A}$
 - ☒ 3. $\frac{1 - \cos A}{\sin A}$
 - ☒ 4. $\frac{1 - \sin A}{\cos A}$

Question ID : 26433061933

Status : Answered

Chosen Option : 2

Q.18 Rs.5,000 की राशि के लिए, अर्ध-वार्षिक रूप से चक्रवृद्धि की जाने वाली 10% वार्षिक ब्याज दर पर 2 वर्षों का चक्रवृद्धि ब्याज कितना होगा?

- Ans
- ☒ 1. Rs.1,025.00
 - ☒ 2. Rs.1,050.00
 - ☒ 3. Rs.1,077.50
 - ☒ 4. Rs.2,320.50

Question ID : 26433058147

Status : Answered

Chosen Option : 3

Q.19 जब Rs.2,425 की धनराशि वार्षिक साधारण ब्याज की निश्चित दर पर 12 वर्षों के लिए निवेश की जाती है, तो परिपक्वता पर Rs.5,238 का ब्याज अर्जित करती है। वार्षिक साधारण ब्याज की दर ज्ञात कीजिए।

- Ans
- ☒ 1. 16%
 - ☒ 2. 14%
 - ☒ 3. 18%
 - ☒ 4. 12%

Question ID : 26433066314
Status : Answered
Chosen Option : 3

Q.20 800 m की दौड़ में, राम श्याम को 50 m से हरा सकता है, और 600 m की दौड़ में, श्याम घनश्याम को 40 m से हरा सकता है। 400 m की दौड़ में राम घनश्याम को कितने m से हराएगा?

- Ans
- ☒ 1. 40 m
 - ☒ 2. 80 m
 - ☒ 3. 50 m
 - ☒ 4. 100 m

Question ID : 26433061738
Status : Answered
Chosen Option : 1

Section : Part-C-General Intelligence





Q.1 उस समुच्चय का चयन कीजिए जिसमें संख्याएँ उसी प्रकार संबंधित हैं जिस प्रकार निम्नलिखित समुच्चयों की संख्याएँ आपस में संबंधित हैं।
(नोट: संख्याओं को उसके घटक अंकों में विभाजित किए बिना, पूर्ण संख्याओं पर गणितीय संक्रियाएं की जानी चाहिए। उदाहरण के लिए 13 - अगर आपको 13 पर गणितीय संक्रियाएं जैसे कि जोड़ने/घटाने/गुणा करने आदि करना है तो वह 13 पर ही की जा सकती हैं। 13 को 1 और 3 में तोड़ना और फिर 1 और 3 पर गणितीय संक्रियाएँ करने की अनुमति नहीं है।)
(19, 8, 144)
(13, 6, 72)

- Ans
- ☒ 1. (12, 8, 96)
 - ☒ 2. (9, 3, 18)
 - ☒ 3. (7, 4, 32)
 - ☒ 4. (15, 4, 56)

Question ID : 26433057598
Status : Answered
Chosen Option : 4





Q.2 'A + B' का अर्थ है कि 'A, B का पिता है'
'A - B' का अर्थ है कि 'A, B की माता है'
'A × B' का अर्थ है कि 'A, B का पति है'
'A ÷ B' का अर्थ है कि A, B की बहन है'

.यदि $C \div M - S - K + T \times Q$ है, तो निम्नलिखित में से कौन-सा कथन सही नहीं है?

- Ans  1. S, C की बहन की पुत्री है।
 2. S, T का पिता का पिता है।
 3. M, K की माता की माता है।
 4. K, Q का ससुर है।




Question ID : 26433056920
Status : Not Answered
Chosen Option : --

Q.3 एक कूट भाषा में 'HELLO' को 42 के रूप में और 'CRISP' को 55 के रूप में कूटबद्ध किया जाता है। उसी भाषा में 'NIGHT' को किस प्रकार कूटबद्ध किया जाएगा?

- Ans  1. 48
 2. 49
 3. 50
 4. 43





Question ID : 26433057817
Status : Answered
Chosen Option : 1

Q.4 सात लोग T, U, V, W, X, Y और Z सीधी रेखा में उत्तर की ओर मुख करके बैठे हैं। केवल तीन लोग Z के बाएँ बैठे हैं। Z, Y के बाएँ दूसरे स्थान पर बैठा है। W, V के बाएँ चौथे स्थान पर बैठा है। X, Y का कोई निकटस्थ नहीं है। T, U के दाएँ दूसरे स्थान पर बैठा है। Z के ठीक दाएँ कौन बैठा है?

- Ans  1. V
 2. W
 3. X
 4. T

Question ID : 26433076521
Status : Answered
Chosen Option : 2

Q.5 निम्नलिखित में से तीन अक्षर-समूह किसी न किसी तरह में एक जैसे हैं और इसलिए एक समूह बनाते हैं। कौन-सा अक्षर-समूह उस समूह से संबंधित नहीं है?

- Ans  1. ZAVD
 2. VERH
 3. XCTF
 4. WDSF

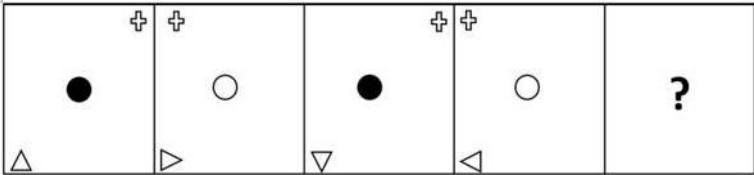
Question ID : 26433056176
Status : Answered
Chosen Option : 4

Q.6 एक व्यक्ति के फोटो की ओर इशारा करते हुए रजनी ने कहा, "वह मेरे पति की पत्नी की बेटी का भाई है।" वह व्यक्ति रजनी से किस प्रकार संबंधित है?

- Ans
- ☒ 1. दादा
 - ☒ 2. पुत्र
 - ☒ 3. भाई
 - ☒ 4. पिता

Question ID : 26433068013
Status : Answered
Chosen Option : 2

Q.7 उस आकृति का चयन कीजिए, जो निम्नलिखित आकृति श्रृंखला में प्रश्न-चिह्न (?) को प्रतिस्थापित करेगी।

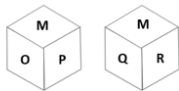


Ans

- ☒ 1.
- ☒ 2.
- ☒ 3.
- ☒ 4.

Question ID : 26433056091
Status : Answered
Chosen Option : 3

Q.8 एक पासे के विभिन्न फलकों पर छह अक्षर M, N, O, P, Q और R लिखे गए हैं। दी गई आकृति में इस पासे की दो स्थितियों को दिखाया गया है। Q अक्षर वाले फलक के विपरीत फलक पर कौन-सा अक्षर होगा?



- Ans
- ☒ 1. R
 - ☒ 2. N
 - ☒ 3. O
 - ☒ 4. P

Question ID : 26433057795
Status : Answered
Chosen Option : 3

Q.9 दिया गया समीकरण संतुलित करने के लिए प्रस्तुत विकल्पों में से किन दो संख्याओं को परस्पर बदला जाना चाहिए?

$$39 \div 3 + 13 \times 5 - 9 = 9$$

- Ans
- ☒ 1. 3 और 13
 - ☒ 2. 13 और 9
 - ☒ 3. 5 और 9
 - ☒ 4. 3 और 9

Question ID : 26433055972
Status : Answered
Chosen Option : 1

Q.10 छह मित्र U, V, W, X, Y और Z एक वृताकार मेज के चारों ओर केंद्र की ओर मुख करके बैठे हैं। Y, Z के बाएं दूसरे स्थान पर बैठा है। Z, W के बाएं दूसरे स्थान पर बैठा है। Z और W के बीच केवल X बैठा है। V, X के दाएं दूसरे स्थान पर बैठा है। X और V के बीच में कौन बैठा है?

- Ans
- ☒ 1. U
 - ☒ 2. Z
 - ☒ 3. W
 - ☒ 4. Y

Question ID : 26433055517
Status : Answered
Chosen Option : 3

Q.11 दिए गए कथनों और निष्कर्षों को ध्यानपूर्वक पढ़ें। यह मानते हुए कि कथनों में दी गई जानकारी सत्य है, भले ही वह सामान्यतः ज्ञात तथ्यों से भिन्न प्रतीत होती हो, उस आधार पर यह तय करें कि दिए गए निष्कर्षों में से कौन-सा/से निष्कर्ष कथनों का तार्किक रूप से अनुसरण करता है/करते हैं।

कथन:

सभी आयरन जैंक हैं।

कुछ कॉपर गोल्ड है।

कोई गोल्ड जैंक नहीं है।

निष्कर्ष:

(I) कुछ आयरन गोल्ड हो सकते हैं।

(II) कोई आयरन गोल्ड नहीं है।

(III) कुछ कॉपर जैंक है।

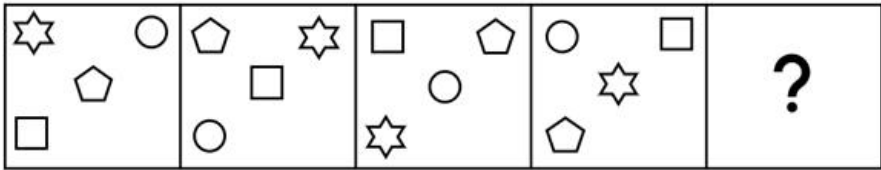
- Ans
- ☒ 1. केवल निष्कर्ष (I) अनुसरण करता है
 - ☒ 2. या तो निष्कर्ष (I) या (II) अनुसरण करता है
 - ☒ 3. केवल निष्कर्ष (II) अनुसरण करता है
 - ☒ 4. केवल निष्कर्ष (I) और (III) अनुसरण करते हैं

Question ID : 26433079084

Status : Answered

Chosen Option : 2

Q.12 उस आकृति का चयन करें, जो निम्न आकृति श्रृंखला में आगे आएगी।



Ans

- ✖ 1.
- ✔ 2.
- ✖ 3.
- ✖ 4.

Question ID : 26433076499
Status : Answered
Chosen Option : 4

Q.13 अक्षरों के उस संयोजन का चयन कीजिए जिसे दी गई श्रृंखला के रिक्त स्थानों में क्रमिक रूप से रखने पर श्रृंखला पूरी हो जाएगी।
YR_TYRG_YRGR_RG_

- Ans

✖ 1. STRP
- ✖ 2. SYTR
- ✔ 3. GSYQ
- ✖ 4. SYPG

Question ID : 26433074657
Status : Answered
Chosen Option : 3

Q.14 निम्नलिखित में से कौन-सी संख्या दी गई श्रृंखला में प्रश्न चिह्न (?) को प्रतिस्थापित करेगी?
5, 19, 49, 101, ?

- Ans ☒ 1. 181
☐ 2. 184
☐ 3. 176
☐ 4. 188

Question ID : 26433057552
Status : Answered
Chosen Option : 1

Q.15 उस विकल्प का चयन कीजिए, जो पाँचवें पद से उसी प्रकार संबंधित है, जिस प्रकार दूसरा पद पहले पद से और चौथा पद तीसरे पद से संबंधित है।
LOST : XVQM :: HELP : TOGI :: WISE : ?

- Ans ☒ 1. IVKX
☐ 2. HVJX
☐ 3. HUKY
☐ 4. HWJY

Question ID : 26433058014
Status : Answered
Chosen Option : 1

Q.16 यदि दर्पण को नीचे दर्शाए गए अनुसार MN पर रखा जाए, तो दी गई आकृति के सही दर्पण प्रतिबिम्ब का चयन कीजिए।



- Ans ☐ 1. J 7 E e D h
☐ 2. 1 5 E e D y
☒ 3. 1 5 E e D h
☐ 4. J 7 E e D h

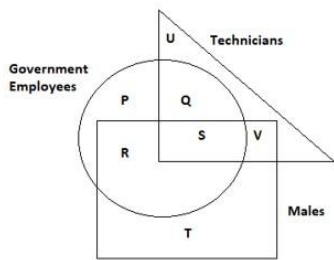
Question ID : 26433056987
Status : Answered
Chosen Option : 3

Q.17 'प्रचुर' का संबंध 'दुर्लभ' से उसी प्रकार है, जिस प्रकार 'कृत्रिम' का संबंध '_____' से है।
(शब्दों को अर्थपूर्ण हिंदी शब्दों के रूप में माना जाना चाहिए और शब्द में अक्षरों की संख्या/व्यंजनों/स्वरों की संख्या के आधार पर एक-दूसरे से संबंधित नहीं होना चाहिए)

- Ans ☐ 1. खोखला
☐ 2. दिखावा करना
☒ 3. प्राकृतिक
☐ 4. निष्ठाहीन

Question ID : 26433078887
Status : Answered
Chosen Option : 3

Q.18 दिए गए आरेख का ध्यानपूर्वक अध्ययन कीजिए और प्रश्न का उत्तर दीजिए।
विभिन्न वर्गों/खंडों की संख्याएँ व्यक्तियों की संख्या को दर्शाती हैं।



निम्नलिखित में से कौन-सा विकल्प उन पुरुषों (Males) का प्रतिनिधित्व करता है
जो तकनीशियन (Technicians) होने के साथ-साथ सरकारी कर्मचारी (Government Employees) भी हैं?

- Ans
- ☒ 1. R + S
 - ☒ 2. R
 - ☒ 3. S
 - ☒ 4. V

Question ID : 26433070412
Status : Answered
Chosen Option : 3

Q.19 दिए गए विकल्पों में से उन संख्याओं को चुनिए, जो निम्नलिखित श्रृंखला में प्रश्न-चिह्नों (?) को प्रतिस्थापित कर
सके।
123, 76, 110, 63, ?, ?, 84

- Ans
- ☒ 1. 94, 55
 - ☒ 2. 107, 60
 - ☒ 3. 92, 45
 - ☒ 4. 97, 50

Question ID : 26433057046
Status : Answered
Chosen Option : 4

Q.20 दिए गए समीकरण को संतुलित करने के लिए * चिह्नों को क्रमिक रूप से बदलने के लिए गणितीय चिह्नों के सही
संयोजन का चयन करें।
 $981 * 672 * 469 * 3 * 441 * 7 = 309$

- Ans
- ☒ 1. +, -, ×, +, ÷
 - ☒ 2. -, ÷, ×, -, +
 - ☒ 3. -, +, ÷, ×, -
 - ☒ 4. ÷, ×, -, +, ×

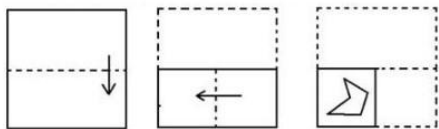
Question ID : 26433056530
Status : Answered
Chosen Option : 1

Q.21 विकल्पों में से कौन सा अक्षर-समूह प्रश्नवाचक चिह्न (?) को प्रतिस्थापित करके दी गई श्रेणी को पूरा करेगा?
YTUQ, XVRU, ?, VZLC, UBIG

- Ans
- ✗ 1. WXPY
 - ✗ 2. WYOX
 - ✗ 3. WYQY
 - ✓ 4. WXOY

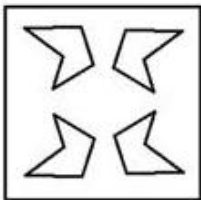
Question ID : 26433065580
Status : Answered
Chosen Option : 4

Q.22 नीचे कागज के एक टुकड़े को मोड़ने का क्रम और मोड़े गए कागज को काटने का तरीका दिखाया गया है।
उस आकृति का चयन करें, जो कागज के खुले रूप से सर्वाधिक मिलती-जुलती हो।

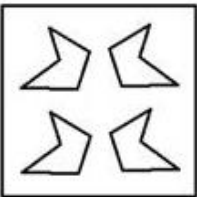


Ans

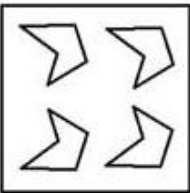
✓ 1.



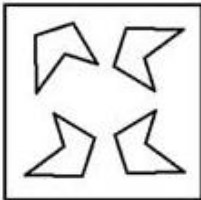
✗ 2.



✗ 3.



✗ 4.



Question ID : 26433056689
Status : Answered
Chosen Option : 1

Q.23 उस समुच्चय का चयन कीजिए जिसमें संख्याएँ उसी प्रकार संबंधित हैं जिस प्रकार निम्नलिखित समुच्चयों की संख्याएँ आपस में संबंधित हैं।
(नोट: संख्याओं को उसके घटक अंकों में विभाजित किए बिना, पूर्ण संख्याओं पर गणितीय संक्रियाएं की जानी चाहिए। उदाहरण के लिए 13 - अगर आपको 13 पर गणितीय संक्रियाएं जैसे कि जोड़ने/घटाने/गुणा करने आदि करना है तो वह 13 पर ही की जा सकती हैं। 13 को 1 और 3 में तोड़ना और फिर 1 और 3 पर गणितीय संक्रियाएँ करने की अनुमति नहीं है।)
(31, 46, 54)
(23, 48, 47)

- Ans
- ☒ 1. (37, 44, 55)
 - ☒ 2. (26, 42, 38)
 - ☒ 3. (27, 40, 57)
 - ☒ 4. (33, 38, 52)

Question ID : 26433057604
Status : Answered
Chosen Option : 4

Q.24 निम्नलिखित में से कौन-सा विकल्प प्रस्तुत शब्दों के सही क्रम का ऐसा द्योतक है, जैसा वे किसी अंग्रेजी शब्दकोश में दिखेंगे?
1. Hooter
2. Hoodlum
3. Hoover
4. Hoodwink
5. Hoop

- Ans
- ☒ 1. 2,5,4,3,1
 - ☒ 2. 2,4,5,1,3
 - ☒ 3. 5,2,4,1,3
 - ☒ 4. 4,2,5,3,1

Question ID : 26433068770
Status : Answered
Chosen Option : 2

Q.25 एक कूट भाषा में 'BLOOD' को C38C के रूप में और 'DEBUT' को S42E के रूप में कूटबद्ध किया जाता है। उसी भाषा में 'GRAIN' को किस प्रकार कूटबद्ध किया जाएगा?

- Ans
- ☒ 1. M39H
 - ☒ 2. L41F
 - ☒ 3. F39L
 - ☒ 4. M41H

Question ID : 26433057829
Status : Not Answered
Chosen Option : --

Q.1 Identify the error in tense and choose the correct sentence from the following options.

We decorate the living-room at the moment.

- Ans ☒ 1. We are decorating the living- room at the moment.
- ☐ 2. We were decorating the living-room at the moment.
- ☐ 3. We have been decorating the room at the moment.
- ☐ 4. We decorates the living-room at the moment.

Question ID : 26433059186
Status : Not Answered
Chosen Option : --

Q.2 Select the most appropriate option to fill in the blanks.

She is a _____ person and changes her mind _____ without any reason.

- Ans ☐ 1. chaste; occasionally
- ☐ 2. charismatic; intermittently
- ☐ 3. conversant; unusually
- ☒ 4. capricious; frequently

Question ID : 26433065183
Status : Not Answered
Chosen Option : --

Q.3 Select the most appropriate meaning of the given idiom.
Hang in there

- Ans ☒ 1. Don't give up
- ☐ 2. Don't be resilient
- ☐ 3. Give up just in time
- ☐ 4. Always go for the gold

Question ID : 26433066120
Status : Not Answered
Chosen Option : --

Q.4 Select the most appropriate synonym of the highlighted word in the following sentence.

He chastised the boy for stealing the purse.

- Ans ☒ 1. Reprimanded
- ☐ 2. Thrashed
- ☐ 3. Scourged
- ☐ 4. Invigorated

Question ID : 26433065216
Status : Not Answered
Chosen Option : --

Q.5 Select the option that can be used as a one-word substitute for the given group of words.

Something which can be copied

- Ans
- ☒ 1. Similarity
 - ☒ 2. Plagiarised
 - ☒ 3. Imitable
 - ☒ 4. Identical

Question ID : 26433070578
Status : Answered
Chosen Option : 1

Q.6 Select the most appropriate ANTONYM of the word fulfil from the given sentence:
My father continuously helps me in preparing my lessons and fulfils my demands so that I don't miss and abandon anything easily.

- Ans
- ☒ 1. miss
 - ☒ 2. abandon
 - ☒ 3. help
 - ☒ 4. continuous

Question ID : 26433058553
Status : Answered
Chosen Option : 2

Q.7 Select the option that can be used as a one-word substitute for the given group of words.

Extreme physical or mental sufferings

- Ans
- ☒ 1. Pain
 - ☒ 2. Trauma
 - ☒ 3. Agony
 - ☒ 4. Destitute

Question ID : 26433070576
Status : Answered
Chosen Option : 1

Q.8 Select the most appropriate option that can substitute the underlined segment in the given sentence.

The major reason for his fiscal success is that his parents are influential people.

- Ans
- ☒ 1. The major reason for his financial success
 - ☒ 2. The major reasons for his budgetary success
 - ☒ 3. The major reason for his fiscal successes
 - ☒ 4. The major reason for his capitalistic success

Question ID : 26433065174
Status : Not Answered
Chosen Option : --

Q.9 Select the option that can be used as a one-word substitute for the given group of words.

Mark with spots or smears of colour

- Ans ☒ 1. Moul
☒ 2. Mould
☒ 3. Mottle
☒ 4. Motto

Question ID : 26433060493
Status : Not Answered
Chosen Option : --

Q.10 Parts of sentences are given below in jumbled order. Arrange the parts in the correct order to form meaningful sentences.

- a) I drove up the asylum to see Charlie
b) looking wane and thin
c) it was a couple of weeks later that
d) he was lying on a cot on big-screened-in porch

- Ans ☒ 1. c, a, d, b
☒ 2. d, c, a, b
☒ 3. d, b, c, a
☒ 4. a, b, c, d

Question ID : 26433063735
Status : Not Answered
Chosen Option : --

Q.11 Select the INCORRECTLY spelt word.

- Ans ☒ 1. Cynic
☒ 2. Personell
☒ 3. Roast
☒ 4. Hoarse

Question ID : 26433066148
Status : Answered
Chosen Option : 2

Q.12 Select the most appropriate ANTONYM of the underlined word in a sentence.

She had an excruciating pain in her knees.

- Ans ☒ 1. Mild
☒ 2. Disturbing
☒ 3. Relaxing
☒ 4. Acute

Question ID : 26433056003
Status : Answered
Chosen Option : 2

Q.13 The following sentence has been split into four segments. Identify the segment that contains a grammatical error.

Despite of / a short deadline, / he finished the assignment / on time.

- Ans
- ☒ 1. he finished the assignment
 - ☒ 2. Despite of
 - ☒ 3. a short deadline
 - ☒ 4. on time

Question ID : 26433061475
Status : Not Answered
Chosen Option : --

Q.14 Select the most appropriate synonym of the underlined word.

This is a dicey situation.

- Ans
- ☒ 1. Exciting
 - ☒ 2. Playful
 - ☒ 3. Uncertain
 - ☒ 4. Enjoyable

Question ID : 26433058308
Status : Not Answered
Chosen Option : --

Q.15 Select the INCORRECTLY spelt word.

- Ans
- ☒ 1. Trouble
 - ☒ 2. Triumph
 - ☒ 3. Traibe
 - ☒ 4. Trivial

Question ID : 26433071854
Status : Answered
Chosen Option : 2

Q.16 Select the most appropriate homonym to fill in the blank.

The room was_____with fans.

- Ans
- ☒ 1. cowled
 - ☒ 2. coaled
 - ☒ 3. cold
 - ☒ 4. cooled

Question ID : 26433058379
Status : Answered
Chosen Option : 3

Q.17 Select the most appropriate synonym of the underlined word in the given sentence.
He is a pessimistic person.

- Ans
- ☒ 1. a better
 - ☒ 2. a cynical
 - ☒ 3. an overthinking
 - ☒ 4. a bad

Question ID : 26433055510
Status : Not Answered
Chosen Option : --

Q.18 Select the most appropriate meaning of the given idiom.
Spill the beans

- Ans
- ☒ 1. To crumble under pressure
 - ☒ 2. To lose a golden opportunity
 - ☒ 3. To give away a secret
 - ☒ 4. To handle tough times

Question ID : 26433066130
Status : Not Answered
Chosen Option : --

Q.19 Select the most appropriate option to fill in the blank.

Ryan had been waiting at the bus stop _____ 5 p.m.

- Ans
- ☒ 1. since
 - ☒ 2. about
 - ☒ 3. for
 - ☒ 4. around

Question ID : 26433060091
Status : Answered
Chosen Option : 1

Q.20 Select the most appropriate option to fill in the blanks.

As calf is to cow, so is _____ to lion.

- Ans
- ☒ 1. kid
 - ☒ 2. cub
 - ☒ 3. colt
 - ☒ 4. lamb

Question ID : 26433073264
Status : Answered
Chosen Option : 4

Comprehension:

In the following passage, some words have been deleted. Read the passage carefully and select the most appropriate option to fill in each blank.

The National Institute of Educational Planning and Administration (NIEPA) occupies a unique position in the network of educational institutions in India, with its functions covering a broad spectrum of academic having both, domestic and international (1) _____. The genesis of NIEPA's evolutionary journey dates back to February 1962 when the Asian Regional Centre for Educational Planners, Administrators and Supervisors was established by UNESCO under an agreement signed by the UN Agency and the Government of India. The principal functions of the Centre (2) _____ conduct research on the problems related to educational planning, administration and school supervision as well as conduct short-term training programmes. Subsequently, with effect from 1 April 1965, the fledgling Centre was rechristened as the Asian Institute of Educational Planning and Administration. The (3) _____ of the Asian Institute by the Government of India at the end of a 10-year agreement between it and the UNESCO paved the way for its (4) _____ into the National Staff College for Educational Planners and Administrators in 1970. This college was restructured and re-registered as National Institute of Educational Planning and Administration (NIEPA) on 31 May 1979, with an expanded (5) _____.

SubQuestion No : 21

Q.21 Select the most appropriate option to fill in blank number 1.

- Ans  1. finales
-  2. sources
-  3. ramifications
-  4. origins

Question ID : 26433058860
Status : Not Answered
Chosen Option : --

Comprehension:

In the following passage, some words have been deleted. Read the passage carefully and select the most appropriate option to fill in each blank.

The National Institute of Educational Planning and Administration (NIEPA) occupies a unique position in the network of educational institutions in India, with its functions covering a broad spectrum of academic having both, domestic and international (1) _____. The genesis of NIEPA's evolutionary journey dates back to February 1962 when the Asian Regional Centre for Educational Planners, Administrators and Supervisors was established by UNESCO under an agreement signed by the UN Agency and the Government of India. The principal functions of the Centre (2) _____ conduct research on the problems related to educational planning, administration and school supervision as well as conduct short-term training programmes. Subsequently, with effect from 1 April 1965, the fledgling Centre was rechristened as the Asian Institute of Educational Planning and Administration. The (3) _____ of the Asian Institute by the Government of India at the end of a 10-year agreement between it and the UNESCO paved the way for its (4) _____ into the National Staff College for Educational Planners and Administrators in 1970. This college was restructured and re-registered as National Institute of Educational Planning and Administration (NIEPA) on 31 May 1979, with an expanded (5) _____.

SubQuestion No : 22

Q.22 Select the most appropriate option to fill in blank number 2.

- Ans  1. was to
-  2. were to
-  3. has to
-  4. have to

Question ID : 26433058861
Status : Not Answered
Chosen Option : --

Comprehension:




In the following passage, some words have been deleted. Read the passage carefully and select the most appropriate option to fill in each blank.

The National Institute of Educational Planning and Administration (NIEPA) occupies a unique position in the network of educational institutions in India, with its functions covering a broad spectrum of academic having both, domestic and international (1) _____. The genesis of NIEPA's evolutionary journey dates back to February 1962 when the Asian Regional Centre for Educational Planners, Administrators and Supervisors was established by UNESCO under an agreement signed by the UN Agency and the Government of India. The principal functions of the Centre (2) _____ conduct research on the problems related to educational planning, administration and school supervision as well as conduct short-term training programmes.

Subsequently, with effect from 1 April 1965, the fledgling Centre was rechristened as the Asian Institute of Educational Planning and Administration. The (3) _____ of the Asian Institute by the Government of India at the end of a 10-year agreement between it and the UNESCO paved the way for its (4) _____ into the National Staff College for Educational Planners and Administrators in 1970. This college was restructured and re-registered as National Institute of Educational Planning and Administration (NIEPA) on 31 May 1979, with an expanded (5) _____.

SubQuestion No : 23

Q.23 Select the most appropriate option to fill in blank number 3.

- Ans  1. taking off
  2. taking part
  3. taking place
  4. taking over

Question ID : 26433058862

Status : Not Answered

Chosen Option : --

Comprehension:

In the following passage, some words have been deleted. Read the passage carefully and select the most appropriate option to fill in each blank.

The National Institute of Educational Planning and Administration (NIEPA) occupies a unique position in the network of educational institutions in India, with its functions covering a broad spectrum of academic having both, domestic and international (1) _____. The genesis of NIEPA's evolutionary journey dates back to February 1962 when the Asian Regional Centre for Educational Planners, Administrators and Supervisors was established by UNESCO under an agreement signed by the UN Agency and the Government of India. The principal functions of the Centre (2) _____ conduct research on the problems related to educational planning, administration and school supervision as well as conduct short-term training programmes.

Subsequently, with effect from 1 April 1965, the fledgling Centre was rechristened as the Asian Institute of Educational Planning and Administration. The (3) _____ of the Asian Institute by the Government of India at the end of a 10-year agreement between it and the UNESCO paved the way for its (4) _____ into the National Staff College for Educational Planners and Administrators in 1970. This college was restructured and re-registered as National Institute of Educational Planning and Administration (NIEPA) on 31 May 1979, with an expanded (5) _____.

SubQuestion No : 24

Q.24 Select the most appropriate option to fill in blank number 4.

- Ans  1. transformation
  2. preservation
  3. stagnation
  4. dissolution

Question ID : 26433058863

Status : Not Answered

Chosen Option : --





Comprehension:

In the following passage, some words have been deleted. Read the passage carefully and select the most appropriate option to fill in each blank.

The National Institute of Educational Planning and Administration (NIEPA) occupies a unique position in the network of educational institutions in India, with its functions covering a broad spectrum of academic having both, domestic and international (1) _____. The genesis of NIEPA's evolutionary journey dates back to February 1962 when the Asian Regional Centre for Educational Planners, Administrators and Supervisors was established by UNESCO under an agreement signed by the UN Agency and the Government of India. The principal functions of the Centre (2) _____ conduct research on the problems related to educational planning, administration and school supervision as well as conduct short-term training programmes. Subsequently, with effect from 1 April 1965, the fledgling Centre was rechristened as the Asian Institute of Educational Planning and Administration. The (3) _____ of the Asian Institute by the Government of India at the end of a 10-year agreement between it and the UNESCO paved the way for its (4) _____ into the National Staff College for Educational Planners and Administrators in 1970. This college was restructured and re-registered as National Institute of Educational Planning and Administration (NIEPA) on 31 May 1979, with an expanded (5) _____.

SubQuestion No : 25




Q.25 Select the most appropriate option to fill in blank number 5.

- Ans  1. mandate
-  2. area
-  3. request
-  4. breach

Question ID : 26433058864
Status : Not Answered
Chosen Option : --





Section : Part-E- Computer Fundamentals

Q.1 एमएस-एक्सेल 2010 (MS-Excel 2010) वर्कशीट में एक ही सेल में एक नई लाइन आरंभ करने के लिए निम्नलिखित में से किस कीबोर्ड शॉर्टकट का उपयोग किया जाता है?

- Ans  1. Ctrl + Enter
-  2. Tab + Enter
-  3. Alt + Enter
-  4. Shift + Enter

Question ID : 26433095289
Status : Not Answered
Chosen Option : --

Q.2 एमएस-एक्सेल 2010 के संबंध में गलत विकल्प का चयन कीजिए।

- Ans  1. एमएस-एक्सेल 2010 में, हम इन्सर्ट टैब से एक टेबल इन्सर्ट कर सकते हैं।
-  2. एमएस-एक्सेल 2010 में, हम किसी सेल में कमेंट नहीं डाल सकते हैं।
-  3. एमएस-एक्सेल 2010 में, नई फाइल को खोलने के लिए Ctrl+N का उपयोग किया जाता है।
-  4. एमएस-एक्सेल 2010 में, हम F12 का उपयोग करके फाइल को सेव कर सकते हैं।

Question ID : 26433095444
Status : Answered
Chosen Option : 3

Q.3 एमएस-एक्सेल 2010 (MS-Excel 2010) में, पहले से विद्यमान फ़ाइल को खोलने के लिए _____ संक्रिया (ऑपरेशन) का उपयोग किया जाता है।

- Ans
- ☒ 1. SAVE AS
 - ☒ 2. OPEN
 - ☒ 3. SAVE
 - ☒ 4. NEW

Question ID : 26433095411
Status : Answered
Chosen Option : 2

Q.4 _____ को आसानी से इंटरनेट से जुड़े कंप्यूटरों में फैलाया जा सकता है। इस तरह के हमलों से आपका सिस्टम फ़्रेश हो सकता है, या आपका महत्वपूर्ण डेटा डिलीट हो सकता है।

- Ans
- ☒ 1. EMAIL (ईमेल)
 - ☒ 2. SEARCH (सर्च)
 - ☒ 3. VIRUS (वाइरस)
 - ☒ 4. CHAT (चैट)

Question ID : 26433095447
Status : Answered
Chosen Option : 1

Q.5 एमएस-वर्ड 2010 (MS-Word 2010) में, स्पेल चेक रन करने के लिए निम्नलिखित में से किस की (key) का उपयोग किया जाता है?

- Ans
- ☒ 1. F7
 - ☒ 2. F5
 - ☒ 3. F3
 - ☒ 4. F1

Question ID : 26433095373
Status : Not Answered
Chosen Option : --

Q.6 एमएस-एक्सेल 2010 (MS-Excel 2010) में _____, मानों को रेफ़रेंस (reference) या एर्रे (array) में अवलोकित करता है।

- Ans
- ☒ 1. VLOOKUP
 - ☒ 2. COUNT
 - ☒ 3. MATCH
 - ☒ 4. SUM

Question ID : 26433095390
Status : Not Answered
Chosen Option : --

Q.7 एक IPv4 पता _____ बिट का होता है।

- Ans
- ☒ 1. 64
 - ☒ 2. 128
 - ☒ 3. 32
 - ☒ 4. 16

Question ID : 26433095326
Status : Not Answered
Chosen Option : --

Q.8 जब एमएस-वर्ड 2010 (MS-Word 2010) का कोई डॉक्यूमेंट पहले से खुला हो, तो नया डॉक्यूमेंट खोलने के लिए किस कीबोर्ड शॉर्टकट का उपयोग किया जाता है?

- Ans
- ☒ 1. Ctrl + X
 - ☒ 2. Ctrl + V
 - ☒ 3. Ctrl + N
 - ☒ 4. Ctrl + Y

Question ID : 26433095322
Status : Answered
Chosen Option : 3

Q.9 ई-मेल (e-mail) में _____ फ़िल्ड उस ई-मेल के उद्देश्य को इंगित करता है।

- Ans
- ☒ 1. टू (To)
 - ☒ 2. फ़ॉम (From)
 - ☒ 3. बीसीसी (Bcc)
 - ☒ 4. सब्जेक्ट (Subject)

Question ID : 26433095465
Status : Answered
Chosen Option : 1

Q.10 MS-Word 2010 में दाईं ओर के कैरेक्टर को डिलीट करने के लिए किस शॉर्टकट की (key) का उपयोग किया जाता है?

- Ans
- ☒ 1. Ctrl+Delete
 - ☒ 2. Alt+Backspace
 - ☒ 3. Delete
 - ☒ 4. Ctrl+Backspace

Question ID : 26433095541
Status : Not Answered
Chosen Option : --