

Delhi Police Head Constable

**Previous Year Paper
(Ministerial) 12 Oct 2022
Shift 2**

Head Constable Ministerial in Delhi Police Examination 2022

Roll Number	
Candidate Name	
Venue Name	
Exam Date	12/10/2022
Exam Time	1:00 PM - 2:30 PM
Subject	Head Constable Ministerial in Delhi Police Examination 2022

Section : Part-A-General Awareness

Q.1 मणिपुर में वर्ष 2022 के विधानसभा चुनाव कितने चरणों में संपन्न हुए?

- Ans ☒ 1. दो
- ☒ 2. पाँच
- ☒ 3. चार
- ☒ 4. तीन

Question ID : 26433061825
Status : Not Answered
Chosen Option : --

Q.2 _____ राज्य ने सरकारी, निजी शैक्षणिक संस्थानों और निजी खेल संस्थानों में स्पोर्ट्स नर्सरी स्थापित करने के लिए खेल नर्सरी योजना 2022-23 शुरू की है?

- Ans ☒ 1. हरियाणा
- ☒ 2. पंजाब
- ☒ 3. राजस्थान
- ☒ 4. मणिपुर

Question ID : 26433061812
Status : Answered
Chosen Option : 1

Q.3 लावणी किस राज्य का लोकप्रिय नृत्य है?

- Ans ☒ 1. उत्तर प्रदेश
- ☒ 2. हरियाणा
- ☒ 3. महाराष्ट्र
- ☒ 4. उड़ीसा

Question ID : 26433064380
Status : Answered
Chosen Option : 3

Q.4 हम ने भारत के निम्नलिखित में से किस वायसराय से भारतीय राष्ट्रीय कांग्रेस के पहले अधिवेशन की अनुमति ली थी?

- Ans ☒ 1. लॉर्ड डफरिन
- ☐ 2. लॉर्ड एल्लिन
- ☐ 3. लॉर्ड रिपन
- ☐ 4. लॉर्ड कर्जन

Question ID : 26433064609
Status : Not Answered
Chosen Option : --

Q.5 भारत की केंद्र सरकार द्वारा 14 नवंबर 2004 को शुरू किए गए NFWP का पूर्ण रूप क्या है?

- Ans ☐ 1. National Food and Wheat Processing (नेशनल फूड एंड व्हीट प्रोसेसिंग)
- ☒ 2. National Food for Work Programme (नेशनल फूड फॉर वर्क प्रोग्राम)
- ☐ 3. National Forest for Wildlife Protection (नेशनल फॉरेस्ट फॉर वाइल्डलाइफ प्रोटेक्शन)
- ☐ 4. National Federation for Work and Progress (नेशनल फेडरेशन फॉर वर्क एंड प्रोग्रेस)

Question ID : 26433081927
Status : Answered
Chosen Option : 3

Q.6 निम्नलिखित में से कौन संघ कार्यकारिणी (Union executive) का संवैधानिक प्रमुख है?

- Ans ☐ 1. प्रधानमंत्री
- ☒ 2. राष्ट्रपति
- ☐ 3. उपराष्ट्रपति
- ☐ 4. मुख्य न्यायाधीश

Question ID : 26433055536
Status : Not Answered
Chosen Option : --

Q.7 नालंदा महाविहार की स्थापना निम्नलिखित में से किस राजा ने की थी?

- Ans ☐ 1. चंद्रगुप्त प्रथम
- ☒ 2. कुमारगुप्त प्रथम
- ☐ 3. कुमारगुप्त द्वितीय
- ☐ 4. समुद्रगुप्त

Question ID : 26433064344
Status : Not Answered
Chosen Option : --

Q.8 मुद्रा की सट्टा मांग और ब्याज दर के बीच क्या संबंध है?

- Ans
- ☐ 1. स्थिर संबंध
 - ☐ 2. प्रत्यक्ष संबंध
 - ☐ 3. कोई संबंध नहीं
 - ☒ 4. प्रतिलोमी संबंध

Question ID : 26433059102

Status : Not Attempted and Marked For Review

Chosen Option : --

Q.9 राज्य सभा ने 2 दिसंबर 2021 को _____ पारित किया, जो बांध की विफलता से संबंधित आपदा की रोकथाम के लिए बांधों की निगरानी, निरीक्षण, संचालन और रखरखाव का प्रावधान करता है, और उनके सुरक्षित कामकाज को सुनिश्चित करने के लिए संस्थागत तंत्र का भी प्रावधान करता है।

- Ans
- ☒ 1. बांध सुरक्षा विधेयक (2019)
 - ☐ 2. राष्ट्रीय बांध विधेयक (2020)
 - ☐ 3. बांध विधेयक (2021)
 - ☐ 4. राष्ट्रीय बांध सुरक्षा विधेयक (2020)

Question ID : 26433055034

Status : Answered

Chosen Option : 2

Q.10 फ़िलपाँव को लसीका फ़ाइलेरिया के रूप में भी जाना जाता है, यह परजीवी कृमियों के कारण होता है, और _____ के माध्यम से एक व्यक्ति से दूसरे व्यक्ति में फैल सकता है।

- Ans
- ☐ 1. विषाणु
 - ☐ 2. प्रोटोज़ोआ
 - ☐ 3. सरीसृप
 - ☒ 4. मच्छर

Question ID : 26433095252

Status : Not Attempted and Marked For Review

Chosen Option : --

Q.11 निम्नलिखित में से किसने हिंदू धर्म में व्याप्त अंधविश्वासों का विरोध किया और 'वेदों की ओर लौटो' का नारा दिया?

- Ans
- ☐ 1. आत्मा राम पांडुरंग
 - ☐ 2. स्वामी सहजानंद
 - ☐ 3. ईश्वर चंद्र विद्यासागर
 - ☒ 4. स्वामी दयानंद सरस्वती

Question ID : 26433054299

Status : Answered

Chosen Option : 3

Q.12 2022 में, निम्नलिखित में से किस राज्य में सरकार ने युवा उद्यमियों के लिए उद्यम शुरू करने के लिए चार विज्ञान पार्क और 14 जिला कौशल पार्क स्थापित करने की योजना की घोषणा की?

- Ans ☒ 1. आंध्र प्रदेश
- ☒ 2. केरल
- ☒ 3. असम
- ☒ 4. ओडिशा

Question ID : 26433054830
Status : Not Answered
Chosen Option : --

Q.13 सार्वजनिक क्षेत्र के उद्यमों से अर्जित लाभ और लाभांश _____ का हिस्सा होते हैं।

- Ans ☒ 1. पूँजीगत राजस्व
- ☒ 2. कर राजस्व
- ☒ 3. सकल राजस्व
- ☒ 4. करेतर राजस्व

Question ID : 26433059236
Status : Answered
Chosen Option : 2

Q.14 भारत में ग्रीष्म वर्षा ऋतु से शुष्क सर्दियों की स्थिति में संक्रमण का मौसम _____ में होता है जब मानसून उत्तरी मैदानों से हटकर देश के दक्षिण भाग में प्रवेश करता है।

- Ans ☒ 1. जून-जुलाई
- ☒ 2. मार्च-मई
- ☒ 3. जनवरी-फ़रवरी
- ☒ 4. अक्टूबर-नवंबर

Question ID : 26433064097
Status : Answered
Chosen Option : 4

Q.15 सितंबर 2022 में "मेडिसिन फ्रॉम द स्काई" परियोजना के शुभारंभ के साथ, टीकों से युक्त पेलोड देने के लिए दृश्य शक्ति सीमा से परे (Beyond Visual Line of Sight (BVLoS)) उड़ानों को शुरू करने वाला देश का पहला राज्य कौन सा है?

- Ans ☒ 1. केरल
- ☒ 2. आंध्र प्रदेश
- ☒ 3. तेलंगाना
- ☒ 4. कर्नाटक

Question ID : 26433095286
Status : Not Answered
Chosen Option : --

Q.16 नई जनता पार्टी सरकार द्वारा _____ पंचवर्षीय योजना के पूरे होने से एक साल पहले उसे समाप्त कर दिया गया था।

- Ans ☒ 1. सातवीं
☒ 2. पाँचवीं
☒ 3. छठवीं
☒ 4. चौथी

Question ID : 26433064109
Status : Not Answered
Chosen Option : --

Q.17 ब्रॉड गेज में रेल की पटरियों के बीच की दूरी कितनी होती है?

- Ans ☒ 1. 1.76 m
☒ 2. 1.59 m
☒ 3. 1.79 m
☒ 4. 1.67 m

Question ID : 26433054979
Status : Answered
Chosen Option : 1

Q.18 भारत आने वाले निम्नलिखित यात्रियों में से कौन पुर्तगाली था?

- Ans ☒ 1. निकोलो दे कॉंटी (Nicolo de Conti)
☒ 2. मार्को पोलो (Marco Polo)
☒ 3. फ्रैंकोइस बर्नियर (Francois Bernier)
☒ 4. दुआर्ते बरबोसा (Duarte Barbosa)

Question ID : 26433064281
Status : Answered
Chosen Option : 3

Q.19 2011 की जनगणना के अनुसार, निम्नलिखित में से किस राज्य/केंद्र शासित प्रदेश में जनसंख्या का घनत्व सबसे अधिक है?

- Ans ☒ 1. महाराष्ट्र
☒ 2. दिल्ली का राष्ट्रीय राजधानी क्षेत्र
☒ 3. चंडीगढ़
☒ 4. उत्तर प्रदेश

Question ID : 26433055333
Status : Answered
Chosen Option : 4

Q.20 बंगला त्योहार मुख्य रूप से किस जनजाति द्वारा मनाया जाता है?

- Ans ☒ 1. गारो
☐ 2. मुंडा
☐ 3. भील
☐ 4. थारु

Question ID : 26433064389
Status : Answered
Chosen Option : 1

Section : Part-B-Quantitative Aptitude

Q.1 12 cm ऊँचाई और 13 cm तिर्यक् ऊँचाई वाले शंकु का संपूर्ण पृष्ठीय क्षेत्रफल कितना है?
($\pi = 3.14$ लीजिए)

- Ans ☐ 1. 264.71 cm^2
☐ 2. 292.4 cm^2
☐ 3. 136.36 cm^2
☒ 4. 282.6 cm^2

Question ID : 26433058809
Status : Answered
Chosen Option : 4

Q.2 एक बैंक में तीन वर्षों के लिए 8% (प्रति वर्ष) की ब्याज दर पर रखी गई दो समान राशियों पर साधारण ब्याज और चक्रवृद्धि ब्याज (वार्षिक रूप से चक्रवृद्धित) का अनुपात क्या होगा?

- Ans ☐ 1. 243 : 342
☒ 2. 1875 : 2029
☐ 3. 3 : 4
☐ 4. 3 : 5

Question ID : 26433057136
Status : Answered
Chosen Option : 2

Q.3 गीता ने ₹2,800 प्रत्येक में दो पोशाकें खरीदीं। यदि वह एक को 10% के लाभ पर बेचती है, तो पूरे लेन-देन पर 15% का लाभ अर्जित करने के लिए उसे दूसरी पोशाक को कितने प्रतिशत लाभ पर बेचना चाहिए?

- Ans ☐ 1. 10%
☐ 2. 15%
☒ 3. 20%
☐ 4. 5%

Question ID : 26433058906
Status : Answered
Chosen Option : 3

Q.4 दो उम्मीदवारों द्वारा लड़े गए चुनाव में एक उम्मीदवार को कुल मतों का 26% प्राप्त हुआ और वह 2280 मतों से हार गया। डाले गए मतों की कुल संख्या ज्ञात कीजिए।

- Ans ☒ 1. 4750
- ☒ 2. 4250
- ☒ 3. 4780
- ☒ 4. 4080

Question ID : 26433063685
Status : Answered
Chosen Option : 1

Q.5 100 km की यात्रा के दौरान, एक चालक पहले 50 km को 50 km/h की चाल से, अगले 25 km को 50 km/h की चाल से और शेष 25 km को 25 km/h की चाल से गाड़ी चलाता है। औसत चाल ज्ञात कीजिए।

- Ans ☒ 1. 40 km/h
- ☒ 2. 50 km/h
- ☒ 3. 43 km/h
- ☒ 4. 33.33 km/h

Question ID : 26433071300
Status : Answered
Chosen Option : 1

Q.6 कल्पना को Rs.3,600 के अंकित मूल्य वाले ओवन की खरीद पर 25% की छूट मिलती है। उसे नकद भुगतान करने पर अतिरिक्त 2% की छूट मिलती है। वह ओवन के लिए कितना भुगतान करती है?

- Ans ☒ 1. Rs.2,646
- ☒ 2. Rs.2,545
- ☒ 3. Rs.2,520
- ☒ 4. Rs.2,708

Question ID : 26433065278
Status : Answered
Chosen Option : 1

Q.7 $\frac{6.25-1.96}{1.1}$ का सरलतम मान ज्ञात कीजिए।

- Ans ☒ 1. 3.9
- ☒ 2. 3.8
- ☒ 3. 4
- ☒ 4. 2.9

Question ID : 26433063441
Status : Answered
Chosen Option : 1

Q.8 वह छोटी से छोटी संख्या ज्ञात कीजिए, जो 42, 56, 62 और 70 से पूर्णतः विभाज्य हो।

- Ans
- ☒ 1. 26082
 - ☒ 2. 26096
 - ☒ 3. 26040
 - ☒ 4. 27010

Question ID : 26433063663
Status : Answered
Chosen Option : 3

Q.9 यदि $\sin \theta + \cos \theta = K$ और $\sec \theta + \operatorname{cosec} \theta = m$ है, तो $m(K^2 - 1)$ का मान ज्ञात कीजिए।

- Ans
- ☒ 1. K
 - ☒ 2. M
 - ☒ 3. 2M
 - ☒ 4. 2K

Question ID : 26433061767
Status : Answered
Chosen Option : 2

Q.10 A एक काम को 24 दिन में पूरा कर सकता है और B उसी काम को 36 दिन में पूरा कर सकता है। वे एक साथ काम करना शुरू करते हैं लेकिन A केवल 4 दिन के लिए काम करता है। शेष काम B द्वारा पूरा किया जाता है। यदि काम को पूरा करने का ठेका ₹4,800 का है, तो B का हिस्सा (₹ में) ज्ञात करें?

- Ans
- ☒ 1. 2,400
 - ☒ 2. 4,400
 - ☒ 3. 4,000
 - ☒ 4. 3,600

Question ID : 26433061912
Status : Answered
Chosen Option : 3

Q.11 निम्न में से सबसे छोटी भिन्न कौन सी है?

- Ans
- ☒ 1. $\frac{7}{12}$
 - ☒ 2. $\frac{11}{16}$
 - ☒ 3. $\frac{12}{15}$
 - ☒ 4. $\frac{4}{7}$

Question ID : 26433058792
Status : Answered
Chosen Option : 4

Q.12 यदि सभी अभाज्य संख्याओं का योग 'x' है और सभी विषम अभाज्य संख्याओं का योग 'y' है, तो x - y का मान क्या है?

- Ans
- ☒ 1. 0
 - ☒ 2. 1
 - ☒ 3. 2
 - ☒ 4. ∞

Question ID : 26433079838
Status : Answered
Chosen Option : 3

Q.13 श्यामल ने शुभम से 8% प्रति वर्ष साधारण ब्याज दर पर 2 वर्षों के लिए ऋण लिया और 2 वर्षों के बाद उसने शुभम को Rs.41,296 वापस करके अपने ऋण का भुगतान पूरा चुकता कर दिया। श्यामल द्वारा भुगतान किया गया ब्याज ज्ञात कीजिए।

- Ans
- ☒ 1. Rs.5,696
 - ☒ 2. Rs.5,699
 - ☒ 3. Rs.5,680
 - ☒ 4. Rs.5,690

Question ID : 26433074932
Status : Answered
Chosen Option : 1

Q.14 एक आदमी अपनी चाल को अपनी मूल चाल से 11/6 गुना बढ़ा देता है। ऐसा करके वह अपने कार्यालय सामान्य समय से 20 मिनट पहले पहुंच जाता है। वह सामान्यतः कार्यालय पहुँचने के लिए कितना समय लेता है।

- Ans
- ☒ 1. 40 मिनट
 - ☒ 2. 25 मिनट
 - ☒ 3. 42 मिनट
 - ☒ 4. 44 मिनट

Question ID : 26433061161
Status : Not Answered
Chosen Option : --

Q.15 एक शंकु के आधार की त्रिज्या 8 cm और ऊर्ध्वाधर ऊंचाई 15 cm है। इसका संपूर्ण पृष्ठीय क्षेत्रफल (cm^2 में, निकटतम पूर्णांक तक पूर्णांकित) क्या होगा? ($\pi = \frac{22}{7}$ लीजिए)

- Ans
- ☒ 1. 427
 - ☒ 2. 629
 - ☒ 3. 721
 - ☒ 4. 578

Question ID : 26433063265
Status : Answered
Chosen Option : 2

Q.16 18 cm त्रिज्या वाले एक वृत्त के वृत्तखंड का क्षेत्रफल $54\pi \text{ cm}^2$ है। उस वृत्तखंड की संगत चाप की लंबाई ज्ञात कीजिए।

- Ans
- ☐ 1. $5\pi \text{ cm}$
 - ☒ 2. $6\pi \text{ cm}$
 - ☐ 3. $8\pi \text{ cm}$
 - ☐ 4. $7\pi \text{ cm}$

Question ID : 26433066335

Status : Answered

Chosen Option : 2

Q.17 यदि $\frac{2x}{5x^2 + 10x - 5} = 1$ है, तो $(x - \frac{1}{x})$ का मान ज्ञात कीजिए।

- Ans
- ☐ 1. 0
 - ☒ 2. $-\frac{8}{5}$
 - ☐ 3. $\frac{5}{2}$
 - ☐ 4. -1

Question ID : 26433061435

Status : Answered

Chosen Option : 2

Q.18 $(-3xy^2 + 1)$ और $7x^3 - 5x^2y - 2y^3 + 3xy^2 + 2x - 5$ के गुणनफल में x^4y^2 और x^2y^4 के गुणांकों का योग _____ है।

- Ans
- ☐ 1. 30
 - ☒ 2. -30
 - ☐ 3. -28
 - ☐ 4. 28

Question ID : 26433061342

Status : Answered

Chosen Option : 2

Q.19 निम्न तालिका पांच छात्रों - V, W, X, Y और Z द्वारा पांच विषयों में प्राप्त किए गए अंकों का प्रतिशत दर्शाती है।

विषय→	गणित	भौतिक विज्ञान	रसायन विज्ञान	वनस्पति विज्ञान	हिन्दी
अधिकतम अंक →	300	300	200	100	100
छात्र↓					
V	60	80	90	100	95
W	90	70	80	70	40
X	70	90	95	80	75
Y	80	60	70	95	80
Z	90	50	80	85	85

छात्र W द्वारा रसायन विज्ञान में प्राप्त किए गए अंक, छात्र Y द्वारा रसायन विज्ञान में प्राप्त किए गए अंकों से कितने अधिक/कम हैं?

- Ans ☒ 1. 20 अधिक
- ☒ 2. 25 कम
- ☒ 3. 15 अधिक
- ☒ 4. 30 कम

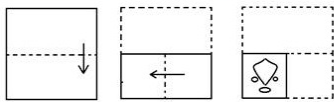
Question ID : 26433066153
Status : Answered
Chosen Option : 1

Q.20 एक कार्यस्थल पर, एक व्यक्ति अकेले एक कार्य को 32 दिन में पूरा कर सकता है। यदि पूरा स्टाफ अर्थात् 6 महिलाएं और 4 पुरुष 6 दिन में कार्य पूरा कर सकते हैं, तो अकेले एक महिला पूरे कार्य को पूरा करने में कितने दिन लेगी?

- Ans ☒ 1. 154
- ☒ 2. 244
- ☒ 3. 86
- ☒ 4. 144

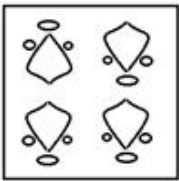
Question ID : 26433058245
Status : Not Attempted and Marked For Review
Chosen Option : --

Q.1 कागज के एक टुकड़े को मोड़ने का क्रम और मोड़े गए कागज को काटने का तरीका नीचे दिखाया गया है। एक ऐसी आकृति चुनें जो कागज को खोलने पर उसके खुले रूप से सबसे अधिक मिलती-जुलती होगी।

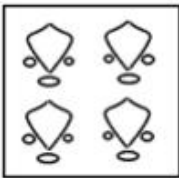


Ans

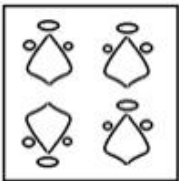
✗ 1.



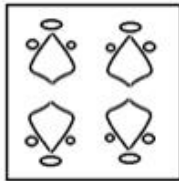
✗ 2.



✗ 3.



✓ 4.



Question ID : 26433057415

Status : Answered

Chosen Option : 4

Q.2 सात व्यक्ति A, B, C, D, E, F और G एक सीधी पंक्ति में उत्तर की ओर मुख करके बैठे हैं। E के बाईं ओर केवल दो व्यक्ति बैठे हैं। E और C के बीच केवल तीन व्यक्ति बैठे हैं। B, A के दायें दूसरे स्थान पर बैठा है। B, C का निकटतम पड़ोसी नहीं है। D, G के ठीक दायें बैठा है। पंक्ति के बीच में कौन बैठा है?

Ans

✗ 1. C

✗ 2. E

✗ 3. D

✓ 4. B

Question ID : 26433068641

Status : Not Answered

Chosen Option : --

Q.3 दिए गए विकल्पों में से उस संख्या का चयन करें जो निम्नलिखित श्रृंखला में प्रश्नवाचक चिन्ह (?) का स्थान ले सकती है।
25, 36, 48, 61, 75, ?

- Ans ☒ 1. 90
☐ 2. 86
☐ 3. 94
☐ 4. 81

Question ID : 26433057782
Status : Answered
Chosen Option : 1

Q.4 विकल्पों में से कौन सा अक्षर-समूह प्रश्नवाचक चिह्न (?) को प्रतिस्थापित करके दी गई श्रेणी को पूरा करेगा?
DINS , GLQV, JOTY, ?, PUZE

- Ans ☐ 1. WBPQ
☐ 2. WBMR
☐ 3. RWMB
☒ 4. MRWB

Question ID : 26433065593
Status : Answered
Chosen Option : 4

Q.5 एक कूट भाषा में, 'close the window' को 'ja pa la' के रूप में कूटबद्ध किया जाता है, 'window is opened' को 'ma du la' के रूप में कूटबद्ध किया जाता है, 'door is strong' को 'na ta ma' के रूप में कूटबद्ध किया जाता है। शब्द 'opened' के लिए कूट क्या होगा?

- Ans ☐ 1. pa
☐ 2. ma
☐ 3. la
☒ 4. du

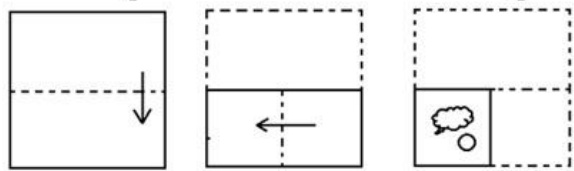
Question ID : 26433057286
Status : Answered
Chosen Option : 4

Q.6 A, C की माता है। D और E, G के भाई हैं। G, C के पिता है। H, E का पुत्र है। H, A से किस प्रकार संबंधित है?

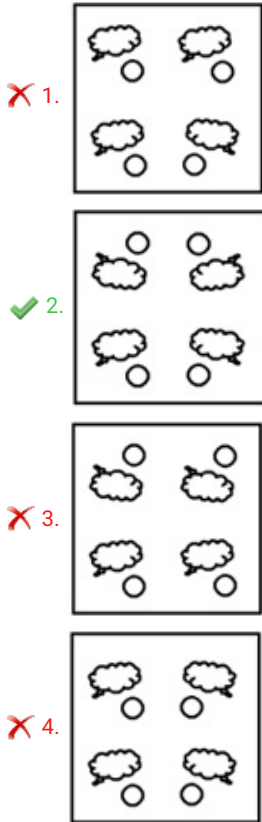
- Ans ☐ 1. पुत्र
☐ 2. भाई
☐ 3. पिता
☒ 4. पति के भाई का पुत्र

Question ID : 26433074718
Status : Answered
Chosen Option : 4

Q.7 कागज के एक टुकड़े को मोड़ने का क्रम और मोड़े गए कागज को काटने का तरीका नीचे दर्शाया गया है। उस आकृति का चयन करें जो कागज को खोलने पर उसके खुले रूप से सबसे अधिक मिलती जुलती होगी।



Ans



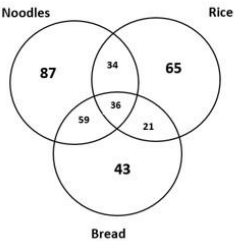
Question ID : 26433067440
Status : Answered
Chosen Option : 2

Q.8 A, B, C, D, E, F, G और H किसी वर्गाकार मेज के परितः मेज के केंद्राभिमुख होकर बैठे हैं। उनमें से कुछ कोने में, जबकि कुछ भुजा के ठीक केंद्र पर बैठे हैं। G कोने में बैठा है। B, G के बाएँ से दूसरा है। D, B और G के ठीक पास में है। H, B के बाएँ से तीसरा है। दो लोग E और B के ठीक बीच में बैठे हैं। C किसी भी कोने में नहीं बैठा है। A, E के ठीक दाएँ है। F की स्थिति क्या है?

- Ans
- ☒ 1. H के ठीक बाएँ
 - ☒ 2. E के बाएँ से चौथा
 - ☒ 3. D के दाएँ से तीसरा
 - ☒ 4. D के बाएँ से तीसरा

Question ID : 26433068816
Status : Not Answered
Chosen Option : --

Q.9 दिए गए आरेख का ध्यानपूर्वक अध्ययन करें और प्रश्नों के उत्तर दें।
विभिन्न वर्गों में दी गई संख्याएँ उन व्यक्तियों की संख्या को दर्शाती हैं, जो विभिन्न खाद्य पदार्थ पसंद करते हैं।
ऐसे कितने व्यक्ति हैं, जो ब्रेड (Bread) पसंद नहीं करते हैं?



- Ans ☒ 1. 151
☒ 2. 186
☒ 3. 43
☒ 4. 36

Question ID : 26433069372
Status : Answered
Chosen Option : 2

Q.10 अंग्रेजी वर्णमाला क्रम में स्थिति के आधार पर, निम्नलिखित में से तीन अक्षर-समूह किसी न किसी रूप में संगत हैं और एक असंगत है। असंगत अक्षर-समूह का चयन करें।

- Ans ☒ 1. FNJL
☒ 2. LTPR
☒ 3. SBWY
☒ 4. VDZB

Question ID : 26433095716
Status : Answered
Chosen Option : 3

Q.11 एक निश्चित कूट भाषा में, 'VITAL' को K49W और 'WOMAN' को M51X के रूप में कूटबद्ध किया जाता है। उसी भाषा में 'POWER' को किस प्रकार कूटबद्ध किया जाएगा?

- Ans ☒ 1. Q62Q
☒ 2. M60S
☒ 3. M78S
☒ 4. Q72M

Question ID : 26433074712
Status : Answered
Chosen Option : 2

Q.12 अक्षरों के उस संयोजन का चयन करें जो दी गई श्रृंखला के रिक्त स्थानों में क्रमिक रूप से रखे जाने पर श्रृंखला को पूर्ण करेगा।
WXYZ _ WXY _ Z _ XX _ ZWW

- Ans
- ☒ 1. ZYYZ
 - ☒ 2. WYWZ
 - ☒ 3. WZZW
 - ☒ 4. ZYWY

Question ID : 26433057739
Status : Answered
Chosen Option : 3

Q.13 उस विकल्प का चयन करें जो चौथी संख्या से ठीक उसी प्रकार संबंधित है जिस प्रकार पहली संख्या दूसरी संख्या से और पांचवीं संख्या छठी संख्या से संबंधित है।
74 : 37 :: ? : 26 :: 148 : 74

- Ans
- ☒ 1. 74
 - ☒ 2. 84
 - ☒ 3. 52
 - ☒ 4. 68

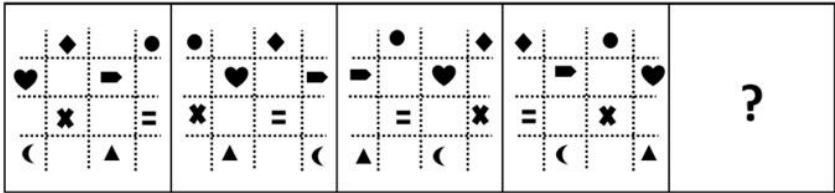
Question ID : 26433056488
Status : Answered
Chosen Option : 3

Q.14 उस विकल्प का चयन कीजिए जो पांचवें अक्षर-समूह से उसी प्रकार संबंधित है जिस प्रकार दूसरा अक्षर-समूह पहले अक्षर-समूह से संबंधित है और चौथा अक्षर-समूह तीसरे अक्षर-समूह से संबंधित है।
GARNISH : RAGHSIN :: DOLEFUL : LODLUFE :: ABOLISH : ?

- Ans
- ☒ 1. BOLISHA
 - ☒ 2. HSILOBA
 - ☒ 3. LOBAHSIL
 - ☒ 4. OBAHSIL


Question ID : 26433056400
Status : Answered
Chosen Option : 4

Q.15 उस आकृति का चयन कीजिए, जो निम्नलिखित आकृति शृंखला में प्रश्न-चिह्न (?) को प्रतिस्थापित करेगी।




Ans


✗ 1.




✓ 2.



✗ 3.




✗ 4.



Question ID : 26433056097
Status : Answered
Chosen Option : 2

Q.16 उस समुच्चय का चयन कीजिए जिसमें संख्याएँ उसी प्रकार संबंधित हैं जिस प्रकार निम्नलिखित समुच्चयों की संख्याएँ आपस में संबंधित हैं।
(नोट: संख्याओं को उसके घटक अंकों में विभाजित किए बिना, पूर्ण संख्याओं पर गणितीय संक्रियाएं की जानी चाहिए। उदाहरण के लिए 13 - अगर आपको 13 पर गणितीय संक्रियाएं जैसे कि जोड़ने/घटाने/गुणा करने आदि करना है तो वह 13 पर ही की जा सकती हैं। 13 को 1 और 3 में तोड़ना और फिर 1 और 3 पर गणितीय संक्रियाएँ करने की अनुमति नहीं है।)
(8, 32, 68)
(5, 20, 44)

Ans  1. (11, 42, 164)

 2. (9, 20, 44)

 3. (7, 28, 58)


 4. (4, 16, 36)

Question ID : 26433057609

Status : Answered

Chosen Option : 4

Q.17 उस आकृति का चयन कीजिए जो नीचे दी गई आकृति श्रृंखला में आगे आएगी।

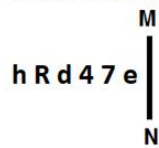


Ans

- ✓ 1.
- ✗ 2.
- ✗ 3.
- ✗ 4.

Question ID : 26433057527
Status : Answered
Chosen Option : 4

Q.18 यदि दर्पण को नीचे दर्शाए गए अनुसार MN पर रखा जाए, तो दी गई आकृति के सही दर्पण प्रतिबिम्ब का चयन कीजिए।



- Ans
- ✓ 1. e 7 4 b R d
 - ✗ 2. e 7 4 b R h
 - ✗ 3. e 7 4 b R d
 - ✗ 4. e 7 4 b R d

Question ID : 26433056982
Status : Answered
Chosen Option : 1

Q.19 'A @ B' का अर्थ है कि 'A, B का पति है'।
'A & B' का अर्थ है कि 'A, B के माता-पिता हैं'।
'A # B' का अर्थ है कि 'A, B का भाई है'।
'A % B' का अर्थ है कि 'A, B की पत्नी है'।

यदि G @ H & N # K % Y है, तो G का Y से क्या संबंध है?

- Ans
- ✗ 1. पिता
 - ✓ 2. ससुर
 - ✗ 3. पिता के पिता
 - ✗ 4. मामा

Question ID : 26433055304
Status : Answered
Chosen Option : 2

Q.20 उस विकल्प का चयन कीजिए, जो पाँचवें पद से उसी प्रकार संबंधित है, जिस प्रकार दूसरा पद पहले पद से और चौथा पद तीसरे पद से संबंधित है।
GRAB : JVFH :: BUST : EYZX :: DIPS : ?

- Ans
- ✗ 1. GNVZ
 - ✗ 2. GMTZ
 - ✓ 3. GMUY
 - ✗ 4. HNUY

Question ID : 26433058012
Status : Answered
Chosen Option : 3

Q.21 दिए गए विकल्पों में से उन संख्याओं को चुनिए, जो निम्नलिखित शृंखला में प्रश्न-चिह्नों (?) को प्रतिस्थापित कर सके।
76, 55, 97, 99, 118, 143, ?, ?

- Ans
- ☒ 1. 139, 180
 - ☒ 2. 141, 165
 - ☒ 3. 140, 187
 - ☒ 4. 139, 187

Question ID : 26433057049
Status : Not Answered
Chosen Option : --

Q.22 तीन कथनों के बाद I, II और III अंकित करके तीन निष्कर्ष प्रस्तुत हैं। कथनों को सत्य मानकर आप तय करें कि कौन निष्कर्ष तार्किक रूप से उन कथनों का अनुपालन करता है/करते हैं, भले ही वे सामान्य ज्ञात तथ्यों से भिन्न लगते हों।
कथन:
सभी शिमला मिर्च, मिर्च हैं।
सभी मिर्च, ककड़ी हैं।
सभी ककड़ी, लौकी हैं।
निष्कर्ष:
I. कुछ ककड़ी, शिमला मिर्च हैं।
II. सभी लौकी, शिमला मिर्च हैं।
III. सभी मिर्च, लौकी हैं।

- Ans
- ☒ 1. केवल कथन I और III अनुपालन करते हैं
 - ☒ 2. सभी कथन अनुपालन करते हैं
 - ☒ 3. केवल कथन I और II अनुपालन करते हैं
 - ☒ 4. केवल कथन II और III अनुपालन करते हैं

Question ID : 26433076531
Status : Answered
Chosen Option : 1





Q.23 दिए गए समीकरण को संतुलित करने के लिए * चिह्नों को क्रमिक रूप से बदलने के लिए गणितीय चिह्नों के सही संयोजन का चयन करें।
 $255 * 376 * 94 * 502 * 388 = 638 * 268$

- Ans
- ☒ 1. $\times, \div, +, -, +$
 - ☒ 2. $\div, \times, +, -, -$
 - ☒ 3. $\times, \div, -, +, +$
 - ☒ 4. $+, \div, \times, +, -$

Question ID : 26433056517
Status : Answered
Chosen Option : 4

Q.24 निम्नलिखित में से कौन-सा विकल्प प्रस्तुत शब्दों के सही क्रम का ऐसा द्योतक है, जैसा वे किसी अंग्रेजी शब्दकोश में दिखेंगे?

- 1. Insolent
- 2. Insert
- 3. Insect
- 4. Inscribe
- 5. Inshore

Ans  1. 3,2,4,5,1
 2. 4,3,2,5,1
 3. 4,2,3,5,1
 4. 2,3,5,1,4

Question ID : 26433068765
Status : Answered
Chosen Option : 2





Q.25 दिए गए समीकरण को सही (संतुलित) बनाने के लिए किन दो गणितीय चिह्नों को आपस में बदलना होगा?
 $36 \times 4 \div 2 + 20 - 54 = 22$

Ans  1. \times और $-$
 2. \div और \times
 3. $+$ और \times
 4. $-$ और \div

Question ID : 26433056853
Status : Not Answered
Chosen Option : --

Section : Part-D- English Language

Q.1 The following sentence has been divided into parts. One of them may contain an error. Select the part that contains the error from the given options. If you don't find any error, mark 'No error' as your answer.
Whoever is the bravest / shall claimed the throne / and become the ruler.

Ans  1. Whoever is the bravest
 2. shall claimed the throne
 3. and become the ruler
 4. No error

Question ID : 26433059061
Status : Answered
Chosen Option : 2

Q.2 The following sentence has been split into four segments. Identify the segment that contains an INCORRECTLY spelt word.
The heinous crime committed in broad daylight / shocked everyone in the visinity and intimidated / the elderly people, particularly those who were / in the habit of going for evening walks to the community park.

- Ans ☒ 1. shocked everyone in the visinity and intimidated
- ☒ 2. the elderly people particularly those who were
- ☒ 3. in the habit of going for evening walks to the community park
- ☒ 4. The heinous crime committed in broad daylight

Question ID : 26433058265
Status : Marked For Review
Chosen Option : 1

Q.3 Select the most appropriate ANTONYM of the given word.

Strident

- Ans ☒ 1. Noiseless
- ☒ 2. Monumental
- ☒ 3. Notorious
- ☒ 4. Clamorous

Question ID : 26433063634
Status : Not Attempted and Marked For Review
Chosen Option : --

Q.4 Select the most appropriate option that can substitute the underlined segment in the given sentence.

No sooner the villagers saw the tiger, than they ran away.

- Ans ☒ 1. No sooner did the villagers see
- ☒ 2. No sooner did the villagers saw
- ☒ 3. No sooner had the villagers seen
- ☒ 4. As soon as the villagers saw

Question ID : 26433065177
Status : Answered
Chosen Option : 1

Q.5 Select the most appropriate option that can substitute the underlined segment in the given sentence. If there is no need to substitute it, select 'No substitution required'.

Could you tell me what time is it now?

- Ans ☒ 1. what time was it now?
- ☒ 2. how much time now?
- ☒ 3. No substitution required
- ☒ 4. what time it is now?

Question ID : 26433063627
Status : Answered
Chosen Option : 2

Q.6 Select the INCORRECTLY spelt word.

- Ans ☒ 1. Wholesome
☒ 2. Novice
☒ 3. Tangible
☒ 4. Colum

Question ID : 26433066136
Status : Answered
Chosen Option : 4

Q.7 Select the most appropriate option that can substitute the underlined segment in the given sentence. If there is no need to substitute it, select 'No substitution'.

I could not find him nowhere.

- Ans ☒ 1. No substitution
☒ 2. find him somewhere
☒ 3. find him everywhere
☒ 4. find him anywhere

Question ID : 26433073252
Status : Answered
Chosen Option : 4

Q.8 Select the most appropriate ANTONYM of the given word.
General

- Ans ☒ 1. Limited
☒ 2. Famous
☒ 3. Widespread
☒ 4. Particular

Question ID : 26433063110
Status : Answered
Chosen Option : 1

Q.9 Select the most appropriate ANTONYM of the underlined word.

Though for many the artifact did not fetch any value, it was precious for the artist.

- Ans ☒ 1. Worthless
☒ 2. Rare
☒ 3. Costly
☒ 4. Modern

Question ID : 26433073191
Status : Answered
Chosen Option : 1

Q.10 The following sentence has been split into four segments. Identify the segment that contains a grammatical error.

Ria is / the most / intelligent between / all of us.

- Ans
- ☒ 1. Ria is
 - ☒ 2. all of us
 - ☒ 3. intelligent between
 - ☒ 4. the most

Question ID : 26433061478
Status : Answered
Chosen Option : 3

Q.11 Select the most appropriate option to fill in the blank.

The boy was_____to work as a printer's apprentice at a young age

- Ans
- ☒ 1. impelled
 - ☒ 2. deprived
 - ☒ 3. compelled
 - ☒ 4. justified

Question ID : 26433063763
Status : Not Answered
Chosen Option : --

Q.12 Select the most appropriate ANTONYM of the underlined word.

Being humane with enemies is a rare quality.

- Ans
- ☒ 1. Barbaric
 - ☒ 2. Manly
 - ☒ 3. Interesting
 - ☒ 4. Womanish

Question ID : 26433063640
Status : Answered
Chosen Option : 2

Q.13 Select the most appropriate ANTONYM of the underlined word.

Competence is such a thing that is developed by hard work only.

- Ans
- ☒ 1. Ability
 - ☒ 2. Potential
 - ☒ 3. Incompetence
 - ☒ 4. Non-competent

Question ID : 26433072093
Status : Answered
Chosen Option : 3

Q.14 Select the idiom that can substitute the underlined group of words.

My old phone finally stopped working.

- Ans ☒ 1. Hit the hay
☒ 2. Gave up the ghost
☒ 3. Came up swinging
☒ 4. Broke a leg

Question ID : 26433063653
Status : Answered
Chosen Option : 4

Q.15 Select the most appropriate option to fill in the blank.

These words of comfort, uttered with cheering tones, and accompanied with a look of inexpressible tenderness and _____, brought back peace for a while to her troubled spirit. They communicated together, and on parting, the magnanimous woman once more embraced her young friend; then stretching her hand toward heaven, said, "Be tranquil, Maria! by tomorrow morning we are there, and all our sorrows stay here behind us."

- Ans ☒ 1. anxiety
☒ 2. disruption
☒ 3. serenity
☒ 4. agitation

Question ID : 26433069769
Status : Not Answered
Chosen Option : --

Q.16 Sentences of a paragraph are given below. While the first and the last sentences (S1 and S6) are in the correct order, the sentences in between are jumbled up. Arrange the sentences in the correct order to form a meaningful and coherent paragraph.

- S1. He charged three pies per question
A. till the other had spoken
B. and never opened his mouth
C. for at least ten minutes
D. which provided him enough stuff
S6. for a dozen answers and advices.

- Ans ☒ 1. ABCD
☒ 2. ADCB
☒ 3. DACB
☒ 4. BACD

Question ID : 26433063578
Status : Answered
Chosen Option : 3

Q.17 Select the option that can be used as a one-word substitute for the given group of words.
Not quite coinciding with a central position

- Ans ☒ 1. Off-chance
☒ 2. Off-beat
☒ 3. Off-break
☒ 4. Off-centre

Question ID : 26433060494
Status : Answered
Chosen Option : 4

Q.18 Select the most appropriate idiom or phrase to complete the given sentence.

It is easier to learn how a machine works from pictures rather than descriptions, since _____.

- Ans ☒ 1. its face is a picture
☒ 2. it is pretty as a picture
☒ 3. a picture paints a thousand words
☒ 4. it takes a picture

Question ID : 26433056016
Status : Answered
Chosen Option : 3

Q.19 Select the option that can be used as a one-word substitute for the given group of words.
Changing frequently

- Ans ☒ 1. Fickle
☒ 2. Flake
☒ 3. Certain
☒ 4. Contiguous

Question ID : 26433060741
Status : Answered
Chosen Option : 1

Q.20 Select the most appropriate synonym of the underlined word in the given sentence.
He felt awkward when the teacher asked him a question.

- Ans ☒ 1. uncomfortable
☒ 2. convenient
☒ 3. relaxed
☒ 4. easy

Question ID : 26433055503
Status : Answered
Chosen Option : 1



Comprehension:

In the following passage, some words have been deleted. Read the passage carefully and select the most appropriate option to fill in each blank.

Each one of us is naturally a (1) _____ of a family that includes father, mother, brothers and sisters. Then there are other (2) _____ such as grand-parents, aunts, uncles, cousins, nephews, nieces etc. These relationships are a reality of our life for each one of us. Then we also have friends and colleagues (3) _____ whom we frequently interact. We have teachers (4) _____ enable us to learn and understand various things in life. We have recognised and identified these individuals, that we feel, understand us, have (5) _____ interests or tastes and we have an affinity for them.

SubQuestion No : 21

Q.21 Select the most appropriate option to fill in blank number 1.

- Ans  1. category
 2. segment
 3. division
 4. part

Question ID : **26433072487**
Status : **Answered**
Chosen Option : **4**

Comprehension:

In the following passage, some words have been deleted. Read the passage carefully and select the most appropriate option to fill in each blank.

Each one of us is naturally a (1) _____ of a family that includes father, mother, brothers and sisters. Then there are other (2) _____ such as grand-parents, aunts, uncles, cousins, nephews, nieces etc. These relationships are a reality of our life for each one of us. Then we also have friends and colleagues (3) _____ whom we frequently interact. We have teachers (4) _____ enable us to learn and understand various things in life. We have recognised and identified these individuals, that we feel, understand us, have (5) _____ interests or tastes and we have an affinity for them.

SubQuestion No : 22

Q.22 Select the most appropriate option to fill in blank number 2.

- Ans  1. affiliations
 2. groups
 3. relations
 4. associations

Question ID : **26433072488**
Status : **Answered**
Chosen Option : **3**

Comprehension:

In the following passage, some words have been deleted. Read the passage carefully and select the most appropriate option to fill in each blank.

Each one of us is naturally a (1) _____ of a family that includes father, mother, brothers and sisters. Then there are other (2) _____ such as grand-parents, aunts, uncles, cousins, nephews, nieces etc. These relationships are a reality of our life for each one of us. Then we also have friends and colleagues (3) _____ whom we frequently interact. We have teachers (4) _____ enable us to learn and understand various things in life. We have recognised and identified these individuals, that we feel, understand us, have (5) _____ interests or tastes and we have an affinity for them.

SubQuestion No : 23

Q.23 Select the most appropriate option to fill in blank number 3.

- Ans  1. of
-  2. with
-  3. from
-  4. out of

Question ID : **26433072489**
Status : **Answered**
Chosen Option : **2**




Comprehension:

In the following passage, some words have been deleted. Read the passage carefully and select the most appropriate option to fill in each blank.

Each one of us is naturally a (1) _____ of a family that includes father, mother, brothers and sisters. Then there are other (2) _____ such as grand-parents, aunts, uncles, cousins, nephews, nieces etc. These relationships are a reality of our life for each one of us. Then we also have friends and colleagues (3) _____ whom we frequently interact. We have teachers (4) _____ enable us to learn and understand various things in life. We have recognised and identified these individuals, that we feel, understand us, have (5) _____ interests or tastes and we have an affinity for them.

SubQuestion No : 24

Q.24 Select the most appropriate option to fill in blank number 4.

- Ans  1. whose
-  2. whichever
-  3. who
-  4. whom

Question ID : **26433072490**
Status : **Answered**
Chosen Option : **3**

Comprehension:

In the following passage, some words have been deleted. Read the passage carefully and select the most appropriate option to fill in each blank.

Each one of us is naturally a (1) _____ of a family that includes father, mother, brothers and sisters. Then there are other (2) _____ such as grand-parents, aunts, uncles, cousins, nephews, nieces etc. These relationships are a reality of our life for each one of us. Then we also have friends and colleagues (3) _____ whom we frequently interact. We have teachers (4) _____ enable us to learn and understand various things in life. We have recognised and identified these individuals, that we feel, understand us, have (5) _____ interests or tastes and we have an affinity for them.

SubQuestion No : 25

Q.25 Select the most appropriate option to fill in blank number 5.

- Ans ☒ 1. same
☒ 2. parallel
☒ 3. adjacent
☒ 4. similar

Question ID : 26433072491
Status : Answered
Chosen Option : 4

Section : Part-E- Computer Fundamentals

Q.1 निम्नलिखित में से कौन सा कीबोर्ड शॉर्टकट, क्रोम ब्राउज़र में वर्तमान पेज के लिए गैर-संपादन योग्य(non-editable) एचटीएमएल(HTML) सोर्स कोड प्रदर्शित करने के लिए उपयोग किया जाता है?

- Ans ☒ 1. CTRL + S
☒ 2. CTRL + U
☒ 3. ALT + U
☒ 4. ALT + S

Question ID : 26433095317
Status : Answered
Chosen Option : 4

Q.2 एमएस-वर्ड 2010 में, यदि आप किसी टेबल के भीतर टैब की (Tab key) दबाते हैं, तो कर्सर टेबल के/की अगले/अगली _____ पर चला जाता है।

- Ans ☒ 1. डाटा (Data)
☒ 2. रो (Row)
☒ 3. सेल (Cell)
☒ 4. लाइन (Line)

Question ID : 26433095371
Status : Answered
Chosen Option : 2

Q.3 पैराग्राफ में डबल स्पेसिंग (double spacing) अप्लाई करने के लिए MS-Word 2010 में निम्नलिखित में से किस शॉर्टकट की (key) का उपयोग किया जाता है?

- Ans
- ☒ 1. Ctrl + 1
 - ☒ 2. Ctrl + 2
 - ☒ 3. Ctrl + 4
 - ☒ 4. Ctrl + 5

Question ID : 26433095544
Status : Answered
Chosen Option : 2

Q.4 एमएस-वर्ड 2010 में निम्नलिखित में से कौन सा फीचर किसी डॉक्यूमेंट में चयनित टेक्स्ट में एक सीधी रेखा खींचने के लिए उपयोग किया जा सकता है?

- Ans
- ☒ 1. रिप्लेस (Replace)
 - ☒ 2. इरेजर (Eraser)
 - ☒ 3. फॉर्मेट पेंटर (Format Painter)
 - ☒ 4. स्ट्राइकथ्रू (Strikethrough)

Question ID : 26433095311
Status : Answered
Chosen Option : 3

Q.5 एमएस-एक्सेल 2010 रिबन बार में _____ टैब में अनहाइड (Unhide) विकल्प मौजूद रहता है।

- Ans
- ☒ 1. व्यू (View)
 - ☒ 2. इन्सर्ट (Insert)
 - ☒ 3. डेटा (Data)
 - ☒ 4. फाइल (File)

Question ID : 26433095439
Status : Answered
Chosen Option : 1

Q.6 निम्नलिखित में से किस प्रकार की इंटरनेट सर्विस के लिए केबल या फोन लाइन की आवश्यकता नहीं होती है?

- Ans
- ☒ 1. डीएसएल (DSL)
 - ☒ 2. डायल अप (Dial up)
 - ☒ 3. सेटेलाइट (Satellite)
 - ☒ 4. केबल (Cable)

Question ID : 26433095386
Status : Answered
Chosen Option : 3

Q.7 एमएस-एक्सेल 2010 (MS-Excel 2010) में पिछली शीट पर जाने के लिए _____ शॉर्टकट की (key) का उपयोग किया जाता है।

- Ans
- ☒ 1. Alt+PageUp
 - ☒ 2. Alt+ PageDown
 - ☒ 3. Ctrl + PageUp
 - ☒ 4. Ctrl + PageDown

Question ID : 26433095429

Status : Answered

Chosen Option : 2

Q.8 MS-Excel 2010 के EXACT() फंक्शन के संदर्भ में निम्नलिखित कथन पर विचार करें।
P: यह दो टेक्स्ट स्ट्रिंग्स की तुलना करता है और यदि वे बिल्कुल समान हैं तो TRUE प्रदर्शित करता है।
Q: यह दो टेक्स्ट स्ट्रिंग्स की तुलना करता है और यदि वे बिल्कुल समान नहीं हैं तो 1 प्रदर्शित करता है।
R: यह दो टेक्स्ट स्ट्रिंग्स की तुलना करता है और यदि वे बिल्कुल समान नहीं हैं तो FALSE प्रदर्शित करता है।
निम्नलिखित में से कौन सा/से कथन सत्य है/हैं?

- Ans
- ☒ 1. P, Q, R सभी
 - ☒ 2. केवल P
 - ☒ 3. केवल P और Q
 - ☒ 4. केवल P और R

Question ID : 26433095530

Status : Answered

Chosen Option : 1

Q.9 निम्नलिखित में से कौन-सा इफ़ेक्ट (effect), MS-Word 2010 के फॉन्ट डायलॉग बॉक्स (font dialog box) में उपलब्ध नहीं है?

- Ans
- ☒ 1. इटैलिक (Italic)
 - ☒ 2. बोल्ड (Bold)
 - ☒ 3. फैंसी (Fancy)
 - ☒ 4. सब्सक्रिप्ट (Subscript)

Question ID : 26433095543

Status : Answered

Chosen Option : 4

Q.10 निम्नलिखित में से कौन सा एक वैध ईमेल एड्रेस है?

- Ans
- ☒ 1. John123@.net
 - ☒ 2. mySchool@gmail.com
 - ☒ 3. abc@def@gmail.com
 - ☒ 4. @domainname.com

Question ID : 26433095385

Status : Answered

Chosen Option : 2