

**Delhi Police  
Head Constable**

**Previous Year Paper  
(Ministerial) 12 Oct 2022  
Shift 1**

# Head Constable Ministerial in Delhi Police Examination 2022

Roll Number	
Candidate Name	
Venue Name	DIT Education Centre
Exam Date	12/10/2022
Exam Time	9:00 AM - 10:30 AM
Subject	Head Constable Ministerial in Delhi Police Examination 2022

Section : **Part-A-General Awareness**

Q.1 प्रसिद्ध भारतीय किशोरी, उन्नति हुड्डा निम्नलिखित में से किस खेल से संबंधित है?

- Ans
- ☒ 1. टेबल टेनिस
  - ☒ 2. लॉन टेनिस
  - ☒ 3. स्कैश
  - ☒ 4. बैडमिंटन

Question ID : **26433061870**  
Status : **Answered**  
Chosen Option : 1

Q.2 सरकार ने जनवरी 2022 को \_\_\_\_\_ के बजटीय परिव्यय के साथ प्रोडक्शन लिंक्ड इंसेंटिव (PLI) योजना 'एडवान्स्ड केमिस्ट्री सेल (ACC) बैटरी स्टोरेज पर राष्ट्रीय कार्यक्रम' को मंजूरी दी।

- Ans
- ☒ 1. ₹20,100 करोड़
  - ☒ 2. ₹21,100 करोड़
  - ☒ 3. ₹19,100 करोड़
  - ☒ 4. ₹18,100 करोड़

Question ID : **26433095276**  
Status : **Not Answered**  
Chosen Option : --

Q.3 वित्तीय वर्ष 2022-23 में आदर्श स्टेशन योजना के तहत विकास के लिए भारत में कितने रेलवे स्टेशनों की पहचान की गई है?

- Ans
- ☒ 1. 1254
  - ☒ 2. 1235
  - ☒ 3. 1253
  - ☒ 4. 1352

Question ID : **26433067176**  
Status : **Not Answered**  
Chosen Option : --

Q.4 मध्य प्रदेश के पूर्वी भाग में कौन सा पठार सोन नदी घाटी के दक्षिण में स्थित है?

- Ans
- ☒ 1. रीवा पठार
  - ☒ 2. बुंदेलखंड
  - ☒ 3. मालवा
  - ☒ 4. बघेलखण्ड

Question ID : **26433071594**  
Status : **Answered**  
Chosen Option : 2

Q.5 स्वतंत्र भारत में किस वर्ष का बजट, कागज रहित बजट के रूप में पेश किया गया पहला बजट था?

Ans ☒ 1. 2022 - 23

☒ 2. 2021 - 22

☒ 3. 2014 - 15

☒ 4. 2019 - 20

Question ID : 26433064481

Status : Answered

Chosen Option : 2

Q.6 मौलिक कर्तव्यों के बारे में निम्नलिखित में से कौन-सा सही नहीं है?

Ans ☒ 1. अधिकारों का उपभोग कर्तव्यों की पूर्ति पर निर्भर या सशर्त है।

☒ 2. संविधान के 42वें संशोधन द्वारा नागरिकों के मौलिक कर्तव्यों की एक सूची सम्मिलित की गयी।

☒ 3. संविधान में कुल 11 मौलिक कर्तव्यों का उल्लेख है।

☒ 4. इन कर्तव्यों को लागू करने के संबंध में संविधान कुछ भी नहीं कहता है।

@Qmaths

Question ID : 26433054079

Status : Answered

Chosen Option : 4

Q.7 भारत के जनगणना विभाग का प्रमुख निम्नलिखित में से कौन होता है?

Ans ☒ 1. भारत के जनसंख्या सांख्यिकी महापंजीयक

☒ 2. भारत के महा रजिस्ट्रार एवं जनगणना आयुक्त

☒ 3. भारत के सामाजिक-आर्थिक सांख्यिकी महानिदेशक

☒ 4. भारतीय जनगणना महानिदेशक

Question ID : 26433066597

Status : Answered

Chosen Option : 4

Q.8 वल्लभी प्रकार की इमारतें, मंदिर वास्तुकला की \_\_\_\_\_ शैली की एक प्रमुख उपशाखा है।

Ans ☒ 1. नागर

☒ 2. होयसल

☒ 3. विजयनगर

☒ 4. द्रविड़

Question ID : 26433064369

Status : Answered

Chosen Option : 1

Q.9 नागलपुरम शहर की स्थापना विजयनगर साम्राज्य के निम्नलिखित में से किस राजा ने की थी?

Ans ☒ 1. देव राय प्रथम

☒ 2. अच्युत देव राय

☒ 3. कृष्णदेव राय

☒ 4. देव राय द्वितीय

Question ID : 26433055614

Status : Answered

Chosen Option : 4

Q.10 मार्च 2021 में, किस मंत्रालय के अंतर्गत सक्षम आंगनवाड़ी शुरू की गई?

- Ans
- ☐ 1. स्वास्थ्य और परिवार कल्याण मंत्रालय
  - ☐ 2. संचार मंत्रालय और इलेक्ट्रॉनिक्स और सूचना प्रौद्योगिकी मंत्रालय
  - ☒ 3. महिला एवं बाल विकास मंत्रालय
  - ☐ 4. शिक्षा मंत्रालय

Question ID : 26433055569  
Status : Answered  
Chosen Option : 3

Q.11 संसद के दोनों सदनों द्वारा पारित भारतीय विमानपत्तन वित्तीय नियामक प्राधिकरण (संशोधन) विधेयक, 2021 ने एकल हवाई अड्डों के लिए \_\_\_\_\_ से संबंधित कानून के प्रावधानों में संशोधन किया।

- Ans
- ☒ 1. टैरिफ़
  - ☐ 2. ट्रेफ़िक
  - ☐ 3. कार्गो
  - ☐ 4. फ्रीकेंसी

Question ID : 26433061791  
Status : Not Answered  
Chosen Option : --

Q.12 नीचे भारत में गरीबी के आंकड़ों (2011-12) के अनुसार राज्य और इसमें गरीबी रेखा से नीचे जीवन यापन करने वाली जनसंख्या के प्रतिशत को दर्शाया गया है। सही विकल्प का चयन कीजिए।

- Ans
- ☐ 1. बिहार -33.74%, असम -41.98%, गुजरात -16.63%
  - ☐ 2. बिहार -38.74%, असम -31.98%, गुजरात -16.63%
  - ☐ 3. बिहार -33.74%, असम -31.98%, गुजरात -36.63%
  - ☒ 4. बिहार -33.74%, असम -31.98%, गुजरात -16.63%

Question ID : 26433071630  
Status : Answered  
Chosen Option : 2

Q.13 बिहार की छठ पूजा किस देवता को समर्पित है?

- Ans
- ☒ 1. सूर्य देव
  - ☐ 2. विष्णु देव
  - ☐ 3. चंद्र देव
  - ☐ 4. इंद्र देव

Question ID : 26433064395  
Status : Answered  
Chosen Option : 4

Q.14 निम्नलिखित में से कौन 1925 में राष्ट्रीय स्वयंसेवक संघ के संस्थापक थे?

- Ans
- ☐ 1. माधवराव सदाशिवराव गोलवलकर
  - ☒ 2. केशव बलिराम हेडगेवार
  - ☐ 3. दीनदयाल उपाध्याय
  - ☐ 4. विनायक दामोदर सावरकर

Question ID : 26433065552  
Status : Answered  
Chosen Option : 1

Q.15 मार्च 2021 में पारित किए गए राष्ट्रीय अवसंरचना वित्तपोषण और विकास बैंक अधिनियम, 2021 के अंतर्गत, अवसंरचना के वित्तपोषण के व्यवसाय को आगे बढ़ाने के लिए एक बैंक की स्थापना की जाएगी। इस बैंक का मुख्यालय कहाँ स्थित होगा?

- Ans ☒ 1. पुणे  
☒ 2. मुंबई  
☒ 3. बेंगलुरु  
☒ 4. दिल्ली

Question ID : 26433055562  
Status : Answered  
Chosen Option : 2

Q.16 'हिंद स्वराज' के लेखक का नाम बताइए

- Ans ☒ 1. एमजी रानाडे  
☒ 2. एमके गांधी  
☒ 3. वीडी सावरकर  
☒ 4. जीके गोखले

Question ID : 26433055533  
Status : Answered  
Chosen Option : 2

Q.17 1977 की औद्योगिक नीति के अनुसार नगरों में जनसंख्या के कितने देहलीज-स्तर सुनिश्चित किए गए, जिससे लघु क्षेत्र स्थापित किए जा सकें?

- Ans ☒ 1. 30,000 से कम  
☒ 2. 20,000 से कम  
☒ 3. 50,000 से कम  
☒ 4. 40,000 से कम

Question ID : 26433059277  
Status : Not Answered  
Chosen Option : --

Q.18 'ढिमसा' \_\_\_\_\_ राज्य में किया जाने वाला एक लोक नृत्य है।

- Ans ☒ 1. राजस्थान  
☒ 2. असम  
☒ 3. आंध्र प्रदेश  
☒ 4. पंजाब

Question ID : 26433064297  
Status : Answered  
Chosen Option : 3

Q.19 सकल राजकोषीय घाटा और शुद्ध ब्याज देनदारियों के बीच के अंतर को \_\_\_\_\_ के नाम से जाना जाता है।

- Ans ☒ 1. राजकोषीय घाटा  
☒ 2. बजट घाटा  
☒ 3. सकल प्राथमिक घाटा  
☒ 4. राजस्व घाटा

Question ID : 26433059232  
Status : Answered  
Chosen Option : 4

Q.20 जुलाई 2022 में, गुजरात के गांधीनगर में आयोजित डिजिटल इंडिया वीक का विषय क्या था?

- Ans
- ☒ 1. लोकल टु ग्लोबल (Local to Global)
  - ☒ 2. कैटालाइजिंग न्यू इंडियाज टेक्डेड (Catalyzing New India's Techade)
  - ☒ 3. आत्मनिर्भर स्टार्ट अप इकोसिस्टम (Atmanirbhar Start up Ecosystem)
  - ☒ 4. भारत का डिजिटल स्टार्ट अप (India's Digital Start Ups)

Question ID : 26433095277  
Status : Answered  
Chosen Option : 4

Section : Part-B-Quantitative Aptitude

Q.1 किसी वस्तु का क्रय मूल्य और विक्रय मूल्य 20 : 17 के अनुपात में होने पर हानि प्रतिशत क्या होगा?

- Ans
- ☒ 1. 15%
  - ☒ 2. 12%
  - ☒ 3. 17%
  - ☒ 4. 21%

Question ID : 26433058964  
Status : Answered  
Chosen Option : 1

Q.2 एक कमरे का फर्श 8m 96cm लंबा और 6m 72cm चौड़ा है। पूरे फर्श को ढकने के लिए आवश्यक समान आकार की वर्गाकार टाइलों की न्यूनतम संख्या ज्ञात कीजिए।

- Ans
- ☒ 1. 12
  - ☒ 2. 32
  - ☒ 3. 16
  - ☒ 4. 8

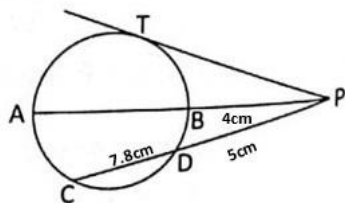
Question ID : 26433061187  
Status : Answered  
Chosen Option : 4

Q.3 रमेश ने अंकित मूल्य पर 25% छूट पर एक मोबाइल फोन खरीदा। अगर उसने इसे 33% छूट पर खरीदा होता, तो उसे Rs. 640 की बचत होती। रमेश ने मोबाइल फोन किस कीमत पर खरीदा?

- Ans
- ☒ 1. Rs. 7,000
  - ☒ 2. Rs. 6,000
  - ☒ 3. Rs. 6,500
  - ☒ 4. Rs. 7,300

Question ID : 26433064976  
Status : Answered  
Chosen Option : 2

- Q.4 दी गई आकृति में, वृत्त का व्यास AB और एक इसकी जीवा CD बिंदु P पर मिलते हैं। PT बिंदु T पर वृत्त की स्पर्श रेखा है। यदि  $CD = 7.8 \text{ cm}$ ,  $PD = 5 \text{ cm}$ ,  $PB = 4 \text{ cm}$  है, तो AB ज्ञात कीजिए।



- Ans ☒ 1. 12 cm  
☒ 2. 11 cm  
☒ 3. 8 cm  
☒ 4. 10 cm

Question ID : 26433066392  
 Status : Answered  
 Chosen Option : 2

- Q.5 यदि  $(2x - \frac{1}{4x}) = 8$  है, तो  $(8x^3 - \frac{1}{64x^2})$  का मान क्या होगा?

- Ans ☒ 1. 500  
☒ 2. 548  
☒ 3. 524  
☒ 4. 512

Question ID : 26433061945  
 Status : Answered  
 Chosen Option : 3

- Q.6  $\frac{2}{3}, \frac{6}{5}, \frac{5}{4}$  का ल.स.प. (LCM) है:

- Ans ☒ 1. 20  
☒ 2.  $\frac{1}{60}$   
☒ 3. 25  
☒ 4. 30

Question ID : 26433063436  
 Status : Answered  
 Chosen Option : 4

Q.7 यदि  $\operatorname{cosec} \theta + \cot \theta = \frac{2}{5}$  है, तो  $\sin \theta$  का मान होगा:

Ans

- ☐ 1.  $\frac{20}{39}$
- ☒ 2.  $\frac{20}{29}$
- ☐ 3.  $\frac{39}{20}$
- ☐ 4.  $\frac{29}{20}$

Question ID : 26433056356

Status : Answered

Chosen Option : 2

Q.8 यदि 6 व्यक्ति किसी काम को 8 दिनों में पूरा करते हैं, तो 4 व्यक्तियों को उस काम को पूरा करने में कितने दिनों का समय लगेगा?

Ans

- ☐ 1. 10 दिन
- ☐ 2. 11 दिन
- ☐ 3. 9 दिन
- ☒ 4. 12 दिन

Question ID : 26433056323

Status : Answered

Chosen Option : 4

Q.9 निम्नलिखित को सरल कीजिए:

$$\frac{3}{7} + \frac{7}{9} \times \frac{3}{7} \div \frac{3}{21} - \frac{7}{3}$$

Ans

- ☐ 1.  $\frac{2}{3}$
- ☒ 2.  $\frac{3}{7}$
- ☐ 3.  $\frac{1}{3}$
- ☐ 4.  $\frac{7}{3}$

Question ID : 26433058394

Status : Marked For Review

Chosen Option : 2

Q.10 यदि  $p + q + r = 9$ ,  $pq + qr + rp = 26$ ,  $p^3 + q^3 = 91$ ,  $q^3 + r^3 = 72$  और  $r^3 + p^3 = 35$  है, तो  $pqr$  का मान ज्ञात कीजिए।

Ans

- ☐ 1. 38
- ☐ 2. 16
- ☒ 3. 24
- ☐ 4. 46

Question ID : 26433058948

Status : Answered

Chosen Option : 3



Q.11 14 cm के व्यास वाली गेंद का पृष्ठीय क्षेत्रफल ज्ञात कीजिए।

$(\pi = \frac{22}{7} \text{ लीजिए})$

- Ans
- ☒ 1.  $618 \text{ cm}^2$
  - ☒ 2.  $614 \text{ cm}^2$
  - ☒ 3.  $616 \text{ cm}^2$
  - ☒ 4.  $612 \text{ cm}^2$

Question ID : 26433061422  
Status : Answered  
Chosen Option : 3

Q.12 एक व्यक्ति ने साधारण ब्याज पर कुछ धनराशि उधार लिया। 2 साल बाद उसने ऋणदाता को धनराशि की  $\frac{3}{2}$  राशि वापस की। ब्याज दर क्या थी?

- Ans
- ☒ 1. 20 प्रतिशत वार्षिक
  - ☒ 2. 15 प्रतिशत वार्षिक
  - ☒ 3. 30 प्रतिशत वार्षिक
  - ☒ 4. 25 प्रतिशत वार्षिक

Question ID : 26433063415  
Status : Answered  
Chosen Option : 4

Q.13 यदि 2 पुरुष और 8 महिलाएं एक काम को 5 दिनों में कर सकते हैं जबकि 3 पुरुष और 4 महिलाएं उसी काम को 6 दिनों में कर सकते हैं, तो 1 पुरुष और 2 महिलाओं द्वारा उसी काम को करने में लिया जाने वाला समय \_\_\_\_\_ है।

- Ans
- ☒ 1. 20 दिन
  - ☒ 2. 12 दिन
  - ☒ 3. 18 दिन
  - ☒ 4. 15 दिन

Question ID : 26433061318  
Status : Answered  
Chosen Option : 1

Q.14 एक व्यक्ति अपने घर से अपने कार्यालय तक 40 km/h की चाल से यात्रा करता है और 65 km/h की चाल से वापस लौटता है। यात्रा के लिए उसकी औसत चाल (km/h में) क्या है?

- Ans
- ☒ 1.  $49\frac{11}{21}$
  - ☒ 2.  $33\frac{11}{21}$
  - ☒ 3.  $21\frac{19}{21}$
  - ☒ 4.  $51\frac{17}{21}$

Question ID : 26433064899  
Status : Answered  
Chosen Option : 1

Q.15 एक ठोस लम्ब वृत्तीय बेलन का व्यास 20 सेमी और ऊँचाई 8 सेमी है, तो इसका आयतन ज्ञात करें।

Ans

- ✓ 1.  $800 \pi$  सेमी<sup>3</sup>
- ✗ 2.  $900 \pi$  सेमी<sup>3</sup>
- ✗ 3.  $750 \pi$  सेमी<sup>3</sup>
- ✗ 4.  $850 \pi$  सेमी<sup>3</sup>

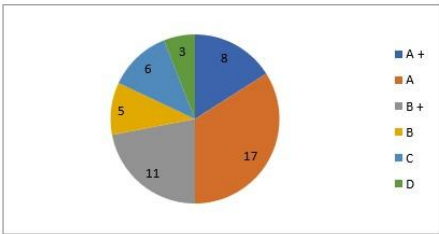
Question ID : 26433058976

Status : Answered

Chosen Option : 1

Q.16 निम्नलिखित पाई चार्ट गणित की परीक्षा में विभिन्न ग्रेड प्राप्त करने वाले छात्रों की संख्या को दर्शाता है।

B ग्रेड हासिल करने वाले छात्रों के प्रतिशत की गणना कीजिए।



Ans

- ✗ 1. 12%
- ✗ 2. 6%
- ✗ 3. 8%
- ✓ 4. 10%

Question ID : 26433074326

Status : Answered

Chosen Option : 4

Q.17 तीन व्यक्ति P, Q और R एक कार्य को अलग-अलग क्रमशः 10 दिन, 20 दिन और 60 दिन में पूरा कर सकते हैं। यदि वे एक साथ कार्य करते हैं, तो कार्य को पूरा करने में कितना समय लगेगा?

Ans

- ✗ 1. 5 दिन
- ✗ 2. 8 दिन
- ✗ 3. 10 दिन
- ✓ 4. 6 दिन

Question ID : 26433058974

Status : Answered

Chosen Option : 4

Q.18 350 मीटर की दूरी से एक पुलिसकर्मी को चोर नजर आता है। चोर और पुलिसकर्मी क्रमशः 15 किमी/घंटा और 20 किमी/घंटा की चाल से दौड़ते हैं। पुलिसकर्मी को चोर को पकड़ने में कितना समय लगता है?

- Ans
- ☐ 1. 5 मिनट 25 सेकंड
  - ☐ 2. 3 मिनट 45 सेकंड
  - ☐ 3. 3 मिनट 20 सेकंड
  - ☒ 4. 4 मिनट 12 सेकंड

Question ID : 26433058971  
Status : Answered  
Chosen Option : 4

Q.19 यदि सीमा के वेतन में पहले वर्ष में 10% की वृद्धि और अगले वर्ष में 5% की वृद्धि होती है, तो दो वर्ष बाद उसके वेतन में शुद्ध प्रतिशत वृद्धि कितनी होगी?

- Ans
- ☐ 1. 25.5%
  - ☐ 2. 20.5%
  - ☐ 3. 30.5%
  - ☒ 4. 15.5%

Question ID : 26433063384  
Status : Answered  
Chosen Option : 4

Q.20 यदि एक मोबाइल फोन का मूल्य ₹25,000 है, जो ₹5,000 के तत्काल भुगतान और उसके बाद 25% वार्षिक चक्रवृद्धि ब्याज दर पर 3 समान वार्षिक किस्तों (प्रत्येक किस्त का भुगतान प्रत्येक वर्ष के अंत में किया जाना है) पर उपलब्ध है, तो प्रत्येक किस्त का मान (दो दशमलव स्थान तक पूर्णांकित) ज्ञात कीजिए।

- Ans
- ☐ 1. ₹13,021
  - ☐ 2. ₹17,361
  - ☐ 3. ₹10,245.09
  - ☒ 4. ₹10,245.90

Question ID : 26433061600  
Status : Answered  
Chosen Option : 3

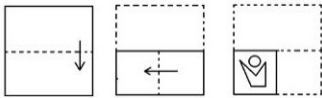
Section : Part-C-General Intelligence

Q.1 छह बच्चे A, B, C, D, E और F एक वृताकार मेज के चारों ओर केंद्र की ओर मुख करके बैठे हैं। D, F के बाएं दूसरे स्थान पर बैठा है। B, D के बाएं दूसरे स्थान पर बैठा है। D और F के बीच केवल A बैठा है। C, A के दाएं दूसरे स्थान पर बैठा है। D और B के बीच में कौन बैठा है?

- Ans
- ☐ 1. F
  - ☐ 2. A
  - ☐ 3. C
  - ☒ 4. E

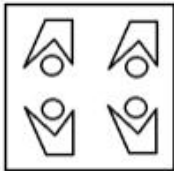
Question ID : 26433055515  
Status : Answered  
Chosen Option : 2

**Q.2** कागज के एक टुकड़े को मोड़ने का क्रम और मोड़े गए कागज को काटने का तरीका नीचे दिखाया गया है। एक ऐसी आकृति चुनें जो कागज को खोलने पर उसके खुले रूप से सबसे अधिक मिलती-जुलती होगी।



**Ans**

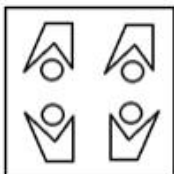
✗ 1.



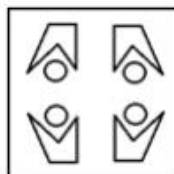
✗ 2.



✗ 3.



✓ 4.

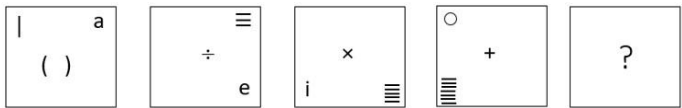


Question ID : 26433057414

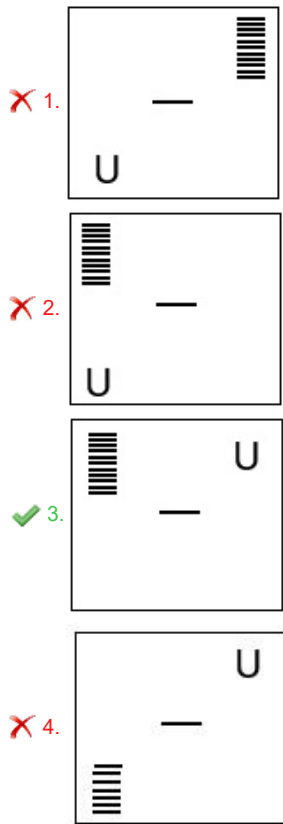
Status : Answered

Chosen Option : 4

Q.3 दिए गए विकल्पों में से उस आकृति का चयन करें जो निम्नलिखित श्रृंखला में प्रश्नवाचक चिह्न (?) का स्थान ले सकती है।



Ans



Question ID : 26433068716

Status : Answered

Chosen Option : 3

Q.4 A, B, C, D, E, F, G और H एक वर्गाकार मेज के चारों ओर मेज के केंद्र की ओर मुख करके बैठे हैं। उनमें से कुछ कोनों पर बैठे हैं, जबकि कुछ कोनों के ठीक केंद्र में बैठे हैं। E, B के दाएँ से तीसरे स्थान पर बैठा है। B किसी एक कोने पर बैठा है। G, E के दाएँ से दूसरे स्थान पर बैठा है। G और F के बीच केवल एक व्यक्ति बैठा है। A, H के ठीक दाएँ बैठा है। A और D के बीच केवल तीन लोग बैठे हैं। C के ठीक दाएँ कौन बैठा है?

- Ans
- 1. E
  - 2. F
  - 3. G
  - 4. B

Question ID : 26433058026

Status : Not Answered

Chosen Option : --

Q.5 निम्नलिखित समीकरण को सही करने के लिए किन दो चिह्नों को आपस में और दो संख्याओं को आपस में बदला जाना चाहिए?  
 $15 \div 5 - 325 + 8 \times 3 = 290$

- Ans ☒ 1. 5 और 3; -और +  
☐ 2. 15 और 325; + और ×  
☐ 3. 325 और 8; × और +  
☐ 4. 15 और 8; -और ×

Question ID : 26433056459  
Status : Answered  
Chosen Option : 1

Q.6 एक निश्चित कूट भाषा में, 'WATER' को 'YVDTH' और 'GRASS' को 'OEWFG' के रूप में लिखा जाता है। इसी कूट भाषा में 'PLANT' को किस प्रकार लिखा जाएगा?

- Ans ☐ 1. FKWKG  
☒ 2. FKWKF  
☐ 3. FKWLF  
☐ 4. FKEKF

Question ID : 26433057277  
Status : Not Answered  
Chosen Option : --

Q.7 P, Q का पति है। R, Q के पिता है। S, R का पुत्र है और T, R की माता है। P, T से किस प्रकार संबंधित है?

- Ans ☐ 1. पुत्र  
☒ 2. पुत्र की पुत्री का पति  
☐ 3. पुत्र का पुत्र  
☐ 4. भाई

Question ID : 26433074721  
Status : Answered  
Chosen Option : 2

Q.8 एक पार्टी में एक महिला की ओर इशारा करते हुए सुमन ने कहा "उसके ससुर का इकलौता बेटा मेरे इकलौते भाई का पिता है।" महिला का सुमन से क्या संबंध है?

- Ans ☒ 1. माँ  
☐ 2. पुत्री  
☐ 3. चाची  
☐ 4. सास

Question ID : 26433070273  
Status : Answered  
Chosen Option : 2

Q.9 निम्नलिखित में से कौन-सा विकल्प प्रस्तुत शब्दों के सही क्रम का ऐसा द्योतक है, जैसा वे किसी अंग्रेजी शब्दकोश में दिखेंगे?

- 1. Guild
- 2. Guise
- 3. Guide
- 4. Guinea
- 5. Guitar

Ans  1. 3,1,4,2,5

 2. 1,2,4,5,3

 3. 1,3,4,5,2

 4. 3,4,1,2,5

Question ID : 26433068772  
Status : Answered  
Chosen Option : 1

Q.10 दी गई शृंखला को पूरा करने के लिए कौन-सा अक्षर-समूह प्रश्न-चिह्न (?) को प्रतिस्थापित करेगा?

LICO, RFGM, XCKK, DZOI, ?

Ans  1. JXSG

 2. JW RG

 3. JWSG

 4. JXRG

Question ID : 26433057969  
Status : Answered  
Chosen Option : 3

Q.11 उस विकल्प का चयन करें, जो पाँचवें अक्षर-समूह से उसी प्रकार संबंधित है, जैसे दूसरा अक्षर-समूह पहले अक्षर-समूह से संबंधित है और चौथा अक्षर-समूह तीसरे अक्षर-समूह से संबंधित है।  
PAN : MBO :: NAP : OBM :: POT : ?

Ans  1. MNH

 2. NNI

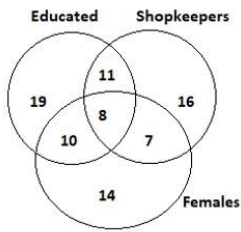
 3. MNI

 4. LMH

Question ID : 26433056668  
Status : Not Answered  
Chosen Option : --

Q.12 दिए गए आरेख का ध्यानपूर्वक अध्ययन कीजिए और प्रश्न का उत्तर दीजिए।

विभिन्न वर्गों/खंडों की संख्याएँ व्यक्तियों की संख्या को दर्शाती हैं।



ऐसे कितने दुकानदार (Shopkeepers) हैं जो पढ़े-लिखे (Educated) हैं लेकिन महिलाएं (Females) नहीं हैं?

- Ans
- ☒ 1. 8
  - ☒ 2. 19
  - ☒ 3. 7
  - ☒ 4. 11

Question ID : 26433070408  
Status : Answered  
Chosen Option : 4

Q.13 उस समुच्चय का चयन करें जिसमें दी गई संख्याएं आपस में उसी प्रकार संबंधित हैं, जिस प्रकार प्रश्न में दिए गए समुच्चय की संख्याएं आपस में संबंधित हैं।  
(नोट: संख्याओं को उनके घटक अंकों में तोड़े बिना, पूर्ण संख्याओं पर गणितीय संक्रियाएं की जानी चाहिए। जैसे, 13 के मामले में - 13 पर विभिन्न गणितीय संक्रियाएं जैसे 13 में जोड़ना / घटाना / गुणा करना आदि की जा सकती हैं। लेकिन 13 को 1 और 3 में तोड़ने और फिर 1 और 3 पर गणितीय संक्रियाएं करने की अनुमति नहीं है।)  
(14, 4, 49)  
(27, 3, 243)

- Ans
- ☒ 1. (57, 8, 402)
  - ☒ 2. (71, 13, 357)
  - ☒ 3. (45, 7, 223)
  - ☒ 4. (36, 8, 162)

Question ID : 26433074773  
Status : Not Answered  
Chosen Option : --

Q.14 निम्नलिखित में से कौन-सी संख्या दी गई श्रृंखला में प्रश्न चिह्न (?) को प्रतिस्थापित करेगी?  
750, 710, 630, ?, 150

- Ans
- ☒ 1. 450
  - ☒ 2. 470
  - ☒ 3. 550
  - ☒ 4. 570

Question ID : 26433056440  
Status : Answered  
Chosen Option : 2



Q.15 दिए गए विकल्पों में से उस आकृति का चयन कीजिए जो निम्नलिखित श्रृंखला में प्रश्नवाचक चिह्न (?) को प्रतिस्थापित कर सकती है।

	—	— —	— —	
♡♡	♡♡♡	♡♡♡♡	♡♡♡♡♡	?
⌋⌋	⌋⌋⌋	⌋⌋⌋⌋	⌋⌋⌋⌋⌋	

Ans

- ||— — ||

♡♡♡♡♡♡

⌋⌋⌋⌋⌋⌋

✖ 1.

||— — | — —

♡♡♡♡♡♡

⌋⌋⌋⌋⌋⌋

✖ 2.

||— — ||

♡♡♡♡♡♡

⌋⌋⌋⌋⌋⌋

✔ 3.

||— — ||

♡♡♡♡♡♡

⌋⌋⌋⌋⌋⌋

✖ 4.
- Question ID : 26433058072  
 Status : Answered  
 Chosen Option : 3
- Q.16 उस समुच्चय का चयन कीजिए जिसमें संख्याएँ उसी प्रकार संबंधित हैं जिस प्रकार निम्नलिखित समुच्चयों की संख्याएँ आपस में संबंधित हैं।  
 (नोट: संख्याओं को उसके घटक अंकों में विभाजित किए बिना, पूर्ण संख्याओं पर गणितीय संक्रियाएं की जानी चाहिए। उदाहरण के लिए 13 - अगर आपको 13 पर गणितीय संक्रियाएं जैसे कि जोड़ने/घटाने/ गुणा करने आदि करना है तो वह 13 पर ही की जा सकती हैं। 13 को 1 और 3 में तोड़ना और फिर 1 और 3 पर गणितीय संक्रियाएँ करने की अनुमति नहीं है।)  
 (48, 144, 240)  
 (35, 105, 175)
- ✖ 1. (21, 63, 84)

✖ 2. (18, 72, 90)

✔ 3. (29, 87, 145)

✖ 4. (25, 100, 125)

Question ID : 26433057601  
 Status : Answered  
 Chosen Option : 3

Q.17 एक निश्चित कोड भाषा में 'RANDOM' को 'VOQAAI' के रूप में लिखा गया है और 'ORANGE' को 'SGDKRA' के रूप में लिखा गया है। उसी भाषा में 'OUTPUT' को किस प्रकार लिखा जाएगा?

- Ans
- ☒ 1. SUMWUP
  - ☒ 2. SUWMUP
  - ☒ 3. PUWMUS
  - ☒ 4. PUMWUS

Question ID : 26433055918  
Status : Answered  
Chosen Option : 2

Q.18 दिए गए विकल्पों में से उस संख्या का चयन करें जो निम्नलिखित श्रृंखला में प्रश्नवाचक चिन्ह (?) का स्थान ले सकती है।  
29, 31, 35, 43, 59, ?

- Ans
- ☒ 1. 95
  - ☒ 2. 81
  - ☒ 3. 75
  - ☒ 4. 91

Question ID : 26433057775  
Status : Answered  
Chosen Option : 4

Q.19 एक कूट भाषा में, 'TANMAY' को 'ATMNYA' के रूप में कूटबद्ध किया जाता है और 'PIYUSH' को 'IPUYHS' के रूप में कूटबद्ध किया जाता है। उसी भाषा में 'MANISH' को किस प्रकार कूटबद्ध किया जाएगा?

- Ans
- ☒ 1. AMINSH
  - ☒ 2. AMNIHS
  - ☒ 3. NAMIHS
  - ☒ 4. AMINHS


Question ID : 26433057913  
Status : Answered  
Chosen Option : 4

Q.20 उस विकल्प का चयन कीजिए जो उन अक्षरों को निरूपित करती है जिन्हें निम्न रिक्त स्थानों में बाएं से दाएं क्रमिक रूप से रखने पर अक्षर श्रृंखला पूर्ण हो जाएगी।  
\_ih\_ fi\_g \_\_ hg filh\_

- Ans
- ☒ 1. fghgif
  - ☒ 2. gfhigg
  - ☒ 3. hgffig
  - ☒ 4. fghfig

Question ID : 26433056021  
Status : Answered  
Chosen Option : 4

Q.21 यदि दर्पण को नीचे दर्शाए गए अनुसार MN पर रखा जाए, तो दी गई आकृति के सही दर्पण प्रतिबिम्ब का चयन कीजिए।



- Ans
- ☒ 1.
  - ☒ 2.
  - ☒ 3.
  - ☒ 4.

Question ID : 26433056989

Status : Answered

Chosen Option : 2

Q.22 निम्नलिखित में से तीन अक्षर-समूह किसी न किसी तरह में एक जैसे हैं और इसलिए एक समूह बनाते हैं। कौन-सा अक्षर-समूह उस समूह से संबंधित नहीं है?

- Ans
- ☒ 1. HSIT
  - ☒ 2. JQKP
  - ☒ 3. DWEV
  - ☒ 4. GTHS

Question ID : 26433056170

Status : Answered

Chosen Option : 1

Q.23 दिए गए समीकरण को सही (संतुलित) बनाने के लिए किन दो गणितीय चिह्नों को आपस में बदलना होगा?

$$24 - 17 + 63 \div 9 \times 3 = 20$$

- Ans
- ☒ 1. + और -
  - ☒ 2. + और -
  - ☒ 3. × और ÷
  - ☒ 4. + और ×

Question ID : 26433056863

Status : Answered

Chosen Option : 2

Q.24 उस विकल्प का चयन कीजिए जो पांचवें अक्षर समूह से उसी तरह संबंधित है जिस तरह दूसरा अक्षर समूह पहले अक्षर समूह से संबंधित है और चौथा अक्षर समूह तीसरे अक्षर समूह से संबंधित है।  
ANTDH : OCHSV :: LTBEW : ZIPTK :: HNTDJ : ?

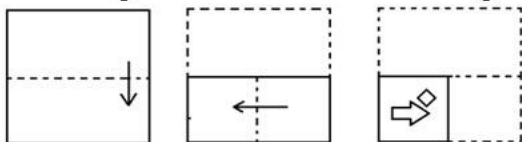
- Ans
- ☒ 1. JIOSX
  - ☒ 2. VCHSX
  - ☒ 3. JULSC
  - ☒ 4. VJCRX

Question ID : 26433074699

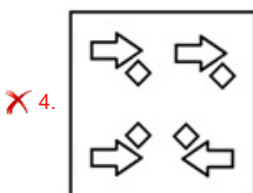
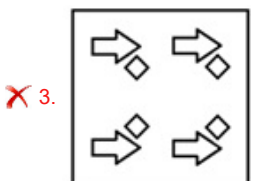
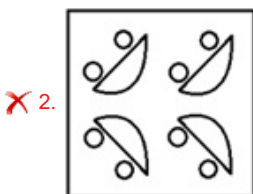
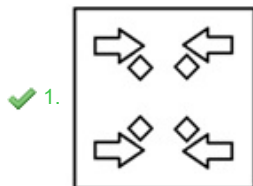
Status : Not Answered

Chosen Option : --

Q.25 कागज के एक टुकड़े को मोड़ने का क्रम और मोड़े गए कागज को काटने का तरीका नीचे दर्शाया गया है। उस आकृति का चयन करें जो कागज को खोलने पर उसके खुले रूप से सबसे अधिक मिलती जुलती होगी।



Ans



Question ID : 26433067444  
Status : Answered  
Chosen Option : 1

Section : Part-D- English Language

Q.1 Select the most appropriate option to fill in the blank.

A specially designed computer can even \_\_\_\_\_ diseases.

- Ans ✗ 1. design  
✗ 2. operate  
✓ 3. diagnose  
✗ 4. read

Question ID : 26433072411  
Status : Answered  
Chosen Option : 3

**Q.2** In the following passage some words have been deleted. Fill in the blanks with the help of alternatives given; select the most appropriate option for each blank.  
JK Rowling is famous for introducing the character of Harry Potter to the world. This boy first sparked to life in the \_\_\_\_\_ of the authoress when she was riding a train from Manchester to London in 1990. She released her first novel, Harry Potter and the Philosopher's stone. After this novel, she \_\_\_\_\_ became the most famous English author since William Shakespeare.

- Ans**    ☒ 1. imagination; possibly  
          ☐ 2. curiosity; happily  
          ☐ 3. fancied; conceivably  
          ☐ 4. intuition; kindly

Question ID : 26433060928  
Status : Answered  
Chosen Option : 2

**Q.3** Select the most appropriate ANTONYM of the given word.

Maverick

- Ans**    ☐ 1. Challenging  
          ☐ 2. Unorthodox  
          ☐ 3. Active  
          ☒ 4. Conventional

Question ID : 26433071823  
Status : Answered  
Chosen Option : 2

**Q.4** Select the most appropriate homonym to fill in the blank.  
You need to \_\_\_\_\_ your car in the designated area.

- Ans**    ☐ 1. stand  
          ☐ 2. took  
          ☐ 3. put  
          ☒ 4. park

Question ID : 26433055493  
Status : Answered  
Chosen Option : 4

**Q.5** Select the most appropriate ANTONYM of the underlined word.

The view of the city in the evening is spectacular.

- Ans**    ☐ 1. Far-sighted  
          ☐ 2. Spacious  
          ☒ 3. Ordinary  
          ☐ 4. Phenomenal

Question ID : 26433063639  
Status : Answered  
Chosen Option : 1

Q.6 Select the most appropriate ANTONYM of the underlined word.

Arvind put the same point forth more succinctly.

- Ans
- ☐ 1. Hesitantly
  - ☐ 2. Clearly
  - ☒ 3. Elaborately
  - ☐ 4. Silently

Question ID : 26433058338  
Status : Answered  
Chosen Option : 3

Q.7 Sentences of a paragraph are given below in jumbled order. Arrange the sentences in the correct order to form a meaningful and coherent paragraph.

- A. Without peace and harmony within a socio-cultural space, political standing, financial stability and ethnic-cultural growth are inconceivable.
- B. Peace and harmony, the foundations of our society, need to be maintained for our common good.
- C. Before conveying the nuances of peace and harmony to others, an individual must possess peace and contentment and a balanced body and mind.
- D. To foster growth and prosperity in a societal structure, knowledgeable individuals follow that path of harmony and peace and they transfer those among others.

- Ans
- ☐ 1. CDAB
  - ☐ 2. ACBD
  - ☐ 3. DABC
  - ☒ 4. BDCA

Question ID : 26433070575  
Status : Answered  
Chosen Option : 3

Q.8 Select the most appropriate option to fill in the blank.

Her hands were trembling, hence, the milk \_\_\_\_\_ from the glass.

- Ans
- ☐ 1. fall
  - ☒ 2. spilled
  - ☐ 3. dropped
  - ☐ 4. fell

Question ID : 26433060089  
Status : Answered  
Chosen Option : 1

Q.9 Sentences of a paragraph are given below in jumbled order. Arrange the sentences in the correct order to form a meaningful and coherent paragraph.





- A. There are many social problems that teenagers go through.
- B. These two social behaviours are two of the leading causes of teenage deaths worldwide.
- C. Probably the two most recognised problems are teenage drinking and driving and teen suicide.
- D. If left unaddressed, these will affect our future generations

- Ans
- ☐ 1. CBAD
  - ☐ 2. ADCB
  - ☐ 3. ACDB
  - ☒ 4. ACBD

Question ID : 26433058359  
Status : Answered  
Chosen Option : 3

**Q.10** The following sentence has been split into four segments. Identify the segment that contains a grammatical error.

The gold / is a precious metal / that is popular / across the world.

- Ans**    1. that is popular  
          2. across the world  
          3. is a precious metal  
          4. The gold

Question ID : **26433070481**  
Status : **Answered**  
Chosen Option : **2**

**Q.11** Select the most appropriate synonym of the highlighted word.  
This notion of equality is a thing of the past.

- Ans**    1. religion  
          2. belief  
          3. role  
          4. relief

Question ID : **26433058292**  
Status : **Answered**  
Chosen Option : **1**





**Q.12** Select the **INCORRECTLY** spelt word.

- Ans**    1. Dilema  
          2. Elegance  
          3. Definite  
          4. Crunchy

Question ID : **26433066138**  
Status : **Answered**  
Chosen Option : **2**

**Q.13** Select the most appropriate option that can substitute the underlined segment in the given sentence.

The bill of our lunch was extremely high.

- Ans**    1. exception  
          2. exorbitant  
          3. excruciating  
          4. excess

Question ID : **26433072397**  
Status : **Answered**  
Chosen Option : **3**

Q.14 Select the most appropriate option to fill in the blanks.

Scientists have a few \_\_\_\_\_ about the fashionable fur of equids who belong to a family of mammals that includes horses. Some of them suspect it's a type of camouflage. Their \_\_\_\_\_ blends with the environment. It makes it hard for a lion to see where one creature ends and the next one begins.

- Ans    ☒ 1. theories; fur
- ☐ 2. doctrine; scale
- ☐ 3. principle; belt
- ☐ 4. hypothesis; limescale

Question ID : 26433070745  
Status : Not Answered  
Chosen Option : --

Q.15 Sentences of a paragraph are given below in jumbled order. Arrange the sentences in the correct order to form a meaningful and coherent paragraph.

- A.However, individuals occasionally experience difficulty with sleeping timeframes and this can create further complications.
- B.Sleep is critical for a person's productive output and tends to increase the ability to pay attention for everyday activities.
- C.More or less every individual human being requires sleep in accordance with their preferred activities.
- D.A sleep time span of seven to eight hours is more than adequate for an individual to get decent quality of rest.

- Ans    ☒ 1. CBDA
- ☐ 2. ACDB
- ☐ 3. DBAC
- ☐ 4. ADCB

Question ID : 26433070571  
Status : Marked For Review  
Chosen Option : 2

Q.16 Parts of the given sentence have been given as options. One of them contains a spelling error. Select the option that rectifies the error.

Permaforst stocked with twice the carbon in the atmosphere could become destabilised.

- Ans    ☐ 1. destabilised
- ☐ 2. stocked
- ☒ 3. Permafrost
- ☐ 4. atmosphere

Question ID : 26433059582  
Status : Answered  
Chosen Option : 3

Q.17 Select the most appropriate meaning of the given idiom.  
Add insult to injury

- Ans    ☐ 1. Humiliated badly
- ☐ 2. Injured due to a road accident
- ☐ 3. Worst attitude due to humiliation
- ☒ 4. To make a bad situation worse

Question ID : 26433066125  
Status : Answered  
Chosen Option : 4



**Q.18** Select the most appropriate **ANTONYM** of the word fondest from the given sentence:  
In our school days, out of many adoring, tender and cold moments, multifarious school functions and prize giving ceremonies were the fondest of all.

- Ans
- ☒ 1. adoring
  - ☒ 2. multifarious
  - ☒ 3. tender
  - ☒ 4. cold

Question ID : 26433058549  
Status : Answered  
Chosen Option : 2

**Q.19** Select the most appropriate meaning of the given idiom.  
The elephant in the room

- Ans
- ☒ 1. A happy situation
  - ☒ 2. Embracing problems
  - ☒ 3. The problem people are avoiding
  - ☒ 4. The hazards of negligence

Question ID : 26433066131  
Status : Answered  
Chosen Option : 2

**Q.20** The following sentence has been split into four segments. Identify the segment that contains a grammatical error.

Casper looks forward / to end / the meeting / by lunch time.

- Ans
- ☒ 1. by lunch time
  - ☒ 2. the meeting
  - ☒ 3. to end
  - ☒ 4. Casper looks forward

Question ID : 26433055596  
Status : Answered  
Chosen Option : 4

**Comprehension:**

In the following passage, some words have been deleted. Read the passage carefully and select the most appropriate option to fill in each blank.

The success or failure of our climate future lies in people's minds and is in our hands. At the 2021 United Nations Climate Change Conference (COP 26) in Glasgow, UNESCO called for enhancing global commitment to climate education and (1) \_\_\_\_\_ its support to countries to incorporate climate change into their education systems. To avoid a climate disaster, we need (2) \_\_\_\_\_, transformative and sustained action and a major shift in our thinking – a shift strong enough to make the climate crisis a center of our social, political, economic, personal and educational life.

This is also the key message of Curriculum and Learning for Climate Action: Toward an SDG 4.7 Roadmap for Systems Change, a new IBE book that (3) \_\_\_\_\_ just published in the IBE on Curriculum, Learning, and Assessment series. The book was co-edited by Radhika Iyengar (Earth Institute, Center for Sustainable Development, Columbia University) and Christina T. Kwauk (The Brookings Institution).

Based on contributions from 44 authors (including colleagues from UNESCO Education for Sustainable Development section), Curriculum and Learning for Climate Action is one of the best scorecards in comparative education for keeping track of this drama as it unfolds, shedding light on the global climate crisis like no other education writing today. It turns to our curricula, our education systems, and our communities for a response on how to (4) \_\_\_\_\_

achieve Target 4.7 of the UN Sustainable Development Goals (SDGs), Universal Education for Sustainable Development (ESD), and Global Citizenship Education (GCED).

The message from key stakeholders, including students, educators and leaders of civil society, is driven home with passion and uncommon clarity: We can and must stave off the (5) \_\_\_\_\_ of climate change by building climate action into the world's pandemic recovery.

**SubQuestion No : 21**

**Q.21** Select the most appropriate option to fill in blank number 1.

- Ans**    1. decreased
-  2. reinforced
-  3. hindered
-  4. let down

Question ID : **26433070557**  
Status : **Answered**  
Chosen Option : **2**

**Comprehension:**

In the following passage, some words have been deleted. Read the passage carefully and select the most appropriate option to fill in each blank.

The success or failure of our climate future lies in people's minds and is in our hands. At the 2021 United Nations Climate Change Conference (COP 26) in Glasgow, UNESCO called for enhancing global commitment to climate education and (1) \_\_\_\_\_ its support to countries to incorporate climate change into their education systems. To avoid a climate disaster, we need (2) \_\_\_\_\_, transformative and sustained action and a major shift in our thinking – a shift strong enough to make the climate crisis a center of our social, political, economic, personal and educational life.

This is also the key message of Curriculum and Learning for Climate Action: Toward an SDG 4.7 Roadmap for Systems Change, a new IBE book that (3) \_\_\_\_\_ just published in the IBE on Curriculum, Learning, and Assessment series. The book was co-edited by Radhika Iyengar (Earth Institute, Center for Sustainable Development, Columbia University) and Christina T. Kwauk (The Brookings Institution).

Based on contributions from 44 authors (including colleagues from UNESCO Education for Sustainable Development section), Curriculum and Learning for Climate Action is one of the best scorecards in comparative education for keeping track of this drama as it unfolds, shedding light on the global climate crisis like no other education writing today. It turns to our curricula, our education systems, and our communities for a response on how to (4) \_\_\_\_\_

achieve Target 4.7 of the UN Sustainable Development Goals (SDGs), Universal Education for Sustainable Development (ESD), and Global Citizenship Education (GCED).

The message from key stakeholders, including students, educators and leaders of civil society, is driven home with passion and uncommon clarity: We can and must stave off the (5) \_\_\_\_\_ of climate change by building climate action into the world's pandemic recovery.

**SubQuestion No : 22**

**Q.22** Select the most appropriate option to fill in blank number 2.

- Ans**     1. rapid
-  2. leisurely
-  3. slow
-  4. decrease

Question ID : 26433070558  
Status : **Answered**  
Chosen Option : 2

**Comprehension:**

In the following passage, some words have been deleted. Read the passage carefully and select the most appropriate option to fill in each blank.

The success or failure of our climate future lies in people's minds and is in our hands. At the 2021 United Nations Climate Change Conference (COP 26) in Glasgow, UNESCO called for enhancing global commitment to climate education and (1) \_\_\_\_\_ its support to countries to incorporate climate change into their education systems. To avoid a climate disaster, we need (2) \_\_\_\_\_, transformative and sustained action and a major shift in our thinking – a shift strong enough to make the climate crisis a center of our social, political, economic, personal and educational life.

This is also the key message of Curriculum and Learning for Climate Action: Toward an SDG 4.7 Roadmap for Systems Change, a new IBE book that (3) \_\_\_\_\_ just published in the IBE on Curriculum, Learning, and Assessment series. The book was co-edited by Radhika Iyengar (Earth Institute, Center for Sustainable Development, Columbia University) and Christina T. Kwauk (The Brookings Institution).

Based on contributions from 44 authors (including colleagues from UNESCO Education for Sustainable Development section), Curriculum and Learning for Climate Action is one of the best scorecards in comparative education for keeping track of this drama as it unfolds, shedding light on the global climate crisis like no other education writing today. It turns to our curricula, our education systems, and our communities for a response on how to (4) \_\_\_\_\_

achieve Target 4.7 of the UN Sustainable Development Goals (SDGs), Universal Education for Sustainable Development (ESD), and Global Citizenship Education (GCED).

The message from key stakeholders, including students, educators and leaders of civil society, is driven home with passion and uncommon clarity: We can and must stave off the (5) \_\_\_\_\_ of climate change by building climate action into the world's pandemic recovery.

**SubQuestion No : 23**

**Q.23** Select the most appropriate option to fill in blank number 3.

- Ans**    1. are
-  2. was
-  3. had
-  4. has

Question ID : **26433070559**  
Status : **Answered**  
Chosen Option : **1**

**Comprehension:**

In the following passage, some words have been deleted. Read the passage carefully and select the most appropriate option to fill in each blank.

The success or failure of our climate future lies in people's minds and is in our hands. At the 2021 United Nations Climate Change Conference (COP 26) in Glasgow, UNESCO called for enhancing global commitment to climate education and (1) \_\_\_\_\_ its support to countries to incorporate climate change into their education systems. To avoid a climate disaster, we need (2) \_\_\_\_\_, transformative and sustained action and a major shift in our thinking – a shift strong enough to make the climate crisis a center of our social, political, economic, personal and educational life.

This is also the key message of Curriculum and Learning for Climate Action: Toward an SDG 4.7 Roadmap for Systems Change, a new IBE book that (3) \_\_\_\_\_ just published in the IBE on Curriculum, Learning, and Assessment series. The book was co-edited by Radhika Iyengar (Earth Institute, Center for Sustainable Development, Columbia University) and Christina T. Kwauk (The Brookings Institution).

Based on contributions from 44 authors (including colleagues from UNESCO Education for Sustainable Development section), Curriculum and Learning for Climate Action is one of the best scorecards in comparative education for keeping track of this drama as it unfolds, shedding light on the global climate crisis like no other education writing today. It turns to our curricula, our education systems, and our communities for a response on how to (4) \_\_\_\_\_

achieve Target 4.7 of the UN Sustainable Development Goals (SDGs), Universal Education for Sustainable Development (ESD), and Global Citizenship Education (GCED).

The message from key stakeholders, including students, educators and leaders of civil society, is driven home with passion and uncommon clarity: We can and must stave off the (5) \_\_\_\_\_ of climate change by building climate action into the world's pandemic recovery.

**SubQuestion No : 24**

**Q.24** Select the most appropriate option to fill in blank number 4.

- Ans**    1. theoretically
-  2. effectively
-  3. weakly
-  4. officially

Question ID : **26433070560**  
Status : **Answered**  
Chosen Option : **4**

**Comprehension:**

In the following passage, some words have been deleted. Read the passage carefully and select the most appropriate option to fill in each blank.

The success or failure of our climate future lies in people's minds and is in our hands. At the 2021 United Nations Climate Change Conference (COP 26) in Glasgow, UNESCO called for enhancing global commitment to climate education and (1) \_\_\_\_\_ its support to countries to incorporate climate change into their education systems. To avoid a climate disaster, we need (2) \_\_\_\_\_, transformative and sustained action and a major shift in our thinking – a shift strong enough to make the climate crisis a center of our social, political, economic, personal and educational life.

This is also the key message of Curriculum and Learning for Climate Action: Toward an SDG 4.7 Roadmap for Systems Change, a new IBE book that (3) \_\_\_\_\_ just published in the IBE on Curriculum, Learning, and Assessment series. The book was co-edited by Radhika Iyengar (Earth Institute, Center for Sustainable Development, Columbia University) and Christina T. Kwauk (The Brookings Institution).

Based on contributions from 44 authors (including colleagues from UNESCO Education for Sustainable Development section), Curriculum and Learning for Climate Action is one of the best scorecards in comparative education for keeping track of this drama as it unfolds, shedding light on the global climate crisis like no other education writing today. It turns to our curricula, our education systems, and our communities for a response on how to (4) \_\_\_\_\_ achieve Target 4.7 of the UN Sustainable Development Goals (SDGs), Universal Education for Sustainable Development (ESD), and Global Citizenship Education (GCED). The message from key stakeholders, including students, educators and leaders of civil society, is driven home with passion and uncommon clarity: We can and must stave off the (5) \_\_\_\_\_ of climate change by building climate action into the world's pandemic recovery.

**SubQuestion No : 25**

**Q.25** Select the most appropriate option to fill in blank number 5.

- Ans ☒ 1. good  
☒ 2. worst  
☒ 3. minor  
☒ 4. slight

Question ID : 26433070561  
Status : Answered  
Chosen Option : 2

Section : **Part-E- Computer Fundamentals**

**Q.1** एक मौजूदा एमएस-एक्सेल 2010 वर्कबुक में एक नई वर्कशीट इन्सर्ट करने के लिए निम्नलिखित में से कौन सी शॉर्टकट की (shortcut key) उपयोग की जाती है?

- Ans ☒ 1. Shift+Ctrl+F11  
☒ 2. Shift+F10  
☒ 3. Shift+Ctrl+F10  
☒ 4. Shift+F11

Question ID : 26433095518  
Status : Answered  
Chosen Option : 1

**Q.2** निम्नलिखित में से कौन से कीबोर्ड शॉर्टकट का उपयोग क्रोम ब्राउज़र में करंट (वर्तमान) टैब के बाईं ओर एक ब्राउज़र टैब को सक्रिय करने के लिए किया जाता है?

- Ans ☒ 1. Ctrl + Page up  
☒ 2. Alt + Left arrow  
☒ 3. Alt + Page down  
☒ 4. Ctrl + Right arrow

Question ID : 26433095337  
Status : Answered  
Chosen Option : 1

Q.3 एमएस-एक्सेल 2010 (MS-Excel 2010) के टेबल फीचर के माध्यम से बनाए गए टेबल द्वारा यूजर (उपयोगकर्ता) विभिन्न मानों से \_\_\_\_\_ को फ़िल्टर कर सकते हैं।

- Ans ☒ 1. कॉलम (Column)
- ☐ 2. सेल (Cell)
- ☐ 3. फ़िल्टर (Filter)
- ☐ 4. रोज़ (Rows)

Question ID : 26433095394  
Status : Answered  
Chosen Option : 1

Q.4 एमएस-एक्सेल 2010 में \_\_\_\_\_ का उपयोग शीट के भीतर टेक्स्ट को प्रतिस्थापित (Replace) करने के लिए किया जाता है।

- Ans ☐ 1. Alt+R
- ☐ 2. Alt+F
- ☒ 3. Ctrl+H
- ☐ 4. Ctrl+F

Question ID : 26433095463  
Status : Answered  
Chosen Option : 1

Q.5 एमएस-एक्सेल 2010 (MS-Excel 2010) में \_\_\_\_\_ फ़ंक्शन की (key) का उपयोग सेल को संपादित (एडिट) करने के लिए किया जाता है।

- Ans ☐ 1. F3
- ☒ 2. F2
- ☐ 3. F4
- ☐ 4. F1

Question ID : 26433095399  
Status : Not Answered  
Chosen Option : --

Q.6 एमएस-एक्सेल 2010 की इस वर्कशीट को ध्यान से पढ़ें और उसके अनुसार निम्नलिखित प्रश्न के लिए सबसे उपयुक्त विकल्प चुनें।

	A	B	C	D
1	A	B	C	D
2	15	10	5	
3	25	15	1	
4	100	120		140

10 अंकीय मान वाले सेल का ऐब्सोल्यूट एड्रेस (absolute address) क्या है?

- Ans ☐ 1. B2\$
- ☒ 2. \$B\$2
- ☐ 3. \$B2\$
- ☐ 4. &B2&

Question ID : 26433095350  
Status : Not Answered  
Chosen Option : --

Q.7 एमएस-एक्सेल 2010 एप्लिकेशन में अधिकतम जूम प्रतिशतता कितनी होती है?

- Ans ☒ 1. 200%
- ☒ 2. 400%
- ☒ 3. 500%
- ☒ 4. 300%

Question ID : 26433095488  
Status : Answered  
Chosen Option : 2

Q.8 दिए गए फोल्डरों में, अप्रेषित मेल को \_\_\_\_\_ फोल्डर में स्टोर किया जाता है।

- Ans ☒ 1. ट्रैश (Trash)
- ☒ 2. सेंट (Sent)
- ☒ 3. इनबॉक्स (Inbox)
- ☒ 4. ड्राफ्ट (Draft)

Question ID : 26433095415  
Status : Answered  
Chosen Option : 3

Q.9 सफारी एक वेब ब्राउजिंग सॉफ्टवेयर है जिसे \_\_\_\_\_ के द्वारा विकसित किया गया है।

- Ans ☒ 1. माइक्रोसॉफ्ट (Microsoft)
- ☒ 2. गूगल (Google)
- ☒ 3. मोज़िला (Mozilla)
- ☒ 4. एप्पल (Apple)

Question ID : 26433095446  
Status : Answered  
Chosen Option : 4

Q.10 एमएस-एक्सेल 2010 (MS-Excel 2010) में विशिष्ट मानदंडों के साथ एक रेंज में सेल्स की संख्या की गणना \_\_\_\_\_ का उपयोग करके की जा सकती है।

- Ans ☒ 1. SUM
- ☒ 2. COUNT
- ☒ 3. IF
- ☒ 4. COUNTIF

Question ID : 26433095410  
Status : Answered  
Chosen Option : 1