

Delhi Police
Head Constable
Previous Year Paper
(Ministerial) 10 Oct 2022
Shift 3

Head Constable Ministerial in Delhi Police Examination 2022

Roll Number	
Candidate Name	
Venue Name	ANAND INTERNATIONAL COLLEGE OF ENGINEERING JAIPUR
Exam Date	10/10/2022
Exam Time	5:00 PM - 6:30 PM
Subject	Head Constable Ministerial in Delhi Police Examination 2022

Section : Part-A-General Awareness

Q.1 स्थायी बंदोबस्त प्रणाली 1793 में ब्रिटिश ईस्ट इंडिया कंपनी के निम्नलिखित में से किस गवर्नर जनरल द्वारा शुरू की गई थी?

- Ans ☒ 1. लॉर्ड कार्नवालिस
- ☒ 2. सर जॉन शोर
- ☒ 3. सर जॉर्ज बालो
- ☒ 4. सर जॉन मैकफर्सन

Question ID : 26433065540

Status : Answered

Chosen Option : 1

Q.2 निम्नलिखित में से कौन भारत में केंद्रीय बैंकों की मौद्रिक नीति का मात्रात्मक उपकरण नहीं है?

- Ans ☒ 1. नैतिक अभिप्रेरण
- ☒ 2. खुला बाजार परिचालन
- ☒ 3. नकद आरक्षित अनुपात
- ☒ 4. बैंक रेट

Question ID : 26433059251

Status : Answered

Chosen Option : 1

Q.3 निम्नलिखित में से किस कंपनी ने अपनी परिचालन-दक्षता बढ़ाने और यात्री सुरक्षा में सुधार हेतु भारतीय रेलवे के लिए रीयल टाइम ट्रेन सूचना प्रणाली के पहले चरण को चालू किया था?

- Ans ☒ 1. भारत हेवी इलेक्ट्रिकल लिमिटेड
- ☒ 2. रेल विकास निगम लिमिटेड
- ☒ 3. भारत इलेक्ट्रॉनिक्स लिमिटेड
- ☒ 4. कंटेनर कार्पोरेशन ऑफ इंडिया लिमिटेड

Question ID : 26433095272

Status : Answered

Chosen Option : 1

Q.4 कैकोटिकली नृत्य किस त्योहार को मनाने के लिए किया जाता है?

- Ans ☒ 1. बैसाखी
- ☒ 2. मकर संक्रांति
- ☒ 3. दुर्गा पूजा
- ☒ 4. ओणम

Question ID : 26433066531

Status : Answered

Chosen Option : 1

Q.5 साक्षरता दर के संदर्भ में 2001 और 2011 की जनगणना में किस राज्य/केंद्र शासित प्रदेश को समान (अर्थात 11वां) स्थान मिला है?

- Ans ☒ 1. हिमाचल प्रदेश
- ☒ 2. पंजाब
- ☒ 3. त्रिपुरा
- ☒ 4. पश्चिम बंगाल

Question ID : 26433067218
Status : Not Answered
Chosen Option : --

Q.6 अक्टूबर 2021 में, निम्नलिखित में से किस राज्य सरकार ने 313 km चार-लेन अटल प्रगति पथ के लिए अधिग्रहित की जा रही निजी भूमि के बदले में सरकारी भूमि उपलब्ध कराने के प्रस्ताव को मंजूरी दी है?

- Ans ☒ 1. हरियाणा
- ☒ 2. मध्य प्रदेश
- ☒ 3. राजस्थान
- ☒ 4. उत्तर प्रदेश

Question ID : 26433055554
Status : Answered
Chosen Option : 3

Q.7 निम्नलिखित में से कौन-सा मुद्रा योजना का उत्पाद नहीं है?

- Ans ☒ 1. तरुण
- ☒ 2. किशोर
- ☒ 3. शिशु
- ☒ 4. बालक

Question ID : 26433059097
Status : Answered
Chosen Option : 1

Q.8 सितंबर 2021 तक की स्थिति के अनुसार, निम्नलिखित में से किस राज्य के उच्च न्यायालय में कोई महिला न्यायाधीश नहीं थीं?

- Ans ☒ 1. उत्तराखंड
- ☒ 2. हरियाणा
- ☒ 3. उत्तर प्रदेश
- ☒ 4. पंजाब

Question ID : 26433061852
Status : Answered
Chosen Option : 1

Q.9 _____ 2022 में प्लेट ग्रुप रणजी ट्रॉफी खेलते हुए प्रथम श्रेणी की शुरुआत (डेब्यूट) में तिहरा शतक लगाने वाले पहले खिलाड़ी हैं।

- Ans ☒ 1. अनुनय सिंह
- ☒ 2. शाहबाज नदीम
- ☒ 3. साकिबुल गनी
- ☒ 4. सौरभ तिवारी

Question ID : 26433055055
Status : Answered
Chosen Option : 3

Q.10 निम्नलिखित में से कौन भारतीय राष्ट्रीय कांग्रेस का उदारवादी नेता नहीं था?

- Ans
- ☒ 1. गोपाल कृष्ण गोखले
 - ☒ 2. दादाभाई नौरोजी
 - ☒ 3. फिरोजशाह मेहता
 - ☒ 4. अरबिंदो घोष

Question ID : 26433055638
Status : Answered
Chosen Option : 4

Q.11 भारत के संविधान का कौन-सा अनुच्छेद कानून के समक्ष समानता से संबंधित है?

- Ans
- ☒ 1. अनुच्छेद 14
 - ☒ 2. अनुच्छेद 13
 - ☒ 3. अनुच्छेद 17
 - ☒ 4. अनुच्छेद 16

Question ID : 26433069856
Status : Answered
Chosen Option : 1

Q.12 उस कार्यक्रम का नाम बताइए, जिसका उद्देश्य भारत में खाद्यान्न उत्पादन में वृद्धि का था।

- Ans
- ☒ 1. हरित क्रांति
 - ☒ 2. स्वर्णिम क्रांति
 - ☒ 3. गुलाबी क्रांति
 - ☒ 4. लाल क्रांति

Question ID : 26433059284
Status : Answered
Chosen Option : 1

Q.13 नागभट्ट प्रथम निम्नलिखित में से किस राजवंश का संस्थापक था?

- Ans
- ☒ 1. चोल
 - ☒ 2. पाल
 - ☒ 3. गुर्जर प्रतिहार
 - ☒ 4. होयसला

Question ID : 26433055613
Status : Answered
Chosen Option : 3

Q.14 धोलावीरा, एक हड़प्पा स्थल वर्तमान में भारतीय राज्य _____ में स्थित है।

- Ans
- ☒ 1. पंजाब
 - ☒ 2. गुजरात
 - ☒ 3. उत्तर प्रदेश
 - ☒ 4. महाराष्ट्र

Question ID : 26433064354
Status : Answered
Chosen Option : 2

Q.15 रण उत्सव', एक सांस्कृतिक उत्सव, भारतीय राज्य _____ में होता है।

- Ans
- ☒ 1. पंजाब
 - ☒ 2. सिक्किम
 - ☒ 3. गुजरात
 - ☒ 4. तेलंगाना

Question ID : 26433064315
Status : Answered
Chosen Option : 3

Q.16 केंद्रीय विश्वविद्यालय अधिनियम, 2009 में संशोधन करते हुए पारित केंद्रीय विश्वविद्यालय (संशोधन) अधिनियम, 2021 के तहत, सिंधु केंद्रीय विश्वविद्यालय नामक एक नया केंद्रीय विश्वविद्यालय स्थापित किया जाने वाला है। इसे किस राज्य/केंद्र शासित प्रदेश में स्थापित किया जाना है?

- Ans
- ☒ 1. जम्मू और कश्मीर
 - ☒ 2. उत्तराखंड
 - ☒ 3. लद्दाख
 - ☒ 4. हिमाचल प्रदेश

Question ID : 26433055563
Status : Answered
Chosen Option : 1

Q.17 निम्नलिखित में से कौन सा समूह द्वीपीय देशों का समूह है?

- Ans
- ☒ 1. मालदीव और चीन
 - ☒ 2. बांग्लादेश और मालदीव
 - ☒ 3. श्रीलंका और मालदीव
 - ☒ 4. पाकिस्तान और श्रीलंका

Question ID : 26433071632
Status : Not Answered
Chosen Option : --

Q.18 वीर सावरकर अंतर्राष्ट्रीय हवाईअड्डा कहां पर स्थित है?

- Ans
- ☒ 1. चंडीगढ़
 - ☒ 2. लक्षद्वीप द्वीपसमूह
 - ☒ 3. अंडमान एवं निकोबार द्वीपसमूह
 - ☒ 4. पांडिचेरी

Question ID : 26433066592
Status : Answered
Chosen Option : 3

Q.19 एच.ए.एम.एस (हार्नेसिंग ऑटोमोबाइल फॉर सेफ्टी) को 2020 में _____ और माइक्रोसॉफ्ट द्वारा संयुक्त रूप से विकसित और परीक्षण किया गया था, जो ड्राइविंग लाइसेंस चाहने वाले आवेदकों के परीक्षण के लिए एक स्मार्टफोन आधारित तकनीक है।

- Ans
- ☒ 1. टाटा मोटर्स
 - ☒ 2. किआ मोटर्स
 - ☒ 3. हुंडई मोटर्स
 - ☒ 4. मारुति सुजुकी इंडिया लिमिटेड

Question ID : 26433095265
Status : Answered
Chosen Option : 1

Q.20 भारत में व्यापक वन्यजीव संरक्षण अधिनियम किस वर्ष लागू किया गया था?

- Ans
- ☐ 1. 1950
 - ☐ 2. 1988
 - ☐ 3. 1947
 - ☒ 4. 1972

Question ID : 26433055324
Status : Answered
Chosen Option : 4

Section : Part-B-Quantitative Aptitude

Q.1 सलीम ने साधारण ब्याज पर किसी प्रोजेक्ट के लिए बैंक से ₹7,200 उधार लिए। 3 वर्ष की अवधि के बाद, राशि ₹9,576 हो जाएगी। ब्याज दर क्या है?

- Ans
- ☐ 1. 9%
 - ☒ 2. 11%
 - ☐ 3. 10%
 - ☐ 4. 12%

Question ID : 26433058795
Status : Answered
Chosen Option : 2

Q.2 A और B अकेले एक काम को क्रमशः 4 दिन और 8 दिन में पूरा कर सकते हैं। यदि वे दोनों A से शुरू करके एक दिन छोड़कर काम करते हैं, तो काम कितने दिनों में पूरा होगा?

- Ans
- ☐ 1. 4 दिन
 - ☐ 2. 6 दिन
 - ☐ 3. 7 दिन
 - ☒ 4. 5 दिन

Question ID : 26433056336
Status : Answered
Chosen Option : 4

Q.3 दो प्रिंटर्स, प्रत्येक Rs.12,000 में, एक को 20% के लाभ पर और दूसरे को 20% की हानि पर बेचा गया। पूरे लेन-देन में हानि या लाभ ज्ञात कीजिए।

- Ans
- ☐ 1. 2.4% हानि
 - ☐ 2. 4% लाभ
 - ☐ 3. 2.4% लाभ
 - ☒ 4. 4% हानि

Question ID : 26433058133
Status : Answered
Chosen Option : 4

Q.4 यदि $(a + b + c) = 17$ और $(a^2 + b^2 + c^2) = 117$, तो $(a - b)^2 + (b - c)^2 + (c - a)^2$ का मान क्या होगा?

- Ans
- ☐ 1. 57
 - ☐ 2. 72
 - ☐ 3. 42
 - ☒ 4. 62

Question ID : 26433056370
Status : Answered
Chosen Option : 4

Q.5 14 cm की ऊँचाई वाले एक लम्बवृत्तीय बेलन का वक्र पृष्ठीय क्षेत्रफल 88 cm^2 है। बेलन के आधार का व्यास ज्ञात कीजिए।

Ans ☒ 1. 2 cm

☐ 2. 4 cm

☐ 3. 3 cm

☐ 4. 1 cm

Question ID : 26433061228

Status : Answered

Chosen Option : 1

Q.6 दो संख्याओं का महत्तम समापवर्तक (HCF) 6 है। निम्नलिखित में से कौन-सा उनका लघुत्तम समापवर्त्य (LCM) कभी नहीं हो सकता है?

Ans ☐ 1. 24

☐ 2. 60

☐ 3. 48

☒ 4. 56

Question ID : 26433063362

Status : Answered

Chosen Option : 4

Q.7 यदि $x = 4$ है, तो $4x + 3$, $7x + 2$ और $9x + 2$, का चतुर्थानुपाती क्या है?

Ans ☒ 1. 60

☐ 2. 45

☐ 3. 58

☐ 4. 68

Question ID : 26433058912

Status : Answered

Chosen Option : 1

Q.8 यदि $1 + \cot^2 \theta = \frac{625}{49}$ और θ न्यून कोण है, तो $(\sin \theta + \cos \theta)^{1/2}$ का मान क्या होगा?

Ans ☐ 1. $\frac{\sqrt{33}}{8}$

☐ 2. $\frac{\sqrt{37}}{5}$

☒ 3. $\frac{\sqrt{31}}{5}$

☐ 4. $\frac{\sqrt{31}}{7}$

Question ID : 26433061391

Status : Answered

Chosen Option : 3

Q.9 यदि एक घन का आयतन, पृष्ठीय क्षेत्रफल के समान है तो भुजा की लंबाई क्या है?

- Ans
- ☒ 1. 4
 - ☒ 2. 2
 - ☒ 3. 6
 - ☒ 4. 8

Question ID : 26433056880
Status : Answered
Chosen Option : 3

Q.10 एक वृत्त का व्यास 35 cm है। यदि त्रिज्यखंड का क्षेत्रफल 385 cm^2 है, तो त्रिज्यखंड के चाप की लंबाई ज्ञात कीजिए।

- Ans
- ☒ 1. 42 cm
 - ☒ 2. 40 cm
 - ☒ 3. 44 cm
 - ☒ 4. 48 cm

Question ID : 26433058165
Status : Answered
Chosen Option : 3

Q.11 एक पुलिसकर्मी चोर का पीछा करना शुरू करता है जब वह 800 m आगे था। पुलिसकर्मी और चोर क्रमशः 12 km/h और 9 km/h की गति से दौड़ते हैं। 10 मिनट बाद उनके बीच की दूरी क्या होगी?

- Ans
- ☒ 1. 300 m
 - ☒ 2. 100 m
 - ☒ 3. 400 m
 - ☒ 4. 200 m

Question ID : 26433058413
Status : Answered
Chosen Option : 4

Q.12 एक परीक्षा में पांच पेपर हैं। निम्नलिखित तालिका में तीन छात्रों द्वारा प्राप्त अंकों को सारणीबद्ध किया गया है।

छात्रों का नाम	गणित	भौतिक विज्ञान	रसायन विज्ञान	अंग्रेजी	कंप्यूटर
नेहा	85	88	78	75	89
अंकित	89	75	80	72	80
केवल	78	71	81	73	83

गणित, भौतिक विज्ञान और रसायन विज्ञान में क्रमशः किन छात्रों को सर्वाधिक अंक प्राप्त हुए?

- Ans
- ☒ 1. अंकित, नेहा, केवल
 - ☒ 2. अंकित, केवल, नेहा
 - ☒ 3. नेहा, केवल, अंकित
 - ☒ 4. नेहा, अंकित, केवल

Question ID : 26433074315
Status : Answered
Chosen Option : 4

Q.13 यदि $(x - 1)$, $(x^2 + 6kx - 7)$ का एक गुणनखंड है, तो k का मान क्या होगा?

Ans ☒ 1. 1

☐ 2. 3

☐ 3. 2

☐ 4. 4

Question ID : 26433063354

Status : Answered

Chosen Option : 1

Q.14 अर्धवार्षिक रूप से देय 10% प्रति वर्ष की नाममात्र दर के अनुरूप प्रभावी वार्षिक ब्याज दर _____ होगी।

Ans ☐ 1. 5%

☐ 2. 10%

☐ 3. 5.50%

☒ 4. 10.25%

Question ID : 26433056326

Status : Answered

Chosen Option : 4

Q.15 निम्नलिखित में से कौन-सा संख्या युग्म अभाज्य है?

Ans ☐ 1. 47 और 27

☐ 2. 77 और 97

☐ 3. 57 और 67

☒ 4. 37 और 67

Question ID : 26433065049

Status : Answered

Chosen Option : 4

Q.16 एक वर्कशॉप में, सरल और कनिका एकांतर दिनों में काम कर रहे हैं। पहले दिन सरल, दूसरे दिन कनिका, तीसरे दिन सरल और यह क्रम इसी प्रकार जारी रहता है। सरल अकेले काम को 15 दिनों में पूरा कर सकता है, जबकि कनिका अकेले उसी काम को पूरा करने में 18 दिन लेती है। यदि वे एकांतर आधार पर काम करते हैं तो वे उस काम को कितने दिनों में पूरा करेंगे?

Ans ☒ 1. $16\frac{1}{3}$

☐ 2. $15\frac{1}{4}$

☐ 3. $14\frac{1}{4}$

☐ 4. $15\frac{1}{3}$

Question ID : 26433063351

Status : Answered

Chosen Option : 1

Q.17 वर्ष 2014 में एक शहर की जनसंख्या 8000000 थी। यदि 2015 में 8% की वृद्धि होती है, 2016 में 35% की कमी होती है और 2017 में 65% की वृद्धि होती है, तो वर्ष 2017 के अंत में शहर की जनसंख्या कितनी होगी?

- Ans ☒ 1. 8400278
☒ 2. 9266400
☒ 3. 7000000
☒ 4. 9635535

Question ID : 26433061245
Status : Answered
Chosen Option : 2

Q.18 यदि $a - b = 9$ है, तो $(a - 18)^3 - (b - 9)^3$ का मान ज्ञात कीजिए।

- Ans ☒ 1. 0
☒ 2. 392
☒ 3. 2863
☒ 4. 343

Question ID : 26433058947
Status : Answered
Chosen Option : 1

Q.19 एक व्यापारी नकद भुगतान पर 12.5 प्रतिशत की छूट देता है। 20% का लाभ कमाने के लिए उसे अपने सामान पर क्रय मूल्य से कितना प्रतिशत अधिक मूल्य अंकित करना चाहिए?

- Ans ☒ 1. 33.417%
☒ 2. 34.173%
☒ 3. 31.743%
☒ 4. 37.143%

Question ID : 26433065076
Status : Answered
Chosen Option : 4

Q.20 एक मेट्रो ट्रेन स्टेशन A से स्टेशन B तक 40 km/h की चाल से चलकर 30 km की दूरी तय करती है। बीच में यह प्रत्येक 5 स्टेशनों पर 5 मिनट के लिए रुकती है। A से B तक ट्रेन की औसत चाल (km/h में) कितनी है?

- Ans ☒ 1. 22.5
☒ 2. 25.7
☒ 3. 27.5
☒ 4. 24.7

Question ID : 26433071244
Status : Answered
Chosen Option : 2

Q.1 निम्नलिखित में से तीन अक्षर-समूह किसी न किसी तरह में एक जैसे हैं और इसलिए एक समूह बनाते हैं। कौन-सा अक्षर-समूह उस समूह से संबंधित नहीं है?

- Ans ☒ 1. FUHY
☒ 2. DWFA
☒ 3. HSKV
☒ 4. BYDC

Question ID : 26433056166
Status : Answered
Chosen Option : 3

Q.2 'X # Y' का अर्थ है कि 'X, Y का पति है'
'X @ Y' का अर्थ है कि 'X, Y की पत्नी है'
'X & Y' का अर्थ है कि 'X, Y की मां है'
'X % Y' का अर्थ है कि 'X, Y' का पिता है'

यदि 'A # B & C @ D % E' है, तो D का A से क्या संबंध है?

- Ans ☒ 1. पुत्र
☒ 2. पिता
☒ 3. बहू
☒ 4. दामाद

Question ID : 26433057773
Status : Answered
Chosen Option : 4

Q.3 * चिह्नों को क्रमानुसार बदलने और दिए गए समीकरण को संतुलित करने के लिए गणितीय चिह्नों के सही संयोजन का चयन कीजिए।
 $54 * 3 * 65 * 5 * 31 * 312$

- Ans ☒ 1. +, ×, -, ÷, =
☒ 2. +, -, ×, ÷, =
☒ 3. ÷, +, ×, -, =
☒ 4. ×, +, -, ÷, =

Question ID : 26433056454
Status : Answered
Chosen Option : 3

Q.4 एक कूट भाषा में 'AUNT' को 20 और 'UNCLE' को 30 के रूप में कूटबद्ध किया जाता है। उसी भाषा में 'RELATIVES' को किस प्रकार कूटबद्ध किया जाएगा?

- Ans ☒ 1. 64
☒ 2. 90
☒ 3. 56
☒ 4. 72

Question ID : 26433078901
Status : Answered
Chosen Option : 2

Q.5 दिए गए विकल्पों में से उन संख्याओं को चुनिए, जो निम्नलिखित श्रृंखला में प्रश्न-चिह्न (?) को प्रतिस्थापित कर सके।
23, 30, 39, ?, 78, 95

- Ans ☒ 1. 50, 63
☒ 2. 49, 63
☒ 3. 50, 65
☒ 4. 48, 61

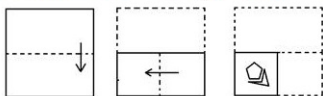
Question ID : 26433057039
Status : Answered
Chosen Option : 1

Q.6 उस विकल्प का चयन कीजिए जो पांचवें अक्षर समूह से उसी तरह संबंधित है जिस तरह दूसरा अक्षर समूह पहले अक्षर समूह से संबंधित है और चौथा अक्षर समूह तीसरे अक्षर समूह से संबंधित है।
WLX : RGS :: TAM : OVH :: RJB : ?

- Ans ☒ 1. MEW
☒ 2. SUZ
☒ 3. GPA
☒ 4. RLE

Question ID : 26433074678
Status : Answered
Chosen Option : 1

Q.7 कागज के एक टुकड़े को मोड़ने का क्रम और मोड़े गए कागज को काटने का तरीका नीचे दिखाया गया है। एक ऐसी आकृति चुनें जो कागज को खोलने पर उसके खुले रूप से सबसे अधिक मिलती-जुलती होगी।



- Ans ☒ 1.
- ☒ 2.
- ☒ 3.
- ☒ 4.

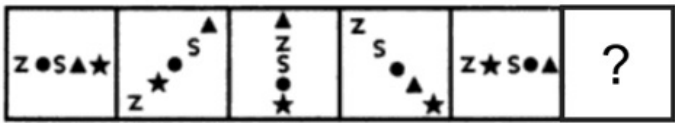
Question ID : 26433057411
Status : Answered
Chosen Option : 1

Q.8 उस विकल्प का चयन कीजिए जो उन अक्षरों को निरूपित करता है, जिन्हें नीचे दिए गए रिक्त स्थानों में क्रमिक रूप से बाएं से दाएं रखने पर अक्षर श्रृंखला पूर्ण हो जाएगी।
_ O _ C O _ M _ S C _ _ M O _ C _ W M _ _ C O _

- Ans ☒ 1. MSWOOWSOOSW
☐ 2. WOWOSOMCSOM
☐ 3. COWOSMOOCWS
☐ 4. MSCCOSWMOSM

Question ID : 26433056390
Status : Answered
Chosen Option : 1

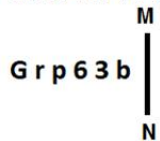
Q.9 दिए गए विकल्पों में से उस आकृति का चयन करें जो निम्नलिखित श्रृंखला में प्रश्नवाचक चिह्न (?) का स्थान ले सकती है।



- Ans ☐ 1.
- ☐ 2.
- ☒ 3.
- ☐ 4.

Question ID : 26433080537
Status : Answered
Chosen Option : 4

Q.10 यदि दर्पण को नीचे दर्शाए गए अनुसार MN पर रखा जाए, तो दी गई आकृति के सही दर्पण प्रतिबिम्ब का चयन कीजिए।



- Ans
- ☒ 1.
 - ☒ 2.
 - ☒ 3.
 - ☒ 4.

Question ID : 26433056977

Status : Answered

Chosen Option : 3

Q.11 उस विकल्प का चयन कीजिए, जो तीसरे पद से उसी प्रकार संबंधित है, जिस प्रकार दूसरा पद पहले पद से और छठा पद पाँचवें पद से संबंधित है।
238 : 23 :: 336 : ? :: 70 : 11

- Ans
- ☒ 1. 25
 - ☒ 2. 22
 - ☒ 3. 30
 - ☒ 4. 28

Question ID : 26433057063

Status : Not Attempted and Marked For Review

Chosen Option : --

Q.12 उस समुच्चय का चयन कीजिए जिसमें संख्याएँ उसी प्रकार संबंधित हैं जिस प्रकार निम्नलिखित समुच्चयों की संख्याएँ आपस में संबंधित हैं।
(नोट: संख्याओं को उसके घटक अंकों में विभाजित किए बिना, पूर्ण संख्याओं पर गणितीय संक्रियाएँ की जानी चाहिए। उदाहरण के लिए 13 - अगर आपको 13 पर गणितीय संक्रियाएँ जैसे कि जोड़ने/घटाने/ गुणा करने आदि करना है तो वह 13 पर ही की जा सकती हैं। 13 को 1 और 3 में तोड़ना और फिर 1 और 3 पर गणितीय संक्रियाएँ करने की अनुमति नहीं है।)
(326, 193, 519)
(411, 213, 624)

- Ans
- ☒ 1. (429, 224, 618)
 - ☒ 2. (371, 182, 551)
 - ☒ 3. (282, 127, 409)
 - ☒ 4. (359, 208, 609)

Question ID : 26433057610

Status : Not Answered

Chosen Option : --

Q.13 एक कूट भाषा में 'FIGHT' को 40 के रूप में और 'SHORT' को 70 के रूप में कूटबद्ध किया जाता है। उसी भाषा में 'CRACK' को किस प्रकार कूटबद्ध किया जाएगा?

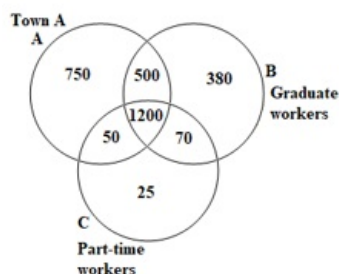
- Ans
- ☒ 1. 38
 - ☒ 2. 28
 - ☒ 3. 26
 - ☒ 4. 35

Question ID : 26433057818

Status : Answered

Chosen Option : 3

Q.14 Study the given diagram carefully and answer the question. The numbers in different sections indicate the number of persons.



How many graduate workers are there in town A?

- Ans ☒ 1. 1200
☒ 2. 1700
☒ 3. 2500
☒ 4. 500

Question ID : 26433069670

Status : Answered

Chosen Option : 2

Q.15 J, K, M, P, S, T, Y और Z एक वर्गाकार मेज के चारों ओर मेज के केंद्र की ओर मुख करके बैठे हैं। उनमें से कुछ कोनों पर बैठे हैं, जबकि कुछ कोनों के ठीक केंद्र में बैठे हैं। J, M के दाएँ से दूसरे स्थान पर बैठा है। J और K के बीच केवल तीन व्यक्ति बैठे हैं। T, K के ठीक बाएँ बैठा है। Z न तो T का और न ही M का निकटतम पड़ोसी है। Z मेज के किसी भी कोने पर नहीं बैठा है। S, Y के दाएँ से दूसरे स्थान पर बैठा है। P के बाएँ से दूसरे स्थान पर कौन बैठा है?

- Ans ☒ 1. T
☒ 2. K
☒ 3. J
☒ 4. M

Question ID : 26433058033

Status : Answered

Chosen Option : 3

Q.16 * चिह्नों को क्रमिक रूप से बदलने और दिए गए समीकरण को संतुलित करने के लिए गणितीय चिह्नों के सही संयोजन का चयन कीजिए।

$$15 * 32 * 5 * 24 * 6 * 171$$

- Ans ☒ 1. $\times, +, -, \div, =$
☒ 2. $-, +, +, \times, =$
☒ 3. $+, \times, -, \div, =$
☒ 4. $-, \times, +, \div, =$

Question ID : 26433056936

Status : Answered

Chosen Option : 3

Q.17 कौन-सा अक्षर-समूह दी गई श्रृंखला को पूर्ण करने के लिए प्रश्नवाचक चिह्न (?) को प्रतिस्थापित करेगा?
MEXH, QHZI, ?, YNDK, CQFL

- Ans ☒ 1. MEWJ
☒ 2. UKBJ
☒ 3. LCWL
☒ 4. JDVL

Question ID : 26433057430

Status : Answered

Chosen Option : 2

Q.18 दिए गए कथनों और निष्कर्षों को ध्यानपूर्वक पढ़िए। यह मानते हुए कि कथनों में दी गई जानकारी सत्य है, भले ही वह सामान्य रूप से ज्ञात तथ्यों से भिन्न प्रतीत होती हो, निर्णय लीजिए कि दिए गए निष्कर्षों में से कौन-सा/से कथनों का तार्किक रूप से अनुसरण करता है/करते हैं।

कथन:

सभी लिली डेज़ी हैं।

कुछ डेज़ी गुलाब हैं।

सभी गुलाब सूरजमुखी हैं।

निष्कर्ष:

I. कुछ सूरजमुखी डेज़ी हैं।

II. सभी लिली गुलाब हैं।

- Ans ☒ 1. केवल निष्कर्ष II अनुसरण करता है।
☒ 2. न तो निष्कर्ष I और न ही निष्कर्ष II अनुसरण करता है।
☒ 3. निष्कर्ष I और II दोनों अनुसरण करते हैं।
☒ 4. केवल निष्कर्ष I अनुसरण करता है।

Question ID : 26433074723

Status : Answered

Chosen Option : 4

Q.19 उस विकल्प का चयन करें, जो तीसरे शब्द से उसी प्रकार संबंधित है, जिस प्रकार दूसरा शब्द, पहले शब्द से संबंधित है। (शब्दों को अर्थपूर्ण हिंदी शब्दों के रूप में माना जाना चाहिए और शब्दों को उनमें अक्षरों की संख्या / व्यंजनों की संख्या / स्वरों की संख्या के आधार पर एक दूसरे से संबंधित नहीं किया जाना चाहिए।)

सर्जन (Surgeon) :: स्केलपल (Scalpel) :: मूर्तिकार (Sculptor) : ?

- Ans ☒ 1. हल (Plough)
☒ 2. कुदाल (Spade)
☒ 3. छेनी (Chisel)
☒ 4. तलवार (Sword)

Question ID : 26433056592

Status : Answered

Chosen Option : 3

Q.20 निम्नलिखित में से कौन-सी संख्या दी गई श्रृंखला में प्रश्न चिह्न (?) को प्रतिस्थापित करेगी?
2, 5, 7, 10, 17, 20, 37, ?

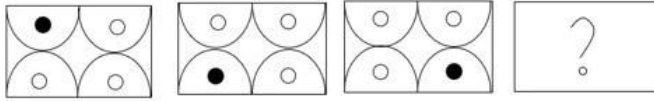
- Ans ☒ 1. 42
☒ 2. 45
☒ 3. 47
☒ 4. 40

Question ID : 26433057563

Status : Not Answered

Chosen Option : --

Q.21 उस आकृति का चयन कीजिए जो निम्नलिखित आकृति श्रृंखला में प्रश्न चिह्न (?) को प्रतिस्थापित करेगी।



Ans

- ✗ 1.
- ✗ 2.
- ✗ 3.
- ✓ 4.

Question ID : 26433055726

Status : Answered

Chosen Option : 4

Q.22 निम्नलिखित में से कौन-सा विकल्प दिए गए शब्दों के उस सही क्रम को दर्शाता है जिस क्रम में वे अंग्रेजी शब्दकोश में दिखाई देते हैं?

1. Broken
2. Brochure
3. Brown
4. Brothel
5. Broom

- Ans ✗ 1. 2, 1, 4, 5, 3
- ✗ 2. 1, 2, 5, 4, 3
- ✓ 3. 2, 1, 5, 4, 3
- ✗ 4. 2, 1, 5, 3, 4

Question ID : 26433057209

Status : Answered

Chosen Option : 3

Q.23 M, O का पिता है। R, O की बहन है। N, R की माँ है। यदि P, R का पति है, तो P का N से कैसा संबंध है?

- Ans ✓ 1. दामाद
- ✗ 2. बहू
- ✗ 3. ससुर
- ✗ 4. सास

Question ID : 26433068810

Status : Answered

Chosen Option : 4

Q.24 A, B, C, D, E, F, G और H एक वर्गाकार मेज के चारों ओर मेज के केंद्र की ओर मुख करके बैठे हैं। उनमें से कुछ कोनों पर बैठे हैं, जबकि कुछ कोनों के ठीक केंद्र में बैठे हैं। F मेज के किसी एक कोने पर बैठा है। E, F के दाएँ से तीसरे स्थान पर बैठा है। E और A के बीच केवल तीन व्यक्ति बैठे हैं। D, A के दाएँ से दूसरे स्थान पर बैठा है। B, G के दाएँ से तीसरे स्थान पर बैठा है। C, H के दाएँ से दूसरे स्थान पर बैठा है। B और A के ठीक बीच में कौन बैठा है?

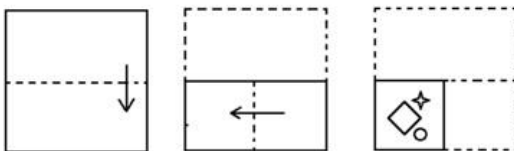
- Ans ☒ 1. H
☒ 2. E
☒ 3. C
☒ 4. F

Question ID : 26433058031

Status : Answered

Chosen Option : 3

Q.25 नीचे कागज के एक टुकड़े को मोड़ने का क्रम और मोड़े गए कागज को काटने का तरीका दिखाया गया है। उस आकृति का चयन करें, जो कागज के खुले रूप से सर्वाधिक मिलती जुलती हो।



Ans

- ☒ 1.
- ☒ 2.
- ☒ 3.
- ☒ 4.

Question ID : 26433056682

Status : Answered

Chosen Option : 2

Q.1 Select the most appropriate synonym of the given word.
Slack

- Ans ☒ 1. Inactive
☐ 2. Stack
☐ 3. Thrive
☐ 4. Activated

Question ID : 26433066104
Status : Answered
Chosen Option : 1

Q.2 Select the most appropriate ANTONYM of the underlined word.

The ancient structures are still a matter of great interest for researchers.

- Ans ☐ 1. Antique
☒ 2. Modern
☐ 3. Historical
☐ 4. Previous

Question ID : 26433073193
Status : Answered
Chosen Option : 1

Q.3 Sentences of a paragraph are given below in jumbled order. Arrange the sentences in the correct order to form a meaningful and coherent paragraph.

- A. The Estonia rolled over and sank in a cold, stormy night.
B. Of those who managed to scramble overboard, only 139 survived.
C. It went down so quickly that most of those on board, caught in their dark, flooding cabins, had no chance to save themselves.
D. Naval architects never claim that a ship is unsinkable, but the sinking of the passenger-and-car ferry Estonia in the Baltic surely should have never have happened.

- Ans ☐ 1. BCAD
☒ 2. DACB
☐ 3. ABDC
☐ 4. DABC

Question ID : 26433060729
Status : Answered
Chosen Option : 4

Q.4 Select the INCORRECTLY spelt word.

- Ans ☒ 1. Dilusion
☐ 2. Solution
☐ 3. Impression
☐ 4. Ambition

Question ID : 26433055467
Status : Answered
Chosen Option : 4

Q.5 Select the INCORRECTLY spelt word.

- Ans ☒ 1. Refrigerater
☒ 2. Fridge
☒ 3. Educate
☒ 4. Install

Question ID : 26433071897
Status : Answered
Chosen Option : 1

Q.6 Select the most appropriate option to fill in the blanks.

The government has introduced a new scheme for those living below the _____ line and the _____ of this scheme have to apply within next month.

- Ans ☒ 1. destitute; bohemians
☒ 2. impoverished; bigots
☒ 3. poor; benevolents
☒ 4. poverty; beneficiaries

Question ID : 26433065182
Status : Answered
Chosen Option : 3

Q.7 Select the most appropriate synonym of the highlighted word in the following sentence.

Ravi was baffled at the question asked by his teacher.

- Ans ☒ 1. Excited
☒ 2. Confused
☒ 3. Angered
☒ 4. Amused

Question ID : 26433065215
Status : Answered
Chosen Option : 1

Q.8 Select the most appropriate option to fill in the blank.

Hamlet's appeal lies partly in being the supreme dramatic evocation of the _____ of life.

- Ans ☒ 1. dangers
☒ 2. hazards
☒ 3. harmfulness
☒ 4. mysteriousness

Question ID : 26433059617
Status : Answered
Chosen Option : 2

Q.9 Identify the error in tense and choose the correct sentence from the following options.
We play cricket now. We were playing in the music club every week.

- Ans
- ☒ 1. We have been playing cricket now. We are playing in the music club every week.
 - ☒ 2. We were playing cricket now. We had been playing in the music club every week.
 - ☒ 3. We are playing cricket now. We play in the music club every week.
 - ☒ 4. We play cricket now. We are playing in the music club every week.

Question ID : 26433059187
Status : Answered
Chosen Option : 4

Q.10 Select the most appropriate option that can substitute the underlined segment in the given sentence. If there is no need to substitute it, select 'No substitution'.

Who will look after my sick pet in my absence?

- Ans
- ☒ 1. look into
 - ☒ 2. look at
 - ☒ 3. No substitution
 - ☒ 4. look on

Question ID : 26433072299
Status : Answered
Chosen Option : 2

Q.11 In the following passage, some word have been deleted. Read the passage carefully and select the most appropriate option to fill in each blank.

In the schoolroom there were a few mechanical models which interested me and turned my attention to water turbines. I constructed many of these and found great pleasure in operating them. How extraordinary was my life an incident may illustrate. My uncle had no use for this kind of pastime and more than once rebuked me. I was fascinated by a description of Niagara Falls I had perused, and pictured in my imagination a big wheel run by the Falls. I told my uncle that I would go to America and carry out this scheme. Thirty years later, I saw my ideas carried out at Niagara and marvelled at the _____ mystery of the mind.

Select the most appropriate option to fill in the blank.

- Ans
- ☒ 1. comprehensible
 - ☒ 2. shallow
 - ☒ 3. penetrable
 - ☒ 4. unfathomable

Question ID : 26433069768
Status : Not Answered
Chosen Option : --

Q.12 Select the idiom that can substitute the underlined group of words.

My manager is very angry.

- Ans
- ☒ 1. Loses face
 - ☒ 2. Fat cat
 - ☒ 3. Pulls a face
 - ☒ 4. Has a face like thunder

Question ID : 26433063650
Status : Answered
Chosen Option : 1

Q.13 The following sentence has been split into four segments. Identify the segment that contains a grammatical error.

The new schedule / for workers / go functional / last Monday.

- Ans
- ☒ 1. for workers
 - ☒ 2. go functional
 - ☒ 3. The new schedule
 - ☒ 4. last Monday

Question ID : 26433061497
Status : Answered
Chosen Option : 2

Q.14 Select the option that can be used as a one-word substitute for the given group of words.

The study of secret writing and coded language or words

- Ans
- ☒ 1. Calligraphy
 - ☒ 2. Cryptography
 - ☒ 3. Cryptology
 - ☒ 4. Cytology

Question ID : 26433072445
Status : Answered
Chosen Option : 3

Q.15 Select the most appropriate synonym of the underlined word in the given sentence.
No barrier can stop her from achieving her goals.

- Ans
- ☒ 1. obstacle
 - ☒ 2. stony path
 - ☒ 3. entrance
 - ☒ 4. transit

Question ID : 26433055507
Status : Not Attempted and Marked For Review
Chosen Option : --

Q.16 Select the option that can be used as a one-word substitute for the given group of words.

A paper written by hand

- Ans
- ☒ 1. Manuscript
 - ☒ 2. Mantle
 - ☒ 3. Transcript
 - ☒ 4. Marsupial

Question ID : 26433070712
Status : Answered
Chosen Option : 1

Q.17 Select the most appropriate option to fill in the blank.

He has no respect for sacred things. He is involved in the act of _____.

- Ans
- ☒ 1. apostasy
 - ☒ 2. atheism
 - ☒ 3. blasphemy
 - ☒ 4. heresy

Question ID : 26433072481

Status : Answered

Chosen Option : 3

Q.18 In the following passage, some word have been deleted. Read the passage carefully and select the most appropriate option to fill in each blank.

Anticipation of threats to the sustainability of human civilisation needs to encompass time periods that span not just decades but millennia. All existential risks need to be jointly assessed, as _____ to addressing risks such as climate change and pandemics separately. Exploring the potential events that are likely to cause the biggest risks as well as asking why we should even desire to thrive into the distant future, this work looks at the 'biggest picture possible' in order to argue that futures-oriented decision-making ought to be a permanent aspect of human society and futures-oriented policy making must take precedent over the day-to-day policy making of current generations in times of great peril.

Select the most appropriate option to fill in the blank.

- Ans
- ☒ 1. familiar
 - ☒ 2. opposed
 - ☒ 3. accustomed
 - ☒ 4. similar

Question ID : 26433069771

Status : Answered

Chosen Option : 4

Q.19 Select the most appropriate meaning of the given idiom.
Hit the nail on the head

- Ans
- ☒ 1. Win something by chance
 - ☒ 2. Hit the wrong note
 - ☒ 3. Making too many errors
 - ☒ 4. Get something exactly right

Question ID : 26433066128

Status : Answered

Chosen Option : 1

Q.20 Select the most appropriate ANTONYM of the underlined word.

The foreigner after visiting the Taj Mahal narrated the wonders of architecture to everyone.

- Ans
- ☒ 1. General
 - ☒ 2. Global
 - ☒ 3. Native
 - ☒ 4. Universal

Question ID : 26433073192

Status : Answered

Chosen Option : 3

Comprehension:

In the following passage, some words have been deleted. Read the passage carefully and select the most appropriate option to fill in each blank.

Their popular works had a moral tenor directed (1)_____the upliftment of the society. In (2)_____tales, they present a neat moral distinction. The wrongness (3)_____rightness of either side is invariably undoubted. There are demonic characters (4)_____cause innocents to (5)_____for a while

SubQuestion No : 21

Q.21 Select the most appropriate option to fill in blank number 1.

- Ans  1. at
-  2. of
-  3. on
-  4. about

Question ID : **26433058896**
Status : **Answered**
Chosen Option : **3**





Comprehension:

In the following passage, some words have been deleted. Read the passage carefully and select the most appropriate option to fill in each blank.

Their popular works had a moral tenor directed (1)_____the upliftment of the society. In (2)_____tales, they present a neat moral distinction. The wrongness (3)_____rightness of either side is invariably undoubted. There are demonic characters (4)_____cause innocents to (5)_____for a while

SubQuestion No : 22

Q.22 Select the most appropriate option to fill in blank number 2.

- Ans  1. there
-  2. his
-  3. her
-  4. their

Question ID : **26433058897**
Status : **Answered**
Chosen Option : **4**




Comprehension:

In the following passage, some words have been deleted. Read the passage carefully and select the most appropriate option to fill in each blank.

Their popular works had a moral tenor directed (1)_____the upliftment of the society. In (2)_____tales, they present a neat moral distinction. The wrongness (3)_____rightness of either side is invariably undoubted. There are demonic characters (4)_____cause innocents to (5)_____for a while

SubQuestion No : 23

Q.23 Select the most appropriate option to fill in blank number 3.

- Ans  1. nor
-  2. or
-  3. neither
-  4. but

Question ID : **26433058898**
Status : **Answered**
Chosen Option : **3**

Comprehension:

In the following passage, some words have been deleted. Read the passage carefully and select the most appropriate option to fill in each blank.

Their popular works had a moral tenor directed (1)_____ the upliftment of the society. In (2)_____ tales, they present a neat moral distinction. The wrongness (3)_____ rightness of either side is invariably undoubted. There are demonic characters (4)_____ cause innocents to (5)_____ for a while

SubQuestion No : 24

Q.24 Select the most appropriate option to fill in blank number 4.

- Ans ☒ 1. that
☒ 2. where
☒ 3. who
☒ 4. which

Question ID : 26433058899
Status : Answered
Chosen Option : 1

Comprehension:

In the following passage, some words have been deleted. Read the passage carefully and select the most appropriate option to fill in each blank.

Their popular works had a moral tenor directed (1)_____ the upliftment of the society. In (2)_____ tales, they present a neat moral distinction. The wrongness (3)_____ rightness of either side is invariably undoubted. There are demonic characters (4)_____ cause innocents to (5)_____ for a while

SubQuestion No : 25

Q.25 Select the most appropriate option to fill in blank number 5.

- Ans ☒ 1. suffer
☒ 2. contemplate
☒ 3. delay
☒ 4. rejoice

Question ID : 26433058900
Status : Not Answered
Chosen Option : --

Section : Part-E- Computer Fundamentals

Q.1 MS-Excel -2010 और उससे ऊपर की वर्कशीट में एडिट मोड को इनेबल करने के संदर्भ में निम्नलिखित में से कौन सा विकल्प सही है?

- Ans ☒ 1. File पर क्लिक करें > Options पर क्लिक करें > Customized Ribbon पर क्लिक करें और Editing options के अंतर्गत Allow editing directly in cells चेक बॉक्स (check box) को सेलेक्ट करें।
☒ 2. File पर क्लिक करें > Options पर क्लिक करें > Advanced पर क्लिक करें और Editing options के अंतर्गत Allow editing directly in cells चेक बॉक्स (check box) को सेलेक्ट करें।
☒ 3. File पर क्लिक करें > Options पर क्लिक करें > Trust Center पर क्लिक करें और Allow editing directly in cells चेक बॉक्स (check box) को सेलेक्ट करें।
☒ 4. File पर क्लिक करें > Options पर क्लिक करें > Customized Ribbon पर क्लिक करें और Allow editing directly in cells चेक बॉक्स (check box) को सेलेक्ट करें।

Question ID : 26433095529
Status : Not Answered
Chosen Option : --

Q.2 व्यू टैब (view tab) पर जाने के लिए, एमएस-एक्सेल (MS-Excel 2010) में _____ शॉर्टकट की (key) का उपयोग किया जाता है।

- Ans
- ☒ 1. ALT + N
 - ☒ 2. ALT + I
 - ☒ 3. ALT + A
 - ☒ 4. ALT + W

Question ID : 26433095432
Status : Not Answered
Chosen Option : --

Q.3 जब आप एमएस-एक्सेल 2010(MS-Excel 2010) वर्कशीट में B3 से लेकर, B3 : G9 सेल की रेंज को सेलेक्ट करते हैं, तो नेम बॉक्स में क्या प्रदर्शित होगा?

- Ans
- ☒ 1. G3
 - ☒ 2. G9
 - ☒ 3. B9
 - ☒ 4. B3

Question ID : 26433095319
Status : Not Answered
Chosen Option : --

Q.4 एमएस-वर्ड 2010 में, बाईं ओर के एक कैरेक्टर को हटाने के लिए किस शॉर्टकट की (key) का उपयोग किया जाता है?

- Ans
- ☒ 1. Backspace
 - ☒ 2. Ctrl + Backspace
 - ☒ 3. Ctrl + Delete
 - ☒ 4. Shift + Delete

Question ID : 26433095491
Status : Answered
Chosen Option : 1

Q.5 डॉटेड-डेसीमल नोटेशन (dotted-decimal notation) में, आईपी (IP) संस्करण 4 एड्रेस को बिल्कुल _____ डॉट (.) चिन्हों का उपयोग करके दर्शाया जाता है।

- Ans
- ☒ 1. दो
 - ☒ 2. तीन
 - ☒ 3. पाँच
 - ☒ 4. चार

Question ID : 26433095356
Status : Not Attempted and Marked For Review
Chosen Option : --

Q.6 एक _____, वेब पेजों और संबंधित सामग्री का ऐसा संग्रह होता है जिसे किसी सामान्य डोमेन (domain) नाम से पहचाना जाता है और कम से कम किसी एक वेब सर्वर (web server) पर पब्लिश किया जाता है।

- Ans
- ☒ 1. ईमेल (EMAIL)
 - ☒ 2. वाइरस (VIRUS)
 - ☒ 3. इंस्टेंट मैसेंजर (Instant messenger)
 - ☒ 4. वेबसाइट (Website)

Question ID : 26433095487
Status : Answered
Chosen Option : 1

Q.7 एमएस-एक्सेल 2010 (MS-Excel 2010) में _____ ऑपरेशन का उपयोग डेटा को एक विशेष क्रम में व्यवस्थित करने के लिए किया जाता है।

- Ans
- ☒ 1. टेबल (TABLE)
 - ☒ 2. फ़िल्टर (FILTER)
 - ☒ 3. सॉर्ट (SORT)
 - ☒ 4. चार्ट (CHART)

Question ID : 26433095431
Status : Not Attempted and Marked For Review
Chosen Option : --

Q.8 एमएस एक्सेल-2010 वर्कशीट के सेल में अधिकतम कितने कैरेक्टर टाइप किए जा सकते हैं?

- Ans
- ☒ 1. 16384
 - ☒ 2. 256
 - ☒ 3. 1024
 - ☒ 4. 32767

Question ID : 26433095508
Status : Answered
Chosen Option : 1

Q.9 एमएस-एक्सेल 2010 के संबंध में गलत विकल्प का चयन कीजिए।

- Ans
- ☒ 1. एमएस-एक्सेल 2010 में, Ctrl+H का उपयोग शीट के भीतर टेक्स्ट को प्रतिस्थापित (Replace) करने के लिए किया जाता है।
 - ☒ 2. एमएस-एक्सेल 2010 में, रिबन बार में होम टैब (home tab) में सबसे अधिक उपयोग किए जाने वाले कमांड होते हैं जैसे कि कॉपी और पेस्ट करना, सॉर्ट करना और फ़िल्टर करना, फॉर्मेट करना आदि।
 - ☒ 3. एमएस-एक्सेल 2010 में, Ctrl+R का उपयोग शीट में टेक्स्ट को प्रतिस्थापित (Replace) करने के लिए किया जाता है।
 - ☒ 4. Alt+Enter शॉर्टकट कुंजी (key) का उपयोग एमएस-एक्सेल 2010 में किसी विशेष सेल वाले टेक्स्ट में एक नई लाइन प्रविष्टि करने के लिए किया जाता है।

Question ID : 26433095464
Status : Not Answered
Chosen Option : --

Q.10 अधूरे ईमेल को बिना भेजे ही किस फोल्डर में स्टोर किया जाता है?

- Ans
- ☒ 1. ड्राफ्ट (Drafts)
 - ☒ 2. स्पैम (Spam)
 - ☒ 3. ट्रेश (Trash)
 - ☒ 4. सेंट (Sent)

Question ID : 26433095505
Status : Answered
Chosen Option : 1