

Delhi Police
Head Constable
Previous Year Paper
(Ministerial) 10 Oct 2022
Shift 2

Head Constable Ministerial in Delhi Police Examination 2022

Roll Number	
Candidate Name	
Venue Name	
Exam Date	10/10/2022
Exam Time	1:00 PM - 2:30 PM
Subject	Head Constable Ministerial in Delhi Police Examination 2022

Section : **Part-A-General Awareness**

Q.1 मार्च 2022 में किस संस्थान ने फीचर फोन पर UPI भुगतान सुविधा UPI123pay लॉन्च की?

- Ans** ☒ 1. भारतीय लघु उद्योग विकास बैंक
☒ 2. भारतीय रिजर्व बैंक
☒ 3. भारतीय स्टेट बैंक
☒ 4. वित्तीय सेवा विभाग

Question ID : **26433055043**
Status : **Answered**
Chosen Option : 1

Q.2 पाकिस्तान की अधिकांश आबादी निम्नलिखित में से किस संप्रदाय से संबंधित है?

- Ans** ☒ 1. शिया
☒ 2. कैथोलिक
☒ 3. मलय
☒ 4. सुन्नी

Question ID : **26433066609**
Status : **Answered**
Chosen Option : 1

Q.3 निम्नलिखित में से कौन-सा उद्योग औद्योगिक नीति संकल्प 1956 की अनुसूची A में सम्मिलित नहीं था?

- Ans** ☒ 1. वायुयान
☒ 2. परमाणु ऊर्जा
☒ 3. जहाज निर्माण
☒ 4. उर्वरक

Question ID : **26433059276**
Status : **Not Attempted and Marked For Review**
Chosen Option : --

Q.4 निम्नलिखित में से किसने 'द अदर साइड ऑफ साइलेंस' पुस्तक लिखी, जो भारत के विभाजन के महिलाओं पर दुःखद प्रभावों का वर्णन करती है?

- Ans** ☒ 1. बप्पी सिधवा
☒ 2. खुशवंत सिंह
☒ 3. अमृता प्रीतम
☒ 4. उर्वशी बुटालिया

Question ID : **26433066651**
Status : **Answered**
Chosen Option : 2

Q.5 आंध्र प्रदेश सूक्ष्म-वित्त (माइक्रोफाइनेंस) संकट किस वर्ष हुआ था?

- Ans
- ☐ 1. 2006
 - ☐ 2. 2008
 - ☒ 3. 2010
 - ☐ 4. 2012

Question ID : 26433059095

Status : Not Attempted and Marked For Review

Chosen Option : --

Q.6 मई 2022 में, भारत का सबसे बड़ा ड्रोन फेस्टिवल, भारत ड्रोन महोत्सव 2022 का आयोजन निम्नलिखित में से किस शहर में किया गया था?

- Ans
- ☒ 1. नई दिल्ली
 - ☐ 2. पुणे
 - ☐ 3. चेन्नई
 - ☐ 4. बैंगलोर

Question ID : 26433095267

Status : Answered

Chosen Option : 1

Q.7 _____ की युवा बैडमिंटन खिलाड़ी तसनीम मीर जनवरी 2022 में जारी की गई बी.डब्ल्यू.एफ. (BWF) जूनियर रैंकिंग में अंडर -19 लड़कियों के एकल वर्ग में विश्व नंबर 1 रैंकिंग हासिल करने वाली पहली भारतीय खिलाड़ी बनी।

- Ans
- ☐ 1. राजस्थान
 - ☐ 2. महाराष्ट्र
 - ☐ 3. मध्य प्रदेश
 - ☒ 4. गुजरात

Question ID : 26433054838

Status : Answered

Chosen Option : 2

Q.8 सितंबर 2021 में, किस राज्य की विधानसभा ने अपने पुलिस अधिनियम में संशोधन करके, ऑनलाइन सहित सभी प्रकार के जुओं को एक संज्ञेय और गैर-जमानती अपराध बनाने के लिए एक कानून पारित किया है?

- Ans
- ☐ 1. केरल
 - ☐ 2. आंध्र प्रदेश
 - ☐ 3. तमिलनाडु
 - ☒ 4. कर्नाटक

Question ID : 26433055555

Status : Answered

Chosen Option : 2

Q.9 अलाउद्दीन खिलजी के शासनकाल की अवधि क्या थी?

- Ans
- ☐ 1. 1295-1315
 - ☐ 2. 1289-1299
 - ☐ 3. 1290-1310
 - ☒ 4. 1296-1316

Question ID : 26433095242

Status : Answered

Chosen Option : 4

Q.10 बसवराज बोम्मई ने जुलाई 2021 में _____ के मुख्यमंत्री के रूप में शपथ ग्रहण की थी।

- Ans ☒ 1. कर्नाटक
☒ 2. तेलंगाना
☒ 3. तमिलनाडु
☒ 4. ओडिशा

Question ID : 26433061786
Status : Answered
Chosen Option : 1

Q.11 भारत सरकार ने 2016 में निम्नलिखित में से कौन-सी योजना शुरू की थी, जिसका उद्देश्य देशभर में उद्यमिता को बढ़ावा देने और उसका पोषण करने के लिए एक पारिस्थितिकी तंत्र विकसित करना है?

- Ans ☒ 1. प्रधानमंत्री कौशल विकास योजना (PMKVY)
☒ 2. स्टार्ट अप इंडिया योजना
☒ 3. स्टैंड अप इंडिया योजना
☒ 4. महात्मा गांधी राष्ट्रीय ग्रामीण रोजगार गारंटी अधिनियम (MNREGA)

Question ID : 26433081931
Status : Answered
Chosen Option : 1

Q.12 भारत में अलग-अलग स्थानों पर अलग-अलग तापमान होता है। भारत में निम्नलिखित में से किस स्थान का तापमान देश में सबसे कम होता है?

- Ans ☒ 1. थार रेगिस्तान
☒ 2. द्रास
☒ 3. चेन्नई
☒ 4. तिरुवनंतपुरम

Question ID : 26433064095
Status : Answered
Chosen Option : 2

Q.13 सांची स्तूप _____ राजवंश के शासनकाल के दौरान बनाया गया था।

- Ans ☒ 1. गुप्त
☒ 2. शिशुनाग
☒ 3. मौर्य
☒ 4. नंद

Question ID : 26433064343
Status : Answered
Chosen Option : 3

Q.14 निम्नलिखित में से कौन-सा कथन सही है?

- Ans ☒ 1. वैयक्तिक प्रयोज्य आय (PDI) \equiv वैयक्तिक आय - वैयक्तिक कर भुगतान + गैर कर भुगतान
☒ 2. वैयक्तिक प्रयोज्य आय (PDI) \equiv वैयक्तिक आय + वैयक्तिक कर भुगतान - गैर कर भुगतान
☒ 3. वैयक्तिक प्रयोज्य आय (PDI) \equiv वैयक्तिक आय + वैयक्तिक कर भुगतान + गैर कर भुगतान
☒ 4. वैयक्तिक प्रयोज्य आय (PDI) \equiv वैयक्तिक आय - वैयक्तिक कर भुगतान - गैर कर भुगतान

Question ID : 26433064506
Status : Not Attempted and Marked For Review
Chosen Option : --

Q.15 भारत के भू-राजस्व अभिलेखों के अनुसार, भूमि के जिस भौतिक विस्तार में फसलों की बुआई और उपज होती है, उसे क्या कहते हैं?

- Ans ☒ 1. कृष्य भूमि
☒ 2. निवल बोया क्षेत्र
☒ 3. स्थायी फसलों वाली भूमि
☒ 4. कृषि क्षेत्र

Question ID : 26433067172
Status : Answered
Chosen Option : 4

Q.16 न्यायिक और गैर-न्यायिक अधिकारों के बीच भेद करने के लिए प्रतिष्ठित सप्रू समिति ने किस वर्ष में अपनी रिपोर्ट प्रकाशित की थी?

- Ans ☒ 1. 1936
☒ 2. 1925
☒ 3. 1945
☒ 4. 1927

Question ID : 26433071503
Status : Not Answered
Chosen Option : --

Q.17 दुनिया भर में घेंघा (थायरॉयड ग्रंथि की अनियमित वृद्धि) का सबसे आम कारण _____ की कमी है।

- Ans ☒ 1. पोटैशियम
☒ 2. सोडियम
☒ 3. आयोडीन
☒ 4. आयरन

Question ID : 26433095257
Status : Answered
Chosen Option : 3

Q.18 संगीत नाटक अकादमी के अनुसार भारत में शास्त्रीय नृत्य शैलियों की कुल संख्या कितनी है?

- Ans ☒ 1. 3
☒ 2. 5
☒ 3. 10
☒ 4. 8

Question ID : 26433066525
Status : Answered
Chosen Option : 4

Q.19 भारत में ब्रिटिश शासन के दौरान निम्नलिखित में से किस राष्ट्रीय नेता ने अपने अनुयायियों के साथ 1939 में अखिल भारतीय फॉरवर्ड ब्लॉक की स्थापना की थी?

- Ans ☒ 1. जवाहर लाल नेहरू
☒ 2. सुभाष चंद्र बोस
☒ 3. गोपाल कृष्ण गोखले
☒ 4. जयप्रकाश नारायण

Question ID : 26433065554
Status : Answered
Chosen Option : 2

Q.20 गणगौर उत्सव मुख्य रूप से भारत के निम्नलिखित में से किस राज्य में मनाया जाता है?

- Ans ☒ 1. पंजाब
☒ 2. राजस्थान
☒ 3. ओडिशा
☒ 4. केरल

Question ID : 26433064334
Status : Answered
Chosen Option : 1

Section : Part-B-Quantitative Aptitude

Q.1 एक व्यक्ति ने अर्ध-वार्षिक रूप से चक्रवृद्धि की जाने वाली 10% वार्षिक ब्याज दर पर Rs.8,000 की राशि उधार ली। एक वर्ष की अवधि के लिए चक्रवृद्धि ब्याज कितना होगा?

- Ans ☒ 1. Rs.1,600
☒ 2. Rs.1,680
☒ 3. Rs.820
☒ 4. Rs.800

@Qmaths

Question ID : 26433058146
Status : Answered
Chosen Option : 3

Q.2 निम्नलिखित को सरल कीजिए:

$$105 \div 5 \times 5 + (32 \times 4 \div 2 + 6) - 10$$

- Ans ☒ 1. 160
☒ 2. 155
☒ 3. 150
☒ 4. 165

Question ID : 26433058391
Status : Answered
Chosen Option : 2

Q.3 यदि 6 पुरुष या 8 महिलाएं किसी काम को 86 दिनों में कर सकते हैं, तो 14 पुरुष और 10 महिलाएं उसी काम को पूरा करने में कितने दिन का समय लेंगे?

- Ans ☒ 1. 25
☒ 2. 24
☒ 3. 30
☒ 4. 28

Question ID : 26433058975
Status : Answered
Chosen Option : 2

Q.4 X, Y और Z एक कार्य को क्रमशः 10 दिन, 20 दिन और 30 दिन में पूरा कर सकते हैं। यदि X, Y और Z की सहायता से प्रत्येक एकांतर दिन में काम करता है, तो कार्य कितने दिनों में पूरा किया जा सकता है?

Ans

✓ 1. $7\frac{3}{11}$ दिन

✗ 2. $8\frac{2}{17}$ दिन

✗ 3. $6\frac{4}{11}$ दिन

✗ 4. $5\frac{1}{17}$ दिन

Question ID : 26433061417

Status : Answered

Chosen Option : 4

Q.5 निम्न बार ग्राफ वर्ष 2019 और 2020 में कुछ फल फसलों के उत्पादन (मिलियन kg में) के बारे में जानकारी प्रदर्शित करता है।

बार ग्राफ का ध्यानपूर्वक अध्ययन करें और नीचे दिए गए प्रश्न का उत्तर दें।



2019 और 2020 में औसत फल फसल उत्पादन (मिलियन kg में) के बीच क्या अंतर है?

Ans

✓ 1. 35

✗ 2. 48

✗ 3. 83

✗ 4. 74

Question ID : 26433073151

Status : Answered

Chosen Option : 1

Q.6 निम्नलिखित का मान ज्ञात कीजिए।

$$\frac{\cos 2\theta \cdot \cos 3\theta - \cos 2\theta \cdot \cos 7\theta + \cos \theta \cdot \cos 10\theta}{\sin 4\theta \cdot \sin 3\theta - \sin 2\theta \cdot \sin 5\theta + \sin 4\theta \cdot \sin 7\theta}$$

Ans

✗ 1. $\cot 6\theta \cdot \cos 5\theta$

✗ 2. $\cos 6\theta \cdot \cos 5\theta$

✗ 3. $\cos 6\theta \cdot \cot 5\theta$

✓ 4. $-\cot 6\theta \cdot \cot 5\theta$

Question ID : 26433076059

Status : Answered

Chosen Option : 1

Q.7 एक दुकानदार वस्तुओं पर 40% की छूट प्रदान करता है। वह पहले 100 ग्राहकों के लिए कम की हुई कीमत पर 10% की एक और छूट प्रदान करता है। 100 के अंदर आने वाले ग्राहक को Rs.1,000 की वस्तु पर कितना भुगतान करना होगा?

- Ans
- ☐ 1. Rs.780
 - ☐ 2. Rs.650
 - ☒ 3. Rs.540
 - ☐ 4. Rs.430

Question ID : 26433064908

Status : Answered

Chosen Option : 3

Q.8 एक समानुपात में, पहला, दूसरा और चौथा पद क्रमशः 15, 25 और 75 हैं। तीसरा पद क्या होगा?

- Ans
- ☐ 1. 65
 - ☐ 2. 35
 - ☐ 3. 55
 - ☒ 4. 45

Question ID : 26433061351

Status : Answered

Chosen Option : 4

Q.9 3 कमीज़ों और 2 पतलूनों की कीमत ₹950 है, जबकि 2 कमीज़ों और 3 पतलूनों की कीमत ₹1,050 है। 4 पतलूनों और 5 कमीज़ों की कीमत क्या होगी?

- Ans
- ☒ 1. ₹1,750
 - ☐ 2. ₹1,850
 - ☐ 3. ₹1,685
 - ☐ 4. ₹1,780

Question ID : 26433058832

Status : Answered

Chosen Option : 1

Q.10 एक डिजिटल नोट-पैड ₹25,000 नकद पर, या ₹2,500 डाउन पेमेंट (तुरंत भुगतान) के बाद 4 समान मासिक किस्तों पर उपलब्ध है। यदि प्रभारित ब्याज दर 24% वार्षिक साधारण ब्याज है, तो मासिक किस्त कितनी होगी (₹ में, निकटतम दहाई तक पूर्णांकित)?

- Ans
- ☐ 1. 5,800
 - ☐ 2. 5,790
 - ☐ 3. 5,890
 - ☒ 4. 5,900

Question ID : 26433061902

Status : Answered

Chosen Option : 3

Q.11 एक कार यदि 40 km/h की गति से चलती है तो एक दूरी को तय करने में 5 घंटे का समय लेती है। 2.5 घंटे में उतनी ही दूरी तय करने के लिए इसकी गति क्या होनी चाहिए?

- Ans
- ☐ 1. 20 km/h
 - ☐ 2. 60 km/h
 - ☒ 3. 80 km/h
 - ☐ 4. 40 km/h

Question ID : 26433061354

Status : Answered

Chosen Option : 3

Q.12 एक बेलन का आयतन ज्ञात कीजिए जिसका आधार क्षेत्रफल 40 cm^2 है और ऊँचाई 9 cm है।

Ans ☒ 1. 360 cm^3

☐ 2. 180 cm^3

☐ 3. 120 cm^3

☐ 4. 300 cm^3

Question ID : 26433058415

Status : Answered

Chosen Option : 1

Q.13 5 के पहले पाँच धनात्मक गुणजों का औसत क्या है?

Ans ☐ 1. 80

☐ 2. 16

☒ 3. 15

☐ 4. 75

Question ID : 26433073073

Status : Answered

Chosen Option : 3

Q.14 यदि $\triangle ABC$ और $\triangle PQR$ में, $AB = 8 \text{ cm}$, $BC = 10 \text{ cm}$, $AC = 12 \text{ cm}$, $PQ = 8 \text{ cm}$, $QR = 10 \text{ cm}$ और $PR = 12 \text{ cm}$ है, तो निम्नलिखित में से कौन-सा विकल्प सत्य है?

Ans ☒ 1. $\triangle ABC \cong \triangle PQR$

☐ 2. $\triangle ABC \cong \triangle RPQ$

☐ 3. $\triangle ABC \cong \triangle QRP$

☐ 4. $\triangle ABC \cong \triangle QPR$

Question ID : 26433075803

Status : Answered

Chosen Option : 1

Q.15 फलों की कीमत में 25% की वृद्धि की गई है। खपत को कितना प्रतिशत कम किया जाना चाहिए ताकि खर्च समान रहे?

Ans ☐ 1. 15%

☐ 2. 25%

☒ 3. 20%

☐ 4. 10%

Question ID : 26433058962

Status : Answered

Chosen Option : 3

Q.16 11, 44, 121, 88 और 1331 का महत्तम समापवर्तक (HCF) क्या है?

Ans ☐ 1. 2

☐ 2. 8

☐ 3. 22

☒ 4. 11

Question ID : 26433063273

Status : Answered

Chosen Option : 4

Q.17 निकिता को एक टेबल फैन को Rs.840 में बेचने पर 20% का लाभ होगा और एक दीवार घड़ी को Rs.1,008 में बेचने पर 12% का लाभ होगा। वह टेबल फैन को Rs.980 में बेचती है, उसे दीवार घड़ी को किस न्यूनतम कीमत पर बेचना होगा, ताकि दोनों सौदों को मिलाकर उसे कोई नुकसान न हो?

- Ans
- ☒ 1. Rs.660
 - ☒ 2. Rs.600
 - ☒ 3. Rs.640
 - ☒ 4. Rs.620

Question ID : 26433056311

Status : Answered

Chosen Option : 4

Q.18 यदि $x = 1.\overline{234}$ और $y = 4.\overline{321}$ है, तो $x + y$ को भिन्न के रूप में किस प्रकार लिखा जाएगा?

- Ans
- ☒ 1. $\frac{5551}{999}$
 - ☒ 2. $\frac{5551}{990}$
 - ☒ 3. $\frac{5505}{999}$
 - ☒ 4. $\frac{5550}{999}$

Question ID : 26433066169

Status : Answered

Chosen Option : 4

Q.19 यदि $(x^3 + y^3) : (x^2 - xy + y^2) = 3 : 1$ और $(x^2 - y^2) : (x + y) = 5 : 6$ है, तो $2x : 3y$ का मान क्या है?

- Ans
- ☒ 1. 46 : 39
 - ☒ 2. 38 : 47
 - ☒ 3. 45 : 32
 - ☒ 4. 36 : 43

Question ID : 26433063835

Status : Answered

Chosen Option : 1

Q.20 12 m लंबी, 9 m ऊंची और 90 cm मोटी एक दीवार बनाई जानी है। यह देखते हुए कि एक पैक में 450 ईंटें हैं, यदि प्रत्येक ईंट की विमाएं 10 cm x 7.5 cm x 7 cm हैं और सीमेंट और रेत का मिश्रण दीवार के एक-अठारहवें आयतन को घेरता है, तो ईंटों के कितने पैक की आवश्यकता होगी? (निकटतम पूर्णांक में पूर्णांकित)

- Ans
- ☒ 1. 387
 - ☒ 2. 390
 - ☒ 3. 388
 - ☒ 4. 389

Question ID : 26433063271

Status : Answered

Chosen Option : 4

Q.1 इस प्रश्न में तीन कथन दिए गए हैं, जिसके बाद दो निष्कर्ष I और II दिए गए हैं। कथनों को सत्य मानते हुए, भले ही वे सामान्य रूप से ज्ञात तथ्यों से भिन्न प्रतीत होते हों, निर्णय लें कि कौन-सा/से निष्कर्ष कथनों का तार्किक रूप से अनुसरण करता है/ करते हैं।

कथन:

सभी कंप्यूटर लैपटॉप हैं।

कुछ लैपटॉप महँगे हैं।

सभी महँगी चीजें आयात की जाती हैं।

निष्कर्ष:

I. सभी लैपटॉप आयात किए जाते हैं।

II. कुछ कंप्यूटर महँगे हैं।

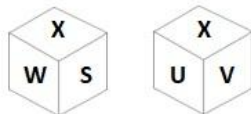
- Ans
- ☒ 1. केवल निष्कर्ष I अनुसरण करता है।
 - ☒ 2. निष्कर्ष I और II दोनों अनुसरण करते हैं।
 - ☒ 3. न तो निष्कर्ष I और न ही II अनुसरण करता है।
 - ☒ 4. केवल निष्कर्ष II अनुसरण करता है।

Question ID : 26433078903

Status : Answered

Chosen Option : 3

Q.2 एक पासे के विभिन्न फलकों पर छः अक्षर S, T, U, V, W और X लिखे गए हैं। इस पासे की दो स्थितियाँ दी गई आकृतियों में दर्शाई गई हैं। X के विपरीत फलक पर अक्षर ज्ञात कीजिए।



- Ans
- ☒ 1. U
 - ☒ 2. W
 - ☒ 3. S
 - ☒ 4. T

Question ID : 26433067533

Status : Answered

Chosen Option : 4

Q.3 A, B, C, D, E, F, G और H एक वर्गाकार मेज के चारों ओर मेज के केंद्र की ओर मुख करके बैठे हैं। उनमें से कुछ कोनों पर बैठे हैं, जबकि कुछ भुजाओं के ठीक केंद्र में बैठे हैं। A एक भुजा के केंद्र में बैठा है। B, A के बाएँ से तीसरे स्थान पर बैठा है। केवल तीन व्यक्ति B और C के बीच में बैठे हैं। F न तो C का और न ही B का निकटतम पड़ोसी है। E, F के बाएँ से तीसरे स्थान पर बैठा है। D, H के ठीक दाएँ बैठा है। G के दाएँ से दूसरे स्थान पर कौन बैठा है?

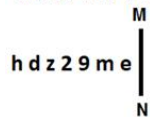
- Ans
- ☒ 1. B
 - ☒ 2. A
 - ☒ 3. H
 - ☒ 4. C

Question ID : 26433058025

Status : Answered

Chosen Option : 2

Q.4 यदि दर्पण को नीचे दर्शाए गए अनुसार MN पर रखा जाए, तो दी गई आकृति के सही दर्पण प्रतिबिम्ब का चयन कीजिए।



- Ans
- ☒ 1. e m 6 5 z p q
 - ☒ 2. e w e 2 z p h
 - ☒ 3. e w e 2 z b d
 - ☒ 4. e m e 5 z b d

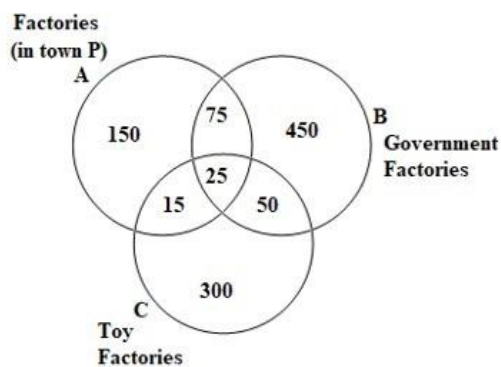
Question ID : 26433056992

Status : Answered

Chosen Option : 4

Q.5 दिए गए आरेख का ध्यानपूर्वक अध्ययन कीजिए और प्रश्न का उत्तर दीजिए।

विभिन्न सेक्शनों की संख्याएँ कारखानों की संख्या को दर्शाती हैं।



शहर P के बाहर खिलौना बनाने के कितने सरकारी कारखाने हैं?

- Ans
- ☒ 1. 50
 - ☒ 2. 25
 - ☒ 3. 75
 - ☒ 4. 300

Question ID : 26433069671

Status : Answered

Chosen Option : 4

Q.6 P और Q बहनें हैं। Q, R से विवाहित है। S, R का पिता है। T, S की पत्नी है। U, S की पुत्री है। U, Q से किस प्रकार संबंधित है?

- Ans
- ☒ 1. बहन
 - ☒ 2. माता
 - ☒ 3. ननद
 - ☒ 4. मौसी

Question ID : 26433057720

Status : Answered

Chosen Option : 3

Q.7 उस विकल्प का चयन करें, जो दिए गए शब्दों के उस सही क्रम का प्रतिनिधित्व करता है, जिस क्रम में वे अंग्रेजी शब्दकोश में दिखाई देते हैं।

1. Relegate
2. Resonate
3. Redundant
4. Relax
5. Replenish
6. Rescue

Ans ☒ 1. 3, 1, 4, 5, 6, 2
☒ 2. 3, 4, 1, 5, 2, 6
☒ 3. 3, 4, 1, 5, 6, 2
☒ 4. 3, 4, 1, 6, 5, 2

Question ID : 26433056714

Status : Answered

Chosen Option : 3

Q.8 उस समुच्चय का चयन करें जिसमें दी गई संख्याएं आपस में उसी प्रकार संबंधित हैं, जिस प्रकार प्रश्न में दिए गए समुच्चय की संख्याएं आपस में संबंधित हैं।

(नोट: संख्याओं को उनके घटक अंकों में तोड़ें बिना, पूर्ण संख्याओं पर गणितीय संक्रियाएं की जानी चाहिए। जैसे, 13 के मामले में - 13 पर विभिन्न गणितीय संक्रियाएं जैसे 13 में जोड़ना / घटाना / गुणा करना आदि की जा सकती हैं। लेकिन 13 को 1 और 3 में तोड़ने और फिर 1 और 3 पर गणितीय संक्रियाएं करने की अनुमति नहीं है।)
(76, 8, 722)
(14, 4, 49)

Ans ☒ 1. (23, 6, 68)
☒ 2. (24, 8, 72)
☒ 3. (42, 8, 202)
☒ 4. (35, 7, 162)

Question ID : 26433074774

Status : Not Attempted and
Marked For Review

Chosen Option : --

Q.9 निम्नलिखित में से तीन अक्षर-समूह किसी न किसी तरह में एक जैसे हैं और इसलिए एक समूह बनाते हैं। कौन-सा अक्षर-समूह उस समूह से संबंधित नहीं है?

Ans ☒ 1. FUJW
☒ 2. CXGZ
☒ 3. HTMV
☒ 4. EVIX

Question ID : 26433056165

Status : Answered

Chosen Option : 3

Q.10 निम्नलिखित में से कौन-सी संख्या दी गई श्रृंखला में प्रश्न चिह्न (?) का स्थान लेगी?
941, 716, 520, ?, 207

Ans ☒ 1. 365
☒ 2. 423
☒ 3. 351
☒ 4. 448

Question ID : 26433056472

Status : Answered

Chosen Option : 3

Q.11 उस विकल्प का चयन करें, जो उन अक्षरों को दर्शाता है, जिन्हें निम्नलिखित रिक्त स्थानों में बाएँ से दाएँ क्रमिक रूप से रखे जाने पर दी गई अक्षर-श्रृंखला पूरी हो जाएगी।
A _ R _ O _ G R T _ A G _ _ O A G R _ _

- Ans
- ☒ 1. GATORTTO
 - ☒ 2. GATROTTO
 - ☒ 3. GTAORTTO
 - ☒ 4. GTARTRTOO

Question ID : 26433056142
Status : Answered
Chosen Option : 3

Q.12 एक कूट भाषा में, 'JACOB' को 104 के रूप में कूटबद्ध किया जाता है और 'HENRY' को 65 के रूप में कूटबद्ध किया जाता है। उसी भाषा में 'JAMES' को किस प्रकार कूटबद्ध किया जाएगा?

- Ans
- ☒ 1. 92
 - ☒ 2. 79
 - ☒ 3. 112
 - ☒ 4. 87

Question ID : 26433057909
Status : Answered
Chosen Option : 4

Q.13 उस विकल्प का चयन करें जो तीसरे शब्द से उसी प्रकार संबंधित है जिस प्रकार दूसरा शब्द पहले शब्द से संबंधित है। (शब्दों को अर्थपूर्ण हिन्दी शब्दों के रूप में माना जाना चाहिए और इन्हें शब्द में अक्षरों की संख्या/व्यंजनों की संख्या/स्वरों की संख्या के आधार पर एक-दूसरे से संबद्ध नहीं किया जाना चाहिए।)
जादूगर : जादूगरनी :: मठवासी : ?

- Ans
- ☒ 1. रखेल
 - ☒ 2. कुंआरी
 - ☒ 3. मठवासिनी
 - ☒ 4. मठ

Question ID : 26433067346
Status : Answered
Chosen Option : 3

Q.14 उस समुच्चय का चयन करें जिसमें दी गई संख्याएं आपस में उसी प्रकार संबंधित हैं जिस प्रकार निम्नलिखित समुच्चयों की संख्याएं हैं।
(ध्यान दें: संख्याओं को उसके घटक अंकों में विभाजित किए बिना, पूर्ण संख्याओं पर गणितीय संक्रियाएं की जानी चाहिए। उदाहरण के लिए 13 - जोड़ने/घटाने/गुणा करने जैसी गणितीय संक्रियाएं पूर्ण 13 पर की जा सकती हैं। 13 को 1 और 3 में विभाजित करने और फिर 1 और 3 पर गणितीय संक्रियाएं करने की अनुमति नहीं है।)
(34, 12, 10)
(56, 17, 22)

- Ans
- ☒ 1. (45, 19, 8)
 - ☒ 2. (46, 29, 8)
 - ☒ 3. (46, 19, 8)
 - ☒ 4. (48, 19, 8)

Question ID : 26433068662
Status : Answered
Chosen Option : 3

Q.15 एक तस्वीर की ओर इशारा करते हुए डेविड ने कहा, "तस्वीर में दिख रही लड़की मेरे भाई के इकलौते भाई की बेटी है।" तस्वीर में दिख रही लड़की का डेविड से क्या संबंध है?

- Ans
- ☒ 1. माँ
 - ☒ 2. बेटी
 - ☒ 3. पत्नी
 - ☒ 4. बहन

Question ID : 26433057705
Status : Answered
Chosen Option : 2

Q.16 * चिह्नों को क्रमिक रूप से बदलने और दिए गए समीकरण को संतुलित करने के लिए गणितीय चिह्नों के सही संयोजन का चयन कीजिए।

$$13 * 6 * 12 * 20 * 5 * 70$$

- Ans
- ☒ 1. +, -, ×, +, =
 - ☒ 2. ×, -, +, +, =
 - ☒ 3. ÷, -, +, ×, =
 - ☒ 4. +, ×, -, +, =

@Qmaths

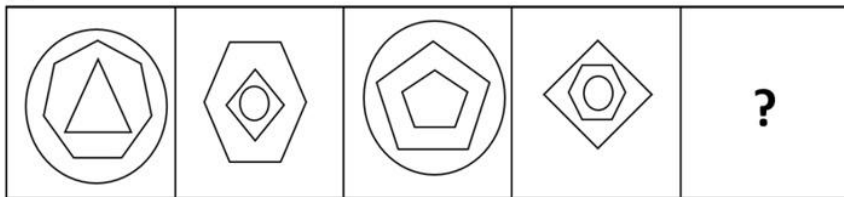
Question ID : 26433056938
Status : Answered
Chosen Option : 2

Q.17 एक निश्चित कूट भाषा में, 'EYES' को '64' और 'NOSE' को '65' के रूप में लिखा जाता है। इसी कूट भाषा में 'LIPS' को किस प्रकार लिखा जाएगा?

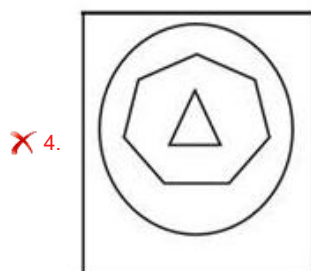
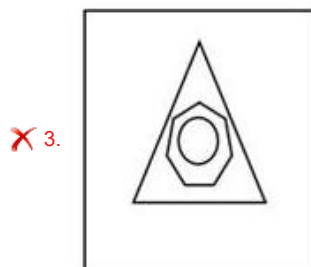
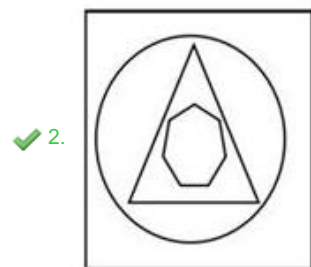
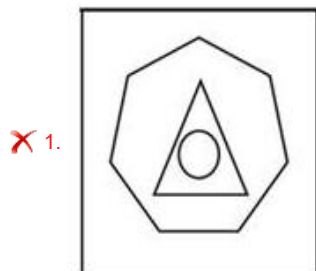
- Ans
- ☒ 1. 58
 - ☒ 2. 62
 - ☒ 3. 64
 - ☒ 4. 60

Question ID : 26433057287
Status : Answered
Chosen Option : 2

Q.18 उस आकृति का चयन कीजिए, जो निम्नलिखित आकृति शृंखला में प्रश्न-चिह्न (?) को प्रतिस्थापित करेगी।



Ans



Question ID : 26433056099

Status : Answered

Chosen Option : 2

Q.19 निम्नलिखित में से कौन-सी संख्या दी गई शृंखला में प्रश्न चिह्न (?) को प्रतिस्थापित करेगी?
74, 92, 117, ?, 188, 234

Ans ✗ 1. 157

✓ 2. 149

✗ 3. 155

✗ 4. 142

Question ID : 26433057545

Status : Answered

Chosen Option : 2

Q.20 उस विकल्प का चयन करें जो पांचवें अक्षर-समूह से उसी प्रकार संबंधित है जिस प्रकार दूसरा अक्षर-समूह पहले अक्षर-समूह से संबंधित है और चौथा अक्षर-समूह तीसरे अक्षर-समूह से संबंधित है।
FAIRY : QXHEZ :: BANDS : CRMAZ :: QUEEN : ?

Ans ☒ 1. DMDPT

☐ 2. DMPDT

☐ 3. DMDRT

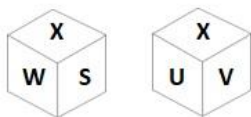
☐ 4. DMDTP

Question ID : 26433057262

Status : Not Attempted and
Marked For Review

Chosen Option : --

Q.21 एक पासे के विभिन्न फलकों पर छः अक्षर S, T, U, V, W और X लिखे गए हैं।
इस पासे की दो स्थितियाँ दी गई आकृतियों में दर्शाई गई हैं। V के विपरीत फलक
पर अक्षर ज्ञात कीजिए।



Ans ☐ 1. X

☒ 2. S

☐ 3. U

☐ 4. W

Question ID : 26433067535

Status : Answered

Chosen Option : 2

Q.22 विकल्पों में से कौन सा अक्षर-समूह प्रश्नवाचक चिह्न (?) को प्रतिस्थापित करके दी गई श्रेणी को पूरा करेगा?
KGCJ, JEZF, ? , HATX, GYQT

Ans ☐ 1. ICWA

☒ 2. ICWB

☐ 3. WBCJ

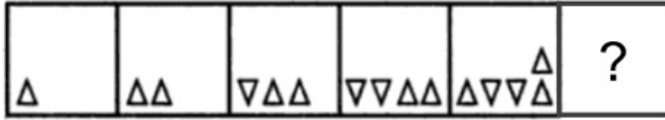
☐ 4. WBCI

Question ID : 26433065582

Status : Answered

Chosen Option : 2

Q.23 दिए गए विकल्पों में से उस आकृति का चयन करें जो निम्नलिखित श्रृंखला में प्रश्नवाचक चिह्न (?) का स्थान ले सकती है।



Ans

✗ 1.



✓ 2.



✗ 3.



✗ 4.



Question ID : 26433080532

Status : Answered

Chosen Option : 2

Q.24 दिए गए समीकरण को सही (संतुलित) बनाने के लिए किन दो गणितीय चिह्नों को आपस में बदलना होगा?

$$96 + 32 - 60 \div 20 \times 5 = 79$$

Ans

✗ 1. - और +

✗ 2. + और ×

✓ 3. + और -

✗ 4. × और -

Question ID : 26433056850

Status : Answered

Chosen Option : 3

Q.25 छः मित्र - P, Q, R, S, T और U - उत्तर में मुख किए एक कतार में बैठे हैं। R के ठीक दाएँ तीन व्यक्ति बैठे हैं। T, R के बाएँ से दूसरा है। P, T के दाएँ से तीसरा है। Q, P के ठीक पास में नहीं है, न ही वह बिल्कुल किनारे बैठा है। यदि Q, S के बाएँ से चौथा हो, तो U कहाँ बैठा है ?

Ans

✗ 1. T के दाएँ से तीसरा

✓ 2. R के दाएँ से दूसरा

✗ 3. P के ठीक बाएँ

✗ 4. S के बाएँ से दूसरा

Question ID : 26433068822

Status : Answered

Chosen Option : 2

Q.1 Substitute one word for the italicised expression.
As a surgeon, I wish I can be a lover *of mankind*.

- Ans ☒ 1. philanthropist
 ☐ 2. misanthropist
 ☐ 3. plagiarist
 ☐ 4. misogynist

Question ID : 26433059753
Status : Answered
Chosen Option : 1

Q.2 Select the most appropriate homonym to fill in the blank.
The person who used to _____ the girl got arrested last week.

- Ans ☐ 1. adore
 ☐ 2. like
 ☐ 3. laugh at
 ☒ 4. stalk

Question ID : 26433055490
Status : Answered
Chosen Option : 4

Q.3 Select the option that will improve the underlined part of the given sentence. In case
no improvement is needed, select 'No improvement required'.
Rita has quitted the soccer team.

- Ans ☐ 1. quitted
 ☐ 2. had quitted
 ☒ 3. has quit
 ☐ 4. No improvement required

Question ID : 26433060753
Status : Answered
Chosen Option : 3

Q.4 Select the INCORRECTLY spelt word.

- Ans ☒ 1. Srinkage
 ☐ 2. Percentage
 ☐ 3. Storage
 ☐ 4. Parentage

Question ID : 26433055471
Status : Answered
Chosen Option : 1

Q.5 Select the most appropriate ANTONYM of the underlined word.

Black people used to suffer under the yoke of slavery.

- Ans ☐ 1. mediocrity
 ☐ 2. fraternity
 ☒ 3. liberty
 ☐ 4. alacrity

Question ID : 26433058336
Status : Answered
Chosen Option : 2

Q.6 The following sentence has been divided into parts. One of them may contain an error. Select the part that contains the error from the given options. If you don't find any error, mark 'No error' as your answer.

These pens were found / in the upper drawer / of your table.

- Ans ☒ 1. No error
- ☐ 2. in the upper drawer
- ☐ 3. of your table
- ☐ 4. These pens were found

Question ID : 26433061481
Status : Answered
Chosen Option : 2

Q.7 Select the most appropriate option to fill in the blank.

He is always _____ in his choices.

- Ans ☐ 1. write
- ☐ 2. writ
- ☒ 3. right
- ☐ 4. rite

Question ID : 26433058305
Status : Answered
Chosen Option : 3

Q.8 Select the most appropriate meaning of the given idiom.
Let sleeping dogs lie

- Ans ☒ 1. Stop discussing an issue
- ☐ 2. Taking sleep for granted
- ☐ 3. Discuss a burning issue
- ☐ 4. Making sleep mandatory

Question ID : 26433066133
Status : Answered
Chosen Option : 3

Q.9 Select the most appropriate option to fill in the blanks.

_____ and _____ wait for none.

- Ans ☐ 1. Tom; Harry
- ☒ 2. Time; tide
- ☐ 3. Patience; honesty
- ☐ 4. Life; death

Question ID : 26433073259
Status : Answered
Chosen Option : 2

Q.10 Select the INCORRECTLY spelt word.

- Ans ☒ 1. Aesthetic
☒ 2. Hideous
☒ 3. Aquit
☒ 4. Forfeit

Question ID : 26433055602
Status : Answered
Chosen Option : 3

Q.11 Select the most appropriate meaning of the given idiom.
Call it a day

- Ans ☒ 1. Reflecting on past success
☒ 2. Stop depending on effort
☒ 3. Stop working on something
☒ 4. Calling out facts

Question ID : 26433066118
Status : Answered
Chosen Option : 3

Q.12 Select the option that can be used as a one-word substitute for the given group of words.

Great sorrow or distress

- Ans ☒ 1. Rigour
☒ 2. Woe
☒ 3. Asperity
☒ 4. Cross

Question ID : 26433070672
Status : Answered
Chosen Option : 2

Q.13 Select the most appropriate ANTONYM of the word proper from the given sentence:
The bizarre fact is that there is no proper drainage system in our locality and this makes it unsuitable and incongruous for the children who play in the streets.

- Ans ☒ 1. incongruous
☒ 2. make
☒ 3. unsuitable
☒ 4. bizarre

Question ID : 26433058550
Status : Answered
Chosen Option : 3

Q.14 Select the option that can be used as a one-word substitute for the given group of words.

One who loves to speak

- Ans ☒ 1. Misanthropist
☒ 2. Loquacious
☒ 3. Extrovert
☒ 4. Misogamist

Question ID : 26433072389

Status : Answered

Chosen Option : 2

Q.15 The following sentence has been divided into parts. One of them may contain an error. Select the part that contains the error from the given options. If you don't find any error, mark 'No error' as your answer.

The committee decided to / adjourn the meeting / as many of their members were absent.

- Ans ☒ 1. No error
☒ 2. The committee decided to
☒ 3. adjourn the meeting
☒ 4. as many of their members were absent

Question ID : 26433061487

Status : Answered

Chosen Option : 4

Q.16 Sentences of a paragraph are given below. While the first and the last sentences (S1 and S6) are in the correct order, the sentences in between are jumbled up. Arrange the sentences in the correct order to form a meaningful and coherent paragraph.

S1. Cart after cart groans

- A. and on many a night, before the eyes are shut
B. the last lights we see are those of the train of carts,
C. and the last voice we hear is that of the cart-man
D. through the roads of Kanthapura

S6. who sings through the hollows of the night.

- Ans ☒ 1. BACD
☒ 2. CABD
☒ 3. ABCD
☒ 4. DABC

Question ID : 26433063577

Status : Answered

Chosen Option : 4

Q.17 Select the most appropriate synonym of the underlined word.
The student maintains a cordial relationship with his teachers.

- Ans ☒ 1. unfriendly
☒ 2. beneficial
☒ 3. unpleasant
☒ 4. friendly

Question ID : 26433063587

Status : Answered

Chosen Option : 4

Q.18 Select the most appropriate ANTONYM of the underlined word.

The advocate was warned for using casuistry to mislead the jury.

- Ans ☒ 1. Certainty
☒ 2. Insinuation
☒ 3. Cacophony
☒ 4. Sophistry

Question ID : 26433058333

Status : Answered

Chosen Option : 2

Q.19 Sentences of a paragraph are given below in jumbled order. Arrange the sentences in the correct order to form a meaningful and coherent paragraph.

- A. Parents need to understand this simple fact so that they can treat children fairly and understandingly, when they fail to have the attention of the kids.
B. Parents always blame their kids or feel bad when their kids do not pay any attention to their words.
C. Paying full attention towards a specific thing is also difficult for elderly people, but unlike children, it is because many more things keep racing in their minds.
D. The fact is that kids pay a hundred per cent attention when they are playing or doing something creative. So, naturally, they do not heed, and thus cannot answer their parents' or elders' call

- Ans ☒ 1. ADBC
☒ 2. ACBD
☒ 3. BDAC
☒ 4. CABD

Question ID : 26433058259

Status : Answered

Chosen Option : 3

Q.20 Parts of a sentence/paragraph are given below. While the first and the last parts (A and F) are in the correct order, the parts in between are jumbled up. Arrange the parts in the correct order to form a meaningful and coherent sentence/paragraph.

- A. I am not an early riser.
B. But all my excitement was gone the next morning as it was 8 in the morning when I woke up.
C. It was pleasant to see the sun rising in the sky, birds chirping on the branches of trees.
D. The experience was so awesome that I decided to wake up early every morning.
E. By chance, one fine Sunday morning I woke up at 5.
F. I still enjoy sleeping till late and could never turn myself to an early-riser.

- Ans ☒ 1. E, C, D, B
☒ 2. E, D, C, B
☒ 3. E, C, B, D
☒ 4. B, C, D, E

Question ID : 26433072505

Status : Answered

Chosen Option : 1

Comprehension:

In the following passage, some words have been deleted. Read the passage carefully and select the most appropriate option to fill in each blank.

The Department of Education in Science and Mathematics (DESM) has been working for school education in the areas of Science, Mathematics, Environment and Computer Science at upper primary, secondary and higher secondary stages. It experiments with teaching-learning strategies (1) _____ new methods and technologies, and develops instructional material as well as material for training of teachers and teacher-educators. The department also assists and advises the Ministry of Human Resource Development, Government of India in various science, mathematics and environment education related issues and concerns. It also extends its cooperation and expertise to other departments and divisions of NIE as well as other constituents of the NCERT in various activities (2) _____ development of curricular, co-curricular and other support materials for students as well as teachers. Faculty members of the department also provide its expertise to SCERTs, State Boards of School Education, Central and State governments, Universities, etc. Major activities of the DESM include curriculum development, conducting teacher orientation or training programmes, (3) _____ of information in Science, Mathematics and Environmental Education, development of innovative laboratory practices and publication of the Journal School Science. The department has also developed a Science Park, a herbal garden which provides valuable information and idea for schools (4) _____ the same for benefit of children. The Resource Centre for Science and Mathematics Education (RCSME) of the department is a rich repository inclusive of both print and electronic resources on science and mathematics education. The department develops and disseminates material for popularisation of Science, Mathematics and Environmental Education. It also organises the Jawaharlal Nehru National Science, Mathematics and Environment Exhibition (JNNSMEE) for children, which is an annual event that (5) _____ the culmination of a series of science exhibitions, organised at district, zonal and state levels. DESM also provides academic guidance and financial support for the State Level Science Exhibitions.

SubQuestion No : 21

Q.21 Select the most appropriate option to fill in blank number 1.

- Ans  1. precluding
  2. inclusive
  3. excluding
  4. involving

Question ID : 26433060499

Status : Answered

Chosen Option : 4

Comprehension:

In the following passage, some words have been deleted. Read the passage carefully and select the most appropriate option to fill in each blank.

The Department of Education in Science and Mathematics (DESM) has been working for school education in the areas of Science, Mathematics, Environment and Computer Science at upper primary, secondary and higher secondary stages. It experiments with teaching-learning strategies (1) _____ new methods and technologies, and develops instructional material as well as material for training of teachers and teacher-educators. The department also assists and advises the Ministry of Human Resource Development, Government of India in various science, mathematics and environment education related issues and concerns. It also extends its cooperation and expertise to other departments and divisions of NIE as well as other constituents of the NCERT in various activities (2) _____ development of curricular, co-curricular and other support materials for students as well as teachers. Faculty members of the department also provide its expertise to SCERTs, State Boards of School Education, Central and State governments, Universities, etc. Major activities of the DESM include curriculum development, conducting teacher orientation or training programmes, (3) _____ of information in Science, Mathematics and Environmental Education, development of innovative laboratory practices and publication of the Journal School Science. The department has also developed a Science Park, a herbal garden which provides valuable information and idea for schools (4) _____ the same for benefit of children. The Resource Centre for Science and Mathematics Education (RCSME) of the department is a rich repository inclusive of both print and electronic resources on science and mathematics education. The department develops and disseminates material for popularisation of Science, Mathematics and Environmental Education. It also organises the Jawaharlal Nehru National Science, Mathematics and Environment Exhibition (JNNSMEE) for children, which is an annual event that (5) _____ the culmination of a series of science exhibitions, organised at district, zonal and state levels. DESM also provides academic guidance and financial support for the State Level Science Exhibitions.

SubQuestion No : 22

Q.22 Select the most appropriate option to fill in blank number 2.

- Ans  1. unrelated to
  2. separated to
  3. unconnected to
  4. related to

Question ID : **26433060500**

Status : **Answered**

Chosen Option : **4**



Comprehension:

In the following passage, some words have been deleted. Read the passage carefully and select the most appropriate option to fill in each blank.

The Department of Education in Science and Mathematics (DESM) has been working for school education in the areas of Science, Mathematics, Environment and Computer Science at upper primary, secondary and higher secondary stages. It experiments with teaching-learning strategies (1) _____ new methods and technologies, and develops instructional material as well as material for training of teachers and teacher-educators. The department also assists and advises the Ministry of Human Resource Development, Government of India in various science, mathematics and environment education related issues and concerns. It also extends its cooperation and expertise to other departments and divisions of NIE as well as other constituents of the NCERT in various activities (2) _____ development of curricular, co-curricular and other support materials for students as well as teachers. Faculty members of the department also provide its expertise to SCERTs, State Boards of School Education, Central and State governments, Universities, etc. Major activities of the DESM include curriculum development, conducting teacher orientation or training programmes, (3) _____ of information in Science, Mathematics and Environmental Education, development of innovative laboratory practices and publication of the Journal School Science. The department has also developed a Science Park, a herbal garden which provides valuable information and idea for schools (4) _____ the same for benefit of children. The Resource Centre for Science and Mathematics Education (RCSME) of the department is a rich repository inclusive of both print and electronic resources on science and mathematics education. The department develops and disseminates material for popularisation of Science, Mathematics and Environmental Education. It also organises the Jawaharlal Nehru National Science, Mathematics and Environment Exhibition (JNNSMEE) for children, which is an annual event that (5) _____ the culmination of a series of science exhibitions, organised at district, zonal and state levels. DESM also provides academic guidance and financial support for the State Level Science Exhibitions.

SubQuestion No : 23

Q.23 Select the most appropriate option to fill in blank number 3.

- Ans  1. hiding
 2. congregating
 3. concealing
 4. dissemination

Question ID : 26433060501

Status : Answered

Chosen Option : 2



Comprehension:

In the following passage, some words have been deleted. Read the passage carefully and select the most appropriate option to fill in each blank.

The Department of Education in Science and Mathematics (DESM) has been working for school education in the areas of Science, Mathematics, Environment and Computer Science at upper primary, secondary and higher secondary stages. It experiments with teaching-learning strategies (1) _____ new methods and technologies, and develops instructional material as well as material for training of teachers and teacher-educators. The department also assists and advises the Ministry of Human Resource Development, Government of India in various science, mathematics and environment education related issues and concerns. It also extends its cooperation and expertise to other departments and divisions of NIE as well as other constituents of the NCERT in various activities (2) _____ development of curricular, co-curricular and other support materials for students as well as teachers. Faculty members of the department also provide its expertise to SCERTs, State Boards of School Education, Central and State governments, Universities, etc. Major activities of the DESM include curriculum development, conducting teacher orientation or training programmes, (3) _____ of information in Science, Mathematics and Environmental Education, development of innovative laboratory practices and publication of the Journal School Science. The department has also developed a Science Park, a herbal garden which provides valuable information and idea for schools (4) _____ the same for benefit of children. The Resource Centre for Science and Mathematics Education (RCSME) of the department is a rich repository inclusive of both print and electronic resources on science and mathematics education. The department develops and disseminates material for popularisation of Science, Mathematics and Environmental Education. It also organises the Jawaharlal Nehru National Science, Mathematics and Environment Exhibition (JNNSMEE) for children, which is an annual event that (5) _____ the culmination of a series of science exhibitions, organised at district, zonal and state levels. DESM also provides academic guidance and financial support for the State Level Science Exhibitions.

SubQuestion No : 24

Q.24 Select the most appropriate option to fill in blank number 4.

- Ans  1. to exclude
-  2. to replicate
-  3. to comprehensive
-  4. to originate

Question ID : 26433060502

Status : Answered

Chosen Option : 4

Comprehension:

In the following passage, some words have been deleted. Read the passage carefully and select the most appropriate option to fill in each blank.

The Department of Education in Science and Mathematics (DESM) has been working for school education in the areas of Science, Mathematics, Environment and Computer Science at upper primary, secondary and higher secondary stages. It experiments with teaching-learning strategies (1) _____ new methods and technologies, and develops instructional material as well as material for training of teachers and teacher-educators. The department also assists and advises the Ministry of Human Resource Development, Government of India in various science, mathematics and environment education related issues and concerns. It also extends its cooperation and expertise to other departments and divisions of NIE as well as other constituents of the NCERT in various activities (2) _____ development of curricular, co-curricular and other support materials for students as well as teachers. Faculty members of the department also provide its expertise to SCERTs, State Boards of School Education, Central and State governments, Universities, etc. Major activities of the DESM include curriculum development, conducting teacher orientation or training programmes, (3) _____ of information in Science, Mathematics and Environmental Education, development of innovative laboratory practices and publication of the Journal School Science. The department has also developed a Science Park, a herbal garden which provides valuable information and idea for schools (4) _____ the same for benefit of children. The Resource Centre for Science and Mathematics Education (RCSME) of the department is a rich repository inclusive of both print and electronic resources on science and mathematics education. The department develops and disseminates material for popularisation of Science, Mathematics and Environmental Education. It also organises the Jawaharlal Nehru National Science, Mathematics and Environment Exhibition (JNNSMEE) for children, which is an annual event that (5) _____ the culmination of a series of science exhibitions, organised at district, zonal and state levels. DESM also provides academic guidance and financial support for the State Level Science Exhibitions.

SubQuestion No : 25

Q.25 Select the most appropriate option to fill in blank number 5.

- Ans ☒ 1. noted
☒ 2. gives
☒ 3. marks
☒ 4. takes

Question ID : 26433060503
Status : Answered
Chosen Option : 2

Section : Part-E- Computer Fundamentals

Q.1 किसी पेज को सर्वर पर कॉपी करना, _____ कहलाता है।

- Ans ☒ 1. पेज क्रिएट करना (Create)
☒ 2. पेज सेव करना (Save)
☒ 3. पेज अपलोड करना (Uploading)
☒ 4. पेज डाउनलोड करना (Downloading)

Question ID : 26433095406
Status : Answered
Chosen Option : 3

Q.2 एमएस-एक्सेल 2010 (MS-Excel 2010) में _____ फॉर्मूला, विशिष्ट सेल में संख्याओं के योग का प्राथमिक कार्य है।

- Ans ☒ 1. IF
☒ 2. COUNT
☒ 3. SUM
☒ 4. AVERAGE

Question ID : 26433095400
Status : Answered
Chosen Option : 2

Q.3 एमएस-एक्सेल 2010 में _____ फंक्शन, सिस्टम की वर्तमान तिथि एवं समय (current system date and time) प्रदान करता है।

- Ans
- ☒ 1. CURRENT
 - ☒ 2. TODAY
 - ☒ 3. NOW
 - ☒ 4. YEAR

Question ID : 26433095471
Status : Not Answered
Chosen Option : --

Q.4 MS-Word 2010 में दाईं ओर एक शब्द को मिटाने के लिए किस शॉर्टकट की (key) का उपयोग किया जाता है?

- Ans
- ☒ 1. Ctrl+Backspace
 - ☒ 2. Delete
 - ☒ 3. Ctrl+Delete
 - ☒ 4. Alt+Backspace

@Qmaths

Question ID : 26433095532
Status : Answered
Chosen Option : 1

Q.5 एमएस-एक्सेल 2010 के संबंध में गलत विकल्प का चयन कीजिए।

- Ans
- ☒ 1. एमएस-एक्सेल 2010 में, Ctrl+F का उपयोग शीट के भीतर टेक्स्ट खोजने में किया जाता है।
 - ☒ 2. Alt+Enter शॉर्टकट कुंजी (key) का उपयोग MS-Excel 2010 में टेक्स्ट की एक नई लाइन शुरू करने या वर्कशीट सेल में टेक्स्ट की लाइनों या पैराग्राफ के बीच स्पेस को बढ़ाने के लिए किया जाता है।
 - ☒ 3. एमएस-एक्सेल 2010 में हम F3 का उपयोग करके फाइल को सेव कर सकते हैं।
 - ☒ 4. एमएस-एक्सेल 2010 में रिबन बार में होम टैब में सबसे अधिक उपयोग किए जाने वाले कमांड होते हैं जैसे कॉपी और पेस्ट करना, सॉर्ट करना और फ़िल्टर करना, फॉर्मेट करना आदि।

Question ID : 26433095454
Status : Not Answered
Chosen Option : --

Q.6 एमएस-एक्सेल 2010 में, हम स्क्रीन पर अतिरिक्त स्थान प्राप्त करने के लिए रिबन को कोलैप्स (collapse) कर सकते हैं। रिबन पर कहीं भी राइट क्लिक कीजिए, और फिर कोलैप्स द रिबन (Collapse the Ribbon) को क्लिक कीजिए या _____ को दबाइए।

- Ans
- ☒ 1. ALT+F2
 - ☒ 2. ALT+F1
 - ☒ 3. CTRL+F1
 - ☒ 4. CTRL+F2

Question ID : 26433095478
Status : Not Answered
Chosen Option : --

Q.7 ऐसी वेबसाइट जिसमें लेखक या लेखकों के अपने अनुभव, अवलोकन, विचार आदि होते हैं, _____ के रूप में जाने जाते हैं।

- Ans
- ☒ 1. ब्लॉग (BLOG)
 - ☒ 2. इंस्टेंट मैसेंजर (Instant messenger)
 - ☒ 3. ईमेल (EMAIL)
 - ☒ 4. वाइरस (VIRUS)

Question ID : 26433095467
Status : Answered
Chosen Option : 1

Q.8 एमएस-एक्सेल 2010 वर्कशीट के सेल में दर्ज किए गए संख्यात्मक मानों का डिफ़ॉल्ट एलाइनमेंट क्या है?

- Ans ☒ 1. राईट(Right)
☒ 2. लेफ्ट(Left)
☒ 3. जस्टिफाई(Justify)
☒ 4. सेंटर(Center)

Question ID : 26433095309
Status : Not Answered
Chosen Option : --

Q.9 निम्नलिखित में से कौन सा एक ईमेल एड्रेस में एक वैध डोमेन नेम है?
I. gmail.com
II. outlook.com
III. yahoo.com

- Ans ☒ 1. I और III
☒ 2. I और II
☒ 3. सभी I, II और III
☒ 4. II और III

Question ID : 26433095375
Status : Answered
Chosen Option : 3

Q.10 एमएस-एक्सेल 2010 (MS-Excel 2010) में टेबल का नाम बदलने (रिनेम) के लिए निम्न में से किस कीबोर्ड शॉर्टकट का उपयोग किया जाता है?

- Ans ☒ 1. Alt + R
☒ 2. Ctrl + T + R
☒ 3. Alt + T + R
☒ 4. Ctrl + R

Question ID : 26433095328
Status : Not Answered
Chosen Option : --