

## Question Paper Preview

### Notations :

- Options shown in green color and with ✓ icon are correct.
- Options shown in red color and with ✗ icon are incorrect.

Question Paper Name:	TGT SOCIAL SCIENCE FEMALE 16th Oct 2018 Shift 2
Subject Name:	TGT SOCIAL SCIENCE FEMALE
Creation Date:	2018-10-16 15:31:42
Duration:	120
Total Marks:	200
Display Marks:	Yes
Share Answer Key With Delivery Engine:	Yes
Actual Answer Key:	Yes
Calculator:	None
Magnifying Glass Required?:	No
Ruler Required?:	No
Eraser Required?:	No
Scratch Pad Required?:	No
Rough Sketch/Notepad Required?:	No
Protractor Required?:	No
Show Watermark on Console?:	No
Highlighter:	No
Auto Save on Console?:	No

### Mental Ability

Group Number :	1
Group Id :	167943734
Group Maximum Duration :	0
Group Minimum Duration :	0
Revisit allowed for view? :	No
Revisit allowed for edit? :	No
Break time:	0
Group Marks:	20
Revisit allowed for group Instructions? :	Yes
Maximum Instruction Time:	0
Minimum Instruction Time:	0

### Mental Ability

Section Id :	167943799
Section Number :	1
Section type :	Online
Mandatory or Optional:	Mandatory
Number of Questions:	20
Number of Questions to be attempted:	20
Section Marks:	20

Display Number Panel:

Yes

Group All Questions:

No

Sub-Section Number:

1

Sub-Section Id:

1679431233

Question Shuffling Allowed :

Yes

Question Number : 1 Question Id : 16794319385 Question Type : MCQ Option Shuffling : Yes Display Question Number : Yes  
Single Line Question Option : No Option Orientation : Vertical

Correct Marks : 1 Wrong Marks : 0.25

Knowing is related to Ingenious in the same way as Hygienic is related to:

Options :

1. ✖ Polluted

2. ✖ Contaminated

3. ✔ Clean

4. ✖ Pretty

Question Number : 1 Question Id : 16794319385 Question Type : MCQ Option Shuffling : Yes Display Question Number : Yes  
Single Line Question Option : No Option Orientation : Vertical

Correct Marks : 1 Wrong Marks : 0.25

जानना, चतुर से उसी प्रकार संबंधित है जिस प्रकार स्वास्थ्यकर \_\_\_\_\_ से संबंधित है।

Options :

1. ✖ प्रदूषित

2. ✖ दूषित

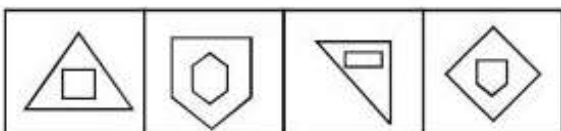
3. ✔ स्वच्छ

4. ✖ सुंदर

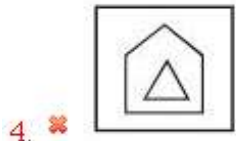
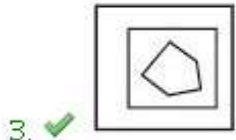
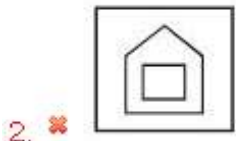
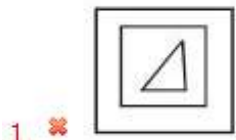
Question Number : 2 Question Id : 16794319386 Question Type : MCQ Option Shuffling : Yes Display Question Number : Yes  
Single Line Question Option : No Option Orientation : Vertical

Correct Marks : 1 Wrong Marks : 0.25

Identify the option figure that is similar to the below figures.



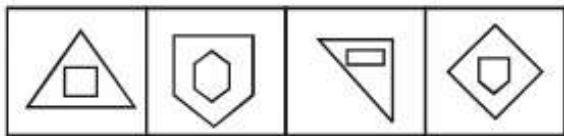
Options :



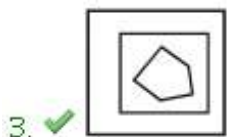
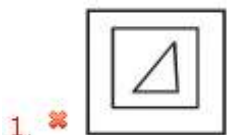
Question Number : 2 Question Id : 16794319386 Question Type : MCQ Option Shuffling : Yes Display Question Number : Yes  
Single Line Question Option : No Option Orientation : Vertical

Correct Marks : 1 Wrong Marks : 0.25

नीचे दी गई आकृति के समान विकल्प आकृति की पहचान करें।



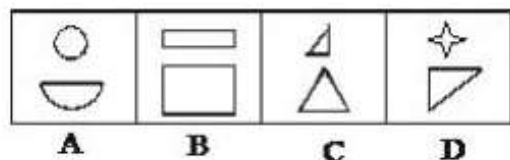
Options :



Question Number : 3 Question Id : 16794319387 Question Type : MCQ Option Shuffling : Yes Display Question Number : Yes  
Single Line Question Option : No Option Orientation : Vertical

Correct Marks : 1 Wrong Marks : 0.25

Given below are a few images. Identify the different image among the options.



Options :

1. ✖ A

2. ✖ B

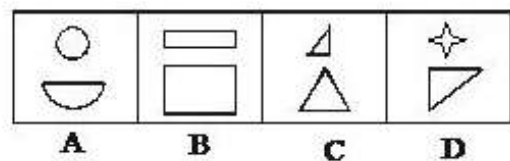
3. ✖ C

4. ✔ D

Question Number : 3 Question Id : 16794319387 Question Type : MCQ Option Shuffling : Yes Display Question Number : Yes  
Single Line Question Option : No Option Orientation : Vertical

Correct Marks : 1 Wrong Marks : 0.25

नीचे कुछ छवियां दी गई हैं। विकल्पों के बीच सबसे अलग छवि की पहचान करें।



Options :

1. ✖ A

2. ✖ B

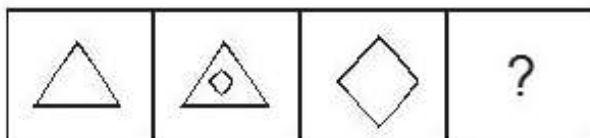
3. ✖ C

4. ✔ D

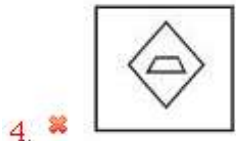
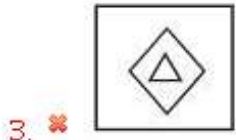
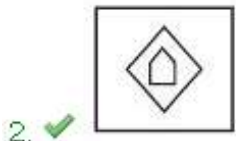
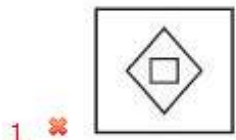
Question Number : 4 Question Id : 16794319388 Question Type : MCQ Option Shuffling : Yes Display Question Number : Yes  
Single Line Question Option : No Option Orientation : Vertical

Correct Marks : 1 Wrong Marks : 0.25

What will come in the place of question mark in the below series?



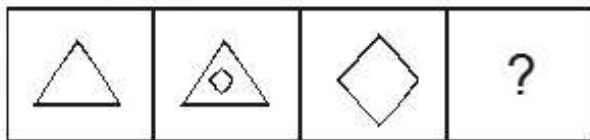
Options :



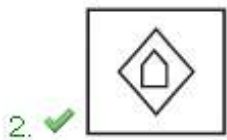
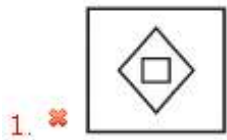
Question Number : 4 Question Id : 16794319388 Question Type : MCQ Option Shuffling : Yes Display Question Number : Yes  
Single Line Question Option : No Option Orientation : Vertical

Correct Marks : 1 Wrong Marks : 0.25

नीचे श्रृंखला में प्रश्न चिह्न के स्थान पर क्या आएगा?



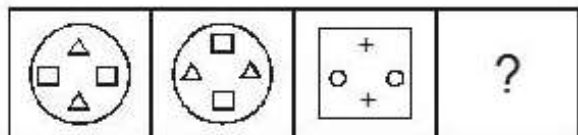
Options :



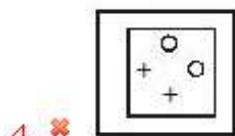
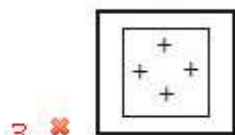
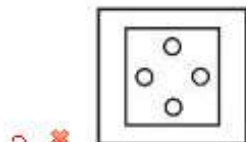
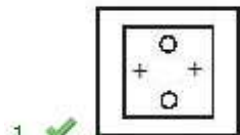
Question Number : 5 Question Id : 16794319389 Question Type : MCQ Option Shuffling : Yes Display Question Number : Yes  
Single Line Question Option : No Option Orientation : Vertical

Correct Marks : 1 Wrong Marks : 0.25

What will come in the place of question mark in the below series?



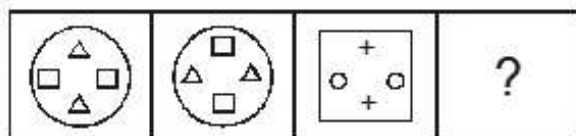
Options :



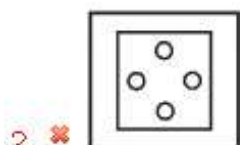
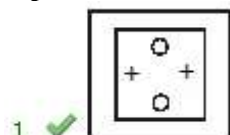
Question Number : 5 Question Id : 16794319389 Question Type : MCQ Option Shuffling : Yes Display Question Number : Yes  
Single Line Question Option : No Option Orientation : Vertical

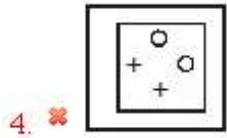
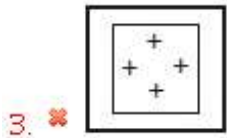
Correct Marks : 1 Wrong Marks : 0.25

नीचे श्रृंखला में प्रश्न चिह्न के स्थान पर क्या आएगा?



Options :

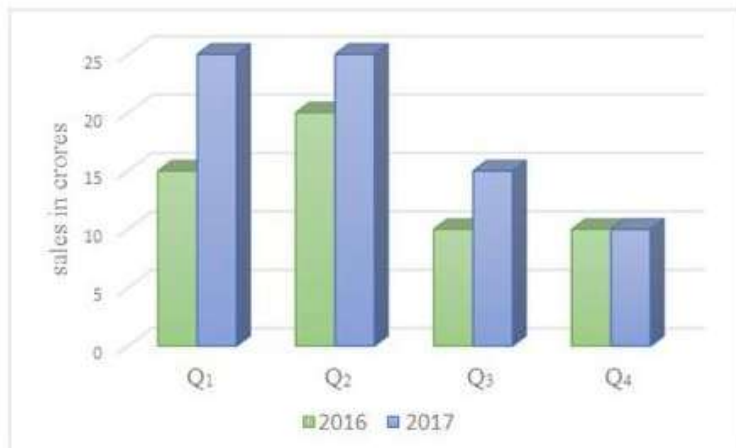




Question Number : 6 Question Id : 16794319390 Question Type : MCQ Option Shuffling : Yes Display Question Number : Yes  
Single Line Question Option : No Option Orientation : Vertical

Correct Marks : 1 Wrong Marks : 0.25

The following chart shows information about the sales of the company 'XYZ' for the year 2016 & 2017.



What is the ratio of the sales of the company "XYZ" for the Q<sub>2</sub> of 2016 to the sales of the company for the Q<sub>4</sub> of 2017?

Options :

1. ✖ 1 : 1

2. ✖ 1 : 2

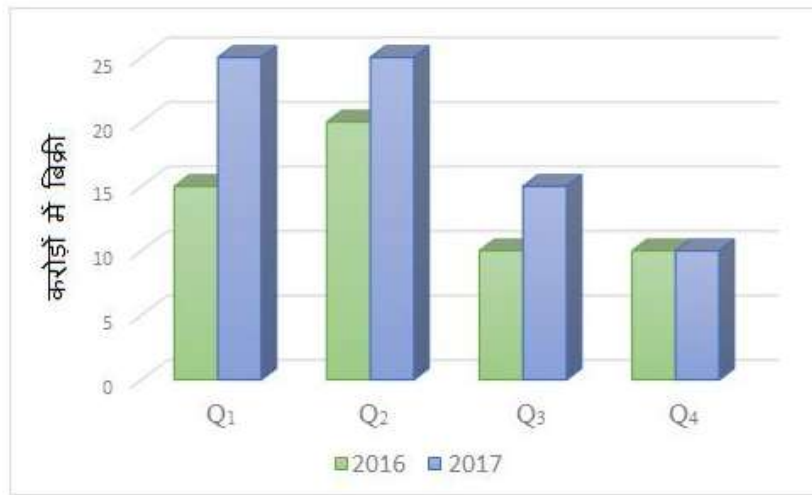
3. ✔ 2 : 1

4. ✖ 2 : 5

Question Number : 6 Question Id : 16794319390 Question Type : MCQ Option Shuffling : Yes Display Question Number : Yes  
Single Line Question Option : No Option Orientation : Vertical

Correct Marks : 1 Wrong Marks : 0.25

निम्नलिखित चार्ट में वर्ष 2016 और 2017 के लिए कंपनी 'XYZ' की बिक्री के बारे में जानकारी दी गई है।



कंपनी "XYZ" की 2017 के लिए Q<sub>4</sub> (चौथी तिमाही) की बिक्री और 2016 के लिए Q<sub>2</sub> (दूसरी तिमाही) की बिक्री का अनुपात क्या होगा?

Options :

1. ✗ 1 : 1

2. ✗ 1 : 2

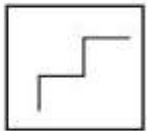
3. ✓ 2 : 1

4. ✗ 2 : 5

Question Number : 7 Question Id : 16794319391 Question Type : MCQ Option Shuffling : Yes Display Question Number : Yes  
Single Line Question Option : No Option Orientation : Vertical

Correct Marks : 1 Wrong Marks : 0.25

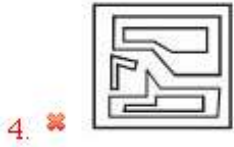
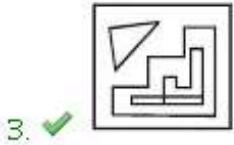
Spot the option figure that has the below figure embedded as a part of it.



Options :



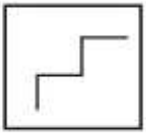




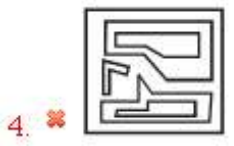
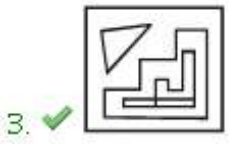
Question Number : 7 Question Id : 16794319391 Question Type : MCQ Option Shuffling : Yes Display Question Number : Yes  
Single Line Question Option : No Option Orientation : Vertical

Correct Marks : 1 Wrong Marks : 0.25

आकृति में विकल्प आकृति को चिन्हित करें जिसे नीचे दी गई आकृति में सन्निहत किया गया है।



Options :



Question Number : 8 Question Id : 16794319392 Question Type : MCQ Option Shuffling : Yes Display Question Number : Yes  
Single Line Question Option : No Option Orientation : Vertical

Correct Marks : 1 Wrong Marks : 0.25

Study the following information carefully and answer the given questions.

For a recruitment process in an ACCOUNTING organization, the candidates need to possess the following qualifications criteria:

- (i) He/she should be a graduate in commerce with at least 60% marks.
- (ii) He/she should be of at least 24 years of age and not more than 40 years as on 1-7-2016.
- (iii) He/she should have a post-qualification work experience of at least 2 years.
- (iv) He/she should have secured 55% marks in the selection process.

However, if the candidate fulfills the above-mentioned criteria except:

(A) at (i), and if the candidate is not a graduate in commerce but has a post-graduation degree in finance with minimum of 60% marks, he/she should be referred to the Finance Manager of the organization.

(B) at (iii), and if the candidate fulfills all the eligibility criteria of post-qualification work experience but has secured 75% marks in the selection process, he/she may be referred to the Trainee Accountant.

Based on the above information, study carefully whether following candidates are eligible for the recruitment process and mark your answer as follows. You are not to assume anything other than the information provided in each question. All the cases are given to you as on 1-7-2016.

Samarth has done graduation in science and post-graduation in finance with 61% and 62.8% of marks respectively. His date of birth is 6.7.1990. He has qualified in the selection process and has secured 69% marks in it. He also has three years of post-qualification work experience in accounts:

Options :

- 1. ✖ The candidate should be selected.
- 2. ✖ The candidate is not to be selected.
- 3. ✔ The candidate may be referred to the Finance Manager
- 4. ✖ The candidate may be referred to the Trainee Accountant

Question Number : 8 Question Id : 16794319392 Question Type : MCQ Option Shuffling : Yes Display Question Number : Yes  
Single Line Question Option : No Option Orientation : Vertical

Correct Marks : 1 Wrong Marks : 0.25

नीचे दी गई जानकारी को ध्यानपूर्वक पढ़ें और दिए गए प्रश्नों का उत्तर दें।

एक लेखा संगठन में भर्ती प्रक्रिया के लिए, उम्मीदवारों के लिए निम्नलिखित योग्यता मानदंड की आवश्यकता है:

- (i) वह कम से कम 60% अंकों के साथ वाणिज्य में स्नातक होना/होनी चाहिए।
- (ii) वह 1-7-2016 को कम से कम 24 वर्ष और 40 साल से अधिक नहीं होना चाहिए।
- (iii) उम्मीदवारों को शिक्षा के बाद कम से कम 2 वर्ष का कार्य अनुभव होना चाहिए।
- (iv) उसे चयन प्रक्रिया में 55% अंक प्राप्त करना चाहिए।

हालांकि, यदि उम्मीदवार उपर्युक्त मानदंडों को पूरा करता है तो इसे छोड़कर:

(A) (i) के मामले में यदि उम्मीदवार वाणिज्य में स्नातक नहीं है लेकिन उसके पास वित्त में 60% अंक के साथ स्नातकोत्तर की डिग्री है, उसे संस्थान के वित्त प्रबंधन के लिए संदर्भित करना चाहिए।

(B) (iii) के मामले में यदि उम्मीदवार शिक्षा के बाद कम से कम 2 वर्ष का कार्य अनुभव के पात्रता मापदंड को पूरा करता है, इतना ही नहीं वह चयन प्रक्रिया में 75% अंक अर्जित किया है, उसे प्रशिक्षु अकाउंटेंट के लिए संदर्भित किया जा सकता है।

उपरोक्त सूचना के आधार पर ध्यानपूर्वक देखें कि निम्नलिखित उम्मीदवार चयन प्रक्रिया में पात्र हैं और अपने उत्तर नीचे अंकित करें। आपको नीचे हर प्रश्न दी गई सूचना के अलावा कुछ और नहीं सोचना है। आपको दिए गए सभी मामले 1-7-2016 के हैं।

समर्थ ने क्रमशः 61% और 62.8% अंकों के साथ विज्ञान स्नातक और वित्त में स्नातकोत्तर किया है। उनकी जन्म तिथि 6.7.1990 है। उन्होंने चयन प्रक्रिया में योग्यता प्राप्त की है और इसमें 69% अंक प्राप्त किए हैं। खातों में उनके पास तीन साल के योग्यता कार्य अनुभव भी हैं।

Options :

- 1. ✖ उम्मीदवार का चयन किया जाना चाहिए
- 2. ✖ उम्मीदवार का चयन नहीं किया जाना चाहिए
- 3. ✔ उम्मीदवार को वित्त प्रबंधक के लिए संदर्भित किया जा सकता है
- 4. ✖ उम्मीदवार को प्रशिक्षु अकाउंटेंट के लिए संदर्भित किया जा सकता है

Question Number : 9 Question Id : 16794319393 Question Type : MCQ Option Shuffling : Yes Display Question Number : Yes  
Single Line Question Option : No Option Orientation : Vertical

Correct Marks : 1 Wrong Marks : 0.25

You are invited for a birthday party dinner by your friend. In the party, the host publicly insults you. What should be your most appropriate step?



Options :

1. ✖ Beat the host publicly taking help from your friends.
2. ✔ Politely greet the host with birthday wishes and simply go away
3. ✖ Call everybody and insult the host in the same way he did
4. ✖ Ignore the situation

Question Number : 9 Question Id : 16794319393 Question Type : MCQ Option Shuffling : Yes Display Question Number : Yes  
Single Line Question Option : No Option Orientation : Vertical

Correct Marks : 1 Wrong Marks : 0.25

आपको अपने मित्र द्वारा जन्मदिन के रात्रिभोज पार्टी में आमंत्रित किया जाता है। पार्टी में, मेज़बान सार्वजनिक तौर पर आपको अपमानित करता है। आपका सबसे उचित कदम क्या होना चाहिए?

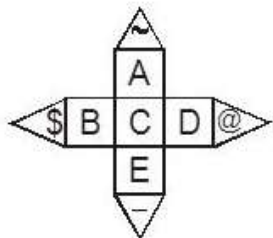
Options :

1. ✖ मेज़बान को सार्वजनिक रूप से अपने दोस्तों से मदद लेना चाहिए
2. ✔ मित्र को शिष्टतापूर्वक जन्मदिन की शुभकामना देनी चाहिए और बस वहां से चले जाना चाहिए
3. ✖ सभी को बुलाना चाहिए और मेज़बान को उसी तरह अपमानित करना चाहिए
4. ✖ इस स्थिति को नज़रअंदाज करना चाहिए

Question Number : 10 Question Id : 16794319394 Question Type : MCQ Option Shuffling : Yes Display Question Number : Yes  
Single Line Question Option : No Option Orientation : Vertical


Correct Marks : 1 Wrong Marks : 0.25


If the sheet of a paper as shown in figure (Y) is folded to form a box, which one of the statements will not hold TRUE?



Options :

1. ✖ A & C are opposite faces
2. ✖ D & E are opposite faces

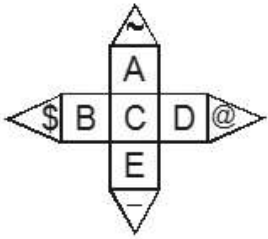
3. ✖  & B are opposite faces

4. ✔  & C are opposite faces

Question Number : 10 Question Id : 16794319394 Question Type : MCQ Option Shuffling : Yes Display Question Number : Yes  
Single Line Question Option : No Option Orientation : Vertical

Correct Marks : 1 Wrong Marks : 0.25


यदि आकृति (Y) में दिखाए गए पेपर शीट एक बॉक्स के रूप में मोड़ी जाती है, तो निम्नलिखित में से कौन सा कथन सत्य नहीं होगा?




Options :

1. ✖ A और C विपरीत फलक हैं

2. ✖ D और E विपरीत फलक हैं

3. ✖  और B विपरीत फलक हैं

4. ✔  और C विपरीत फलक हैं

Question Number : 11 Question Id : 16794319395 Question Type : MCQ Option Shuffling : Yes Display Question Number : Yes  
Single Line Question Option : No Option Orientation : Vertical

Correct Marks : 1 Wrong Marks : 0.25

Select the most appropriate option.

A cat always has:

Options :

1. ✔ Heart

2. ✖ Bell

3. ✖ Belt

4. ✖ Dress

Question Number : 11 Question Id : 16794319395 Question Type : MCQ Option Shuffling : Yes Display Question Number : Yes  
Single Line Question Option : No Option Orientation : Vertical

Correct Marks : 1 Wrong Marks : 0.25

सबसे उपयुक्त विकल्प का चयन करें।

एक बिल्ली के पास हमेशा होता है:

Options :

1. ✔ हृदय

2. ✖ घंटी

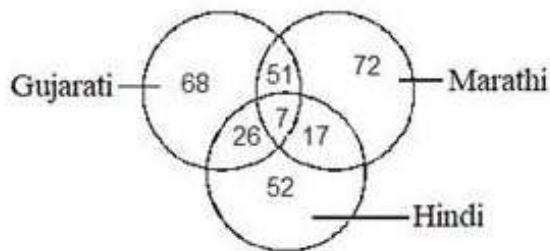
3. ✖ बेल्ट

4. ✖ ड्रेस (पोशाक)

Question Number : 12 Question Id : 16794319396 Question Type : MCQ Option Shuffling : Yes Display Question Number : Yes  
Single Line Question Option : No Option Orientation : Vertical

Correct Marks : 1 Wrong Marks : 0.25

Study the following Venn diagram carefully and answer the question.



How many persons speak only one language?

Options :

1. ✖ 52

2. ✖ 72

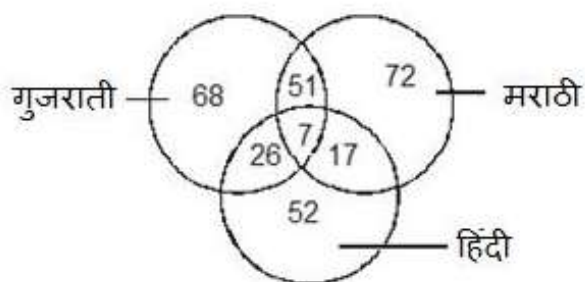
3. ✖ 68

4. ✔ 192

Question Number : 12 Question Id : 16794319396 Question Type : MCQ Option Shuffling : Yes Display Question Number : Yes  
Single Line Question Option : No Option Orientation : Vertical

Correct Marks : 1 Wrong Marks : 0.25

निम्नलिखित वेन आरेख ध्यानपूर्वक अध्ययन करें और प्रश्न का उत्तर दें।



कितने लोग केवल एक भाषा बोलते हैं?

Options :

1. ✖ 52

2. ✖ 72

3. ✖ 68

4. ✔ 192

Question Number : 13 Question Id : 16794319397 Question Type : MCQ Option Shuffling : Yes Display Question Number : Yes  
Single Line Question Option : No Option Orientation : Vertical

Correct Marks : 1 Wrong Marks : 0.25

Sudheer is brother of Vandana. How is Vandana's father's brother related to Sudheer?

Options :

1. ✔ Paternal uncle

2. ✖ Father

3. ✖ Brother

4. ✖ Grandfather

Question Number : 13 Question Id : 16794319397 Question Type : MCQ Option Shuffling : Yes Display Question Number : Yes  
Single Line Question Option : No Option Orientation : Vertical

Correct Marks : 1 Wrong Marks : 0.25

सुधीर वंदना का भाई है। वंदना के पिता के भाई का सुधीर से किस तरह का संबंध है?

Options :

1. ✔ चाचा

2. ✖ पिता

3. ✖ भाई

4. ✖ दादा

Question Number : 14 Question Id : 16794319398 Question Type : MCQ Option Shuffling : Yes Display Question Number : Yes  
Single Line Question Option : No Option Orientation : Vertical

Correct Marks : 1 Wrong Marks : 0.25

If P denotes  $\div$ , Q denotes  $\times$ , R denotes  $+$  and S denotes  $-$ , then what is the value of  $9Q15P3R7S2$ ?

Options :

1. ✖ 68

2. ✔ 50

3. ✖ 43

4. ✖ 57

Question Number : 14 Question Id : 16794319398 Question Type : MCQ Option Shuffling : Yes Display Question Number : Yes  
Single Line Question Option : No Option Orientation : Vertical

Correct Marks : 1 Wrong Marks : 0.25

यदि P का अर्थ  $\div$ , Q का अर्थ  $\times$ , R का अर्थ  $+$  और S का अर्थ  $-$ , तो  $9Q15P3R7S2$  का मान कितना होगा?

Options :

1. ✖ 68

2. ✔ 50

3. ✖ 43

4. ✖ 57

Question Number : 15 Question Id : 16794319399 Question Type : MCQ Option Shuffling : Yes Display Question Number : Yes  
Single Line Question Option : No Option Orientation : Vertical

Correct Marks : 1 Wrong Marks : 0.25

A group of 1800 persons, consisting of captains and soldiers, is travelling in a train. For every 17 soldiers, there is one captain. The number of captains in the group is:

Options :

1. ✖ 92

2. ✖ 87



3. ✖ 75

4. ✔ 100

Question Number : 15 Question Id : 16794319399 Question Type : MCQ Option Shuffling : Yes Display Question Number : Yes  
Single Line Question Option : No Option Orientation : Vertical

Correct Marks : 1 Wrong Marks : 0.25

1800 लोगों का एक समूह, जिसमें कप्तान और सैनिक शामिल हैं, एक ट्रेन में यात्रा कर रहा है। हर 17 सैनिक के लिए एक कप्तान है। तो समूह में कप्तानों की संख्या कितनी होगी?

Options :

1. ✖ 92

2. ✖ 87

3. ✖ 75

4. ✔ 100

Question Number : 16 Question Id : 16794319400 Question Type : MCQ Option Shuffling : Yes Display Question Number : Yes  
Single Line Question Option : No Option Orientation : Vertical

Correct Marks : 1 Wrong Marks : 0.25

15 year old Srivalya is three times as old as his brother Srihan. How old will Srivalya be when she is twice as old as Srihan?

Options :

1. ✖ 15 years

2. ✖ 32 years

3. ✔ 20 years

4. ✖ 27 years

Question Number : 16 Question Id : 16794319400 Question Type : MCQ Option Shuffling : Yes Display Question Number : Yes  
Single Line Question Option : No Option Orientation : Vertical

Correct Marks : 1 Wrong Marks : 0.25

15 वर्षीय श्रीवाल्या की आयु अपने भाई श्रीहान की आयु से तीन गुना है। कितने वर्ष बाद श्रीवाल्या की आयु श्रीहान की आयु से दो गुनी हो जाएगी?

Options :

1. ✖ 15 वर्ष

2. ✖ 32 वर्ष

3. ✓ 20 वर्ष

4. ✗ 27 वर्ष

Question Number : 17 Question Id : 16794319401 Question Type : MCQ Option Shuffling : Yes Display Question Number : Yes  
Single Line Question Option : No Option Orientation : Vertical

Correct Marks : 1 Wrong Marks : 0.25

Choose the words-pair in which the words are differently related than in other pairs of words.

Options :

1. ✓ Pen : Nib

2. ✗ Spoon : Feed

3. ✗ Knife : Cut

4. ✗ Shovel : Scoop

Question Number : 17 Question Id : 16794319401 Question Type : MCQ Option Shuffling : Yes Display Question Number : Yes  
Single Line Question Option : No Option Orientation : Vertical

Correct Marks : 1 Wrong Marks : 0.25

उस शब्द-युग्म का चयन करें जिसमें शब्द अन्य युग्म की तुलना में अलग-अलग संबंधित हैं।

Options :

1. ✓ कलम : निब

2. ✗ चम्मच : फीड

3. ✗ चाकू : कट

4. ✗ फावड़ा : निकालना

Question Number : 18 Question Id : 16794319402 Question Type : MCQ Option Shuffling : Yes Display Question Number : Yes  
Single Line Question Option : No Option Orientation : Vertical

Correct Marks : 1 Wrong Marks : 0.25

Identify the pair of numerals that is not holding the same relation as the rest pairs.

Options :

1. ✗ 4, 8 : 32

2. ✗ 6, 5 : 30

3. ✖ 9, 4 : 36

4. ✔ 3, 7 : 26

Question Number : 18 Question Id : 16794319402 Question Type : MCQ Option Shuffling : Yes Display Question Number : Yes  
Single Line Question Option : No Option Orientation : Vertical

Correct Marks : 1 Wrong Marks : 0.25

उन अंकों की जोड़ी की पहचान करें जो शेष युग्म के समान संबंध नहीं रख रहे हैं।

Options :

1. ✖ 4, 8 : 32

2. ✖ 6, 5 : 30

3. ✖ 9, 4 : 36

4. ✔ 3, 7 : 26

Question Number : 19 Question Id : 16794319403 Question Type : MCQ Option Shuffling : Yes Display Question Number : Yes  
Single Line Question Option : No Option Orientation : Vertical

Correct Marks : 1 Wrong Marks : 0.25

What would be the next number in the below number series?

2, 5, 8, 15, 28, 51, ?

Options :

1. ✖ 97

2. ✔ 94

3. ✖ 99

4. ✖ 100

Question Number : 19 Question Id : 16794319403 Question Type : MCQ Option Shuffling : Yes Display Question Number : Yes  
Single Line Question Option : No Option Orientation : Vertical

Correct Marks : 1 Wrong Marks : 0.25

नीचे संख्या श्रृंखला में अगली संख्या क्या होगी?

2, 5, 8, 15, 28, 51, ?

Options :

1. ✖ 97

2. ✓ 94

3. ✗ 99

4. ✗ 100

Question Number : 20 Question Id : 16794319404 Question Type : MCQ Option Shuffling : Yes Display Question Number : Yes  
Single Line Question Option : No Option Orientation : Vertical

Correct Marks : 1 Wrong Marks : 0.25

What would be the next term in the below series?

OZE, QYH, SXX, UWN, ?

Options :

1. ✗ WGB

2. ✗ VCJ

3. ✓ WVQ

4. ✗ QLM

Question Number : 20 Question Id : 16794319404 Question Type : MCQ Option Shuffling : Yes Display Question Number : Yes  
Single Line Question Option : No Option Orientation : Vertical

Correct Marks : 1 Wrong Marks : 0.25

नीचे दी गई श्रृंखला में अगला अक्षर समूह क्या होगा?

OZE, QYH, SXX, UWN, ?

Options :

1. ✗ WGB

2. ✗ VCJ

3. ✓ WVQ

4. ✗ QLM

General Awareness

Group Number :

2

Group Id :

167943735

Group Maximum Duration :

0

Group Minimum Duration :	0
Revisit allowed for view? :	No
Revisit allowed for edit? :	No
Break time:	0
Group Marks:	20
Revisit allowed for group Instructions? :	Yes
Maximum Instruction Time:	0
Minimum Instruction Time:	0

#### General Awareness

Section Id :	167943800
Section Number :	1
Section type :	Online
Mandatory or Optional:	Mandatory
Number of Questions:	20
Number of Questions to be attempted:	20
Section Marks:	20
Display Number Panel:	Yes
Group All Questions:	No





Sub-Section Number:	1
Sub-Section Id:	1679431234
Question Shuffling Allowed :	Yes

Question Number : 21 Question Id : 16794319405 Question Type : MCQ Option Shuffling : Yes Display Question Number : Yes  
Single Line Question Option : No Option Orientation : Vertical

Correct Marks : 1 Wrong Marks : 0.25

Which of the following Harappan Civilization site is located in the present-day Pakistan?

Options :


1.  Chanhudaro
2.  Dholavira
3.  Rakhigarhi
4.  Lothal

Question Number : 21 Question Id : 16794319405 Question Type : MCQ Option Shuffling : Yes Display Question Number : Yes  
Single Line Question Option : No Option Orientation : Vertical

Correct Marks : 1 Wrong Marks : 0.25

निम्नलिखित में से कौन सा हड़प्पा सभ्यता स्थल अभी पाकिस्तान में स्थित है?

Options :

1.  चान्हुदारो

2. ✖ धौलावीरा

3. ✖ राखीगढ़ी

4. ✖ लोथल

Question Number : 22 Question Id : 16794319406 Question Type : MCQ Option Shuffling : Yes Display Question Number : Yes  
Single Line Question Option : No Option Orientation : Vertical

Correct Marks : 1 Wrong Marks : 0.25

Fill up the blank with the most appropriate option.

Under \_\_\_\_\_, Odisha and Bihar became separate provinces.

Options :

1. ✔ The Government of India Act, 1935

2. ✖ The Government of India Act, 1919

3. ✖ The Indian Councils Act, 1909

4. ✖ The Indian Independence Act, 1947

Question Number : 22 Question Id : 16794319406 Question Type : MCQ Option Shuffling : Yes Display Question Number : Yes  
Single Line Question Option : No Option Orientation : Vertical

Correct Marks : 1 Wrong Marks : 0.25

उचित विकल्प चुनकर रिक्त स्थान की पूर्ति करें।

\_\_\_\_\_ के तहत ओडिशा और बिहार अलग प्रांत बने।

Options :

1. ✔ भारत सरकार अधिनियम, 1935

2. ✖ भारत सरकार अधिनियम, 1919

3. ✖ भारतीय परिषद अधिनियम, 1909

4. ✖ भारतीय स्वतंत्रता अधिनियम, 1947

Question Number : 23 Question Id : 16794319407 Question Type : MCQ Option Shuffling : Yes Display Question Number : Yes  
Single Line Question Option : No Option Orientation : Vertical

Correct Marks : 1 Wrong Marks : 0.25



Fill up the blank with the most appropriate option.

Mental Healthcare Act, 2017 provided for the establishment of 'Central Mental Health \_\_\_\_\_'.

Options :

1. ✓ Authority
2. ✗ Board
3. ✗ Council
4. ✗ Commission

Question Number : 23 Question Id : 16794319407 Question Type : MCQ Option Shuffling : Yes Display Question Number : Yes  
Single Line Question Option : No Option Orientation : Vertical

Correct Marks : 1 Wrong Marks : 0.25

उचित विकल्प चुनकर रिक्त स्थान की पूर्ति करें।

मानसिक स्वास्थ्य देखभाल अधिनियम, 2017 'केंद्रीय मानसिक स्वास्थ्य \_\_\_\_\_' की स्थापना के लिए उपलब्ध था।

Options :

1. ✓ अथॉरिटी
2. ✗ बोर्ड
3. ✗ परिषद
4. ✗ आयोग

Question Number : 24 Question Id : 16794319408 Question Type : MCQ Option Shuffling : Yes Display Question Number : Yes  
Single Line Question Option : No Option Orientation : Vertical

Correct Marks : 1 Wrong Marks : 0.25

Where was the Fifth 'Rashtriya Sanskriti Mahotsav (RSM) – 2017' inaugurated on 23rd March, 2017?

Options :

1. ✓ Tawang (Arunachal Pradesh)
2. ✗ Dimapur (Nagaland)
3. ✗ Majuli (Assam)
4. ✗ Imphal (Manipur)

Question Number : 24 Question Id : 16794319408 Question Type : MCQ Option Shuffling : Yes Display Question Number : Yes  
Single Line Question Option : No Option Orientation : Vertical  
Correct Marks : 1 Wrong Marks : 0.25

पांचवां 'राष्ट्रीय संस्कार महोत्सव (RSM) - 2017' का उद्घाटन 23 मार्च, 2017 को कहाँ हुआ था?

Options :

1. ☒ तवांग (अरुणाचल प्रदेश)
2. ☐ दीमापुर (नागालैंड)
3. ☐ माजुली (आसाम)
4. ☐ इम्फाल (मणिपुर)

Question Number : 25 Question Id : 16794319409 Question Type : MCQ Option Shuffling : Yes Display Question Number : Yes  
Single Line Question Option : No Option Orientation : Vertical  
Correct Marks : 1 Wrong Marks : 0.25

Removal of \_\_\_\_\_ from office does NOT require the process of impeachment motion in the Indian Parliament.

Options :

1. ☒ Chief Information Commissioner
2. ☐ Chief Election Commissioner
3. ☐ Chief Justice of India
4. ☐ Chief Justice of High Court

Question Number : 25 Question Id : 16794319409 Question Type : MCQ Option Shuffling : Yes Display Question Number : Yes  
Single Line Question Option : No Option Orientation : Vertical  
Correct Marks : 1 Wrong Marks : 0.25

कार्यालय से \_\_\_\_\_ को हटाने के लिए भारतीय संसद में पर्याप्त प्रस्ताव (मोशन) के प्रक्रिया की आवश्यकता नहीं है।

Options :

1. ☒ मुख्य सूचना आयुक्त
2. ☐ मुख्य निर्वाचन आयुक्त
3. ☐ भारत के मुख्य न्यायाधीश



4. ✖ उच्च न्यायालय के मुख्य न्यायाधीश

Question Number : 26 Question Id : 16794319410 Question Type : MCQ Option Shuffling : Yes Display Question Number : Yes  
Single Line Question Option : No Option Orientation : Vertical

Correct Marks : 1 Wrong Marks : 0.25

Fill up the blank with the most appropriate option.

In the conduct of elections in India, if the enacted laws are silent or insufficient to deal with a given situation, the election Commission \_\_\_\_\_.

Options :

1. ✔ has the residuary powers under the Constitution to act
2. ✖ does not have the residuary powers under the Constitution
3. ✖ has to approach the Parliament
4. ✖ has to appeal to the Supreme Court

Question Number : 26 Question Id : 16794319410 Question Type : MCQ Option Shuffling : Yes Display Question Number : Yes  
Single Line Question Option : No Option Orientation : Vertical

Correct Marks : 1 Wrong Marks : 0.25

उचित विकल्प चुनकर रिक्त स्थान की पूर्ति करें।

भारत में चुनावों के आचरण में, यदि अधिनियमित कानून किसी दिए गए परिस्थिति से निपटने के लिए अनुचरित या अपर्याप्त हैं, तो चुनाव आयोग \_\_\_\_\_।

Options :

1. ✔ के पास संविधान के तहत कार्य करने के लिए अवशिष्ट अधिकार हैं
2. ✖ के पास संविधान के तहत अवशिष्ट अधिकार नहीं हैं
3. ✖ संसद से संपर्क करेगा
4. ✖ सुप्रीम कोर्ट में अपील करेगा

Question Number : 27 Question Id : 16794319411 Question Type : MCQ Option Shuffling : Yes Display Question Number : Yes  
Single Line Question Option : No Option Orientation : Vertical

Correct Marks : 1 Wrong Marks : 0.25

In which year did Indonesia host Asian Games for the first time?

Options :

1. ✓ 1962

2. ✗ 2018

3. ✗ 1951

4. ✗ 1982

Question Number : 27 Question Id : 16794319411 Question Type : MCQ Option Shuffling : Yes Display Question Number : Yes  
Single Line Question Option : No Option Orientation : Vertical

Correct Marks : 1 Wrong Marks : 0.25

इंडोनेशिया ने पहली बार एशियाई खेलों की मेज़बानी कब की थी?

Options :

1. ✓ 1962

2. ✗ 2018

3. ✗ 1951

4. ✗ 1982

Question Number : 28 Question Id : 16794319412 Question Type : MCQ Option Shuffling : Yes Display Question Number : Yes  
Single Line Question Option : No Option Orientation : Vertical

Correct Marks : 1 Wrong Marks : 0.25

How many member countries does South Asian Football Federation consist of?

Options :

1. ✓ 7

2. ✗ 8

3. ✗ 6

4. ✗ 5

Question Number : 28 Question Id : 16794319412 Question Type : MCQ Option Shuffling : Yes Display Question Number : Yes  
Single Line Question Option : No Option Orientation : Vertical

Correct Marks : 1 Wrong Marks : 0.25

दक्षिण एशियाई फुटबॉल संघ में कितने सदस्य देश शामिल हैं?

Options :

1. ✓ 7

2. ✖ 8

3. ✖ 6

4. ✖ 5

Question Number : 29 Question Id : 16794319413 Question Type : MCQ Option Shuffling : Yes Display Question Number : Yes  
Single Line Question Option : No Option Orientation : Vertical

Correct Marks : 1 Wrong Marks : 0.25

Kanheri Caves is situated inside the forests of the \_\_\_\_\_ in Maharashtra.

Options :

1. ✔ Sanjay Gandhi National Park

2. ✖ Pench National Park

3. ✖ Tadoba National Park

4. ✖ Karnala Wildlife Sanctuary

Question Number : 29 Question Id : 16794319413 Question Type : MCQ Option Shuffling : Yes Display Question Number : Yes  
Single Line Question Option : No Option Orientation : Vertical

Correct Marks : 1 Wrong Marks : 0.25

कन्हेरी गुफाएं महाराष्ट्र में \_\_\_\_\_ के जंगलों के अंदर स्थित हैं।

Options :

1. ✔ संजय गांधी राष्ट्रीय उद्यान

2. ✖ पेंच राष्ट्रीय उद्यान

3. ✖ ताडोबा राष्ट्रीय उद्यान

4. ✖ करनाल वन्यजीव अभयारण्य

Question Number : 30 Question Id : 16794319414 Question Type : MCQ Option Shuffling : Yes Display Question Number : Yes  
Single Line Question Option : No Option Orientation : Vertical

Correct Marks : 1 Wrong Marks : 0.25

What was the name of the mother of Gautam Buddha, the founder of Buddhism?

Options :

1. ✔ Mayadevi

2. ✖ Trishala

3. ✖ Tripta

4. ✖ Devaki

Question Number : 30 Question Id : 16794319414 Question Type : MCQ Option Shuffling : Yes Display Question Number : Yes  
Single Line Question Option : No Option Orientation : Vertical

Correct Marks : 1 Wrong Marks : 0.25

बौद्ध धर्म के संस्थापक गौतम बुद्ध की मां का नाम क्या था?

Options :

1. ✔ मायादेवी

2. ✖ त्रिशाला

3. ✖ तृप्ता

4. ✖ देवकी

Question Number : 31 Question Id : 16794319415 Question Type : MCQ Option Shuffling : Yes Display Question Number : Yes  
Single Line Question Option : No Option Orientation : Vertical

Correct Marks : 1 Wrong Marks : 0.25

'I'm with nature' was the theme of World Environment Day \_\_\_\_\_.

Options :

1. ✔ 2017

2. ✖ 2018

3. ✖ 2016

4. ✖ 2015

Question Number : 31 Question Id : 16794319415 Question Type : MCQ Option Shuffling : Yes Display Question Number : Yes  
Single Line Question Option : No Option Orientation : Vertical

Correct Marks : 1 Wrong Marks : 0.25

'मैं प्रकृति के साथ हूँ' यह विश्व पर्यावरण दिवस \_\_\_\_\_ का विषय था।

Options :

1. ✔ 2017

2. ✖ 2018

3. ✖ 2016

4. ✖ 2015

Question Number : 32 Question Id : 16794319416 Question Type : MCQ Option Shuffling : Yes Display Question Number : Yes  
Single Line Question Option : No Option Orientation : Vertical

Correct Marks : 1 Wrong Marks : 0.25

Which year was observed as the International Year of Freshwater?

Options :

1. ✔ 2003

2. ✖ 2004

3. ✖ 2002

4. ✖ 2001

Question Number : 32 Question Id : 16794319416 Question Type : MCQ Option Shuffling : Yes Display Question Number : Yes  
Single Line Question Option : No Option Orientation : Vertical

Correct Marks : 1 Wrong Marks : 0.25

कौन सा साल पिने का पानी (फ्रेश वाटर) के अंतर्राष्ट्रीय वर्ष के रूप में मनाया गया?

Options :

1. ✔ 2003

2. ✖ 2004

3. ✖ 2002

4. ✖ 2001

Question Number : 33 Question Id : 16794319417 Question Type : MCQ Option Shuffling : Yes Display Question Number : Yes  
Single Line Question Option : No Option Orientation : Vertical

Correct Marks : 1 Wrong Marks : 0.25

The acronym NCLT stands for National \_\_\_\_\_ Law Tribunal.

Options :

1. ✔ Company

2. ✖ Consumer

3. ✖ Cooperative

#### 4. ✖ Citizenship

Question Number : 33 Question Id : 16794319417 Question Type : MCQ Option Shuffling : Yes Display Question Number : Yes  
Single Line Question Option : No Option Orientation : Vertical

Correct Marks : 1 Wrong Marks : 0.25

NCLT नेशनल लॉ \_\_\_\_\_ ट्रिब्यूनल का संक्षिप्त रूप है।

Options :

1. ✔ कंपनी

2. ✖ कंज्यूमर

3. ✖ कोऑपरेटिव

4. ✖ सिटिज़नशिप

Question Number : 34 Question Id : 16794319418 Question Type : MCQ Option Shuffling : Yes Display Question Number : Yes  
Single Line Question Option : No Option Orientation : Vertical

Correct Marks : 1 Wrong Marks : 0.25

The term 'Heritage Circuit' is related to \_\_\_\_\_.

Options :

1. ✔ Tourism

2. ✖ Printed circuit board

3. ✖ New Seven Wonders of the World

4. ✖ Lutyens New Delhi

Question Number : 34 Question Id : 16794319418 Question Type : MCQ Option Shuffling : Yes Display Question Number : Yes  
Single Line Question Option : No Option Orientation : Vertical

Correct Marks : 1 Wrong Marks : 0.25

'हेरिटेज सर्किट' शब्द \_\_\_\_\_ से संबंधित है।

Options :

1. ✔ पर्यटन

2. ✖ मुद्रित सर्किट बोर्ड

3. ✖ दुनिया के नए सात अजुबे



4. ✖ लुटियंस नई दिल्ली

Question Number : 35 Question Id : 16794319419 Question Type : MCQ Option Shuffling : Yes Display Question Number : Yes  
Single Line Question Option : No Option Orientation : Vertical

Correct Marks : 1 Wrong Marks : 0.25

The fat content in double toned milk is around \_\_\_\_\_.

Options :

1. ✔ 1.5%

2. ✖ 4.5%

3. ✖ less than 0.5%

4. ✖ 3%

Question Number : 35 Question Id : 16794319419 Question Type : MCQ Option Shuffling : Yes Display Question Number : Yes  
Single Line Question Option : No Option Orientation : Vertical

Correct Marks : 1 Wrong Marks : 0.25

डबल टोन वाले दूध में लगभग \_\_\_\_\_ मक्खन होता है।

Options :

1. ✔ 1.5%

2. ✖ 4.5%

3. ✖ 0.5% से कम

4. ✖ 3%

Question Number : 36 Question Id : 16794319420 Question Type : MCQ Option Shuffling : Yes Display Question Number : Yes  
Single Line Question Option : No Option Orientation : Vertical

Correct Marks : 1 Wrong Marks : 0.25

Fill up the blank with the most appropriate option.

Thermoplastics are preferable for manufacturing \_\_\_\_\_.

Options :

1. ✔ toys

2. ✖ electrical switches

3. ✖ fire resistant fabrics

4. ✖ floor tiles

Question Number : 36 Question Id : 16794319420 Question Type : MCQ Option Shuffling : Yes Display Question Number : Yes  
Single Line Question Option : No Option Orientation : Vertical

Correct Marks : 1 Wrong Marks : 0.25

उचित विकल्प चुनकर रिक्त स्थान की पूर्ति करें।

थर्मोप्लास्टिक \_\_\_\_\_ के निर्माण के लिए अधिमान्य हैं।

Options :

1. ✔ खिलौनें
2. ✖ विद्युत स्विच
3. ✖ अग्नि प्रतिरोधी कपड़े
4. ✖ फर्श की टाइलें

Question Number : 37 Question Id : 16794319421 Question Type : MCQ Option Shuffling : Yes Display Question Number : Yes  
Single Line Question Option : No Option Orientation : Vertical

Correct Marks : 1 Wrong Marks : 0.25

Which organisation brought out the Report on the Global Tobacco Epidemic, 2017?

Options :

1. ✔ World Health Organisation
2. ✖ CARE International
3. ✖ United Nations Children's Fund (UNICEF)
4. ✖ United States Agency for International Development (USAID)

Question Number : 37 Question Id : 16794319421 Question Type : MCQ Option Shuffling : Yes Display Question Number : Yes  
Single Line Question Option : No Option Orientation : Vertical

Correct Marks : 1 Wrong Marks : 0.25

किस संगठन ने वैश्विक तंबाकू महामारी, 2017 पर रिपोर्ट लाई?

Options :

1. ✔ विश्व स्वास्थ्य संगठन
2. ✖ केअर (CARE) अंतरराष्ट्रीय



3. ✖ संयुक्त राष्ट्र बाल कोष (UNICEF)

4. ✖ अंतरराष्ट्रीय विकास के लिए संयुक्त राज्य एजेंसी (USAID)

Question Number : 38 Question Id : 16794319422 Question Type : MCQ Option Shuffling : Yes Display Question Number : Yes  
Single Line Question Option : No Option Orientation : Vertical

Correct Marks : 1 Wrong Marks : 0.25

As announced by the Prime Minister, India's first Indian human spaceflight mission would be launched by Indian Space Research Organisation (ISRO) by \_\_\_\_\_.

Options :

1. ✔ 2022

2. ✖ 2024

3. ✖ 2026

4. ✖ 2028

Question Number : 38 Question Id : 16794319422 Question Type : MCQ Option Shuffling : Yes Display Question Number : Yes  
Single Line Question Option : No Option Orientation : Vertical

Correct Marks : 1 Wrong Marks : 0.25

जैसा कि प्रधान मंत्री द्वारा घोषित किया गया है, भारत का पहला भारतीय मानव अंतरिक्षयान मिशन भारतीय अंतरिक्ष अनुसंधान संगठन (ISRO) द्वारा \_\_\_\_\_ तक लॉन्च किया जाएगा।

Options :

1. ✔ 2022

2. ✖ 2024

3. ✖ 2026

4. ✖ 2028

Question Number : 39 Question Id : 16794319423 Question Type : MCQ Option Shuffling : Yes Display Question Number : Yes  
Single Line Question Option : No Option Orientation : Vertical

Correct Marks : 1 Wrong Marks : 0.25

Which of the following is NOT one of the main organs of the united Nations?

Options :

1. ✔ International Monetary Fund (IMF)

2. ✖ The International Court of Justice

3. ✖ The Economic and Social Council

4. ✖ The Trusteeship Council

Question Number : 39 Question Id : 16794319423 Question Type : MCQ Option Shuffling : Yes Display Question Number : Yes  
Single Line Question Option : No Option Orientation : Vertical

Correct Marks : 1 Wrong Marks : 0.25

निम्नलिखित में कौन सा संयुक्त राष्ट्र के मुख्य अंगों में से एक नहीं है?

Options :

1. ✔ अंतरराष्ट्रीय मुद्रा कोष (IMF)

2. ✖ अंतरराष्ट्रीय न्यायालय

3. ✖ आर्थिक और सामाजिक परिषद

4. ✖ न्यासधारिता परिषद

Question Number : 40 Question Id : 16794319424 Question Type : MCQ Option Shuffling : Yes Display Question Number : Yes  
Single Line Question Option : No Option Orientation : Vertical

Correct Marks : 1 Wrong Marks : 0.25

International Union of Geological Sciences (IUGS) is \_\_\_\_\_.

Options :

1. ✔ a non-governmental organisation

2. ✖ an organ of UNESCO

3. ✖ French Government agency

4. ✖ specialised agency of the UN

Question Number : 40 Question Id : 16794319424 Question Type : MCQ Option Shuffling : Yes Display Question Number : Yes  
Single Line Question Option : No Option Orientation : Vertical

Correct Marks : 1 Wrong Marks : 0.25

भूगर्भीय विज्ञान का अंतरराष्ट्रीय संघ (IUGS) \_\_\_\_\_ है।

Options :

1. ✔ एक गैर सरकारी संगठन

2. ✖ यूनेस्को (UNESCO) का एक अंग

3. ✖ फ्रांस सरकार की एजेंसी

4. ✖ संयुक्त राष्ट्र की विशेष एजेंसी

#### Arithmetic Ability

Group Number :	3
Group Id :	167943736
Group Maximum Duration :	0
Group Minimum Duration :	0
Revisit allowed for view? :	No
Revisit allowed for edit? :	No
Break time:	0
Group Marks:	20
Revisit allowed for group Instructions? :	Yes
Maximum Instruction Time:	0
Minimum Instruction Time:	0

#### Arithmetic Ability

Section Id :	167943801
Section Number :	1
Section type :	Online
Mandatory or Optional:	Mandatory
Number of Questions:	19
Number of Questions to be attempted:	19
Section Marks:	20
Display Number Panel:	Yes
Group All Questions:	No

Sub-Section Number:	1
Sub-Section Id:	1679431235
Question Shuffling Allowed :	Yes

Question Number : 41 Question Id : 16794319425 Question Type : MCQ Option Shuffling : Yes Display Question Number : Yes  
Single Line Question Option : No Option Orientation : Vertical  
Correct Marks : 1 Wrong Marks : 0.25

The value of  $\frac{(1.9)^2 - 0.8 \times 0.64}{1.9 \times 2.7 + (0.8)^2} \times \frac{(1.6)^2 + 3.4 \times 11.56}{(0.8)^2 + (1.7)^2}$  is:

Options :

1. ✖ 6.9

2. ✖ 7.5

3. ✔ 8.8

4. ✖ 8.9

Question Number : 41 Question Id : 16794319425 Question Type : MCQ Option Shuffling : Yes Display Question Number : Yes  
Single Line Question Option : No Option Orientation : Vertical

Correct Marks : 1 Wrong Marks : 0.25

$$\frac{(1.9)^3 - 0.8 \times 0.64}{1.9 \times 2.7 + (0.8)^2} \times \frac{(1.6)^3 + 3.4 \times 11.56}{(0.8)^3 + (1.7)^3}$$
 का मान है:

Options :

1. ✖ 6.9

2. ✖ 7.5

3. ✔ 8.8

4. ✖ 8.9

Question Number : 42 Question Id : 16794319426 Question Type : MCQ Option Shuffling : Yes Display Question Number : Yes  
Single Line Question Option : No Option Orientation : Vertical

Correct Marks : 1 Wrong Marks : 0.25

If  $\frac{(4\sqrt{5} - 3\sqrt{2}) \times (3\sqrt{5} + 5\sqrt{2})}{\sqrt{45} - 3\sqrt{20} + \sqrt{80}} = a\sqrt{2} + b\sqrt{5}$  then the value of  $(a - 2b)$  is:

Options :

1. ✖ 0

2. ✖ 1

3. ✖ 3

4. ✔ -1

Question Number : 42 Question Id : 16794319426 Question Type : MCQ Option Shuffling : Yes Display Question Number : Yes  
Single Line Question Option : No Option Orientation : Vertical

Correct Marks : 1 Wrong Marks : 0.25

यदि  $\frac{(4\sqrt{5} - 3\sqrt{2}) \times (3\sqrt{5} + 5\sqrt{2})}{\sqrt{45} - 3\sqrt{20} + \sqrt{80}} = a\sqrt{2} + b\sqrt{5}$  है, तो  $(a - 2b)$  का मान है:

Options :

1. ✖ 0

2. ✖ 1

3. ✖ 3

4. ✓ -1

Question Number : 43 Question Id : 16794319427 Question Type : MCQ Option Shuffling : Yes Display Question Number : Yes  
Single Line Question Option : No Option Orientation : Vertical

Correct Marks : 1 Wrong Marks : 0.25

The value of  $\frac{\frac{3}{4} \div 2 \text{ of } \frac{2}{31} - \frac{5}{7} \div 2\frac{2}{3} \times 7\frac{3}{10}}{\left[\frac{1}{3} + 16\frac{2}{3} \times \left(\frac{1}{5} - \frac{1}{7}\right)\right] \times 4\frac{1}{2}}$  lies between:

Options :

1. ✗ 0.4 and 0.5

2. ✗ 0.5 and 0.6

3. ✓ 0.6 and 0.7

4. ✗ 0.7 and 0.8

Question Number : 43 Question Id : 16794319427 Question Type : MCQ Option Shuffling : Yes Display Question Number : Yes  
Single Line Question Option : No Option Orientation : Vertical

Correct Marks : 1 Wrong Marks : 0.25

$\frac{\frac{3}{4} \div 2 \text{ of } \frac{2}{31} - \frac{5}{7} \div 2\frac{2}{3} \times 7\frac{3}{10}}{\left[\frac{1}{3} + 16\frac{2}{3} \times \left(\frac{1}{5} - \frac{1}{7}\right)\right] \times 4\frac{1}{2}}$  का मान मध्य है:

Options :

1. ✗ 0.4 और 0.5

2. ✗ 0.5 और 0.6

3. ✓ 0.6 और 0.7

4. ✗ 0.7 और 0.8

Question Number : 44 Question Id : 16794319428 Question Type : MCQ Option Shuffling : Yes Display Question Number : Yes  
Single Line Question Option : No Option Orientation : Vertical

Correct Marks : 1 Wrong Marks : 0.25

Let  $x$  be the smallest number which when increased by 10, is divisible by each of the numbers 27, 87, 189, 203 and 261. When  $x$  is divided by 71, the quotient is:

Options :

1. ✗ 66

2. ✗ 67

3. ✓ 77

4. ✗ 78

Question Number : 44 Question Id : 16794319428 Question Type : MCQ Option Shuffling : Yes Display Question Number : Yes  
Single Line Question Option : No Option Orientation : Vertical

Correct Marks : 1 Wrong Marks : 0.25

माना कि  $x$  एक छोटी से छोटी संख्या है, जिसमें यदि 10 कि वृद्धि कि जाए, तो यह प्रत्येक संख्या 27, 87, 189, 203 और 261 से विभाज्य है।  $x$  को 71 से भाग देने पर भागफल है:

Options :

1. ✗ 66

2. ✗ 67

3. ✓ 77

4. ✗ 78

Question Number : 45 Question Id : 16794319429 Question Type : MCQ Option Shuffling : Yes Display Question Number : Yes  
Single Line Question Option : No Option Orientation : Vertical

Correct Marks : 1 Wrong Marks : 0.25

A is 15% less than B and C is 25% less than D. If D is 20% less than A, then which of the following is TRUE?

Options :

1. ✗ 85 C = 68 B

2. ✗ 68 C = 85 B

3. ✗ 51 C = 100 B

4. ✓ 100 C = 51 B

Question Number : 45 Question Id : 16794319429 Question Type : MCQ Option Shuffling : Yes Display Question Number : Yes  
Single Line Question Option : No Option Orientation : Vertical

Correct Marks : 1 Wrong Marks : 0.25

A, B से 15% कम है और C, D से 25% कम है, यदि D, A से 20% कम है, तो निम्नलिखित में से कौन सा सत्य है?

Options :

1. ✗ 85 C = 68 B

2. ✗ 68 C = 85 B



3. ✖ 51 C = 100 B

4. ✔ 100 C = 51 B

Question Number : 46 Question Id : 16794319430 Question Type : MCQ Option Shuffling : Yes Display Question Number : Yes  
Single Line Question Option : No Option Orientation : Vertical

Correct Marks : 1 Wrong Marks : 0.25

Renu can save 20% of her income every month. If her income increases by 30% and expenses income by 36%, then by what percent her new savings more or less than the earlier savings?

Options :

1. ✔ 6% more

2. ✖ 6% less

3. ✖ 8% more

4. ✖ 8% less

Question Number : 46 Question Id : 16794319430 Question Type : MCQ Option Shuffling : Yes Display Question Number : Yes  
Single Line Question Option : No Option Orientation : Vertical

Correct Marks : 1 Wrong Marks : 0.25

रेणू अपनी मासिक आय का 20% बचा सकती है। यदि उसकी आय में 30% की वृद्धि और व्यय में 36% की वृद्धि होती है, तो उसकी नई बचत पहली बचत से कितने प्रतिशत अधिक या कम है?

Options :

1. ✔ 6% अधिक

2. ✖ 6% कम

3. ✖ 8% अधिक

4. ✖ 8% कम

Question Number : 47 Question Id : 16794319431 Question Type : MCQ Option Shuffling : Yes Display Question Number : Yes  
Single Line Question Option : No Option Orientation : Vertical

Correct Marks : 1 Wrong Marks : 0.25

An article is sold at a profit of 20%. If it had purchased at 25% less and sold for ₹ 50 more, the profit would have been ₹ 410. If the same article is sold for ₹ 729.60, then loss or profit percent is:

Options :

1. ✖ Profit 8%

2. ✖ Loss 8%

3. ✖ Profit 8.8%

4. ✔ Loss 8.8%

Question Number : 47 Question Id : 16794319431 Question Type : MCQ Option Shuffling : Yes Display Question Number : Yes  
Single Line Question Option : No Option Orientation : Vertical

Correct Marks : 1 Wrong Marks : 0.25

एक वस्तु को 20% लाभ पर बेचा जाता है। यदि इसे पहले से 25% कम मूल्य पर खरिदा जाता और ₹ 50 अधिक पर बेचा जाता तो ₹ 410 का लाभ प्राप्त होता, यदि उस वस्तु को ₹ 729.60 में बेचा जाता है, तो हानी या लाभ प्रतिशत है:

Options :

1. ✖ लाभ 8%

2. ✖ हानी 8%

3. ✖ लाभ 8.8%

4. ✔ हानी 8.8%

Question Number : 48 Question Id : 16794319432 Question Type : MCQ Option Shuffling : Yes Display Question Number : Yes  
Single Line Question Option : No Option Orientation : Vertical

Correct Marks : 1 Wrong Marks : 0.25

If the selling price of an article is 40% more the cost price and the discount offered is 20%, then what is the ratio of the marked price to the cost price?

Options :

1. ✖ 5 : 3

2. ✔ 7 : 4

3. ✖ 3 : 1

4. ✖ 8 : 5

Question Number : 48 Question Id : 16794319432 Question Type : MCQ Option Shuffling : Yes Display Question Number : Yes  
Single Line Question Option : No Option Orientation : Vertical

Correct Marks : 1 Wrong Marks : 0.25

यदी किसी वस्तु का विक्रय मूल्य उसके क्रयमूल्य से 40% अधिक है और इसके अंकित मूल्य पर 20% कि छुट दी जाती हो, तो वस्तु के अंकित मूल्य और क्रयमूल्य में अनुपात है:

Options :

1. ✖ 5 : 3



2. ✓ 7 : 4

3. ✗ 3 : 1

4. ✗ 8 : 5

Question Number : 49 Question Id : 16794319433 Question Type : MCQ Option Shuffling : Yes Display Question Number : Yes  
Single Line Question Option : No Option Orientation : Vertical

Correct Marks : 1 Wrong Marks : 0.25

A teacher calculated the average marks of all the 60 students in a test. Later on, she found that she had taken a students' marks 100% more than his actual marks in the total marks. If the corrected average is 0.5 lower than the earlier one, the marks obtained by the student were:

Options :

1. ✗ 20

2. ✗ 25

3. ✓ 30

4. ✗ 32

Question Number : 49 Question Id : 16794319433 Question Type : MCQ Option Shuffling : Yes Display Question Number : Yes  
Single Line Question Option : No Option Orientation : Vertical

Correct Marks : 1 Wrong Marks : 0.25

एक अध्यापक ने किसी परीक्षा में प्राप्त सभी 60 विद्यार्थियों के अंको का औसत प्राप्तांक परिकलीत किया। बाद में, उसे पता लगा कि उसने एक विद्यार्थी के अंक उसने वास्तविक अंको से 100% अधिक ले लिये थे। यदि सही औसत प्राप्तांक पहले वाले औसत प्राप्तांक से 0.5 कम है, तो विद्यार्थी द्वारा प्राप्तांक अंक थे:

Options :

1. ✗ 20

2. ✗ 25

3. ✓ 30

4. ✗ 32

Question Number : 50 Question Id : 16794319434 Question Type : MCQ Option Shuffling : Yes Display Question Number : Yes  
Single Line Question Option : No Option Orientation : Vertical

Correct Marks : 1 Wrong Marks : 0.25

Ravi borrowed a sum of money and returned it in three equal quarterly instalments of ₹ 4394 each. if the rate of interest charged was 16% per annum compounded quarterly, then the total interest paid is: (nearest to 1)

Options :

1. ✖ ₹ 889

2. ✖ ₹ 898

3. ✖ ₹ 968

4. ✔ ₹ 988

Question Number : 50 Question Id : 16794319434 Question Type : MCQ Option Shuffling : Yes Display Question Number : Yes  
Single Line Question Option : No Option Orientation : Vertical

Correct Marks : 1 Wrong Marks : 0.25

रवि ने एक घनराशी उधार ली और उसे तीन समान त्रैमासिक किस्त में लौटा दिया, जबकी प्रत्येक किस्त ₹ 4394 की थी। यदि ब्याज की दर 16% वार्षिक हो और ब्याज त्रैमासिक संयोजित किया गया हो, तो उसने कितना ब्याज दिया?

Options :

1. ✖ ₹ 889

2. ✖ ₹ 898

3. ✖ ₹ 968

4. ✔ ₹ 988

Question Number : 51 Question Id : 16794319435 Question Type : MCQ Option Shuffling : Yes Display Question Number : Yes  
Single Line Question Option : No Option Orientation : Vertical

Correct Marks : 1 Wrong Marks : 0.25

The prices of two articles are in the ratio 4 : 5. The price of first article is increased by 25% and the other is decreased by  $x$  %, then the new ratio becomes 10 : 7. The value of  $x$  is:

Options :

1. ✖ 20

2. ✔ 30

3. ✖ 35

4. ✖ 40

Question Number : 51 Question Id : 16794319435 Question Type : MCQ Option Shuffling : Yes Display Question Number : Yes  
Single Line Question Option : No Option Orientation : Vertical

Correct Marks : 1 Wrong Marks : 0.25

दो वस्तुओं के मूल्य में 4 : 5 का अनुपात है। यदि पहली वस्तु के मूल्य में 25% की वृद्धि तथा दूसरी वस्तु के मूल्य में  $x$  % की कमी की जाती है, तो उनके नये मूल्यों में 10 : 7 का अनुपात हो जाता है।  $x$  का मान है:

Options :

1. ✖ 20

2. ✔ 30

3. ✖ 35

4. ✖ 40

Question Number : 52 Question Id : 16794319436 Question Type : MCQ Option Shuffling : Yes Display Question Number : Yes  
Single Line Question Option : No Option Orientation : Vertical

Correct Marks : 1 Wrong Marks : 0.25

Monthly incomes and expenditures of A and B are in the ratio 4 : 3 and 3 : 2, respectively. If the income of A is equal to 2.5 times the expenditure of B, then what is the ratio of monthly savings of A and B?

Options :

1. ✖ 2 : 1

2. ✖ 4 : 3

3. ✔ 8 : 7

4. ✖ 6 : 5

Question Number : 52 Question Id : 16794319436 Question Type : MCQ Option Shuffling : Yes Display Question Number : Yes  
Single Line Question Option : No Option Orientation : Vertical

Correct Marks : 1 Wrong Marks : 0.25

A और B की मासिक आयो तथा व्ययों में क्रमशः 4 : 3 और 3 : 2 के अनुपात हैं, यदि A की आय B के व्यय के 2.5 गुणे के बराबर हो, तो A और B की मासिक बचतों में अनुपात है:

Options :

1. ✖ 2 : 1

2. ✖ 4 : 3

3. ✔ 8 : 7

4. ✖ 6 : 5

Question Number : 53 Question Id : 16794319437 Question Type : MCQ Option Shuffling : Yes Display Question Number : Yes  
Single Line Question Option : No Option Orientation : Vertical

Correct Marks : 1 Wrong Marks : 0.25

A solid toy is in the form of a hemisphere surmounted by a right circular cone. The height of cone is 4 cm and the radius of the base is 3 cm. if a right circular cylinder circumscribes the solid, then how much more space (in  $\text{cm}^3$ ) the cylinder covers than the toy?

Options :

1. ✖  $34\pi$

2. ✖  $48\pi$

3. ✖  $51\pi$

4. ✔  $33\pi$

Question Number : 53 Question Id : 16794319437 Question Type : MCQ Option Shuffling : Yes Display Question Number : Yes  
Single Line Question Option : No Option Orientation : Vertical

Correct Marks : 1 Wrong Marks : 0.25

एक खिलौना एक अर्धगोले पर रखे एक सम-वृत्तीय शंकू (right angle circular) के आकार का है। शंकू की ऊँचाई 4 सेमी है तथा आधार की त्रिज्या 3 सेमी है। यदि एक सम-वृत्तीय वेलण इस ठोस के परिगत हो, तो वह उस ठोस की तुलना में कितना अधिक स्थान (सेमी<sup>3</sup> में) घरेगा?

Options :

1. ✖  $34\pi$

2. ✖  $48\pi$

3. ✖  $51\pi$

4. ✔  $33\pi$

Question Number : 54 Question Id : 16794319438 Question Type : MCQ Option Shuffling : Yes Display Question Number : Yes  
Single Line Question Option : No Option Orientation : Vertical

Correct Marks : 1 Wrong Marks : 0.25

The area of a field in the shape of an equilateral triangle is equal to the area of another triangular field having sides 80 m, 50 m and 70 m. what is the length of a side of the first field?

Options :

1. ✔  $20\sqrt{10}$  m

2. ✖  $10\sqrt{10}$  m

3. ✖  $20\sqrt{5}$  m

4. ✖  $10\sqrt{5}$  m

Question Number : 54 Question Id : 16794319438 Question Type : MCQ Option Shuffling : Yes Display Question Number : Yes  
Single Line Question Option : No Option Orientation : Vertical

Correct Marks : 1 Wrong Marks : 0.25



एक समबाहू त्रिभुजाकार मैदान का क्षेत्रफल एक अन्य मैदान जो त्रिभुजाकार है और जिसकी भुजाये 80 मी, 50 मी तथा 70 मी हैं, के बराबर है। पहले मैदान की भुजा की लंबाई क्या है?

Options :

1. ✓  $20\sqrt{10}$  मी
2. ✗  $10\sqrt{10}$  मी
3. ✗  $20\sqrt{5}$  मी
4. ✗  $10\sqrt{5}$  मी

Question Number : 55 Question Id : 16794319439 Question Type : MCQ Option Shuffling : Yes Display Question Number : Yes  
Single Line Question Option : No Option Orientation : Vertical

Correct Marks : 1 Wrong Marks : 0.25

A train running at 41 km/h crosses a man who is going with a speed of 5 km/h in the same direction in 10 seconds. If the same train crosses a woman coming from opposite direction in 8 seconds, then what is the speed in (km/h) of the woman?

Options :

1. ✗  $3\frac{1}{2}$
2. ✗ 3
3. ✗  $4\frac{1}{4}$
4. ✓ 4

Question Number : 55 Question Id : 16794319439 Question Type : MCQ Option Shuffling : Yes Display Question Number : Yes  
Single Line Question Option : No Option Orientation : Vertical

Correct Marks : 1 Wrong Marks : 0.25

41 किमी/घंटे की गति से चल रही एक रेलगाड़ी उसी दिशा में 5 किमी/घंटे की गति से जाते हुए एक व्यक्ति को 10 सेकंड में पार कर जाती है। यदि वही रेलगाड़ी एक महिला को जो विपरीत दिशा में चल रही है, 8 सेकंड में पार कर जाती है, तो महिला की गति (किमी/घं में) क्या है?

Options :

1. ✗  $3\frac{1}{2}$
2. ✗ 3

3. ✖  $4\frac{1}{4}$

4. ✔ 4

Question Number : 56 Question Id : 16794319440 Question Type : MCQ Option Shuffling : Yes Display Question Number : Yes  
Single Line Question Option : No Option Orientation : Vertical

Correct Marks : 1 Wrong Marks : 0.25

A person can cover a distance of 2 km in 40 minutes, while going upstream and takes only 12 minutes to return to the same point. How much time (in hours) will he take to cover a distance of 26 km in still water?

Options :

1. ✖ 3

2. ✖  $3\frac{1}{2}$

3. ✔ 4

4. ✖  $4\frac{1}{2}$

Question Number : 56 Question Id : 16794319440 Question Type : MCQ Option Shuffling : Yes Display Question Number : Yes  
Single Line Question Option : No Option Orientation : Vertical

Correct Marks : 1 Wrong Marks : 0.25

एक व्यक्ति 2 किमी की दूरी धारा के प्रतिकूल जाते हुए 40 मिनट में तय कर लेता है और उसी बिंदु पर लौटने के लिए केवल 12 मिनट लगते हैं। शांत जल में, 26 किमी की दूरी तय करने में व्यक्ती को कितना समय (घंटे में) लगेगा?

Options :

1. ✖ 3

2. ✖  $3\frac{1}{2}$

3. ✔ 4

4. ✖  $4\frac{1}{2}$

Question Number : 57 Question Id : 16794319441 Question Type : MCQ Option Shuffling : Yes Display Question Number : Yes  
Single Line Question Option : No Option Orientation : Vertical

Correct Marks : 1 Wrong Marks : 0.25



B takes 4 times the days taken by A and C together to do a certain work, C takes 3 times the days taken by A and B together to do the same work. All of them working together can do the same work in 12 days. A started the work and left after 9 days. B and C together will complete the remaining work in:

Options :

1. ✖ 16 days
2. ✔  $15\frac{2}{3}$  days
3. ✖ 15 days
4. ✖  $15\frac{1}{3}$  days

Question Number : 57 Question Id : 16794319441 Question Type : MCQ Option Shuffling : Yes Display Question Number : Yes  
Single Line Question Option : No Option Orientation : Vertical

Correct Marks : 1 Wrong Marks : 0.25

किसी काम को करने में A और C को मिलकर जितना समय लगता है, B को उसका 4 गुना समय लगाता है, A और B को मिलकर एक काम करने में जितना समय लगता है। C को उसका तीन गुना समय लगाता है। सभी तीनों मिलकर उस काम को 12 दिन में कर सकते हैं। A ने काम आरंभ किया और 9 दिन पश्चात काम छोड़कर चला गया। B और C मिलकर शेष काम को कितने दिनों में पूरा करेंगे?

Options :

1. ✖ 16 दिन
2. ✔  $15\frac{2}{3}$  दिन
3. ✖ 15 दिन
4. ✖  $15\frac{1}{3}$  दिन


Question Number : 58 Question Id : 16794319442 Question Type : MCQ Option Shuffling : Yes Display Question Number : Yes  
Single Line Question Option : No Option Orientation : Vertical

Correct Marks : 1 Wrong Marks : 0.25

One man and 2 women can do a piece of work in 5 days whereas 2 men and 1 woman can do it in 4 days. In what time (in days) will one man and one woman working together do it?

Options :

1. ✖ 5
2. ✖  $5\frac{1}{3}$

3.   $6\frac{2}{3}$

4.  6

Question Number : 58 Question Id : 16794319442 Question Type : MCQ Option Shuffling : Yes Display Question Number : Yes  
Single Line Question Option : No Option Orientation : Vertical


Correct Marks : 1 Wrong Marks : 0.25

एक पुरुष और 2 महिलाएं मिलकर एक काम को 5 दिन में कर सकते हैं। जबकि 2 पुरुष और एक महिला मिलकर उस काम को 4 दिन में कर सकते हैं। एक पुरुष और एक महिला मिलकर उस काम को कितने समय में (दिन में) करेंगे?

Options :

1.  5

2.   $5\frac{1}{3}$

3.   $6\frac{2}{3}$

4.  6

Sub-Section Number:	2
Sub-Section Id:	1679431236
Question Shuffling Allowed :	Yes

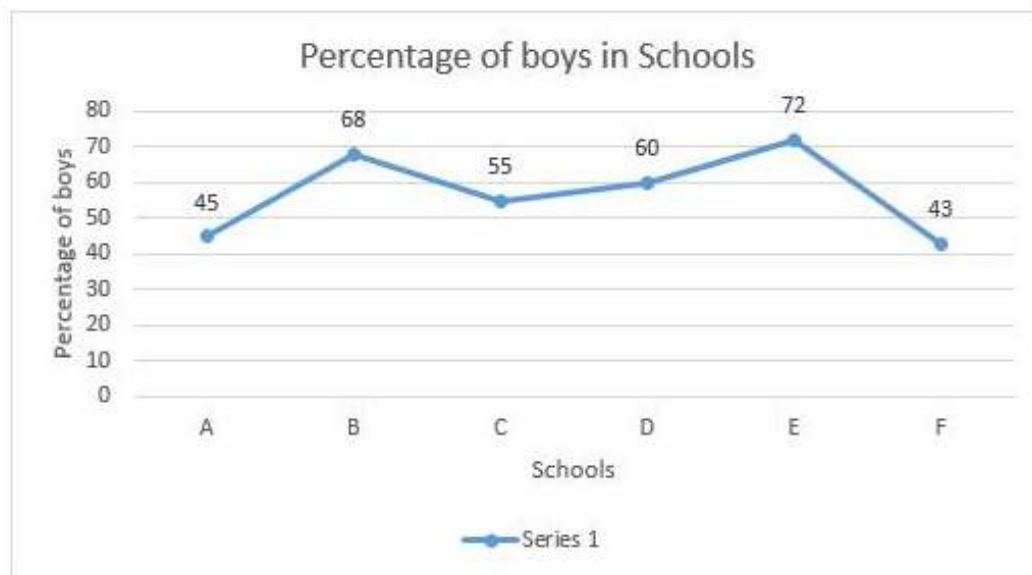
Question Id : 16794319443 Question Type : COMPREHENSION Sub Question Shuffling Allowed : Yes Group Comprehension Questions : No

Question Numbers : (59 to 60)

Question Label : Comprehension

Study the following table and graph and answer the questions.

School	A	B	C	D	E	F
No. of Students	1360	1200	1680	1020	2000	2200



Sub questions

Question Number : 59 Question Id : 16794319444 Question Type : MCQ Option Shuffling : Yes Display Question Number : Yes  
Single Line Question Option : No Option Orientation : Vertical

Correct Marks : 1 Wrong Marks : 0.25

What is the ratio of the total number of boys in schools B and C to the total number of girls in schools C and F?

Options :

- ✖ 29 : 19
- ✔ 58 : 67
- ✖ 29 : 23
- ✖ 58 : 69

Question Number : 60 Question Id : 16794319445 Question Type : MCQ Option Shuffling : Yes Display Question Number : Yes  
Single Line Question Option : No Option Orientation : Vertical

Correct Marks : 1 Wrong Marks : 0.25

The total number of girls in all the schools is less than the total number of boys in the schools by correct to one decimals place:

Options :

- ✖ 20.4%

2. ✖ 20.8%

3. ✔ 23.2%

4. ✖ 22.9%

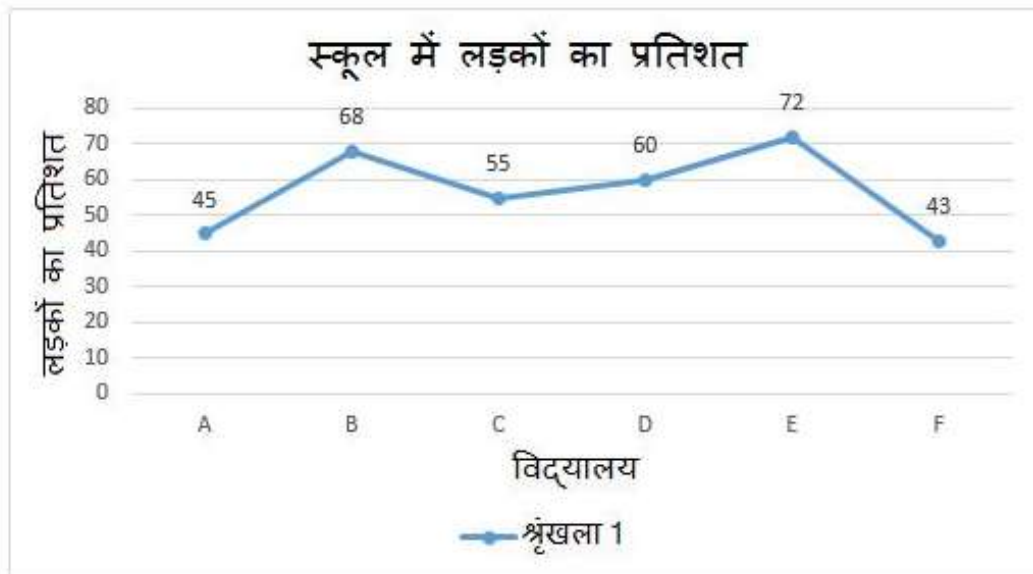
Question Id : 16794319443 Question Type : COMPREHENSION Sub Question Shuffling Allowed : Yes Group Comprehension Questions : No

Question Numbers : (59 to 60)

Question Label : Comprehension

निम्नलिखित सारणी व ग्राफ का अध्यापन करीए और प्रश्नों के उत्तर दीजिए।

विद्यालय	A	B	C	D	E	F
छात्रों की संख्या	1360	1200	1680	1020	2000	2200



Sub questions

Question Number : 59 Question Id : 16794319444 Question Type : MCQ Option Shuffling : Yes Display Question Number : Yes Single Line Question Option : No Option Orientation : Vertical

Correct Marks : 1 Wrong Marks : 0.25

विद्यालय B और C में कुल लड़कों की संख्या का  
विद्यालय C और F में कुल लड़कियों की संख्या  
से अनुपात है:

Options :

1. ✖ 29 : 19

2. ✓ 58 : 67

3. ✗ 29 : 23

4. ✗ 58 : 69

Question Number : 60 Question Id : 16794319445 Question Type : MCQ Option Shuffling : Yes Display Question Number : Yes  
Single Line Question Option : No Option Orientation : Vertical

Correct Marks : 1 Wrong Marks : 0.25

सभी विद्यालयों में लड़कियों की संख्या सभी विद्यालयों  
में लड़कों की संख्या से कितने प्रतिशत कम है?

Options :

1. ✗ 20.4%

2. ✗ 20.8%

3. ✓ 23.2%

4. ✗ 22.9%

#### General English

Group Number :	4
Group Id :	167943737
Group Maximum Duration :	0
Group Minimum Duration :	0
Revisit allowed for view? :	No
Revisit allowed for edit? :	No
Break time:	0
Group Marks:	20
Revisit allowed for group Instructions? :	Yes
Maximum Instruction Time:	0
Minimum Instruction Time:	0

#### General English

Section Id :	167943802
Section Number :	1
Section type :	Online
Mandatory or Optional:	Mandatory
Number of Questions:	16
Number of Questions to be attempted:	16
Section Marks:	20
Display Number Panel:	Yes
Group All Questions:	No

Sub-Section Number: 1  
Sub-Section Id: 1679431237  
Question Shuffling Allowed : Yes

Question Number : 61 Question Id : 16794319446 Question Type : MCQ Option Shuffling : Yes Display Question Number : Yes  
Single Line Question Option : No Option Orientation : Vertical  
Correct Marks : 1 Wrong Marks : 0.25

Choose the word which comes closest to the meaning of the word given in Capitals.

COMPEL

Options :

1.  urge
2.  force
3.  tempt
4.  persuade

Question Number : 61 Question Id : 16794319446 Question Type : MCQ Option Shuffling : Yes Display Question Number : Yes  
Single Line Question Option : No Option Orientation : Vertical  
Correct Marks : 1 Wrong Marks : 0.25

Choose the word which comes closest to the meaning of the word given in Capitals.

COMPEL

Options :

1.  urge
2.  force
3.  tempt
4.  persuade

Question Number : 62 Question Id : 16794319447 Question Type : MCQ Option Shuffling : Yes Display Question Number : Yes  
Single Line Question Option : No Option Orientation : Vertical  
Correct Marks : 1 Wrong Marks : 0.25

Choose the word which comes closest to the meaning of the word given in Capitals.

DIVERSE

Options :



1. ☒ Varied
2. ☐ Numerous
3. ☐ Different
4. ☐ Separate

Question Number : 62 Question Id : 16794319447 Question Type : MCQ Option Shuffling : Yes Display Question Number : Yes  
Single Line Question Option : No Option Orientation : Vertical

Correct Marks : 1 Wrong Marks : 0.25

Choose the word which comes closest to the meaning of the word given in Capitals.

DIVERSE

Options :

1. ☒ Varied
2. ☐ Numerous
3. ☐ Different
4. ☐ Separate

Question Number : 63 Question Id : 16794319448 Question Type : MCQ Option Shuffling : Yes Display Question Number : Yes  
Single Line Question Option : No Option Orientation : Vertical

Correct Marks : 1 Wrong Marks : 0.25

Choose the word which is opposite in meaning of the word given in Capitals.

CASUAL

Options :

1. ☐ trivial
2. ☐ carefree
3. ☒ formal
4. ☐ elegant

Question Number : 63 Question Id : 16794319448 Question Type : MCQ Option Shuffling : Yes Display Question Number : Yes  
Single Line Question Option : No Option Orientation : Vertical

Correct Marks : 1 Wrong Marks : 0.25

Choose the word which is opposite in meaning of the word given in Capitals.

CASUAL

Options :

1. ✖ trivial
2. ✖ carefree
3. ✔ formal
4. ✖ elegant

Question Number : 64 Question Id : 16794319449 Question Type : MCQ Option Shuffling : Yes Display Question Number : Yes  
Single Line Question Option : No Option Orientation : Vertical

Correct Marks : 1 Wrong Marks : 0.25

Choose the word which is opposite in meaning of the word given in Capitals.

OPPONENT

Options :

1. ✖ friend
2. ✖ enemy
3. ✖ rival
4. ✔ ally

Question Number : 64 Question Id : 16794319449 Question Type : MCQ Option Shuffling : Yes Display Question Number : Yes  
Single Line Question Option : No Option Orientation : Vertical

Correct Marks : 1 Wrong Marks : 0.25

Choose the word which is opposite in meaning of the word given in Capitals.

OPPONENT

Options :

1. ✖ friend
2. ✖ enemy
3. ✖ rival
4. ✔ ally

Question Number : 65 Question Id : 16794319450 Question Type : MCQ Option Shuffling : Yes Display Question Number : Yes  
Single Line Question Option : No Option Orientation : Vertical

Correct Marks : 1 Wrong Marks : 0.25

Choose the word/phrase that best completes the sentence.

The restaurant \_\_\_\_\_ us by charging us more than the usual rates.

Options :

1. ☒ fleeced
2. ☐ duped
3. ☐ squeezed
4. ☐ deceived

Question Number : 65 Question Id : 16794319450 Question Type : MCQ Option Shuffling : Yes Display Question Number : Yes  
Single Line Question Option : No Option Orientation : Vertical

Correct Marks : 1 Wrong Marks : 0.25

Choose the word/phrase that best completes the sentence.

The restaurant \_\_\_\_\_ us by charging us more than the usual rates.

Options :

1. ☒ fleeced
2. ☐ duped
3. ☐ squeezed
4. ☐ deceived

Question Number : 66 Question Id : 16794319451 Question Type : MCQ Option Shuffling : Yes Display Question Number : Yes  
Single Line Question Option : No Option Orientation : Vertical

Correct Marks : 1 Wrong Marks : 0.25

Choose the word/phrase that best completes the sentence.

Do not trust that man. He is an \_\_\_\_\_ crook.

Options :

1. ☐ in and out
2. ☒ out and out
3. ☐ out and outer

4. ✖ out and about

Question Number : 66 Question Id : 16794319451 Question Type : MCQ Option Shuffling : Yes Display Question Number : Yes  
Single Line Question Option : No Option Orientation : Vertical

Correct Marks : 1 Wrong Marks : 0.25

Choose the word/phrase that best completes the sentence.

Do not trust that man. He is an \_\_\_\_\_ crook.

Options :

1. ✖ in and out

2. ✔ out and out

3. ✖ out and outer

4. ✖ out and about

Question Number : 67 Question Id : 16794319452 Question Type : MCQ Option Shuffling : Yes Display Question Number : Yes  
Single Line Question Option : No Option Orientation : Vertical

Correct Marks : 1 Wrong Marks : 0.25

Choose the option that best captures the meaning of the underlined the phrase.

I don't know what they expect, but I am certainly not going to take this lying down.

Options :

1. ✖ to be cautious

2. ✖ to take rest

3. ✖ to fight back

4. ✔ to show no reaction

Question Number : 67 Question Id : 16794319452 Question Type : MCQ Option Shuffling : Yes Display Question Number : Yes  
Single Line Question Option : No Option Orientation : Vertical

Correct Marks : 1 Wrong Marks : 0.25

Choose the option that best captures the meaning of the underlined the phrase.

I don't know what they expect, but I am certainly not going to take this lying down.

Options :

1. ✖ to be cautious

2. ✖ to take rest

3. ✖ to fight back

4. ✔ to show no reaction

Question Number : 68 Question Id : 16794319453 Question Type : MCQ Option Shuffling : Yes Display Question Number : Yes  
Single Line Question Option : No Option Orientation : Vertical

Correct Marks : 1 Wrong Marks : 0.25

Choose the phrase to complete the sentence.

I used to have 20 fountain pens, I seem to have lost \_\_\_\_\_ pen.

Options :

1. ✔ a

2. ✖ an

3. ✖ the

4. ✖ no article

Question Number : 68 Question Id : 16794319453 Question Type : MCQ Option Shuffling : Yes Display Question Number : Yes  
Single Line Question Option : No Option Orientation : Vertical

Correct Marks : 1 Wrong Marks : 0.25

Choose the phrase to complete the sentence.

I used to have 20 fountain pens, I seem to have lost \_\_\_\_\_ pen.

Options :

1. ✔ a

2. ✖ an

3. ✖ the

4. ✖ no article

Question Number : 69 Question Id : 16794319454 Question Type : MCQ Option Shuffling : Yes Display Question Number : Yes  
Single Line Question Option : No Option Orientation : Vertical

Correct Marks : 1 Wrong Marks : 0.25

Choose the phrase to complete the sentence.

Do you think you could live comfortably \_\_\_\_\_ ₹ 15000 a month \_\_\_\_\_ a city like Delhi?

Options :

1. ✔ on ; in

2. ✖ in ; at

3. ✖ on ; at

4. ✖ with ; in

Question Number : 69 Question Id : 16794319454 Question Type : MCQ Option Shuffling : Yes Display Question Number : Yes  
Single Line Question Option : No Option Orientation : Vertical

Correct Marks : 1 Wrong Marks : 0.25

Choose the phrase to complete the sentence.

Do you think you could live comfortably \_\_\_\_\_ ₹ 15000 a month \_\_\_\_\_ a city like Delhi?

Options :

1. ✔ on ; in

2. ✖ in ; at

3. ✖ on ; at

4. ✖ with ; in

Question Number : 70 Question Id : 16794319455 Question Type : MCQ Option Shuffling : Yes Display Question Number : Yes  
Single Line Question Option : No Option Orientation : Vertical

Correct Marks : 1 Wrong Marks : 0.25

Choose the phrase to complete the sentence.

All flowers in the garden \_\_\_\_\_ due to excessive heat.

Options :

1. ✖ were died

2. ✔ have died

3. ✖ have been died

4. ✖ were being died

Question Number : 70 Question Id : 16794319455 Question Type : MCQ Option Shuffling : Yes Display Question Number : Yes  
Single Line Question Option : No Option Orientation : Vertical

Correct Marks : 1 Wrong Marks : 0.25

Choose the phrase to complete the sentence.

All flowers in the garden \_\_\_\_\_ due to excessive heat.



Options :

1. ✖ were died
2. ✔ have died
3. ✖ have been died
4. ✖ were being died

Question Number : 71 Question Id : 16794319456 Question Type : MCQ Option Shuffling : Yes Display Question Number : Yes  
Single Line Question Option : No Option Orientation : Vertical

Correct Marks : 1 Wrong Marks : 0.25

Choose the phrase to complete the sentence.

If Mark had gotten the job instead of Joe, he \_\_\_\_\_ to Shanghai next month

Options :

1. ✖ would move
2. ✖ would be moving
3. ✔ would have moved
4. ✖ would have been going

Question Number : 71 Question Id : 16794319456 Question Type : MCQ Option Shuffling : Yes Display Question Number : Yes  
Single Line Question Option : No Option Orientation : Vertical

Correct Marks : 1 Wrong Marks : 0.25

Choose the phrase to complete the sentence.

If Mark had gotten the job instead of Joe, he \_\_\_\_\_ to Shanghai next month

Options :

1. ✖ would move
2. ✖ would be moving
3. ✔ would have moved
4. ✖ would have been going

Question Number : 72 Question Id : 16794319457 Question Type : MCQ Option Shuffling : Yes Display Question Number : Yes  
Single Line Question Option : No Option Orientation : Vertical

Correct Marks : 1 Wrong Marks : 0.25

Choose the phrase to complete the sentence.

Excuse me, do you know \_\_\_\_\_ a bank near here?

Options :

1. ✖ where is
2. ✔ if there is
3. ✖ if is there
4. ✖ whether is

Question Number : 72 Question Id : 16794319457 Question Type : MCQ Option Shuffling : Yes Display Question Number : Yes  
Single Line Question Option : No Option Orientation : Vertical

Correct Marks : 1 Wrong Marks : 0.25

Choose the phrase to complete the sentence.

Excuse me, do you know \_\_\_\_\_ a bank near here?

Options :

1. ✖ where is
2. ✔ if there is
3. ✖ if is there
4. ✖ whether is

Question Number : 73 Question Id : 16794319458 Question Type : MCQ Option Shuffling : Yes Display Question Number : Yes  
Single Line Question Option : No Option Orientation : Vertical

Correct Marks : 1 Wrong Marks : 0.25

Choose the phrase to complete the sentence.

They talked me into \_\_\_\_\_ my plans.

Options :

1. ✖ change
2. ✖ changes
3. ✔ changing
4. ✖ changed

Question Number : 73 Question Id : 16794319458 Question Type : MCQ Option Shuffling : Yes Display Question Number : Yes  
Single Line Question Option : No Option Orientation : Vertical

Correct Marks : 1 Wrong Marks : 0.25

Choose the phrase to complete the sentence.

They talked me into \_\_\_\_\_ my plans.

Options :

1. ✖ change
2. ✖ changes
3. ✔ changing
4. ✖ changed

Question Number : 74 Question Id : 16794319459 Question Type : MCQ Option Shuffling : Yes Display Question Number : Yes  
Single Line Question Option : No Option Orientation : Vertical

Correct Marks : 1 Wrong Marks : 0.25

Choose the sentence that is grammatically well formed.

Options :

1. ✔ Who do you think knows the truth that the man is a crook?
2. ✖ Who do you think knows the truth that is a crook?
3. ✖ What do you think knows the truth that man is?
4. ✖ Who do you think knows the truth who the man is a crook?

Question Number : 74 Question Id : 16794319459 Question Type : MCQ Option Shuffling : Yes Display Question Number : Yes  
Single Line Question Option : No Option Orientation : Vertical

Correct Marks : 1 Wrong Marks : 0.25

Choose the sentence that is grammatically well formed.

Options :

1. ✔ Who do you think knows the truth that the man is a crook?
2. ✖ Who do you think knows the truth that is a crook?
3. ✖ What do you think knows the truth that man is?
4. ✖ Who do you think knows the truth who the man is a crook?

Question Number : 75 Question Id : 16794319460 Question Type : MCQ Option Shuffling : Yes Display Question Number : Yes  
Single Line Question Option : No Option Orientation : Vertical

Correct Marks : 1 Wrong Marks : 0.25

Choose the sentence that is grammatically well formed.

Options :

1. ✖ If you want to become a good dancer, then you start early.
2. ✔ If you want to become a good dancer, you need to start early.
3. ✖ You want to become a good dancer, if you start early.
4. ✖ If you want to become a good dancer, when you start early.

Question Number : 75 Question Id : 16794319460 Question Type : MCQ Option Shuffling : Yes Display Question Number : Yes  
Single Line Question Option : No Option Orientation : Vertical

Correct Marks : 1 Wrong Marks : 0.25

Choose the sentence that is grammatically well formed.

Options :

1. ✖ If you want to become a good dancer, then you start early.
2. ✔ If you want to become a good dancer, you need to start early.
3. ✖ You want to become a good dancer, if you start early.
4. ✖ If you want to become a good dancer, when you start early.

Sub-Section Number:	2
Sub-Section Id:	1679431238
Question Shuffling Allowed :	Yes

Question Id : 16794319461 Question Type : COMPREHENSION Sub Question Shuffling Allowed : Yes Group Comprehension  
Questions : No

Question Numbers : (76 to 80)

Question Label : Comprehension



Read the passage carefully and answer the questions that follow.

Jeans are pants made from denim or dungaree cloth. They were invented by Jacob Davis and Levi Strauss in 1873, which is worn still but in a different context. Jeans are named after the city of Genoa in Italy, a place where cotton corduroy, called either jean or jeane, was manufactured. Levi Strauss came from Germany to New York in 1851 to join his older brother who had a dry goods store.

In 1853 he heard about Gold Rush in the West so moved to San Francisco to establish Western Branch of the family dry goods business. There he sold, among other things, cotton cloth. One of his customers was Jacob W. Davis, a tailor from Reno, Nevada. Davis made functional items such as tents, horse blankets, and wagon covers.

One day, his customer ordered a pair of sturdy pants that could withstand hard work. He made them from denim that he bought from Levi Strauss & Co and made them stronger by placing copper rivets at the places pants rip the most: pockets and flies. When he wanted to patent them, he wrote to Levi Strauss, and they became partners. They opened a bigger factory, and that is how jeans were born.

#### Sub questions

Question Number : 76 Question Id : 16794319462 Question Type : MCQ Option Shuffling : Yes Display Question Number : Yes  
Single Line Question Option : No Option Orientation : Vertical  
Correct Marks : 1 Wrong Marks : 0.25

In paragraph 1, 'which is still worn...' what does which refer to?

Options :


1. ☒ Jeans
2. ☐ Denim cloth
3. ☐ Pants
4. ☐ Corduroy

Question Number : 77 Question Id : 16794319463 Question Type : MCQ Option Shuffling : Yes Display Question Number : Yes  
Single Line Question Option : No Option Orientation : Vertical  
Correct Marks : 1 Wrong Marks : 0.25

What kind of goods was sold in Strauss' store?

Options :

1. ☐ trousers
2. ☐ Spices

3.  Textile


4.  Gold


Question Number : 78 Question Id : 16794319464 Question Type : MCQ Option Shuffling : Yes Display Question Number : Yes  
Single Line Question Option : No Option Orientation : Vertical

Correct Marks : 1 Wrong Marks : 0.25


Which of these statements is not true about Jacob Davis?

Options :

1.  He was a tailor.

2.  He stitched horse blankets and tents.

3.  He travelled from New York to San Francisco.


4.  He became Levi Strauss' partner.


Question Number : 79 Question Id : 16794319465 Question Type : MCQ Option Shuffling : Yes Display Question Number : Yes  
Single Line Question Option : No Option Orientation : Vertical


Correct Marks : 1 Wrong Marks : 0.25


Why did Jacob Davis use rivets?

Options :

1.  to stop the pockets and flies from tearing

2.  to decorate the pockets and flies

3.  to hold the pants up

4.  to tighten the pockets


Question Number : 80 Question Id : 16794319466 Question Type : MCQ Option Shuffling : Yes Display Question Number : Yes  
Single Line Question Option : No Option Orientation : Vertical


Correct Marks : 1 Wrong Marks : 0.25

The meaning of the word 'functional' in the text is:

Options :

1.  basic

2.  practical

3.  working



4. ✖ simple

Question Id : 16794319461 Question Type : COMPREHENSION Sub Question Shuffling Allowed : Yes Group Comprehension Questions : No

Question Numbers : (76 to 80)

Question Label : Comprehension

Read the passage carefully and answer the questions that follow.

Jeans are pants made from denim or dungaree cloth. They were invented by Jacob Davis and Levi Strauss in 1873, which is worn still but in a different context. Jeans are named after the city of Genoa in Italy, a place where cotton corduroy, called either jean or jeane, was manufactured. Levi Strauss came from Germany to New York in 1851 to join his older brother who had a dry goods store.

In 1853 he heard about Gold Rush in the West so moved to San Francisco to establish Western Branch of the family dry goods business. There he sold, among other things, cotton cloth. One of his customers was Jacob W. Davis, a tailor from Reno, Nevada. Davis made functional items such as tents, horse blankets, and wagon covers.

One day, his customer ordered a pair of sturdy pants that could withstand hard work. He made them from denim that he bought from Levi Strauss & Co and made them stronger by placing copper rivets at the places pants rip the most: pockets and flies. When he wanted to patent them, he wrote to Levi Strauss, and they became partners. They opened a bigger factory, and that is how jeans were born.

Sub questions

Question Number : 76 Question Id : 16794319462 Question Type : MCQ Option Shuffling : Yes Display Question Number : Yes Single Line Question Option : No Option Orientation : Vertical

Correct Marks : 1 Wrong Marks : 0.25

In paragraph 1, 'which is still worn...' what does which refer to?

Options :

1. ✔ Jeans

2. ✖ Denim cloth

3. ✖ Pants

4. ✖ Corduroy

Question Number : 77 Question Id : 16794319463 Question Type : MCQ Option Shuffling : Yes Display Question Number : Yes Single Line Question Option : No Option Orientation : Vertical

Correct Marks : 1 Wrong Marks : 0.25

What kind of goods was sold in Strauss' store?

Options :

1. ✖ trousers
2. ✖ Spices
3. ✔ Textile
4. ✖ Gold

Question Number : 78 Question Id : 16794319464 Question Type : MCQ Option Shuffling : Yes Display Question Number : Yes  
Single Line Question Option : No Option Orientation : Vertical

Correct Marks : 1 Wrong Marks : 0.25

Which of these statements is not true about Jacob Davis?

Options :

1. ✖ He was a tailor.
2. ✖ He stitched horse blankets and tents.
3. ✔ He travelled from New York to San Francisco.
4. ✖ He became Levi Strauss' partner.

Question Number : 79 Question Id : 16794319465 Question Type : MCQ Option Shuffling : Yes Display Question Number : Yes  
Single Line Question Option : No Option Orientation : Vertical

Correct Marks : 1 Wrong Marks : 0.25

Why did Jacob Davis use rivets?

Options :

1. ✔ to stop the pockets and flies from tearing
2. ✖ to decorate the pockets and flies
3. ✖ to hold the pants up
4. ✖ to tighten the pockets

Question Number : 80 Question Id : 16794319466 Question Type : MCQ Option Shuffling : Yes Display Question Number : Yes  
Single Line Question Option : No Option Orientation : Vertical

Correct Marks : 1 Wrong Marks : 0.25

The meaning of the word 'functional' in the text is:

Options :

1. ✖ basic
2. ✔ practical
3. ✖ working
4. ✖ simple

#### General Hindi

Group Number :	5
Group Id :	167943738
Group Maximum Duration :	0
Group Minimum Duration :	0
Revisit allowed for view? :	No
Revisit allowed for edit? :	No
Break time:	0
Group Marks:	20
Revisit allowed for group Instructions? :	Yes
Maximum Instruction Time:	0
Minimum Instruction Time:	0

#### General Hindi

Section Id :	167943803
Section Number :	1
Section type :	Online
Mandatory or Optional:	Mandatory
Number of Questions:	16
Number of Questions to be attempted:	16
Section Marks:	20
Display Number Panel:	Yes
Group All Questions:	No

Sub-Section Number:	1
Sub-Section Id:	1679431239
Question Shuffling Allowed :	Yes

Question Id : 16794319467 Question Type : COMPREHENSION Sub Question Shuffling Allowed : Yes Group Comprehension Questions : No

Question Numbers : (81 to 85)

Question Label : Comprehension

नीचे दिये गए गद्यांश को पढ़कर पूछे गये प्रश्नों के उत्तर दीजिए।

1936 ई. में प्रगतिशील लेखक संघ की स्थापना के बाद हिन्दी में मार्क्सवादी आलोचना का उदय हुआ। 1937 ई. के विशाल भारत में शिवदान सिंह चौहान का भारत में प्रगतिशील साहित्य की आवश्यकता नामक लेख प्रकाशित हुआ। इसमें हिन्दी साहित्य की पड़ताल की गई है और समय की मांग को ध्यान में रखते हुए प्रगतिशील साहित्य की रचना की आवश्यकता बताई गई है। इस प्रकार मार्क्सवादी आलोचना का उदय 1940 ई. के पूर्व ही हो चुका था। प्रकाशचंद्र गुप्त और डॉ. रामविलास शर्मा ने इस धारा को आगे बढ़ाया।

Sub questions

Question Number : 81 Question Id : 16794319468 Question Type : MCQ Option Shuffling : Yes Display Question Number : Yes  
Single Line Question Option : No Option Orientation : Vertical

Correct Marks : 1 Wrong Marks : 0.25

प्रगतिशील लेखक संघ की स्थापना हुई:

Options :

1. ✓ 1936
2. ✗ 1937
3. ✗ 1940
4. ✗ 1942

Question Number : 82 Question Id : 16794319469 Question Type : MCQ Option Shuffling : Yes Display Question Number : Yes  
Single Line Question Option : No Option Orientation : Vertical

Correct Marks : 1 Wrong Marks : 0.25

शिवदान सिंह चौहान का उल्लिखित लेख कहाँ प्रकाशित हुआ?

Options :

1. ✗ यंग इंडिया
2. ✓ विशाल भारत
3. ✗ समृद्ध भारत



4. ✖ हंस

Question Number : 83 Question Id : 16794319470 Question Type : MCQ Option Shuffling : Yes Display Question Number : Yes  
Single Line Question Option : No Option Orientation : Vertical  
Correct Marks : 1 Wrong Marks : 0.25

मार्क्सवादी आलोचना को किसने आगे बढ़ाया?

Options :

1. ✖ रामचन्द्र शुक्ल

2. ✖ हजारीप्रसाद द्विवेदी

3. ✖ नन्ददुलारे बाजपेयी

4. ✔ रामविलास शर्मा

Question Number : 84 Question Id : 16794319471 Question Type : MCQ Option Shuffling : Yes Display Question Number : Yes  
Single Line Question Option : No Option Orientation : Vertical  
Correct Marks : 1 Wrong Marks : 0.25

प्रगतिशील लेखक संघ की स्थापना के बाद हिन्दी में  
किस आलोचना का उदय हुआ?

Options :

1. ✖ अनुसंधानपरक आलोचना

2. ✖ सौंदर्यवादी आलोचना

3. ✔ मार्क्सवादी आलोचना

4. ✖ कलावादी आलोचना

Question Number : 85 Question Id : 16794319472 Question Type : MCQ Option Shuffling : Yes Display Question Number : Yes  
Single Line Question Option : No Option Orientation : Vertical  
Correct Marks : 1 Wrong Marks : 0.25

शिवदान सिंह चौहान के लेख का शीर्षक है:

Options :

1. ✖ भारत में प्रगतिशील साहित्य

2. ✖ भारत में प्रगतिशील साहित्य का महत्व

3. ✖ भारत में प्रगतिशील साहित्य की प्रासंगिकता

4. ✔ भारत में प्रगतिशील साहित्य की आवश्यकता

Question Id : 16794319467 Question Type : COMPREHENSION Sub Question Shuffling Allowed : Yes Group Comprehension Questions : No

Question Numbers : (81 to 85)

Question Label : Comprehension

नीचे दिये गए गद्यांश को पढ़कर पूछे गये प्रश्नों के उत्तर दीजिए।

1936 ई. में प्रगतिशील लेखक संघ की स्थापना के बाद हिन्दी में मार्क्सवादी आलोचना का उदय हुआ। 1937 ई. के विशाल भारत में शिवदान सिंह चौहान का भारत में प्रगतिशील साहित्य की आवश्यकता नामक लेख प्रकाशित हुआ। इसमें हिन्दी साहित्य की पड़ताल की गई है और समय की मांग को ध्यान में रखते हुए प्रगतिशील साहित्य की रचना की आवश्यकता बताई गई है। इस प्रकार मार्क्सवादी आलोचना का उदय 1940 ई. के पूर्व ही हो चुका था। प्रकाशचंद्र गुप्त और डॉ. रामविलास शर्मा ने इस धारा को आगे बढ़ाया।

Sub questions

Question Number : 81 Question Id : 16794319468 Question Type : MCQ Option Shuffling : Yes Display Question Number : Yes Single Line Question Option : No Option Orientation : Vertical

Correct Marks : 1 Wrong Marks : 0.25

प्रगतिशील लेखक संघ की स्थापना हुई:

Options :

1. ✔ 1936

2. ✖ 1937

3. ✖ 1940

4. ✖ 1942

Question Number : 82 Question Id : 16794319469 Question Type : MCQ Option Shuffling : Yes Display Question Number : Yes Single Line Question Option : No Option Orientation : Vertical

Correct Marks : 1 Wrong Marks : 0.25

शिवदान सिंह चौहान का उल्लिखित लेख कहाँ प्रकाशित हुआ?

Options :



1. ✖ यंग इंडिया
2. ✔ विशाल भारत
3. ✖ समृद्ध भारत
4. ✖ हंस

Question Number : 83 Question Id : 16794319470 Question Type : MCQ Option Shuffling : Yes Display Question Number : Yes  
Single Line Question Option : No Option Orientation : Vertical  
Correct Marks : 1 Wrong Marks : 0.25

मार्क्सवादी आलोचना को किसने आगे बढ़ाया?

Options :

1. ✖ रामचन्द्र शुक्ल
2. ✖ हजारीप्रसाद द्विवेदी
3. ✖ नन्ददुलारे बाजपेयी
4. ✔ रामविलास शर्मा

Question Number : 84 Question Id : 16794319471 Question Type : MCQ Option Shuffling : Yes Display Question Number : Yes  
Single Line Question Option : No Option Orientation : Vertical  
Correct Marks : 1 Wrong Marks : 0.25

प्रगतिशील लेखक संघ की स्थापना के बाद हिन्दी में  
किस आलोचना का उदय हुआ?

Options :

1. ✖ अनुसंधानपरक आलोचना
2. ✖ सौंदर्यवादी आलोचना
3. ✔ मार्क्सवादी आलोचना
4. ✖ कलावादी आलोचना

Question Number : 85 Question Id : 16794319472 Question Type : MCQ Option Shuffling : Yes Display Question Number : Yes  
Single Line Question Option : No Option Orientation : Vertical  
Correct Marks : 1 Wrong Marks : 0.25

शिवदान सिंह चौहान के लेख का शीर्षक है:

Options :

1. ✖ भारत में प्रगतिशील साहित्य
2. ✖ भारत में प्रगतिशील साहित्य का महत्व
3. ✖ भारत में प्रगतिशील साहित्य की प्रासंगिकता
4. ✔ भारत में प्रगतिशील साहित्य की आवश्यकता

Sub-Section Number:

2

Sub-Section Id:

1679431240

Question Shuffling Allowed :

Yes

Question Number : 86 Question Id : 16794319473 Question Type : MCQ Option Shuffling : Yes Display Question Number : Yes  
Single Line Question Option : No Option Orientation : Vertical

Correct Marks : 1 Wrong Marks : 0.25

निम्नलिखित में कौन सा शब्द तत्सम है?

Options :

1. ✖ मुखिया
2. ✖ मीठा
3. ✔ मित्र
4. ✖ मूँछ

Question Number : 86 Question Id : 16794319473 Question Type : MCQ Option Shuffling : Yes Display Question Number : Yes  
Single Line Question Option : No Option Orientation : Vertical

Correct Marks : 1 Wrong Marks : 0.25

निम्नलिखित में कौन सा शब्द तत्सम है?

Options :

1. ✖ मुखिया
2. ✖ मीठा
3. ✔ मित्र

4. ✖ मूँछ

Question Number : 87 Question Id : 16794319474 Question Type : MCQ Option Shuffling : Yes Display Question Number : Yes  
Single Line Question Option : No Option Orientation : Vertical

Correct Marks : 1 Wrong Marks : 0.25

निम्नलिखित में तद्रव शब्द कौन सा है?

Options :

1. ✖ द्वार

2. ✔ बिजली

3. ✖ वाम

4. ✖ वारिद

Question Number : 87 Question Id : 16794319474 Question Type : MCQ Option Shuffling : Yes Display Question Number : Yes  
Single Line Question Option : No Option Orientation : Vertical

Correct Marks : 1 Wrong Marks : 0.25

निम्नलिखित में तद्रव शब्द कौन सा है?

Options :

1. ✖ द्वार

2. ✔ बिजली

3. ✖ वाम

4. ✖ वारिद

Question Number : 88 Question Id : 16794319475 Question Type : MCQ Option Shuffling : Yes Display Question Number : Yes  
Single Line Question Option : No Option Orientation : Vertical

Correct Marks : 1 Wrong Marks : 0.25

निम्नलिखित में व्यक्तिवाचक संज्ञा कौन सी है?

Options :

1. ✔ वाराणसी

2. ✖ नुकीला

3. ✖ कलम

4. ✖ तेल

Question Number : 88 Question Id : 16794319475 Question Type : MCQ Option Shuffling : Yes Display Question Number : Yes  
Single Line Question Option : No Option Orientation : Vertical

Correct Marks : 1 Wrong Marks : 0.25

निम्नलिखित में व्यक्तिवाचक संज्ञा कौन सी है?

Options :

1. ✔ वाराणसी

2. ✖ नुकीला

3. ✖ कलम

4. ✖ तेल

Question Number : 89 Question Id : 16794319476 Question Type : MCQ Option Shuffling : Yes Display Question Number : Yes  
Single Line Question Option : No Option Orientation : Vertical

Correct Marks : 1 Wrong Marks : 0.25

अन्य पुरुष सर्वनाम है:

Options :

1. ✖ मैं

2. ✖ तुम

3. ✔ वह

4. ✖ जो

Question Number : 89 Question Id : 16794319476 Question Type : MCQ Option Shuffling : Yes Display Question Number : Yes  
Single Line Question Option : No Option Orientation : Vertical

Correct Marks : 1 Wrong Marks : 0.25

अन्य पुरुष सर्वनाम है:

Options :

1. ✖ मैं

2. ✖ तुम

3. ✔ वह

4. ✖ जो

Question Number : 90 Question Id : 16794319477 Question Type : MCQ Option Shuffling : Yes Display Question Number : Yes  
Single Line Question Option : No Option Orientation : Vertical

Correct Marks : 1 Wrong Marks : 0.25

निम्नलिखित में कौन सा शब्द अव्यय है?

Options :

1. ✖ सफेद

2. ✖ मौसमी

3. ✖ भीतरी

4. ✔ किन्तु

Question Number : 90 Question Id : 16794319477 Question Type : MCQ Option Shuffling : Yes Display Question Number : Yes  
Single Line Question Option : No Option Orientation : Vertical

Correct Marks : 1 Wrong Marks : 0.25

निम्नलिखित में कौन सा शब्द अव्यय है?

Options :

1. ✖ सफेद

2. ✖ मौसमी

3. ✖ भीतरी

4. ✔ किन्तु

Question Number : 91 Question Id : 16794319478 Question Type : MCQ Option Shuffling : Yes Display Question Number : Yes  
Single Line Question Option : No Option Orientation : Vertical

Correct Marks : 1 Wrong Marks : 0.25

‘वयोवृद्ध’ का संधि विच्छेद होगा:

Options :

1. ✔ वयः + वृद्ध

2. ✖ वय + वृद्ध

3. ✖ वया + वृद्ध

4. ✖ वयो + वृद्ध

Question Number : 91 Question Id : 16794319478 Question Type : MCQ Option Shuffling : Yes Display Question Number : Yes  
Single Line Question Option : No Option Orientation : Vertical

Correct Marks : 1 Wrong Marks : 0.25

‘वयोवृद्ध’ का संधि विच्छेद होगा:

Options :

1. ✔ वयः + वृद्ध

2. ✖ वय + वृद्ध

3. ✖ वया + वृद्ध

4. ✖ वयो + वृद्ध

Question Number : 92 Question Id : 16794319479 Question Type : MCQ Option Shuffling : Yes Display Question Number : Yes  
Single Line Question Option : No Option Orientation : Vertical

Correct Marks : 1 Wrong Marks : 0.25

‘एकाएक’ में समास है:

Options :

1. ✖ तत्पुरुष

2. ✔ अव्ययीभाव

3. ✖ कर्मधारय

4. ✖ बहुव्रीहि

Question Number : 92 Question Id : 16794319479 Question Type : MCQ Option Shuffling : Yes Display Question Number : Yes  
Single Line Question Option : No Option Orientation : Vertical

Correct Marks : 1 Wrong Marks : 0.25

‘एकाएक’ में समास है:

Options :

1. ✖ तत्पुरुष

2. ✔ अव्ययीभाव

3. ✖ कर्मधारय



4. ✖ बहुब्रीहि

Question Number : 93 Question Id : 16794319480 Question Type : MCQ Option Shuffling : Yes Display Question Number : Yes  
Single Line Question Option : No Option Orientation : Vertical

Correct Marks : 1 Wrong Marks : 0.25

निम्नलिखित में कौन सा शब्द पुल्लिङ्ग है?

Options :

1. ✖ ईर्ष्या

2. ✖ उड़ान

3. ✖ उपासना

4. ✔ आविर्भाव

Question Number : 93 Question Id : 16794319480 Question Type : MCQ Option Shuffling : Yes Display Question Number : Yes  
Single Line Question Option : No Option Orientation : Vertical

Correct Marks : 1 Wrong Marks : 0.25

निम्नलिखित में कौन सा शब्द पुल्लिङ्ग है?

Options :

1. ✖ ईर्ष्या

2. ✖ उड़ान

3. ✖ उपासना

4. ✔ आविर्भाव

Question Number : 94 Question Id : 16794319481 Question Type : MCQ Option Shuffling : Yes Display Question Number : Yes  
Single Line Question Option : No Option Orientation : Vertical

Correct Marks : 1 Wrong Marks : 0.25

‘अभिमुख’ में उपसर्ग है:

Options :

1. ✖ अ

2. ✖ आ

3. ✔ अभि

4. ✖ मुख

Question Number : 94 Question Id : 16794319481 Question Type : MCQ Option Shuffling : Yes Display Question Number : Yes  
Single Line Question Option : No Option Orientation : Vertical  
Correct Marks : 1 Wrong Marks : 0.25

‘अभिमुख’ में उपसर्ग है:

Options :

1. ✖ अ

2. ✖ आ

3. ✔ अभि

4. ✖ मुख

Question Number : 95 Question Id : 16794319482 Question Type : MCQ Option Shuffling : Yes Display Question Number : Yes  
Single Line Question Option : No Option Orientation : Vertical  
Correct Marks : 1 Wrong Marks : 0.25

‘पुष्पित’ में प्रत्यय है:

Options :

1. ✖ त

2. ✔ इत

3. ✖ पत

4. ✖ पु

Question Number : 95 Question Id : 16794319482 Question Type : MCQ Option Shuffling : Yes Display Question Number : Yes  
Single Line Question Option : No Option Orientation : Vertical  
Correct Marks : 1 Wrong Marks : 0.25

‘पुष्पित’ में प्रत्यय है:

Options :

1. ✖ त

2. ✔ इत

3. ✖ पत

4. ✖ पु

Question Number : 96 Question Id : 16794319483 Question Type : MCQ Option Shuffling : Yes Display Question Number : Yes  
Single Line Question Option : No Option Orientation : Vertical

Correct Marks : 1 Wrong Marks : 0.25

‘देवता’ का पर्यायवाची है:

Options :

1. ✔ सुर

2. ✖ असुर

3. ✖ पावक

4. ✖ दनुज

Question Number : 96 Question Id : 16794319483 Question Type : MCQ Option Shuffling : Yes Display Question Number : Yes  
Single Line Question Option : No Option Orientation : Vertical

Correct Marks : 1 Wrong Marks : 0.25

‘देवता’ का पर्यायवाची है:

Options :

1. ✔ सुर

2. ✖ असुर

3. ✖ पावक

4. ✖ दनुज

Question Number : 97 Question Id : 16794319484 Question Type : MCQ Option Shuffling : Yes Display Question Number : Yes  
Single Line Question Option : No Option Orientation : Vertical

Correct Marks : 1 Wrong Marks : 0.25

‘स्वदेश’ का विलोम होगा:

Options :

1. ✖ देश

2. ✔ परदेश

3. ✖ प्रांत

4. ✖ ब्रह्माण्ड

Question Number : 97 Question Id : 16794319484 Question Type : MCQ Option Shuffling : Yes Display Question Number : Yes  
Single Line Question Option : No Option Orientation : Vertical

Correct Marks : 1 Wrong Marks : 0.25

‘स्वदेश’ का विलोम होगा:

Options :

1. ✖ देश

2. ✔ परदेश

3. ✖ प्रांत

4. ✖ ब्रह्माण्ड

Question Number : 98 Question Id : 16794319485 Question Type : MCQ Option Shuffling : Yes Display Question Number : Yes  
Single Line Question Option : No Option Orientation : Vertical

Correct Marks : 1 Wrong Marks : 0.25

‘संचय किया हुआ’ के लिए एक शब्द होगा:

Options :

1. ✖ प्राकृतिक

2. ✖ कृत्रिम

3. ✔ संचित

4. ✖ गोपनीय

Question Number : 98 Question Id : 16794319485 Question Type : MCQ Option Shuffling : Yes Display Question Number : Yes  
Single Line Question Option : No Option Orientation : Vertical

Correct Marks : 1 Wrong Marks : 0.25

‘संचय किया हुआ’ के लिए एक शब्द होगा:

Options :

1. ✖ प्राकृतिक

2. ✖ कृत्रिम

3. ✓ संचित

4. ✗ गोपनीय

Question Number : 99 Question Id : 16794319486 Question Type : MCQ Option Shuffling : Yes Display Question Number : Yes  
Single Line Question Option : No Option Orientation : Vertical

Correct Marks : 1 Wrong Marks : 0.25

निम्नलिखित में सही वर्तनी वाला शब्द है:

Options :

1. ✗ मान्यनिय

2. ✗ मान्यनीय

3. ✗ माननिय

4. ✓ माननीय

Question Number : 99 Question Id : 16794319486 Question Type : MCQ Option Shuffling : Yes Display Question Number : Yes  
Single Line Question Option : No Option Orientation : Vertical

Correct Marks : 1 Wrong Marks : 0.25

निम्नलिखित में सही वर्तनी वाला शब्द है:

Options :

1. ✗ मान्यनिय

2. ✗ मान्यनीय

3. ✗ माननिय

4. ✓ माननीय

Question Number : 100 Question Id : 16794319487 Question Type : MCQ Option Shuffling : Yes Display Question Number : Yes  
Single Line Question Option : No Option Orientation : Vertical

Correct Marks : 1 Wrong Marks : 0.25

‘तुम्हारे से यह काम नहीं हो सकता।’ वाक्य में अशुद्ध अंश है:

Options :

1. ✓ तुम्हारे से

2. ✗ यह काम

3. ✖ नहीं

4. ✖ हो सकता।

Question Number : 100 Question Id : 16794319487 Question Type : MCQ Option Shuffling : Yes Display Question Number : Yes  
Single Line Question Option : No Option Orientation : Vertical  
Correct Marks : 1 Wrong Marks : 0.25

‘तुम्हारे से यह काम नहीं हो सकता।’ वाक्य में अशुद्ध अंश है:

Options :

1. ✔ तुम्हारे से

2. ✖ यह काम

3. ✖ नहीं

4. ✖ हो सकता।

#### Subject Related

Group Number :	6
Group Id :	167943739
Group Maximum Duration :	0
Group Minimum Duration :	0
Revisit allowed for view? :	No
Revisit allowed for edit? :	No
Break time:	0
Group Marks:	20
Revisit allowed for group Instructions? :	Yes
Maximum Instruction Time:	0
Minimum Instruction Time:	0

#### Subject Related

Section Id :	167943804
Section Number :	1
Section type :	Online
Mandatory or Optional:	Mandatory
Number of Questions:	20
Number of Questions to be attempted:	20
Section Marks:	20
Display Number Panel:	Yes
Group All Questions:	No



Sub-Section Number: 1  
Sub-Section Id: 1679431241  
Question Shuffling Allowed : Yes

Question Number : 101 Question Id : 16794319488 Question Type : MCQ Option Shuffling : Yes Display Question Number : Yes  
Single Line Question Option : No Option Orientation : Vertical  
Correct Marks : 1 Wrong Marks : 0.25

The term "Industrial Revolution" was first used in book entitled \_\_\_\_\_, in 1884?

Options :

1. ✖ *Lectures on the Industrial Revolution of the Seventeenth Century in England*
2. ✔ *Lectures on the Industrial Revolution of the Eighteenth Century in England*
3. ✖ *Lectures on the Industrial Revolution of England*
4. ✖ None of the given options

Question Number : 101 Question Id : 16794319488 Question Type : MCQ Option Shuffling : Yes Display Question Number : Yes  
Single Line Question Option : No Option Orientation : Vertical  
Correct Marks : 1 Wrong Marks : 0.25

"औद्योगिक क्रांति" शब्द का प्रयोग पहली बार 1884 में \_\_\_\_\_ नामक पुस्तक में किया गया था।

Options :

1. ✖ *इंग्लैंड में सत्रहवीं सदी की औद्योगिक क्रांति पर व्याख्यान*
2. ✔ *इंग्लैंड में अठारहवीं सदी की औद्योगिक क्रांति पर व्याख्यान*
3. ✖ *इंग्लैंड की औद्योगिक क्रांति पर व्याख्यान*
4. ✖ दिए गए विकल्पों में से कोई नहीं

Question Number : 102 Question Id : 16794319489 Question Type : MCQ Option Shuffling : Yes Display Question Number : Yes  
Single Line Question Option : No Option Orientation : Vertical  
Correct Marks : 1 Wrong Marks : 0.25

Who invented hydraulic engine in 1840?

Options :

1. ✖ Edwin Armstrong
2. ✔ William Armstrong
3. ✖ Richard Arkwright

4. ✖ Laura Ashley

Question Number : 102 Question Id : 16794319489 Question Type : MCQ Option Shuffling : Yes Display Question Number : Yes  
Single Line Question Option : No Option Orientation : Vertical

Correct Marks : 1 Wrong Marks : 0.25

1840 में हाइड्रोलिक इंजन का आविष्कार किसने किया था?

Options :

1. ✖ एडविन आर्मस्ट्रांग

2. ✔ विलियम आर्मस्ट्रांग

3. ✖ रिचर्ड आर्क्राइट

4. ✖ लौरा एशले

Question Number : 103 Question Id : 16794319490 Question Type : MCQ Option Shuffling : Yes Display Question Number : Yes  
Single Line Question Option : No Option Orientation : Vertical

Correct Marks : 1 Wrong Marks : 0.25

Which of the following statement is/are TRUE about Airplane invention?

Options :

1. ✖ Sir George Cayley was an inventor of Aerodynamics

2. ✖ Sir George Cayley built his first passenger-carrying glider in 1853

3. ✖

Frenchman Jean Marie Le Bris made the first powered flight having his glider pulled by a horse in 1856

4. ✔ American Clement Ader made a controlled flight in a glider

Question Number : 103 Question Id : 16794319490 Question Type : MCQ Option Shuffling : Yes Display Question Number : Yes  
Single Line Question Option : No Option Orientation : Vertical

Correct Marks : 1 Wrong Marks : 0.25

हवाई जहाज़ के आविष्कार के बारे में निम्नलिखित में से कौन सा कथन सही है?

Options :

1. ✖ सर जॉर्ज केली वायुगतिकी (Aerodynamics) के आविष्कारक थे

2. ✖ सर जॉर्ज केली ने 1853 में अपना पहला यात्री-वाहक ग्लाइडर बनाया

3. ✖

फ्रांसीसी जीन मैरी ले ब्रिस ने 1856 में अश्व चलित ग्लाइडर वाली पहली चालक उड़ान बनाई

4. ✔

अमेरिकी क्लेमेंट एडर ने एक ग्लाइडर में एक नियंत्रित उड़ान बनाई

Question Number : 104 Question Id : 16794319491 Question Type : MCQ Option Shuffling : Yes Display Question Number : Yes  
Single Line Question Option : No Option Orientation : Vertical

Correct Marks : 1 Wrong Marks : 0.25

Which statement is CORRECT with regard to economic depression in United States of America in 1929?

Options :

1. ✖

The great boom of the 1920s was ended in May 1929

2. ✖

Production and business activity began to decline June 1929

3. ✔

The famous stock market crash came in October 1929

4. ✖

All of the given options

Question Number : 104 Question Id : 16794319491 Question Type : MCQ Option Shuffling : Yes Display Question Number : Yes  
Single Line Question Option : No Option Orientation : Vertical

Correct Marks : 1 Wrong Marks : 0.25

1929 में संयुक्त राज्य अमेरिका में आर्थिक मंदी के संबंध में कौन सा कथन सही है?

Options :

1. ✖

1920 के दशक की भारी तेजी मई 1929 में समाप्त हो गई

2. ✖

उत्पादन और व्यापार गतिविधि में जून 1929 से गिरावट शुरू हुई

3. ✔

शेयर बाजार में तीव्र गिरावट अक्टूबर 1929 में आई

4. ✖

दिए गए विकल्पों में से सभी

Question Number : 105 Question Id : 16794319492 Question Type : MCQ Option Shuffling : Yes Display Question Number : Yes  
Single Line Question Option : No Option Orientation : Vertical

Correct Marks : 1 Wrong Marks : 0.25

USA started the programme of reform known as \_\_\_\_\_ to recover from great depression of 1929.

Options :

1. ✖

New Reforms' Policy

- 2. ✓ New Deal
- 3. ✗ Wilson Plan
- 4. ✗ Roosevelt Plan

Question Number : 105 Question Id : 16794319492 Question Type : MCQ Option Shuffling : Yes Display Question Number : Yes  
Single Line Question Option : No Option Orientation : Vertical  
Correct Marks : 1 Wrong Marks : 0.25

संयुक्त राज्य अमेरिका ने 1929 में महा मंदी से उबरने के लिए \_\_\_\_\_ के रूप में जाना जाने वाला सुधार कार्यक्रम शुरू किया।

Options :

- 1. ✗ नई सुधार 'नीति'
- 2. ✓ नए सौदे
- 3. ✗ विल्सन योजना
- 4. ✗ रूज़वेल्ट योजना

Question Number : 106 Question Id : 16794319493 Question Type : MCQ Option Shuffling : Yes Display Question Number : Yes  
Single Line Question Option : No Option Orientation : Vertical  
Correct Marks : 1 Wrong Marks : 0.25

Which President of USA gave slogan "plant more wheat, wheat will win the war"?

Options :

- 1. ✗ Franklin Roosevelt
- 2. ✓ Woodrow Wilson
- 3. ✗ Warren Harding
- 4. ✗ Abraham Lincoln

Question Number : 106 Question Id : 16794319493 Question Type : MCQ Option Shuffling : Yes Display Question Number : Yes  
Single Line Question Option : No Option Orientation : Vertical  
Correct Marks : 1 Wrong Marks : 0.25

यूएसए के किस राष्ट्रपति ने "अधिक गेहूँ बोएँ, गेहूँ युद्ध जीत जाएगा" नारा दिया?

Options :

- 1. ✗ फ्रैंकलिन रूज़वेल्ट



2. ✓ बुडरो विल्सन

3. ✗ वॉरेन हार्डिंग

4. ✗ अब्राहम लिंकन

Question Number : 107 Question Id : 16794319494 Question Type : MCQ Option Shuffling : Yes Display Question Number : Yes  
Single Line Question Option : No Option Orientation : Vertical

Correct Marks : 1 Wrong Marks : 0.25

Who said that "after me, the deluge"?

Options :

1. ✗ Louis XIII

2. ✗ Louis XIV

3. ✓ Louis XV

4. ✗ Louis XVI

Question Number : 107 Question Id : 16794319494 Question Type : MCQ Option Shuffling : Yes Display Question Number : Yes  
Single Line Question Option : No Option Orientation : Vertical

Correct Marks : 1 Wrong Marks : 0.25

किसने कहा कि "मेरे बाद, प्रलय होगा"?

Options :

1. ✗ लुईस XIII

2. ✗ लुईस XIV

3. ✓ लुईस XV

4. ✗ लुईस XVI

Question Number : 108 Question Id : 16794319495 Question Type : MCQ Option Shuffling : Yes Display Question Number : Yes  
Single Line Question Option : No Option Orientation : Vertical

Correct Marks : 1 Wrong Marks : 0.25

Which is/are INCORRECT with regard to the causes of the French revolution?

Options :

1. ✗ France was considered as personal property of the King



- 2. ✖ Prevalence of *tithes* tax
- 3. ✔ Tax burden on First and Second Estates
- 4. ✖ Failure of economic reforms

Question Number : 108 Question Id : 16794319495 Question Type : MCQ Option Shuffling : Yes Display Question Number : Yes  
Single Line Question Option : No Option Orientation : Vertical  
Correct Marks : 1 Wrong Marks : 0.25

फ्रांसीसी क्रांति के कारणों के संबंध में कौन सा गलत है?

Options :

- 1. ✖ फ्रांस को राजा की निजी संपत्ति माना गया
- 2. ✖ दसवें कर (tithes tax) का प्रसार
- 3. ✔ पहली और दूसरी संपदा पर कर का बोझ
- 4. ✖ आर्थिक सुधारों की विफलता

Question Number : 109 Question Id : 16794319496 Question Type : MCQ Option Shuffling : Yes Display Question Number : Yes  
Single Line Question Option : No Option Orientation : Vertical  
Correct Marks : 1 Wrong Marks : 0.25

One of the turning points of the French revolution, women's march to Versailles occurred on \_\_\_\_\_.

Options :

- 1. ✖ 15-16 July, 1789
- 2. ✖ 5-6 August, 1789
- 3. ✔ 5-6 October, 1789
- 4. ✖ 15-16 October, 1789

Question Number : 109 Question Id : 16794319496 Question Type : MCQ Option Shuffling : Yes Display Question Number : Yes  
Single Line Question Option : No Option Orientation : Vertical  
Correct Marks : 1 Wrong Marks : 0.25

फ्रांसीसी क्रांति के मोड़ों में से एक, \_\_\_\_\_ को वेरसैलेस की ओर महिला मार्च रहा।

Options :

- 1. ✖ 15-16 जुलाई, 1789

2. ✖ 5-6 अगस्त, 1789

3. ✔ 5-6 अक्टूबर, 1789

4. ✖ 15-16 अक्टूबर, 1789

Question Number : 110 Question Id : 16794319497 Question Type : MCQ Option Shuffling : Yes Display Question Number : Yes  
Single Line Question Option : No Option Orientation : Vertical

Correct Marks : 1 Wrong Marks : 0.25

When was King Louis XVI executed?

Options :

1. ✖ 15 January, 1791

2. ✖ 21 January, 1791

3. ✖ 15 January, 1793

4. ✔ 21 January, 1793

Question Number : 110 Question Id : 16794319497 Question Type : MCQ Option Shuffling : Yes Display Question Number : Yes  
Single Line Question Option : No Option Orientation : Vertical

Correct Marks : 1 Wrong Marks : 0.25

किंग लुईस XVI कब निष्पादित किया गया था?

Options :

1. ✖ 15 जनवरी, 1791 को

2. ✖ 21 जनवरी, 1791 को

3. ✖ 15 जनवरी, 1793 को

4. ✔ 21 जनवरी, 1793 को

Question Number : 111 Question Id : 16794319498 Question Type : MCQ Option Shuffling : Yes Display Question Number : Yes  
Single Line Question Option : No Option Orientation : Vertical

Correct Marks : 1 Wrong Marks : 0.25

लॉर्ड कैनिंग की जनरल सर्विस एन्क्रिप्टमेंट एक्ट, 1856, इस अधिनियम में:

Options :

1. ✖ सभी रंगरूटों को एनफील्ड राइफल का उपयोग करने का निर्देश दिया गया था।

2. ✓ जहां भी आदेश दिया गया था, सभी रंगरूटों को मार्च करना था।
3. ✗ ईसाई मिशनरों को परिवर्तन की अनुमति थी।
4. ✗ सेना में भर्ती की उम्र कम की गई।

Question Number : 111 Question Id : 16794319498 Question Type : MCQ Option Shuffling : Yes Display Question Number : Yes  
Single Line Question Option : No Option Orientation : Vertical

Correct Marks : 1 Wrong Marks : 0.25

Lord Canning's General Service Enlistment Act, 1856, in this act :

Options :

1. ✗ All recruits were instructed to use Enfield rifle
2. ✓ All recruits had to march wherever ordered
3. ✗ Christian missions were allowed for conversion
4. ✗ The age of army recruitment was lowered

Question Number : 112 Question Id : 16794319499 Question Type : MCQ Option Shuffling : Yes Display Question Number : Yes  
Single Line Question Option : No Option Orientation : Vertical

Correct Marks : 1 Wrong Marks : 0.25

Which was/were the reason of failure of 1857 revolt?

Options :

1. ✗ The leaders failed to evolve unity of action
2. ✗ Lack of popular support
3. ✗ Apathy of Indian rulers
4. ✓ All of the given options

Question Number : 112 Question Id : 16794319499 Question Type : MCQ Option Shuffling : Yes Display Question Number : Yes  
Single Line Question Option : No Option Orientation : Vertical

Correct Marks : 1 Wrong Marks : 0.25

1857 के विद्रोह की विफलता का कारण कौन सा था?

Options :

1. ✗ नेता कार्रवाई की एकता विकसित करने में नाकाम रहे

2. ✖ लोकप्रिय समर्थन की कमी
3. ✖ भारतीय शासकों की उदासीनता
4. ✔ दिए गए विकल्पों में से सभी

Question Number : 113 Question Id : 16794319500 Question Type : MCQ Option Shuffling : Yes Display Question Number : Yes  
Single Line Question Option : No Option Orientation : Vertical

Correct Marks : 1 Wrong Marks : 0.25

An interesting episode that illuminates the Indian national leadership's attitude towards labourers working in non-Indian enterprises occurred in 1899 on the G.I.P. Railway. Which of the flowing statement is INCORRECT?

Options :

1. ✖ Over 800 signalers of the railways went on strike.
2. ✖ This was the first organized strike by any sections of Indian working class.
3. ✔ Leading nationalist newspaper the *Amrita Bazar Patrika* warmly supported the strike.
4. ✖

The strike was preceded by a two year long agitation and presentation of a charter of demands and an ultimatum.

Question Number : 113 Question Id : 16794319500 Question Type : MCQ Option Shuffling : Yes Display Question Number : Yes  
Single Line Question Option : No Option Orientation : Vertical

Correct Marks : 1 Wrong Marks : 0.25

एक दिलचस्प प्रकरण, जो गैर-भारतीय उद्यमों में काम कर रहे श्रमिकों के प्रति भारतीय राष्ट्रीय नेतृत्व के दृष्टिकोण को प्रकाशित करता है, जी.आई.पी. रेलवे पर 1899 में हुआ था। निम्नलिखित में से कौन सा कथन गलत है?

Options :

1. ✖ रेलवे के 800 से अधिक सिग्नलर हड़ताल पर गए।
2. ✖ भारतीय मज़दूर वर्ग के किसी भी वर्ग द्वारा यह पहली संगठित हड़ताल थी।
3. ✔ प्रमुख राष्ट्रीय समाचार पत्र *अमृता बाजार पत्रिका* ने हड़ताल का गर्मजोशी से समर्थन किया।
4. ✖

हड़ताल दो साल के लंबे आंदोलन और मांगों के एक चार्टर और एक अल्टीमेटम की प्रस्तुति से पहले हुई थी।

Question Number : 114 Question Id : 16794319501 Question Type : MCQ Option Shuffling : Yes Display Question Number : Yes  
Single Line Question Option : No Option Orientation : Vertical

Correct Marks : 1 Wrong Marks : 0.25

Which is TRUE about the session of the Indian National Congress in 1906?

Options :



1. ✖ The session was held at Calcutta and Dadabhai Naoroji was president of the session
2. ✖  
He laid down the goal of the national movement as "self-government or *Swaraj*," like that of the United Kingdom or the Colonies.'
3. ✖ The Congress also put forward the demand of complete freedom
4. ✔  
It was held in Calcutta and Dadabhai Naoroji was the president of the session and it also laid down the goal of 'Swaraj' like that of the United Kingdom or the Colonies

Question Number : 114 Question Id : 16794319501 Question Type : MCQ Option Shuffling : Yes Display Question Number : Yes  
Single Line Question Option : No Option Orientation : Vertical  
Correct Marks : 1 Wrong Marks : 0.25

1906 में भारतीय राष्ट्रीय कांग्रेस के सत्र के बारे में कौन सा सही है?

Options :

1. ✖ सत्र कलकत्ता में आयोजित किया गया था और दादाभाई नौरोजी सत्र के अध्यक्ष थे
2. ✖  
उन्होंने राष्ट्रीय आंदोलन का लक्ष्य "स्वयं सरकार या स्वराज" के रूप में यूनाइटेड किंगडम या कॉलोनियों की तरह रखा
3. ✖ कांग्रेस ने पूरी आज़ादी की मांग भी आगे बढ़ा दी
4. ✔  
यह कलकत्ता में आयोजित किया गया था और दादाभाई नौरोजी सत्र के अध्यक्ष थे और उन्होंने यूनाइटेड किंगडम या कॉलोनियों की तरह 'स्वराज' का लक्ष्य भी निर्धारित किया

Question Number : 115 Question Id : 16794319502 Question Type : MCQ Option Shuffling : Yes Display Question Number : Yes  
Single Line Question Option : No Option Orientation : Vertical  
Correct Marks : 1 Wrong Marks : 0.25

Several new forms of mobilization and techniques of struggle now began to emerge at the popular level in Swadeshi Movement. Which is/are TRUE about it?

Options :

1. ✖  
Political independence was to be achieved by converting the movement into a mass movement
2. ✖ The extension of boycott of imperial goods
3. ✖ A full-scale movement of non-cooperation and passive resistance
4. ✔ All of the given options

Question Number : 115 Question Id : 16794319502 Question Type : MCQ Option Shuffling : Yes Display Question Number : Yes  
Single Line Question Option : No Option Orientation : Vertical

Correct Marks : 1 Wrong Marks : 0.25

आंदोलन और संघर्ष की तकनीक के कई नए रूप अब स्वदेशी आंदोलन में लोकप्रिय स्तर पर उभरने लगे। इसके बारे में कौन सा सही है?

Options :

1. ✖

आंदोलन को एक जन आंदोलन में परिवर्तित करके राजनीतिक आज़ादी हासिल की जानी चाहिए

2. ✖ शाही सामानों के बहिष्कार का विस्तार

3. ✖ असहयोग और निष्क्रिय प्रतिरोध का एक व्यापक पैमाने पर आंदोलन

4. ✔ दिए गए विकल्पों में से सभी

Question Number : 116 Question Id : 16794319503 Question Type : MCQ Option Shuffling : Yes Display Question Number : Yes  
Single Line Question Option : No Option Orientation : Vertical

Correct Marks : 1 Wrong Marks : 0.25

Chapekar Brothers were the first revolutionaries who assassinated British officers named \_\_\_\_\_.

Options :

1. ✔ WC Rand and Lt. Ayerst

2. ✖ WC Rand and Lord Smith

3. ✖ Sir Philips and Lt. Ayerst

4. ✖ Commissioner J. S. Smith

Question Number : 116 Question Id : 16794319503 Question Type : MCQ Option Shuffling : Yes Display Question Number : Yes  
Single Line Question Option : No Option Orientation : Vertical

Correct Marks : 1 Wrong Marks : 0.25

चाफेकर ब्रदर्स पहले क्रांतिकारी थे जिन्होंने \_\_\_\_\_ नामक ब्रिटिश अधिकारियों की हत्या की थी।

Options :

1. ✔ डब्ल्यूसी रैंड और लॉर्ड एयर्स्ट

2. ✖ डब्ल्यूसी रैंड और लॉर्ड स्मिथ

3. ✖ सर फिलिप्स और लॉर्ड एयर्स्ट



4. ✖ आयुक्त जे.एस. स्मिथ

Question Number : 117 Question Id : 16794319504 Question Type : MCQ Option Shuffling : Yes Display Question Number : Yes  
Single Line Question Option : No Option Orientation : Vertical

Correct Marks : 1 Wrong Marks : 0.25

Which of the following is INCORRECT statement about the socialist and communist groups came into existence all over in the colonial India during twentieth century?

Options :

1. ✖

In Bombay, S.A. Dange published a pamphlet *Gandhi and Lenin* and started the first socialist weekly, *The Socialist*

2. ✖

In Bengal, Muzaffar Ahmed brought out *Navayug* and later founded the *Langal* in cooperation with the poet Nazrul Islam

3. ✔

In Punjab, Ahamd Ali and others published *Inquilab*

4. ✖

In Madras, M. Singaravelu founded the *Labour-Kisan Gazette*

Question Number : 117 Question Id : 16794319504 Question Type : MCQ Option Shuffling : Yes Display Question Number : Yes  
Single Line Question Option : No Option Orientation : Vertical

Correct Marks : 1 Wrong Marks : 0.25

बीसवीं शताब्दी के दौरान औपनिवेशिक भारत में सोशलिस्ट और कम्युनिस्ट समूहों के बारे में निम्नलिखित में से कौन सा कथन गलत है?

Options :

1. ✖

बम्बई में, एस.ए. डांगे ने एक पुस्तिका गांधी और लेनिन प्रकाशित की और पहला सोशलिस्ट साप्ताहिक, द सोशलिस्ट शुरू किया

2. ✖

बंगाल में, मुजफ्फर अहमद ने नव युग की शुरुआत की और बाद में कवी नजरुल इस्लाम की सहायता से लैंगल की स्थापना की

3. ✔

पंजाब में, अहमद अली और अन्य ने इंकलाब प्रकाशित किया

4. ✖

मद्रास में, एम सिंगरावेलू ने श्रम-किसान राजपत्र की स्थापना की

Question Number : 118 Question Id : 16794319505 Question Type : MCQ Option Shuffling : Yes Display Question Number : Yes  
Single Line Question Option : No Option Orientation : Vertical

Correct Marks : 1 Wrong Marks : 0.25

Which is NOT TRUE about the Swaraj Party?

Options :

1. ✓ The immediate objective of the party is the speedy attainment of complete freedom
2. ✗ The party was described as a 'party within the Congress'
3. ✗ The party propagated the doctrines of private property
4. ✗ It advocated for class harmony and identity of the interests of labour and capital

Question Number : 118 Question Id : 16794319505 Question Type : MCQ Option Shuffling : Yes Display Question Number : Yes  
Single Line Question Option : No Option Orientation : Vertical

Correct Marks : 1 Wrong Marks : 0.25

स्वराज पार्टी के बारे में कौन सा सही नहीं है?

Options :

1. ✓ पार्टी का तत्काल उद्देश्य पूर्ण स्वतंत्रता की तेज़ी से प्राप्ति है
2. ✗ पार्टी को 'कांग्रेस के भीतर पार्टी' के रूप में वर्णित किया गया था
3. ✗ पार्टी ने निजी संपत्ति के सिद्धांतों का प्रचार किया
4. ✗ इसने जाति सद्भाव और श्रम और पूंजी के हितों की पहचान का समर्थन किया

Question Number : 119 Question Id : 16794319506 Question Type : MCQ Option Shuffling : Yes Display Question Number : Yes  
Single Line Question Option : No Option Orientation : Vertical

Correct Marks : 1 Wrong Marks : 0.25

Bankim chandra was the precursor of the extremists who had no faith in the policy of Moderates. What is INCORRECT about Bankim chandra?

Options :

1. ✗ He turned to the *Mahabharata*, as Rammohan had once turns *Bhagavad Gita* to the *Upnishads*
2. ✓ He visualized a united India through Sri Krishan who established *dharmarajya* after destroying evil.
3. ✗ The militant nationalists took their cue from Bankim's emphasis on *dharmarajya*
4. ✗ He wrote *Anandmath* to demonstrate his ideology

Question Number : 119 Question Id : 16794319506 Question Type : MCQ Option Shuffling : Yes Display Question Number : Yes  
Single Line Question Option : No Option Orientation : Vertical

Correct Marks : 1 Wrong Marks : 0.25

बंकिमचंद्र उन चरमपंथियों के अग्रदूत थे जिन्हें नरमपंथियों की नीति में कोई विश्वास नहीं था। बंकिमचंद्र के बारे में क्या गलत है?

Options :

1. ✖

वह महाभारत की ओर मुड़ गए, क्योंकि राममोहन एक बार फिर भगवद् गीता से उपनिषदों की ओर अपना ध्यान आकृष्ट किया

2. ✔

उन्होंने श्री कृष्ण के माध्यम से एक संयुक्त भारत की कल्पना की जिन्होंने बुराई को नष्ट करने के बाद धर्मराज्य की स्थापना की

3. ✖

आतंकवादी राष्ट्रवादियों ने धर्मराज्य पर बंकिम के जोर से अपना संकेत लिया

4. ✖

उन्होंने अपनी विचारधारा का प्रदर्शन करने के लिए आनंदमठ की रचना की

Question Number : 120 Question Id : 16794319507 Question Type : MCQ Option Shuffling : Yes Display Question Number : Yes  
Single Line Question Option : No Option Orientation : Vertical

Correct Marks : 1 Wrong Marks : 0.25

Which provision of the Government of India Act, 1935, is FALSE?

Options :

1. ✖

It separated Burma from India

2. ✔

Sind and the North-East Frontier Province were given the status of provinces

3. ✖

It introduced the provincial autonomy

4. ✖

The Governor was the chief executive authority in the province

Question Number : 120 Question Id : 16794319507 Question Type : MCQ Option Shuffling : Yes Display Question Number : Yes  
Single Line Question Option : No Option Orientation : Vertical

Correct Marks : 1 Wrong Marks : 0.25

भारत सरकार अधिनियम, 1935 का कौन सा प्रावधान गलत है?

Options :

1. ✖

इसने भारत से बर्मा को अलग किया

2. ✔

सिंध और उत्तर-पूर्व फ्रंटियर प्रांत को प्रांतों की स्थिति दी गई थी

3. ✖

इसने प्रांतीय स्वायत्तता की शुरुआत की



#### 4. ✖ राज्यपाल प्रांत के मुख्य कार्यकारी प्राधिकारी थे

	Subject Related
Group Number :	7
Group Id :	167943740
Group Maximum Duration :	0
Group Minimum Duration :	0
Revisit allowed for view? :	No
Revisit allowed for edit? :	No
Break time:	0
Group Marks:	20
Revisit allowed for group Instructions? :	Yes
Maximum Instruction Time:	0
Minimum Instruction Time:	0

	Subject Related
Section Id :	167943805
Section Number :	1
Section type :	Online
Mandatory or Optional:	Mandatory
Number of Questions:	20
Number of Questions to be attempted:	20
Section Marks:	20
Display Number Panel:	Yes
Group All Questions:	No

Sub-Section Number:	1
Sub-Section Id:	1679431242
Question Shuffling Allowed :	Yes

Question Number : 121 Question Id : 16794319508 Question Type : MCQ Option Shuffling : Yes Display Question Number : Yes  
Single Line Question Option : No Option Orientation : Vertical  
Correct Marks : 1 Wrong Marks : 0.25

Which of the following options is INCORRECT about *praja mandal* movement in Princely states in colonial India?

Options :

1. ✖

It was the impact of the Non-Cooperation and Khilafat Movement, numerous local organizations of the States' people came into existence.

2. ✖

Some of the States in which *praja mandals* or States' People's Conferences were organized were Mysore, Hyderabad, Baroda, the Kathiawad States, the Deccan States, Jamnagar, Indore, and Nawanagar.

3. ✔

This process came to a head in December 1926 with the convening of the All India States' People's Conference (AISPC).

4. ✖

The men chiefly responsible for this initiative were Balwantraoi Mehta, Maniklal Kothari and G.R. Abhayankar.

Question Number : 121 Question Id : 16794319508 Question Type : MCQ Option Shuffling : Yes Display Question Number : Yes  
Single Line Question Option : No Option Orientation : Vertical

Correct Marks : 1 Wrong Marks : 0.25

औपनिवेशिक भारत में रियासतों में प्रजा मंडल आंदोलन के बारे में निम्नलिखित में से कौन सा विकल्प गलत है?

Options :

1. ✖

यह असहयोग और खिलाफत आंदोलन का असर था कि राज्य के लोगों के कई स्थानीय संगठन अस्तित्व में आए।

2. ✖

कुछ राज्य जिनमें प्रजा मंडल या राज्यों के जन सम्मेलन आयोजित किए गए थे, मैसूर, हैदराबाद, बड़ौदा, कथियावाड़ राज्य, दक्कन राज्य, जामनगर, इंदौर और नवनगर थे।

3. ✔

अखिल भारतीय राज्यों के जनवादी सम्मेलन (एआईएसपीसी) के आयोजन के साथ दिसंबर 1926 में यह प्रक्रिया सामने आई थी।

4. ✖

मुख्य रूप से इस पहल के लिए जिम्मेदार व्यक्ति बलवंतराव मेहता, माणिक्यल कोठारी और जी.आर.अभयंकर थे

Question Number : 122 Question Id : 16794319509 Question Type : MCQ Option Shuffling : Yes Display Question Number : Yes  
Single Line Question Option : No Option Orientation : Vertical

Correct Marks : 1 Wrong Marks : 0.25

Which of the following was NOT a reason of the Russian Revolution in 1917?

Options :

1. ✖

Entry in the First World War

2. ✔

Russia's defeat by China

3. ✖

Backwardness of the economy

4. ✖

The role played by Russia in European conflicts, particularly in the Balkans

Question Number : 122 Question Id : 16794319509 Question Type : MCQ Option Shuffling : Yes Display Question Number : Yes  
Single Line Question Option : No Option Orientation : Vertical

Correct Marks : 1 Wrong Marks : 0.25

निम्नलिखित में से कौन सा 1917 में रूसी क्रांति का कारण नहीं था?

Options :

1. ✖

प्रथम विश्व युद्ध में प्रवेश

2. ✔

चीन से रूस की हार

3. ✖ अर्थव्यवस्था का पिछड़ापन

4. ✖ रूस द्वारा यूरोपीय संघर्षों में विशेष रूप से बाल्कन में खेती गई भूमिका

Question Number : 123 Question Id : 16794319510 Question Type : MCQ Option Shuffling : Yes Display Question Number : Yes  
Single Line Question Option : No Option Orientation : Vertical

Correct Marks : 1 Wrong Marks : 0.25

Which event of the February revolution of Russia in 1917 was/were CORRECT?

Options :

1. ✖ The workers went on strike

2. ✖ There was the Hunger March in the capital and the Tsar ordered for firing

3. ✖

The soldiers refused to obey the orders of firing and joined the revolutionaries in hoisting of Red Flag

4. ✔ All of the given options

Question Number : 123 Question Id : 16794319510 Question Type : MCQ Option Shuffling : Yes Display Question Number : Yes  
Single Line Question Option : No Option Orientation : Vertical

Correct Marks : 1 Wrong Marks : 0.25

1917 में रूस की फरवरी क्रांति की कौन सी घटना सही थी?

Options :

1. ✖ मजदूर हड़ताल पर गए

2. ✖ राजधानी में हंगर मार्च हुआ था और सार (Tsar) ने गोलीबारी के लिए आदेश दिया था

3. ✖

सैनिकों ने गोलीबारी के आदेशों का पालन करने से मना कर दिया और रेड फ्लैग के ध्वजारोहण में क्रांतिकारियों से मिल गए

4. ✔ दिए गए विकल्पों में से सभी

Question Number : 124 Question Id : 16794319511 Question Type : MCQ Option Shuffling : Yes Display Question Number : Yes  
Single Line Question Option : No Option Orientation : Vertical

Correct Marks : 1 Wrong Marks : 0.25

Who announced the formation of a Provisional Government on 15 March, 1917?

Options :

1. ✖ The Tsar



2. ✓ The Duma

3. ✗ Lenin

4. ✗ Stalin

Question Number : 124 Question Id : 16794319511 Question Type : MCQ Option Shuffling : Yes Display Question Number : Yes  
Single Line Question Option : No Option Orientation : Vertical

Correct Marks : 1 Wrong Marks : 0.25

15 मार्च, 1917 को एक अनंतिम सरकार के गठन की घोषणा किसने की?

Options :

1. ✗ सार (Tsar)

2. ✓ इमा

3. ✗ लेनिन

4. ✗ स्टालिन

Question Number : 125 Question Id : 16794319512 Question Type : MCQ Option Shuffling : Yes Display Question Number : Yes  
Single Line Question Option : No Option Orientation : Vertical

Correct Marks : 1 Wrong Marks : 0.25

What was NOT TRUE about the impact of October Revolution?

Options :

1. ✗

The land and property of large landowners and the capitalists was seized and distributed to the poor peasants

2. ✓ The factories were taken over and run by the Government

3. ✗ The Red Army was created to curb the opposition of the revolution

4. ✗ In 1921, the country's economy fared no better than during the Tsarist regime

Question Number : 125 Question Id : 16794319512 Question Type : MCQ Option Shuffling : Yes Display Question Number : Yes  
Single Line Question Option : No Option Orientation : Vertical

Correct Marks : 1 Wrong Marks : 0.25

रूस में अक्टूबर क्रांति के प्रभाव के बारे में क्या सही नहीं था?

Options :

1. ✗

बड़े भू-स्वामियों और पूंजीपतियों की भूमि और संपत्ति को जब्त करके गरीब किसानों में वितरित कर दी गई

2. ✓ सरकार ने कारखानों अधिग्रहण किया और उन्हें चलाया
3. ✗ क्रांति के विरोध को रोकने के लिए रेड आर्मी बनाई गई थी
4. ✗ 1921 में, देश की अर्थव्यवस्था सारवादी (Tsarist) शासन की तुलना में बेहतर नहीं थी

Question Number : 126 Question Id : 16794319513 Question Type : MCQ Option Shuffling : Yes Display Question Number : Yes  
Single Line Question Option : No Option Orientation : Vertical

Correct Marks : 1 Wrong Marks : 0.25

For Marx and Engels, the basic starting point for understanding a society is the \_\_\_\_\_ within which it develops.

Options :

1. ✗ Social framework
2. ✓ Economic framework
3. ✗ Political framework
4. ✗ Religious framework

Question Number : 126 Question Id : 16794319513 Question Type : MCQ Option Shuffling : Yes Display Question Number : Yes  
Single Line Question Option : No Option Orientation : Vertical

Correct Marks : 1 Wrong Marks : 0.25

मार्क्स और एंगल्स के लिए, समाज को समझने के लिए मूल प्रारंभिक बिंदु \_\_\_\_\_ है, जिसमें यह विकसित होता है।

Options :

1. ✗ सामाजिक ढांचा
2. ✓ आर्थिक ढांचा
3. ✗ राजनीतिक ढांचा
4. ✗ धार्मिक ढांचा

Question Number : 127 Question Id : 16794319514 Question Type : MCQ Option Shuffling : Yes Display Question Number : Yes  
Single Line Question Option : No Option Orientation : Vertical

Correct Marks : 1 Wrong Marks : 0.25

Which statement is NOT CORRECT according to Marxist theory?

Options :

1. ✓ The bourgeoisie is the political class living from the exploitation of the proletariat

2. ✖ The bourgeoisie is the social class living from the exploitation of the proletariat
3. ✖ The bourgeoisie is a chiefly capital class
4. ✖ None of the given options

Question Number : 127 Question Id : 16794319514 Question Type : MCQ Option Shuffling : Yes Display Question Number : Yes  
Single Line Question Option : No Option Orientation : Vertical  
Correct Marks : 1 Wrong Marks : 0.25

मार्क्सवादी सिद्धांत के अनुसार कौन सा कथन सही नहीं है?

Options :

1. ✔ बुर्जुआ सर्वहारा के शोषण से रहने वाला राजनीतिक वर्ग है
2. ✖ बुर्जुआ सर्वहारा के शोषण से रहने वाला सामाजिक वर्ग है
3. ✖ बुर्जुआ मुख्य रूप से पूंजी वर्ग है
4. ✖ दिए गए विकल्पों में से कोई नहीं

Question Number : 128 Question Id : 16794319515 Question Type : MCQ Option Shuffling : Yes Display Question Number : Yes  
Single Line Question Option : No Option Orientation : Vertical  
Correct Marks : 1 Wrong Marks : 0.25

Nazism was the most brutal phase in human history. Which one of the following statement is INCORRECT?

Options :

1. ✖ It believed in racial purity and supremacy of the Aryan race
2. ✖ It considered most of the rest of humanity to be sub-human deserving extermination, or at least enslavement
3. ✔ They tried to convert Europe and North America continents into a huge slave camp
4. ✖ The aggressions committed by Nazism led to the Second World War

Question Number : 128 Question Id : 16794319515 Question Type : MCQ Option Shuffling : Yes Display Question Number : Yes  
Single Line Question Option : No Option Orientation : Vertical  
Correct Marks : 1 Wrong Marks : 0.25

मानव इतिहास में नाज़ीवाद सबसे क्रूर चरण था। निम्नलिखित में से कौन सा कथन गलत है?

Options :

1. ✖ यह आर्य जाति की नस्लीय शुद्धता और सर्वोच्चता में विश्वास करते थे
2. ✖ इसने अधिकांश शेष मानवता को उप-मानव माना जो विलुप्त होने, या कम से कम गुलाम होने योग्य है
3. ✔ उन्होंने यूरोप और उत्तरी अमेरिका के महाद्वीपों को एक विशाल दास शिविर में बदलने की कोशिश की
4. ✖ नाज़ीवाद द्वारा किए गए आक्रामकों ने द्वितीय विश्व युद्ध का नेतृत्व किया

Question Number : 129 Question Id : 16794319516 Question Type : MCQ Option Shuffling : Yes Display Question Number : Yes  
Single Line Question Option : No Option Orientation : Vertical

Correct Marks : 1 Wrong Marks : 0.25

Who opined that "our opponents are little worms. I saw them in Munich"?

Options :

1. ✖ Mussolini
2. ✖ Woodrow Wilson
3. ✔ Hitler
4. ✖ Churchill

Question Number : 129 Question Id : 16794319516 Question Type : MCQ Option Shuffling : Yes Display Question Number : Yes  
Single Line Question Option : No Option Orientation : Vertical

Correct Marks : 1 Wrong Marks : 0.25

किसने कहा कि "हमारे विरोधी छोटे कीड़े हैं। मैंने उन्हें म्यूनिख में देखा"?

Options :

1. ✖ मुसोलिनी
2. ✖ वुडरो विल्सन
3. ✔ हिटलर
4. ✖ चर्चिल

Question Number : 130 Question Id : 16794319517 Question Type : MCQ Option Shuffling : Yes Display Question Number : Yes  
Single Line Question Option : No Option Orientation : Vertical

Correct Marks : 1 Wrong Marks : 0.25



Which is/are CORRECT about establishment of fascism in Italy?

Options :

1. ✖ By the end of 1922, the king of Italy, Vittorio Emmanuel III faced a growing political crises
2. ✖ No existing party leader seemed to have the support necessary to form a new government
3. ✖ The Fascists increasingly pressured the country to bring Mussolini to power and staged a massive march of citizens from all over Italy
4. ✔ All of the given options

Question Number : 130 Question Id : 16794319517 Question Type : MCQ Option Shuffling : Yes Display Question Number : Yes  
Single Line Question Option : No Option Orientation : Vertical

Correct Marks : 1 Wrong Marks : 0.25

इटली में फासीवाद की स्थापना के बारे में कौन सा कथन सही है?

Options :

1. ✖ 1922 के अंत तक, इटली के राजा, विटोरियो इमानुअल III को बढ़ते राजनीतिक संकट का सामना करना पड़ा
2. ✖ ऐसा लग रहा था किसी मौजूदा पार्टी नेता के पास नई सरकार बनाने के लिए आवश्यक समर्थन नहीं था
3. ✖ फासिस्टों ने मुसोलिनी को सत्ता में लाने के लिए तेजी से देश पर दबाव डाला और पूरे इटली से नागरिकों के बड़े पैमाने पर मार्च शुरू किया
4. ✔ दिए गए विकल्पों में से सभी

Question Number : 131 Question Id : 16794319518 Question Type : MCQ Option Shuffling : Yes Display Question Number : Yes  
Single Line Question Option : No Option Orientation : Vertical

Correct Marks : 1 Wrong Marks : 0.25

Benito Mussolini attacked Abyssinia (Ethiopia) in \_\_\_\_\_.

Options :

1. ✖ 1933
2. ✖ 1934
3. ✔ 1935
4. ✖ 1936

Question Number : 131 Question Id : 16794319518 Question Type : MCQ Option Shuffling : Yes Display Question Number : Yes  
Single Line Question Option : No Option Orientation : Vertical

Correct Marks : 1 Wrong Marks : 0.25

बेनिटो मुसोलिनी ने \_\_\_\_\_ में एबीसिनिया (इथियोपिया) पर हमला किया।

Options :

1. ✖ 1933

2. ✖ 1934

3. ✔ 1935

4. ✖ 1936

Question Number : 132 Question Id : 16794319519 Question Type : MCQ Option Shuffling : Yes Display Question Number : Yes  
Single Line Question Option : No Option Orientation : Vertical

Correct Marks : 1 Wrong Marks : 0.25

The Peace Conference of the Allied Nations started in Paris on 18 January, 1919 to draft a peace treaty with Germany. Which of the following is NOT CORRECT about the Peace Conference?

Options :

1. ✖

The Conference was dominated by US President Woodrow Wilson, the British Prime Minister Lloyd George and the French Prime Minister Georges Clemenceau

2. ✖

Wilson had announced that “there shall no annexations, no contributions, no punitive damages”

3. ✖ Free acceptance by the people concerned would be the basis of any settlement

4. ✔ Germany and other Central Powers were represented at the Conference with Allied powers

Question Number : 132 Question Id : 16794319519 Question Type : MCQ Option Shuffling : Yes Display Question Number : Yes  
Single Line Question Option : No Option Orientation : Vertical

Correct Marks : 1 Wrong Marks : 0.25

जर्मनी के साथ शांति संधि तैयार करने के लिए 18 जनवरी, 1919 को मित्र राष्ट्रों का शांति सम्मेलन पेरिस में शुरू हुआ। शांति सम्मेलन के बारे में निम्नलिखित में से कौन सा सही नहीं है?

Options :

1. ✖

सम्मेलन में अमेरिकी राष्ट्रपति वुड्रो विल्सन, ब्रिटिश प्रधानमंत्री लॉर्ड जॉर्ज और फ्रांसीसी प्रधानमंत्री जॉर्जेस क्लेमेंसो का आधिपत्य था

2. ✖

विल्सन ने घोषणा की थी कि "कोई समामेलन नहीं होगा, कोई योगदान नहीं, कोई दंडनीय क्षति नहीं होगी"



3. ✖ संबंधित लोगों द्वारा मुक्त स्वीकृति किसी भी निपटारे का आधार होगी

4. ✔

सहयोगी शक्तियों के साथ सम्मेलन में जर्मनी और अन्य केंद्रीय शक्तियों का प्रतिनिधित्व किया गया था

Question Number : 133 Question Id : 16794319520 Question Type : MCQ Option Shuffling : Yes Display Question Number : Yes  
Single Line Question Option : No Option Orientation : Vertical

Correct Marks : 1 Wrong Marks : 0.25

Why did USA entered in World War I?

Options :

1. ✖ Germany attacked on pearl harbor

2. ✖ Germany weakened the military power of England and France

3. ✔ German submarine attacked American ship

4. ✖ Italy announced war against USA

Question Number : 133 Question Id : 16794319520 Question Type : MCQ Option Shuffling : Yes Display Question Number : Yes  
Single Line Question Option : No Option Orientation : Vertical

Correct Marks : 1 Wrong Marks : 0.25

संयुक्त राज्य अमेरिका ने प्रथम विश्व युद्ध में क्यों प्रवेश किया?

Options :

1. ✖ जर्मनी ने पर्ल बंदरगाह पर हमला किया

2. ✖ जर्मनी ने इंग्लैंड और फ्रांस की सैन्य शक्ति को कमजोर कर दिया

3. ✔ जर्मन पनडुब्बी ने अमेरिकी जहाज पर हमला किया

4. ✖ इटली ने संयुक्त राज्य अमेरिका के खिलाफ युद्ध की घोषणा की

Question Number : 134 Question Id : 16794319521 Question Type : MCQ Option Shuffling : Yes Display Question Number : Yes  
Single Line Question Option : No Option Orientation : Vertical

Correct Marks : 1 Wrong Marks : 0.25

After having conquered about the whole of Western Europe, Germany planned the invasion of Britain. Which statement is TRUE about the battle of Britain?

Options :

1. ✖ The plan was given the code name of 'Sea-Lion'

2. ✖

The invasion of Britain was possible only if Germany could gain control over the English Channel

3. ✖

The aerial battle between Britain and Germany is known as the Battle of Britain

4. ✔

All of the given options

Question Number : 134 Question Id : 16794319521 Question Type : MCQ Option Shuffling : Yes Display Question Number : Yes  
Single Line Question Option : No Option Orientation : Vertical

Correct Marks : 1 Wrong Marks : 0.25

पूरे पश्चिमी यूरोप को लगभग जीतने के बाद, जर्मनी ने ब्रिटेन पर आक्रमण की योजना बनाई। ब्रिटेन की लड़ाई के बारे में कौन सा कथन सत्य है?

Options :

1. ✖

इस योजना को 'सी-लायन' का कोड नाम दिया गया था

2. ✖

ब्रिटेन का आक्रमण केवल तभी संभव था यदि जर्मनी अंग्रेजी चैनल पर नियंत्रण प्राप्त कर सके

3. ✖

ब्रिटेन और जर्मनी के बीच हवाई लड़ाई ब्रिटेन की लड़ाई के रूप में जाना जाता है

4. ✔

दिए गए विकल्पों में से सभी

Question Number : 135 Question Id : 16794319522 Question Type : MCQ Option Shuffling : Yes Display Question Number : Yes  
Single Line Question Option : No Option Orientation : Vertical

Correct Marks : 1 Wrong Marks : 0.25

The Soviet-German Non-Aggression Pact was signed on \_\_\_\_\_.

Options :

1. ✖

23 July, 1939

2. ✔

23 August, 1939

3. ✖

23 September, 1939

4. ✖

23 September, 1941

Question Number : 135 Question Id : 16794319522 Question Type : MCQ Option Shuffling : Yes Display Question Number : Yes  
Single Line Question Option : No Option Orientation : Vertical

Correct Marks : 1 Wrong Marks : 0.25

सोवियत-जर्मन गैर-आक्रमण समझौते पर \_\_\_\_\_ को हस्ताक्षर किए गए थे।

Options :

1. ✖ 23 जुलाई, 1939
2. ✔ 23 अगस्त, 1939
3. ✖ 23 सितंबर, 1939
4. ✖ 23 सितंबर, 1941

Question Number : 136 Question Id : 16794319523 Question Type : MCQ Option Shuffling : Yes Display Question Number : Yes  
Single Line Question Option : No Option Orientation : Vertical

Correct Marks : 1 Wrong Marks : 0.25

What is FALSE about the United Nations Charter?

Options :

1. ✖ A conference of the United Nations was held at San Francisco from 25 April to 26 June 1945
2. ✖ The Charter was signed by fifty participating nations on 26 June
3. ✔ The United Charter became effective on 28 October 1945
4. ✖ The Charter prepared the background of the United Nations Organization

Question Number : 136 Question Id : 16794319523 Question Type : MCQ Option Shuffling : Yes Display Question Number : Yes  
Single Line Question Option : No Option Orientation : Vertical

Correct Marks : 1 Wrong Marks : 0.25

संयुक्त राष्ट्र चार्टर के बारे में क्या गलत है?

Options :

1. ✖ 25 अप्रैल से 26 जून 1945 तक सैन फ्रांसिस्को में संयुक्त राष्ट्र का एक सम्मेलन आयोजित किया गया था
2. ✖ 26 जून को पचास भाग लेने वाले देशों द्वारा चार्टर पर हस्ताक्षर किए गए थे
3. ✔ संयुक्त चार्टर 28 अक्टूबर 1945 को प्रभावी हुआ
4. ✖ चार्टर ने संयुक्त राष्ट्र संगठन की पृष्ठभूमि तैयार की

Question Number : 137 Question Id : 16794319524 Question Type : MCQ Option Shuffling : Yes Display Question Number : Yes  
Single Line Question Option : No Option Orientation : Vertical

Correct Marks : 1 Wrong Marks : 0.25

What is NOT TRUE about solar system?



Options :

1. ✖ The first recorded use of the term 'solar system is thought to date from 1704
2. ✔ Aristarchus of Samos was an ancient Greek astronomer and mathematician who presented first known model that placed the Earth at the center of known universe
3. ✖ Heliocentric model finally mature until the publication of Copernicus's work in which the Sun rules over the planetary family
4. ✖ All of the given options

Question Number : 137 Question Id : 16794319524 Question Type : MCQ Option Shuffling : Yes Display Question Number : Yes  
Single Line Question Option : No Option Orientation : Vertical

Correct Marks : 1 Wrong Marks : 0.25

सौर मंडल के बारे में क्या सत्य नहीं है?

Options :

1. ✖ 'सौर प्रणाली' शब्द का पहला रिकॉर्ड किया गया उपयोग 1704 से आज तक माना जाता है
2. ✔ समोस के अरिस्टार्कस एक प्राचीन ग्रीक खगोलविद और गणितज्ञ थे जिन्होंने पहला ऐसा ज्ञात मॉडल प्रस्तुत किया जिसने पृथ्वी को ज्ञात ब्रह्मांड के केंद्र में रखा
3. ✖ हेलिओसेंट्रिक मॉडल अंततः कॉपरनिकस के काम के प्रकाशन तक परिपक्व हो जाता है जिसमें सूर्य ग्रह परिवार पर शासन करता है
4. ✖ दिए गए विकल्पों में से सभी

Question Number : 138 Question Id : 16794319525 Question Type : MCQ Option Shuffling : Yes Display Question Number : Yes  
Single Line Question Option : No Option Orientation : Vertical

Correct Marks : 1 Wrong Marks : 0.25

What was the title of Copernicus' work?

Options :

1. ✔ *On the Revolutions of the Celestial Spheres*
2. ✖ *On the Revolutions of the Sun and Solar system*
3. ✖ *On the Revolutions of the Sun and Earth*
4. ✖ None of the given options

Question Number : 138 Question Id : 16794319525 Question Type : MCQ Option Shuffling : Yes Display Question Number : Yes  
Single Line Question Option : No Option Orientation : Vertical

Correct Marks : 1 Wrong Marks : 0.25

कोपरनिकस के काम का शीर्षक क्या था?

Options :

1. ✓ सेलेस्टियल क्षेत्रों की क्रांति पर (On the Revolutions of the Celestial Spheres)
2. ✗ सूर्य और सौर प्रणाली की क्रांति पर (On the Revolutions of the Sun and Solar system)
3. ✗ सूर्य और पृथ्वी की क्रांति पर (On the Revolutions of the Sun and Earth)
4. ✗ दिए गए विकल्पों में से कोई नहीं

Question Number : 139 Question Id : 16794319526 Question Type : MCQ Option Shuffling : Yes Display Question Number : Yes  
Single Line Question Option : No Option Orientation : Vertical

Correct Marks : 1 Wrong Marks : 0.25

Which is FALSE about the definition of the fold mountains?

Options :

1. ✗ Fold mountains are formed when two of the large plates that carry the earth's crust slowly collide and compress
2. ✗ When one plate gradually folds and wrinkles as a result of this action
3. ✗ Fold mountains are grouped in the oldest mountains
4. ✓ Fold mountains are formed when two of the large plates that carry the earth's crust slowly collide and compress and When one plate gradually folds and wrinkles as a result of this action

Question Number : 139 Question Id : 16794319526 Question Type : MCQ Option Shuffling : Yes Display Question Number : Yes  
Single Line Question Option : No Option Orientation : Vertical

Correct Marks : 1 Wrong Marks : 0.25

मोड़दार पर्वतों की परिभाषा के बारे में कौन सा गलत है?

Options :

1. ✗ मोड़दार पर्वत तब बनते हैं जब पृथ्वी की परत को ले जाने वाली दो बड़ी प्लेटें धीरे-धीरे टकराती और संपीड़ित होती हैं
2. ✗ जब इस प्लेट के परिणामस्वरूप एक प्लेट धीरे-धीरे मुड़ता और सिकुड़ता है



3. ✖ मोड़दार पर्वत को सबसे पुराने पहाड़ों में समूहीकृत किया जाता है

4. ✔

मोड़दार पर्वत तब बनते हैं जब पृथ्वी की परत को ले जाने वाली दो बड़ी प्लेटें धीरे-धीरे टकराती और संपीड़ित होती हैं जब इस प्लेट के परिणामस्वरूप एक प्लेट धीरे-धीरे मुड़ता और सिकुड़ता है

Question Number : 140 Question Id : 16794319527 Question Type : MCQ Option Shuffling : Yes Display Question Number : Yes  
Single Line Question Option : No Option Orientation : Vertical

Correct Marks : 1 Wrong Marks : 0.25

Which is/are of the following statement is CORRECT?

1. Neither Taylor in 1910 nor Wegner in 1912 used the terms “continental drift” or “drift”.
2. Wegener is the father of continental drift or continental displacement.

Options :

1. ✖ Only 1

2. ✖ Only 2

3. ✔ 1 and 2 both

4. ✖ None of the given options

Question Number : 140 Question Id : 16794319527 Question Type : MCQ Option Shuffling : Yes Display Question Number : Yes  
Single Line Question Option : No Option Orientation : Vertical

Correct Marks : 1 Wrong Marks : 0.25

निम्नलिखित में से कौन सा कथन सही है?

1. न तो टेलर ने 1910 में और न ही वेगनर ने 1912 में "महाद्वीपीय बहाव" या "बहाव" शब्द का प्रयोग किया।
2. वेगनर महाद्वीपीय बहाव या महाद्वीपीय विस्थापन के जनक हैं।

Options :

1. ✖ केवल 1

2. ✖ केवल 2

3. ✔ 1 और 2 दोनों

4. ✖ दिए गए विकल्पों में से कोई नहीं

Group Number :	8
Group Id :	167943741
Group Maximum Duration :	0
Group Minimum Duration :	0
Revisit allowed for view? :	No
Revisit allowed for edit? :	No
Break time:	0
Group Marks:	20
Revisit allowed for group Instructions? :	Yes
Maximum Instruction Time:	0
Minimum Instruction Time:	0

	Subject Related
Section Id :	167943806
Section Number :	1
Section type :	Online
Mandatory or Optional:	Mandatory
Number of Questions:	20
Number of Questions to be attempted:	20
Section Marks:	20
Display Number Panel:	Yes
Group All Questions:	No

Sub-Section Number:	1
Sub-Section Id:	1679431243
Question Shuffling Allowed :	Yes

Question Number : 141 Question Id : 16794319528 Question Type : MCQ Option Shuffling : Yes Display Question Number : Yes  
 Single Line Question Option : No Option Orientation : Vertical  
 Correct Marks : 1 Wrong Marks : 0.25

Which statement is INCORRECT about advection?

Options :

- ✖ It is similar to flux
- ✖ It occurs at a point rather than through the side of a volume
- ✖ When a property is carried along by the flow, it is “advected”
- ✔ None of the given options

Question Number : 141 Question Id : 16794319528 Question Type : MCQ Option Shuffling : Yes Display Question Number : Yes  
 Single Line Question Option : No Option Orientation : Vertical  
 Correct Marks : 1 Wrong Marks : 0.25

अभिवहन के बारे में कौन सा कथन गलत है?

Options :

1. ✖ यह अभिवाह के समान है
2. ✖ यह एक वॉल्यूम के पक्ष के बजाय एक बिंदु पर होता है
3. ✖ जब एक संपत्ति प्रवाह के साथ चलती है, तो इसका "अभिवहन" होता है
4. ✔ दिए गए विकल्पों में से कोई नहीं

Question Number : 142 Question Id : 16794319529 Question Type : MCQ Option Shuffling : Yes Display Question Number : Yes  
Single Line Question Option : No Option Orientation : Vertical

Correct Marks : 1 Wrong Marks : 0.25

Which is CORRECT about heat budget?

1. The spatial and temporal variations of ocean temperatures are indications of heat transfer by currents, absorption of solar energy, loss by evaporation, and so forth
2. The size and character of the temperature variations depend on the net rate of heat flow (transport) into or out of water body.
3. Clouds do not absorb heat emitted from earth.

Options :

1. ✖ Only 1
2. ✖ Only 2
3. ✔ Both 1 & 2
4. ✖ Both 2 & 3

Question Number : 142 Question Id : 16794319529 Question Type : MCQ Option Shuffling : Yes Display Question Number : Yes  
Single Line Question Option : No Option Orientation : Vertical

Correct Marks : 1 Wrong Marks : 0.25

ताप बजट के बारे में कौन सा सही है?

1. महासागर तापमान की आकाशीय और कालिक भिन्नताएँ धाराओं द्वारा उष्मा के अंतरण, सौर ऊर्जा का अवशोषण, वाष्पीकरण से हानि, इत्यादि के संकेतक हैं।
2. तापमान भिन्नताओं का आकार और स्वरूप जल निकाय में या उसमें बाहर निकलने वाले उष्मा प्रवाह (परिवहन) की निवल दर पर निर्भर करता है।
3. बादल पृथ्वी से उत्सर्जित गर्मी को अवशोषित नहीं करते हैं।

Options :

1. ✖ केवल 1
2. ✖ केवल 2

3. ✓ 1 और 2 दोनों

4. ✗ 2 और 3 दोनों

Question Number : 143 Question Id : 16794319530 Question Type : MCQ Option Shuffling : Yes Display Question Number : Yes  
Single Line Question Option : No Option Orientation : Vertical

Correct Marks : 1 Wrong Marks : 0.25

Lines of equal rainfall are called \_\_\_\_\_.

Options :

1. ✗ Isotherms

2. ✗ Contours

3. ✓ Isohyets

4. ✗ Isopleths

Question Number : 143 Question Id : 16794319530 Question Type : MCQ Option Shuffling : Yes Display Question Number : Yes  
Single Line Question Option : No Option Orientation : Vertical

Correct Marks : 1 Wrong Marks : 0.25

समान वर्षा की रेखाओं को \_\_\_\_\_ कहा जाता है।

Options :

1. ✗ समताप-रेखा

2. ✗ परिररेखा

3. ✓ आइसोहाइट

4. ✗ आइसोप्लेथ

Question Number : 144 Question Id : 16794319531 Question Type : MCQ Option Shuffling : Yes Display Question Number : Yes  
Single Line Question Option : No Option Orientation : Vertical

Correct Marks : 1 Wrong Marks : 0.25

Points of equal pressure are connected by map lines called as \_\_\_\_\_.

Options :

1. ✗ Same pressure line

2. ✓ Isobar

3. ✖ Isotherms

4. ✖ Isopleths

Question Number : 144 Question Id : 16794319531 Question Type : MCQ Option Shuffling : Yes Display Question Number : Yes  
Single Line Question Option : No Option Orientation : Vertical  
Correct Marks : 1 Wrong Marks : 0.25

समान दबाव के बिंदु मैप लाइनों से जुड़े होते हैं जिन्हें कहा जाता है:

Options :

1. ✖ समान दबाव रेखा

2. ✔ समदाब रेखा

3. ✖ समताप-रेखा

4. ✖ आइसोप्लेथ

Question Number : 145 Question Id : 16794319532 Question Type : MCQ Option Shuffling : Yes Display Question Number : Yes  
Single Line Question Option : No Option Orientation : Vertical  
Correct Marks : 1 Wrong Marks : 0.25

The mighty Siwalic river was dismembered into various main systems. Which of the following is INCORRECT?

Options :

1. ✖ The Ganga and its Himalayan tributaries

2. ✖ The Indus and its tributaries

3. ✖ The Brahmaputra in Assam and its Himalayan tributaries

4. ✔ None of the given options

Question Number : 145 Question Id : 16794319532 Question Type : MCQ Option Shuffling : Yes Display Question Number : Yes  
Single Line Question Option : No Option Orientation : Vertical  
Correct Marks : 1 Wrong Marks : 0.25

विशाल सिवालिक नदी को विभिन्न मुख्य प्रणालियों में बांटा गया था। निम्नलिखित में से कौन सा गलत है?

Options :

1. ✖ गंगा और इसकी हिमालयी सहायक नदियाँ

2. ✖ सिंधु और इसकी सहायक नदियाँ



3. ✖ असम में ब्रह्मपुत्र और इसकी हिमालयी सहायक नदियां

4. ✔ दिए गए विकल्पों में से कोई नहीं

Question Number : 146 Question Id : 16794319533 Question Type : MCQ Option Shuffling : Yes Display Question Number : Yes  
Single Line Question Option : No Option Orientation : Vertical

Correct Marks : 1 Wrong Marks : 0.25

Which is INCORRECT about rivers and their origins?

Options :

1. ✖ The Jhelum rises from Seshnag

2. ✔ The Beas rises on the mountains of the Bangahal basin in Himachal Pradesh

3. ✖ The Chenab rises near Baralacha Pass in Lahaul

4. ✖ The Satluj rises near the Mansarovar Lake

Question Number : 146 Question Id : 16794319533 Question Type : MCQ Option Shuffling : Yes Display Question Number : Yes  
Single Line Question Option : No Option Orientation : Vertical

Correct Marks : 1 Wrong Marks : 0.25

नदियों और उनकी उत्पत्ति के बारे में कौन सा गलत है?

Options :

1. ✖ झेलम शेषशनाग से निकलती है

2. ✔ हिमाचल प्रदेश में बंगाल बेसिन के पहाड़ों से व्यास नदी निकलती है

3. ✖ चेनाब लाहौल में बरलाचा पास के पास से निकलती है

4. ✖ सतलुज मानसरोवर झील के पास से निकलती है

Question Number : 147 Question Id : 16794319534 Question Type : MCQ Option Shuffling : Yes Display Question Number : Yes  
Single Line Question Option : No Option Orientation : Vertical

Correct Marks : 1 Wrong Marks : 0.25

India's population is characterized by high growth rate. Which is NOT CORRECT about population in 2011?

Options :

1. ✖ Total population of India is 1210.19 millions

2. ✖ It is 17.5 per cent of the world's total population

3. ✖ India's population is 7.29 times greater than its area

4. ✔ Arunachal Pradesh is the lowest populous state in India

Question Number : 147 Question Id : 16794319534 Question Type : MCQ Option Shuffling : Yes Display Question Number : Yes  
Single Line Question Option : No Option Orientation : Vertical

Correct Marks : 1 Wrong Marks : 0.25

भारत की आबादी की उच्च वृद्धि दर की विशेषता है। 2011 में जनसंख्या के बारे में कौन सा सही नहीं है?

Options :

1. ✖ भारत की कुल आबादी 1210.19 लाख है

2. ✖ यह दुनिया की कुल आबादी का 17.5 प्रतिशत है

3. ✖ भारत की आबादी अपने क्षेत्र की तुलना में 7.29 गुना अधिक है

4. ✔ अरुणाचल प्रदेश भारत में सबसे कम आबादी वाला राज्य है

Question Number : 148 Question Id : 16794319535 Question Type : MCQ Option Shuffling : Yes Display Question Number : Yes  
Single Line Question Option : No Option Orientation : Vertical

Correct Marks : 1 Wrong Marks : 0.25

The imbalance of population and area in India leads to major problems like \_\_\_\_\_.

Options :

1. ✖ Low standard of living

2. ✖ Hunger

3. ✖ Disease

4. ✔ All of the given options

Question Number : 148 Question Id : 16794319535 Question Type : MCQ Option Shuffling : Yes Display Question Number : Yes  
Single Line Question Option : No Option Orientation : Vertical

Correct Marks : 1 Wrong Marks : 0.25

भारत में आबादी और क्षेत्र के वितरण की असंतुलन से बड़ी समस्याएं होती हैं जैसे कि \_\_\_\_\_।

Options :

1. ✖ निम्न स्तर का जीवन

2. ✖ भूख

3. ✖ रोग

4. ✔ दिए गए विकल्पों में से सभी

Question Number : 149 Question Id : 16794319536 Question Type : MCQ Option Shuffling : Yes Display Question Number : Yes  
Single Line Question Option : No Option Orientation : Vertical

Correct Marks : 1 Wrong Marks : 0.25

With regard to the decreasing wildlife in India, which of the following reasons is CORRECT?

1. Due to shrinking forest cover.
2. Due to continuous hunting of wildlife.

Options :

1. ✖ Only 1

2. ✖ Only 2

3. ✔ Both 1 & 2

4. ✖ None of the given options

Question Number : 149 Question Id : 16794319536 Question Type : MCQ Option Shuffling : Yes Display Question Number : Yes  
Single Line Question Option : No Option Orientation : Vertical

Correct Marks : 1 Wrong Marks : 0.25

भारत में घटते वन्यजीवन के संबंध में, निम्नलिखित में से कौन सा कारण सही है?

1. वनाच्छादन के सिकुड़ने के कारण।
2. वन्यवजीव के निरंतर शिकार के कारण।

Options :

1. ✖ केवल 1

2. ✖ केवल 2

3. ✔ 1 और 2 दोनों

4. ✖ दिए गए विकल्पों में से कोई नहीं

Question Number : 150 Question Id : 16794319537 Question Type : MCQ Option Shuffling : Yes Display Question Number : Yes  
Single Line Question Option : No Option Orientation : Vertical

Correct Marks : 1 Wrong Marks : 0.25

Define the subsistent grain farming?



Options :

1. ☒ The agriculture is carried on small land holdings with the help of animal and man power
2. ☐ This is sifting cultivation where field are abandoned after 2-3 years of cultivation
3. ☐ Use of HYV seeds, chemical fertilizers greater use of irrigational facilities are main components of this subsistent grain farming
4. ☐ None of the given options

Question Number : 150 Question Id : 16794319537 Question Type : MCQ Option Shuffling : Yes Display Question Number : Yes  
Single Line Question Option : No Option Orientation : Vertical

Correct Marks : 1 Wrong Marks : 0.25

निर्वाह अनाज की खेती को परिभाषित करें?

Options :

1. ☒ कृषि पशु और मानव शक्ति की सहायता से छोटी भू-जोतों पर की जाती है
2. ☐ यह एक स्थानांतरण खेती है जहाँ खेत को 2-3 साल की खेती के बाद छोड़ दिया जाता है
3. ☐ HYV बीजों का उपयोग, रासायनिक उर्वरक सिंचाई सुविधाओं का अधिक उपयोग इस निर्वाह अनाज की खेती के मुख्य घटक हैं
4. ☐ दिए गए विकल्पों में से कोई नहीं

Question Number : 151 Question Id : 16794319538 Question Type : MCQ Option Shuffling : Yes Display Question Number : Yes  
Single Line Question Option : No Option Orientation : Vertical

Correct Marks : 1 Wrong Marks : 0.25

Which of the following statement is INCORRECT about land holdings in India?

Options :

1. ☐ The average size of land holdings is 1.1 hac.
2. ☐ Rapid growth of population and faulty law of inheritance are responsible for small size of land holdings.
3. ☒ Owners of such holdings are economically strong enough to meet the costs of irrigation, fertilizers, improved seeds etc.
4. ☐ None of the given options

Question Number : 151 Question Id : 16794319538 Question Type : MCQ Option Shuffling : Yes Display Question Number : Yes  
Single Line Question Option : No Option Orientation : Vertical

Correct Marks : 1 Wrong Marks : 0.25

भारत में भूमि अधिग्रहण के बारे में निम्नलिखित में से कौन सा कथन गलत है?

Options :

1. ✖ भू-जोत का औसत आकार 1.1 हेक्टेयर है
2. ✖ आबादी में तीव्र वृद्धि और विरासत के दोषपूर्ण कानून भू-जोत के छोटे आकार के लिए जिम्मेदार हैं
3. ✔ ऐसी भू-जोतों के मालिक सिंचाई, उर्वरक, उन्नत बीज इत्यादि की लागत को पूरा करने के लिए आर्थिक रूप से पर्याप्त मजबूत हैं
4. ✖ दिए गए विकल्पों में से कोई नहीं

Question Number : 152 Question Id : 16794319539 Question Type : MCQ Option Shuffling : Yes Display Question Number : Yes  
Single Line Question Option : No Option Orientation : Vertical

Correct Marks : 1 Wrong Marks : 0.25

Dry zone agriculture basically belongs to fragile, high risking and low productive agricultural eco-system.

Which of the following options is INCORRECT?

Options :

1. ✖ Dry land is an agriculturally dominated region where 72% of population is dependent on agriculture
2. ✖ Dry lands cover about 31,709,000 hac. of the country's area
3. ✔ 39% of the total agricultural land is dry land
4. ✖ None of the give options

Question Number : 152 Question Id : 16794319539 Question Type : MCQ Option Shuffling : Yes Display Question Number : Yes  
Single Line Question Option : No Option Orientation : Vertical

Correct Marks : 1 Wrong Marks : 0.25

शुष्क क्षेत्र कृषि मूल रूप से उच्च जोखिम और कम उत्पादक कृषि पर्यावरण प्रणाली से संबंधित है।

निम्नलिखित में से कौन सा विकल्प गलत है?

Options :

1. ✖ शुष्क भूमि एक कृषि वर्चस्व वाला क्षेत्र है जहां 72% आबादी कृषि पर निर्भर है
2. ✖ शुष्क भूमि लगभग देश के क्षेत्र का 31,709,000 हेक्टेयर शामिल करती है



3. ✓ कुल कृषि भूमि का 39% शुष्क भूमि है

4. ✗ दिए गए विकल्पों में से कोई नहीं

Question Number : 153 Question Id : 16794319540 Question Type : MCQ Option Shuffling : Yes Display Question Number : Yes  
Single Line Question Option : No Option Orientation : Vertical

Correct Marks : 1 Wrong Marks : 0.25

A sufficient condition for the success of industrial cluster policy is the satisfaction of the following conditions in the proper order \_\_\_\_\_.

Options :

1. ✗ Industrial zones, Anchor firms and Capacity zones

2. ✗ Anchor firms, Capacity zones and Industrial zones

3. ✓ Industrial zones, Capacity zones and Anchor firms

4. ✗ Capacity zones, Industrial zones and Anchor firms

Question Number : 153 Question Id : 16794319540 Question Type : MCQ Option Shuffling : Yes Display Question Number : Yes  
Single Line Question Option : No Option Orientation : Vertical

Correct Marks : 1 Wrong Marks : 0.25

औद्योगिक क्लस्टर नीति की सफलता के लिए पर्याप्त शर्त उचित क्रम में निम्नलिखित स्थितियों की संतुष्टि है:

Options :

1. ✗ औद्योगिक क्षेत्र, एंकर फर्म और क्षमता क्षेत्र

2. ✗ एंकर फर्म, क्षमता क्षेत्र और औद्योगिक क्षेत्र

3. ✓ औद्योगिक क्षेत्र, क्षमता क्षेत्र और एंकर फर्म

4. ✗ क्षमता क्षेत्र, औद्योगिक क्षेत्र और एंकर फर्म

Question Number : 154 Question Id : 16794319541 Question Type : MCQ Option Shuffling : Yes Display Question Number : Yes  
Single Line Question Option : No Option Orientation : Vertical

Correct Marks : 1 Wrong Marks : 0.25

Which statement about sugar industry is considered as false?

Options :

1. ✗

There is mention of sugar in the *Atharva Veda* and Kautilya's *Arthashastra* and writings of Megasthenes

2. ✖ India is the second leading producer of sugar in the world
3. ✔ Tamil Nadu, Karnataka and Gujarat together produce 50 per cent of sugar of India
4. ✖ All of the given options

Question Number : 154 Question Id : 16794319541 Question Type : MCQ Option Shuffling : Yes Display Question Number : Yes  
Single Line Question Option : No Option Orientation : Vertical  
Correct Marks : 1 Wrong Marks : 0.25

चीनी उद्योग के बारे में कौन सा कथन गलत माना जाता है?

Options :

1. ✖ अथर्व वेद और कौटिल्य के अर्थशास्त्र और मेगास्थेन्स के लेखन में चीनी का उल्लेख है
2. ✖ भारत दुनिया में चीनी का दूसरा अग्रणी उत्पादक देश है
3. ✔ तमिलनाडु, कर्नाटक और गुजरात एक साथ भारत के 50 प्रतिशत चीनी का उत्पादन करते हैं
4. ✖ दिए गए विकल्पों में से सभी

Question Number : 155 Question Id : 16794319542 Question Type : MCQ Option Shuffling : Yes Display Question Number : Yes  
Single Line Question Option : No Option Orientation : Vertical  
Correct Marks : 1 Wrong Marks : 0.25

HBJ (Hajira-Bijaipur-Jagdishpur) is the most important gas pipeline of the country. Which of the following is NOT TRUE about the HBJ?

Options :

1. ✖ It has 2800 km long pipeline with a capacity Of 60 MSCMD
2. ✔ It was initiated in 1996 while it finally got commissioned in March 1998
3. ✖ It passes through Gujarat, Uttar Pradesh, Haryana, Madhya Pradesh, Rajasthan and Delhi
4. ✖ This pipeline supplies gas mainly to the power and fertilizer sector in the western and northern India

Question Number : 155 Question Id : 16794319542 Question Type : MCQ Option Shuffling : Yes Display Question Number : Yes  
Single Line Question Option : No Option Orientation : Vertical  
Correct Marks : 1 Wrong Marks : 0.25

एचबीजे (हाजीरा-बीजापुर-जगदीशपुर) देश की सबसे महत्वपूर्ण गैस पाइपलाइन है। निम्नलिखित में से कौन सा एचबीजे (HBJ) के बारे में सही नहीं है?

Options :

1. ✖ इसमें 60 MSCMD की क्षमता के साथ 2800 किमी लंबी पाइपलाइन है
2. ✔ इसे 1996 में शुरू किया गया था, जबकि इसे अंततः मार्च 1998 में चालम किया गया था
3. ✖ यह गुजरात, उत्तर प्रदेश, हरियाणा, मध्य प्रदेश, राजस्थान और दिल्ली से गुजरता है
4. ✖ यह पाइपलाइन मुख्य रूप से पश्चिमी और उत्तरी भारत में बिजली और उर्वरक क्षेत्र में गैस की आपूर्ति करती है

Question Number : 156 Question Id : 16794319543 Question Type : MCQ Option Shuffling : Yes Display Question Number : Yes  
Single Line Question Option : No Option Orientation : Vertical

Correct Marks : 1 Wrong Marks : 0.25

Which of the following statements is/are CORRECT about roads in Maharashtra (2011)?

Options :

1. ✖ Maharashtra alone has 8.57 percent of the total length of roads in the country
2. ✖ Maharashtra has the largest length of surfaced roads in India
3. ✔ Maharashtra is first place in term of the road-length on the basis of area and population of the individual state
4. ✖ All of the given options

Question Number : 156 Question Id : 16794319543 Question Type : MCQ Option Shuffling : Yes Display Question Number : Yes  
Single Line Question Option : No Option Orientation : Vertical

Correct Marks : 1 Wrong Marks : 0.25

हड़प्पा अवधि से भारतीय सभ्यता में सड़कें एक महत्वपूर्ण स्थान हैं। भारत (2011) में सड़कों के बारे में कौन सा सही है?

Options :

1. ✖ अकेले महाराष्ट्र में देश में सड़कों की कुल लंबाई 8.57 प्रतिशत है
2. ✖ भारत में महाराष्ट्र में सतही सड़क की लंबाई सबसे अधिक है
3. ✔ क्षेत्र राज्य और व्यक्तिगत राज्य की आबादी के आधार पर सड़क-लंबाई के संबंध में पहला स्थान है
4. ✖ दिए गए विकल्पों में से सभी

Question Number : 157 Question Id : 16794319544 Question Type : MCQ Option Shuffling : Yes Display Question Number : Yes  
Single Line Question Option : No Option Orientation : Vertical

Correct Marks : 1 Wrong Marks : 0.25



Which of the following hazard is NOT classified as sudden onset hazards?

Options :

1. ✖ Earthquakes
2. ✖ Tsunamis
3. ✔ Famine
4. ✖ Volcanic eruption

Question Number : 157 Question Id : 16794319544 Question Type : MCQ Option Shuffling : Yes Display Question Number : Yes  
Single Line Question Option : No Option Orientation : Vertical

Correct Marks : 1 Wrong Marks : 0.25

निम्नलिखित में से कौन सा खतरा अचानक शुरू होने वाले खतरों के रूप में वर्गीकृत नहीं है?

Options :

1. ✖ भूकंप
2. ✖ सुनामी
3. ✔ सूखा
4. ✖ ज्वालामुखी फूटना

Question Number : 158 Question Id : 16794319545 Question Type : MCQ Option Shuffling : Yes Display Question Number : Yes  
Single Line Question Option : No Option Orientation : Vertical

Correct Marks : 1 Wrong Marks : 0.25

The Integrated Rural Development Programme (IRDP) was aimed at providing self-employment to the rural poor.  
Which is CORRECT about the programme?

Options :

1. ✖ IRDP was a centrally sponsored scheme
2. ✖ Acquisition of productive assets or appropriate skills which would generate additional income on a sustained basis to enable them cross the poverty line
3. ✔ Assistance was provided in the form of cash and direct transfer of money
4. ✖ The target group consisted largely of small and marginal farmers, agricultural labourers, and rural artisans living below the poverty line

Question Number : 158 Question Id : 16794319545 Question Type : MCQ Option Shuffling : Yes Display Question Number : Yes  
Single Line Question Option : No Option Orientation : Vertical

Correct Marks : 1 Wrong Marks : 0.25

एकीकृत ग्रामीण विकास कार्यक्रम (IRDP) का उद्देश्य ग्रामीण गरीबों को स्व रोजगार प्रदान करना था। कार्यक्रम के बारे में कौन सा सही है?

Options :

1. ✖ आई.आर.डी.पी. (IRDP) एक केंद्रीय प्रायोजित योजना थी
2. ✖ उत्पादक संपत्तियों या उचित कौशल का अधिग्रहण जो गरीबी रेखा को पार करने वाले लोगों के लिए निरंतर आधार पर अतिरिक्त आय उत्पन्न करेगा
3. ✔ नकदी के रूप में सहायता और पैसे के प्रत्यक्ष अंतरण के रूप में सहायता प्रदान की गई थी
4. ✖ लक्ष्य समूह में बड़े पैमाने पर छोटे और सीमांत किसान, कृषि मजदूर और गरीबी रेखा से नीचे रहने वाले ग्रामीण कारीगर शामिल थे

Question Number : 159 Question Id : 16794319546 Question Type : MCQ Option Shuffling : Yes Display Question Number : Yes  
Single Line Question Option : No Option Orientation : Vertical

Correct Marks : 1 Wrong Marks : 0.25

Arrange the following states in decreasing order of population density according to 2011 census report.

Options :

1. ✖ Bihar, Kerala, Maharashtra, West Bengal
2. ✖ Uttar Pradesh, Kerala, Maharashtra, West Bengal
3. ✖ Bihar, Uttar Pradesh, Maharashtra, West Bengal
4. ✔ Bihar, West Bengal, Kerala, Uttar Pradesh

Question Number : 159 Question Id : 16794319546 Question Type : MCQ Option Shuffling : Yes Display Question Number : Yes  
Single Line Question Option : No Option Orientation : Vertical

Correct Marks : 1 Wrong Marks : 0.25

2011 की जनगणना रिपोर्ट के अनुसार जनसंख्या घनत्व के घटते क्रम में निम्नलिखित राज्यों को व्यवस्थित करें।

Options :

1. ✖ बिहार, केरल, महाराष्ट्र, पश्चिम बंगाल
2. ✖ उत्तर प्रदेश, केरल, महाराष्ट्र, पश्चिम बंगाल
3. ✖ बिहार, उत्तर प्रदेश, महाराष्ट्र, पश्चिम बंगाल



4. ✓ बिहार, पश्चिम बंगाल, केरल, उत्तर प्रदेश

Question Number : 160 Question Id : 16794319547 Question Type : MCQ Option Shuffling : Yes Display Question Number : Yes  
Single Line Question Option : No Option Orientation : Vertical  
Correct Marks : 1 Wrong Marks : 0.25

Which crop was associated with green revolution in India?

Options :

1. ✗ Barley

2. ✓ Wheat

3. ✗ Bajra

4. ✗ Pulses

Question Number : 160 Question Id : 16794319547 Question Type : MCQ Option Shuffling : Yes Display Question Number : Yes  
Single Line Question Option : No Option Orientation : Vertical  
Correct Marks : 1 Wrong Marks : 0.25

भारत में हरित क्रांति से कौन सी फसल जुड़ी हुई थी?

Options :

1. ✗ जौ

2. ✓ गेहूँ

3. ✗ बाजरे

4. ✗ दलहन

Subject Related

Group Number :	9
Group Id :	167943742
Group Maximum Duration :	0
Group Minimum Duration :	0
Revisit allowed for view? :	No
Revisit allowed for edit? :	No
Break time:	0
Group Marks:	20
Revisit allowed for group Instructions? :	Yes
Maximum Instruction Time:	0
Minimum Instruction Time:	0

Subject Related

Section Id :	167943807
Section Number :	1
Section type :	Online
Mandatory or Optional:	Mandatory
Number of Questions:	20
Number of Questions to be attempted:	20
Section Marks:	20
Display Number Panel:	Yes
Group All Questions:	No

Sub-Section Number:	1
Sub-Section Id:	1679431244
Question Shuffling Allowed :	Yes

Question Number : 161 Question Id : 16794319548 Question Type : MCQ Option Shuffling : Yes Display Question Number : Yes  
Single Line Question Option : No Option Orientation : Vertical

Correct Marks : 1 Wrong Marks : 0.25

What does mean of purchasing power parity (PPP)?

Options :

1. 

PPP conversion factor is the number of units of a country's currency required to buy the same amount of goods and services in the domestic market that a U.S. dollar would buy in the United States

2. 

PPP exchange factor is the country's effective currency required to buy the goods in the neighbouring countries only

3. 

PPP conversion factor is the number of units of a country's currency required to buy the same amount of goods and services in the foreign market

4. 

PPP exchange factor is the country's effective currency required to buy the goods in the foreign market that a U.S. dollar would buy in the United States

Question Number : 161 Question Id : 16794319548 Question Type : MCQ Option Shuffling : Yes Display Question Number : Yes  
Single Line Question Option : No Option Orientation : Vertical

Correct Marks : 1 Wrong Marks : 0.25

क्रय शक्ति समानता (पी.पी.पी.) का क्या अर्थ है?

Options :

1. 

पी.पी.पी. (PPP) परिवर्तन कारक घरेलू बाजार में सामान और सेवाओं की वही मात्रा खरीदने के लिए आवश्यक देश की मुद्रा की इकाइयों की संख्या है जो अमेरिकी डॉलर संयुक्त राज्य अमेरिका में खरीद लेगा

2. 

पी.पी.पी. (PPP) विनिमय कारक देश की प्रभावी मुद्रा है जो पड़ोसी देशों में सामान खरीदने के लिए आवश्यक है

3. ✖

पी.पी.पी. (PPP) परिवर्तन कारक विदेशी बाजार में सामान और सेवाओं की एक ही वही मात्रा खरीदने के लिए आवश्यक देश की मुद्रा की इकाइयों की संख्या है

4. ✖

पी.पी.पी. (PPP) विनिमय कारक देश की प्रभावी मुद्रा है जो विदेशी बाजार में सामान खरीदने के लिए आवश्यक है जो अमेरिकी डॉलर संयुक्त राज्य अमेरिका में खरीद लेगा

Question Number : 162 Question Id : 16794319549 Question Type : MCQ Option Shuffling : Yes Display Question Number : Yes  
Single Line Question Option : No Option Orientation : Vertical

Correct Marks : 1 Wrong Marks : 0.25

Liberalisation and Globalisation of Indian Economy was started by \_\_\_\_\_.

Options :

1. ✖ V.P. Singh

2. ✖ Chandra Shekhar

3. ✔ P.V. Narasimha Rao

4. ✖ Atal Bihari Vajpayee

Question Number : 162 Question Id : 16794319549 Question Type : MCQ Option Shuffling : Yes Display Question Number : Yes  
Single Line Question Option : No Option Orientation : Vertical

Correct Marks : 1 Wrong Marks : 0.25

भारतीय अर्थव्यवस्था का उदारीकरण और वैश्वीकरण \_\_\_\_\_ द्वारा शुरू किया गया था।

Options :

1. ✖ वी.पी. सिंह

2. ✖ चंद्रशेखर

3. ✔ पी.वी. नरसिम्हा राव

4. ✖ अटल बिहारी वाजपेयी

Question Number : 163 Question Id : 16794319550 Question Type : MCQ Option Shuffling : Yes Display Question Number : Yes  
Single Line Question Option : No Option Orientation : Vertical

Correct Marks : 1 Wrong Marks : 0.25

Indian government nationalised the 14 largest commercial banks with effect from the midnight of \_\_\_\_\_.

Options :

1. ✖ 15 July, 1969

2. ✖ 19 June, 1969

3. ✔ 19 July, 1969

4. ✖ 15 August, 1969

Question Number : 163 Question Id : 16794319550 Question Type : MCQ Option Shuffling : Yes Display Question Number : Yes  
Single Line Question Option : No Option Orientation : Vertical

Correct Marks : 1 Wrong Marks : 0.25

भारत सरकार ने \_\_\_\_\_ की मध्यरात्रि से 14 सबसे बड़े वाणिज्यिक बैंकों को राष्ट्रीयकृत किया।

Options :

1. ✖ 15 जुलाई, 1969

2. ✖ 19 जून, 1969

3. ✔ 19 जुलाई, 1969

4. ✖ 15 अगस्त, 1969

Question Number : 164 Question Id : 16794319551 Question Type : MCQ Option Shuffling : Yes Display Question Number : Yes  
Single Line Question Option : No Option Orientation : Vertical

Correct Marks : 1 Wrong Marks : 0.25

Which one of the following statement is INCORRECT about Reserve Bank of India (RBI)?

Options :

1. ✖ The RBI has the right to issue all currency notes in the country

2. ✖ The RBI is also the banker to the government

3. ✔ It is also banker to all nationalized banks only in the country

4. ✖ It keeps the cash reserves at all commercial banks in India

Question Number : 164 Question Id : 16794319551 Question Type : MCQ Option Shuffling : Yes Display Question Number : Yes  
Single Line Question Option : No Option Orientation : Vertical

Correct Marks : 1 Wrong Marks : 0.25

भारतीय रिज़र्व बैंक (आरबीआई) के बारे में निम्नलिखित में से कौन सा कथन गलत है?

Options :

1. ✖ भारतीय रिज़र्व बैंक (आरबीआई) को देश में सभी मुद्रा नोट जारी करने का अधिकार है



2. ✖ भारतीय रिज़र्व बैंक (आरबीआई) सरकार के लिए बैंकर भी है
3. ✔ यह केवल देश में सभी राष्ट्रीयकृत बैंकों के लिए बैंकर भी है
4. ✖ यह भारत के सभी वाणिज्यिक बैंकों में नकदी प्रारक्षित निधि रखता है

Question Number : 165 Question Id : 16794319552 Question Type : MCQ Option Shuffling : Yes Display Question Number : Yes  
Single Line Question Option : No Option Orientation : Vertical

Correct Marks : 1 Wrong Marks : 0.25

The federal structure was adopted by Constituent Assembly of India? Which is false about the federal system?

Options :

1. ✖  
Under the British rule, the British India evolved itself into federal system through various Acts passed in 1861, 1909, 1919 and 1935
2. ✖ The Constituent Assembly could not go back to unitary type of government
3. ✖  
Diversity in religion, ethnicity, language, culture, religion, etc., demanded nothing but some sort of federal system
4. ✔  
Indian Independence Act, 1947 had provision that India had to adopt federal system after 1947

Question Number : 165 Question Id : 16794319552 Question Type : MCQ Option Shuffling : Yes Display Question Number : Yes  
Single Line Question Option : No Option Orientation : Vertical

Correct Marks : 1 Wrong Marks : 0.25

संघीय संरचना भारत की संविधान सभा द्वारा अपनाई गई थी। संघीय प्रणाली के बारे में कौन सा कथन गलत है?

Options :

1. ✖  
ब्रिटिश शासन के तहत, ब्रिटिश भारत ने खुद को 1861, 1909, 1919 और 1935 में पारित विभिन्न अधिनियमों के माध्यम से संघीय प्रणाली में विकसित किया
2. ✖ संविधान सभा एकजुट प्रकार की सरकार में वापस नहीं जा सका
3. ✖  
धर्म, जाति, भाषा, संस्कृति, धर्म इत्यादि में विविधता ने कुछ प्रकार की संघीय व्यवस्था के अलावा कुछ भी मांग नहीं की
4. ✔  
भारतीय स्वतंत्रता अधिनियम, 1947 में एक प्रावधान था कि भारत को 1947 के बाद संघीय प्रणाली को अपनाना है

Question Number : 166 Question Id : 16794319553 Question Type : MCQ Option Shuffling : Yes Display Question Number : Yes  
Single Line Question Option : No Option Orientation : Vertical

Correct Marks : 1 Wrong Marks : 0.25

Federal structure of Indian Constitution is inspired from the constitution of \_\_\_\_\_.



Options :

1. ✖ Britain
2. ✖ France
3. ✔ USA
4. ✖ Australia

Question Number : 166 Question Id : 16794319553 Question Type : MCQ Option Shuffling : Yes Display Question Number : Yes  
Single Line Question Option : No Option Orientation : Vertical

Correct Marks : 1 Wrong Marks : 0.25

भारतीय संविधान की संघीय संरचना \_\_\_\_\_ के संविधान से प्रेरित है।

Options :

1. ✖ ब्रिटेन
2. ✖ फ्रांस
3. ✔ अमेरीका
4. ✖ ऑस्ट्रेलिया

Question Number : 167 Question Id : 16794319554 Question Type : MCQ Option Shuffling : Yes Display Question Number : Yes  
Single Line Question Option : No Option Orientation : Vertical

Correct Marks : 1 Wrong Marks : 0.25

Who was the president of Bolivia during the famous democratic movement occurred in 2000 in Bolivia?

Options :

1. ✖ Gonzalo Sanchez de Lozada
2. ✔ Hugo Banzer
3. ✖ Jorge Quiroga
4. ✖ Victor Paz Estenssoro

Question Number : 167 Question Id : 16794319554 Question Type : MCQ Option Shuffling : Yes Display Question Number : Yes  
Single Line Question Option : No Option Orientation : Vertical

Correct Marks : 1 Wrong Marks : 0.25

बोलिविया में 2000 में प्रसिद्ध लोकतांत्रिक आंदोलन के दौरान बोलिविया के राष्ट्रपति कौन थे?

Options :

1. ✖ गोंजालो सांचेज डी लोजादा
2. ✔ ह्यूगो बेंजर
3. ✖ जॉर्ज क्युरोगा
4. ✖ विक्टर पाज़ एस्ट्रेससोरो

Question Number : 168 Question Id : 16794319555 Question Type : MCQ Option Shuffling : Yes Display Question Number : Yes  
Single Line Question Option : No Option Orientation : Vertical

Correct Marks : 1 Wrong Marks : 0.25

Which of the following party emerged as a largest party in Constituent Assembly election, 2008 in Nepal?

Options :

1. ✔ The Communist party of Nepal (Maoist)
2. ✖ The Nepali Congress
3. ✖ The Communist party of Nepal (UML)
4. ✖ The Nepal Majdoor Kishan Party

Question Number : 168 Question Id : 16794319555 Question Type : MCQ Option Shuffling : Yes Display Question Number : Yes  
Single Line Question Option : No Option Orientation : Vertical

Correct Marks : 1 Wrong Marks : 0.25

निम्नलिखित में से कौन सी पार्टी नेपाल में संविधान विधानसभा चुनाव 2008 में सबसे बड़ी पार्टी के रूप में उभरी?

Options :

1. ✔ कम्युनिस्ट पार्टी ऑफ नेपाल (माओवादी)
2. ✖ नेपाली कांग्रेस
3. ✖ कम्युनिस्ट पार्टी ऑफ नेपाल (यूएमएल)
4. ✖ नेपाल मजदूर किसान पार्टी

Question Number : 169 Question Id : 16794319556 Question Type : MCQ Option Shuffling : Yes Display Question Number : Yes  
Single Line Question Option : No Option Orientation : Vertical

Correct Marks : 1 Wrong Marks : 0.25

Organisation of village panchayats is a right, it is mentioned in Indian Constitution as \_\_\_\_\_.

Options :

1. ✖ Fundamental Right
2. ✖ Legal Right
3. ✔ Directive Principles of State Policy
4. ✖ None of the given options

Question Number : 169 Question Id : 16794319556 Question Type : MCQ Option Shuffling : Yes Display Question Number : Yes  
Single Line Question Option : No Option Orientation : Vertical

Correct Marks : 1 Wrong Marks : 0.25

गांव पंचायतों का संगठन सही है, भारतीय संविधान में इसका उल्लेख \_\_\_\_\_ के रूप किया गया है।

Options :

1. ✖ मौलिक अधिकार
2. ✖ कानूनी अधिकार
3. ✔ राज्य नीति के निर्देशक सिद्धांत
4. ✖ दिए गए विकल्पों में से कोई नहीं

Question Number : 170 Question Id : 16794319557 Question Type : MCQ Option Shuffling : Yes Display Question Number : Yes  
Single Line Question Option : No Option Orientation : Vertical

Correct Marks : 1 Wrong Marks : 0.25

Provide the description of significant features of the 73<sup>rd</sup> and 74<sup>th</sup> Constitutional Amendment Acts:

Options :

1. ✖ The establishment of a three tier system of village, intermediate and district level panchayats
2. ✖ Two new schedule -11<sup>th</sup> and 12<sup>th</sup> were added in the Constitution
3. ✖ Once in five years, mandatory elections for the Panchayats and municipalities
4. ✔ All of the given options

Question Number : 170 Question Id : 16794319557 Question Type : MCQ Option Shuffling : Yes Display Question Number : Yes  
Single Line Question Option : No Option Orientation : Vertical

Correct Marks : 1 Wrong Marks : 0.25

73वें और 74वें संविधान संशोधन अधिनियम की महत्वपूर्ण विशेषताओं का विवरण दें:

Options :

1. ✖ ग्राम, मध्यवर्ती और जिला स्तरीय पंचायतों की तीन स्तरीय प्रणाली की स्थापना
2. ✖ संविधान में दो नई अनुसूचियां-11वीं और 12वीं जोड़ी गईं
3. ✖ पांच साल में एक बार पंचायत और नगर पालिकाओं के लिए अनिवार्य चुनाव।
4. ✔ दिए गए विकल्पों में से सभी

Question Number : 171 Question Id : 16794319558 Question Type : MCQ Option Shuffling : Yes Display Question Number : Yes  
Single Line Question Option : No Option Orientation : Vertical

Correct Marks : 1 Wrong Marks : 0.25

Which article provides the right to form political party to Indian citizen?

Options :

1. ✖ Article 13
2. ✔ Article 19
3. ✖ Article 21
4. ✖ Article 62

Question Number : 171 Question Id : 16794319558 Question Type : MCQ Option Shuffling : Yes Display Question Number : Yes  
Single Line Question Option : No Option Orientation : Vertical

Correct Marks : 1 Wrong Marks : 0.25

कौन सा अनुच्छेद भारतीय नागरिक को राजनीतिक पार्टी के गठन का अधिकार प्रदान करता है?

Options :

1. ✖ अनुच्छेद 13
2. ✔ अनुच्छेद 19
3. ✖ अनुच्छेद 21
4. ✖ अनुच्छेद 62

Question Number : 172 Question Id : 16794319559 Question Type : MCQ Option Shuffling : Yes Display Question Number : Yes  
Single Line Question Option : No Option Orientation : Vertical

Correct Marks : 1 Wrong Marks : 0.25

Find out the mismatched time lost due to interruption in the Lok Sabha.



Options :

1. ✖ First Lok Sabha: 358.43 (Hr-mins)
2. ✖ Second Lok Sabha: 144.05 (Hr-mins)
3. ✖ Third Lok Sabha: 324.01 (Hr-mins)
4. ✔ Fourth Lok Sabha: 350.43 (Hr-mins)

Question Number : 172 Question Id : 16794319559 Question Type : MCQ Option Shuffling : Yes Display Question Number : Yes  
Single Line Question Option : No Option Orientation : Vertical

Correct Marks : 1 Wrong Marks : 0.25

लोकसभा में व्यवधान के कारण नष्ट हुए बेमेल समय ज्ञात करें।

Options :

1. ✖ पहली लोकसभा: 358.43 (घंटा-मिनट)
2. ✖ दूसरी लोकसभा: 144.05 (घंटा-मिनट)
3. ✖ तीसरी लोक सभा: 324.01 (घंटा-मिनट)
4. ✔ चौथी लोक सभा: 350.43 (घंटा-मिनट)

Question Number : 173 Question Id : 16794319560 Question Type : MCQ Option Shuffling : Yes Display Question Number : Yes  
Single Line Question Option : No Option Orientation : Vertical

Correct Marks : 1 Wrong Marks : 0.25

Chief Election Commissioner is responsible to conduct free and fair election except of following \_\_\_\_\_.

Options :

1. ✖ Both Houses of Parliament
2. ✖ The President
3. ✖ State Legislative Assemblies
4. ✔ Gram Panchayats and Municipalities

Question Number : 173 Question Id : 16794319560 Question Type : MCQ Option Shuffling : Yes Display Question Number : Yes  
Single Line Question Option : No Option Orientation : Vertical

Correct Marks : 1 Wrong Marks : 0.25

मुख्य चुनाव आयुक्त निम्नलिखित \_\_\_\_\_ को छोड़कर स्वतंत्र और निष्पक्ष चुनाव कराने के लिए ज़िम्मेदार है।

Options :



1. ✖ संसद के दोनों सदनों
2. ✖ राष्ट्रपति
3. ✖ राज्य विधानसभाओं
4. ✔ ग्राम पंचायतों और नगर पालिकाओं

Question Number : 174 Question Id : 16794319561 Question Type : MCQ Option Shuffling : Yes Display Question Number : Yes  
Single Line Question Option : No Option Orientation : Vertical

Correct Marks : 1 Wrong Marks : 0.25

Which of the following is/are CORRECT about elections in India?

Options :

1. ✖ Part XV of the Constitution is related to the elections
2. ✖  
Article 324 is related to Superintendence, direction and control of elections to be vested in an Election Commission.
3. ✖  
The elections to the House of the People and to the Legislative Assembly of every State shall be on the basis of adult suffrage
4. ✔ All of the given options

Question Number : 174 Question Id : 16794319561 Question Type : MCQ Option Shuffling : Yes Display Question Number : Yes  
Single Line Question Option : No Option Orientation : Vertical

Correct Marks : 1 Wrong Marks : 0.25

भारत में चुनावों के बारे में निम्नलिखित में से कौन सा सही है?

Options :

1. ✖ संविधान का भाग XV चुनाव से संबंधित है
2. ✖  
अनुच्छेद 324 चुनाव आयोग में निहित होने वाले चुनावों के अधीक्षण, दिशा और नियंत्रण से संबंधित है
3. ✖  
लोक सभा और प्रत्येक राज्य की विधान सभा के लिए चुनाव वयस्क मताधिकार के आधार पर होंगे
4. ✔ दिए गए विकल्पों में से सभी

Question Number : 175 Question Id : 16794319562 Question Type : MCQ Option Shuffling : Yes Display Question Number : Yes  
Single Line Question Option : No Option Orientation : Vertical

Correct Marks : 1 Wrong Marks : 0.25

How many articles were there originally in the constitution of India?

Options :

- 1. ✖ 355
- 2. ✔ 395
- 3. ✖ 414
- 4. ✖ 448

Question Number : 175 Question Id : 16794319562 Question Type : MCQ Option Shuffling : Yes Display Question Number : Yes  
Single Line Question Option : No Option Orientation : Vertical

Correct Marks : 1 Wrong Marks : 0.25

भारत के संविधान में मूलतः कितने अनुच्छेद थे?

Options :

- 1. ✖ 355
- 2. ✔ 395
- 3. ✖ 414
- 4. ✖ 448

Question Number : 176 Question Id : 16794319563 Question Type : MCQ Option Shuffling : Yes Display Question Number : Yes  
Single Line Question Option : No Option Orientation : Vertical

Correct Marks : 1 Wrong Marks : 0.25

The Upper House of Pakistan is called as \_\_\_\_\_.

Options :

- 1. ✔ Senate
- 2. ✖ National Assembly
- 3. ✖ People's House
- 4. ✖ The Islamic League

Question Number : 176 Question Id : 16794319563 Question Type : MCQ Option Shuffling : Yes Display Question Number : Yes  
Single Line Question Option : No Option Orientation : Vertical

Correct Marks : 1 Wrong Marks : 0.25

पाकिस्तान के ऊपरी सदन को \_\_\_\_\_ कहा जाता है।

Options :

1. ✓ प्रबंधकारिणी समिति (Senate)

2. ✗ राष्ट्रीय सभा

3. ✗ लोक सभा (पीपल्स हाउस)

4. ✗ इस्लामी लीग

Question Number : 177 Question Id : 16794319564 Question Type : MCQ Option Shuffling : Yes Display Question Number : Yes  
Single Line Question Option : No Option Orientation : Vertical

Correct Marks : 1 Wrong Marks : 0.25

When the first meeting of the Constituent Assembly held?

Options :

1. ✗ 6 December, 1946

2. ✗ 8 December, 1946

3. ✓ 9 December, 1946

4. ✗ 12 December, 1946

Question Number : 177 Question Id : 16794319564 Question Type : MCQ Option Shuffling : Yes Display Question Number : Yes  
Single Line Question Option : No Option Orientation : Vertical

Correct Marks : 1 Wrong Marks : 0.25

संविधान सभा की पहली बैठक कब हुई थी?

Options :

1. ✗ 6 दिसंबर, 1946

2. ✗ 8 दिसंबर, 1946

3. ✓ 9 दिसंबर, 1946

4. ✗ 12 दिसंबर, 1946

Question Number : 178 Question Id : 16794319565 Question Type : MCQ Option Shuffling : Yes Display Question Number : Yes  
Single Line Question Option : No Option Orientation : Vertical

Correct Marks : 1 Wrong Marks : 0.25

The members of Constituent Assembly were elected by:

Options :

1. ✖ The Indian National Congress and the Muslim League
2. ✖ Viceroy of India
3. ✖ Provisions of Indian Government Act 1935
4. ✔ Provincial Assemblies

Question Number : 178 Question Id : 16794319565 Question Type : MCQ Option Shuffling : Yes Display Question Number : Yes  
Single Line Question Option : No Option Orientation : Vertical

Correct Marks : 1 Wrong Marks : 0.25

संविधान सभा के सदस्य किसके द्वारा चुने गए थे?

Options :

1. ✖ भारतीय राष्ट्रीय कांग्रेस और मुस्लिम लीग
2. ✖ भारत के वाइसराय
3. ✖ भारतीय सरकार अधिनियम 1935 के प्रावधान
4. ✔ प्रांतीय असेंबली

Question Number : 179 Question Id : 16794319566 Question Type : MCQ Option Shuffling : Yes Display Question Number : Yes  
Single Line Question Option : No Option Orientation : Vertical

Correct Marks : 1 Wrong Marks : 0.25

The Chairman of the Constituent Assembly was \_\_\_\_\_.

Options :

1. ✖ Jawaharlal Nehru
2. ✖ Dr. B.R. Ambedkar
3. ✔ Rajendra Prasad
4. ✖ Mahatma Gandhi

Question Number : 179 Question Id : 16794319566 Question Type : MCQ Option Shuffling : Yes Display Question Number : Yes  
Single Line Question Option : No Option Orientation : Vertical

Correct Marks : 1 Wrong Marks : 0.25

संविधान सभा के अध्यक्ष \_\_\_\_\_ थे।

Options :



1. ✖ जवाहर लाल नेहरू

2. ✖ डॉ. बी.आर. अम्बेडकर

3. ✔ राजेन्द्र प्रसाद

4. ✖ महात्मा गांधी

Question Number : 180 Question Id : 16794319567 Question Type : MCQ Option Shuffling : Yes Display Question Number : Yes  
Single Line Question Option : No Option Orientation : Vertical

Correct Marks : 1 Wrong Marks : 0.25

Jammu and Kashmir is only state which was allowed to adopt and frame separate state constitution, because:

Options :

1. ✖ Indian integration of the state has been a matter of the United Nations' concern

2. ✖

Govt. of India has offered a special status to the state under article 370 of the Constitution of India

3. ✖

Due to historical reasons and reasons of 'Instrument of Accession' which allowed the state to frame and adopt its separate constitution

4. ✔ All of the given options

Question Number : 180 Question Id : 16794319567 Question Type : MCQ Option Shuffling : Yes Display Question Number : Yes  
Single Line Question Option : No Option Orientation : Vertical

Correct Marks : 1 Wrong Marks : 0.25

जम्मू-कश्मीर एकमात्र ऐसा राज्य था जिसे भारतीय गणराज्य द्वारा अपना संविधान अपनाने और तैयार करने की अनुमति दी गई थी, क्योंकि:

Options :

1. ✖ राज्य का भारतीय एकीकरण संयुक्त राष्ट्र की चिंता का विषय रहा है

2. ✖

भारत सरकार ने भारत के संविधान के अनुच्छेद 370 के तहत राज्य को विशेष दर्जा दिया है

3. ✖

ऐतिहासिक कारणों और 'अधिमिलन के माध्यम' के कारणों के कारण जिसने राज्य को अपना अलग संविधान बनाने और अपनाने की अनुमति दी

4. ✔ दिए गए विकल्पों में से सभी



### Subject Related

Group Number :	10
Group Id :	167943743
Group Maximum Duration :	0
Group Minimum Duration :	120
Revisit allowed for view? :	No
Revisit allowed for edit? :	No
Break time:	0
Group Marks:	20
Revisit allowed for group Instructions? :	Yes
Maximum Instruction Time:	0
Minimum Instruction Time:	0

### Subject Related

Section Id :	167943808
Section Number :	1
Section type :	Online
Mandatory or Optional:	Mandatory
Number of Questions:	20
Number of Questions to be attempted:	20
Section Marks:	20
Display Number Panel:	Yes
Group All Questions:	No

Sub-Section Number:	1
Sub-Section Id:	1679431245
Question Shuffling Allowed :	Yes

Question Number : 181 Question Id : 16794319568 Question Type : MCQ Option Shuffling : Yes Display Question Number : Yes  
Single Line Question Option : No Option Orientation : Vertical

Correct Marks : 1 Wrong Marks : 0.25

The Commonwealth Nations (British Commonwealth), is an intergovernmental organisation that are mostly former territories of the British Colony. Which of the following impacts is INCORRECT about relations of Britain and India after enforcement of Indian Constitution?

Options :

1. ✖ The Crown of England ceased to have any legal or constitutional authority over

2. ✖ No citizen of India was have to any allegiance to the British Crown

3. ✖

India remained a member of British Commonwealth without acknowledging allegiance to the Crown which was the symbol of unity of the old British empire and of its successor

4. ✔

A special provision have been made in Indian Constitution regarding India's membership of British Commonwealth

Question Number : 181 Question Id : 16794319568 Question Type : MCQ Option Shuffling : Yes Display Question Number : Yes  
Single Line Question Option : No Option Orientation : Vertical

Correct Marks : 1 Wrong Marks : 0.25

राष्ट्रमंडल राष्ट्र (ब्रिटिश राष्ट्रमंडल) एक अंतर सरकारी संगठन है जो ज्यादातर ब्रिटिश उपनिवेशों के पूर्व क्षेत्र हैं।  
भारतीय संविधान के प्रवर्तन के बाद भारत और ब्रिटेन के संबंधों के बारे में निम्नलिखित में से कौन सा प्रभाव गलत है?

Options :

1. ✖ क्राउन ऑफ इंग्लैंड का इस पर कोई कानूनी या संवैधानिक अधिकार नहीं रह गया
2. ✖ भारत के किसी भी नागरिक को ब्रिटिश क्राउन के प्रति कोई निष्ठा नहीं थी
3. ✖ भारत क्राउन के प्रति निष्ठा को स्वीकार किए बिना ब्रिटिश राष्ट्रमंडल का सदस्य बना रहा जो पुराने ब्रिटिश साम्राज्य और उसके उत्तराधिकारी की एकता का प्रतीक था
4. ✔ भारतीय संविधान में ब्रिटिश राष्ट्रमंडल की भारत की सदस्यता के संबंध में एक विशेष प्रावधान किया गया है

Question Number : 182 Question Id : 16794319569 Question Type : MCQ Option Shuffling : Yes Display Question Number : Yes  
Single Line Question Option : No Option Orientation : Vertical

Correct Marks : 1 Wrong Marks : 0.25

Which is false statement with regards to the power of Parliament?

Options :

1. ✖ Parliament may make laws for the whole or any part of the territory of India, and the Legislature of a State may make laws for the whole or any part of the State.
2. ✖ Parliament has exclusive power to make any law with respect to any matter not enumerated in the Concurrent List or State List.
3. ✖ Parliament may by law provide for the establishment of any additional courts for the better administration of laws made by Parliament.
4. ✔ A law made by Parliament shall be deemed to be invalid on the ground that it would have extra-territorial operation.

Question Number : 182 Question Id : 16794319569 Question Type : MCQ Option Shuffling : Yes Display Question Number : Yes  
Single Line Question Option : No Option Orientation : Vertical

Correct Marks : 1 Wrong Marks : 0.25

संसद की शक्तियों के बारे में कौन सा कथन गलत है?

Options :

1. ✖ संसद भारतीय भू-भाग के पूरे या किसी भी हिस्से के लिए कानून बना सकती है, और राज्य के विधानमंडल राज्य के पूरे या किसी भी हिस्से के लिए कानून बना सकता।

2. ✖

संसद को समवर्ती सूची या राज्य सूची में वर्णित न किए गए किसी भी मामले के संबंध में कोई कानून बनाने के लिए अनन्य शक्ति है।

3. ✖

संसद द्वारा बनाए गए कानूनों के बेहतर प्रशासन के लिए किसी अतिरिक्त न्यायालय की स्थापना के लिए संसद कानून बना सकती है।

4. ✔

संसद द्वारा बनाए गए किसी कानून को इस आधार पर अवैध माना जाएगा कि इसका अतिरिक्त-क्षेत्रीय प्रभाव/प्रचालन हो सकता है।

Question Number : 183 Question Id : 16794319570 Question Type : MCQ Option Shuffling : Yes Display Question Number : Yes  
Single Line Question Option : No Option Orientation : Vertical

Correct Marks : 1 Wrong Marks : 0.25

Find out INCORRECT feature of Indian parliament?

Options :

1. ✖

It is bicameral legislature

2. ✖

It is a national level debate forum

3. ✖

It plays a role of an organ of information in respect of government activities issues of the State

4. ✔

President could make laws without consent of the Parliament

Question Number : 183 Question Id : 16794319570 Question Type : MCQ Option Shuffling : Yes Display Question Number : Yes  
Single Line Question Option : No Option Orientation : Vertical

Correct Marks : 1 Wrong Marks : 0.25

भारतीय संसद की गलत विशेषता ज्ञात करें।

Options :

1. ✖

यह द्विसदन विधायिका है

2. ✖

यह एक राष्ट्र स्तरीय बहस मंच है

3. ✖

यह राज्य के सरकारी कार्यकलापों और मुद्दों के संबंध में सूचना के एक साधन की भूमिका निभाती है

4. ✔

राष्ट्रपति संसद की सहमति के बिना कानून बना सकते हैं

Question Number : 184 Question Id : 16794319571 Question Type : MCQ Option Shuffling : Yes Display Question Number : Yes  
Single Line Question Option : No Option Orientation : Vertical



Correct Marks : 1 Wrong Marks : 0.25

Different terminology has been used in Indian Constitution for the Parliament. Which one of the following is misinterpreted?

Options :

1. ✖

“Adjournment” is a postponement of the sitting or proceedings of the House from one time to another specified for the reassembling of the House

2. ✔

“Prorogation” means the termination of a Session by an order made by Speaker of the Lok Sabha

3. ✖

“Dissolution” of the house means the end of the life of the Lok Sabha by an order made by President or expiry of five years

4. ✖ None of the given options

Question Number : 184 Question Id : 16794319571 Question Type : MCQ Option Shuffling : Yes Display Question Number : Yes  
Single Line Question Option : No Option Orientation : Vertical

Correct Marks : 1 Wrong Marks : 0.25

संसद के लिए भारतीय संविधान में विभिन्न शब्दावलियों का प्रयोग किया गया है। निम्नलिखित में से किसका गलत अर्थ लगाया जाता है?

Options :

1. ✖

“स्थगन” सदन की बैठक या कार्यवाहियों का एक समय से सदन की पुनःबैठक के लिए निर्दिष्ट दूसरे समय तक स्थगन है

2. ✔

“सत्रावसान” का अर्थ लोकसभा के अध्यक्ष द्वारा दिए गए आदेश द्वारा सत्र का समापन है

3. ✖

सदन के “विघटन / भंग” का अर्थ है राष्ट्रपति द्वारा दिए गए आदेश के द्वारा या पांच वर्ष की समाप्ति पर लोकसभा के कार्यकाल की समाप्ति

4. ✖ दिए गए विकल्पों में से कोई नहीं

Question Number : 185 Question Id : 16794319572 Question Type : MCQ Option Shuffling : Yes Display Question Number : Yes  
Single Line Question Option : No Option Orientation : Vertical

Correct Marks : 1 Wrong Marks : 0.25

The separation of judiciary from executive is mentioned in the article \_\_\_\_\_.

Options :

1. ✖ 48

2. ✖ 49

3. ✓ 50

4. ✗ 51

Question Number : 185 Question Id : 16794319572 Question Type : MCQ Option Shuffling : Yes Display Question Number : Yes  
Single Line Question Option : No Option Orientation : Vertical

Correct Marks : 1 Wrong Marks : 0.25

कार्यपालिका से न्यायपालिका को अलग करने का उल्लेख अनुच्छेद \_\_\_\_\_ में किया गया है।

Options :

1. ✗ 48

2. ✗ 49

3. ✓ 50

4. ✗ 51

Question Number : 186 Question Id : 16794319573 Question Type : MCQ Option Shuffling : Yes Display Question Number : Yes  
Single Line Question Option : No Option Orientation : Vertical

Correct Marks : 1 Wrong Marks : 0.25

According to the Article 14, who shall NOT deny to any person equality before the law or the equal protection of the laws within the territory of India?

Options :

1. ✗ Prime Minister and His Cabinet

2. ✗ The President of India

3. ✗ The Chief Justice of India

4. ✓ The State

Question Number : 186 Question Id : 16794319573 Question Type : MCQ Option Shuffling : Yes Display Question Number : Yes  
Single Line Question Option : No Option Orientation : Vertical

Correct Marks : 1 Wrong Marks : 0.25

अनुच्छेद 14 के अनुसार, कौन किसी भी व्यक्ति को कानून के समक्ष समानता या भारतीय भू-भाग के भीतर कानूनों के समान संरक्षण से इंकार नहीं करेगा?

Options :

1. ✗ प्रधान मंत्री और उनका मंत्रिमंडल

2. ✗ भारत के राष्ट्रपति



3. ✖ भारत के मुख्य न्यायाधीश

4. ✔ राज्य

Question Number : 187 Question Id : 16794319574 Question Type : MCQ Option Shuffling : Yes Display Question Number : Yes  
Single Line Question Option : No Option Orientation : Vertical

Correct Marks : 1 Wrong Marks : 0.25

Which part of the Indian Constitution is the prime source of power of Indian?

Options :

1. ✔ Part III

2. ✖ Part VI

3. ✖ Part V

4. ✖ Part VII

Question Number : 187 Question Id : 16794319574 Question Type : MCQ Option Shuffling : Yes Display Question Number : Yes  
Single Line Question Option : No Option Orientation : Vertical

Correct Marks : 1 Wrong Marks : 0.25

भारतीय संविधान का कौन सा हिस्सा भारतीय नागरिक की शक्ति का प्रमुख स्रोत है?

Options :

1. ✔ भाग III

2. ✖ भाग VI

3. ✖ भाग V

4. ✖ भाग VII

Question Number : 188 Question Id : 16794319575 Question Type : MCQ Option Shuffling : Yes Display Question Number : Yes  
Single Line Question Option : No Option Orientation : Vertical

Correct Marks : 1 Wrong Marks : 0.25

Which one of the article and its provision is mismatched?

Options :

1. ✖ Article 23: Prohibition of traffic in human beings and forced labour

2. ✖ Article 25: Freedom of conscience and free profession, practice and propagation of religion

3. ✔ Article 26: freedom as to payment of taxes for promotion of any particular religion

4. ✖ Article 29: protection of interests of minorities

Question Number : 188 Question Id : 16794319575 Question Type : MCQ Option Shuffling : Yes Display Question Number : Yes  
Single Line Question Option : No Option Orientation : Vertical

Correct Marks : 1 Wrong Marks : 0.25

निम्नलिखित में से कौन सा अनुच्छेद और उसका प्रावधान बेमेल है?

Options :

1. ✖ अनुच्छेद 23: मानव जाति का अवैध व्यापार और बलात श्रम का निषेध

2. ✖

अनुच्छेद 25: विवेक और स्वतंत्र व्यवसाय की स्वतंत्रता, धर्म अपनाना और उसका प्रचार-प्रसार करना।

3. ✔ अनुच्छेद 26: किसी विशेष धर्म को बढ़ावा देने के लिए करों का भुगतान करने की आजादी

4. ✖ अनुच्छेद 29: अल्पसंख्यकों के हितों का संरक्षण

Question Number : 189 Question Id : 16794319576 Question Type : MCQ Option Shuffling : Yes Display Question Number : Yes  
Single Line Question Option : No Option Orientation : Vertical

Correct Marks : 1 Wrong Marks : 0.25

Which one of the following right INCORRECT inclusion in “personal liberty” under article 21 by the Supreme Court in 1996?

Options :

1. ✖ Right to shelter

2. ✖ Right to free legal aid

3. ✖ Right to speedy trial

4. ✔ Right to timely medical treatment in private hospital

Question Number : 189 Question Id : 16794319576 Question Type : MCQ Option Shuffling : Yes Display Question Number : Yes  
Single Line Question Option : No Option Orientation : Vertical

Correct Marks : 1 Wrong Marks : 0.25

1996 में उच्चतम न्यायालय द्वारा अनुच्छेद 21 के तहत “व्यक्तिगत स्वतंत्रता” में निम्नलिखित में से कौन सा अधिकार गलत समावेश है?

Options :

1. ✖ आश्रय का अधिकार

2. ✖ निःशुल्क कानूनी सहायता का अधिकार
3. ✖ त्वरित परीक्षण का अधिकार
4. ✔ निजी अस्पताल में समय पर चिकित्सीय उपचार का अधिकार

Question Number : 190 Question Id : 16794319577 Question Type : MCQ Option Shuffling : Yes Display Question Number : Yes  
Single Line Question Option : No Option Orientation : Vertical

Correct Marks : 1 Wrong Marks : 0.25

Which article empowers the President to suspend the rights to move the any court for enforcement of fundamental rights while Proclamation of National Emergency is in operation?

Options :

1. ✖ Article 352
2. ✖ Article 356
3. ✔ Article 359
4. ✖ Article 360

Question Number : 190 Question Id : 16794319577 Question Type : MCQ Option Shuffling : Yes Display Question Number : Yes  
Single Line Question Option : No Option Orientation : Vertical

Correct Marks : 1 Wrong Marks : 0.25

कौन सा अनुच्छेद राष्ट्रपति को राष्ट्रीय आपातकाल की घोषणा के दौरान मौलिक अधिकारों के प्रवर्तन के लिए किसी भी न्यायालय में जाने के अधिकारों को निलंबित करने का अधिकार देता है?

Options :

1. ✖ अनुच्छेद 352
2. ✖ अनुच्छेद 356
3. ✔ अनुच्छेद 359
4. ✖ अनुच्छेद 360

Sub-Section Number:

2

Sub-Section Id:

1679431246

Question Shuffling Allowed :

Yes

Question Number : 191 Question Id : 16794319578 Question Type : MCQ Option Shuffling : Yes Display Question Number : Yes  
Single Line Question Option : No Option Orientation : Vertical

Correct Marks : 1 Wrong Marks : 0.25

Inappropriate behavior can be corrected by:

Note: For this question, discrepancy is found in question/answer. So, this question is ignored for all candidates.

Options :

1. Ignorance
2. Strictness
3. Punishment
4. Praising

Question Number : 191 Question Id : 16794319578 Question Type : MCQ Option Shuffling : Yes Display Question Number : Yes  
Single Line Question Option : No Option Orientation : Vertical

Correct Marks : 1 Wrong Marks : 0.25

अनुचित व्यवहार द्वारा सही किया जा सकता है:

Note: For this question, discrepancy is found in question/answer. So, this question is ignored for all candidates.

Options :

1. अज्ञान
2. सख्ती
3. सजा
4. प्रशंसा करना

Question Number : 192 Question Id : 16794319579 Question Type : MCQ Option Shuffling : Yes Display Question Number : Yes  
Single Line Question Option : No Option Orientation : Vertical

Correct Marks : 1 Wrong Marks : 0.25

Who concerned about educational programmes for out of school children?

Options :

1. ✓ Sarada Balagopalan
2. ✗ John Denis
3. ✗ Parvathin rentukutla
4. ✗ Mokshagundam Vishwshwaraiah



Question Number : 192 Question Id : 16794319579 Question Type : MCQ Option Shuffling : Yes Display Question Number : Yes  
Single Line Question Option : No Option Orientation : Vertical

Correct Marks : 1 Wrong Marks : 0.25

स्कूल के बच्चों के लिए शैक्षणिक कार्यक्रमों के बारे में कौन चिंतित था?

Options :

1. ✓ सारदा बालागोपालन
2. ✗ जॉन डेनिस
3. ✗ पार्वथिन रंतुकुतला
4. ✗ मोक्षगुंडम विश्वसरैया

Question Number : 193 Question Id : 16794319580 Question Type : MCQ Option Shuffling : Yes Display Question Number : Yes  
Single Line Question Option : No Option Orientation : Vertical

Correct Marks : 1 Wrong Marks : 0.25

Synchronous or asynchronous delivery types belongs to:

Note: For this question, discrepancy is found in question/answer. So, this question is ignored for all candidates.

Options :

1. Distance learning
2. E-learning
3. Experiential learning
4. Activity based learning

Question Number : 193 Question Id : 16794319580 Question Type : MCQ Option Shuffling : Yes Display Question Number : Yes  
Single Line Question Option : No Option Orientation : Vertical

Correct Marks : 1 Wrong Marks : 0.25

तुल्यकालिक या असीमित वितरण प्रकार से संबंधित है:

Note: For this question, discrepancy is found in question/answer. So, this question is ignored for all candidates.

Options :

1. दूर - शिक्षण
2. ई-लर्निंग

3. प्रायोगिक ज्ञान

4. गतिविधि आधारित शिक्षा

Question Number : 194 Question Id : 16794319581 Question Type : MCQ Option Shuffling : Yes Display Question Number : Yes  
Single Line Question Option : No Option Orientation : Vertical

Correct Marks : 1 Wrong Marks : 0.25

Studying about health, environment, Natural hazards comes under:

Options :

1. ✖ Social studies

2. ✔ General science

3. ✖ Environmental theory

4. ✖ Primary education

Question Number : 194 Question Id : 16794319581 Question Type : MCQ Option Shuffling : Yes Display Question Number : Yes  
Single Line Question Option : No Option Orientation : Vertical

Correct Marks : 1 Wrong Marks : 0.25

स्वास्थ्य, पर्यावरण, प्राकृतिक खतरों के बारे में अध्ययन करना आता है:

Options :

1. ✖ सामाजिक अध्ययन

2. ✔ सामान्य विज्ञान

3. ✖ पर्यावरण सिद्धांत

4. ✖ प्राथमिक शिक्षा

Question Number : 195 Question Id : 16794319582 Question Type : MCQ Option Shuffling : Yes Display Question Number : Yes  
Single Line Question Option : No Option Orientation : Vertical

Correct Marks : 1 Wrong Marks : 0.25

The society ruled and controlled by men is called:

Options :

1. ✔ Patriarchy system

2. ✖ Matriarchy system

3. ✖ Democratic system

4. ✖ Feminism

Question Number : 195 Question Id : 16794319582 Question Type : MCQ Option Shuffling : Yes Display Question Number : Yes  
Single Line Question Option : No Option Orientation : Vertical

Correct Marks : 1 Wrong Marks : 0.25

समाज द्वारा शासन और नियंत्रित समाज को कहा जाता है:

Options :

1. ✔ पितृसत्ता प्रणाली

2. ✖ मातृसत्ता प्रणाली

3. ✖ लोकतांत्रिक प्रणाली

4. ✖ नारीवाद

Question Number : 196 Question Id : 16794319583 Question Type : MCQ Option Shuffling : Yes Display Question Number : Yes  
Single Line Question Option : No Option Orientation : Vertical

Correct Marks : 1 Wrong Marks : 0.25

Students should be seated and lined up by:

Options :

1. ✖ Gender

2. ✖ Height

3. ✔ Random places

4. ✖ Alphabetical

Question Number : 196 Question Id : 16794319583 Question Type : MCQ Option Shuffling : Yes Display Question Number : Yes  
Single Line Question Option : No Option Orientation : Vertical

Correct Marks : 1 Wrong Marks : 0.25

निम्नलिखित में से किसके अनुसार छात्रों को बैठाना और पंक्ति में बैठाना चाहिए?

Options :

1. ✖ लिंग

2. ✖ ऊँचाई

3. ✓ यादच्छिक स्थानों

4. ✗ वर्णमाला

Question Number : 197 Question Id : 16794319584 Question Type : MCQ Option Shuffling : Yes Display Question Number : Yes  
Single Line Question Option : No Option Orientation : Vertical

Correct Marks : 1 Wrong Marks : 0.25

“Phonemic awareness” is best developed through:

Options :

1. ✓ By reciting

2. ✗ Rhymes or songs

3. ✗ Alphabetic principals

4. ✗ Practice sessions

Question Number : 197 Question Id : 16794319584 Question Type : MCQ Option Shuffling : Yes Display Question Number : Yes  
Single Line Question Option : No Option Orientation : Vertical

Correct Marks : 1 Wrong Marks : 0.25

"फोनेमिक जागरूकता" के माध्यम से सबसे अच्छा विकसित किया गया है:

Options :

1. ✓ पढ़कर

2. ✗ राइम्स या गाने

3. ✗ वर्णमाला सिद्धांत

4. ✗ अभ्यास सत्र

Question Number : 198 Question Id : 16794319585 Question Type : MCQ Option Shuffling : Yes Display Question Number : Yes  
Single Line Question Option : No Option Orientation : Vertical

Correct Marks : 1 Wrong Marks : 0.25

The basis for problem-solving strategies for local communities can be obtained through:

Options :

1. ✓ Local or Indigenous knowledge

2. ✗ Procedural Knowledge



3. ✖ Personal Knowledge

4. ✖ Propositional Knowledge

Question Number : 198 Question Id : 16794319585 Question Type : MCQ Option Shuffling : Yes Display Question Number : Yes  
Single Line Question Option : No Option Orientation : Vertical

Correct Marks : 1 Wrong Marks : 0.25

स्थानीय समुदायों के लिए समस्या सुलझाने की रणनीतियों का आधार प्राप्त किया जा सकता है:

Options :

1. ✔ स्थानीय या स्वदेशी ज्ञान

2. ✖ प्रक्रियात्मक ज्ञान

3. ✖ व्यक्तिगत ज्ञान

4. ✖ प्रस्तावनात्मक ज्ञान

Question Number : 199 Question Id : 16794319586 Question Type : MCQ Option Shuffling : Yes Display Question Number : Yes  
Single Line Question Option : No Option Orientation : Vertical

Correct Marks : 1 Wrong Marks : 0.25

Does the environmental education included from kindergarten. How?

Options :

1. ✔ Yes, By way of teaching about Cleanliness, Animals, Plants Wastage Etc.

2. ✖ No

3. ✖ Depends on the teacher who teaches

4. ✖ Depends on school curriculum

Question Number : 199 Question Id : 16794319586 Question Type : MCQ Option Shuffling : Yes Display Question Number : Yes  
Single Line Question Option : No Option Orientation : Vertical

Correct Marks : 1 Wrong Marks : 0.25

पर्यावरण शिक्षा बाल विहार से शामिल है। कैसे?

Options :

1. ✔ हां, स्वच्छता, पशु, पौधे अपशिष्ट आदि के बारे में शिक्षण के माध्यम से

2. ✖ नहीं

3. ✖ जो शिक्षक सिखाता है उस पर निर्भर करता है

4. ✖ स्कूल पाठ्यक्रम पर निर्भर करता है

Question Number : 200 Question Id : 16794319587 Question Type : MCQ Option Shuffling : Yes Display Question Number : Yes  
Single Line Question Option : No Option Orientation : Vertical

Correct Marks : 1 Wrong Marks : 0.25

What is the main Role and responsibility of head master of inclusive school?

Options :

1. ✔ Recognizing that all students benefit from inclusion

2. ✖ Special children must get special attention

3. ✖ Adopting good infrastructure

4. ✖ Appointing special teachers

Question Number : 200 Question Id : 16794319587 Question Type : MCQ Option Shuffling : Yes Display Question Number : Yes  
Single Line Question Option : No Option Orientation : Vertical

Correct Marks : 1 Wrong Marks : 0.25

समावेशी स्कूल के मुख्य मास्टर की मुख्य भूमिका और ज़िम्मेदारी क्या है?

Options :

1. ✔ यह स्वीकार करते हुए कि सभी छात्रों को शामिल करने से लाभ होता है

2. ✖ विशेष बच्चों को विशेष ध्यान देना चाहिए

3. ✖ अच्छे बुनियादी ढांचे को अपनाना

4. ✖ विशेष शिक्षकों की नियुक्ति