

Question Paper Preview

Notations :

- Options shown in green color and with ✓ icon are correct.
- Options shown in red color and with ✗ icon are incorrect.

Question Paper Name:	TGT SOCIAL SCIENCE FEMALE 15th Oct 2018 Shift 1
Subject Name:	TGT SOCIAL SCIENCE FEMALE
Creation Date:	2018-10-15 15:22:41
Duration:	120
Total Marks:	200
Display Marks:	Yes
Share Answer Key With Delivery Engine:	Yes
Actual Answer Key:	Yes
Calculator:	None
Magnifying Glass Required?:	No
Ruler Required?:	No
Eraser Required?:	No
Scratch Pad Required?:	No
Rough Sketch/Notepad Required?:	No
Protractor Required?:	No
Show Watermark on Console?:	No
Highlighter:	No
Auto Save on Console?:	No

Mental Ability

Group Number :	1
Group Id :	167943724
Group Maximum Duration :	0
Group Minimum Duration :	0
Revisit allowed for view? :	No
Revisit allowed for edit? :	No
Break time:	0
Group Marks:	20
Revisit allowed for group Instructions? :	Yes
Maximum Instruction Time:	0
Minimum Instruction Time:	0

Mental Ability

Section Id :	167943789
Section Number :	1
Section type :	Online
Mandatory or Optional:	Mandatory
Number of Questions:	20
Number of Questions to be attempted:	20
Section Marks:	20

Display Number Panel:

Yes

Group All Questions:

No

Sub-Section Number:

1

Sub-Section Id:

1679431219

Question Shuffling Allowed :

Yes

Question Number : 1 Question Id : 16794319182 Question Type : MCQ Option Shuffling : Yes Display Question Number : Yes
Single Line Question Option : No Option Orientation : Vertical

Correct Marks : 1 Wrong Marks : 0.25

Choose the word pair that is odd among the four given.

Options :

1. ✖ UAE : Dirham

2. ✖ Iraq : Dinar

3. ✖ UK : Pound

4. ✔ Turkey : Dollar

Question Number : 1 Question Id : 16794319182 Question Type : MCQ Option Shuffling : Yes Display Question Number : Yes
Single Line Question Option : No Option Orientation : Vertical

Correct Marks : 1 Wrong Marks : 0.25

चार दिए गए शब्द-युग्म के बीच विषम शब्द-युग्म का चयन करें।

Options :

1. ✖ यू.ए.ई. : दिरहम

2. ✖ इराक : दिनार

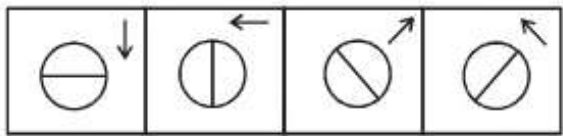
3. ✖ यू.के. : पाउंड

4. ✔ तुर्की : डॉलर

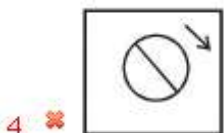
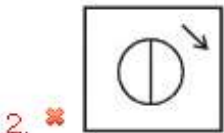
Question Number : 2 Question Id : 16794319183 Question Type : MCQ Option Shuffling : Yes Display Question Number : Yes
Single Line Question Option : No Option Orientation : Vertical

Correct Marks : 1 Wrong Marks : 0.25

Identify the figure from the options that is similar to the figures given below.



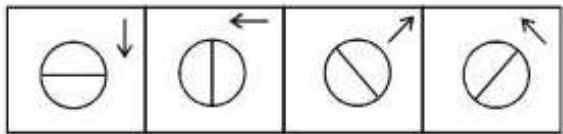
Options :



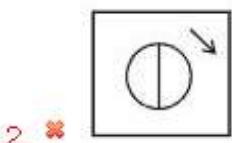
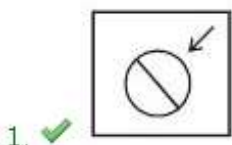
Question Number : 2 Question Id : 16794319183 Question Type : MCQ Option Shuffling : Yes Display Question Number : Yes
Single Line Question Option : No Option Orientation : Vertical


Correct Marks : 1 Wrong Marks : 0.25

नीचे की गई आकृतियों के समान विकल्प की पहचान करें।



Options :

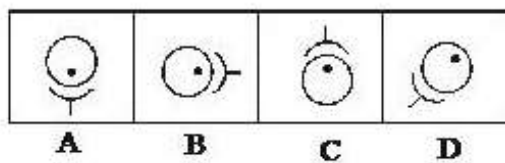




Question Number : 3 Question Id : 16794319184 Question Type : MCQ Option Shuffling : Yes Display Question Number : Yes
Single Line Question Option : No Option Orientation : Vertical

Correct Marks : 1 Wrong Marks : 0.25

Given below are a few images. Identify the image that is odd.



Options :

1. ✖ A

2. ✖ B

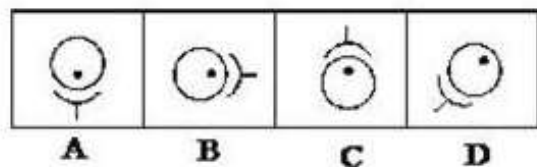
3. ✖ C

4. ✔ D

Question Number : 3 Question Id : 16794319184 Question Type : MCQ Option Shuffling : Yes Display Question Number : Yes
Single Line Question Option : No Option Orientation : Vertical

Correct Marks : 1 Wrong Marks : 0.25

नीचे कुछ छवियां दी गई हैं। विषम छवि की पहचान करें।



Options :

1. ✖ A

2. ✖ B

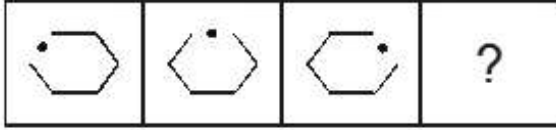
3. ✖ C

4. ✓ D

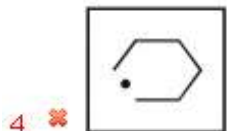
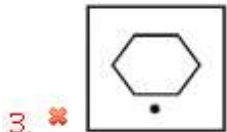
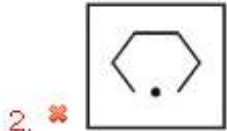
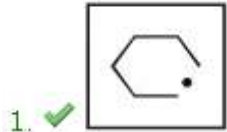
Question Number : 4 Question Id : 16794319185 Question Type : MCQ Option Shuffling : Yes Display Question Number : Yes
Single Line Question Option : No Option Orientation : Vertical

Correct Marks : 1 Wrong Marks : 0.25

What will be the next figure in the below series?



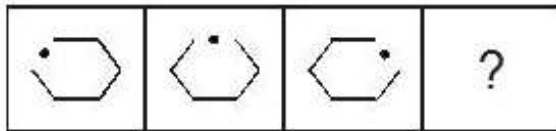
Options :



Question Number : 4 Question Id : 16794319185 Question Type : MCQ Option Shuffling : Yes Display Question Number : Yes
Single Line Question Option : No Option Orientation : Vertical

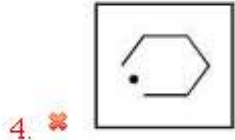
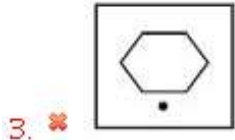
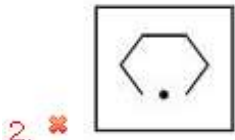
Correct Marks : 1 Wrong Marks : 0.25

नीचे दी गई श्रृंखला में अगली आकृति क्या होगी?



Options :

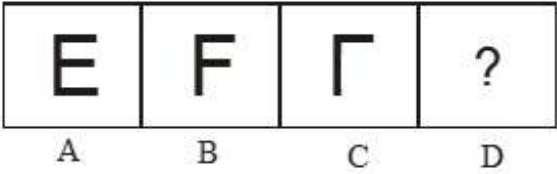





Question Number : 5 Question Id : 16794319186 Question Type : MCQ Option Shuffling : Yes Display Question Number : Yes
Single Line Question Option : No Option Orientation : Vertical

Correct Marks : 1 Wrong Marks : 0.25

What will be the next figure in the below series?



Options :



Question Number : 5 Question Id : 16794319186 Question Type : MCQ Option Shuffling : Yes Display Question Number : Yes
Single Line Question Option : No Option Orientation : Vertical

Correct Marks : 1 Wrong Marks : 0.25

नीचे दी गई श्रृंखला में अगली आकृति क्या होगी?

E	F	Г	?
A	B	C	D

Options :

1. ✓ 

2. ✗ 

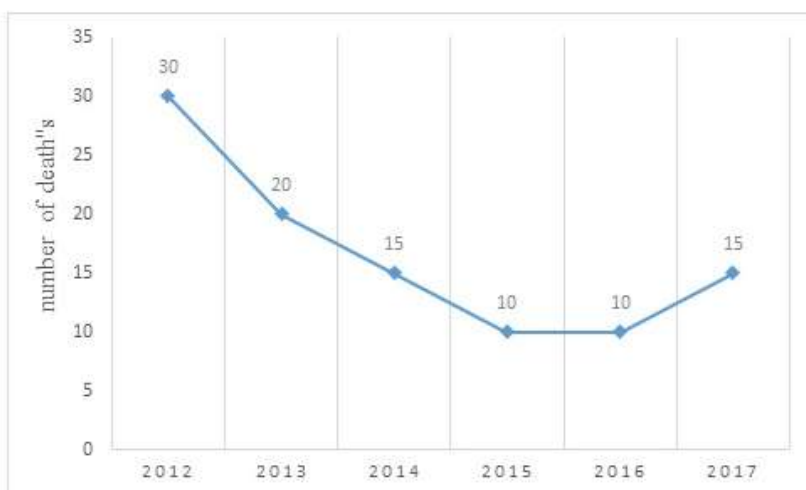
3. ✗ 

4. ✗ 

Question Number : 6 Question Id : 16794319187 Question Type : MCQ Option Shuffling : Yes Display Question Number : Yes
Single Line Question Option : No Option Orientation : Vertical

Correct Marks : 1 Wrong Marks : 0.25

The following graph shows information about the death rate because of dengue fever in a tribal village 'Z' for the past 6 years.



Identify the number of deaths due to dengue in village 'Z' during the years 2014 & 2015.

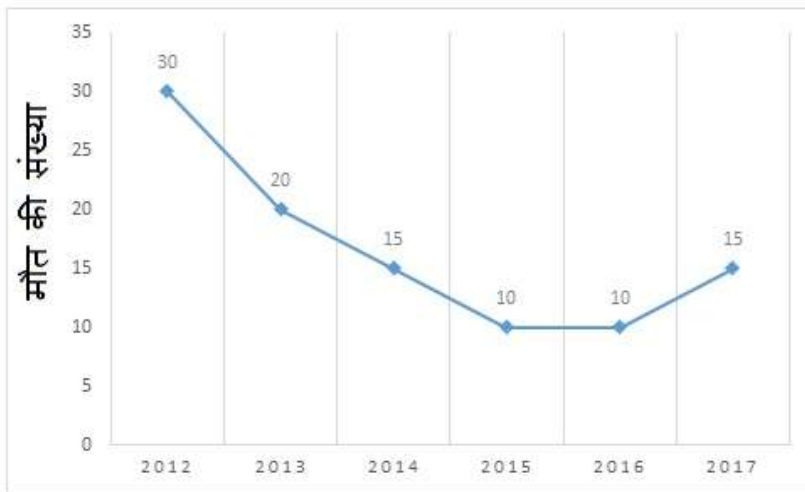
Options :

1. ✖ 20
2. ✖ 15
3. ✖ 10
4. ✔ 25

Question Number : 6 Question Id : 16794319187 Question Type : MCQ Option Shuffling : Yes Display Question Number : Yes
Single Line Question Option : No Option Orientation : Vertical

Correct Marks : 1 Wrong Marks : 0.25

निम्नलिखित ग्राफ में पिछले 6 वर्षों से जनजातीय गांव 'जेड' में डेंगू बुखार की वजह से मृत्यु दर के बारे में जानकारी दी गई है।



वर्ष 2014 और 2015 के दौरान गांव 'जेड' में डेंगू के कारण मौतों की संख्या कितनी है?

Options :

1. ✖ 20
2. ✖ 15
3. ✖ 10
4. ✔ 25

Question Number : 7 Question Id : 16794319188 Question Type : MCQ Option Shuffling : Yes Display Question Number : Yes
Single Line Question Option : No Option Orientation : Vertical

Correct Marks : 1 Wrong Marks : 0.25

Spot the option figure that has the below figure embedded as part of it.



Options :



Question Number : 7 Question Id : 16794319188 Question Type : MCQ Option Shuffling : Yes Display Question Number : Yes
Single Line Question Option : No Option Orientation : Vertical

Correct Marks : 1 Wrong Marks : 0.25

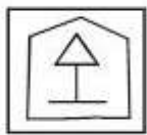
आकृति में विकल्प आकृति को चिन्हित करें जिसे नीचे दी गई आकृति में सन्निहत किया गया है।



Options :



4. ✖



Question Number : 8 Question Id : 16794319189 Question Type : MCQ Option Shuffling : Yes Display Question Number : Yes
Single Line Question Option : No Option Orientation : Vertical

Correct Marks : 1 Wrong Marks : 0.25

Study the following information carefully and answer the given questions.

For a recruitment process in an ACCOUNTING organisation, the candidates need to possess the following qualifications:

- i) Graduation in commerce with at least 60% marks.
- ii) An age of at least 24 years and not more than 40 years as on 1-7-2016.
- iii) A post-qualification work experience of at least 2 years.
- iv) 55% marks in the selection process.

However, if the candidate fulfills the above-mentioned criteria EXCEPT:

(A) at (i), and if the candidate is not a graduate in commerce but has a post-graduation degree in finance with a minimum of 60% marks, he/she should be referred to the Finance Manager of the organisation.

(B) at (iii), and if the candidate fulfills the eligibility criterion of post-qualification work experience, but has secured 75% marks in the selection process, he/she may be referred to the Trainee Accountant.

Based on the above information, decide whether the following candidate will be eligible for the recruitment process and select the most appropriate option. You are not to assume anything other than the information provided in the question. All the cases are given to you as on 1-7-2016.

Anurag Kumar has 6 years of post-qualification work experience. His date of birth is 5-4-1992. He has secured 62% marks in the selection process. He has completed graduation in commerce and scored 76% in it.

Options :

- 1. ✔ Should be selected
- 2. ✖ Should not be selected
- 3. ✖ May be referred to the Finance Manager
- 4. ✖ May be referred to the Trainee Accountant

Question Number : 8 Question Id : 16794319189 Question Type : MCQ Option Shuffling : Yes Display Question Number : Yes
Single Line Question Option : No Option Orientation : Vertical

Correct Marks : 1 Wrong Marks : 0.25

नीचे दी गई जानकारी को ध्यानपूर्वक पढ़ें और दिए गए प्रश्नों का उत्तर दें।

एक लेखा संगठन में भर्ती प्रक्रिया के लिए, उम्मीदवारों के लिए

निम्नलिखित योग्यता मानदंड की आवश्यकता है:

- i) न्यूनतम 60% अंकों के साथ वाणिज्य में स्नातक।
- ii) 1-7-2016 को उम्र कम से कम 24 साल और 40 साल से अधिक नहीं।
- iii) उम्मीदवारों को शिक्षा के बाद कम से कम 2 वर्ष का कार्य अनुभव होना चाहिए।
- iv) उन्हें चयन प्रक्रिया में 55% अंक प्राप्त करना चाहिए था।

हालांकि, यदि उम्मीदवार उपर्युक्त मानदंडों को पूरा करता है तो इस छोड़कर:

(A) (i) के मामले में यदि उम्मीदवार वाणिज्य में स्नातक नहीं है लेकिन उसके पास वित्त में 60% अंक के साथ स्नातकोत्तर की डिग्री है, उसे संस्थान के वित्त प्रबंधन से संपर्क करना चाहिए।

(B) (iii) के मामले में यदि उम्मीदवार शिक्षा के बाद कम से कम 2 वर्ष का कार्य अनुभव के पात्रता मापदंड को पूरा करता है, इतना ही नहीं वह चयन प्रक्रिया में 75% अंक अर्जित किया है, उसे प्रशिक्षु अकाउंटेंट के लिए संदर्भित किया जा सकता है।

उपरोक्त सूचना के आधार पर तय करें कि क्या निम्नलिखित उम्मीदवार चयन प्रक्रिया में पात्र हैं, और उपयुक्त विकल्प का चयन करें। आपको प्रश्न में दी गई जानकारी के अलावा कुछ और नहीं सोचना है। आपको दिए गए सभी मामले 1-7-2016 के हैं।

अनुराग कुमार के पास शिक्षा के बाद 6 वर्ष का कार्य अनुभव है। उसका जन्मदिन 05-4-1992 है। उसने चयन प्रक्रिया में 62% अंक अर्जित किया है। उसने स्नातक वाणिज्य से किया है और 76% अंक अर्जित किया है।

Options :

1. ☒ चयन होना चाहिए
2. ☐ चयन नहीं होना चाहिए
3. ☐ वित्त प्रबंधक संदर्भित किया जा सकता है
4. ☐ प्रशिक्षु अकाउंटेंट संदर्भित किया जा सकता है

Question Number : 9 Question Id : 16794319190 Question Type : MCQ Option Shuffling : Yes Display Question Number : Yes
Single Line Question Option : No Option Orientation : Vertical

Correct Marks : 1 Wrong Marks : 0.25

You are writing an entrance examination. If you find that the question paper is too tough to be answered, what should be your logical step?

Options :

1. ☐ Tell the invigilator and organizers that the questions are out of course.
2. ☐ Make an agitation and provoke the candidates to walk out of the examination hall.
3. ☐ Try to know something from your co-participants in the exam hall.
4. ☒ Try to attempt the paper and solve the questions as much as you know with a cool mind.

Question Number : 9 Question Id : 16794319190 Question Type : MCQ Option Shuffling : Yes Display Question Number : Yes
Single Line Question Option : No Option Orientation : Vertical

Correct Marks : 1 Wrong Marks : 0.25

आप एक प्रवेश परीक्षा लिख रहे हैं। यदि आपको लगता है कि प्रश्नपत्र का उत्तर लिखना बहुत मुश्किल है, तो आपका तार्किक कदम क्या होना चाहिए?

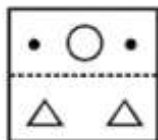
Options :

1. ☐ निरीक्षक और आयोजक को बताएं कि प्रश्न निश्चित रूप से पाठ्यक्रम से बाहर है।
2. ☐ आंदोलन करें और उम्मीदवारों को परीक्षा कक्ष से बाहर निकलने के लिए उकसाएं।
3. ☐ परीक्षा कक्ष में अपने सह-प्रतिभागियों से कुछ जानने का प्रयास करें।
4. ☒ प्रश्नपत्र को हल करने का प्रयास करें और जितना आप जानते हैं उतने प्रश्न शांत मन के साथ हल करें।

Question Number : 10 Question Id : 16794319191 Question Type : MCQ Option Shuffling : Yes Display Question Number : Yes
Single Line Question Option : No Option Orientation : Vertical

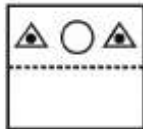
Correct Marks : 1 Wrong Marks : 0.25

If the following transparent paper is folded at the dotted line, what will be the result?



Options :

1. ✖



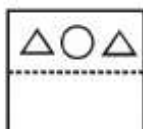
2. ✔



3. ✖



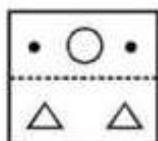
4. ✖



Question Number : 10 Question Id : 16794319191 Question Type : MCQ Option Shuffling : Yes Display Question Number : Yes
Single Line Question Option : No Option Orientation : Vertical

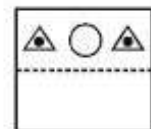
Correct Marks : 1 Wrong Marks : 0.25

यदि निम्न पारदर्शी कागज बिंदीदार रेखा पर मोड़ दिया जाता है, तो परिणाम आकृति क्या होगी?

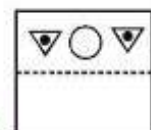


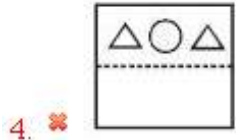

Options :

1. ✖



2. ✔





Question Number : 11 Question Id : 16794319192 Question Type : MCQ Option Shuffling : Yes Display Question Number : Yes
Single Line Question Option : No Option Orientation : Vertical

Correct Marks : 1 Wrong Marks : 0.25

Identify the most appropriate option.

A tree must have:

Options :

1. ✔ Roots

2. ✖ Fruits

3. ✖ Flowers

4. ✖ Horns

Question Number : 11 Question Id : 16794319192 Question Type : MCQ Option Shuffling : Yes Display Question Number : Yes
Single Line Question Option : No Option Orientation : Vertical

Correct Marks : 1 Wrong Marks : 0.25

सबसे उपयुक्त विकल्प की पहचान करें।

एक पेड़ में क्या होना चाहिए?

Options :

1. ✔ जड़

2. ✖ फल

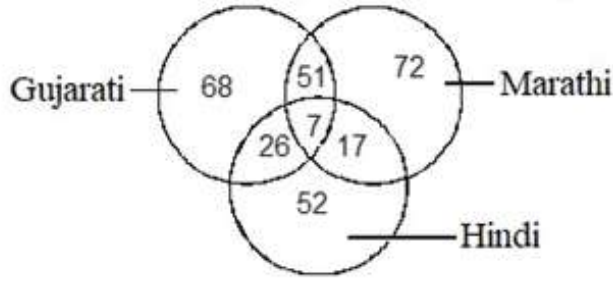
3. ✖ फूल

4. ✖ सींग

Question Number : 12 Question Id : 16794319193 Question Type : MCQ Option Shuffling : Yes Display Question Number : Yes
Single Line Question Option : No Option Orientation : Vertical

Correct Marks : 1 Wrong Marks : 0.25

Study the following Venn diagram carefully and answer the question.



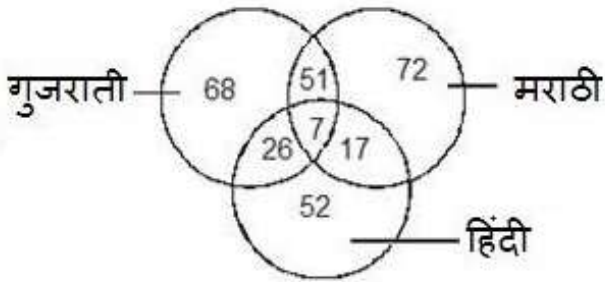
How many persons speak Gujarati as well as Marathi but not Hindi?

Options :

1. ✖ 58
2. ✔ 51
3. ✖ 140
4. ✖ 196

Question Number : 12 Question Id : 16794319193 Question Type : MCQ Option Shuffling : Yes Display Question Number : Yes
Single Line Question Option : No Option Orientation : Vertical
Correct Marks : 1 Wrong Marks : 0.25

निम्नलिखित वेन आरेख ध्यानपूर्वक अध्ययन करें और प्रश्न का उत्तर दें।



कितने लोग गुजराती और मराठी बोलते हैं लेकिन हिंदी नहीं बोलते हैं?

Options :

1. ✖ 58
2. ✔ 51
3. ✖ 140
4. ✖ 196

Question Number : 13 Question Id : 16794319194 Question Type : MCQ Option Shuffling : Yes Display Question Number : Yes
Single Line Question Option : No Option Orientation : Vertical

Correct Marks : 1 Wrong Marks : 0.25

Vidhya is the sister of Rajesh. How is Rajesh's father's mother related to Vidhya?

Options :

1. ✖ Cousin sister
2. ✖ Maternal aunt
3. ✖ Mother
4. ✔ Paternal grandmother

Question Number : 13 Question Id : 16794319194 Question Type : MCQ Option Shuffling : Yes Display Question Number : Yes
Single Line Question Option : No Option Orientation : Vertical

Correct Marks : 1 Wrong Marks : 0.25

विद्या राजेश की बहन है। राजेश के पिता की मां विद्या से किस तरह संबंधित है?

Options :

1. ✖ चचेरी बहन
2. ✖ मौसी/मामी
3. ✖ मां
4. ✔ दादी

Question Number : 14 Question Id : 16794319195 Question Type : MCQ Option Shuffling : Yes Display Question Number : Yes
Single Line Question Option : No Option Orientation : Vertical

Correct Marks : 1 Wrong Marks : 0.25

If L stands for +, M stands for −, N stands for ×, P stands for ÷, then what is the value of $6N3L48P6M10$?

Options :

1. ✖ 18
2. ✔ 16
3. ✖ 20
4. ✖ 15

Question Number : 14 Question Id : 16794319195 Question Type : MCQ Option Shuffling : Yes Display Question Number : Yes
Single Line Question Option : No Option Orientation : Vertical

Correct Marks : 1 Wrong Marks : 0.25

यदि L का अर्थ +, M का अर्थ -, N का अर्थ \times , P का अर्थ \div है, तो $6N3L48P6M10$ का मान कितना होगा?

Options :

1. ✖ 18
2. ✔ 16
3. ✖ 20
4. ✖ 15

Question Number : 15 Question Id : 16794319196 Question Type : MCQ Option Shuffling : Yes Display Question Number : Yes
Single Line Question Option : No Option Orientation : Vertical

Correct Marks : 1 Wrong Marks : 0.25

Six children take part in a games' contest. Each one must play with every other one. How many total number of games will be played?

Options :

1. ✔ 15
2. ✖ 20
3. ✖ 10
4. ✖ 12

Question Number : 15 Question Id : 16794319196 Question Type : MCQ Option Shuffling : Yes Display Question Number : Yes
Single Line Question Option : No Option Orientation : Vertical

Correct Marks : 1 Wrong Marks : 0.25

खेल के प्रतियोगिता में छह बच्चे भाग लेते हैं। प्रत्येक बच्चे को हर दूसरे के साथ खेलना चाहिए। कुल कितने खेल खेले जाएंगे?

Options :

1. ✔ 15
2. ✖ 20
3. ✖ 10
4. ✖ 12

Question Number : 16 Question Id : 16794319197 Question Type : MCQ Option Shuffling : Yes Display Question Number : Yes
Single Line Question Option : No Option Orientation : Vertical

Correct Marks : 1 Wrong Marks : 0.25

Arjun is 4 years elder to Balu and 4 years younger to Chandu, while Balu and Dinesh are twins. How many years elder is Chandu to Dinesh?

Options :

1. ✖ 6

2. ✖ 10

3. ✖ 12

4. ✔ 8

Question Number : 16 Question Id : 16794319197 Question Type : MCQ Option Shuffling : Yes Display Question Number : Yes
Single Line Question Option : No Option Orientation : Vertical

Correct Marks : 1 Wrong Marks : 0.25

अर्जुन बालू से 4 साल बड़ा है और चंदू से 4 साल छोटा है, जबकि बालू और दिनेश जुड़वा हैं। चंदू दिनेश से कितने साल बड़ा है?

Options :

1. ✖ 6

2. ✖ 10

3. ✖ 12

4. ✔ 8

Question Number : 17 Question Id : 16794319198 Question Type : MCQ Option Shuffling : Yes Display Question Number : Yes
Single Line Question Option : No Option Orientation : Vertical

Correct Marks : 1 Wrong Marks : 0.25

Choose the word-pair in which the words are differently related than in the other pairs of words.

Options :

1. ✖ Eye : See

2. ✖ Tongue : Taste

3. ✖ Nose : Smell

4. ✔ Ear : Deaf

Question Number : 17 Question Id : 16794319198 Question Type : MCQ Option Shuffling : Yes Display Question Number : Yes
Single Line Question Option : No Option Orientation : Vertical

Correct Marks : 1 Wrong Marks : 0.25

वह शब्द-युग्म चुनें जिसमें शब्द अन्य युग्म की तुलना में अलग-अलग संबंधित हैं।

Options :

1. ✖ आंख : देखना

2. ✖ जीभ : स्वाद

3. ✖ नाक : सुगंध

4. ✔ कान : बधिर

Question Number : 18 Question Id : 16794319199 Question Type : MCQ Option Shuffling : Yes Display Question Number : Yes
Single Line Question Option : No Option Orientation : Vertical

Correct Marks : 1 Wrong Marks : 0.25

Find the odd pair of numbers that share a different relationship as compared to the rest of the options.

Options :

1. ✖ 7 : 345

2. ✖ 9 : 731

3. ✔ 11 : 1331

4. ✖ 6 : 218

Question Number : 18 Question Id : 16794319199 Question Type : MCQ Option Shuffling : Yes Display Question Number : Yes
Single Line Question Option : No Option Orientation : Vertical

Correct Marks : 1 Wrong Marks : 0.25

शेष विकल्पों की तुलना में एक अलग रिश्ते को साझा करने वाली संख्याओं की विषम युग्म का पता लगाएं।

Options :

1. ✖ 7 : 345

2. ✖ 9 : 731

3. ✔ 11 : 1331

4. ✖ 6 : 218

Question Number : 19 Question Id : 16794319200 Question Type : MCQ Option Shuffling : Yes Display Question Number : Yes
Single Line Question Option : No Option Orientation : Vertical

Correct Marks : 1 Wrong Marks : 0.25

Identify which number will come in place of '?' in the below series.

3, 6, 12, 24, ?, 96, 192

Options :

1. ✔ 48

2. ✖ 50

3. ✖ 67

4. ✖ 82

Question Number : 19 Question Id : 16794319200 Question Type : MCQ Option Shuffling : Yes Display Question Number : Yes
Single Line Question Option : No Option Orientation : Vertical

Correct Marks : 1 Wrong Marks : 0.25

उस संख्या की पहचान करें जो नीचे दी गई श्रृंखला में ? की जगह आएगी।

3, 6, 12, 24, ?, 96, 192

Options :

1. ✔ 48

2. ✖ 50

3. ✖ 67

4. ✖ 82

Question Number : 20 Question Id : 16794319201 Question Type : MCQ Option Shuffling : Yes Display Question Number : Yes
Single Line Question Option : No Option Orientation : Vertical

Correct Marks : 1 Wrong Marks : 0.25

What would be the next term in the below series?

MY, NW, OU, PS

Options :

1. ✖ RS

2. ✔ QQ

3. ✖ PV

4. ✖ KC

Question Number : 20 Question Id : 16794319201 Question Type : MCQ Option Shuffling : Yes Display Question Number : Yes
Single Line Question Option : No Option Orientation : Vertical

Correct Marks : 1 Wrong Marks : 0.25

नीचे दी गई श्रृंखला में अगला अक्षर समूह क्या होगा?

MY, NW, OU, PS

Options :

1.  RS

2.  QQ

3.  PV

4.  KC

General Awareness

Group Number :	2
Group Id :	167943725
Group Maximum Duration :	0
Group Minimum Duration :	0
Revisit allowed for view? :	No
Revisit allowed for edit? :	No
Break time:	0
Group Marks:	20
Revisit allowed for group Instructions? :	Yes
Maximum Instruction Time:	0
Minimum Instruction Time:	0

General Awareness

Section Id :	167943790
Section Number :	1
Section type :	Online
Mandatory or Optional:	Mandatory
Number of Questions:	20
Number of Questions to be attempted:	20
Section Marks:	20
Display Number Panel:	Yes
Group All Questions:	No

Sub-Section Number:	1
Sub-Section Id:	1679431220
Question Shuffling Allowed :	Yes

Question Number : 21 Question Id : 16794319202 Question Type : MCQ Option Shuffling : Yes Display Question Number : Yes
Single Line Question Option : No Option Orientation : Vertical

Correct Marks : 1 Wrong Marks : 0.25

In which year were Bihar and Odisha separated as single provinces from the Bengal Presidency?

Options :

1.  1912

2. ✖ 1935

3. ✖ 1931

4. ✖ 1921

Question Number : 21 Question Id : 16794319202 Question Type : MCQ Option Shuffling : Yes Display Question Number : Yes
Single Line Question Option : No Option Orientation : Vertical

Correct Marks : 1 Wrong Marks : 0.25

बिहार और ओडिशा, बंगाल प्रेसीडेंसी से अलग-अलग प्रांतों के रूप में कौन से वर्ष में अलग हुए?

Options :

1. ✔ 1912

2. ✖ 1935

3. ✖ 1931

4. ✖ 1921

Question Number : 22 Question Id : 16794319203 Question Type : MCQ Option Shuffling : Yes Display Question Number : Yes
Single Line Question Option : No Option Orientation : Vertical

Correct Marks : 1 Wrong Marks : 0.25

Fill in the blank with the most appropriate option.

The national calendar based on the Saka Era, with Chaitra as its first month was adopted in the year _____ for certain official purposes.

Options :

1. ✔ 1957

2. ✖ 1958

3. ✖ 1959

4. ✖ 1956

Question Number : 22 Question Id : 16794319203 Question Type : MCQ Option Shuffling : Yes Display Question Number : Yes
Single Line Question Option : No Option Orientation : Vertical

Correct Marks : 1 Wrong Marks : 0.25

उचित विकल्प चुनकर रिक्त स्थान की पूर्ति करें।

साका युग पर आधारित राष्ट्रीय दिनदर्शिका, जिसमें चैत्र पहला महीना है, कुछ आधिकारिक उद्देश्यों के लिए साल _____ में अपनाई गई थी।

Options :

1. ✓ 1957

2. ✗ 1958

3. ✗ 1959

4. ✗ 1956

Question Number : 23 Question Id : 16794319204 Question Type : MCQ Option Shuffling : Yes Display Question Number : Yes
Single Line Question Option : No Option Orientation : Vertical

Correct Marks : 1 Wrong Marks : 0.25

Arrange the following former Prime Ministers of India in the chronological order of their respective tenure.

1. V.P. Singh
2. H.D. Deve Gowda
3. I.K. Gujral
4. Charan Singh
5. Chandra Shekhar

Options :

1. ✓ 4-1-5-2-3

2. ✗ 3-2-5-1-4

3. ✗ 3-2-1-5-4

4. ✗ 2-3-5-1-4

Question Number : 23 Question Id : 16794319204 Question Type : MCQ Option Shuffling : Yes Display Question Number : Yes
Single Line Question Option : No Option Orientation : Vertical

Correct Marks : 1 Wrong Marks : 0.25

भारत के निम्नलिखित पूर्व प्रधान मंत्रियों को अपने संबंधित कार्यकाल के आधार पर कालक्रमबद्ध करें:

1. वि.पी. सिंह
2. एच.डी. देवेगौडा
3. आई.के. गुजराल
4. चरण सिंह
5. चंद्र शेखर

Options :

1. ✓ 4-1-5-2-3

2. ✗ 3-2-5-1-4

3. ✗ 3-2-1-5-4

4. ✖ 2-3-5-1-4

Question Number : 24 Question Id : 16794319205 Question Type : MCQ Option Shuffling : Yes Display Question Number : Yes
Single Line Question Option : No Option Orientation : Vertical

Correct Marks : 1 Wrong Marks : 0.25

As at the end of August 2018, who was the Minister of Railways in the Union Cabinet?

Options :

1. ✔ Piyush Goyal
2. ✖ Suresh Prabhu
3. ✖ Nitin J. Gadkari
4. ✖ D.V. Sadananda Gowda

Question Number : 24 Question Id : 16794319205 Question Type : MCQ Option Shuffling : Yes Display Question Number : Yes
Single Line Question Option : No Option Orientation : Vertical

Correct Marks : 1 Wrong Marks : 0.25

2018 अगस्त के अंत में, केंद्रीय मंत्रिमंडल में रेल मंत्री कौन थे?

Options :

1. ✔ पियूष गोयल
2. ✖ सुरेश प्रभु
3. ✖ नितिन जे. गडकरी
4. ✖ डी.वी. सदानंद गोवडा

Question Number : 25 Question Id : 16794319206 Question Type : MCQ Option Shuffling : Yes Display Question Number : Yes
Single Line Question Option : No Option Orientation : Vertical

Correct Marks : 1 Wrong Marks : 0.25

The Indian Parliament does NOT comprise:

Options :

1. ✔ Council of Ministers
2. ✖ Council of States
3. ✖ House of the People
4. ✖ The President

Question Number : 25 Question Id : 16794319206 Question Type : MCQ Option Shuffling : Yes Display Question Number : Yes
Single Line Question Option : No Option Orientation : Vertical

Correct Marks : 1 Wrong Marks : 0.25

भारतीय संसद में _____ शामिल नहीं है।

Options :

1. ☒ मंत्रिमंडल
2. ☐ राज्य सभा
3. ☐ लोक सभा
4. ☐ राष्ट्रपति

Question Number : 26 Question Id : 16794319207 Question Type : MCQ Option Shuffling : Yes Display Question Number : Yes
Single Line Question Option : No Option Orientation : Vertical

Correct Marks : 1 Wrong Marks : 0.25

Fill in the blank with the most appropriate option.

The Lok Sabha Secretariat functions under the ultimate control of _____.

Options :

1. ☒ the Speaker, Lok Sabha
2. ☐ the President
3. ☐ the Minister, Parliamentary Affairs
4. ☐ the Secretary-General, Lok Sabha

Question Number : 26 Question Id : 16794319207 Question Type : MCQ Option Shuffling : Yes Display Question Number : Yes
Single Line Question Option : No Option Orientation : Vertical

Correct Marks : 1 Wrong Marks : 0.25

उचित विकल्प चुनकर रिक्त स्थान की पूर्ति करें।

लोकसभा सचिवालय _____ के अंतिम नियंत्रण में कार्य करता है।

Options :

1. ☒ अध्यक्ष, लोकसभा
2. ☐ राष्ट्रपति

3. ✖ मंत्री, संसदीय मामलें

4. ✖ लोकसभा के महासचिव

Question Number : 27 Question Id : 16794319208 Question Type : MCQ Option Shuffling : Yes Display Question Number : Yes
Single Line Question Option : No Option Orientation : Vertical

Correct Marks : 1 Wrong Marks : 0.25

Fill in the blank with the most appropriate option.

The _____ edition of the Asian Games was held in Indonesia.

Options :

1. ✔ 18th

2. ✖ 17th

3. ✖ 16th

4. ✖ 15th

Question Number : 27 Question Id : 16794319208 Question Type : MCQ Option Shuffling : Yes Display Question Number : Yes
Single Line Question Option : No Option Orientation : Vertical

Correct Marks : 1 Wrong Marks : 0.25

उचित विकल्प चुनकर रिक्त स्थान की पूर्ति करें।

एशियाई खेलों का _____ संस्करण इंडोनेशिया में आयोजित किया गया था।

Options :

1. ✔ अठारहवाँ

2. ✖ सत्रहवाँ

3. ✖ सोलहवाँ

4. ✖ पंद्रहवाँ

Question Number : 28 Question Id : 16794319209 Question Type : MCQ Option Shuffling : Yes Display Question Number : Yes
Single Line Question Option : No Option Orientation : Vertical

Correct Marks : 1 Wrong Marks : 0.25

Fill in the blank with the most appropriate option.

_____ hosted the Women's Hockey World Cup 2018.

Options :

1. ☒ England
2. ☐ Argentina
3. ☐ Spain
4. ☐ Netherlands

Question Number : 28 Question Id : 16794319209 Question Type : MCQ Option Shuffling : Yes Display Question Number : Yes
Single Line Question Option : No Option Orientation : Vertical

Correct Marks : 1 Wrong Marks : 0.25

उचित विकल्प चुनकर रिक्त स्थान की पूर्ति करें।

_____ ने महिला हॉकी विश्वचषक 2018 की मेजबानी की।

Options :

1. ☒ इंग्लैंड
2. ☐ अर्जेंटीना
3. ☐ स्पेन
4. ☐ नीदरलैंड

Question Number : 29 Question Id : 16794319210 Question Type : MCQ Option Shuffling : Yes Display Question Number : Yes
Single Line Question Option : No Option Orientation : Vertical

Correct Marks : 1 Wrong Marks : 0.25

Fill in the blank with the most appropriate option.

World Philosophy Day is celebrated every _____ Thursday of November.

Options :

1. ☒ Third
2. ☐ First
3. ☐ Second

4. ✖ Fourth

Question Number : 29 Question Id : 16794319210 Question Type : MCQ Option Shuffling : Yes Display Question Number : Yes
Single Line Question Option : No Option Orientation : Vertical

Correct Marks : 1 Wrong Marks : 0.25

उचित विकल्प चुनकर रिक्त स्थान की पूर्ति करें।

विश्व दर्शनशास्त्र दिवस नवंबर के हर _____ गुरुवार को मनाया जाता है।

Options :

1. ✔ तिसरे

2. ✖ पहले

3. ✖ दुसरे

4. ✖ चौथे

Question Number : 30 Question Id : 16794319211 Question Type : MCQ Option Shuffling : Yes Display Question Number : Yes
Single Line Question Option : No Option Orientation : Vertical

Correct Marks : 1 Wrong Marks : 0.25

Which Governor General of India passed a law in 1829 abolishing the custom of Sati?

Options :

1. ✔ Lord William Bentick

2. ✖ Lord Cornwallis

3. ✖ Lord Warren Hastings

4. ✖ Lord Curzon

Question Number : 30 Question Id : 16794319211 Question Type : MCQ Option Shuffling : Yes Display Question Number : Yes
Single Line Question Option : No Option Orientation : Vertical

Correct Marks : 1 Wrong Marks : 0.25

1829 में भारत के किस गवर्नर जनरल ने सती के रिवाज को खत्म करने के लिए कानून बनाया था?

Options :

1. ✔ लॉर्ड विलियम बेंटिनक

2. ✖ लॉर्ड कॉर्नवालिस

3. ✖ लॉर्ड वॉरेन हेस्टिंग्स

4. ✖ लॉर्ड कर्जन

Question Number : 31 Question Id : 16794319212 Question Type : MCQ Option Shuffling : Yes Display Question Number : Yes
Single Line Question Option : No Option Orientation : Vertical
Correct Marks : 1 Wrong Marks : 0.25

Which of the following statement is incorrect in regard to Geographical Indication (GI) of Goods?

Options :

1. ✔ Does not possess the qualities of the product that are due to the origin
2. ✖ Is related to place of origin of goods
3. ✖ Is covered as an element of Intellectual Property Rights
4. ✖ Is a sign used on products having specific origin

Question Number : 31 Question Id : 16794319212 Question Type : MCQ Option Shuffling : Yes Display Question Number : Yes
Single Line Question Option : No Option Orientation : Vertical
Correct Marks : 1 Wrong Marks : 0.25

माल के भौगोलिक संकेत (GI) के संबंध में निम्न में से कौन सा कथन गलत है?

Options :

1. ✔ उस उत्पाद के गुण नहीं हैं जो मूल कारण हैं।
2. ✖ माल की उत्पत्ति के स्थान से संबंधित है।
3. ✖ बौद्धिक संपदा अधिकारों के एक तत्व के रूप में छिपाया गया है।
4. ✖ विशिष्ट उत्पत्ति वाले उत्पादों पर उपयोग किया जाने वाला एक संकेत है।

Question Number : 32 Question Id : 16794319213 Question Type : MCQ Option Shuffling : Yes Display Question Number : Yes
Single Line Question Option : No Option Orientation : Vertical
Correct Marks : 1 Wrong Marks : 0.25

Fill in the blank with the most appropriate option.

_____ was also a signatory to the Indus Waters Treaty, signed in 1960 after negotiations between India and Pakistan.

Options :

1. ✔ World Bank

2. ✖ International Monetary Fund
3. ✖ World Economic Forum
4. ✖ International Union for Conservation Of Nature

Question Number : 32 Question Id : 16794319213 Question Type : MCQ Option Shuffling : Yes Display Question Number : Yes
Single Line Question Option : No Option Orientation : Vertical

Correct Marks : 1 Wrong Marks : 0.25

उचित विकल्प चुनकर रिक्त स्थान की पूर्ति करें।

_____ भारत और पाकिस्तान के बीच वार्ता के बाद 1960 में हस्ताक्षरित सिंधु जल संधि का भी एक हस्ताक्षरकर्ता था।

Options :

1. ✔ विश्व बैंक
2. ✖ अंतरराष्ट्रीय मुद्रा कोष
3. ✖ विश्व आर्थिक मंच
4. ✖ प्रकृति संरक्षण के लिए अंतराष्ट्रीय संघ

Question Number : 33 Question Id : 16794319214 Question Type : MCQ Option Shuffling : Yes Display Question Number : Yes
Single Line Question Option : No Option Orientation : Vertical

Correct Marks : 1 Wrong Marks : 0.25

Fill in the blank with the most appropriate option.

The Central Government had constituted the National Company Law Tribunal with effect from 1st June _____.

Options :

1. ✔ 2016
2. ✖ 2015
3. ✖ 2014
4. ✖ 2013

Question Number : 33 Question Id : 16794319214 Question Type : MCQ Option Shuffling : Yes Display Question Number : Yes
Single Line Question Option : No Option Orientation : Vertical

Correct Marks : 1 Wrong Marks : 0.25

उचित विकल्प चुनकर रिक्त स्थान की पूर्ति करें।

केंद्र सरकार ने 1 जून _____ से प्रभावी रूप से राष्ट्रीय कंपनी नियम अधिकरण गठित किया था।

Options :

1. ✓ 2016
2. ✗ 2015
3. ✗ 2014
4. ✗ 2013

Question Number : 34 Question Id : 16794319215 Question Type : MCQ Option Shuffling : Yes Display Question Number : Yes
Single Line Question Option : No Option Orientation : Vertical

Correct Marks : 1 Wrong Marks : 0.25

Fill in the blank with the most appropriate option.

The acronym STT stands for 'Securities _____ Tax'.

Options :

1. ✓ Transaction
2. ✗ Transit
3. ✗ Trading
4. ✗ Transfer

Question Number : 34 Question Id : 16794319215 Question Type : MCQ Option Shuffling : Yes Display Question Number : Yes
Single Line Question Option : No Option Orientation : Vertical

Correct Marks : 1 Wrong Marks : 0.25

उचित विकल्प चुनकर रिक्त स्थान की पूर्ति करें।

STT 'सिक्युरिटीज _____ टैक्स' का संक्षिप्त रूप है।

Options :

1. ✓ लेन-देन
2. ✗ पारवहन
3. ✗ व्यापार

4. ✖ स्थानांतरण

Question Number : 35 Question Id : 16794319216 Question Type : MCQ Option Shuffling : Yes Display Question Number : Yes
Single Line Question Option : No Option Orientation : Vertical

Correct Marks : 1 Wrong Marks : 0.25

Fill in the blank with the most appropriate option.

_____ of milk ensures that Vitamins (A / D) will reach consumers who purchase low-fat milk.

Options :

1. ✔ Fortification
2. ✖ Homogenisation
3. ✖ Standardisation
4. ✖ Pasteurisation

Question Number : 35 Question Id : 16794319216 Question Type : MCQ Option Shuffling : Yes Display Question Number : Yes
Single Line Question Option : No Option Orientation : Vertical

Correct Marks : 1 Wrong Marks : 0.25

उचित विकल्प चुनकर रिक्त स्थान की पूर्ति करें।

दूध का _____ यह सुनिश्चित करता है कि विटामिन (A/D) उन उपभोक्ताओं तक पहुंचे जो कम मलाई वाला दूध खरीदते हैं।

Options :

1. ✔ किलाबंदी
2. ✖ एकरूपता
3. ✖ मानकीकरण
4. ✖ पास्तुरीकरण

Question Number : 36 Question Id : 16794319217 Question Type : MCQ Option Shuffling : Yes Display Question Number : Yes
Single Line Question Option : No Option Orientation : Vertical

Correct Marks : 1 Wrong Marks : 0.25

Find the incorrect property of plastics from the following.

Options :

1. ✔ good conductors of electricity

- 2. ✖ poor conductors of heat
- 3. ✖ non-reactive to water
- 4. ✖ strong and ductile

Question Number : 36 Question Id : 16794319217 Question Type : MCQ Option Shuffling : Yes Display Question Number : Yes
Single Line Question Option : No Option Orientation : Vertical

Correct Marks : 1 Wrong Marks : 0.25

निम्नलिखित में से प्लास्टिक के गलत गुणधर्म का पता लगाएं।

Options :

- 1. ✔ बिजली के अच्छे संचालक
- 2. ✖ अग्नि के खराब संचालक
- 3. ✖ पानी के लिए गैर प्रतिक्रियाशील
- 4. ✖ मजबूत और नमनीय

Question Number : 37 Question Id : 16794319218 Question Type : MCQ Option Shuffling : Yes Display Question Number : Yes
Single Line Question Option : No Option Orientation : Vertical

Correct Marks : 1 Wrong Marks : 0.25

Fill in the blank with the most appropriate option.

India's Gaganyaan space mission aims to send a _____ crew to space for a period of five-seven days.

Options :

- 1. ✔ three-person
- 2. ✖ two-person
- 3. ✖ one-man
- 4. ✖ four-person

Question Number : 37 Question Id : 16794319218 Question Type : MCQ Option Shuffling : Yes Display Question Number : Yes
Single Line Question Option : No Option Orientation : Vertical

Correct Marks : 1 Wrong Marks : 0.25

उचित विकल्प चुनकर रिक्त स्थान की पूर्ति करें।

भारत के गगनयान अंतरिक्ष मिशन का उद्देश्य पांच-सात दिनों के लिए अंतरिक्ष में _____ दल भेजना है।

Options :

1. ✓ तीन व्यक्ति
2. ✗ दो व्यक्ति
3. ✗ एक व्यक्ति
4. ✗ चार व्यक्ति

Question Number : 38 Question Id : 16794319219 Question Type : MCQ Option Shuffling : Yes Display Question Number : Yes
Single Line Question Option : No Option Orientation : Vertical

Correct Marks : 1 Wrong Marks : 0.25

Fill in the blank with the most appropriate option.

In 2018, scientists have directly observed definitive evidence of ice on the Moon's surface particularly with the help of the data collected by _____.

Options :

1. ✓ Chandrayaan-1
2. ✗ Lunar Prospector
3. ✗ Clementine
4. ✗ Lunar Reconnaissance Orbiter

Question Number : 38 Question Id : 16794319219 Question Type : MCQ Option Shuffling : Yes Display Question Number : Yes
Single Line Question Option : No Option Orientation : Vertical

Correct Marks : 1 Wrong Marks : 0.25

उचित विकल्प चुनकर रिक्त स्थान की पूर्ति करें।

2018 में, वैज्ञानिकों ने चंद्रमा की सतह पर विशेष रूप से _____ द्वारा एकत्र किए गए आंकड़ों की सहायता से बर्फ के निश्चित प्रमाणों को देखा है।

Options :

1. ✓ चंद्रयान-1
2. ✗ चंद्र पूर्वक्षक
3. ✗ क्लेमेंटाइन
4. ✗ चंद्र रिकोनिसेंस ऑर्बिटर

Question Number : 39 Question Id : 16794319220 Question Type : MCQ Option Shuffling : Yes Display Question Number : Yes
Single Line Question Option : No Option Orientation : Vertical

Correct Marks : 1 Wrong Marks : 0.25

What was the theme for World Environment Day - 2018?

Options :

1. ☒ Beat Plastic Pollution
2. ☐ Raise Your Voice Not the Sea Level
3. ☐ Think. Eat. Save
4. ☐ Connecting People to Nature

Question Number : 39 Question Id : 16794319220 Question Type : MCQ Option Shuffling : Yes Display Question Number : Yes
Single Line Question Option : No Option Orientation : Vertical

Correct Marks : 1 Wrong Marks : 0.25

विश्व पर्यावरण दिवस - 2018 का विषय क्या था?

Options :

1. ☒ प्लास्टिक प्रदूषण मारो
2. ☐ अपनी आवाज उठाओ सागर स्तर नहीं
3. ☐ सोचिये. खाइये. बचाइये
4. ☐ लोगों को प्रकृति से जोड़ना

Question Number : 40 Question Id : 16794319221 Question Type : MCQ Option Shuffling : Yes Display Question Number : Yes
Single Line Question Option : No Option Orientation : Vertical

Correct Marks : 1 Wrong Marks : 0.25

Fill in the blank with the most appropriate option.

UNCLOS is an acronym for the United Nations _____ for the Law of the Sea.

Options :

1. ☒ Convention
2. ☐ Commission
3. ☐ Campaign
4. ☐ Consortium

Question Number : 40 Question Id : 16794319221 Question Type : MCQ Option Shuffling : Yes Display Question Number : Yes
Single Line Question Option : No Option Orientation : Vertical
Correct Marks : 1 Wrong Marks : 0.25

उचित विकल्प चुनकर रिक्त स्थान की पूर्ति करें।

UNCLOS यूनाइटेड नेशन्स _____ के लिए सागर के कानून का संक्षिप्त रूप है।

Options :

1.  कन्वेंशन
2.  कमिशन
3.  कैंपेन
4.  कंसोर्टियम

Arithmetic Ability

Group Number :	3
Group Id :	167943726
Group Maximum Duration :	0
Group Minimum Duration :	0
Revisit allowed for view? :	No
Revisit allowed for edit? :	No
Break time:	0
Group Marks:	20
Revisit allowed for group Instructions? :	Yes
Maximum Instruction Time:	0
Minimum Instruction Time:	0

Arithmetic Ability

Section Id :	167943791
Section Number :	1
Section type :	Online
Mandatory or Optional:	Mandatory
Number of Questions:	19
Number of Questions to be attempted:	19
Section Marks:	20
Display Number Panel:	Yes
Group All Questions:	No

Sub-Section Number:	1
Sub-Section Id:	1679431221
Question Shuffling Allowed :	Yes

Question Number : 41 Question Id : 16794319222 Question Type : MCQ Option Shuffling : Yes Display Question Number : Yes
Single Line Question Option : No Option Orientation : Vertical

Correct Marks : 1 Wrong Marks : 0.25

The value of $\frac{(1.8)^3 + (4.5)^3 + (3.7)^3 - 13.5 \times 6.66}{(1.8)^2 + (4.5)^2 + 13.69 - 8.1 - 16.65 - 3 \times 2.22}$ is:

Options :

1. ✖ 0.1

2. ✖ 1

3. ✔ 10

4. ✖ 100

Question Number : 41 Question Id : 16794319222 Question Type : MCQ Option Shuffling : Yes Display Question Number : Yes
Single Line Question Option : No Option Orientation : Vertical

Correct Marks : 1 Wrong Marks : 0.25

$\frac{(1.8)^3 + (4.5)^3 + (3.7)^3 - 13.5 \times 6.66}{(1.8)^2 + (4.5)^2 + 13.69 - 8.1 - 16.65 - 3 \times 2.22}$ का मान है:

Options :

1. ✖ 0.1

2. ✖ 1

3. ✔ 10

4. ✖ 100

Question Number : 42 Question Id : 16794319223 Question Type : MCQ Option Shuffling : Yes Display Question Number : Yes
Single Line Question Option : No Option Orientation : Vertical

Correct Marks : 1 Wrong Marks : 0.25

If $a = \frac{\sqrt{5}-2}{\sqrt{5}+2}$ and $b = \frac{\sqrt{5}+2}{\sqrt{5}-2}$, then the value of $\frac{a^2 - ab + b^2}{a^2 + ab + b^2}$ is closest to:

Options :

1. ✖ 0.09

2. ✖ 0.59

3. ✖ 0.89

4. ✔ 0.99

Question Number : 42 Question Id : 16794319223 Question Type : MCQ Option Shuffling : Yes Display Question Number : Yes
Single Line Question Option : No Option Orientation : Vertical

Correct Marks : 1 Wrong Marks : 0.25

यदि $a = \frac{\sqrt{5}-2}{\sqrt{5}+2}$ और $b = \frac{\sqrt{5}+2}{\sqrt{5}-2}$, हैं तो $\frac{a^2-ab+b^2}{a^2+ab+b^2}$ निकटतम है:

Options :

1. ✖ 0.09

2. ✖ 0.59

3. ✖ 0.89

4. ✔ 0.99

Question Number : 43 Question Id : 16794319224 Question Type : MCQ Option Shuffling : Yes Display Question Number : Yes
Single Line Question Option : No Option Orientation : Vertical

Correct Marks : 1 Wrong Marks : 0.25

The value of $\frac{1\frac{2}{5}+1\frac{2}{3}+1\frac{1}{3}}{1\frac{1}{3}\times 1\frac{4}{5}\div \frac{2}{5}} \div 2\frac{13}{20} \times \frac{1\frac{1}{2}+\frac{1}{2}of\frac{1}{2}}{\frac{1}{2}-\frac{1}{2}\times \frac{1}{2}}$ is equal to:

Options :

1. ✖ $\frac{1}{4}$

2. ✔ $\frac{1}{2}$

3. ✖ 2

4. ✖ 4

Question Number : 43 Question Id : 16794319224 Question Type : MCQ Option Shuffling : Yes Display Question Number : Yes
Single Line Question Option : No Option Orientation : Vertical

Correct Marks : 1 Wrong Marks : 0.25

$\frac{1\frac{2}{5}+1\frac{2}{3}+1\frac{1}{3}}{1\frac{1}{3}\times 1\frac{4}{5}\div \frac{2}{5}} \div 2\frac{13}{20} \times \frac{1\frac{1}{2}+\frac{1}{2}of\frac{1}{2}}{\frac{1}{2}-\frac{1}{2}\times \frac{1}{2}}$ का मान बराबर है:

Options :

1. ✖ $\frac{1}{4}$

2. ✔ $\frac{1}{2}$

3. ✖ 2

4. ✖ 4

Question Number : 44 Question Id : 16794319225 Question Type : MCQ Option Shuffling : Yes Display Question Number : Yes
Single Line Question Option : No Option Orientation : Vertical

Correct Marks : 1 Wrong Marks : 0.25

Let x be the greatest number of four digits which when divided by 6, 9, 12, 15 and 18, the remainder in each case is 4.
When x is divided by 14, the remainder will be:

Options :

1. ✔ 6

2. ✖ 8

3. ✖ 10

4. ✖ 11

Question Number : 44 Question Id : 16794319225 Question Type : MCQ Option Shuffling : Yes Display Question Number : Yes
Single Line Question Option : No Option Orientation : Vertical

Correct Marks : 1 Wrong Marks : 0.25

माना कि x चार अंकों की एक बड़ी से बड़ी संख्या है जिसे 6, 9, 12, 15 और 18, से भाग देने पर प्रत्येक दशा में शेषफल 4 प्राप्त होता है। जब x को 14 से भाग दिया जाए तो शेषफल होगा:

Options :

1. ✔ 6

2. ✖ 8

3. ✖ 10

4. ✖ 11

Question Number : 45 Question Id : 16794319226 Question Type : MCQ Option Shuffling : Yes Display Question Number : Yes
Single Line Question Option : No Option Orientation : Vertical

Correct Marks : 1 Wrong Marks : 0.25

There are twelve numbers. The average of first four is 40.5 and that of last five is 42.8. 6th number is 0.2 less than the 5th and 0.6 greater than the seventh. If the average of all the twelve numbers is 43.2, then what is the average of 5th and 7th number?

Options :

1. ✖ 46.1

2. ✖ 46.8

3. ✓ 47.4

4. ✗ 48.2

Question Number : 45 Question Id : 16794319226 Question Type : MCQ Option Shuffling : Yes Display Question Number : Yes
Single Line Question Option : No Option Orientation : Vertical

Correct Marks : 1 Wrong Marks : 0.25

बारह संख्याएँ हैं। पहली चार संख्याओं का औसत 40.5 और पिछली पांच संख्याओं का औसत 42.8 है। छठी संख्या पांचवी संख्या से 0.2 कम और सातवीं संख्या से 0.6 बड़ी है। यदि जमी बारह संख्याओं का औसत 43.2 है, तो पांचवीं और सातवीं संख्याओं का औसत क्या है?

Options :

1. ✗ 46.1

2. ✗ 46.8

3. ✓ 47.4

4. ✗ 48.2

Question Number : 46 Question Id : 16794319227 Question Type : MCQ Option Shuffling : Yes Display Question Number : Yes
Single Line Question Option : No Option Orientation : Vertical

Correct Marks : 1 Wrong Marks : 0.25

A is 25% less than B while C is 25% more than D. If D is 10% less than A, then which of the following is true?

Options :

1. ✗ $27 C = 32 B$

2. ✓ $32 C = 27 B$

3. ✗ $16 C = 9 A$

4. ✗ $16 A = 9 C$

Question Number : 46 Question Id : 16794319227 Question Type : MCQ Option Shuffling : Yes Display Question Number : Yes
Single Line Question Option : No Option Orientation : Vertical

Correct Marks : 1 Wrong Marks : 0.25

A, B से 25% कम है जबकि C, D से 25% अधिक है यदि D, A से 10% कम है, तो निम्न में से कौनसा सत्य है?

Options :

1. ✗ $27 C = 32 B$

2. ✓ $32 C = 27 B$

3. ✖ $16 C = 9 A$

4. ✖ $16 A = 9 C$

Question Number : 47 Question Id : 16794319228 Question Type : MCQ Option Shuffling : Yes Display Question Number : Yes
Single Line Question Option : No Option Orientation : Vertical

Correct Marks : 1 Wrong Marks : 0.25

Rakhi decided to donate 15% of her monthly income to an orphanage. At the last moment, she changed her decision and donated a sum of ₹ 2700 which was 20% more than what she was to donate earlier. What is 10% of the donation that she decided earlier?

Options :

1. ✔ ₹ 225

2. ✖ ₹ 240

3. ✖ ₹ 255

4. ✖ ₹ 270

Question Number : 47 Question Id : 16794319228 Question Type : MCQ Option Shuffling : Yes Display Question Number : Yes
Single Line Question Option : No Option Orientation : Vertical

Correct Marks : 1 Wrong Marks : 0.25

राखी ने अपनी मासिक आय का 15% एक अनाथाश्रम में दान करने का निश्चय किया। आखरी क्षण में उसने अपना निश्चय बदल दिया और 2700 की एक राशी दान दी जो दान में दी जानेवाली पहली राशी से 20% अधिक है। जिस राशी को दान में पहले देने का निश्चय किया था उनका 10% क्या है?

Options :

1. ✔ ₹ 225

2. ✖ ₹ 240

3. ✖ ₹ 255

4. ✖ ₹ 270

Question Number : 48 Question Id : 16794319229 Question Type : MCQ Option Shuffling : Yes Display Question Number : Yes
Single Line Question Option : No Option Orientation : Vertical

Correct Marks : 1 Wrong Marks : 0.25

Sujatha buys two articles for ₹ 460 and sells one at a loss of 28% and the other at a gain of 12%. If both articles are sold at the same price than what is the difference between their cost prices?

Options :

1. ✖ ₹ 80

2. ✖ ₹ 90

3. ✓ ₹ 100

4. ✗ ₹ 180

Question Number : 48 Question Id : 16794319229 Question Type : MCQ Option Shuffling : Yes Display Question Number : Yes
Single Line Question Option : No Option Orientation : Vertical

Correct Marks : 1 Wrong Marks : 0.25

सुजाता दो वस्तुओं को ₹ 460 में खरीदती है और एक को 28% हानी पर तथा दूसरी को 12% लाभ पर बेचती है। यदि दोनों वस्तुओं का विक्रयमूल्य समान है, तो उनके क्रयमूल्यों में क्या अंतर है?

Options :

1. ✗ ₹ 80

2. ✗ ₹ 90

3. ✓ ₹ 100

4. ✗ ₹ 180

Question Number : 49 Question Id : 16794319230 Question Type : MCQ Option Shuffling : Yes Display Question Number : Yes
Single Line Question Option : No Option Orientation : Vertical

Correct Marks : 1 Wrong Marks : 0.25

A dealer buys goods at a discount of 10% on the marked price and sells the goods at 15% profit. If he sells the goods for ₹ 2070, then the marked price of the goods is:

Options :

1. ✗ ₹ 1600

2. ✗ ₹ 1800

3. ✓ ₹ 2000

4. ✗ ₹ 2400

Question Number : 49 Question Id : 16794319230 Question Type : MCQ Option Shuffling : Yes Display Question Number : Yes
Single Line Question Option : No Option Orientation : Vertical

Correct Marks : 1 Wrong Marks : 0.25

एक डीलर वस्तुओं को उनके अंकित मूल्य पर 10% की छूट लेकर खरीदता है और उन्हें 15% लाभ पर बेच देता है। यदि वह वस्तुओं को ₹ 2070, में बेचता है, तो वस्तुओं का अंकित मूल्य है:

Options :

1. ✗ ₹ 1600

2. ✗ ₹ 1800

3. ✓ ₹ 2000

4. ✗ ₹ 2400

Question Number : 50 Question Id : 16794319231 Question Type : MCQ Option Shuffling : Yes Display Question Number : Yes
Single Line Question Option : No Option Orientation : Vertical

Correct Marks : 1 Wrong Marks : 0.25

A sum of ₹ 5451 was to be divided among A, B and C in the ratio $\frac{2}{3} : \frac{4}{5} : \frac{5}{6}$ but it was divided in the ratio $\frac{3}{2} : \frac{5}{4} : \frac{6}{5}$, by mistake. As a result:

Options :

1. ✗ A got ₹ 480 more

2. ✗ B got ₹ 117 less

3. ✓ C got ₹ 319 less

4. ✗ No change in the shares of B and C

Question Number : 50 Question Id : 16794319231 Question Type : MCQ Option Shuffling : Yes Display Question Number : Yes
Single Line Question Option : No Option Orientation : Vertical

Correct Marks : 1 Wrong Marks : 0.25

₹ 5451 की एक राशी A, B तथा C में $\frac{2}{3} : \frac{4}{5} : \frac{5}{6}$ के अनुपात में बांटी जानी थी पर गलती से उसको $\frac{3}{2} : \frac{5}{4} : \frac{6}{5}$, के अनुपात में बांट दिया गया। इसके परिणाम स्वरूप:

Options :

1. ✗ A को ₹ 480 अधिक मिले

2. ✗ B को ₹ 117 कम मिले

3. ✓ C को ₹ 319 कम मिले

4. ✗ B और C के भागों में कोई अंतर नहीं हुआ

Question Number : 51 Question Id : 16794319232 Question Type : MCQ Option Shuffling : Yes Display Question Number : Yes
Single Line Question Option : No Option Orientation : Vertical

Correct Marks : 1 Wrong Marks : 0.25

The ratio of acid and water in a solution is 7 : 5. One – seventh part of the solution is taken out and replaced by the same quantity of water. What is the ratio of water and acid in the resulting solution?

Options :

1. ✗ 5 : 7

2. ✖ 3 : 2

3. ✔ 1 : 1

4. ✖ 2 : 3

Question Number : 51 Question Id : 16794319232 Question Type : MCQ Option Shuffling : Yes Display Question Number : Yes
Single Line Question Option : No Option Orientation : Vertical

Correct Marks : 1 Wrong Marks : 0.25

एक घोल में अम्ल और पानी का अनुपात 7 : 5 है। घोल का $\frac{1}{7}$ भाग को निकालकर उसमें उतना ही पानी मिला दिया जाता है। इस प्रकार प्राप्त घोल में पानी और अम्ल का क्या अनुपात है?

Options :

1. ✖ 5 : 7

2. ✖ 3 : 2

3. ✔ 1 : 1

4. ✖ 2 : 3

Question Number : 52 Question Id : 16794319233 Question Type : MCQ Option Shuffling : Yes Display Question Number : Yes
Single Line Question Option : No Option Orientation : Vertical

Correct Marks : 1 Wrong Marks : 0.25

Abhi borrowed a sum of ₹ x at 10% for $1\frac{1}{2}$ years, interest compounded annually. Amit borrowed the same sum at the same rate for the same time, interest compounded half yearly. If the difference between the interest paid by them was ₹ 40.95, then what is the value of x ?

Options :

1. ✖ ₹ 15400

2. ✔ ₹ 15600

3. ✖ ₹ 15800

4. ✖ ₹ 16000

Question Number : 52 Question Id : 16794319233 Question Type : MCQ Option Shuffling : Yes Display Question Number : Yes
Single Line Question Option : No Option Orientation : Vertical

Correct Marks : 1 Wrong Marks : 0.25

अभि ने ₹ x की एक राशी 10% वार्षिक दर पर $1\frac{1}{2}$ वर्ष के लिए उधार ली जबकि ब्याज वार्षिक संयोजित था। अमित ने भी उतनी ही राशी उसी दर पर उसी समय के लिए उधार ली पर ब्याज अर्धवार्षिक संयोजित था। यदि उन दोनों के द्वारा दी गई ब्याज की राशिओं में ₹ 40.95, का अंतर है, तो x का मान क्या है?

Options :

1. ✖ ₹ 15400

2. ✔ ₹ 15600

3. ✖ ₹ 15800

4. ✖ ₹ 16000

Question Number : 53 Question Id : 16794319234 Question Type : MCQ Option Shuffling : Yes Display Question Number : Yes
Single Line Question Option : No Option Orientation : Vertical

Correct Marks : 1 Wrong Marks : 0.25

A right circular cylinder and right circular cone have equal heights and the radii of their bases are also equal. The ratio of curved surface area of cylinder to that of cone is 8 : 5. If the height of each is 8 cm, then the volume (in cm^3) of cone is:

Options :

1. ✖ 288π

2. ✖ 192π

3. ✔ 96π

4. ✖ 108π

Question Number : 53 Question Id : 16794319234 Question Type : MCQ Option Shuffling : Yes Display Question Number : Yes
Single Line Question Option : No Option Orientation : Vertical

Correct Marks : 1 Wrong Marks : 0.25

एक लंब वृतीय बेलन और एक लंब वृतीय शंकु की ऊँचाइयाँ बराबर हैं और उनके आधार की त्रिज्याएँ भी बराबर हैं। बेलन और शंकु के वक्र पृष्ठीय क्षेत्रफलों में 8 : 5 का अनुपात है। यदि प्रत्येक की ऊँचाई 8 सेमी है तो शंकु का आयतन (सेमी³ में) है:

Options :

1. ✖ 288π

2. ✖ 192π

3. ✔ 96π

4. ✖ 108π

Question Number : 54 Question Id : 16794319235 Question Type : MCQ Option Shuffling : Yes Display Question Number : Yes
Single Line Question Option : No Option Orientation : Vertical

Correct Marks : 1 Wrong Marks : 0.25

The length of rectangular board is 15 cm more than its width. If its length is increased by 9 cm and its breadth is decreased by 6 cm, its area remains the same. What is the ratio of original length and breadth of the board?

Options :

1. ✓ 21 : 16

2. ✗ 4 : 3

3. ✗ 7 : 6

4. ✗ 12 : 7

Question Number : 54 Question Id : 16794319235 Question Type : MCQ Option Shuffling : Yes Display Question Number : Yes
Single Line Question Option : No Option Orientation : Vertical

Correct Marks : 1 Wrong Marks : 0.25

किसी आयताकार बोर्ड की लंबाई उसकी चौड़ाई से 15 सेमी अधिक है। यदि लंबाई 9 सेमी बढ़ा दी जाए और चौड़ाई 6 सेमी कम कर दी जाए, तो बोर्ड का क्षेत्रफल पहले जितना ही रहता है। बोर्ड की आरंभिक लंबाई और चौड़ाई में क्या अनुपात है?

Options :

1. ✓ 21 : 16

2. ✗ 4 : 3

3. ✗ 7 : 6

4. ✗ 12 : 7

Question Number : 55 Question Id : 16794319236 Question Type : MCQ Option Shuffling : Yes Display Question Number : Yes
Single Line Question Option : No Option Orientation : Vertical

Correct Marks : 1 Wrong Marks : 0.25

Three men and 4 women can complete a work in 7 days whereas 5 men and one women can do the same work in 14 days. To complete the work in 2 days, how many women should assist 7 men?

Options :

1. ✗ 7

2. ✗ 8

3. ✗ 12

4. ✓ 15

Question Number : 55 Question Id : 16794319236 Question Type : MCQ Option Shuffling : Yes Display Question Number : Yes
Single Line Question Option : No Option Orientation : Vertical

Correct Marks : 1 Wrong Marks : 0.25

तीन पुरुष और 4 महिलाएँ मिलकर एक काम को 7 दिन में पूरा कर सकते हैं, जबकि उसी काम को 5 पुरुष और एक महिला मिलकर 14 दिन में पूरा कर सकते हैं। काम को 2 दिन में पूरा करने के लिए 7 पुरुषों के साथ कितनी महिलाओं को काम करना होगा?

Options :

- 1. ✖ 7
- 2. ✖ 8
- 3. ✖ 12
- 4. ✔ 1

Question Number : 56 Question Id : 16794319237 Question Type : MCQ Option Shuffling : Yes Display Question Number : Yes
Single Line Question Option : No Option Orientation : Vertical

Correct Marks : 1 Wrong Marks : 0.25

A is 60% more efficient than B. A can do a work in 10 days. Both work together for 5 days. B alone will complete the remaining work in:

Options :

- 1. ✖ 2 days
- 2. ✔ 3 days
- 3. ✖ $3\frac{1}{3}$ days
- 4. ✖ $5\frac{1}{3}$ days

Question Number : 56 Question Id : 16794319237 Question Type : MCQ Option Shuffling : Yes Display Question Number : Yes
Single Line Question Option : No Option Orientation : Vertical

Correct Marks : 1 Wrong Marks : 0.25

A, B से 60% अधिक कार्यदक्ष है। A एक काम को 10 दिन में कर सकता है। दोनों मिलकर 5 दिन काम करते हैं। B अकेला शेष काम को पूरा करेगा:

Options :

- 1. ✖ 2 दिन में
- 2. ✔ 3 दिन में
- 3. ✖ $3\frac{1}{3}$ दिन में
- 4. ✖ $5\frac{1}{3}$ दिन में

Question Number : 57 Question Id : 16794319238 Question Type : MCQ Option Shuffling : Yes Display Question Number : Yes
Single Line Question Option : No Option Orientation : Vertical

Correct Marks : 1 Wrong Marks : 0.25

A train normally reaches its destination in 25 hours when travelling at 64 km/h. The percentage increase in speed in order to reduce the time by 9 hours is:

Options :

1. ✖ 50

2. ✔ $56\frac{1}{4}$

3. ✖ $54\frac{1}{4}$

4. ✖ 54

Question Number : 57 Question Id : 16794319238 Question Type : MCQ Option Shuffling : Yes Display Question Number : Yes
Single Line Question Option : No Option Orientation : Vertical

Correct Marks : 1 Wrong Marks : 0.25

64 किमी/घं की गति से चलते हुए, एक रेलगाड़ी सामान्यतः 25 घंटे अपने गंतव्य पर पहुंच जाती है। समय में 9 घंटे की कमी करने के लिए उसकी गति में कितने प्रतिशत की वृद्धि की जाए?

Options :

1. ✖ 50

2. ✔ $56\frac{1}{4}$

3. ✖ $54\frac{1}{4}$

4. ✖ 54

Question Number : 58 Question Id : 16794319239 Question Type : MCQ Option Shuffling : Yes Display Question Number : Yes
Single Line Question Option : No Option Orientation : Vertical

Correct Marks : 1 Wrong Marks : 0.25

A person takes $3\frac{3}{4}$ hours to row a boat 15 km downstream and $2\frac{1}{2}$ hours to cover a distance of 5 km upstream. How much time (in hours) will be take to row a distance of 18 km in still water?

Options :

1. ✖ 4

2. ✖ $5\frac{1}{2}$

3. ✓ 6

4. ✗ $3\frac{3}{5}$

Question Number : 58 Question Id : 16794319239 Question Type : MCQ Option Shuffling : Yes Display Question Number : Yes
Single Line Question Option : No Option Orientation : Vertical

Correct Marks : 1 Wrong Marks : 0.25

एक व्यक्ति को नाव द्वारा धारा के अनुकूल 15 किमी की दूरी तय करने के लिए $3\frac{3}{4}$ घंटे लगते हैं और धारा के प्रतिकूल 5 किमी की दूरी तय करने में $2\frac{1}{2}$ घंटे लगते हैं। उसको शांत जल में नाव द्वारा 18 किमी की दूरी तय करने के लिए कितना समय (घंटे में) लगेगा?

Options :

1. ✗ 4

2. ✗ $5\frac{1}{2}$

3. ✓ 6

4. ✗ $3\frac{3}{5}$

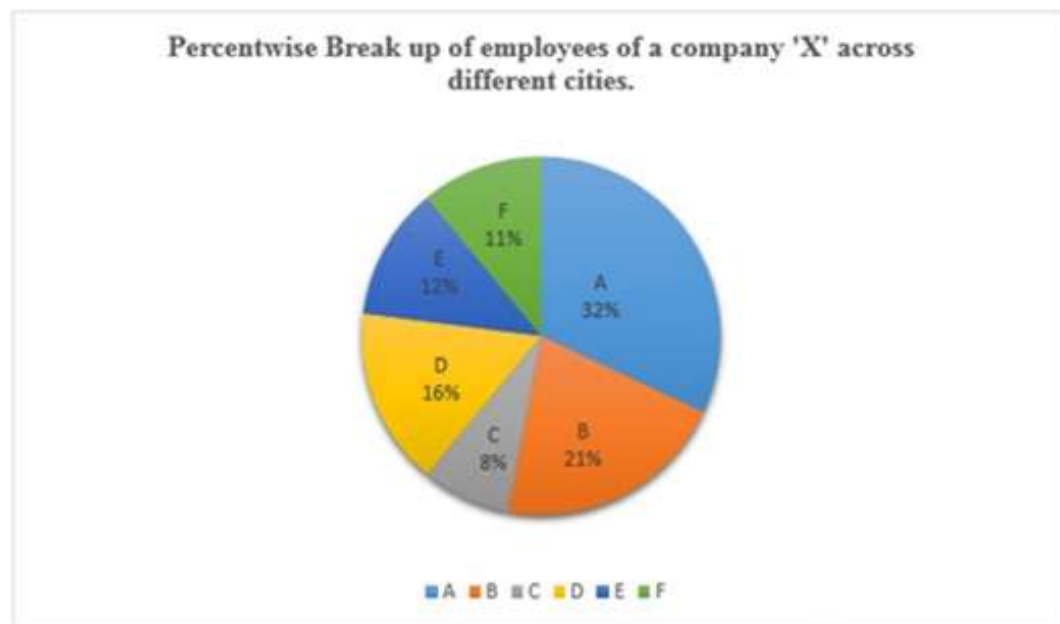
Sub-Section Number:	2
Sub-Section Id:	1679431222
Question Shuffling Allowed :	Yes

Question Id : 16794319240 Question Type : COMPREHENSION Sub Question Shuffling Allowed : Yes Group Comprehension
Questions : No

Question Numbers : (59 to 60)

Question Label : Comprehension

Study the following pie chart and table and answer question.



Total Number of Employees = 3600

City	Male : Female
A	5 : 4
B	4 : 3
C	7 : 9
D	5 : 7
E	11 : 13
F	6 : 5

Sub questions

Question Number : 59 Question Id : 16794319241 Question Type : MCQ Option Shuffling : Yes Display Question Number : Yes
Single Line Question Option : No Option Orientation : Vertical

Correct Marks : 1 Wrong Marks : 0.25

The ratio of males employees in cities B and E together to the female employees in cities B, D and F together is:

Options :

1. ✖ 2 : 3

2. ✔ 3 : 4

3. ✖ 4 : 5

4. ✖ 5 : 6

Question Number : 60 Question Id : 16794319242 Question Type : MCQ Option Shuffling : Yes Display Question Number : Yes
Single Line Question Option : No Option Orientation : Vertical

Correct Marks : 1 Wrong Marks : 0.25

The number of female employees in city A is approximately what percent less than the total employees in cities C and E?

Options :

1. ✖ 27.6%

2. ✖ 28.4%

3. ✔ 28.9%

4. ✖ 30.2%

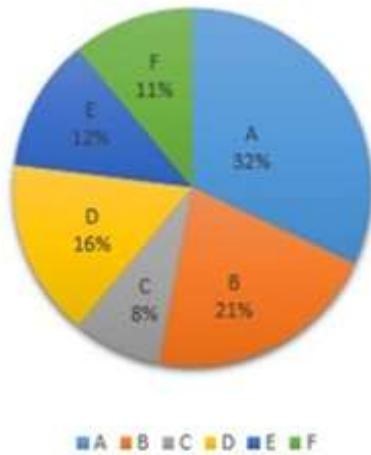
Question Id : 16794319240 Question Type : COMPREHENSION Sub Question Shuffling Allowed : Yes Group Comprehension Questions : No

Question Numbers : (59 to 60)

Question Label : Comprehension

निम्न पाई-चार्ट और सारणी को अध्ययन करके उत्तर दीजिए:

कंपनी 'X' के विभिन्न नगरों में कर्मचारियों का प्रतिशतता के अनुसार बंटन



कर्मचारियों की कुल संख्या = 3600

नगर	पुरुष : महिलाएँ
A	5 : 4
B	4 : 3
C	7 : 9
D	5 : 7
E	11 : 13
F	6 : 5

Sub questions

Question Number : 59 Question Id : 16794319241 Question Type : MCQ Option Shuffling : Yes Display Question Number : Yes Single Line Question Option : No Option Orientation : Vertical

Correct Marks : 1 Wrong Marks : 0.25

नगर B तथा E में कुल मिलाकर पुरुष कर्मचारियों की संख्या का नगर B, D तथा F में कुल महिला कर्मचारियों की संख्या का अनुपात है:

Options :

1. ✖ 2 : 3

2. ✔ 3 : 4

3. ✖ 4 : 5

4. ✖ 5 : 6

Question Number : 60 Question Id : 16794319242 Question Type : MCQ Option Shuffling : Yes Display Question Number : Yes
Single Line Question Option : No Option Orientation : Vertical

Correct Marks : 1 Wrong Marks : 0.25

नगर A में महिला कर्मचारियों की संख्या, नगर C
तथा E में कुल कर्मचारियों की संख्या से लगभग
कितने प्रतिशत है?

Options :

1. ✖ 27.6%

2. ✖ 28.4%

3. ✔ 28.9%

4. ✖ 30.2%

General English

Group Number :	4
Group Id :	167943727
Group Maximum Duration :	0
Group Minimum Duration :	0
Revisit allowed for view? :	No
Revisit allowed for edit? :	No
Break time:	0
Group Marks:	20
Revisit allowed for group Instructions? :	Yes
Maximum Instruction Time:	0
Minimum Instruction Time:	0

General English

Section Id :	167943792
Section Number :	1
Section type :	Online
Mandatory or Optional:	Mandatory
Number of Questions:	16
Number of Questions to be attempted:	16
Section Marks:	20
Display Number Panel:	Yes
Group All Questions:	No

Sub-Section Id:

1679431223

Question Shuffling Allowed :

Yes

Question Number : 61 Question Id : 16794319243 Question Type : MCQ Option Shuffling : Yes Display Question Number : Yes
Single Line Question Option : No Option Orientation : Vertical

Correct Marks : 1 Wrong Marks : 0.25

Fill in the blank with the most appropriate option.

“Fifty years ago, we could not see limits to what we could _____ into the ocean, or what we could take out” (Dr. Sylvia Earle, Oceanographer).

Options :

1. ✖ dispose

2. ✔ put

3. ✖ recycle

4. ✖ accept

Question Number : 61 Question Id : 16794319243 Question Type : MCQ Option Shuffling : Yes Display Question Number : Yes
Single Line Question Option : No Option Orientation : Vertical

Correct Marks : 1 Wrong Marks : 0.25

Fill in the blank with the most appropriate option.

“Fifty years ago, we could not see limits to what we could _____ into the ocean, or what we could take out” (Dr. Sylvia Earle, Oceanographer).

Options :

1. ✖ dispose

2. ✔ put

3. ✖ recycle

4. ✖ accept

Question Number : 62 Question Id : 16794319244 Question Type : MCQ Option Shuffling : Yes Display Question Number : Yes
Single Line Question Option : No Option Orientation : Vertical

Correct Marks : 1 Wrong Marks : 0.25

In the following question, choose the option that best expresses the meaning of the word provided.

Disrupt

Options :

1. ✖ Tear

2. ✖ Spoil
3. ✖ Throw
4. ✔ Disturb

Question Number : 62 Question Id : 16794319244 Question Type : MCQ Option Shuffling : Yes Display Question Number : Yes
Single Line Question Option : No Option Orientation : Vertical

Correct Marks : 1 Wrong Marks : 0.25

In the following question, choose the option that best expresses the meaning of the word provided.

Disrupt

Options :

1. ✖ Tear
2. ✖ Spoil
3. ✖ Throw
4. ✔ Disturb

Question Number : 63 Question Id : 16794319245 Question Type : MCQ Option Shuffling : Yes Display Question Number : Yes
Single Line Question Option : No Option Orientation : Vertical

Correct Marks : 1 Wrong Marks : 0.25

In the following question, choose the option that is opposite in meaning to the word provided.

Conversant

Options :

1. ✖ Quiet
2. ✖ Knowledgeable
3. ✔ Ignorant
4. ✖ Talkative

Question Number : 63 Question Id : 16794319245 Question Type : MCQ Option Shuffling : Yes Display Question Number : Yes
Single Line Question Option : No Option Orientation : Vertical

Correct Marks : 1 Wrong Marks : 0.25

In the following question, choose the option that is opposite in meaning to the word provided.

Conversant

Options :

1. ✖ Quiet
2. ✖ Knowledgeable
3. ✔ Ignorant
4. ✖ Talkative

Question Number : 64 Question Id : 16794319246 Question Type : MCQ Option Shuffling : Yes Display Question Number : Yes
Single Line Question Option : No Option Orientation : Vertical

Correct Marks : 1 Wrong Marks : 0.25

Rearrange the sentence fragments below in the correct order to form a meaningful sentence.

- A) The law has halted the development of
- B) The oil and gas industry has complained that
- C) Millions of acres of land

Options :

1. ✖ ABC
2. ✖ CAB
3. ✖ ACB
4. ✔ BAC

Question Number : 64 Question Id : 16794319246 Question Type : MCQ Option Shuffling : Yes Display Question Number : Yes
Single Line Question Option : No Option Orientation : Vertical

Correct Marks : 1 Wrong Marks : 0.25

Rearrange the sentence fragments below in the correct order to form a meaningful sentence.

- A) The law has halted the development of
- B) The oil and gas industry has complained that
- C) Millions of acres of land

Options :

1. ✖ ABC
2. ✖ CAB
3. ✖ ACB
4. ✔ BAC

Question Number : 65 Question Id : 16794319247 Question Type : MCQ Option Shuffling : Yes Display Question Number : Yes
Single Line Question Option : No Option Orientation : Vertical

Correct Marks : 1 Wrong Marks : 0.25

Change the voice of the below sentence.

The force of the wind turned the leaves upside down.

Options :

1. ✖ The leaves turning upside down.
2. ✖ The force of the wind turning the leaves upside down.
3. ✔ The leaves were turned upside down by the force of the wind.
4. ✖ Turning the leaves upside down was caused by the force of the wind.

Question Number : 65 Question Id : 16794319247 Question Type : MCQ Option Shuffling : Yes Display Question Number : Yes
Single Line Question Option : No Option Orientation : Vertical

Correct Marks : 1 Wrong Marks : 0.25

Change the voice of the below sentence.

The force of the wind turned the leaves upside down.

Options :

1. ✖ The leaves turning upside down.
2. ✖ The force of the wind turning the leaves upside down.
3. ✔ The leaves were turned upside down by the force of the wind.
4. ✖ Turning the leaves upside down was caused by the force of the wind.

Question Number : 66 Question Id : 16794319248 Question Type : MCQ Option Shuffling : Yes Display Question Number : Yes
Single Line Question Option : No Option Orientation : Vertical

Correct Marks : 1 Wrong Marks : 0.25

Change the voice of the below sentence.

Sheila replied, "The blue saree suits you the best".

Options :

1. ✔ Sheila replied that the blue saree suited me the best.
2. ✖ Sheila preferred the blue saree to all the others.

3. ✖ Sheila thought the blue saree was most suitable.

4. ✖ Sheila expressed her preference for the blue saree.

Question Number : 66 Question Id : 16794319248 Question Type : MCQ Option Shuffling : Yes Display Question Number : Yes
Single Line Question Option : No Option Orientation : Vertical

Correct Marks : 1 Wrong Marks : 0.25

Change the voice of the below sentence.

Sheila replied, "The blue saree suits you the best".

Options :

1. ✔ Sheila replied that the blue saree suited me the best.

2. ✖ Sheila preferred the blue saree to all the others.

3. ✖ Sheila thought the blue saree was most suitable.

4. ✖ Sheila expressed her preference for the blue saree.

Question Number : 67 Question Id : 16794319249 Question Type : MCQ Option Shuffling : Yes Display Question Number : Yes
Single Line Question Option : No Option Orientation : Vertical

Correct Marks : 1 Wrong Marks : 0.25

What oft quoted phrase would apply to someone who says, "I don't need anyone to help me get where I want to go."?

Options :

1. ✖ Not man is one island.

2. ✔ No man is an island.

3. ✖ No men are islands.

4. ✖ No man is on an island.

Question Number : 67 Question Id : 16794319249 Question Type : MCQ Option Shuffling : Yes Display Question Number : Yes
Single Line Question Option : No Option Orientation : Vertical

Correct Marks : 1 Wrong Marks : 0.25

What oft quoted phrase would apply to someone who says, "I don't need anyone to help me get where I want to go."?

Options :

1. ✖ Not man is one island.

2. ✔ No man is an island.

3. ✖ No men are islands.

4. ✖ No man is on an island.

Question Number : 68 Question Id : 16794319250 Question Type : MCQ Option Shuffling : Yes Display Question Number : Yes
Single Line Question Option : No Option Orientation : Vertical

Correct Marks : 1 Wrong Marks : 0.25

In the following sentence, some part of the sentence may contain an error. Identify which part it is and indicate it. If the statement is error-free, choose 'no error'.

A rice crop / soaked by acid rain / can be saved / if it is rinsed with clean water / No error

Options :

1. ✖ soaked by acid rain

2. ✖ can be saved

3. ✖ if it is rinsed with clean water

4. ✔ No error

Question Number : 68 Question Id : 16794319250 Question Type : MCQ Option Shuffling : Yes Display Question Number : Yes
Single Line Question Option : No Option Orientation : Vertical

Correct Marks : 1 Wrong Marks : 0.25

In the following sentence, some part of the sentence may contain an error. Identify which part it is and indicate it. If the statement is error-free, choose 'no error'.

A rice crop / soaked by acid rain / can be saved / if it is rinsed with clean water / No error

Options :

1. ✖ soaked by acid rain

2. ✖ can be saved

3. ✖ if it is rinsed with clean water

4. ✔ No error

Question Number : 69 Question Id : 16794319251 Question Type : MCQ Option Shuffling : Yes Display Question Number : Yes
Single Line Question Option : No Option Orientation : Vertical

Correct Marks : 1 Wrong Marks : 0.25

Fill in the blank with the most appropriate option.

I cut my finger while slicing onions and it became badly _____.

Options :

1. ✖ affected
2. ✖ effected
3. ✖ diseased
4. ✔ infected

Question Number : 69 Question Id : 16794319251 Question Type : MCQ Option Shuffling : Yes Display Question Number : Yes
Single Line Question Option : No Option Orientation : Vertical

Correct Marks : 1 Wrong Marks : 0.25

Fill in the blank with the most appropriate option.

I cut my finger while slicing onions and it became badly _____.

Options :

1. ✖ affected
2. ✖ effected
3. ✖ diseased
4. ✔ infected

Question Number : 70 Question Id : 16794319252 Question Type : MCQ Option Shuffling : Yes Display Question Number : Yes
Single Line Question Option : No Option Orientation : Vertical

Correct Marks : 1 Wrong Marks : 0.25

Fill in the blank with the most appropriate option.

She has always gone _____ creative hobbies like knitting and pottery.

Options :

1. ✖ through
2. ✖ into
3. ✖ by
4. ✔ in for

Question Number : 70 Question Id : 16794319252 Question Type : MCQ Option Shuffling : Yes Display Question Number : Yes
Single Line Question Option : No Option Orientation : Vertical

Correct Marks : 1 Wrong Marks : 0.25

Fill in the blank with the most appropriate option.

She has always gone _____ creative hobbies like knitting and pottery.

Options :

1. ✖ through
2. ✖ into
3. ✖ by
4. ✔ in for

Question Number : 71 Question Id : 16794319253 Question Type : MCQ Option Shuffling : Yes Display Question Number : Yes
Single Line Question Option : No Option Orientation : Vertical

Correct Marks : 1 Wrong Marks : 0.25

Fill in the blank with the most appropriate option.

Before _____ money, banks have to assess the risks involved.

Options :

1. ✔ lending
2. ✖ borrowing
3. ✖ they lent
4. ✖ lend

Question Number : 71 Question Id : 16794319253 Question Type : MCQ Option Shuffling : Yes Display Question Number : Yes
Single Line Question Option : No Option Orientation : Vertical

Correct Marks : 1 Wrong Marks : 0.25

Fill in the blank with the most appropriate option.

Before _____ money, banks have to assess the risks involved.

Options :

1. ✔ lending
2. ✖ borrowing
3. ✖ they lent
4. ✖ lend

Question Number : 72 Question Id : 16794319254 Question Type : MCQ Option Shuffling : Yes Display Question Number : Yes
Single Line Question Option : No Option Orientation : Vertical

Correct Marks : 1 Wrong Marks : 0.25

Which of the options is closest in meaning to the word below?

Punctilious

Options :

1. ✖ unceremonious
2. ✖ informal
3. ✔ scrupulous
4. ✖ punctual

Question Number : 72 Question Id : 16794319254 Question Type : MCQ Option Shuffling : Yes Display Question Number : Yes
Single Line Question Option : No Option Orientation : Vertical

Correct Marks : 1 Wrong Marks : 0.25

Which of the options is closest in meaning to the word below?

Punctilious

Options :

1. ✖ unceremonious
2. ✖ informal
3. ✔ scrupulous
4. ✖ punctual

Question Number : 73 Question Id : 16794319255 Question Type : MCQ Option Shuffling : Yes Display Question Number : Yes
Single Line Question Option : No Option Orientation : Vertical

Correct Marks : 1 Wrong Marks : 0.25

Choose the option that best defines the word in capital letters.

ALACRITY

Options :

1. ✖ Unwilling to spend money
2. ✔ Brisk and cheerful readiness
3. ✖ Lacking fairness or justice

4. ✖ Anxious awareness of danger

Question Number : 73 Question Id : 16794319255 Question Type : MCQ Option Shuffling : Yes Display Question Number : Yes
Single Line Question Option : No Option Orientation : Vertical

Correct Marks : 1 Wrong Marks : 0.25

Choose the option that best defines the word in capital letters.

ALACRITY

Options :

1. ✖ Unwilling to spend money

2. ✔ Brisk and cheerful readiness

3. ✖ Lacking fairness or justice

4. ✖ Anxious awareness of danger

Question Number : 74 Question Id : 16794319256 Question Type : MCQ Option Shuffling : Yes Display Question Number : Yes
Single Line Question Option : No Option Orientation : Vertical

Correct Marks : 1 Wrong Marks : 0.25

Substitute the phrase below with one word from the options provided.

Words written on a tomb

Options :

1. ✖ Epithet

2. ✖ Epigraph

3. ✖ Soliloquy

4. ✔ Epitaph

Question Number : 74 Question Id : 16794319256 Question Type : MCQ Option Shuffling : Yes Display Question Number : Yes
Single Line Question Option : No Option Orientation : Vertical

Correct Marks : 1 Wrong Marks : 0.25

Substitute the phrase below with one word from the options provided.

Words written on a tomb

Options :

1. ✖ Epithet

2. ✖ Epigraph

3. ✖ Soliloquy

4. ✔ Epitaph

Question Number : 75 Question Id : 16794319257 Question Type : MCQ Option Shuffling : Yes Display Question Number : Yes
Single Line Question Option : No Option Orientation : Vertical

Correct Marks : 1 Wrong Marks : 0.25

Substitute the phrase below with one word from the options provided.

Something no longer in use

Options :

1. ✖ Desolate

2. ✖ Absolute

3. ✔ Obsolete

4. ✖ Primitive

Question Number : 75 Question Id : 16794319257 Question Type : MCQ Option Shuffling : Yes Display Question Number : Yes
Single Line Question Option : No Option Orientation : Vertical

Correct Marks : 1 Wrong Marks : 0.25

Substitute the phrase below with one word from the options provided.

Something no longer in use

Options :

1. ✖ Desolate

2. ✖ Absolute

3. ✔ Obsolete

4. ✖ Primitive

Sub-Section Number:	2
Sub-Section Id:	1679431224
Question Shuffling Allowed :	Yes

Question Id : 16794319258 Question Type : COMPREHENSION Sub Question Shuffling Allowed : Yes Group Comprehension Questions : No

Question Numbers : (76 to 80)

Question Label : Comprehension

Read the following passage and answer the questions given after it.

India is urbanising faster than its urban planners can handle. We are building roads, bridges, fly-overs, factories, commercial complexes and also building and renovating our homes and residential properties. But we do not pay sufficient heed to the construction and demolition (C&D) waste we generate, for example, bricks, concrete, stones, hard core subsoil, topsoil, timber, glass, gypsum, ceramics and also plastics. Neglecting this waste has consequences for public health as well as the environment.

There is no agreement on the volume of C&D waste. The Ministry of Environment, Forests and Climate Change in 2010, put the annual estimate of C&D waste at 10-12 million tonnes. The Central Pollution Control Board settled for 12 million tonnes in 2011, but its Guidelines Document of 2017 has upped the estimate to 25-30 million tonnes, based on information from the Ministry of Urban Development. The Centre for Science and Environment swung to the other extreme and estimated C&D waste at a humongous 530 million tonnes for 2013, as they included the waste from renovations/repairs, assuming that one-third of the existing stock of buildings carried out renovations/repairs in 2013.

The most recent annual estimate of C&D waste in Indian cities is 165-175 million tonnes, jointly prepared for the period 2005 to 2013, by two government agencies, the Building Materials and Technology Promotion Council, and the Centre for Fly Ash Research and Management. This waste is dumped illegally on vacant sites, on the sides of highways, below fly-overs, beside lakes and rivers, in other low-lying areas and open storm water drains. Delhi and Bengaluru provide glaring examples of this practice, commonly known as “fly-tipping”. In Bengaluru, C&D waste is increasingly being used to encroach on lake-bed land for construction.

Delhi’s air pollution is in no small measure due to the high presence of particulate matter (PM 2.5 and PM 10), resulting from the construction debris strewn around the city. Water logging, with all its adverse impact on public health and the environment, is another consequence as the runoff from smooth surfaces is trapped in the debris.

Other countries have faced similar challenges and have done something about it. Germany faced huge issues in disposing of the post-war bomb rubble. Stuttgart solved this problem by creating a mini-hillock outside the town which is now a recreational hand-gliding spot. While C&D waste was earlier typically sent to dump sites in many countries, in the past 20 years or so there has been a greater appreciation of the reuse and recycling possibilities of the waste into construction material (recycled aggregate concrete, manufactured sand, etc.) and its implication for the conservation of natural resources.

Sub questions

Question Number : 76 Question Id : 16794319259 Question Type : MCQ Option Shuffling : Yes Display Question Number : Yes
Single Line Question Option : No Option Orientation : Vertical

Correct Marks : 1 Wrong Marks : 0.25

After the reading of this passage it can be inferred that it is:

Options :

1. ✖ a news item
2. ✔ an article
3. ✖ a survey report
4. ✖ a newspaper editorial

Question Number : 77 Question Id : 16794319260 Question Type : MCQ Option Shuffling : Yes Display Question Number : Yes
Single Line Question Option : No Option Orientation : Vertical

Correct Marks : 1 Wrong Marks : 0.25

What is the main purpose of the passage?

Options :

1. ✖ to estimate the volume of the C&D waste in the country
2. ✖ to showcase how the different agencies disagree on the amount of C& D waste
3. ✔ to point out that the improper disposal of C&D waste creates health and environmental issues
4. ✖ to stress how other countries manage their problem of C&D waste

Question Number : 78 Question Id : 16794319261 Question Type : MCQ Option Shuffling : Yes Display Question Number : Yes
Single Line Question Option : No Option Orientation : Vertical

Correct Marks : 1 Wrong Marks : 0.25

Which agency's estimate of the volume of C&D waste has been the highest?

Options :

1. ✔ The Centre for Science and Environment
2. ✖ The Centre for Fly Ash Research and Management.

3. ✖ The Ministry of Environment, Forests and Climate Change
4. ✖ The Central Pollution Control Board

Question Number : 79 Question Id : 16794319262 Question Type : MCQ Option Shuffling : Yes Display Question Number : Yes
Single Line Question Option : No Option Orientation : Vertical

Correct Marks : 1 Wrong Marks : 0.25

In Delhi the C&D waste creates:

- a. water logging as the water gets trapped under the debris.
- b. fly-tipping as the waste is dumped on vacant sites, under the fly-overs etc.
- c. air pollution due to the presence of particulate matter the waste.

Of the above which are correct?

Options :

1. ✖ a and b are true
2. ✔ a and c are true
3. ✖ c and b are true
4. ✖ a, b and c all are true

Question Number : 80 Question Id : 16794319263 Question Type : MCQ Option Shuffling : Yes Display Question Number : Yes
Single Line Question Option : No Option Orientation : Vertical

Correct Marks : 1 Wrong Marks : 0.25

According to the author the latest thinking about C&D waste is to:

Options :

1. ✖ send it to the dumping sites
2. ✖ create a mini hill as a recreational site
3. ✖ spread it in the lake bed to reclaim land
4. ✔ recycle it to use as construction material

Question Id : 16794319258 Question Type : COMPREHENSION Sub Question Shuffling Allowed : Yes Group Comprehension Questions : No

Question Numbers : (76 to 80)

Question Label : Comprehension

Read the following passage and answer the questions given after it.

India is urbanising faster than its urban planners can handle. We are building roads, bridges, fly-overs, factories, commercial complexes and also building and renovating our homes and residential properties. But we do not pay sufficient heed to the construction and demolition (C&D) waste we generate, for example, bricks, concrete, stones, hard core subsoil, topsoil, timber, glass, gypsum, ceramics and also plastics. Neglecting this waste has consequences for public health as well as the environment.

There is no agreement on the volume of C&D waste. The Ministry of Environment, Forests and Climate Change in 2010, put the annual estimate of C&D waste at 10-12 million tonnes. The Central Pollution Control Board settled for 12 million tonnes in 2011, but its Guidelines Document of 2017 has upped the estimate to 25-30 million tonnes, based on information from the Ministry of Urban Development. The Centre for Science and Environment swung to the other extreme and estimated C&D waste at a humongous 530 million tonnes for 2013, as they included the waste from renovations/repairs, assuming that one-third of the existing stock of buildings carried out renovations/repairs in 2013.

The most recent annual estimate of C&D waste in Indian cities is 165-175 million tonnes, jointly prepared for the period 2005 to 2013, by two government agencies, the Building Materials and Technology Promotion Council, and the Centre for Fly Ash Research and Management. This waste is dumped illegally on vacant sites, on the sides of highways, below fly-overs, beside lakes and rivers, in other low-lying areas and open storm water drains. Delhi and Bengaluru provide glaring examples of this practice, commonly known as “fly-tipping”. In Bengaluru, C&D waste is increasingly being used to encroach on lake-bed land for construction.

Delhi’s air pollution is in no small measure due to the high presence of particulate matter (PM 2.5 and PM 10), resulting from the construction debris strewn around the city. Water logging, with all its adverse impact on public health and the environment, is another consequence as the runoff from smooth surfaces is trapped in the debris.

Other countries have faced similar challenges and have done something about it. Germany faced huge issues in disposing of the post-war bomb rubble. Stuttgart solved this problem by creating a mini-hillock outside the town which is now a recreational hand-gliding spot. While C&D waste was earlier typically sent to dump sites in many countries, in the past 20 years or so there has been a greater appreciation of the reuse and recycling possibilities of the waste into construction material (recycled aggregate concrete, manufactured sand, etc.) and its implication for the conservation of natural resources.

Sub questions

Question Number : 76 Question Id : 16794319259 Question Type : MCQ Option Shuffling : Yes Display Question Number : Yes
Single Line Question Option : No Option Orientation : Vertical

Correct Marks : 1 Wrong Marks : 0.25

After the reading of this passage it can be inferred that it is:

Options :

1. ✖ a news item
2. ✔ an article
3. ✖ a survey report
4. ✖ a newspaper editorial

Question Number : 77 Question Id : 16794319260 Question Type : MCQ Option Shuffling : Yes Display Question Number : Yes
Single Line Question Option : No Option Orientation : Vertical

Correct Marks : 1 Wrong Marks : 0.25

What is the main purpose of the passage?

Options :

1. ✖ to estimate the volume of the C&D waste in the country
2. ✖ to showcase how the different agencies disagree on the amount of C& D waste
3. ✔ to point out that the improper disposal of C&D waste creates health and environmental issues
4. ✖ to stress how other countries manage their problem of C&D waste

Question Number : 78 Question Id : 16794319261 Question Type : MCQ Option Shuffling : Yes Display Question Number : Yes
Single Line Question Option : No Option Orientation : Vertical

Correct Marks : 1 Wrong Marks : 0.25

Which agency's estimate of the volume of C&D waste has been the highest?

Options :

1. ✔ The Centre for Science and Environment
2. ✖ The Centre for Fly Ash Research and Management.

3. ✖ The Ministry of Environment, Forests and Climate Change
4. ✖ The Central Pollution Control Board

Question Number : 79 Question Id : 16794319262 Question Type : MCQ Option Shuffling : Yes Display Question Number : Yes
Single Line Question Option : No Option Orientation : Vertical

Correct Marks : 1 Wrong Marks : 0.25

In Delhi the C&D waste creates:

- a. water logging as the water gets trapped under the debris.
- b. fly-tipping as the waste is dumped on vacant sites, under the fly-overs etc.
- c. air pollution due to the presence of particulate matter the waste.

Of the above which are correct?

Options :

1. ✖ a and b are true
2. ✔ a and c are true
3. ✖ c and b are true
4. ✖ a, b and c all are true

Question Number : 80 Question Id : 16794319263 Question Type : MCQ Option Shuffling : Yes Display Question Number : Yes
Single Line Question Option : No Option Orientation : Vertical

Correct Marks : 1 Wrong Marks : 0.25

According to the author the latest thinking about C&D waste is to:

Options :

1. ✖ send it to the dumping sites
2. ✖ create a mini hill as a recreational site
3. ✖ spread it in the lake bed to reclaim land
4. ✔ recycle it to use as construction material

General Hindi

Group Number :	5
Group Id :	167943728
Group Maximum Duration :	0
Group Minimum Duration :	0
Revisit allowed for view? :	No
Revisit allowed for edit? :	No
Break time:	0
Group Marks:	20
Revisit allowed for group Instructions? :	Yes
Maximum Instruction Time:	0
Minimum Instruction Time:	0

General Hindi

Section Id :	167943793
Section Number :	1
Section type :	Online
Mandatory or Optional:	Mandatory
Number of Questions:	16
Number of Questions to be attempted:	16
Section Marks:	20
Display Number Panel:	Yes
Group All Questions:	No

Sub-Section Number:	1
Sub-Section Id:	1679431225
Question Shuffling Allowed :	Yes

Question Id : 16794319264 Question Type : COMPREHENSION Sub Question Shuffling Allowed : Yes Group Comprehension Questions : No
Question Numbers : (81 to 85)
Question Label : Comprehension

नीचे दिये गए गद्यांश को पढ़कर पूछे गये प्रश्नों के उत्तर दीजिए।

शुक्ल जी कबीर की प्रतिभा के कायल तो थे लेकिन उनके काव्य की मार्मिकता के बारे में प्रायः मौन थे। वे निर्गुण पंथ की ज्ञानाश्रयीधारा को लोक-भूमि पर स्थित नहीं मानते थे। निर्गुणपंथ का हठयोग और उनकी रहस्यात्मक अंतस्साधना, उलटबाँसी शुक्ल जी की रुचि की नहीं थी। सवर्ण-समाज से उपेक्षित और तिरस्कृत अवर्णों की विचारधारा और उनकी भावना सवर्ण विचारधारा से भिन्न होगी, इसे शुक्ल जी ने नहीं समझा। इसलिए पं. हजारीप्रसाद द्विवेदी को कबीर की जुलाहा जाति, वर्ण-व्यवस्था के प्रति उनके विद्रोह-आक्रोश को समझाने की आवश्यकता पड़ी। द्विवेदी जी ने कबीर को साहित्यिक भूमि पर नए सिरे से प्रतिष्ठित किया।

Sub questions

Question Number : 81 Question Id : 16794319265 Question Type : MCQ Option Shuffling : Yes Display Question Number : Yes
Single Line Question Option : No Option Orientation : Vertical

Correct Marks : 1 Wrong Marks : 0.25

शुक्ल जी किस धारा को लोकभूमि पर स्थित नहीं मानते थे?

Options :

1. ☒ ज्ञानाश्रयी धारा
2. ☐ प्रेमाश्रयी धारा
3. ☐ राममार्गी धारा
4. ☐ कृष्णमार्गी धारा

Question Number : 82 Question Id : 16794319266 Question Type : MCQ Option Shuffling : Yes Display Question Number : Yes
Single Line Question Option : No Option Orientation : Vertical

Correct Marks : 1 Wrong Marks : 0.25

निम्नलिखित में से किसका संबंध निर्गुण पंथ से नहीं है?

Options :

1. ☐ हठयोग

2. ✖ रहस्यात्मक अंतस्साधना

3. ✖ उलटबाँसी

4. ✔ अवतारवाद

Question Number : 83 Question Id : 16794319267 Question Type : MCQ Option Shuffling : Yes Display Question Number : Yes
Single Line Question Option : No Option Orientation : Vertical

Correct Marks : 1 Wrong Marks : 0.25

किसने कबीर को साहित्यिक भूमि पर नए सिरे से
प्रतिष्ठित किया?

Options :

1. ✖ रामचन्द्र शुक्ल

2. ✔ हजारीप्रसाद द्विवेदी

3. ✖ रामविलास शर्मा

4. ✖ नामवर सिंह

Question Number : 84 Question Id : 16794319268 Question Type : MCQ Option Shuffling : Yes Display Question Number : Yes
Single Line Question Option : No Option Orientation : Vertical

Correct Marks : 1 Wrong Marks : 0.25

कबीर का संबंध किस जाति से था?

Options :

1. ✖ हरिजन

2. ✖ अहीर

3. ✔ जुलाहा

4. ✖ निषाद

Question Number : 85 Question Id : 16794319269 Question Type : MCQ Option Shuffling : Yes Display Question Number : Yes
Single Line Question Option : No Option Orientation : Vertical

Correct Marks : 1 Wrong Marks : 0.25

शुक्ल जी कबीर के किस गुण के कायल थे?

Options :

1. ✖ भाषा
2. ✖ विचारधारा
3. ✖ सामाजिक चेतना
4. ✔ प्रतिभा

Question Id : 16794319264 Question Type : COMPREHENSION Sub Question Shuffling Allowed : Yes Group Comprehension Questions : No

Question Numbers : (81 to 85)

Question Label : Comprehension

नीचे दिये गए गद्यांश को पढ़कर पूछे गये प्रश्नों के उत्तर दीजिए।

शुक्ल जी कबीर की प्रतिभा के कायल तो थे लेकिन उनके काव्य की मार्मिकता के बारे में प्रायः मौन थे। वे निर्गुण पंथ की ज्ञानाश्रयीधारा को लोक-भूमि पर स्थित नहीं मानते थे। निर्गुणपंथ का हठयोग और उनकी रहस्यात्मक अंतस्साधना, उलटबाँसी शुक्ल जी की रुचि की नहीं थी। सवर्ण-समाज से उपेक्षित और तिरस्कृत अवर्णों की विचारधारा और उनकी भावना सवर्ण विचारधारा से भिन्न होगी, इसे शुक्ल जी ने नहीं समझा। इसलिए पं. हजारीप्रसाद द्विवेदी को कबीर की जुलाहा जाति, वर्ण-व्यवस्था के प्रति उनके विद्रोह-आक्रोश को समझाने की आवश्यकता पड़ी। द्विवेदी जी ने कबीर को साहित्यिक भूमि पर नए सिरे से प्रतिष्ठित किया।

Sub questions

Question Number : 81 Question Id : 16794319265 Question Type : MCQ Option Shuffling : Yes Display Question Number : Yes Single Line Question Option : No Option Orientation : Vertical

Correct Marks : 1 Wrong Marks : 0.25

शुक्ल जी किस धारा को लोकभूमि पर स्थित नहीं मानते थे?

Options :

1. ✔ ज्ञानाश्रयी धारा
2. ✖ प्रेमाश्रयी धारा
3. ✖ राममार्गी धारा

4. ✖ कृष्णमार्गी धारा

Question Number : 82 Question Id : 16794319266 Question Type : MCQ Option Shuffling : Yes Display Question Number : Yes
Single Line Question Option : No Option Orientation : Vertical

Correct Marks : 1 Wrong Marks : 0.25

निम्नलिखित में से किसका संबंध निर्गुण पंथ से नहीं है?

Options :

1. ✖ हठयोग

2. ✖ रहस्यात्मक अंतस्साधना

3. ✖ उलटबाँसी

4. ✔ अवतारवाद

Question Number : 83 Question Id : 16794319267 Question Type : MCQ Option Shuffling : Yes Display Question Number : Yes
Single Line Question Option : No Option Orientation : Vertical

Correct Marks : 1 Wrong Marks : 0.25

किसने कबीर को साहित्यिक भूमि पर नए सिरे से प्रतिष्ठित किया?

Options :

1. ✖ रामचन्द्र शुक्ल

2. ✔ हजारीप्रसाद द्विवेदी

3. ✖ रामविलास शर्मा

4. ✖ नामवर सिंह

Question Number : 84 Question Id : 16794319268 Question Type : MCQ Option Shuffling : Yes Display Question Number : Yes
Single Line Question Option : No Option Orientation : Vertical

Correct Marks : 1 Wrong Marks : 0.25

कबीर का संबंध किस जाति से था?

Options :

1. ✖ हरिजन

2. ✖ अहीर

3. ✓ जुलाहा

4. ✗ निषाद

Question Number : 85 Question Id : 16794319269 Question Type : MCQ Option Shuffling : Yes Display Question Number : Yes
Single Line Question Option : No Option Orientation : Vertical
Correct Marks : 1 Wrong Marks : 0.25

शुक्ल जी कबीर के किस गुण के कायल थे?

Options :

1. ✗ भाषा

2. ✗ विचारधारा

3. ✗ सामाजिक चेतना

4. ✓ प्रतिभा

Sub-Section Number: 2
Sub-Section Id: 1679431226
Question Shuffling Allowed : Yes

Question Number : 86 Question Id : 16794319270 Question Type : MCQ Option Shuffling : Yes Display Question Number : Yes
Single Line Question Option : No Option Orientation : Vertical
Correct Marks : 1 Wrong Marks : 0.25

निम्नलिखित में से कौन सा शब्द तत्सम है?

Options :

1. ✗ सच

2. ✓ सत्व

3. ✗ शक्कर

4. ✗ लोहा

Question Number : 86 Question Id : 16794319270 Question Type : MCQ Option Shuffling : Yes Display Question Number : Yes
Single Line Question Option : No Option Orientation : Vertical
Correct Marks : 1 Wrong Marks : 0.25

निम्नलिखित में से कौन सा शब्द तत्सम है?

Options :

1. ✖ सच
2. ✔ सत्व
3. ✖ शक्कर
4. ✖ लोहा

Question Number : 87 Question Id : 16794319271 Question Type : MCQ Option Shuffling : Yes Display Question Number : Yes
Single Line Question Option : No Option Orientation : Vertical
Correct Marks : 1 Wrong Marks : 0.25

निम्नलिखित में तद्रव शब्द कौन सा है?

Options :

1. ✖ वाष्प
2. ✖ भक्त
3. ✔ भाई
4. ✖ विभूति

Question Number : 87 Question Id : 16794319271 Question Type : MCQ Option Shuffling : Yes Display Question Number : Yes
Single Line Question Option : No Option Orientation : Vertical
Correct Marks : 1 Wrong Marks : 0.25

निम्नलिखित में तद्रव शब्द कौन सा है?

Options :

1. ✖ वाष्प
2. ✖ भक्त
3. ✔ भाई
4. ✖ विभूति

Question Number : 88 Question Id : 16794319272 Question Type : MCQ Option Shuffling : Yes Display Question Number : Yes
Single Line Question Option : No Option Orientation : Vertical
Correct Marks : 1 Wrong Marks : 0.25

निम्नलिखित में व्यक्तिवाचक संज्ञा कौन सी है?

Options :

1. ☒ गंगा

2. ☐ मित्र

3. ☐ सदी

4. ☐ दूध

Question Number : 88 Question Id : 16794319272 Question Type : MCQ Option Shuffling : Yes Display Question Number : Yes
Single Line Question Option : No Option Orientation : Vertical

Correct Marks : 1 Wrong Marks : 0.25

निम्नलिखित में व्यक्तिवाचक संज्ञा कौन सी है?

Options :

1. ☒ गंगा

2. ☐ मित्र

3. ☐ सदी

4. ☐ दूध

Question Number : 89 Question Id : 16794319273 Question Type : MCQ Option Shuffling : Yes Display Question Number : Yes
Single Line Question Option : No Option Orientation : Vertical

Correct Marks : 1 Wrong Marks : 0.25

निजवाचक सर्वनाम है:

Options :

1. ☐ मैं

2. ☐ तुम

3. ☐ वह

4. ☒ आप

Question Number : 89 Question Id : 16794319273 Question Type : MCQ Option Shuffling : Yes Display Question Number : Yes
Single Line Question Option : No Option Orientation : Vertical

Correct Marks : 1 Wrong Marks : 0.25

निजवाचक सर्वनाम है:

Options :

1. ✖ मैं
2. ✖ तुम
3. ✖ वह
4. ✔ आप

Question Number : 90 Question Id : 16794319274 Question Type : MCQ Option Shuffling : Yes Display Question Number : Yes
Single Line Question Option : No Option Orientation : Vertical
Correct Marks : 1 Wrong Marks : 0.25

निम्नलिखित में कौन सा शब्द अव्यय है?

Options :

1. ✖ अगला
2. ✖ दायाँ
3. ✔ इधर
4. ✖ लाल

Question Number : 90 Question Id : 16794319274 Question Type : MCQ Option Shuffling : Yes Display Question Number : Yes
Single Line Question Option : No Option Orientation : Vertical
Correct Marks : 1 Wrong Marks : 0.25

निम्नलिखित में कौन सा शब्द अव्यय है?

Options :

1. ✖ अगला
2. ✖ दायाँ
3. ✔ इधर
4. ✖ लाल

Question Number : 91 Question Id : 16794319275 Question Type : MCQ Option Shuffling : Yes Display Question Number : Yes
Single Line Question Option : No Option Orientation : Vertical
Correct Marks : 1 Wrong Marks : 0.25

‘तेजोपुंज’ का संधि विच्छेद होगा:

Options :

1. ✓ तेजः + पुंज

2. ✗ तेज + पुंज

3. ✗ तेजा + पुंज

4. ✗ तेजो + पुंज

Question Number : 91 Question Id : 16794319275 Question Type : MCQ Option Shuffling : Yes Display Question Number : Yes
Single Line Question Option : No Option Orientation : Vertical

Correct Marks : 1 Wrong Marks : 0.25

‘तेजोपुंज’ का संधि विच्छेद होगा:

Options :

1. ✓ तेजः + पुंज

2. ✗ तेज + पुंज

3. ✗ तेजा + पुंज

4. ✗ तेजो + पुंज

Question Number : 92 Question Id : 16794319276 Question Type : MCQ Option Shuffling : Yes Display Question Number : Yes
Single Line Question Option : No Option Orientation : Vertical

Correct Marks : 1 Wrong Marks : 0.25

‘बीचोबीच’ में समास है:

Options :

1. ✗ तत्पुरुष

2. ✓ अव्ययीभाव

3. ✗ द्वंद्व

4. ✗ दविगु

Question Number : 92 Question Id : 16794319276 Question Type : MCQ Option Shuffling : Yes Display Question Number : Yes
Single Line Question Option : No Option Orientation : Vertical

Correct Marks : 1 Wrong Marks : 0.25

‘बीचोबीच’ में समास है:

Options :

1. ✖ तत्पुरुष
2. ✔ अव्ययीभाव
3. ✖ द्वन्द्व
4. ✖ द्विगु

Question Number : 93 Question Id : 16794319277 Question Type : MCQ Option Shuffling : Yes Display Question Number : Yes
Single Line Question Option : No Option Orientation : Vertical

Correct Marks : 1 Wrong Marks : 0.25

निम्नलिखित में कौन सा शब्द पुल्लिङ्ग है?

Options :

1. ✖ आग
2. ✖ आदत
3. ✔ आलस्य
4. ✖ आय

Question Number : 93 Question Id : 16794319277 Question Type : MCQ Option Shuffling : Yes Display Question Number : Yes
Single Line Question Option : No Option Orientation : Vertical

Correct Marks : 1 Wrong Marks : 0.25

निम्नलिखित में कौन सा शब्द पुल्लिङ्ग है?

Options :

1. ✖ आग
2. ✖ आदत
3. ✔ आलस्य
4. ✖ आय

Question Number : 94 Question Id : 16794319278 Question Type : MCQ Option Shuffling : Yes Display Question Number : Yes
Single Line Question Option : No Option Orientation : Vertical

Correct Marks : 1 Wrong Marks : 0.25

‘अभियान’ में उपसर्ग है:

Options :

1. ✖ अ
2. ✖ आ
3. ✖ अभ
4. ✔ अभि

Question Number : 94 Question Id : 16794319278 Question Type : MCQ Option Shuffling : Yes Display Question Number : Yes
Single Line Question Option : No Option Orientation : Vertical

Correct Marks : 1 Wrong Marks : 0.25

‘अभियान’ में उपसर्ग है:

Options :

1. ✖ अ
2. ✖ आ
3. ✖ अभ
4. ✔ अभि

Question Number : 95 Question Id : 16794319279 Question Type : MCQ Option Shuffling : Yes Display Question Number : Yes
Single Line Question Option : No Option Orientation : Vertical

Correct Marks : 1 Wrong Marks : 0.25

‘ससुराल’ में प्रत्यय है:

Options :

1. ✖ राल
2. ✔ आल
3. ✖ वाल
4. ✖ स

Question Number : 95 Question Id : 16794319279 Question Type : MCQ Option Shuffling : Yes Display Question Number : Yes
Single Line Question Option : No Option Orientation : Vertical

Correct Marks : 1 Wrong Marks : 0.25

‘ससुराल’ में प्रत्यय है:

Options :

1. ✖ राल

2. ✔ आल

3. ✖ वाल

4. ✖ स

Question Number : 96 Question Id : 16794319280 Question Type : MCQ Option Shuffling : Yes Display Question Number : Yes
Single Line Question Option : No Option Orientation : Vertical

Correct Marks : 1 Wrong Marks : 0.25

‘तालाब’ का पर्यायवाची है:

Options :

1. ✔ पद्माकर

2. ✖ प्रभाकर

3. ✖ सुधाकर

4. ✖ भास्कर

Question Number : 96 Question Id : 16794319280 Question Type : MCQ Option Shuffling : Yes Display Question Number : Yes
Single Line Question Option : No Option Orientation : Vertical

Correct Marks : 1 Wrong Marks : 0.25

‘तालाब’ का पर्यायवाची है:

Options :

1. ✔ पद्माकर

2. ✖ प्रभाकर

3. ✖ सुधाकर

4. ✖ भास्कर

Question Number : 97 Question Id : 16794319281 Question Type : MCQ Option Shuffling : Yes Display Question Number : Yes
Single Line Question Option : No Option Orientation : Vertical

Correct Marks : 1 Wrong Marks : 0.25

‘स्वावलंबी’ का विलोम होगा:

Options :

1. ✖ अवलंबन

2. ✖ आलंबन

3. ✖ परावलंबन

4. ✔ परावलंबी

Question Number : 97 Question Id : 16794319281 Question Type : MCQ Option Shuffling : Yes Display Question Number : Yes
Single Line Question Option : No Option Orientation : Vertical

Correct Marks : 1 Wrong Marks : 0.25

‘स्वावलंबी’ का विलोम होगा:

Options :

1. ✖ अवलंबन

2. ✖ आलंबन

3. ✖ परावलंबन

4. ✔ परावलंबी

Question Number : 98 Question Id : 16794319282 Question Type : MCQ Option Shuffling : Yes Display Question Number : Yes
Single Line Question Option : No Option Orientation : Vertical

Correct Marks : 1 Wrong Marks : 0.25

‘जो सबको समान भाव से देखता हो’ के लिए एक शब्द होगा:

Options :

1. ✖ सूक्ष्मदर्शी

2. ✖ दूरदर्शी

3. ✔ समदर्शी

4. ✖ प्रियदर्शी

Question Number : 98 Question Id : 16794319282 Question Type : MCQ Option Shuffling : Yes Display Question Number : Yes
Single Line Question Option : No Option Orientation : Vertical

Correct Marks : 1 Wrong Marks : 0.25

‘जो सबको समान भाव से देखता हो’ के लिए एक शब्द होगा:

Options :

1. ✖ सूक्ष्मदर्शी
2. ✖ दूरदर्शी
3. ✔ समदर्शी
4. ✖ प्रियदर्शी

Question Number : 99 Question Id : 16794319283 Question Type : MCQ Option Shuffling : Yes Display Question Number : Yes
Single Line Question Option : No Option Orientation : Vertical

Correct Marks : 1 Wrong Marks : 0.25

निम्नलिखित में शुद्ध वर्तनी वाला शब्द है:

Options :

1. ✖ राजनितिक
2. ✔ राजनीतिक
3. ✖ राजनितीक
4. ✖ राजनीतीक

Question Number : 99 Question Id : 16794319283 Question Type : MCQ Option Shuffling : Yes Display Question Number : Yes
Single Line Question Option : No Option Orientation : Vertical

Correct Marks : 1 Wrong Marks : 0.25

निम्नलिखित में शुद्ध वर्तनी वाला शब्द है:

Options :

1. ✖ राजनितिक
2. ✔ राजनीतिक
3. ✖ राजनितीक
4. ✖ राजनीतीक

Question Number : 100 Question Id : 16794319284 Question Type : MCQ Option Shuffling : Yes Display Question Number : Yes
Single Line Question Option : No Option Orientation : Vertical

Correct Marks : 1 Wrong Marks : 0.25

‘मेरे को तुम्हारा घर पसंद है।’ वाक्य में अशुद्ध अंश है:

Options :

1. ✓ मेरे को
2. ✗ तुम्हारा
3. ✗ घर
4. ✗ पसंद है।

Question Number : 100 Question Id : 16794319284 Question Type : MCQ Option Shuffling : Yes Display Question Number : Yes
Single Line Question Option : No Option Orientation : Vertical

Correct Marks : 1 Wrong Marks : 0.25

‘मेरे को तुम्हारा घर पसंद है।’ वाक्य में अशुद्ध अंश है:

Options :

1. ✓ मेरे को
2. ✗ तुम्हारा
3. ✗ घर
4. ✗ पसंद है।

Subject Related

Group Number :	6
Group Id :	167943729
Group Maximum Duration :	0
Group Minimum Duration :	0
Revisit allowed for view? :	No
Revisit allowed for edit? :	No
Break time:	0
Group Marks:	20
Revisit allowed for group Instructions? :	Yes
Maximum Instruction Time:	0
Minimum Instruction Time:	0

Subject Related

Section Id :	167943794
Section Number :	1
Section type :	Online
Mandatory or Optional:	Mandatory
Number of Questions:	20

Number of Questions to be attempted:	20
Section Marks:	20
Display Number Panel:	Yes
Group All Questions:	No



Sub-Section Number:	1
Sub-Section Id:	1679431227
Question Shuffling Allowed :	Yes

Question Number : 101 Question Id : 16794319285 Question Type : MCQ Option Shuffling : Yes Display Question Number : Yes
Single Line Question Option : No Option Orientation : Vertical

Correct Marks : 1 Wrong Marks : 0.25

Japanese Navy defeated Russian fleet in the year of _____.

Options :

1.  1905
2.  1910
3.  1900
4.  1912

Question Number : 101 Question Id : 16794319285 Question Type : MCQ Option Shuffling : Yes Display Question Number : Yes
Single Line Question Option : No Option Orientation : Vertical

Correct Marks : 1 Wrong Marks : 0.25

जापानी नौसेना ने रूसी जहाज़ी बेड़े को वर्ष _____ में पराजित किया था।

Options :

1.  1905
2.  1910
3.  1900
4.  1912

Question Number : 102 Question Id : 16794319286 Question Type : MCQ Option Shuffling : Yes Display Question Number : Yes
Single Line Question Option : No Option Orientation : Vertical

Correct Marks : 1 Wrong Marks : 0.25

In the 18th century, London became the center of a triangular trade network that involved England, Africa and _____.

Options :

1.  America
2.  West Indies

3. ✖ Australia

4. ✖ India

Question Number : 102 Question Id : 16794319286 Question Type : MCQ Option Shuffling : Yes Display Question Number : Yes
Single Line Question Option : No Option Orientation : Vertical

Correct Marks : 1 Wrong Marks : 0.25

18वीं शताब्दी में, लंदन त्रिकोणीय व्यापार नेटवर्क का केंद्र था जिसमें इंग्लैंड, अफ्रीका और _____ शामिल थे।

Options :

1. ✖ अमेरिका

2. ✔ वेस्टइंडीज़

3. ✖ ऑस्ट्रेलिया

4. ✖ भारत

Question Number : 103 Question Id : 16794319287 Question Type : MCQ Option Shuffling : Yes Display Question Number : Yes
Single Line Question Option : No Option Orientation : Vertical

Correct Marks : 1 Wrong Marks : 0.25

Agricultural regions and communities were worst affected in 1929, because the fall in agricultural prices was greater and more prolonged than that in the prices of _____.

Options :

1. ✖ Raw material for agriculture

2. ✖ Opium

3. ✔ Industrial goods

4. ✖ Indigo

Question Number : 103 Question Id : 16794319287 Question Type : MCQ Option Shuffling : Yes Display Question Number : Yes
Single Line Question Option : No Option Orientation : Vertical

Correct Marks : 1 Wrong Marks : 0.25

वर्ष 1929 में कृषि क्षेत्र और समुदाय बुरी तरह से प्रभावित हुए थे, क्योंकि _____ के मूल्यों की तुलना में कृषि के मूल्यों में गिरावट अधिक एवं दीर्घकालीन थी।

Options :

1. ✖ कृषि हेतु कच्चे माल

2. ✖ अफीम

3. ✓ औद्योगिक माल

4. ✗ इंडिगो

Question Number : 104 Question Id : 16794319288 Question Type : MCQ Option Shuffling : Yes Display Question Number : Yes
Single Line Question Option : No Option Orientation : Vertical

Correct Marks : 1 Wrong Marks : 0.25

“Letter to advice Queen Victoria” was written by:

Options :

1. ✗ Kangxi

2. ✓ Lin Ze - Xu

3. ✗ Yongzheng

4. ✗ Qianlong

Question Number : 104 Question Id : 16794319288 Question Type : MCQ Option Shuffling : Yes Display Question Number : Yes
Single Line Question Option : No Option Orientation : Vertical

Correct Marks : 1 Wrong Marks : 0.25

“रानी विक्टोरिया को सलाह पत्र (लेटर टु एड्वाइस क्वीन विक्टोरिया)” के लेखक कौन हैं?

Options :

1. ✗ कैंग्क्सी

2. ✓ लिन-ज़ी-जू

3. ✗ यांगजेंग

4. ✗ कियानलॉन्ग

Question Number : 105 Question Id : 16794319289 Question Type : MCQ Option Shuffling : Yes Display Question Number : Yes
Single Line Question Option : No Option Orientation : Vertical

Correct Marks : 1 Wrong Marks : 0.25

Which was the main community that was converted into industrial workers in the 20th century?

Options :

1. ✓ Peasants and Artisans

2. ✗ Weavers

3. ✖ Educationalists

4. ✖ Sepoy

Question Number : 105 Question Id : 16794319289 Question Type : MCQ Option Shuffling : Yes Display Question Number : Yes
Single Line Question Option : No Option Orientation : Vertical

Correct Marks : 1 Wrong Marks : 0.25

20वीं सदी में किस प्रमुख समुदाय को औद्योगिक कामगारों में परिवर्तित किया गया था?

Options :

1. ✔ किसान और कारीगर

2. ✖ बुनकर

3. ✖ शिक्षाविद

4. ✖ भारतीय सिपाही

Question Number : 106 Question Id : 16794319290 Question Type : MCQ Option Shuffling : Yes Display Question Number : Yes
Single Line Question Option : No Option Orientation : Vertical

Correct Marks : 1 Wrong Marks : 0.25

_____ was found during the Gurkha war.

Options :

1. ✖ Darjeeling

2. ✖ Mount Abu

3. ✔ Shimla

4. ✖ Ooty

Question Number : 106 Question Id : 16794319290 Question Type : MCQ Option Shuffling : Yes Display Question Number : Yes
Single Line Question Option : No Option Orientation : Vertical

Correct Marks : 1 Wrong Marks : 0.25

गोरखा युद्ध के दौरान _____ की खोज हुई थी।

Options :

1. ✖ दार्जिलिंग

2. ✖ माउंट आबु

3. ✓ शिमला

4. ✗ ऊटी

Question Number : 107 Question Id : 16794319291 Question Type : MCQ Option Shuffling : Yes Display Question Number : Yes
Single Line Question Option : No Option Orientation : Vertical

Correct Marks : 1 Wrong Marks : 0.25

One of the below does not belong to French society third estate. Identify.

Options :

1. ✓ Governing body

2. ✗ Big business men

3. ✗ Artisans and peasants

4. ✗ Court officials

Question Number : 107 Question Id : 16794319291 Question Type : MCQ Option Shuffling : Yes Display Question Number : Yes
Single Line Question Option : No Option Orientation : Vertical

Correct Marks : 1 Wrong Marks : 0.25

निम्नलिखित में से एक विकल्प, फ्रांसीसी समाज के तीसरे वर्ग में शामिल नहीं है। पहचान करें।

Options :

1. ✓ अधिशासी निकाय

2. ✗ बड़े कारोबारी व्यक्ति

3. ✗ कामगार और किसान

4. ✗ न्यायालय के अधिकारीगण

Question Number : 108 Question Id : 16794319292 Question Type : MCQ Option Shuffling : Yes Display Question Number : Yes
Single Line Question Option : No Option Orientation : Vertical

Correct Marks : 1 Wrong Marks : 0.25

To defeat Britain, France supported _____ to become Independent.

Options :

1. ✗ India

2. ✓ American colonies

3. ✗ China

4. ✖ Ireland

Question Number : 108 Question Id : 16794319292 Question Type : MCQ Option Shuffling : Yes Display Question Number : Yes
Single Line Question Option : No Option Orientation : Vertical

Correct Marks : 1 Wrong Marks : 0.25

ब्रिटेन को हराने के लिए, फ्रांस ने _____ को स्वतंत्र बनाने हेतु समर्थन प्रदान किया था।

Options :

1. ✖ भारत

2. ✔ अमरीकी उपनिवेशों

3. ✖ चीन

4. ✖ आयरलैंड

Question Number : 109 Question Id : 16794319293 Question Type : MCQ Option Shuffling : Yes Display Question Number : Yes
Single Line Question Option : No Option Orientation : Vertical

Correct Marks : 1 Wrong Marks : 0.25

Under the constitution of 1791, the National Assembly controls _____.

Options :

1. ✖ Judiciary

2. ✖ Active citizens

3. ✖ Passive citizens

4. ✔ King and Ministers

Question Number : 109 Question Id : 16794319293 Question Type : MCQ Option Shuffling : Yes Display Question Number : Yes
Single Line Question Option : No Option Orientation : Vertical

Correct Marks : 1 Wrong Marks : 0.25

1791 के संविधान के तहत, राष्ट्रीय असेंबली, _____ का नियंत्रण करती है।

Options :

1. ✖ न्यायपालिका

2. ✖ सक्रिय नागरिक

3. ✖ निष्क्रिय नागरिक

4. ✓ राजा और मंत्री

Question Number : 110 Question Id : 16794319294 Question Type : MCQ Option Shuffling : Yes Display Question Number : Yes
Single Line Question Option : No Option Orientation : Vertical

Correct Marks : 1 Wrong Marks : 0.25

One important law that came into effects soon after the storming of the Bastille in the summer of the 1789 was _____.

Options :

1. ✓ Abolition of censorship
2. ✗ Clergy to pay tax
3. ✗ Judiciary to be appointed by the king
4. ✗ King and ministers can run the National Assembly

Question Number : 110 Question Id : 16794319294 Question Type : MCQ Option Shuffling : Yes Display Question Number : Yes
Single Line Question Option : No Option Orientation : Vertical

Correct Marks : 1 Wrong Marks : 0.25

वर्ष 1789 के ग्रीष्म मौसम में बैस्टिले पर आक्रमण के तुरंत बाद, एक महत्वपूर्ण कानून को प्रभावी बनाया गया था, जिसे _____ कहते हैं।

Options :

1. ✓ नियंत्रण का उन्मूलन
2. ✗ पादरी द्वारा कर का भुगतान
3. ✗ राजा द्वारा न्यायपालिका की नियुक्ति
4. ✗ राजा और मंत्रियों द्वारा राष्ट्रीय असेंबली का संचालन

Question Number : 111 Question Id : 16794319295 Question Type : MCQ Option Shuffling : Yes Display Question Number : Yes
Single Line Question Option : No Option Orientation : Vertical

Correct Marks : 1 Wrong Marks : 0.25

In which year did the British suffer defeat in the battle of Chinhat?

Options :

1. ✗ 10th May, 1801
2. ✓ 30th June, 1857

3. ✖ 10th May, 1857

4. ✖ 30th May, 1857

Question Number : 111 Question Id : 16794319295 Question Type : MCQ Option Shuffling : Yes Display Question Number : Yes
Single Line Question Option : No Option Orientation : Vertical

Correct Marks : 1 Wrong Marks : 0.25

किस वर्ष में चिन्हट युद्ध में अंग्रेजों को पराजय का सामना करना पड़ा था?

Options :

1. ✖ 10 मई, 1801

2. ✔ 30 जून, 1857

3. ✖ 10 मई, 1857

4. ✖ 30 मई, 1857

Question Number : 112 Question Id : 16794319296 Question Type : MCQ Option Shuffling : Yes Display Question Number : Yes
Single Line Question Option : No Option Orientation : Vertical

Correct Marks : 1 Wrong Marks : 0.25

Along with the sepoys _____ also joined and looted Delhi. With this impact Delhi has gone out of British control on 11th May, 1857.

Options :

1. ✔ Ordinary people

2. ✖ Monarchies

3. ✖ British

4. ✖ Rebels

Question Number : 112 Question Id : 16794319296 Question Type : MCQ Option Shuffling : Yes Display Question Number : Yes
Single Line Question Option : No Option Orientation : Vertical

Correct Marks : 1 Wrong Marks : 0.25

सिपाहियों के साथ, _____ ने भी मिलकर दिल्ली को लूटा। जिसके प्रभाव से दिल्ली 11 मई, 1857 से अंग्रेजों के नियंत्रण से बाहर हो गई।

Options :

1. ✔ सामान्य जनता

2. ✖ राजतंत्र

3. ✖ अंग्रेजों

4. ✖ विद्रोहियों

Question Number : 113 Question Id : 16794319297 Question Type : MCQ Option Shuffling : Yes Display Question Number : Yes
Single Line Question Option : No Option Orientation : Vertical

Correct Marks : 1 Wrong Marks : 0.25

Subsidiary Alliance was a system devised by Lord Wellesley in the year _____.

Options :

1. ✖ 1857

2. ✔ 1798

3. ✖ 1700

4. ✖ 1801

Question Number : 113 Question Id : 16794319297 Question Type : MCQ Option Shuffling : Yes Display Question Number : Yes
Single Line Question Option : No Option Orientation : Vertical

Correct Marks : 1 Wrong Marks : 0.25

लॉर्ड वेलेस्ले द्वारा वर्ष _____ में सहायक गठबंधन की प्रणाली का गठन किया गया था।

Options :

1. ✖ 1857

2. ✔ 1798

3. ✖ 1700

4. ✖ 1801

Question Number : 114 Question Id : 16794319298 Question Type : MCQ Option Shuffling : Yes Display Question Number : Yes
Single Line Question Option : No Option Orientation : Vertical

Correct Marks : 1 Wrong Marks : 0.25

Which one of these was not a territory under British during First War of Independence?

Options :

1. ✔ Hyderabad Nizam

2. ✖ Sindh

3. ✖ Arcot

4. ✖ Banaras

Question Number : 114 Question Id : 16794319298 Question Type : MCQ Option Shuffling : Yes Display Question Number : Yes
Single Line Question Option : No Option Orientation : Vertical

Correct Marks : 1 Wrong Marks : 0.25

निम्नलिखित में से कौन सा क्षेत्र, स्वतंत्रता की पहली लड़ाई के दौरान अंग्रेजों के नियंत्रण के अधीन नहीं था?

Options :

1. ✔ हैदराबाद निज़ाम

2. ✖ सिंध

3. ✖ अर्कोट

4. ✖ बनारस

Question Number : 115 Question Id : 16794319299 Question Type : MCQ Option Shuffling : Yes Display Question Number : Yes
Single Line Question Option : No Option Orientation : Vertical

Correct Marks : 1 Wrong Marks : 0.25

British unarmed the _____ and destroyed their forts after the annexation of Awadh.

Options :

1. ✖ King of Awadh

2. ✖ Commander in Chief of Awadh

3. ✖ Zamindars

4. ✔ Talukdars

Question Number : 115 Question Id : 16794319299 Question Type : MCQ Option Shuffling : Yes Display Question Number : Yes
Single Line Question Option : No Option Orientation : Vertical

Correct Marks : 1 Wrong Marks : 0.25

अवध का कब्ज़ा करने के बाद अंग्रेजों ने _____ को निरस्त्र किया और उनके सभी किलों को नष्ट कर दिया।

Options :

1. ✖ अवध के राजा

2. ✖ अवध के मुख्य सेनापति

3. ✖ ज़मींदारों

4. ✓ तालुकदारों

Question Number : 116 Question Id : 16794319300 Question Type : MCQ Option Shuffling : Yes Display Question Number : Yes
Single Line Question Option : No Option Orientation : Vertical

Correct Marks : 1 Wrong Marks : 0.25

Who wrote the book 'Poverty and Un-British rule'?

Options :

1. ✓ Dadabhai Naoroji
2. ✗ S. Subramaniya Iyer
3. ✗ W.C. Bonnerji
4. ✗ A.O. Hume

Question Number : 116 Question Id : 16794319300 Question Type : MCQ Option Shuffling : Yes Display Question Number : Yes
Single Line Question Option : No Option Orientation : Vertical

Correct Marks : 1 Wrong Marks : 0.25

'पाँवर्टी एण्ड अन-ब्रिटिश रूल' पुस्तक के लेखक कौन हैं?

Options :

1. ✓ दादाभाई नौरोजी
2. ✗ एस. सुब्रमण्य अय्यर
3. ✗ डब्ल्यू.सी. बनर्जी
4. ✗ ए.ओ. ह्यूम

Question Number : 117 Question Id : 16794319301 Question Type : MCQ Option Shuffling : Yes Display Question Number : Yes
Single Line Question Option : No Option Orientation : Vertical

Correct Marks : 1 Wrong Marks : 0.25

How was Swadeshi Movement echoed in Andhra region?

Options :

1. ✗ Quit India movement
2. ✓ Vandematharam Movement
3. ✗ Bharat Movement

4. ✖ Dakshin Bharat Movement

Question Number : 117 Question Id : 16794319301 Question Type : MCQ Option Shuffling : Yes Display Question Number : Yes
Single Line Question Option : No Option Orientation : Vertical

Correct Marks : 1 Wrong Marks : 0.25

आंध्र क्षेत्र में स्वदेशी आंदोलन की गूंज कैसे सुनाई दी थी?

Options :

1. ✖ भारत छोड़ो आंदोलन
2. ✔ वंदेमातरम आंदोलन
3. ✖ भारत आंदोलन
4. ✖ दक्षिण भारत आंदोलन

Question Number : 118 Question Id : 16794319302 Question Type : MCQ Option Shuffling : Yes Display Question Number : Yes
Single Line Question Option : No Option Orientation : Vertical

Correct Marks : 1 Wrong Marks : 0.25

Identify one of the Founders of Natal Congress, Durban, South Africa of 1895.

Options :

1. ✔ M. K. Gandhi
2. ✖ Nelson Mandela
3. ✖ Albertina Sisulu
4. ✖ Archbishop Desmond Tutu

Question Number : 118 Question Id : 16794319302 Question Type : MCQ Option Shuffling : Yes Display Question Number : Yes
Single Line Question Option : No Option Orientation : Vertical

Correct Marks : 1 Wrong Marks : 0.25

डरबन, दक्षिण अफ्रीका के 1895 के नेटल कांग्रेस के संस्थापकों में से किसी एक की पहचान करें।

Options :

1. ✔ एम.के. गांधी
2. ✖ नेल्सन मंडेला
3. ✖ एलबर्टिना सिसुलु

4. ✖ आर्कबिशप डेस्मंड टुटु

Question Number : 119 Question Id : 16794319303 Question Type : MCQ Option Shuffling : Yes Display Question Number : Yes
Single Line Question Option : No Option Orientation : Vertical

Correct Marks : 1 Wrong Marks : 0.25

Which of these was a trigger for Rabindra Nath Tagore expressing his anger on British by renouncing his Knighthood?

Options :

1. ✖ Rowlatt Act
2. ✖ Salt Satyagraha
3. ✖ Quit India movement
4. ✔ Jallianwala bagh atrocities

Question Number : 119 Question Id : 16794319303 Question Type : MCQ Option Shuffling : Yes Display Question Number : Yes
Single Line Question Option : No Option Orientation : Vertical

Correct Marks : 1 Wrong Marks : 0.25

निम्नलिखित में से कौन सा विकल्प, रबीन्द्र नाथ टैगोर द्वारा अपनी नाइट की उपाधि को त्याग कर अंग्रेज़ों पर अपना क्रोध व्यक्त करने के लिए एक प्रेरण था?

Options :

1. ✖ राउलैट एक्ट
2. ✖ नमक सत्याग्रह
3. ✖ भारत छोड़ो आंदोलन
4. ✔ जालियांवाला बाग के अत्याचार

Question Number : 120 Question Id : 16794319304 Question Type : MCQ Option Shuffling : Yes Display Question Number : Yes
Single Line Question Option : No Option Orientation : Vertical

Correct Marks : 1 Wrong Marks : 0.25

Who formed Hindustan Socialist Republican Association?

Options :

1. ✔ Bhagat Singh
2. ✖ Jinnah
3. ✖ Rabindranath Tagore

4. ✖ Lala Lajpat Rai

Question Number : 120 Question Id : 16794319304 Question Type : MCQ Option Shuffling : Yes Display Question Number : Yes
Single Line Question Option : No Option Orientation : Vertical
Correct Marks : 1 Wrong Marks : 0.25

हिंदुस्तान सोशलिस्ट रिपब्लिकन एसोसिएशन का गठन किसने किया था?

Options :

1. ✔ भगत सिंह

2. ✖ जिन्ना

3. ✖ रबिन्द्रनाथ टैगोर

4. ✖ लाला लाजपत राय

Subject Related

Group Number :	7
Group Id :	167943730
Group Maximum Duration :	0
Group Minimum Duration :	0
Revisit allowed for view? :	No
Revisit allowed for edit? :	No
Break time:	0
Group Marks:	20
Revisit allowed for group Instructions? :	Yes
Maximum Instruction Time:	0
Minimum Instruction Time:	0

Subject Related

Section Id :	167943795
Section Number :	1
Section type :	Online
Mandatory or Optional:	Mandatory
Number of Questions:	20
Number of Questions to be attempted:	20
Section Marks:	20
Display Number Panel:	Yes
Group All Questions:	No

Sub-Section Number:	1
Sub-Section Id:	1679431228
Question Shuffling Allowed :	Yes

Question Number : 121 Question Id : 16794319305 Question Type : MCQ Option Shuffling : Yes Display Question Number : Yes
Single Line Question Option : No Option Orientation : Vertical

Correct Marks : 1 Wrong Marks : 0.25

What do you understand by 'Suffragette movement' in Russian Revolution?

Options :

1. ✖ Revolutionary movement against Monarchy.
2. ✖ Movement to support peasants and artisans.
3. ✖ A movement supporting ideology of Communism
4. ✔ A movement to give woman right to vote

Question Number : 121 Question Id : 16794319305 Question Type : MCQ Option Shuffling : Yes Display Question Number : Yes
Single Line Question Option : No Option Orientation : Vertical

Correct Marks : 1 Wrong Marks : 0.25

रूस की क्रांति में 'सफ्रागेट आंदोलन' से आप क्या समझते हैं?

Options :

1. ✖ राजतंत्र के विरुद्ध क्रांतिकारी आंदोलन
2. ✖ किसान और कामगारों के समर्थन हेतु आंदोलन
3. ✖ साम्यवाद की विचारधारा का समर्थन करने वाला आंदोलन
4. ✔ महिला को मताधिकार प्रदान करने वाला आंदोलन

Question Number : 122 Question Id : 16794319306 Question Type : MCQ Option Shuffling : Yes Display Question Number : Yes
Single Line Question Option : No Option Orientation : Vertical

Correct Marks : 1 Wrong Marks : 0.25

What was the major religion in Russia in 1914?

Options :

1. ✔ Russia Orthodox Christianity
2. ✖ Roman Catholic Christianity
3. ✖ Protestant Christianity
4. ✖ Russian liberal Christianity

Question Number : 122 Question Id : 16794319306 Question Type : MCQ Option Shuffling : Yes Display Question Number : Yes
Single Line Question Option : No Option Orientation : Vertical

Correct Marks : 1 Wrong Marks : 0.25

वर्ष 1914 में रूस का प्रमुख धर्म क्या था?

Options :

1. ☒ रूसी रूढ़िवादी ईसाई धर्म
2. ☐ रोमन कैथलिक ईसाई धर्म
3. ☐ प्रोटेस्टेंट ईसाई धर्म
4. ☐ रूसी उदारपंथी ईसाई धर्म

Question Number : 123 Question Id : 16794319307 Question Type : MCQ Option Shuffling : Yes Display Question Number : Yes
Single Line Question Option : No Option Orientation : Vertical

Correct Marks : 1 Wrong Marks : 0.25

Which of these statements is correct on Political parties in Russia before 1914?

Options :

1. ☐ All political parties worked legally.
2. ☒ All political parties were Illegal.
3. ☐ Social Democratic party was not found before 1914.
4. ☐ There was no Government Policing in Russia before 1914.

Question Number : 123 Question Id : 16794319307 Question Type : MCQ Option Shuffling : Yes Display Question Number : Yes
Single Line Question Option : No Option Orientation : Vertical

Correct Marks : 1 Wrong Marks : 0.25

वर्ष 1914 से पहले, रूस की राजनैतिक पार्टियों के संबंध में निम्नलिखित में से कौन से कथन सही हैं?

Options :

1. ☐ सभी राजनैतिक पार्टियां वैध रूप से कार्य करती थीं।
2. ☒ सभी राजनैतिक पार्टियां अवैध थीं।
3. ☐ वर्ष 1914 से पहले, सोशल डेमोक्रेटिक पार्टी का गठन नहीं हुआ था।
4. ☐ वर्ष 1914 से पहले रूस में सरकारी शासन व्यवस्था उपस्थित नहीं थी।

Question Number : 124 Question Id : 16794319308 Question Type : MCQ Option Shuffling : Yes Display Question Number : Yes
Single Line Question Option : No Option Orientation : Vertical

Correct Marks : 1 Wrong Marks : 0.25

Identify the person or place connected to 'Bloody Sunday'.

Options :

1. ☒ Father Georgy Apollonovich Gapon
2. ☐ Jadidist
3. ☐ Rasputin
4. ☐ Tsarina Alexandra

Question Number : 124 Question Id : 16794319308 Question Type : MCQ Option Shuffling : Yes Display Question Number : Yes
Single Line Question Option : No Option Orientation : Vertical

Correct Marks : 1 Wrong Marks : 0.25

'खूनी रविवार (ब्लडी संडे)' से जुड़े व्यक्ति अथवा स्थान की पहचान करें।

Options :

1. ☒ फादर जियोर्जी अपोलोनोविच गैपॉन
2. ☐ जैडिडिस्ट
3. ☐ रास्पुटिन
4. ☐ सरीना एलेक्जेंड्रा

Question Number : 125 Question Id : 16794319309 Question Type : MCQ Option Shuffling : Yes Display Question Number : Yes
Single Line Question Option : No Option Orientation : Vertical

Correct Marks : 1 Wrong Marks : 0.25

The socialist party in Russia was divided into two, known as:

Options :

1. ☐ Vladimir Lenin and Tsarist Russia
2. ☐ Social Democrats and Socialist Revolutionists
3. ☐ Social Democrats and Bolshevik Democrats
4. ☒ Bolshevik group and Menshevik group

Question Number : 125 Question Id : 16794319309 Question Type : MCQ Option Shuffling : Yes Display Question Number : Yes
Single Line Question Option : No Option Orientation : Vertical

Correct Marks : 1 Wrong Marks : 0.25

रूस में सोशलिस्ट पार्टी दो पार्टियों में विभाजन हो गया, जिसके नाम थे:

Options :

1. ✖ व्लादिमीर लेनिन और ट्सारिस्ट रूस
2. ✖ सोशल डेमोक्रेट और सोशलिस्ट रेवल्यूशनरिस्ट
3. ✖ सोशल डेमोक्रेट और बोल्शेविक डेमोक्रेट
4. ✔ बोल्शेविक ग्रुप और मेनशेविक ग्रुप

Question Number : 126 Question Id : 16794319310 Question Type : MCQ Option Shuffling : Yes Display Question Number : Yes
Single Line Question Option : No Option Orientation : Vertical

Correct Marks : 1 Wrong Marks : 0.25

Many Germans felt _____ was responsible to lose World War 1 and the humiliating Versailles treaty.

Options :

1. ✔ Weimar Republic
2. ✖ Hitler
3. ✖ British
4. ✖ The Allied Powers

Question Number : 126 Question Id : 16794319310 Question Type : MCQ Option Shuffling : Yes Display Question Number : Yes
Single Line Question Option : No Option Orientation : Vertical

Correct Marks : 1 Wrong Marks : 0.25

कई जर्मनवासियों का मानना था कि विश्व युद्ध I में पराजय एवं अपमानजनक वर्सेल्स संधि के लिए _____ उत्तरादायी था।

Options :

1. ✔ वाइमर रिपब्लिक
2. ✖ हिटलर
3. ✖ अंग्रेज़
4. ✖ सहबद्ध शक्तियां

Question Number : 127 Question Id : 16794319311 Question Type : MCQ Option Shuffling : Yes Display Question Number : Yes
Single Line Question Option : No Option Orientation : Vertical

Correct Marks : 1 Wrong Marks : 0.25

Who are known as 'November criminals'?

Options :

1. ☒ Weimer Republic
2. ☐ Jews
3. ☐ Russians
4. ☐ Europeans

Question Number : 127 Question Id : 16794319311 Question Type : MCQ Option Shuffling : Yes Display Question Number : Yes
Single Line Question Option : No Option Orientation : Vertical

Correct Marks : 1 Wrong Marks : 0.25

'नवंबर अपराधी' किन्हें कहा जाता है?

Options :

1. ☒ वाइमर रिपब्लिक
2. ☐ यहूदी
3. ☐ रूसी
4. ☐ यूरोपीय

Question Number : 128 Question Id : 16794319312 Question Type : MCQ Option Shuffling : Yes Display Question Number : Yes
Single Line Question Option : No Option Orientation : Vertical

Correct Marks : 1 Wrong Marks : 0.25

Dawes Plan was introduced by _____ to Germany to reduce _____.

Options :

1. ☐ allied party, military powers
2. ☒ america, inflated economy
3. ☐ hitler, inflated economy
4. ☐ america, military powers

Question Number : 128 Question Id : 16794319312 Question Type : MCQ Option Shuffling : Yes Display Question Number : Yes
Single Line Question Option : No Option Orientation : Vertical

Correct Marks : 1 Wrong Marks : 0.25

_____ द्वारा _____ को कम करने के लिए डावेस योजना लागू की गई थी।

Options :

1. ✖ सहयोगी पार्टी, सैन्य शक्तियां
2. ✔ अमेरिका, बड़ी हुई अर्थव्यवस्था
3. ✖ हिटलर, बड़ी हुई अर्थव्यवस्था
4. ✖ अमेरिका, सैन्य शक्तियां

Question Number : 129 Question Id : 16794319313 Question Type : MCQ Option Shuffling : Yes Display Question Number : Yes
Single Line Question Option : No Option Orientation : Vertical

Correct Marks : 1 Wrong Marks : 0.25

Crash on Wall Street Exchange not only impacted America but also _____.

Options :

1. ✖ France
2. ✖ Russia
3. ✔ Germany
4. ✖ British

Question Number : 129 Question Id : 16794319313 Question Type : MCQ Option Shuffling : Yes Display Question Number : Yes
Single Line Question Option : No Option Orientation : Vertical

Correct Marks : 1 Wrong Marks : 0.25

वॉल स्ट्रीट एक्सचेंज में भारी गिरावट से न केवल अमेरिका बल्कि _____ भी प्रभावित हुआ।

Options :

1. ✖ फ्रांस
2. ✖ रूस
3. ✔ जर्मनी
4. ✖ ब्रिटिश

Question Number : 130 Question Id : 16794319314 Question Type : MCQ Option Shuffling : Yes Display Question Number : Yes
Single Line Question Option : No Option Orientation : Vertical

Correct Marks : 1 Wrong Marks : 0.25

On 30th January, 1933, President Hindenburg offered Chancellorship to _____.

Options :

1. ✖ Weimer Republic
2. ✔ Hitler
3. ✖ American representative
4. ✖ Jews

Question Number : 130 Question Id : 16794319314 Question Type : MCQ Option Shuffling : Yes Display Question Number : Yes
Single Line Question Option : No Option Orientation : Vertical

Correct Marks : 1 Wrong Marks : 0.25

30 जनवरी, 1933 को राष्ट्रपति हिंडेनबर्ग ने _____ को कुलपतित्व की पेशकश की थी।

Options :

1. ✖ वाइमर रिपब्लिक
2. ✔ हिटलर
3. ✖ अमेरिकी प्रतिनिधि
4. ✖ यहूदी

Question Number : 131 Question Id : 16794319315 Question Type : MCQ Option Shuffling : Yes Display Question Number : Yes
Single Line Question Option : No Option Orientation : Vertical

Correct Marks : 1 Wrong Marks : 0.25

Identify a non NATO member among these.

Options :

1. ✖ France
2. ✖ Spain
3. ✖ West Germany
4. ✔ East Germany

Question Number : 131 Question Id : 16794319315 Question Type : MCQ Option Shuffling : Yes Display Question Number : Yes
Single Line Question Option : No Option Orientation : Vertical

Correct Marks : 1 Wrong Marks : 0.25

निम्नलिखित में से उस देश का चयन करें जो नाटो (NATO) का सदस्य नहीं है।

Options :

1. ✖ फ्रांस
2. ✖ स्पेन
3. ✖ पश्चिम जर्मनी
4. ✔ पूर्वी जर्मनी

Question Number : 132 Question Id : 16794319316 Question Type : MCQ Option Shuffling : Yes Display Question Number : Yes
Single Line Question Option : No Option Orientation : Vertical

Correct Marks : 1 Wrong Marks : 0.25

During World War I, Australia was a:

Options :

1. ✔ First World Country
2. ✖ Second World Country
3. ✖ Third World Country
4. ✖ Fourth World Country

Question Number : 132 Question Id : 16794319316 Question Type : MCQ Option Shuffling : Yes Display Question Number : Yes
Single Line Question Option : No Option Orientation : Vertical

Correct Marks : 1 Wrong Marks : 0.25

विश्व युद्ध I के दौरान, ऑस्ट्रेलिया _____ था।

Options :

1. ✔ प्रथम वैश्विक देश
2. ✖ द्वितीय वैश्विक देश
3. ✖ तृतीय वैश्विक देश
4. ✖ चतुर्थ वैश्विक देश

Question Number : 133 Question Id : 16794319317 Question Type : MCQ Option Shuffling : Yes Display Question Number : Yes
Single Line Question Option : No Option Orientation : Vertical

Correct Marks : 1 Wrong Marks : 0.25

Who was the communist, who maintained distance from Soviet Union and worked for united Yugoslavia?

Options :

1. ☒ Josip Broz Tito
2. ☐ Gamal Abdel Nasser
3. ☐ Sukarno
4. ☐ Kwama Nkruma

Question Number : 133 Question Id : 16794319317 Question Type : MCQ Option Shuffling : Yes Display Question Number : Yes
Single Line Question Option : No Option Orientation : Vertical

Correct Marks : 1 Wrong Marks : 0.25

वह कौन सी साम्यवादी है, जिन्होंने सोवियत संघ से दूरी बनाई रखी परंतु संयुक्त युगोस्लाविया के लिए काम किया?

Options :

1. ☒ जोसिप ब्रॉज़ टीटो
2. ☐ जमाल अब्दल नासर
3. ☐ सुकर्नो
4. ☐ क्वामा न्क्रुमा

Question Number : 134 Question Id : 16794319318 Question Type : MCQ Option Shuffling : Yes Display Question Number : Yes
Single Line Question Option : No Option Orientation : Vertical

Correct Marks : 1 Wrong Marks : 0.25

Indian diplomats and leaders often used to mediate during _____ in 1950s.

Options :

1. ☐ German war
2. ☒ Korean war
3. ☐ East and west Pakistan war
4. ☐ Myanmar War

Question Number : 134 Question Id : 16794319318 Question Type : MCQ Option Shuffling : Yes Display Question Number : Yes
Single Line Question Option : No Option Orientation : Vertical

Correct Marks : 1 Wrong Marks : 0.25

1950 के दशक में _____ के दौरान भारतीय राजनयिक एवं नेतागण प्रायः मध्यस्थता किया करते थे।

Options :

1. ✖ जर्मन युद्ध
2. ✔ कोरियाई युद्ध
3. ✖ पूर्वी एवं पश्चिमी पाकिस्तानी युद्ध
4. ✖ म्यांमार युद्ध

Question Number : 135 Question Id : 16794319319 Question Type : MCQ Option Shuffling : Yes Display Question Number : Yes
Single Line Question Option : No Option Orientation : Vertical
Correct Marks : 1 Wrong Marks : 0.25

Limited Test Ban Treaty was signed on _____ in Moscow.

Options :

1. ✔ 10th October, 1963
2. ✖ 10 November, 1963
3. ✖ 5th October, 1963
4. ✖ 5th August, 1963

Question Number : 135 Question Id : 16794319319 Question Type : MCQ Option Shuffling : Yes Display Question Number : Yes
Single Line Question Option : No Option Orientation : Vertical
Correct Marks : 1 Wrong Marks : 0.25

सीमित परीक्षण प्रतिबंध संधि पर मॉस्को में _____ को हस्ताक्षर किए गए।

Options :

1. ✔ 10 अक्टूबर, 1963
2. ✖ 10 नवंबर, 1963
3. ✖ 5 अक्टूबर, 1963
4. ✖ 5 अगस्त, 1963

Question Number : 136 Question Id : 16794319320 Question Type : MCQ Option Shuffling : Yes Display Question Number : Yes
Single Line Question Option : No Option Orientation : Vertical
Correct Marks : 1 Wrong Marks : 0.25

G – 8 members of IMF, does not include:

Options :

1. ✖ China
2. ✖ USA
3. ✔ India
4. ✖ Canada

Question Number : 136 Question Id : 16794319320 Question Type : MCQ Option Shuffling : Yes Display Question Number : Yes
Single Line Question Option : No Option Orientation : Vertical

Correct Marks : 1 Wrong Marks : 0.25

अंतर्राष्ट्रीय मुद्रा कोष (आईएमएफ) के G - 8 सदस्यों में निम्नलिखित शामिल नहीं हैं:

Options :

1. ✖ चीन
2. ✖ यू.एस.ए
3. ✔ भारत
4. ✖ कनाडा

Question Number : 137 Question Id : 16794319321 Question Type : MCQ Option Shuffling : Yes Display Question Number : Yes
Single Line Question Option : No Option Orientation : Vertical

Correct Marks : 1 Wrong Marks : 0.25

India joined with UN on _____.

Options :

1. ✔ 30th October, 1945
2. ✖ 30th October, 1947
3. ✖ 30th October, 1950
4. ✖ 30th October, 1952

Question Number : 137 Question Id : 16794319321 Question Type : MCQ Option Shuffling : Yes Display Question Number : Yes
Single Line Question Option : No Option Orientation : Vertical

Correct Marks : 1 Wrong Marks : 0.25

भारत _____ को संयुक्त राष्ट्र में शामिल हुआ था।

Options :

1. ✓ 30 अक्टूबर, 1945
2. ✗ 30 अक्टूबर, 1947
3. ✗ 30 अक्टूबर, 1950
4. ✗ 30 अक्टूबर, 1952

Question Number : 138 Question Id : 16794319322 Question Type : MCQ Option Shuffling : Yes Display Question Number : Yes
Single Line Question Option : No Option Orientation : Vertical

Correct Marks : 1 Wrong Marks : 0.25

Security council is the Principal Organ of U.N. has _____ members in which _____ are permanent and _____ elected.

Options :

1. ✓ 15; 5; 10 respectively
2. ✗ 20; 10; 10 respectively
3. ✗ 15; 6; 9 respectively
4. ✗ 183; 94; 89 respectively

Question Number : 138 Question Id : 16794319322 Question Type : MCQ Option Shuffling : Yes Display Question Number : Yes
Single Line Question Option : No Option Orientation : Vertical

Correct Marks : 1 Wrong Marks : 0.25

सुरक्षा परिषद संयुक्त राष्ट्र की प्रधान संस्था है, जिसमें _____ सदस्य हैं जिनमें से _____ स्थायी हैं तथा _____ निर्वाचित किए गए हैं।

Options :

1. ✓ क्रमशः 15; 5; 10
2. ✗ क्रमशः 20; 10; 10
3. ✗ क्रमशः 15; 6; 9
4. ✗ क्रमशः 183; 94; 89

Question Number : 139 Question Id : 16794319323 Question Type : MCQ Option Shuffling : Yes Display Question Number : Yes
Single Line Question Option : No Option Orientation : Vertical

Correct Marks : 1 Wrong Marks : 0.25

W.H.O. comes under Principal Organs of the U.N.'s _____.

Options :

1. ❌ Subsidiary body
2. ✅ Specialized agencies
3. ❌ Functional commissions
4. ❌ Programs and Funds

Question Number : 139 Question Id : 16794319323 Question Type : MCQ Option Shuffling : Yes Display Question Number : Yes
Single Line Question Option : No Option Orientation : Vertical

Correct Marks : 1 Wrong Marks : 0.25

विश्व स्वास्थ्य संगठन (W.H.O.), संयुक्त राष्ट्र की प्रधान संस्था _____ के अधीन आती है।

Options :

1. ❌ सहायक निकाय
2. ✅ विशेषीकृत एजेंसियों
3. ❌ क्रियाशील कमीशन
4. ❌ कार्यक्रम एवं निधि

Question Number : 140 Question Id : 16794319324 Question Type : MCQ Option Shuffling : Yes Display Question Number : Yes
Single Line Question Option : No Option Orientation : Vertical

Correct Marks : 1 Wrong Marks : 0.25

Considering the practical difficulties faced by U.N. in terms of restructuring, _____ initiated an enquiry to reform in 1997.

Options :

1. ❌ Boutros Ghali
2. ✅ Kofi Annan
3. ❌ Kurt Waldheim
4. ❌ U Thant

Question Number : 140 Question Id : 16794319324 Question Type : MCQ Option Shuffling : Yes Display Question Number : Yes
Single Line Question Option : No Option Orientation : Vertical

Correct Marks : 1 Wrong Marks : 0.25

पुनर्संरचना के संबंध में संयुक्त राष्ट्र द्वारा सामना की गई व्यावहारिक कठिनाइयों पर विचार करते हुए, _____ ने 1997 में संशोधन हेतु पूछताछ की शुरुआत की थी।

Options :

1. ✖ बाउट्रोस घाली
2. ✔ कोफी अन्ना
3. ✖ कर्ट वाल्धीम
4. ✖ यू थैंट

Subject Related

Group Number :	8
Group Id :	167943731
Group Maximum Duration :	0
Group Minimum Duration :	0
Revisit allowed for view? :	No
Revisit allowed for edit? :	No
Break time:	0
Group Marks:	20
Revisit allowed for group Instructions? :	Yes
Maximum Instruction Time:	0
Minimum Instruction Time:	0

Subject Related

Section Id :	167943796
Section Number :	1
Section type :	Online
Mandatory or Optional:	Mandatory
Number of Questions:	20
Number of Questions to be attempted:	20
Section Marks:	20
Display Number Panel:	Yes
Group All Questions:	No

Sub-Section Number:	1
Sub-Section Id:	1679431229
Question Shuffling Allowed :	Yes

Question Number : 141 Question Id : 16794319325 Question Type : MCQ Option Shuffling : Yes Display Question Number : Yes
Single Line Question Option : No Option Orientation : Vertical

Correct Marks : 1 Wrong Marks : 0.25

A light year is measure of _____ and not of _____.

Options :

1. ✖ time; distance
2. ✔ distance; time
3. ✖ volume; size
4. ✖ kms; miles

Question Number : 141 Question Id : 16794319325 Question Type : MCQ Option Shuffling : Yes Display Question Number : Yes
Single Line Question Option : No Option Orientation : Vertical

Correct Marks : 1 Wrong Marks : 0.25

प्रकाश वर्ष _____ का माप है, _____ का नहीं।

Options :

1. ✖ समय; दूरी
2. ✔ दूरी; समय
3. ✖ परिमाण; आकार
4. ✖ किलोमीटर; मील

Question Number : 142 Question Id : 16794319326 Question Type : MCQ Option Shuffling : Yes Display Question Number : Yes
Single Line Question Option : No Option Orientation : Vertical

Correct Marks : 1 Wrong Marks : 0.25

Which one of the following has the longest duration?

Options :

1. ✖ Epoch
2. ✖ Period
3. ✖ Era
4. ✔ Eons

Question Number : 142 Question Id : 16794319326 Question Type : MCQ Option Shuffling : Yes Display Question Number : Yes
Single Line Question Option : No Option Orientation : Vertical

Correct Marks : 1 Wrong Marks : 0.25

निम्नलिखित में से किस की कालावधि सर्वाधिक लंबी होती है?

Options :

1. ✖ युगांतर

2. ✖ काल

3. ✖ युग

4. ✔ कल्प

Question Number : 143 Question Id : 16794319327 Question Type : MCQ Option Shuffling : Yes Display Question Number : Yes
Single Line Question Option : No Option Orientation : Vertical

Correct Marks : 1 Wrong Marks : 0.25

What is the distance from the Sun in astronomical unit, i.e. average mean distance of the earth is?

Options :

1. ✖ 598,149,000 km

2. ✖ 128,983,000 km

3. ✖ 1,149,598,000 km

4. ✔ 149,598,000 km

Question Number : 143 Question Id : 16794319327 Question Type : MCQ Option Shuffling : Yes Display Question Number : Yes
Single Line Question Option : No Option Orientation : Vertical

Correct Marks : 1 Wrong Marks : 0.25

खगोलीय (एस्ट्रोनॉमिकल) इकाई में सूरज से दूरी कितनी है, अर्थात् पृथ्वी की औसत माध्य दूरी क्या है?

Options :

1. ✖ 598,149,000 किलोमीटर

2. ✖ 128,983,000 किलोमीटर

3. ✖ 1,149,598,000 किलोमीटर

4. ✔ 149,598,000 किलोमीटर

Question Number : 144 Question Id : 16794319328 Question Type : MCQ Option Shuffling : Yes Display Question Number : Yes
Single Line Question Option : No Option Orientation : Vertical

Correct Marks : 1 Wrong Marks : 0.25

Choose the correct option.

Cocos plate is situated between _____ and _____

Options :

1. ✖ South America; Pacific Plate
2. ✖ Saudi Arabian land masses; Water bodies
3. ✔ Central America; Pacific plate
4. ✖ Asiatic; Pacific plate

Question Number : 144 Question Id : 16794319328 Question Type : MCQ Option Shuffling : Yes Display Question Number : Yes
Single Line Question Option : No Option Orientation : Vertical

Correct Marks : 1 Wrong Marks : 0.25

सही विकल्प का चयन करें।

कोकोस प्लेट, _____ और _____ के बीच में स्थित है।

Options :

1. ✖ दक्षिण अमेरिका; प्रशांत प्लेट
2. ✖ सऊदी अरब भूमि समुदाय; जल निकाय
3. ✔ मध्य अमेरिका; प्रशांत प्लेट
4. ✖ एशियाटिक; प्रशांत प्लेट

Question Number : 145 Question Id : 16794319329 Question Type : MCQ Option Shuffling : Yes Display Question Number : Yes
Single Line Question Option : No Option Orientation : Vertical

Correct Marks : 1 Wrong Marks : 0.25

Rock cycle consists of Igneous rocks, Sediments, sedimentary rocks, _____ and Magma.

Options :

1. ✔ Metamorphic rocks
2. ✖ Intrusive rocks
3. ✖ Extrusive rocks
4. ✖ Extrusive Igneous rocks

Question Number : 145 Question Id : 16794319329 Question Type : MCQ Option Shuffling : Yes Display Question Number : Yes
Single Line Question Option : No Option Orientation : Vertical

Correct Marks : 1 Wrong Marks : 0.25

शिला चक्र (राँक साइकिल) में आग्नेय पत्थर, तलछट, तलछटी पत्थर, _____ और मैग्ना शामिल होते हैं।

Options :

1. ✓ **मेटामॉर्फिक पत्थर**
2. ✗ **इन्टूसिव पत्थर**
3. ✗ **एक्सटूसिव पत्थर**
4. ✗ **एक्सटूसिव आग्नेय पत्थर**

Question Number : 146 Question Id : 16794319330 Question Type : MCQ Option Shuffling : Yes Display Question Number : Yes
Single Line Question Option : No Option Orientation : Vertical

Correct Marks : 1 Wrong Marks : 0.25

What is the difference between land form and landscape?

Options :

1. ✗
Small to medium sized part of the surface of the earth is landscape. Several land scapes together makes landform.
2. ✗
Small to medium sized part of the surface of the landmasses is landform. Several landmasses together make a landscape.
3. ✗
Small to medium sized part of the surface of the earth island scape. Various collective land formations are called landforms.
4. ✓
Small to medium sized part of the surface of the earth is landform. Several landforms together makes landscape.

Question Number : 146 Question Id : 16794319330 Question Type : MCQ Option Shuffling : Yes Display Question Number : Yes
Single Line Question Option : No Option Orientation : Vertical

Correct Marks : 1 Wrong Marks : 0.25

भूमि के प्राकृतिक रूप (लैंडफार्म) और भूदृश्य (लैंडस्केप) के बीच क्या अंतर होता है?

Options :

1. ✗
पृथ्वी की सतह के छोटे से लेकर मध्यम आकार के भाग को भूदृश्य कहते हैं। कई भूदृश्यों को मिलाने पर भूमि का प्राकृतिक रूप बनता है।
2. ✗
पृथ्वी के बड़े टुकड़े (लैंडमास) की सतह के छोटे से लेकर मध्यम आकार के भाग को लैंडफार्म कहते हैं। कई लैंडमास को एक साथ मिलाने पर लैंडस्केप बनता है।
3. ✗
पृथ्वी के छोटे से लेकर मध्यम आकार के भाग को लैंडस्केप कहते हैं। विभिन्न संग्रहित भूमिगत संरचनाओं को लैंडफार्म कहते हैं।

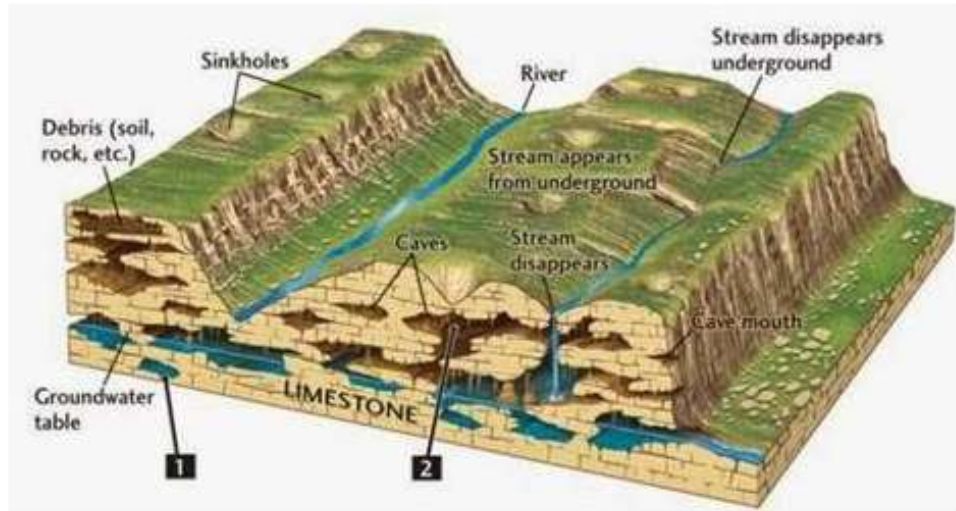
4. ✓

पृथ्वी की सतह के छोटे से लेकर मध्यम आकार के भाग को लैंडफॉर्म कहते हैं। कई लैंडफॉर्म को एक साथ मिलाने पर लैंडस्केप बनता है।

Question Number : 147 Question Id : 16794319331 Question Type : MCQ Option Shuffling : Yes Display Question Number : Yes
Single Line Question Option : No Option Orientation : Vertical

Correct Marks : 1 Wrong Marks : 0.25

Identify this picture.



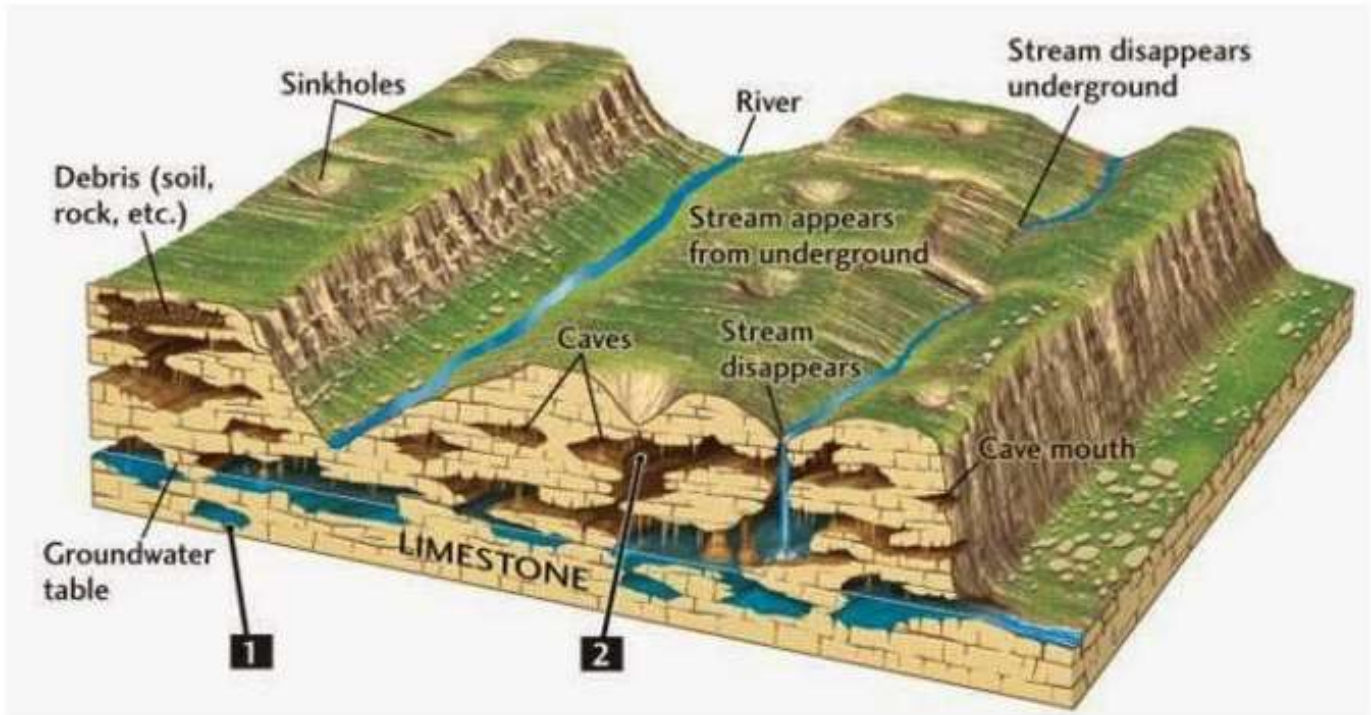
Options :

1. ✗ Drainage system in Indian Hill region
2. ✗ Drainage system in Indian plateau
3. ✓ Karst Topography
4. ✗ Karst Spring

Question Number : 147 Question Id : 16794319331 Question Type : MCQ Option Shuffling : Yes Display Question Number : Yes
Single Line Question Option : No Option Orientation : Vertical

Correct Marks : 1 Wrong Marks : 0.25

इस चित्र की पहचान करें।



Options :

1. ✖ भारतीय पर्वतीय क्षेत्र में जल निकासी व्यवस्था
2. ✖ भारत के पठारी क्षेत्र में जल निकासी व्यवस्था
3. ✔ करसत टोपोग्राफी
4. ✖ करसत स्प्रिंग

Question Number : 148 Question Id : 16794319332 Question Type : MCQ Option Shuffling : Yes Display Question Number : Yes
Single Line Question Option : No Option Orientation : Vertical

Correct Marks : 1 Wrong Marks : 0.25

Choose the correct option.

The Tropic of Cancer passes through the middle of the country from _____ in the west and _____ in the east.

Options :

1. ✖ Rann of Kuchchh; Arunachal Pradesh
2. ✔ Rann of Kuchchh; Mizoram
3. ✖ Rann of Kuchchh; Assam
4. ✖ Rann of Kuchchh; Tripura

Question Number : 148 Question Id : 16794319332 Question Type : MCQ Option Shuffling : Yes Display Question Number : Yes
Single Line Question Option : No Option Orientation : Vertical

Correct Marks : 1 Wrong Marks : 0.25

सही विकल्प का चयन करें।

कर्क रेखा पश्चिम में _____ और पूर्व में _____ से देश के मध्य भाग से गुज़रती है।

Options :

1. ✖ कच्छ रणक्षेत्र; अरुणाचल प्रदेश
2. ✔ कच्छ रणक्षेत्र; मिज़ोरम
3. ✖ कच्छ रणक्षेत्र; असम
4. ✖ कच्छ रणक्षेत्र; त्रिपुरा

Question Number : 149 Question Id : 16794319333 Question Type : MCQ Option Shuffling : Yes Display Question Number : Yes
Single Line Question Option : No Option Orientation : Vertical

Correct Marks : 1 Wrong Marks : 0.25

Which one of the following characterizes the cold weather season in India?

Options :

1. ✖ Warm days and warm nights
2. ✔ Warm days and cold nights
3. ✖ Cold days and cold nights
4. ✖ Cold days and warm nights

Question Number : 149 Question Id : 16794319333 Question Type : MCQ Option Shuffling : Yes Display Question Number : Yes
Single Line Question Option : No Option Orientation : Vertical

Correct Marks : 1 Wrong Marks : 0.25

निम्नलिखित में से कौन सा विकल्प, भारत में ठंडे मौसम की विशेषता दर्शाता है?

Options :

1. ✖ गरम दिन और गरम रातें
2. ✔ गरम दिन और ठंडी रातें
3. ✖ ठंडे दिन और ठंडी रातें

4. ✖ ठंडे दिन और गरम रातें

Question Number : 150 Question Id : 16794319334 Question Type : MCQ Option Shuffling : Yes Display Question Number : Yes
Single Line Question Option : No Option Orientation : Vertical

Correct Marks : 1 Wrong Marks : 0.25

Identify it.

One of these is not a part of Hydrological cycle.

Options :

1. ✔ Hydration
2. ✖ Evaporation
3. ✖ Precipitation
4. ✖ Condensation

Question Number : 150 Question Id : 16794319334 Question Type : MCQ Option Shuffling : Yes Display Question Number : Yes
Single Line Question Option : No Option Orientation : Vertical

Correct Marks : 1 Wrong Marks : 0.25

पहचान करें।

इनमें से एक विकल्प हाइड्रोलॉजिकल चक्र का अंश नहीं है।

Options :

1. ✔ जलयोजन (हाइड्रेशन)
2. ✖ वाष्पीकरण (इवैपोरेशन)
3. ✖ वर्षण (प्रेसिपिटेशन)
4. ✖ घनीकरण (कंडन्सेशन)

Question Number : 151 Question Id : 16794319335 Question Type : MCQ Option Shuffling : Yes Display Question Number : Yes
Single Line Question Option : No Option Orientation : Vertical

Correct Marks : 1 Wrong Marks : 0.25

Convert the given Statement of Scale of 1 inch which represents 4 miles into R.F.

Options :

1. ✔ R.F. 1 : 253,440

2. ✖ R.F. 1 : 253,444

3. ✖ R.F. 1 : 250,440

4. ✖ R.F. 1 : 255,440

Question Number : 151 Question Id : 16794319335 Question Type : MCQ Option Shuffling : Yes Display Question Number : Yes
Single Line Question Option : No Option Orientation : Vertical

Correct Marks : 1 Wrong Marks : 0.25

नीचे दिए गए 1 इंच का स्केल जो R.F. में 4 मील का प्रतिनिधित्व करता है, को परिवर्तित करें।

Options :

1. ✔ R.F. 1: 253,440

2. ✖ R.F. 1: 253,444

3. ✖ R.F. 1: 250,440

4. ✖ R.F. 1: 255,440

Question Number : 152 Question Id : 16794319336 Question Type : MCQ Option Shuffling : Yes Display Question Number : Yes
Single Line Question Option : No Option Orientation : Vertical

Correct Marks : 1 Wrong Marks : 0.25

Construct a graphical scale for a map drawn at a scale of 1 : 50,000 and read the distances in kilometer.

Options :

1. ✔ 7.5 km

2. ✖ 15 km

3. ✖ 5 km

4. ✖ 50 km

Question Number : 152 Question Id : 16794319336 Question Type : MCQ Option Shuffling : Yes Display Question Number : Yes
Single Line Question Option : No Option Orientation : Vertical

Correct Marks : 1 Wrong Marks : 0.25

1 : 50,000 के स्केल में चित्रित मानचित्र हेतु एक ग्राफिकल स्केल निर्मित करें तथा दूरियों का पठन किलोमीटर में करें।

Options :

1. ✔ 7.5 किलोमीटर

2. ✖ 15 किलोमीटर

3. ✖ 5 किलोमीटर

4. ✖ 50 किलोमीटर

Question Number : 153 Question Id : 16794319337 Question Type : MCQ Option Shuffling : Yes Display Question Number : Yes
Single Line Question Option : No Option Orientation : Vertical

Correct Marks : 1 Wrong Marks : 0.25

$\text{g}^{-2} \text{yr}^{-1}$ or $(\text{kcal m}^{-2}) \text{yr}^{-1}$ is called:

Options :

1. ✖ The rate of average production

2. ✔ The rate of biomass production

3. ✖ The rate of biomass conservation

4. ✖ The rate of biomass distribution

Question Number : 153 Question Id : 16794319337 Question Type : MCQ Option Shuffling : Yes Display Question Number : Yes
Single Line Question Option : No Option Orientation : Vertical

Correct Marks : 1 Wrong Marks : 0.25

$\text{g}^{-2} \text{yr}^{-1}$ अथवा $(\text{kcal m}^{-2}) \text{yr}^{-1}$ को _____ कहते हैं।

Options :

1. ✖ औसत उत्पादन की दर

2. ✔ जैवईंधन (बायोमास) के उत्पादन की दर

3. ✖ जैवईंधन (बायोमास) के संरक्षण की दर

4. ✖ जैवईंधन (बायोमास) के वितरण की दर

Question Number : 154 Question Id : 16794319338 Question Type : MCQ Option Shuffling : Yes Display Question Number : Yes
Single Line Question Option : No Option Orientation : Vertical

Correct Marks : 1 Wrong Marks : 0.25

Zooplankton belongs to _____.

Options :

1. ✔ Primary consumer

2. ✖ Secondary consumer

3. ✖ Territory consumer

4. ✖ Primary producer

Question Number : 154 Question Id : 16794319338 Question Type : MCQ Option Shuffling : Yes Display Question Number : Yes
Single Line Question Option : No Option Orientation : Vertical

Correct Marks : 1 Wrong Marks : 0.25

प्राणिप्लवक (ज़ूप्लैंकटॉन) को _____ कहते हैं।

Options :

1. ✔ प्राथमिक उपभोक्ता

2. ✖ द्वितीयक उपभोक्ता

3. ✖ तृतीयक उपभोक्ता

4. ✖ प्राथमिक उत्पादक

Question Number : 155 Question Id : 16794319339 Question Type : MCQ Option Shuffling : Yes Display Question Number : Yes
Single Line Question Option : No Option Orientation : Vertical

Correct Marks : 1 Wrong Marks : 0.25

Gurla Mandhata is situated in _____.

Options :

1. ✖ India

2. ✖ China

3. ✔ Nepal

4. ✖ Tibet

Question Number : 155 Question Id : 16794319339 Question Type : MCQ Option Shuffling : Yes Display Question Number : Yes
Single Line Question Option : No Option Orientation : Vertical

Correct Marks : 1 Wrong Marks : 0.25

गुरला मंधाता, _____ में स्थित है।

Options :

1. ✖ भारत

2. ✖ चीन

3. ✓ नेपाल

4. ✗ तिब्बत

Question Number : 156 Question Id : 16794319340 Question Type : MCQ Option Shuffling : Yes Display Question Number : Yes
Single Line Question Option : No Option Orientation : Vertical

Correct Marks : 1 Wrong Marks : 0.25

_____ lake is situated in the South of Mahanadi Delta.

Options :

1. ✓ Chilika

2. ✗ Dal

3. ✗ Wular

4. ✗ Loktak

Question Number : 156 Question Id : 16794319340 Question Type : MCQ Option Shuffling : Yes Display Question Number : Yes
Single Line Question Option : No Option Orientation : Vertical

Correct Marks : 1 Wrong Marks : 0.25

महानदी डेल्टा के दक्षिण की ओर _____ झील स्थित है।

Options :

1. ✓ चिलिका

2. ✗ दल

3. ✗ वूलर

4. ✗ लोकतक

Question Number : 157 Question Id : 16794319341 Question Type : MCQ Option Shuffling : Yes Display Question Number : Yes
Single Line Question Option : No Option Orientation : Vertical

Correct Marks : 1 Wrong Marks : 0.25

India's only active volcano found on _____ island.

Options :

1. ✗ Lakshadweep

2. ✓ Barren

3. ✗ Havilock

4. ✖ Neill

Question Number : 157 Question Id : 16794319341 Question Type : MCQ Option Shuffling : Yes Display Question Number : Yes
Single Line Question Option : No Option Orientation : Vertical

Correct Marks : 1 Wrong Marks : 0.25

भारत का एकमात्र सक्रिय ज्वालामुखी, _____ द्वीप पर स्थित है।

Options :

1. ✖ लक्षद्वीप

2. ✔ बैरन

3. ✖ हैविलाक

4. ✖ नील

Question Number : 158 Question Id : 16794319342 Question Type : MCQ Option Shuffling : Yes Display Question Number : Yes
Single Line Question Option : No Option Orientation : Vertical

Correct Marks : 1 Wrong Marks : 0.25

Major part of Laterite soil available in _____.

Options :

1. ✔ Western coastal plains

2. ✖ Eastern coastal plains

3. ✖ Deccan plateau

4. ✖ Northern plains

Question Number : 158 Question Id : 16794319342 Question Type : MCQ Option Shuffling : Yes Display Question Number : Yes
Single Line Question Option : No Option Orientation : Vertical

Correct Marks : 1 Wrong Marks : 0.25

मखरला (लैटराइट) मिट्टी का प्रमुख भाग, _____ में पाया जाता है।

Options :

1. ✔ पश्चिमी तटवर्ती मैदानी क्षेत्र

2. ✖ पूर्वी तटवर्ती समतल मैदानी क्षेत्र

3. ✖ डेक्कन पठार

4. ✖ उत्तरी मैदानी क्षेत्र

Question Number : 159 Question Id : 16794319343 Question Type : MCQ Option Shuffling : Yes Display Question Number : Yes
Single Line Question Option : No Option Orientation : Vertical

Correct Marks : 1 Wrong Marks : 0.25

Tropical evergreen and semi evergreen forests are located in _____.

Options :

1. ✖ Himalyan Region
2. ✔ North eastern states
3. ✖ Central India
4. ✖ Northern India

Question Number : 159 Question Id : 16794319343 Question Type : MCQ Option Shuffling : Yes Display Question Number : Yes
Single Line Question Option : No Option Orientation : Vertical

Correct Marks : 1 Wrong Marks : 0.25

उष्णकटिबंधी सदाबहार और अर्ध सदाबहार वन _____ में स्थित हैं।

Options :

1. ✖ हिमालय क्षेत्र
2. ✔ उत्तरी पूर्वी राज्य
3. ✖ मध्य भारत
4. ✖ उत्तरी भारत

Question Number : 160 Question Id : 16794319344 Question Type : MCQ Option Shuffling : Yes Display Question Number : Yes
Single Line Question Option : No Option Orientation : Vertical

Correct Marks : 1 Wrong Marks : 0.25

Density of population is high in _____ state.

Options :

1. ✖ Rajastan
2. ✔ Utter Pradesh
3. ✖ Telangana
4. ✖ Tamil Nadu

Question Number : 160 Question Id : 16794319344 Question Type : MCQ Option Shuffling : Yes Display Question Number : Yes
Single Line Question Option : No Option Orientation : Vertical
Correct Marks : 1 Wrong Marks : 0.25

_____ राज्य में जनसंख्या का घनत्व अधिक है।

Options :

1. ✖ राजस्थान
2. ✔ उत्तर प्रदेश
3. ✖ तेलंगाना
4. ✖ तमिलनाडु

Subject Related

Group Number :	9
Group Id :	167943732
Group Maximum Duration :	0
Group Minimum Duration :	0
Revisit allowed for view? :	No
Revisit allowed for edit? :	No
Break time:	0
Group Marks:	20
Revisit allowed for group Instructions? :	Yes
Maximum Instruction Time:	0
Minimum Instruction Time:	0

Subject Related

Section Id :	167943797
Section Number :	1
Section type :	Online
Mandatory or Optional:	Mandatory
Number of Questions:	20
Number of Questions to be attempted:	20
Section Marks:	20
Display Number Panel:	Yes
Group All Questions:	No

Sub-Section Number:	1
Sub-Section Id:	1679431230
Question Shuffling Allowed :	Yes

Question Number : 161 Question Id : 16794319345 Question Type : MCQ Option Shuffling : Yes Display Question Number : Yes
Single Line Question Option : No Option Orientation : Vertical

Correct Marks : 1 Wrong Marks : 0.25

The magnitude of population growth refers to _____.

Options :

1. ✖ The total population of an area
2. ✔ The number of persons added each year
3. ✖ The rate at which the population increases
4. ✖ The number of females per thousand males

Question Number : 161 Question Id : 16794319345 Question Type : MCQ Option Shuffling : Yes Display Question Number : Yes
Single Line Question Option : No Option Orientation : Vertical

Correct Marks : 1 Wrong Marks : 0.25

जनसंख्या वृद्धि का परिमाण _____ से संबंधित होता है।

Options :

1. ✖ एक क्षेत्र की कुल जनसंख्या
2. ✔ प्रति वर्ष जोड़े गए व्यक्तियों की संख्या
3. ✖ जनसंख्या वृद्धि की दर
4. ✖ प्रति हजार पुरुषों में महिलाओं की संख्या

Question Number : 162 Question Id : 16794319346 Question Type : MCQ Option Shuffling : Yes Display Question Number : Yes
Single Line Question Option : No Option Orientation : Vertical

Correct Marks : 1 Wrong Marks : 0.25

To make human as resource, country should invest on _____ and _____.

Options :

1. ✔ Education; health
2. ✖ Healthcare products; job opportunities
3. ✖ Job opportunities; comfortable lifestyle
4. ✖ Military; health

Question Number : 162 Question Id : 16794319346 Question Type : MCQ Option Shuffling : Yes Display Question Number : Yes
Single Line Question Option : No Option Orientation : Vertical

Correct Marks : 1 Wrong Marks : 0.25

मनुष्य को एक संसाधन बनाने हेतु देश को _____ और _____ में निवेश करना चाहिए।

Options :

1. ☒ शिक्षा; स्वास्थ्य
2. ☐ स्वास्थ्यसुरक्षा उत्पाद; रोज़गार के अवसर
3. ☐ रोज़गार के अवसर; सुखद जीवनशैली
4. ☐ सेना; स्वास्थ्य

Question Number : 163 Question Id : 16794319347 Question Type : MCQ Option Shuffling : Yes Display Question Number : Yes
Single Line Question Option : No Option Orientation : Vertical

Correct Marks : 1 Wrong Marks : 0.25

How are resources classified on the basis of status of development?

Options :

1. ☐ Biotic and Abiotic
2. ☐ Renewable and non-renewable
3. ☐ Individual community, national and international
4. ☒ Potentials developed stocks and resources.

Question Number : 163 Question Id : 16794319347 Question Type : MCQ Option Shuffling : Yes Display Question Number : Yes
Single Line Question Option : No Option Orientation : Vertical

Correct Marks : 1 Wrong Marks : 0.25

विकास के स्तर के आधार पर संसाधन का वर्गीकरण कैसे किया जाता है?

Options :

1. ☐ जैविक और अजैविक
2. ☐ नवीकरणीय तथा गैर-नवीकरणीय
3. ☐ वैयक्तिक समुदाय, राष्ट्रीय और अंतर्राष्ट्रीय
4. ☒ संभाव्यता विकसित स्टॉक एवं संसाधन

Question Number : 164 Question Id : 16794319348 Question Type : MCQ Option Shuffling : Yes Display Question Number : Yes
Single Line Question Option : No Option Orientation : Vertical

Correct Marks : 1 Wrong Marks : 0.25

Agriculture is farming, Sericulture is _____.

Options :

1. ✖ Growing vegetables, flowers for commercial use
2. ✖ Cultivation of grapes
3. ✖ Breeding of fish
4. ✔ Commercial rearing of silkworms

Question Number : 164 Question Id : 16794319348 Question Type : MCQ Option Shuffling : Yes Display Question Number : Yes
Single Line Question Option : No Option Orientation : Vertical

Correct Marks : 1 Wrong Marks : 0.25

खेतीबाड़ी को कृषि कहते हैं, _____ को सेरीकल्चर कहते हैं।

Options :

1. ✖ वाणिज्यिक प्रयोग हेतु सब्जियां, फूल उगाने
2. ✖ अंगूर की खेती
3. ✖ मछलीपालन
4. ✔ रेशम के कीड़ों का वाणिज्यिक पालन

Question Number : 165 Question Id : 16794319349 Question Type : MCQ Option Shuffling : Yes Display Question Number : Yes
Single Line Question Option : No Option Orientation : Vertical

Correct Marks : 1 Wrong Marks : 0.25

Identify the one which is not an agro based industry.

Options :

1. ✖ Cotton industry
2. ✖ Silk industry
3. ✖ Edible oil industry
4. ✔ Iron and steel industry

Question Number : 165 Question Id : 16794319349 Question Type : MCQ Option Shuffling : Yes Display Question Number : Yes
Single Line Question Option : No Option Orientation : Vertical

Correct Marks : 1 Wrong Marks : 0.25

निम्नलिखित में से उस विकल्प का चयन करें जो कि कृषि आधारित उद्योग नहीं है।

Options :

1. ✖ कपास उद्योग
2. ✖ रेशम उद्योग
3. ✖ खाद्य तेल उद्योग
4. ✔ लोहा और इस्पात उद्योग

Question Number : 166 Question Id : 16794319350 Question Type : MCQ Option Shuffling : Yes Display Question Number : Yes
Single Line Question Option : No Option Orientation : Vertical

Correct Marks : 1 Wrong Marks : 0.25

Identify the sea port between Mumbai and New Mangalore.

Options :

1. ✖ Kochi
2. ✔ Mormugao
3. ✖ Tuticorin
4. ✖ Paradeep

Question Number : 166 Question Id : 16794319350 Question Type : MCQ Option Shuffling : Yes Display Question Number : Yes
Single Line Question Option : No Option Orientation : Vertical

Correct Marks : 1 Wrong Marks : 0.25

मुंबई और न्यू मैंगलोर के बीच के समुद्री बंदरगाह की पहचान करें।

Options :

1. ✖ कोच्ची
2. ✔ मोरमुगांव
3. ✖ टूटीकोरिन
4. ✖ पारादीप

Question Number : 167 Question Id : 16794319351 Question Type : MCQ Option Shuffling : Yes Display Question Number : Yes
Single Line Question Option : No Option Orientation : Vertical

Correct Marks : 1 Wrong Marks : 0.25

Which of these is a high damaged MSK IX risk zone in terms of earthquake?

Options :

1. ✓ Northeastern states
2. ✗ Tamil Nadu
3. ✗ Karnataka
4. ✗ Rajasthan

Question Number : 167 Question Id : 16794319351 Question Type : MCQ Option Shuffling : Yes Display Question Number : Yes
Single Line Question Option : No Option Orientation : Vertical

Correct Marks : 1 Wrong Marks : 0.25

भूकंप के संदर्भ में निम्नलिखित में से कौन सा सर्वाधिक क्षतिग्रस्त MSK IX जोखिम क्षेत्र है?

Options :

1. ✓ उत्तरपूर्वी राज्य
2. ✗ तमिलनाडु
3. ✗ कर्नाटक
4. ✗ राजस्थान

Question Number : 168 Question Id : 16794319352 Question Type : MCQ Option Shuffling : Yes Display Question Number : Yes
Single Line Question Option : No Option Orientation : Vertical

Correct Marks : 1 Wrong Marks : 0.25

Identify a state in India which is mostly affected by cyclone.

Options :

1. ✗ Tamil Nadu
2. ✓ Odisha
3. ✗ Madhya Pradesh
4. ✗ Kerala

Question Number : 168 Question Id : 16794319352 Question Type : MCQ Option Shuffling : Yes Display Question Number : Yes
Single Line Question Option : No Option Orientation : Vertical

Correct Marks : 1 Wrong Marks : 0.25

भारत में चक्रवात से सर्वाधिक प्रभावित राज्य की पहचान करें।

Options :

1. ✖ तमिलनाडु
2. ✔ ओडिशा
3. ✖ मध्य प्रदेश
4. ✖ केरल

Question Number : 169 Question Id : 16794319353 Question Type : MCQ Option Shuffling : Yes Display Question Number : Yes
Single Line Question Option : No Option Orientation : Vertical

Correct Marks : 1 Wrong Marks : 0.25

Which one of the followings is not an example of Biological/Natural disaster?

Options :

1. ✖ Floods
2. ✔ Weapon of mass destruction
3. ✖ Draught
4. ✖ Landslides

Question Number : 169 Question Id : 16794319353 Question Type : MCQ Option Shuffling : Yes Display Question Number : Yes
Single Line Question Option : No Option Orientation : Vertical

Correct Marks : 1 Wrong Marks : 0.25

निम्नलिखित में से कौन सा जैविक / प्राकृतिक आपदा का उदाहरण नहीं है?

Options :

1. ✖ बाढ़
2. ✔ सामूहिक विनाश के हथियार
3. ✖ अकाल
4. ✖ भूस्खलन

Question Number : 170 Question Id : 16794319354 Question Type : MCQ Option Shuffling : Yes Display Question Number : Yes
Single Line Question Option : No Option Orientation : Vertical

Correct Marks : 1 Wrong Marks : 0.25

In which of these areas does the Golden fiber grow well?

Options :

1. ☒ Tropical areas
2. ☐ Evergreen forests
3. ☐ Marshy areas
4. ☐ Sandy areas

Question Number : 170 Question Id : 16794319354 Question Type : MCQ Option Shuffling : Yes Display Question Number : Yes
Single Line Question Option : No Option Orientation : Vertical

Correct Marks : 1 Wrong Marks : 0.25

निम्नलिखित में से कौन से क्षेत्रों में गोल्डन फाइबर भली भांति उगता है?

Options :

1. ☒ उष्णकटिबंधी क्षेत्र
2. ☐ सदाबहार वन
3. ☐ दलदल क्षेत्र
4. ☐ रेतीले क्षेत्र

Question Number : 171 Question Id : 16794319355 Question Type : MCQ Option Shuffling : Yes Display Question Number : Yes
Single Line Question Option : No Option Orientation : Vertical

Correct Marks : 1 Wrong Marks : 0.25

Which fundamental right itself is a redemption for the citizens of India to seek the mandatory enforcement of their fundamental rights?

Options :

1. ☐ Right to life
2. ☐ Freedom of speech
3. ☐ Right to religious freedom
4. ☒ Right to constitutional remedies

Question Number : 171 Question Id : 16794319355 Question Type : MCQ Option Shuffling : Yes Display Question Number : Yes
Single Line Question Option : No Option Orientation : Vertical

Correct Marks : 1 Wrong Marks : 0.25

निम्नलिखित में से कौन सा मूलभूत अधिकार, भारतीय नागरिकों को उनके मूलभूत अधिकारों का अनिवार्य प्रवर्तन की प्राप्ति से छुटकारा है?

Options :

1. ✖ जीवन का अधिकार
2. ✖ अभिव्यक्ति की स्वतंत्रता
3. ✖ धार्मिक स्वतंत्रता का अधिकार
4. ✔ संवैधानिक समाधानों का अधिकार

Question Number : 172 Question Id : 16794319356 Question Type : MCQ Option Shuffling : Yes Display Question Number : Yes
Single Line Question Option : No Option Orientation : Vertical

Correct Marks : 1 Wrong Marks : 0.25

Promise made by individuals, groups or countries to uphold the principle or rule which is legally binding on the signatories to the agreement or statement is called _____.

Options :

1. ✖ Pact
2. ✖ Deal
3. ✔ Covenant
4. ✖ Claim

Question Number : 172 Question Id : 16794319356 Question Type : MCQ Option Shuffling : Yes Display Question Number : Yes
Single Line Question Option : No Option Orientation : Vertical

Correct Marks : 1 Wrong Marks : 0.25

वैक्तिक व्यक्तियों, समूह अथवा देशों द्वारा सिद्धांत अथवा नियम पालन करने हेतु की गई प्रतिज्ञा, जो करार अथवा कथन के हस्ताक्षरकर्ताओं पर कानूनी रूप से बाध्य है, को _____ कहते हैं।

Options :

1. ✖ संधि
2. ✖ समझौता
3. ✔ प्रसंविदा
4. ✖ दावा

Question Number : 173 Question Id : 16794319357 Question Type : MCQ Option Shuffling : Yes Display Question Number : Yes
Single Line Question Option : No Option Orientation : Vertical

Correct Marks : 1 Wrong Marks : 0.25

Identify the article in the Indian constitution which caters to Formation of new States and alteration of areas, boundaries or names of existing States.

Options :

1. ✖ Article 368
2. ✔ Article 3
3. ✖ Article 2
4. ✖ Article 370

Question Number : 173 Question Id : 16794319357 Question Type : MCQ Option Shuffling : Yes Display Question Number : Yes
Single Line Question Option : No Option Orientation : Vertical

Correct Marks : 1 Wrong Marks : 0.25

भारतीय संविधान के उस अनुच्छेद की पहचान करें जो की नए राज्यों के गठन तथा राज्य के विद्यमान क्षेत्रों, सीमाओं अथवा नाम में परिवर्तन से संबंधित है।

Options :

1. ✖ अनुच्छेद 368
2. ✔ अनुच्छेद 3
3. ✖ अनुच्छेद 2
4. ✖ अनुच्छेद 370

Question Number : 174 Question Id : 16794319358 Question Type : MCQ Option Shuffling : Yes Display Question Number : Yes
Single Line Question Option : No Option Orientation : Vertical

Correct Marks : 1 Wrong Marks : 0.25

Choose the correct option.

_____, _____ and _____ were the three constitutional amendments that were made in the background of the internal emergency declared in India from Jun 1975.

Options :

1. ✔ 38; 39; 42
2. ✖ 43; 44; 46
3. ✖ 53; 77; 84
4. ✖ 67; 77; 94

Question Number : 174 Question Id : 16794319358 Question Type : MCQ Option Shuffling : Yes Display Question Number : Yes
Single Line Question Option : No Option Orientation : Vertical

Correct Marks : 1 Wrong Marks : 0.25

सही विकल्प का चयन करें।

_____, _____ एवं _____ तीन संवैधानिक संशोधन थे जो जून 1975 से भारत में घोषित आंतरिक आपातकालीन स्थिति की पृष्ठभूमि में रचित किए गए थे।

Options :

1. ✓ 38; 39; 42

2. ✗ 43; 44; 46

3. ✗ 53; 77; 84

4. ✗ 67; 77; 94

Question Number : 175 Question Id : 16794319359 Question Type : MCQ Option Shuffling : Yes Display Question Number : Yes
Single Line Question Option : No Option Orientation : Vertical

Correct Marks : 1 Wrong Marks : 0.25

What is it known as when a member of parliament or state legislature voluntarily resigned from his party or disobeyed the directives of the party leadership on a vote?

Options :

1. ✓ Defection

2. ✗ Disobedience

3. ✗ Walk out

4. ✗ Dissolution of membership

Question Number : 175 Question Id : 16794319359 Question Type : MCQ Option Shuffling : Yes Display Question Number : Yes
Single Line Question Option : No Option Orientation : Vertical

Correct Marks : 1 Wrong Marks : 0.25

जब संसद अथवा राज्य विधानसभा का कोई सदस्य, पार्टी से स्वैच्छिक रूप से इस्तीफा दे अथवा किसी मतदान पर पार्टी के नेतृत्व के अनुदेशों का उल्लंघन करता है तो उसे क्या कहते हैं?

Options :

1. ✓ दल-बदल

2. ✗ आज्ञा का उल्लंघन

3. ✗ बहिष्कार

4. ✖ सदस्यता का विघटन

Question Number : 176 Question Id : 16794319360 Question Type : MCQ Option Shuffling : Yes Display Question Number : Yes
Single Line Question Option : No Option Orientation : Vertical

Correct Marks : 1 Wrong Marks : 0.25

Justice V Ramaswami was the Chief Justice of _____ court when his impeachment motion was moved.

Options :

1. ✖ Supreme Court of India
2. ✖ Madras High Court
3. ✔ Punjab High Court
4. ✖ Delhi High Court

Question Number : 176 Question Id : 16794319360 Question Type : MCQ Option Shuffling : Yes Display Question Number : Yes
Single Line Question Option : No Option Orientation : Vertical

Correct Marks : 1 Wrong Marks : 0.25

न्यायमूर्ति वी. रामस्वामी पर जब दोषारोपण प्रस्ताव लाया गया था, तब वे _____ के मुख्य न्यायाधीश पद पर आसीन थे।

Options :

1. ✖ भारतीय उच्चतम न्यायालय
2. ✖ मद्रास उच्च न्यायालय
3. ✔ पंजाब उच्च न्यायालय
4. ✖ दिल्ली उच्च न्यायालय

Question Number : 177 Question Id : 16794319361 Question Type : MCQ Option Shuffling : Yes Display Question Number : Yes
Single Line Question Option : No Option Orientation : Vertical

Correct Marks : 1 Wrong Marks : 0.25

Wangari Maathai was the founder of _____ movement in _____.

Options :

1. ✖ Polish movement; New York
2. ✖ Negro movement; Libya
3. ✖ Sedang Movement; China

4. ✓ Green Belt Movement; Kenya

Question Number : 177 Question Id : 16794319361 Question Type : MCQ Option Shuffling : Yes Display Question Number : Yes
Single Line Question Option : No Option Orientation : Vertical

Correct Marks : 1 Wrong Marks : 0.25

वांगारी माथाई _____ में _____ आंदोलन के संस्थापक थे।

Options :

1. ✗ न्यू यार्क; पोलिश आंदोलन
2. ✗ लिबिया; नीग्रो आंदोलन
3. ✗ चीन; सेडॉंग आंदोलन
4. ✓ केनिया; हरित पट्टी आंदोलन

Question Number : 178 Question Id : 16794319362 Question Type : MCQ Option Shuffling : Yes Display Question Number : Yes
Single Line Question Option : No Option Orientation : Vertical

Correct Marks : 1 Wrong Marks : 0.25

Water Struggle happened in which of the following nations?

Options :

1. ✗ Latvia
2. ✗ Sudan
3. ✗ Botswana
4. ✓ Bolivia

Question Number : 178 Question Id : 16794319362 Question Type : MCQ Option Shuffling : Yes Display Question Number : Yes
Single Line Question Option : No Option Orientation : Vertical

Correct Marks : 1 Wrong Marks : 0.25

निम्नलिखित में से किस देश में पानी हेतु संघर्ष हुआ था?

Options :

1. ✗ लैटविया
2. ✗ सूडान
3. ✗ बोट्सवाना

4. ✓ बोलिविया

Question Number : 179 Question Id : 16794319363 Question Type : MCQ Option Shuffling : Yes Display Question Number : Yes
Single Line Question Option : No Option Orientation : Vertical

Correct Marks : 1 Wrong Marks : 0.25

Which of these political party systems is ideal for all countries at all situations?

Options :

1. ✗ Bi party system
2. ✗ Multi-party system
3. ✗ Single Party system
4. ✓ Depends on the country

Question Number : 179 Question Id : 16794319363 Question Type : MCQ Option Shuffling : Yes Display Question Number : Yes
Single Line Question Option : No Option Orientation : Vertical

Correct Marks : 1 Wrong Marks : 0.25

निम्नलिखित में से कौन सी राजनैतिक पार्टी प्रणाली, सभी परिस्थितियों में सभी देशों हेतु आदर्श होता है?

Options :

1. ✗ द्विपक्षीय प्रणाली
2. ✗ बहु-पक्षीय प्रणाली
3. ✗ एकल पार्टी प्रणाली
4. ✓ देश पर निर्भर होता है

Question Number : 180 Question Id : 16794319364 Question Type : MCQ Option Shuffling : Yes Display Question Number : Yes
Single Line Question Option : No Option Orientation : Vertical

Correct Marks : 1 Wrong Marks : 0.25

Which of the following countries had faced disintegration to exactly six independent countries?

Options :

1. ✗ Yugoslavia
2. ✓ USSR
3. ✗ Sudan

4. ✖ Czechoslovakia

Question Number : 180 Question Id : 16794319364 Question Type : MCQ Option Shuffling : Yes Display Question Number : Yes
Single Line Question Option : No Option Orientation : Vertical

Correct Marks : 1 Wrong Marks : 0.25

निम्नलिखित में से किस देश को कुल 6 स्वतंत्र देशों में खंडित किया गया था?

Options :

1. ✖ युगोस्लाविया

2. ✔ यू.एस.एस.आर

3. ✖ सूडान

4. ✖ चेकोस्लोवाकिया

Subject Related

Group Number :	10
Group Id :	167943733
Group Maximum Duration :	0
Group Minimum Duration :	120
Revisit allowed for view? :	No
Revisit allowed for edit? :	No
Break time:	0
Group Marks:	20
Revisit allowed for group Instructions? :	Yes
Maximum Instruction Time:	0
Minimum Instruction Time:	0

Subject Related

Section Id :	167943798
Section Number :	1
Section type :	Online
Mandatory or Optional:	Mandatory
Number of Questions:	20
Number of Questions to be attempted:	20
Section Marks:	20
Display Number Panel:	Yes
Group All Questions:	No

Sub-Section Number:	1
Sub-Section Id:	1679431231
Question Shuffling Allowed :	Yes

Question Number : 181 Question Id : 16794319365 Question Type : MCQ Option Shuffling : Yes Display Question Number : Yes
Single Line Question Option : No Option Orientation : Vertical

Correct Marks : 1 Wrong Marks : 0.25

The year 1990 and after was federally important in Indian politics because of which of the following reasons?

Options :

1. ✖ Language policy
2. ✖ Power sharing
3. ✔ Formation of coalition governments
4. ✖ Economic Reforms

Question Number : 181 Question Id : 16794319365 Question Type : MCQ Option Shuffling : Yes Display Question Number : Yes
Single Line Question Option : No Option Orientation : Vertical

Correct Marks : 1 Wrong Marks : 0.25

वर्ष 1990 और उसके बाद की अवधि, भारतीय राजनीति के लिए निम्नलिखित किन कारणों से संघीय (फेडरली) रूप से महत्वपूर्ण थी?

Options :

1. ✖ भाषा नीति
2. ✖ सत्ते की हिस्सेदारी
3. ✔ गठबंधन सरकारों का गठन
4. ✖ आर्थिक सुधार

Question Number : 182 Question Id : 16794319366 Question Type : MCQ Option Shuffling : Yes Display Question Number : Yes
Single Line Question Option : No Option Orientation : Vertical

Correct Marks : 1 Wrong Marks : 0.25

Which of the following cities in the world, not a country as a whole, has a separate government for itself?

Options :

1. ✖ Singapore
2. ✖ Paris
3. ✖ Preston
4. ✔ Brussels

Question Number : 182 Question Id : 16794319366 Question Type : MCQ Option Shuffling : Yes Display Question Number : Yes
Single Line Question Option : No Option Orientation : Vertical

Correct Marks : 1 Wrong Marks : 0.25

दुनिया के निम्नलिखित शहरों में से कौन सा देश पूरी तरह से नहीं है, उसके लिए अलग सरकार है?

Options :

1. ✖ सिंगापुर
2. ✖ पैरिस
3. ✖ प्रेस्टन
4. ✔ ब्रसेल्स

Question Number : 183 Question Id : 16794319367 Question Type : MCQ Option Shuffling : Yes Display Question Number : Yes
Single Line Question Option : No Option Orientation : Vertical

Correct Marks : 1 Wrong Marks : 0.25

Given an example of FPTP and PR system of election.

Options :

1. ✖ U.S.A. and Pakistan respectively
2. ✖ Israel and India respectively
3. ✔ India and Israel respectively
4. ✖ Pakistan and U.S.A. respectively

Question Number : 183 Question Id : 16794319367 Question Type : MCQ Option Shuffling : Yes Display Question Number : Yes
Single Line Question Option : No Option Orientation : Vertical

Correct Marks : 1 Wrong Marks : 0.25

निर्वाचन की FPTP और PR प्रणाली का एक उदाहरण दें।

Options :

1. ✖ क्रमशः यू.एस.ए और पाकिस्तान
2. ✖ क्रमशः इस्राइल और भारत
3. ✔ क्रमशः भारत और इस्राइल
4. ✖ क्रमशः पाकिस्तान और यू.एस.ए

Question Number : 184 Question Id : 16794319368 Question Type : MCQ Option Shuffling : Yes Display Question Number : Yes
Single Line Question Option : No Option Orientation : Vertical

Correct Marks : 1 Wrong Marks : 0.25

A judge of Supreme Court or High Court can be removed only if they are proved to _____.

Options :

1. ✖ Show poor attendance
2. ✖ Hold many pending cases for judgments
3. ✔ Misbehave or show incapacity
4. ✖ Given many wrong judgements

Question Number : 184 Question Id : 16794319368 Question Type : MCQ Option Shuffling : Yes Display Question Number : Yes
Single Line Question Option : No Option Orientation : Vertical

Correct Marks : 1 Wrong Marks : 0.25

सर्वोच्च न्यायालय अथवा उच्च न्यायालय के न्यायाधीश को, _____ का सबूत पेश करने पर ही निष्कासित किया जा सकता है।

Options :

1. ✖ बहुत कम उपस्थिति
2. ✖ निर्णय हेतु कई लंबित मामलों को धारित रखने
3. ✔ दुर्व्यवहार अथा अक्षमता
4. ✖ कई गलत निर्णय देने

Question Number : 185 Question Id : 16794319369 Question Type : MCQ Option Shuffling : Yes Display Question Number : Yes
Single Line Question Option : No Option Orientation : Vertical

Correct Marks : 1 Wrong Marks : 0.25

Choose the correct option to complete the blank.

Civil War in Srilanka was between _____ and _____ for power sharing.

Options :

1. ✔ Sinhalese; Srilankan Tamils
2. ✖ Sinhalese; Srilankan muslims
3. ✖ Sinhalese; Indian Tamils

4. ✖ Sinhalese; Chinese

Question Number : 185 Question Id : 16794319369 Question Type : MCQ Option Shuffling : Yes Display Question Number : Yes
Single Line Question Option : No Option Orientation : Vertical

Correct Marks : 1 Wrong Marks : 0.25

सही विकल्प चुनकर रक्त स्थान की पूर्ति करें।

सत्ता में हिस्सेदारी हेतु श्रीलंका में गृहयुद्ध, _____ और _____ के बीच हुआ था।

Options :

1. ✔ सिंहलियों; श्रीलंकाई तमिलों
2. ✖ सिंहलियों; श्रीलंकाई मुस्लिमों
3. ✖ सिंहलियों; भारतीय तमिलों
4. ✖ सिंहलियों; चीनी

Question Number : 186 Question Id : 16794319370 Question Type : MCQ Option Shuffling : Yes Display Question Number : Yes
Single Line Question Option : No Option Orientation : Vertical

Correct Marks : 1 Wrong Marks : 0.25

Mention a country which does not mention the word Federation in its constitution, but follows it:

Options :

1. ✔ India
2. ✖ Nigeria
3. ✖ West Indies
4. ✖ U.S.S.R.

Question Number : 186 Question Id : 16794319370 Question Type : MCQ Option Shuffling : Yes Display Question Number : Yes
Single Line Question Option : No Option Orientation : Vertical

Correct Marks : 1 Wrong Marks : 0.25

उस देश का उल्लेख करें जो कि अपने संविधान में महासंघ (फेडरेशन) शब्द का उल्लेख नहीं करता है, परंतु उसका अनुसरण करता है।

Options :

1. ✔ भारत

2. ✖ नाइजीरिया
3. ✖ वेस्टइंडीज़
4. ✖ यू.एस.एस.आर

Question Number : 187 Question Id : 16794319371 Question Type : MCQ Option Shuffling : Yes Display Question Number : Yes
Single Line Question Option : No Option Orientation : Vertical

Correct Marks : 1 Wrong Marks : 0.25

Which fundamental right will the following situation violate 13 year old child working in a factory manufacturing carpets?

Options :

1. ✖ Cultural and educational rights
2. ✖ Right to freedom
3. ✖ Right to constitutional remedies
4. ✔ Right against exploitation

Question Number : 187 Question Id : 16794319371 Question Type : MCQ Option Shuffling : Yes Display Question Number : Yes
Single Line Question Option : No Option Orientation : Vertical

Correct Marks : 1 Wrong Marks : 0.25

कालीन के निर्माण के कारखाने में 13 वर्ष के बच्चे को कार्य करने की स्थिति से निम्नलिखित में से किस मूलभूत अधिकार का उल्लंघन होता है?

Options :

1. ✖ सांस्कृतिक एवं शैक्षणिक अधिकार
2. ✖ स्वतंत्रता का अधिकार
3. ✖ संवैधानिक उपचारों का अधिकार
4. ✔ शोषण के विरुद्ध अधिकार

Question Number : 188 Question Id : 16794319372 Question Type : MCQ Option Shuffling : Yes Display Question Number : Yes
Single Line Question Option : No Option Orientation : Vertical

Correct Marks : 1 Wrong Marks : 0.25

The 73rd constitutional amendment is about:

Options :

1. ✖ Centralized Government
2. ✔ Panchayat Raj
3. ✖ Governing bodies
4. ✖ Rural housing and drinking water

Question Number : 188 Question Id : 16794319372 Question Type : MCQ Option Shuffling : Yes Display Question Number : Yes
Single Line Question Option : No Option Orientation : Vertical

Correct Marks : 1 Wrong Marks : 0.25

73वां संवैधानिक संशोधन निम्नलिखित से संबंधित है:

Options :

1. ✖ केंद्रीकृत सरकार
2. ✔ पंचायत राज
3. ✖ प्रशासनीय निकाय
4. ✖ ग्रामीण आवास और पेय जल

Question Number : 189 Question Id : 16794319373 Question Type : MCQ Option Shuffling : Yes Display Question Number : Yes
Single Line Question Option : No Option Orientation : Vertical

Correct Marks : 1 Wrong Marks : 0.25

Which option suits better?



Options :

1. ✖ College students ragging

2. ✓ Peak of Racism, prejudice and bigotry
3. ✗ Religious conflicts
4. ✗ Cruelty towards animals

Question Number : 189 Question Id : 16794319373 Question Type : MCQ Option Shuffling : Yes Display Question Number : Yes
Single Line Question Option : No Option Orientation : Vertical
Correct Marks : 1 Wrong Marks : 0.25

निम्नलिखित में से कौन सा विकल्प उपयुक्त है?



Options :

1. ✗ विश्वविद्यालय के विद्यार्थियों की रैगिंग
2. ✓ जातीयता, पूर्वाग्रह और धर्मान्धता की पराकाष्ठा
3. ✗ धार्मिक संघर्ष
4. ✗ जानवरों के प्रति नृशंसता

Question Number : 190 Question Id : 16794319374 Question Type : MCQ Option Shuffling : Yes Display Question Number : Yes
Single Line Question Option : No Option Orientation : Vertical
Correct Marks : 1 Wrong Marks : 0.25

British Government's hand in birth of our constitution was openly opposed by _____.

Options :

1. ✓ Somnath Lahiri
2. ✗ Jawaharlal Nehru
3. ✗ Sardar Vallabhbhai Patel
4. ✗ Mahatma Ghandi

Question Number : 190 Question Id : 16794319374 Question Type : MCQ Option Shuffling : Yes Display Question Number : Yes
Single Line Question Option : No Option Orientation : Vertical

Correct Marks : 1 Wrong Marks : 0.25

हमारे संविधान की उत्पत्ति में ब्रिटिश सरकार की भूमिका का _____ द्वारा खुले रूप से विरोध किया गया था।

Options :

1. ✓ सोमनाथ लाहिड़ी
2. ✗ जवाहरलाल नेहरू
3. ✗ सरदार वल्लभभाई पटेल
4. ✗ महात्मा गांधी

Sub-Section Number: 2
Sub-Section Id: 1679431232
Question Shuffling Allowed : Yes

Question Number : 191 Question Id : 16794319375 Question Type : MCQ Option Shuffling : Yes Display Question Number : Yes
Single Line Question Option : No Option Orientation : Vertical

Correct Marks : 1 Wrong Marks : 0.25

Coordination between gross motor and fine motor skills comes under:

Options :

1. ✗ Adolescent development
2. ✗ Schools age development
3. ✓ Physical development
4. ✗ Moral development

Question Number : 191 Question Id : 16794319375 Question Type : MCQ Option Shuffling : Yes Display Question Number : Yes
Single Line Question Option : No Option Orientation : Vertical

Correct Marks : 1 Wrong Marks : 0.25

सकल मोटर और बढ़िया मोटर कौशल के बीच सामंजस्य निम्नानुसार है:

Options :

1. ✖ किशोर विकास
2. ✖ स्कूल आयु विकास
3. ✔ शारीरिक विकास
4. ✖ नैतिक विकास

Question Number : 192 Question Id : 16794319376 Question Type : MCQ Option Shuffling : Yes Display Question Number : Yes
Single Line Question Option : No Option Orientation : Vertical

Correct Marks : 1 Wrong Marks : 0.25

What were the languages promoted by Indian government?

Options :

1. ✖ German, French, Parsi
2. ✖ Chinese, Japanese
3. ✔ Telugu, Hindi, English
4. ✖ Sanskrit, Urdu, English

Question Number : 192 Question Id : 16794319376 Question Type : MCQ Option Shuffling : Yes Display Question Number : Yes
Single Line Question Option : No Option Orientation : Vertical

Correct Marks : 1 Wrong Marks : 0.25

भारत सरकार द्वारा प्रचारित भाषाओं को क्या किया गया था?

Options :

1. ✖ जर्मन, फ्रेंच, पारसी
2. ✖ चीनी, जापानी
3. ✔ तेलुगु, हिंदी, अंग्रेज़ी
4. ✖ संस्कृत, उर्दू, अंग्रेज़ी

Question Number : 193 Question Id : 16794319377 Question Type : MCQ Option Shuffling : Yes Display Question Number : Yes
Single Line Question Option : No Option Orientation : Vertical

Correct Marks : 1 Wrong Marks : 0.25

In what way of difference of knowing and understanding is evidenced?

Options :

1. ☒ When learners make their thinking visible
2. ☐ When teaching is understandable
3. ☐ When students shows interest in attending classes
4. ☐ In laboratories

Question Number : 193 Question Id : 16794319377 Question Type : MCQ Option Shuffling : Yes Display Question Number : Yes
Single Line Question Option : No Option Orientation : Vertical

Correct Marks : 1 Wrong Marks : 0.25

जानने और समझने के अंतर का कौन सा रूप प्रमाणित है?

Options :

1. ☒ जब शिक्षार्थी अपनी सोच को साकार करते हैं
2. ☐ जब शिक्षण समझने योग्य होता है
3. ☐ जब छात्र कक्षाओं में उपस्थित होने में रुचि दिखाते हैं
4. ☐ प्रयोगशालाओं में

Question Number : 194 Question Id : 16794319378 Question Type : MCQ Option Shuffling : Yes Display Question Number : Yes
Single Line Question Option : No Option Orientation : Vertical

Correct Marks : 1 Wrong Marks : 0.25

The study of phenomena that can be physically, sensed, observed and counted is:

Options :

1. ☐ Social studies
2. ☐ Mathematics
3. ☒ Science
4. ☐ Psychology

Question Number : 194 Question Id : 16794319378 Question Type : MCQ Option Shuffling : Yes Display Question Number : Yes
Single Line Question Option : No Option Orientation : Vertical

Correct Marks : 1 Wrong Marks : 0.25

शारीरिक रूप से, संवेदना, महसूस किया तथा देखा जा सकता है कि घटना का अध्ययन है:

Options :

1. ✖ सामाजिक अध्ययन
2. ✖ अंकशास्त्र
3. ✔ विज्ञान
4. ✖ मनोविज्ञान

Question Number : 195 Question Id : 16794319379 Question Type : MCQ Option Shuffling : Yes Display Question Number : Yes
Single Line Question Option : No Option Orientation : Vertical

Correct Marks : 1 Wrong Marks : 0.25

What are the three dimensions of gender inequity indicators?

Options :

1. ✔ Education, Economic participation, Empowerment
2. ✖ Education, Percapita income, Political awareness
3. ✖ Education, Human rights, Reservations
4. ✖ Education, Human rights, Responsibilities

Question Number : 195 Question Id : 16794319379 Question Type : MCQ Option Shuffling : Yes Display Question Number : Yes
Single Line Question Option : No Option Orientation : Vertical

Correct Marks : 1 Wrong Marks : 0.25

लिंग असमानता संकेतकों के तीन आयाम क्या हैं?

Options :

1. ✔ शिक्षा, आर्थिक भागीदारी, सशक्तिकरण
2. ✖ शिक्षा, प्रतिव्यक्ति आय, राजनीतिक जागरूकता
3. ✖ शिक्षा, मानवाधिकार, आरक्षण
4. ✖ शिक्षा, मानवाधिकार, जिम्मेदारियां

Question Number : 196 Question Id : 16794319380 Question Type : MCQ Option Shuffling : Yes Display Question Number : Yes
Single Line Question Option : No Option Orientation : Vertical

Correct Marks : 1 Wrong Marks : 0.25

Early experience in science is useful for:

Options :

1. ☒ To develop problem solving skills that empower them to participate in an increasingly scientific and technological world
2. ☐ To get good marks in high school levels
3. ☐ To develop the differential between subjects and languages
4. ☐ To become scientists in future

Question Number : 196 Question Id : 16794319380 Question Type : MCQ Option Shuffling : Yes Display Question Number : Yes
Single Line Question Option : No Option Orientation : Vertical

Correct Marks : 1 Wrong Marks : 0.25

विज्ञान में प्रारंभिक अनुभव इसके लिए उपयोगी है:

Options :

1. ☒ समस्या निवारण कौशल विकसित करने के लिए जो उन्हें तेजी से वैज्ञानिक और तकनीकी दुनिया में भाग लेने के लिए सशक्त बनाता है
2. ☐ हाई स्कूल के स्तर में अच्छे अंक प्राप्त करने के लिए
3. ☐ अलग-अलग शर्तों के विषयों और भाषाओं को विकसित करने के लिए
4. ☐ भविष्य में वैज्ञानिक बनने के लिए

Question Number : 197 Question Id : 16794319381 Question Type : MCQ Option Shuffling : Yes Display Question Number : Yes
Single Line Question Option : No Option Orientation : Vertical

Correct Marks : 1 Wrong Marks : 0.25

Teaching reading and writing skills in classroom helps student:

Options :

1. ☒ To communicate effectively
2. ☐ To get good handwriting
3. ☐ To develop problem solving skills
4. ☐ To read properly

Question Number : 197 Question Id : 16794319381 Question Type : MCQ Option Shuffling : Yes Display Question Number : Yes
Single Line Question Option : No Option Orientation : Vertical

Correct Marks : 1 Wrong Marks : 0.25

कक्षा में पढ़ाई और लेखन कौशल शिक्षण छात्र की मदद करता है:

Options :

1. ☒ प्रभावी ढंग से संवाद करने के लिए
2. ☐ अच्छा हाथ लिखने के लिए
3. ☐ समस्या निवारण कौशल विकसित करने के लिए
4. ☐ ठीक से पढ़ने के लिए

Question Number : 198 Question Id : 16794319382 Question Type : MCQ Option Shuffling : Yes Display Question Number : Yes
Single Line Question Option : No Option Orientation : Vertical

Correct Marks : 1 Wrong Marks : 0.25

What should be done to yield an equitable learning environment?

Options :

1. ☒ Integration of arts
2. ☐ To show equality in class
3. ☐ To teach the importance of equitable learning
4. ☐ All subjects to teach equally

Question Number : 198 Question Id : 16794319382 Question Type : MCQ Option Shuffling : Yes Display Question Number : Yes
Single Line Question Option : No Option Orientation : Vertical

Correct Marks : 1 Wrong Marks : 0.25

एक न्यायसंगत सीखने के माहौल को पैदा करने के लिए क्या किया जाना चाहिए?

Options :

1. ☒ कला का एकीकरण
2. ☐ कक्षा में समानता दिखानी चाहिए
3. ☐ न्यायसंगत सीखने के महत्व को सिखाना चाहिए
4. ☐ सभी विषयों को समान रूप से पढ़ाना चाहिए

Question Number : 199 Question Id : 16794319383 Question Type : MCQ Option Shuffling : Yes Display Question Number : Yes
Single Line Question Option : No Option Orientation : Vertical

Correct Marks : 1 Wrong Marks : 0.25

Self-Discipline, Internal motivation, Clear goal is required in:

Options :

1. ☒ Self-learning methodology
2. ☐ Formal learning
3. ☐ Instructional learning
4. ☐ Traditional learning

Question Number : 199 Question Id : 16794319383 Question Type : MCQ Option Shuffling : Yes Display Question Number : Yes
Single Line Question Option : No Option Orientation : Vertical

Correct Marks : 1 Wrong Marks : 0.25

आत्म-अनुशासन, आंतरिक प्रेरणा, स्पष्ट लक्ष्य की आवश्यकता है:

Options :

1. ☒ आत्म-शिक्षण पद्धति
2. ☐ औपचारिक शिक्षा
3. ☐ निर्देशक शिक्षा
4. ☐ पारंपरिक शिक्षा

Question Number : 200 Question Id : 16794319384 Question Type : MCQ Option Shuffling : Yes Display Question Number : Yes
Single Line Question Option : No Option Orientation : Vertical

Correct Marks : 1 Wrong Marks : 0.25

Parental support is very less for:

Options :

1. ☒ First generation learners
2. ☐ Rural students
3. ☐ Government school students
4. ☐ Active learners

Question Number : 200 Question Id : 16794319384 Question Type : MCQ Option Shuffling : Yes Display Question Number : Yes
Single Line Question Option : No Option Orientation : Vertical

Correct Marks : 1 Wrong Marks : 0.25

माता-पिता का समर्थन बहुत कम है:

Options :

1. ☒ पहली पीढ़ी के शिक्षार्थियों के लिए
2. ☐ ग्रामीण छात्र के लिए
3. ☐ सरकारी स्कूल के छात्र के लिए
4. ☐ सक्रिय शिक्षार्थियों के लिए