

Constable Executive Male and Female in Delhi Police Examination 2023

Roll Number	
Candidate Name	
Venue Name	Shankara Group Of Institutions
Exam Date	30/11/2023
Exam Time	3:00 PM - 4:30 PM
Subject	Constable Executive Male and Female in Delhi Police Examination 2023

Section : General Knowledge

Q.1 पैरा एथलेटिक्स विश्व चैंपियनशिप 2023 में पुरुषों की भाला फेंक F46 श्रेणी में किस एथलीट ने स्वर्ण पदक जीता था?

- Ans
- ☒ 1. सुमित अंतिल
 - ☒ 2. खिलारी सचिन
 - ☒ 3. निशाद कुमार
 - ☒ 4. अजीत सिंह

Question ID : 264330176140
Option 1 ID : 264330690855
Option 2 ID : 264330690857
Option 3 ID : 264330690858
Option 4 ID : 264330690856
Status : Not Answered
Chosen Option : --

Q.2 निम्नलिखित में से कौन भारत के राष्ट्रपति के चुनाव में भाग नहीं लेता है?

- Ans
- ☒ 1. राज्य की विधान-परिषद के निर्वाचित सदस्य
 - ☒ 2. लोकसभा के निर्वाचित सदस्य
 - ☒ 3. विधानसभा के निर्वाचित सदस्य
 - ☒ 4. राज्यसभा के निर्वाचित सदस्य

Question ID : 264330177752
Option 1 ID : 264330697117
Option 2 ID : 264330697115
Option 3 ID : 264330697118
Option 4 ID : 264330697116
Status : Marked For Review
Chosen Option : 1

Q.3 निम्नलिखित में से किस समाज सुधारक ने ब्रिटिश भारत में आधुनिक बंगाली वर्णमाला का विकास किया था?

- Ans
- ☒ 1. केशव चंद्र सेन
 - ☒ 2. रबिन्द्रनाथ टैगोर
 - ☒ 3. बंकिम चंद्र चटर्जी
 - ☒ 4. ईश्वर चंद्र विद्यासागर

Question ID : 264330120431
Option 1 ID : 264330471976
Option 2 ID : 264330471977
Option 3 ID : 264330471975
Option 4 ID : 264330471978
Status : Not Answered
Chosen Option : --

Q.4 भारतीय संविधान के अनुच्छेद 118 के अनुसार, दोनों सदनों की संयुक्त बैठक की अध्यक्षता कौन करता है?

- Ans
- ☐ 1. राष्ट्रपति
 - ☐ 2. प्रधानमंत्री
 - ☐ 3. सभापति (चेयरमैन)
 - ☒ 4. अध्यक्ष (स्पीकर)

Question ID : 264330110599

Option 1 ID : 264330434673

Option 2 ID : 264330434674

Option 3 ID : 264330434676

Option 4 ID : 264330434675

Status : Answered

Chosen Option : 1

Q.5 ग्रामीण आबादी को सुलभ, सस्ती और गुणवत्तापूर्ण स्वास्थ्य देखभाल प्रदान करने के लिए भारत में राष्ट्रीय ग्रामीण स्वास्थ्य मिशन किस वर्ष आरंभ किया गया था?

- Ans
- ☐ 1. 2010 में
 - ☒ 2. 2005 में
 - ☐ 3. 2007 में
 - ☐ 4. 2001 में

Question ID : 264330130577

Option 1 ID : 264330511422

Option 2 ID : 264330511420

Option 3 ID : 264330511421

Option 4 ID : 264330511419

Status : Not Answered

Chosen Option : --

Q.6 निम्नलिखित में से किस चोल शासक ने अपने आक्रमणों में सबसे पहले श्रीलंका के उत्तरी भाग पर कब्जा किया था?

- Ans
- ☐ 1. राजाधिराज ।
 - ☐ 2. परांतक ।
 - ☒ 3. राजराज ।
 - ☐ 4. राजेंद्र ।

Question ID : 264330118000

Option 1 ID : 264330463818

Option 2 ID : 264330463816

Option 3 ID : 264330463815

Option 4 ID : 264330463817

Status : Not Answered

Chosen Option : --

Q.7 निम्नलिखित में से कौन-सा गुण अशोक के शिलालेखों में वर्णित धम्म का मूलभूत गुण नहीं है?

- Ans
- ☒ 1. करुणा
 - ☒ 2. परोपकार
 - ☒ 3. ब्रह्मचर्य
 - ☒ 4. सत्यवादिता

Question ID : 264330130540

Option 1 ID : 264330511271

Option 2 ID : 264330511272

Option 3 ID : 264330511274

Option 4 ID : 264330511273

Status : Marked For Review

Chosen Option : 4

Q.8 पद्म श्री पुरस्कार से सम्मानित एम. के. सरोजा को किस प्रकार के नृत्य के लिए जाना जाता है?

- Ans
- ☒ 1. गरबा
 - ☒ 2. भरतनाट्यम
 - ☒ 3. कथक
 - ☒ 4. कथकली

Question ID : 26433074884

Option 1 ID : 264330293625

Option 2 ID : 264330293626

Option 3 ID : 264330293627

Option 4 ID : 264330293624

Status : Not Answered

Chosen Option : --

Q.9 अहमदनगर के निजाम शाही राजवंश की स्थापना 1490 में _____ ने की थी।

- Ans
- ☒ 1. मोहम्मद शाह प्रथम
 - ☒ 2. मलिक अहमद निजाम-उल-मुल्क बहरी
 - ☒ 3. अलाउद्दीन बहमन शाह
 - ☒ 4. ताजुद्दीन फिरोज शाह

Question ID : 264330114084

Option 1 ID : 264330448424

Option 2 ID : 264330448423

Option 3 ID : 264330448421

Option 4 ID : 264330448422

Status : Not Answered

Chosen Option : --

Q.10 'वैनिटी फेयर' उपन्यास किसने लिखा है?

- Ans
- ☒ 1. चार्ल्स डिक्किंस
 - ☒ 2. जॉर्ज इलियट
 - ☒ 3. लुईस कैरोल
 - ☒ 4. विलियम ठाकरे

Question ID : 26433064233

Option 1 ID : 264330251524

Option 2 ID : 264330251527

Option 3 ID : 264330251526

Option 4 ID : 264330251525

Status : Not Answered

Chosen Option : --

Q.11 निम्नलिखित में से किस स्थान पर लोसर महोत्सव मनाया जाता है?

- Ans
- ☒ 1. लक्षद्वीप
 - ☒ 2. नागालैंड
 - ☒ 3. हिमाचल प्रदेश
 - ☒ 4. लद्दाख

Question ID : 264330130870

Option 1 ID : 264330512594

Option 2 ID : 264330512592

Option 3 ID : 264330512593

Option 4 ID : 264330512591

Status : Answered

Chosen Option : 4

Q.12 ऐतिहासिक कथा 'लीजेंड ऑफ सुहेलदेव: द किंग हू सेव्ड इंडिया' के लेखक कौन हैं?

- Ans
- ☒ 1. रंजीत देसाई
 - ☒ 2. नंदिनी सेनगुप्ता
 - ☒ 3. रामचंद्र गुहा
 - ☒ 4. अमीश त्रिपाठी

Question ID : 26433092402

Option 1 ID : 264330362899

Option 2 ID : 264330362900

Option 3 ID : 264330362897

Option 4 ID : 264330362898

Status : Not Answered

Chosen Option : --

Q.13 निम्नलिखित में से किस समाज सुधारक ने रामकृष्ण मिशन की स्थापना की थी?

- Ans
- ☒ 1. स्वामी श्रद्धानंद
 - ☒ 2. स्वामी विवेकानंद
 - ☒ 3. स्वामी दयानंद
 - ☒ 4. स्वामी ब्रजानंद

Question ID : 264330120308

Option 1 ID : 264330471485

Option 2 ID : 264330471484

Option 3 ID : 264330471483

Option 4 ID : 264330471486

Status : Answered

Chosen Option : 3

Q.14 निम्नलिखित में से किस देश से भारत ने 'विधि द्वारा स्थापित प्रक्रिया' को अपनाया?

- Ans
- ☒ 1. ब्राजील
 - ☒ 2. अमेरिका
 - ☒ 3. जापान
 - ☒ 4. श्रीलंका

Question ID : 264330133046

Option 1 ID : 264330521236

Option 2 ID : 264330521237

Option 3 ID : 264330521235

Option 4 ID : 264330521238

Status : Not Answered

Chosen Option : --

Q.15 राजत्व की अपनी धारणा के अनुसार, कई कुषाण शासकों ने _____ की उपाधि धारण की।

- Ans
- ☒ 1. धरतीपुत्र
 - ☒ 2. देवपुत्र
 - ☒ 3. सूर्यपुत्र
 - ☒ 4. आर्यपुत्र

Question ID : 264330119475

Option 1 ID : 264330468184

Option 2 ID : 264330468183

Option 3 ID : 264330468185

Option 4 ID : 264330468186

Status : Not Answered

Chosen Option : --

Q.16 निम्नलिखित में से कौन संगीत नाटक अकादमी पुरस्कार से सम्मानित पंजाबी लोक नर्तक/नृत्यांगना हैं?

- Ans
- ☒ 1. बलकार सिंह सिद्धू
 - ☒ 2. नाथू लाल सोलंकी
 - ☒ 3. ममता चंद्राकर
 - ☒ 4. राम लाल

Question ID : 264330182986

Option 1 ID : 264330717678

Option 2 ID : 264330717679

Option 3 ID : 264330717676

Option 4 ID : 264330717677

Status : Not Answered

Chosen Option : --

Q.17 प्रतिस्पर्धी परिसंपत्ति बाजार की स्थिति के तहत, बॉण्ड की कीमत हमेशा संतुलन में उसके वर्तमान मूल्य का/की/के _____ होनी चाहिए।

- Ans
- ☒ 1. दो गुना
 - ☒ 2. तीन गुना
 - ☒ 3. आधी
 - ☒ 4. बराबर

Question ID : 264330116506

Option 1 ID : 264330458109

Option 2 ID : 264330458112

Option 3 ID : 264330458111

Option 4 ID : 264330458110

Status : Not Answered

Chosen Option : --

Q.18 चौपखिया (Chaupakhya) उत्सव किस राज्य में मनाया जाता है?

- Ans
- ☒ 1. उत्तराखंड
 - ☒ 2. छत्तीसगढ़
 - ☒ 3. झारखंड
 - ☒ 4. राजस्थान

Question ID : 264330113175

Option 1 ID : 264330444788

Option 2 ID : 264330444786

Option 3 ID : 264330444787

Option 4 ID : 264330444785

Status : Not Answered

Chosen Option : --

Q.19 विनिवेश कोष और आस्ति प्रबंधन कंपनी की स्थापना किस बजट में की गई थी?

- Ans ☒ 1. 2000-01
☒ 2. 1992-93
☒ 3. 1991-92
☒ 4. 2003-04

Question ID : 264330109424

Option 1 ID : 264330429975

Option 2 ID : 264330429974

Option 3 ID : 264330429973

Option 4 ID : 264330429976

Status : Not Answered

Chosen Option : --

Q.20 केंद्र सरकार ने निम्नलिखित में से किस वर्ष सीएसओ (CSO) और एनएसएसओ (NSSO) का विलय किया और सांख्यिकी और कार्यक्रम कार्यान्वयन मंत्रालय (MoSPI) के तहत एनएसओ (NSO) की स्थापना की?

- Ans ☒ 1. 2019
☒ 2. 2016
☒ 3. 2017
☒ 4. 2018

Question ID : 264330130660

Option 1 ID : 264330511751

Option 2 ID : 264330511754

Option 3 ID : 264330511753

Option 4 ID : 264330511752

Status : Not Answered

Chosen Option : --

Q.21 1990 के दशक की शुरुआत में किस प्रक्रिया की खोज की गई थी जो वर्तमान में अपशिष्ट जल से अमोनिया को हटाने के लिए उपयोग की जाती है और महासागरों से स्थिर नाइट्रोजन को नष्ट करने में महत्वपूर्ण योगदान देती है?

- Ans ☒ 1. प्रसारण
☒ 2. एनामॉक्स
☒ 3. संलयन
☒ 4. वाष्पीकरण

Question ID : 264330141724

Option 1 ID : 264330555216

Option 2 ID : 264330555217

Option 3 ID : 264330555218

Option 4 ID : 264330555215

Status : Marked For Review

Chosen Option : 1

Q.22 निम्नलिखित में से कौन-सा पूर्वी तट बंदरगाह का एक उदाहरण है?

- Ans ☒ 1. चेन्नई बंदरगाह
☒ 2. कंदला बंदरगाह
☒ 3. न्यू मंगलौर बंदरगाह
☒ 4. मुंबई बंदरगाह

Question ID : 264330132714
Option 1 ID : 264330519952
Option 2 ID : 264330519953
Option 3 ID : 264330519951
Option 4 ID : 264330519954
Status : Answered
Chosen Option : 1

Q.23 दिल्ली के मुख्यमंत्री की नियुक्ति _____ द्वारा की जाती है।

- Ans ☒ 1. भारत के राष्ट्रपति
☒ 2. उपराज्यपाल
☒ 3. राज्यपाल
☒ 4. प्रधानमंत्री

Question ID : 264330120191
Option 1 ID : 264330471020
Option 2 ID : 264330471022
Option 3 ID : 264330471019
Option 4 ID : 264330471021
Status : Answered
Chosen Option : 2

Q.24 2011 की जनगणना के अनुसार, भारत के किस केंद्र शासित प्रदेश की जनसंख्या सबसे कम है?

- Ans ☒ 1. लक्षद्वीप
☒ 2. दादरा और नगर हवेली
☒ 3. दमन और दीव
☒ 4. पुदुचेरी

Question ID : 264330132740
Option 1 ID : 264330520057
Option 2 ID : 264330520058
Option 3 ID : 264330520055
Option 4 ID : 264330520056
Status : Not Answered
Chosen Option : --

Q.25 ग्यारहवीं पंचवर्षीय योजना में, योजना आयोग ने 2011-2012 तक साक्षरता में लैंगिक-अंतर को _____ प्रतिशत बिंदु तक कम करने का लक्ष्य रखा था।

- Ans ☒ 1. 10
☒ 2. 20
☒ 3. 40
☒ 4. 30

Question ID : 264330179276
Option 1 ID : 264330703107
Option 2 ID : 264330703108
Option 3 ID : 264330703110
Option 4 ID : 264330703109
Status : Not Answered
Chosen Option : --

Q.26 एक खाद्य शृंखला में ऊर्जा पिरामिड के आधार में _____ होते हैं।

- Ans ☒ 1. उत्पादक
- ☒ 2. तृतीयक उपभोक्ता
- ☒ 3. प्राथमिक उपभोक्ता
- ☒ 4. द्वितीयक उपभोक्ता

Question ID : 264330120071

Option 1 ID : 264330470539

Option 2 ID : 264330470542

Option 3 ID : 264330470540

Option 4 ID : 264330470541

Status : Marked For Review

Chosen Option : 1

Q.27 सामान्य नमक में निम्नलिखित में से कौन-सा तत्व उपस्थित होता है?

- Ans ☒ 1. कैल्शियम
- ☒ 2. मैग्नीशियम
- ☒ 3. सोडियम
- ☒ 4. ताँबा

Question ID : 264330117614

Option 1 ID : 264330462482

Option 2 ID : 264330462483

Option 3 ID : 264330462481

Option 4 ID : 264330462484

Status : Answered

Chosen Option : 3

Q.28 दक्षिण भारत में स्थित मंदिरों के परिसर में प्रवेश करने से पहले सुशोभित पर्वत जैसे प्रवेश द्वार को क्या कहा जाता है?

- Ans ☒ 1. कलश
- ☒ 2. जगति
- ☒ 3. गर्भगृह
- ☒ 4. गोपुरम

Question ID : 264330141825

Option 1 ID : 264330555622

Option 2 ID : 264330555621

Option 3 ID : 264330555620

Option 4 ID : 264330555619

Status : Answered

Chosen Option : 4

Q.29 भारत की जनगणना 2011 के अनुसार, किस केंद्र शासित प्रदेश में सबसे कम साक्षरता दर दर्ज की गई थी?

- Ans ☒ 1. दमन और दीव
- ☒ 2. दादरा और नगर हवेली
- ☒ 3. पुदुचेरी
- ☒ 4. लक्षद्वीप

Question ID : 264330131755

Option 1 ID : 264330516119

Option 2 ID : 264330516121

Option 3 ID : 264330516120

Option 4 ID : 264330516122

Status : Marked For Review

Chosen Option : 4

Q.30 राज्य के नीति निर्देशक सिद्धांत _____ में उल्लिखित 'निर्देशों की लिखत' के समान हैं।

- Ans ☒ 1. 1909 के भारत सरकार अधिनियम
☒ 2. 1935 के भारत सरकार अधिनियम
☒ 3. 1942 के भारत सरकार अधिनियम
☒ 4. 1919 के भारत सरकार अधिनियम

Question ID : 264330130451

Option 1 ID : 264330510915

Option 2 ID : 264330510917

Option 3 ID : 264330510918

Option 4 ID : 264330510916

Status : Marked For Review

Chosen Option : 4

Q.31 एमएनसी (MNC) निवेश के लिए सबसे आम मार्ग _____ खरीदना है।

- Ans ☒ 1. स्थानीय कंपनियां
☒ 2. स्थानीय संसाधन
☒ 3. अतिरिक्त भूमि और कारखाने
☒ 4. स्थानीय प्रौद्योगिकी

Question ID : 264330110003

Option 1 ID : 264330432292

Option 2 ID : 264330432289

Option 3 ID : 264330432291

Option 4 ID : 264330432290

Status : Not Answered

Chosen Option : --

Q.32 भारतीय संविधान का कौन-सा अनुच्छेद पर्यावरण के संरक्षण तथा संवर्धन और वन तथा वन्य जीवों की रक्षा से संबंधित है?

- Ans ☒ 1. अनुच्छेद 39 A
☒ 2. अनुच्छेद 48 A
☒ 3. अनुच्छेद 43 A
☒ 4. अनुच्छेद 51 A

Question ID : 264330181428

Option 1 ID : 264330711635

Option 2 ID : 264330711637

Option 3 ID : 264330711636

Option 4 ID : 264330711638

Status : Answered

Chosen Option : 2

Q.33 भारतीय संविधान की सातवीं अनुसूची के अनुसार, कृषि किस सूची में है ?

- Ans ☒ 1. समवर्ती सूची
☒ 2. संघ सूची
☒ 3. संघ और राज्य सूची दोनों
☒ 4. राज्य सूची

Question ID : 264330117572

Option 1 ID : 264330462315

Option 2 ID : 264330462313

Option 3 ID : 264330462316

Option 4 ID : 264330462314

Status : Marked For Review

Chosen Option : 2

Q.34 प्राचीन कोणार्क सूर्य मंदिर की मूर्तियों में कौन सा भारतीय शास्त्रीय नृत्य दर्शाया गया है?

- Ans ☒ 1. ओडिसी
☐ 2. कुचिपुड़ी
☐ 3. मणिपुरी
☐ 4. मोहिनीअट्टम

Question ID : 264330110401

Option 1 ID : 264330433883

Option 2 ID : 264330433882

Option 3 ID : 264330433881

Option 4 ID : 264330433884

Status : Answered

Chosen Option : 1

Q.35 आर्थिक सर्वेक्षण 2019-20 के अनुसार, भारत के शीर्ष पांच व्यापारिक साझेदार संयुक्त राज्य अमेरिका, चीन, संयुक्त अरब अमीरात और _____ बने हुए हैं।
a) सऊदी अरब, b) हांगकांग, c) सिंगापुर, d) श्रीलंका

- Ans ☐ 1. B और C दोनों
☐ 2. A और D दोनों
☐ 3. C और D दोनों
☒ 4. A और B दोनों

Question ID : 264330109996

Option 1 ID : 264330432262

Option 2 ID : 264330432263

Option 3 ID : 264330432261

Option 4 ID : 264330432264

Status : Marked For Review

Chosen Option : 1

Q.36 भारत अंतर्राष्ट्रीय निशानेबाजी खेल महासंघ (ISSF) विश्व कप -2022 में पदक तालिका में शीर्ष पर रहा, जो मिस्र के काहिरा में _____ आयोजित किया गया था।

- Ans ☐ 1. 12 जनवरी, 2022 से 22 जनवरी, 2022 तक
☒ 2. 26 फरवरी, 2022 से 8 मार्च, 2022 तक
☐ 3. 5 जून, 2022 से 15 जून, 2022 तक
☐ 4. 10 अप्रैल, 2022 से 19 अप्रैल, 2022 तक

Question ID : 264330113756

Option 1 ID : 264330447109

Option 2 ID : 264330447110

Option 3 ID : 264330447111

Option 4 ID : 264330447112

Status : Not Answered

Chosen Option : --

Q.37 राजा राम मोहन राय ने डेविड हेयर (David Hare) के सहयोग से 1817 में कलकत्ता में निम्नलिखित में से किस शैक्षणिक संस्थान की स्थापना की थी?

- Ans ☒ 1. हिंदू कालेज
☐ 2. वेदांत कालेज
☐ 3. संस्कृत कालेज
☐ 4. कलकत्ता मदरसा

Question ID : 264330120270
Option 1 ID : 264330471335
Option 2 ID : 264330471336
Option 3 ID : 264330471338
Option 4 ID : 264330471337
Status : Not Answered
Chosen Option : --

Q.38 सत्यशोधक समाज की स्थापना किसने की?

- Ans ☐ 1. सी.एन. अन्नादुरै
☐ 2. बी.आर. अंबेडकर
☐ 3. नारायण गुरु
☒ 4. ज्योतिराव फुले

Question ID : 264330120305
Option 1 ID : 264330471474
Option 2 ID : 264330471473
Option 3 ID : 264330471471
Option 4 ID : 264330471472
Status : Marked For Review
Chosen Option : 4

Q.39 निम्नलिखित में से किसने 36वें राष्ट्रीय खेलों में सर्वाधिक स्वर्ण पदक जीते?

- Ans ☒ 1. सर्विसेज़ स्पोर्ट्स कंट्रोल बोर्ड
☐ 2. पंजाब
☐ 3. महाराष्ट्र
☐ 4. हरियाणा

Question ID : 264330176925
Option 1 ID : 264330693895
Option 2 ID : 264330693898
Option 3 ID : 264330693896
Option 4 ID : 264330693897
Status : Marked For Review
Chosen Option : 4

Q.40 उत्तरी गोलार्ध में उत्तर अयनांत (summer solstice), _____ को होती है।

- Ans ☐ 1. 21 अप्रैल
☒ 2. 21 जून
☐ 3. 21 मार्च
☐ 4. 21 मई

Question ID : 264330117625
Option 1 ID : 264330462526
Option 2 ID : 264330462528
Option 3 ID : 264330462525
Option 4 ID : 264330462527
Status : Marked For Review
Chosen Option : 4

Q.41 'कलोल', 'मेहसाणा' और 'नवागाम' तेल क्षेत्र किस राज्य से संबंधित हैं?

- Ans
- ☒ 1. राजस्थान
 - ☒ 2. असम
 - ☒ 3. महाराष्ट्र
 - ☒ 4. गुजरात

Question ID : 264330181230

Option 1 ID : 264330710843

Option 2 ID : 264330710844

Option 3 ID : 264330710845

Option 4 ID : 264330710846

Status : Answered

Chosen Option : 4

Q.42 बेकिंग सोडा का रासायनिक नाम क्या है?

- Ans
- ☒ 1. सोडियम हाइड्रोजन कार्बोनेट (NaHCO_3)
 - ☒ 2. सोडियम साइट्रेट ($\text{Na}_3\text{C}_6\text{H}_5\text{O}_7$)
 - ☒ 3. सोडियम कार्बोनेट (Na_2CO_3)
 - ☒ 4. कैल्शियम हाइड्रोजन बाईकार्बोनेट (CaHCO_3)₂

Question ID : 264330182935

Option 1 ID : 264330717472

Option 2 ID : 264330717475

Option 3 ID : 264330717474

Option 4 ID : 264330717473

Status : Marked For Review

Chosen Option : 3

Q.43 पांचवें खेलो इंडिया यूथ गेम्स की मेजबानी _____ द्वारा की गई थी।

- Ans
- ☒ 1. हरियाणा
 - ☒ 2. मध्य प्रदेश
 - ☒ 3. महाराष्ट्र
 - ☒ 4. पंजाब

Question ID : 264330130635

Option 1 ID : 264330511654

Option 2 ID : 264330511651

Option 3 ID : 264330511652

Option 4 ID : 264330511653

Status : Not Answered

Chosen Option : --

Q.44 विश्व व्यापार संगठन (WTO) का गठन वर्ष 1995 में निम्नलिखित में से किस संस्थान को प्रतिस्थापित करने के लिए किया गया था?

- Ans
- ☒ 1. व्यापार एवं टैरिफ संबंधी सामान्य करार
 - ☒ 2. पुनर्निर्माण एवं विकास औद्योगिक बोर्ड
 - ☒ 3. विश्व बैंक
 - ☒ 4. अंतर्राष्ट्रीय मुद्रा कोष

Question ID : 264330111572

Option 1 ID : 264330438373

Option 2 ID : 264330438376

Option 3 ID : 264330438374

Option 4 ID : 264330438375

Status : Answered

Chosen Option : 1

Q.45 1953 में, निम्न में से किस नृत्यांगना को महारानी एलिजाबेथ (द्वितीय) के राज्याभिषेक उत्सव के लिए प्रदर्शन करने के लिए बुलाया गया था?

- Ans ☒ 1. मृणालिनी साराभाई
☒ 2. कुमारी कमला
☒ 3. शोवना नारायण
☒ 4. सोनल मानसिंह

Question ID : 26433086934

Option 1 ID : 264330341377

Option 2 ID : 264330341379

Option 3 ID : 264330341380

Option 4 ID : 264330341378

Status : Not Answered

Chosen Option : --

Q.46 फैय्याज खान, लताफत हुसैन खान और दिनकर कैकड़ी निम्नलिखित में से किस घराने से प्रसिद्ध व्यक्ति हैं?

- Ans ☒ 1. बनारस
☒ 2. जयपुर
☒ 3. आगरा
☒ 4. पटियाला

Question ID : 264330112678

Option 1 ID : 264330442797

Option 2 ID : 264330442798

Option 3 ID : 264330442799

Option 4 ID : 264330442800

Status : Not Answered

Chosen Option : --

Q.47 निम्नलिखित में से किस हड़प्पा संरचना में पानी के रिसाव को रोकने के लिए डामर की पतली परत लगी थी?

- Ans ☒ 1. अन्न भंडार
☒ 2. बृहत्स्नानागार
☒ 3. सड़कें
☒ 4. जलनिकास

Question ID : 264330113553

Option 1 ID : 264330446300

Option 2 ID : 264330446298

Option 3 ID : 264330446299

Option 4 ID : 264330446297

Status : Not Answered

Chosen Option : --

Q.48 कोपेन जलवायु का कौन-सा अक्षर कूट उष्ण-ग्रीष्म आर्द्र महाद्वीपीय जलवायु की विशेषता का उल्लेख करता है?

- Ans
- ☒ 1. BSh
 - ☒ 2. ETf
 - ☒ 3. Cfc
 - ☒ 4. Dfa

Question ID : 264330141725
Option 1 ID : 264330555222
Option 2 ID : 264330555219
Option 3 ID : 264330555221
Option 4 ID : 264330555220
Status : Not Answered
Chosen Option : --

Q.49 उत्तर प्रदेश के निवासी और कला के क्षेत्र में योगदान देने वाले गुलफाम अहमद सरोद के अलावा कौन सा वाद्य यंत्र बजाते हैं?

- Ans
- ☒ 1. अफगानी धिचक
 - ☒ 2. डोयरा
 - ☒ 3. ज़ीरबघली
 - ☒ 4. अफगानी रबाब

Question ID : 264330110241
Option 1 ID : 264330433244
Option 2 ID : 264330433243
Option 3 ID : 264330433242
Option 4 ID : 264330433241
Status : Not Answered
Chosen Option : --

Q.50 विश्व का सबसे लंबा लिखित संविधान कौन-सा है?

- Ans
- ☒ 1. भारतीय संविधान
 - ☒ 2. फ्रांसीसी संविधान
 - ☒ 3. ब्रिटिश संविधान
 - ☒ 4. यूएस संविधान

Question ID : 264330116384
Option 1 ID : 264330457621
Option 2 ID : 264330457624
Option 3 ID : 264330457622
Option 4 ID : 264330457623
Status : Marked For Review
Chosen Option : 1

Section : Reasoning

Q.1 यदि + का अर्थ \div है, - का अर्थ + है, \times का अर्थ - है और \div का अर्थ \times है, तो निम्नलिखित व्यंजक का मान क्या होगा?

$$20 \div 4 - 27 + 3 \times 12 = ?$$

Ans ☒ 1. 75

☒ 2. 77

☒ 3. 80

☒ 4. 79

Question ID : 26433085649

Option 1 ID : 264330336298

Option 2 ID : 264330336300

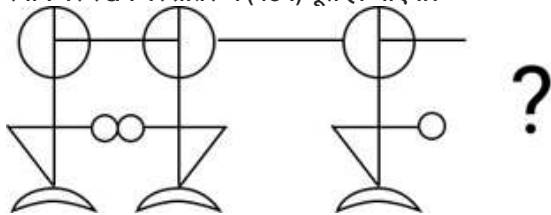
Option 3 ID : 264330336297

Option 4 ID : 264330336299

Status : Answered

Chosen Option : 2

Q.2 दी गई विकल्प आकृतियों में से उस आकृति का चयन करें जिसे नीचे दी गई आकृति में प्रश्न चिह्न (?) के स्थान पर रखने पर प्रतिरूप (पैटर्न) पूरा हो जाएगा।



Ans

☒ 1.

☒ 2.

☒ 3.

☒ 4.

Question ID : 264330111711

Option 1 ID : 264330438930

Option 2 ID : 264330438929

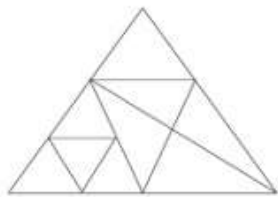
Option 3 ID : 264330438931

Option 4 ID : 264330438932

Status : Answered

Chosen Option : 1

Q.3 दी गई आकृति में कितने त्रिभुज हैं?



- Ans
- ☒ 1. 14
 - ☒ 2. 17
 - ☒ 3. 15
 - ☒ 4. 12

Question ID : 26433080451
Option 1 ID : 264330315753
Option 2 ID : 264330315755
Option 3 ID : 264330315754
Option 4 ID : 264330315752
Status : Answered
Chosen Option : 2

Q.4 उस विकल्प का चयन करें जो तीसरे पद से उसी प्रकार संबंधित है जिस प्रकार दूसरा पद पहले पद से संबंधित है और छठा पद पांचवें पद से संबंधित है।

225 : 15 :: 1225 : ? :: 2025 : 45

- Ans
- ☒ 1. 25
 - ☒ 2. 30
 - ☒ 3. 35
 - ☒ 4. 20

Question ID : 264330102260
Option 1 ID : 264330401506
Option 2 ID : 264330401507
Option 3 ID : 264330401508
Option 4 ID : 264330401505
Status : Answered
Chosen Option : 3

Q.5 यदि श्रृंखला को जारी रखना हो, तो प्रश्न चिह्न (?) के स्थान पर कौन-सी आकृति आनी चाहिए?

S	T	T	O	A	U	U	Z	
D	O	U	R	S	D	T	Z	O
R	A	A	U	R	D	D	O	

Ans

✓ 1.

D	O
U	B
R	T

✗ 2.

D	U
T	R
O	Z

✗ 3.

D	O
T	B
U	Z

✗ 4.

D	T
U	B
R	Z

Question ID : 264330130815

Option 1 ID : 264330512373

Option 2 ID : 264330512371

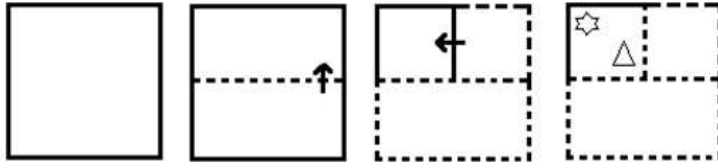
Option 3 ID : 264330512374

Option 4 ID : 264330512372

Status : Not Answered

Chosen Option : --

Q.6 निम्नलिखित आकृतियों में कागज के एक टुकड़े को मोड़ने का क्रम और मुड़े हुए कागज को काटने का तरीका दर्शाया गया है। कागज की तह खुलने पर यह कैसा दिखाई देगा?



Ans

- ✗ 1.
- ✓ 2.
- ✗ 3.
- ✗ 4.

Question ID : 26433074796

Option 1 ID : 264330293272

Option 2 ID : 264330293273

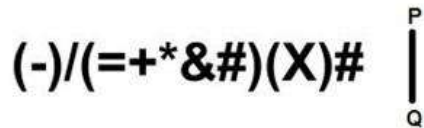
Option 3 ID : 264330293274

Option 4 ID : 264330293275

Status : Answered

Chosen Option : 2

Q.7 जब दर्पण को रेखा PQ पर रखा जाता है, तो दी गई आकृति का सही दर्पण प्रतिबिम्ब ज्ञात कीजिए।



Ans

- ✗ 1. #)X)(#&#*+=)\(-)
- ✗ 2. #(X)(#&#+*+=)\(-)
- ✓ 3. #(X)(#&#*+=)\(-)
- ✗ 4. #(X()#&#*+=)\(-)

Question ID : 26433082025
 Option 1 ID : 264330321934
 Option 2 ID : 264330321936
 Option 3 ID : 264330321935
 Option 4 ID : 264330321933

Status : Answered

Chosen Option : 3

Q.8 यदि दर्पण को नीचे दिखाए गए अनुसार MN पर रखा जाए, तो दी गई आकृति के सही दर्पण प्रतिबिम्ब का चयन कीजिए।



Ans

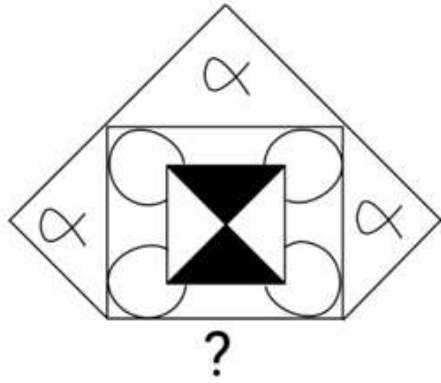
- ✗ 1. 7 4 d a R
- ✗ 2. 7 4 q a R
- ✗ 3. R a b 4 7
- ✓ 4. 7 4 q a R

Question ID : 264330166659
 Option 1 ID : 264330653678
 Option 2 ID : 264330653676
 Option 3 ID : 264330653677
 Option 4 ID : 264330653675

Status : Answered


Chosen Option : 4

Q.9 दिए गए विकल्पों में से उस आकृति का चयन करें जो पैटर्न पूरा करने के लिए नीचे दी गई आकृति में प्रश्न चिह्न (?) के स्थान पर आएगी।

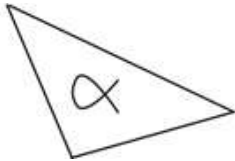


Ans

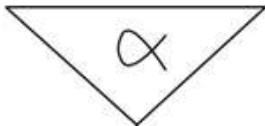
☒ 1.



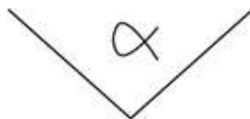
☒ 2.



☒ 3.



☒ 4.



Question ID : 264330116611

Option 1 ID : 264330458530

Option 2 ID : 264330458532

Option 3 ID : 264330458531

Option 4 ID : 264330458529

Status : Answered

Chosen Option : 4

Q.10 दिए गए समीकरण में * चिह्नों को क्रमिक रूप से बदलने और समीकरण को संतुलित करने के लिए निम्नलिखित विकल्पों में से गणितीय चिह्नों के सही संयोजन का चयन कीजिए।
 $87 * 2 * 80 * 4 * 150 * 4$

Ans ☒ 1. $\times - \div = +$

☒ 2. $\times - \div + =$

☒ 3. $\times - = + \div$

☒ 4. $\div \times - = +$

Question ID : 26433085724

Option 1 ID : 264330336599

Option 2 ID : 264330336597

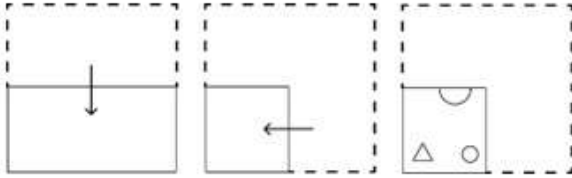
Option 3 ID : 264330336600

Option 4 ID : 264330336598

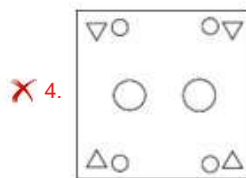
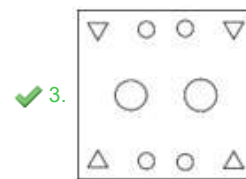
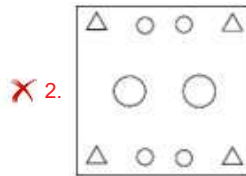
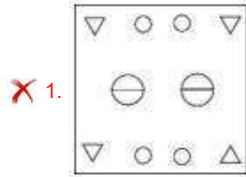
Status : Answered

Chosen Option : 1

Q.11 एक कागज को नीचे दिखाए अनुसार मोड़ा और काटा जाता है। खोलने पर यह कैसा दिखाई देगा?



Ans



Question ID : 264330114701

Option 1 ID : 264330450890

Option 2 ID : 264330450892

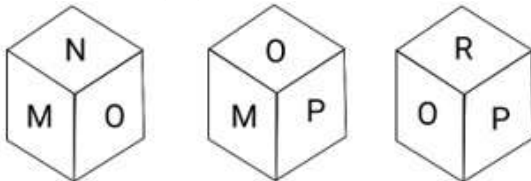
Option 3 ID : 264330450891

Option 4 ID : 264330450889

Status : Answered

Chosen Option : 3

Q.12 एक पासे के अलग-अलग फलकों पर छह अक्षर M, N, O, P, Q और R लिखे गए हैं। इस पासे की तीन स्थितियां यहां दर्शाई गई हैं। O अक्षर वाले फलक के विपरीत फलक पर कौन-सा अक्षर होगा?



Ans

✗ 1. P

✗ 2. R

✓ 3. Q

✗ 4. N

Question ID : 264330106404

Option 1 ID : 264330417918

Option 2 ID : 264330417920

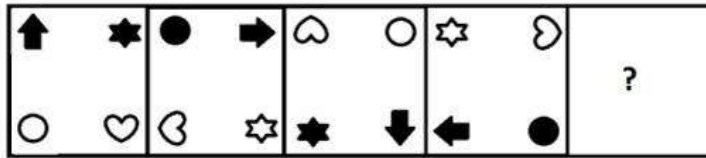
Option 3 ID : 264330417919

Option 4 ID : 264330417917

Status : Not Answered


Chosen Option : --

Q.13 दिए गए विकल्पों में से उस आकृति का चयन करें, जो निम्नलिखित शृंखला में प्रश्न-चिह्न (?) का स्थान ले सकती है।



Ans


✓ 1.



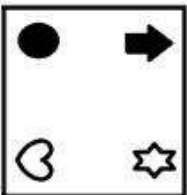
✗ 2.



✗ 3.



✗ 4.



Question ID : 26433096025

Option 1 ID : 264330376870

Option 2 ID : 264330376869

Option 3 ID : 264330376871

Option 4 ID : 264330376872

Status : Answered

Chosen Option : 1

Q.14 उस समुच्चय का चयन कीजिए जिसमें संख्याएँ उसी प्रकार संबंधित हैं जिस प्रकार निम्नलिखित समुच्चयों की संख्याएँ एक-दूसरे से संबंधित हैं।
(नोट: संख्याओं को उसके घटक अंकों में विभाजित किए बिना, पूर्ण संख्याओं पर संक्रिया की जानी चाहिए। उदाहरण के लिए 13 - संक्रिया जैसे कि जोड़ना/घटाना/गुणा करना आदि को 13 पर किया जा सकता है। 13 को 1 और 3 में तोड़कर और फिर 1 और 3 पर गणितीय संक्रियाएँ करने की अनुमति नहीं है)
(4, 9, 95)
(6, 10, 134)

- Ans ☒ 1. (5, 8, 86)
☒ 2. (7, 10, 174)
☒ 3. (9, 12, 232)
☒ 4. (8, 11, 183)

Question ID : 26433052098

Option 1 ID : 264330203694

Option 2 ID : 264330203695

Option 3 ID : 264330203697

Option 4 ID : 264330203696

Status : Not Answered

Chosen Option : --

Q.15 उस विकल्प का चयन कीजिए जो पांचवें अक्षर समूह से उसी तरह संबंधित है जिस तरह दूसरा अक्षर समूह पहले अक्षर समूह से संबंधित है और चौथा अक्षर समूह तीसरे अक्षर समूह से संबंधित है।
JFBW : FMXD :: KDZI : GKVP :: PRDY : ?

- Ans ☒ 1. LYZF
☒ 2. LAPD
☒ 3. NRHX
☒ 4. GRUE

Question ID : 26433074694

Option 1 ID : 264330292867

Option 2 ID : 264330292865

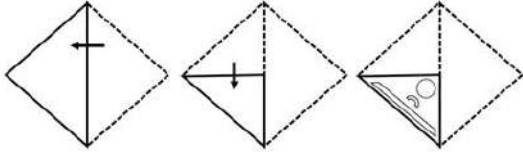
Option 3 ID : 264330292864

Option 4 ID : 264330292866

Status : Not Answered

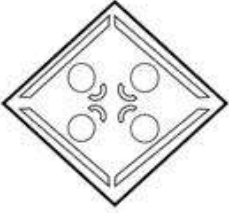
Chosen Option : --

Q.16 एक कागज को नीचे दर्शाए गए अनुसार मोड़ा और काटा जाता है। खोलने के बाद यह कैसा दिखाई देगा?



Ans

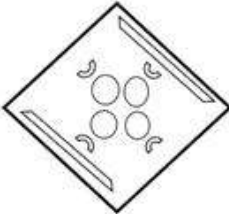
✗ 1.



✓ 2.



✗ 3.



✗ 4.



Question ID : 26433076501

Option 1 ID : 264330300068

Option 2 ID : 264330300071

Option 3 ID : 264330300069

Option 4 ID : 264330300070

Status : Marked For Review

Chosen Option : 2

Q.17 छह विद्यार्थी एक गोल मेज के परितः केंद्र की ओर अभिमुख होकर बैठे हैं। दुर्गा और धीरज दोनों की निकटतम पड़ोसी द्विती है। दिलीप, द्विती के दाएं से दूसरे स्थान पर बैठा है। देव, धीरज के बाएं से तीसरे स्थान पर बैठा है। दक्ष और धीरज दोनों का निकटतम पड़ोसी दिलीप है। दक्ष और दुर्गा दोनों का निकटतम पड़ोसी कौन है?

Ans

✗ 1. धीरज

✓ 2. देव

✗ 3. दिलीप

✗ 4. द्विती

Question ID : 264330110709

Option 1 ID : 264330435116

Option 2 ID : 264330435115

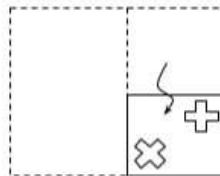
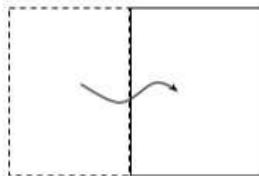
Option 3 ID : 264330435114

Option 4 ID : 264330435113

Status : Answered

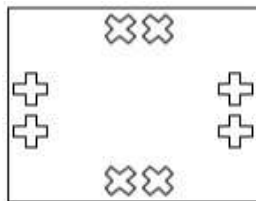
Chosen Option : 2

Q.18 एक कागज को नीचे दिखाए अनुसार मोड़ा और काटा गया है। कागज को खोलने पर यह कैसा दिखाई देगा?

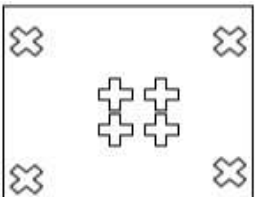


Ans

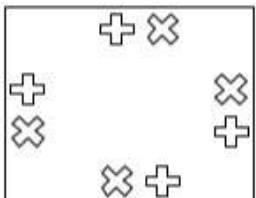
✓ 1.



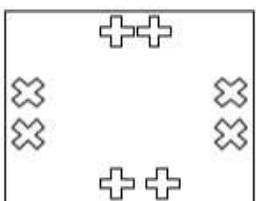
✗ 2.



✗ 3.



✗ 4.



Question ID : 264330118712

Option 1 ID : 264330466099

Option 2 ID : 264330466102

Option 3 ID : 264330466101

Option 4 ID : 264330466100

Status : Answered

Chosen Option : 1

Q.19 दिए गए विकल्पों में से उस संख्या का चयन करें जो निम्नलिखित श्रृंखला में प्रश्न चिह्न (?) के स्थान पर आ सकती है।

1, ?, 42, 78, 127, 191

Ans ✗ 1. 15

✓ 2. 17

✗ 3. 16

✗ 4. 21

Question ID : 264330111624

Option 1 ID : 264330438582

Option 2 ID : 264330438583

Option 3 ID : 264330438581

Option 4 ID : 264330438584

Status : Answered

Chosen Option : 2

Q.20 वह विकल्प चुनिए, जो ऐसे अक्षरों का प्रतिनिधित्व करता हो, जिन्हें नीचे के रिक्त स्थानों में क्रमानुसार बाएँ से दाएँ रखने पर ही अक्षर-श्रृंखला पूरी होगी।
T__ES_YR_STY_E_TY__S

Ans ☒ 1. YRTERSRE

☐ 2. YRETRSRE

☐ 3. YETERESE

☐ 4. YTRERSRE

Question ID : 26433092537

Option 1 ID : 264330363438

Option 2 ID : 264330363440

Option 3 ID : 264330363437

Option 4 ID : 264330363439

Status : Answered

Chosen Option : 1

Q.21 एक निश्चित कूट भाषा में, 'LAND' को 'BLYJ' के रूप में लिखा जाता है और 'BIRD' को 'BPGZ' के रूप में लिखा जाता है। उसी भाषा में 'WAIT' को कैसे लिखा जाएगा?

Ans ☐ 1. RGUY

☐ 2. UYGR

☒ 3. RGYU

☐ 4. YURG

Question ID : 26433087169

Option 1 ID : 264330342316

Option 2 ID : 264330342314

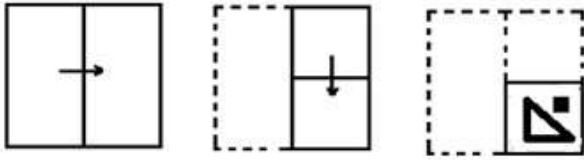
Option 3 ID : 264330342313

Option 4 ID : 264330342315

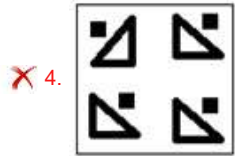
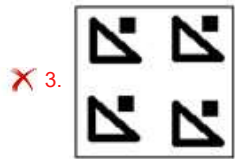
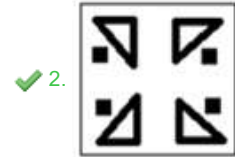
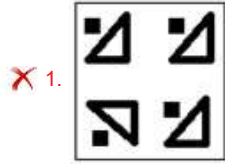
Status : Not Answered

Chosen Option : --

Q.22 एक कागज को नीचे दिखाए गए तरीके से मोड़ा और काटा जाता है। खोले जाने पर यह कैसा दिखाई देगा?



Ans



Question ID : 264330117428

Option 1 ID : 264330461755

Option 2 ID : 264330461756

Option 3 ID : 264330461753

Option 4 ID : 264330461754

Status : Answered

Chosen Option : 2

Q.24 दो कथनों के बाद दो निष्कर्ष I और II दिए गए हैं। कथनों को सत्य मानते हुए, भले ही वे सामान्य रूप से ज्ञात तथ्यों से भिन्न प्रतीत होते हों, निर्णय करें कि कौन-सा/से निष्कर्ष कथनों का तार्किक रूप से अनुसरण करता है/करते हैं?

कथन:

सभी पेड़ साग हैं।

कुछ पेड़ शंकुवृक्ष हैं।

निष्कर्ष:

I. सभी शंकुवृक्ष साग हैं।

II. कुछ साग पेड़ हैं।

Ans  1. निष्कर्ष I और II दोनों में से कोई अनुसरण नहीं करता है।

 2. केवल निष्कर्ष II अनुसरण करता है।

 3. निष्कर्ष I और II दोनों अनुसरण करते हैं।

 4. केवल निष्कर्ष I अनुसरण करता है।

Question ID : 26433081681

Option 1 ID : 264330320560

Option 2 ID : 264330320558

Option 3 ID : 264330320559

Option 4 ID : 264330320557

Status : Marked For Review

Chosen Option : 2

Q.25 निम्नलिखित में से कौन-सी विकल्प आकृति नीचे दी गई आकृति के स्वरूप

(पैटर्न) को पूरा करेगी?



Ans

✗ 1.



✗ 2.



✗ 3.



✓ 4.



Question ID : 26433080601

Option 1 ID : 264330316338

Option 2 ID : 264330316339

Option 3 ID : 264330316337

Option 4 ID : 264330316340

Status : Answered

Chosen Option : 4

Q.1 XYZ विश्वविद्यालय में केवल दो छात्रावास - छात्रावास P और छात्रावास Q हैं, जिनमें वर्ष 2021 में बराबर संख्या में छात्र रह रहे थे। XYZ विश्वविद्यालय के दोनों छात्रावास में रहने वाले छात्रों की कुल संख्या 2021 से 2022 में 33% गिरकर 8,375 हो गई। 2021 में छात्रावास P में कितने छात्र रह रहे थे?

- Ans
- ☐ 1. 5,612
 - ☐ 2. 5,750
 - ☐ 3. 12,500
 - ☒ 4. 6,250

Question ID : 264330112209

Option 1 ID : 264330440922

Option 2 ID : 264330440921

Option 3 ID : 264330440923

Option 4 ID : 264330440924

Status : Marked For Review

Chosen Option : 4

Q.2 यदि एक अर्धगोले का व्यास 8 cm है, तो अर्धगोले का आयतन (cm^3 में) कितना होगा?

- Ans
- ☒ 1. $42\frac{2}{3}\pi$
 - ☐ 2. $48\frac{1}{3}\pi$
 - ☐ 3. $41\frac{2}{3}\pi$
 - ☐ 4. $46\frac{1}{3}\pi$

Question ID : 264330119367

Option 1 ID : 264330467756

Option 2 ID : 264330467757

Option 3 ID : 264330467755

Option 4 ID : 264330467758

Status : Not Answered

Chosen Option : --

Q.3 A, B से दोगुनी गति से काम करता है। यदि दोनों मिलकर किसी काम को 12 दिनों में पूरा कर सकते हैं, तो B अकेला उस काम को कितने दिनों में पूरा कर सकता है?

- Ans
- ☐ 1. 32 दिन
 - ☐ 2. 34 दिन
 - ☐ 3. 38 दिन
 - ☒ 4. 36 दिन

Question ID : 264330104210

Option 1 ID : 264330409141

Option 2 ID : 264330409142

Option 3 ID : 264330409144

Option 4 ID : 264330409143

Status : Not Answered

Chosen Option : --

Q.4 एक वस्तु के अंकित मूल्य पर 20% की छूट देने के बाद उसे ₹500 में बेचा जाता है। इसका अंकित मूल्य ज्ञात कीजिए।

- Ans
- ☒ 1. ₹550
 - ☒ 2. ₹520
 - ☒ 3. ₹625
 - ☒ 4. ₹525

Question ID : 264330183851
Option 1 ID : 264330721080
Option 2 ID : 264330721081
Option 3 ID : 264330721082
Option 4 ID : 264330721083
Status : Answered
Chosen Option : 3

Q.5 एक धनराशि उधार ली गई और प्रत्येक ₹960 की दो वार्षिक किस्तों में 5% चक्रवृद्धि ब्याज के साथ इसकी चुकौती की गई। उधार ली गई धनराशि की गणना करें।

- Ans
- ☒ 1. ₹1,875.03
 - ☒ 2. ₹1,850.05
 - ☒ 3. ₹1,785.03
 - ☒ 4. ₹1,695.05

Question ID : 264330104526
Option 1 ID : 264330410406
Option 2 ID : 264330410405
Option 3 ID : 264330410407
Option 4 ID : 264330410408
Status : Not Answered
Chosen Option : --

Q.6 एक त्रिभुज की भुजा 17 cm है और इस भुजा से त्रिभुज की ऊँचाई 10 cm है। त्रिभुज का क्षेत्रफल ज्ञात कीजिए।

- Ans
- ☒ 1. 90 cm^2
 - ☒ 2. 85 cm^2
 - ☒ 3. 75 cm^2
 - ☒ 4. 95 cm^2

Question ID : 264330130969
Option 1 ID : 264330512988
Option 2 ID : 264330512987
Option 3 ID : 264330512989
Option 4 ID : 264330512990
Status : Answered
Chosen Option : 2

Q.7 एक छात्र 20 km/h की चाल से स्कूल जाता है और 6 मिनट देरी से पहुंचता है। यदि वह 30 km/h की चाल से जाता है, तो वह 6 मिनट पहले पहुंच जाता है। स्कूल की दूरी कितनी है?

- Ans ☒ 1. 18 km
☒ 2. 16 km
☒ 3. 17 km
☒ 4. 12 km

Question ID : 264330104530
Option 1 ID : 264330410421
Option 2 ID : 264330410422
Option 3 ID : 264330410424
Option 4 ID : 264330410423
Status : Not Answered
Chosen Option : --

Q.8 A, B और C की आय का अनुपात 3 : 5 : 4 है। यदि A की आय तीन गुना कर दी जाए, C की आय दोगुनी कर दी जाए और B की आय को समान रखा जाए, तो उनकी नई आय का अनुपात क्या होगा?

- Ans ☒ 1. 5 : 8 : 9
☒ 2. 9 : 5 : 8
☒ 3. 8 : 5 : 9
☒ 4. 9 : 8 : 5

Question ID : 264330112095
Option 1 ID : 264330440467
Option 2 ID : 264330440465
Option 3 ID : 264330440468
Option 4 ID : 264330440466
Status : Answered
Chosen Option : 2

Q.9 यदि 5 क्रमागत संख्याओं का औसत 24 है, तो सबसे छोटी संख्या क्या है?

- Ans ☒ 1. 22
☒ 2. 20
☒ 3. 23
☒ 4. 21

Question ID : 264330129387
Option 1 ID : 264330506916
Option 2 ID : 264330506914
Option 3 ID : 264330506917
Option 4 ID : 264330506915
Status : Answered
Chosen Option : 1

Q.10 0.325 और 1.0302 के गुणनफल में दशमलव बिंदु के बाद कितने अंक आएंगे?

- Ans ☒ 1. 6
☒ 2. 7
☒ 3. 8
☒ 4. 5

Question ID : 264330109327
Option 1 ID : 264330429586
Option 2 ID : 264330429587
Option 3 ID : 264330429588
Option 4 ID : 264330429585
Status : Marked For Review
Chosen Option : 2

Q.11 राम ने $7\frac{1}{2}\%$ के लाभ पर एक कुर्सी बेची। यदि उसने इसे ₹1,430 अधिक में बेचा होता, तो उसे 35% का लाभ होता। कुर्सी का क्रय मूल्य क्या है?

- Ans
- ☐ 1. ₹4,800
 - ☐ 2. ₹4,000
 - ☒ 3. ₹5,200
 - ☐ 4. ₹5,000

Question ID : 264330118126
Option 1 ID : 264330464320
Option 2 ID : 264330464319
Option 3 ID : 264330464322
Option 4 ID : 264330464321
Status : Not Answered
Chosen Option : --

Q.12 फरीदा को सामाजिक क्षेत्र में नौकरी में स्थानांतरित कर दिया गया, जहाँ उसका मासिक वेतन उसकी पिछली नौकरी में मिलने वाले मासिक वेतन से 28% कम था। यदि सामाजिक क्षेत्र में नौकरी में फरीदा का मासिक वेतन ₹27,000 है, तो पिछली नौकरी में उसका मासिक वेतन (₹ में) कितना था?

- Ans
- ☐ 1. 38500
 - ☐ 2. 38250
 - ☐ 3. 36000
 - ☒ 4. 37500

Question ID : 264330103243
Option 1 ID : 264330405278
Option 2 ID : 264330405277
Option 3 ID : 264330405279
Option 4 ID : 264330405280
Status : Answered
Chosen Option : 4

Q.13 $\frac{1}{3}, \frac{2}{3}, \frac{2}{9}$ और $\frac{3}{12}$ का म.स.प. कितना है?

- Ans
- ☐ 1. $\frac{1}{60}$
 - ☐ 2. $\frac{1}{48}$
 - ☒ 3. $\frac{1}{36}$
 - ☐ 4. $\frac{1}{12}$

Question ID : 264330106058
Option 1 ID : 264330416535
Option 2 ID : 264330416534
Option 3 ID : 264330416536
Option 4 ID : 264330416533
Status : Answered
Chosen Option : 3

Q.14 ₹1,800 पर अलग-अलग दरों पर 3 वर्ष के साधारण ब्याज के बीच का अंतर ₹40 है। ब्याज दरों के बीच अंतर की गणना करें।

- Ans
- ✓ 1. $\frac{20}{27}\%$
 - ✗ 2. $\frac{13}{27}\%$
 - ✗ 3. $\frac{23}{27}\%$
 - ✗ 4. $\frac{11}{27}\%$

Question ID : 264330119342

Option 1 ID : 264330467657

Option 2 ID : 264330467656

Option 3 ID : 264330467655

Option 4 ID : 264330467658

Status : Not Answered

Chosen Option : --

Q.15 9, 8.1, 0.27, 0.09 का एल.सी.एम. (LCM) ज्ञात करें।

- Ans
- ✗ 1. 810
 - ✗ 2. 801
 - ✗ 3. 8100
 - ✓ 4. 81

Question ID : 264330104335

Option 1 ID : 264330409643

Option 2 ID : 264330409642

Option 3 ID : 264330409644

Option 4 ID : 264330409641

Status : Not Answered

Chosen Option : --

Section : Computer Proficiency

Q.1 एमएस एक्सेल 365 (MS Excel 365) में, एमएस एक्सेल 365 के रिबन के होम टैब पर स्थित निम्नलिखित में से कौन-से समूह में इन्सर्ट और डिलीट कमांड मौजूद होते हैं?

- Ans
- ✗ 1. फ्रॉन्ट
 - ✗ 2. एलाइनमेंट
 - ✗ 3. एडिटिंग
 - ✓ 4. सेल्स

Question ID : 264330175965

Option 1 ID : 264330690155

Option 2 ID : 264330690156

Option 3 ID : 264330690157

Option 4 ID : 264330690158

Status : Not Answered

Chosen Option : --

Q.2 एमएस वर्ड 365 (MS Word 365) में, किसी वर्ड डॉक्यूमेंट को खोलने के लिए निम्नलिखित में से किस मेनू का उपयोग किया जाता है?

- Ans ☒ 1. स्टार्ट (Start)
- ☐ 2. मोज़िला (Mozilla)
- ☐ 3. कंट्रोल पैनल (Control panel)
- ☐ 4. पॉवर (Power)

Question ID : 264330180448

Option 1 ID : 264330707759

Option 2 ID : 264330707761

Option 3 ID : 264330707762

Option 4 ID : 264330707760

Status : Answered

Chosen Option : 1

Q.3 जब आप किसी ईमेल का 'उत्तर (रिप्लाई)' देते हैं, तो इसका क्या मतलब है?

- Ans ☐ 1. आप वही ईमेल मूल प्रेषक को वापस भेज रहे हैं।
- ☒ 2. आप उसी प्राप्तकर्ता को एक नया ईमेल भेज रहे हैं।
- ☐ 3. आप ईमेल डिलीट कर रहे हैं।
- ☐ 4. आप किसी दूसरे प्राप्तकर्ता को ईमेल भेज रहे हैं।

Question ID : 264330182465

Option 1 ID : 264330715652

Option 2 ID : 264330715651

Option 3 ID : 264330715654

Option 4 ID : 264330715653

Status : Marked For Review

Chosen Option : 2

Q.4 यदि हम एमएस वर्ड 365 (MS Word 365) में किसी टेबल को डिलीट करना चाहते हैं, तो निम्नलिखित में से किस टैब का उपयोग किया जाता है?

- Ans ☐ 1. इन्सर्ट टैब (Insert tab)
- ☒ 2. लेआउट टैब (Layout tab)
- ☐ 3. एडिट टैब (Edit tab)
- ☐ 4. फाइल टैब (File tab)

Question ID : 264330180423

Option 1 ID : 264330707659

Option 2 ID : 264330707662

Option 3 ID : 264330707660

Option 4 ID : 264330707661

Status : Marked For Review

Chosen Option : 1

Q.5 एमएस एक्सेल 365 (MS Excel 365) में, एमएस एक्सेल (MS Excel) में मैनुअल रूप से पंक्ति (row) की ऊंचाई को ऑटो फिट करने के लिए निम्नलिखित में से किस की-बोर्ड शॉर्टकट का उपयोग किया जाता है?

- Ans
- ☐ 1. Alt + O + C + W
 - ☐ 2. Alt + H + O + A
 - ☐ 3. Alt + O + C + N
 - ☒ 4. Alt + H + O + H

Question ID : 264330181071

Option 1 ID : 264330710229

Option 2 ID : 264330710228

Option 3 ID : 264330710230

Option 4 ID : 264330710227

Status : Not Answered

Chosen Option : --

Q.6 माइक्रोसॉफ्ट वर्ड 365 (Microsoft Word 365) में, ऑटोकॉरेक्ट (AutoCorrect) फीचर का उपयोग _____ के लिए किया जाता है।

- Ans
- ☐ 1. छोटे पुनरावर्ती टेक्स्ट
 - ☒ 2. गलत वर्तनी वाले टेक्स्ट
 - ☐ 3. आउटसाइड मार्जिन टेक्स्ट
 - ☐ 4. फॉर्मूला

Question ID : 264330182071

Option 1 ID : 264330714123

Option 2 ID : 264330714126

Option 3 ID : 264330714124

Option 4 ID : 264330714125

Status : Answered

Chosen Option : 2

Q.7 एमएस एक्सेल 365 (MS Excel 365) में, एमएस-एक्सेल (MS-Excel) की मौजूदा स्प्रेडशीट खोलने के लिए निम्नलिखित में से कौन-सी शॉर्टकट कुंजी (shortcut key) सही है?

- Ans
- ☐ 1. कंट्रोल (Ctrl) + N दबाएँ
 - ☐ 2. अल्टरनेट (Alt) + O दबाएँ
 - ☒ 3. कंट्रोल (Ctrl) + O दबाएँ
 - ☐ 4. अल्टरनेट (Alt) + N दबाएँ

Question ID : 264330176682

Option 1 ID : 264330692943

Option 2 ID : 264330692945

Option 3 ID : 264330692946

Option 4 ID : 264330692944

Status : Not Answered

Chosen Option : --

Q.8 एमएस वर्ड 365 (MS Word 365) में, कौन-सा टेक्स्ट अलाइनमेंट विकल्प आमतौर पर कानूनी दस्तावेजों के लिए उपयोग किया जाता है, क्योंकि यह टेक्स्ट को बाएं और दाएं दोनों हाशिये पर अलाइन करता है, जिससे दाईं ओर एक दंतुरित किनारा (jagged edge) रह जाता है?

- Ans
- ☒ 1. लेफ्ट अलाइन (Left Align)
 - ☒ 2. जस्टीफाई (Justify)
 - ☒ 3. राइट अलाइन (Right Align)
 - ☒ 4. सेंटर अलाइन (Center Align)

Question ID : 264330178091

Option 1 ID : 264330698427

Option 2 ID : 264330698430

Option 3 ID : 264330698428

Option 4 ID : 264330698429

Status : Answered

Chosen Option : 4

Q.9 कौन-सा प्रोटोकॉल उपयोगकर्ताओं को इंटरनेट पर वास्तविक समय में (real-time) वॉइस और वीडियो कॉल करने की सुविधा देता है?

- Ans
- ☒ 1. DNS
 - ☒ 2. ई-मेल
 - ☒ 3. FTP
 - ☒ 4. VoIP

Question ID : 264330174469

Option 1 ID : 264330684298

Option 2 ID : 264330684295

Option 3 ID : 264330684296

Option 4 ID : 264330684297

Status : Marked For Review

Chosen Option : 1

Q.10 एमएस वर्ड 365 (MS Word 365) में टेक्स्ट को सेंटर-अलाइन करने के लिए निम्नलिखित में से किस शॉर्टकट कुंजी (shortcut keys) का उपयोग किया जाता है?

- Ans
- ☒ 1. Ctrl + E
 - ☒ 2. Ctrl + C
 - ☒ 3. Ctrl + R
 - ☒ 4. Ctrl + J

Question ID : 264330173593

Option 1 ID : 264330680851

Option 2 ID : 264330680852

Option 3 ID : 264330680853

Option 4 ID : 264330680854

Status : Answered

Chosen Option : 2