

Constable Executive Male and Female in Delhi Police Examination 2023

Roll Number	
Candidate Name	
Venue Name	ION Digital Zone iDZ 2 Bhauti
Exam Date	30/11/2023
Exam Time	12:00 PM - 1:30 PM
Subject	Constable Executive Male and Female in Delhi Police Examination 2023

Section : General Knowledge

Q.1 फिल्म आरआरआर (RRR) को हाल ही में ट्रैक 'नाटू नाटू' के लिए सर्वश्रेष्ठ मूल गीत के लिए प्रतिष्ठित गोल्डन ग्लोब पुरस्कार से सम्मानित किया गया है। इस गाने के गायक कौन हैं?

- Ans ☒ 1. राहुल सिल्लीगंज और कालभैरव
☐ 2. शंकर महादेवन और राजेश कृष्णन
☐ 3. सिलम्बरासन टी.आर., विनीत श्रीनिवासन
☐ 4. के.जे. येसुदास और अनिरुद्ध रविचंद्रर

Question ID : 264330130892
Option 1 ID : 264330512681
Option 2 ID : 264330512680
Option 3 ID : 264330512679
Option 4 ID : 264330512682
Status : Answered
Chosen Option : 1

Q.2 भारतीय संविधान के निम्नलिखित में से किस संवैधानिक संशोधन अधिनियम ने एक ही व्यक्ति को दो या दो से अधिक राज्यों के राज्यपाल के रूप में नियुक्त करने की सुविधा प्रदान की?

- Ans ☐ 1. 10वाँ
☐ 2. 5वाँ
☐ 3. 8वाँ
☒ 4. 7वाँ

Question ID : 264330120185
Option 1 ID : 264330470998
Option 2 ID : 264330470995
Option 3 ID : 264330470997
Option 4 ID : 264330470996
Status : Answered
Chosen Option : 4

Q.3 मोहनजोदड़ो नगर नियोजन में निम्नलिखित में से किस प्रकार के पैटर्न का पालन किया गया था?

- Ans ☐ 1. आयताकार
☐ 2. बेलनाकार
☒ 3. जाल
☐ 4. वृत्तीय

Question ID : 264330106231
Option 1 ID : 264330417228
Option 2 ID : 264330417226
Option 3 ID : 264330417225
Option 4 ID : 264330417227
Status : Answered
Chosen Option : 1

Q.4 भारत का 'नेशनल फूड फॉर वर्क प्रोग्राम' किस वर्ष शुरू किया गया था?

- Ans
- ☒ 1. 2002 में
 - ☒ 2. 2000 में
 - ☒ 3. 2003 में
 - ☒ 4. 2004 में

Question ID : 264330130598

Option 1 ID : 264330511504

Option 2 ID : 264330511503

Option 3 ID : 264330511505

Option 4 ID : 264330511506

Status : Not Answered

Chosen Option : --

Q.5 1856 में मिर्जा वाजिद अली शाह किस राज्य के राजा थे, जब इसे व्यपगत के सिद्धांत (डॉक्टराइन ऑफ लैप्स नीति) के तहत भारत में ब्रिटिश साम्राज्य में मिला लिया गया था?

- Ans
- ☒ 1. झांसी
 - ☒ 2. सतारा
 - ☒ 3. अवध
 - ☒ 4. नागपुर

Question ID : 264330113574

Option 1 ID : 264330446382

Option 2 ID : 264330446381

Option 3 ID : 264330446384

Option 4 ID : 264330446383

Status : Answered

Chosen Option : 3

Q.6 भारत के संविधान के निम्नलिखित में से किस भाग को 'भारतीय संविधान की अंतःरात्मा' के रूप में संदर्भित किया गया है?

- Ans
- ☒ 1. मौलिक कर्तव्य
 - ☒ 2. नागरिकता
 - ☒ 3. मौलिक अधिकार
 - ☒ 4. केंद्र-राज्य संबंध

Question ID : 264330133042

Option 1 ID : 264330521220

Option 2 ID : 264330521221

Option 3 ID : 264330521219

Option 4 ID : 264330521222

Status : Answered

Chosen Option : 3

Q.7 उदारीकरण, _____ सुधारों का एक हिस्सा है।

- Ans
- ☒ 1. भूमि
 - ☒ 2. आर्थिक
 - ☒ 3. सामाजिक
 - ☒ 4. राजनीतिक

Question ID : 264330110192

Option 1 ID : 264330433046

Option 2 ID : 264330433047

Option 3 ID : 264330433045

Option 4 ID : 264330433048

Status : Answered

Chosen Option : 2

Q.8 स्टैच्यू ऑफ यूनिटी निम्न में से किस नदी के तट पर स्थित है?

- Ans ☒ 1. नर्मदा
☒ 2. कृष्णा
☒ 3. गंगा
☒ 4. यमुना

Question ID : 264330109321

Option 1 ID : 264330429563

Option 2 ID : 264330429561

Option 3 ID : 264330429564

Option 4 ID : 264330429562

Status : Answered

Chosen Option : 1

Q.9 निम्नलिखित में से कौन-सा कथन भारत के महान्यायवादी के संबंध में सही है?

- Ans ☒ 1. वह विश्वास प्रस्ताव और अविश्वास प्रस्ताव पारित होने के दौरान लोकसभा में मतदान कर सकता/सकती है।
☒ 2. वह संसद के सत्रों में भाग ले सकता/सकती है।
☒ 3. वह संसद की संयुक्त बैठक में भाग नहीं ले सकता/सकती।
☒ 4. उसे संसद के सदस्यों की तुलना में कोई छूट या विशेषाधिकार प्राप्त नहीं होता है।

Question ID : 264330177749

Option 1 ID : 264330697104

Option 2 ID : 264330697103

Option 3 ID : 264330697105

Option 4 ID : 264330697106

Status : Answered

Chosen Option : 2

Q.10 प्राथमिक स्वास्थ्य, प्राथमिक शिक्षा, ग्रामीण आश्रय आदि जैसी मूलभूत सेवाओं के लिए राज्यों को दी जाने वाली अतिरिक्त केंद्रीय सहायता के लिए 2000 में कौन-सी योजना शुरू की गई थी?

- Ans ☒ 1. प्रधानमंत्री रोजगार योजना
☒ 2. स्वर्णजयंती ग्राम स्वरोजगार योजना
☒ 3. ग्रामीण रोजगार सृजन कार्यक्रम
☒ 4. प्रधानमंत्री ग्रामोदय योजना

Question ID : 26433082172

Option 1 ID : 264330322523

Option 2 ID : 264330322522

Option 3 ID : 264330322521

Option 4 ID : 264330322524

Status : Not Answered

Chosen Option : --

Q.11 निम्नलिखित गुप्त सम्राटों में से किसने विक्रमादित्य की उपाधि धारण की थी?

- Ans ☒ 1. स्कन्दगुप्त
☒ 2. चन्द्रगुप्त प्रथम
☒ 3. बुधगुप्त
☒ 4. चंद्रगुप्त द्वितीय

Question ID : 264330182693

Option 1 ID : 264330716543

Option 2 ID : 264330716545

Option 3 ID : 264330716544

Option 4 ID : 264330716546

Status : Answered

Chosen Option : 4

Q.12 पद्म भूषण और संगीत नाटक अकादमी पुरस्कार विजेता रुक्मिणी देवी अरुंडेल _____ की प्रसिद्ध नृत्यांगना थीं।

Ans ☒ 1. भरतनाट्यम

☐ 2. कथक

☐ 3. सत्रिया

☐ 4. कथकली

Question ID : 264330111984

Option 1 ID : 264330440022

Option 2 ID : 264330440023

Option 3 ID : 264330440021

Option 4 ID : 264330440024

Status : Answered

Chosen Option : 1

Q.13 घाटी के विपरीत किनारों पर समतल होने वाली वेदिकाओं को, _____ वेदिकाओं के रूप में संदर्भित किया जाता है।

Ans ☐ 1. सममित

☐ 2. क्षेत्रिज

☐ 3. त्रिभुजीय

☒ 4. युग्मित

Question ID : 264330131744

Option 1 ID : 264330516076

Option 2 ID : 264330516075

Option 3 ID : 264330516078

Option 4 ID : 264330516077

Status : Answered

Chosen Option : 2

Q.14 वे वस्तुएँ और सेवाएँ जो सरकार द्वारा सभी लोगों को प्रदान की जाती हैं और जिनके उपभोग की कोई प्रतिद्वंद्विता नहीं है, क्या कहलाती हैं?

Ans ☐ 1. अंतिम माल

☐ 2. मध्यवर्ती माल

☐ 3. निजी माल

☒ 4. सार्वजनिक माल

Question ID : 264330111566

Option 1 ID : 264330438352

Option 2 ID : 264330438351

Option 3 ID : 264330438349

Option 4 ID : 264330438350

Status : Answered

Chosen Option : 4

Q.15 निम्नलिखित में से किस देश से भारत के संविधान में 'सर्वोच्च न्यायालय के सलाहकार क्षेत्राधिकार' को अपनाया गया है?

- Ans
- ☒ 1. क्यूबा
 - ☒ 2. जर्मनी
 - ☒ 3. पुर्तगाल
 - ☒ 4. कनाडा

Question ID : 264330133048
Option 1 ID : 264330521244
Option 2 ID : 264330521243
Option 3 ID : 264330521246
Option 4 ID : 264330521245
Status : Answered
Chosen Option : 4

Q.16 सूरत, नवसारी और भावनगर किस उद्योग में अपनी भागीदारी के लिए जाने जाते हैं?

- Ans
- ☒ 1. सॉफ्टवेयर उद्योग
 - ☒ 2. हीरा उद्योग
 - ☒ 3. ऑटोमोबाइल उद्योग
 - ☒ 4. लौह एवं इस्पात उद्योग

Question ID : 264330183063
Option 1 ID : 264330717986
Option 2 ID : 264330717984
Option 3 ID : 264330717987
Option 4 ID : 264330717985
Status : Answered
Chosen Option : 3

Q.17 डांसर युगल धनंजयन को किस भारतीय नृत्य शैली में उनके योगदान के लिए राष्ट्रीय कालिदास सम्मान पुरस्कार (2019-2020) से सम्मानित किया गया?

- Ans
- ☒ 1. भरतनाट्यम
 - ☒ 2. कथक
 - ☒ 3. कुचिपुड़ी
 - ☒ 4. मोहिनीअट्टम

Question ID : 264330120414
Option 1 ID : 264330471907
Option 2 ID : 264330471909
Option 3 ID : 264330471908
Option 4 ID : 264330471910
Status : Not Answered
Chosen Option : --

Q.18 निम्नलिखित में से कौन-सी संरचना कार्बोहाइड्रेट का संग्रहण करती है?

- Ans
- ☒ 1. एल्यूरोप्लास्ट
 - ☒ 2. इलायोप्लास्ट
 - ☒ 3. एमाइलोप्लास्ट
 - ☒ 4. क्लोरोप्लास्ट

Question ID : 264330113330
Option 1 ID : 264330445407
Option 2 ID : 264330445408
Option 3 ID : 264330445406
Option 4 ID : 264330445405
Status : Not Answered
Chosen Option : --

Q.19 एक 20-पेज की आत्मकथा, 'वेटिंग फॉर ए वीजा' _____ द्वारा लिखी गई है, जो अस्पृश्यता के साथ उनके अनुभवों के बारे में है।

Ans ☒ 1. भीमराव रामजी अंबेडकर

☐ 2. ज्योतिबा फुले

☐ 3. गोपाल कृष्ण गोखले

☐ 4. महात्मा गांधी

Question ID : 264330112856

Option 1 ID : 264330443509

Option 2 ID : 264330443512

Option 3 ID : 264330443511

Option 4 ID : 264330443510

Status : Answered

Chosen Option : 1

Q.20 राज्य के नीति-निर्देशक सिद्धांतों के बारे में निम्नलिखित में से कौन-सा कथन सही है?

Ans ☐ 1. भारत के संविधान के अनुच्छेद 52-62 में नीति-निर्देशक सिद्धांतों से संबंधित हैं।

☒ 2. भारत के संविधान के अनुच्छेद 36-51 नीति-निर्देशक सिद्धांतों से संबंधित हैं।

☐ 3. भारत के संविधान के अनुच्छेद 12-35 नीति-निर्देशक सिद्धांतों से संबंधित हैं।

☐ 4. भारत के संविधान के अनुच्छेद 62-71 नीति-निर्देशक सिद्धांतों से संबंधित हैं।

Question ID : 264330118539

Option 1 ID : 264330465559

Option 2 ID : 264330465558

Option 3 ID : 264330465557

Option 4 ID : 264330465560

Status : Answered

Chosen Option : 2

Q.21 कोंकण रेलवे लाइन, राज्यों के निम्नलिखित में से किस समूह से होकर गुजरती है?

Ans ☐ 1. मध्य प्रदेश, गोवा और कर्नाटक

☒ 2. महाराष्ट्र, गोवा और कर्नाटक

☐ 3. महाराष्ट्र, गुजरात और कर्नाटक

☐ 4. महाराष्ट्र, गोवा और तेलंगाना

Question ID : 264330178721

Option 1 ID : 264330700914

Option 2 ID : 264330700911

Option 3 ID : 264330700912

Option 4 ID : 264330700913

Status : Answered

Chosen Option : 2

Q.22 जनजातीय त्योहार मेदराम जात्रा के संबंध में निम्नलिखित में से कौन सा कथन सही है?

A. यह भारत का सबसे बड़ा जनजातीय त्योहार है।

B. यह त्योहार तेलंगाना के कोया समुदाय द्वारा मनाया जाता है।

C. यह त्योहार दो वर्ष में एक बार 'माघ' (फरवरी) के महीने में पूर्णिमा के दिन मनाया जाता है।

- Ans
- ☒ 1. केवल B और C
 - ☒ 2. केवल A और B
 - ☒ 3. A, B और C
 - ☒ 4. केवल A और C

Question ID : 264330119835

Option 1 ID : 264330469616

Option 2 ID : 264330469618

Option 3 ID : 264330469615

Option 4 ID : 264330469617

Status : Not Answered

Chosen Option : --

Q.23 निम्नलिखित में से कौन-सी हरित क्रांति की हानि नहीं थी?

- Ans
- ☒ 1. इसने भारत का अनाज आयात कम कर दिया था।
 - ☒ 2. उर्वरकों और कीटनाशकों के उच्च उपयोग के परिणामस्वरूप गंभीर स्वास्थ्य बीमारियां हुईं।
 - ☒ 3. हरित क्रांति के दौरान पेश की गई अधिकांश फसलें गहन फसलें थीं।
 - ☒ 4. इसने रसायनों के व्यापक उपयोग को बढ़ावा दिया।

Question ID : 264330120894

Option 1 ID : 264330473791

Option 2 ID : 264330473794

Option 3 ID : 264330473793

Option 4 ID : 264330473792

Status : Answered

Chosen Option : 1

Q.24 निम्नलिखित में से कौन-सी पंचवर्षीय योजना दो राजनीतिक दलों की सरकारों द्वारा तैयार की गई थी?

- Ans
- ☒ 1. छठी पंचवर्षीय योजना
 - ☒ 2. पांचवीं पंचवर्षीय योजना
 - ☒ 3. नौवीं पंचवर्षीय योजना
 - ☒ 4. आठवीं पंचवर्षीय योजना

Question ID : 264330111740

Option 1 ID : 264330439046

Option 2 ID : 264330439045

Option 3 ID : 264330439048

Option 4 ID : 264330439047

Status : Not Answered

Chosen Option : --

Q.25 निम्न में से कौन सा त्योहार मृतक से यीशु के पुनरुत्थान की याद दिलाता है?

- Ans ☒ 1. ईस्टर
☐ 2. गुड फ्राइडे
☐ 3. नव वर्ष
☐ 4. क्रिसमस

Question ID : 264330109312
Option 1 ID : 264330429528
Option 2 ID : 264330429527
Option 3 ID : 264330429525
Option 4 ID : 264330429526
Status : Answered
Chosen Option : 2

Q.26 ग्रामीण स्व-रोजगार प्रशिक्षण संस्थान भारत सरकार के किस मंत्रालय की एक पहल है?

- Ans ☐ 1. वित्त मंत्रालय
☐ 2. कृषि मंत्रालय
☐ 3. श्रम और रोजगार मंत्रालय
☒ 4. ग्रामीण विकास मंत्रालय

Question ID : 264330138078
Option 1 ID : 264330540919
Option 2 ID : 264330540921
Option 3 ID : 264330540922
Option 4 ID : 264330540920
Status : Answered
Chosen Option : 4

Q.27 मनुष्य इतिहास में किस काल से खाद्य उत्पादक बना?

- Ans ☒ 1. नवपाषाण युग
☐ 2. मध्यपाषाण युग
☐ 3. पुरापाषाण युग
☐ 4. ताम्रपाषाण युग

Question ID : 264330119715
Option 1 ID : 264330469136
Option 2 ID : 264330469135
Option 3 ID : 264330469137
Option 4 ID : 264330469138
Status : Answered
Chosen Option : 2

Q.28 भाला फेंक खेल (javelin throw) में महिलाओं के लिए प्रयुक्त होने वाले भाले का वजन कितना होता है?

- Ans ☐ 1. 700 gm
☐ 2. 825 gm
☐ 3. 800 gm
☒ 4. 600 gm

Question ID : 264330112521
Option 1 ID : 264330442172
Option 2 ID : 264330442170
Option 3 ID : 264330442171
Option 4 ID : 264330442169
Status : Answered
Chosen Option : 3

Q.29 भारतीय हॉकी टीम ने 2023 तक ओलंपिक में कितने स्वर्ण पदक जीते हैं?

- Ans
- ☒ 1. 7
 - ☒ 2. 10
 - ☒ 3. 11
 - ☒ 4. 8

Question ID : 264330176748

Option 1 ID : 264330693209

Option 2 ID : 264330693208

Option 3 ID : 264330693210

Option 4 ID : 264330693207

Status : Answered

Chosen Option : 4

Q.30 अखिल भारतीय मजदूर संघ कांग्रेस (All India Trade Union Congress) ने श्रमिकों के काम करने और रहने की स्थिति में सुधार के लिए काम किया। इसके प्रमुख नेताओं में से एक _____ थे।

- Ans
- ☒ 1. जी.बी. पंत
 - ☒ 2. एम.जी. रानाडे
 - ☒ 3. एम.एन. रॉय
 - ☒ 4. ज्योतिराव फुले

Question ID : 264330114868

Option 1 ID : 264330451559

Option 2 ID : 264330451558

Option 3 ID : 264330451557

Option 4 ID : 264330451560

Status : Answered

Chosen Option : 2

Q.31 1919 की किस कुख्यात घटना के बाद हंटर आयोग नियुक्त किया गया था?

- Ans
- ☒ 1. भारतीय शैक्षिक सुधार
 - ☒ 2. कामागाटा मारू
 - ☒ 3. जलियांवाला बाग हत्याकांड
 - ☒ 4. खेड़ा मिल हड़ताल

Question ID : 264330114858

Option 1 ID : 264330451517

Option 2 ID : 264330451519

Option 3 ID : 264330451520

Option 4 ID : 264330451518

Status : Answered

Chosen Option : 3

Q.32 प्रथम राष्ट्रीय शीतकालीन खेलों का आयोजन _____ में किया गया था।

- Ans
- ☒ 1. गुलमर्ग
 - ☒ 2. श्रीनगर
 - ☒ 3. ऑली
 - ☒ 4. मनाली

Question ID : 264330132534

Option 1 ID : 264330519231

Option 2 ID : 264330519234

Option 3 ID : 264330519233

Option 4 ID : 264330519232

Status : Answered

Chosen Option : 2

Q.33 भारतीय बैडमिंटन टीम ने किस वर्ष थॉमस कप टूर्नामेंट जीतकर इतिहास रचा था?

- Ans ☒ 1. 2019
☒ 2. 2022
☒ 3. 2020
☒ 4. 2021

Question ID : 264330119272

Option 1 ID : 264330467377

Option 2 ID : 264330467378

Option 3 ID : 264330467375

Option 4 ID : 264330467376

Status : Not Answered

Chosen Option : --

Q.34 भारत के संविधान का कौन-सा अनुच्छेद अदालतों को राज्य विधानमंडल की कार्यवाही की जांच करने से रोकता है?

- Ans ☒ 1. अनुच्छेद 212
☒ 2. अनुच्छेद 209
☒ 3. अनुच्छेद 210
☒ 4. अनुच्छेद 211

Question ID : 26433069860

Option 1 ID : 264330273947

Option 2 ID : 264330273944

Option 3 ID : 264330273945

Option 4 ID : 264330273946

Status : Not Answered

Chosen Option : --

Q.35 निम्नलिखित में से किसने सितंबर 2022 में डॉक्यूमेंट्री फिल्म '1232 केएम' ('1232 KMs) में अपने गीत 'मरेंगे तो वहीं जा कर' के लिए 'सर्वश्रेष्ठ संगीत निर्देशन' का राष्ट्रीय पुरस्कार प्राप्त किया?

- Ans ☒ 1. अजय अतुल
☒ 2. अमित त्रिवेदी
☒ 3. विशाल भारद्वाज
☒ 4. स्वानंद किरकिरे

Question ID : 264330113238

Option 1 ID : 264330445040

Option 2 ID : 264330445038

Option 3 ID : 264330445037

Option 4 ID : 264330445039

Status : Not Answered

Chosen Option : --

Q.36 चीन का कौन-सा जातीय समूह सबसे बड़ा है, जिसकी जनसंख्या 90% से अधिक है?

- Ans ☒ 1. मांचू
☒ 2. हान
☒ 3. जुआंग
☒ 4. उइघुर

Question ID : 264330179300

Option 1 ID : 264330703205

Option 2 ID : 264330703204

Option 3 ID : 264330703206

Option 4 ID : 264330703203

Status : Answered

Chosen Option : 3

Q.37 पूर्ण रूप से भारतीय अक्षत वनस्पति को स्थानिक या देशज प्रजाति कहा जाता है, जबकि जो वनस्पतियां भारत के बाहर से आती हैं, उन्हें _____ कहा जाता है।

- Ans ☒ 1. विदेशज प्रजाति
- ☐ 2. स्थानीय प्रजाति
- ☐ 3. लुप्तप्राय प्रजाति
- ☐ 4. गैर-स्थानीय प्रजाति

Question ID : 264330174353

Option 1 ID : 264330683832

Option 2 ID : 264330683831

Option 3 ID : 264330683833

Option 4 ID : 264330683834

Status : Answered

Chosen Option : 4

Q.38 नीचे दिए गए कथनों पर विचार कीजिए और भारतीय लोक और जनजातीय नृत्य शैलियों के संबंध में सही विकल्प का चयन कीजिए।

- i) मटकी असम का लोक नृत्य है।
- ii) थांग ता (Thang Ta) मणिपुर का लोक नृत्य है।
- iii) फुगड़ी (Fugdi) गोवा का लोक नृत्य है।

- Ans ☐ 1. केवल (iii) सही है।
- ☐ 2. केवल (i) सही है।
- ☒ 3. (ii) और (iii), दोनों सही हैं।
- ☐ 4. (i) और (ii), दोनों सही हैं।

Question ID : 264330181381

Option 1 ID : 264330711449

Option 2 ID : 264330711447

Option 3 ID : 264330711450

Option 4 ID : 264330711448

Status : Answered

Chosen Option : 3

Q.39 किस अमेरिकी राष्ट्रपति ने आत्मकथा 'ड्रीम्स फ्रॉम माई फादर' (Dreams from My Father) लिखी है?

- Ans ☐ 1. जॉर्ज वाशिंगटन (George Washington)
- ☐ 2. जॉन केनेडी (John Kennedy)
- ☐ 3. जॉर्ज बुश (George Bush)
- ☒ 4. बराक ओबामा (Barack Obama)

Question ID : 26433086906

Option 1 ID : 264330341266

Option 2 ID : 264330341268

Option 3 ID : 264330341265

Option 4 ID : 264330341267

Status : Answered

Chosen Option : 4

Q.40 1991 में उदारीकरण के तहत, कई विदेशी मुद्रा विनिमय सुधार शुरू किए गए थे। इस संदर्भ में, निम्नलिखित में से कौन-सा कथन घरेलू मुद्रा के अवमूल्यन के लिए सही है?

- Ans
- ☒ 1. घरेलू मुद्रा के सापेक्ष विदेशी मुद्रा के मूल्य को कम करना
 - ☒ 2. विदेशी मुद्रा के सापेक्ष घरेलू मुद्रा का मूल्य बढ़ाना
 - ☒ 3. विदेशी मुद्रा के सापेक्ष घरेलू मुद्रा के मूल्य को कम करना
 - ☒ 4. सभी विदेशी मुद्राओं के लिए घरेलू मुद्रा को स्थिर (फिक्स) करना

Question ID : 264330109130

Option 1 ID : 264330428797

Option 2 ID : 264330428799

Option 3 ID : 264330428798

Option 4 ID : 264330428800

Status : Answered

Chosen Option : 3

Q.41 पीड़कनाशकों, कीटनाशकों और अकार्बनिक उर्वरकों का अत्यधिक उपयोग मानव स्वास्थ्य के लिए अच्छा नहीं है। ऐसा किस परिघटना के कारण है?

- Ans
- ☒ 1. जैव-आवर्धन (biomagnification)
 - ☒ 2. जैव-रूपांतरण (biotransformation)
 - ☒ 3. आविषांचन (intoxication)
 - ☒ 4. जैव-तनूकरण (biodilution)

Question ID : 264330181673

Option 1 ID : 264330712577

Option 2 ID : 264330712578

Option 3 ID : 264330712575

Option 4 ID : 264330712576

Status : Not Answered

Chosen Option : --

Q.42 _____ की जीत ने भारत में दिल्ली सल्तनत की आधारशिला रखी।

- Ans
- ☒ 1. अरबों
 - ☒ 2. तुर्कों
 - ☒ 3. अफगानियों
 - ☒ 4. फ़ारसियों

Question ID : 264330114825

Option 1 ID : 264330451385

Option 2 ID : 264330451386

Option 3 ID : 264330451387

Option 4 ID : 264330451388

Status : Answered

Chosen Option : 2

Q.43 निम्नलिखित में से कौन 1946 में ब्रिटिश सरकार द्वारा भारत में भेजे गए भारत के राज्य सचिव और कैबिनेट मिशन के सदस्य थे?

- Ans
- ☐ 1. स्टेफोर्ड क्रिप्स (Stafford Cripps)
 - ☐ 2. जॉन साइमन (John Simon)
 - ☒ 3. लॉर्ड पेट्रिक-लॉरेंस (Lord Pethick-Lawrence)
 - ☐ 4. लॉर्ड इरविन (Lord Irwin)

Question ID : 264330183101

Option 1 ID : 264330718137

Option 2 ID : 264330718136

Option 3 ID : 264330718139

Option 4 ID : 264330718138

Status : Answered

Chosen Option : 1

Q.44 प्रसिद्ध कलाकार तीजन बाई का संबंध निम्नलिखित में से किससे है?

- Ans
- ☐ 1. भवाई
 - ☐ 2. टिप्पनी
 - ☐ 3. कालबेलिया
 - ☒ 4. पंडवानी

Question ID : 264330110436

Option 1 ID : 264330434023

Option 2 ID : 264330434024

Option 3 ID : 264330434022

Option 4 ID : 264330434021

Status : Answered

Chosen Option : 4

Q.45 ग्रीनहाउस गैसों का सही समूह चुनें।

- Ans
- ☐ 1. CH_4 , O_2 , CO_2 , N_2
 - ☐ 2. CH_4 , O_2 , CO_2 , O_3
 - ☒ 3. CH_4 , N_2O , CO_2 , O_3
 - ☐ 4. H_2 , O_2 , CO_2 , N_2

Question ID : 264330111899

Option 1 ID : 264330439682

Option 2 ID : 264330439684

Option 3 ID : 264330439681

Option 4 ID : 264330439683

Status : Answered

Chosen Option : 3

Q.46 भारतीय संविधान के किस अनुच्छेद में उल्लेख किया गया है कि राज्य बेरोजगारी, वृद्धावस्था, बीमारी और विकलांगता के मामलों में सार्वजनिक सहायता सुनिश्चित करने के लिए प्रभावी प्रावधान करेगा?

- Ans
- ☒ 1. अनुच्छेद 47
 - ☒ 2. अनुच्छेद 45
 - ☒ 3. अनुच्छेद 39
 - ☒ 4. अनुच्छेद 41

Question ID : 264330180882
Option 1 ID : 264330709494
Option 2 ID : 264330709493
Option 3 ID : 264330709491
Option 4 ID : 264330709492
Status : Answered
Chosen Option : 3

Q.47 भौतिकी प्रयोगशाला में विद्यार्थियों को किसी परिपथ में विद्युत धारा की मात्रा मापने के लिए कहा गया है। उन्हें किस डिवाइस का उपयोग करना चाहिए?

- Ans
- ☒ 1. ऐमीटर
 - ☒ 2. ओममीटर
 - ☒ 3. वोल्टमीटर
 - ☒ 4. अल्टीमीटर

Question ID : 264330177007
Option 1 ID : 264330694223
Option 2 ID : 264330694225
Option 3 ID : 264330694224
Option 4 ID : 264330694226
Status : Answered
Chosen Option : 1

Q.48 तेरेखोल, चापोरा, मापुसा, साल, जुवारी आदि किस राज्य की प्रमुख नदियाँ हैं?

- Ans
- ☒ 1. छत्तीसगढ़
 - ☒ 2. तेलंगाना
 - ☒ 3. गोवा
 - ☒ 4. गुजरात

Question ID : 264330113532
Option 1 ID : 264330446216
Option 2 ID : 264330446215
Option 3 ID : 264330446213
Option 4 ID : 264330446214
Status : Answered
Chosen Option : 3

Q.49 निम्नलिखित मदों में से कौन-सा सरकार के बजट के अनुसार राजस्व व्यय का भाग नहीं है?

- Ans
- ☒ 1. अवसंरचनात्मक विकास व्यय
 - ☒ 2. ब्याज भुगतान
 - ☒ 3. सब्सिडी
 - ☒ 4. वेतन और पेंशन

Question ID : 264330130650
Option 1 ID : 264330511713
Option 2 ID : 264330511711
Option 3 ID : 264330511712
Option 4 ID : 264330511714
Status : Answered
Chosen Option : 3

Q.50 भारत आने वाले यात्रियों के संदर्भ में निम्नलिखित में से कौन पुर्तगाल से था?

- Ans
- ☐ 1. निकोलो कॉटी
 - ☐ 2. इब्र बतूता
 - ☐ 3. फ्रेंकोइस बर्नियर
 - ☒ 4. दुआर्टे बारबोसा

Question ID : 264330119771

Option 1 ID : 264330469362

Option 2 ID : 264330469361

Option 3 ID : 264330469360

Option 4 ID : 264330469359

Status : Answered

Chosen Option : 4

Section : Reasoning

Q.1 छह कुत्ते - P, Q, R, S, T और U - एक वृत्ताकार मेज के परितः एक दूसरे से समान दूरी पर बैठे थे। वे मेज के केंद्र की ओर मुख करके बैठे थे। Q, P और S के ठीक बीच में बैठा था। U, R के ठीक दाएं बैठा था। T, S के ठीक बाएं बैठा था। निम्नलिखित में से कौन S के बाएं तीसरे स्थान पर बैठा था?

- Ans
- ☐ 1. U
 - ☐ 2. Q
 - ☒ 3. R
 - ☐ 4. P

Question ID : 26433087006

Option 1 ID : 264330341668

Option 2 ID : 264330341666

Option 3 ID : 264330341667

Option 4 ID : 264330341665

Status : Answered

Chosen Option : 1

Q.2 एक निश्चित कूट भाषा में, 'SENSE' को 'GUPGU' के रूप में लिखा जाता है और 'PAINT' को 'VPKCR' के रूप में लिखा जाता है। उसी भाषा में 'KNIFE' को कैसे लिखा जाएगा?

- Ans
- ☐ 1. GHMPK
 - ☐ 2. MOKHG
 - ☒ 3. GHKPM
 - ☐ 4. GHOMK

Question ID : 26433087168

Option 1 ID : 264330342310

Option 2 ID : 264330342309

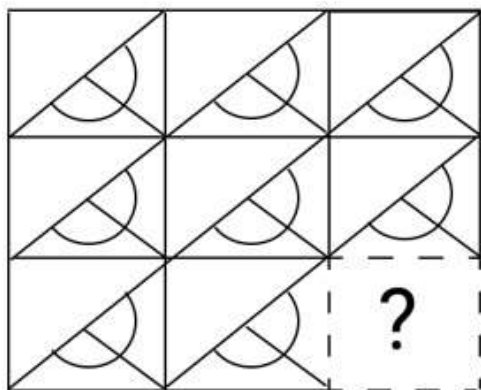
Option 3 ID : 264330342312

Option 4 ID : 264330342311

Status : Answered

Chosen Option : 3

Q.3 विकल्पों में से उस आकृति का चयन करें, जो प्रश्न चिह्न (?) का स्थान लेकर दिए गए पैटर्न को पूरा कर सकती है।



Ans

- ✗ 1.
- ✗ 2.
- ✓ 3.
- ✗ 4.

Question ID : 264330106480

Option 1 ID : 264330418221

Option 2 ID : 264330418223

Option 3 ID : 264330418224


Option 4 ID : 264330418222

Status : Answered

Chosen Option : 3

Q.4 उस समुच्चय का चयन करें जिसमें संख्याएँ उसी प्रकार संबंधित हैं जिस प्रकार निम्नलिखित समुच्चयों की संख्याएँ संबंधित हैं।

(नोट: संख्याओं को उनके घटक अंकों में विभाजित किए बिना, पूर्ण संख्याओं पर गणितीय संक्रियाएँ की जानी चाहिए। उदाहरण के लिए 13 के मामले में - 13 पर गणितीय संक्रियाएँ जैसे 13 को जोड़ना / घटाना / गुणा करना आदि की जा सकती हैं। 13 को 1 और 3 में विभाजित करने और फिर 1 और 3 पर गणितीय संक्रियाएँ करने की अनुमति नहीं है।)
(40, 8, 24)
(60, 12, 36)

Ans  1. (80, 14, 44)

 2. (70, 14, 42)

 3. (80, 14, 42)

 4. (70, 14, 44)

Question ID : 264330175035

Option 1 ID : 264330686516

Option 2 ID : 264330686515

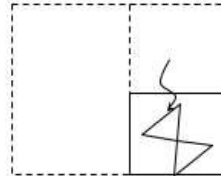
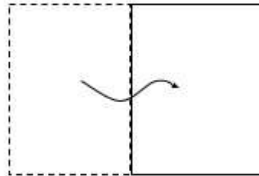
Option 3 ID : 264330686517

Option 4 ID : 264330686518

Status : Answered

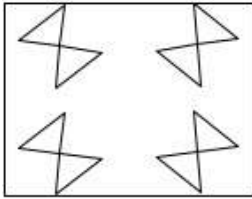
Chosen Option : 2

Q.5 एक कागज को नीचे दिखाए अनुसार मोड़ा और काटा गया है। कागज को खोलने पर यह कैसा दिखाई देगा?

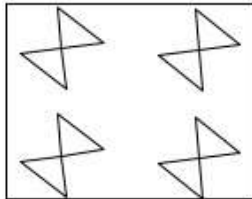


Ans

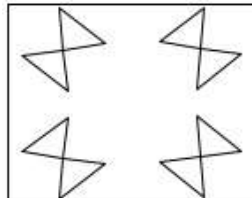
✗ 1.



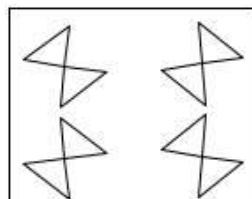
✗ 2.



✗ 3.



✓ 4.



Question ID : 264330118715

Option 1 ID : 264330466113

Option 2 ID : 264330466114

Option 3 ID : 264330466112

Option 4 ID : 264330466111

Status : Answered

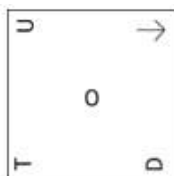
Chosen Option : 4

Q.6 निम्नलिखित श्रृंखला को जारी रखने के लिए प्रश्न चिह्न (?) के स्थान पर कौन सी आकृति आनी चाहिए?

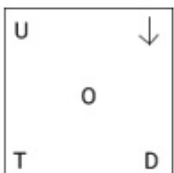
U	↓	□	←	□	↑	□	□	↓	
Z		♡		B		S		3	
T	D	←	□	□	←	n	↓	↑	n

Ans

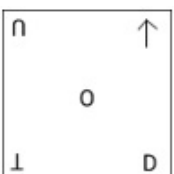
✓ 1.



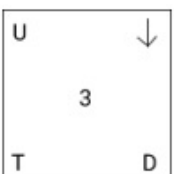
✗ 2.



✗ 3.



✗ 4.



Question ID : 264330103880

Option 1 ID : 264330407823

Option 2 ID : 264330407824

Option 3 ID : 264330407822

Option 4 ID : 264330407821

Status : Answered

Chosen Option : 1

Q.7 निम्नलिखित समीकरण को सही बनाने के लिए किन दो चिह्नों को आपस में बदला जाना चाहिए?

$$59 - 44 \div 11 \times 13 + 2 = 81$$

Ans ✗ 1. - और ×

✗ 2. + और +

✗ 3. + और -

✓ 4. + और ×

Question ID : 264330101083

Option 1 ID : 264330396879

Option 2 ID : 264330396877

Option 3 ID : 264330396880

Option 4 ID : 264330396878

Status : Answered

Chosen Option : 4

Q.8 दिए गए संयोजन की सही दर्पण छवि का चयन कीजिए, जब दर्पण को 'XY' पर रखा जाता है, जैसा कि नीचे दर्शाया गया है।



- Ans
- ☒ 1. B T 2 3 0 B 1 C
 - ☒ 2. C I R Q 7 5 1 R
 - ☒ 3. R 1 5 7 Q R J C
 - ☒ 4. R 1 5 7 Q R J C

Question ID : 264330129694

Option 1 ID : 264330508144

Option 2 ID : 264330508145

Option 3 ID : 264330508142

Option 4 ID : 264330508143

Status : Answered

Chosen Option : 3

Q.9 उस विकल्प का चयन करें जिसमें दी गई आकृति अंतर्निहित है (घुमाने की अनुमति नहीं है)।



Ans

- ☒ 1.
- ☒ 2.
- ☒ 3.
- ☒ 4.

Question ID : 264330111669

Option 1 ID : 264330438763

Option 2 ID : 264330438761

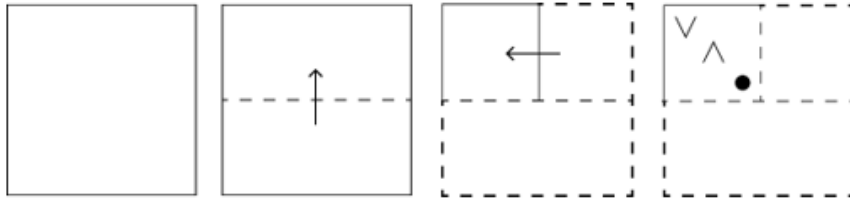
Option 3 ID : 264330438762

Option 4 ID : 264330438764

Status : Answered

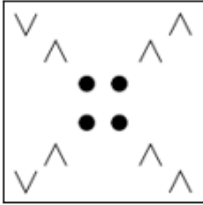
Chosen Option : 3

Q.10 कागज की एक वर्गाकार शीट को बिंदीदार रेखा के अनुदिश दिखाए गए निर्देशों के अनुसार क्रमिक रूप से मोड़ा जाता है और फिर अंत में इसे छिद्रित किया जाता है। कागज को खोलने पर यह कैसा दिखेगा?

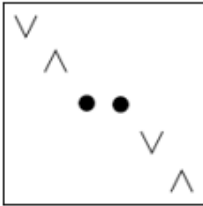


Ans

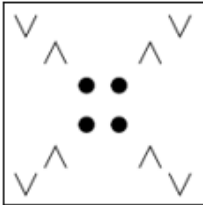
✗ 1.



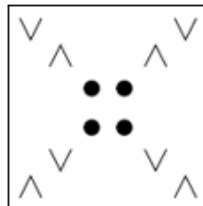
✗ 2.



✗ 3.



✓ 4.



Question ID : 264330172430

Option 1 ID : 264330676273

Option 2 ID : 264330676271

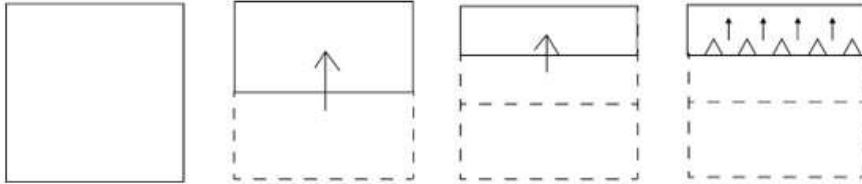
Option 3 ID : 264330676272

Option 4 ID : 264330676274

Status : Answered

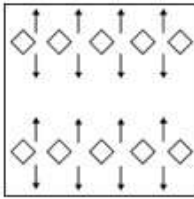
Chosen Option : 4

Q.11 निम्नलिखित आकृतियों में कागज के एक टुकड़े को मोड़ने का क्रम और मुड़े हुए कागज को काटने का तरीका दर्शाया गया है। खोले जाने पर यह कागज कैसा दिखेगा?

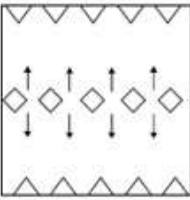


Ans

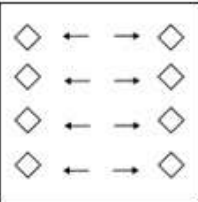
✓ 1.



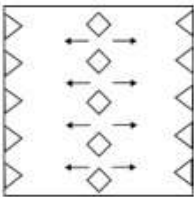
✗ 2.



✗ 3.



✗ 4.



Question ID : 264330118718

Option 1 ID : 264330466123

Option 2 ID : 264330466124

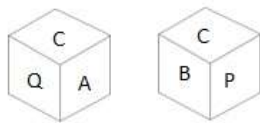
Option 3 ID : 264330466126

Option 4 ID : 264330466125

Status : Answered

Chosen Option : 1

Q.12 एक पासे के अलग-अलग फलकों पर छह अक्षर A, B, C, P, Q और R लिखे गए हैं। इस पासे की दो स्थितियां दी गई आकृति में दिखाई गई हैं। A अक्षर वाले फलक के विपरीत फलक पर कौन-सा अक्षर है?



- Ans
- ☒ 1. B
 - ☒ 2. Q
 - ☒ 3. R
 - ☒ 4. P

Question ID : 264330109206

Option 1 ID : 264330429103

Option 2 ID : 264330429101

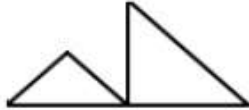
Option 3 ID : 264330429104

Option 4 ID : 264330429102

Status : Answered

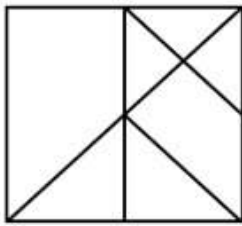
Chosen Option : 4

Q.13 उस विकल्प का चयन करें जिसमें दी गई आकृति अंतर्निहित है (घुमाने की अनुमति नहीं है)।




Ans

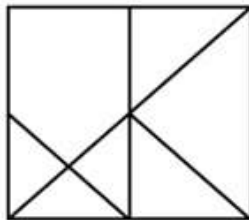
✗ 1.



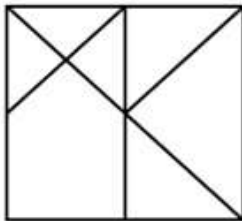
✗ 2.



✓ 3.



✗ 4.



Question ID : 264330106327

Option 1 ID : 264330417609

Option 2 ID : 264330417612

Option 3 ID : 264330417611

Option 4 ID : 264330417610

Status : Answered

Chosen Option : 3

Q.14 निम्नलिखित में से कौन सा पद (अक्षर-समूह) दी गई श्रृंखला में प्रश्न चिह्न (?) के स्थान पर आएगा?
YXQM, UUOL, QRMK, MOKJ, ?

Ans ✗ 1. OLJI

✗ 2. NKII

✗ 3. INJI

✓ 4. ILII

Question ID : 264330102171

Option 1 ID : 264330401151

Option 2 ID : 264330401152

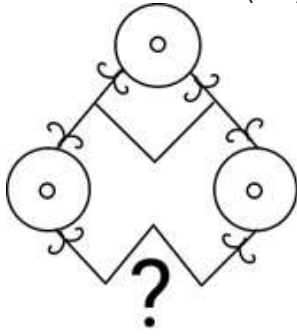
Option 3 ID : 264330401150

Option 4 ID : 264330401149

Status : Answered

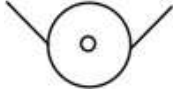
Chosen Option : 4

Q.15 दी गई विकल्प आकृतियों में से उस आकृति का चयन करें जिसे नीचे दी गई आकृति में प्रश्न चिह्न (?) के स्थान पर रखने पर प्रतिरूप (पैटर्न) पूरा हो जाएगा।



Ans

✗ 1.



✗ 2.



✓ 3.



✗ 4.



Question ID : 264330111714

Option 1 ID : 264330438942

Option 2 ID : 264330438941

Option 3 ID : 264330438944

Option 4 ID : 264330438943

Status : Answered

Chosen Option : 4

Q.16 निम्नलिखित श्रृंखला को जारी रखने के लिए प्रश्न चिह्न (?) के स्थान पर कौन सी आकृति आनी चाहिए?

C	O	T	T	3	↑	3	↑	T	T	O	X	O	X	T	
3		V	V		O	O		V	V		↑	↑		V	?
	↑			C			X			3			6		

Ans

✗ 1.

T	V	6
X		↑
	O	

✗ 2.

T	O	X
V		6
	↑	

✗ 3.

6	↑	O
V		X
	T	

✓ 4.

T	↑	6
V		X
	O	

Question ID : 264330103885

Option 1 ID : 264330407842

Option 2 ID : 264330407844

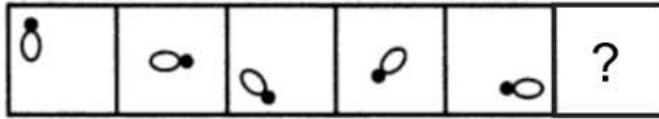
Option 3 ID : 264330407841

Option 4 ID : 264330407843

Status : Answered

Chosen Option : 4

Q.17 दिए गए विकल्पों में से उस आकृति का चयन करें जो निम्नलिखित श्रृंखला में प्रश्नवाचक चिह्न (?) का स्थान ले सकती है।



Ans

✗ 1.



✓ 2.



✗ 3.



✗ 4.



Question ID : 26433080536

Option 1 ID : 264330316078

Option 2 ID : 264330316077

Option 3 ID : 264330316080

Option 4 ID : 264330316079

Status : Answered

Chosen Option : 2

Q.18 दिए गए विकल्पों में से उस संख्या का चयन कीजिए जो निम्नलिखित श्रृंखला में प्रश्न चिह्न (?) के स्थान पर आ सकती है।

9, 20, 53, 152, 449, ?

Ans ✗ 1. 3146

✓ 2. 1340

✗ 3. 4233

✗ 4. 4344

Question ID : 264330109757

Option 1 ID : 264330431308

Option 2 ID : 264330431307

Option 3 ID : 264330431305

Option 4 ID : 264330431306

Status : Answered

Chosen Option : 2

Q.19 नीचे दो कथन और उसके बाद दो निष्कर्ष I और II दिए गए हैं। कथनों को सत्य मानते हुए, भले ही वे सामान्य रूप से ज्ञात तथ्यों से भिन्न प्रतीत होते हों, निर्णय लीजिए कि कौन-सा/से निष्कर्ष कथनों का तार्किक रूप से अनुसरण करता/करते है/हैं।

कथन:

सभी मूंगफली बादाम हैं।

सभी बादाम बटर हैं।

निष्कर्ष:

I. सभी बटर बादाम हैं।

II. सभी मूंगफली बटर हैं।

- Ans
- ☒ 1. केवल निष्कर्ष I अनुसरण करता है।
 - ☒ 2. न तो निष्कर्ष I और न ही II अनुसरण करता है।
 - ☒ 3. निष्कर्ष I और II दोनों अनुसरण करते हैं।
 - ☒ 4. केवल निष्कर्ष II अनुसरण करता है।

Question ID : 26433076603

Option 1 ID : 264330300476

Option 2 ID : 264330300479

Option 3 ID : 264330300478

Option 4 ID : 264330300477

Status : Answered

Chosen Option : 3

Q.20 दिए गए समीकरण में * चिह्नों को क्रमिक रूप से बदलने और समीकरण को संतुलित करने के लिए निम्नलिखित विकल्पों में से गणितीय चिह्नों के सही संयोजन का चयन कीजिए।

$$88 * 4 * 15 * 3 * 1 * 4$$

- Ans
- ☒ 1. $\div - \times + =$
 - ☒ 2. $- \div = \times +$
 - ☒ 3. $\div - = \times +$
 - ☒ 4. $- = \times \div +$

Question ID : 26433085727

Option 1 ID : 264330336610

Option 2 ID : 264330336609

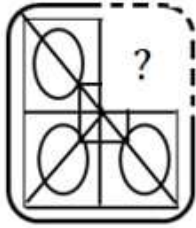
Option 3 ID : 264330336612

Option 4 ID : 264330336611

Status : Answered

Chosen Option : 3

Q.21 उस विकल्प आकृति का चयन करें जो पैटर्न पूरा करने के लिए नीचे दी गई आकृति में प्रश्न चिह्न (?) को प्रतिस्थापित करेगी।



Ans

✗ 1.



✗ 2.



✓ 3.



✗ 4.



Question ID : 264330131105

Option 1 ID : 264330513533

Option 2 ID : 264330513534

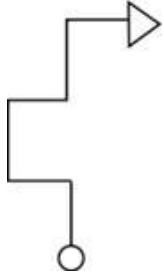
Option 3 ID : 264330513532

Option 4 ID : 264330513531

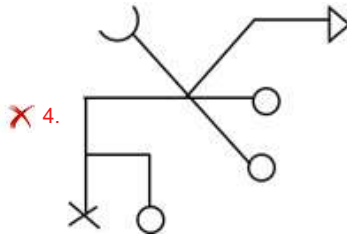
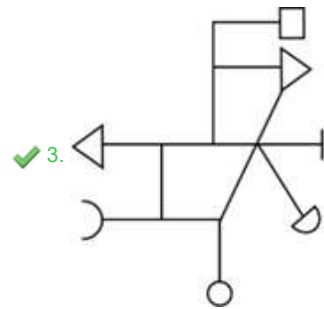
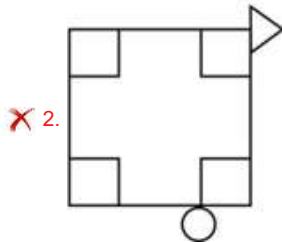
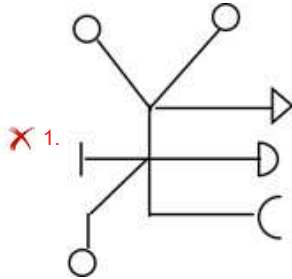
Status : Answered

Chosen Option : 3

Q.22 उस विकल्प का चयन करें जिसमें दी गई आकृति अंतर्निहित है (घुमाने की अनुमति नहीं है)।



Ans



Question ID : 264330111674

Option 1 ID : 264330438784

Option 2 ID : 264330438781

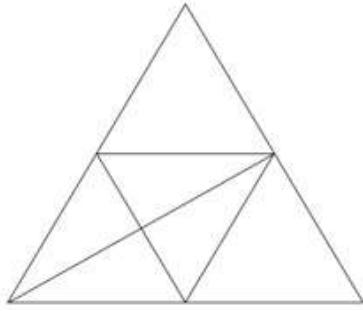
Option 3 ID : 264330438782

Option 4 ID : 264330438783

Status : Answered

Chosen Option : 3

Q.23 निम्नलिखित आकृति में कितने त्रिभुज हैं?



- Ans
- ☒ 1. 11
 - ☒ 2. 14
 - ☒ 3. 13
 - ☒ 4. 12

Question ID : 26433085672
Option 1 ID : 264330336391
Option 2 ID : 264330336392
Option 3 ID : 264330336389
Option 4 ID : 264330336390
Status : Answered
Chosen Option : 3

Q.24 Select the option that is related to the third word in the same way as the second word is related to the first word.

(The words must be considered as meaningful English words and must not be related to each other based on the number of letters / number of consonants / vowels in the word)

Editor : Newspaper :: Dramatist : ?

- Ans
- ☒ 1. Create
 - ☒ 2. Role
 - ☒ 3. Play
 - ☒ 4. Design

Question ID : 26433082578
Option 1 ID : 264330324146
Option 2 ID : 264330324147
Option 3 ID : 264330324148
Option 4 ID : 264330324145
Status : Answered
Chosen Option : 3

Q.25 उस विकल्प का चयन करें जो तीसरे पद से उसी प्रकार संबंधित है जिस प्रकार दूसरा पद पहले पद से और छठा पद पांचवें पद से संबंधित है।
8 : 17 :: 14 : ? :: 20 : 41

Ans  1. 29

 2. 53

 3. 44

 4. 30

Question ID : 264330101042

Option 1 ID : 264330396713

Option 2 ID : 264330396715

Option 3 ID : 264330396716

Option 4 ID : 264330396714

Status : Answered

Chosen Option : 1

Section : Numerical Ability

Q.1 संख्याओं 15, 27, 34 और 48 का औसत क्या है?

Ans  1. 29

 2. 33

 3. 32

 4. 31

Question ID : 264330131118

Option 1 ID : 264330513585

Option 2 ID : 264330513586

Option 3 ID : 264330513584

Option 4 ID : 264330513583

Status : Answered

Chosen Option : 4

Q.2 एक गांव की जनसंख्या 8,00,865 है। यदि इसमें 11% वार्षिक की दर से वृद्धि होती है, तो 2 वर्ष पहले गांव की जनसंख्या कितनी थी?

Ans  1. 6,50,000

 2. 5,65,000

 3. 4,50,000

 4. 8,65,000

Question ID : 264330104525

Option 1 ID : 264330410403

Option 2 ID : 264330410401

Option 3 ID : 264330410404

Option 4 ID : 264330410402

Status : Answered

Chosen Option : 1

Q.3 श्री सिंह ने एक बैंक में ₹1,264 की राशि 5% वार्षिक दर (साधारण ब्याज) पर निवेश की। 3 वर्ष बाद उन्हें कितनी राशि प्राप्त होगी?

- Ans ☒ 1. ₹2,145.80
☒ 2. ₹1,453.60
☒ 3. ₹1,285.80
☒ 4. ₹1,848.80

Question ID : 264330182520

Option 1 ID : 264330715873

Option 2 ID : 264330715874

Option 3 ID : 264330715872

Option 4 ID : 264330715871

Status : Answered

Chosen Option : 2

Q.4 अंकित की आयु रीना की आयु से दोगुनी है, जबकि रीना की आयु संजना की आयु से तीन गुनी है। अंकित, रीना और संजना की आयु का अनुपात क्या है?

- Ans ☒ 1. 1:3:6
☒ 2. 8:4:3
☒ 3. 2:1:3
☒ 4. 6:3:1

Question ID : 264330105973

Option 1 ID : 264330416196

Option 2 ID : 264330416194

Option 3 ID : 264330416193

Option 4 ID : 264330416195

Status : Answered

Chosen Option : 4

Q.5 दो संख्याओं का योग 72 है और संख्याओं के बीच का अंतर उनके योग का $\frac{1}{9}$ है। संख्याओं का लघुत्तम समापवर्त्य (LCM) ज्ञात कीजिए।

- Ans ☒ 1. 8
☒ 2. 160
☒ 3. 320
☒ 4. 120

Question ID : 264330104225

Option 1 ID : 264330409201

Option 2 ID : 264330409202

Option 3 ID : 264330409203

Option 4 ID : 264330409204

Status : Answered

Chosen Option : 2

Q.6 यदि 56 श्रमिक 5 दिनों में ₹4,050 कमाते हैं, तो 48 श्रमिक 14 दिनों में कितना कमाएंगे?

Ans ☒ 1. ₹9,720

☐ 2. ₹9,980

☐ 3. ₹6,128

☐ 4. ₹5,968

Question ID : 264330182585

Option 1 ID : 264330716132

Option 2 ID : 264330716133

Option 3 ID : 264330716131

Option 4 ID : 264330716134

Status : Answered

Chosen Option : 1

Q.7 एक ठोस बेलन के आधार की त्रिज्या और इसकी ऊँचाई का योग 42 m है। यदि बेलन का संपूर्ण पृष्ठीय क्षेत्रफल 3696 m^2 है, तो इसका आयतन बताइये। ($\pi = \frac{22}{7}$ का उपयोग कीजिये)

Ans ☐ 1. 19240 m^3

☐ 2. 16445 m^3

☒ 3. 17248 m^3

☐ 4. 18258 m^3

Question ID : 264330118148

Option 1 ID : 264330464409

Option 2 ID : 264330464408

Option 3 ID : 264330464410

Option 4 ID : 264330464407

Status : Answered

Chosen Option : 3

Q.8 P, Q, R और S चार अभाज्य संख्याएँ इस प्रकार हैं कि उनका योग 45 के बराबर है। यदि यह दिया गया है कि $P < Q < R < S$; तो $P^4 + 2P$ का मान _____ है।

Ans ☐ 1. 87

☒ 2. 20

☐ 3. 635

☐ 4. 220

Question ID : 264330111449

Option 1 ID : 264330437881

Option 2 ID : 264330437883

Option 3 ID : 264330437882

Option 4 ID : 264330437884

Status : Answered

Chosen Option : 2

Q.9 एक आदमी ने दो अलमारियों को ₹650 प्रत्येक में बेचा, एक पर 30% का लाभ और दूसरी पर 20% की हानि हुई। यदि उसने दोनों अलमारियों को ₹875 प्रत्येक में बेचा होता, तो उसका शुद्ध लाभ/हानि प्रतिशत (निकटतम पूर्णांक तक) कितना होता?

- Ans
- ☒ 1. 42% हानि
 - ☒ 2. 36% हानि
 - ☒ 3. 33% लाभ
 - ☒ 4. 35% लाभ

Question ID : 264330106347
Option 1 ID : 264330417690
Option 2 ID : 264330417692
Option 3 ID : 264330417691
Option 4 ID : 264330417689
Status : Answered
Chosen Option : 3

Q.10 आयत की लंबाई में 5% की वृद्धि की जाती है और इसकी चौड़ाई में 5% की कमी की जाती है। नए आयत के क्षेत्रफल पर क्या प्रभाव पड़ेगा?

- Ans
- ☒ 1. 0.25% की कमी
 - ☒ 2. न बढ़ेगा न घटेगा
 - ☒ 3. 1% की कमी
 - ☒ 4. 0.25% की वृद्धि

Question ID : 264330109333
Option 1 ID : 264330429611
Option 2 ID : 264330429609
Option 3 ID : 264330429612
Option 4 ID : 264330429610
Status : Answered
Chosen Option : 1

Q.11 किसी वस्तु के अंकित मूल्य पर 15% की छूट प्रदान करने के बाद एक दुकानदार को 35% का लाभ होता है। यदि वस्तुओं को अंकित मूल्य पर बिना किसी छूट के बेचा जाता है तो उसका लाभ प्रतिशत ज्ञात करें।

- Ans
- ☒ 1. 62%
 - ☒ 2. 58.82%
 - ☒ 3. 60%
 - ☒ 4. 65%

Question ID : 264330131833
Option 1 ID : 264330516434
Option 2 ID : 264330516432
Option 3 ID : 264330516431
Option 4 ID : 264330516433
Status : Answered
Chosen Option : 2

Q.12 मीना के बचत खाते में ₹20,000 हैं। यदि वह ₹6,000 खर्च करती है, तो प्रतिशत के रूप में बचत में कितनी कमी आई है?

- Ans ☒ 1. 30%
- ☐ 2. 12%
- ☐ 3. 20%
- ☐ 4. 22%

Question ID : 264330104413
Option 1 ID : 264330409956
Option 2 ID : 264330409953
Option 3 ID : 264330409954
Option 4 ID : 264330409955
Status : Answered
Chosen Option : 1

Q.13 To wrap a cylinder from all sides, the cloth required to cover the curved area is double the cloth required to cover the flat areas. What is the ratio of the height of the cylinder to the radius of the cylinder?

- Ans ☒ 1. 2 : 1
- ☐ 2. $\sqrt{2} : 1$
- ☐ 3. $1 : \sqrt{2}$
- ☐ 4. 1 : 2

Question ID : 264330112123
Option 1 ID : 264330440577
Option 2 ID : 264330440579
Option 3 ID : 264330440580
Option 4 ID : 264330440578
Status : Answered
Chosen Option : 4

Q.14 ऋतिका 84 km/h की चाल से मोटरसाइकिल चला रही है। यदि ऋतिका इसी चाल से चलती रहती है तो वह 45 सेकंड में कितने मीटर की दूरी तय करेगी?

- Ans ☐ 1. 1035
- ☐ 2. 1080
- ☐ 3. 1020
- ☒ 4. 1050

Question ID : 264330122845
Option 1 ID : 264330481447
Option 2 ID : 264330481449
Option 3 ID : 264330481448
Option 4 ID : 264330481450
Status : Answered
Chosen Option : 4

Q.15 यदि $x = 0.35$ और $y = \frac{6}{5}$ हैं, तो $x \times y \div (100x - 30y) \times \left(\frac{y}{2.1}\right) + \frac{6}{y}$ का मान _____ होगा।

Ans ☒ 1. 4.76

☐ 2. 6.47

☐ 3. 7.46

☐ 4. 4.67

Question ID : 264330112061

Option 1 ID : 264330440329

Option 2 ID : 264330440332

Option 3 ID : 264330440331

Option 4 ID : 264330440330

Status : Answered

Chosen Option : 1

Section : Computer Proficiency

Q.1 इंटरनेट एक्सेस के संदर्भ में, 'ISP' का पूर्ण रूप क्या है?

Ans ☐ 1. Internet Security Program (इंटरनेट सिक्योरिटी प्रोग्राम)

☐ 2. International Security Protocol (इंटरनेशनल सिक्योरिटी प्रोटोकॉल)

☐ 3. Internet System Protocol (इंटरनेट सिस्टम प्रोटोकॉल)

☒ 4. Internet Service Provider (इंटरनेट सर्विस प्रोवाइडर)

Question ID : 264330180668

Option 1 ID : 264330708642

Option 2 ID : 264330708640

Option 3 ID : 264330708639

Option 4 ID : 264330708641

Status : Answered

Chosen Option : 4

Q.2 Which of the following keyboard shortcuts helps you copy data in MS Excel 365?

Ans ☒ 1. Ctrl + C

☐ 2. Ctrl + X

☐ 3. Ctrl + Y

☐ 4. Ctrl + Z

Question ID : 264330180829

Option 1 ID : 264330709279

Option 2 ID : 264330709280

Option 3 ID : 264330709281

Option 4 ID : 264330709282

Status : Answered

Chosen Option : 1

Q.3 Which of the following icons are a part of the Design menu in MS Word 365?

- Ans
- ☒ 1. Icons for zooming in and out, print layout, switching windows and splitting windows
 - ☒ 2. Icons for spelling and grammar check, thesaurus and word count
 - ☒ 3. Icons to change themes, colours, fonts, effects and page borders
 - ☒ 4. Icons to change font size, style, alignment and borders

Question ID : 264330180645

Option 1 ID : 264330708550

Option 2 ID : 264330708549

Option 3 ID : 264330708547

Option 4 ID : 264330708548

Status : Answered

Chosen Option : 3

Q.4 माइक्रोसॉफ्ट वर्ड 365 में, 'B' आइकन सामान्यतः क्या दर्शाता है?

- Ans
- ☒ 1. पेज ब्रेक (Page break)
 - ☒ 2. बुलेट पॉइंट (Bullet points)
 - ☒ 3. इटैलिक फॉर्मेटिंग (Italic formatting)
 - ☒ 4. बोल्ड फॉर्मेटिंग (Bold formatting)

Question ID : 264330180743

Option 1 ID : 264330708941

Option 2 ID : 264330708940

Option 3 ID : 264330708942

Option 4 ID : 264330708939

Status : Answered

Chosen Option : 4

Q.5 एमएस वर्ड 365 (MS Word 365) के निम्नलिखित में से किस टैब के अंतर्गत आपको बुलेट्स और नंबरिंग (Bullets and Numbering) मिलेगी?

- Ans
- ☒ 1. रेफरेंसेस (References)
 - ☒ 2. पेज ले-आउट (Page Layout)
 - ☒ 3. होम (Home)
 - ☒ 4. इन्सर्ट (Insert)

Question ID : 264330171406

Option 1 ID : 264330672242

Option 2 ID : 264330672241

Option 3 ID : 264330672239

Option 4 ID : 264330672240

Status : Answered

Chosen Option : 3

Q.6 एमएस एक्सेल 365 (MS Excel 365) में, एमएस एक्सेल में डेटा पेस्ट करने के लिए निम्नलिखित में से किस शॉर्टकट कुंजी (shortcut key) का उपयोग किया जाता है?

- Ans
- ☒ 1. Ctrl + C
 - ☒ 2. Ctrl + V
 - ☒ 3. Shift + V
 - ☒ 4. Alt + V

Question ID : 264330176694

Option 1 ID : 264330692991

Option 2 ID : 264330692993

Option 3 ID : 264330692992

Option 4 ID : 264330692994

Status : Answered

Chosen Option : 2

Q.7 Which option in the context menu allows you to paste the copied text with formatting removed in Microsoft Word 365?

- Ans
- ☐ 1. Paste
 - ☐ 2. Paste Special
 - ☐ 3. Paste as Unformatted Text
 - ☒ 4. Paste as Plain Text

Question ID : 264330173578

Option 1 ID : 264330680791

Option 2 ID : 264330680792

Option 3 ID : 264330680794

Option 4 ID : 264330680793

Status : Answered

Chosen Option : 2

Q.8 माइक्रोसॉफ्ट एक्सेल 365 (Microsoft Excel 365) में डेटा सॉर्ट करने का उद्देश्य क्या होता है?

- Ans
- ☒ 1. वैल्यू के आधार पर डेटा को एक विशिष्ट क्रम में व्यवस्थित करना
 - ☐ 2. चार्ट और ग्राफ़ बनाना
 - ☐ 3. डेटा के औसत की गणना करना
 - ☐ 4. केवल सेल पर फॉर्मेटिंग लागू करना

Question ID : 264330180690

Option 1 ID : 264330708729

Option 2 ID : 264330708730

Option 3 ID : 264330708728

Option 4 ID : 264330708727

Status : Answered

Chosen Option : 1

Q.9 एक नया ई-मेल कम्पोज़ करने की प्रक्रिया में, प्राथमिक प्राप्तकर्ता का ई-मेल एड्रेस इंटर करने का सामान्य स्थान कौन-सा होता है?

- Ans
- ☒ 1. 'To' फ़ील्ड ('To' field)
 - ☐ 2. 'CC' फ़ील्ड ('CC' field)
 - ☐ 3. सब्जेक्ट लाइन (Subject line)
 - ☐ 4. ई-मेल का मुख्य भाग (Body of the email)

Question ID : 264330177646

Option 1 ID : 264330696701

Option 2 ID : 264330696702

Option 3 ID : 264330696699

Option 4 ID : 264330696700

Status : Answered

Chosen Option : 1

Q.10 एमएस वर्ड 365 (MS Word 365) में नया ब्लैंक डॉक्यूमेंट क्रिएट करने के लिए सामान्यतः किस कीबोर्ड शॉर्टकट का उपयोग किया जाता है?

Ans  1. Ctrl + O

 2. Ctrl + N

 3. Ctrl + C

 4. Ctrl + S

Question ID : 264330180854

Option 1 ID : 264330709380

Option 2 ID : 264330709379

Option 3 ID : 264330709382

Option 4 ID : 264330709381

Status : Answered

Chosen Option : 2