

Constable Executive Male and Female in Delhi Police Examination 2023

Roll Number	
Candidate Name	
Venue Name	Bharat Institute of Technology
Exam Date	30/11/2023
Exam Time	9:00 AM - 10:30 AM
Subject	Constable Executive Male and Female in Delhi Police Examination 2023

Section : General Knowledge

Q.1 सर्वोच्च न्यायालय के क्षेत्राधिकार की गारंटी निम्नलिखित में से किसके द्वारा दी जाती है?

- Ans
- ☒ 1. मुख्य न्यायाधीश
 - ☒ 2. संसद
 - ☒ 3. संविधान
 - ☒ 4. राष्ट्रपति

Question ID : 264330173525

Option 1 ID : 264330680581

Option 2 ID : 264330680580

Option 3 ID : 264330680579

Option 4 ID : 264330680582

Status : Answered

Chosen Option : 3

Q.2 भारत का अधिकांश विदेशी व्यापार परिवहन के किस माध्यम से होता है?

- Ans
- ☒ 1. समुद्री परिवहन
 - ☒ 2. वायु परिवहन
 - ☒ 3. रेल परिवहन
 - ☒ 4. सड़क परिवहन

Question ID : 264330120317

Option 1 ID : 264330471521

Option 2 ID : 264330471520

Option 3 ID : 264330471519





Option 4 ID : 264330471522

Status : Answered

Chosen Option : 1

Q.3 समूह I में दिए गए रोगों को समूह II में संचरण के प्रकार के साथ सुमेलित कीजिए।

- | समूह I | समूह II |
|----------------------------|---------------------------------|
| (a) तानिकाशोथ (Meningitis) | (i) त्वचा या म्यूकोसा में संचरण |
| (b) रेबीज (Rabies) | (ii) दूषित खाद्य पदार्थ या जल |
| (c) टाइफॉइड (Typhoid) | (iii) मिट्टी के साथ संपर्क |
| (d) टिटनेस (Tetanus) | (iv) बिंदुक संक्रमण |

- Ans  1. (a)-(i), (b)-(iv), (c)-(ii), (d)-(iii)
-  2. (a)-(iv), (b)-(i), (c)-(ii), (d)-(iii)
-  3. (a)-(ii), (b)-(i), (c)-(iv), (d)-(iii)
-  4. (a)-(iv), (b)-(i), (c)-(iii), (d)-(ii)





Question ID : 264330182449
Option 1 ID : 264330715595
Option 2 ID : 264330715597
Option 3 ID : 264330715596
Option 4 ID : 264330715598
Status : Answered
Chosen Option : 1

Q.4 Irregular growth of teeth is due to the deficiencies of vitamin ____.

- Ans  1. A
-  2. D
-  3. K
-  4. B

Question ID : 264330120063
Option 1 ID : 264330470507
Option 2 ID : 264330470510
Option 3 ID : 264330470509
Option 4 ID : 264330470508
Status : Answered
Chosen Option : 2

Q.5 व्यापार-बाधाओं का निम्नलिखित में से कौन-सा कार्य है?

- Ans  1. पैक किए गए सामान को प्रतिबंधित करना
-  2. माल बनाने पर रोक लगाना
-  3. अंतरराष्ट्रीय वस्तुओं और सेवाओं के प्रवाह को प्रतिबंधित करना
-  4. भारत में भारतीय वस्तुओं और सेवाओं के प्रवाह को प्रतिबंधित करना

Question ID : 264330117794
Option 1 ID : 264330462994
Option 2 ID : 264330462993
Option 3 ID : 264330462991
Option 4 ID : 264330462992
Status : Answered
Chosen Option : 3

Q.6 'पोपीर' नृत्य का संबंध निम्नलिखित में से किस राज्य से है?

- Ans
- ☒ 1. झारखंड
 - ☒ 2. मध्य प्रदेश
 - ☒ 3. छत्तीसगढ़
 - ☒ 4. अरुणाचल प्रदेश

Question ID : 264330106193

Option 1 ID : 264330417074

Option 2 ID : 264330417075

Option 3 ID : 264330417076

Option 4 ID : 264330417073

Status : Answered

Chosen Option : 2

Q.7 'द स्टोरी ऑफ़ माई एक्सपेरिमेंट्स विद डूथ', _____ की आत्मकथा है।

- Ans
- ☒ 1. महात्मा गांधी
 - ☒ 2. सरदार वल्लभ भाई पटेल
 - ☒ 3. जवाहर लाल नेहरू
 - ☒ 4. भीमराव अम्बेडकर

Question ID : 26433054171

Option 1 ID : 264330211669

Option 2 ID : 264330211670

Option 3 ID : 264330211668

Option 4 ID : 264330211671

Status : Answered

Chosen Option : 1

Q.8 दो निकटवर्ती शृंगों या गर्त के बीच की क्षैतिज दूरी को _____ के रूप में जाना जाता है।

- Ans
- ☒ 1. तरंगवधि
 - ☒ 2. तरंग-आवृत्ति
 - ☒ 3. तरंग-दैर्घ्य
 - ☒ 4. तरंग-चाल

Question ID : 264330118521

Option 1 ID : 264330465486

Option 2 ID : 264330465488

Option 3 ID : 264330465487

Option 4 ID : 264330465485

Status : Answered

Chosen Option : 3

Q.9 भारत के योजना आयोग (2011-12) के अनुसार, राज्यों के किस समूह में सबसे अधिक गरीबी अनुपात है?

- Ans
- ☒ 1. छत्तीसगढ़ और झारखंड
 - ☒ 2. महाराष्ट्र और गुजरात
 - ☒ 3. पंजाब और हरियाणा
 - ☒ 4. मध्य प्रदेश और उत्तर प्रदेश

Question ID : 264330119915

Option 1 ID : 264330469938

Option 2 ID : 264330469937

Option 3 ID : 264330469936

Option 4 ID : 264330469935

Status : Answered

Chosen Option : 1

Q.10 राज्य-सूची के निम्नलिखित में से किस मामले पर दिल्ली का विधानमंडल कानून बना सकता है?

- Ans ☒ 1. पुलिस
☒ 2. स्वास्थ्य
☒ 3. सार्वजनिक व्यवस्था
☒ 4. भूमि

Question ID : 264330120199

Option 1 ID : 264330471053

Option 2 ID : 264330471052

Option 3 ID : 264330471051

Option 4 ID : 264330471054

Status : Answered

Chosen Option : 4

Q.11 निम्नलिखित में से किसने 'स्त्रीपुरुषतुलना' पुस्तक प्रकाशित की, जिसमें पुरुषों और महिलाओं के बीच सामाजिक अंतरों की आलोचना की गई थी?

- Ans ☒ 1. विजया लक्ष्मी पंडित
☒ 2. पंडिता रमाबाई
☒ 3. ईश्वर चंद्र विद्यासागर
☒ 4. ताराबाई शिंदे

Question ID : 264330119022

Option 1 ID : 264330466744

Option 2 ID : 264330466743

Option 3 ID : 264330466746

Option 4 ID : 264330466745

Status : Answered

Chosen Option : 4

Q.12 Suppose a person has four acres of land in India, and he actually needs only two workers and himself to carry out various operations on his farm in a year, but if he employs five workers and his family members such as his wife and children", this situation known as _____.

- Ans ☒ 1. Disguised Unemployment
☒ 2. Seasonal Unemployment
☒ 3. Transitional Unemployment
☒ 4. Open Unemployment

Question ID : 264330119824

Option 1 ID : 264330469572

Option 2 ID : 264330469571

Option 3 ID : 264330469573

Option 4 ID : 264330469574

Status : Answered

Chosen Option : 1

Q.13 वैश्वीकरण के संदर्भ में FDI एक महत्वपूर्ण शब्द है। FDI में। का क्या अर्थ है?

- Ans
- ☒ 1. Investor (इंवेस्टर)
 - ☒ 2. Interest (इंट्रेस्ट)
 - ☒ 3. Investment (इन्वेस्टमेंट)
 - ☒ 4. International (इंटरनेशनल)

Question ID : 264330109405

Option 1 ID : 264330429900

Option 2 ID : 264330429897

Option 3 ID : 264330429899

Option 4 ID : 264330429898

Status : Answered

Chosen Option : 3

Q.14 भारतीय संविधान का निम्नलिखित में से कौन-सा अनुच्छेद समान न्याय और निःशुल्क कानूनी सहायता से संबंधित है?

- Ans
- ☒ 1. अनुच्छेद 48 A
 - ☒ 2. अनुच्छेद 39 A
 - ☒ 3. अनुच्छेद 51 A
 - ☒ 4. अनुच्छेद 43 A

Question ID : 264330180055

Option 1 ID : 264330706205

Option 2 ID : 264330706203

Option 3 ID : 264330706206

Option 4 ID : 264330706204

Status : Answered

Chosen Option : 2

Q.15 निम्नलिखित में से किसने भारतीय स्लाइड वादक, गायक और संगीतकार के रूप में 2019 में प्लैनेट सिम्फनी ऑर्केस्ट्रा की शुरुआत की?

- Ans
- ☒ 1. अभय जोधपुरकर
 - ☒ 2. राहुल राम
 - ☒ 3. नरसिम्हन रविकिरण
 - ☒ 4. मोहन कन्नन

Question ID : 264330111959

Option 1 ID : 264330439921

Option 2 ID : 264330439924

Option 3 ID : 264330439922

Option 4 ID : 264330439923

Status : Not Answered

Chosen Option : --

Q.16 भजन सोपोरी निम्नलिखित में से किस वाद्य-यंत्र से जुड़े है?

- Ans
- ☒ 1. बीन
 - ☒ 2. संतूर
 - ☒ 3. सरोद
 - ☒ 4. वायोलिन

Question ID : 264330111944

Option 1 ID : 264330439864

Option 2 ID : 264330439863

Option 3 ID : 264330439862

Option 4 ID : 264330439861

Status : Answered

Chosen Option : 2

Q.17 अन्नपूर्णा फाइनेंस प्राइवेट लिमिटेड की उत्पत्ति _____ नामक गैर-लाभकारी कंपनी के रूप में हुई थी, जो एक एन.जी.ओ. (NGO) थी, जो ओडिशा में गरीब महिलाओं की मदद करती थी।

- Ans ☒ 1. पीपुल्स फोरम
- ☒ 2. ऑल इंडिया डेवलपमेंट ट्रस्ट
- ☒ 3. अल्टरनेटिव फॉर रुरल मूवमेंट
- ☒ 4. एक्शन फॉर रुरल ट्रांसफॉर्मेशन

Question ID : 264330116495
Option 1 ID : 264330458067
Option 2 ID : 264330458065
Option 3 ID : 264330458066
Option 4 ID : 264330458068
Status : Answered
Chosen Option : 4

Q.18 राष्ट्रकूट शासक दंतिदुर्ग की मृत्यु, बिना किसी पुरुष उत्तराधिकारी के हुई और उसके चाचा _____ उसके उत्तराधिकारी बने।

- Ans ☒ 1. कृष्ण प्रथम
- ☒ 2. अमोघवर्ष प्रथम
- ☒ 3. इंद्र प्रथम
- ☒ 4. गोविंद प्रथम

Question ID : 264330182259
Option 1 ID : 264330714862
Option 2 ID : 264330714861
Option 3 ID : 264330714860
Option 4 ID : 264330714859
Status : Answered
Chosen Option : 1

Q.19 1991 में, भारत एक आर्थिक संकट से जूझ रहा था, जिस समय _____ भंडार इतना कम हो गया था कि वह एक _____ के लिए भी पर्याप्त नहीं था।

- Ans ☒ 1. स्वर्ण; वर्ष
- ☒ 2. विदेशी मुद्रा; तिमाही
- ☒ 3. विदेशी मुद्रा; पखवाड़े
- ☒ 4. स्वर्ण; माह

Question ID : 264330109129
Option 1 ID : 264330428796
Option 2 ID : 264330428793
Option 3 ID : 264330428795
Option 4 ID : 264330428794
Status : Answered
Chosen Option : 3

Q.20 किस वर्ष मिहिर सेन ने एक ही कैलेंडर वर्ष में पांच महासागरों को तैरने वाला एकमात्र व्यक्ति बनकर इतिहास रचा था?

- Ans
- ☐ 1. 1949
 - ☐ 2. 1950
 - ☒ 3. 1966
 - ☐ 4. 1958

Question ID : 264330119276
Option 1 ID : 264330467393
Option 2 ID : 264330467394
Option 3 ID : 264330467391
Option 4 ID : 264330467392
Status : Answered
Chosen Option : 4

Q.21 Which famous chemist refuted the theory of 'vitalism' by saying that organic substances can only be produced from living things?

- Ans
- ☐ 1. Marcellin Berthelot
 - ☐ 2. John Dalton
 - ☐ 3. Antoine Lavoisier
 - ☒ 4. Friedrich Wohler

Question ID : 264330177874
Option 1 ID : 264330697584
Option 2 ID : 264330697586
Option 3 ID : 264330697585
Option 4 ID : 264330697583
Status : Answered
Chosen Option : 2

Q.22 जल संसाधन के बारे में निम्नलिखित में से कौन-सा कथन सत्य है?

- Ans
- ☐ 1. पानी जैविक और अजैविक दोनों संसाधन है।
 - ☐ 2. जल एक जैविक संसाधन है।
 - ☐ 3. जल एक गैर-नवीकरणीय संसाधन है।
 - ☒ 4. जल एक चक्रिक संसाधन है।

Question ID : 264330138013
Option 1 ID : 264330540660
Option 2 ID : 264330540659
Option 3 ID : 264330540661
Option 4 ID : 264330540662
Status : Answered
Chosen Option : 4

Q.23 कैलाश मंदिर निम्नलिखित में से किस प्रकार की चट्टान से बना है?

- Ans
- ☒ 1. बेसाल्ट
 - ☐ 2. ग्रेनाइट
 - ☐ 3. झाँवा
 - ☐ 4. संगमरमर

Question ID : 264330106251
Option 1 ID : 264330417306
Option 2 ID : 264330417307
Option 3 ID : 264330417305
Option 4 ID : 264330417308
Status : Answered
Chosen Option : 1

Q.24 भारतीय संविधान में विधायी प्रक्रिया किस देश से ली गई है?

- Ans
- ☒ 1. ऑस्ट्रेलिया
 - ☒ 2. जापान
 - ☒ 3. यूनाइटेड किंगडम
 - ☒ 4. आयरलैंड

Question ID : 264330183146

Option 1 ID : 264330718316

Option 2 ID : 264330718317

Option 3 ID : 264330718319

Option 4 ID : 264330718318

Status : Answered

Chosen Option : 3

Q.25 2011 की जनगणना के अनुसार, भारत में महिलाओं की साक्षरता दर पुरुषों की तुलना में _____ है।

- Ans
- ☒ 1. अनुमान नहीं लगाया जा सकता
 - ☒ 2. कम
 - ☒ 3. बराबर
 - ☒ 4. अधिक

Question ID : 264330179275

Option 1 ID : 264330703106

Option 2 ID : 264330703104

Option 3 ID : 264330703105

Option 4 ID : 264330703103

Status : Answered

Chosen Option : 2

Q.26 निम्नलिखित में से किसे कोशिकाओं का पावर-हाउस कहा जाता है?

- Ans
- ☒ 1. केंद्रक
 - ☒ 2. माइटोकॉन्ड्रिया
 - ☒ 3. राइबोसोम
 - ☒ 4. कोशिका द्रव्य

Question ID : 264330117603

Option 1 ID : 264330462439

Option 2 ID : 264330462437

Option 3 ID : 264330462438

Option 4 ID : 264330462440

Status : Answered

Chosen Option : 2

Q.27 भगवान बुद्ध की जयंती मनाने के लिए कौन-सा त्योहार मनाया जाता है?

- Ans
- ☒ 1. उल्लम्बाना
 - ☒ 2. कथिना
 - ☒ 3. परिनिर्वाण दिवस
 - ☒ 4. वेसाक

Question ID : 264330118490

Option 1 ID : 264330465363

Option 2 ID : 264330465364

Option 3 ID : 264330465362

Option 4 ID : 264330465361

Status : Answered

Chosen Option : 1

Q.28 मौलिक कर्तव्यों को सबसे पहले किस संविधान संशोधन अधिनियम द्वारा शामिल किया गया था?

- Ans
- ☐ 1. 44वें संविधान संशोधन अधिनियम द्वारा
 - ☐ 2. 46वें संविधान संशोधन अधिनियम द्वारा
 - ☐ 3. 48वें संविधान संशोधन अधिनियम द्वारा
 - ☒ 4. 42वें संविधान संशोधन अधिनियम द्वारा

Question ID : 264330111517

Option 1 ID : 264330438154

Option 2 ID : 264330438155

Option 3 ID : 264330438156

Option 4 ID : 264330438153

Status : Answered

Chosen Option : 4

Q.29 निम्नलिखित में से कौन-से, जुलाई 1991 में शुरू किए गए व्यापक उदारीकरण सुधारों का हिस्सा नहीं थे?

- Ans
- ☐ 1. वित्तीय क्षेत्र में सुधार
 - ☐ 2. व्यापार और पूँजी प्रवाह सुधार
 - ☒ 3. जनसांख्यिकीय सुधार
 - ☐ 4. विनिवेश और सार्वजनिक उद्यम सुधार

Question ID : 264330120212

Option 1 ID : 264330471104

Option 2 ID : 264330471103

Option 3 ID : 264330471105

Option 4 ID : 264330471106

Status : Answered

Chosen Option : 3

Q.30 भगत सिंह और _____ ने 8 अप्रैल 1929 को केन्द्रीय विधान सभा में बम फेंका था।

- Ans
- ☐ 1. जयदेव कपूर
 - ☐ 2. शिवराम राजगुरु
 - ☐ 3. सुखदेव थापर
 - ☒ 4. बटुकेश्वर दत्त

Question ID : 264330114112

Option 1 ID : 264330448536

Option 2 ID : 264330448534

Option 3 ID : 264330448533

Option 4 ID : 264330448535

Status : Answered

Chosen Option : 4

Q.31 कुमुदिनी लखिया कौन-सा नृत्य करती हैं?

- Ans
- ☐ 1. मणिपुरी
 - ☐ 2. कथकली
 - ☐ 3. भरतनाट्यम
 - ☒ 4. कथक

Question ID : 26433086933

Option 1 ID : 264330341373

Option 2 ID : 264330341374

Option 3 ID : 264330341376

Option 4 ID : 264330341375

Status : Answered

Chosen Option : 4

Q.32 जंतर मंतर, जयपुर में कितने मुख्य स्थिर यंत्र पाए जाते हैं?

Ans ☒ 1. 17

☒ 2. 20

☒ 3. 15

☒ 4. 25

Question ID : 26433090745

Option 1 ID : 264330356402

Option 2 ID : 264330356404

Option 3 ID : 264330356401

Option 4 ID : 264330356403

Status : Answered

Chosen Option : 3

Q.33 निम्नलिखित में से कौन सा देश फीफा फुटबॉल विश्व कप 2022 का विजेता है?

Ans ☒ 1. इंग्लैंड

☒ 2. जापान

☒ 3. ब्राज़ील

☒ 4. अर्जेंटीना

Question ID : 264330130622

Option 1 ID : 264330511602

Option 2 ID : 264330511601

Option 3 ID : 264330511599

Option 4 ID : 264330511600

Status : Answered

Chosen Option : 3

Q.34 वीरनाट्यम निम्न में से किस राज्य के नृत्य की एक प्राचीन शैली है?

Ans ☒ 1. आंध्र प्रदेश

☒ 2. राजस्थान

☒ 3. उत्तर प्रदेश

☒ 4. पंजाब

Question ID : 264330109281

Option 1 ID : 264330429404

Option 2 ID : 264330429401

Option 3 ID : 264330429402

Option 4 ID : 264330429403

Status : Answered

Chosen Option : 1

Q.35 भारत में 'कोमन' और 'कुरुवा' _____ के नाम हैं।

Ans ☒ 1. पश्चिमी घाट की चोटियाँ

☒ 2. कृत्रिम झीलें

☒ 3. हिमालय की जनजातियाँ

☒ 4. कर्तन दहन कृषि

Question ID : 264330120311

Option 1 ID : 264330471498

Option 2 ID : 264330471497

Option 3 ID : 264330471496

Option 4 ID : 264330471495

Status : Answered

Chosen Option : 4

Q.36 लाई हराओबा, जिसका शाब्दिक अर्थ 'देवताओं का त्योहार' है, मुख्य रूप से भारत के किस राज्य में मनाया जाता है?

- Ans
- ☒ 1. उत्तराखंड
 - ☒ 2. हिमाचल प्रदेश
 - ☒ 3. मणिपुर
 - ☒ 4. केरल

Question ID : 264330111789
Option 1 ID : 264330439244
Option 2 ID : 264330439243
Option 3 ID : 264330439242
Option 4 ID : 264330439241
Status : Answered
Chosen Option : 3

Q.37 निम्नलिखित में से किस नदी को 'दक्षिण गंगा' के नाम से भी जाना जाता है?

- Ans
- ☒ 1. भार्गवी नदी
 - ☒ 2. प्राणहिता नदी
 - ☒ 3. महानदी नदी
 - ☒ 4. गोदावरी नदी

Question ID : 264330178011
Option 1 ID : 264330698121
Option 2 ID : 264330698122
Option 3 ID : 264330698120
Option 4 ID : 264330698119
Status : Answered
Chosen Option : 4

Q.38 निम्नलिखित में से किस अधिवेशन में भारतीय राष्ट्रीय कांग्रेस ने साइमन कमीशन के बहिष्कार का निर्णय लिया?

- Ans
- ☒ 1. इलाहाबाद अधिवेशन
 - ☒ 2. मद्रास अधिवेशन
 - ☒ 3. बंबई अधिवेशन
 - ☒ 4. पूना अधिवेशन

Question ID : 264330117807
Option 1 ID : 264330463046
Option 2 ID : 264330463043
Option 3 ID : 264330463044
Option 4 ID : 264330463045
Status : Answered
Chosen Option : 1

Q.39 किसी अर्थव्यवस्था में, यदि कारक लागत पर सकल राष्ट्रीय उत्पाद ₹10,000 करोड़ है, मूल्यहास ₹250 करोड़ है, विदेशों से शुद्ध कारक आय ₹500 करोड़ है, तो राष्ट्रीय आय का मान क्या है?

- Ans
- ☒ 1. ₹10,250 करोड़
 - ☒ 2. ₹9,250 करोड़
 - ☒ 3. ₹9,750 करोड़
 - ☒ 4. ₹10,750 करोड़

Question ID : 264330117976
Option 1 ID : 264330463720
Option 2 ID : 264330463722
Option 3 ID : 264330463721
Option 4 ID : 264330463719
Status : Answered
Chosen Option : 1

Q.40 निम्नलिखित में से किस पंचवर्षीय योजना अवधि से भारत सरकार द्वारा पंचवर्षीय योजना का निर्माण और कार्यान्वयन बंद कर दिया गया था?

- Ans
- ☒ 1. दसवीं पंचवर्षीय योजना
 - ☒ 2. बारहवीं पंचवर्षीय योजना
 - ☒ 3. नौवीं पंचवर्षीय योजना
 - ☒ 4. ग्यारहवीं पंचवर्षीय योजना

Question ID : 264330111742
Option 1 ID : 264330439054
Option 2 ID : 264330439056
Option 3 ID : 264330439053
Option 4 ID : 264330439055
Status : Answered
Chosen Option : 2

Q.41 पानीपत की पहली लड़ाई 20 अप्रैल 1526 को बाबर और _____ के बीच लड़ी गई थी।

- Ans
- ☒ 1. इब्राहिम लोदी
 - ☒ 2. सिकंदर लोदी
 - ☒ 3. बहलोल लोदी
 - ☒ 4. महमूद लोदी

Question ID : 264330113572
Option 1 ID : 264330446376
Option 2 ID : 264330446375
Option 3 ID : 264330446374
Option 4 ID : 264330446373
Status : Answered
Chosen Option : 1

Q.42 हनुक्का एक _____ त्यौहार है।

- Ans
- ☒ 1. बौद्ध
 - ☒ 2. यहूदी
 - ☒ 3. जैन
 - ☒ 4. सिख

Question ID : 264330109313
Option 1 ID : 264330429531
Option 2 ID : 264330429530
Option 3 ID : 264330429529
Option 4 ID : 264330429532
Status : Answered
Chosen Option : 2

Q.43 Who among the following has the power to make provision as he/she may think fit for the discharge of the functions of the Governor of a State in any contingency?

- Ans
- ☒ 1. Chief Justice of India
 - ☒ 2. Prime Minister
 - ☒ 3. Chief Justice of the High Court
 - ☒ 4. President

Question ID : 26433053627

Option 1 ID : 264330209811

Option 2 ID : 264330209813

Option 3 ID : 264330209812

Option 4 ID : 264330209810

Status : Answered

Chosen Option : 4

Q.44 सातवाहनों के सातकर्णी प्रथम की राजधानी _____ थी।

- Ans
- ☒ 1. प्रतिष्ठान
 - ☒ 2. अनाहिलपुरा
 - ☒ 3. अनाहिलपटन
 - ☒ 4. प्रभास पाटन

Question ID : 264330120139

Option 1 ID : 264330470812

Option 2 ID : 264330470813

Option 3 ID : 264330470814

Option 4 ID : 264330470811

Status : Answered

Chosen Option : 3

Q.45 जूनागढ़ में मौर्य बांध की मरम्मत का संस्कृत में शिलालेख निम्नलिखित में से किसका था?

- Ans
- ☒ 1. कनिष्क
 - ☒ 2. रुद्रदामन
 - ☒ 3. मिलिन्द (मेनांडर)
 - ☒ 4. गौतमीपुत्र सातकर्णी

Question ID : 264330120283

Option 1 ID : 264330471383

Option 2 ID : 264330471384

Option 3 ID : 264330471386

Option 4 ID : 264330471385

Status : Answered

Chosen Option : 2

Q.46 भारतीय संविधान का कौन सा अनुच्छेद सरकार द्वारा संचालित और सरकार द्वारा वित्तपोषित शैक्षिक संस्थानों में धार्मिक निर्देशों को प्रतिबंधित और निषेधित करता है?

- Ans
- ☒ 1. अनुच्छेद 25
 - ☒ 2. अनुच्छेद 28
 - ☒ 3. अनुच्छेद 23
 - ☒ 4. अनुच्छेद 29

Question ID : 264330119681

Option 1 ID : 264330469000

Option 2 ID : 264330469001

Option 3 ID : 264330468999

Option 4 ID : 264330469002

Status : Answered

Chosen Option : 2

Q.47 निम्नलिखित में से किसने 'निर्मला' की रचना की?

- Ans
- ☒ 1. जयशंकर प्रसाद
 - ☒ 2. रामधारी सिंह
 - ☒ 3. मुंशी प्रेमचंद
 - ☒ 4. श्रीलाल शुक्ल

Question ID : 26433086912

Option 1 ID : 264330341289

Option 2 ID : 264330341290

Option 3 ID : 264330341291

Option 4 ID : 264330341292

Status : Not Answered

Chosen Option : --

Q.48 2022 में, भारत द्वारा FIFA U-17 महिला विश्व कप के किस संस्करण की मेजबानी की गई थी?

- Ans
- ☒ 1. चौथे
 - ☒ 2. पाँचवें
 - ☒ 3. छठे
 - ☒ 4. सातवें

Question ID : 264330113733

Option 1 ID : 264330447020

Option 2 ID : 264330447019

Option 3 ID : 264330447017

Option 4 ID : 264330447018

Status : Not Answered

Chosen Option : --

Q.49 भारत में प्रो-रेसलिंग लीग की शुरुआत कब हुई थी?

- Ans
- ☒ 1. 2015 में
 - ☒ 2. 2010 में
 - ☒ 3. 2017 में
 - ☒ 4. 2014 में

Question ID : 264330176079

Option 1 ID : 264330690612

Option 2 ID : 264330690614

Option 3 ID : 264330690613

Option 4 ID : 264330690611

Status : Answered

Chosen Option : 4

Q.50 वेदांत दर्शन को बढ़ावा देकर भारतीय समाज को पुनर्जीवित करने के लिए रामकृष्ण मिशन की स्थापना _____ द्वारा की गई थी।

- Ans
- ☒ 1. स्वामी विवेकानंद
 - ☒ 2. स्वामी दयानंद सरस्वती
 - ☒ 3. राजा राम मोहन राय
 - ☒ 4. देबेंद्रनाथ टैगोर

Question ID : 264330112402

Option 1 ID : 264330441693

Option 2 ID : 264330441695

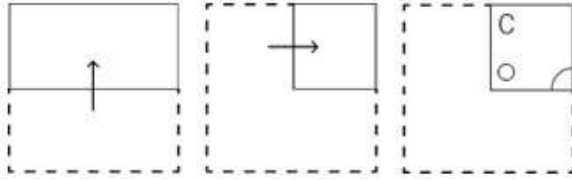
Option 3 ID : 264330441696

Option 4 ID : 264330441694

Status : Answered

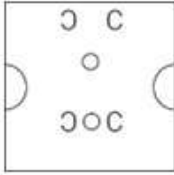
Chosen Option : 1

Q.1 एक कागज को नीचे दिखाए अनुसार मोड़ा और काटा जाता है। खोलने पर यह कैसा दिखाई देगा?

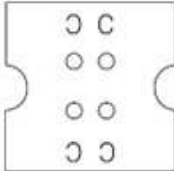


Ans

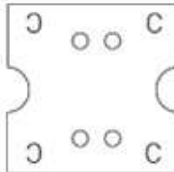
✗ 1.



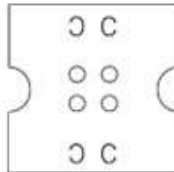
✗ 2.



✗ 3.



✓ 4.



Question ID : 264330114712

Option 1 ID : 264330450934

Option 2 ID : 264330450935

Option 3 ID : 264330450933

Option 4 ID : 264330450936

Status : Answered

Chosen Option : 4

Q.2 दो कथनों के बाद दो निष्कर्ष I और II दिए गए हैं। कथनों को सत्य मानते हुए, भले ही वे सामान्य रूप से ज्ञात तथ्यों से भिन्न प्रतीत होते हों, निर्णय करें कि कौन-सा/से निष्कर्ष कथनों का तार्किक रूप से अनुसरण करता है/करते हैं?

कथन:

सभी घर इमारतें हैं।

कुछ घर अपार्टमेंट हैं।

निष्कर्ष:

I. सभी इमारतें घर हैं।

II. कुछ इमारतें अपार्टमेंट हैं।

Ans

✗ 1. निष्कर्ष I और II दोनों अनुसरण करते हैं।

✗ 2. निष्कर्ष I और II दोनों में से कोई अनुसरण नहीं करता है।

✗ 3. केवल निष्कर्ष I अनुसरण करता है।

✓ 4. केवल निष्कर्ष II अनुसरण करता है।

Question ID : 26433081677

Option 1 ID : 264330320543

Option 2 ID : 264330320544

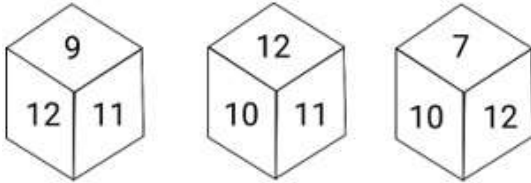
Option 3 ID : 264330320541

Option 4 ID : 264330320542

Status : Answered

Chosen Option : 4

Q.3 एक पासे के अलग-अलग फलकों पर छह संख्याएं 7, 8, 9, 10, 11 और 12 लिखी गई हैं। इस पासे की तीन स्थितियां यहां दर्शाई गई हैं। 11 संख्या वाले फलक के विपरीत फलक पर कौन-सी संख्या होगी?



- Ans
- ☒ 1. 10
 - ☒ 2. 9
 - ☒ 3. 7
 - ☒ 4. 8

Question ID : 264330106399

Option 1 ID : 264330417900

Option 2 ID : 264330417899

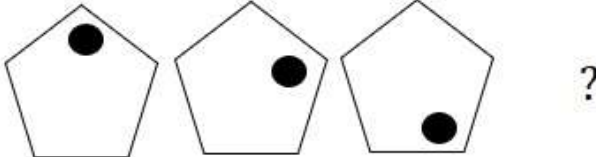
Option 3 ID : 264330417897

Option 4 ID : 264330417898

Status : Answered

Chosen Option : 3

Q.4 उस आकृति का चयन करें जो निम्नलिखित आकृति श्रृंखला में प्रश्न चिह्न (?) के स्थान पर आएगी।



Ans

- ☒ 1.
- ☒ 2.
- ☒ 3.
- ☒ 4.

Question ID : 264330112030

Option 1 ID : 264330440207

Option 2 ID : 264330440208

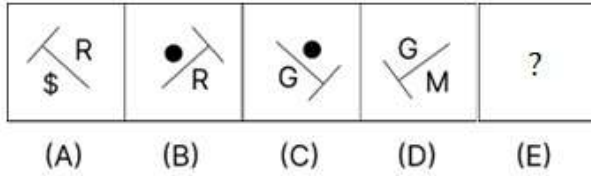
Option 3 ID : 264330440206

Option 4 ID : 264330440205

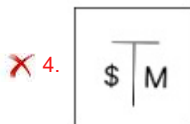
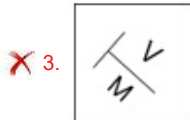
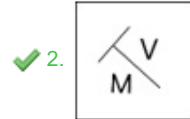
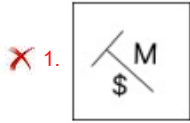
Status : Answered

Chosen Option : 1

Q.5 नीचे आकृतियों - A, B, C और D की एक श्रृंखला दी गई है, जो एक विशेष पैटर्न का अनुसरण करती हैं। श्रृंखला को जारी रखने के लिए दिए गए विकल्पों में से कौन-सी आकृति E के स्थान पर आनी चाहिए?



Ans



Question ID : 264330111289

Option 1 ID : 264330437243

Option 2 ID : 264330437242

Option 3 ID : 264330437241

Option 4 ID : 264330437244

Status : Answered

Chosen Option : 2

Q.6 निम्नलिखित श्रृंखला को जारी रखने के लिए प्रश्न चिह्न (?) के स्थान पर कौन सी आकृति आनी चाहिए?

			♡			P				K				♡					I		
P	I	3	K	N	3	I	♡	♡	N	3	I	P	3	N	K	K	P	3	N		?
N				K				P				I				♡					

Ans

✗ 1.

			♡
N	3	P	K
I			

✗ 2.

			N
♡	3	P	I
K			

✓ 3.

			K
♡	3	P	I
N			

✗ 4.

			♡
N	K	P	3
I			

Question ID : 264330103886

Option 1 ID : 264330407847

Option 2 ID : 264330407845

Option 3 ID : 264330407846

Option 4 ID : 264330407848

Status : Answered

Chosen Option : 3

Q.7 गणितीय चिह्नों के उस सही संयोजन का चयन करें, जो * चिह्नों को क्रमिक रूप से प्रतिस्थापित कर सकता है और दिए गए समीकरण को संतुलित कर सकता है।
6*12*3*8*3*35

Ans

✗ 1. +, -, x, ÷, =

✗ 2. +, x, -, ÷, =

✗ 3. ÷, -, x, +, =

✓ 4. +, ÷, x, -, =

Question ID : 26433079093

Option 1 ID : 264330310379

Option 2 ID : 264330310376

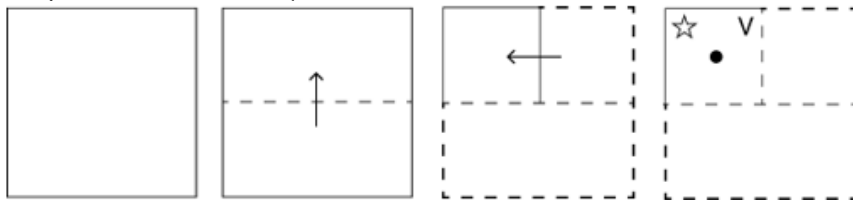
Option 3 ID : 264330310377

Option 4 ID : 264330310378

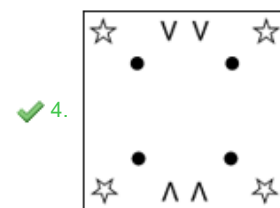
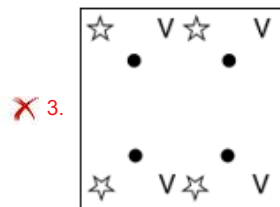
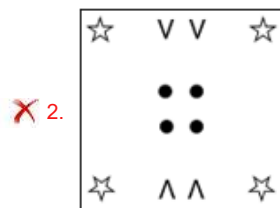
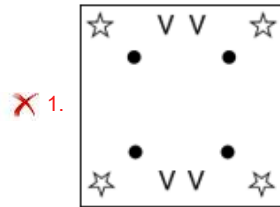
Status : Answered

Chosen Option : 4

Q.8 कागज की एक वर्गाकार शीट को बिंदीदार रेखा के अनुदिश दिखाए गए निर्देशों के अनुसार क्रमिक रूप से मोड़ा जाता है और फिर अंत में इसे छिद्रित किया जाता है। कागज को खोलने पर यह कैसा दिखेगा?



Ans



Question ID : 264330172425

Option 1 ID : 264330676251

Option 2 ID : 264330676254

Option 3 ID : 264330676252

Option 4 ID : 264330676253

Status : Answered

Chosen Option : 4

Q.9 सात बच्चे, G, H, I, J, K, L और M, एक सीधी पंक्ति में उत्तर की ओर मुख करके बैठे हैं। H के दाएं केवल दो बच्चे बैठे हैं। H और I के बीच केवल तीन बच्चे बैठे हैं। J, H के ठीक दाएं और G के ठीक बाएं बैठा है। K, L के ठीक दाएं बैठा है और H के ठीक बगल में नहीं बैठा है। पंक्ति के बाएं सिरे से दूसरे स्थान पर कौन बैठा है?

- Ans ☒ 1. I
☒ 2. L
☒ 3. H
☒ 4. K

Question ID : 26433089504
Option 1 ID : 264330351517
Option 2 ID : 264330351519
Option 3 ID : 264330351520
Option 4 ID : 264330351518
Status : Answered
Chosen Option : 2

Q.10 दी गई आकृति के बाद चार विकल्प आकृतियां दी गई हैं। उस विकल्प आकृति का चयन करें जिसमें यह आकृति अंतःस्थापित है (अर्थात्, यह आकृति इसी रूप में समाहित है; घूर्णन की अनुमति नहीं है)।



Ans

- ☒ 1.
- ☒ 2.
- ☒ 3.
- ☒ 4.

Question ID : 264330121620
Option 1 ID : 264330476654
Option 2 ID : 264330476653
Option 3 ID : 264330476652
Option 4 ID : 264330476651
Status : Answered
Chosen Option : 2

Q.11 उस विकल्प का चयन करें, जो अक्षरों के उस क्रम का प्रतिनिधित्व करता है, जिसे नीचे दिए गए रिक्त स्थानों में क्रमिक रूप से बाएँ से दाएँ रखे जाने पर दी गई अक्षर श्रृंखला पूरी हो जाएगी।
_ L _ O P H _ N _ P H L N _ _ H L _ O _

- Ans ☒ 1. HNOLOPPN
☒ 2. HNLOOPNP
☒ 3. NHOLOPPN
☒ 4. NHLOPONP

Question ID : 26433095982
Option 1 ID : 264330376700
Option 2 ID : 264330376698
Option 3 ID : 264330376699
Option 4 ID : 264330376697
Status : Answered
Chosen Option : 2

Q.12 एक निश्चित कूट भाषा में, 'JAM' को 'KCP' के रूप में लिखा जाता है और 'MUG' को 'NWJ' के रूप में लिखा जाता है। उसी भाषा में 'TEA' को कैसे लिखा जाएगा?

- Ans ☒ 1. UFB
☒ 2. UFC
☒ 3. UGC
☒ 4. UGD

Question ID : 26433087176
Option 1 ID : 264330342342
Option 2 ID : 264330342341
Option 3 ID : 264330342344
Option 4 ID : 264330342343
Status : Answered
Chosen Option : 4

Q.13 उस विकल्प का चयन कीजिए, जो तीसरे शब्द से उसी प्रकार संबंधित है, जिस प्रकार दूसरा शब्द पहले शब्द से संबंधित है।
(शब्दों को अंग्रेजी/हिंदी के अर्थपूर्ण शब्दों के रूप में माना जाना चाहिए और ये शब्द, अक्षरों की संख्या/ व्यंजनों/स्वरों की संख्या के आधार पर एक-दूसरे से संबंधित नहीं होने चाहिए।)
गर्मी : ग्रीष्म ऋतु :: ठंड : ?

- Ans ☒ 1. अगस्त
☒ 2. शीत ऋतु
☒ 3. अप्रैल
☒ 4. फरवरी

Question ID : 26433069139
Option 1 ID : 264330271071
Option 2 ID : 264330271069
Option 3 ID : 264330271070
Option 4 ID : 264330271068
Status : Answered
Chosen Option : 2

Q.14 निम्नलिखित में से कौन-सा विकल्प दी गई श्रृंखला में प्रश्नवाचक चिन्ह (?) को प्रतिस्थापित करेगा?
47, 56.4, 67.68, 81.216, ?

- Ans ☒ 1. 86.9544
☒ 2. 97.4592
☒ 3. 9.7632
☒ 4. 91.3462

Question ID : 264330109441

Option 1 ID : 264330430043

Option 2 ID : 264330430041

Option 3 ID : 264330430044

Option 4 ID : 264330430042

Status : Answered

Chosen Option : 2

Q.15 विकल्पों में से उस आकृति का चयन कीजिए जो प्रश्न चिह्न (?) को प्रतिस्थापित करके दिए गए पैटर्न को पूरा कर सके।

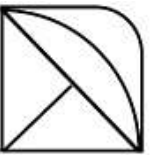


Ans

☒ 1.



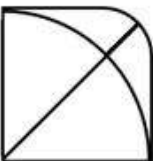
☒ 2.



☒ 3.



☒ 4.



Question ID : 26433082910

Option 1 ID : 264330325475

Option 2 ID : 264330325474

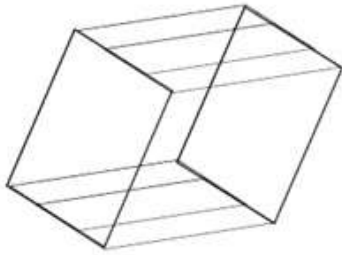
Option 3 ID : 264330325473

Option 4 ID : 264330325476

Status : Answered

Chosen Option : 3

Q.16 दी गई आकृति में कितने त्रिभुज हैं?



Ans ☒ 1. 4
☒ 2. 7
☒ 3. 6
☒ 4. 5

Question ID : 26433085578

Option 1 ID : 264330336013

Option 2 ID : 264330336016

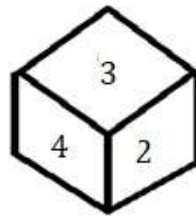
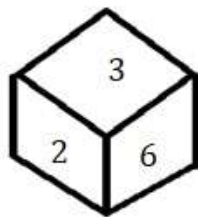
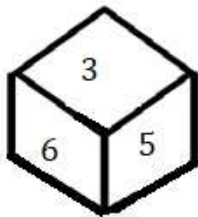
Option 3 ID : 264330336015

Option 4 ID : 264330336014

Status : Answered

Chosen Option : 3

Q.17 एक ही पासे की तीन अलग-अलग स्थितियाँ दर्शाई गई हैं। '1' दर्शाने वाले फलक के विपरीत फलक पर कौन-सी संख्या होगी?



Ans ☒ 1. 4
☒ 2. 3
☒ 3. 6
☒ 4. 2

Question ID : 264330118175

Option 1 ID : 264330464518

Option 2 ID : 264330464517

Option 3 ID : 264330464515

Option 4 ID : 264330464516

Status : Answered

Chosen Option : 2

Q.18 निम्नलिखित में से कौन-सी विकल्प आकृति नीचे दी गई आकृति के स्वरूप

(पैटर्न) को पूरा करेगी?



Ans

✗ 1.



✗ 2.



✗ 3.



✓ 4.



Question ID : 26433080615

Option 1 ID : 264330316396

Option 2 ID : 264330316393

Option 3 ID : 264330316395

Option 4 ID : 264330316394

Status : Answered

Chosen Option : 4

Q.19 यदि P का अर्थ 'x' है, Q का अर्थ '÷' है, R का अर्थ '+' है, और S का अर्थ '-' है, तो निम्नलिखित समीकरण में '?' के स्थान पर क्या आएगा?

$$(7)^2 R (8 Q 2) P 13 R (63 Q 7) P 8 S 41 = ?$$

Ans

✗ 1. 136

✗ 2. 128

✗ 3. 140

✓ 4. 132

Question ID : 26433069207

Option 1 ID : 264330271343

Option 2 ID : 264330271342

Option 3 ID : 264330271341

Option 4 ID : 264330271340

Status : Answered

Chosen Option : 4

Q.20 निम्न में से कौन-सी विकल्प-आकृति नीचे दी गई आकृति में पैटर्न को पूरा करेगी?



Ans

✗ 1.



✗ 2.



✓ 3.



✗ 4.



Question ID : 26433089620

Option 1 ID : 264330351981

Option 2 ID : 264330351982

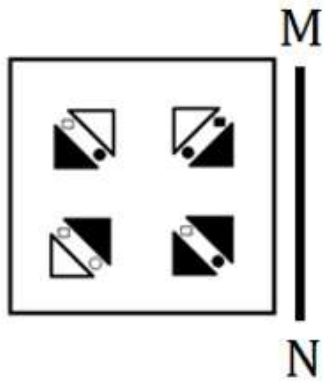
Option 3 ID : 264330351984

Option 4 ID : 264330351983

Status : Answered

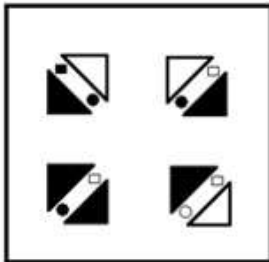
Chosen Option : 3

Q.21 दर्पण को नीचे चित्र के अनुसार 'MN' पर रखे जाने पर दिए गए संयोजन के सही दर्पण प्रतिबिंब का चयन करें।

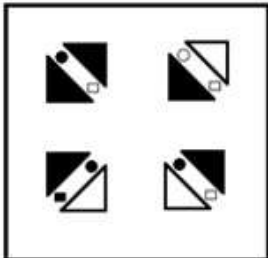


Ans

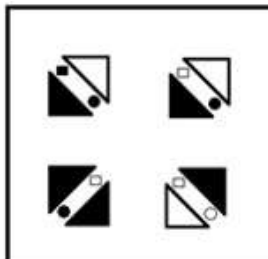
✓ 1.



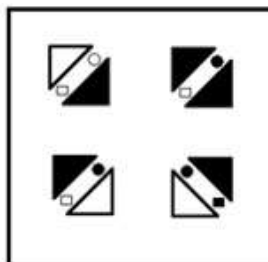
✗ 2.



✗ 3.



✗ 4.



Question ID : 264330112990

Option 1 ID : 264330444048

Option 2 ID : 264330444046

Option 3 ID : 264330444045

Option 4 ID : 264330444047

Status : Answered

Chosen Option : 1

Q.22 एक निश्चित तर्क का अनुसरण करते हुए 16, 24 से संबंधित है। उसी तर्क का अनुसरण करते हुए, 22, 33 से संबंधित है। उसी तर्क का अनुसरण करते हुए, 36 निम्नलिखित में से किससे संबंधित है?
(नोट: संख्याओं को उनके घटक अंकों में तोड़ें बिना गणितीय संक्रियाएं पूर्ण संख्याओं पर की जानी चाहिए। उदाहरण के लिए 13 - गणितीय संक्रियाएं जैसे कि 13 में जोड़ना/घटाना/गुणा करना आदि केवल 13 पर की जा सकती हैं। 13 को 1 और 3 में तोड़ने और फिर 1 और 3 पर गणितीय संक्रियाएं करने की अनुमति नहीं है।)

- Ans
- ☒ 1. 45
 - ☒ 2. 49
 - ☒ 3. 54
 - ☒ 4. 51

Question ID : 264330177413

Option 1 ID : 264330695825

Option 2 ID : 264330695824

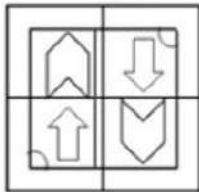
Option 3 ID : 264330695823

Option 4 ID : 264330695826

Status : Answered

Chosen Option : 3

Q.23 उस विकल्प आकृति का चयन कीजिये जो दी गई आकृति में इसके भाग के रूप में सन्निहित है।
(घुमाने की अनुमति नहीं है)



- Ans
- ☒ 1.
 - ☒ 2.
 - ☒ 3.
 - ☒ 4.

Question ID : 264330116995

Option 1 ID : 264330460063

Option 2 ID : 264330460061

Option 3 ID : 264330460064

Option 4 ID : 264330460062

Status : Answered

Chosen Option : 3

Q.24 उस समुच्चय का चयन कीजिए जिसमें संख्याएँ उसी प्रकार संबंधित हैं जिस प्रकार निम्नलिखित समुच्चयों की संख्याएँ संबंधित हैं।
(नोट: संख्याओं को उसके घटक अंकों में विभाजित किए बिना, पूर्ण संख्याओं पर संक्रियाएँ की जानी चाहिए। उदाहरण के लिए 13 - इसमें 13 पर जोड़ने / घटाने / गुणा करने आदि जैसी संक्रियाओं को 13 में किया जा सकता है। 13 को 1 और 3 में विभाजित करने और फिर 1 और 3 पर गणितीय संक्रियाएँ करने की अनुमति नहीं है)
(6, 48), (12, 168)

Ans ☒ 1. (14, 224)

☐ 2. (13, 182)

☐ 3. (16, 278)

☐ 4. (19, 342)

Question ID : 26433052041

Option 1 ID : 264330203468

Option 2 ID : 264330203466

Option 3 ID : 264330203467


Option 4 ID : 264330203469

Status : Answered

Chosen Option : 1

Q.25 निम्नलिखित में से कौन-सी उत्तर आकृति प्रश्नवाचक चिह्न के स्थान पर आकर

पैटर्न को पूरा करती है? (आकृति को घुमाने की अनुमति नहीं है)।



Ans

☒ 1.



☐ 2.



☐ 3.



☐ 4.



Question ID : 26433069252

Option 1 ID : 264330271521

Option 2 ID : 264330271522

Option 3 ID : 264330271523

Option 4 ID : 264330271520

Status : Answered

Chosen Option : 1

Q.1 एक मिसाइल 1152 km/h की चाल से यात्रा करती है। यह एक सेकंड में कितनी दूरी (m में) तय करती है?

- Ans ☒ 1. 340
☒ 2. 320
☒ 3. 380
☒ 4. 360

Question ID : 264330122988
Option 1 ID : 264330482015
Option 2 ID : 264330482017
Option 3 ID : 264330482016
Option 4 ID : 264330482018
Status : Answered
Chosen Option : 2

Q.2 20 cm व्यास वाले एक गोले से बनाई जा सकने वाली प्रत्येक 2 cm व्यास वाली सीसे की गेंदों की संख्या ज्ञात कीजिए।

- Ans ☒ 1. 100
☒ 2. 1500
☒ 3. 1000
☒ 4. 150

Question ID : 264330168564
Option 1 ID : 264330661069
Option 2 ID : 264330661068
Option 3 ID : 264330661070
Option 4 ID : 264330661067
Status : Answered
Chosen Option : 3

Q.3 रमेश एक वस्तु को अंकित मूल्य से 15% छूट पर बेचता है और उसे 25% का लाभ होता है। यदि वस्तु का अंकित मूल्य ₹7,600 है, तो वस्तु का क्रय मूल्य कितना होगा?

- Ans ☒ 1. ₹5,168
☒ 2. ₹5,188
☒ 3. ₹5,178
☒ 4. ₹5,198

Question ID : 264330179637
Option 1 ID : 264330704543
Option 2 ID : 264330704546
Option 3 ID : 264330704544
Option 4 ID : 264330704545
Status : Answered
Chosen Option : 1

Q.4 एक धनराशि तीन वर्ष के लिए 12.5% वार्षिक चक्रवृद्धि ब्याज दर पर उधार दी गई थी। यदि धनराशि का वर्तमान मूल्य (अर्थात् तीन वर्ष बाद) ₹13,851 है, तो कितना धन (₹ में) उधार दिया गया था?

- Ans ☒ 1. 8728
☒ 2. 10278
☒ 3. 10000
☒ 4. 9728

Question ID : 264330108984
Option 1 ID : 264330428213
Option 2 ID : 264330428216
Option 3 ID : 264330428215
Option 4 ID : 264330428214
Status : Answered
Chosen Option : 4

Q.5 यदि $x : y = 2 : 3$, $y : z = 4 : 7$ और $z : w = 7 : 3$ है, तो $x : y : z : w$ का मान कितना है?

- Ans ☒ 1. 8 : 12 : 21 : 9
☒ 2. 8 : 4 : 21 : 9
☒ 3. 12 : 8 : 21 : 9
☒ 4. 4 : 21 : 9 : 8

Question ID : 264330106076
Option 1 ID : 264330416606
Option 2 ID : 264330416605
Option 3 ID : 264330416608
Option 4 ID : 264330416607
Status : Answered
Chosen Option : 1

Q.6 7.012, 4.018, 6.012, 4.048, और 3.91 का औसत क्या है?

- Ans ☒ 1. 3.5
☒ 2. 7
☒ 3. 4.5
☒ 4. 5

Question ID : 264330168924
Option 1 ID : 264330662499
Option 2 ID : 264330662501
Option 3 ID : 264330662502
Option 4 ID : 264330662500
Status : Answered
Chosen Option : 4

Q.7 A, B और C किसी कार्य को क्रमशः 40, 60 और 120 दिनों में पूरा कर सकते हैं। उस कार्य को A कितने दिनों में पूरा करेगा यदि B और C द्वारा प्रत्येक तीसरे दिन उसकी सहायता की जाती है?

- Ans ☒ 1. 25
☒ 2. 35
☒ 3. 20
☒ 4. 30

Question ID : 264330104222
Option 1 ID : 264330409191
Option 2 ID : 264330409192
Option 3 ID : 264330409189
Option 4 ID : 264330409190
Status : Answered
Chosen Option : 4

Q.8 5% वार्षिक की दर से निवेशित एक निश्चित राशि यदि $2\frac{2}{5}$ वर्षों में ₹1,120 हो जाती है, तो मूलधन कितना है?

- Ans
- ☒ 1. ₹5,000
 - ☒ 2. ₹2,000
 - ☒ 3. ₹1,000
 - ☒ 4. ₹500

Question ID : 264330182527

Option 1 ID : 264330715902

Option 2 ID : 264330715901

Option 3 ID : 264330715900

Option 4 ID : 264330715899

Status : Answered

Chosen Option : 3

Q.9 यदि एक ठोस गोले का व्यास 28 cm है, तो उसके अर्धगोला का वक्र पृष्ठीय क्षेत्रफल (cm^2 में) कितना होगा? ($\pi = \frac{22}{7}$ मानिए)

- Ans
- ☒ 1. 1764
 - ☒ 2. 1232
 - ☒ 3. 1844
 - ☒ 4. 1731

Question ID : 264330112433

Option 1 ID : 264330441819

Option 2 ID : 264330441820

Option 3 ID : 264330441817

Option 4 ID : 264330441818

Status : Answered

Chosen Option : 2

Q.10 निम्नलिखित का सरलीकरण करें।

$$\frac{7 \div (7 \times 7)}{(7 \div 7) \times 7}$$

- Ans
- ☒ 1. 7
 - ☒ 2. 1
 - ☒ 3. 49
 - ☒ 4. $\frac{1}{49}$

Question ID : 264330103919

Option 1 ID : 264330407977

Option 2 ID : 264330407978

Option 3 ID : 264330407980

Option 4 ID : 264330407979

Status : Answered

Chosen Option : 4

Q.11 एक व्यक्ति अपनी आय का 80% खर्च करता है। उसकी आय में 30% की वृद्धि होती है और उसके व्यय में भी 10% की वृद्धि होती है। उसकी बचत में कितने प्रतिशत की वृद्धि होगी?

- Ans
- ☒ 1. 98%
 - ☒ 2. 104%
 - ☒ 3. 90%
 - ☒ 4. 110%

Question ID : 264330129402
Option 1 ID : 264330506975
Option 2 ID : 264330506976
Option 3 ID : 264330506974
Option 4 ID : 264330506977
Status : Answered
Chosen Option : 4

Q.12 एक चुनाव में, तीन उम्मीदवार राम, रमेश और गणेश थे। राम को 48% मत मिले और रमेश को 36% मत मिले। यदि डाले गए मतों की कुल संख्या 40,000 थी, तो गणेश को प्राप्त मतों की संख्या ज्ञात कीजिए।

- Ans
- ☒ 1. 6400
 - ☒ 2. 7400
 - ☒ 3. 6900
 - ☒ 4. 7800

Question ID : 264330104289
Option 1 ID : 264330409457
Option 2 ID : 264330409458
Option 3 ID : 264330409459
Option 4 ID : 264330409460
Status : Answered
Chosen Option : 1

Q.13 एक मेज को ₹5,862 में बेचने पर 20% का लाभ प्राप्त होता है। यदि इसे ₹5,000 में बेचा जाता, तो लाभ या हानि प्रतिशत (एक दशमलव स्थान तक पूर्णांकित) कितना होता?

- Ans
- ☒ 1. 2.3% हानि
 - ☒ 2. 1.5% हानि
 - ☒ 3. 2.4% लाभ
 - ☒ 4. 1.6% लाभ

Question ID : 264330106348
Option 1 ID : 264330417693
Option 2 ID : 264330417695
Option 3 ID : 264330417694
Option 4 ID : 264330417696
Status : Answered
Chosen Option : 3

Q.14 यदि $184 \div 11.5 = 16$ है, तो $1.84 \div 1.15$ का मान _____ है।

Ans ☒ 1. 0.6

☒ 2. 1.06

☒ 3. 1.6

☒ 4. 0.16

Question ID : 264330111437

Option 1 ID : 264330437833

Option 2 ID : 264330437835

Option 3 ID : 264330437834

Option 4 ID : 264330437836

Status : Answered

Chosen Option : 3

Q.15 40 से छोटी सभी अभाज्य संख्याओं की संख्या कितनी है?

Ans ☒ 1. 12

☒ 2. 13

☒ 3. 10

☒ 4. 11

Question ID : 264330104477

Option 1 ID : 264330410210

Option 2 ID : 264330410211

Option 3 ID : 264330410212

Option 4 ID : 264330410209

Status : Answered

Chosen Option : 1

Section : Computer Proficiency

Q.1 माइक्रोसॉफ्ट एक्सेल 365 (Microsoft Excel 365) में, किस प्रकार की सॉर्टिंग, वैल्यू को सबसे छोटे से सबसे बड़े के क्रम में रखती है?

Ans ☒ 1. असेंडिंग ऑर्डर (Ascending order)

☒ 2. रैंडम ऑर्डर (Random order)

☒ 3. डिसेंडिंग ऑर्डर (Descending order)

☒ 4. अल्फ़ान्यूमेरिक ऑर्डर (Alphanumeric order)

Question ID : 264330180691

Option 1 ID : 264330708732

Option 2 ID : 264330708733

Option 3 ID : 264330708731

Option 4 ID : 264330708734

Status : Answered

Chosen Option : 1

Q.2 एमएस एक्सेल 365 (MS Excel 365) में, किसी नई स्प्रेडशीट को पहली बार सेव करने के लिए प्रायः किस ऑप्शन का उपयोग किया जाता है?

- Ans
- ☐ 1. Close (क्लोज़)
 - ☐ 2. Save and Print (सेव एंड प्रिंट)
 - ☒ 3. Save As (सेव ऐज़)
 - ☐ 4. Save and New (सेव एंड न्यू)

Question ID : 264330177659

Option 1 ID : 264330696752

Option 2 ID : 264330696754

Option 3 ID : 264330696751

Option 4 ID : 264330696753

Status : Answered

Chosen Option : 2

Q.3 एमएस वर्ड 365 (MS Word 365) में निम्नलिखित में से किसका उपयोग संपूर्ण पैराग्राफ़ को सेलेक्ट करने के लिए किया जाता है?

- Ans
- ☐ 1. स्कॉल
 - ☐ 2. डबल-क्लिक
 - ☒ 3. ट्रिपल-क्लिक
 - ☐ 4. सिंगल-क्लिक

Question ID : 264330175971

Option 1 ID : 264330690182

Option 2 ID : 264330690180

Option 3 ID : 264330690181

Option 4 ID : 264330690179

Status : Answered

Chosen Option : 3

Q.4 email (ईमेल) का पूर्ण रूप क्या है?

- Ans
- ☐ 1. Electro mail (इलेक्ट्रो मेल)
 - ☐ 2. Express mail (एक्सप्रेस मेल)
 - ☐ 3. Efficient mail (एफ़ीसिएंट मेल)
 - ☒ 4. Electronic mail (इलेक्ट्रॉनिक मेल)

Question ID : 264330182023

Option 1 ID : 264330713931

Option 2 ID : 264330713933

Option 3 ID : 264330713934

Option 4 ID : 264330713932

Status : Answered

Chosen Option : 4

Q.5 एमएस वर्ड 365 (MS Word 365) में सेलेक्टेड फॉन्ट को सबस्क्रिप्ट में बदलने के लिए निम्नलिखित में से किस शॉर्टकट कुंजी का उपयोग किया जाता है?

- Ans ☒ 1. Ctrl + =
☐ 2. Ctrl + +
☐ 3. Shift + =
☐ 4. Shift + +

Question ID : 264330179440
Option 1 ID : 264330703763
Option 2 ID : 264330703764
Option 3 ID : 264330703765
Option 4 ID : 264330703766
Status : Answered
Chosen Option : 3

Q.6 एमएस वर्ड 365 (MS Word 365) में, थिसॉरस टूल (thesaurus tool) का उपयोग _____ के लिए किया जाता है।

- Ans ☐ 1. डॉक्यूमेंट में समान शब्द ढूँढने
☒ 2. पर्यायवाची और विलोम शब्दों की जाँच करने
☐ 3. संज्ञा और क्रिया की जाँच करने
☐ 4. डॉक्यूमेंट में पुनरावर्ती शब्द ढूँढने

Question ID : 264330182070
Option 1 ID : 264330714121
Option 2 ID : 264330714119
Option 3 ID : 264330714122
Option 4 ID : 264330714120
Status : Answered
Chosen Option : 2

Q.7 Which of the following types of networking is used to connect all the computers within a school or within an office?

- Ans ☐ 1. Personal Area Network
☒ 2. Local Area Network
☐ 3. Metropolitan Area Network
☐ 4. Wide Area Network

Question ID : 264330178245
Option 1 ID : 264330699038
Option 2 ID : 264330699035
Option 3 ID : 264330699037
Option 4 ID : 264330699036
Status : Answered
Chosen Option : 1

Q.8 एमएस वर्ड 2010 (MS Word 2010) में बुलेट क्रिएट करने के लिए _____ कीबोर्ड शॉर्टकट का उपयोग किया जाता है।

- Ans
- ☐ 1. Ctrl + Alt + B
 - ☐ 2. Ctrl + Alt + L
 - ☒ 3. Ctrl + Shift + L
 - ☐ 4. Ctrl + Shift + B

Question ID : 264330181073

Option 1 ID : 264330710238

Option 2 ID : 264330710236

Option 3 ID : 264330710237

Option 4 ID : 264330710235

Status : Answered

Chosen Option : 4

Q.9 निम्न में से कौन-सा विकल्प माइक्रोसॉफ्ट वर्ड 365 (Microsoft Word 365) में 'क्लिपबोर्ड' (Clipboard) को परिभाषित करता है?

- Ans
- ☐ 1. इंटरनेट तक पहुंच स्थापित करना
 - ☐ 2. हाइपरलिंक तैयार करना
 - ☐ 3. फ्रॉन्ट सेटिंग बदलना
 - ☒ 4. कॉपी किए गए या कट किए गए टेक्स्ट और ऑब्जेक्ट को संग्रहीत एवं प्रबंधित करना

Question ID : 264330182787

Option 1 ID : 264330716919

Option 2 ID : 264330716922

Option 3 ID : 264330716921

Option 4 ID : 264330716920

Status : Answered

Chosen Option : 4

Q.10 एमएस एक्सेल 365 (MS Excel 365) में, एमएस-एक्सेल (MS-Excel) में सेव डायलॉग बॉक्स खोलने के लिए निम्नलिखित में से किसका उपयोग किया जाता है?

- Ans
- ☐ 1. व्यू (View) -> सेव (save)
 - ☐ 2. डेटा (Data) -> सेव (save)
 - ☐ 3. होम (Home) -> सेव (save)
 - ☒ 4. फ़ाइल (File) -> सेव (save)

Question ID : 264330178258

Option 1 ID : 264330699087

Option 2 ID : 264330699088

Option 3 ID : 264330699090

Option 4 ID : 264330699089

Status : Answered

Chosen Option : 4