

## Constable Executive Male and Female in Delhi Police Examination 2023

Roll Number	
Candidate Name	
Venue Name	Pawan Ganga Educational Centre 1
Exam Date	29/11/2023
Exam Time	12:00 PM - 1:30 PM
Subject	Constable Executive Male and Female in Delhi Police Examination 2023

### Section : General Knowledge

Q.1 निम्नलिखित में से किस निकाय ने प्रतिस्पर्धा अधिनियम 2002 के विभिन्न पहलुओं पर ध्यान दिया?

- Ans
- ☐ 1. यूपीएससी (UPSC)
  - ☐ 2. भारतीय रिजर्व बैंक
  - ☐ 3. सेबी (SEBI)
  - ☒ 4. भारतीय प्रतिस्पर्धा आयोग

Question ID : 264330111622  
Option 1 ID : 264330438573  
Option 2 ID : 264330438575  
Option 3 ID : 264330438576  
Option 4 ID : 264330438574  
Status : Answered  
Chosen Option : 4

Q.2 1952 में अमेरिकी आण्विक जीवविज्ञानी जोशुआ लेडरबर्ग (Joshua Lederberg) द्वारा जीवाणु कोशिकाओं में निम्नलिखित में से क्या पहली बार पाया गया था जिसे उन्होंने प्लाज्मिड नाम दिया था?

- Ans
- ☒ 1. प्लाज्मिड (Plasmid)
  - ☐ 2. पाइली (Pili)
  - ☐ 3. संपुटिका (Capsule)
  - ☐ 4. कोशिका द्रव्य (Cytoplasm)

Question ID : 264330130991  
Option 1 ID : 264330513078  
Option 2 ID : 264330513076  
Option 3 ID : 264330513075  
Option 4 ID : 264330513077  
Status : Answered  
Chosen Option : 4

Q.3 कौन-सा अनुच्छेद सर्वोच्च न्यायालय को किसी भी पूर्व-संवैधानिक कानून के तहत संघीय अदालत के अधिकार क्षेत्र और शक्तियों का प्रयोग करने का अधिकार देता है?

- Ans
- ☒ 1. अनुच्छेद 135
  - ☐ 2. अनुच्छेद 144
  - ☐ 3. अनुच्छेद 140
  - ☐ 4. अनुच्छेद 139

Question ID : 264330166152  
Option 1 ID : 264330651675  
Option 2 ID : 264330651678  
Option 3 ID : 264330651677  
Option 4 ID : 264330651676  
Status : Answered  
Chosen Option : 3

Q.4 \_\_\_\_\_, सरकारी प्रतिबंधों में छूट को संदर्भित करता है।

- Ans
- ☒ 1. विनिवेश
  - ☒ 2. भूमंडलीकरण
  - ☒ 3. उदारीकरण
  - ☒ 4. निजीकरण

Question ID : 264330110018

Option 1 ID : 264330432351

Option 2 ID : 264330432350

Option 3 ID : 264330432352

Option 4 ID : 264330432349

Status : Answered

Chosen Option : 3

Q.5 बंदी प्रत्यक्षीकरण (Habeas Corpus), न्यायालय द्वारा जारी आज्ञापत्र है जो निम्नलिखित में से किसे न्यायालय के समक्ष लाने के लिए होता है?

- Ans
- ☒ 1. किसी कार्य को अधिकता में करने वाले न्यायाधिकरण
  - ☒ 2. सार्वजनिक पद पर आसीन व्यक्ति
  - ☒ 3. गैरकानूनी तरीके से हिरासत में लिए गए व्यक्ति
  - ☒ 4. अपने कानूनी कर्तव्य का पालन करने के लिए किसी व्यक्ति

Question ID : 264330110132

Option 1 ID : 264330432805

Option 2 ID : 264330432806

Option 3 ID : 264330432807

Option 4 ID : 264330432808

Status : Answered

Chosen Option : 3

Q.6 निम्नलिखित में से कौन भारत के चौथे मुख्य चुनाव आयुक्त हैं?

- Ans
- ☒ 1. एस.पी. सेन वर्मा
  - ☒ 2. टी. स्वामीनाथन
  - ☒ 3. के.वी.के. सुंदरम
  - ☒ 4. नागेंद्र सिंह

Question ID : 264330139435

Option 1 ID : 264330546172

Option 2 ID : 264330546174

Option 3 ID : 264330546171

Option 4 ID : 264330546173

Status : Not Answered

Chosen Option : --

Q.7 मौर्य प्रशासन में राजस्व वसूलीकर्ता अधिकारी (राजस्व महा कलेक्टर) निम्नलिखित में से कौन होता था?

- Ans
- ☒ 1. समाहर्ता
  - ☒ 2. अमात्य
  - ☒ 3. अंतपाला
  - ☒ 4. सन्निधाता

Question ID : 264330120418

Option 1 ID : 264330471926

Option 2 ID : 264330471925

Option 3 ID : 264330471923

Option 4 ID : 264330471924

Status : Answered

Chosen Option : 1

Q.8 मुंबई का प्रसिद्ध 'गेटवे ऑफ इंडिया' किस ब्रिटिश सम्राट के प्रथम भारत आगमन की स्मृति में बनाया गया था?

- Ans
- ☐ 1. चार्ल्स प्रथम
  - ☐ 2. विलियम चतुर्थ
  - ☐ 3. एनी स्टुअर्ट
  - ☒ 4. किंग जॉर्ज पंचम

Question ID : 26433074101  
Option 1 ID : 264330290525  
Option 2 ID : 264330290527  
Option 3 ID : 264330290526  
Option 4 ID : 264330290524  
Status : Answered  
Chosen Option : 4

Q.9 भारत की पशुधन जनगणना 2019 के अनुसार, निम्नलिखित में से किस श्रेणी के पशुधन की जनसंख्या सबसे अधिक दर्ज की गई?

- Ans
- ☐ 1. बकरी
  - ☐ 2. भैंस
  - ☐ 3. भेड़
  - ☒ 4. मवेशी

Question ID : 264330181104  
Option 1 ID : 264330710362  
Option 2 ID : 264330710360  
Option 3 ID : 264330710361  
Option 4 ID : 264330710359  
Status : Answered  
Chosen Option : 3

Q.10 हाल ही में एनएफएस-5 (2019-21) की रिपोर्ट के अनुसार, हमारे देश में पाँच वर्ष से कम आयु वाले कितने प्रतिशत बच्चों का वजन सामान्य से कम है?

- Ans
- ☒ 1. 32.1%
  - ☐ 2. 38.1%
  - ☐ 3. 29.2%
  - ☐ 4. 21.0%

Question ID : 264330141710  
Option 1 ID : 264330555162  
Option 2 ID : 264330555159  
Option 3 ID : 264330555160  
Option 4 ID : 264330555161  
Status : Answered  
Chosen Option : 2

Q.11 निम्नलिखित में से किसे गांधीजी ने व्यक्तिगत सत्याग्रह आंदोलन के पहले सत्याग्रही के रूप में चुना था?

- Ans ☒ 1. आचार्य विनोबा भावे  
☐ 2. डॉ. बी आर अम्बेडकर  
☐ 3. गोपाल कृष्ण गोखले  
☐ 4. सी राजगोपालाचारी

Question ID : 264330119746

Option 1 ID : 264330469262

Option 2 ID : 264330469260

Option 3 ID : 264330469259

Option 4 ID : 264330469261

Status : Answered

Chosen Option : 1

Q.12 जलवायु वर्गीकरण की योजना को संशोधित करने के लिए 1961 में किस जलवायु वैज्ञानिक ने कोपेन (Koppen) के साथ सहयोग किया?

- Ans ☐ 1. जैकब बर्जेर्कनेस (Jacob Bjerknes)  
☒ 2. रुडोल्फ गीजर (Rudolf Geiger)  
☐ 3. नेरिली अब्राम (Nerilie Abram)  
☐ 4. रिचर्ड एली (Richard Alley)

Question ID : 264330131013

Option 1 ID : 264330513164

Option 2 ID : 264330513166

Option 3 ID : 264330513163

Option 4 ID : 264330513165

Status : Not Answered

Chosen Option : --

Q.13 निम्नलिखित में से किस देश में आपको मगर और थारू मानवजातीय समुदाय मिलेंगे?

- Ans ☐ 1. श्रीलंका  
☒ 2. नेपाल  
☐ 3. अफगानिस्तान  
☐ 4. भूटान

Question ID : 264330177917

Option 1 ID : 264330697758

Option 2 ID : 264330697755

Option 3 ID : 264330697756

Option 4 ID : 264330697757

Status : Not Answered

Chosen Option : --

Q.14 U19 T20 महिला विश्व कप, 2023 का आयोजन \_\_\_\_\_ द्वारा किया गया था।

- Ans ☐ 1. इंग्लैंड  
☐ 2. न्यूजीलैंड  
☐ 3. ऑस्ट्रेलिया  
☒ 4. दक्षिण अफ्रीका

Question ID : 264330132539

Option 1 ID : 264330519251

Option 2 ID : 264330519252

Option 3 ID : 264330519253

Option 4 ID : 264330519254

Status : Answered

Chosen Option : 4

Q.15 उत्तर-पश्चिम भारत के उस नृत्य का नाम बताइए जिसमें नर्तक सांपों की गति का अनुकरण करते हैं?

- Ans
- ☐ 1. सिद्दी धमाल
  - ☐ 2. तेरा ताली
  - ☐ 3. गरबा
  - ☒ 4. कालबेलिया

Question ID : 264330110422

Option 1 ID : 264330433965

Option 2 ID : 264330433967

Option 3 ID : 264330433966

Option 4 ID : 264330433968

Status : Answered

Chosen Option : 4

Q.16 लोधी वंश की वास्तुकला में निम्नलिखित में से किस आकृति के मकबरे पाए गए हैं?

- Ans
- ☐ 1. वृत्तीय
  - ☒ 2. अष्टभुजाकार
  - ☐ 3. बेलनाकार
  - ☐ 4. गोलाकार

Question ID : 264330106238

Option 1 ID : 264330417253

Option 2 ID : 264330417256

Option 3 ID : 264330417254

Option 4 ID : 264330417255

Status : Not Answered

Chosen Option : --

Q.17 निम्नलिखित में से किस स्थिति में राजस्व घटा होता है?

- Ans
- ☒ 1. जब सरकार का कुल राजस्व इसके व्यय से कम होता है।
  - ☐ 2. जब सरकार का कुल राजस्व उसके व्यय के बराबर होता है।
  - ☐ 3. जब सरकार का राजस्व उसके व्यय में जोड़ा जाता है।
  - ☐ 4. जब सरकार का कुल राजस्व इसके व्यय से अधिक होता है।

Question ID : 264330120870

Option 1 ID : 264330473696

Option 2 ID : 264330473695

Option 3 ID : 264330473698

Option 4 ID : 264330473697

Status : Answered

Chosen Option : 1

Q.18 भारतीय संविधान में न्यायपालिका की स्वतंत्रता की अवधारणा किस देश से ली गई है?

- Ans
- ☐ 1. ऑस्ट्रेलिया
  - ☐ 2. जर्मनी
  - ☒ 3. संयुक्त राज्य अमेरिका
  - ☐ 4. दक्षिण अफ्रीका

Question ID : 264330183144

Option 1 ID : 264330718309

Option 2 ID : 264330718310

Option 3 ID : 264330718311

Option 4 ID : 264330718308

Status : Answered

Chosen Option : 3

Q.19 आयोडीन की कमी से \_\_\_\_\_ होता है।

- Ans
- ☒ 1. स्कर्वी रोग
  - ☒ 2. बेरीबेरी रोग
  - ☒ 3. गण्डमाला रोग
  - ☒ 4. सूखा रोग

Question ID : 264330117598

Option 1 ID : 264330462419

Option 2 ID : 264330462418

Option 3 ID : 264330462417

Option 4 ID : 264330462420

Status : Answered

Chosen Option : 3

Q.20 राजपूत वंश के चंदेल राजवंश ने भारत के प्रारंभिक मध्ययुगीन काल में 9वीं और 13वीं शताब्दी के बीच निम्नलिखित में से किस क्षेत्र पर शासन किया था?

- Ans
- ☒ 1. मेवाड़
  - ☒ 2. जैसलमेर
  - ☒ 3. बुंदेलखंड
  - ☒ 4. अमरकोट

Question ID : 264330176886

Option 1 ID : 264330693743

Option 2 ID : 264330693746

Option 3 ID : 264330693744

Option 4 ID : 264330693745

Status : Not Answered

Chosen Option : --

Q.21 निम्नलिखित में से किस लेखक ने अंग्रेजी उपन्यास 'थ्री मेन इन ए बोट' (Three Men in a Boat) लिखा है?

- Ans
- ☒ 1. मार्क ट्वेन
  - ☒ 2. जेरोम के जेरोम
  - ☒ 3. आर्थर कॉनन डॉयल
  - ☒ 4. रॉबर्ट लुईस स्टीवन्सन

Question ID : 26433066680

Option 1 ID : 264330261244

Option 2 ID : 264330261247

Option 3 ID : 264330261245

Option 4 ID : 264330261246

Status : Not Answered

Chosen Option : --

Q.22 निम्नलिखित में से कौन-सा भारतीय संविधान में उल्लिखित मौलिक अधिकारों का उद्देश्य नहीं है?

- Ans
- ☒ 1. एक सत्तावादी और निरंकुश शासन की स्थापना को रोकना
  - ☒ 2. राजनीतिक लोकतंत्र के आदर्श को बढ़ावा देना
  - ☒ 3. नागरिकों को सरकार के उद्देश्यों की ओर ले जाना
  - ☒ 4. कानून की सरकार स्थापित करना, न कि व्यक्ति की

Question ID : 264330114756

Option 1 ID : 264330451110

Option 2 ID : 264330451109

Option 3 ID : 264330451112

Option 4 ID : 264330451111

Status : Answered

Chosen Option : 4

Q.23 भारत में एक सूक्ष्मवित्त संस्था, सेवा (SEWA) बैंक की स्थापना के संबंध में निम्नलिखित कथनों पर विचार करें।

- (i) सेवा (SEWA) बैंक की स्थापना 1974 में हुई थी।
  - (ii) सेवा (SEWA) बैंक की स्थापना गुजरात में हुई थी।
  - (iii) सेवा (SEWA) बैंक की स्थापना स्वरोजगार महिला संघ द्वारा की गई थी।
- सही उत्तर का चयन करें।

- Ans
- ☒ 1. केवल (iii) सत्य है
  - ☒ 2. केवल (ii) सत्य है
  - ☒ 3. केवल (i) सत्य है
  - ☒ 4. (i), (ii) और (iii) सत्य हैं

Question ID : 264330116501

Option 1 ID : 264330458091

Option 2 ID : 264330458090

Option 3 ID : 264330458089

Option 4 ID : 264330458092

Status : Not Answered

Chosen Option : --

Q.24 अंग्रेजी उपन्यास 'द रेनबो' निम्नलिखित में से किस लेखक ने लिखा था?

- Ans
- ☒ 1. थॉमस हार्डी
  - ☒ 2. डी.एच. लॉरेंस
  - ☒ 3. एमिली ब्रॉन्टे
  - ☒ 4. जोसेफ कोनराड

Question ID : 26433055374

Option 1 ID : 264330216481

Option 2 ID : 264330216482

Option 3 ID : 264330216483

Option 4 ID : 264330216480

Status : Not Answered

Chosen Option : --

Q.25 वर्ण व्यवस्था को सही ठहराने के लिए प्राचीन भारत के ब्राह्मणों द्वारा ऋग्वेद के किस सूक्त का प्रयोग किया गया था?

- Ans
- ☒ 1. मानस सूक्त
  - ☒ 2. ब्रह्म सूक्त
  - ☒ 3. वर्ण सूक्त
  - ☒ 4. पुरुष सूक्त

Question ID : 264330118963

Option 1 ID : 264330466510

Option 2 ID : 264330466508

Option 3 ID : 264330466507

Option 4 ID : 264330466509

Status : Answered

Chosen Option : 2

Q.26 प्रधानमंत्री कौशल विकास योजना किस वर्ष शुरू की गई थी?

- Ans ☒ 1. 2016  
☒ 2. 2015  
☒ 3. 2017  
☒ 4. 2014

Question ID : 264330138079

Option 1 ID : 264330540924

Option 2 ID : 264330540923

Option 3 ID : 264330540926

Option 4 ID : 264330540925

Status : Answered

Chosen Option : 1

Q.27 भारत में खिलाफत आंदोलन \_\_\_\_\_ शुरू हुआ था।

- Ans ☒ 1. प्रेस की स्वतंत्रता पर प्रतिबंध का विरोध करने के लिए  
☒ 2. तुर्की में इस्लामी खिलाफत की रक्षा के लिए  
☒ 3. सांप्रदायिक निर्वाचन क्षेत्रों का विरोध करने के लिए  
☒ 4. जलियांवाला बाग नरसंहार का विरोध करने के लिए

Question ID : 264330118996

Option 1 ID : 264330466640

Option 2 ID : 264330466642

Option 3 ID : 264330466641

Option 4 ID : 264330466639

Status : Answered

Chosen Option : 4

Q.28 निम्नलिखित में से किस मंत्रालय के पास दिल्ली में गणतंत्र दिवस परेड आयोजित करने की जिम्मेदारी है?

- Ans ☒ 1. नागरिक उड्डयन मंत्रालय  
☒ 2. गृह मंत्रालय  
☒ 3. संस्कृति मंत्रालय  
☒ 4. रक्षा मंत्रालय

Question ID : 264330118489

Option 1 ID : 264330465360

Option 2 ID : 264330465359

Option 3 ID : 264330465358

Option 4 ID : 264330465357

Status : Answered

Chosen Option : 2

Q.29 निम्नलिखित में से कौन-सी विशेषता 'समानतावादी समाज बनाने' का अर्थ बताती है?

- Ans ☒ 1. आपातकाल के प्रावधान  
☒ 2. मौलिक अधिकार  
☒ 3. लिखित संविधान  
☒ 4. संघीय प्रणाली

Question ID : 264330110559

Option 1 ID : 264330434513

Option 2 ID : 264330434515

Option 3 ID : 264330434516

Option 4 ID : 264330434514

Status : Answered

Chosen Option : 2



Q.30 पीवी सिंधु ने किस ओलंपिक में रजत पदक जीता था?

- Ans ☐ 1. 2008 ग्रीष्मकालीन ओलंपिक (बीजिंग)  
☐ 2. 2020 ग्रीष्मकालीन ओलंपिक (टोक्यो)  
☒ 3. 2016 ग्रीष्मकालीन ओलंपिक (रियो)  
☐ 4. 2012 ग्रीष्मकालीन ओलंपिक (लंदन)

Question ID : 264330144214

Option 1 ID : 264330565115

Option 2 ID : 264330565116

Option 3 ID : 264330565117

Option 4 ID : 264330565118

Status : Answered

Chosen Option : 3

Q.31 निम्नलिखित इतिहासकारों में से किसने अपना पहला इतिवृत्त (chronicle) 1356 में लिखा था?

- Ans ☐ 1. मिनहाज-उस-सिराज  
☐ 2. अल-बरूनी  
☒ 3. जियाउद्दीन बरनी  
☐ 4. इब्न-सीना

Question ID : 264330183099

Option 1 ID : 264330718128

Option 2 ID : 264330718129

Option 3 ID : 264330718130

Option 4 ID : 264330718131

Status : Not Answered

Chosen Option : --

Q.32 निम्नलिखित में से कौन-से समूह में, केवल यौगिक शामिल हैं?

- A) शर्करा विलयन, कैल्शियम कार्बोनेट, मेथेन, बेकिंग सोडा  
B) शर्करा, कैल्शियम कार्बोनेट, मेथेन, बेकिंग सोडा  
C) शर्करा विलयन, कैल्शियम, मेथेन, बेकिंग सोडा  
D) शर्करा विलयन, कैल्शियम कार्बोनेट, मेथेन, सोडा पानी

- Ans ☐ 1. D  
☐ 2. A  
☒ 3. B  
☐ 4. C

Question ID : 264330182938

Option 1 ID : 264330717487

Option 2 ID : 264330717484

Option 3 ID : 264330717485

Option 4 ID : 264330717486

Status : Answered

Chosen Option : 2

Q.33 निम्नलिखित में से किसने परिवर्तित हिंदुओं को हिंदू समाज की मुख्य धारा में वापस लाने के लिए 'शुद्धि आंदोलन' शुरू किया?

- Ans
- ☒ 1. स्वामी विवेकानंद
  - ☒ 2. ईश्वर चंद्र विद्यासागर
  - ☒ 3. स्वामी सहजानंद
  - ☒ 4. स्वामी दयानंद

Question ID : 264330117689

Option 1 ID : 264330462751

Option 2 ID : 264330462754

Option 3 ID : 264330462752

Option 4 ID : 264330462753

Status : Answered

Chosen Option : 3

Q.34 कबड्डी में, एक समय में खेल के मैदान पर प्रत्येक टीम से कितने खिलाड़ियों को खेलने की अनुमति होती है?

- Ans
- ☒ 1. 10
  - ☒ 2. 8
  - ☒ 3. 7
  - ☒ 4. 12

Question ID : 264330113770

Option 1 ID : 264330447168

Option 2 ID : 264330447167

Option 3 ID : 264330447165

Option 4 ID : 264330447166

Status : Answered

Chosen Option : 3

Q.35 एशिया में पहली बार ओलंपिक खेलों का आयोजन किस वर्ष में किया गया था?

- Ans
- ☒ 1. 1960 में
  - ☒ 2. 1956 में
  - ☒ 3. 1964 में
  - ☒ 4. 1968 में

Question ID : 264330110373

Option 1 ID : 264330433769

Option 2 ID : 264330433772

Option 3 ID : 264330433770

Option 4 ID : 264330433771

Status : Not Answered

Chosen Option : --

Q.36 छठ पूजा मुख्य रूप से निम्न में से किस राज्य में मनाई जाती है?

- Ans
- ☒ 1. बिहार
  - ☒ 2. पंजाब
  - ☒ 3. हरियाणा
  - ☒ 4. ओडिशा

Question ID : 264330108884

Option 1 ID : 264330427814

Option 2 ID : 264330427815

Option 3 ID : 264330427813

Option 4 ID : 264330427816

Status : Answered

Chosen Option : 1

Q.37 मुंबई में वृंदावन गुरुकुल और भुवनेश्वर में वृंदावन गुरुकुल के संस्थापक निम्नलिखित में से कौन हैं?

- Ans ☒ 1. एम. बालमुरलीकृष्णन  
☒ 2. भीमसेन जोशी  
☒ 3. हरिप्रसाद चौरसिया  
☒ 4. शिवकुमार शर्मा

Question ID : 264330114313

Option 1 ID : 264330449340

Option 2 ID : 264330449338

Option 3 ID : 264330449339

Option 4 ID : 264330449337

Status : Answered

Chosen Option : 2

Q.38 भारतीय संविधान का निम्नलिखित में से कौन-सा अनुच्छेद घोषित करता है कि वे सभी कानून, जो मौलिक अधिकारों के साथ असंगत हैं या अल्पीकरण में हैं, शून्य (वोइड) होंगे?

- Ans ☒ 1. अनुच्छेद 226  
☒ 2. अनुच्छेद 13  
☒ 3. अनुच्छेद 12  
☒ 4. अनुच्छेद 32

Question ID : 264330114758

Option 1 ID : 264330451119

Option 2 ID : 264330451120

Option 3 ID : 264330451117

Option 4 ID : 264330451118

Status : Answered

Chosen Option : 2

Q.39 मानव विकास रिपोर्ट 2021-22 के अनुसार, भारत की समग्र बहुआयामी निर्धनता में स्वास्थ्य अभाव (health deprivation) का प्रतिशत अंश कितना है?

- Ans ☒ 1. 41.3%  
☒ 2. 31.9%  
☒ 3. 18.5%  
☒ 4. 31.3%

Question ID : 264330179560

Option 1 ID : 264330704240

Option 2 ID : 264330704239

Option 3 ID : 264330704241

Option 4 ID : 264330704242

Status : Not Answered

Chosen Option : --

Q.40 कलागुरु विष्णु राभा पुरस्कार नृत्य और संगीत के क्षेत्र में किस सरकार द्वारा दिया जाता है?

- Ans ☒ 1. पश्चिम बंगाल  
☒ 2. अरुणाचल प्रदेश  
☒ 3. असम  
☒ 4. त्रिपुरा

Question ID : 26433086664

Option 1 ID : 264330340298

Option 2 ID : 264330340300

Option 3 ID : 264330340299

Option 4 ID : 264330340297

Status : Answered

Chosen Option : 3

Q.41 जनजातीय नृत्य डांग किस भारतीय राज्य से संबंधित है?

- Ans
- ☒ 1. मध्य प्रदेश
  - ☒ 2. उड़ीसा
  - ☒ 3. कर्नाटक
  - ☒ 4. गुजरात

Question ID : 264330132395

Option 1 ID : 264330518677

Option 2 ID : 264330518675

Option 3 ID : 264330518678

Option 4 ID : 264330518676

Status : Answered

Chosen Option : 4

Q.42 भुरभुरी पर्पटी तथा पृथ्वी के ऊपरी भूप्रावार (mantle) के शीर्ष भाग को क्या कहते हैं?

- Ans
- ☒ 1. मध्यमंडल
  - ☒ 2. समताप मंडल
  - ☒ 3. दुर्बलतामंडल
  - ☒ 4. स्थलमंडल

Question ID : 264330131814

Option 1 ID : 264330516358

Option 2 ID : 264330516357

Option 3 ID : 264330516355

Option 4 ID : 264330516356

Status : Answered

Chosen Option : 4

Q.43 देबा प्रसाद दास, पंकज चरण दास और गंगाधर प्रधान निम्नलिखित में से किस नृत्य शैली के प्रसिद्ध नर्तक थे?

- Ans
- ☒ 1. ओडिसी
  - ☒ 2. सत्रीया
  - ☒ 3. कथक
  - ☒ 4. भरतनाट्यम

Question ID : 264330110440

Option 1 ID : 264330434038

Option 2 ID : 264330434040

Option 3 ID : 264330434037

Option 4 ID : 264330434039

Status : Not Answered

Chosen Option : --

Q.44 सिंचाई सुविधाओं और कीटनाशकों/उर्वरकों की आवश्यकता के कारण, हरित क्रांति के पहले चरण में कुछ समृद्ध राज्य जैसे \_\_\_\_\_ लाभान्वित हुए।

- Ans
- ☒ 1. पंजाब, आंध्र प्रदेश और बिहार
  - ☒ 2. पंजाब, अरुणाचल प्रदेश और उत्तर प्रदेश
  - ☒ 3. पंजाब, आंध्र प्रदेश और तमिलनाडु
  - ☒ 4. पंजाब, आंध्र प्रदेश और उत्तर प्रदेश

Question ID : 264330114281

Option 1 ID : 264330449211

Option 2 ID : 264330449210

Option 3 ID : 264330449212

Option 4 ID : 264330449209

Status : Answered

Chosen Option : 4

Q.45 1889 में, \_\_\_\_\_ ने पुणे में मुक्ति मिशन की स्थापना की, जो उन युवा विधवाओं के लिए एक शरणस्थली थी, जिन्हें उनके परिवारों द्वारा परित्यक्त और प्रताड़ित किया गया था।

- Ans
- ☒ 1. सरोजिनी नायडू
  - ☒ 2. पंडिता रमाबाई
  - ☒ 3. कस्तूरबा गांधी
  - ☒ 4. लक्ष्मी सहगल

Question ID : 264330114116  
Option 1 ID : 264330448550  
Option 2 ID : 264330448549  
Option 3 ID : 264330448551  
Option 4 ID : 264330448552  
Status : Not Answered  
Chosen Option : --

Q.46 कर्नाटक का कोलार शहर अपनी \_\_\_\_\_ की खदानों के लिए प्रसिद्ध है।

- Ans
- ☒ 1. चाँदी
  - ☒ 2. चूना पत्थर
  - ☒ 3. ताँबे
  - ☒ 4. सोने

Question ID : 264330176004  
Option 1 ID : 264330690311  
Option 2 ID : 264330690313  
Option 3 ID : 264330690312  
Option 4 ID : 264330690314  
Status : Answered  
Chosen Option : 4

Q.47 भारतीय रेलवे ने नई दिल्ली में अपनी पहली कम्प्यूटरीकृत यात्री आरक्षण प्रणाली किस वर्ष शुरू की थी?

- Ans
- ☒ 1. 1996
  - ☒ 2. 1992
  - ☒ 3. 1986
  - ☒ 4. 2001

Question ID : 264330181290  
Option 1 ID : 264330711084  
Option 2 ID : 264330711083  
Option 3 ID : 264330711085  
Option 4 ID : 264330711086  
Status : Answered  
Chosen Option : 1

Q.48 अक्टूबर 2020 में अमेरिकी कंपनी इलेक्ट्रा रिकॉर्ड्स (Elektra Records) द्वारा साइन किया जाने वाला प्रथम भारतीय कौन बना?

- Ans
- ☒ 1. प्रतीक कुहाड़ (Prateek Kuhad )
  - ☒ 2. जिम अंकन डेका (Jim Ankan Deka)
  - ☒ 3. कुलविंदर धिल्लों (Kulwinder Dhillon)
  - ☒ 4. विपिन अनेजा (Vipin Aneja)

Question ID : 264330113244  
Option 1 ID : 264330445062  
Option 2 ID : 264330445063  
Option 3 ID : 264330445064  
Option 4 ID : 264330445061  
Status : Not Answered  
Chosen Option : --

Q.49 आईआर-8 किस फसल की बौनी किस्म है?

- Ans  1. जौ  
 2. चावल  
 3. गेहूँ  
 4. मक्का

Question ID : 264330109402  
Option 1 ID : 264330429887  
Option 2 ID : 264330429885  
Option 3 ID : 264330429886  
Option 4 ID : 264330429888  
Status : Not Answered  
Chosen Option : --





Q.50 'पंडित दीन दयाल उपाध्याय उन्नत कृषि शिक्षा योजना' किस वर्ष आरंभ हुई थी?

- Ans  1. 2015  
 2. 2016  
 3. 1998  
 4. 2000

Question ID : 264330111585  
Option 1 ID : 264330438427  
Option 2 ID : 264330438428  
Option 3 ID : 264330438425  
Option 4 ID : 264330438426  
Status : Answered  
Chosen Option : 2

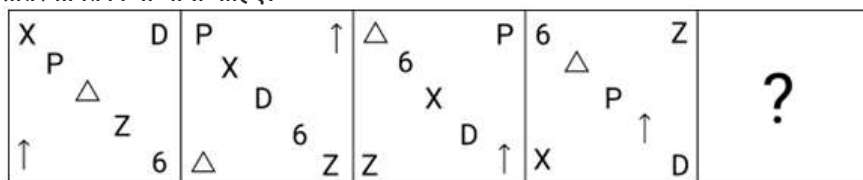
Section : Reasoning

Q.1 एक निश्चित कूट भाषा में 'BATH' को '542311' और 'FUND' को '924177' लिखा जाता है। उस भाषा में 'GOLD' को कैसे लिखा जाएगा?

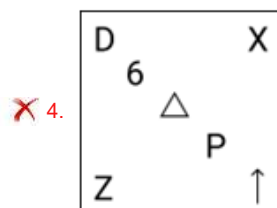
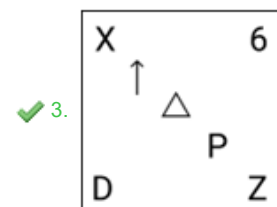
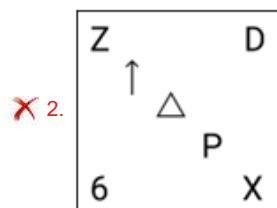
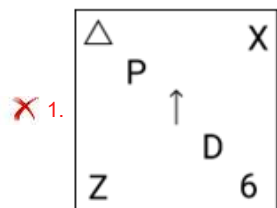
- Ans  1. 1018157  
 2. 915157  
 3. 914156  
 4. 1016179

Question ID : 26433089408  
Option 1 ID : 264330351135  
Option 2 ID : 264330351133  
Option 3 ID : 264330351136  
Option 4 ID : 264330351134  
Status : Answered  
Chosen Option : 1

Q.2 निम्नलिखित श्रृंखला में पैटर्न को जारी रखने के लिए किस आकृति द्वारा प्रश्नवाचक चिह्न (?) को प्रतिस्थापित किया जाना चाहिए?



Ans



Question ID : 264330129616

Option 1 ID : 264330507833

Option 2 ID : 264330507831

Option 3 ID : 264330507832

Option 4 ID : 264330507830

Status : Answered

Chosen Option : 3

Q.3 नीचे दो कथन और उसके बाद दो निष्कर्ष I और II दिए गए हैं। कथनों को सत्य मानते हुए, भले ही वे सामान्य रूप से ज्ञात तथ्यों से भिन्न प्रतीत होते हों, निर्णय लीजिए कि कौन-सा/से निष्कर्ष कथनों का तार्किक रूप से अनुसरण करता/करते है/हैं।

कथन:

सभी मग, बाल्टियां हैं।

कुछ मग, टम्बलर हैं।

निष्कर्ष:

I. सभी टम्बलर, मग हैं।

II. सभी बाल्टियां, टम्बलर हैं।

Ans ☒ 1. निष्कर्ष I और II दोनों अनुसरण करते हैं।

☒ 2. न तो निष्कर्ष I और न ही II अनुसरण करता है।

☒ 3. केवल निष्कर्ष I अनुसरण करता है।

☒ 4. केवल निष्कर्ष II अनुसरण करता है।

Question ID : 26433076599

Option 1 ID : 264330300462

Option 2 ID : 264330300463

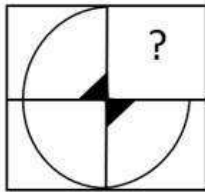
Option 3 ID : 264330300460

Option 4 ID : 264330300461

Status : Answered

Chosen Option : 2

Q.4 उस विकल्प आकृति का चयन करें, जो नीचे दी गई आकृति में प्रश्न चिह्न (?) के स्थान पर आएगी और पैटर्न को पूरा करेगी।



Ans



Question ID : 264330101320

Option 1 ID : 264330397828

Option 2 ID : 264330397827

Option 3 ID : 264330397826

Option 4 ID : 264330397825

Status : Answered


Chosen Option : 3




Q.5 निम्नलिखित समीकरण को सही बनाने के लिए किन दो चिह्नों को आपस में बदला जाना चाहिए?

$$144 \div 12 + 6 \times 3 - 14 = 8$$

Ans  1. - और +

 2. - और ×

 3. + और ×

 4. + और ×

Question ID : 264330101084

Option 1 ID : 264330396882

Option 2 ID : 264330396883

Option 3 ID : 264330396884

Option 4 ID : 264330396881

Status : Answered

Chosen Option : 1

Q.6 उस विकल्प आकृति का चयन करें जो पैटर्न पूरा करने के लिए नीचे दी गई आकृति में प्रश्नवाचक चिह्न (?) को प्रतिस्थापित करेगी।



Ans

✗ 1.



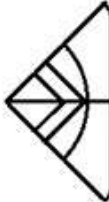
✗ 2.



✗ 3.



✓ 4.



Question ID : 26433089463

Option 1 ID : 264330351354

Option 2 ID : 264330351356

Option 3 ID : 264330351353

Option 4 ID : 264330351355

Status : Answered

Chosen Option : 4

Q.7 वह विकल्प चुनिए, जो ऐसे अक्षरों का प्रतिनिधित्व करता हो, जिन्हें नीचे के रिक्त स्थानों में क्रमानुसार बाएँ से दाएँ रखने पर ही अक्षर-श्रृंखला पूरी होगी।  
H A \_ \_ E \_ \_ Y N E H A Y \_ \_ H \_ \_ N E

Ans ✗ 1. YHNANEAY

✓ 2. YNHANEAY

✗ 3. YHNENEAY

✗ 4. YHNAEAEY

Question ID : 26433092538

Option 1 ID : 264330363441

Option 2 ID : 264330363443

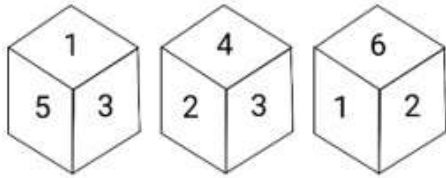
Option 3 ID : 264330363444

Option 4 ID : 264330363442

Status : Answered

Chosen Option : 2

Q.8 एक ही पासे की तीन अलग-अलग स्थितियां दर्शायी गई हैं। '2' दर्शाने वाले फलक के विपरीत फलक पर संख्या ज्ञात करें।



- Ans
- ☒ 1. 1
  - ☒ 2. 3
  - ☒ 3. 5
  - ☒ 4. 4

Question ID : 264330112036

Option 1 ID : 264330440229

Option 2 ID : 264330440231

Option 3 ID : 264330440232

Option 4 ID : 264330440230

Status : Answered

Chosen Option : 3

Q.9 उस समुच्चय का चयन करें जिसमें संख्याएँ उस प्रकार से संबंधित नहीं हैं जिस प्रकार निम्नलिखित समुच्चयों की संख्याएँ संबंधित हैं।

(7, 245, 7), (8, 200, 5)

(नोट: संख्याओं को उसके घटक अंकों में विभाजित किए बिना, पूर्ण संख्याओं पर संक्रियाएँ की जानी चाहिए।)

- Ans
- ☒ 1. (12, 420, 7)
  - ☒ 2. (11, 396, 9)
  - ☒ 3. (6, 270, 9)
  - ☒ 4. (16, 560, 7)

Question ID : 26433097241

Option 1 ID : 264330381663

Option 2 ID : 264330381661

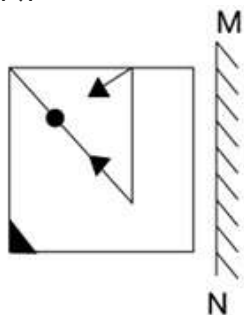
Option 3 ID : 264330381662

Option 4 ID : 264330381664

Status : Answered

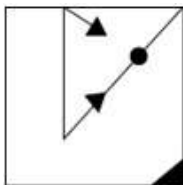
Chosen Option : 2

Q.10 दर्पण को नीचे चित्र के अनुसार 'MN' पर रखे जाने पर दिए गए संयोजन के सही दर्पण प्रतिबिंब का चयन करें।

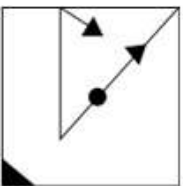


Ans

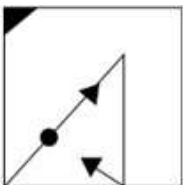
✓ 1.



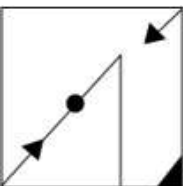
✗ 2.



✗ 3.



✗ 4.



Question ID : 264330130763

Option 1 ID : 264330512165

Option 2 ID : 264330512164

Option 3 ID : 264330512166

Option 4 ID : 264330512163

Status : Answered

Chosen Option : 1

Q.11 Select the option that is related to the third word in the same way as the second word is related to the first word.

(The words must be considered as meaningful English words and must not be related to each other based on the number of letters / number of consonants / vowels in the word)

Phycology : Algae :: Palaeontology : ?

Ans ✗ 1. Plants

✗ 2. Fungi

✓ 3. Fossils

✗ 4. Insects

Question ID : 26433082581

Option 1 ID : 264330324159

Option 2 ID : 264330324158

Option 3 ID : 264330324160

Option 4 ID : 264330324157

Status : Answered

Chosen Option : 3

Q.12 उस विकल्प का चयन करें जो चौथे पद से उसी प्रकार संबंधित है जिस प्रकार पहला पद दूसरे पद से संबंधित है और पांचवां पद छठे पद से संबंधित है।  
126 : 14 :: ? : 38 :: 207 : 23

- Ans ☒ 1. 364  
☒ 2. 342  
☒ 3. 354  
☒ 4. 380

Question ID : 264330102263

Option 1 ID : 264330401518

Option 2 ID : 264330401517

Option 3 ID : 264330401520

Option 4 ID : 264330401519

Status : Answered

Chosen Option : 2

Q.13 निम्नलिखित में से कौन-सी विकल्प आकृति नीचे दी गई आकृति के स्वरूप (पैटर्न) को पूरा करेगी?



Ans

- ☒ 1.
- ☒ 2.
- ☒ 3.
- ☒ 4.

Question ID : 26433080622

Option 1 ID : 264330316423

Option 2 ID : 264330316421

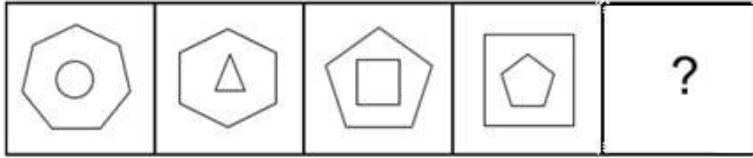
Option 3 ID : 264330316422

Option 4 ID : 264330316424

Status : Answered

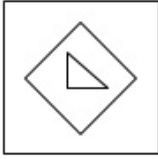
Chosen Option : 3

Q.14 उस आकृति का चयन करें, जो निम्नलिखित आकृति श्रृंखला में प्रश्न-चिह्न (?) का स्थान लेगी।

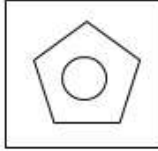


Ans

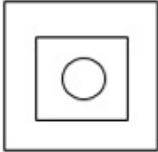
✗ 1.



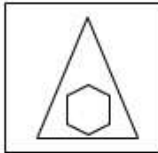
✗ 2.



✗ 3.



✓ 4.



Question ID : 264330108961

Option 1 ID : 264330428124

Option 2 ID : 264330428123

Option 3 ID : 264330428122

Option 4 ID : 264330428121

Status : Answered

Chosen Option : 4

Q.15 छह विद्यार्थी एक गोल मेज के परितः केंद्र की ओर अभिमुख होकर बैठे हैं। चरन और जगदीश दोनों का निकटतम पड़ोसी जसबीर है। चेतन, जगदीश के दाएं से दूसरे स्थान पर बैठा है। पलाश, चरन के दाएं से तीसरे स्थान पर बैठा है। चरन और चेतन दोनों का निकटतम पड़ोसी पंकज है। जसबीर और पलाश दोनों का निकटतम पड़ोसी कौन है?

Ans

✗ 1. चेतन

✗ 2. चरन

✗ 3. पंकज

✓ 4. जगदीश

Question ID : 264330110714

Option 1 ID : 264330435136

Option 2 ID : 264330435133

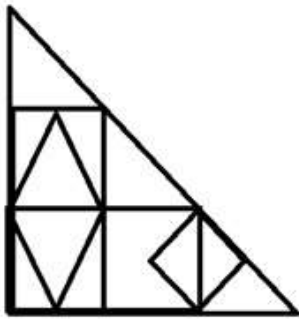
Option 3 ID : 264330435135

Option 4 ID : 264330435134

Status : Answered

Chosen Option : 4

Q.16 दी गई आकृति में कितने त्रिभुज हैं?



Ans ☒ 1. 15

☒ 2. 14

☒ 3. 18

☒ 4. 16

Question ID : 26433085412

Option 1 ID : 264330335351

Option 2 ID : 264330335350

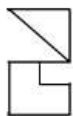
Option 3 ID : 264330335349

Option 4 ID : 264330335352

Status : Answered

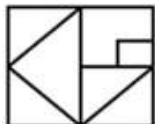
Chosen Option : 3

Q.17 उस विकल्प का चयन करें जिसमें दी गई आकृति सन्निहित है (घुमाने की अनुमति नहीं है)।

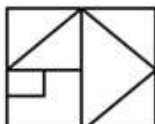


Ans

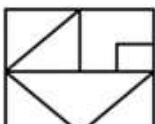
☒ 1.



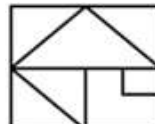
☒ 2.



☒ 3.



☒ 4.



Question ID : 264330101170

Option 1 ID : 264330397225

Option 2 ID : 264330397226

Option 3 ID : 264330397227

Option 4 ID : 264330397228

Status : Answered

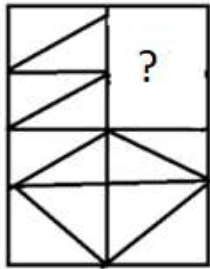
Chosen Option : 4

Q.18 गणितीय चिह्नों के उस सही संयोजन का चयन करें, जो \* चिह्नों को क्रमिक रूप से प्रतिस्थापित कर सकता है और दिए गए समीकरण को संतुलित कर सकता है।  
 $7*10*5*6*4*15$

- Ans
- ☒ 1.  $\div, -, \times, +, =$
  - ☒ 2.  $+, -, \times, \div, =$
  - ☒ 3.  $+, \times, -, \div, =$
  - ☒ 4.  $+, \div, \times, -, =$

Question ID : 26433079087  
 Option 1 ID : 264330310353  
 Option 2 ID : 264330310355  
 Option 3 ID : 264330310352  
 Option 4 ID : 264330310354  
 Status : Answered  
 Chosen Option : 4

Q.19 उस विकल्प आकृति का चयन कीजिए जो इस पैटर्न को पूरा करने के लिए नीचे दी गई आकृति में प्रश्न चिह्न (?) के स्थान पर आएगी।



Ans

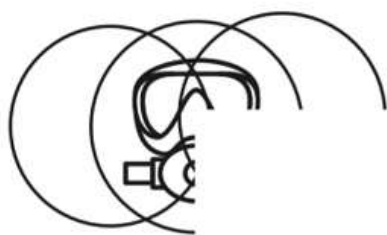
- ☒ 1.
- ☒ 2.
- ☒ 3.
- ☒ 4.

Question ID : 264330118232  
 Option 1 ID : 264330464746  
 Option 2 ID : 264330464743  
 Option 3 ID : 264330464744  
 Option 4 ID : 264330464745  
 Status : Answered  
 Chosen Option : 4



Q.20 निम्नलिखित में से कौन-सी विकल्प आकृति नीचे दी गई आकृति के स्वरूप

(पैटर्न) को पूरा करेगी?



Ans



Question ID : 26433080623

Option 1 ID : 264330316427

Option 2 ID : 264330316425

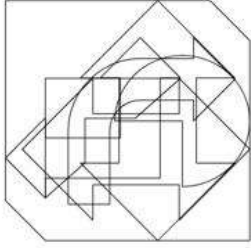
Option 3 ID : 264330316428

Option 4 ID : 264330316426

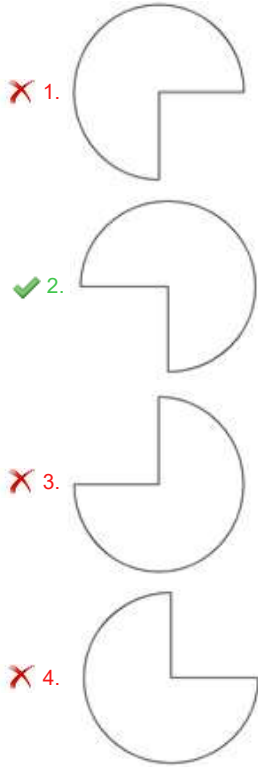
Status : Answered

Chosen Option : 4

Q.21 उस विकल्प आकृति का चयन करें, जो दी गई आकृति में सन्निहित है (घूर्णन की अनुमति नहीं है)।



Ans



Question ID : 26433082016  
 Option 1 ID : 264330321898  
 Option 2 ID : 264330321899  
 Option 3 ID : 264330321900  
 Option 4 ID : 264330321897  
 Status : Answered  
 Chosen Option : 2

Q.22 दिए गए विकल्पों में से उस संख्या का चयन कीजिए जो निम्नलिखित श्रृंखला में प्रश्न चिह्न (?) के स्थान पर आ सकती है।

15, 24, 42, 78, 150, ?

Ans ☒ 1. 5432  
☒ 2. 294  
☒ 3. 452  
☒ 4. 323

Question ID : 264330109749  
 Option 1 ID : 264330431274  
 Option 2 ID : 264330431276  
 Option 3 ID : 264330431275  
 Option 4 ID : 264330431273  
 Status : Answered  
 Chosen Option : 2

Q.23 निम्नलिखित श्रृंखला में पैटर्न को जारी रखने के लिए किस आकृति द्वारा प्रश्नवाचक चिह्न (?) को प्रतिस्थापित किया जाना चाहिए?

0	3	3	S	S	=	=	0	
	D		=		3		6	?
6	=	S	0	D	6	D	6	0
						S	3	D

Ans

✗ 1.

D		6
	S	
0	=	3

✓ 2.

0		6
	=	
3	D	S

✗ 3.

D		=
	0	
6	S	3

✗ 4.

6		=
	0	
D	S	3

Question ID : 264330129618

Option 1 ID : 264330507839

Option 2 ID : 264330507838

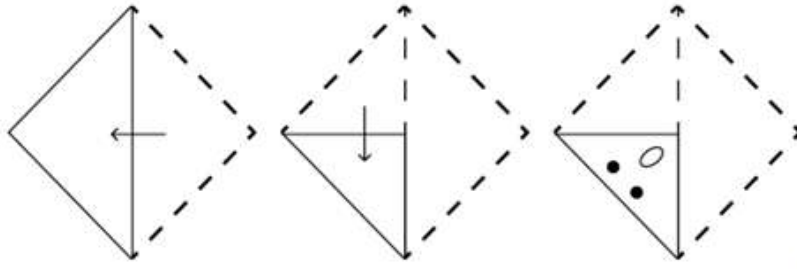
Option 3 ID : 264330507841

Option 4 ID : 264330507840

Status : Answered


Chosen Option : 2

Q.24 कागज की एक वर्गाकार शीट को बिंदीदार रेखा के अनुदिश दिखाए गए निर्देशों के अनुसार क्रमिक रूप से मोड़ा जाता है और फिर अंत में इसे छिद्रित किया जाता है। कागज को खोलने पर यह कैसा दिखेगा?

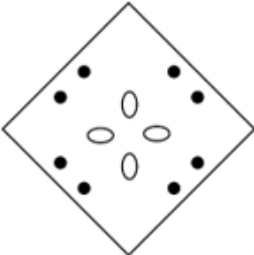


Ans


✗ 1.



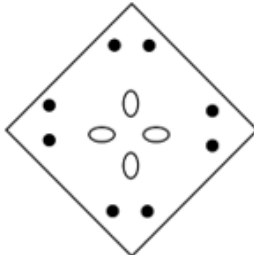
✗ 2.



✓ 3.



✗ 4.



Question ID : 264330172436

Option 1 ID : 264330676298

Option 2 ID : 264330676297

Option 3 ID : 264330676295

Option 4 ID : 264330676296

Status : Answered

Chosen Option : 3

Q.25 दिए गए संयोजन की सही दर्पण छवि का चयन कीजिए, जब दर्पण को 'PQ' पर रखा गया हो, जैसा कि नीचे दिखाया गया है।



Ans

- ☒ 1. ZGEK4L
- ☒ 2. QZEK4L
- ☒ 3. J4K3ZG
- ☒ 4. J4K3ZG

Question ID : 264330129812

Option 1 ID : 264330508482

Option 2 ID : 264330508480

Option 3 ID : 264330508479

Option 4 ID : 264330508481

Status : Answered

Chosen Option : 3

Section : Numerical Ability

Q.1 एक त्रिभुज का क्षेत्रफल  $182 \text{ cm}^2$  है और इसकी एक भुजा की लंबाई  $28 \text{ cm}$  है। त्रिभुज की इस भुजा पर सम्मुख शीर्ष से खींचे गए लंब रेखाखंड की लंबाई (cm में) क्या होगी?

Ans

- ☒ 1. 12
- ☒ 2. 14
- ☒ 3. 6.5
- ☒ 4. 13

Question ID : 264330112557

Option 1 ID : 264330442316

Option 2 ID : 264330442315

Option 3 ID : 264330442313

Option 4 ID : 264330442314

Status : Answered

Chosen Option : 4

Q.2 एक फल विक्रेता, फलों का  $\left(\frac{2}{5}\right)$  भाग 15% के लाभ पर बेचता है, और शेष 5% की हानि पर बेचता है। यदि कुल लाभ ₹1,800 है, तो फलों का कुल क्रय मूल्य क्या होगा?

Ans

- ☒ 1. ₹50,000
- ☒ 2. ₹55,000
- ☒ 3. ₹45,000
- ☒ 4. ₹60,000

Question ID : 264330103612

Option 1 ID : 264330406755

Option 2 ID : 264330406754

Option 3 ID : 264330406756

Option 4 ID : 264330406753

Status : Answered

Chosen Option : 4

Q.3 एक वस्तु का अंकित मूल्य ₹2,875 था। विक्रेता ने इसकी बिक्री पर 8% की छूट दी और फिर भी उसे 15% का लाभ प्राप्त हुआ। वस्तु का क्रय मूल्य (₹ में) क्या था?

Ans  1. 2300

 2. 2375

 3. 2248.25

 4. 2275.75

Question ID : 264330112541

Option 1 ID : 264330442251

Option 2 ID : 264330442250

Option 3 ID : 264330442252

Option 4 ID : 264330442249


Status : Answered

Chosen Option : 1

Q.4 एक वस्तु की कीमत में पहले 25% की कमी की गई और फिर 35% की वृद्धि की गई। यदि परिणामी कीमत ₹405 है, तो वस्तु की वास्तविक कीमत क्या थी?

Ans  1. ₹400

 2. ₹450

 3. ₹300

 4. ₹350

Question ID : 264330104285

Option 1 ID : 264330409442

Option 2 ID : 264330409444

Option 3 ID : 264330409441

Option 4 ID : 264330409443

Status : Answered

Chosen Option : 1

Q.5 यदि 5 क्रमागत सम संख्याओं का औसत 70 है, तो सबसे बड़ी सम संख्या क्या है?

Ans  1. 66

 2. 74

 3. 70

 4. 68

Question ID : 264330129388

Option 1 ID : 264330506918

Option 2 ID : 264330506921

Option 3 ID : 264330506920

Option 4 ID : 264330506919

Status : Answered

Chosen Option : 2

Q.6 अमारा की मासिक आय ₹80,200 है। यदि उसकी आय में 11% की कमी होती है, तो उसकी नई मासिक आय (₹ में) ज्ञात कीजिए।

- Ans
- ☐ 1. 71,250
  - ☐ 2. 71,500
  - ☒ 3. 71,378
  - ☐ 4. 71,820

Question ID : 264330102324

Option 1 ID : 264330401762

Option 2 ID : 264330401761

Option 3 ID : 264330401763

Option 4 ID : 264330401764

Status : Answered

Chosen Option : 3

Q.7 ₹750 की वार्षिक किश्त 5 वर्ष में 5% वार्षिक साधारण ब्याज की दर से \_\_\_\_\_ का ऋण चुकता कर देगी।

- Ans
- ☐ 1. ₹4,215
  - ☐ 2. ₹3,937.5
  - ☒ 3. ₹4,125
  - ☐ 4. ₹4,025

Question ID : 264330120028

Option 1 ID : 264330470367

Option 2 ID : 264330470368

Option 3 ID : 264330470369

Option 4 ID : 264330470370

Status : Answered

Chosen Option : 2

Q.8 संख्या 0.0623,  $\frac{1}{16}$  से कितनी कम है?

- Ans
- ☐ 1.  $\frac{1}{500}$
  - ☒ 2.  $\frac{1}{5000}$
  - ☐ 3.  $\frac{1}{15000}$
  - ☐ 4.  $\frac{1}{1500}$

Question ID : 264330111440

Option 1 ID : 264330437845

Option 2 ID : 264330437846

Option 3 ID : 264330437848

Option 4 ID : 264330437847

Status : Answered

Chosen Option : 1

Q.9 अनुपात 3 : 5 के प्रत्येक पद में कौन सी संख्या जोड़ी जाए कि वह 5 : 6 के बराबर हो जाए?

Ans  1. 7

 2. 8

 3. 9

 4. 6

Question ID : 264330130934

Option 1 ID : 264330512849

Option 2 ID : 264330512847

Option 3 ID : 264330512848

Option 4 ID : 264330512850

Status : Answered

Chosen Option : 1

Q.10 निम्नलिखित का सरलीकरण करें।

$$0.7 \times 0.7 + 0.7 \div 7 + 7 \div 700$$

Ans  1. 0.60

 2. 0.59

 3. 0.70

 4. 0.69

Question ID : 264330103920

Option 1 ID : 264330407983

Option 2 ID : 264330407981

Option 3 ID : 264330407984

Option 4 ID : 264330407982


Status : Answered


Chosen Option : 1

Q.11 6 लड़के एक काम को 18 घंटों में पूरा कर सकते हैं। 16 लड़के उसी काम को कितने घंटों में पूरा करेंगे?

Ans  1.  $6\frac{3}{4}$

 2.  $5\frac{3}{4}$

 3.  $6\frac{1}{4}$

 4.  $3\frac{1}{4}$

Question ID : 264330104537

Option 1 ID : 264330410449

Option 2 ID : 264330410450

Option 3 ID : 264330410452

Option 4 ID : 264330410451

Status : Answered

Chosen Option : 1



Q.12 एक निश्चित राशि पर, अर्धवार्षिक देय एक वर्ष के चक्रवृद्धि ब्याज और एक वर्ष के साधारण ब्याज के बीच का अंतर ₹729 है। यदि दोनों मामलों में ब्याज की दर 6% है, तो राशि ज्ञात कीजिए।

- Ans ☒ 1. ₹8,30,000  
☒ 2. ₹8,10,000  
☒ 3. ₹8,50,000  
☒ 4. ₹7,90,000

Question ID : 264330103625  
Option 1 ID : 264330406807  
Option 2 ID : 264330406806  
Option 3 ID : 264330406808  
Option 4 ID : 264330406805  
Status : Answered  
Chosen Option : 2

Q.13 7 से बड़ी अभाज्य संख्या को 6 से विभाजित करने पर क्या शेषफल प्राप्त होगा?

- Ans ☒ 1. 2 या 5  
☒ 2. 3 या 5  
☒ 3. 2 या 3  
☒ 4. 1 या 5

Question ID : 264330104281  
Option 1 ID : 264330409427  
Option 2 ID : 264330409426  
Option 3 ID : 264330409425  
Option 4 ID : 264330409428  
Status : Answered  
Chosen Option : 4

Q.14 दो बेलनों के आधारों की त्रिज्याएँ 3 : 7 के अनुपात में हैं और उनकी ऊँचाइयाँ 7 : 9 के अनुपात में हैं। उनके वक्र पृष्ठीय क्षेत्रफलों का अनुपात ज्ञात कीजिए।

( $\pi = \frac{22}{7}$  मानिए)

- Ans ☒ 1. 1 : 3  
☒ 2. 3 : 1  
☒ 3. 3 : 4  
☒ 4. 2 : 3

Question ID : 264330112440  
Option 1 ID : 264330441846  
Option 2 ID : 264330441847  
Option 3 ID : 264330441848  
Option 4 ID : 264330441845  
Status : Answered  
Chosen Option : 1

Q.15 एक रेलगाड़ी 54 km/h की चाल से चलते हुए उसी दिशा में चल रही दूसरी रेलगाड़ी तक पहुँचती है और फिर उसे 14 सेकंड में 70 m पीछे छोड़ देती है। दूसरी रेलगाड़ी की चाल कितनी है?

Ans ☒ 1. 36 km/h

☐ 2. 24 km/h

☐ 3. 48 km/h

☐ 4. 54 km/h

Question ID : 264330104420

Option 1 ID : 264330409982

Option 2 ID : 264330409981

Option 3 ID : 264330409983

Option 4 ID : 264330409984

Status : Answered

Chosen Option : 1

Section : Computer Proficiency

Q.1 ईमेल क्लाइंट में कौन-सा फ़ोल्डर प्राप्त ईमेल को संग्रहीत करने के लिए उपयोग किया जाता है?

Ans ☐ 1. आउटबॉक्स

☒ 2. इनबॉक्स

☐ 3. ड्राफ्ट

☐ 4. सेंट आइटम्स

Question ID : 264330174464

Option 1 ID : 264330684276

Option 2 ID : 264330684275

Option 3 ID : 264330684277

Option 4 ID : 264330684278

Status : Answered

Chosen Option : 2

Q.2 माइक्रोसॉफ्ट एक्सेल 365 (Microsoft Excel 365) में, निम्नलिखित में से कौन-सा कीबोर्ड शॉर्टकट आपको किसी वर्कबुक को सेव करने में सक्षम बनाता है?

Ans ☒ 1. Ctrl + S

☐ 2. Ctrl + A

☐ 3. Ctrl + F

☐ 4. Ctrl + G

Question ID : 264330182050

Option 1 ID : 264330714039

Option 2 ID : 264330714040

Option 3 ID : 264330714042

Option 4 ID : 264330714041

Status : Answered

Chosen Option : 1

Q.3 एमएस वर्ड 365 (MS-Word 365) में, किसी टेक्स्ट डॉक्यूमेंट में, निम्नलिखित में से क्या बदलने के लिए कीबोर्ड शॉर्टकट कुंजी, Shift + F3 का उपयोग किया जा सकता है?

- Ans
- ☐ 1. फ्रॉन्ट का आकार
  - ☒ 2. प्रत्येक शब्द को बड़े अक्षर से लिखना
  - ☐ 3. टेक्स्ट का रंग हाइलाइट करना
  - ☐ 4. बोल्ड फ्रॉन्ट

Question ID : 264330175983

Option 1 ID : 264330690228

Option 2 ID : 264330690229

Option 3 ID : 264330690230

Option 4 ID : 264330690227

Status : Answered

Chosen Option : 2

Q.4 एमएस वर्ड 365 (MS Word 365) में डॉक्यूमेंट को बंद करने की शॉर्टकट कमांड क्या है?

- Ans
- ☐ 1. Ctrl + C
  - ☒ 2. Ctrl + W
  - ☐ 3. Ctrl + B
  - ☐ 4. Ctrl + Alt + S

Question ID : 264330171415

Option 1 ID : 264330672275

Option 2 ID : 264330672277

Option 3 ID : 264330672278

Option 4 ID : 264330672276

Status : Answered

Chosen Option : 2

Q.5 एमएस वर्ड 365 (MS Word 365) में पेज मार्जिन सेट करने के लिए निम्नलिखित में से किस विकल्प का उपयोग नहीं किया जाता है?

- Ans
- ☐ 1. लेफ्ट (Left)
  - ☐ 2. बॉटम (Bottom)
  - ☒ 3. हेडर (Header)
  - ☐ 4. राइट (Right)

Question ID : 264330178579

Option 1 ID : 264330700344

Option 2 ID : 264330700343

Option 3 ID : 264330700346

Option 4 ID : 264330700345

Status : Answered

Chosen Option : 3

Q.6 एमएस वर्ड 365 (MS Word 365) में मेनू बार का क्या कार्य है?

- Ans
- ☐ 1. यह विंडो मूविंग एरिया को उल्टा कर देता है
  - ☐ 2. सॉफ्टवेयर का टाइटल प्रदर्शित करता है
  - ☐ 3. डॉक्यूमेंट की वर्तमान पृष्ठ संख्या प्रदर्शित करता है
  - ☒ 4. प्रोग्राम के आवश्यक फंक्शन फाईंड करता है

Question ID : 264330171418

Option 1 ID : 264330672290

Option 2 ID : 264330672288

Option 3 ID : 264330672289

Option 4 ID : 264330672287

Status : Answered

Chosen Option : 4

Q.7 एमएस एक्सेल 365 (MS Excel 365) में, किसी विशिष्ट सेल पर प्रयुक्त फॉर्मूला को प्रदर्शित करने के लिए निम्नलिखित में से किस फंक्शन का उपयोग किया जा सकता है?

Ans ☒ 1. =FORMULATEXT(Cell\_Reference)

☐ 2. =RETFORMULA(Cell\_Reference)

☐ 3. =CALLFORMULA(Cell\_Reference)

☐ 4. =TEXTFORMULA(Cell\_Reference)

Question ID : 264330182052

Option 1 ID : 264330714050

Option 2 ID : 264330714049

Option 3 ID : 264330714048

Option 4 ID : 264330714047

Status : Answered

Chosen Option : 4

Q.8 एमएस वर्ड 365 (MS Word 365) में, निम्नलिखित में से किस ऑपरेशन का उपयोग किसी डॉक्यूमेंट में टेक्स्ट को स्थानांतरित करने के लिए किया जा सकता है?

Ans ☐ 1. कट-कॉपी-पेस्ट

☒ 2. कट-पेस्ट

☐ 3. मूव-पेस्ट

☐ 4. कॉपी-पेस्ट

Question ID : 264330175968

Option 1 ID : 264330690170

Option 2 ID : 264330690168

Option 3 ID : 264330690167

Option 4 ID : 264330690169

Status : Answered

Chosen Option : 3

Q.9 FTP (फ़ाइल ट्रांसफ़र प्रोटोकॉल) का प्राथमिक कार्य क्या होता है?

Ans ☒ 1. कंप्यूटरों के बीच फ़ाइलें ट्रांसफ़र करना

☐ 2. वेबसाइटें ब्राउज़ करना

☐ 3. वीडियो स्ट्रीमिंग करना

☐ 4. ई-मेल भेजना

Question ID : 264330180672

Option 1 ID : 264330708657

Option 2 ID : 264330708656

Option 3 ID : 264330708658

Option 4 ID : 264330708655

Status : Answered

Chosen Option : 1

Q.10 In MS Excel 365, to enable the edit mode in MS-Excel worksheet, we should follow:

Ans ☐ 1. File > Options > Editing options

☐ 2. File > Advanced > Editing options > Options

☒ 3. File > Options > Advanced > Editing options

☐ 4. File > Advanced > Editing options

Question ID : 264330175964

Option 1 ID : 264330690154

Option 2 ID : 264330690152

Option 3 ID : 264330690151

Option 4 ID : 264330690153

Status : Answered

Chosen Option : 3

