

## Constable Executive Male and Female in Delhi Police Examination 2023

Roll Number	
Candidate Name	
Venue Name	R K Digital Computer Centre 1
Exam Date	28/11/2023
Exam Time	3:00 PM - 4:30 PM
Subject	Constable Executive Male and Female in Delhi Police Examination 2023

### Section : General Knowledge

Q.1 600 ईसा पूर्व - 600 ईस्वी की अवधि के दौरान निम्नलिखित में से कौन वह पहला शासक था, जिसने अपनी प्रजा और अधिकारियों के लिए अपने संदेशों को पत्थर की सतहों - प्राकृतिक चट्टानों के साथ-साथ पॉलिश किए गए स्तंभों पर अंकित किया था?

- Ans ☒ 1. अशोक  
☒ 2. महापद्मनंद  
☒ 3. अजातसत्तु  
☒ 4. बिम्बिसार

Question ID : 264330118949  
Option 1 ID : 264330466453  
Option 2 ID : 264330466454  
Option 3 ID : 264330466452  
Option 4 ID : 264330466451

Status : Answered

Chosen Option : 1

Q.2 पूर्णमासी जानी एक आदिवासी गायिका और सामाजिक कार्यकर्ता हैं, जिन्होंने सामाजिक उद्देश्यों को बढ़ावा देने वाले हजारों गाने \_\_\_\_\_ में गाए हैं।

- Ans ☒ 1. मारवाड़ी  
☒ 2. उड़िया  
☒ 3. कुमाऊँनी  
☒ 4. बोडो

Question ID : 264330110244  
Option 1 ID : 264330433254  
Option 2 ID : 264330433255  
Option 3 ID : 264330433256  
Option 4 ID : 264330433253

Status : Answered

Chosen Option : 2

Q.3 निम्नलिखित में से किस औद्योगिक संयंत्र को भद्रावती नदी से जल आपूर्ति होती है?

- Ans ☒ 1. दुर्गापुर इस्पात संयंत्र  
☒ 2. विश्वेश्वरैया लौह एवं इस्पात संयंत्र  
☒ 3. राउरकेला इस्पात संयंत्र  
☒ 4. बोकारो इस्पात संयंत्र

Question ID : 264330178712  
Option 1 ID : 264330700875  
Option 2 ID : 264330700876  
Option 3 ID : 264330700877  
Option 4 ID : 264330700878

Status : Answered

Chosen Option : 2

Q.4 दिए गए कथनों का अध्ययन कीजिए और सबसे उपयुक्त विकल्प का चयन कीजिए।

i) मानव रक्त में श्वेत रक्त कोशिका (WBC) अपना आकार बदल सकती है।

ii) अमीबा का आकार अनियमित होता है।

- Ans
- ☒ 1. केवल कथन 2 सही है।
  - ☒ 2. दोनों कथन गलत हैं।
  - ☒ 3. केवल कथन 1 सही है।
  - ☒ 4. दोनों कथन सही हैं।

Question ID : 264330113332

Option 1 ID : 264330445416

Option 2 ID : 264330445414

Option 3 ID : 264330445415

Option 4 ID : 264330445413

Status : Marked For Review

Chosen Option : 1

Q.5 संगीत नाटक अकादमी प्रख्यात कलाकारों को फेलोशिप देती है। राधा श्रीधर ने इसे भरतनाट्यम के लिए प्राप्त किया जो कि \_\_\_\_\_ राज्य का एक नृत्यरूप है।

- Ans
- ☒ 1. कर्नाटक
  - ☒ 2. तमिलनाडु
  - ☒ 3. आंध्र प्रदेश
  - ☒ 4. केरल

Question ID : 26433071523

Option 1 ID : 264330280517

Option 2 ID : 264330280518

Option 3 ID : 264330280516

Option 4 ID : 264330280519

Status : Answered

Chosen Option : 2

Q.6 थियोसोफिकल सोसायटी निम्नलिखित में से किस समाज सुधारक द्वारा शुरू की गई थी?

- Ans
- ☒ 1. राजा राम मोहन राय
  - ☒ 2. एनी बेसेंट
  - ☒ 3. सैय्यद अहमद खान
  - ☒ 4. स्वामी विवेकानंद

Question ID : 264330114880

Option 1 ID : 264330451607

Option 2 ID : 264330451606

Option 3 ID : 264330451605

Option 4 ID : 264330451608

Status : Answered

Chosen Option : 2

Q.7 कराटे में एक 'इप्पोन' (Ippon) के लिए कितने अंक मिलते हैं?

- Ans ☒ 1. 1  
☒ 2. 3  
☒ 3. 4  
☒ 4. 2

Question ID : 264330113778

Option 1 ID : 264330447199

Option 2 ID : 264330447197

Option 3 ID : 264330447200

Option 4 ID : 264330447198

Status : Not Answered

Chosen Option : --

Q.8 भारतीय संविधान के अनुच्छेद 51 में कहा गया है कि राज्य \_\_\_\_\_ के लिए प्रयास करेगा।

- Ans ☒ 1. कार्यपालिका से अलग न्यायपालिका  
☒ 2. कलात्मक या ऐतिहासिक महत्व के स्मारकों, स्थानों और वस्तुओं का संरक्षण करने  
☒ 3. अंतरराष्ट्रीय शांति और सुरक्षा को बढ़ावा देने  
☒ 4. पर्यावरण का संरक्षण और सुधार करना और वनों एवं वन्य जीवन की रक्षा करने

Question ID : 264330113400

Option 1 ID : 264330445687

Option 2 ID : 264330445686

Option 3 ID : 264330445688

Option 4 ID : 264330445685

Status : Answered

Chosen Option : 2

Q.9 द्विवार्षिक योजनाएँ कब लागू की गई थीं?

- Ans ☒ 1. आठवीं पंचवर्षीय योजना के बाद  
☒ 2. छठी पंचवर्षीय योजना के बाद  
☒ 3. सातवीं पंचवर्षीय योजना के बाद  
☒ 4. नौवीं पंचवर्षीय योजना के बाद

Question ID : 264330120885

Option 1 ID : 264330473756

Option 2 ID : 264330473758

Option 3 ID : 264330473757

Option 4 ID : 264330473755

Status : Answered

Chosen Option : 3

Q.10 'पर ड्रॉप मोर क्रॉप (Per Drop More Crop)' किस सरकारी योजना की मुख्य टैग लाइन है?

- Ans ☒ 1. प्रधान मंत्री फसल बीमा योजना  
☒ 2. प्रधान मंत्री कृषि सिंचाई योजना  
☒ 3. जलवायु परिवर्तन पर राष्ट्रीय कार्य योजना  
☒ 4. अटल भू-जल योजना

Question ID : 264330109412

Option 1 ID : 264330429925

Option 2 ID : 264330429928

Option 3 ID : 264330429927

Option 4 ID : 264330429926

Status : Answered

Chosen Option : 2

Q.11 Which of the following constitutes a food chain starting from producer to top carnivores?

- Ans
- ☐ 1. Soil → Grass → Deer → Tiger
  - ☐ 2. Insects → Frogs → Snakes → Vultures
  - ☐ 3. Grass → Insects → Snakes → Birds → Tigers
  - ☒ 4. Small Plants → Insects → Fish → Birds → Tigers

Question ID : 264330182361

Option 1 ID : 264330715270

Option 2 ID : 264330715268

Option 3 ID : 264330715269

Option 4 ID : 264330715267

Status : Answered

Chosen Option : 4

Q.12 गैलेना, कैल्कोपाइराइट और मॉलिब्डेनाइट किस खनिज समूह से संबंधित हैं?

- Ans
- ☒ 1. सल्फाइड
  - ☐ 2. ऑक्साइड
  - ☐ 3. हैलाइड
  - ☐ 4. फ़ॉस्फाइड

Question ID : 264330131019

Option 1 ID : 264330513187

Option 2 ID : 264330513188

Option 3 ID : 264330513190

Option 4 ID : 264330513189

Status : Not Answered

Chosen Option : --

Q.13 भारत के संविधान के अनुच्छेद 21 A के तहत बच्चों को मुफ्त और अनिवार्य शिक्षा प्रदान करने की आयु क्या है?

- Ans
- ☐ 1. आठ से बारह वर्ष
  - ☐ 2. दस से चौदह वर्ष
  - ☒ 3. छह से चौदह वर्ष
  - ☐ 4. आठ से चौदह वर्ष

Question ID : 264330133063

Option 1 ID : 264330521305

Option 2 ID : 264330521304

Option 3 ID : 264330521303

Option 4 ID : 264330521306

Status : Answered

Chosen Option : 3

Q.14 निम्नलिखित में से अप्रत्यक्ष कर का उदाहरण कौन-सा है?

- Ans
- ☒ 1. सीमा शुल्क
  - ☐ 2. व्यक्तिगत आय कर
  - ☐ 3. उपहार कर
  - ☐ 4. कॉर्पोरेट आय कर

Question ID : 264330112448

Option 1 ID : 264330441879

Option 2 ID : 264330441878

Option 3 ID : 264330441880

Option 4 ID : 264330441877

Status : Answered

Chosen Option : 1

Q.15 प्रधानमंत्री गरीब कल्याण जमा योजना (PMGKDS) भारत सरकार द्वारा किस वर्ष शुरू की गई थी?

- Ans ☒ 1. 2016 में  
☐ 2. 2009 में  
☐ 3. 2014 में  
☐ 4. 2020 में

Question ID : 264330120379

Option 1 ID : 264330471767

Option 2 ID : 264330471770

Option 3 ID : 264330471768

Option 4 ID : 264330471769

Status : Answered

Chosen Option : 1

Q.16 शंकरदेव ने किस धर्म के प्रचार के लिए असम में सत्रिया नृत्य की शुरुआत की थी?

- Ans ☐ 1. शैव धर्म  
☐ 2. बुद्ध धर्म  
☐ 3. जैन धर्म  
☒ 4. वैष्णव धर्म

Question ID : 264330111787

Option 1 ID : 264330439235

Option 2 ID : 264330439234

Option 3 ID : 264330439233

Option 4 ID : 264330439236

Status : Answered

Chosen Option : 4

Q.17 निम्नलिखित में से कौन सा मंदिर विश्व के चुंबकीय निरक्ष के केंद्र बिंदु पर स्थित है?

- Ans ☒ 1. चिदंबरम मंदिर  
☐ 2. श्रीरंगम मंदिर  
☐ 3. मीनाक्षी मंदिर  
☐ 4. कैलासनाथ मंदिर

Question ID : 264330106252

Option 1 ID : 264330417311

Option 2 ID : 264330417310

Option 3 ID : 264330417309

Option 4 ID : 264330417312

Status : Not Answered

Chosen Option : --

Q.18 निम्नलिखित में से कौन-सा उच्च न्यायालय 1866 में स्थापित किया गया था?

- Ans ☐ 1. बंबई उच्च न्यायालय  
☐ 2. गुजरात उच्च न्यायालय  
☒ 3. इलाहाबाद उच्च न्यायालय  
☐ 4. केरल उच्च न्यायालय

Question ID : 264330177760

Option 1 ID : 264330697147

Option 2 ID : 264330697149

Option 3 ID : 264330697148

Option 4 ID : 264330697150

Status : Answered

Chosen Option : 3

Q.19 भारत के राष्ट्रपति और राज्यों के राज्यपाल अनुच्छेद \_\_\_\_\_ के तहत उल्लिखित उन्मुक्तियों की सुविधा लेते हैं।

Ans ☒ 1. 361

☐ 2. 360

☐ 3. 359

☐ 4. 362

Question ID : 264330130447

Option 1 ID : 264330510901

Option 2 ID : 264330510900

Option 3 ID : 264330510899

Option 4 ID : 264330510902

Status : Answered

Chosen Option : 4

Q.20 चंपारण सत्याग्रह का नेतृत्व ब्रिटिश भारत के निम्नलिखित स्वतंत्रता सेनानियों में से किसके द्वारा किया गया था?

Ans ☐ 1. लाल बहादुर शास्त्री

☐ 2. राजेन्द्र प्रसाद

☐ 3. सुभाष चंद्र बोस

☒ 4. महात्मा गांधी

Question ID : 264330182736

Option 1 ID : 264330716715

Option 2 ID : 264330716716

Option 3 ID : 264330716718

Option 4 ID : 264330716717

Status : Answered

Chosen Option : 4

Q.21 वाद्य-यंत्र और उससे जुड़े कलाकार के सही संयोजन की पहचान कीजिए।

Ans ☒ 1. शिव कुमार शर्मा – संतूर

☐ 2. ज़ाकिर हुसैन-सरोद

☐ 3. बिसमिल्लाह खान-बाँसुरी

☐ 4. अली अकबर खान- तबला

Question ID : 264330111195

Option 1 ID : 264330436867

Option 2 ID : 264330436865

Option 3 ID : 264330436866

Option 4 ID : 264330436868

Status : Answered

Chosen Option : 1

Q.22 The Bidar Fort is located in which Indian state?

Ans ☐ 1. Maharashtra

☒ 2. Karnataka

☐ 3. Andhra Pradesh

☐ 4. Rajasthan

Question ID : 264330109644

Option 1 ID : 264330430856

Option 2 ID : 264330430854

Option 3 ID : 264330430855

Option 4 ID : 264330430853

Status : Answered

Chosen Option : 2

Q.23 दिल्ली सल्तनत के तहत कौन सा राजवंश भारत में पहला अफगान पश्तून राजवंश था?

- Ans ☒ 1. लोदी  
☐ 2. सेयद  
☐ 3. मामलुक  
☐ 4. खिलजी

Question ID : 264330114826

Option 1 ID : 264330451392

Option 2 ID : 264330451389

Option 3 ID : 264330451391

Option 4 ID : 264330451390

Status : Answered

Chosen Option : 3

Q.24 अध्यक्ष (Speaker) और उपाध्यक्ष (Deputy Speaker) की अनुपस्थिति में लोकसभा की अध्यक्षता कौन करता है?

- Ans ☐ 1. प्रधानमंत्री द्वारा नियुक्त व्यक्ति  
☐ 2. सर्वोच्च न्यायालय के मुख्य न्यायाधीश  
☐ 3. राष्ट्रपति  
☒ 4. अध्यक्ष द्वारा मनोनीत पैनल के सदस्यों में से कोई व्यक्ति

Question ID : 264330110605

Option 1 ID : 264330434698

Option 2 ID : 264330434699

Option 3 ID : 264330434697

Option 4 ID : 264330434700

Status : Answered

Chosen Option : 4

Q.25 स्तंभ A को स्तंभ B के साथ मिलाएं।

स्तंभ-A

- i. उत्पादक
- ii. प्राथमिक उपभोक्ता
- iii. तृतीयक उपभोक्ता
- iv. अपघटक

स्तंभ-B

- a. मांसाहारी शिकारी
- b. हरे पौधे
- c. जीवाणु
- d. शाकाहारी जानवर

- Ans ☐ 1. i-b, ii-a, iii-c, iv-d  
☐ 2. i-b, ii-a, iii-d, iv-c  
☐ 3. i-a, ii-b, iii-c, iv-d  
☒ 4. i-b, ii-d, iii-a, iv-c

Question ID : 264330120956

Option 1 ID : 264330474042

Option 2 ID : 264330474041

Option 3 ID : 264330474039

Option 4 ID : 264330474040

Status : Answered

Chosen Option : 4

Q.26

सूची I का सूची II से मिलान करें।

सूची I

सूची II

- |                                      |           |
|--------------------------------------|-----------|
| a) क्षेत्रीय ग्रामीण बैंक            | i) 1982   |
| b) नाबार्ड                           | ii) 1975  |
| c) भारतीय स्टेट बैंक का राष्ट्रीयकरण | iii) 1955 |

- Ans
- ☒ 1. a-iii, b-i, c-ii
  - ☒ 2. a-i, b-iii, c-ii
  - ☒ 3. a-ii, b-i, c-iii
  - ☒ 4. a-i, b-ii, c-iii

Question ID : 264330141475

Option 1 ID : 264330554236

Option 2 ID : 264330554237

Option 3 ID : 264330554235

Option 4 ID : 264330554238

Status : Answered

Chosen Option : 3

Q.27 23वें राष्ट्रमंडल खेलों की मेजबानी \_\_\_\_\_ के द्वारा की जाएगी।

- Ans
- ☒ 1. ऑस्ट्रेलिया
  - ☒ 2. कनाडा
  - ☒ 3. भारत
  - ☒ 4. इंग्लैंड

Question ID : 264330132541

Option 1 ID : 264330519261

Option 2 ID : 264330519262

Option 3 ID : 264330519260

Option 4 ID : 264330519259

Status : Answered

Chosen Option : 1

Q.28 गणतंत्र दिवस, 2023 के अवसर पर संस्कृति मंत्रालय द्वारा आयोजित कार्यक्रम "वंदे भारतम्" में कला के किस रूप का प्रदर्शन किया गया था?

- Ans
- ☒ 1. चित्रकारी
  - ☒ 2. नृत्य
  - ☒ 3. साहित्य
  - ☒ 4. संगीत

Question ID : 264330132409

Option 1 ID : 264330518733

Option 2 ID : 264330518734

Option 3 ID : 264330518732

Option 4 ID : 264330518731

Status : Marked For Review

Chosen Option : 2



Q.29 निम्नलिखित में से वह स्थिति कौन-सी है, जिसमें वास्तव में आवश्यकता से अधिक लोग कार्य में लगे हुए होते हैं?

- Ans ☒ 1. प्रच्छन्न बेरोजगारी (Disguised unemployment)
- ☒ 2. संघर्षात्मक बेरोजगारी (Frictional unemployment)
- ☒ 3. प्रकट बेरोजगारी (Open unemployment)
- ☒ 4. मौसमी बेरोजगारी (seasonal unemployment)

Question ID : 264330183052

Option 1 ID : 264330717940

Option 2 ID : 264330717941

Option 3 ID : 264330717943

Option 4 ID : 264330717942

Status : Answered

Chosen Option : 2

Q.30 1991 में भारत को \_\_\_\_\_ के कारण आर्थिक संकट का सामना करना पड़ा था।

- Ans ☒ 1. भारी कर्ज का बोझ
- ☒ 2. विदेशी मुद्रा भंडार में वृद्धि
- ☒ 3. राजनैतिक अस्थिरता
- ☒ 4. कम मुद्रास्फीति

Question ID : 26433065487

Option 1 ID : 264330256510

Option 2 ID : 264330256508

Option 3 ID : 264330256511

Option 4 ID : 264330256509

Status : Answered

Chosen Option : 2

Q.31 उदारीकरण उपाय के तहत, एकाधिकार और अवरोधक व्यापार व्यवहार (MRTP) अधिनियम 1969 को निम्नलिखित में से किस अधिनियम द्वारा निरस्त किया गया था?

- Ans ☒ 1. उद्योग (विकास एवं विनियमन) अधिनियम 1951
- ☒ 2. विदेशी मुद्रा विनियमन अधिनियम 1973
- ☒ 3. विदेशी मुद्रा प्रबंध अधिनियम 1999
- ☒ 4. प्रतिस्पर्धा अधिनियम 2002

Question ID : 264330111600

Option 1 ID : 264330438488

Option 2 ID : 264330438486

Option 3 ID : 264330438487

Option 4 ID : 264330438485

Status : Marked For Review

Chosen Option : 3

Q.32 निम्नलिखित में से किस संशोधन अधिनियम ने भारतीय नागरिकों के लिए मौलिक कर्तव्यों को निर्धारित किया है?

- Ans
- ☐ 1. 44वें संशोधन अधिनियम
  - ☐ 2. 41वें संशोधन अधिनियम
  - ☐ 3. 43वें संशोधन अधिनियम
  - ☒ 4. 42वें संशोधन अधिनियम

Question ID : 264330109837  
Option 1 ID : 264330431628  
Option 2 ID : 264330431625  
Option 3 ID : 264330431627  
Option 4 ID : 264330431626  
Status : Answered  
Chosen Option : 1

Q.33 Which of the following dances was influenced by the Ras Leela of North India?

- Ans
- ☒ 1. Kathak
  - ☐ 2. Odissi
  - ☐ 3. Kuchipudi
  - ☐ 4. Bharatnatyam

Question ID : 264330110411  
Option 1 ID : 264330433923  
Option 2 ID : 264330433921  
Option 3 ID : 264330433922  
Option 4 ID : 264330433924  
Status : Answered  
Chosen Option : 1

Q.34 \_\_\_\_\_ को यह निर्देश देने का अधिकार है कि संसद का अधिनियम राज्य में अनुसूचित क्षेत्र पर लागू नहीं होता है।

- Ans
- ☒ 1. राज्यपाल
  - ☐ 2. उच्चतम न्यायालय
  - ☐ 3. उच्च न्यायालय
  - ☐ 4. मुख्यमंत्री

Question ID : 264330120168  
Option 1 ID : 264330470930  
Option 2 ID : 264330470928  
Option 3 ID : 264330470927  
Option 4 ID : 264330470929  
Status : Marked For Review  
Chosen Option : 2

Q.35 भारत में गणतंत्र दिवस की परेड की अध्यक्षता \_\_\_\_\_ करते हैं।

- Ans
- ☐ 1. भारत के प्रधान मंत्री
  - ☒ 2. भारत के राष्ट्रपति
  - ☐ 3. रक्षा प्रमुख (चीफ ऑफ डिफेंस)
  - ☐ 4. भारत के उपराष्ट्रपति

Question ID : 264330109617  
Option 1 ID : 264330430746  
Option 2 ID : 264330430745  
Option 3 ID : 264330430748  
Option 4 ID : 264330430747  
Status : Marked For Review  
Chosen Option : 2

Q.36 'इंडिया विन्स फ्रीडम' निम्नलिखित स्वतंत्रता सेनानियों में से किसके द्वारा लिखी गई एक आत्मकथा है?

- Ans
- ☐ 1. पट्टाभि सीतारमैया
  - ☐ 2. एनी बेसेंट
  - ☐ 3. लोकमान्य तिलक
  - ☒ 4. अबुल कलाम आज़ाद

Question ID : 26433064218

Option 1 ID : 264330251466

Option 2 ID : 264330251464

Option 3 ID : 264330251467

Option 4 ID : 264330251465

Status : Answered

Chosen Option : 4

Q.37 निम्नलिखित में से किस चोल राजा ने गंगा घाटी क्षेत्र पर आक्रमण किया?

- Ans
- ☐ 1. अरिजय चोल
  - ☐ 2. गंदारादित्य
  - ☒ 3. राजेंद्र I
  - ☐ 4. उत्तम चोल

Question ID : 264330119758

Option 1 ID : 264330469310

Option 2 ID : 264330469309

Option 3 ID : 264330469308

Option 4 ID : 264330469307

Status : Answered

Chosen Option : 3

Q.38 सामान्यतः जब हम भूमध्य रेखा से ध्रुवों की ओर बढ़ते हैं तो वर्षा पर क्या प्रभाव होता है?

- Ans
- ☐ 1. वर्षा दुगुनी हो जाती है
  - ☒ 2. वर्षा निरन्तर घटती चली जाती है
  - ☐ 3. वर्षा निरन्तर बढ़ती जाती है
  - ☐ 4. वर्षा स्थिर बनी रहती है

Question ID : 264330131679

Option 1 ID : 264330515815

Option 2 ID : 264330515816

Option 3 ID : 264330515818

Option 4 ID : 264330515817

Status : Answered

Chosen Option : 3

Q.39 एमएसएमई 2020 की नई परिभाषा के अनुसार, मध्यम उद्योग का पण्यवर्त (टर्नओवर) कितनी राशि से अधिक नहीं होना चाहिए?

- Ans
- ☒ 1. ₹250 करोड़
  - ☐ 2. ₹100 करोड़
  - ☐ 3. ₹200 करोड़
  - ☐ 4. ₹150 करोड़

Question ID : 264330109393

Option 1 ID : 264330429852

Option 2 ID : 264330429849

Option 3 ID : 264330429851

Option 4 ID : 264330429850

Status : Not Answered

Chosen Option : --

Q.40 स्वतंत्रता के बाद भारत की पहली जनगणना किस वर्ष आयोजित की गई थी?

- Ans
- ☐ 1. 1954
  - ☐ 2. 1958
  - ☒ 3. 1951
  - ☐ 4. 1960

Question ID : 264330182967

Option 1 ID : 264330717600

Option 2 ID : 264330717601

Option 3 ID : 264330717603

Option 4 ID : 264330717602

Status : Answered

Chosen Option : 3

Q.41 Who is the author of the popular novel Pinjar?

- Ans
- ☐ 1. Dharamvir Bharati
  - ☐ 2. Bhisham Sahni
  - ☒ 3. Amrita Pritam
  - ☐ 4. Yashpal

Question ID : 26433064222

Option 1 ID : 264330251482

Option 2 ID : 264330251480

Option 3 ID : 264330251483

Option 4 ID : 264330251481

Status : Answered

Chosen Option : 3

Q.42 Which of the following associations was established by Dr BR Ambedkar in 1930?

- Ans
- ☐ 1. Satyashodhak Samaj
  - ☒ 2. Depressed Classes Association
  - ☐ 3. Depressed Classes' Education Society
  - ☐ 4. All India Harijan Sewak Sangh

Question ID : 264330114107

Option 1 ID : 264330448513

Option 2 ID : 264330448515

Option 3 ID : 264330448516

Option 4 ID : 264330448514

Status : Answered

Chosen Option : 3

Q.43 चाणक्य की शिक्षा-दीक्षा \_\_\_\_\_ में हुई थी।

- Ans
- ☒ 1. तक्षशिला
  - ☐ 2. उज्जैन
  - ☐ 3. नालंदा
  - ☐ 4. विक्रमशिला

Question ID : 264330118955

Option 1 ID : 264330466477

Option 2 ID : 264330466478

Option 3 ID : 264330466475

Option 4 ID : 264330466476

Status : Answered

Chosen Option : 3

Q.44 क्रिकेट गेंद की परिधि लगभग कितनी होती है?

- Ans ☒ 1. लगभग 6 इंच  
☒ 2. लगभग 9 इंच  
☒ 3. लगभग 5 इंच  
☒ 4. लगभग 12 इंच

Question ID : 264330113759

Option 1 ID : 264330447124

Option 2 ID : 264330447121

Option 3 ID : 264330447123

Option 4 ID : 264330447122

Status : Answered

Chosen Option : 1

Q.45 In which state is New Mangalore port located?

- Ans ☒ 1. Karnataka  
☒ 2. Goa  
☒ 3. Kerala  
☒ 4. Tamil Nadu

Question ID : 264330173605

Option 1 ID : 264330680900

Option 2 ID : 264330680899

Option 3 ID : 264330680901

Option 4 ID : 264330680902

Status : Answered

Chosen Option : 1

Q.46 निम्नलिखित में से किस अधिनियम के तहत ईस्ट इंडिया कंपनी द्वारा व्यावसायिक गतिविधियों और ब्रिटिश संसद द्वारा राजनीतिक गतिविधियों की देखभाल की जानी थी?

- Ans ☒ 1. पिट्स इंडिया अधिनियम, 1784  
☒ 2. भारतीय परिषद अधिनियम 1861  
☒ 3. भारत सरकार अधिनियम 1935  
☒ 4. विनियमन अधिनियम 1773

Question ID : 264330130554

Option 1 ID : 264330511327

Option 2 ID : 264330511330

Option 3 ID : 264330511329

Option 4 ID : 264330511328

Status : Answered

Chosen Option : 4

Q.47 आर.एल.वी. रामकृष्णन ने 2021 में मोहिनीअट्टम के लिए अकादमी पुरस्कार जीता। यह निम्नलिखित में से किस राज्य का शास्त्रीय नृत्य है?

- Ans ☒ 1. असम  
☒ 2. आंध्र प्रदेश  
☒ 3. उड़ीसा  
☒ 4. केरल

Question ID : 26433086665

Option 1 ID : 264330340301

Option 2 ID : 264330340304

Option 3 ID : 264330340302

Option 4 ID : 264330340303

Status : Answered

Chosen Option : 4

Q.48 निम्नलिखित में से कौन-सी नदी मध्य प्रदेश में 'धुआंधार जलप्रपात' बनाती है?

- Ans
- ☒ 1. तापी
  - ☒ 2. गोदावरी
  - ☒ 3. नर्मदा
  - ☒ 4. महानदी

Question ID : 264330176008

Option 1 ID : 264330690330

Option 2 ID : 264330690327

Option 3 ID : 264330690328

Option 4 ID : 264330690329

Status : Answered

Chosen Option : 3

Q.49 Which of the following is the first grand slam of the year?

- Ans
- ☒ 1. Wimbledon
  - ☒ 2. Australian Open
  - ☒ 3. French Open
  - ☒ 4. US Open

Question ID : 264330130649

Option 1 ID : 264330511707

Option 2 ID : 264330511710

Option 3 ID : 264330511709

Option 4 ID : 264330511708

Status : Answered

Chosen Option : 2

Q.50 किसी कार्बन यौगिक को जलाए जाने पर एक साफ लौ उत्पन्न होती है, यह इंगित करता है कि यह \_\_\_\_\_ है।

- Ans
- ☒ 1. सल्फर युक्त यौगिक
  - ☒ 2. संतृप्त हाइड्रोकार्बन यौगिक
  - ☒ 3. नाइट्रोजन युक्त यौगिक
  - ☒ 4. असंतृप्त हाइड्रोकार्बन यौगिक

Question ID : 264330182811

Option 1 ID : 264330717017

Option 2 ID : 264330717018

Option 3 ID : 264330717016

Option 4 ID : 264330717015

Status : Not Answered

Chosen Option : --

Section : Reasoning

Q.1 Select the correct mirror image of the given pattern when the mirror is placed at 'AB' as shown.



Ans

- ☒ 1. A sequence of stylized symbols: a circle with a horizontal line, a circle with a vertical line, a circle with a horizontal line, a circle with a vertical line, a square with a vertical line, and a circle with a horizontal line.
- ☒ 2. A sequence of stylized symbols: a circle with a horizontal line, a circle with a vertical line, a circle with a horizontal line, a circle with a vertical line, a square with a vertical line, and a circle with a horizontal line.
- ☒ 3. A sequence of stylized symbols: a circle with a horizontal line, a circle with a vertical line, a circle with a horizontal line, a circle with a vertical line, a square with a vertical line, and a circle with a horizontal line.
- ☒ 4. A sequence of stylized symbols: a circle with a horizontal line, a circle with a vertical line, a circle with a horizontal line, a circle with a vertical line, a square with a vertical line, and a circle with a horizontal line.

Question ID : 264330121805

Option 1 ID : 264330477394

Option 2 ID : 264330477392

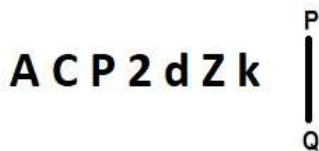
Option 3 ID : 264330477391

Option 4 ID : 264330477393

Status : Answered

Chosen Option : 2

Q.2 Select the correct mirror image of the given figure when the mirror is placed at PQ as shown below.



Ans

- ☒ 1. A sequence of letters: 'A', 'C', 'P', '2', 'd', 'Z', and 'k'.
- ☒ 2. A sequence of letters: 'A', 'C', 'P', '2', 'd', 'Z', and 'k'.
- ☒ 3. A sequence of letters: 'A', 'C', 'P', '2', 'd', 'Z', and 'k'.
- ☒ 4. A sequence of letters: 'A', 'C', 'P', '2', 'd', 'Z', and 'k'.

Question ID : 26433080782

Option 1 ID : 264330317061

Option 2 ID : 264330317064

Option 3 ID : 264330317063

Option 4 ID : 264330317062

Status : Answered

Chosen Option : 3

Q.3 Which figure should replace the question mark (?) if the following series were to be continued?

O	L	L	↑	L	↑	↑	D	↑	D	
	↑			O		D		L		Z
D		Z	D		Z	Z	O	Z	O	O
										L

Ans

✓ 1.

D

Z

↑

O

L

✗ 2.

Z

↑

D

L

O

✗ 3.

D

Z

↑

L

O

✗ 4.

Z

↑

D

O

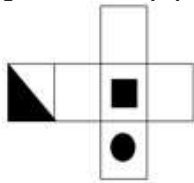
L

Question ID : 264330103850  
Option 1 ID : 264330407701  
Option 2 ID : 264330407703  
Option 3 ID : 264330407704  
Option 4 ID : 264330407702

Status : Answered  
Chosen Option : 3



Q.4 Choose the dice from the given options that is similar to the dice formed from the given sheet of paper (X).



(X)

Ans

✗ 1.



✓ 2.



✗ 3.



✗ 4.



Question ID : 264330111296

Option 1 ID : 264330437270

Option 2 ID : 264330437272

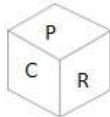
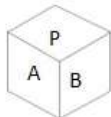
Option 3 ID : 264330437271

Option 4 ID : 264330437269

Status : Marked For Review

Chosen Option : 2

Q.5 Six letters A, B, C, P, Q and R are written on different faces of a dice. Two positions of this dice are shown in the figure. Find the letter on the face opposite to B.



Ans

✗ 1. Q

✓ 2. R

✗ 3. A

✗ 4. C

Question ID : 264330109207

Option 1 ID : 264330429107

Option 2 ID : 264330429108

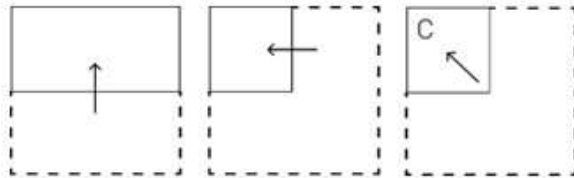
Option 3 ID : 264330429105

Option 4 ID : 264330429106

Status : Answered

Chosen Option : 2

Q.6 A paper is folded and cut as shown below. How will it appear when unfolded?



Ans

- ✗ 1.
- ✗ 2.
- ✓ 3.
- ✗ 4.

Question ID : 264330114707

Option 1 ID : 264330450913

Option 2 ID : 264330450914

Option 3 ID : 264330450916

Option 4 ID : 264330450915

Status : Answered

Chosen Option : 3

Q.7 Which of the following terms will replace the question mark (?) in the given series?  
GSJV, IQLT, KONR, ?, OKRN

- Ans ✗ 1. LMPO
- ✗ 2. NMOP
- ✗ 3. MNPO
- ✓ 4. MMPP

Question ID : 264330102172

Option 1 ID : 264330401153

Option 2 ID : 264330401155

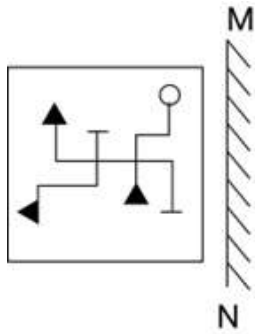
Option 3 ID : 264330401154

Option 4 ID : 264330401156

Status : Answered

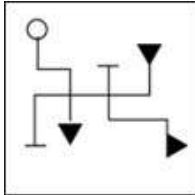
Chosen Option : 4

Q.8 Select the correct mirror image of the given combination when the mirror is placed at 'MN' as shown below.

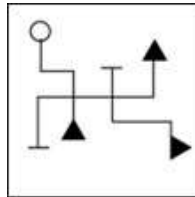


Ans

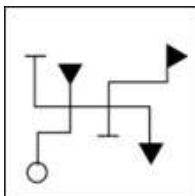
✗ 1.



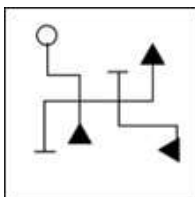
✓ 2.



✗ 3.



✗ 4.



Question ID : 264330130767

Option 1 ID : 264330512181

Option 2 ID : 264330512180

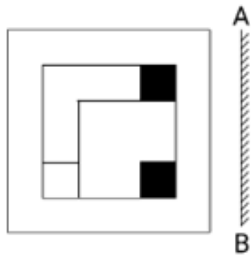
Option 3 ID : 264330512179

Option 4 ID : 264330512182

Status : Answered

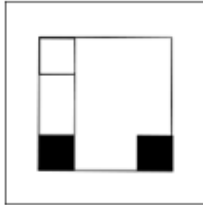
Chosen Option : 2

Q.9 Select the correct mirror image of the given figure when the mirror is placed at 'AB' as shown.

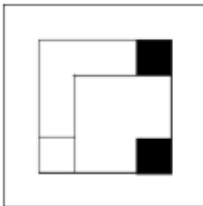


Ans

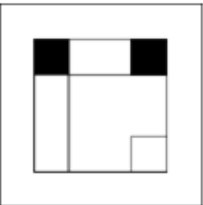
☒ 1.



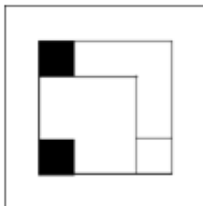
☒ 2.



☒ 3.



☒ 4.



Question ID : 264330113093

Option 1 ID : 264330444459

Option 2 ID : 264330444457

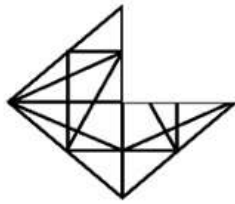
Option 3 ID : 264330444458

Option 4 ID : 264330444460

Status : Answered

Chosen Option : 4

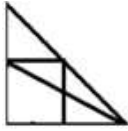
**Q.10** Select a figure from amongst the four given options which, when placed in the blank space of figure (X), would complete the pattern.



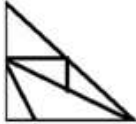
X

Ans

✗ 1.



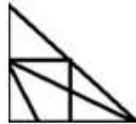
✗ 2.



✗ 3.



✓ 4.



Question ID : 264330102214

Option 1 ID : 264330401322

Option 2 ID : 264330401323

Option 3 ID : 264330401321

Option 4 ID : 264330401324

Status : Answered

Chosen Option : 4

**Q.11** Select the set in which the numbers are related in the same way as are the numbers of the following sets.

(NOTE : Operations should be performed on the whole numbers, without breaking down the numbers into its constituent digits. E.g. 13 – Operations on 13 such as adding /deleting /multiplying etc. to 13 can be performed. Breaking down 13 into 1 and 3 and then performing mathematical operations on 1 and 3 is not allowed.)

(63, 9, 27)

(105, 15, 45)

Ans ✗ 1. (149, 21, 63)

✓ 2. (147, 21, 63)

✗ 3. (147, 21, 65)

✗ 4. (149, 21, 65)

Question ID : 264330175036

Option 1 ID : 264330686519

Option 2 ID : 264330686522

Option 3 ID : 264330686521

Option 4 ID : 264330686520

Status : Answered

Chosen Option : 2

Q.12 Select the correct combination of mathematical signs that can sequentially replace the \* signs and balance the given expression.  
 $53 * 19 * 8 * 32 * 4 * 197$

- Ans
- ☒ 1. +, -, x, ÷, =
  - ☒ 2. x, +, -, ÷, =
  - ☒ 3. ÷, +, x, -, =
  - ☒ 4. +, x, -, ÷, =

Question ID : 26433074783

Option 1 ID : 264330293223

Option 2 ID : 264330293221

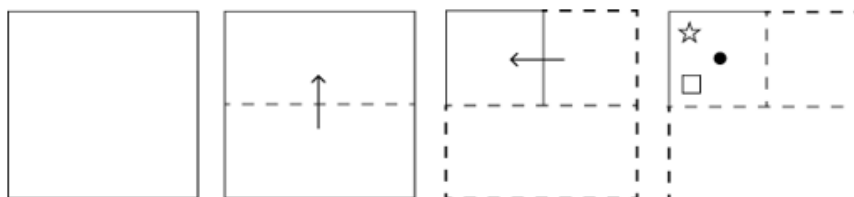
Option 3 ID : 264330293220

Option 4 ID : 264330293222

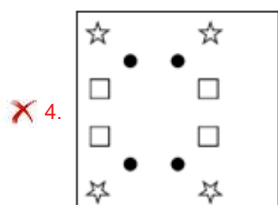
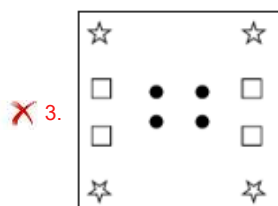
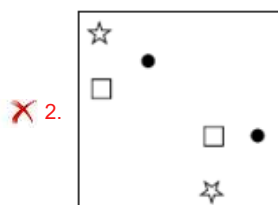
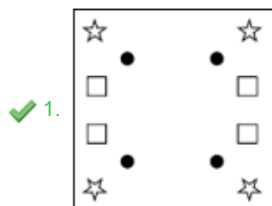
Status : Answered

Chosen Option : 4

Q.13 A square sheet of paper is folded along the dotted line successively along the directions shown and is then punched in the last. How would the paper look when unfolded?



Ans



Question ID : 264330172427

Option 1 ID : 264330676260

Option 2 ID : 264330676262

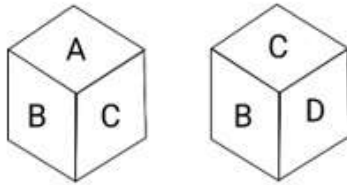
Option 3 ID : 264330676261

Option 4 ID : 264330676259

Status : Answered

Chosen Option : 1

Q.14 Six letters, A, B, C, D, E and F, are written on the different faces of a dice. Two positions of this dice are shown in the given figure. Find the letter on the face opposite to D.



- Ans
- ☒ 1. E
  - ☒ 2. B
  - ☒ 3. A
  - ☒ 4. F

Question ID : 264330106167

Option 1 ID : 264330416970

Option 2 ID : 264330416972

Option 3 ID : 264330416969

Option 4 ID : 264330416971

Status : Answered

Chosen Option : 3

Q.15 Which of the following options will replace the question mark (?) in the given series?  
150, 230, 322, 402, ?, 574

- Ans
- ☒ 1. 459
  - ☒ 2. 488
  - ☒ 3. 494
  - ☒ 4. 477

Question ID : 264330109428

Option 1 ID : 264330429991

Option 2 ID : 264330429992

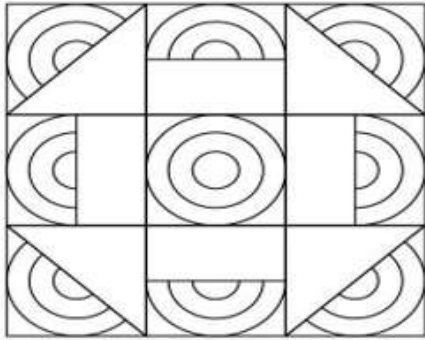
Option 3 ID : 264330429989

Option 4 ID : 264330429990

Status : Answered

Chosen Option : 3

Q.16 How many semicircles are there in the given figure?



- Ans ☒ 1. 30  
☒ 2. 24  
☒ 3. 27  
☒ 4. 33

Question ID : 26433080671

Option 1 ID : 264330316617

Option 2 ID : 264330316619

Option 3 ID : 264330316620

Option 4 ID : 264330316618

Status : Answered

Chosen Option : 2

Q.17 Select the option that is related to the fifth letter-cluster in the same way as the second letter-cluster is related to the first letter-cluster and the fourth letter-cluster is related to the third letter-cluster.

LOVE : BSLI :: WORK : HOLT :: SORT : ?

- Ans ☒ 1. QOMP  
☒ 2. ROLQ  
☒ 3. QOLR  
☒ 4. QOLP

Question ID : 26433076459

Option 1 ID : 264330299901

Option 2 ID : 264330299902

Option 3 ID : 264330299903

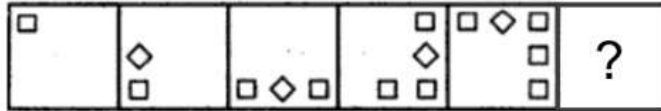
Option 4 ID : 264330299900

Status : Answered

Chosen Option : 4



**Q.18** Select the figure from among the given options that can replace the question mark (?) in the following series.



Ans

☒ 1.



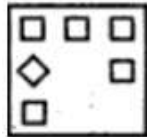
☒ 2.



☒ 3.



☒ 4.



Question ID : 26433080524

Option 1 ID : 264330316029

Option 2 ID : 264330316032

Option 3 ID : 264330316030

Option 4 ID : 264330316031

Status : Answered

Chosen Option : 4

**Q.19** Seven children - T, U, V, W, X, Y and Z - are sitting in a straight row, facing north. U sits second to left of Z. Y sits third to the left of T. Only one child sits to the right of X. Only two children sit to the left of W. Who among the following children sits at the extreme left end of the row?

Ans ☒ 1. Y

☒ 2. V

☒ 3. T

☒ 4. U

Question ID : 26433087019

Option 1 ID : 264330341719

Option 2 ID : 264330341718

Option 3 ID : 264330341720

Option 4 ID : 264330341717

Status : Answered

Chosen Option : 1

**Q.20** Read the given statements and conclusions carefully. Assuming that the information given in the statements is true, even if it appears to be at variance with commonly known facts, decide which of the given conclusions logically follow(s) from the statements.

Statements:

All mangoes are grapes.

All grapes are guavas.

Conclusions:

I. Some guavas are mangoes.

II. All mangoes are guavas.

Ans ☒ 1. Both conclusions I and II follow

☐ 2. Only conclusion I follows

☐ 3. Neither conclusion I nor II follows

☐ 4. Only conclusion II follows

Question ID : 26433069511

Option 1 ID : 264330272558

Option 2 ID : 264330272556

Option 3 ID : 264330272559

Option 4 ID : 264330272557

Status : Answered

Chosen Option : 1

**Q.21** Select the correct combination of mathematical signs to sequentially replace the \* signs and to balance the given equation.

$17 * 17 * 50 * 28 * 7 * 243$

Ans ☒ 1.  $\times, -, +, +, =$

☐ 2.  $-, +, \times, +, =$

☐ 3.  $+, +, -, \times, =$

☐ 4.  $\times, +, -, \div, =$

Question ID : 26433076553

Option 1 ID : 264330300279

Option 2 ID : 264330300277

Option 3 ID : 264330300278

Option 4 ID : 264330300276

Status : Answered

Chosen Option : 1

**Q.22** Select the option that is related to the third term in the same way as the second term is related to the first term and the sixth term is related to the fifth term.

$24 : 566 :: 12 : ? :: 8 : 54$

Ans ☐ 1. 124

☐ 2. 154

☒ 3. 134

☐ 4. 120

Question ID : 264330101054

Option 1 ID : 264330396763

Option 2 ID : 264330396761


Option 3 ID : 264330396762

Option 4 ID : 264330396764

Status : Answered

Chosen Option : 3

Q.23 Select the figure that will come next in the following figure series.



Ans

- ✓ 1.
- ✗ 2.
- ✗ 3.
- ✗ 4.

Question ID : 264330129649

Option 1 ID : 264330507965

Option 2 ID : 264330507964

Option 3 ID : 264330507962

Option 4 ID : 264330507963

Status : Answered

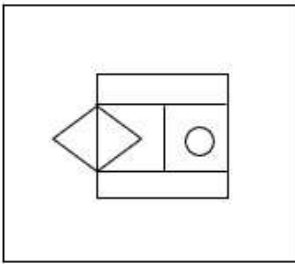
Chosen Option : 1

**Q.24** Select the option figure in which the given figure is embedded. (Rotation is not allowed)

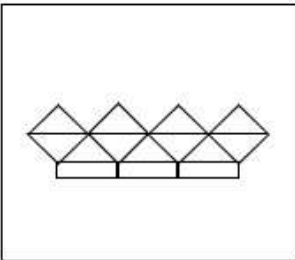


**Ans**

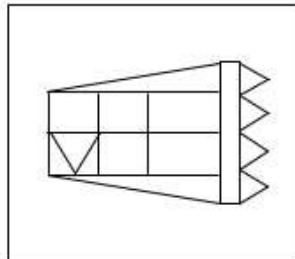
✗ 1.



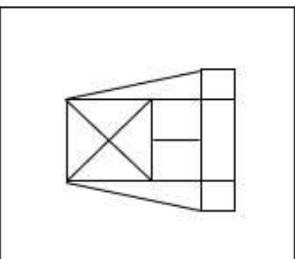
✗ 2.



✓ 3.



✗ 4.



Question ID : 264330101316

Option 1 ID : 264330397811

Option 2 ID : 264330397812

Option 3 ID : 264330397810

Option 4 ID : 264330397809

Status : Answered

Chosen Option : 3

Q.25 In a certain code language, 'TIDE' is written as 'EDJS' and 'MARS' is written as 'BLSR'.  
How will 'HOPE' be written in that language?

- Ans ☒ 1. FGPO  
☐ 2. EPFG  
☐ 3. FIQP  
☐ 4. PEHO

Question ID : 26433087178  
Option 1 ID : 264330342351  
Option 2 ID : 264330342350  
Option 3 ID : 264330342352  
Option 4 ID : 264330342349  
Status : Answered  
Chosen Option : 2

Section : Numerical Ability

Q.1 An almirah is sold at ₹6,500 after allowing a discount of 20%. Find its marked price (in ₹).

- Ans ☐ 1. 8,000  
☐ 2. 8,235  
☐ 3. 7,546  
☒ 4. 8,125

Question ID : 264330126575  
Option 1 ID : 264330495974  
Option 2 ID : 264330495972  
Option 3 ID : 264330495973  
Option 4 ID : 264330495975  
Status : Answered  
Chosen Option : 4

Q.2 ₹50,000 पर 8% प्रति वर्ष की दर से चक्रवृद्धि ब्याज ₹8,320 है। अवधि ज्ञात कीजिए।

- Ans ☐ 1. 5 वर्ष  
☐ 2. 3 वर्ष  
☐ 3. 4 वर्ष  
☒ 4. 2 वर्ष

Question ID : 264330106006  
Option 1 ID : 264330416328  
Option 2 ID : 264330416326  
Option 3 ID : 264330416327  
Option 4 ID : 264330416325  
Status : Answered  
Chosen Option : 4

Q.3 दो उम्मीदवारों के बीच हुए एक चुनाव में, 10% मतदाताओं ने मतदान में भाग नहीं लिया, 20% मतों को अवैध घोषित कर दिया गया और विजेता को कुल वैध मतों के 70% मत प्राप्त हुए तथा उसने 6480 मतों से जीत दर्ज की। मतदान सूची में मतों की कुल संख्या ज्ञात कीजिए।

- Ans
- ☐ 1. 28,400
  - ☐ 2. 26,700
  - ☒ 3. 22,500
  - ☐ 4. 25,600

Question ID : 264330129401  
Option 1 ID : 264330506970  
Option 2 ID : 264330506973  
Option 3 ID : 264330506972  
Option 4 ID : 264330506971  
Status : Answered  
Chosen Option : 3

Q.4 एक वस्तु को एक निश्चित कीमत पर बेचने पर एक महिला को 20% का लाभ होता है। यदि वह इसे दोगुनी कीमत पर बेचती है, तो अर्जित लाभ की गणना करें।

- Ans
- ☐ 1. 110%
  - ☐ 2. 120%
  - ☐ 3. 130%
  - ☒ 4. 140%

Question ID : 264330104499  
Option 1 ID : 264330410298  
Option 2 ID : 264330410297  
Option 3 ID : 264330410300  
Option 4 ID : 264330410299  
Status : Answered  
Chosen Option : 4

Q.5 ₹7,500 की धनराशि के लिए, ब्याज दर 7.5% वार्षिक साधारण ब्याज है। 4 वर्ष 9 महीने में अर्जित ब्याज ज्ञात कीजिए।

- Ans
- ☐ 1. ₹2,761.875
  - ☒ 2. ₹2,671.875
  - ☐ 3. ₹2,617.875
  - ☐ 4. ₹2,871

Question ID : 264330122076  
Option 1 ID : 264330478439  
Option 2 ID : 264330478442  
Option 3 ID : 264330478441  
Option 4 ID : 264330478440  
Status : Answered  
Chosen Option : 2

Q.6 200 पुरुषों के पास 30 दिनों का खाद्य पदार्थ है। यदि इनमें से 50 पुरुष चले जाते हैं, तो शेष पुरुषों के लिए वही खाद्य पदार्थ कितने दिनों तक चलेगा?

- Ans
- ☐ 1. 28 दिन
  - ☒ 2. 40 दिन
  - ☐ 3. 24 दिन
  - ☐ 4. 32 दिन

Question ID : 264330182572  
Option 1 ID : 264330716080  
Option 2 ID : 264330716082  
Option 3 ID : 264330716079  
Option 4 ID : 264330716081  
Status : Answered  
Chosen Option : 2

Q.7 लुकास की मासिक आय ₹42,500 है। यदि उसकी आय में 18% की वृद्धि होती है, तो उसकी नई मासिक आय (₹ में) ज्ञात कीजिए।

- Ans
- ☒ 1. 50,150
  - ☐ 2. 47,500
  - ☐ 3. 48,120
  - ☐ 4. 43,000

Question ID : 264330102323  
Option 1 ID : 264330401758  
Option 2 ID : 264330401760  
Option 3 ID : 264330401757  
Option 4 ID : 264330401759  
Status : Answered  
Chosen Option : 1

Q.8 एक आदमी अपनी यात्रा 6 घंटे में पूरी करता है। वह आधी दूरी 30 Km/h की चाल से और शेष 50 Km/h की चाल से तय करता है। यात्रा की लंबाई (Km में) कितनी है?

- Ans
- ☐ 1. 125
  - ☒ 2. 225
  - ☐ 3. 252
  - ☐ 4. 112.5

Question ID : 264330183833  
Option 1 ID : 264330721008  
Option 2 ID : 264330721009  
Option 3 ID : 264330721010  
Option 4 ID : 264330721011  
Status : Answered  
Chosen Option : 2

Q.9 यदि एक गोले का आयतन और पृष्ठीय क्षेत्रफल संख्यात्मकतः समान है, तो इसकी त्रिज्या ज्ञात करें।

- Ans ☒ 1. 4 इकाई  
☒ 2. 2 इकाई  
☒ 3. 3 इकाई  
☒ 4. 1 इकाई

Question ID : 264330119364

Option 1 ID : 264330467746

Option 2 ID : 264330467744

Option 3 ID : 264330467745

Option 4 ID : 264330467743

Status : Answered

Chosen Option : 3

Q.10 यदि 5 cm त्रिज्या वाले एक बड़े ठोस गोले से 125 समान छोटे ठोस गोले बनाए जाते हैं, तो प्रत्येक छोटे गोले का पृष्ठीय क्षेत्रफल ( $\text{cm}^2$  में) क्या है?

- Ans ☒ 1.  $8\pi$   
☒ 2.  $25\pi$   
☒ 3.  $4\pi$   
☒ 4.  $12\pi$

Question ID : 264330112431

Option 1 ID : 264330441810

Option 2 ID : 264330441812

Option 3 ID : 264330441809

Option 4 ID : 264330441811

Status : Answered

Chosen Option : 3

Q.11 एक स्कूल में लड़कों की संख्या का लड़कियों की संख्या से अनुपात 7 : 9 है। यदि स्कूल में 1183 लड़के हैं, तो उस स्कूल में लड़कों और लड़कियों की कुल संख्या कितनी है?

- Ans ☒ 1. 2736  
☒ 2. 2688  
☒ 3. 2720  
☒ 4. 2704

Question ID : 264330131165

Option 1 ID : 264330513774

Option 2 ID : 264330513772

Option 3 ID : 264330513773

Option 4 ID : 264330513771

Status : Answered

Chosen Option : 4



Q.12

If  $\frac{52416}{168} = 312$ , then the value of  $\frac{52.416}{0.0168}$  is:

- Ans
- ☐ 1. 312
  - ☐ 2. 3.12
  - ☒ 3. 3120
  - ☐ 4. 31.2

Question ID : 264330111439

Option 1 ID : 264330437843

Option 2 ID : 264330437842

Option 3 ID : 264330437844

Option 4 ID : 264330437841

Status : Answered

Chosen Option : 3

Q.13

$2.5 \times (4 - (2^4 - 3^3) \div (\frac{11}{4})) \div 8 \times (\frac{4}{3})$  का सरलीकृत मान \_\_\_\_\_ है।

- Ans
- ☐ 1.  $-\frac{2}{3}$
  - ☒ 2.  $\frac{10}{3}$
  - ☐ 3.  $\frac{4}{3}$
  - ☐ 4.  $\frac{8}{3}$

Question ID : 264330112060

Option 1 ID : 264330440327

Option 2 ID : 264330440325

Option 3 ID : 264330440328

Option 4 ID : 264330440326

Status : Answered

Chosen Option : 2

Q.14 Find the average of all the even numbers from 22 to 30 (inclusive both).

- Ans
- ☐ 1. 25.0
  - ☐ 2. 24.5
  - ☐ 3. 25.5
  - ☒ 4. 26.0

Question ID : 264330131440

Option 1 ID : 264330514864

Option 2 ID : 264330514863

Option 3 ID : 264330514865

Option 4 ID : 264330514866

Status : Answered

Chosen Option : 4

Q.15 If  $\frac{b}{a} = 0.75$ , then  $\frac{2a-b}{2a+b} + \frac{8}{9}$  is equal to:

Ans

- ☐ 1.  $\frac{13}{9}$
- ☒ 2.  $\frac{133}{99}$
- ☐ 3.  $\frac{17}{99}$
- ☐ 4.  $\frac{19}{111}$

Question ID : 264330104340

Option 1 ID : 264330409661

Option 2 ID : 264330409663

Option 3 ID : 264330409662

Option 4 ID : 264330409664

Status : Answered

Chosen Option : 2

Section : Computer Proficiency

Q.1 एमएस-वर्ड 365 (MS-Word 365) में चयनित टेक्स्ट को कट करने के लिए निम्नलिखित में से किस कीबोर्ड शॉर्टकट कुंजी (key) का उपयोग किया जाता है?

Ans

- ☐ 1. Ctrl + v
- ☐ 2. Ctrl + c
- ☐ 3. Ctrl + p
- ☒ 4. Ctrl + x

Question ID : 264330178289

Option 1 ID : 264330699212

Option 2 ID : 264330699211

Option 3 ID : 264330699214

Option 4 ID : 264330699213

Status : Answered

Chosen Option : 2

Q.2 एमएस एक्सेल 365 (MS Excel 365) में, निम्नलिखित में से कौन-सा विकल्प एमएस एक्सेल (MS Excel) में सेल A1 को निर्दिष्ट करने वाले एब्सोल्यूट रेफरेंस का एक उदाहरण है?

Ans

- ☐ 1. @A1
- ☒ 2. \$A\$1
- ☐ 3. 1A
- ☐ 4. A1

Question ID : 264330180398

Option 1 ID : 264330707562

Option 2 ID : 264330707561

Option 3 ID : 264330707560

Option 4 ID : 264330707559

Status : Answered

Chosen Option : 2

Q.3 जब हम जीमेल में ईमेल लिखना चाहते हैं, तो निम्नलिखित में से किस विंडो का उपयोग किया जाता है?

Ans ☒ 1. कंपोज (Compose)

☐ 2. सेंड (Send)

☐ 3. ड्राफ्ट (Draft)

☐ 4. स्पेम (Spam)

Question ID : 264330178239

Option 1 ID : 264330699012

Option 2 ID : 264330699014

Option 3 ID : 264330699011

Option 4 ID : 264330699013

Status : Answered

Chosen Option : 1

Q.4 जब एमएस वर्ड 365 (MS Word 365) में कोई नया ब्लैक डॉक्यूमेंट बनाया जाता है तो निम्नलिखित में से कौन-सा डिफॉल्ट फॉन्ट होता है?

Ans ☐ 1. कैम्ब्रिया (Cambria)

☐ 2. एरियल (Arial)

☐ 3. टाइम्स न्यू रोमन (Times New Roman)

☒ 4. कैलीबरी (Calibri)

Question ID : 264330176725

Option 1 ID : 264330693118

Option 2 ID : 264330693117

Option 3 ID : 264330693116

Option 4 ID : 264330693115

Status : Answered

Chosen Option : 4

Q.5 एमएस वर्ड 365 (MS Word 365) में, निम्नलिखित में से क्या 'जस्टिफाई टेक्स्ट' के उपयोग का वर्णन करता है?

Ans ☐ 1. दाएं मार्जिन पर समान रूप से अलाइन करना

☒ 2. बाएं और दाएं मार्जिन पर समान रूप से अलाइन करना

☐ 3. टेक्स्ट को सेंटर में करना

☐ 4. बाएं मार्जिन पर समान रूप से अलाइन करना

Question ID : 264330176720

Option 1 ID : 264330693098

Option 2 ID : 264330693096

Option 3 ID : 264330693095




Option 4 ID : 264330693097

Status : Answered

Chosen Option : 3

Q.6 एमएस एक्सेल 365 (MS Excel 365) में, कौन-सा माइक्रोसॉफ्ट एक्सेल व्यू आपको प्रिंट करने से पहले यह देखने देता है कि प्रिंट की गई वर्कशीट वास्तव में कैसी दिखेगी?

Ans  1. प्रिंट प्रिव्यू (Print Preview)

-  2. नॉर्मल व्यू (Normal view)
-  3. पेज लेआउट व्यू (Page Layout view)
-  4. फुल स्क्रीन व्यू (Full Screen view)

Question ID : 264330180683

Option 1 ID : 264330708701

Option 2 ID : 264330708700

Option 3 ID : 264330708699




Option 4 ID : 264330708702

Status : Answered

Chosen Option : 1

Q.7 यूनिफॉर्म रिसोर्स लोकेटर (URL) क्या निर्दिष्ट करता है?

Ans  1. प्रत्येक वेब रिसोर्स को असाइन किया गया यूनिक एड्रेस

-  2. एचटीएमएल (HTML)
-  3. आईएसपी (ISP)
-  4. इंटरनेट प्रोटोकॉल

Question ID : 264330182104

Option 1 ID : 264330714256

Option 2 ID : 264330714258

Option 3 ID : 264330714257




Option 4 ID : 264330714255

Status : Answered

Chosen Option : 1

Q.8 एमएस वर्ड 365 (MS Word 365) में निम्नलिखित में से कौन-सा विकल्प आपको यह चुनने की सुविधा देता है कि पेस्ट किए गए टेक्स्ट की फॉर्मेटिंग को बनाए रखना है या हटा देना है?

Ans  1. पेस्ट स्पेशल (Paste Special)

-  2. फॉन्ट सिलेक्शन (Font Selection)
-  3. कट एंड पेस्ट (Cut and Paste)
-  4. फॉर्मेट पेंटर (Format Painter)

Question ID : 264330180857

Option 1 ID : 264330709391

Option 2 ID : 264330709394

Option 3 ID : 264330709393

Option 4 ID : 264330709392

Status : Answered

Chosen Option : 4

Q.9 एमएस वर्ड 365 (MS Word 365) में निम्नलिखित में से किस क्रिया से आप चयनित टेक्स्ट को डुप्लिकेट करके, उसकी एक प्रति क्लिपबोर्ड पर रख सकते हैं?

- Ans ☒ 1. कॉपी
- ☒ 2. कट
- ☒ 3. पेस्ट
- ☒ 4. सेलेक्ट ऑल

Question ID : 264330173356

Option 1 ID : 264330679904

Option 2 ID : 264330679903

Option 3 ID : 264330679905

Option 4 ID : 264330679906

Status : Answered

Chosen Option : 1

Q.10 एमएस एक्सेल 365 (MS Excel 365) में, निम्नलिखित में से कौन-सा विकल्प एमएस-एक्सेल (MS-Excel) में मौजूदा स्प्रेडशीट को ओपन करने के लिए सही है?

- Ans ☒ 1. फाइल (File) टैब पर क्लिक करें << ओपन (Open) पर क्लिक करें
- ☒ 2. होम (Home) टैब पर क्लिक करें << न्यू (New) पर क्लिक करें
- ☒ 3. होम (Home) टैब पर क्लिक करें << ओपन (Open) पर क्लिक करें
- ☒ 4. फाइल (File) टैब पर क्लिक करें << न्यू (New) पर क्लिक करें

Question ID : 264330176681

Option 1 ID : 264330692940

Option 2 ID : 264330692941

Option 3 ID : 264330692942

Option 4 ID : 264330692939

Status : Answered

Chosen Option : 1