

## Constable Executive Male and Female in Delhi Police Examination 2023

Roll Number	
Candidate Name	
Venue Name	Swami Vivekanand Subharti University
Exam Date	28/11/2023
Exam Time	12:00 PM - 1:30 PM
Subject	Constable Executive Male and Female in Delhi Police Examination 2023

### Section : General Knowledge

Q.1 निम्नलिखित में से कौन-सा, केंद्रीय बैंक (Central Bank) का कार्य नहीं है?

- Ans
- ☒ 1. सरकार के लिए वित्तीय सेवाएँ
  - ☒ 2. जनता के लिए बैंकिंग सुविधाएँ
  - ☒ 3. सरकार को ऋण देना
  - ☒ 4. वाणिज्यिक बैंकों को ऋण देना

Question ID : 264330117792

Option 1 ID : 264330462985

Option 2 ID : 264330462984

Option 3 ID : 264330462986

Option 4 ID : 264330462983

Status : Answered

Chosen Option : 2

Q.2 उद्गारीकरण का अर्थ क्या है?

- Ans
- ☒ 1. निजी क्षेत्र पर सरकार के नियंत्रण में कमी
  - ☒ 2. सभी क्षेत्रों में बाजार की शक्तियों को बिना किसी नियंत्रण के मुक्त-हस्त देना
  - ☒ 3. आयात और निर्यात पर प्रतिबंधों में बढ़ोत्तरी
  - ☒ 4. निजी क्षेत्र पर सरकार के नियंत्रण में बढ़ोत्तरी

Question ID : 264330109131

Option 1 ID : 264330428801

Option 2 ID : 264330428803

Option 3 ID : 264330428804

Option 4 ID : 264330428802

Status : Answered

Chosen Option : 1

Q.3 उस्ताद बड़े गुलाम अली खान निम्नलिखित में से किस घराने से संबंधित हैं?

- Ans
- ☒ 1. किराना घराना
  - ☒ 2. बनारस घराना
  - ☒ 3. पटियाला घराना
  - ☒ 4. आगरा घराना

Question ID : 264330116417

Option 1 ID : 264330457756

Option 2 ID : 264330457755

Option 3 ID : 264330457753

Option 4 ID : 264330457754

Status : Not Answered

Chosen Option : --

Q.4 'माई डेटलेस डायरी' निम्नलिखित लेखकों में से किसके द्वारा लिखा गया उपन्यास है?

Ans ☒ 1. आर के नारायण

☒ 2. रस्किन बांड

☒ 3. चेतन भगत

☒ 4. रोबिन सिंह

Question ID : 264330112865

Option 1 ID : 264330443547

Option 2 ID : 264330443545

Option 3 ID : 264330443548

Option 4 ID : 264330443546

Status : Not Answered

Chosen Option : --

Q.5 वस्तु एवं सेवा कर परिषद का सचिवालय कहाँ स्थित है?

Ans ☒ 1. चंडीगढ़

☒ 2. मुंबई

☒ 3. नई दिल्ली

☒ 4. कोलकाता

Question ID : 264330173511

Option 1 ID : 264330680523

Option 2 ID : 264330680525

Option 3 ID : 264330680524

Option 4 ID : 264330680526

Status : Answered

Chosen Option : 3

Q.6 निम्नलिखित में से कौन सा देश दक्षिण एशिया का दूसरा सबसे अधिक जनसंख्या वाला देश है?

Ans ☒ 1. अफगानिस्तान

☒ 2. पाकिस्तान

☒ 3. बांग्लादेश

☒ 4. नेपाल

Question ID : 264330183026

Option 1 ID : 264330717837

Option 2 ID : 264330717836

Option 3 ID : 264330717838

Option 4 ID : 264330717839

Status : Answered

Chosen Option : 1

Q.7 काठियावाड़ प्रायद्वीप भारत के किस राज्य का हिस्सा है?

Ans ☒ 1. गुजरात

☒ 2. तमिलनाडु

☒ 3. आंध्र प्रदेश

☒ 4. पश्चिम बंगाल

Question ID : 264330181257

Option 1 ID : 264330710951

Option 2 ID : 264330710952

Option 3 ID : 264330710954

Option 4 ID : 264330710953

Status : Answered

Chosen Option : 1

Q.8 1927 में पशु पारिस्थितिकी के बारे में विचार किसने दिया था?

- Ans ☒ 1. रेचल कार्सन (Rachel Carson)  
☒ 2. चार्ल्स एल्टन (Charles Elton)  
☒ 3. एल्डो लियोपोल्ड (Aldo Leopold)  
☒ 4. आर्थर जॉर्ज टॉसले (Arthur George Tansley)

Question ID : 264330130997

Option 1 ID : 264330513100

Option 2 ID : 264330513099

Option 3 ID : 264330513101

Option 4 ID : 264330513102

Status : Not Answered

Chosen Option : --

Q.9 बैशाख निम्नलिखित में से किस राज्य में मनाया जाता है?

- Ans ☒ 1. पंजाब  
☒ 2. बिहार  
☒ 3. गोवा  
☒ 4. असम

Question ID : 264330118632

Option 1 ID : 264330465782

Option 2 ID : 264330465781

Option 3 ID : 264330465779

Option 4 ID : 264330465780

Status : Answered

Chosen Option : 4

Q.10 निम्नलिखित में से कौन सा/सी नर्तक/नृत्यांगना निम्नलिखित दो नृत्यों - भरतनाट्यम और ओडिसी से संबंधित है?

- Ans ☒ 1. पद्मा सुब्रह्मण्यम  
☒ 2. गुरु बिपिन सिंह  
☒ 3. शोवना नारायण  
☒ 4. सोनल मानसिंह

Question ID : 264330109301

Option 1 ID : 264330429482

Option 2 ID : 264330429481

Option 3 ID : 264330429484

Option 4 ID : 264330429483

Status : Not Answered

Chosen Option : --

Q.11 नेत्र लेंस किसी बिंब का रेटिना पर किस प्रकार का प्रतिबिंब बनाता है?

- Ans ☒ 1. कोई प्रतिबिंब नहीं  
☒ 2. वास्तविक और अपारदर्शी प्रतिबिंब  
☒ 3. उल्टा वास्तविक प्रतिबिंब  
☒ 4. उल्टा आभासी प्रतिबिंब

Question ID : 264330135588

Option 1 ID : 264330531253

Option 2 ID : 264330531254

Option 3 ID : 264330531251

Option 4 ID : 264330531252

Status : Answered

Chosen Option : 3

Q.12 निम्नलिखित में से किस स्थान पर कोई स्कूल शिक्षिका अपने विद्यार्थियों को होशंग शाह का मकबरा, हिंडोला महल, चंपा बावली और जहाज महल देखने के लिए भ्रमण पर ले जाएगी?

- Ans ☒ 1. वाराणसी, उत्तर प्रदेश  
☒ 2. रतलाम, मध्य प्रदेश  
☒ 3. आगरा, उत्तर प्रदेश  
☒ 4. मांडू, मध्य प्रदेश

Question ID : 264330141819

Option 1 ID : 264330555595

Option 2 ID : 264330555598

Option 3 ID : 264330555597

Option 4 ID : 264330555596

Status : Answered

Chosen Option : 4

Q.13 भारत के संविधान के किस अनुच्छेद में उल्लेख किया गया है कि "भारत के प्रत्येक नागरिक का यह कर्तव्य होगा कि वह भारत के सभी लोगों में समरसता और समान भ्रातृत्व की भावना का निर्माण करे जो धर्म, भाषा और प्रदेश या वर्ग पर आधारित सभी भेदभाव से परे हो, ऐसी प्रथाओं का त्याग करे जो स्त्रियों के सम्मान के विरुद्ध है"?

- Ans ☒ 1. 51A (a)  
☒ 2. 51A (k)  
☒ 3. 51A (e)  
☒ 4. 51A (d)

Question ID : 264330133057

Option 1 ID : 264330521280

Option 2 ID : 264330521282

Option 3 ID : 264330521279

Option 4 ID : 264330521281

Status : Answered

Chosen Option : 3

Q.14 विश्व विख्यात नृत्यांगना गुलाबो निम्नलिखित में से किस नृत्य शैली के लिए सबसे अधिक प्रसिद्ध हैं?

- Ans ☒ 1. घूमर  
☒ 2. पांडवानी  
☒ 3. पंथी  
☒ 4. कालबेलिया

Question ID : 264330110439

Option 1 ID : 264330434036

Option 2 ID : 264330434033

Option 3 ID : 264330434034

Option 4 ID : 264330434035

Status : Answered

Chosen Option : 1

Q.15 निम्नलिखित में से कौन-सा भारत का सबसे पुराना परमाणु ऊर्जा संयंत्र है?

- Ans
- ☒ 1. काकरापार
  - ☒ 2. नरोरा
  - ☒ 3. कैगा
  - ☒ 4. तारापुर

Question ID : 264330181282

Option 1 ID : 264330711053

Option 2 ID : 264330711052

Option 3 ID : 264330711054

Option 4 ID : 264330711051

Status : Answered

Chosen Option : 1

Q.16 वाणिज्य एवं उद्योग मंत्रालय 2022 के अनुसार, अंगूर का सबसे बड़ा उत्पादक राज्य कौन-सा है?

- Ans
- ☒ 1. आंध्र प्रदेश
  - ☒ 2. अरुणाचल प्रदेश
  - ☒ 3. महाराष्ट्र
  - ☒ 4. पश्चिम बंगाल

Question ID : 264330173601

Option 1 ID : 264330680886

Option 2 ID : 264330680885

Option 3 ID : 264330680884

Option 4 ID : 264330680883

Status : Not Answered

Chosen Option : --

Q.17 'सोलर चरखा मिशन' योजना भारत सरकार के \_\_\_\_\_ द्वारा वर्ष 2018 में शुरू की गई थी।

- Ans
- ☒ 1. ग्रामीण विकास मंत्रालय
  - ☒ 2. वाणिज्य और उद्योग मंत्रालय
  - ☒ 3. सूक्ष्म, लघु और मध्यम उद्यम मंत्रालय
  - ☒ 4. कौशल विकास और उद्यमिता मंत्रालय

Question ID : 264330120344

Option 1 ID : 264330471627

Option 2 ID : 264330471628

Option 3 ID : 264330471630

Option 4 ID : 264330471629

Status : Answered

Chosen Option : 4

Q.18 निम्नलिखित में से कौन-सा सबसे बड़ा, द्वि-झिल्ली-बद्ध अंगक है, जिसमें कोशिका की सभी आनुवंशिक जानकारी होती है?

- Ans
- ☒ 1. लाइसोसोम
  - ☒ 2. राइबोसोम
  - ☒ 3. नाभिक
  - ☒ 4. पेरोक्सीसोम

Question ID : 264330111889

Option 1 ID : 264330439643

Option 2 ID : 264330439641

Option 3 ID : 264330439642

Option 4 ID : 264330439644

Status : Not Answered

Chosen Option : --

Q.19 समुद्रगुप्त के कुछ गुणों को सिक्कों पर दिखाया गया है, जैसे कि एक सिक्के पर उसे \_\_\_\_\_ बजाते हुए दिखाया गया है।

- Ans
- ☒ 1. बाँसुरी
  - ☒ 2. तबला
  - ☒ 3. वीणा
  - ☒ 4. सारंगी

Question ID : 264330119756  
Option 1 ID : 264330469300  
Option 2 ID : 264330469299  
Option 3 ID : 264330469301  
Option 4 ID : 264330469302  
Status : Answered  
Chosen Option : 3

Q.20 पुणे में लड़कियों के लिए देश के पहले स्कूल की पहली प्रधानाध्यापिका कौन थीं?

- Ans
- ☒ 1. सावित्री बाई फुले
  - ☒ 2. पंडिता रमाबाई
  - ☒ 3. विजया लक्ष्मी पंडित
  - ☒ 4. एनी बेसेंट

Question ID : 264330119013  
Option 1 ID : 264330466709  
Option 2 ID : 264330466707  
Option 3 ID : 264330466708  
Option 4 ID : 264330466710  
Status : Answered  
Chosen Option : 2

Q.21 निम्नलिखित में से कौन पद्म विभूषण से सम्मानित और लखनऊ के कालका-बिंदादीन घराने के मशाल वाहक हैं?

- Ans
- ☒ 1. पंडित गोपी कृष्ण
  - ☒ 2. पंडित लच्छू महाराज
  - ☒ 3. पंडित शंभू महाराज
  - ☒ 4. पंडित बिरजू महाराज

Question ID : 264330111795  
Option 1 ID : 264330439266  
Option 2 ID : 264330439265  
Option 3 ID : 264330439267  
Option 4 ID : 264330439268  
Status : Not Answered  
Chosen Option : --

Q.22 भारतीय संविधान के अनुच्छेद 350-B के अनुसार, भाषाई अल्पसंख्यकों के लिए विशेष अधिकारी की नियुक्ति कौन करता है?

- Ans
- ☒ 1. भारत के मुख्य न्यायाधीश
  - ☒ 2. राज्यपाल
  - ☒ 3. प्रधान मंत्री
  - ☒ 4. राष्ट्रपति

Question ID : 264330110593  
Option 1 ID : 264330434651  
Option 2 ID : 264330434652  
Option 3 ID : 264330434649  
Option 4 ID : 264330434650  
Status : Answered  
Chosen Option : 4

Q.23 भारतीय संविधान के किस भाग में मौलिक कर्तव्यों का उल्लेख किया गया है?

- Ans
- ☒ 1. भाग II-A
  - ☒ 2. भाग IV-A
  - ☒ 3. भाग III-A
  - ☒ 4. भाग III-B

Question ID : 264330120505  
Option 1 ID : 264330472271  
Option 2 ID : 264330472273  
Option 3 ID : 264330472274  
Option 4 ID : 264330472272  
Status : Answered  
Chosen Option : 2

Q.24 निम्नलिखित में से किस संवैधानिक संशोधन अधिनियम ने भारत में केंद्र शासित प्रदेशों का निर्माण किया है?

- Ans
- ☒ 1. सातवाँ
  - ☒ 2. चौथा
  - ☒ 3. छठा
  - ☒ 4. पाँचवाँ

Question ID : 264330120190  
Option 1 ID : 264330471018  
Option 2 ID : 264330471015  
Option 3 ID : 264330471017  
Option 4 ID : 264330471016  
Status : Answered  
Chosen Option : 1

Q.25 निम्नलिखित में से किस भौतिक विज्ञानी ने आत्मकथा 'ऑटोबायोग्राफिकल नोट्स' (Autobiographical Notes) लिखी है?

- Ans
- ☒ 1. आइज़ैक न्यूटन (Isaac Newton)
  - ☒ 2. जेम्स मैक्सवेल (James Maxwell)
  - ☒ 3. माइकल फैराडे (Michael Faraday)
  - ☒ 4. अल्बर्ट आइंस्टीन (Albert Einstein)

Question ID : 26433086905  
Option 1 ID : 264330341262  
Option 2 ID : 264330341263  
Option 3 ID : 264330341264  
Option 4 ID : 264330341261  
Status : Not Answered  
Chosen Option : --

Q.26 किस संधि के परिणामस्वरूप रणजीत सिंह और ईस्ट इंडिया कंपनी के बीच क्षेत्रों का सीमांकन हुआ?

- Ans
- ☒ 1. भैरोवाल
  - ☒ 2. अमृतसर
  - ☒ 3. लाहौर
  - ☒ 4. सूरत

Question ID : 264330120295  
Option 1 ID : 264330471432  
Option 2 ID : 264330471434  
Option 3 ID : 264330471433  
Option 4 ID : 264330471431  
Status : Not Answered  
Chosen Option : --

Q.27 विजयनगर की लोकप्रिय परंपराओं में, दक्कन के सुल्तानों को \_\_\_\_\_ कहा जाता है।

- Ans
- ☒ 1. नरपति
  - ☒ 2. शेरपति
  - ☒ 3. गजपति
  - ☒ 4. अश्वपति

Question ID : 264330119485  
Option 1 ID : 264330468224  
Option 2 ID : 264330468226  
Option 3 ID : 264330468225  
Option 4 ID : 264330468223  
Status : Answered  
Chosen Option : 1

Q.28 निम्नलिखित में से कौन-सा महल कर्नाटक के मैसूर में स्थित है?

- Ans
- ☒ 1. अंबा विलास महल
  - ☒ 2. कौडियार महल
  - ☒ 3. उज्जयंत महल
  - ☒ 4. कंगला महल

Question ID : 264330141820  
Option 1 ID : 264330555599  
Option 2 ID : 264330555602  
Option 3 ID : 264330555600  
Option 4 ID : 264330555601  
Status : Not Answered  
Chosen Option : --



Q.29 1990 में भी देश की जनसंख्या का कितना भाग कृषि में कार्यरत रहा?

Ans ☒ 1. 65%

☐ 2. 35%

☐ 3. 50%

☐ 4. 90%

Question ID : 264330117756

Option 1 ID : 264330462842

Option 2 ID : 264330462839

Option 3 ID : 264330462841

Option 4 ID : 264330462840

Status : Answered

Chosen Option : 1

Q.30 निम्नलिखित में से किस समिति ने पाया कि "मौलिक कर्तव्यों में जो कुछ निहित है वह अनिवार्य रूप से भारतीय जीवन शैली के अभिन्न कार्यों का एक संहिताकरण है"?

Ans ☐ 1. संथानम समिति

☐ 2. मोइली समिति

☒ 3. वर्मा समिति

☐ 4. रंगराजन समिति

Question ID : 264330133050

Option 1 ID : 264330521251

Option 2 ID : 264330521253

Option 3 ID : 264330521252

Option 4 ID : 264330521254

Status : Answered

Chosen Option : 1

Q.31 डूरंड कप का पहला संस्करण भारत में किस वर्ष खेला गया था?

Ans ☒ 1. 1888 में

☐ 2. 1900 में

☐ 3. 1880 में

☐ 4. 1988 में

Question ID : 264330176081

Option 1 ID : 264330690619

Option 2 ID : 264330690621

Option 3 ID : 264330690622

Option 4 ID : 264330690620

Status : Answered

Chosen Option : 4

Q.32 नीति आयोग 2015 में अस्तित्व में आया। इसका गठन किस तिथि को हुआ था?

Ans ☐ 1. 1 मार्च

☐ 2. 15 अगस्त

☐ 3. 31 जनवरी

☒ 4. 1 जनवरी

Question ID : 264330109389

Option 1 ID : 264330429835

Option 2 ID : 264330429836

Option 3 ID : 264330429834

Option 4 ID : 264330429833

Status : Answered

Chosen Option : 4

Q.33 उस स्थान का नाम बताइए जहां ब्रिटिश सरकार के खिलाफ विद्रोह के निशान के रूप में भारत छोड़ो आंदोलन के दौरान भारतीयों द्वारा "स्वतंत्र" समानांतर सरकार की स्थापना की गई थी।

- Ans ☒ 1. कानपुर  
☒ 2. सतारा  
☒ 3. कालपी  
☒ 4. रोहतक

Question ID : 264330119491  
Option 1 ID : 264330468248  
Option 2 ID : 264330468250  
Option 3 ID : 264330468249  
Option 4 ID : 264330468247  
Status : Not Answered  
Chosen Option : --

Q.34 निम्नलिखित में से कौन सा संभाग ज्वालामुखी में शामिल है?

- Ans ☒ 1. अवसादी चट्टानें  
☒ 2. पिघली हुई चट्टानें  
☒ 3. रूपांतरित चट्टानें  
☒ 4. कठोर चट्टानें

Question ID : 264330119717  
Option 1 ID : 264330469145  
Option 2 ID : 264330469146  
Option 3 ID : 264330469143  
Option 4 ID : 264330469144  
Status : Not Answered  
Chosen Option : --

Q.35 पूँजी बाजार \_\_\_\_\_ निधियों का बाजार है।

- Ans ☒ 1. अल्पावधि  
☒ 2. दीर्घकालिक  
☒ 3. केवल मध्यावधि  
☒ 4. अल्पावधि और दीर्घकालिक दोनों

Question ID : 264330119659  
Option 1 ID : 264330468911  
Option 2 ID : 264330468913  
Option 3 ID : 264330468912  
Option 4 ID : 264330468914  
Status : Answered  
Chosen Option : 1

Q.36 निम्नलिखित में से किन वर्षों में भारत ने एशियाई खेलों की मेजबानी की थी?

- Ans ☒ 1. 1951 और 1985  
☒ 2. 1960 और 1983  
☒ 3. 1951 और 1982  
☒ 4. 1955 और 1982

Question ID : 264330118465  
Option 1 ID : 264330465263  
Option 2 ID : 264330465264  
Option 3 ID : 264330465262  
Option 4 ID : 264330465261  
Status : Answered  
Chosen Option : 1

Q.37 इंडिया स्किल्स रिपोर्ट 2022 के अनुसार, सर्वाधिक रोजगार योग्य प्रतिभा के लिए किस भारतीय राज्य को पहला स्थान मिला है?

- Ans
- ☒ 1. उत्तर प्रदेश
  - ☒ 2. केरल
  - ☒ 3. महाराष्ट्र
  - ☒ 4. गोवा

Question ID : 264330177910

Option 1 ID : 264330697727

Option 2 ID : 264330697728

Option 3 ID : 264330697729

Option 4 ID : 264330697730

Status : Not Answered

Chosen Option : --

Q.38 ग्रामीण विकास मंत्रालय ने वापस लौटे प्रवासियों और ग्रामीण आबादी को तत्काल रोजगार और आजीविका के अवसर प्रदान करने के लिए 2020 में 'गरीब कल्याण रोजगार अभियान' शुरू किया था। योजना किस राज्य से शुरू की गई थी?

- Ans
- ☒ 1. गुजरात
  - ☒ 2. बिहार
  - ☒ 3. राजस्थान
  - ☒ 4. उत्तर प्रदेश

Question ID : 264330111583

Option 1 ID : 264330438417

Option 2 ID : 264330438419

Option 3 ID : 264330438420

Option 4 ID : 264330438418

Status : Not Answered

Chosen Option : --

Q.39 निम्नलिखित में से किस क्षेत्र में जंतु कोशिकाओं के कोशिका द्रव्य में केंद्रकीय आवरण के पास बैरल के आकार के अंगकों का युग्म स्थित होता है, जो कोशिका विभाजन के दौरान गठित 'समसूत्री तर्कु' को अभिविन्यास प्रदान करता है?

- Ans
- ☒ 1. आधार काय (Basal bodies)
  - ☒ 2. कशाभ (Flagella)
  - ☒ 3. तारककाय (Centrosomes)
  - ☒ 4. तारक केंद्र (Centrioles)

Question ID : 26433064276

Option 1 ID : 264330251696

Option 2 ID : 264330251699

Option 3 ID : 264330251697

Option 4 ID : 264330251698

Status : Not Answered

Chosen Option : --

Q.40 निम्नलिखित में से कौन एक सुविख्यात पियानोवादक और शिलांग चेंबर क्वायर के संस्थापक थे?

- Ans ☒ 1. नील नोंगकिनरिह  
☐ 2. विलियम बसेआवमोइट  
☐ 3. किन्साई लिंगदोह  
☐ 4. डेमन लिंडेम

Question ID : 264330110252  
Option 1 ID : 264330433287  
Option 2 ID : 264330433285  
Option 3 ID : 264330433288  
Option 4 ID : 264330433286  
Status : Not Answered  
Chosen Option : --

Q.41 एक यूनानी मेगस्थनीज निम्नलिखित में से किस राजा के दरबार में राजदूत था?

- Ans ☐ 1. बिम्बिसार  
☐ 2. महापद्मनंद  
☒ 3. चंद्रगुप्त मौर्य  
☐ 4. अशोक

Question ID : 264330118950  
Option 1 ID : 264330466458  
Option 2 ID : 264330466457  
Option 3 ID : 264330466455  
Option 4 ID : 264330466456  
Status : Answered  
Chosen Option : 3

Q.42 अटल भूजल योजना (अटल जल) को स्थायी \_\_\_\_\_ प्रबंधन पर लक्षित किया गया है।

- Ans ☒ 1. भूजल  
☐ 2. हरित  
☐ 3. प्रदूषण  
☐ 4. अपशिष्ट

Question ID : 264330110016  
Option 1 ID : 264330432342  
Option 2 ID : 264330432344  
Option 3 ID : 264330432343  
Option 4 ID : 264330432341  
Status : Answered  
Chosen Option : 1

Q.43 त्योहार और उसके महत्त्व के गलत संयोजन का चयन कीजिए।

- Ans ☒ 1. कार्तिक पूर्णिमा - गुरु गोबिंद सिंह की जयंती का प्रतीक है  
☐ 2. करवाचौथ- विवाहित महिलाएँ सूर्योदय से चंद्रोदय तक व्रत रखती हैं  
☐ 3. ईद-मिलाद-उल-नबी - पैगंबर मुहम्मद की जयंती  
☐ 4. मकर संक्रांति - इसे उत्तरायण, लोहड़ी, पोंगल, बिहू और खिचड़ी उत्सव के रूप में भी जाना जाता है

Question ID : 264330111155  
Option 1 ID : 264330436705  
Option 2 ID : 264330436708  
Option 3 ID : 264330436707  
Option 4 ID : 264330436706  
Status : Answered  
Chosen Option : 3

Q.44 कबड्डी मैच की अवधि कितनी होती है?

- Ans ☒ 1. 30 मिनट के दो हाफ, 10 मिनट के हाफ टाइम ब्रेक के साथ  
☒ 2. 20 मिनट के दो हाफ, 5 मिनट के हाफ टाइम ब्रेक के साथ  
☒ 3. 40 मिनट के दो हाफ, 5 मिनट के हाफ टाइम ब्रेक के साथ  
☒ 4. 45 मिनट के दो हाफ, 10 मिनट के हाफ टाइम ब्रेक के साथ

Question ID : 264330113771

Option 1 ID : 264330447169

Option 2 ID : 264330447172

Option 3 ID : 264330447170

Option 4 ID : 264330447171

Status : Answered

Chosen Option : 2

Q.45 कबड्डी में 'कैट' शब्द से आप क्या समझते हैं?

- Ans ☒ 1. एक खिलाड़ी, जो कोर्ट में प्रवेश करता है  
☒ 2. एक प्रतिद्वंद्वी को एक विशेष अंक दिया जाता है  
☒ 3. 'कबड्डी' शब्द को बार-बार दोहराना  
☒ 4. एक खिलाड़ी, जिसके कोर्ट में रेड की जाती है

Question ID : 264330118476

Option 1 ID : 264330465305

Option 2 ID : 264330465308

Option 3 ID : 264330465307

Option 4 ID : 264330465306

Status : Answered

Chosen Option : 1

Q.46 देश के ऐतिहासिक स्मारकों की मरम्मत और संरक्षण के लिए एक अधिनियम पारित करने का प्रस्ताव किसने रखा था?

- Ans ☒ 1. लॉर्ड नॉर्थब्रुक (Lord Northbrook)  
☒ 2. लॉर्ड कैनिंग (Lord Canning)  
☒ 3. लॉर्ड कर्जन (Lord Curzon)  
☒ 4. लॉर्ड मेयो (Lord Mayo)

Question ID : 264330119714

Option 1 ID : 264330469134

Option 2 ID : 264330469131

Option 3 ID : 264330469133

Option 4 ID : 264330469132

Status : Answered

Chosen Option : 2

Q.47 निम्नलिखित में से कौन 1296 A.D. से 1316 A.D. तक दिल्ली सल्तनत के सुल्तान थे?

- Ans ☒ 1. अलाउद्दीन खिलजी  
☒ 2. गयासुद्दीन तुगलक  
☒ 3. गयासुद्दीन बलबन  
☒ 4. खिज़्र खान

Question ID : 264330114078

Option 1 ID : 264330448400

Option 2 ID : 264330448397

Option 3 ID : 264330448399

Option 4 ID : 264330448398

Status : Answered

Chosen Option : 2

Q.48 असम का निम्नलिखित में से कौन सा नृत्य सर्प देवी मनसा की पूजा से जुड़ा है?

- Ans ☒ 1. झूमर  
☒ 2. देवधानी  
☒ 3. भोर ताल नृत्य  
☒ 4. बागुरुम्बा

Question ID : 264330106192

Option 1 ID : 264330417069

Option 2 ID : 264330417071

Option 3 ID : 264330417072

Option 4 ID : 264330417070

Status : Answered

Chosen Option : 4

Q.49 निम्नलिखित में से कौन-सी भूकंपीय तरंगें अधिक विनाशकारी हैं?

- Ans ☒ 1. P- तरंग  
☒ 2. पृष्ठीय तरंग  
☒ 3. काय तरंग  
☒ 4. S- तरंग

Question ID : 264330134902

Option 1 ID : 264330528543

Option 2 ID : 264330528545

Option 3 ID : 264330528546

Option 4 ID : 264330528544

Status : Answered

Chosen Option : 4

Q.50 निम्नलिखित में से कौन-सा, भारतीय संविधान के अनुच्छेद 19 में शामिल नहीं है?

- Ans ☒ 1. संघों और यूनियनों का गठन करना  
☒ 2. कोई भी पेशा अपनाना या व्यवसाय करना  
☒ 3. रोजगार के संबंध में अपात्रता पर रोक लगाना  
☒ 4. भारत के किसी भी हिस्से में रहना और बसना

Question ID : 264330110579

Option 1 ID : 264330434594

Option 2 ID : 264330434596

Option 3 ID : 264330434593

Option 4 ID : 264330434595

Status : Answered

Chosen Option : 3

Section : Reasoning

Q.1 उस विकल्प का चयन करें जिसमें दी गई आकृति सन्निहित है (घुमाने की अनुमति नहीं है)।

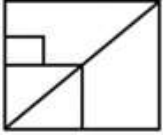


Ans

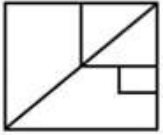
✗ 1.



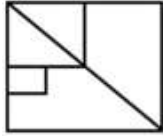
✗ 2.



✗ 3.



✓ 4.



Question ID : 264330101163

Option 1 ID : 264330397200

Option 2 ID : 264330397199

Option 3 ID : 264330397197

Option 4 ID : 264330397198

Status : Answered

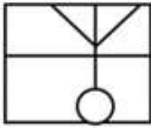
Chosen Option : 4

Q.2 उस विकल्प का चयन करें जिसमें दी गई आकृति सन्निहित है (घुमाने की अनुमति नहीं है)।

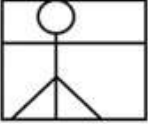


Ans

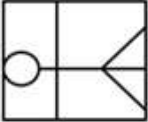
✓ 1.



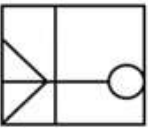
✗ 2.



✗ 3.



✗ 4.



Question ID : 264330101161

Option 1 ID : 264330397192

Option 2 ID : 264330397189

Option 3 ID : 264330397190

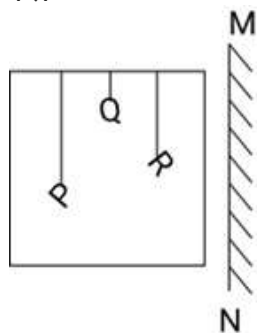
Option 4 ID : 264330397191

Status : Answered

Chosen Option : 1

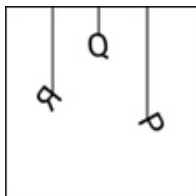


Q.3 दर्पण को नीचे चित्र के अनुसार 'MN' पर रखे जाने पर दिए गए संयोजन के सही दर्पण प्रतिबिंब का चयन करें।

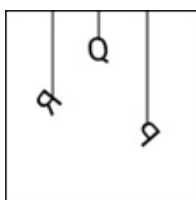


Ans

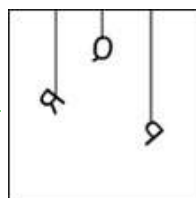
✗ 1.



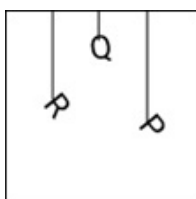
✗ 2.



✓ 3.



✗ 4.



Question ID : 264330130765

Option 1 ID : 264330512174

Option 2 ID : 264330512173

Option 3 ID : 264330512172

Option 4 ID : 264330512171

Status : Answered

Chosen Option : 3

Q.4 दिए गए विकल्पों में से उस संख्या का चयन कीजिए जो निम्नलिखित श्रृंखला में प्रश्न चिह्न (?) के स्थान पर आ सकती है।

10, 22, 13, 28, 16, ?

- Ans
- ☒ 1. 78
  - ☒ 2. 43
  - ☒ 3. 67
  - ☒ 4. 34

Question ID : 264330109754

Option 1 ID : 264330431296

Option 2 ID : 264330431294

Option 3 ID : 264330431295

Option 4 ID : 264330431293

Status : Answered

Chosen Option : 4

Q.5 उस विकल्प का चयन कीजिए, जो तीसरे शब्द से उसी प्रकार संबंधित है, जिस प्रकार दूसरा शब्द पहले शब्द से संबंधित है।  
(शब्दों को अंग्रेजी/हिंदी के अर्थपूर्ण शब्दों के रूप में माना जाना चाहिए और ये शब्द, अक्षरों की संख्या/ व्यंजनों/स्वरों की संख्या के आधार पर एक-दूसरे से संबंधित नहीं होने चाहिए।)  
बर्फ : पहाड़ :: रेत : ?

- Ans
- ☒ 1. समुद्री तट
  - ☒ 2. पानी
  - ☒ 3. बाल्टी
  - ☒ 4. सूर्य

Question ID : 26433069141

Option 1 ID : 264330271079

Option 2 ID : 264330271078

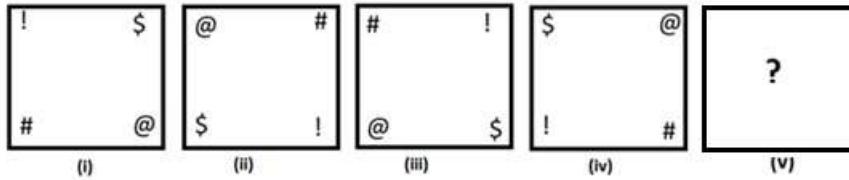
Option 3 ID : 264330271077

Option 4 ID : 264330271076

Status : Answered


Chosen Option : 1

Q.6 नीचे दिए गए विकल्पों में से उस आकृति का चयन करें, जो दी गई श्रृंखला में प्रश्न-चिह्न (?) के स्थान पर आएगी?




Ans

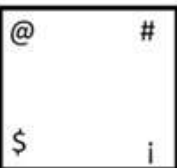
✗ 1.




✗ 2.



✗ 3.



✓ 4.



Question ID : 264330106544

Option 1 ID : 264330418477

Option 2 ID : 264330418478

Option 3 ID : 264330418480

Option 4 ID : 264330418479

Status : Answered

Chosen Option : 4

Q.7 एक निश्चित कूट भाषा में 'DESK' को '23179' और 'FLOW' को '4101321' लिखा जाता है। उस भाषा में 'HUNT' को कैसे लिखा जाएगा?

Ans ✗ 1. 6111219

✓ 2. 6191218

✗ 3. 5894566

✗ 4. 5998795

Question ID : 26433089419

Option 1 ID : 264330351179

Option 2 ID : 264330351180

Option 3 ID : 264330351177

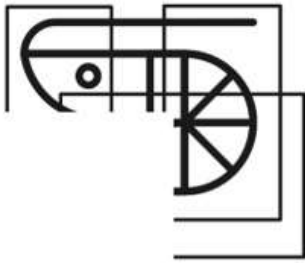
Option 4 ID : 264330351178

Status : Answered

Chosen Option : 2


Q.8 निम्नलिखित में से कौन-सी विकल्प आकृति नीचे दी गई आकृति के स्वरूप

(पैटर्न) को पूरा करेगी?

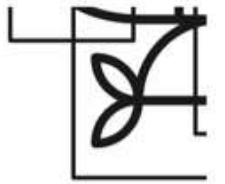


Ans

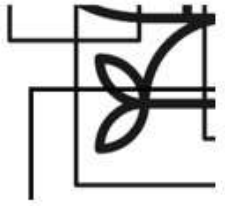
✗ 1.




✓ 2.



✗ 3.



✗ 4.



Question ID : 26433080634

Option 1 ID : 264330316472

Option 2 ID : 264330316469

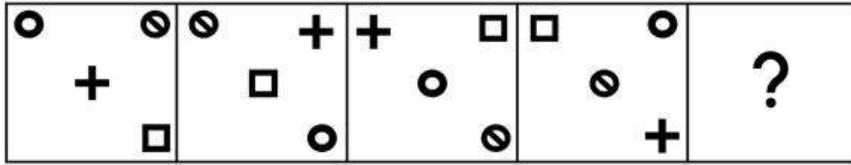
Option 3 ID : 264330316470

Option 4 ID : 264330316471

Status : Answered

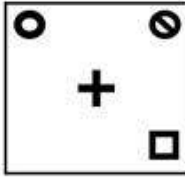
Chosen Option : 2

Q.9 उस आकृति का चयन करें, जो निम्न आकृति श्रृंखला में आगे आएगी।




Ans

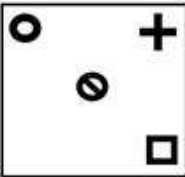
✓ 1.



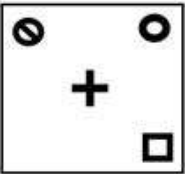
✗ 2.



✗ 3.



✗ 4.



Question ID : 26433076496

Option 1 ID : 264330300049

Option 2 ID : 264330300051

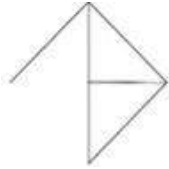
Option 3 ID : 264330300048

Option 4 ID : 264330300050

Status : Answered

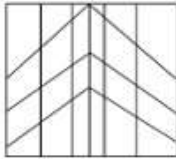
Chosen Option : 1

Q.10 उस विकल्प का चयन करें जिसमें दी गई आकृति सन्निहित है (आकृति को घुमाने की अनुमति नहीं है)।




Ans

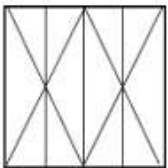
✗ 1.



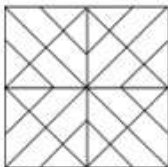
✗ 2.



✗ 3.



✓ 4.



Question ID : 264330114257

Option 1 ID : 264330449114

Option 2 ID : 264330449113

Option 3 ID : 264330449116

Option 4 ID : 264330449115

Status : Answered

Chosen Option : 4

Q.11 निम्नलिखित समीकरण को सही बनाने के लिए किन दो चिह्नों को आपस में बदला जाना चाहिए?

$$36 - 9 \times 15 + 8 \div 3 = 65$$

Ans ✗ 1. - और +

✓ 2. - और ÷

✗ 3. + और ×

✗ 4. ÷ और ×

Question ID : 264330101088

Option 1 ID : 264330396898

Option 2 ID : 264330396899

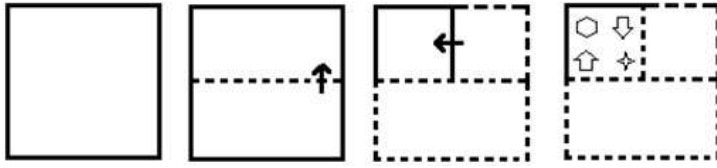
Option 3 ID : 264330396900

Option 4 ID : 264330396897

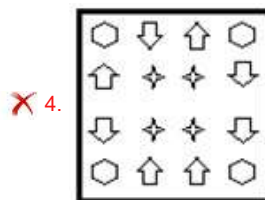
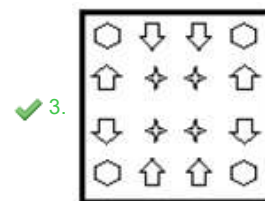
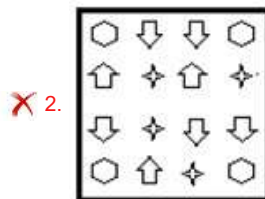
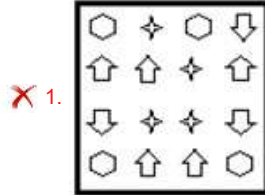
Status : Answered

Chosen Option : 2

Q.12 निम्नलिखित आकृतियों में कागज के एक टुकड़े को मोड़ने का क्रम और मुड़े हुए कागज को काटने का तरीका दर्शाया गया है। कागज की तह खुलने पर यह कैसा दिखाई देगा?



Ans



Question ID : 26433074795

Option 1 ID : 264330293270

Option 2 ID : 264330293269

Option 3 ID : 264330293271

Option 4 ID : 264330293268

Status : Answered

Chosen Option : 3

Q.13 दिए गए कथनों और निष्कर्षों को ध्यानपूर्वक पढ़िए। यह मानते हुए कि कथनों में दी गई जानकारी सत्य है, भले ही वह सामान्य रूप से ज्ञात तथ्यों से भिन्न प्रतीत होती हो, तय कीजिए कि दिए गए निष्कर्षों में से कौन-सा/से निष्कर्ष कथनों का तार्किक रूप से अनुसरण करता है/करते हैं।

कथन:

- सभी मोर, शेर हैं।
- कुछ शेर, कुत्ते हैं।
- कोई कुत्ता, बिल्ली नहीं है।

निष्कर्ष:

- I. कुछ शेर, बिल्लियाँ नहीं हैं।
- II. कुछ मोर, कुत्ते हैं।
- III. कुछ मोर, शेर नहीं हैं।

- Ans
- ☒ 1. निष्कर्ष I, II और III अनुसरण करते हैं
  - ☒ 2. केवल निष्कर्ष I अनुसरण करता है
  - ☒ 3. केवल निष्कर्ष III अनुसरण करता है
  - ☒ 4. केवल निष्कर्ष II और III अनुसरण करते हैं

Question ID : 26433078848

Option 1 ID : 264330309405

Option 2 ID : 264330309404

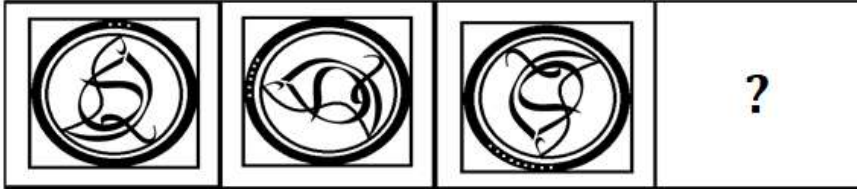
Option 3 ID : 264330309407

Option 4 ID : 264330309406

Status : Answered

Chosen Option : 2

Q.14 उस आकृति का चयन कीजिए, जो निम्नलिखित आकृति श्रृंखला में आगे आएगी।



Ans

☒ 1.



☒ 2.



☒ 3.



☒ 4.



Question ID : 264330129651

Option 1 ID : 264330507971

Option 2 ID : 264330507973

Option 3 ID : 264330507972

Option 4 ID : 264330507970

Status : Answered

Chosen Option : 4



Q.15 उस विकल्प का चयन करें जो तीसरे पद से उसी प्रकार संबंधित है जिस प्रकार दूसरा पद पहले पद से और छठा पद पांचवें पद से संबंधित है।  
12 : 169 :: 15 : ? :: 25 : 676

- Ans ☒ 1. 289  
☒ 2. 225  
☒ 3. 256  
☒ 4. 196

Question ID : 264330101047

Option 1 ID : 264330396736

Option 2 ID : 264330396734

Option 3 ID : 264330396733

Option 4 ID : 264330396735

Status : Answered

Chosen Option : 3

Q.16 निम्न में से कौन-सी विकल्प-आकृति नीचे दी गई आकृति में पैटर्न को पूरा करेगी?



Ans

- ☒ 1.   
☒ 2.   
☒ 3.   
☒ 4.

Question ID : 26433089626

Option 1 ID : 264330352006

Option 2 ID : 264330352005

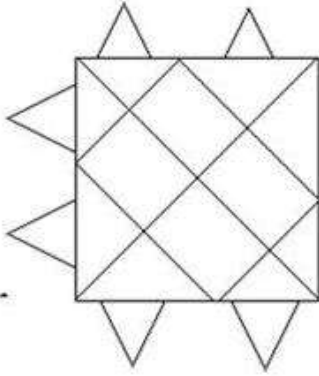
Option 3 ID : 264330352007

Option 4 ID : 264330352008

Status : Answered

Chosen Option : 2

Q.17 दी गई आकृति में कितने त्रिभुज हैं?



- Ans
- ☒ 1. 22
  - ☒ 2. 24
  - ☒ 3. 26
  - ☒ 4. 28

Question ID : 26433078989

Option 1 ID : 264330309968

Option 2 ID : 264330309969

Option 3 ID : 264330309970

Option 4 ID : 264330309971

Status : Answered

Chosen Option : 3

Q.18 निम्नलिखित में से कौन-सा पद दी गई श्रृंखला में प्रश्न-चिह्न (?) के स्थान पर आएगा?

CNWF, FMZE, ?, LKFC, OJIB

- Ans
- ☒ 1. ILCD
  - ☒ 2. CNCD
  - ☒ 3. CMBE
  - ☒ 4. IIBC

Question ID : 26433090969

Option 1 ID : 264330357287

Option 2 ID : 264330357286

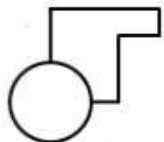
Option 3 ID : 264330357288

Option 4 ID : 264330357285

Status : Answered

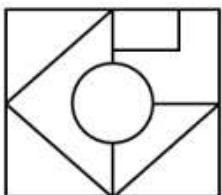
Chosen Option : 1

Q.19 उस विकल्प का चयन करें जिसमें दी गई आकृति अंतर्निहित है (घुमाने की अनुमति नहीं है)।

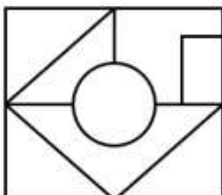


Ans

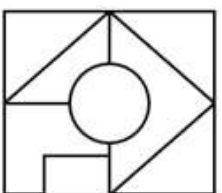
✗ 1.



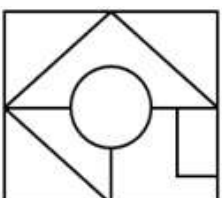
✓ 2.



✗ 3.



✗ 4.



Question ID : 264330106332

Option 1 ID : 264330417629

Option 2 ID : 264330417632

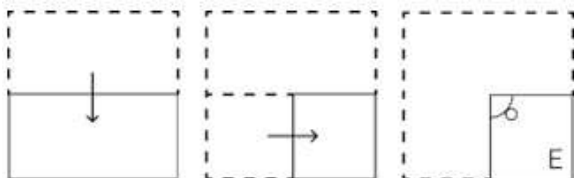
Option 3 ID : 264330417630

Option 4 ID : 264330417631

Status : Answered

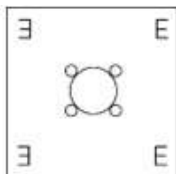
Chosen Option : 2

Q.20 एक कागज को नीचे दिखाए अनुसार मोड़ा और काटा जाता है। खोलने पर यह कैसा दिखाई देगा?

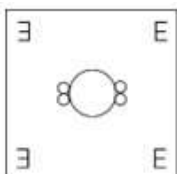


Ans

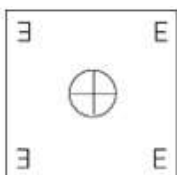
✓ 1.



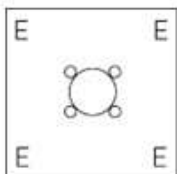
✗ 2.



✗ 3.



✗ 4.



Question ID : 264330114703

Option 1 ID : 264330450899

Option 2 ID : 264330450898

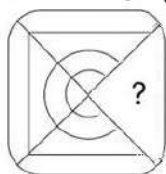
Option 3 ID : 264330450900

Option 4 ID : 264330450897

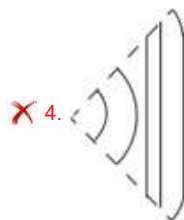
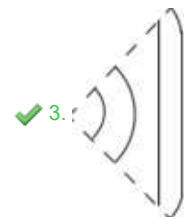
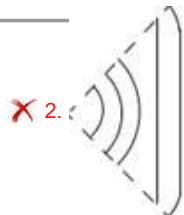
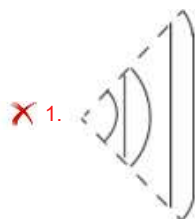
Status : Answered

Chosen Option : 1

Q.21 उस विकल्प आकृति का चयन कीजिए जो पैटर्न को पूरा करने के लिए नीचे दी गई आकृति में प्रश्नवाचक चिह्न (?) को प्रतिस्थापित करेगी।



Ans



Question ID : 264330117031

Option 1 ID : 264330460208

Option 2 ID : 264330460206

Option 3 ID : 264330460207

Option 4 ID : 264330460205

Status : Answered

Chosen Option : 3

Q.22 उस समुच्चय का चयन कीजिए जिसमें संख्याएँ उसी प्रकार संबंधित हैं जिस प्रकार निम्नलिखित समुच्चयों की संख्याएँ संबंधित हैं।  
(नोट: संख्याओं को उसके घटक अंकों में विभाजित किए बिना, पूर्ण संख्याओं पर संक्रियाएँ की जानी चाहिए। उदाहरण के लिए 13 - इसमें 13 पर जोड़ने / घटाने / गुणा करने आदि जैसी संक्रियाओं को 13 में किया जा सकता है। 13 को 1 और 3 में विभाजित करने और फिर 1 और 3 पर गणितीय संक्रियाएँ करने की अनुमति नहीं है)  
(49, 12), (81, 14)

- Ans ☒ 1. (144, 20)  
☒ 2. (169, 14)  
☒ 3. (400, 22)  
☒ 4. (361, 24)

Question ID : 26433052040  
Option 1 ID : 264330203464  
Option 2 ID : 264330203462  
Option 3 ID : 264330203465  
Option 4 ID : 264330203463  
Status : Answered  
Chosen Option : 4

Q.23 दिए गए समीकरण में \* चिह्नों को क्रमिक रूप से बदलने और समीकरण को संतुलित करने के लिए निम्नलिखित विकल्पों में से गणितीय चिह्नों के सही संयोजन का चयन कीजिए।  
 $99 * 11 * 5 * 25 * 15 * 5$

- Ans ☒ 1.  $\div \times - = +$   
☒ 2.  $- \div \times + =$   
☒ 3.  $\div - \times = +$   
☒ 4.  $\div - \times + =$

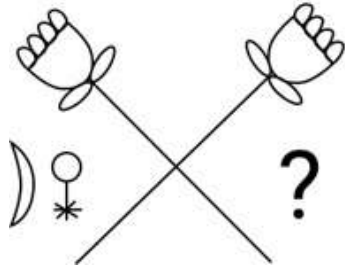
Question ID : 26433085717  
Option 1 ID : 264330336570  
Option 2 ID : 264330336572  
Option 3 ID : 264330336569  
Option 4 ID : 264330336571  
Status : Answered  
Chosen Option : 1

Q.24 छह विद्यार्थी एक गोल मेज के परितः केंद्र की ओर अभिमुख होकर बैठे हैं। अदिति और अमोल दोनों का निकटतम पड़ोसी अभय है। आभा, अदिति के दाएं से दूसरे स्थान पर बैठी है। अब्दुल, अमोल के दाएं से तीसरे स्थान पर बैठा है। आशना, अभय के बाएं से दूसरे स्थान पर बैठी है। अदिति और आभा दोनों का निकटतम पड़ोसी कौन है?

- Ans ☒ 1. आशना  
☒ 2. अभय  
☒ 3. अमोल  
☒ 4. अब्दुल

Question ID : 264330110712  
Option 1 ID : 264330435126  
Option 2 ID : 264330435128  
Option 3 ID : 264330435125  
Option 4 ID : 264330435127  
Status : Answered  
Chosen Option : 4

Q.25 दी गई विकल्प आकृतियों में से उस आकृति का चयन करें जिसे नीचे दी गई आकृति में प्रश्न चिह्न (?) के स्थान पर रखने पर प्रतिरूप (पैटर्न) पूरा हो जाएगा।



Ans

- ☒ 1.
- ☒ 2.
- ☒ 3.
- ☒ 4.

Question ID : 264330111717

Option 1 ID : 264330438953

Option 2 ID : 264330438955

Option 3 ID : 264330438954

Option 4 ID : 264330438956

Status : Answered

Chosen Option : 3

Section : Numerical Ability

Q.1 एक चतुर्भुज के विकर्ण की लंबाई 30 m है और दो शीर्षों से विकर्ण तक अभिलंब की लंबाई 15 m और 25 m है। चतुर्भुज का क्षेत्रफल ज्ञात करें।

Ans

- ☒ 1. 600 m<sup>2</sup>
- ☒ 2. 325 m<sup>2</sup>
- ☒ 3. 300 m<sup>2</sup>
- ☒ 4. 250 m<sup>2</sup>

Question ID : 264330111488

Option 1 ID : 264330438038

Option 2 ID : 264330438040

Option 3 ID : 264330438039

Option 4 ID : 264330438037

Status : Answered

Chosen Option : 1

Q.2 वह सबसे बड़ी संख्या \_\_\_\_\_ होगी, जिससे 275 और 146 को भाग देने पर क्रमशः 5 और 6 शेषफल आता है।

Ans ☒ 1. 10

☐ 2. 12

☐ 3. 8

☐ 4. 15

Question ID : 264330109326

Option 1 ID : 264330429582

Option 2 ID : 264330429583

Option 3 ID : 264330429581

Option 4 ID : 264330429584

Status : Answered

Chosen Option : 1

Q.3 कितने समय में ₹800 की राशि ₹926.10 हो जाएगी, जबकि ब्याज की दर 10% वार्षिक है और ब्याज अर्ध-वार्षिक रूप से चक्रवृद्धि होता है?

Ans ☐ 1. 1 वर्ष

☒ 2.  $1\frac{1}{2}$  वर्ष

☐ 3.  $2\frac{1}{2}$  वर्ष

☐ 4. 2 वर्ष

Question ID : 264330104197

Option 1 ID : 264330409089

Option 2 ID : 264330409090

Option 3 ID : 264330409092

Option 4 ID : 264330409091

Status : Answered

Chosen Option : 2

Q.4 किसी निश्चित धनराशि पर 5% वार्षिक दर से 9 वर्ष के लिए साधारण ब्याज ₹1,260 है। किस ब्याज दर पर 5 वर्ष बाद समान धनराशि पर समान ब्याज प्राप्त किया जा सकता है?

Ans ☐ 1. 8.6%

☐ 2. 11%

☒ 3. 9%

☐ 4. 10%

Question ID : 264330118129

Option 1 ID : 264330464331

Option 2 ID : 264330464334

Option 3 ID : 264330464333

Option 4 ID : 264330464332

Status : Answered

Chosen Option : 3



Q.5 एक शंकु की त्रिज्या और ऊँचाई का अनुपात 5 : 18 है। यदि इसका आयतन  $1,61,700 \text{ cm}^3$  है, तो इसकी तिर्यक ऊँचाई (cm में) ज्ञात कीजिए।

( $\pi = \frac{22}{7}$  मानिए )

- Ans
- ☒ 1.  $\sqrt{27108}$
  - ☒ 2.  $\sqrt{17101}$
  - ☒ 3.  $\sqrt{27101}$
  - ☒ 4.  $\sqrt{17108}$

Question ID : 264330112434

Option 1 ID : 264330441824

Option 2 ID : 264330441822

Option 3 ID : 264330441821

Option 4 ID : 264330441823

Status : Answered

Chosen Option : 2

Q.6 चाय की कीमत में 15% की कमी आई। कोई व्यक्ति चाय की खपत कितने प्रतिशत तक बढ़ा सकता है ताकि व्यय में कोई परिवर्तन न हो?

- Ans
- ☒ 1.  $16\frac{11}{16}$
  - ☒ 2.  $19\frac{7}{19}$
  - ☒ 3.  $18\frac{7}{18}$
  - ☒ 4.  $17\frac{11}{17}$

Question ID : 264330130227

Option 1 ID : 264330510019

Option 2 ID : 264330510020

Option 3 ID : 264330510022

Option 4 ID : 264330510021

Status : Answered

Chosen Option : 4

Q.7 नितीश अपने माल पर लागत मूल्य से 20% अधिक मूल्य अंकित करता है लेकिन नकद भुगतान पर 15% की छूट देता है। यदि वह वस्तु को ₹1,020 में बेचता है, तो उसका क्रय मूल्य (₹ में) ज्ञात कीजिए।

- Ans
- ☒ 1. 1000
  - ☒ 2. 1109
  - ☒ 3. 1200
  - ☒ 4. 1300

Question ID : 264330108886

Option 1 ID : 264330427822

Option 2 ID : 264330427824

Option 3 ID : 264330427823

Option 4 ID : 264330427821

Status : Answered


Chosen Option : 1

Q.8 एक वस्तु को ₹1,800 में बेचने से प्राप्त प्रतिशत लाभ उसी वस्तु को ₹1,160 में बेचने पर हुई हानि के प्रतिशत के बराबर है। 20% का लाभ प्राप्त के लिए वस्तु को किस मूल्य पर बेचा जाना चाहिए?

Ans  1. ₹1,776

 2. ₹1,550

 3. ₹1,480

 4. ₹1,650

Question ID : 264330109336

Option 1 ID : 264330429624

Option 2 ID : 264330429622

Option 3 ID : 264330429621

Option 4 ID : 264330429623

Status : Answered

Chosen Option : 1

Q.9 यदि 78, 104, 338 का HCF, A है और 136, 357 का HCF, B है, तो A + B का मान ज्ञात कीजिए।

Ans  1. 39

 2. 43

 3. 38

 4. 56

Question ID : 264330103682

Option 1 ID : 264330407033

Option 2 ID : 264330407036

Option 3 ID : 264330407034

Option 4 ID : 264330407035

Status : Answered

Chosen Option : 2

Q.10 निम्नलिखित में से कौन सी संख्या 2145 के सभी अभाज्य गुणन खंडों के योग से अधिक है?

Ans  1. 31

 2. 41

 3. 29

 4. 32

Question ID : 264330109531

Option 1 ID : 264330430402

Option 2 ID : 264330430404

Option 3 ID : 264330430401

Option 4 ID : 264330430403

Status : Answered

Chosen Option : 2

Q.11 कृशा अकेले एक कार्य को पूरा करने में, कृपा और कृपा दोनों के एक साथ कार्य करने की तुलना में 4 घंटे अधिक समय लेती है। यदि कृपा अकेले कार्य करती है, तो वह उस कार्य को पूरा करने में कृशा और कृपा के एक साथ कार्य करने की तुलना में 9 घंटे अधिक समय लेती है। यदि कृशा और कृपा दोनों एक साथ कार्य करती हैं, तो वे कार्य को पूरा करने में कितना समय लेंगी?

- Ans
- ☒ 1. 9 घंटे
  - ☒ 2. 8 घंटे
  - ☒ 3. 6 घंटे
  - ☒ 4. 7 घंटे

Question ID : 264330103631

Option 1 ID : 264330406832

Option 2 ID : 264330406831

Option 3 ID : 264330406829

Option 4 ID : 264330406830

Status : Answered

Chosen Option : 3

Q.12 एक परिवार में दादा-दादी, माता-पिता और दो पोते-पोतियां हैं। पोते-पोतियों की औसत आयु 12 वर्ष, माता-पिता की औसत आयु 40 वर्ष और दादा-दादी की औसत आयु 68 वर्ष है। परिवार की औसत आयु की गणना करें।

- Ans
- ☒ 1. 40 वर्ष
  - ☒ 2. 45 वर्ष
  - ☒ 3. 30 वर्ष
  - ☒ 4. 35 वर्ष

Question ID : 264330126556

Option 1 ID : 264330495897

Option 2 ID : 264330495896

Option 3 ID : 264330495898

Option 4 ID : 264330495899

Status : Answered

Chosen Option : 1

Q.13 यदि रमेश 25 km/h की चाल से स्कूल जाता है तो वह 9 मिनट की देरी से पहुँचता है। यदि वह 30 km/h की चाल से चलता है, तो वह 9 मिनट पहले पहुँचता है। उसके घर और स्कूल के बीच की दूरी ज्ञात कीजिए।

- Ans
- ☒ 1. 43 km
  - ☒ 2. 40 km
  - ☒ 3. 48 km
  - ☒ 4. 45 km

Question ID : 264330104320

Option 1 ID : 264330409582

Option 2 ID : 264330409581

Option 3 ID : 264330409584

Option 4 ID : 264330409583

Status : Answered

Chosen Option : 4

Q.14 यदि  $a : b = 9 : 14$  और  $b : c = 16 : 7$  है, तो  $a : b : c$  क्या है?

- Ans ☐ 1.  $9 : 112 : 7$   
☒ 2.  $72 : 112 : 49$   
☐ 3.  $72 : 102 : 49$   
☐ 4.  $9 : 112 : 49$

Question ID : 264330129424

Option 1 ID : 264330507064

Option 2 ID : 264330507062

Option 3 ID : 264330507065

Option 4 ID : 264330507063

Status : Answered

Chosen Option : 2

Q.15 एक दुकानदार अपने सहयोगी को 12% लाभ अर्जित करने के लिए एक वस्तु पर ₹152 का विक्रय मूल्य टैग लगाने के लिए कहता है। गलती से, सहयोगी ₹125 का मूल्य टैग लगा देता है। नए विक्रय मूल्य टैग से दुकानदार का हानि या लाभ प्रतिशत (दो दशमलव स्थानों तक पूर्णांकित) क्या है?

- Ans ☒ 1. 7.89% हानि  
☐ 2. 9.66% लाभ  
☐ 3. 8.77% हानि  
☐ 4. 6.99% लाभ

Question ID : 264330117913

Option 1 ID : 264330463469

Option 2 ID : 264330463468

Option 3 ID : 264330463470

Option 4 ID : 264330463467

Status : Answered

Chosen Option : 1

Section : Computer Proficiency

Q.1 एमएस वर्ड 365 (MS Word 365) में निम्नलिखित में से किस विकल्प का अर्थ है कि पेज ऊर्ध्वाधर रूप से उन्मुख (oriented vertically) है?

- Ans ☐ 1. लैंडस्केप (Landscape)  
☐ 2. पेज सेट (PageSet)  
☐ 3. पेज सेटअप (Page Setup)  
☒ 4. पोर्ट्रेट (Portrait)

Question ID : 264330180436

Option 1 ID : 264330707711

Option 2 ID : 264330707714

Option 3 ID : 264330707713

Option 4 ID : 264330707712

Status : Answered

Chosen Option : 4

Q.2 एमएस वर्ड 365 (MS Word 365) डॉक्यूमेंट में वर्तनी (spelling) त्रुटियों को दर्शाने के लिए निम्नलिखित में से किस रंग की तरंगित रेखा का उपयोग किया जाता है?

- Ans ☒ 1. लाल रेखा
- ☐ 2. नीली रेखा
- ☐ 3. काली रेखा
- ☐ 4. हरी रेखा

Question ID : 264330179156

Option 1 ID : 264330702627

Option 2 ID : 264330702629

Option 3 ID : 264330702630

Option 4 ID : 264330702628

Status : Answered

Chosen Option : 1

Q.3 Which formatting option in MS-Word 365 allows you to slant or tilt the selected text to the right, commonly used for indicating emphasis or to differentiate titles from the main text?

- Ans ☐ 1. Text Colour
- ☒ 2. Italics
- ☐ 3. Bold
- ☐ 4. Underline

Question ID : 264330173335

Option 1 ID : 264330679819

Option 2 ID : 264330679821

Option 3 ID : 264330679820

Option 4 ID : 264330679822

Status : Answered

Chosen Option : 2

Q.4 In MS Excel 365 which of the following charts is used in MS Excel when the category names are long or when comparing data across a time period?

- Ans ☒ 1. Bar chart
- ☐ 2. Pie chart
- ☐ 3. Line chart
- ☐ 4. Column chart

Question ID : 264330180817

Option 1 ID : 264330709232

Option 2 ID : 264330709234

Option 3 ID : 264330709233

Option 4 ID : 264330709231

Status : Answered

Chosen Option : 3

**Q.5** In MS Excel 365, how we highlight an entire column?

**Ans** ☒ 1. By pressing 'Ctrl + Space bar'

☐ 2. By pressing 'Ctrl + Enter'

☐ 3. By pressing 'Ctrl + H'

☐ 4. By pressing 'Ctrl + F'

Question ID : 264330182062

Option 1 ID : 264330714090

Option 2 ID : 264330714088

Option 3 ID : 264330714087

Option 4 ID : 264330714089

Status : Answered

Chosen Option : 1

**Q.6** In Microsoft Excel 365, how can you sort data in ascending or descending order?

**Ans** ☐ 1. Data -> Select

☒ 2. Data -> Sort

☐ 3. Data -> Form

☐ 4. Data -> Find

Question ID : 264330182054

Option 1 ID : 264330714058

Option 2 ID : 264330714055

Option 3 ID : 264330714056

Option 4 ID : 264330714057

Status : Answered

Chosen Option : 2

**Q.7** In MS Word 365, Ctrl + E key is pressed to perform which of the following tasks?

**Ans** ☒ 1. Center Alignment

☐ 2. Left Alignment

☐ 3. Justify

☐ 4. Right Alignment

Question ID : 264330176719

Option 1 ID : 264330693093

Option 2 ID : 264330693091

Option 3 ID : 264330693094

Option 4 ID : 264330693092

Status : Answered

Chosen Option : 1

**Q.8** What does the 'Font Size' refer to in Microsoft Word 365?

**Ans** ☐ 1. The alignment of the text

☐ 2. The boldness of the text

☐ 3. The colour of the text

☒ 4. The size of the text characters

Question ID : 264330180736

Option 1 ID : 264330708914

Option 2 ID : 264330708911





Option 3 ID : 264330708912

Option 4 ID : 264330708913

Status : Answered

Chosen Option : 4

Q.9 What is the primary purpose of 'sorting and searching emails' when using email services?

- Ans  1. Organising emails based on various criteria for easy retrieval
-  2. Sending emails to multiple recipients simultaneously
-  3. Creating animated GIFs to embed in email content
-  4. Changing the background colour of email messages

Question ID : 264330178549

Option 1 ID : 264330700225

Option 2 ID : 264330700224





Option 3 ID : 264330700226

Option 4 ID : 264330700223

Status : Answered

Chosen Option : 1

Q.10 निम्नलिखित में से कौन-सा, वेब ब्राउज़र का एक उदाहरण है?

- Ans  1. मोज़िला फ़ायरफ़ॉक्स (Mozilla Firefox)
-  2. एमएस-वर्ड (MS-Word)
-  3. एडोब फोटोशॉप (Adobe Photoshop)
-  4. नोटपैड (Notepad)

Question ID : 264330173559

Option 1 ID : 264330680717

Option 2 ID : 264330680715

Option 3 ID : 264330680716

Option 4 ID : 264330680718

Status : Answered

Chosen Option : 1