

Constable Executive Male and Female in Delhi Police Examination 2023

Roll Number	
Candidate Name	
Venue Name	iON Digital Zone iDZ 2 Bhauti
Exam Date	24/11/2023
Exam Time	9:00 AM - 10:30 AM
Subject	Constable Executive Male and Female in Delhi Police Examination 2023

Section : General Knowledge

Q.1 टेबल शुगर (Table sugar) में अधिकतर क्या शामिल होता है?

- Ans
- ☒ 1. ग्लूकोज़
 - ☒ 2. फ्रक्टोज़
 - ☒ 3. माल्टोज़
 - ☒ 4. सुक्रोज़

Question ID : 264330177335

Option 1 ID : 264330695532

Option 2 ID : 264330695534

Option 3 ID : 264330695533

Option 4 ID : 264330695531

Status : Answered

Chosen Option : 2

Q.2 चौथे खेलो इंडिया गेम्स (Khelo India Games) के शुभंकर का नाम क्या है?

- Ans
- ☒ 1. वीरा
 - ☒ 2. जया
 - ☒ 3. धाकड़
 - ☒ 4. विजय

Question ID : 264330113741

Option 1 ID : 264330447049

Option 2 ID : 264330447050

Option 3 ID : 264330447052

Option 4 ID : 264330447051

Status : Answered

Chosen Option : 3

Q.3 निम्नलिखित में से कौन-सी भारतीय संविधान की एक मुख्य विशेषता है?

- Ans
- ☒ 1. भारत को स्वतंत्रता मिलने से पहले इसे अपनाया गया था।
 - ☒ 2. यह लिखित संविधान नहीं है।
 - ☒ 3. यह दुनिया का सबसे लंबा लिखित संविधान है।
 - ☒ 4. यह दुनिया का सबसे छोटा लिखित संविधान है।

Question ID : 264330120504

Option 1 ID : 264330472267

Option 2 ID : 264330472269

Option 3 ID : 264330472270

Option 4 ID : 264330472268

Status : Answered

Chosen Option : 3

Q.4 1910 में 'भारत स्त्री महामंडल' की स्थापना का श्रेय निम्नलिखित में से किस समाज सुधारक को दिया जाता है?

- Ans ☒ 1. सरला देवी चौधरानी
- ☐ 2. सावित्रीबाई फुले
- ☐ 3. उषा मेहता
- ☐ 4. सरोजिनी नायडू

Question ID : 264330130562

Option 1 ID : 264330511362

Option 2 ID : 264330511360

Option 3 ID : 264330511361

Option 4 ID : 264330511359

Status : Answered

Chosen Option : 2

Q.5 मिजोरम में निम्नलिखित में से कौन सा त्योहार बागवानी को बढ़ावा देने के लिए मनाया जाता है?

- Ans ☒ 1. एंथुरियम
- ☐ 2. ल्युवा खुतला
- ☐ 3. हलुखला कुट
- ☐ 4. ख्वादो कुट

Question ID : 264330106224

Option 1 ID : 264330417198

Option 2 ID : 264330417197

Option 3 ID : 264330417200

Option 4 ID : 264330417199

Status : Answered

Chosen Option : 4

Q.6 मोहम्मद गौस का मकबरा कहाँ स्थित है?

- Ans ☐ 1. दिल्ली
- ☐ 2. बुरहानपुर
- ☐ 3. आगरा
- ☒ 4. ग्वालियर

Question ID : 26433074102

Option 1 ID : 264330290531

Option 2 ID : 264330290528

Option 3 ID : 264330290529

Option 4 ID : 264330290530

Status : Not Attempted and
Marked For Review

Chosen Option : --

Q.7 निम्नलिखित में से किसे प्रतिष्ठित राष्ट्रीय नृत्य शिरोमणि पुरस्कार 2022 से सम्मानित किया गया था?

- Ans
- ☐ 1. शांता धनंजय
 - ☐ 2. अलार्मेल वल्ली
 - ☒ 3. अपर्णा साथीसन
 - ☐ 4. वी.पी. धनंजयन

Question ID : 26433074869

Option 1 ID : 264330293565

Option 2 ID : 264330293567

Option 3 ID : 264330293566

Option 4 ID : 264330293564

Status : **Not Attempted and Marked For Review**

Chosen Option : --

Q.8 1990 के पूर्व के भारत में औद्योगिक क्षेत्र में 'संरक्षणवादी नीति' शब्द _____ को संदर्भित करता है।

- Ans
- ☒ 1. घरेलू कंपनियों को विदेशी कंपनियों की प्रतिस्पर्धा से बचाने
 - ☐ 2. निजी क्षेत्र की कंपनियों को सार्वजनिक क्षेत्र की कंपनियों की प्रतिस्पर्धा से बचाने
 - ☐ 3. निजी कंपनियों को घाटा होने से बचाने
 - ☐ 4. सार्वजनिक क्षेत्र की कंपनियों को घरेलू निजी क्षेत्र की कंपनियों से बचाने

Question ID : 264330111749

Option 1 ID : 264330439082

Option 2 ID : 264330439084

Option 3 ID : 264330439081

Option 4 ID : 264330439083

Status : **Not Attempted and Marked For Review**

Chosen Option : --

Q.9 महान कुचिपुड़ी नर्तक और पद्म श्री 1970 पुरस्कार विजेता वी. सत्यनारायण सरमा का जन्म _____ में हुआ था।

- Ans
- ☒ 1. आंध्र प्रदेश
 - ☐ 2. तमिलनाडु
 - ☐ 3. केरल
 - ☐ 4. कर्नाटक

Question ID : 264330111982

Option 1 ID : 264330440013

Option 2 ID : 264330440016

Option 3 ID : 264330440014

Option 4 ID : 264330440015

Status : **Answered**

Chosen Option : 1

Q.10 गोपाल कृष्ण गोखले ने किसे 'हिंदू-मुस्लिम एकता का सर्वश्रेष्ठ दूत' कहा था?

- Ans
- ☒ 1. जवाहर लाल नेहरू
 - ☒ 2. महात्मा गांधी
 - ☒ 3. मोहम्मद अली जिन्ना
 - ☒ 4. मौलाना अबुल कलाम आजाद

Question ID : 264330119016

Option 1 ID : 264330466720

Option 2 ID : 264330466719

Option 3 ID : 264330466721

Option 4 ID : 264330466722

Status : **Not Attempted and Marked For Review**

Chosen Option : --

Q.11 भारत के नियंत्रक और महालेखापरीक्षक के वेतन, भत्तों और पेंशन को _____ पर प्रभारित किया जाता है।

- Ans
- ☒ 1. भारत की संचित निधि
 - ☒ 2. राज्य की संचित निधि
 - ☒ 3. लोक खाता
 - ☒ 4. भारत की आकस्मिकता निधि

Question ID : 264330110594

Option 1 ID : 264330434656

Option 2 ID : 264330434654

Option 3 ID : 264330434653

Option 4 ID : 264330434655

Status : **Answered**

Chosen Option : 1

Q.12 भारत के संविधान की दसवीं अनुसूची के अलावा अन्य मामलों के लिए राज्य विधान सभा के सदस्यों की अयोग्यता का निर्णय कौन करता है?

- Ans
- ☒ 1. राज्यपाल
 - ☒ 2. राज्य चुनाव आयोग
 - ☒ 3. उच्च न्यायालय
 - ☒ 4. मुख्यमंत्री

Question ID : 264330130489

Option 1 ID : 264330511069

Option 2 ID : 264330511070

Option 3 ID : 264330511068

Option 4 ID : 264330511067

Status : **Answered**

Chosen Option : 2

Q.13 'द स्टोरी ऑफ माई एक्सपेरिमेंट्स विद ड्रुथ' किसने लिखी है?

- Ans
- ☒ 1. बाल गंगाधर तिलक
 - ☒ 2. जवाहर लाल नेहरू
 - ☒ 3. मोहनदास करमचन्द गांधी
 - ☒ 4. गोपाल कृष्ण गोखले

Question ID : 26433072940

Option 1 ID : 264330285954

Option 2 ID : 264330285955

Option 3 ID : 264330285952

Option 4 ID : 264330285953

Status : Answered

Chosen Option : 3

Q.14 प्रथम खेलो इंडिया स्कूल गेम्स किस वर्ष प्रारंभ हुए थे?

- Ans
- ☒ 1. 2015
 - ☒ 2. 2018
 - ☒ 3. 2016
 - ☒ 4. 2017

Question ID : 264330176082

Option 1 ID : 264330690623

Option 2 ID : 264330690625

Option 3 ID : 264330690626

Option 4 ID : 264330690624

Status : Not Attempted and Marked For Review

Chosen Option : --

Q.15 हरित क्रांति के परिणामस्वरूप, भारत अपनी स्थिति को _____ में बदलने में सक्षम था।

- Ans
- ☒ 1. धीमी गति से बढ़ते हुए राष्ट्र से दुनिया में सबसे तेजी से बढ़ते राष्ट्र
 - ☒ 2. खाद्य की कमी वाले देश से एक अग्रणी कृषि राष्ट्र
 - ☒ 3. एक विकासशील राष्ट्र से एक विकसित राष्ट्र
 - ☒ 4. एक कृषि राष्ट्र से एक विनिर्माण राष्ट्र

Question ID : 264330120895

Option 1 ID : 264330473798

Option 2 ID : 264330473796

Option 3 ID : 264330473795

Option 4 ID : 264330473797

Status : Answered

Chosen Option : 1

Q.16 मध्य प्रदेश के राय लोक-नृत्य के प्रदर्शन के लिए निम्नलिखित में से किसने 2022 में पद्म श्री प्राप्त किया?

- Ans
- ☒ 1. शीश राम
 - ☒ 2. ए.के.सी. नटराजन
 - ☒ 3. राम सहाय पाण्डेय
 - ☒ 4. बालेश भजंत्री

Question ID : 264330111976

Option 1 ID : 264330439990

Option 2 ID : 264330439991

Option 3 ID : 264330439989

Option 4 ID : 264330439992

Status : Not Attempted and Marked For Review

Chosen Option : --

Q.17 निम्नलिखित में से किस लेखक ने प्रसिद्ध अंग्रेजी उपन्यास 'मोबी-डिक' (Moby-Dick) लिखा है?

- Ans
- ☒ 1. नाथानियल हॉथोर्न
 - ☒ 2. थॉमस हार्डी
 - ☒ 3. हरमन मेलविल
 - ☒ 4. विल्की कॉलिन्स

Question ID : 26433066679

Option 1 ID : 264330261240

Option 2 ID : 264330261242

Option 3 ID : 264330261243

Option 4 ID : 264330261241

Status : **Not Attempted and Marked For Review**

Chosen Option : --

Q.18 छठी शताब्दी ईसा पूर्व के दौरान 'श्रमण' परंपरा के भाग के रूप में गंगा की घाटी में निम्नलिखित में से कौन-सा नया धार्मिक और सामाजिक आंदोलन शुरू हुआ था?

- Ans
- ☒ 1. इस्लाम
 - ☒ 2. बौद्ध धर्म
 - ☒ 3. ईसाई धर्म
 - ☒ 4. सूफीवाद

Question ID : 264330118947

Option 1 ID : 264330466443

Option 2 ID : 264330466444

Option 3 ID : 264330466445

Option 4 ID : 264330466446

Status : **Not Attempted and Marked For Review**

Chosen Option : --

Q.19 विधान परिषद की न्यूनतम संख्या कितनी है?

- Ans
- ☒ 1. 15 सदस्य
 - ☒ 2. 40 सदस्य
 - ☒ 3. 100 सदस्य
 - ☒ 4. 60 सदस्य

Question ID : 264330173542

Option 1 ID : 264330680648

Option 2 ID : 264330680647

Option 3 ID : 264330680650

Option 4 ID : 264330680649

Status : **Answered**

Chosen Option : 2

Q.20 भारतीय संविधान के अनुच्छेद 23 और 24 निम्नलिखित में से किस अधिकार से संबंधित हैं?

- Ans
- ☐ 1. समानता का अधिकार
 - ☐ 2. धर्म की स्वतंत्रता का अधिकार
 - ☒ 3. शोषण के विरुद्ध अधिकार
 - ☐ 4. सांविधानिक उपचारों का अधिकार

Question ID : 264330113384

Option 1 ID : 264330445621

Option 2 ID : 264330445622

Option 3 ID : 264330445623

Option 4 ID : 264330445624

Status : Answered

Chosen Option : 3

Q.21 भरहुत का प्रसिद्ध स्तूप मूल रूप से किसने बनवाया था?

- Ans
- ☐ 1. कुषाण
 - ☐ 2. शुंग
 - ☐ 3. सातवाहन
 - ☒ 4. मौर्य

Question ID : 264330117994

Option 1 ID : 264330463794

Option 2 ID : 264330463791

Option 3 ID : 264330463792

Option 4 ID : 264330463793

Status : Answered

Chosen Option : 4

Q.22 निम्नलिखित में से कौन भारत पर आधारित किताब-उल-हिन्द के लेखक थे?

- Ans
- ☒ 1. अल बरुनी
 - ☐ 2. अल मसूदी
 - ☐ 3. अब्दुर रज्जाक
 - ☐ 4. मार्को पोलो

Question ID : 264330182705

Option 1 ID : 264330716594

Option 2 ID : 264330716593

Option 3 ID : 264330716592

Option 4 ID : 264330716591

Status : Answered

Chosen Option : 1

Q.23 _____ से प्राप्त ब्याज एक कारक आय है।

- Ans
- ☐ 1. श्रम
 - ☐ 2. उद्यमिता
 - ☒ 3. पूँजी
 - ☐ 4. भूमि

Question ID : 264330118243

Option 1 ID : 264330464789

Option 2 ID : 264330464790

Option 3 ID : 264330464788

Option 4 ID : 264330464787

Status : Answered

Chosen Option : 4

Q.24 FII में 'F' का तात्पर्य किससे है?

- Ans ☒ 1. Foreign (फॉरेन)
- ☐ 2. Fund (फंड)
- ☐ 3. Fast (फास्ट)
- ☐ 4. Fiduciary (फाइडुशियरी)

Question ID : 26433059300

Option 1 ID : 264330232077

Option 2 ID : 264330232076

Option 3 ID : 264330232079

Option 4 ID : 264330232078

Status : **Not Attempted and Marked For Review**

Chosen Option : --

Q.25 निम्नलिखित में से किसने 2022 में सर्वश्रेष्ठ बाल एल्बम श्रेणी में 'ए कलरफुल वर्ल्ड' के लिए ग्रैमी पुरस्कार जीता?

- Ans ☒ 1. फाल्गुनी शाह
- ☐ 2. तात्याना अली
- ☐ 3. रवीना अरोड़ा
- ☐ 4. मोनिका डोगरा

Question ID : 264330110249

Option 1 ID : 264330433273

Option 2 ID : 264330433274

Option 3 ID : 264330433275

Option 4 ID : 264330433276

Status : **Not Attempted and Marked For Review**

Chosen Option : --

Q.26 मुहम्मद यूनुस, सूक्ष्म वित्त के अग्रदूतों में से एक, ने ग्रामीण बैंक की स्थापना किस वर्ष की थी?

- Ans ☐ 1. 1990
- ☐ 2. 1975
- ☒ 3. 1983
- ☐ 4. 1989

Question ID : 264330118180

Option 1 ID : 264330464538

Option 2 ID : 264330464535

Option 3 ID : 264330464536

Option 4 ID : 264330464537

Status : **Answered**

Chosen Option : 2

Q.27 2011 की जनगणना के अनुसार, निम्नलिखित में से किस राज्य में अनुसूचित जाति के व्यक्तियों की जनसंख्या सर्वाधिक है?

- Ans
- ☐ 1. बिहार
 - ☐ 2. तमिलनाडु
 - ☐ 3. पश्चिम बंगाल
 - ☒ 4. उत्तर प्रदेश

Question ID : 264330179552

Option 1 ID : 264330704209

Option 2 ID : 264330704210

Option 3 ID : 264330704208

Option 4 ID : 264330704207

Status : Not Attempted and
Marked For Review

Chosen Option : --

Q.28 'बेरी-बेरी', _____ की कमी से होता है।

- Ans
- ☒ 1. थायमीन
 - ☐ 2. सायनोकोबालेमिन
 - ☐ 3. नियासिन
 - ☐ 4. राइबोफ्लेविन

Question ID : 264330117597

Option 1 ID : 264330462413

Option 2 ID : 264330462416

Option 3 ID : 264330462415

Option 4 ID : 264330462414

Status : Answered

Chosen Option : 1

Q.29 देश में कुल पुनर्भरण योग्य भूजल संसाधन लगभग 432 km^3 है। तदनुसार, किस जल निकाय में कुल पुनर्भरण योग्य भूजल संसाधन का 26.55% है?

- Ans
- ☐ 1. गोदावरी
 - ☒ 2. ब्रह्मपुत्र
 - ☐ 3. महानदी
 - ☐ 4. कावेरी

Question ID : 264330113525

Option 1 ID : 264330446188

Option 2 ID : 264330446185

Option 3 ID : 264330446187

Option 4 ID : 264330446186

Status : Not Attempted and
Marked For Review

Chosen Option : --

Q.30 किसी पिंड के संवेग में परिवर्तन की दर बल की दिशा में लगाए गए असंतुलित बल के समानुपाती होती है। इसे किस रूप में जाना जाता है?

- Ans
- ☒ 1. गति का तृतीय नियम
 - ☒ 2. जड़त्व का नियम
 - ☒ 3. गति का द्वितीय नियम
 - ☒ 4. गति का प्रथम नियम

Question ID : 264330169096

Option 1 ID : 264330663189

Option 2 ID : 264330663190

Option 3 ID : 264330663188

Option 4 ID : 264330663187

Status : Answered

Chosen Option : 1

Q.31 1991 में किस तारीख को भारतीय रुपये का अवमूल्यन हुआ था?

- Ans
- ☒ 1. 30 जुलाई को
 - ☒ 2. 1 जनवरी को
 - ☒ 3. 1 जुलाई को
 - ☒ 4. 15 अक्टूबर को

Question ID : 264330109417

Option 1 ID : 264330429947

Option 2 ID : 264330429945

Option 3 ID : 264330429946

Option 4 ID : 264330429948

Status : Answered

Chosen Option : 3

Q.32 पुमणु (एथेरोज़ोइड्स) के स्थानांतरण के लिए कौन-सा भौतिक घटक आवश्यक है?

- Ans
- ☒ 1. जल
 - ☒ 2. मिट्टी
 - ☒ 3. प्रकाश
 - ☒ 4. वायु

Question ID : 264330113318

Option 1 ID : 264330445358

Option 2 ID : 264330445359

Option 3 ID : 264330445360

Option 4 ID : 264330445357

Status : Not Attempted and
Marked For Review

Chosen Option : --

Q.33 कौन-सा पड़ोसी देश 2020-21 में मात्रा और मूल्य दोनों के मामले में 54 प्रतिशत से अधिक की सबसे बड़ी हिस्सेदारी के साथ भारत से गेहूं निर्यात के शीर्ष गंतव्य के रूप में उभरा है?

- Ans
- ☐ 1. श्रीलंका
 - ☒ 2. बांग्लादेश
 - ☐ 3. नेपाल
 - ☐ 4. भूटान

Question ID : 264330120361

Option 1 ID : 264330471698

Option 2 ID : 264330471696

Option 3 ID : 264330471697

Option 4 ID : 264330471695

Status : Answered

Chosen Option : 2

Q.34 जुलाई 2023 तक, भारत सरकार द्वारा केरल के निम्नलिखित में से किस नृत्य को शास्त्रीय नृत्य का दर्जा दिया गया है?

- Ans
- ☐ 1. कोलकली
 - ☐ 2. वेलकली
 - ☒ 3. मोहिनीअट्टम
 - ☐ 4. तिरुवातिरकली

Question ID : 264330182982

Option 1 ID : 264330717662

Option 2 ID : 264330717660

Option 3 ID : 264330717661

Option 4 ID : 264330717663

Status : Answered

Chosen Option : 3

Q.35 कम्युनिस्ट इंटरनेशनल लीडरशिप क्लास के लिए चुने जाने वाले पहले भारतीय कौन थे?

- Ans
- ☐ 1. लाला लाजपत राय
 - ☒ 2. मानवेंद्र नाथ राय
 - ☐ 3. श्रीपाद अमृत डांगे
 - ☐ 4. जवाहर लाल नेहरू

Question ID : 264330114052

Option 1 ID : 264330448293

Option 2 ID : 264330448295

Option 3 ID : 264330448294

Option 4 ID : 264330448296

Status : Answered

Chosen Option : 1

Q.36 निम्नलिखित कथनों की सत्यता के संबंध में सबसे उपयुक्त विकल्प का चयन कीजिए।

a) उत्तरी मैदान घनी आबादी वाले भौगोलिक प्रभाग हैं।

b) मैदानी इलाकों में पर्याप्त जल आपूर्ति और अनुकूल जलवायु युक्त समृद्ध मिट्टी का आवरण है, यह कृषि की दृष्टि से भारत का एक उत्पादक हिस्सा है।

Ans ☒ 1. a और b दोनों सही हैं

☒ 2. केवल a सही है

☒ 3. केवल b सही है

☒ 4. a और b दोनों गलत हैं

Question ID : 264330179019

Option 1 ID : 264330702081

Option 2 ID : 264330702079

Option 3 ID : 264330702080

Option 4 ID : 264330702082

Status : Answered

Chosen Option : 1

Q.37 ऐतिहासिक असमाई मंदिर अफगानिस्तान के _____ में स्थित है।

Ans ☒ 1. फैजाबाद

☒ 2. कंधार

☒ 3. काबुल

☒ 4. गजनी

Question ID : 264330119831

Option 1 ID : 264330469601

Option 2 ID : 264330469600

Option 3 ID : 264330469599

Option 4 ID : 264330469602

Status : Not Attempted and
Marked For Review

Chosen Option : --

Q.38 भारत के किस राज्य में, झूम खेती को पामलू के नाम से जाना जाता है?

Ans ☒ 1. आंध्र प्रदेश

☒ 2. ओडिशा

☒ 3. मध्य प्रदेश

☒ 4. मणिपुर

Question ID : 264330173600

Option 1 ID : 264330680879

Option 2 ID : 264330680882

Option 3 ID : 264330680880

Option 4 ID : 264330680881

Status : Answered

Chosen Option : 4

Q.39 कराटे में, फाइट तब शुरू होती है जब रेफरी चिल्लाकर " _____ " बोलता है।

Ans ☒ 1. शॉबू हाजिमे! (Shobu Hajime!)

☐ 2. यैम (Yame)

☐ 3. कैज़न (Kaizen)

☐ 4. युको (Yuko)

Question ID : 264330113777

Option 1 ID : 264330447193

Option 2 ID : 264330447194

Option 3 ID : 264330447195

Option 4 ID : 264330447196

Status : **Not Attempted and
Marked For Review**

Chosen Option : --

Q.40 किस प्रकार की चट्टानों के निर्माण के लिए गलित अवस्था और अति उच्च तापमान महत्वपूर्ण मानदंड हैं?

Ans ☐ 1. रूपांतरित चट्टान

☐ 2. अवसादी चट्टान

☒ 3. आग्नेय चट्टान

☐ 4. स्फैलेराइट अयस्क चट्टान

Question ID : 264330131817

Option 1 ID : 264330516369

Option 2 ID : 264330516368

Option 3 ID : 264330516367

Option 4 ID : 264330516370

Status : **Not Attempted and
Marked For Review**

Chosen Option : --

Q.41 उत्तर भारतीय मंदिर वास्तुकला के शीर्ष पर सपाट गोल (स्टोन-डिस्क) संरचना के लिए निम्नलिखित में से किस शब्द का उपयोग किया जाता है?

Ans ☐ 1. कलश (Kalasha)

☐ 2. अंतराल (Antarala)

☒ 3. अमलक (Amalaka)

☐ 4. शिखर (Shikhara)

Question ID : 264330165331

Option 1 ID : 264330648403

Option 2 ID : 264330648405

Option 3 ID : 264330648406

Option 4 ID : 264330648404

Status : **Not Attempted and
Marked For Review**

Chosen Option : --

Q.42 होली के त्योहार के संबंध में निम्नलिखित में से कौन सा/से कथन सही है/हैं?

- A. होली से एक रात पहले, होलिका दहन होता है और लोग आग की परिक्रमा करते हैं, जो होलिका के अंत का प्रतीक है।
B. त्योहार शरद ऋतु की शुरुआत का प्रतीक है।
C. होली का त्योहार माघ मास (हिंदू कैलेंडर) में मनाया जाता है।

- Ans ☒ 1. केवल A और C
☒ 2. A, B और C
☒ 3. केवल A
☒ 4. केवल B और C

Question ID : 264330119837

Option 1 ID : 264330469626

Option 2 ID : 264330469623

Option 3 ID : 264330469625

Option 4 ID : 264330469624

Status : Answered

Chosen Option : 2

Q.43 100 m रिले रेस में कितने एथलीटों को एक रेस पूरी करनी होती है?

- Ans ☒ 1. 2
☒ 2. 3
☒ 3. 6
☒ 4. 4

Question ID : 264330118483

Option 1 ID : 264330465333

Option 2 ID : 264330465334

Option 3 ID : 264330465336

Option 4 ID : 264330465335

Status : Not Attempted and Marked For Review

Chosen Option : --

Q.44 भारत की आर्थिक स्थिरता या साख को खतरा होने के आधार पर किस प्रकार का आपातकाल लगाया जाता है?

- Ans ☒ 1. राष्ट्रीय आपातकाल
☒ 2. वित्तीय आपातकाल
☒ 3. राष्ट्रपति शासन
☒ 4. आंतरिक आपातकाल

Question ID : 264330173473

Option 1 ID : 264330680371

Option 2 ID : 264330680373

Option 3 ID : 264330680372

Option 4 ID : 264330680374

Status : Answered

Chosen Option : 2

Q.45 हिंदू मत में अस्पृश्यता बनी रहने के कारण निराश होकर बी.आर. अम्बेडकर _____ में परिवर्तित हो गए।

- Ans
- ☒ 1. इस्लाम
 - ☒ 2. बौद्ध धर्म
 - ☒ 3. जैन धर्म
 - ☒ 4. ईसाई धर्म

Question ID : 264330119017
Option 1 ID : 264330466726
Option 2 ID : 264330466725
Option 3 ID : 264330466724
Option 4 ID : 264330466723
Status : Answered
Chosen Option : 2

Q.46 1991 में भुगतान संतुलन संकट का समाधान करने के लिए, भारतीय रुपये का विदेशी मुद्राओं के मुकाबले _____ किया गया था।

- Ans
- ☒ 1. अधोमूल्यन
 - ☒ 2. अवमूल्यन
 - ☒ 3. अधिमूल्यन
 - ☒ 4. मूल्यहास

Question ID : 264330111594
Option 1 ID : 264330438464
Option 2 ID : 264330438463
Option 3 ID : 264330438462
Option 4 ID : 264330438461
Status : Answered
Chosen Option : 2

Q.47 दिल्ली सल्तनत की पहली महिला सुल्तान, रज़िया सुल्तान निम्नलिखित में से किसकी पुत्री थी?

- Ans
- ☒ 1. मुहम्मद तुगलक
 - ☒ 2. मुहम्मद गोरी
 - ☒ 3. कुतुबुद्दीन ऐबक
 - ☒ 4. शमसुद्दीन इल्तुतमिश

Question ID : 264330114079
Option 1 ID : 264330448401
Option 2 ID : 264330448403
Option 3 ID : 264330448404
Option 4 ID : 264330448402
Status : Answered
Chosen Option : 4

Q.48 भारतीय संविधान का कौन-सा अनुच्छेद धार्मिक मामलों के प्रबंधन के अधिकार की गारंटी देता है?

- Ans
- ☒ 1. अनुच्छेद 26
 - ☒ 2. अनुच्छेद 28
 - ☒ 3. अनुच्छेद 25
 - ☒ 4. अनुच्छेद 27

Question ID : 264330114490
Option 1 ID : 264330450046
Option 2 ID : 264330450048
Option 3 ID : 264330450045
Option 4 ID : 264330450047
Status : Answered
Chosen Option : 3

Q.49 एमएस सुब्बुलक्ष्मी को किस वर्ष भारत रत्न से सम्मानित किया गया था?

Ans ☒ 1. 1995

☒ 2. 1998

☒ 3. 1996

☒ 4. 1997

Question ID : 264330116422

Option 1 ID : 264330457773

Option 2 ID : 264330457776

Option 3 ID : 264330457774

Option 4 ID : 264330457775

Status : Answered

Chosen Option : 3

Q.50 भारत में, मौसमी बेरोजगारी मुख्यतः किस क्षेत्र से संबंधित है?

Ans ☒ 1. भूतल परिवहन

☒ 2. कृषि

☒ 3. खनन उद्योग

☒ 4. अंतरिक्ष और तकनीकी

Question ID : 264330183051

Option 1 ID : 264330717937

Option 2 ID : 264330717936

Option 3 ID : 264330717938

Option 4 ID : 264330717939

Status : Answered

Chosen Option : 2

Section : Reasoning

Q.1 उस विकल्प का चयन करें जो चौथी संख्या से उसी प्रकार संबंधित है, जिस प्रकार से पहली संख्या दूसरी संख्या से संबंधित है और पांचवीं संख्या छठी संख्या से संबंधित है।

30 : 68 :: ? : 222 :: 10 : 30

Ans ☒ 1. 130

☒ 2. 125

☒ 3. 150

☒ 4. 149

Question ID : 26433051993

Option 1 ID : 264330203275

Option 2 ID : 264330203274

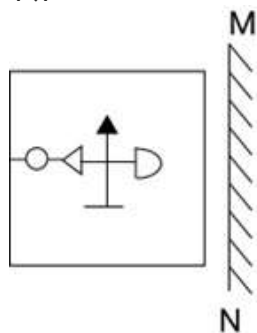
Option 3 ID : 264330203276

Option 4 ID : 264330203277

Status : Answered

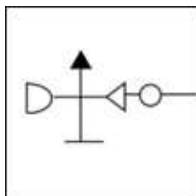
Chosen Option : 1

Q.2 दर्पण को नीचे चित्र के अनुसार 'MN' पर रखे जाने पर दिए गए संयोजन के सही दर्पण प्रतिबिंब का चयन करें।

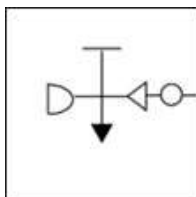


Ans

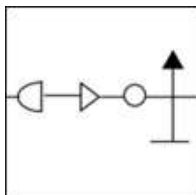
✗ 1.



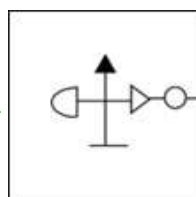
✗ 2.



✗ 3.



✓ 4.



Question ID : 264330130772

Option 1 ID : 264330512199

Option 2 ID : 264330512202

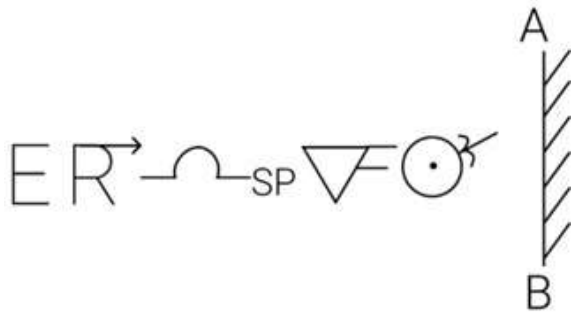
Option 3 ID : 264330512200

Option 4 ID : 264330512201

Status : Answered

Chosen Option : 4

Q.3 दर्पण को चित्र में दिखाए अनुसार 'AB' पर रखे जाने पर दी गई आकृति के सही दर्पण प्रतिबिम्ब का चयन करें।



Ans

- ✓ 1.
- ✗ 2.
- ✗ 3.
- ✗ 4.

Question ID : 264330114697

Option 1 ID : 264330450875

Option 2 ID : 264330450873

Option 3 ID : 264330450874

Option 4 ID : 264330450876

Status : Answered

Chosen Option : 1

Q.4 दर्पण को नीचे दिए गए चित्र के अनुसार MN पर रखे जाने पर दी गई आकृति का दर्पण में निर्मित सही प्रतिबिम्ब चयनित कीजिए।

SAH7Bkv
M _____ N

Ans

- ✗ 1.
- ✗ 2.
- ✓ 3.
- ✗ 4.

Question ID : 26433080787

Option 1 ID : 264330317081

Option 2 ID : 264330317084

Option 3 ID : 264330317082

Option 4 ID : 264330317083

Status : Answered

Chosen Option : 3

Q.5 दिए गए समीकरण में * चिह्नों को क्रमिक रूप से बदलने और समीकरण को संतुलित करने के लिए निम्नलिखित विकल्पों में से गणितीय चिह्नों के सही संयोजन का चयन कीजिए।
 $111 * 87 * 78 * 3 * 25 * 2$

- Ans
- ☒ 1. $- + + \times =$
 - ☒ 2. $- + = \times +$
 - ☒ 3. $- + + = \times$
 - ☒ 4. $- + + \times =$

Question ID : 26433085720

Option 1 ID : 264330336582

Option 2 ID : 264330336584

Option 3 ID : 264330336583

Option 4 ID : 264330336581

Status : Answered

Chosen Option : 3

Q.6 उस शब्द-युग्म का चयन कीजिए जिसके शब्दों के बीच वही संबंध है, जो संबंध नीचे दिए गए शब्द-युग्म के शब्दों के बीच है।
(शब्दों को अंग्रेजी/हिंदी के अर्थपूर्ण शब्दों के रूप में माना जाना चाहिए और ये शब्द, अक्षरों की संख्या/ व्यंजनों/स्वरों की संख्या के आधार पर एक-दूसरे से संबंधित नहीं होने चाहिए।)
वानर : चतुर

- Ans
- ☒ 1. शेर : लोमचर्म
 - ☒ 2. त्वचा : पुरुष
 - ☒ 3. रीछ : टोही
 - ☒ 4. वृक्ष : पत्ते

Question ID : 26433053234

Option 1 ID : 264330208238

Option 2 ID : 264330208240

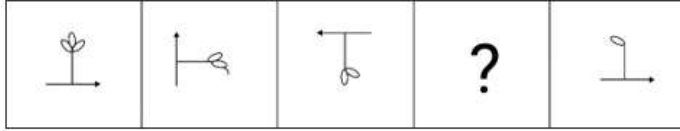
Option 3 ID : 264330208239

Option 4 ID : 264330208241

Status : Answered

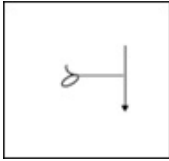
Chosen Option : 3

Q.7 दिए गए विकल्पों में से उस आकृति का चयन करें जो निम्नलिखित श्रृंखला में प्रश्न चिह्न (?) को प्रतिस्थापित कर सकती है।

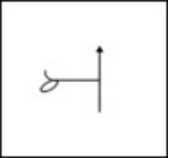


Ans

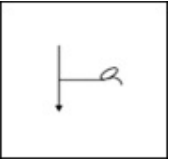
✓ 1.



✗ 2.



✗ 3.



✗ 4.



Question ID : 264330110537

Option 1 ID : 264330434428

Option 2 ID : 264330434425

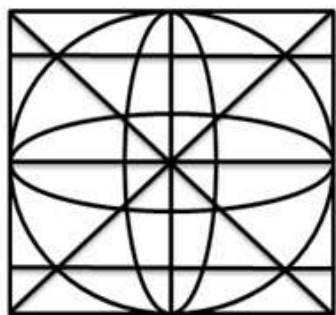
Option 3 ID : 264330434427

Option 4 ID : 264330434426

Status : Answered

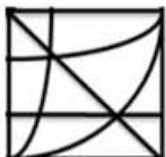
Chosen Option : 1

Q.8 विकल्पों में से उस आकृति का चयन करें, जो दी गई आकृति में सन्निहित है (घुमाने की अनुमति नहीं है)।

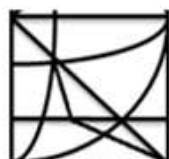


Ans

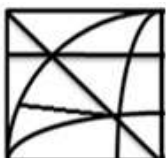
✓ 1.



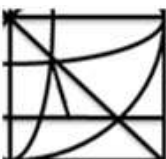
✗ 2.



✗ 3.



✗ 4.



Question ID : 264330114396

Option 1 ID : 264330449671

Option 2 ID : 264330449670

Option 3 ID : 264330449672

Option 4 ID : 264330449669

Status : Not Attempted and
Marked For Review

Chosen Option : --

Q.9 नीचे तीन कथन और उसके बाद तीन निष्कर्ष 1, 2 और 3 दिए गए हैं। दिए गए कथनों को सत्य मानते हुए, भले ही वे सर्वज्ञात तथ्यों से भिन्न प्रतीत होते हों, निर्धारित कीजिए कि कौन-सा/से निष्कर्ष कथनों का तर्कसंगत रूप से अनुसरण करता/ते है/हैं।

कथन:

1. कुछ ताले चाबियाँ हैं।
2. कुछ चाबियाँ ब्लेड हैं।
3. कोई ब्लेड गोंद नहीं है।

निष्कर्ष:

1. कोई गोंद चाबी नहीं है।
2. कोई ब्लेड ताला नहीं है।
3. कुछ चाबियाँ ताले हैं।

Ans

- ✔ 1. केवल निष्कर्ष 3 अनुसरण करता है
- ✗ 2. केवल निष्कर्ष 1 और 2 अनुसरण करते हैं
- ✗ 3. केवल निष्कर्ष 2 और 3 अनुसरण करते हैं
- ✗ 4. केवल निष्कर्ष 1 और 3 अनुसरण करते हैं

Question ID : 264330112572

Option 1 ID : 264330442374

Option 2 ID : 264330442373

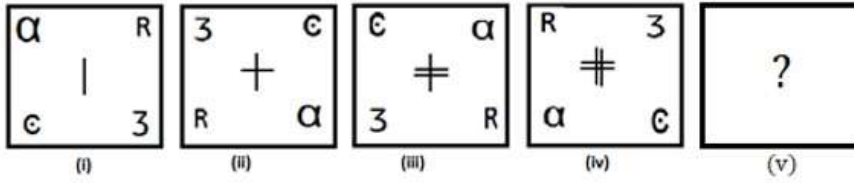
Option 3 ID : 264330442375

Option 4 ID : 264330442376

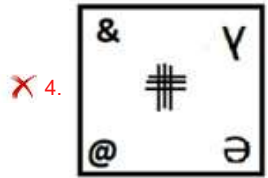
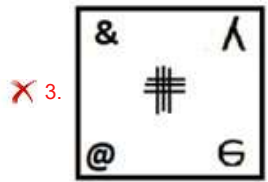
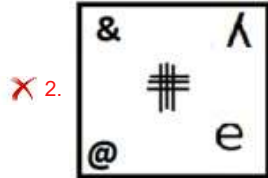
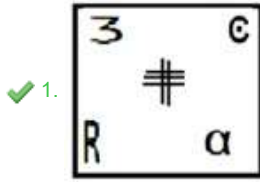
Status : Answered

Chosen Option : 4

Q.10 नीचे दिए गए विकल्पों में से उस आकृति का चयन करें, जो दी गई श्रृंखला में प्रश्न-चिह्न (?) के स्थान पर आएगी?



Ans



Question ID : 264330106549

Option 1 ID : 264330418500

Option 2 ID : 264330418499

Option 3 ID : 264330418498

Option 4 ID : 264330418497

Status : Answered

Chosen Option : 1

Q.11 निम्नलिखित में से कौन सा पद (अक्षर-समूह) दी गई श्रृंखला में प्रश्न चिह्न (?) के स्थान पर आएगा?
YUN, URL, QOJ, ?, IIF

- Ans
- ✗ 1. NKI
 - ✗ 2. MKI
 - ✗ 3. NLH
 - ✓ 4. MLH

Question ID : 264330102181

Option 1 ID : 264330401191

Option 2 ID : 264330401190

Option 3 ID : 264330401189

Option 4 ID : 264330401192

Status : Answered

Chosen Option : 4

Q.12 दिए गए विकल्पों में से उस संख्या का चयन कीजिए जो निम्नलिखित श्रृंखला में प्रश्न चिह्न (?) के स्थान पर आ सकती है।

1, 4, 10, 22, 46, ?

Ans ☒ 1. 45

☒ 2. 94

☒ 3. 24

☒ 4. 32

Question ID : 264330109758

Option 1 ID : 264330431311

Option 2 ID : 264330431309

Option 3 ID : 264330431312

Option 4 ID : 264330431310

Status : Answered

Chosen Option : 2

Q.13 जब दर्पण को रेखा PQ पर रखा जाता है, तो दी गई आकृति का सही दर्पण प्रतिबिम्ब ज्ञात कीजिए।

QWERTY#!@\$ 

Ans

☒ 1. \$@#!#YTRƎWQ

☒ 2. \$@#!YTRƎWQ

☒ 3. \$@#!#YTRƎMƆ

☒ 4. \$@#!#TYRƎWQ

Question ID : 26433082032

Option 1 ID : 264330321962

Option 2 ID : 264330321961

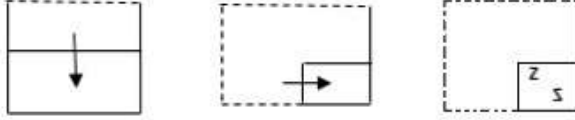
Option 3 ID : 264330321964

Option 4 ID : 264330321963

Status : Answered

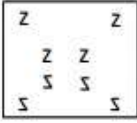
Chosen Option : 1

Q.14 एक कागज को नीचे दर्शाए अनुसार मोड़ा और काटा जाता है। खोले जाने पर यह कैसा दिखाई देगा?

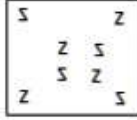


Ans


✗ 1.



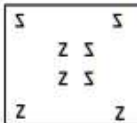
✓ 2.



✗ 3.



✗ 4.



Question ID : 264330112594

Option 1 ID : 264330442462

Option 2 ID : 264330442464

Option 3 ID : 264330442463

Option 4 ID : 264330442461

Status : Answered

Chosen Option : 2

Q.15 7 मित्र अभय, बाला, चान, देव, इमरान, फैनी और गैरी एक वृत्ताकार मेज के परितः बैठे हुए हैं। उनमें से केवल पांच मेज के केंद्र की ओर मुख करके बैठे हैं। चान, देव के बाएं तीसरे स्थान पर बैठा है और दोनों केंद्र की ओर मुख करके बैठे हुए हैं। इमरान न तो चान और न ही देव का निकटतम पड़ोसी है। वह व्यक्ति जो देव और फैनी के ठीक बीच में बैठा है, केंद्र की ओर अभिमुख नहीं है। गैरी, अभय के दाएं तीसरे स्थान पर बैठा है और वह केंद्र की ओर मुख करके बैठा है। बाला के निकटतम पड़ोसियों में से एक केंद्र की ओर मुख करके नहीं बैठा है। निम्न में से कौन केंद्र की ओर मुख करके नहीं बैठा है?

Ans

✗ 1. चान

✗ 2. बाला

✗ 3. फैनी

✓ 4. इमरान

Question ID : 26433085629

Option 1 ID : 264330336218

Option 2 ID : 264330336217


Option 3 ID : 264330336219

Option 4 ID : 264330336220

Status : Not Attempted and Marked For Review

Chosen Option : --

Q.16 एक पासे के अलग-अलग फलकों पर छह अक्षर J, K, L, M, N और O लिखे गए हैं। इस पासे की तीन अलग-अलग स्थितियां चित्र में दर्शाई गयी हैं। उस अक्षर का चयन करें जो N वाले फलक के विपरीत फलक पर होगा।



- Ans
- ☒ 1. M
 - ☒ 2. O
 - ☒ 3. J
 - ☒ 4. L

Question ID : 264330121789

Option 1 ID : 264330477329

Option 2 ID : 264330477328

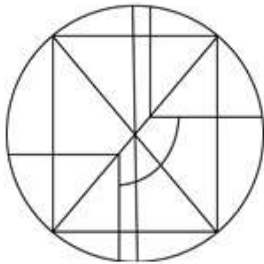
Option 3 ID : 264330477327

Option 4 ID : 264330477330

Status : Answered

Chosen Option : 4

Q.17 उस विकल्प आकृति का चयन करें, जो दी गई आकृति में सन्निहित है (घुमाने की अनुमति नहीं है)।



Ans

- ☒ 1.
- ☒ 2.
- ☒ 3.
- ☒ 4.

Question ID : 264330106419

Option 1 ID : 264330417979

Option 2 ID : 264330417980

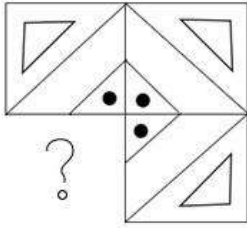
Option 3 ID : 264330417978

Option 4 ID : 264330417977

Status : Answered

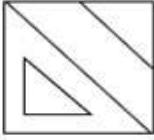
Chosen Option : 4

Q.18 विकल्पों में से उस आकृति का चयन कीजिए, जो प्रश्न-चिह्न(?) को प्रतिस्थापित कर सकती है और दिए गए पैटर्न को पूरा कर सकती है।

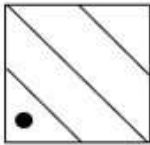


Ans

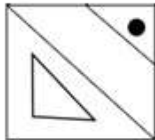
✗ 1.



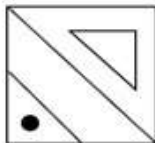
✗ 2.



✓ 3.



✗ 4.



Question ID : 26433083130
Option 1 ID : 264330326354
Option 2 ID : 264330326353
Option 3 ID : 264330326355
Option 4 ID : 264330326356
Status : Answered
Chosen Option : 3

Q.19 एक निश्चित कूट भाषा में 'LENGTH' को 'QVOTIS' के रूप में लिखा जाता है और 'REGARD' को 'KVVZKW' के रूप में लिखा जाता है। उसी भाषा में 'NATURE' को किस प्रकार से लिखा जाएगा?

Ans ✓ 1. OZIFKV

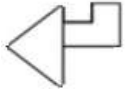
✗ 2. OFJLPE

✗ 3. HBERPX

✗ 4. HPELSH

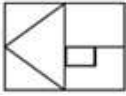
Question ID : 26433082947
Option 1 ID : 264330325623
Option 2 ID : 264330325621
Option 3 ID : 264330325624
Option 4 ID : 264330325622
Status : Answered
Chosen Option : 1

Q.20 उस विकल्प का चयन करें जिसमें दी गई आकृति सन्निहित है (घुमाने की अनुमति नहीं है)।



Ans

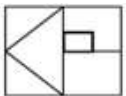
✗ 1.



✓ 2.



✗ 3.



✗ 4.



Question ID : 264330101160

Option 1 ID : 264330397185

Option 2 ID : 264330397187


Option 3 ID : 264330397186

Option 4 ID : 264330397188

Status : Answered

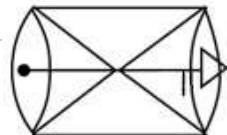
Chosen Option : 2

Q.21 उस विकल्प का चयन करें जिसमें दी गई आकृति अंतर्निहित है (घुमाने की अनुमति नहीं है)।

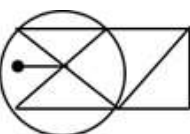


Ans

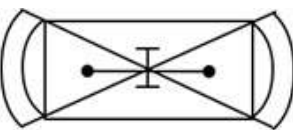
✓ 1.



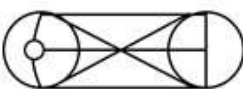
✗ 2.



✗ 3.



✗ 4.



Question ID : 264330116958

Option 1 ID : 264330459915

Option 2 ID : 264330459914

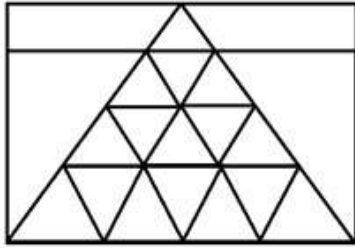
Option 3 ID : 264330459913

Option 4 ID : 264330459916

Status : Answered

Chosen Option : 1

Q.22 नीचे दी गई आकृति में कितने त्रिभुज हैं?



- Ans
- ☒ 1. 27
 - ☒ 2. 31
 - ☒ 3. 28
 - ☒ 4. 29

Question ID : 26433069253
 Option 1 ID : 264330271524
 Option 2 ID : 264330271527
 Option 3 ID : 264330271526
 Option 4 ID : 264330271525
 Status : Answered
 Chosen Option : 3

Q.23 यदि श्रृंखला को जारी रखना हो, तो प्रश्न चिह्न (?) के स्थान पर कौन-सी आकृति आनी चाहिए?

9	↑	↑	S	3	↑	↑	9	
D	I	S	K	3	9	I	D	D
3		O	O	K	K	I	I	S
								?

Ans

- ☒ 1.

9	D
↑	I
S	O
- ☒ 2.

K	↑
D	I
S	O
- ☒ 3.

I	↑
D	K
S	9
- ☒ 4.

I	S
↑	O
K	D

Question ID : 264330130799
 Option 1 ID : 264330512309
 Option 2 ID : 264330512310
 Option 3 ID : 264330512308
 Option 4 ID : 264330512307
 Status : Not Attempted and Marked For Review
 Chosen Option : --

Q.24 दिए गए समीकरण को सही करने के लिए निम्नलिखित में से किन दो गणितीय चिह्नों को आपस में बदला जाना चाहिए?

$$76 - 8 \times 97 + 32 \div 8 = 515$$

- Ans
- ☒ 1. + और -
 - ☒ 2. = और +
 - ☒ 3. \times और -
 - ☒ 4. + और \times

Question ID : 26433085732

Option 1 ID : 264330336631

Option 2 ID : 264330336629

Option 3 ID : 264330336630

Option 4 ID : 264330336632

Status : Answered

Chosen Option : 1

Q.25 उस समुच्चय का चयन करें जिसमें संख्याएँ उसी प्रकार संबंधित हैं जिस प्रकार निम्नलिखित समुच्चयों की संख्याएँ संबंधित हैं।

(नोट: संख्याओं को उनके घटक अंकों में विभाजित किए बिना, पूर्ण संख्याओं पर गणितीय संक्रियाएँ की जानी चाहिए। उदाहरण के लिए 13 के मामले में - गणितीय संक्रियाएँ जैसे कि 13 में जोड़ना/घटाना/गुणा करना आदि केवल 13 पर की जा सकती हैं। 13 को 1 और 3 में विभाजित करने और फिर 1 और 3 पर गणितीय संक्रियाएँ करने की अनुमति नहीं है।)

(32, 8, 72)
(56, 14, 126)

- Ans
- ☒ 1. (90, 23, 207)
 - ☒ 2. (92, 23, 207)
 - ☒ 3. (92, 23, 209)
 - ☒ 4. (92, 21, 207)

Question ID : 264330175037

Option 1 ID : 264330686523

Option 2 ID : 264330686526

Option 3 ID : 264330686525

Option 4 ID : 264330686524

Status : Answered

Chosen Option : 2

Section : Numerical Ability

Q.1 8% वार्षिक दर से साधारण ब्याज पर निवेश की गई धनराशि को अपने मान (मूल्य) में 40% की वृद्धि करने में कितना समय (वर्ष में) लगेगा?

- Ans
- ☒ 1. 6
 - ☒ 2. 7
 - ☒ 3. 3
 - ☒ 4. 5

Question ID : 264330119341

Option 1 ID : 264330467653

Option 2 ID : 264330467654

Option 3 ID : 264330467651

Option 4 ID : 264330467652

Status : Answered

Chosen Option : 4

Q.2 आय और व्यय का अनुपात 9:5 है। आय में 40% की वृद्धि हो जाती है और व्यय में 10% की कमी हो जाती है। यदि प्रारंभिक आय ₹45,000 है तो अंतिम बचत (₹ में) क्या है?

- Ans ☒ 1. 41,000
☒ 2. 40,000
☒ 3. 40,500
☒ 4. 35,000

Question ID : 264330129403

Option 1 ID : 264330506981

Option 2 ID : 264330506979

Option 3 ID : 264330506980

Option 4 ID : 264330506978

Status : Answered

Chosen Option : 3

Q.3 कितने वर्षों में ₹7,81,250 की धनराशि 4% चक्रवृद्धि ब्याज की दर पर ₹9,13,952 हो जाएगी?

- Ans ☒ 1. 3
☒ 2. 4
☒ 3. 3.5
☒ 4. 4.5

Question ID : 264330104260

Option 1 ID : 264330409341

Option 2 ID : 264330409342

Option 3 ID : 264330409343

Option 4 ID : 264330409344

Status : Not Attempted and
Marked For Review

Chosen Option : --

Q.4 एक स्कीम के तहत, एक विक्रेता अंकित मूल्य पर 20% की छूट पर एक वस्तु बेच रहा है; इसके अलावा, वह ₹170 की नकद छूट दे रहा है। अब वह 10% का लाभ अर्जित कर रहा है। यदि वस्तु का क्रय मूल्य ₹1,300 है, तो इसका अंकित मूल्य निर्धारित करें।

- Ans ☒ 1. ₹500
☒ 2. ₹1,000
☒ 3. ₹1,500
☒ 4. ₹2,000

Question ID : 264330183841

Option 1 ID : 264330721040

Option 2 ID : 264330721041

Option 3 ID : 264330721042

Option 4 ID : 264330721043

Status : Answered

Chosen Option : 4

Q.5 $4\frac{2}{3} + 3\frac{1}{5} - 1\frac{1}{5}$ का मान ज्ञात करें।

Ans

✗ 1. $5\frac{1}{3}$

✓ 2. $6\frac{2}{3}$

✗ 3. $5\frac{1}{2}$

✗ 4. $6\frac{1}{4}$

Question ID : 264330119326

Option 1 ID : 264330467591

Option 2 ID : 264330467593

Option 3 ID : 264330467594

Option 4 ID : 264330467592

Status : Answered

Chosen Option : 2

Q.6 यदि एक त्रिभुज का आधार L cm है, ऊँचाई $(4L+7)$ cm है और आधार एवं ऊँचाई का योग 37 cm है, तो त्रिभुज का क्षेत्रफल ज्ञात करें।

Ans

✗ 1. 75 cm^2

✗ 2. 105 cm^2

✗ 3. 82 cm^2

✓ 4. 93 cm^2

Question ID : 264330111487

Option 1 ID : 264330438033

Option 2 ID : 264330438036

Option 3 ID : 264330438034

Option 4 ID : 264330438035

Status : Answered

Chosen Option : 2

Q.7 एक वस्तु के विक्रय मूल्य में ₹111 की वृद्धि होने पर 25% की हानि 12% के लाभ में परिवर्तित हो जाती है। वस्तु का क्रय मूल्य ज्ञात कीजिए।

Ans

✓ 1. ₹300

✗ 2. ₹305

✗ 3. ₹290

✗ 4. ₹295

Question ID : 264330119927

Option 1 ID : 264330469985

Option 2 ID : 264330469986

Option 3 ID : 264330469983

Option 4 ID : 264330469984

Status : Answered

Chosen Option : 2

Q.8 दो संख्याओं का अनुपात 16:19 है और उनका लघुत्तम समापवर्त्य (LCM) 59280 है। दोनों संख्याएँ ज्ञात करें।

- Ans ☒ 1. 5345 और 2298
☒ 2. 3175 और 2123
☒ 3. 3750 और 2130
☒ 4. 3120 और 3705

Question ID : 264330104336
Option 1 ID : 264330409645
Option 2 ID : 264330409646
Option 3 ID : 264330409647
Option 4 ID : 264330409648
Status : Answered
Chosen Option : 4

Q.9 दी गई संख्याओं का औसत ज्ञात कीजिए।
3, 7, 9, -5, 0.25, -3.75

- Ans ☒ 1. 2.625
☒ 2. 4.67
☒ 3. 1.75
☒ 4. 10.5

Question ID : 264330112203
Option 1 ID : 264330440898
Option 2 ID : 264330440899
Option 3 ID : 264330440897
Option 4 ID : 264330440900
Status : Answered
Chosen Option : 3

Q.10 यदि 42 श्रमिक 5 दिनों में ₹4,080 कमाते हैं, तो 48 श्रमिक 14 दिनों में कितना कमाएंगे?

- Ans ☒ 1. ₹13,198
☒ 2. ₹13,056
☒ 3. ₹6,528
☒ 4. ₹6,128

Question ID : 264330182583
Option 1 ID : 264330716125
Option 2 ID : 264330716126
Option 3 ID : 264330716124
Option 4 ID : 264330716123
Status : Answered
Chosen Option : 2

Q.11 यदि एक समबाहु त्रिभुज की प्रत्येक भुजा में 80% की वृद्धि कर दी जाए, तो क्षेत्रफल में कितने प्रतिशत की वृद्धि होगी?

- Ans
- ☐ 1. 120%
 - ☐ 2. 240%
 - ☒ 3. 224%
 - ☐ 4. 238%

Question ID : 264330119358

Option 1 ID : 264330467719

Option 2 ID : 264330467720

Option 3 ID : 264330467721

Option 4 ID : 264330467722

Status : Answered

Chosen Option : 2

Q.12 एक नाव स्थिर जल में 13 km/h की चाल से चल सकती है। यदि धारा की चाल 4 km/h है, तो धारा की प्रतिकूल दिशा में 63 km जाने में नाव को कितना समय लगेगा?

- Ans
- ☒ 1. 7 घंटे
 - ☐ 2. 5 घंटे
 - ☐ 3. 6 घंटे
 - ☐ 4. 9 घंटे

Question ID : 264330168934

Option 1 ID : 264330662540

Option 2 ID : 264330662541

Option 3 ID : 264330662539

Option 4 ID : 264330662542

Status : Answered

Chosen Option : 1

Q.13 एक आयत की लंबाई में 70% की वृद्धि की जाती है और इसकी चौड़ाई में 35% की कमी की जाती है। इसके क्षेत्रफल में निवल प्रतिशत वृद्धि कितनी है?

- Ans
- ☐ 1. 14%
 - ☐ 2. 35%
 - ☒ 3. 10.5%
 - ☐ 4. 17.5%

Question ID : 264330103517

Option 1 ID : 264330406375

Option 2 ID : 264330406374

Option 3 ID : 264330406376

Option 4 ID : 264330406373

Status : Answered

Chosen Option : 3

Q.14 निम्नलिखित अनुपातों का सही आरोही क्रम क्या है?

$$\frac{8}{15}, \frac{19}{20}, \frac{23}{60}, \frac{27}{35}$$

Ans

☐ 1. $\frac{23}{60} < \frac{8}{15} < \frac{19}{20} < \frac{27}{35}$

☒ 2. $\frac{23}{60} < \frac{8}{15} < \frac{27}{35} < \frac{19}{20}$

☐ 3. $\frac{23}{60} < \frac{27}{35} < \frac{8}{15} < \frac{19}{20}$

☐ 4. $\frac{8}{15} < \frac{23}{60} < \frac{27}{35} < \frac{19}{20}$

Question ID : 264330130672

Option 1 ID : 264330511799

Option 2 ID : 264330511800

Option 3 ID : 264330511802

Option 4 ID : 264330511801

Status : Answered

Chosen Option : 3

Q.15 $\frac{1 + 0.000027}{1 - 0.03 + 0.0009}$ का मान ज्ञात कीजिए।

Ans

☐ 1. 1.05

☐ 2. 1.08

☐ 3. 1.07

☒ 4. 1.03

Question ID : 264330106067

Option 1 ID : 264330416572

Option 2 ID : 264330416571

Option 3 ID : 264330416570

Option 4 ID : 264330416569

Status : Answered

Chosen Option : 4

Section : Computer Proficiency

Q.1 माइक्रोसॉफ्ट वर्ड 365 (Microsoft Word 365) में, किस लेआउट मोड में हम देख सकते हैं कि प्रिंटेड पेज पर टेक्स्ट और ग्राफिक्स किस प्रकार दिखाई देंगे?

Ans

☒ 1. प्रिंट लेआउट (Print Layout)

☐ 2. क्विक लेआउट (Quick Layout)

☐ 3. वेब लेआउट (Web Layout)

☐ 4. नॉर्मल लेआउट (Normal Layout)

Question ID : 264330182074

Option 1 ID : 264330714135

Option 2 ID : 264330714138

Option 3 ID : 264330714136

Option 4 ID : 264330714137

Status : Answered

Chosen Option : 1

Q.2 निम्नलिखित में से कौन-सा इंटरनेट प्रोटोकॉल किसी नेटवर्क पर उपकरणों को यूनिक आईपी (IP) एड्रेस निर्दिष्ट करने और यह सुनिश्चित करने के लिए उत्तरदायी होता है कि वे एक-दूसरे के साथ संचार कर सकें।

- Ans
- ☒ 1. TCP (ट्रांसमिशन कंट्रोल प्रोटोकॉल)
 - ☒ 2. HTTP (हाइपरटेक्स्ट ट्रांसफर प्रोटोकॉल)
 - ☒ 3. DHCP (डायनामिक होस्ट कॉन्फिगरेशन प्रोटोकॉल)
 - ☒ 4. DNS (डोमेन नेम सिस्टम)

Question ID : 264330173298
Option 1 ID : 264330679673
Option 2 ID : 264330679674
Option 3 ID : 264330679672
Option 4 ID : 264330679671
Status : Answered
Chosen Option : 2

Q.3 वर्ड प्रोसेसिंग पैकेज खोलने के लिए निम्नलिखित में से किस विधि का उपयोग किया जाता है?

- Ans
- ☒ 1. Start->All Programs->Word Processor
 - ☒ 2. File-> All Programs->Word Processor
 - ☒ 3. Start->All Programs->Microsoft Word
 - ☒ 4. File-> All Programs->Microsoft Word

Question ID : 264330178292
Option 1 ID : 264330699226
Option 2 ID : 264330699225
Option 3 ID : 264330699224
Option 4 ID : 264330699223
Status : Answered
Chosen Option : 4

Q.4 निम्नलिखित में से कौन-सा विकल्प ईमेल मैसेज का घटक नहीं है?

- Ans
- ☒ 1. सब्जेक्ट (Subject)
 - ☒ 2. सीसी (Cc)
 - ☒ 3. टु (To)
 - ☒ 4. एनसीसी (Ncc)

Question ID : 264330182021
Option 1 ID : 264330713924
Option 2 ID : 264330713925
Option 3 ID : 264330713923
Option 4 ID : 264330713926
Status : Answered
Chosen Option : 4

Q.5 एमएस वर्ड 365 (MS Word 365) के निम्नलिखित में से किस फीचर से आप किसी डॉक्यूमेंट में किए गए, जोड़ना, हटाना और फॉर्मेटिंग संशोधन जैसे परिवर्तनों को ट्रैक और समीक्षा कर सकते हैं?

- Ans ☒ 1. ट्रैक चेंजेज़
- ☐ 2. स्पेलिंग एंड ग्रामर चेक
- ☐ 3. वर्जन हिस्ट्री
- ☐ 4. ऑटोसेव

Question ID : 264330173353

Option 1 ID : 264330679892

Option 2 ID : 264330679894

Option 3 ID : 264330679893

Option 4 ID : 264330679891

Status : Answered

Chosen Option : 1

Q.6 एमएस एक्सेल (MS Excel) स्प्रेडशीट में निम्नलिखित में से कौन-सा एक निरपेक्ष सेल संदर्भ (absolute cell reference) है?

- Ans ☐ 1. A\$1
- ☒ 2. \$A\$1
- ☐ 3. \$A1
- ☐ 4. A1

Question ID : 264330182114

Option 1 ID : 264330714297

Option 2 ID : 264330714296

Option 3 ID : 264330714298

Option 4 ID : 264330714295

Status : Answered

Chosen Option : 2

Q.7 एमएस एक्सेल 365 (MS Excel 365) में, दिनांक दर्ज करने के लिए निम्नलिखित में से कौन-सा सिंटेक्स सही है?

- Ans ☐ 1. =DATE(day,year,month)
- ☐ 2. =DATE(month,day,year)
- ☒ 3. =DATE(year,month,day)
- ☐ 4. =DATE(year,day,month)

Question ID : 264330176695

Option 1 ID : 264330692998

Option 2 ID : 264330692996

Option 3 ID : 264330692997

Option 4 ID : 264330692995

Status : Answered

Chosen Option : 3

Q.8 माइक्रोसॉफ्ट एक्सेल (Microsoft Excel) में, यदि आप वर्तमान में सेल D4 में हैं और एंटर की (Enter key) दबाते हैं, तो आप किस सेल में चले जाएंगे?

- Ans
- ☒ 1. सेल C4 में
 - ☒ 2. सेल D3 में
 - ☒ 3. सेल E4 में
 - ☒ 4. सेल D5 में

Question ID : 264330182044

Option 1 ID : 264330714016

Option 2 ID : 264330714017

Option 3 ID : 264330714018

Option 4 ID : 264330714015

Status : Answered

Chosen Option : 4

Q.9 एमएस वर्ड 365 (MS Word 365) में, शब्दों को कॉपी और पेस्ट करने के लिए कीबोर्ड शॉर्टकट्स के किस युग्म का उपयोग किया जाता है?

- Ans
- ☒ 1. Ctrl + C और Ctrl + A
 - ☒ 2. Ctrl + C और Ctrl + V
 - ☒ 3. Ctrl + C और Ctrl + S
 - ☒ 4. Ctrl + C और Ctrl + Z

Question ID : 264330182065

Option 1 ID : 264330714100

Option 2 ID : 264330714099

Option 3 ID : 264330714101

Option 4 ID : 264330714102

Status : Answered

Chosen Option : 2

Q.10 एमएस वर्ड 365 (MS Word 365) में डॉक्यूमेंट खोलने की शॉर्टकट कमांड क्या है?

- Ans
- ☒ 1. Ctrl + O
 - ☒ 2. Ctrl + B
 - ☒ 3. Ctrl + V
 - ☒ 4. Ctrl + W

Question ID : 264330171414

Option 1 ID : 264330672272

Option 2 ID : 264330672271

Option 3 ID : 264330672273

Option 4 ID : 264330672274

Status : Answered

Chosen Option : 1