

Constable Executive Male and Female in Delhi Police Examination 2023

Roll Number	
Candidate Name	
Venue Name	SANGWAN ACADEMY
Exam Date	23/11/2023
Exam Time	3:00 PM - 4:30 PM
Subject	Constable Executive Male and Female in Delhi Police Examination 2023

Section : General Knowledge

Q.1 भारत के संविधान का कौन सा अनुच्छेद सर्वोच्च न्यायालय को मौलिक अधिकारों के प्रवर्तन के लिए निर्देश या रिट जारी करने का अधिकार देता है?

- Ans
- ☒ 1. अनुच्छेद 31
 - ☒ 2. अनुच्छेद 29
 - ☒ 3. अनुच्छेद 32
 - ☒ 4. अनुच्छेद 30

Question ID : 264330130779
Option 1 ID : 264330512229
Option 2 ID : 264330512227
Option 3 ID : 264330512230
Option 4 ID : 264330512228
Status : Answered
Chosen Option : 3

Q.2 निम्नलिखित में से कौन सा जनजातीय नृत्य त्रिपुरा में मोग समुदाय द्वारा किया जाता है?

- Ans
- ☒ 1. वंगाला
 - ☒ 2. होजगिरि
 - ☒ 3. हय-हक
 - ☒ 4. संगराई

Question ID : 264330106194
Option 1 ID : 264330417077
Option 2 ID : 264330417080
Option 3 ID : 264330417079
Option 4 ID : 264330417078
Status : Answered
Chosen Option : 2

Q.3 'माई म्यूजिक, माई लाइफ' पुस्तक के लेखक प्रसिद्ध सितार वादक हैं। वह कौन हैं?

- Ans
- ☒ 1. जाकिर हुसैन
 - ☒ 2. बृज नारायण
 - ☒ 3. रवि शंकर
 - ☒ 4. हरि प्रसाद चौरसिया

Question ID : 264330112862
Option 1 ID : 264330443534
Option 2 ID : 264330443536
Option 3 ID : 264330443533
Option 4 ID : 264330443535
Status : Answered
Chosen Option : 1

Q.4 पंच महल निम्न में से किस शहर में स्थित है?

- Ans ☐ 1. जयपुर
☒ 2. फतेहपुर सीकरी
☐ 3. दिल्ली
☐ 4. अहमदाबाद

Question ID : 264330109317

Option 1 ID : 264330429545

Option 2 ID : 264330429546

Option 3 ID : 264330429548

Option 4 ID : 264330429547

Status : **Not Attempted and Marked For Review**

Chosen Option : --

Q.5 निम्नलिखित में से कौन-सा, भारत में पहली बार निजी और सार्वजनिक क्षेत्रों के लिए औद्योगिक गतिविधियों को आरक्षित करने का कारण बना?

- Ans ☒ 1. औद्योगिक नीति संकल्प, 1956
☐ 2. औद्योगिक नीति संकल्प, 1948
☐ 3. औद्योगिक नीति का वक्तव्य, 1945
☐ 4. उद्योग विकास और विनियमन अधिनियम, 1951

Question ID : 264330111748

Option 1 ID : 264330439080

Option 2 ID : 264330439078

Option 3 ID : 264330439077

Option 4 ID : 264330439079

Status : **Not Answered**

Chosen Option : --

Q.6 भारतीय संविधान का निम्नलिखित में से कौन-सा अनुच्छेद कहता है कि एक राज्य भारत के क्षेत्र के भीतर कानूनों की समान सुरक्षा से इनकार नहीं करेगा?

- Ans ☐ 1. अनुच्छेद 12
☒ 2. अनुच्छेद 14
☐ 3. अनुच्छेद 11
☐ 4. अनुच्छेद 13

Question ID : 264330110577

Option 1 ID : 264330434586

Option 2 ID : 264330434588

Option 3 ID : 264330434585

Option 4 ID : 264330434587

Status : **Answered**

Chosen Option : 3

Q.7 सूर्योदय स्मॉल फाइनेंस बैंक, भारतीय रिजर्व बैंक से 'लघु वित्त बैंक' का लाइसेंस प्राप्त करने वाली की कंपनी है।

- Ans
- ☒ 1. गुजरात
 - ☒ 2. मध्य प्रदेश
 - ☒ 3. आंध्र प्रदेश
 - ☒ 4. महाराष्ट्र

Question ID : 264330116493
Option 1 ID : 264330458059
Option 2 ID : 264330458057
Option 3 ID : 264330458060
Option 4 ID : 264330458058
Status : Answered
Chosen Option : 4

Q.8 What is used to make transparent soaps?

- Ans
- ☒ 1. Rosin
 - ☒ 2. Sodium chloride
 - ☒ 3. Sodium carbonate
 - ☒ 4. Ethanol

Question ID : 264330113343
Option 1 ID : 264330445460
Option 2 ID : 264330445457
Option 3 ID : 264330445458
Option 4 ID : 264330445459
Status : Answered
Chosen Option : 4

Q.9 वर्ष 1829 में, गवर्नर-जनरल _____ द्वारा सती प्रथा को अवैध और दंडनीय बना दिया गया था।

- Ans
- ☒ 1. जॉन शोर
 - ☒ 2. विलियम बेंटिक
 - ☒ 3. हेनरी हार्डिंग
 - ☒ 4. चार्ल्स मेटकाफ

Question ID : 264330117688
Option 1 ID : 264330462748
Option 2 ID : 264330462747
Option 3 ID : 264330462750
Option 4 ID : 264330462749
Status : Answered
Chosen Option : 2

Q.10 बिन्दुसार निम्नलिखित में से किस मौर्य सम्राट का उत्तराधिकारी था?

- Ans
- ☒ 1. देववर्मन
 - ☒ 2. चन्द्रगुप्त मौर्य
 - ☒ 3. शालिशुक
 - ☒ 4. अशोक

Question ID : 264330182687
Option 1 ID : 264330716520
Option 2 ID : 264330716521
Option 3 ID : 264330716519
Option 4 ID : 264330716522
Status : Answered
Chosen Option : 4

Q.11 देव समाज की स्थापना कब हुई थी?

Ans ☒ 1. 1887

☒ 2. 1860

☒ 3. 1850

☒ 4. 1902

Question ID : 264330114058

Option 1 ID : 264330448320

Option 2 ID : 264330448319

Option 3 ID : 264330448317

Option 4 ID : 264330448318

Status : Not Answered

Chosen Option : --

Q.12 छत्तीसगढ़, झारखंड, मध्य प्रदेश और ओडिशा में जनजातीय कल्याण मंत्रियों को _____ द्वारा नियुक्त किया जाता है।

Ans ☒ 1. राज्यपाल

☒ 2. आदिवासी विकास परिषद

☒ 3. मुख्यमंत्री

☒ 4. प्रधानमंत्री

Question ID : 264330120189

Option 1 ID : 264330471011

Option 2 ID : 264330471014

Option 3 ID : 264330471012

Option 4 ID : 264330471013

Status : Answered

Chosen Option : 1

Q.13 ऊष्मा ऊर्जा के अनुप्रयोग से बर्फ-टुकड़े के परमाणु कंपन करने लगते हैं। एक बिंदु पर, परमाणुओं में इतनी अधिक ऊर्जा होती है कि वे अपनी स्थिर स्थिति से अलग हो जाते हैं और स्थिर संरचना खो देते हैं। इसे हम जल निर्माण के रूप में देख सकते हैं। इस विशेष बिंदु को क्या कहा जाता है?

Ans ☒ 1. मृदुकरणांक

☒ 2. अपघटन ताप

☒ 3. गलनांक

☒ 4. कथनांक

Question ID : 264330177022

Option 1 ID : 264330694285

Option 2 ID : 264330694286

Option 3 ID : 264330694284

Option 4 ID : 264330694283

Status : Not Answered

Chosen Option : --

Q.14 निम्नलिखित में से किस वर्ष गांधी-इरविन समझौते पर हस्ताक्षर किए गए थे, जिसमें सरकार ने सभी राजनीतिक कैदियों को रिहा करने पर सहमति व्यक्त की थी?

- Ans
- ☐ 1. 1930
 - ☐ 2. 1929
 - ☐ 3. 1928
 - ☒ 4. 1931

Question ID : 264330112404
Option 1 ID : 264330441702
Option 2 ID : 264330441703
Option 3 ID : 264330441704
Option 4 ID : 264330441701
Status : Answered
Chosen Option : 1

Q.15 'BPO' का पूर्ण रूप क्या है?

- Ans
- ☒ 1. Business Process Outsourcing (बिजनेस प्रॉसेस आउटसोर्सिंग)
 - ☐ 2. Buying Process Outsourcing (बाइंग प्रॉसेस आउटसोर्सिंग)
 - ☐ 3. Business Product Outsourcing (बिजनेस प्रॉडक्ट आउटसोर्सिंग)
 - ☐ 4. Business Process Outcome (बिजनेस प्रॉसेस आउटकम)

Question ID : 26433059299
Option 1 ID : 264330232074
Option 2 ID : 264330232072
Option 3 ID : 264330232073
Option 4 ID : 264330232075
Status : Not Attempted and Marked For Review
Chosen Option : --

Q.16 2011 की जनगणना के अनुसार, भारत के किस राज्य की जनसंख्या सबसे कम है?

- Ans
- ☐ 1. अरुणाचल प्रदेश
 - ☐ 2. मिज़ोरम
 - ☒ 3. सिक्किम
 - ☐ 4. गोवा

Question ID : 264330132741
Option 1 ID : 264330520060
Option 2 ID : 264330520061
Option 3 ID : 264330520062
Option 4 ID : 264330520059
Status : Marked For Review
Chosen Option : 3

Q.17 निम्नलिखित में से किस वर्ष में महात्मा गांधी ने दांडी यात्रा का नेतृत्व किया था?

- Ans
- ☐ 1. 1919
 - ☐ 2. 1918
 - ☐ 3. 1914
 - ☒ 4. 1930

Question ID : 264330112411
Option 1 ID : 264330441731
Option 2 ID : 264330441730
Option 3 ID : 264330441729
Option 4 ID : 264330441732
Status : Answered
Chosen Option : 4

Q.18 Typhoid is caused by _____.

- Ans ☒ 1. Virus
☒ 2. bacteria
☒ 3. Fungi
☒ 4. Protozoa

Question ID : 264330117596
Option 1 ID : 264330462410
Option 2 ID : 264330462409
Option 3 ID : 264330462412
Option 4 ID : 264330462411
Status : Answered
Chosen Option : 2

Q.19 किस कार्यक्रम को पुनर्संरचित करके उसका नाम बदलकर 'राष्ट्रीय ग्रामीण रोजगार कार्यक्रम' (National Rural Employment Programme) कर दिया गया?

- Ans ☒ 1. एकीकृत ग्रामीण विकास कार्यक्रम (Integrated Rural Development Programme)
☒ 2. ग्रामीण भूमिहीन रोजगार गारंटी कार्यक्रम (Rural Landless Employment Guarantee Programme)
☒ 3. काम के बदले अनाज कार्यक्रम (Food for Work Programme)
☒ 4. राष्ट्रीय ग्रामीण विकास संस्थान (National Institute of Rural Development)

Question ID : 264330112495
Option 1 ID : 264330442067
Option 2 ID : 264330442065
Option 3 ID : 264330442066
Option 4 ID : 264330442068
Status : Answered
Chosen Option : 2

Q.20 निम्नलिखित में से कौन-सा अनुच्छेद शोषण के विरुद्ध अधिकार से संबंधित है?

- Ans ☒ 1. अनुच्छेद 19-22
☒ 2. अनुच्छेद 23-24
☒ 3. अनुच्छेद 25-28
☒ 4. अनुच्छेद 14-18

Question ID : 264330116392
Option 1 ID : 264330457654
Option 2 ID : 264330457655
Option 3 ID : 264330457656
Option 4 ID : 264330457653
Status : Answered
Chosen Option : 4

Q.21 निम्नलिखित में से कौन-सी ट्राफी/कप फुटबॉल से संबंधित है?

- Ans ☒ 1. डेविस कप
☒ 2. रणजी ट्रॉफी
☒ 3. सुल्तान अजलान शाह कप
☒ 4. संतोष ट्रॉफी

Question ID : 264330132553
Option 1 ID : 264330519309
Option 2 ID : 264330519307
Option 3 ID : 264330519310
Option 4 ID : 264330519308
Status : Answered
Chosen Option : 3

Q.22 प्रसिद्ध हिंदी उपन्यास 'सूरज का सातवां घोड़ा' के उपन्यासकार _____ हैं।

- Ans
- ☒ 1. फणीश्वर नाथ रेणु
 - ☒ 2. श्री लाल शुक्ल
 - ☒ 3. धर्मवीर भारती
 - ☒ 4. कमलेश्वर

Question ID : 26433064630

Option 1 ID : 264330253114

Option 2 ID : 264330253115

Option 3 ID : 264330253112

Option 4 ID : 264330253113

Status : Not Answered

Chosen Option : --

Q.23 पद्म भूषण 2022 पुरस्कार से सम्मानित _____ एक हिंदुस्तानी शास्त्रीय संगीतकार हैं।

- Ans
- ☒ 1. विक्टर बनर्जी
 - ☒ 2. माधुरी बर्धवाल
 - ☒ 3. गीता चंद्रन
 - ☒ 4. राशिद खान

Question ID : 264330111948

Option 1 ID : 264330439878

Option 2 ID : 264330439877

Option 3 ID : 264330439880

Option 4 ID : 264330439879

Status : Answered

Chosen Option : 1

Q.24 शिवनाथ मिश्रा बनारस घराने के प्रतिपादक हैं और वे _____ बजाते हैं।

- Ans
- ☒ 1. रुद्र वीणा
 - ☒ 2. तबला
 - ☒ 3. हारमोनियम
 - ☒ 4. सितार

Question ID : 264330111950

Option 1 ID : 264330439888

Option 2 ID : 264330439886

Option 3 ID : 264330439885

Option 4 ID : 264330439887

Status : Answered

Chosen Option : 2

Q.25 किस अधिनियम ने बाजार में प्रतिस्पर्धा को रोकने के बजाय प्रतिस्पर्धा को बढ़ावा देने पर बल दिया?

- Ans
- ☒ 1. कोपरा अधिनियम
 - ☒ 2. बैंकिंग विनियमन अधिनियम 1949
 - ☒ 3. प्रतिस्पर्धा अधिनियम 2002
 - ☒ 4. एमआरटीपी (MRTP) अधिनियम 1969

Question ID : 264330111620

Option 1 ID : 264330438566

Option 2 ID : 264330438568

Option 3 ID : 264330438567

Option 4 ID : 264330438565

Status : Not Answered

Chosen Option : --

Q.26 निम्नलिखित में से कौन-सा घरेलू मक्खी का जैविक नाम है?

- Ans ☐ 1. पोएसी (Poaceae)
☐ 2. ट्रिटिकम ऐस्टिवम (Triticum aestivum)
☐ 3. प्राइमेटा (Primata)
☒ 4. मस्का डोमेस्टिका (Musca domestica)

Question ID : 264330131732

Option 1 ID : 264330516029

Option 2 ID : 264330516027

Option 3 ID : 264330516030

Option 4 ID : 264330516028

Status : Answered

Chosen Option : 2

Q.27 नलिनी अस्थाना को 2022 में निम्नलिखित में से किस नृत्य शैली के लिए पद्म श्री से सम्मानित किया गया था?

- Ans ☐ 1. भरतनाट्यम
☐ 2. मोहिनीअट्टम
☐ 3. कथकली
☒ 4. कथक

Question ID : 264330111970

Option 1 ID : 264330439967

Option 2 ID : 264330439968

Option 3 ID : 264330439966

Option 4 ID : 264330439965

Status : Answered

Chosen Option : 3

Q.28 निम्नलिखित में से दिल्ली में जन्मे भरतनाट्यम नर्तकियों / नर्तकों में से किसे वर्ष 2021 के लिए नृत्य पेरुज्योति पुरस्कार प्राप्त हुआ?

- Ans ☐ 1. लक्ष्मी विश्वनाथन
☐ 2. चित्रा विश्वेश्वरन
☒ 3. गीता चंद्रन
☐ 4. पंडित बिरजू महाराज

Question ID : 264330112874

Option 1 ID : 264330443583

Option 2 ID : 264330443581

Option 3 ID : 264330443582

Option 4 ID : 264330443584

Status : Answered

Chosen Option : 2

Q.29 कृषि और किसान कल्याण मंत्रालय के दूसरे अग्रिम अनुमान के अनुसार, भारत में वर्ष 2021-22 में _____ मिलियन टन के रिकॉर्ड खाद्यान्न उत्पादन होने का अनुमान है।

- Ans ☒ 1. 378.54
☒ 2. 316.06
☒ 3. 501.16
☒ 4. 420.78

Question ID : 264330119878
Option 1 ID : 264330469789
Option 2 ID : 264330469787
Option 3 ID : 264330469790
Option 4 ID : 264330469788
Status : Answered
Chosen Option : 2

Q.30 निम्नलिखित में से किस ऋतु में पश्चिमी विक्षोभ के कारण उत्तरी राज्यों में वर्षा होती है?

- Ans ☒ 1. ग्रीष्म ऋतु
☒ 2. वसंत ऋतु
☒ 3. शरद ऋतु
☒ 4. मानसून ऋतु

Question ID : 264330166377
Option 1 ID : 264330652562
Option 2 ID : 264330652560
Option 3 ID : 264330652559
Option 4 ID : 264330652561
Status : Answered
Chosen Option : 2

Q.31 अयोध्या के श्रीराम मंदिर के मुख्य वास्तुकार कौन हैं?

- Ans ☒ 1. शशि प्रभु
☒ 2. चंद्रकांत भाई सोमपुरा
☒ 3. राम सुथर
☒ 4. चित्रा विश्वनाथ

Question ID : 26433074104
Option 1 ID : 264330290538
Option 2 ID : 264330290537
Option 3 ID : 264330290536
Option 4 ID : 264330290539
Status : Answered
Chosen Option : 2

Q.32 भारत का निम्नलिखित में से कौन-सा लौह और इस्पात संयंत्र बंगाल की खाड़ी के तट पर स्थित है?

- Ans ☒ 1. भद्रावती
☒ 2. विशाखापट्टनम
☒ 3. सेलम
☒ 4. दुर्गापुर

Question ID : 264330120467
Option 1 ID : 264330472122
Option 2 ID : 264330472121
Option 3 ID : 264330472119
Option 4 ID : 264330472120
Status : Answered
Chosen Option : 1

Q.33 'हनुक्का' उत्सव निम्नलिखित में से किस समुदाय से संबंधित है?

- Ans
- ☒ 1. पारसी
 - ☒ 2. बौद्ध
 - ☒ 3. जैन
 - ☒ 4. यहूदी

Question ID : 264330111154

Option 1 ID : 264330436702

Option 2 ID : 264330436704

Option 3 ID : 264330436701

Option 4 ID : 264330436703

Status : Answered

Chosen Option : 4

Q.34 अगस्त्यमाला बायोस्फीयर रिजर्व किन दो राज्यों में स्थित है?

- Ans
- ☒ 1. गुजरात और राजस्थान
 - ☒ 2. केरल और तमिलनाडु
 - ☒ 3. मध्य प्रदेश और उत्तर प्रदेश
 - ☒ 4. महाराष्ट्र और गुजरात

Question ID : 264330173628

Option 1 ID : 264330680991

Option 2 ID : 264330680994

Option 3 ID : 264330680992

Option 4 ID : 264330680993

Status : Answered

Chosen Option : 2

Q.35 संविधान का कौन-सा अनुच्छेद महाधिवक्ता को राज्य सरकार के कानूनी सलाहकार के रूप में परिभाषित करता है?

- Ans
- ☒ 1. अनुच्छेद 167
 - ☒ 2. अनुच्छेद 164
 - ☒ 3. अनुच्छेद 165
 - ☒ 4. अनुच्छेद 166

Question ID : 264330168218

Option 1 ID : 264330659750

Option 2 ID : 264330659747

Option 3 ID : 264330659748

Option 4 ID : 264330659749

Status : Not Answered

Chosen Option : --

Q.36 राष्ट्रपति को निम्नलिखित में से किसके परामर्श से दोनों सदनों की संयुक्त बैठक के संबंध में प्रक्रिया के लिए नियम बनाने की शक्ति प्राप्त है?

- Ans
- ☒ 1. लोकसभा अध्यक्ष और सदस्य
 - ☒ 2. सभापति और अध्यक्ष
 - ☒ 3. सभापति, अध्यक्ष और संसद सदस्य
 - ☒ 4. राज्यसभा के सभापति और सदस्य

Question ID : 264330110600

Option 1 ID : 264330434679

Option 2 ID : 264330434678

Option 3 ID : 264330434680

Option 4 ID : 264330434677

Status : Answered

Chosen Option : 1

Q.37 निम्नलिखित में से किस खेल में 'स्कूप' शब्द का प्रयोग किया जाता है?

- Ans
- ☐ 1. टेनिस
 - ☐ 2. फुटबॉल
 - ☐ 3. बैडमिंटन
 - ☒ 4. हॉकी

Question ID : 264330118475

Option 1 ID : 264330465303

Option 2 ID : 264330465304

Option 3 ID : 264330465301

Option 4 ID : 264330465302

Status : Answered

Chosen Option : 4

Q.38 दिल्ली पहली बार _____ के शासनकाल के दौरान एक राज्य की राजधानी बनी।

- Ans
- ☐ 1. चौहान
 - ☐ 2. तुगलक
 - ☒ 3. तोमर राजपूत
 - ☐ 4. मामलुक्स

Question ID : 264330166881

Option 1 ID : 264330654559

Option 2 ID : 264330654561

Option 3 ID : 264330654562

Option 4 ID : 264330654560

Status : Answered

Chosen Option : 2

Q.39 बिस्वा और फुलाइच (Phulaich) कहाँ के सांस्कृतिक त्यौहार हैं?

- Ans
- ☐ 1. पश्चिम बंगाल
 - ☐ 2. कर्नाटक
 - ☒ 3. हिमाचल प्रदेश
 - ☐ 4. बिहार

Question ID : 264330141781

Option 1 ID : 264330555445

Option 2 ID : 264330555446

Option 3 ID : 264330555443

Option 4 ID : 264330555444

Status : Answered

Chosen Option : 1

Q.40 क्रिकेट में, निम्नलिखित में से किसे लेग बिफोर विकेट (LBW) माना जाता है?

- Ans
- ☒ 1. बल्लेबाज का शरीर ऐसी गेंद के ठीक सामने आ जाए, जो यदि उसके शरीर से न लगती तो सीधे विकेट से टकरा जाती।
 - ☐ 2. क्षेत्ररक्षक एक ग्राउंड बॉल को पकड़ता है और उसे बल्लेबाज के क्रीज़ पर पहुँचने से पहले विकेट पर फेंककर उसे गिरा देता है।
 - ☐ 3. क्षेत्ररक्षक बल्लेबाजी की गई गेंद को हवा में ही पकड़ता है।
 - ☐ 4. गेंदबाज गेंद से विकेट को गिराता है (या तोड़ता है)।

Question ID : 264330113758

Option 1 ID : 264330447117

Option 2 ID : 264330447120

Option 3 ID : 264330447119

Option 4 ID : 264330447118

Status : Answered

Chosen Option : 1

Q.41 एक लघु उद्यम वह है, जिसमें संयंत्र और मशीनरी में निवेश किस राशि से अधिक नहीं होता है?

- Ans
- ☐ 1. ₹2 करोड़
 - ☐ 2. ₹5 करोड़
 - ☐ 3. ₹15 करोड़
 - ☒ 4. ₹10 करोड़

Question ID : 264330118188

Option 1 ID : 264330464567

Option 2 ID : 264330464568

Option 3 ID : 264330464570

Option 4 ID : 264330464569

Status : Not Answered

Chosen Option : --

Q.42 चंद्रगुप्त मौर्य के शासनकाल के दौरान, मौर्यों की राजधानी, पाटलिपुत्र का प्रशासन कितनी समितियों द्वारा प्रबंधित किया जाता था?

- Ans
- ☐ 1. चार
 - ☐ 2. तीन
 - ☐ 3. आठ
 - ☒ 4. छह

Question ID : 264330171665

Option 1 ID : 264330673264

Option 2 ID : 264330673263

Option 3 ID : 264330673266

Option 4 ID : 264330673265

Status : Answered

Chosen Option : 1

Q.43 T20 क्रिकेट मैच में एक टीम में खेलने वाले खिलाड़ियों की संख्या _____ होती है।

- Ans
- ☒ 1. 11
 - ☐ 2. 13
 - ☐ 3. 10
 - ☐ 4. 12

Question ID : 264330130647

Option 1 ID : 264330511700

Option 2 ID : 264330511702

Option 3 ID : 264330511699

Option 4 ID : 264330511701

Status : Answered

Chosen Option : 1

Q.44 'जिंदा पीर' के नाम से किसे जाना जाता था?

- Ans
- ☐ 1. हुमायूं
 - ☒ 2. औरंगजेब
 - ☐ 3. अकबर
 - ☐ 4. बाबर

Question ID : 264330123741

Option 1 ID : 264330485001

Option 2 ID : 264330485002

Option 3 ID : 264330484999

Option 4 ID : 264330485000

Status : Answered

Chosen Option : 2

Q.45 भारत के संविधान में 'समवर्ती सूची' की अवधारणा _____ से ली गई है।

- Ans
- ☒ 1. कनाडा
 - ☒ 2. ऑस्ट्रेलिया
 - ☒ 3. जापान
 - ☒ 4. जर्मनी

Question ID : 264330133043

Option 1 ID : 264330521224

Option 2 ID : 264330521223

Option 3 ID : 264330521225

Option 4 ID : 264330521226

Status : Answered

Chosen Option : 3

Q.46 क्षेत्रीय ग्रामीण बैंकों के संबंध में निम्नलिखित में से कौन सा/से कथन सत्य है/हैं?

- I. क्षेत्रीय ग्रामीण बैंकों (RRB) की स्थापना 1977 में हुई थी।
- II. भारत सरकार, क्षेत्रीय ग्रामीण बैंकों (RRB) की शेयर पूंजी में 50% का योगदान करती है।
- III. नरसिम्हम समिति ने क्षेत्रीय ग्रामीण बैंकों (RRB) के समामेलन की अनुशंसा की।

- Ans
- ☒ 1. केवल II और III
 - ☒ 2. केवल III
 - ☒ 3. केवल II
 - ☒ 4. केवल I

Question ID : 264330141456

Option 1 ID : 264330554162

Option 2 ID : 264330554161

Option 3 ID : 264330554160

Option 4 ID : 264330554159

Status : Not Answered

Chosen Option : --

Q.47 बेरोजगारी का निम्नलिखित में से कौन सा प्रकार लोगों द्वारा बेहतर नौकरियों की तलाश में स्वेच्छा से नौकरियां छोड़ने का परिणाम है?

- Ans
- ☒ 1. संघर्षात्मक बेरोजगारी (Frictional unemployment)
 - ☒ 2. चक्रीय बेरोजगारी (Cyclical unemployment)
 - ☒ 3. संरचनात्मक बेरोजगारी (Structural unemployment)
 - ☒ 4. प्रच्छन्न बेरोजगारी (Disguised unemployment)

Question ID : 264330183053

Option 1 ID : 264330717945

Option 2 ID : 264330717947

Option 3 ID : 264330717944

Option 4 ID : 264330717946

Status : Not Answered

Chosen Option : --

Q.48 अपनी परिक्रमा के दौरान जब पृथ्वी सूर्य से सबसे दूर होती है तो उसकी स्थिति क्या कहलाती है?

- Ans
- ☒ 1. उपसौर (Perihelion)
 - ☒ 2. एबेरिलियन (Abherilion)
 - ☒ 3. पेपिहेलियन (Pepihelion)
 - ☒ 4. अपसौर (Aphelion)

Question ID : 264330134897

Option 1 ID : 264330528523

Option 2 ID : 264330528525

Option 3 ID : 264330528526

Option 4 ID : 264330528524

Status : Answered

Chosen Option : 1

Q.49 राष्ट्रीय जनसंख्या नीति-2000 के अनुसार, जनसंख्या में स्थिरता प्राप्त करने का लक्षित वर्ष क्या है?

- Ans
- ☒ 1. 2050
 - ☒ 2. 2070
 - ☒ 3. 2065
 - ☒ 4. 2045

Question ID : 264330120322

Option 1 ID : 264330471541

Option 2 ID : 264330471540

Option 3 ID : 264330471542

Option 4 ID : 264330471539

Status : Not Answered

Chosen Option : --

Q.50 पुरुलिया के भुबन कुमार किस नृत्य शैली के पुरस्कृत नर्तक हैं?

- Ans
- ☒ 1. कथकली
 - ☒ 2. कुचुपुड़ी
 - ☒ 3. कथक
 - ☒ 4. छऊ

Question ID : 264330182984

Option 1 ID : 264330717671

Option 2 ID : 264330717670

Option 3 ID : 264330717669

Option 4 ID : 264330717668

Status : Answered

Chosen Option : 3

Section : Reasoning

Q.1 एक निश्चित कूट भाषा में, 'COMPUTER' को 'DQNRVVFT' लिखा जाता है और 'GARDENER' को 'HCSFFPFT' लिखा जाता है। उसी भाषा में 'ACADEMIC' किस प्रकार लिखा जाएगा?

Ans ☒ 1. BEBFFOJE

☐ 2. BEBEFOJE

☐ 3. BECFFOJE

☐ 4. BFBFFOJE

Question ID : 26433093121

Option 1 ID : 264330365738

Option 2 ID : 264330365740

Option 3 ID : 264330365739

Option 4 ID : 264330365737

Status : Answered

Chosen Option : 1

Q.2 Select the word-pair that best represents a similar relationship to the one expressed in the pair of words given below. (The words must be considered as meaningful English words and must not be related to each other based on the number of letters/number of consonants/vowels in the word)

Seismology : Earthquakes

Ans ☐ 1. Paedology : Plants

☐ 2. Entomology : Bone

☒ 3. Ornithology : Birds

☐ 4. Craniology : Muscle

Question ID : 264330180614

Option 1 ID : 264330708424

Option 2 ID : 264330708423

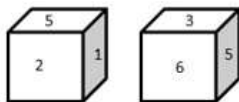
Option 3 ID : 264330708426

Option 4 ID : 264330708425

Status : Marked For Review

Chosen Option : 1

Q.3 छह फलकों वाले एक पासे पर क्रमशः छह संख्याएँ 1, 2, 3, 4, 5 और 6 अंकित हैं। पासे को 2 बार फेंका जाता है और जिन स्थितियों में यह नीचे गिरता है उसे दी गई आकृतियों में दिखाया गया है। संख्या 2 के विपरीत फलक पर अंकित संख्या बताएं।



Ans ☐ 1. 4

☐ 2. 1

☒ 3. 3

☐ 4. 5

Question ID : 264330110542

Option 1 ID : 264330434445

Option 2 ID : 264330434446

Option 3 ID : 264330434448

Option 4 ID : 264330434447

Status : Answered

Chosen Option : 1

Q.4 वह विकल्प चुनिए, जो ऐसे अक्षरों का प्रतिनिधित्व करता हो, जिन्हें नीचे के रिक्त स्थानों में क्रमानुसार बाएँ से दाएँ रखने पर ही अक्षर-श्रृंखला पूरी होगी।
C _ _ D F _ A S _ F _ A S D _ C A _ D _

Ans ☒ 1. ASCDCFSF

☒ 2. ASCDCDSF

☒ 3. ASCDFCSF

☒ 4. ASCDCSSF

Question ID : 26433092545

Option 1 ID : 264330363472

Option 2 ID : 264330363470

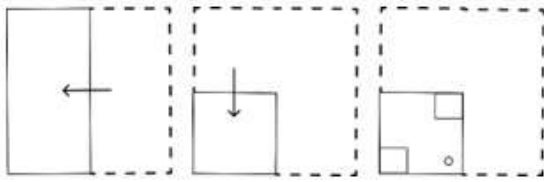
Option 3 ID : 264330363469

Option 4 ID : 264330363471

Status : Answered

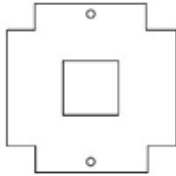
Chosen Option : 1

Q.5 एक कागज को नीचे दिखाए अनुसार मोड़ा और काटा जाता है। खोलने पर यह कैसा दिखाई देगा?

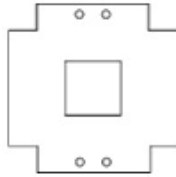


Ans

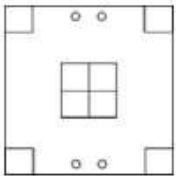
☒ 1.



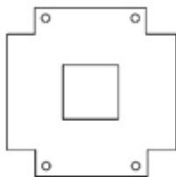
☒ 2.



☒ 3.



☒ 4.



Question ID : 264330114705

Option 1 ID : 264330450908

Option 2 ID : 264330450906

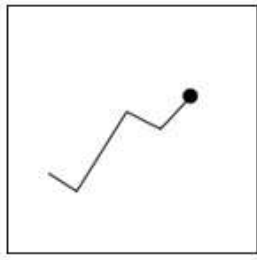
Option 3 ID : 264330450905

Option 4 ID : 264330450907

Status : Answered

Chosen Option : 4

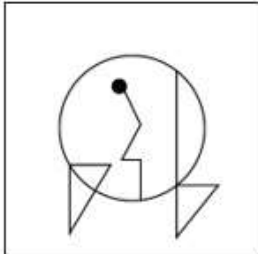
Q.6 चार आकृतियों में से वह आकृति ज्ञात कीजिए जिसमें आकृति X सन्निहित है (घूर्णन की अनुमति नहीं है)



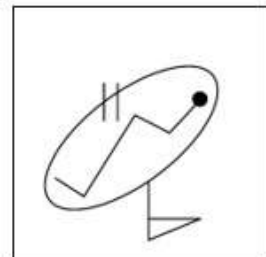
(X)

Ans

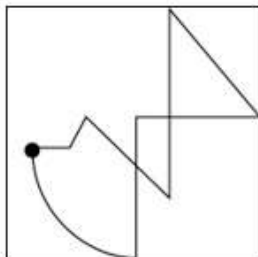
✗ 1.



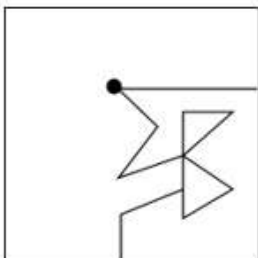
✓ 2.



✗ 3.



✗ 4.



Question ID : 264330121467

Option 1 ID : 264330476052

Option 2 ID : 264330476051

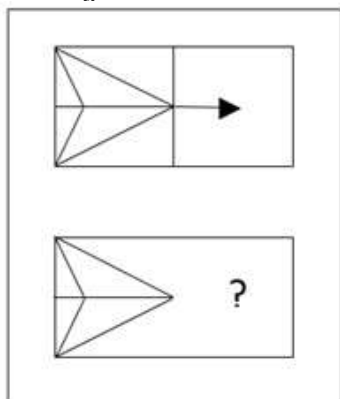
Option 3 ID : 264330476054

Option 4 ID : 264330476053

Status : Answered

Chosen Option : 2

Q.7 विकल्पों में से उस आकृति का चयन करें जो प्रश्न चिह्न (?) को प्रतिस्थापित कर सकती है और दिए गए पैटर्न को पूरा कर सकती है ताकि अंतिम चित्र सममित हो।



Ans ☒ 1.

☒ 2.

☒ 3.

☒ 4.

Question ID : 264330121813

Option 1 ID : 264330477426

Option 2 ID : 264330477425

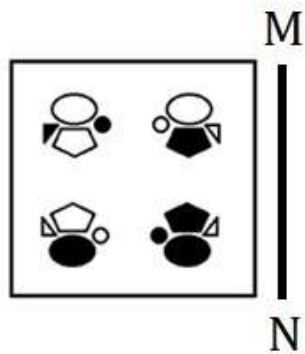
Option 3 ID : 264330477423

Option 4 ID : 264330477424

Status : Answered

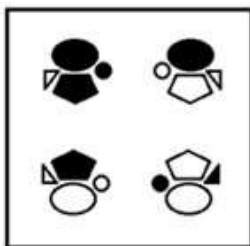
Chosen Option : 3

Q.8 दिए गए संयोजन की सही दर्पण छवि का चयन कीजिए, जब दर्पण को 'MN' पर रखा गया हो, जैसा कि नीचे दिखाया गया है।

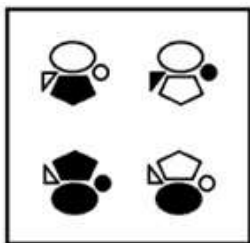


Ans

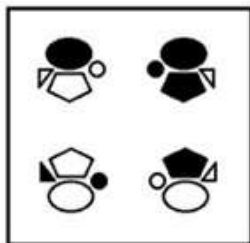
✗ 1.



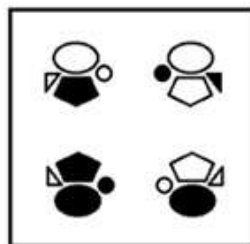
✗ 2.



✗ 3.



✓ 4.



Question ID : 264330112310

Option 1 ID : 264330441327

Option 2 ID : 264330441328

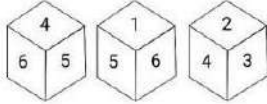
Option 3 ID : 264330441325

Option 4 ID : 264330441326

Status : Marked For Review

Chosen Option : 2

Q.9 एक ही घन की तीन अलग-अलग स्थितियां दर्शायी गई हैं। कौन सी संख्या 4 के विपरीत फलक पर है?



- Ans
- ☒ 1. 2
 - ☒ 2. 3
 - ☒ 3. 5
 - ☒ 4. 1

Question ID : 264330112040

Option 1 ID : 264330440247

Option 2 ID : 264330440246

Option 3 ID : 264330440245

Option 4 ID : 264330440248

Status : Answered

Chosen Option : 4

Q.10 गणितीय चिह्नों के उस सही संयोजन का चयन करें, जिसे * चिह्नों के स्थान पर क्रमिक रूप से रखे जाने पर दिया गया समीकरण संतुलित हो जाएगा।
 $34 * 58 * 2 * 96 * 4 = 29$

- Ans
- ☒ 1. ×, +, +, -
 - ☒ 2. +, ×, -, +
 - ☒ 3. -, +, +, +
 - ☒ 4. ÷, ×, +, -

Question ID : 26433092507

Option 1 ID : 264330363319

Option 2 ID : 264330363318

Option 3 ID : 264330363320

Option 4 ID : 264330363317

Status : Answered

Chosen Option : 3

Q.11 दिए गए संयोजन की सही दर्पण छवि का चयन कीजिए, जब दर्पण को 'PQ' पर रखा गया हो, जैसा कि नीचे दिखाया गया है।



- Ans
- ☒ 1. UeYЯɹM
 - ☒ 2. пeYЯɹM
 - ☒ 3. пeYЯɹM
 - ☒ 4. UeYЯɹM

Question ID : 264330129813

Option 1 ID : 264330508484

Option 2 ID : 264330508486

Option 3 ID : 264330508483

Option 4 ID : 264330508485

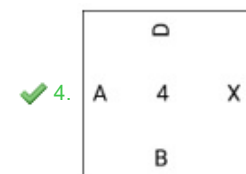
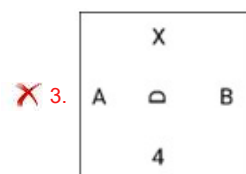
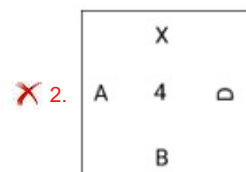
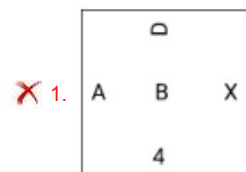
Status : Answered

Chosen Option : 4

Q.12 निम्नलिखित श्रृंखला को जारी रखने के लिए प्रश्न चिह्न (?) के स्थान पर कौन सी आकृति आनी चाहिए?

B	A	A	4	4	
A 4 X X	B 4 4	X B	B A 4 4	B A	?
4	4	4	X	X	

Ans



Question ID : 264330103889

Option 1 ID : 264330407858

Option 2 ID : 264330407859

Option 3 ID : 264330407860

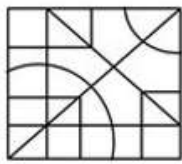
Option 4 ID : 264330407857

Status : Answered

Chosen Option : 4

Q.13

उस विकल्प आकृति का चयन कीजिए जो नीचे दी गई आकृति में अंतर्निहित है (घुमाने की अनुमति नहीं है)।



Ans



Question ID : 26433091723

Option 1 ID : 264330360260

Option 2 ID : 264330360258

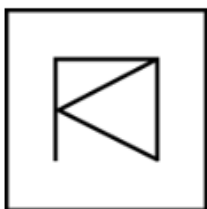
Option 3 ID : 264330360257

Option 4 ID : 264330360259

Status : Answered

Chosen Option : 2

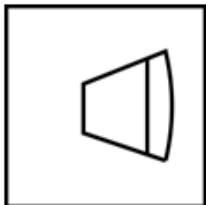
Q.14 इस प्रश्न में, चित्र X के बाद चार आकृतियाँ दी गई हैं, जिन्हें (1), (2), (3) और (4) क्रमांकित किया गया है। उस विकल्प का चयन कीजिए, जिसमें चित्र X सन्निहित है।



(X)

Ans

✗ 1.



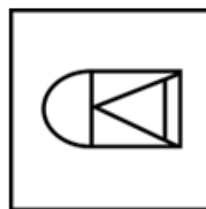
✗ 2.



✗ 3.



✓ 4.



Question ID : 264330175617

Option 1 ID : 264330688788

Option 2 ID : 264330688790

Option 3 ID : 264330688789

Option 4 ID : 264330688787

Status : Answered

Chosen Option : 3

Q.15 गणितीय चिह्नों के उस सही संयोजन का चयन करें, जिन्हें दिए गए समीकरण में * चिह्नों के स्थान पर क्रमिक रूप से रखे जाने पर समीकरण संतुलित हो जाएगा।
 $55 * 11 * 7 * 9 * 32 * 36$

Ans ✗ 1. +, -, x, +, =

✓ 2. +, +, x, -, =

✗ 3. +, x, -, =, +

✗ 4. x, +, -, +, =

Question ID : 26433074781

Option 1 ID : 264330293215

Option 2 ID : 264330293212

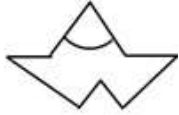
Option 3 ID : 264330293214

Option 4 ID : 264330293213

Status : Answered


Chosen Option : 2

Q.16 उस विकल्प का चयन करें जिसमें दी गई आकृति अंतर्निहित है (घुमाने की अनुमति नहीं है)।

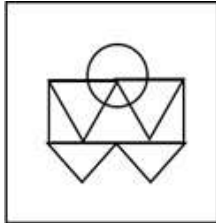


Ans


✗ 1.




✗ 2.



✓ 3.



✗ 4.



Question ID : 264330117968

Option 1 ID : 264330463687

Option 2 ID : 264330463689

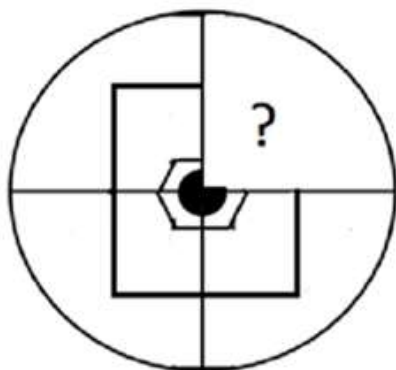
Option 3 ID : 264330463688

Option 4 ID : 264330463690

Status : Answered

Chosen Option : 2

Q.17 उस विकल्प आकृति का चयन कीजिए जो इस पैटर्न को पूरा करने के लिए नीचे दी गई आकृति में प्रश्न चिह्न (?) के स्थान पर आएगी।



Ans

✗ 1.



✗ 2.



✗ 3.



✓ 4.



Question ID : 264330118233

Option 1 ID : 264330464749

Option 2 ID : 264330464748

Option 3 ID : 264330464747

Option 4 ID : 264330464750

Status : Answered

Chosen Option : 1

Q.18 छह विद्यार्थी एक गोल मेज के परितः केंद्र की ओर अभिमुख होकर बैठे हैं। हंसिका और गार्गी दोनों का निकटतम पड़ोसी दीपन है। एकांश, गार्गी के बाएं से दूसरे स्थान पर बैठा है। ईमान, हंसिका के दाएं से तीसरे स्थान पर बैठा है। एकांश और हंसिका दोनों का निकटतम पड़ोसी फिरोज़ है। दीपन और ईमान दोनों का निकटतम पड़ोसी कौन है?

- Ans
- ☒ 1. एकांश
 - ☒ 2. फिरोज़
 - ☒ 3. गार्गी
 - ☒ 4. हंसिका

Question ID : 264330110710

Option 1 ID : 264330435119

Option 2 ID : 264330435118

Option 3 ID : 264330435117

Option 4 ID : 264330435120

Status : Answered

Chosen Option : 2

Q.19 दिए गए विकल्पों में से उस संख्या का चयन कीजिए जो निम्नलिखित श्रृंखला में प्रश्न चिह्न (?) के स्थान पर आ सकती है।

6, 14, 46, 174, 686, ?

- Ans
- ☒ 1. 3232
 - ☒ 2. 344
 - ☒ 3. 2734
 - ☒ 4. 897

Question ID : 264330109752

Option 1 ID : 264330431285

Option 2 ID : 264330431287

Option 3 ID : 264330431286

Option 4 ID : 264330431288

Status : Answered

Chosen Option : 3

Q.20 उस आकृति का चयन करें, जो निम्नलिखित आकृति श्रृंखला में प्रश्न-चिह्न (?) का स्थान लेगी।



- Ans
- ☒ 1.
 - ☒ 2.
 - ☒ 3.
 - ☒ 4.

Question ID : 264330108959

Option 1 ID : 264330428115

Option 2 ID : 264330428114

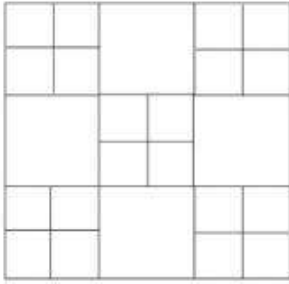
Option 3 ID : 264330428116

Option 4 ID : 264330428113

Status : Answered

Chosen Option : 4

Q.21 दी गई आकृति में कितने वर्ग हैं?



Ans ☒ 1. 36

☒ 2. 34

☒ 3. 30

☒ 4. 32

Question ID : 26433085581

Option 1 ID : 264330336028

Option 2 ID : 264330336027

Option 3 ID : 264330336025

Option 4 ID : 264330336026

Status : Answered

Chosen Option : 3

Q.22 उस विकल्प का चयन कीजिए जो चौथी संख्या से उसी प्रकार संबंधित है जिस प्रकार पहली संख्या दूसरी संख्या से संबंधित है और पांचवीं संख्या छठी संख्या से संबंधित है।

252 : 6 :: ? : 9 :: 1872 : 12

Ans ☒ 1. 829

☒ 2. 810

☒ 3. 750

☒ 4. 729

Question ID : 26433052018

Option 1 ID : 264330203377

Option 2 ID : 264330203375

Option 3 ID : 264330203376

Option 4 ID : 264330203374

Status : Answered

Chosen Option : 3

Q.23 यदि श्रृंखला को जारी रखना हो, तो प्रश्न चिह्न (?) के स्थान पर कौन-सी आकृति आनी चाहिए?

P A S T E	H A R T Z	Z T A R H	V T O R C	?
-----------	-----------	-----------	-----------	---

Ans

✗ 1. C V T O R

✗ 2. C R O T V

✓ 3. C R T O V

✗ 4. C O R T V

Question ID : 264330130822

Option 1 ID : 264330512399

Option 2 ID : 264330512400

Option 3 ID : 264330512402

Option 4 ID : 264330512401

Status : Answered

Chosen Option : 1

Q.24 दिए गए कथनों और निष्कर्षों को ध्यानपूर्वक पढ़ें। यह मानते हुए कि कथनों में दी गई जानकारी सत्य है, भले ही वह सामान्य रूप से ज्ञात तथ्यों से भिन्न प्रतीत होती हो, तय करें कि दिए गए निष्कर्षों में से कौन-सा/से निष्कर्ष कथनों का तार्किक रूप से अनुसरण करता है / करते हैं।

कथन:

कुछ सैनिक, अधिकारी हैं।

कुछ अधिकारी, नागरिक हैं।

निष्कर्ष:

I. सभी सैनिक, नागरिक हैं।

II. सभी नागरिक, सैनिक हैं।

Ans ✗ 1. केवल निष्कर्ष I अनुसरण करता है

✗ 2. निष्कर्ष I और II दोनों अनुसरण करते हैं

✓ 3. न तो निष्कर्ष I अनुसरण करता है और न ही II अनुसरण करता है

✗ 4. केवल निष्कर्ष II अनुसरण करता है

Question ID : 26433068295

Option 1 ID : 264330267692

Option 2 ID : 264330267694

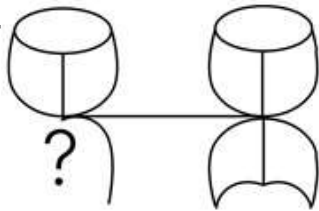
Option 3 ID : 264330267695

Option 4 ID : 264330267693

Status : Answered

Chosen Option : 1

Q.25 दिए गए विकल्पों में से उस आकृति का चयन करें जो पैटर्न को पूरा करने के लिए नीचे दी गई आकृति में प्रश्न चिह्न (?) का स्थान लेगी ताकि अंतिम छवि सममित हो जाए।



Ans

☒ 1.



☒ 2.



☒ 3.



☒ 4.



Question ID : 264330114733

Option 1 ID : 264330451018

Option 2 ID : 264330451017

Option 3 ID : 264330451020

Option 4 ID : 264330451019

Status : Answered

Chosen Option : 4

Section : Numerical Ability

Q.1 एक दुकानदार 10% की छूट देने के बाद किसी वस्तु को ₹360 में बेचता है। यदि उसने 20% की छूट दी होती, तो उसका विक्रय मूल्य (₹ में) क्या होता?

Ans ☒ 1. 300

☒ 2. 320

☒ 3. 340

☒ 4. 290

Question ID : 264330183844

Option 1 ID : 264330721052

Option 2 ID : 264330721053

Option 3 ID : 264330721054

Option 4 ID : 264330721055

Status : Answered

Chosen Option : 2

Q.2 रीवा ने गलती से 45 को 54 पढ़ लिया। इस प्रक्रिया में हुई प्रतिशत वृद्धि या कमी ज्ञात कीजिए।

- Ans ☒ 1. 20% कमी
☒ 2. 20% वृद्धि
☒ 3. 15% वृद्धि
☒ 4. 15% कमी

Question ID : 264330131445

Option 1 ID : 264330514883

Option 2 ID : 264330514884

Option 3 ID : 264330514886

Option 4 ID : 264330514885

Status : Answered

Chosen Option : 4

Q.3 एक व्यक्ति ने ₹85 प्रत्येक की दर से 16 वस्तुएँ, ₹65 प्रत्येक की दर से 15 वस्तुएँ और ₹75 प्रत्येक की दर से 12 वस्तुएँ खरीदीं। प्रत्येक वस्तु की औसत कीमत क्या है? (दो दशमलव स्थान तक)

- Ans ☒ 1. ₹77.65
☒ 2. ₹69.87
☒ 3. ₹72.65
☒ 4. ₹75.23

Question ID : 264330118411

Option 1 ID : 264330465048

Option 2 ID : 264330465047

Option 3 ID : 264330465046

Option 4 ID : 264330465045

Status : Answered

Chosen Option : 3

Q.4 दो संख्याओं का गुणनफल 2028 है और उनका महत्तम समापवर्तक (HCF) 13 है। संख्याओं का लघुत्तम समापवर्त्य (LCM) ज्ञात कीजिए।

- Ans ☒ 1. 142
☒ 2. 168
☒ 3. 156
☒ 4. 186

Question ID : 264330104215

Option 1 ID : 264330409163

Option 2 ID : 264330409162

Option 3 ID : 264330409161

Option 4 ID : 264330409164

Status : Answered

Chosen Option : 3

Q.5 कुमार ने दो योजनाओं A और B में कुल ₹16,900 का आंशिक रूप से निवेश किया। दोनों योजनाओं में साधारण ब्याज की दर क्रमशः 14% वार्षिक और 11% वार्षिक थी। यदि 2 वर्षों में अर्जित कुल ब्याज ₹4,498 था, तो योजना B में निवेश की गई राशि कितनी थी?

- Ans
- ☒ 1. ₹3,000
 - ☒ 2. ₹4,900
 - ☒ 3. ₹3,900
 - ☒ 4. ₹3,200

Question ID : 264330118084
Option 1 ID : 264330464154
Option 2 ID : 264330464152
Option 3 ID : 264330464151
Option 4 ID : 264330464153
Status : Not Answered
Chosen Option : --

Q.6 निम्नलिखित में से कौन-सी संख्या एक अभाज्य संख्या है?

- Ans
- ☒ 1. 901
 - ☒ 2. 917
 - ☒ 3. 1047
 - ☒ 4. 1049

Question ID : 264330106072
Option 1 ID : 264330416591
Option 2 ID : 264330416592
Option 3 ID : 264330416589
Option 4 ID : 264330416590
Status : Answered
Chosen Option : 4

Q.7 1200 पुरुषों के एक सैन्य दुर्ग के पास 15 दिनों के लिए खाद्य पदार्थ हैं। यदि सैन्य दुर्ग में 600 पुरुष बढ़ा दिए जाएं, तो खाद्य पदार्थ कितने समय तक चलेंगे?

- Ans
- ☒ 1. 10 दिन
 - ☒ 2. 6 दिन
 - ☒ 3. 14 दिन
 - ☒ 4. 12 दिन

Question ID : 264330182574
Option 1 ID : 264330716088
Option 2 ID : 264330716087
Option 3 ID : 264330716090
Option 4 ID : 264330716089
Status : Answered
Chosen Option : 2

Q.8 दो विषयों, गणित और भौतिकी में राम के अंक 8 : 13 के अनुपात में हैं। यदि उसे गणित की तुलना में भौतिकी में 25 अंक अधिक मिले हैं, तो गणित में उसके कितने अंक हैं?

Ans ☒ 1. 40

☐ 2. 35

☐ 3. 25

☐ 4. 30

Question ID : 264330111469

Option 1 ID : 264330437964

Option 2 ID : 264330437963

Option 3 ID : 264330437962

Option 4 ID : 264330437961

Status : Answered

Chosen Option : 4

Q.9 यदि $5.5x = 0.05y$ है, तो $\frac{y-3x}{y+3x}$ का मान ज्ञात कीजिए।

Ans ☐ 1. $\frac{103}{113}$

☒ 2. $\frac{107}{113}$

☐ 3. $\frac{111}{113}$

☐ 4. $\frac{107}{117}$

Question ID : 264330105981

Option 1 ID : 264330416225

Option 2 ID : 264330416226

Option 3 ID : 264330416227

Option 4 ID : 264330416228

Status : Not Answered

Chosen Option : --

Q.10 एक लम्ब वृत्तीय शंकु का व्यास 14 cm है, जबकि इसकी तिर्यक ऊँचाई 11 cm है। शंकु का आयतन कितना है? ($\pi = \frac{22}{7}$ का प्रयोग करें)

Ans ☒ 1. $308 \sqrt{2} \text{ cm}^3$

☐ 2. $407 \sqrt{3} \text{ cm}^3$

☐ 3. $208 \sqrt{2} \text{ cm}^3$

☐ 4. $108 \sqrt{2} \text{ cm}^3$

Question ID : 264330119370

Option 1 ID : 264330467767

Option 2 ID : 264330467768

Option 3 ID : 264330467770

Option 4 ID : 264330467769

Status : Not Answered

Chosen Option : --

Q.11 एक वस्तु को 23.75% के लाभ पर बेचा गया। यदि वस्तु का क्रय मूल्य वास्तविक मूल्य से ₹1,000 अधिक होता, जबकि विक्रय मूल्य अपरिवर्तित रहता, तो अर्जित लाभ केवल 10% होता। वस्तु का वास्तविक क्रय मूल्य (₹ में) क्या था?

Ans ☒ 1. 8000

☐ 2. 8500

☐ 3. 7500

☐ 4. 8600

Question ID : 264330112539

Option 1 ID : 264330442242

Option 2 ID : 264330442241

Option 3 ID : 264330442243

Option 4 ID : 264330442244

Status : Answered

Chosen Option : 3

Q.12 ₹3,660 पर डेढ़ वर्ष के लिए 10% प्रति वर्ष की दर से साधारण ब्याज और ब्याज के अर्ध-वार्षिक आधार पर चक्रवृद्धि किए जाने पर चक्रवृद्धि ब्याज के बीच अंतर (₹ में, निकटतम पूर्णांक में) कितना है?

Ans ☐ 1. 49

☒ 2. 28

☐ 3. 36

☐ 4. 42

Question ID : 264330103559

Option 1 ID : 264330406541

Option 2 ID : 264330406542

Option 3 ID : 264330406544

Option 4 ID : 264330406543

Status : Answered

Chosen Option : 3

Q.13 आधार का व्यास 21 cm और ऊँचाई 42 cm वाले एक बेलन का संपूर्ण पृष्ठीय क्षेत्रफल (cm^2 में) ज्ञात कीजिए। ($\pi = \frac{22}{7}$ मानिए)

Ans ☐ 1. 3480

☐ 2. 3450

☐ 3. 3456

☒ 4. 3465

Question ID : 264330112441

Option 1 ID : 264330441852

Option 2 ID : 264330441850

Option 3 ID : 264330441851

Option 4 ID : 264330441849

Status : Not Answered

Chosen Option : --

Q.14 एक पुलिसकर्मी एक चोर का पीछा करता है जो उससे 450 m की दूरी पर है। पुलिसकर्मी को देखते ही चोर 9 km/h की चाल से दौड़ने लगता है। पुलिसकर्मी तुरंत 12 km/h की चाल से पीछा करता है। आखिर चोर पकड़ा जाता है। चोर द्वारा भागने में तय की गई दूरी (km) में ज्ञात करें?

Ans ☒ 1. 1.35

☐ 2. 1.65

☐ 3. 1.25

☐ 4. 1.55

Question ID : 264330183834

Option 1 ID : 264330721012

Option 2 ID : 264330721013

Option 3 ID : 264330721014

Option 4 ID : 264330721015

Status : Not Attempted and
Marked For Review

Chosen Option : --

Q.15 एक घनाभ के आयतन में कुल प्रतिशत परिवर्तन (1 दशमलव स्थान तक पूर्णांकित) कितना होना चाहिए, यदि इसकी लंबाई और चौड़ाई में क्रमशः 24% और 45% की वृद्धि की जाती है, जबकि इसकी ऊँचाई में 55% की कमी की जाती है?

Ans ☐ 1. वृद्धि, 19.1%

☐ 2. कमी, 14.9%

☐ 3. वृद्धि, 14.9%

☒ 4. कमी, 19.1%

Question ID : 264330165070

Option 1 ID : 264330647407

Option 2 ID : 264330647410

Option 3 ID : 264330647409

Option 4 ID : 264330647408

Status : Answered

Chosen Option : 3

Section : Computer Proficiency

Q.1 माइक्रोसॉफ्ट वर्ड 365 (Microsoft Word 365) में, कीबोर्ड पर 'Delete' कुंजी दबाने से क्या क्रिया होती है?

Ans ☒ 1. सेलेक्ट किए गए टेक्स्ट को हटा देता है

☐ 2. अंतिम की हुई क्रिया को पूर्ववत (Undo) करता है

☐ 3. सेलेक्ट किए गए टेक्स्ट को कट (Cut) करता है

☐ 4. सेलेक्ट किए गए टेक्स्ट को कॉपी (Copy) करता है

Question ID : 264330173595

Option 1 ID : 264330680859

Option 2 ID : 264330680862

Option 3 ID : 264330680860

Option 4 ID : 264330680861

Status : Answered

Chosen Option : 1

Q.2 निम्नलिखित में से कौन-सा आर्किटेक्चर समान जिम्मेदारियों और शक्तियों के साथ और किसी केंद्रीय प्राधिकरण के बिना व्यक्तिगत उपकरणों को सीधे जोड़ता है?

- Ans
- ☒ 1. केंद्रीकृत आर्किटेक्चर
 - ☒ 2. वितरित आर्किटेक्चर
 - ☒ 3. पीयर-टू-पीयर आर्किटेक्चर
 - ☒ 4. क्लाइट-सर्वर आर्किटेक्चर

Question ID : 264330179150

Option 1 ID : 264330702605

Option 2 ID : 264330702606

Option 3 ID : 264330702603

Option 4 ID : 264330702604

Status : Not Answered

Chosen Option : --

Q.3 एमएस वर्ड 365 (MS Word 365) में फाइंड एंड रिप्लेस (Find and Replace) डायलॉग बॉक्स खोलने के लिए निम्नलिखित में से किस/किन कीबोर्ड शॉर्टकट का उपयोग किया जाता है?

- a) Ctrl + H
- b) Ctrl + R

- Ans
- ☒ 1. न तो (a) और न ही (b)
 - ☒ 2. केवल (b)
 - ☒ 3. (a) और (b), दोनों
 - ☒ 4. केवल (a)

Question ID : 264330180635

Option 1 ID : 264330708510

Option 2 ID : 264330708508

Option 3 ID : 264330708509

Option 4 ID : 264330708507

Status : Answered

Chosen Option : 2

Q.4 आपने एमएस वर्ड 365 (MS Word 365) में एक नया डॉक्यूमेंट बनाया है और आपने उसमें कुछ बदलाव किए हैं। आप डॉक्यूमेंट को सेव करना चाहते हैं, लेकिन आप किसी अलग नाम से उसकी एक कॉपी भी बनाना चाहते हैं। आपको निम्नलिखित में से किस कमांड का उपयोग करना चाहिए?

- Ans
- ☒ 1. ओपन (Open)
 - ☒ 2. सेव (Save)
 - ☒ 3. क्लोज (Close)
 - ☒ 4. सेव एज (Save As)

Question ID : 264330178582

Option 1 ID : 264330700358

Option 2 ID : 264330700355

Option 3 ID : 264330700357

Option 4 ID : 264330700356

Status : Answered

Chosen Option : 2

Q.5 माइक्रोसॉफ्ट एक्सेल (Microsoft Excel) में, अल्फाबेट के अक्षरों का उपयोग निम्नलिखित में से किसे परिभाषित करने के लिए किया जाता है?

- Ans
- ☒ 1. टेबल (Table)
 - ☒ 2. कॉलम (Column)
 - ☒ 3. शीट (Sheet)
 - ☒ 4. रो (Row)

Question ID : 264330182043

Option 1 ID : 264330714014

Option 2 ID : 264330714012

Option 3 ID : 264330714013

Option 4 ID : 264330714011

Status : Marked For Review

Chosen Option : 2

Q.6 एमएस एक्सेल 365 (MS Excel 365) में, माइक्रोसॉफ्ट एक्सेल (Microsoft Excel) में टाइटल बार का उपयोग किस लिए किया जाता है?

- Ans
- ☒ 1. किसी वर्कबुक (workbook) का टाइटल प्रदर्शित करने के लिए
 - ☒ 2. किसी पंक्ति (row) का टाइटल प्रदर्शित करने के लिए
 - ☒ 3. किसी शीट (sheet) का टाइटल प्रदर्शित करने के लिए
 - ☒ 4. किसी कॉलम (column) का टाइटल प्रदर्शित करने के लिए

Question ID : 264330182049

Option 1 ID : 264330714036

Option 2 ID : 264330714038

Option 3 ID : 264330714035

Option 4 ID : 264330714037

Status : Answered

Chosen Option : 2

Q.7 एमएस एक्सेल 365 (MS Excel 365) में निम्नलिखित में से कौन-सा एक ऐसा सरल फ़ंक्शन है जो किसी दी गई संख्या को एक घातांक तक बढ़ाता है?

- Ans
- ☒ 1. AVERAGE
 - ☒ 2. MEDIAN
 - ☒ 3. RAND
 - ☒ 4. POWER

Question ID : 264330180408

Option 1 ID : 264330707600

Option 2 ID : 264330707599

Option 3 ID : 264330707602

Option 4 ID : 264330707601

Status : Answered

Chosen Option : 4

Q.8 माइक्रोसॉफ्ट वर्ड 365 (Microsoft Word 365) में वर्तनी और व्याकरण संबंधी त्रुटियों का पता लगाने में _____ पर सहायता मिल सकती है।

- Ans
- ☐ 1. 'Alt + F8' दबाने
 - ☐ 2. 'Alt + F7' दबाने
 - ☐ 3. 'F8' दबाने
 - ☒ 4. 'F7' दबाने

Question ID : 264330182082

Option 1 ID : 264330714170

Option 2 ID : 264330714168

Option 3 ID : 264330714169

Option 4 ID : 264330714167

Status : Marked For Review

Chosen Option : 1

Q.9 आप जो संदेश लिख रहे हैं, उसे तब तक क्या कहा जाता है, जब तक आप उसे भेज नहीं देते या ट्रेश में नहीं डाल देते?

- Ans
- ☐ 1. तारांकित मेल
 - ☐ 2. प्राप्त मेल
 - ☒ 3. ड्राफ्ट मेल
 - ☐ 4. प्रेषित मेल

Question ID : 264330175934

Option 1 ID : 264330690031

Option 2 ID : 264330690033

Option 3 ID : 264330690032

Option 4 ID : 264330690034

Status : Answered

Chosen Option : 3

Q.10 एमएस वर्ड 365 (MS Word 365) में, सेलेक्टेड टेक्स्ट को सेंटर अलाइन (centre align) करने के लिए निम्नलिखित में से कौन-सा शॉर्टकट उपयोग किया जाता है?

- Ans
- ☐ 1. Ctrl + Shift + E
 - ☐ 2. Ctrl + C
 - ☐ 3. Ctrl + Shift + C
 - ☒ 4. Ctrl + E

Question ID : 264330173359

Option 1 ID : 264330679917

Option 2 ID : 264330679916

Option 3 ID : 264330679918

Option 4 ID : 264330679915

Status : Answered

Chosen Option : 3