

Constable Executive Male and Female in Delhi Police Examination 2023

Roll Number	
Candidate Name	
Venue Name	iON Digital Zone Chikalthana
Exam Date	22/11/2023
Exam Time	12:00 PM - 1:30 PM
Subject	Constable Executive Male and Female in Delhi Police Examination 2023

Section : General Knowledge

Q.1 राज्य विधानमंडल के सत्र को स्थगित करने के संबंध में राज्यपाल को सलाह कौन देता है?

- Ans
- ☒ 1. सदन के वरिष्ठ सदस्य
 - ☒ 2. मुख्यमंत्री
 - ☒ 3. विधानसभा-उपाध्यक्ष
 - ☒ 4. विधानसभाध्यक्ष

Question ID : 264330173538

Option 1 ID : 264330680634

Option 2 ID : 264330680631

Option 3 ID : 264330680633

Option 4 ID : 264330680632

Status : Answered

Chosen Option : 4

Q.2 निम्नलिखित में से कौन-सा विकल्प पृथ्वी की सतह के ऊपर या उसकी ओर लावा के संचलन में शामिल है?

- Ans
- ☒ 1. बहिर्जनिक प्रक्रिया
 - ☒ 2. ज्वालामुखीय घटना
 - ☒ 3. पटलविरूपण
 - ☒ 4. अपक्षयण

Question ID : 264330116381

Option 1 ID : 264330457611

Option 2 ID : 264330457610

Option 3 ID : 264330457609

Option 4 ID : 264330457612

Status : Answered

Chosen Option : 4

Q.3 निम्नलिखित में से किस योजना का उद्देश्य देश के नागरिकों को उचित मूल्य पर जेनेरिक दवाएं उपलब्ध कराना है?

- Ans
- ☒ 1. सार्वभौमिक टीकाकरण कार्यक्रम
 - ☒ 2. मिशन इंद्रधनुष
 - ☒ 3. प्रधान मंत्री भारतीय जनऔषधि परियोजना
 - ☒ 4. जननी शिशु सुरक्षा कार्यक्रम

Question ID : 264330109414

Option 1 ID : 264330429934

Option 2 ID : 264330429936

Option 3 ID : 264330429935

Option 4 ID : 264330429933

Status : Answered

Chosen Option : 3

Q.4 भगवान विष्णु को समर्पित खजुराहो का लक्ष्मण मंदिर किस शैली की मंदिर वास्तुकला का उदाहरण है?

- Ans ☒ 1. नागर
☐ 2. ओडिशा
☐ 3. द्रविड़
☐ 4. वेसरा

Question ID : 264330111854
Option 1 ID : 264330439503
Option 2 ID : 264330439504
Option 3 ID : 264330439502
Option 4 ID : 264330439501
Status : Answered
Chosen Option : 3

Q.5 सिमुक, मौर्योत्तर काल के निम्नलिखित में से किस राजवंश का संस्थापक था?

- Ans ☐ 1. पार्थियन
☐ 2. कण्व
☐ 3. कुषाण
☒ 4. सातवाहन

Question ID : 264330182700
Option 1 ID : 264330716571
Option 2 ID : 264330716573
Option 3 ID : 264330716572
Option 4 ID : 264330716574
Status : Answered
Chosen Option : 4

Q.6 मिनाती मिश्रा को किस प्रकार के नृत्य में उनके योगदान के लिए पद्म श्री से सम्मानित किया गया था?

- Ans ☐ 1. सलिया
☐ 2. छऊ
☒ 3. ओडिसी
☐ 4. बिहु

Question ID : 26433074882
Option 1 ID : 264330293616
Option 2 ID : 264330293617
Option 3 ID : 264330293618
Option 4 ID : 264330293619
Status : Not Answered
Chosen Option : --

Q.7 देवदासी राष्ट्रीय पुरस्कार, _____ राज्य में तीर्थ केंद्र में आयोजित नृत्य उत्सव में दिया जाता है।

- Ans ☒ 1. ओडिशा
☐ 2. पश्चिम बंगाल
☐ 3. तमिलनाडु
☐ 4. केरल

Question ID : 26433071529
Option 1 ID : 264330280540
Option 2 ID : 264330280543
Option 3 ID : 264330280542
Option 4 ID : 264330280541
Status : Answered
Chosen Option : 3

Q.8 निम्नलिखित में से किसने इस बात पर बल दिया और प्रचारित किया कि "वेदांत सभी का धर्म है न कि केवल हिंदुओं का"?

- Ans
- ☒ 1. ईश्वर चंद्र विद्यासागर
 - ☒ 2. स्वामी विवेकानंद
 - ☒ 3. राजा राम मोहन राय
 - ☒ 4. स्वामी दयानंद सरस्वती

Question ID : 264330130573

Option 1 ID : 264330511403

Option 2 ID : 264330511406

Option 3 ID : 264330511404

Option 4 ID : 264330511405

Status : Answered

Chosen Option : 4

Q.9 बाजपेयी सरकार के कार्यकाल के दौरान निम्नलिखित में से किसे विनिवेश मंत्रालय के पहले मंत्री के रूप में नियुक्त किया गया था?

- Ans
- ☒ 1. जसवंत सिंह
 - ☒ 2. जॉर्ज फर्नांडिस
 - ☒ 3. यशवंत सिन्हा
 - ☒ 4. अरुण शौरी

Question ID : 26433059342

Option 1 ID : 264330232246

Option 2 ID : 264330232247

Option 3 ID : 264330232245

Option 4 ID : 264330232244

Status : Answered

Chosen Option : 2

Q.10 निम्नलिखित में से किस अधिनियम के तहत सर्वोच्च न्यायालय अंतरराष्ट्रीय वाणिज्यिक मध्यस्थता शुरू कर सकता है?

- Ans
- ☒ 1. मध्यस्थता और रद्दीकरण अधिनियम, 2004
 - ☒ 2. न्याय पर संयुक्त राष्ट्र अधिनियम, 2015
 - ☒ 3. अंतरराष्ट्रीय मध्यस्थता अधिनियम, 2012
 - ☒ 4. मध्यस्थता और सुलह अधिनियम, 1996

Question ID : 264330120175

Option 1 ID : 264330470956

Option 2 ID : 264330470958

Option 3 ID : 264330470957

Option 4 ID : 264330470955

Status : Answered

Chosen Option : 4

Q.11 निम्नलिखित में से किसने, राष्ट्रीय खेल-2022 में 61 स्वर्ण पदक जीतकर पदक-तालिका में शीर्ष स्थान प्राप्त किया?

- Ans
- ☒ 1. केरल
 - ☒ 2. महाराष्ट्र
 - ☒ 3. हरियाणा
 - ☒ 4. सेवा खेल नियंत्रण बोर्ड

Question ID : 264330113732
Option 1 ID : 264330447016
Option 2 ID : 264330447015
Option 3 ID : 264330447014
Option 4 ID : 264330447013
Status : Answered
Chosen Option : 3

Q.12 निम्नलिखित में से किसे भारत का 'भजन सम्राट' कहा जाता है?

- Ans
- ☒ 1. दयानन्द प्रजापति
 - ☒ 2. संजीव अभ्यंकर
 - ☒ 3. विष्णु भरनगर
 - ☒ 4. अनूप जलोटा

Question ID : 264330112680
Option 1 ID : 264330442807
Option 2 ID : 264330442805
Option 3 ID : 264330442808
Option 4 ID : 264330442806
Status : Not Answered
Chosen Option : --

Q.13 उच्च आय वर्ग के लोगों पर कर की दरों में वृद्धि की गई है, जिसके परिणामस्वरूप _____ ।

- Ans
- ☒ 1. क्षेत्रीय विषमताएं कम हुई हैं
 - ☒ 2. आर्थिक विकास हुआ है
 - ☒ 3. आर्थिक स्थिरता आई है
 - ☒ 4. आय और धन की असमानताएं कम हुई हैं

Question ID : 264330116491
Option 1 ID : 264330458052
Option 2 ID : 264330458051
Option 3 ID : 264330458050
Option 4 ID : 264330458049
Status : Answered
Chosen Option : 4

Q.14 निम्नलिखित में से कौन-सी पुस्तक 1873 में ज्योतिराव फुले ने लिखी थी?

- Ans
- ☒ 1. गुलामगिरी
 - ☒ 2. ट्राइब कास्ट एंड सोसायटी
 - ☒ 3. लास्ट अमंग इक्ल्स
 - ☒ 4. जाति का विनाश

Question ID : 264330119025
Option 1 ID : 264330466755
Option 2 ID : 264330466756
Option 3 ID : 264330466758
Option 4 ID : 264330466757
Status : Answered
Chosen Option : 1

Q.15 वर्ष 1904 में अभिनव भारत नामक क्रांतिकारियों का एक गुप्त संगठन किसने बनाया था?

- Ans ☒ 1. विनायक दामोदर सावरकर
☐ 2. सुभाष चंद्र बोस
☐ 3. अजीत सिंह
☐ 4. लाला हर दयाल

Question ID : 264330114051

Option 1 ID : 264330448291

Option 2 ID : 264330448289

Option 3 ID : 264330448292

Option 4 ID : 264330448290

Status : Answered

Chosen Option : 1

Q.16 हरित क्रांति किसका उदाहरण है?

- Ans ☐ 1. अंतरराष्ट्रीय व्यापार प्रतिबंध कृषि उपज में कैसे बदलाव ला सकता है
☐ 2. कृषि क्रांति से हरित जीडीपी (GDP) को कैसे बढ़ाया जा सकता है
☒ 3. प्रौद्योगिकी कृषि उत्पादन में क्रांतिकारी परिवर्तन कैसे ला सकती है
☐ 4. सेवा क्षेत्र भारत में कैसे क्रांति ला सकता है

Question ID : 264330174151

Option 1 ID : 264330683046

Option 2 ID : 264330683044

Option 3 ID : 264330683045

Option 4 ID : 264330683043

Status : Answered

Chosen Option : 2

Q.17 निम्नलिखित में से किस राज्य में 44वाँ शतरंज ओलंपियाड आयोजित किया गया था?

- Ans ☒ 1. तमिलनाडु
☐ 2. कर्नाटक
☐ 3. केरल
☐ 4. आंध्र प्रदेश

Question ID : 264330113753

Option 1 ID : 264330447097

Option 2 ID : 264330447100

Option 3 ID : 264330447098

Option 4 ID : 264330447099

Status : Answered

Chosen Option : 1

Q.18 निम्नलिखित में से कौन-सा बहमनी साम्राज्य को तोड़कर बनाए गए पाँच राज्यों में से एक था?

- Ans ☐ 1. करूर
☐ 2. हैदराबाद
☐ 3. मद्रास
☒ 4. गोलकोंडा

Question ID : 264330182879

Option 1 ID : 264330717263

Option 2 ID : 264330717261

Option 3 ID : 264330717262

Option 4 ID : 264330717260

Status : Answered

Chosen Option : 4

Q.19 देहिग पटकाई त्योहार को निम्नलिखित में से किस भारतीय राज्य की समृद्ध संस्कृति के जन्म के रूप में मनाया जाता है?

- Ans ☒ 1. नागालैण्ड
☒ 2. असम
☒ 3. त्रिपुरा
☒ 4. सिक्किम

Question ID : 264330132417
Option 1 ID : 264330518763
Option 2 ID : 264330518764
Option 3 ID : 264330518765
Option 4 ID : 264330518766
Status : Answered
Chosen Option : 2

Q.20 ऋग्वेद संहिता में _____ पुस्तकें शामिल हैं।

- Ans ☒ 1. 10
☒ 2. 11
☒ 3. 13
☒ 4. 7

Question ID : 264330171659
Option 1 ID : 264330673240
Option 2 ID : 264330673241
Option 3 ID : 264330673242
Option 4 ID : 264330673239
Status : Answered
Chosen Option : 1

Q.21 कौन-सा राष्ट्रीय जलमार्ग ब्रह्मपुत्र नदी से संबद्ध है?

- Ans ☒ 1. राष्ट्रीय जलमार्ग 2
☒ 2. राष्ट्रीय जलमार्ग 5
☒ 3. राष्ट्रीय जलमार्ग 1
☒ 4. राष्ट्रीय जलमार्ग 3

Question ID : 264330180505
Option 1 ID : 264330707989
Option 2 ID : 264330707987
Option 3 ID : 264330707990
Option 4 ID : 264330707988
Status : Answered
Chosen Option : 1

Q.22 निम्नलिखित में से कौन-सा भारत में माइक्रोफाइनेंस वितरण-तंत्र के कई दृष्टिकोणों में से एक नहीं है?

- Ans ☒ 1. स्वयं सहायता समूह - बैंक लिंकेज कार्यक्रम
☒ 2. बैंकों द्वारा पारंपरिक कमजोर-वर्ग ऋण
☒ 3. माइक्रोफाइनेंस संस्थान- क्रेडिट लेंडिंग मॉडल
☒ 4. सस्ता सब्सिडी वाला क्रेडिट

Question ID : 264330119670
Option 1 ID : 264330468958
Option 2 ID : 264330468956
Option 3 ID : 264330468957
Option 4 ID : 264330468955
Status : Not Answered
Chosen Option : --

Q.23 बेकरेल, जो एक विघटन प्रति सेकेंड (dps) के बराबर है, को किस प्रतीक द्वारा दर्शाया जाता है?

- Ans
- ☒ 1. Bc
 - ☒ 2. BI
 - ☒ 3. Br
 - ☒ 4. Bq

Question ID : 264330141661

Option 1 ID : 264330554964

Option 2 ID : 264330554965

Option 3 ID : 264330554966

Option 4 ID : 264330554963

Status : Answered

Chosen Option : 4

Q.24 लाल किले का निर्माण निम्न में से किस सम्राट ने करवाया था?

- Ans
- ☒ 1. जहांगीर
 - ☒ 2. कुतुबुद्दीन बख्तियार खिलजी
 - ☒ 3. मोहम्मद बिन तुगलक
 - ☒ 4. शाहजहाँ

Question ID : 264330109319

Option 1 ID : 264330429553

Option 2 ID : 264330429556

Option 3 ID : 264330429554

Option 4 ID : 264330429555

Status : Answered

Chosen Option : 1

Q.25 गुरु हरगोबिंद के नेतृत्व में सिखों ने _____ के शासनकाल के दौरान मुगलों को चार बार पराजित किया।

- Ans
- ☒ 1. औरंगजेब
 - ☒ 2. अकबर
 - ☒ 3. जहांगीर
 - ☒ 4. शाहजहाँ

Question ID : 264330114845

Option 1 ID : 264330451466

Option 2 ID : 264330451465

Option 3 ID : 264330451467

Option 4 ID : 264330451468

Status : Answered

Chosen Option : 4

Q.26 निम्नलिखित में से कौन सा बिहार राज्य में मनाया जाने वाला एक लोकप्रिय त्योहार है?

- Ans
- ☒ 1. हरेला (Harela)
 - ☒ 2. मे-दम-मे-फि (Me-Dam-Me-Phi)
 - ☒ 3. सामा चकेवा (Sama Chakeva)
 - ☒ 4. अली-ऐ-लिगांग (Ali-Ai-Ligang)

Question ID : 264330110455

Option 1 ID : 264330434100

Option 2 ID : 264330434099

Option 3 ID : 264330434098

Option 4 ID : 264330434097

Status : Answered

Chosen Option : 1

Q.27 निम्नलिखित में से कौन-सा राज्य 37वें राष्ट्रीय खेलों में शामिल किए गए खेल गतका से संबंधित है?

- Ans ☒ 1. हरियाणा
☒ 2. पंजाब
☒ 3. उत्तराखंड
☒ 4. उत्तर प्रदेश

Question ID : 264330176923
Option 1 ID : 264330693888
Option 2 ID : 264330693887
Option 3 ID : 264330693890
Option 4 ID : 264330693889
Status : Not Answered
Chosen Option : --

Q.28 सजीव टेरिडोफाइट का संकीर्ण भौगोलिक क्षेत्रों में किस प्रकार का फैलाव होता है ?

- Ans ☒ 1. सीमित और प्रतिबंधित
☒ 2. असीमित और अप्रतिबंधित
☒ 3. सीमित और अप्रतिबंधित
☒ 4. असीमित और प्रतिबंधित

Question ID : 264330113314
Option 1 ID : 264330445343
Option 2 ID : 264330445344
Option 3 ID : 264330445342
Option 4 ID : 264330445341
Status : Answered
Chosen Option : 3

Q.29 अपने सूफी और लोक संगीत गायन के लिए विख्यात भारतीय लोक गायक मामे खान किस राज्य से हैं?

- Ans ☒ 1. राजस्थान
☒ 2. गुजरात
☒ 3. पंजाब
☒ 4. असम

Question ID : 264330114169
Option 1 ID : 264330448763
Option 2 ID : 264330448761
Option 3 ID : 264330448762
Option 4 ID : 264330448764
Status : Not Answered
Chosen Option : --

Q.30 भारतीय संविधान के किस अनुच्छेद में उल्लेख है कि जीवित प्राणियों के प्रति दया रखना भारत के प्रत्येक नागरिक का कर्तव्य होगा?

- Ans ☒ 1. 51 A (i)
☒ 2. 51 A (j)
☒ 3. 51 A (h)
☒ 4. 51 A (g)

Question ID : 264330183149
Option 1 ID : 264330718330
Option 2 ID : 264330718331
Option 3 ID : 264330718329
Option 4 ID : 264330718328
Status : Answered
Chosen Option : 4

Q.31 2011 की जनगणना के अनुसार निम्नलिखित में से किस राज्य में साक्षरता दर में सबसे कम दशकीय वृद्धि थी?

- Ans ☒ 1. गोवा
☒ 2. मिजोरम
☒ 3. केरल
☒ 4. त्रिपुरा

Question ID : 26433092884
Option 1 ID : 264330364820
Option 2 ID : 264330364819
Option 3 ID : 264330364818
Option 4 ID : 264330364817
Status : Answered
Chosen Option : 2

Q.32 जहाँ तक भेदभाव के आधारों का प्रश्न है, निम्नलिखित में से कौन-सा शब्द भारतीय संविधान के अनुच्छेद 15 का भाग नहीं है?

- Ans ☒ 1. धर्म
☒ 2. पेशा
☒ 3. प्रजाति
☒ 4. जाति

Question ID : 264330180043
Option 1 ID : 264330706155
Option 2 ID : 264330706158
Option 3 ID : 264330706156
Option 4 ID : 264330706157
Status : Answered
Chosen Option : 3

Q.33 भारतीय संविधान के किस भाग में संविधान में संशोधन की प्रक्रिया निर्धारित की गई है?

- Ans ☒ 1. भाग XXI
☒ 2. भाग XX
☒ 3. भाग XV
☒ 4. भाग X

Question ID : 264330113367
Option 1 ID : 264330445555
Option 2 ID : 264330445556
Option 3 ID : 264330445554
Option 4 ID : 264330445553
Status : Answered
Chosen Option : 4

Q.34 अंकुशकृमि (हुकवर्म) नामक सूत्रकृमि परजीवी किस प्रजाति से संबंधित है, जो आमतौर पर संक्रमित मिट्टी से फैलते हैं?

- Ans
- ☒ 1. फेसिओला
 - ☒ 2. हिरुडिनेरिया
 - ☒ 3. फेरेटिमा
 - ☒ 4. ऐन्किलोस्टोमा

Question ID : 264330141703

Option 1 ID : 264330555132

Option 2 ID : 264330555134

Option 3 ID : 264330555133

Option 4 ID : 264330555131

Status : Not Answered

Chosen Option : --

Q.35 भारतीय संविधान के निम्नलिखित में से किस अनुच्छेद में यह उल्लेख किया गया है कि संसद कानून द्वारा किसी भी राज्य से क्षेत्र को अलग करके या किसी राज्य के किसी हिस्से में किसी भी क्षेत्र को मिलाकर एक नया राज्य बना सकती है?

- Ans
- ☒ 1. अनुच्छेद 3
 - ☒ 2. अनुच्छेद 7
 - ☒ 3. अनुच्छेद 9
 - ☒ 4. अनुच्छेद 5

Question ID : 264330110775

Option 1 ID : 264330435379

Option 2 ID : 264330435378

Option 3 ID : 264330435380

Option 4 ID : 264330435377

Status : Answered

Chosen Option : 1

Q.36 भारतीय जनगणना 2011 के अनुसार, निम्नलिखित में से किस राज्य की जनसंख्या 10 करोड़ से अधिक है?

- Ans
- ☒ 1. आंध्र प्रदेश
 - ☒ 2. पश्चिम बंगाल
 - ☒ 3. राजस्थान
 - ☒ 4. महाराष्ट्र

Question ID : 264330120326

Option 1 ID : 264330471555

Option 2 ID : 264330471557

Option 3 ID : 264330471558

Option 4 ID : 264330471556

Status : Answered

Chosen Option : 4

Q.37 निम्नलिखित में से किस उपन्यासकार ने 'ए सूटेबल बॉय' (A Suitable Boy) लिखा है?

- Ans
- ☒ 1. चेतन भगत
 - ☒ 2. अरुंधति रॉय
 - ☒ 3. अरविंद अडिगा
 - ☒ 4. विक्रम सेठ

Question ID : 26433086910
Option 1 ID : 264330341283
Option 2 ID : 264330341281
Option 3 ID : 264330341282
Option 4 ID : 264330341284
Status : Answered
Chosen Option : 3

Q.38 भारत के संविधान के निम्नलिखित में से किस अनुच्छेद के तहत अरुणाचल प्रदेश के राज्यपाल के पास कानून और व्यवस्था के संबंध में और अपने कार्यों के प्रभार से हटने से संबंधित विशेष जिम्मेदारी है?

- Ans
- ☒ 1. अनुच्छेद 371 G
 - ☒ 2. अनुच्छेद 371 A
 - ☒ 3. अनुच्छेद 371 H
 - ☒ 4. अनुच्छेद 371 D

Question ID : 26433086856
Option 1 ID : 264330341066
Option 2 ID : 264330341068
Option 3 ID : 264330341065
Option 4 ID : 264330341067
Status : Not Answered
Chosen Option : --

Q.39 देशों को जोड़ने से भूमंडलीकरण का परिणाम _____ होगा।

- Ans
- ☒ 1. उत्पादकों द्वारा मूल्य वृद्धि
 - ☒ 2. उत्पादकों के बीच प्रतिस्पर्धा में कोई बदलाव नहीं
 - ☒ 3. उत्पादकों के बीच कम प्रतिस्पर्धा
 - ☒ 4. उत्पादकों के बीच अधिक प्रतिस्पर्धा

Question ID : 26433082241
Option 1 ID : 264330322799
Option 2 ID : 264330322800
Option 3 ID : 264330322798
Option 4 ID : 264330322797
Status : Answered
Chosen Option : 2

Q.40 बाधा दौड़ में पुरुषों के लिए मानक दूरी कितनी होती है?

- Ans
- ☒ 1. 100 m और 400 m
 - ☒ 2. 120 m और 410 m
 - ☒ 3. 110 m और 410 m
 - ☒ 4. 110 m और 400 m

Question ID : 264330110396
Option 1 ID : 264330433861
Option 2 ID : 264330433864
Option 3 ID : 264330433863
Option 4 ID : 264330433862
Status : Answered
Chosen Option : 1

Q.41 भूमध्य रेखा के ऊपर क्षोभसीमा पर वायु का तापमान कितना होता है?

- Ans ☒ 1. -70°C
☒ 2. -60°C
☒ 3. -50°C
☒ 4. -80°C

Question ID : 264330120077

Option 1 ID : 264330470566

Option 2 ID : 264330470563

Option 3 ID : 264330470564

Option 4 ID : 264330470565

Status : Answered

Chosen Option : 2

Q.42 'द एडवेंचर्स ऑफ हकलबेरी फिन' निम्नलिखित में से किस लेखक ने लिखा था?

- Ans ☒ 1. जेन ऑस्टेन
☒ 2. जेरोम के. जेरोम
☒ 3. रॉबर्ट लुई स्टीवेन्सन
☒ 4. मार्क ट्वेन

Question ID : 26433055371

Option 1 ID : 264330216469

Option 2 ID : 264330216470

Option 3 ID : 264330216468

Option 4 ID : 264330216471

Status : Answered

Chosen Option : 3

Q.43 निम्नलिखित में से कौन सा नृत्य मठों में परंपरागत रूप से पुरुष भिक्षुओं द्वारा किया जाता था?

- Ans ☒ 1. कथकली
☒ 2. ओडिसी
☒ 3. सत्रीया
☒ 4. कुचिपुड़ी

Question ID : 264330110404

Option 1 ID : 264330433896

Option 2 ID : 264330433893

Option 3 ID : 264330433894

Option 4 ID : 264330433895

Status : Answered

Chosen Option : 2

Q.44 निम्नलिखित में से कौन-सा चैनल भारत के बड़े कस्बों और शहरों में मेल (mails) की त्वरित डिलीवरी की सुविधा के लिए छः संचार मेल चैनलों का भाग नहीं है?

- Ans ☒ 1. बिजनेस चैनल (Business channel)
☒ 2. मेट्रो चैनल (Metro channel)
☒ 3. साप्ताहिक चैनल (Weekly channel)
☒ 4. आवधिक चैनल (Periodical channel)

Question ID : 264330180510

Option 1 ID : 264330708009

Option 2 ID : 264330708010

Option 3 ID : 264330708008

Option 4 ID : 264330708007

Status : Answered

Chosen Option : 3

Q.45 भारत की 2011 की जनगणना के अनुसार, तमिलनाडु की साक्षरता दर कितनी थी?

- Ans
- ☒ 1. 81.42%
 - ☒ 2. 80.09%
 - ☒ 3. 82.80%
 - ☒ 4. 82.34%

Question ID : 264330119913

Option 1 ID : 264330469927

Option 2 ID : 264330469930

Option 3 ID : 264330469929

Option 4 ID : 264330469928

Status : Not Answered

Chosen Option : --

Q.46 कौन सा सामान्य दीर्घकालिक संक्रमण तब विकसित होता है जब मुंह में जीवाणु शर्करा का चयापचय करके अम्ल का उत्पादन करता है जो दांतों के कठोर ऊतकों को अखनिजीकृत करता है?

- Ans
- ☒ 1. दंत क्षरण
 - ☒ 2. मुख व्रण
 - ☒ 3. ओरो-दंत आघात
 - ☒ 4. खंड तालु

Question ID : 264330130985

Option 1 ID : 264330513051

Option 2 ID : 264330513054

Option 3 ID : 264330513053

Option 4 ID : 264330513052

Status : Answered

Chosen Option : 3

Q.47 भारत में उत्पादित वस्तुओं को आयात से बचाने के लिए सरकार द्वारा अपनाए गए निम्नलिखित तरीकों पर विचार करें।

- (i) आयातित वस्तुओं पर भारी टैक्स लगाया जाता था।
 - (ii) देशी उपयोगकर्ता द्वारा किसी वस्तु के आयात की अधिकतम सीमा निर्धारित की गई थी।
- सही उत्तर का चयन करें।

- Ans
- ☒ 1. (i) और (ii) दोनों सत्य हैं
 - ☒ 2. (i) और (ii) दोनों असत्य हैं
 - ☒ 3. केवल (i) सत्य है
 - ☒ 4. केवल (ii) सत्य है

Question ID : 264330116525

Option 1 ID : 264330458186

Option 2 ID : 264330458185

Option 3 ID : 264330458187

Option 4 ID : 264330458188

Status : Answered

Chosen Option : 1

Q.48 भारत का कौन-सा क्षेत्र अनोखे शोला वनों के लिए जाना जाता है?

- Ans
- ☒ 1. दक्कन का पठार
 - ☒ 2. पश्चिमी घाट
 - ☒ 3. थार का रेगिस्तान
 - ☒ 4. पूर्वी हिमालय

Question ID : 264330176015

Option 1 ID : 264330690358

Option 2 ID : 264330690357

Option 3 ID : 264330690355

Option 4 ID : 264330690356

Status : Answered

Chosen Option : 3

Q.49 राजस्थान का घूमर नृत्य मूल रूप से कौन-से आदिवासी समूह द्वारा किया जाता था?

- Ans
- ☒ 1. कथौड़ी
 - ☒ 2. मीणा
 - ☒ 3. कंजर
 - ☒ 4. भील

Question ID : 264330141327

Option 1 ID : 264330553643

Option 2 ID : 264330553646

Option 3 ID : 264330553644

Option 4 ID : 264330553645

Status : Answered

Chosen Option : 3

Q.50 किस वर्ष से भारत में जनगणना हर दस वर्ष में होने वाली एक नियमित प्रक्रिया बन गई है?

- Ans
- ☒ 1. 1881
 - ☒ 2. 1851
 - ☒ 3. 1961
 - ☒ 4. 1951

Question ID : 264330119006

Option 1 ID : 264330466681

Option 2 ID : 264330466680

Option 3 ID : 264330466682

Option 4 ID : 264330466679

Status : Answered

Chosen Option : 1

Section : Reasoning

Q.1 दिए गए संयोजन की सही दर्पण छवि का चयन कीजिए, जब दर्पण को 'PQ' पर रखा गया हो, जैसा कि नीचे दिखाया गया है।

G N V Y T 5

P
|
Q

Ans

- ✗ 1. 2 T A A N 3
- ✗ 2. 3 N A A 1 2
- ✗ 3. 2 1 Y V N 3
- ✓ 4. 2 T Y V N 3

Question ID : 264330129817

Option 1 ID : 264330508499

Option 2 ID : 264330508502

Option 3 ID : 264330508501

Option 4 ID : 264330508500

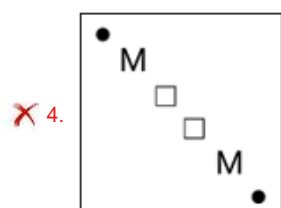
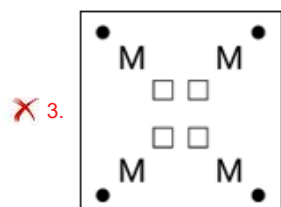
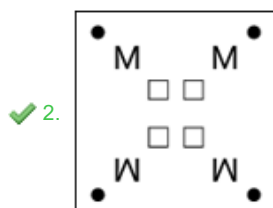
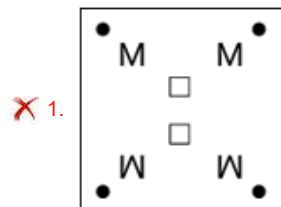
Status : Answered

Chosen Option : 4

Q.2 कागज की एक वर्गाकार शीट को बिंदीदार रेखा के अनुदिश दिखाए गए निर्देशों के अनुसार क्रमिक रूप से मोड़ा जाता है और फिर अंत में इसे छिद्रित किया जाता है। कागज को खोलने पर यह कैसा दिखेगा?



Ans



Question ID : 264330172419

Option 1 ID : 264330676229

Option 2 ID : 264330676228

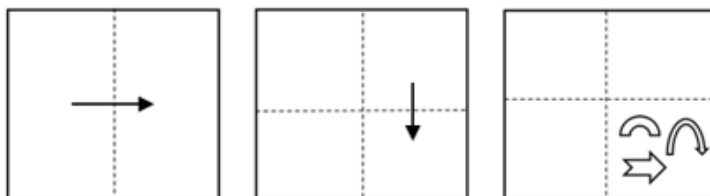
Option 3 ID : 264330676227

Option 4 ID : 264330676230

Status : Answered

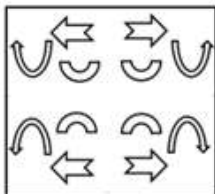
Chosen Option : 2

Q.3 नीचे दर्शाए अनुसार एक कागज को मोड़ा जाता है और काटा जाता है। खोले जाने पर यह कैसा दिखाई देगा?

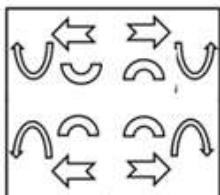


Ans

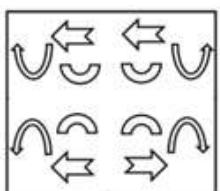
✓ 1.



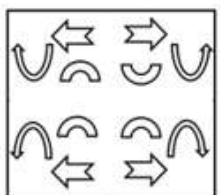
✗ 2.



✗ 3.



✗ 4.



Question ID : 264330113649

Option 1 ID : 264330446684

Option 2 ID : 264330446681

Option 3 ID : 264330446682

Option 4 ID : 264330446683

Status : Answered

Chosen Option : 1

Q.4 दर्पण को नीचे दिए गए चित्र के अनुसार PQ पर रखे जाने पर दी गई आकृति का

दर्पण में निर्मित सही प्रतिबिंब चयनित कीजिए।

4 E c U Q V m |
P
Q

Ans

✗ 1. m V Q U c E 4

✗ 2. m V Q U c E 4

✓ 3. m V Q U c E 4

✗ 4. m V Q U c E 4

Question ID : 26433080786

Option 1 ID : 264330317079

Option 2 ID : 264330317078

Option 3 ID : 264330317077

Option 4 ID : 264330317080

Status : Answered

Chosen Option : 3

X		P	S	X	
C	S	P	P	C	S

1.

2.

3.

4.

Chosen Option : **3**

Q.6 एक पासे के विभिन्न फलकों पर 1, 2, 3, 4, 5 और 6 लिखे गए हैं। उसी पासे की तीन अलग-अलग स्थितियाँ नीचे दर्शाई गई हैं। '1' दर्शाने वाले फलक के विपरीत फलक पर कौन-सी संख्या है?

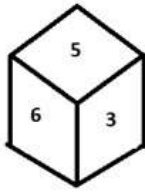


figure 1

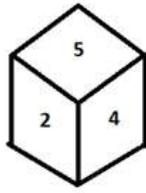


figure 2

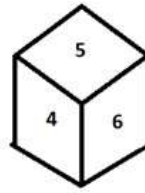


figure 3

Figure - आकृति

Ans ☒ 1. 5

☒ 2. 2

☒ 3. 6

☒ 4. 4

Question ID : 264330110553

Option 1 ID : 264330434492

Option 2 ID : 264330434490

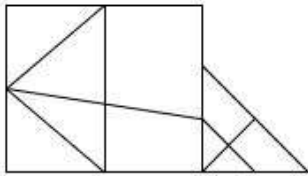
Option 3 ID : 264330434489

Option 4 ID : 264330434491

Status : Answered

Chosen Option : 1

Q.7 दी गई आकृति में कितने त्रिभुज हैं?



Ans ☒ 1. 8

☒ 2. 6

☒ 3. 12

☒ 4. 11

Question ID : 26433085411

Option 1 ID : 264330335346

Option 2 ID : 264330335345

Option 3 ID : 264330335348

Option 4 ID : 264330335347

Status : Answered

Chosen Option : 4

Q.8 यदि श्रृंखला को जारी रखना हो, तो प्रश्न चिह्न (?) के स्थान पर कौन-सी आकृति आनी चाहिए?

3	X	Y	6	3	O	8	X	D	Y	8	6	
	8			Y			O		D			?
6	D	O	D	X	8	Y	3	6	3	X	O	

Ans

✓ 1.

O	X	3
	6	
D	8	Y

✗ 2.

O	X	3
	8	
6	D	Y

✗ 3.

O	X	3
	Y	
6	8	D

✗ 4.

3	X	Y
	8	
O	D	6

Question ID : 264330130809

Option 1 ID : 264330512350

Option 2 ID : 264330512349

Option 3 ID : 264330512347

Option 4 ID : 264330512348

Status : Answered

Chosen Option : 4

Q.9 दिए गए संयोजन की सही दर्पण छवि का चयन कीजिए, जब दर्पण को 'XY' पर रखा जाता है, जैसा कि नीचे दर्शाया गया है।

BRILLIANT

X
|
Y

Ans

✗ 1.

TNELLIRB

✓ 2.

TNELLIRB

✗ 3.

TNELLIRB

✗ 4.

BRILLIANT

Question ID : 264330129692

Option 1 ID : 264330508136

Option 2 ID : 264330508134

Option 3 ID : 264330508137

Option 4 ID : 264330508135

Status : Answered

Chosen Option : 2

Q.10 निम्नलिखित में से कौन-सी विकल्प आकृति नीचे दी गई आकृति के स्वरूप

(पैटर्न) को पूरा करेगी?



Ans

✗ 1.



✓ 2.



✗ 3.



✗ 4.



Question ID : 26433080629

Option 1 ID : 264330316452

Option 2 ID : 264330316451

Option 3 ID : 264330316450

Option 4 ID : 264330316449

Status : Answered

Chosen Option : 1

Q.11 निम्नलिखित समीकरण को सही बनाने के लिए किन दो चिह्नों को आपस में बदला जाना चाहिए?

$$32 \times 5 + 12 \div 4 - 18 = 29$$

- Ans
- ☒ 1. - और +
 - ☒ 2. \div और \times
 - ☒ 3. + और \times
 - ☒ 4. - और \times

Question ID : 264330101078

Option 1 ID : 264330396858

Option 2 ID : 264330396860

Option 3 ID : 264330396857

Option 4 ID : 264330396859

Status : Answered

Chosen Option : 3

Q.12 एक निश्चित कूट भाषा में, 'BEAM' को 'BAFL' के रूप में लिखा जाता है और 'HUGE' को 'FFIT' के रूप में लिखा जाता है। उसी भाषा में 'ZERO' को कैसे लिखा जाएगा?

- Ans
- ☒ 1. FNSY
 - ☒ 2. FSNY
 - ☒ 3. DNSA
 - ☒ 4. DSNA

Question ID : 26433087177

Option 1 ID : 264330342345

Option 2 ID : 264330342346

Option 3 ID : 264330342348

Option 4 ID : 264330342347

Status : Answered

Chosen Option : 2

Q.13 उस विकल्प का चयन करें, जो पाँचवें अक्षर-समूह से उसी प्रकार संबंधित है, जिस प्रकार दूसरा अक्षर-समूह पहले अक्षर-समूह से संबंधित है और चौथा अक्षर-समूह तीसरे अक्षर-समूह से संबंधित है।
HUGE : IJWI :: BEAM : QDGC :: RIDE : ?

- Ans
- ☒ 1. IHKR
 - ☒ 2. IGKR
 - ☒ 3. IGKS
 - ☒ 4. IGLS

Question ID : 26433076454

Option 1 ID : 264330299881

Option 2 ID : 264330299880

Option 3 ID : 264330299882

Option 4 ID : 264330299883

Status : Answered

Chosen Option : 3

Q.14 दिए गए विकल्पों में से उस संख्या का चयन करें जो निम्नलिखित श्रृंखला में प्रश्न चिह्न (?) के स्थान पर आ सकती है।
8.8, ?, 7.3, 6.7, 6.2, 5.8

- Ans ☒ 1. 8.1
☒ 2. 8
☒ 3. 7.9
☒ 4. 8.2

Question ID : 264330111628
Option 1 ID : 264330438598
Option 2 ID : 264330438599
Option 3 ID : 264330438600
Option 4 ID : 264330438597
Status : Answered
Chosen Option : 2

Q.15 निम्नलिखित समीकरण को सही बनाने के लिए किन दो चिह्नों को आपस में बदला जाना चाहिए?

$$39 + 4 \div 5 - 57 \times 3 = 40$$

- Ans ☒ 1. - और +
☒ 2. ÷ और ×
☒ 3. - और ×
☒ 4. + और ÷

Question ID : 264330101085
Option 1 ID : 264330396886
Option 2 ID : 264330396885
Option 3 ID : 264330396887
Option 4 ID : 264330396888
Status : Answered
Chosen Option : 2

Q.16 उस विकल्प का चयन करें जो उन अक्षरों का प्रतिनिधित्व करता है, जिन्हें नीचे दिए गए रिक्त स्थानों में क्रमिक रूप से बाएं से दाएं रखे जाने पर अक्षर श्रृंखला पूर्ण हो जाएगी।
A _ _ PS _ LNP _ A _ N _ S _ LNP _

- Ans ☒ 1. LNASPLAS
☒ 2. NLASLPAS
☒ 3. LNASLPASA
☒ 4. LNASLPAS

Question ID : 26433090011
Option 1 ID : 264330353523
Option 2 ID : 264330353522
Option 3 ID : 264330353524
Option 4 ID : 264330353521
Status : Answered
Chosen Option : 4

Q.17 उस समुच्चय का चयन कीजिए जिसमें संख्याएँ आपस में उसी प्रकार संबंधित हैं जिस प्रकार निम्नलिखित समुच्चयों की संख्याएँ आपस में संबंधित हैं।

(नोट: गणितीय संक्रियाओं को संख्याओं को उसके घटक अंकों में विभाजित किए बिना पूर्ण संख्याओं पर किया जाना चाहिए। जैसे 13 - गणितीय संक्रियाएं जैसे कि 13 में जोड़ना/ घटाना/गुणा करना आदि केवल 13 पर की जा सकती हैं। 13 को 1 और 3 में तोड़ना और फिर 1 और 3 पर गणितीय संक्रियाएँ करने की अनुमति नहीं है)
(2, 14, 3),(4, 28, 5)

Ans  1. (7, 37, 2)

 2. (7, 39, 2)

 3. (7, 45, 2)

 4. (7, 22, 2)

Question ID : 26433097190

Option 1 ID : 264330381460

Option 2 ID : 264330381458

Option 3 ID : 264330381457

Option 4 ID : 264330381459

Status : Answered

Chosen Option : 1

Q.18 यदि निम्नलिखित आकृति श्रृंखला को जारी रखा जाए, तो दिए गए विकल्पों में से कौन-सी आकृति प्रश्नवाचक चिन्ह (?) को प्रतिस्थापित करेगी?

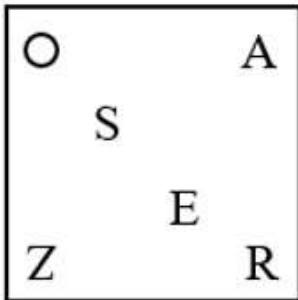
S ○ R A E	Z A S R E Z	Z S E R A	○ R E S A O	?
-----------------------	----------------------------	-----------------------	----------------------------	---

Ans

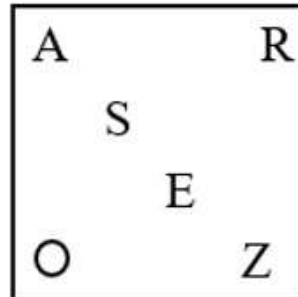
✓ 1.



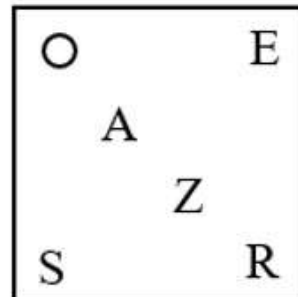
✗ 2.



✗ 3.



✗ 4.



Question ID : 26433044935

Option 1 ID : 264330176177

Option 2 ID : 264330176175

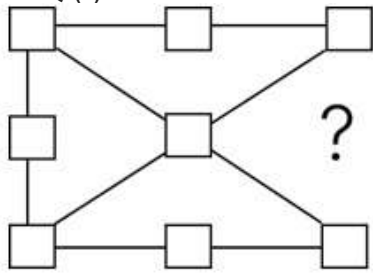
Option 3 ID : 264330176176

Option 4 ID : 264330176178

Status : Answered

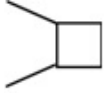
Chosen Option : 3

Q.19 दिए गए विकल्पों में से उस आकृति का चयन करें जो पैटर्न को पूरा करने के लिए नीचे दी गई आकृति में प्रश्न चिह्न (?) का स्थान लेगी ताकि अंतिम छवि सममित हो जाए।



Ans

✗ 1.



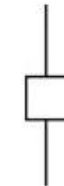
✗ 2.



✗ 3.



✓ 4.



Question ID : 264330114736

Option 1 ID : 264330451031

Option 2 ID : 264330451032

Option 3 ID : 264330451029

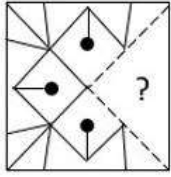
Option 4 ID : 264330451030

Status : Answered

Chosen Option : 4

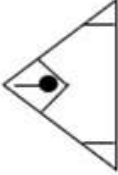
Q.20 उस विकल्प आकृति का चयन करें जो नीचे दी गई आकृति में प्रश्नवाचक चिह्न

(?) के स्थान पर आएगी और पैटर्न को पूरा करेगी।

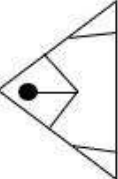


Ans

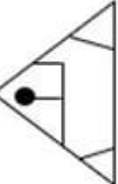
✗ 1.



✗ 2.



✗ 3.



✓ 4.



Question ID : 26433080839

Option 1 ID : 264330317292

Option 2 ID : 264330317289

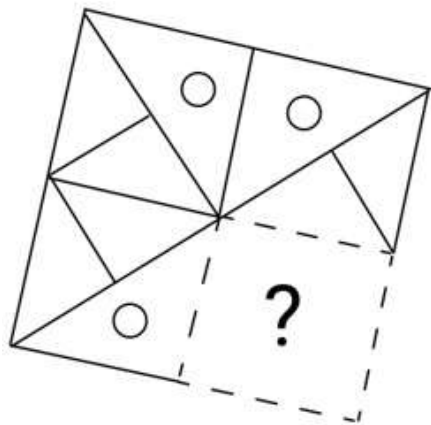
Option 3 ID : 264330317290

Option 4 ID : 264330317291

Status : Answered

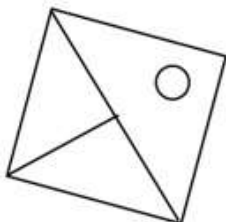
Chosen Option : 4

Q.21 विकल्पों में से उस आकृति का चयन करें, जो प्रश्न चिह्न (?) का स्थान लेकर दिए गए पैटर्न को पूरा कर सकती है।

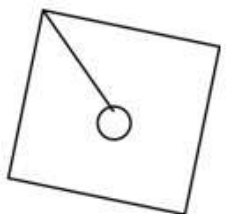


Ans

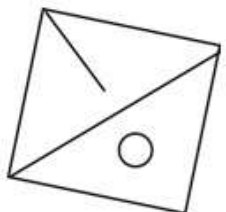
✗ 1.



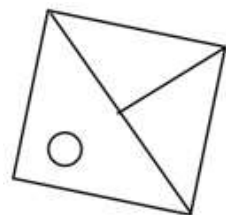
✗ 2.



✗ 3.



✓ 4.



Question ID : 264330106478

Option 1 ID : 264330418216

Option 2 ID : 264330418213

Option 3 ID : 264330418214

Option 4 ID : 264330418215

Status : Answered

Chosen Option : 4

Q.22 उस विकल्प का चयन करें जो तीसरी संख्या से उसी प्रकार संबंधित है जिस प्रकार दूसरी संख्या पहली संख्या से और छठी संख्या पांचवीं संख्या से संबंधित है।
13 : 169 :: 9 : ? :: 21 : 441

- Ans
- ☐ 1. 27
 - ☐ 2. 729
 - ☐ 3. 243
 - ☒ 4. 81

Question ID : 264330101039
Option 1 ID : 264330396703
Option 2 ID : 264330396702
Option 3 ID : 264330396701
Option 4 ID : 264330396704
Status : Answered
Chosen Option : 4

Q.23 P, Q, R, S और T पांच मित्र एक सीधी पंक्ति में उत्तर की ओर मुख करके बैठे हैं। P पंक्ति के दाएं सिरे पर बैठा है। T, S के ठीक बाएं बैठा है, लेकिन वह पंक्ति के बाएं सिरे पर नहीं है। R, P का निकटतम पड़ोसी है। पंक्ति के बाएं सिरे पर कौन बैठा है?

- Ans
- ☐ 1. S
 - ☒ 2. Q
 - ☐ 3. P
 - ☐ 4. R

Question ID : 26433090115
Option 1 ID : 264330353940
Option 2 ID : 264330353939
Option 3 ID : 264330353937
Option 4 ID : 264330353938
Status : Answered
Chosen Option : 2

Q.24 नीचे दो कथन और उसके बाद दो निष्कर्ष I और II दिए गए हैं। कथनों को सत्य मानते हुए, भले ही वे सामान्य रूप से ज्ञात तथ्यों से भिन्न प्रतीत होते हों, निर्णय लीजिए कि कौन-सा/से निष्कर्ष कथनों का तार्किक रूप से अनुसरण करता/करते है/हैं।

कथन:

सभी आंसू नमक हैं।

कुछ आंसू मगरमच्छ हैं।

निष्कर्ष:

I. सभी मगरमच्छ आंसू हैं।

II. सभी मगरमच्छ नमक हैं।

- Ans
- ☐ 1. निष्कर्ष I और II दोनों अनुसरण करते हैं।
 - ☐ 2. केवल निष्कर्ष I अनुसरण करता है।
 - ☐ 3. केवल निष्कर्ष II अनुसरण करता है।
 - ☒ 4. न तो निष्कर्ष I और न ही II अनुसरण करता है।

Question ID : 26433076602
Option 1 ID : 264330300474
Option 2 ID : 264330300472
Option 3 ID : 264330300473
Option 4 ID : 264330300475
Status : Answered
Chosen Option : 4

Q.25 दर्पण को नीचे दिए गए चित्र के अनुसार MN पर रखे जाने पर दी गई आकृति

का दर्पण में निर्मित सही प्रतिबिंब चयनित कीजिए।

B 7 t y u 9 K

M ————— N

Ans

✓ 1. B Δ f λ n θ K

✗ 2. B L f λ n θ K

✗ 3. B Δ f λ n θ X

✗ 4. B Δ t λ n 6 K

Question ID : 26433080790

Option 1 ID : 264330317095

Option 2 ID : 264330317094

Option 3 ID : 264330317093

Option 4 ID : 264330317096

Status : Answered

Chosen Option : 4

Section : Numerical Ability

Q.1 दो उम्मीदवारों के बीच एक चुनाव में, 80% मतदाताओं ने अपने मत डाले, जिनमें से 5% मत अवैध घोषित कर दिए गए। एक उम्मीदवार को 5,700 मत मिले, जो कुल वैध मतों का 75% थे। उस चुनाव में नामांकित मतदाताओं की कुल संख्या ज्ञात कीजिए।

Ans

✓ 1. 10000

✗ 2. 12000

✗ 3. 9500

✗ 4. 9000

Question ID : 264330104423

Option 1 ID : 264330409994

Option 2 ID : 264330409993

Option 3 ID : 264330409995

Option 4 ID : 264330409996

Status : Answered

Chosen Option : 1

Q.2 तीन संख्याएं 4 : 5 : 6 के अनुपात में हैं और उनका लघुत्तम समापवर्त्य (LCM) 180 है। उनका महत्तम समापवर्तक (HCF) ज्ञात करें।

Ans

✗ 1. 5

✗ 2. 2

✓ 3. 3

✗ 4. 4

Question ID : 264330104150

Option 1 ID : 264330408904

Option 2 ID : 264330408901

Option 3 ID : 264330408902

Option 4 ID : 264330408903

Status : Answered

Chosen Option : 1

Q.3 एक गोले का व्यास 10 cm है। गोले के आयतन को घन मीटर में ज्ञात करें?

Ans

☒ 1. $\frac{\pi}{8} \times 10^{-2}$

☒ 2. $\frac{\pi}{6} \times 10^{-2}$

☒ 3. $\frac{\pi}{6} \times 10^{-3}$

☒ 4. $\frac{\pi}{8} \times 10^{-3}$

Question ID : 264330118206

Option 1 ID : 264330464641

Option 2 ID : 264330464639

Option 3 ID : 264330464640

Option 4 ID : 264330464642

Status : Not Answered

Chosen Option : --

Q.4 204, 507 और 174 का म.स.प. कितना है?

Ans

☒ 1. 2

☒ 2. 17

☒ 3. 13

☒ 4. 3

Question ID : 264330106056

Option 1 ID : 264330416525

Option 2 ID : 264330416528

Option 3 ID : 264330416527

Option 4 ID : 264330416526

Status : Answered

Chosen Option : 4

Q.5 14 cm व्यास वाले अर्धगोले का आयतन (cm^3 में) ज्ञात करें ($\pi = \frac{22}{7}$ का प्रयोग करें)

Ans

☒ 1. $\frac{2,615}{3}$

☒ 2. $\frac{2,156}{3}$

☒ 3. $\frac{2,651}{3}$

☒ 4. $\frac{2,516}{3}$

Question ID : 264330109354

Option 1 ID : 264330429695

Option 2 ID : 264330429693

Option 3 ID : 264330429696

Option 4 ID : 264330429694

Status : Not Answered

Chosen Option : --

Q.6 एक मोबाइल फोन ₹39,300 के नकद भुगतान, या ₹7,450 के नकद तत्काल भुगतान (डाउन पेमेंट) और तीन समान वार्षिक किश्तों पर उपलब्ध है। यदि दुकानदार 20% वार्षिक की दर से ब्याज लेता है, जो वार्षिक रूप से चक्रवृद्धि होता है, तो किश्त की राशि (₹ में) ज्ञात करें।

Ans ☒ 1. 15120

☒ 2. 14060

☒ 3. 16240

☒ 4. 15000

Question ID : 264330103986

Option 1 ID : 264330408247

Option 2 ID : 264330408245

Option 3 ID : 264330408248

Option 4 ID : 264330408246

Status : Not Answered

Chosen Option : --

Q.7 रजनीश ने प्रति माह सोने में निवेश करने का फैसला किया। वह ₹65,000 मूल्य का सोना खरीदता है। इस पर उसे 8% की छूट मिलती है। छूट मिलने के बाद वह 10% की दर से कर देता है। अगले माह, वह 10% की छूट और 12% कर के साथ ₹70,000 का सोना खरीदता है। पहले माह की तुलना में दूसरे माह में उसके निवेश में प्रतिशत परिवर्तन कितना है?

Ans ☒ 1. वृद्धि; 5 और 6% के बीच

☒ 2. वृद्धि; 7 और 8% के बीच

☒ 3. कमी; 5 और 6 % के बीच

☒ 4. कमी; 7 और 8 % के बीच

Question ID : 264330103697

Option 1 ID : 264330407095

Option 2 ID : 264330407093

Option 3 ID : 264330407094

Option 4 ID : 264330407096

Status : Answered

Chosen Option : 1

Q.8 दो संख्याओं का अनुपात 5:7 है और उनका अंतर 48 है। दोनों संख्याओं में से सबसे छोटी संख्या _____ है।

Ans ☒ 1. 80

☒ 2. 100

☒ 3. 140

☒ 4. 120

Question ID : 264330111467

Option 1 ID : 264330437953

Option 2 ID : 264330437954

Option 3 ID : 264330437956

Option 4 ID : 264330437955

Status : Answered

Chosen Option : 4

Q.9 एक 220 m लंबी ट्रेन, जो 99 km/h की चाल से चल रही है, विपरीत दिशा से 81 km/h की चाल से आ रही दूसरी ट्रेन को 9 सेकंड में पूरी तरह से पार कर जाती है। दूसरी ट्रेन की लंबाई (मीटर में) ज्ञात करें।

Ans ☒ 1. 230

☐ 2. 225

☐ 3. 240

☐ 4. 220

Question ID : 264330122847

Option 1 ID : 264330481457

Option 2 ID : 264330481455

Option 3 ID : 264330481458

Option 4 ID : 264330481456

Status : Answered

Chosen Option : 1

Q.10 कितने प्रतिशत वार्षिक दर से कोई धनराशि साधारण ब्याज पर 7 वर्ष में स्वयं की दोगुनी हो जाएगी?

Ans

☐ 1. $14\frac{1}{7}\%$

☐ 2. $14\frac{4}{7}\%$

☐ 3. $7\frac{1}{14}\%$

☒ 4. $14\frac{2}{7}\%$

Question ID : 264330119952

Option 1 ID : 264330470084

Option 2 ID : 264330470085

Option 3 ID : 264330470083

Option 4 ID : 264330470086

Status : Answered

Chosen Option : 4

Q.11 एक व्यापारी ने एक वस्तु की कीमत को उत्पादन लागत से 24% अधिक तय किया है। इसे बेचते समय, वह तय की गई कीमत पर 15% की छूट देता है और ₹27 का लाभ कमाता है। वस्तु की उत्पादन लागत ज्ञात कीजिए।

Ans ☒ 1. ₹500

☐ 2. ₹600

☐ 3. ₹700

☐ 4. ₹400

Question ID : 264330119928

Option 1 ID : 264330469988

Option 2 ID : 264330469989

Option 3 ID : 264330469990

Option 4 ID : 264330469987

Status : Answered

Chosen Option : 1

Q.12 एक वस्तु को ₹1,500 में बेचने पर, एक दुकानदार को 20% की हानि होती है। 10% का लाभ प्राप्त करने के लिए उसे वह वस्तु किस मूल्य पर बेचनी चाहिए?

- Ans
- ☒ 1. ₹2,162.50
 - ☒ 2. ₹2,000
 - ☒ 3. ₹2,062.50
 - ☒ 4. ₹2,100

Question ID : 264330109248

Option 1 ID : 264330429272

Option 2 ID : 264330429270

Option 3 ID : 264330429269

Option 4 ID : 264330429271

Status : Answered

Chosen Option : 3

Q.13 A किसी काम को 30 दिनों में कर सकता है और B उसी काम को 40 दिनों में कर सकता है। वे 8 दिनों तक एक साथ काम करते हैं और फिर B काम छोड़ देता है। शेष काम को A कितने दिनों में पूरा करेगा?

- Ans
- ☒ 1. 15
 - ☒ 2. 14
 - ☒ 3. 16
 - ☒ 4. 17

Question ID : 264330103995

Option 1 ID : 264330408283

Option 2 ID : 264330408281

Option 3 ID : 264330408284

Option 4 ID : 264330408282

Status : Answered

Chosen Option : 4

Q.14 480 को कितने प्रकार से दो संख्याओं, जो एक दूसरे से सहअभाज्य हैं, के गुणनफल के रूप में लिखा जा सकता है?

- Ans
- ☒ 1. 1
 - ☒ 2. 4
 - ☒ 3. 2
 - ☒ 4. 3

Question ID : 264330109329

Option 1 ID : 264330429593

Option 2 ID : 264330429596

Option 3 ID : 264330429594

Option 4 ID : 264330429595

Status : Answered

Chosen Option : 2

Q.15 यदि p और q दो अभाज्य संख्याएँ हैं, तो p और q का औसत ज्ञात करें।

- Ans
- ☒ 1. $p + q$
 - ☒ 2. $p - q$
 - ☒ 3. $(p - q)/2$
 - ☒ 4. $(p + q)/2$

Question ID : 264330119395

Option 1 ID : 264330467868

Option 2 ID : 264330467869

Option 3 ID : 264330467870

Option 4 ID : 264330467867

Status : Answered

Chosen Option : 4

Section : Computer Proficiency

Q.1 एमएस एक्सेल 365 (MS Excel 365) में, निम्नलिखित में से कौन-सा विकल्प वह फंक्शन है जो सेल्स की एक रेंज में दर्ज मानों का योगफल प्रदान करता है?

- Ans
- ☒ 1. AVERAGE
 - ☒ 2. COUNT
 - ☒ 3. MAX
 - ☒ 4. SUM

Question ID : 264330178562

Option 1 ID : 264330700277

Option 2 ID : 264330700276

Option 3 ID : 264330700278

Option 4 ID : 264330700275

Status : Answered

Chosen Option : 2

Q.2 एमएस एक्सेल 365 (MS Excel 365) में 'Sort & Filter' समूह निम्नलिखित में से किस टैब में होता है?

- Ans
- ☒ 1. होम (Home)
 - ☒ 2. इन्सर्ट (Insert)
 - ☒ 3. डेटा (Data)
 - ☒ 4. व्यू (View)

Question ID : 264330181070

Option 1 ID : 264330710223

Option 2 ID : 264330710224

Option 3 ID : 264330710225

Option 4 ID : 264330710226

Status : Answered

Chosen Option : 2

Q.3 एमएस वर्ड 365 (MS Word 365) में, हैमबर्गर मेनू (hamburger menu) से आपका क्या तात्पर्य है?

- Ans
- ☐ 1. यह डॉक्यूमेंट को फाइल में प्रिंट करता है।
 - ☐ 2. यह डॉक्यूमेंट को फाइल में डिलीट करता है।
 - ☐ 3. यह डॉक्यूमेंट को फाइल में सेव करता है।
 - ☒ 4. यह ट्रेडिशनल फाइल मेनू को हाईड करता है।

Question ID : 264330171420

Option 1 ID : 264330672298

Option 2 ID : 264330672296

Option 3 ID : 264330672295

Option 4 ID : 264330672297

Status : Not Answered

Chosen Option : --

Q.4 निम्नलिखित में से कौन-सी इंटरनेट सेवा, इंटरनेट पर एक ऐसा सुरक्षित कनेक्शन है जो यूज़र को दूरस्थ स्थान से निजी नेटवर्क से जुड़ने की सुविधा देती है?

- Ans
- ☐ 1. वेब ब्राउज़िंग (Web browsing)
 - ☐ 2. ई-मेल (Email)
 - ☒ 3. वीपीएन (VPN)
 - ☐ 4. वीओआईपी (VoIP)

Question ID : 264330180599

Option 1 ID : 264330708364

Option 2 ID : 264330708363

Option 3 ID : 264330708365

Option 4 ID : 264330708366

Status : Answered

Chosen Option : 1

Q.5 माइक्रोसॉफ्ट वर्ड 365 में 'प्रिंट प्रीव्यू' फीचर का उद्देश्य क्या होता है?

- Ans
- ☐ 1. यह आपको टेक्स्ट और फॉर्मेटिंग एडिट करने की सुविधा देता है।
 - ☐ 2. यह आपको इमेज और ग्राफ़िक्स इंसर्ट करने की सुविधा देता है।
 - ☐ 3. यह व्याकरण और वर्तनी में सुधार के लिए सुझाव देता है।
 - ☒ 4. यह इस बात का पूर्वावलोकन प्रदान करता है कि प्रिंट होने पर डॉक्यूमेंट कैसा दिखेगा।

Question ID : 264330180723

Option 1 ID : 264330708859

Option 2 ID : 264330708861

Option 3 ID : 264330708862

Option 4 ID : 264330708860

Status : Answered

Chosen Option : 4

Q.6 ईमेल क्लाइंट का प्राथमिक उद्देश्य क्या होता है?

- Ans
- ☐ 1. वीडियो गेम खेलना
 - ☒ 2. ईमेल पढ़ना और भेजना
 - ☐ 3. स्प्रेडशीट बनाना
 - ☐ 4. फ़ोटो एडिट करना

Question ID : 264330180661

Option 1 ID : 264330708611

Option 2 ID : 264330708612

Option 3 ID : 264330708614

Option 4 ID : 264330708613

Status : Answered

Chosen Option : 3

Q.7 स्प्रेडशीट सॉफ्टवेयर में निम्नलिखित में से कौन-से सूत्र का उपयोग सेल की श्रेणी में अधिकतम मान ज्ञात करने के लिए किया जा सकता है?

- Ans
- ☐ 1. MIN()
 - ☐ 2. COUNT()
 - ☒ 3. MAX()
 - ☐ 4. SUM()

Question ID : 264330173319

Option 1 ID : 264330679756

Option 2 ID : 264330679758

Option 3 ID : 264330679755

Option 4 ID : 264330679757

Status : Answered

Chosen Option : 3

Q.8 एमएस वर्ड (MS Word) में एक टेबल में 'सेल पैडिंग (Cell Padding)' प्रॉपर्टी का उद्देश्य निम्नलिखित में से क्या है?

- Ans
- ☐ 1. आसन्न सेल्स को मर्ज करना
 - ☒ 2. सेल्स और उसके कंटेंट के बीच के स्पेस को एडजस्ट करना
 - ☐ 3. सेल के भीतर फॉन्ट साइज बदलना
 - ☐ 4. प्रत्येक सेल के चारों ओर एक बॉर्डर ऐड करना

Question ID : 264330180836

Option 1 ID : 264330709310

Option 2 ID : 264330709307

Option 3 ID : 264330709309

Option 4 ID : 264330709308

Status : Answered

Chosen Option : 2

Q.9 एमएस वर्ड 365 (MS Word 365) डॉक्यूमेंट में 'बोल्ड (Bold)' फॉर्मेटिंग विकल्प का टेक्स्ट पर सामान्यतः निम्नलिखित में से क्या प्रभाव पड़ता है?

- Ans
- ☒ 1. टेक्स्ट को गाढ़ा और मोटा बनाता है
 - ☐ 2. फॉन्ट स्टाइल को इटैलिक में बदलता है
 - ☐ 3. टेक्स्ट को बड़ा करता है
 - ☐ 4. टेक्स्ट का रंग बदलता है

Question ID : 264330180842

Option 1 ID : 264330709333

Option 2 ID : 264330709331

Option 3 ID : 264330709332

Option 4 ID : 264330709334

Status : Not Answered

Chosen Option : --

Q.10 एमएस वर्ड 365 (MS Word 365) में, होम (Home) टैब के भीतर किस ग्रुप में अलाइनमेंट ऑप्शन होते हैं?

Ans  1. पैराग्राफ (Paragraph)

 2. स्टाइल (Styles)

 3. एडिटिंग (Editing)

 4. फ्रॉन्ट (Font)

Question ID : **264330180639**

Option 1 ID : **264330708525**

Option 2 ID : **264330708524**

Option 3 ID : **264330708526**

Option 4 ID : **264330708523**

Status : **Not Answered**

Chosen Option : --