

Constable Executive Male and Female in Delhi Police Examination 2023

Roll Number	
Candidate Name	
Venue Name	ION Digital Zone iDZ Trinity 2
Exam Date	21/11/2023
Exam Time	12:00 PM - 1:30 PM
Subject	Constable Executive Male and Female in Delhi Police Examination 2023

Section : General Knowledge

Q.1 प्रशासक के लिए उच्च शिक्षा नेतृत्व विकास कार्यक्रम (Higher Education Leadership Development Programme for Administrator) किस केंद्रीय मंत्रालय द्वारा शुरू किया गया कार्यक्रम है?

- Ans
- ☒ 1. कौशल विकास और उद्यमिता मंत्रालय
 - ☒ 2. कॉर्पोरेट कार्य मंत्रालय
 - ☒ 3. एम.एस.एम.ई. (MSME) मंत्रालय
 - ☒ 4. मानव संसाधन विकास मंत्रालय

Question ID : 264330110184
Option 1 ID : 264330433015
Option 2 ID : 264330433013
Option 3 ID : 264330433016
Option 4 ID : 264330433014

Status : Answered

Chosen Option : 1

Q.2 राज्यसभा सदस्य सोनल मानसिंह _____ और भरतनाट्यम की प्रख्यात नृत्यांगना हैं।

- Ans
- ☒ 1. ओडिसी
 - ☒ 2. कथक
 - ☒ 3. मोहिनीअट्टम
 - ☒ 4. कथकली

Question ID : 264330111979
Option 1 ID : 264330440002
Option 2 ID : 264330440003
Option 3 ID : 264330440001
Option 4 ID : 264330440004

Status : Not Answered

Chosen Option : --

Q.3 किस प्रकार के प्रोटीन द्विपरत झिल्ली के भीतर रहते हैं, जो कोशिकाओं और कोशिकांग को परिबद्ध करती हैं, और उनके बीच अणुओं के संचलन तथा ऊर्जा और संकेतों के संचरण में महत्वपूर्ण भूमिका निभाती हैं?

- Ans
- ☒ 1. वाहक प्रोटीन
 - ☒ 2. परिधीय झिल्ली प्रोटीन
 - ☒ 3. अखंड झिल्ली प्रोटीन
 - ☒ 4. ग्लाइकोप्रोटीन

Question ID : 264330114599

Option 1 ID : 264330450484

Option 2 ID : 264330450483

Option 3 ID : 264330450481

Option 4 ID : 264330450482

Status : Not Answered

Chosen Option : --

Q.4 निम्नलिखित में से कौन-सा बौद्ध ग्रंथ बौद्ध भिक्षु नागसेन और इंडो ग्रीक राजा मिनांडर के मध्य हुई वार्तालाप पर आधारित है?

- Ans
- ☒ 1. महावंश
 - ☒ 2. मिलिंदपन्ह
 - ☒ 3. प्रज्ञापारमिता
 - ☒ 4. धम्मपद

Question ID : 264330183115

Option 1 ID : 264330718194

Option 2 ID : 264330718193

Option 3 ID : 264330718195

Option 4 ID : 264330718192

Status : Not Answered

Chosen Option : --

Q.5 विलायत खान निम्नलिखित में से किस वाद्य-यंत्र को बजाने के लिए जाने जाते हैं?

- Ans
- ☒ 1. सरोद
 - ☒ 2. वायोलिन
 - ☒ 3. संतूर
 - ☒ 4. सितार

Question ID : 264330111931

Option 1 ID : 264330439810

Option 2 ID : 264330439809

Option 3 ID : 264330439812

Option 4 ID : 264330439811

Status : Not Answered

Chosen Option : --

Q.6 मृणालिनी साराभाई निम्न में से किस नृत्य शैली से संबंधित हैं?

- Ans ☒ 1. कथकली
☒ 2. मोहिनीअट्टम
☒ 3. कथक
☒ 4. मणिपुरी

Question ID : 264330109297

Option 1 ID : 264330429467

Option 2 ID : 264330429465

Option 3 ID : 264330429468

Option 4 ID : 264330429466

Status : Not Answered

Chosen Option : --

Q.7 संयुक्त राज्य अमेरिका में रामकृष्ण मिशन की सबसे पुरानी शाखा कहाँ स्थित है?

- Ans ☒ 1. शिकागो
☒ 2. न्यूयॉर्क
☒ 3. अटलांटा
☒ 4. टेक्सास

Question ID : 264330119008

Option 1 ID : 264330466690

Option 2 ID : 264330466687

Option 3 ID : 264330466688

Option 4 ID : 264330466689

Status : Answered

Chosen Option : 1

Q.8 IISCO और TISCO औद्योगिक संयंत्र किस उद्योग से संबंधित हैं?

- Ans ☒ 1. सीमेंट
☒ 2. चीनी
☒ 3. कपड़ा
☒ 4. लौह एवं इस्पात

Question ID : 264330178709

Option 1 ID : 264330700866

Option 2 ID : 264330700864

Option 3 ID : 264330700865

Option 4 ID : 264330700863

Status : Not Answered

Chosen Option : --

Q.9 जीवोम (बायोम) को किस प्रकार से परिभाषित किया जा सकता है?

- Ans ☒ 1. एक प्रतिबंधित क्षेत्र जहाँ केवल चुनी हुई प्रजातियों का पालन किया जा सकता है
☒ 2. अपनी वनस्पति, मिट्टी, जलवायु और वन्य जीवन की विशेषता वाला एक बड़ा क्षेत्र
☒ 3. रेगिस्तान का एक क्षेत्र
☒ 4. एक जलीय वातावरण जहाँ केवल मछलियों का पालन किया जा सकता है

Question ID : 264330120953

Option 1 ID : 264330474027

Option 2 ID : 264330474030

Option 3 ID : 264330474029

Option 4 ID : 264330474028

Status : Answered

Chosen Option : 4

Q.10 इंडिया ब्रांड इक्विटी फाउंडेशन की रिपोर्ट (2020-21) के अनुसार, भारत के राज्यों का कौन-सा समूह सबसे बड़ा कॉफी उत्पादक है?

- Ans
- ☒ 1. तमिलनाडु और केरल
 - ☒ 2. कर्नाटक और तमिलनाडु
 - ☒ 3. केरल और आंध्र प्रदेश
 - ☒ 4. कर्नाटक और केरल

Question ID : 264330132712
Option 1 ID : 264330519945
Option 2 ID : 264330519943
Option 3 ID : 264330519946
Option 4 ID : 264330519944
Status : Answered
Chosen Option : 3

Q.11 'प्रधानमंत्री रोजगार योजना' ('PMRY') किस वर्ष आरंभ की गई थी?

- Ans
- ☒ 1. 1993 में
 - ☒ 2. 1999 में
 - ☒ 3. 1990 में
 - ☒ 4. 2001 में

Question ID : 264330130602
Option 1 ID : 264330511520
Option 2 ID : 264330511521
Option 3 ID : 264330511519
Option 4 ID : 264330511522
Status : Not Answered
Chosen Option : --

Q.12 Which of the following is NOT a quality/feature of the parliamentary form of government?

- Ans
- ☒ 1. Wide representation
 - ☒ 2. Single executive
 - ☒ 3. Collective responsibility
 - ☒ 4. Harmony between legislature and executive

Question ID : 264330120170
Option 1 ID : 264330470935
Option 2 ID : 264330470936
Option 3 ID : 264330470937
Option 4 ID : 264330470938
Status : Answered
Chosen Option : 1

Q.13 निम्नलिखित में से कौन-सा, भारत के निजी क्षेत्र का उपक्रम है?

- Ans ☒ 1. बंगाल केमिकल्स एंड फार्मास्यूटिकल्स लिमिटेड (Bengal Chemicals and Pharmaceuticals Limited)
- ☒ 2. हाउसिंग डेवलपमेंट फाइनेंस कॉर्पोरेशन लिमिटेड (Housing Development Finance Corporation Limited)
- ☒ 3. भद्रावती स्टील प्लांट (Bhadravati Steel Plant)
- ☒ 4. एलॉय स्टील्स प्लांट (Alloy Steels Plant)

Question ID : 26433092385
Option 1 ID : 264330362832
Option 2 ID : 264330362829
Option 3 ID : 264330362831
Option 4 ID : 264330362830
Status : Answered
Chosen Option : 3

Q.14 संगीत नाटक अकादमी पुरस्कार विजेता गुरु वेम्पति चिन्ना सत्यम _____ के प्रसिद्ध नर्तक थे।

- Ans ☒ 1. मोहिनीअट्टम
- ☒ 2. भरतनाट्यम
- ☒ 3. कुचिपुड़ी
- ☒ 4. कथकली

Question ID : 264330111969
Option 1 ID : 264330439961
Option 2 ID : 264330439962
Option 3 ID : 264330439964
Option 4 ID : 264330439963
Status : Not Answered
Chosen Option : --

Q.15 एचवाईवी (HYV) बीजों का पूर्ण रूप क्या है, जो हरित-क्रांति के क्रियान्वयन में आवश्यक थे?

- Ans ☒ 1. Hand Yielding Volume seeds (हैंड यील्डिंग वॉल्यूम सीड्स)
- ☒ 2. High Yielding Volume seeds (हाई यील्डिंग वॉल्यूम सीड्स)
- ☒ 3. High Yeast Variety seeds (हाई यीस्ट वैराइटी सीड्स)
- ☒ 4. High Yielding Variety seeds (हाई यील्डिंग वैराइटी सीड्स)

Question ID : 264330117757
Option 1 ID : 264330462846
Option 2 ID : 264330462845
Option 3 ID : 264330462844
Option 4 ID : 264330462843
Status : Answered
Chosen Option : 4

Q.16 उस योजना का नाम क्या है, जिसे वर्ष 2018 में पोषण अभियान के रूप में नया नाम दिया गया है?

- Ans ☒ 1. राष्ट्रीय मध्याह्न भोजन योजना
- ☒ 2. दीन दयाल उपाध्याय अंत्योदय
- ☒ 3. एकीकृत बाल विकास योजना
- ☒ 4. राष्ट्रीय पोषण मिशन

Question ID : 264330117989
Option 1 ID : 264330463772
Option 2 ID : 264330463773
Option 3 ID : 264330463774
Option 4 ID : 264330463771
Status : Answered
Chosen Option : 2

Q.17 निम्नलिखित कथनों पर विचार करें।

- 1) जीवीय और अजीवीय घटक वाली प्रणाली को पारितंत्र के रूप में जाना जाता है।
 - 2) पारितंत्र के सभी घटक परस्पर संबंधित हैं।
 - 3) पारितंत्र की हमेशा स्पष्ट सीमाएँ होती हैं।
- कौन-सा/से कथन सही है/हैं?

Ans ☒ 1. 1 और 3 दोनों कथन सही हैं।

☒ 2. 1 और 2 दोनों कथन सही हैं।

☒ 3. सभी कथन सही हैं।

☒ 4. 2 और 3 दोनों कथन सही हैं।

Question ID : 264330118516

Option 1 ID : 264330465467

Option 2 ID : 264330465465

Option 3 ID : 264330465468

Option 4 ID : 264330465466

Status : Answered

Chosen Option : 2

Q.18 निम्नलिखित में से कौन-सा साँस्कृतिक त्योहार झारखंड के आदिवासी समुदाय द्वारा मनाया जाता है?

Ans ☒ 1. हरेली

☒ 2. सोहराई

☒ 3. साओ जोआओ

☒ 4. उगादी

Question ID : 264330132404

Option 1 ID : 264330518711

Option 2 ID : 264330518713

Option 3 ID : 264330518712

Option 4 ID : 264330518714

Status : Not Answered

Chosen Option : --

Q.19 निम्नलिखित में से किसे 1976 में भारत के संविधान में जोड़ा गया था?

Ans ☒ 1. शिक्षा का अधिकार

☒ 2. मौलिक कर्तव्य

☒ 3. मौलिक अधिकार

☒ 4. निदेशक सिद्धांत

Question ID : 264330118534

Option 1 ID : 264330465537

Option 2 ID : 264330465540

Option 3 ID : 264330465539

Option 4 ID : 264330465538

Status : Answered

Chosen Option : 2

Q.20 निम्नलिखित मुगल सम्राटों में से किसे सिपाहियों ने अपने सरदार के रूप में चुना जिन्होंने 1857 के विद्रोह का नेतृत्व भी किया था?

- Ans
- ☒ 1. शाहजहाँ द्वितीय
 - ☒ 2. औरंगजेब
 - ☒ 3. मुहम्मद शाह
 - ☒ 4. बहादुर शाह जफर

Question ID : 264330114088
Option 1 ID : 264330448438
Option 2 ID : 264330448440
Option 3 ID : 264330448437
Option 4 ID : 264330448439
Status : Answered
Chosen Option : 4

Q.21 के.वी. प्रसाद और एस.वी. राजाराव दोनों निम्नलिखित में से किस तालवाद्य-यंत्र से जुड़े हैं?

- Ans
- ☒ 1. तबला
 - ☒ 2. घातम
 - ☒ 3. कंजीरा
 - ☒ 4. मृदंगम

Question ID : 264330111934
Option 1 ID : 264330439821
Option 2 ID : 264330439822
Option 3 ID : 264330439823
Option 4 ID : 264330439824
Status : Not Answered
Chosen Option : --

Q.22 ओलंपिक में स्विमिंग पूल का आवश्यक (मानक) आकार क्या होता है?

- Ans
- ☒ 1. 50 m × 30 m
 - ☒ 2. 60 m × 60 m
 - ☒ 3. 25 m × 15 m
 - ☒ 4. 50 m × 25 m

Question ID : 264330118474
Option 1 ID : 264330465298
Option 2 ID : 264330465299
Option 3 ID : 264330465300
Option 4 ID : 264330465297
Status : Answered
Chosen Option : 4

Q.23 निम्नलिखित में से किस महिला नेता ने 1890 के भारतीय राष्ट्रीय कांग्रेस अधिवेशन को संबोधित किया था?

- Ans
- ☒ 1. ननीबाला देवी
 - ☒ 2. कादंबिनी गांगुली
 - ☒ 3. बसंती देवी
 - ☒ 4. विना मजूमदार

Question ID : 264330120260
Option 1 ID : 264330471297
Option 2 ID : 264330471298
Option 3 ID : 264330471296
Option 4 ID : 264330471295
Status : Answered
Chosen Option : 2

Q.24 'दि ग्रेट गैट्सबी (The Great Gatsby)' निम्नलिखित में से किस लेखक द्वारा लिखित एक अंग्रेजी उपन्यास है?

- Ans
- ☐ 1. अर्नेस्ट हेमिंग्वे
 - ☐ 2. ऑस्कर वाइल्ड
 - ☒ 3. एफ. स्कॉट फिट्ज़्जेराल्ड
 - ☐ 4. डी.एच. लॉरेन्स

Question ID : 26433055376
Option 1 ID : 264330216488
Option 2 ID : 264330216491
Option 3 ID : 264330216490
Option 4 ID : 264330216489
Status : Not Answered
Chosen Option : --

Q.25 भारत के संविधान के अनुच्छेद 123 और अनुच्छेद 213 निम्नलिखित में से किस विषय से संबंधित हैं?

- Ans
- ☐ 1. रिट जारी करना
 - ☐ 2. न्यायालयों का क्षेत्राधिकार
 - ☒ 3. अध्यादेश बनाने की शक्ति
 - ☐ 4. वार्षिक वित्तीय विवरण

Question ID : 26433053626
Option 1 ID : 264330209807
Option 2 ID : 264330209806
Option 3 ID : 264330209808
Option 4 ID : 264330209809
Status : Answered
Chosen Option : 1

Q.26 भारतीय संविधान का निम्नलिखित में से कौन-सा अनुच्छेद राज्यपाल की अध्यादेश बनाने की शक्ति से संबंधित है?

- Ans
- ☐ 1. अनुच्छेद 203
 - ☒ 2. अनुच्छेद 213
 - ☐ 3. अनुच्छेद 209
 - ☐ 4. अनुच्छेद 205

Question ID : 264330177772
Option 1 ID : 264330697195
Option 2 ID : 264330697198
Option 3 ID : 264330697197
Option 4 ID : 264330697196
Status : Not Answered
Chosen Option : --

Q.27 समभारिक को निम्नलिखित में से किस रूप से परिभाषित किया जाता है?

- Ans
- ☐ 1. एक ही तत्व के परमाणु जिनकी परमाणु संख्याएँ भिन्न होती हैं और प्रोटॉन संख्याएँ भी भिन्न होती हैं
 - ☐ 2. एक ही तत्व के परमाणु जिनकी न्यूट्रॉन संख्याएँ समान होती हैं लेकिन परमाणु संख्याएँ भिन्न होती हैं
 - ☐ 3. एक ही तत्व के परमाणु जिनकी परमाणु संख्याएँ समान होती हैं लेकिन द्रव्यमान संख्याएँ भिन्न होती हैं
 - ☒ 4. विभिन्न तत्वों के परमाणु जिनकी द्रव्यमान संख्याएँ समान होती हैं लेकिन परमाणु संख्याएँ भिन्न होती हैं

Question ID : 264330182937
Option 1 ID : 264330717482
Option 2 ID : 264330717483
Option 3 ID : 264330717480
Option 4 ID : 264330717481
Status : Answered
Chosen Option : 4

Q.28 भारत की जनगणना 2011 के अनुसार, निम्नलिखित में से 10 करोड़ से कम जनसंख्या वाले राज्य का चयन कीजिए?

- Ans
- ☒ 1. महाराष्ट्र
 - ☒ 2. उत्तर प्रदेश
 - ☒ 3. बिहार
 - ☒ 4. पश्चिम बंगाल

Question ID : 264330182976

Option 1 ID : 264330717638

Option 2 ID : 264330717639

Option 3 ID : 264330717637

Option 4 ID : 264330717636

Status : Answered

Chosen Option : 4

Q.29 तेंदुलकर विशेषज्ञ समूह (2009) के अनुसार, वर्ष 2011-2012 के लिए, भारत में शहरी क्षेत्रों के लिए राष्ट्रीय गरीबी रेखा प्रति व्यक्ति प्रति माह _____ तय की गई थी।

- Ans
- ☒ 1. ₹1,000
 - ☒ 2. ₹800
 - ☒ 3. ₹2,000
 - ☒ 4. ₹1,500

Question ID : 264330183050

Option 1 ID : 264330717933

Option 2 ID : 264330717932

Option 3 ID : 264330717935

Option 4 ID : 264330717934

Status : Not Answered

Chosen Option : --

Q.30 मध्य अमेरिका के पश्चिमी तट पर प्रशांत महासागर के नीचे की ओर स्थित एक अपेक्षाकृत छोटी, त्रिकोणीय आकार की लघु महासागरीय प्लेट को क्या कहते हैं?

- Ans
- ☒ 1. कोकोस प्लेट
 - ☒ 2. ओखोटस्क प्लेट
 - ☒ 3. सुंडा प्लेट
 - ☒ 4. नाज़का प्लेट

Question ID : 264330141737

Option 1 ID : 264330555269

Option 2 ID : 264330555270

Option 3 ID : 264330555268

Option 4 ID : 264330555267

Status : Not Answered

Chosen Option : --

Q.31 महाराष्ट्र का चैत्य हॉल _____ का एक उदाहरण है।

- Ans ☒ 1. गुफा वास्तुकला
☐ 2. इस्लामी वास्तुकला
☐ 3. नागर वास्तुकला
☐ 4. द्रविड़ वास्तुकला

Question ID : 264330106229

Option 1 ID : 264330417217

Option 2 ID : 264330417218

Option 3 ID : 264330417220

Option 4 ID : 264330417219

Status : Not Answered

Chosen Option : --

Q.32 विजय स्तम्भ निम्न में से किस शासक ने बनवाया था?

- Ans ☐ 1. दुर्गा दास राठौर
☐ 2. पृथ्वी राज चौहान
☒ 3. राणा कुम्भा
☐ 4. महाराणा प्रताप

Question ID : 264330109325

Option 1 ID : 264330429580

Option 2 ID : 264330429578

Option 3 ID : 264330429579

Option 4 ID : 264330429577

Status : Answered

Chosen Option : 3

Q.33 मुगल काल में कपास और गन्ना जैसी नकदी फसलें क्या कहलाती थीं?

- Ans ☐ 1. जिन्स-ए-तकह
☐ 2. जिन्स-ए-शुक्र
☐ 3. जिन्स-ए-किबलिस
☒ 4. जिन्स-ए-कामिल

Question ID : 264330118988

Option 1 ID : 264330466610

Option 2 ID : 264330466609

Option 3 ID : 264330466608

Option 4 ID : 264330466607

Status : Answered

Chosen Option : 4

Q.34 दोहरी गणना के परिणामस्वरूप, राष्ट्रीय आय _____ होती है।

- Ans ☒ 1. अति-प्राक्कलित
☐ 2. सही-प्राक्कलित
☐ 3. लेखांकन के पूरे वर्ष के लिए प्राक्कलित नहीं
☐ 4. न्यून-प्राक्कलित

Question ID : 264330110166

Option 1 ID : 264330432942

Option 2 ID : 264330432943

Option 3 ID : 264330432944

Option 4 ID : 264330432941

Status : Answered

Chosen Option : 1

Q.35 श्री हनुमान व्यायाम प्रसारक मंडल कहाँ स्थित है?

- Ans
- ☒ 1. नई दिल्ली
 - ☒ 2. अमरावती
 - ☒ 3. मुंबई
 - ☒ 4. नागपुर

Question ID : 264330110369

Option 1 ID : 264330433754

Option 2 ID : 264330433756

Option 3 ID : 264330433753

Option 4 ID : 264330433755

Status : Not Answered

Chosen Option : --

Q.36 पंचवर्षीय योजनाओं के वित्तपोषण के संदर्भ में सार्वजनिक क्षेत्र के मुकाबले निजी क्षेत्र के लिए उपलब्ध वित्त के स्रोतों में कौन-सा शामिल नहीं है?

- Ans
- ☒ 1. इकिटी पूँजी के रूप में विदेशी फंड
 - ☒ 2. व्यक्तियों की बचत
 - ☒ 3. सार्वजनिक क्षेत्र के वित्तीय संस्थान
 - ☒ 4. कर

Question ID : 264330112476

Option 1 ID : 264330441992

Option 2 ID : 264330441989

Option 3 ID : 264330441990

Option 4 ID : 264330441991

Status : Answered

Chosen Option : 1

Q.37 भारतीय नागरिक के मौलिक अधिकारों के संबंध में निम्नलिखित में से कौन-सा/से कथन सत्य है/हैं?

- A. राज्य की मनमानी कार्रवाई के खिलाफ कुछ मौलिक अधिकार उपलब्ध हैं, उनमें से कुछ निजी लोगों के खिलाफ उपलब्ध हैं।
- B. मौलिक अधिकार पूर्ण नहीं हैं, बल्कि अर्ध हैं।
- C. संसद मौलिक अधिकारों को कम या निरस्त कर सकती है, लेकिन उसे भारतीय संविधान की मूल संरचना को प्रभावित किए बिना।
- D. मौलिक अधिकारों के तहत, पीड़ित व्यक्ति सीधे सर्वोच्च न्यायालय नहीं जा सकता, लेकिन वह सीधे उच्च न्यायालय जा सकता है।

- Ans
- ☒ 1. केवल A, B और C
 - ☒ 2. केवल A, C और D
 - ☒ 3. केवल B, C और D
 - ☒ 4. A, B, C और D

Question ID : 264330114757

Option 1 ID : 264330451114

Option 2 ID : 264330451116

Option 3 ID : 264330451115

Option 4 ID : 264330451113

Status : Answered

Chosen Option : 3

Q.38 1873 में सिंह सभा की प्रथम इकाई का गठन कहाँ हुआ था?

- Ans
- ☒ 1. कराची
 - ☒ 2. अमृतसर
 - ☒ 3. चंडीगढ़
 - ☒ 4. पटियाला

Question ID : 264330119026

Option 1 ID : 264330466761

Option 2 ID : 264330466759

Option 3 ID : 264330466760

Option 4 ID : 264330466762

Status : Not Answered

Chosen Option : --

Q.39 निम्नलिखित में से कौन-सा कथन सही है?

- Ans
- ☒ 1. ऊर्जा का पिरामिड हमेशा उल्टा होता है।
 - ☒ 2. सभी पारिस्थितिक तंत्र आकार में स्थिर होते हैं।
 - ☒ 3. पारिस्थितिक तंत्र में ऊर्जा का प्रवाह एकदिशीय होता है।
 - ☒ 4. प्रकृति में, केवल खाद्य श्रृंखलाएँ मौजूद होती हैं, लेकिन खाद्य जाल नहीं।

Question ID : 264330111894

Option 1 ID : 264330439664

Option 2 ID : 264330439661

Option 3 ID : 264330439663

Option 4 ID : 264330439662

Status : Not Answered

Chosen Option : --

Q.40 संगीत नाटक अकादमी प्रख्यात कलाकारों को फेलोशिप देती है। सोनल मानसिंह ने इसे ओडिसी नृत्य के लिए प्राप्त किया, यह किस राज्य का एक नृत्य रूप है?

- Ans
- ☒ 1. उत्तर प्रदेश
 - ☒ 2. केरल
 - ☒ 3. आंध्र प्रदेश
 - ☒ 4. ओडिशा

Question ID : 26433086667

Option 1 ID : 264330340310

Option 2 ID : 264330340312

Option 3 ID : 264330340309

Option 4 ID : 264330340311

Status : Answered

Chosen Option : 4

Q.41 भारतीय संविधान के निम्नलिखित राज्य के नीति निर्देशक सिद्धांतों में से कौन-सा सिद्धांत समाजवादी सिद्धांतों के अंतर्गत आता है?

- Ans
- ☒ 1. पर्यावरण का संरक्षण और सुधार करना और वनों एवं वन्य जीवन की रक्षा करना
 - ☒ 2. पुरुषों और महिलाओं के लिए समान काम के लिए समान वेतन
 - ☒ 3. सहकारी समितियों के कामकाज को संवर्धन करना
 - ☒ 4. मादक पेयों और हानिकर औषधियों के उपभोग का प्रतिषेध करना

Question ID : 264330113406

Option 1 ID : 264330445709

Option 2 ID : 264330445710

Option 3 ID : 264330445712

Option 4 ID : 264330445711

Status : Answered

Chosen Option : 4

Q.42 संविधान की 'मूल संरचना' को प्रभावित किए बिना संविधान के किसी भी भाग में कौन संशोधन कर सकता है?

- Ans
- ☒ 1. कार्यपालिका
 - ☒ 2. न्यायपालिका
 - ☒ 3. संसद
 - ☒ 4. राष्ट्रपति

Question ID : 264330173470
Option 1 ID : 264330680361
Option 2 ID : 264330680360
Option 3 ID : 264330680359
Option 4 ID : 264330680362
Status : Answered
Chosen Option : 3

Q.43 निम्नलिखित उपन्यासकारों में से किसने 'मिडनाइट्स चिल्ड्रन' लिखा था?

- Ans
- ☒ 1. विक्रम सेठ
 - ☒ 2. वीएस नायपॉल
 - ☒ 3. शशि थरूर
 - ☒ 4. सलमान रुश्दी

Question ID : 26433064232
Option 1 ID : 264330251520
Option 2 ID : 264330251522
Option 3 ID : 264330251521
Option 4 ID : 264330251523
Status : Not Answered
Chosen Option : --

Q.44 पहले खेलो इंडिया शीतकालीन खेल कहाँ आयोजित किए गए थे?

- Ans
- ☒ 1. लद्दाख
 - ☒ 2. शिमला
 - ☒ 3. लेह
 - ☒ 4. गुलमर्ग

Question ID : 264330176945
Option 1 ID : 264330693976
Option 2 ID : 264330693978
Option 3 ID : 264330693975
Option 4 ID : 264330693977
Status : Answered
Chosen Option : 4

Q.45 गरीबी कम करने और महिला सशक्तिकरण के लिए बंधन फाइनैशियल सर्विसेज प्राइवेट लिमिटेड की स्थापना निम्नलिखित में से किस वर्ष में की गई थी?

- Ans
- ☒ 1. 2004 में
 - ☒ 2. 2003 में
 - ☒ 3. 2002 में
 - ☒ 4. 2001 में

Question ID : 264330116494
Option 1 ID : 264330458064
Option 2 ID : 264330458063
Option 3 ID : 264330458062
Option 4 ID : 264330458061
Status : Not Answered
Chosen Option : --

Q.46 निम्नलिखित में से कौन 1919 की शुरुआत में अली बंधुओं द्वारा गठित अखिल भारतीय खिलाफत समिति का सदस्य नहीं था?

- Ans
- ☒ 1. हसरत मोहानी
 - ☒ 2. याकूब हसन सैत
 - ☒ 3. मौलाना अबुल कलाम आजाद
 - ☒ 4. हकीम अजमल खान

Question ID : 264330120430
Option 1 ID : 264330471973
Option 2 ID : 264330471971
Option 3 ID : 264330471974
Option 4 ID : 264330471972
Status : Not Answered
Chosen Option : --

Q.47 रुद्रदामन निम्नलिखित में से किस राजवंश से संबंधित थे?

- Ans
- ☒ 1. मौर्य
 - ☒ 2. कुषाण
 - ☒ 3. गुप्त
 - ☒ 4. शक

Question ID : 264330114816
Option 1 ID : 264330451349
Option 2 ID : 264330451352
Option 3 ID : 264330451350
Option 4 ID : 264330451351
Status : Answered
Chosen Option : 2

Q.48 निम्नलिखित में से कौन-सा/सी खिलाड़ी बिलियर्ड्स से संबंधित है?

- Ans
- ☒ 1. पुष्पेंद्र कुमार गर्ग
 - ☒ 2. नमेइरकपम कुंजरानी
 - ☒ 3. गीत सेठी
 - ☒ 4. होमी मोतीवाला

Question ID : 264330176743
Option 1 ID : 264330693188
Option 2 ID : 264330693190
Option 3 ID : 264330693187
Option 4 ID : 264330693189
Status : Not Answered
Chosen Option : --

Q.49 निम्नलिखित में से कौन-सा वह कारक नहीं है जिससे भारत में वर्षा होती है?

- Ans
- ☒ 1. पार्वतिकी
 - ☒ 2. चक्रवात
 - ☒ 3. प्रति-चक्रवात
 - ☒ 4. संवहन

Question ID : 264330179013
Option 1 ID : 264330702058
Option 2 ID : 264330702055
Option 3 ID : 264330702056
Option 4 ID : 264330702057
Status : Answered
Chosen Option : 3

Q.50 'नेशन फर्स्ट, ऑलवेज फर्स्ट' _____ स्वतंत्रता दिवस 2022 की थीम है।

Ans ☒ 1. 70वें

☒ 2. 75वें

☒ 3. 72वें

☒ 4. 77वें

Question ID : 264330106211

Option 1 ID : 264330417147

Option 2 ID : 264330417146

Option 3 ID : 264330417148

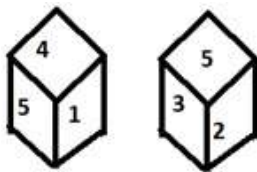
Option 4 ID : 264330417145

Status : Not Answered

Chosen Option : --

Section : Reasoning

Q.1 एक पासे के अलग-अलग फलकों पर छह संख्याएं 1, 2, 3, 4, 5 और 6 लिखी गई हैं। दिए गए चित्र में इस पासे की दो स्थितियां दर्शाई गई हैं। 3 दशनि वाले फलक के विपरीत वाले फलक पर कौन-सी संख्या होगी?



Ans ☒ 1. 2

☒ 2. 1

☒ 3. 4

☒ 4. 6

Question ID : 264330117906

Option 1 ID : 264330463440

Option 2 ID : 264330463439

Option 3 ID : 264330463442

Option 4 ID : 264330463441

Status : Answered

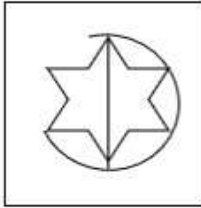
Chosen Option : 2

Q.2 उस विकल्प आकृति का चयन कीजिए, जिसमें निम्न आकृति अंतर्निहित है। (घुमाने की अनुमति नहीं है)

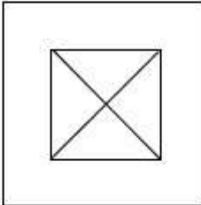


Ans

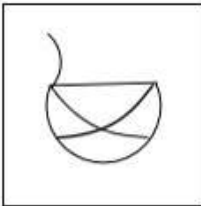
✗ 1.



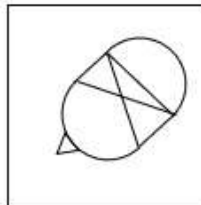
✗ 2.



✗ 3.



✓ 4.



Question ID : 264330112592

Option 1 ID : 264330442456

Option 2 ID : 264330442453

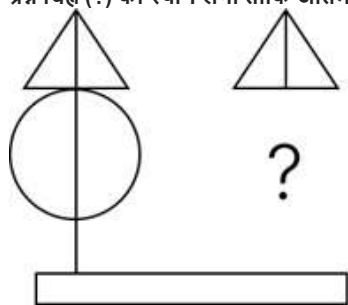
Option 3 ID : 264330442454

Option 4 ID : 264330442455

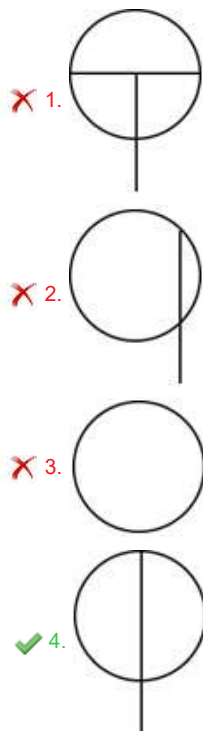
Status : Answered

Chosen Option : 4

Q.3 दिए गए विकल्पों में से उस आकृति का चयन करें जो पैटर्न को पूरा करने के लिए नीचे दी गई आकृति में प्रश्न चिह्न (?) का स्थान लेगी ताकि अंतिम छवि सममित हो जाए।



Ans



Question ID : 264330114737

Option 1 ID : 264330451035

Option 2 ID : 264330451036

Option 3 ID : 264330451033

Option 4 ID : 264330451034

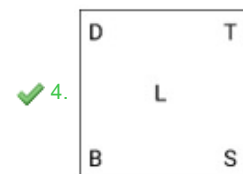
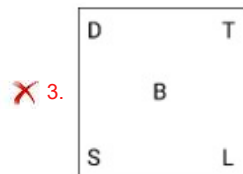
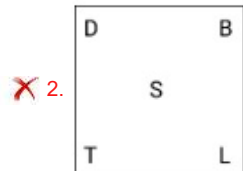
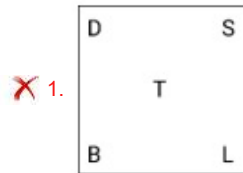
Status : Answered

Chosen Option : 4

Q.4 निम्नलिखित श्रृंखला को जारी रखने के लिए प्रश्न चिह्न (?) के स्थान पर कौन सी आकृति आनी चाहिए?

B	O	Z	T	B	Z	L	T	B	L	
	L		O		D		Z		S	?
Z	T	B	L	L	T	B	D	D	T	

Ans



Question ID : 264330103887

Option 1 ID : 264330407851

Option 2 ID : 264330407849

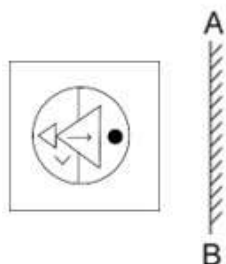
Option 3 ID : 264330407850

Option 4 ID : 264330407852

Status : Answered

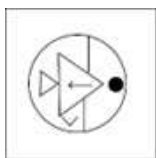
Chosen Option : 4

Q.5 दर्पण को दर्शाए अनुसार रेखा 'AB' पर रखे जाने पर दी गई आकृति के सही दर्पण प्रतिबिम्ब का चयन कीजिए।

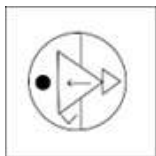


Ans

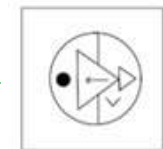
✗ 1.



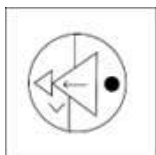
✗ 2.



✓ 3.



✗ 4.



Question ID : 264330118174

Option 1 ID : 264330464512

Option 2 ID : 264330464513

Option 3 ID : 264330464514

Option 4 ID : 264330464511

Status : Answered

Chosen Option : 2

Q.6 निम्नलिखित में से कौन-सी विकल्प आकृति नीचे दी गई आकृति के स्वरूप

(पैटर्न) को पूरा करेगी?



Ans

✗ 1.



✗ 2.



✗ 3.



✓ 4.



Question ID : 26433080620

Option 1 ID : 264330316413

Option 2 ID : 264330316416

Option 3 ID : 264330316415

Option 4 ID : 264330316414

Status : Answered

Chosen Option : 4

Q.7 यदि 'A' का अर्थ '+' है, 'B' का अर्थ 'x' है, 'C' का अर्थ '-' है और 'D' का अर्थ '÷' है, तो निम्नलिखित

समीकरण में '?' के स्थान पर क्या आएगा?

(35 A 7 B 2) D 7 C (14 D 2 C 6) A 6 = ?

Ans ✓ 1. 12

✗ 2. 1

✗ 3. 0

✗ 4. 15

Question ID : 26433082472

Option 1 ID : 264330323723

Option 2 ID : 264330323722

Option 3 ID : 264330323724

Option 4 ID : 264330323721

Status : Answered

Chosen Option : 1

Q.8 एक निश्चित कूट भाषा में 'BABY' को '43427' और 'CREW' को '520725' लिखा जाता है। उस भाषा में 'DATE' को कैसे लिखा जाएगा?

- Ans ☒ 1. 62206
☒ 2. 63227
☒ 3. 41205
☒ 4. 53215

Question ID : 26433089412
Option 1 ID : 264330351149
Option 2 ID : 264330351152
Option 3 ID : 264330351151
Option 4 ID : 264330351150
Status : Answered
Chosen Option : 2

Q.9 उस विकल्प का चयन करें जो तीसरे पद से उसी प्रकार संबंधित है जिस प्रकार दूसरा पद पहले पद से और छठा पद पांचवें पद से संबंधित है।
4 : 12 :: 8 : ? :: 10 : 24

- Ans ☒ 1. 16
☒ 2. 20
☒ 3. 24
☒ 4. 22





Question ID : 264330101048
Option 1 ID : 264330396737
Option 2 ID : 264330396739
Option 3 ID : 264330396740
Option 4 ID : 264330396738
Status : Answered
Chosen Option : 2

Q.10 J, K, L, M, N और O एक गोल मेज के परितः केंद्र की ओर मुख करके बैठे हैं। J और O के बीच केवल दो व्यक्ति बैठे हैं। O और N के बीच केवल एक व्यक्ति बैठा है। N और M के बीच केवल दो व्यक्ति बैठे हैं। K, N के ठीक दाएं बैठा है। L के ठीक बाएं कौन बैठा है?

- Ans ☒ 1. M
☒ 2. N
☒ 3. K
☒ 4. O

Question ID : 264330104450
Option 1 ID : 264330410101
Option 2 ID : 264330410103
Option 3 ID : 264330410102
Option 4 ID : 264330410104
Status : Answered
Chosen Option : 1

Q.11 गणितीय चिह्नों के उस सही संयोजन का चयन करें, जो * चिह्नों को क्रमिक रूप से प्रतिस्थापित कर सकता है और दिए गए समीकरण को संतुलित कर सकता है।
 $17 \times 3 \times 6 \times 45$

- Ans  1. $-, =, +$
 2. $\times, -, =$
 3. $+, -, =$
 4. $\times, +, =$

Question ID : 26433079096

Option 1 ID : 264330310390

Option 2 ID : 264330310388

Option 3 ID : 264330310389

Option 4 ID : 264330310391

Status : Answered

Chosen Option : 2

Q.12 उस समुच्चय का चयन करें जिसमें संख्याएँ उस प्रकार से संबंधित नहीं हैं जिस प्रकार निम्नलिखित समुच्चयों की संख्याएँ संबंधित हैं।

(192, 12, 10), (195, 15, 7)

(नोट: संख्याओं को उसके घटक अंकों में विभाजित किए बिना, पूर्ण संख्याओं पर संक्रियाएँ की जानी चाहिए।)

- Ans  1. (228, 12, 13)
 2. (128, 8, 10)
 3. (208, 13, 16)
 4. (189, 9, 15)

Question ID : 26433097242

Option 1 ID : 264330381666

Option 2 ID : 264330381665

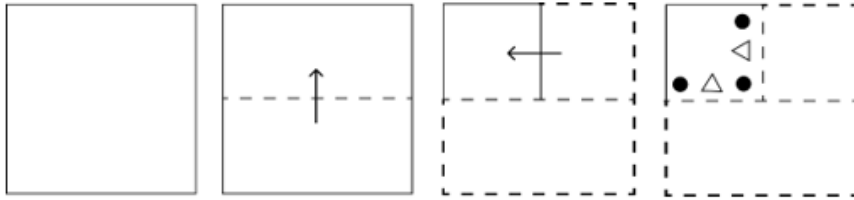
Option 3 ID : 264330381667

Option 4 ID : 264330381668

Status : Answered

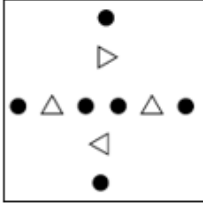
Chosen Option : 1

Q.13 कागज की एक वर्गाकार शीट को बिंदीदार रेखा के अनुदिश दिखाए गए निर्देशों के अनुसार क्रमिक रूप से मोड़ा जाता है और फिर अंत में इसे छिद्रित किया जाता है। कागज को खोलने पर यह कैसा दिखेगा?

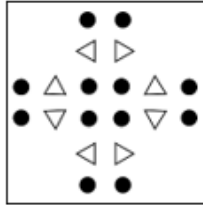


Ans

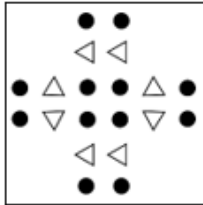
✗ 1.



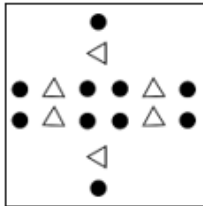
✓ 2.



✗ 3.



✗ 4.



Question ID : 264330172417

Option 1 ID : 264330676219

Option 2 ID : 264330676221

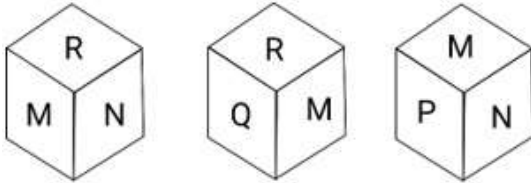
Option 3 ID : 264330676220

Option 4 ID : 264330676222

Status : Answered

Chosen Option : 2

Q.14 एक पासे के अलग-अलग फलकों पर छह अक्षर M, N, O, P, Q और R लिखे गए हैं। इस पासे की तीन स्थितियां यहां दर्शाई गई हैं। M अक्षर वाले फलक के विपरीत फलक पर कौन-सा अक्षर होगा?



Ans ☒ 1. O

☐ 2. Q

☐ 3. N

☐ 4. R

Question ID : 264330106402

Option 1 ID : 264330417910

Option 2 ID : 264330417911

Option 3 ID : 264330417909

Option 4 ID : 264330417912

Status : Answered

Chosen Option : 1

Q.15 उस विकल्प का चयन कीजिए जो पांचवें अक्षर समूह से उसी तरह संबंधित है जिस तरह दूसरा अक्षर समूह पहले अक्षर समूह से संबंधित है और चौथा अक्षर समूह तीसरे अक्षर समूह से संबंधित है।
PENG : LIJK :: MONG : ISJK :: FTCH : ?

Ans ☐ 1. AIEB

☒ 2. BXYL

☐ 3. JKRI

☐ 4. VDAG

Question ID : 26433074687

Option 1 ID : 264330292839

Option 2 ID : 264330292836

Option 3 ID : 264330292837

Option 4 ID : 264330292838

Status : Answered

Chosen Option : 2

Q.16 नीचे दी गई आकृति में कितने त्रिभुज हैं?



- Ans
- ☒ 1. 9
 - ☒ 2. 10
 - ☒ 3. 6
 - ☒ 4. 8

Question ID : 26433091710

Option 1 ID : 264330360208

Option 2 ID : 264330360207

Option 3 ID : 264330360206

Option 4 ID : 264330360205

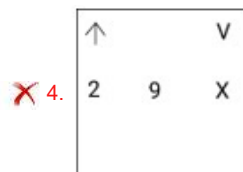
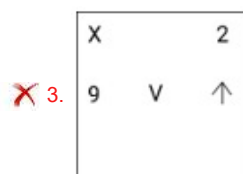
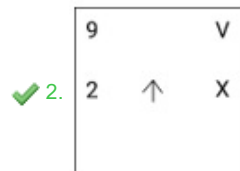
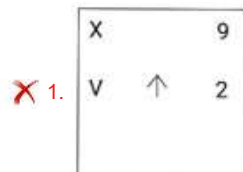
Status : Answered

Chosen Option : 2

Q.17 निम्नलिखित श्रृंखला को जारी रखने के लिए प्रश्न चिह्न (?) के स्थान पर कौन सी आकृति आनी चाहिए?

V	X	9	V	V	↑	2	V	V	X	
↑	2	9	2	↑	X	X	9	2	9	X
										?

Ans



Question ID : 264330103883

Option 1 ID : 264330407836

Option 2 ID : 264330407833

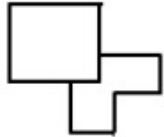
Option 3 ID : 264330407834

Option 4 ID : 264330407835

Status : Answered

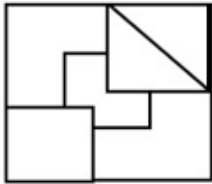
Chosen Option : 4

Q.18 उस विकल्प का चयन करें जिसमें दी गई आकृति अंतर्निहित है (घुमाने की अनुमति नहीं है)।

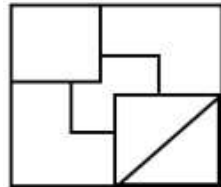


Ans

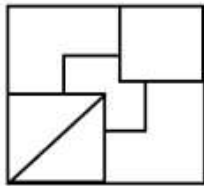
✗ 1.



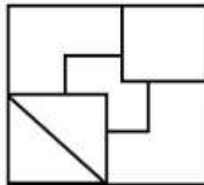
✓ 2.



✗ 3.



✗ 4.



Question ID : 264330106334

Option 1 ID : 264330417639

Option 2 ID : 264330417640

Option 3 ID : 264330417637

Option 4 ID : 264330417638

Status : Answered

Chosen Option : 2

Q.19 दिए गए विकल्पों में से उस संख्या का चयन करें जो निम्नलिखित श्रृंखला में प्रश्न चिह्न (?) के स्थान पर आ सकती है।

21, 30, 23, 32, 25, ?

Ans ✗ 1. 36

✓ 2. 34

✗ 3. 37

✗ 4. 38

Question ID : 264330111626

Option 1 ID : 264330438589

Option 2 ID : 264330438590

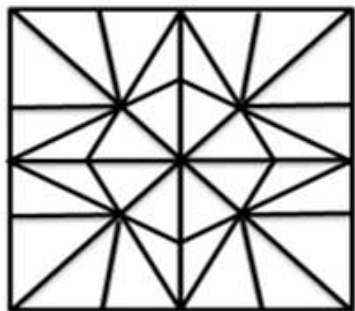
Option 3 ID : 264330438591

Option 4 ID : 264330438592

Status : Answered

Chosen Option : 2

Q.20 विकल्पों में से उस आकृति का चयन करें, जो दी गई आकृति में सन्निहित है (घुमाने की अनुमति नहीं है)।



Ans

✓ 1.



✗ 2.



✗ 3.



✗ 4.



Question ID : 264330114399

Option 1 ID : 264330449681

Option 2 ID : 264330449684

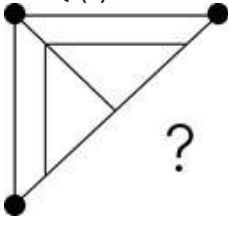
Option 3 ID : 264330449683

Option 4 ID : 264330449682

Status : Answered

Chosen Option : 1

Q.21 दिए गए विकल्पों में से उस आकृति का चयन करें जो पैटर्न को पूरा करने के लिए नीचे दी गई आकृति में प्रश्न चिह्न (?) का स्थान लेगी ताकि अंतिम छवि सममित हो जाए।



Ans

✗ 1.

✓ 2.

✗ 3.

✗ 4.

Question ID : 264330114727

Option 1 ID : 264330450993

Option 2 ID : 264330450995

Option 3 ID : 264330450994

Option 4 ID : 264330450996

Status : Answered

Chosen Option : 2

Q.22 नीचे दो कथन और उसके बाद दो निष्कर्ष I और II दिए गए हैं। कथनों को सत्य मानते हुए, भले ही वे सामान्य रूप से ज्ञात तथ्यों से भिन्न प्रतीत होते हों, निर्णय लीजिए कि कौन-सा/से निष्कर्ष कथनों का तार्किक रूप से अनुसरण करता/करते है/हैं।

कथन:

कुछ पंखे गोल हैं।

कुछ गोल वृत्त हैं।

निष्कर्ष:

I. सभी पंखे वृत्त हैं।

II. सभी वृत्त गोल हैं।

Ans ✗ 1. निष्कर्ष I और II दोनों अनुसरण करते हैं।

✗ 2. केवल निष्कर्ष II अनुसरण करता है।

✓ 3. न तो निष्कर्ष I और न ही II अनुसरण करता है।

✗ 4. केवल निष्कर्ष I अनुसरण करता है।

Question ID : 26433076594

Option 1 ID : 264330300442

Option 2 ID : 264330300441

Option 3 ID : 264330300443

Option 4 ID : 264330300440

Status : Answered

Chosen Option : 3

Q.23 उस आकृति का चयन करें, जो निम्नलिखित आकृति श्रृंखला में प्रश्न-चिह्न (?) का स्थान लेगी।



Ans

- ✗ 1.
- ✗ 2.
- ✗ 3.
- ✓ 4.

Question ID : 264330108957

Option 1 ID : 264330428105

Option 2 ID : 264330428108

Option 3 ID : 264330428106

Option 4 ID : 264330428107

Status : Answered

Chosen Option : 4

Q.24 निम्नलिखित में से कौन सा पद (अक्षर-समूह) दी गई श्रृंखला में प्रश्न चिह्न (?) के स्थान पर आएगा?
CJLR, DINP, ?, FGRL, GFTJ

Ans

- ✗ 1. EJPO
- ✗ 2. EIPN
- ✗ 3. EHON
- ✓ 4. EHPN

Question ID : 264330102170

Option 1 ID : 264330401148

Option 2 ID : 264330401145

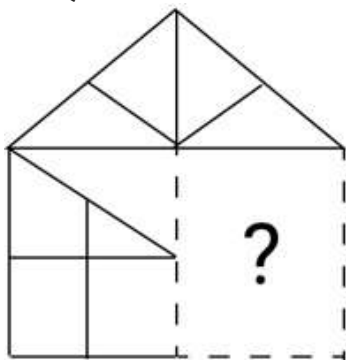
Option 3 ID : 264330401146

Option 4 ID : 264330401147

Status : Answered

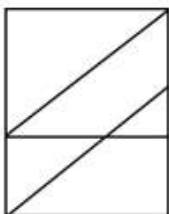
Chosen Option : 4

Q.25 विकल्पों में से उस आकृति का चयन करें, जो प्रश्न चिह्न (?) का स्थान लेकर दिए गए पैटर्न को पूरा कर सकती है।

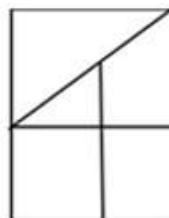


Ans

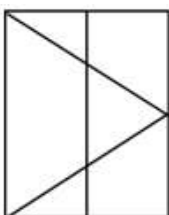
✗ 1.



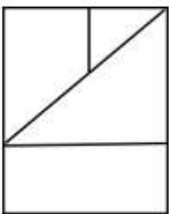
✓ 2.



✗ 3.



✗ 4.



Question ID : 264330106474

Option 1 ID : 264330418197

Option 2 ID : 264330418198

Option 3 ID : 264330418199

Option 4 ID : 264330418200

Status : Answered

Chosen Option : 2

Q.1 एक सेल्समैन अपनी पूँजी के $\frac{1}{4}$ पर 2%, पूँजी के $\frac{1}{2}$ पर 4% और शेष पूँजी पर 10% प्रतिफल कमाता है। उसकी पूँजी पर अर्जित प्रतिलाभ की औसत दर ज्ञात कीजिए।

- Ans
- ☒ 1. 15%
 - ☒ 2. 10%
 - ☒ 3. 5%
 - ☒ 4. 20%

Question ID : 264330130381
Option 1 ID : 264330510638
Option 2 ID : 264330510636
Option 3 ID : 264330510637
Option 4 ID : 264330510635
Status : Answered
Chosen Option : 3

Q.2 उस त्रिभुज का क्षेत्रफल (cm^2 में) क्या है, जिसकी भुजाएँ 3 cm, 4 cm और 5 cm हैं?

- Ans
- ☒ 1. 10.5
 - ☒ 2. 8
 - ☒ 3. 4
 - ☒ 4. 6

Question ID : 264330130035
Option 1 ID : 264330509373
Option 2 ID : 264330509372
Option 3 ID : 264330509374
Option 4 ID : 264330509371
Status : Answered
Chosen Option : 4

Q.3 वह सबसे बड़ी संख्या कौन-सी है जो 48, 92 और 140 को पूरी तरह से विभाजित कर सके?

- Ans
- ☒ 1. 11
 - ☒ 2. 4
 - ☒ 3. 14
 - ☒ 4. 12

Question ID : 264330118194
Option 1 ID : 264330464594
Option 2 ID : 264330464591
Option 3 ID : 264330464592
Option 4 ID : 264330464593
Status : Answered
Chosen Option : 2

Q.4 यदि डेविड ₹25 में 10 केले खरीदता है और ₹45 में 9 केले बेचता है, तो प्रतिशत लाभ ज्ञात करें।

Ans ☒ 1. 100%

☐ 2. 65%

☐ 3. 87%

☐ 4. 60%

Question ID : 264330104350

Option 1 ID : 264330409704

Option 2 ID : 264330409702

Option 3 ID : 264330409703

Option 4 ID : 264330409701

Status : Answered

Chosen Option : 1

Q.5 A और B अलग-अलग काम करते हुए क्रमशः 12 घंटे और 10 घंटे में एक खेत में घास काट सकते हैं। वे A से शुरू करते हुए, 5:00 a.m. से, प्रत्येक एक घंटे के लिए, बारी-बारी से काम करते हैं। घास काटने का काम किस समय पूरा होगा?

Ans ☐ 1. 5:00 p.m.

☒ 2. 4:00 p.m.

☐ 3. 4:30 p.m.

☐ 4. 5:30 p.m.

Question ID : 264330104208

Option 1 ID : 264330409135

Option 2 ID : 264330409133

Option 3 ID : 264330409134

Option 4 ID : 264330409136

Status : Answered

Chosen Option : 2

Q.6 यदि एक लम्ब वृत्तीय बेलन के आधार की त्रिज्या 20% बढ़ा दी जाती है और ऊंचाई 30% कम कर दी जाती है, तो इसके आयतन में कितने प्रतिशत की वृद्धि/कमी हुई?

Ans ☒ 1. 0.8% की वृद्धि

☐ 2. 0.8% की कमी

☐ 3. 0.5% की कमी

☐ 4. 0.5% की वृद्धि

Question ID : 264330103658

Option 1 ID : 264330406938

Option 2 ID : 264330406940

Option 3 ID : 264330406937

Option 4 ID : 264330406939

Status : Answered

Chosen Option : 1

Q.7 संख्या 30, 48, 96, 150 के LCM के अंकों का योग___ है।

Ans  1. 8

 2. 6

 3. 14

 4. 12

Question ID : 264330103683

Option 1 ID : 264330407038

Option 2 ID : 264330407039

Option 3 ID : 264330407040

Option 4 ID : 264330407037

Status : Answered

Chosen Option : 2

Q.8 150 m की दौड़ में, R, S को 9 m से हरा देता है। यदि S, 15 m की शुरुआती बढ़त (head start) लेता है, तो उनके दौड़ में बराबरी पर रहने के लिए दौड़ कितनी लंबी (m में) होनी चाहिए?

Ans  1. 270

 2. 250

 3. 180

 4. 210

Question ID : 264330167760

Option 1 ID : 264330657998

Option 2 ID : 264330657997

Option 3 ID : 264330657995


Option 4 ID : 264330657996


Status : Answered

Chosen Option : 3

Q.9 448 और 336 का म.स.प. , 48 और 36 के म.स.प. का _____ गुना है।

Ans  1. $\frac{28}{3}$

 2. $\frac{31}{3}$

 3. $\frac{29}{3}$

 4. 9

Question ID : 264330112057

Option 1 ID : 264330440313

Option 2 ID : 264330440315

Option 3 ID : 264330440314

Option 4 ID : 264330440316

Status : Answered

Chosen Option : 1

Q.10 यदि बास्केटबॉल की पेंटिंग लागत ₹2.5/cm² है, तो 14 cm व्यास वाले बास्केटबॉल को पेंट करने के लिए आवश्यक लागत (₹ में) कितनी होगी? ($\pi = \frac{22}{7}$ लीजिए)

- Ans
- ☒ 1. 6160
 - ☒ 2. 3593
 - ☒ 3. 1540
 - ☒ 4. 385

Question ID : 264330168973
Option 1 ID : 264330662697
Option 2 ID : 264330662696
Option 3 ID : 264330662698
Option 4 ID : 264330662695
Status : Answered
Chosen Option : 4

Q.11 1 से 43 तक सभी विषम संख्याओं का औसत ज्ञात कीजिए।

- Ans
- ☒ 1. 25
 - ☒ 2. 22
 - ☒ 3. 23
 - ☒ 4. 21

Question ID : 264330119188
Option 1 ID : 264330467042
Option 2 ID : 264330467040
Option 3 ID : 264330467041
Option 4 ID : 264330467039
Status : Answered
Chosen Option : 2

Q.12 यदि ₹800 पर 4 वर्ष का और ₹600 पर 2 वर्ष का साधारण ब्याज एक साथ मिलाकर ₹280 है, तो वार्षिक ब्याज दर कितनी है?

- Ans
- ☒ 1. $6\frac{4}{11}\%$
 - ☒ 2. $5\frac{3}{11}\%$
 - ☒ 3. $7\frac{3}{11}\%$
 - ☒ 4. $3\frac{3}{11}\%$

Question ID : 264330119339
Option 1 ID : 264330467644
Option 2 ID : 264330467643
Option 3 ID : 264330467645
Option 4 ID : 264330467646
Status : Answered
Chosen Option : 1

Q.13 एक कुर्सी का अंकित मूल्य ₹ 1,200 था। यह कीमत इसके क्रय मूल्य से 20% अधिक थी। यदि कुर्सी को अंकित मूल्य पर 5% की छूट पर बेचा गया, तो लाभ प्रतिशत ज्ञात कीजिए।

- Ans
- ☒ 1. 16%
 - ☒ 2. 11%
 - ☒ 3. 12%
 - ☒ 4. 14%

Question ID : 264330118073
 Option 1 ID : 264330464107
 Option 2 ID : 264330464108
 Option 3 ID : 264330464109
 Option 4 ID : 264330464110
 Status : Answered
 Chosen Option : 4

Q.14 दिए गए पदों को अवरोही क्रम में व्यवस्थित करने पर कौन-सा पद ठीक मध्य में आएगा?

$\frac{7}{8}, \frac{6}{7}, \frac{11}{13}, \frac{17}{20}, \frac{23}{25}$

- Ans
- ☒ 1. $\frac{6}{7}$
 - ☒ 2. $\frac{11}{13}$
 - ☒ 3. $\frac{17}{20}$
 - ☒ 4. $\frac{7}{8}$

Question ID : 264330126121
 Option 1 ID : 264330494156
 Option 2 ID : 264330494157
 Option 3 ID : 264330494158
 Option 4 ID : 264330494159
 Status : Answered
 Chosen Option : 3

Q.15 चक्रवृद्धि ब्याज की एक निश्चित दर पर, एक राशि 2 वर्ष में ₹9,680 और 4 वर्ष में ₹11,712.80 हो जाती है। ब्याज दर ज्ञात करें।

- Ans
- ☒ 1. 10%
 - ☒ 2. 40%
 - ☒ 3. 20%
 - ☒ 4. 30%

Question ID : 264330104522
 Option 1 ID : 264330410392
 Option 2 ID : 264330410391
 Option 3 ID : 264330410389
 Option 4 ID : 264330410390
 Status : Answered
 Chosen Option : 1

Q.1 एमएस एक्सेल 365 (MS Excel 365) में सेल्स को एडिट करने के लिए निम्नलिखित में से कौन-सा एक विकल्प है?

- Ans
- ☐ 1. स्पेस बार
 - ☐ 2. रिबन
 - ☒ 3. फॉर्मूला बार
 - ☐ 4. एडिट बार

Question ID : 264330178264

Option 1 ID : 264330699112

Option 2 ID : 264330699113

Option 3 ID : 264330699111

Option 4 ID : 264330699114

Status : Answered

Chosen Option : 4

Q.2 एमएस-वर्ड 365 (MS-Word 365) में, निम्नलिखित में से कौन-सी क्रिया डॉक्यूमेंट क्रिएशन प्रक्रिया का एक भाग है?

- Ans
- ☐ 1. डॉक्यूमेंट प्रिंट करना
 - ☐ 2. टेक्स्ट में फॉर्मेटिंग लागू करना
 - ☒ 3. डॉक्यूमेंट को नये नाम से सेव करना
 - ☐ 4. कंटेंट की टेबल इन्सर्ट करना

Question ID : 264330178092

Option 1 ID : 264330698434

Option 2 ID : 264330698431

Option 3 ID : 264330698432

Option 4 ID : 264330698433

Status : Answered

Chosen Option : 2

Q.3 अधिकांश वर्ड प्रोसेसरों में, निम्नलिखित में से किन कीबोर्ड शॉर्टकट्स का उपयोग, टेक्स्ट को क्रमशः बोल्ड, इटैलिसाइज और अंडरलाइन करने के लिए किया जाता है?

- Ans
- ☐ 1. Ctrl + B, Ctrl + X, Ctrl + V
 - ☒ 2. Ctrl + B, Ctrl + I, Ctrl + U
 - ☐ 3. Ctrl + P, Ctrl + V, Ctrl + U
 - ☐ 4. Ctrl + A, Ctrl + B, Ctrl + C

Question ID : 264330175972

Option 1 ID : 264330690184

Option 2 ID : 264330690185

Option 3 ID : 264330690186

Option 4 ID : 264330690183

Status : Answered

Chosen Option : 2

Q.4 एमएस वर्ड 365 (MS Word 365) में, प्रिंट प्रीव्यू करने के लिए उपयोग की जाने वाली कीबोर्ड शॉर्टकट कुंजी (keys) कौन-सी है?

Ans ☒ 1. Ctrl + F2

☐ 2. Shift + F1

☐ 3. Ctrl + F1

☐ 4. Shift + F2

Question ID : 264330175979

Option 1 ID : 264330690212

Option 2 ID : 264330690213

Option 3 ID : 264330690211

Option 4 ID : 264330690214

Status : Not Answered

Chosen Option : --

Q.5 एमएस एक्सेल 365 (MS Excel 365) में, एमएस एक्सेल (MS Excel) में संपूर्ण वर्कबुक (entire workbook) को सेलेक्ट करने के लिए निम्नलिखित में से किस शॉर्टकट कुंजी (keys) का उपयोग किया जाता है?

Ans ☐ 1. Ctrl + S

☐ 2. F1

☒ 3. Ctrl + A

☐ 4. F6

Question ID : 264330180402

Option 1 ID : 264330707577

Option 2 ID : 264330707578

Option 3 ID : 264330707575

Option 4 ID : 264330707576

Status : Answered

Chosen Option : 3

Q.6 एमएस एक्सेल 365 (MS Excel 365) में, माइक्रोसॉफ्ट एक्सेल रिबन पर कौन-सा टैब आपको फ़ाइलों को खोलने और सेव करने से संबंधित ऑप्शंस तक एक्सेस प्रदान करता है?

Ans ☐ 1. इंसर्ट (Insert)

☐ 2. होम (Home)

☐ 3. व्यू (View)

☒ 4. फ़ाइल (File)

Question ID : 264330180680

Option 1 ID : 264330708688

Option 2 ID : 264330708687

Option 3 ID : 264330708690

Option 4 ID : 264330708689

Status : Answered

Chosen Option : 3

Q.7 कौन-सा विकल्प आपको माइक्रोसॉफ्ट वर्ड 365 में सेलेक्ट किए गए टेक्स्ट का साइज़ बढ़ाने की सुविधा देता है?

- Ans ☒ 1. फ़ॉन्ट साइज़ (Font Size)
- ☐ 2. बोल्ड (Bold)
- ☐ 3. अंडरलाइन (Underline)
- ☐ 4. इटैलिक (Italic)

Question ID : 264330180735
Option 1 ID : 264330708910
Option 2 ID : 264330708907
Option 3 ID : 264330708909
Option 4 ID : 264330708908
Status : Answered
Chosen Option : 1

Q.8 किसी ई-मेल पर लेबल (Label) असाइन करने से संबंधित निम्नलिखित में से कौन-सा कथन गलत है?

- Ans ☐ 1. किसी ई-मेल पर लेबल असाइन करना, उसे किसी विशिष्ट फ़ोल्डर में ले जाने के समान है।
- ☐ 2. हम एक ही ई-मेल पर एकाधिक लेबल लगा सकते हैं।
- ☒ 3. हम अपने इनबॉक्स को सॉर्ट (sort) करने के लिए ई-मेल में लेबल का उपयोग नहीं कर सकते हैं।
- ☐ 4. हम अपने इनबॉक्स को सॉर्ट (sort) करने के लिए ई-मेल में लेबल का उपयोग कर सकते हैं।

Question ID : 264330180390
Option 1 ID : 264330707527
Option 2 ID : 264330707529
Option 3 ID : 264330707530
Option 4 ID : 264330707528
Status : Answered
Chosen Option : 3

Q.9 What is the purpose of a URL (Uniform Resource Locator)?


- Ans ☐ 1. To create animations on websites
- ☐ 2. To manage user accounts on websites
- ☒ 3. To provide the address of a web resource
- ☐ 4. To format text on websites

Question ID : 264330180677
Option 1 ID : 264330708675
Option 2 ID : 264330708678
Option 3 ID : 264330708677
Option 4 ID : 264330708676
Status : Answered
Chosen Option : 3

Q.10 एमएस वर्ड 365 (MS Word 365) में डॉक्यूमेंट प्रिंट करते समय निम्नलिखित में से किस विकल्प का उपयोग किया जाता है, अर्थात् यदि हम 7 से 10 तक के सभी पेज प्रिंट करना चाहते हैं, तो प्रिंटर को केवल 7वें, 8वें, 9वें और 10वें पेज को प्रिंट करना चाहिए?

Ans  1. प्रिंट कस्टम रेंज

 2. ओरिएन्टेशन

 3. कोलेटेड

 4. प्रिंट वन साइड

Question ID : 264330178601

Option 1 ID : 264330700433

Option 2 ID : 264330700434

Option 3 ID : 264330700432

Option 4 ID : 264330700431

Status : Answered

Chosen Option : 1