

Constable Executive Male and Female in Delhi Police Examination 2023

Roll Number	
Candidate Name	
Venue Name	Pawan Ganga Educational Centre 1
Exam Date	20/11/2023
Exam Time	12:00 PM - 1:30 PM
Subject	Constable Executive Male and Female in Delhi Police Examination 2023

Section : General Knowledge

Q.1 मुगल अभिलेखों के अनुसार अकबर के शासनकाल के दौरान _____ रैंक वाले 29 मनसबदार थे।

- Ans
- ☒ 1. 500 जात
 - ☒ 2. 5,000 जात
 - ☒ 3. 7,000 जात
 - ☒ 4. 2,500 जात

Question ID : 264330106567
Option 1 ID : 264330418572
Option 2 ID : 264330418569
Option 3 ID : 264330418570
Option 4 ID : 264330418571
Status : Answered
Chosen Option : 3

Q.2 किस घटना के बाद महात्मा गांधी ने असहयोग आंदोलन वापस ले लिया था?

- Ans
- ☒ 1. 1922 में चौरी-चौरा हत्याकांड
 - ☒ 2. 1922 के जलियांवाला बाग हत्याकांड
 - ☒ 3. 1919 के जलियांवाला बाग हत्याकांड
 - ☒ 4. 1925 में चौरी-चौरा हत्याकांड

Question ID : 264330120150
Option 1 ID : 264330470855
Option 2 ID : 264330470858
Option 3 ID : 264330470856
Option 4 ID : 264330470857
Status : Answered
Chosen Option : 1

Q.3 निम्नलिखित में से किस दिन नेताजी सुभाष चंद्र बोस की जयंती मनाई जाती है?

- Ans
- ☒ 1. 16 जनवरी
 - ☒ 2. 23 जनवरी
 - ☒ 3. 14 नवंबर
 - ☒ 4. 23 मार्च

Question ID : 264330106210
Option 1 ID : 264330417143
Option 2 ID : 264330417142
Option 3 ID : 264330417144
Option 4 ID : 264330417141
Status : Answered
Chosen Option : 2

Q.4 निम्न में से कौन सा नृत्य आमतौर पर ओडिशा में किया जाता है?

- Ans ☒ 1. रास लीला
☒ 2. घुमुरा
☒ 3. चक्यार कुथु
☒ 4. ग्रिडा नृत्य

Question ID : 264330109282

Option 1 ID : 264330429408

Option 2 ID : 264330429407

Option 3 ID : 264330429406

Option 4 ID : 264330429405

Status : Not Answered

Chosen Option : --

Q.5 खो-खो मैदान की माप कितनी होनी चाहिए?

- Ans ☒ 1. 28×15 m
☒ 2. 27×16 m
☒ 3. 30×15 m
☒ 4. 29×16 m

Question ID : 264330110395

Option 1 ID : 264330433858

Option 2 ID : 264330433860

Option 3 ID : 264330433859

Option 4 ID : 264330433857

Status : Not Answered

Chosen Option : --

Q.6 पंडित एस. बालेश भजंत्री एक _____ कलाकार हैं।

- Ans ☒ 1. संतूर
☒ 2. सितार
☒ 3. शहनाई
☒ 4. सरोद

Question ID : 264330112682

Option 1 ID : 264330442813

Option 2 ID : 264330442816

Option 3 ID : 264330442814

Option 4 ID : 264330442815

Status : Not Answered

Chosen Option : --

Q.7 प्लेटीहेल्मिन्थीज में पाचन-तंत्र में कितने छिद्र होते हैं?

- Ans ☒ 1. अनिश्चित
☒ 2. दो
☒ 3. एक
☒ 4. तीन

Question ID : 264330113316

Option 1 ID : 264330445352

Option 2 ID : 264330445350

Option 3 ID : 264330445349

Option 4 ID : 264330445351

Status : Not Answered

Chosen Option : --

Q.8 पश्चिमी घाटों की सबसे ऊंची चोटी निम्नलिखित में से कौन-सी है?

- Ans ☒ 1. महेंद्रगिरि
☒ 2. जावडी पहाड़ियां
☒ 3. डोडाबेट्टा
☒ 4. अनईमुडी

Question ID : 264330177100

Option 1 ID : 264330694595

Option 2 ID : 264330694596

Option 3 ID : 264330694597

Option 4 ID : 264330694598

Status : Answered

Chosen Option : 4

Q.9 किस ज्वार-भाटा की ऊँचाई में विभिन्नता होती है?

- Ans ☒ 1. मिश्रित ज्वार-भाटा
☒ 2. लघु ज्वार-भाटा
☒ 3. अर्धदैनिक ज्वार-भाटा
☒ 4. दैनिक ज्वार-भाटा

Question ID : 264330118520

Option 1 ID : 264330465484

Option 2 ID : 264330465481

Option 3 ID : 264330465482

Option 4 ID : 264330465483

Status : Answered

Chosen Option : 1

Q.10 स्वर्ण सिंह समिति के सुझावों पर आधारित भारतीय संविधान में निम्नलिखित में से क्या जोड़ा गया था?

- Ans ☒ 1. मौलिक कर्तव्य
☒ 2. मौलिक अधिकार
☒ 3. राज्य के नीति निर्देशक सिद्धांत
☒ 4. आपातकालीन प्रावधान

Question ID : 264330114606

Option 1 ID : 264330450509

Option 2 ID : 264330450510

Option 3 ID : 264330450511

Option 4 ID : 264330450512

Status : Answered

Chosen Option : 1

Q.11 द्वितीय प्रशासनिक सुधार आयोग की कौन सी रिपोर्ट पंचायती राज की सिफारिशों से संबंधित है?

- Ans ☒ 1. तीसरी
☒ 2. पांचवीं
☒ 3. छठवीं
☒ 4. चौथी

Question ID : 264330130473

Option 1 ID : 264330511003

Option 2 ID : 264330511005

Option 3 ID : 264330511006

Option 4 ID : 264330511004

Status : Not Answered

Chosen Option : --

Q.12 आठवीं शताब्दी के मध्य में, राष्ट्रकूट प्रमुख दंतिदुर्ग ने अपने चालुक्य अधिपति को पद से हटा दिया और _____ नामक एक अनुष्ठान किया।

- Ans
- ☐ 1. अश्वमेध यज्ञ
 - ☐ 2. राजसूय यज्ञ
 - ☐ 3. देव यज्ञ
 - ☒ 4. हिरण्य-गर्भयज्ञ

Question ID : 264330182256
Option 1 ID : 264330714847
Option 2 ID : 264330714850
Option 3 ID : 264330714848
Option 4 ID : 264330714849
Status : Not Answered
Chosen Option : --

Q.13 राउरकेला इस्पात संयंत्र को _____ के सहयोग से विकसित किया गया था।

- Ans
- ☐ 1. फ्रांस
 - ☒ 2. जर्मनी
 - ☐ 3. ब्रिटेन
 - ☐ 4. जापान

Question ID : 264330181241
Option 1 ID : 264330710890
Option 2 ID : 264330710888
Option 3 ID : 264330710889
Option 4 ID : 264330710887
Status : Answered
Chosen Option : 2

Q.14 प्रारंभिक वैदिक समाज में, परिवार के मुखिया को किस नाम से जाना जाता था?

- Ans
- ☐ 1. पुरोहित
 - ☐ 2. व्रजपति
 - ☐ 3. ग्रामणी
 - ☒ 4. कुलपा

Question ID : 264330120417
Option 1 ID : 264330471922
Option 2 ID : 264330471921
Option 3 ID : 264330471920
Option 4 ID : 264330471919
Status : Answered
Chosen Option : 4

Q.15 भारतीय कम्युनिस्ट पार्टी का गठन 1925 में _____ में पहले पार्टी सम्मेलन में हुआ था।

- Ans
- ☐ 1. दिल्ली
 - ☒ 2. कानपुर
 - ☐ 3. मद्रास (वर्तमान चेन्नई)
 - ☐ 4. बॉम्बे (वर्तमान मुंबई)

Question ID : 264330114411
Option 1 ID : 264330449731
Option 2 ID : 264330449732
Option 3 ID : 264330449729
Option 4 ID : 264330449730
Status : Not Answered
Chosen Option : --

Q.16 1916 में कांग्रेस और मुस्लिम लीग ने ऐतिहासिक _____ पर हस्ताक्षर किए थे।

- Ans
- ☒ 1. दिल्ली समझौते
 - ☒ 2. सूरत समझौते
 - ☒ 3. लाहौर समझौते
 - ☒ 4. लखनऊ समझौते

Question ID : 264330114101

Option 1 ID : 264330448489

Option 2 ID : 264330448492

Option 3 ID : 264330448490

Option 4 ID : 264330448491

Status : Answered

Chosen Option : 4

Q.17 निम्नलिखित में से कौन-सा भोजन का एक मुख्य अकार्बनिक स्रोत है?

- Ans
- ☒ 1. जल
 - ☒ 2. अनाज
 - ☒ 3. माँस
 - ☒ 4. सब्जियाँ

Question ID : 264330113324

Option 1 ID : 264330445384

Option 2 ID : 264330445383

Option 3 ID : 264330445381

Option 4 ID : 264330445382

Status : Answered

Chosen Option : 1

Q.18 ब्रिटिश युग के दौरान भारतीय अर्थव्यवस्था को _____ के रूप में जाना जाता था।

- Ans
- ☒ 1. इसके कच्चे माल के स्रोत
 - ☒ 2. तैयार पूंजीगत माल के लिए एक स्रोत
 - ☒ 3. एक विकसित अर्थव्यवस्था
 - ☒ 4. केवल कृषि उत्पादों के लिए एक बाजार

Question ID : 264330131567

Option 1 ID : 264330515372

Option 2 ID : 264330515371

Option 3 ID : 264330515373

Option 4 ID : 264330515374

Status : Answered

Chosen Option : 1

Q.19 बास्केटबॉल के संबंध में निम्नलिखित में से कौन-सा कथन सही है?

- Ans ☒ 1. प्रत्येक टीम 11 खिलाड़ियों से बनी होती है, जिसमें किसी भी समय केवल 4 को ही कोर्ट में जाने की अनुमति होती है।
- ☒ 2. प्रत्येक टीम 12 खिलाड़ियों से बनी होती है, जिसमें किसी भी समय कोर्ट में केवल 8 को अनुमति दी जाती है।
- ☒ 3. प्रत्येक टीम 12 खिलाड़ियों से बनी होती है, जिसमें किसी भी समय केवल 5 को ही कोर्ट में जाने की अनुमति होती है।
- ☒ 4. प्रत्येक टीम 11 खिलाड़ियों से बनी होती है, जिसमें किसी भी समय केवल 7 को ही कोर्ट में जाने की अनुमति होती है।

Question ID : 264330113776

Option 1 ID : 264330447189

Option 2 ID : 264330447191

Option 3 ID : 264330447192

Option 4 ID : 264330447190

Status : Answered

Chosen Option : 4

Q.20 निम्नलिखित में से किसने तानसेन को 'मियाँ' की उपाधि दी थी?

- Ans ☒ 1. शाहजहाँ
- ☒ 2. हुमायूँ
- ☒ 3. अकबर
- ☒ 4. बाबर

Question ID : 264330116427

Option 1 ID : 264330457796

Option 2 ID : 264330457794

Option 3 ID : 264330457795

Option 4 ID : 264330457793

Status : Answered

Chosen Option : 3

Q.21 'माई कंट्री माई लाइफ' भारत के निम्नलिखित में से किस पूर्व उप-प्रधानमंत्री की आत्मकथा है?

- Ans ☒ 1. वल्लभ भाई पटेल
- ☒ 2. मोरारजी देसाई
- ☒ 3. लालकृष्ण आडवाणी
- ☒ 4. जगजीवन राम

Question ID : 264330112864

Option 1 ID : 264330443542

Option 2 ID : 264330443543

Option 3 ID : 264330443544

Option 4 ID : 264330443541

Status : Answered

Chosen Option : 3

Q.22 निम्नलिखित में से किसे 26 जनवरी 1950 को 'राष्ट्रीय प्रतीक' के रूप में अपनाया गया था?

- Ans ☒ 1. सारनाथ का सिंह शीर्ष
- ☐ 2. रामपुरवा का एकल सिंह शीर्ष
- ☐ 3. रामपुरवा का एकल बैल शीर्ष
- ☐ 4. लौरिया नंदनगढ़ का एकल सिंह शीर्ष

Question ID : 264330120482

Option 1 ID : 264330472179

Option 2 ID : 264330472180

Option 3 ID : 264330472182

Option 4 ID : 264330472181

Status : Answered

Chosen Option : 1

Q.23 किस प्रसिद्ध चीनी दार्शनिक और विद्वान ने अपनी शिक्षाओं में नैतिक मूल्यों, पारिवारिक संबंधों और सामाजिक सद्भाव के महत्व पर जोर दिया?

- Ans ☐ 1. लाओजी
- ☒ 2. कन्फ्यूशियस
- ☐ 3. माओ ज़ेदोंग
- ☐ 4. सन त्जु

Question ID : 264330179301

Option 1 ID : 264330703208

Option 2 ID : 264330703207

Option 3 ID : 264330703210

Option 4 ID : 264330703209

Status : Answered

Chosen Option : 2

Q.24 कवाड़ी अट्टम भारत के निम्नलिखित में से किस राज्य का एक प्रमुख लोक नृत्य है?

- Ans ☐ 1. सिक्किम
- ☐ 2. केरल
- ☒ 3. तमिलनाडु
- ☐ 4. कर्नाटक

Question ID : 264330111791

Option 1 ID : 264330439252

Option 2 ID : 264330439249

Option 3 ID : 264330439250

Option 4 ID : 264330439251

Status : Answered

Chosen Option : 2

Q.25 _____ को किसी देश में उत्पादित अंतिम वस्तुओं और सेवाओं के मूल्य के रूप में जाना जाता है।

- Ans ☐ 1. प्रति व्यक्ति आय
- ☒ 2. राष्ट्रीय आय
- ☐ 3. आय का वितरण
- ☐ 4. राष्ट्रीय उत्पादकता

Question ID : 264330120877

Option 1 ID : 264330473726

Option 2 ID : 264330473723

Option 3 ID : 264330473725

Option 4 ID : 264330473724

Status : Answered

Chosen Option : 2

Q.26 हम्पी के विट्ठल मंदिर में _____ स्तंभ हैं जो संगीत स्वर उत्पन्न करते हैं।

- Ans
- ☒ 1. 49
 - ☒ 2. 63
 - ☒ 3. 75
 - ☒ 4. 56

Question ID : 264330106239
Option 1 ID : 264330417257
Option 2 ID : 264330417258
Option 3 ID : 264330417259
Option 4 ID : 264330417260
Status : Not Answered
Chosen Option : --

Q.27 निम्नलिखित में से किस देश ने तीसरी नेत्रहीन क्रिकेट विश्व कप टी-20 चैंपियनशिप जीती?

- Ans
- ☒ 1. पाकिस्तान
 - ☒ 2. बांग्लादेश
 - ☒ 3. श्रीलंका
 - ☒ 4. भारत

Question ID : 264330176927
Option 1 ID : 264330693905
Option 2 ID : 264330693906
Option 3 ID : 264330693903
Option 4 ID : 264330693904
Status : Answered
Chosen Option : 4

Q.28 भारत में नियोजित आर्थिक विकास की शुरुआत से पहले, 1945 में निम्नलिखित में से कौन-सी योजना शुरू की गई थी?

- Ans
- ☒ 1. जन योजना (The People's Plan)
 - ☒ 2. गांधीवादी योजना (The Gandhian Plan)
 - ☒ 3. बंबई योजना (The Bombay Plan)
 - ☒ 4. सर्वोदय योजना (The Sarvodaya Plan)

Question ID : 264330111750
Option 1 ID : 264330439087
Option 2 ID : 264330439086
Option 3 ID : 264330439085
Option 4 ID : 264330439088
Status : Not Answered
Chosen Option : --

Q.29 निम्नलिखित में से कौन-सा/से सामाजिक और आर्थिक लोकतंत्र के आदर्शों को बढ़ावा देने के लिए है/हैं?

- Ans
- ☒ 1. एकल नागरिकता
 - ☒ 2. सहकारी समितियाँ
 - ☒ 3. राज्य के नीति-निर्देशक सिद्धांत
 - ☒ 4. मौलिक कर्तव्य

Question ID : 264330173468
Option 1 ID : 264330680352
Option 2 ID : 264330680353
Option 3 ID : 264330680351
Option 4 ID : 264330680354
Status : Answered
Chosen Option : 4

Q.30 अजैविक के बारे में निम्नलिखित में से कौन-सा दावा गलत है?

- Ans ☒ 1. पारिस्थितिकी तंत्र के अजैविक घटक कभी जीवित नहीं थे
☒ 2. वे पारिस्थितिकी तंत्र के जीवित घटक हैं
☒ 3. वे पारिस्थितिकी तंत्र के निर्जीव घटक हैं
☒ 4. जल पारिस्थितिकी तंत्र का एक अजैविक घटक है

Question ID : 264330131728

Option 1 ID : 264330516013

Option 2 ID : 264330516014

Option 3 ID : 264330516012

Option 4 ID : 264330516011

Status : Answered

Chosen Option : 1

Q.31 भारत के राष्ट्रपति के चुनाव में विवाद याचिका निम्नलिखित से किसमें दायर की जा सकती है?

- Ans ☒ 1. केवल भारत का सर्वोच्च न्यायालय
☒ 2. केवल दिल्ली उच्च न्यायालय
☒ 3. भारत की सीमा के भीतर कोई भी न्यायालय
☒ 4. दोनों, भारत का सर्वोच्च न्यायालय और किसी भी राज्य का उच्च न्यायालय

Question ID : 264330177753

Option 1 ID : 264330697119

Option 2 ID : 264330697120

Option 3 ID : 264330697122

Option 4 ID : 264330697121

Status : Answered

Chosen Option : 1

Q.32 हड़प्पा सभ्यता के दौरान कांस्य की मूर्तियाँ बनाने के लिए किस विधि का उपयोग किया जाता था?

- Ans ☒ 1. लकड़ी की नक्काशी
☒ 2. पत्थर की नक्काशी
☒ 3. पिघली हुई मोम की ढलाई
☒ 4. हाथी दांत की नक्काशी

Question ID : 264330109316

Option 1 ID : 264330429543

Option 2 ID : 264330429541

Option 3 ID : 264330429542

Option 4 ID : 264330429544

Status : Answered

Chosen Option : 3

Q.33 सम्पूर्ण ग्रामीण रोजगार योजना कब शुरू की गई थी?

- Ans ☒ 1. 2000
☒ 2. 2002
☒ 3. 2003
☒ 4. 2001

Question ID : 264330131756

Option 1 ID : 264330516123

Option 2 ID : 264330516125

Option 3 ID : 264330516126

Option 4 ID : 264330516124

Status : Not Answered

Chosen Option : --

Q.34 निम्नलिखित में से कौन-सा, सहकारी क्षेत्र के उद्योग का एक उदाहरण है?

- Ans ☒ 1. कॉयर उद्योग
- ☒ 2. बजाज ऑटो लिमिटेड
- ☒ 3. स्टील अथॉरिटी ऑफ़ इंडिया लिमिटेड
- ☒ 4. डाबर उद्योग

Question ID : 264330173609

Option 1 ID : 264330680916

Option 2 ID : 264330680915

Option 3 ID : 264330680917

Option 4 ID : 264330680918

Status : Answered

Chosen Option : 3

Q.35 वर्ष 2022 में आयोजित 36वें राष्ट्रीय खेलों का उद्घाटन किसने किया था?

- Ans ☒ 1. नरेंद्र मोदी
- ☒ 2. किरण रिजिजू
- ☒ 3. निशीथ प्रमाणिक
- ☒ 4. अनुराग ठाकुर

Question ID : 264330113731

Option 1 ID : 264330447011

Option 2 ID : 264330447010

Option 3 ID : 264330447012

Option 4 ID : 264330447009

Status : Not Answered

Chosen Option : --

Q.36 वर्ष 1955 में गणतंत्र दिवस परेड दिल्ली में निम्नलिखित में से किस स्थान पर आयोजित की गई थी?

- Ans ☒ 1. संसद भवन मार्ग
- ☒ 2. राजघाट
- ☒ 3. राजपथ
- ☒ 4. पुराना किला

Question ID : 264330182989

Option 1 ID : 264330717691

Option 2 ID : 264330717690

Option 3 ID : 264330717689

Option 4 ID : 264330717688

Status : Not Answered

Chosen Option : --

Q.37 किस भौतिक विज्ञानी को 'विकिरण परिघटना' में व्यापक शोध तथा पोलोनियम और रेडियम की खोज के लिए जाना जाता है?

- Ans ☒ 1. हेलेन किन
- ☒ 2. मैरी क्यूरी
- ☒ 3. लाइस मिट्नेर
- ☒ 4. रॉसलैंड फ्रेंकलिन

Question ID : 264330141660

Option 1 ID : 264330554960

Option 2 ID : 264330554961

Option 3 ID : 264330554962

Option 4 ID : 264330554959

Status : Answered

Chosen Option : 2

Q.38 पद्म भूषण पुरस्कार से सम्मानित कुमारी कमला _____ की प्रसिद्ध नृत्यांगना हैं।

- Ans
- ☒ 1. ओडिसी
 - ☒ 2. भरतनाट्यम
 - ☒ 3. मोहिनीअट्टम
 - ☒ 4. सत्रिया

Question ID : 264330111983

Option 1 ID : 264330440018

Option 2 ID : 264330440017

Option 3 ID : 264330440020

Option 4 ID : 264330440019

Status : Not Answered

Chosen Option : --

Q.39 निम्नलिखित में से किसने 'कामायनी' की रचना की है?

- Ans
- ☒ 1. अमृता प्रीतम
 - ☒ 2. महादेवी वर्मा
 - ☒ 3. सुमित्रानंदन पंत
 - ☒ 4. जयशंकर प्रसाद

Question ID : 26433086913

Option 1 ID : 264330341294

Option 2 ID : 264330341293

Option 3 ID : 264330341296

Option 4 ID : 264330341295

Status : Not Answered

Chosen Option : --

Q.40 भारत में 1991 के आर्थिक सुधारों के समय वित्त मंत्री कौन थे?

- Ans
- ☒ 1. डॉ. मनमोहन सिंह
 - ☒ 2. श्री बिमल जालान
 - ☒ 3. श्री पी. चिदंबरम
 - ☒ 4. श्री प्रणब मुखर्जी

Question ID : 264330109119

Option 1 ID : 264330428753

Option 2 ID : 264330428756

Option 3 ID : 264330428754

Option 4 ID : 264330428755

Status : Answered

Chosen Option : 1

Q.41 निम्नलिखित में से किस वर्ष में बाल गंगाधर तिलक ने होम लीग की स्थापना की थी?

- Ans
- ☒ 1. 1934
 - ☒ 2. 1916
 - ☒ 3. 1924
 - ☒ 4. 1912

Question ID : 264330118603

Option 1 ID : 264330465663

Option 2 ID : 264330465665

Option 3 ID : 264330465664

Option 4 ID : 264330465666

Status : Answered

Chosen Option : 3

Q.42 भारत की आकस्मिकता निधि का संचालन _____ द्वारा किया जाता है।

- Ans
- ☐ 1. प्रधान मंत्री
 - ☐ 2. अध्यक्ष (स्पीकर)
 - ☒ 3. राष्ट्रपति
 - ☐ 4. वित्त मंत्री

Question ID : 264330110601

Option 1 ID : 264330434681

Option 2 ID : 264330434684

Option 3 ID : 264330434682

Option 4 ID : 264330434683

Status : Answered

Chosen Option : 3

Q.43 कॉलेजियम प्रणाली के संबंध में निम्नलिखित में से कौन सा कथन गलत है?

- Ans
- ☐ 1. यह न्यायाधीशों की नियुक्ति और स्थानांतरण की अनुशंसा करता है।
 - ☐ 2. इस प्रणाली को सर्वोच्च न्यायालय के फैसले के माध्यम से विकसित किया गया था।
 - ☐ 3. इसमें मुख्य न्यायाधीश और सर्वोच्च न्यायालय के चार वरिष्ठ न्यायाधीश शामिल होते हैं।
 - ☒ 4. यह प्रणाली वर्ष 2007 में शुरू हुई थी।

Question ID : 264330116387

Option 1 ID : 264330457634

Option 2 ID : 264330457635

Option 3 ID : 264330457633

Option 4 ID : 264330457636

Status : Answered

Chosen Option : 2

Q.44 कौन-सा संगठन राष्ट्रीय प्रतिदर्श सर्वेक्षण कार्यालय (NSSO) और अन्य स्रोतों से एकत्र आँकड़ों के आधार पर भारत में आधिकारिक निर्धनता आकलन जारी करता है?

- Ans
- ☐ 1. विश्व बैंक
 - ☐ 2. वित्त मंत्रालय
 - ☒ 3. नीति आयोग
 - ☐ 4. भारतीय रिजर्व बैंक

Question ID : 264330183043

Option 1 ID : 264330717904

Option 2 ID : 264330717906

Option 3 ID : 264330717907

Option 4 ID : 264330717905

Status : Not Answered

Chosen Option : --

Q.45 निम्नलिखित में से कौन उदारीकरण की प्रमुख विशेषता नहीं है?

- Ans
- ☐ 1. लघु उद्योग के लिए माल का अनारक्षण
 - ☐ 2. औद्योगिक लाइसेंसिंग को समाप्त करना
 - ☐ 3. कीमतों के निर्धारण की स्वायत्तता
 - ☒ 4. सार्वजनिक क्षेत्र के उपक्रमों के इकिटी शेयरों का हिस्सा जनता को बेचना

Question ID : 264330111605

Option 1 ID : 264330438507

Option 2 ID : 264330438506

Option 3 ID : 264330438505

Option 4 ID : 264330438508

Status : Answered

Chosen Option : 2

Q.46 हरीकेन (hurricanes) के बारे में निम्नलिखित में से कौन-सा कथन सत्य है?

- Ans
- ☒ 1. पश्चिमी प्रशांत से संबंधित
 - ☒ 2. पश्चिमी ऑस्ट्रेलिया से संबंधित
 - ☒ 3. अटलांटिक से संबंधित
 - ☒ 4. हिंद महासागर से संबंधित

Question ID : 264330131735

Option 1 ID : 264330516040

Option 2 ID : 264330516042

Option 3 ID : 264330516041

Option 4 ID : 264330516039

Status : Not Answered

Chosen Option : --

Q.47 निचली अदालत या सरकारी अधिकारी को अनिवार्य या पूर्णतः कार्यालयी कर्तव्यों को सही ढंग से निर्वाह करने हेतु बाध्य करने के लिए निम्न में से कौन-सी रिट एक उच्च न्यायालय द्वारा जारी की जाती है?

- Ans
- ☒ 1. परमादेश
 - ☒ 2. बंदी प्रत्यक्षीकरण
 - ☒ 3. उत्प्रेषण-लेख
 - ☒ 4. अधिकार पृच्छा

Question ID : 264330110794

Option 1 ID : 264330435456

Option 2 ID : 264330435453

Option 3 ID : 264330435454

Option 4 ID : 264330435455

Status : Answered

Chosen Option : 1

Q.48 फर्मों को स्वायत्तता प्रदान करने के लिए कुछ सार्वजनिक क्षेत्र की इकाइयों को विशेष दर्जा दिया गया। निम्नलिखित में से कौन-सा उनमें से एक दर्जा नहीं था?

- Ans
- ☒ 1. देवरल
 - ☒ 2. मिनिरल
 - ☒ 3. महारल
 - ☒ 4. नवरल

Question ID : 264330111619

Option 1 ID : 264330438564

Option 2 ID : 264330438563

Option 3 ID : 264330438561

Option 4 ID : 264330438562

Status : Not Answered

Chosen Option : --

Q.49 निम्नलिखित में से किसे सबसे अधिक तरल संपत्ति माना जाता है?

- Ans
- ☒ 1. मुद्रा
 - ☒ 2. सोना
 - ☒ 3. भूमि
 - ☒ 4. बॉन्ड

Question ID : 264330110160

Option 1 ID : 264330432919

Option 2 ID : 264330432917

Option 3 ID : 264330432920

Option 4 ID : 264330432918

Status : Answered

Chosen Option : 2

Q.50 वर्ष 2022 में, अर्जुन सिंह धुर्वे को निम्नलिखित में से किस नृत्य शैली में उनके योगदान के लिए पद्म श्री पुरस्कार से सम्मानित किया गया था?

- Ans ☒ 1. भरतनाट्यम
☒ 2. छऊ
☒ 3. कथक
☒ 4. बैगा जनजाति नृत्य

Question ID : 264330120413

Option 1 ID : 264330471904

Option 2 ID : 264330471906

Option 3 ID : 264330471903

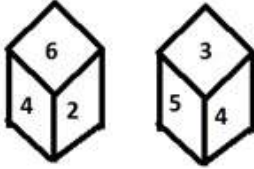
Option 4 ID : 264330471905

Status : Not Answered

Chosen Option : --

Section : Reasoning

Q.1 एक पासे के अलग-अलग फलकों पर छह संख्याएँ 1, 2, 3, 4, 5 और 6 लिखी गई हैं। दिए गए चित्र में इस पासे की दो स्थितियाँ दर्शाई गई हैं। 5 दर्शाने वाले फलक के विपरीत वाले फलक पर कौन-सी संख्या होगी?



- Ans ☒ 1. 6
☒ 2. 3
☒ 3. 2
☒ 4. 1

Question ID : 264330117895

Option 1 ID : 264330463398

Option 2 ID : 264330463396

Option 3 ID : 264330463395

Option 4 ID : 264330463397

Status : Answered

Chosen Option : 1

Q.2 दिए गए कथनों और निष्कर्षों को ध्यानपूर्वक पढ़ें। यह मानते हुए कि कथनों में दी गई जानकारी सही है, भले ही वह सामान्य रूप से ज्ञात तथ्यों से भिन्न लगे, निर्णय करें कि कौन-सा/से निष्कर्ष दिए गए कथनों का तार्किक रूप से अनुसरण करता है/करते हैं।

कथन:

कुछ बैकपैक, बैग हैं।

सभी बैकपैक, लगेज हैं।

निष्कर्ष:

I. कुछ लगेज, बैग हैं।

II. कुछ लगेज, बैकपैक हैं।

- Ans ☒ 1. केवल निष्कर्ष I अनुसरण करता है।
☒ 2. निष्कर्ष I और II दोनों अनुसरण करते हैं।
☒ 3. निष्कर्ष I और II में से कोई भी अनुसरण नहीं करता है।
☒ 4. केवल निष्कर्ष II अनुसरण करता है।

Question ID : 26433069513

Option 1 ID : 264330272564

Option 2 ID : 264330272566

Option 3 ID : 264330272567

Option 4 ID : 264330272565

Status : Answered

Chosen Option : 2

Q.3 दर्पण को नीचे दिए गए चित्र के अनुसार PQ पर रखे जाने पर दी गई आकृति का दर्पण में निर्मित सही प्रतिबिंब चयनित कीजिए।

G t F 6 7 A 2

P
|
Q

- Ans
- ✗ 1. Z A 7 0 7 7 0
- ✗ 2. Z V 7 9 7 7 0
- ✗ 3. S A 7 9 7 7 0
- ✓ 4. S A 7 0 7 7 0

Question ID : 26433080777

Option 1 ID : 264330317042

Option 2 ID : 264330317043

Option 3 ID : 264330317044

Option 4 ID : 264330317041

Status : Answered

Chosen Option : 4

Q.4 उस आकृति का चयन करें, जो निम्नलिखित आकृति श्रृंखला में प्रश्न-चिह्न (?) का स्थान लेगी।



- Ans
- ✗ 1.
- ✓ 2.
- ✗ 3.
- ✗ 4.

Question ID : 264330108954

Option 1 ID : 264330428093

Option 2 ID : 264330428095

Option 3 ID : 264330428096

Option 4 ID : 264330428094

Status : Answered

Chosen Option : 2

Q.5 दिए गए समीकरण में * चिह्नों को क्रमिक रूप से बदलने और समीकरण को संतुलित करने के लिए निम्नलिखित विकल्पों में से गणितीय चिह्नों के सही संयोजन का चयन कीजिए।
 $8*1*4*2*16*2*8$

- Ans
- ☒ 1. $+ - + \times \times =$
 - ☒ 2. $= \times + \times + -$
 - ☒ 3. $\times + \times - + =$
 - ☒ 4. $+ \times - + \times =$

Question ID : 26433085646
 Option 1 ID : 264330336288
 Option 2 ID : 264330336286
 Option 3 ID : 264330336287
 Option 4 ID : 264330336285
 Status : Answered
 Chosen Option : 3

Q.6 निम्नलिखित समीकरण को सही बनाने के लिए किन दो चिह्नों को आपस में बदला जाना चाहिए?

$$14 \times 2 \div 9 - 5 + 18 = 76$$

- Ans
- ☒ 1. \div और \times
 - ☒ 2. \div और $+$
 - ☒ 3. $-$ और \times
 - ☒ 4. $-$ और $+$

Question ID : 264330101089
 Option 1 ID : 264330396904
 Option 2 ID : 264330396901
 Option 3 ID : 264330396903
 Option 4 ID : 264330396902
 Status : Answered
 Chosen Option : 1

Q.7 दर्पण को नीचे दिए गए चित्र के अनुसार PQ पर रखे जाने पर दी गई आकृति का दर्पण में निर्मित सही प्रतिबिंब चयनित कीजिए।

7 G K 2 b e

P
|
Q

- Ans
- ☒ 1. e d S K G 7
 - ☒ 2. e d S K G 7
 - ☒ 3. e p S K G 7
 - ☒ 4. e d 2 K G 7

Question ID : 26433080774
 Option 1 ID : 264330317032
 Option 2 ID : 264330317030
 Option 3 ID : 264330317031
 Option 4 ID : 264330317029
 Status : Answered
 Chosen Option : 1

Q.8 जब दर्पण को रेखा PQ पर रखा जाता है, तो दी गई आकृति का सही दर्पण प्रतिबिम्ब ज्ञात कीजिए।

EFEH@!\$%^2

P
|
Q

Ans

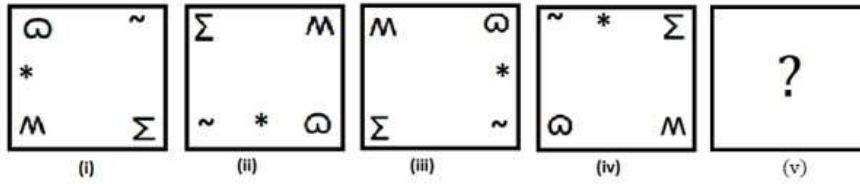
- ✗ 1. 2^%\$!@HFEF
- ✗ 2. 2^%\$!@HFEF
- ✗ 3. 2^\$!@HFEF
- ✓ 4. 2^%\$!@HFEF

Question ID : 26433082023
Option 1 ID : 264330321927
Option 2 ID : 264330321925
Option 3 ID : 264330321928
Option 4 ID : 264330321926

Status : Answered

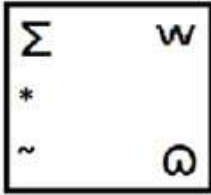
Chosen Option : 4

Q.9 नीचे दिए गए विकल्पों में से उस आकृति का चयन करें, जो दी गई श्रृंखला में प्रश्न-चिह्न (?) के स्थान पर आएगी?

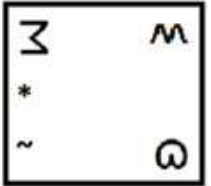


Ans

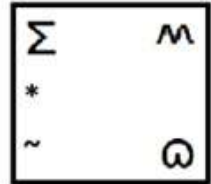
✗ 1.



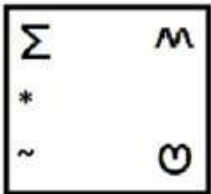
✗ 2.



✓ 3.



✗ 4.



Question ID : 264330106550

Option 1 ID : 264330418503

Option 2 ID : 264330418502

Option 3 ID : 264330418501

Option 4 ID : 264330418504

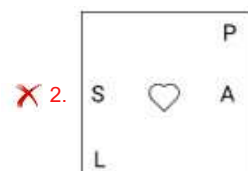
Status : Answered

Chosen Option : 3

Q.10 निम्नलिखित श्रृंखला को जारी रखने के लिए प्रश्न चिह्न (?) के स्थान पर कौन सी आकृति आनी चाहिए?

3			C			P			3			A			
P	□	C	3	L	A	A	C	3	P	S	L	L	3	P	?
A			P			L			A			S			

Ans



Question ID : 264330103890

Option 1 ID : 264330407861

Option 2 ID : 264330407863

Option 3 ID : 264330407862

Option 4 ID : 264330407864

Status : Not Answered

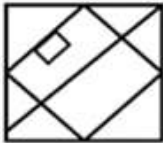
Chosen Option : --

Q.11 उस विकल्प का चयन करें जिसमें दी गई आकृति सन्निहित है (घुमाने की अनुमति नहीं है)।



Ans

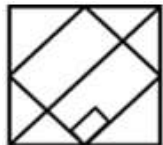
✗ 1.



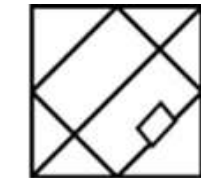
✗ 2.



✓ 3.



✗ 4.



Question ID : 264330101155

Option 1 ID : 264330397167

Option 2 ID : 264330397165

Option 3 ID : 264330397168

Option 4 ID : 264330397166

Status : Answered

Chosen Option : 3

Q.12 उस समुच्चय का चयन करें, जिसमें संख्याएँ उसी प्रकार संबंधित हैं, जिस प्रकार निम्नलिखित समुच्चयों की संख्याएँ हैं।

(नोट: संख्याओं को उसके घटक अंकों में विभाजित किए बिना, पूर्ण संख्याओं पर ही गणितीय संक्रियाएँ की जानी चाहिए। जैसे 13 - मान लीजिए 13 पर गणितीय संक्रियाएँ जैसे कि 13 में जोड़ना/घटाना/गुणा करना आदि किया जा सकता है। 13 को 1 और 3 में तोड़कर और फिर 1 और 3 पर गणितीय संक्रियाएँ करने की अनुमति नहीं है।)

(7, 16, 168)

(3, 28, 126)

Ans

✗ 1. (9, 17, 153)

✗ 2. (8, 7, 136)

✓ 3. (6, 11, 99)

✗ 4. (11, 18, 396)

Question ID : 26433087213

Option 1 ID : 264330342492

Option 2 ID : 264330342489

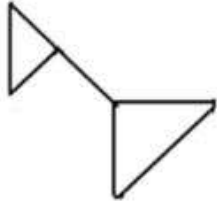
Option 3 ID : 264330342490

Option 4 ID : 264330342491

Status : Answered

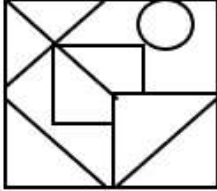
Chosen Option : 3

Q.13 दी गई आकृति के बाद चार विकल्प आकृतियां दी गई हैं। उस विकल्प आकृति का चयन करें जिसमें यह आकृति अंतःस्थापित है (अर्थात, यह आकृति इसी रूप में समाहित है; घूर्णन की अनुमति नहीं है)।

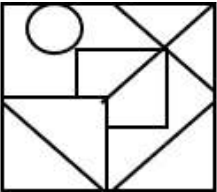


Ans

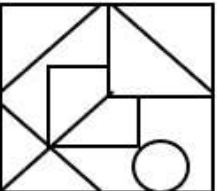
✓ 1.



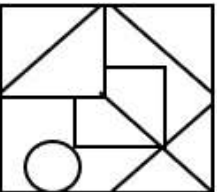
✗ 2.



✗ 3.



✗ 4.



Question ID : 264330121619

Option 1 ID : 264330476649

Option 2 ID : 264330476647

Option 3 ID : 264330476648

Option 4 ID : 264330476650

Status : Answered

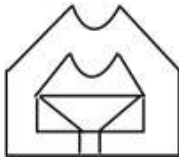
Chosen Option : 1

Q.14 उस विकल्प का चयन करें जिसमें दी गई आकृति अंतर्निहित है (घुमाने की अनुमति नहीं है)।

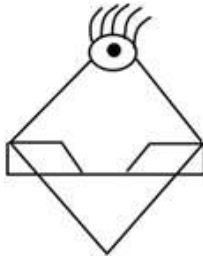


Ans

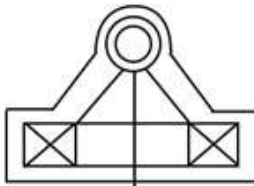
✗ 1.



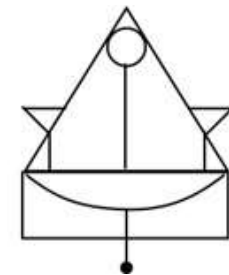
✗ 2.



✗ 3.



✓ 4.



Question ID : 264330111668

Option 1 ID : 264330438760

Option 2 ID : 264330438759

Option 3 ID : 264330438757

Option 4 ID : 264330438758

Status : Answered

Chosen Option : 4

Q.15 एक निश्चित कूट भाषा में, 'ORBIT' को 'SHAQN' के रूप में लिखा जाता है और 'PLANT' को 'SMZKO' के रूप में लिखा जाता है। उसी भाषा में 'PLUTO' को कैसे लिखा जाएगा?

Ans

✗ 1. OKTSN

✗ 2. NSTKP

✗ 3. SSTKQ

✓ 4. NSTKO

Question ID : 26433087171

Option 1 ID : 264330342324

Option 2 ID : 264330342323

Option 3 ID : 264330342321

Option 4 ID : 264330342322

Status : Answered

Chosen Option : 4

Q.16 छः दोस्त फरहीन, पूजा, ऋचा, सोनिका, वाणी और तान्या एक वृत्ताकार मेज के परितः केंद्र की ओर मुख करके बैठे हैं। फरहीन, पूजा और ऋचा दोनों की निकटतम पड़ोसी है। सोनिका, पूजा के दाईं ओर दूसरे स्थान पर बैठी है। वाणी, ऋचा के बाईं ओर तीसरे स्थान पर बैठी है। तान्या, सोनिका और ऋचा दोनों की निकटतम पड़ोसी है।
तान्या के बाईं ओर ठीक बगल में कौन बैठा/बैठी है?

Ans ☒ 1. सोनिका

☒ 2. ऋचा

☒ 3. पूजा

☒ 4. फरहीन

Question ID : 26433082283

Option 1 ID : 264330322965

Option 2 ID : 264330322966

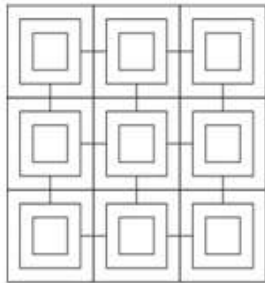
Option 3 ID : 264330322968

Option 4 ID : 264330322967

Status : Answered

Chosen Option : 1

Q.17 दी गई आकृति में कितने वर्ग हैं?



Ans ☒ 1. 32

☒ 2. 40

☒ 3. 30

☒ 4. 36

Question ID : 26433095001

Option 1 ID : 264330372827

Option 2 ID : 264330372828

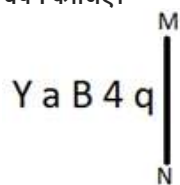
Option 3 ID : 264330372825

Option 4 ID : 264330372826

Status : Answered

Chosen Option : 1

Q.18 यदि दर्पण को नीचे दिखाए गए अनुसार MN पर रखा जाए, तो दी गई आकृति के सही दर्पण प्रतिबिंब का चयन कीजिए।



Ans

✗ 1. p 7 B 9 1

✗ 2. 1 a B 7 q

✗ 3. b 4 B a Y

✓ 4. p 7 B 9 Y

Question ID : 264330166654

Option 1 ID : 264330653657

Option 2 ID : 264330653658

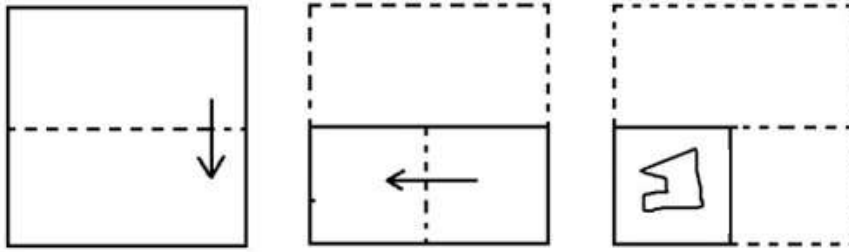
Option 3 ID : 264330653655

Option 4 ID : 264330653656

Status : Answered

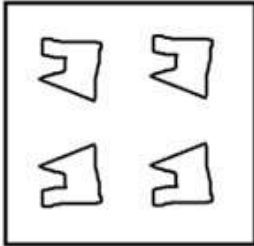
Chosen Option : 4

Q.19 एक कागज को मोड़ने का क्रम और मोड़े गए कागज को काटने का ढंग नीचे दिखाया गया है। उस आकृति का चयन करें, जो कागज के खुले हुए रूप से सबसे अधिक मिलती-जुलती हो।

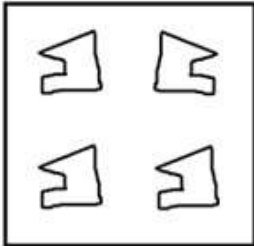


Ans

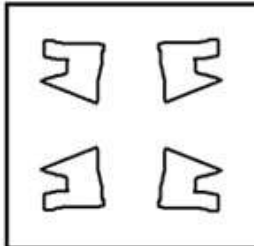
✗ 1.



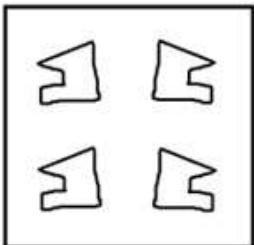
✗ 2.



✓ 3.



✗ 4.



Question ID : 264330112318

Option 1 ID : 264330441360

Option 2 ID : 264330441357

Option 3 ID : 264330441359

Option 4 ID : 264330441358

Status : Answered

Chosen Option : 3

Q.20 निम्नलिखित में से कौन-सा विकल्प दी गई श्रृंखला में प्रश्नवाचक चिन्ह (?) को प्रतिस्थापित करेगा?
71, 213, 639, 1917, 5751, ?

- Ans ☒ 1. 17253
☒ 2. 19479
☒ 3. 16509
☒ 4. 11643

Question ID : 264330109440
Option 1 ID : 264330430037
Option 2 ID : 264330430040
Option 3 ID : 264330430038
Option 4 ID : 264330430039
Status : Answered
Chosen Option : 1

Q.21 उस विकल्प का चयन करें, जो पाँचवें अक्षर-समूह से उसी प्रकार संबंधित है, जिस प्रकार दूसरा अक्षर-समूह पहले अक्षर-समूह से संबंधित है और चौथा अक्षर-समूह तीसरे अक्षर-समूह से संबंधित है।
BOAT : XESF :: MANY : CREQ :: TIME : ?

- Ans ☒ 1. IQNY
☒ 2. JQMX
☒ 3. IQMX
☒ 4. JQMW

Question ID : 26433076461
Option 1 ID : 264330299909
Option 2 ID : 264330299908
Option 3 ID : 264330299910
Option 4 ID : 264330299911
Status : Answered
Chosen Option : 3

Q.22 वह विकल्प चुनिए, जो ऐसे अक्षरों का प्रतिनिधित्व करता हो, जिन्हें नीचे के रिक्त स्थानों में क्रमानुसार
बाएँ से दाएँ रखने पर ही अक्षर-श्रृंखला पूरी होगी।
C _ E _ T _ W _ R T C W _ R _ C W E _ _

- Ans ☒ 1. WRCERTRT
☒ 2. WRCETERT
☒ 3. WRCERERT
☒ 4. WRCEETRT

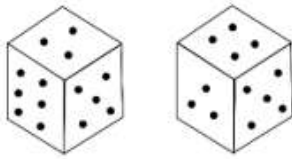
Question ID : 26433092542
Option 1 ID : 264330363459
Option 2 ID : 264330363457
Option 3 ID : 264330363458
Option 4 ID : 264330363460
Status : Answered
Chosen Option : 4

Q.23 उस विकल्प का चयन करें जो चौथी संख्या से उसी प्रकार संबंधित है, जिस प्रकार से पहली संख्या दूसरी संख्या से संबंधित है और पांचवीं संख्या छठी संख्या से संबंधित है।
 $216 : 344 :: ? : 126 :: 27 : 65$

- Ans
- ☒ 1. 66
 - ☒ 2. 70
 - ☒ 3. 68
 - ☒ 4. 64

Question ID : 26433051992
 Option 1 ID : 264330203273
 Option 2 ID : 264330203271
 Option 3 ID : 264330203270
 Option 4 ID : 264330203272
 Status : Answered
 Chosen Option : 4

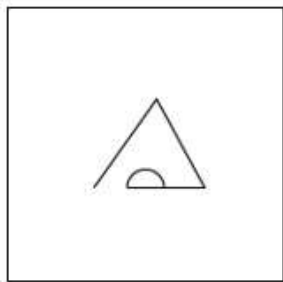
Q.24 नीचे दी गई आकृतियों में एक पासे पर बिंदुओं (एक से छह बिंदुओं) का अवलोकन कीजिए। बताइए कि चार बिंदुओं वाले फलक के विपरीत वाले फलक पर कितने बिंदु हैं?



- Ans
- ☒ 1. छह
 - ☒ 2. दो
 - ☒ 3. एक
 - ☒ 4. तीन

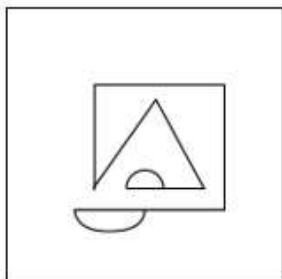
Question ID : 264330113646
 Option 1 ID : 264330446671
 Option 2 ID : 264330446670
 Option 3 ID : 264330446669
 Option 4 ID : 264330446672
 Status : Answered
 Chosen Option : 1

Q.25 उस विकल्प चित्र का चयन करें जिसमें प्रश्न चित्र छिपा / सन्निहित है। (घूर्णन की अनुमति नहीं है)

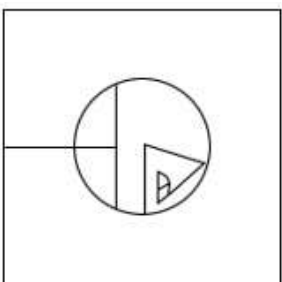


Ans

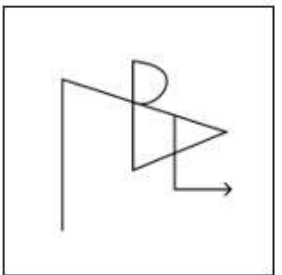
✓ 1.



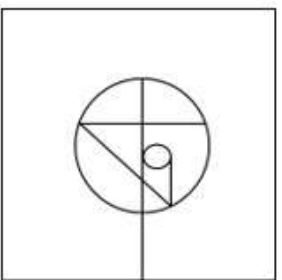
✗ 2.



✗ 3.



✗ 4.



Question ID : 264330121466

Option 1 ID : 264330476049

Option 2 ID : 264330476048

Option 3 ID : 264330476050

Option 4 ID : 264330476047

Status : Answered

Chosen Option : 1

Q.1 एक निश्चित राशि साधारण ब्याज पर 3 वर्षों में ₹1,725 और 5 वर्षों में ₹1,875 हो जाती है। वार्षिक ब्याज दर कितनी है?

- Ans
- ☒ 1. 6%
 - ☒ 2. 4%
 - ☒ 3. 5%
 - ☒ 4. 7%

Question ID : 264330182528
Option 1 ID : 264330715905
Option 2 ID : 264330715903
Option 3 ID : 264330715904
Option 4 ID : 264330715906
Status : Answered
Chosen Option : 3

Q.2 एक दुकानदार अंकित मूल्य पर 10% का छूट देता है। यदि विक्रय मूल्य ₹6,750 है, तो छूट ज्ञात करें।

- Ans
- ☒ 1. ₹800
 - ☒ 2. ₹700
 - ☒ 3. ₹750
 - ☒ 4. ₹650

Question ID : 264330111464
Option 1 ID : 264330437944
Option 2 ID : 264330437943
Option 3 ID : 264330437942
Option 4 ID : 264330437941
Status : Answered
Chosen Option : 3

Q.3 यदि 10 संख्याओं का औसत 625 है और 25 संख्याओं का औसत 100 है, तो 35 संख्याओं का औसत _____ के बराबर है।

- Ans
- ☒ 1. 250
 - ☒ 2. 315
 - ☒ 3. 66.5
 - ☒ 4. 362.5

Question ID : 264330168960
Option 1 ID : 264330662645
Option 2 ID : 264330662643
Option 3 ID : 264330662644
Option 4 ID : 264330662646
Status : Answered
Chosen Option : 1

Q.4 उस त्रिभुज का क्षेत्रफल ज्ञात करें, जिसकी भुजाएँ 6 cm, 8 cm और 10 cm लंबी हैं।

- Ans
- ☒ 1. 12 cm^2
 - ☒ 2. 24 cm^2
 - ☒ 3. 28 cm^2
 - ☒ 4. 20 cm^2

Question ID : 264330111486
Option 1 ID : 264330438029
Option 2 ID : 264330438031
Option 3 ID : 264330438032
Option 4 ID : 264330438030
Status : Answered
Chosen Option : 2

Q.5 एक फुटबॉल में $36\pi \text{ cm}^3$ हवा भरी जा सकती है। इसकी त्रिज्या (cm में) क्या होगी?

Ans  1. 3

 2. 4

 3. 5

 4. 2

Question ID : 26433091574

Option 1 ID : 264330359662

Option 2 ID : 264330359663

Option 3 ID : 264330359664

Option 4 ID : 264330359661

Status : Answered

Chosen Option : 1

Q.6 यदि दो असहभाज्य संख्याओं का गुणनफल 306 है, तो संख्याओं का ल.स.प. _____ है।

Ans  1. 306

 2. 153

 3. 17

 4. 18

Question ID : 264330111451

Option 1 ID : 264330437889

Option 2 ID : 264330437890

Option 3 ID : 264330437891

Option 4 ID : 264330437892

Status : Answered

Chosen Option : 1

Q.7 एक दुकानदार दो वस्तुओं को प्रत्येक को ₹840 में बेचता है। वह पहली वस्तु पर 20% लाभ अर्जित करता है और दूसरी वस्तु पर उसे 20% की हानि होती है। उसे होने वाले शुद्ध लाभ या हानि का प्रतिशत निर्धारित कीजिए।

Ans  1. 4% की हानि

 2. 5% का लाभ

 3. 5% की हानि

 4. 3% की हानि

Question ID : 264330174055

Option 1 ID : 264330682672

Option 2 ID : 264330682673

Option 3 ID : 264330682674


Option 4 ID : 264330682671


Status : Answered

Chosen Option : 1

Q.8 R और S के बीच हुए एक चुनाव में, R, S के पक्ष में डाले गए मतों के $\frac{1}{4}$ मतों से चुनाव जीत जाता है। कोई भी अवैध मत नहीं है। R के पक्ष में कुल मतों का कितना प्रतिशत (दशमलव के दो स्थानों तक पूर्णांकित) मतदान किया गया?

Ans  1. 55.56%

 2. 52.56%

 3. 60.56%

 4. 57.56%

Question ID : 264330130168

Option 1 ID : 264330509786

Option 2 ID : 264330509783

Option 3 ID : 264330509784

Option 4 ID : 264330509785

Status : Answered

Chosen Option : 1

Q.9 दो स्टेशन, A और B एक सीधी रेखा में 100 km की दूरी पर हैं। एक ट्रेन A से 7 A.M. पर चलना शुरू करती है और 20 km/h की चाल से B की ओर आगे बढ़ती है। एक अन्य ट्रेन B से सुबह 8 A.M. पर चलना शुरू करती है और 25 km/h की चाल से A की ओर आगे बढ़ती है। वे किस समय एक दुसरे से मिलेंगी?

Ans  1. 10.47 A.M.

 2. 11.05 A.M.

 3. 10.37 A.M.

 4. 9.47 A.M.

Question ID : 264330183864

Option 1 ID : 264330721132

Option 2 ID : 264330721133

Option 3 ID : 264330721134

Option 4 ID : 264330721135

Status : Answered

Chosen Option : 4

Q.10 निम्नलिखित को सरल कीजिए।

$$\frac{\frac{6}{7} + \frac{2}{3}}{\frac{1}{6} - \frac{3}{20}}$$

- Ans
- ☒ 1. $\frac{16}{630}$
 - ☒ 2. $\frac{80}{7}$
 - ☒ 3. $\frac{640}{133}$
 - ☒ 4. $\frac{640}{7}$

Question ID : 264330104228

Option 1 ID : 264330409214

Option 2 ID : 264330409213

Option 3 ID : 264330409215

Option 4 ID : 264330409216

Status : Answered

Chosen Option : 4

Q.11 एक वस्तु की कीमत ₹225 से बढ़कर ₹250 हो गई। तो बताइए कि कीमत में प्रतिशत वृद्धि कितनी है?

- Ans
- ☒ 1. 9.5%
 - ☒ 2. 13.33%
 - ☒ 3. 11.11%
 - ☒ 4. 16.66%

Question ID : 264330126099

Option 1 ID : 264330494070

Option 2 ID : 264330494069

Option 3 ID : 264330494071

Option 4 ID : 264330494068

Status : Answered

Chosen Option : 3

Q.12 चार अभाज्य संख्याएँ आरोही क्रम में लिखी गई हैं। प्रथम तीन संख्याओं का गुणनफल 30 है और अंतिम तीन संख्याओं का गुणनफल 165 है। अंतिम संख्या ज्ञात करें।

- Ans
- ☒ 1. 11
 - ☒ 2. 7
 - ☒ 3. 17
 - ☒ 4. 13

Question ID : 264330111445

Option 1 ID : 264330437865

Option 2 ID : 264330437866

Option 3 ID : 264330437868

Option 4 ID : 264330437867

Status : Answered

Chosen Option : 2

Q.13 निम्नलिखित में से कौन-सा सबसे बड़ा अनुपात है?

- Ans ☐ 1. 4 : 5
☐ 2. 7 : 10
☐ 3. 3 : 5
☒ 4. 6 : 5

Question ID : 264330119198

Option 1 ID : 264330467082

Option 2 ID : 264330467081

Option 3 ID : 264330467079

Option 4 ID : 264330467080

Status : Answered

Chosen Option : 4

Q.14 एक निश्चित धनराशि, चक्रवृद्धि ब्याज पर 2 वर्षों और 3 वर्षों में क्रमशः ₹12,260 और ₹12,873 हो जाती है। ब्याज दर ज्ञात कीजिए।

- Ans ☐ 1. 7%
☐ 2. 6%
☒ 3. 5%
☐ 4. 4%

Question ID : 264330106007

Option 1 ID : 264330416332

Option 2 ID : 264330416331

Option 3 ID : 264330416330

Option 4 ID : 264330416329

Status : Answered

Chosen Option : 3

Q.15 A एक काम को 16 दिन में पूरा कर सकता है और B उसी काम को 26 दिन में पूरा कर सकता है। A और B को मिलकर इसी काम को पूरा करने में कितने दिन लगेंगे?

- Ans ☐ 1. $7\frac{8}{21}$
☐ 2. $11\frac{20}{21}$
☐ 3. $8\frac{11}{21}$
☒ 4. $9\frac{19}{21}$

Question ID : 264330104534

Option 1 ID : 264330410438

Option 2 ID : 264330410440

Option 3 ID : 264330410437

Option 4 ID : 264330410439

Status : Answered

Chosen Option : 4

Q.1 एमएस एक्सेल 365 (MS Excel 365) में, एमएस एक्सेल (MS Excel) में वर्कबुक को सेव करने के लिए निम्नलिखित में से किस शॉर्टकट कुंजी (keys) का उपयोग किया जाता है?

- Ans
- ☒ 1. Ctrl+A
 - ☒ 2. F6
 - ☒ 3. F1
 - ☒ 4. Ctrl+S

Question ID : 264330178595

Option 1 ID : 264330700407

Option 2 ID : 264330700408

Option 3 ID : 264330700410

Option 4 ID : 264330700409

Status : Answered

Chosen Option : 4

Q.2 विंडोज़ 10 में एमएस वर्ड 365 में, फ्रॉन्ट-मेनू ड्रॉपडाउन लिस्ट में निम्नलिखित में से कौन-सा डिफॉल्ट फ्रॉन्ट साइज़ नहीं हो सकता है?

- Ans
- ☒ 1. 9
 - ☒ 2. 10
 - ☒ 3. 11
 - ☒ 4. 13

Question ID : 264330180641

Option 1 ID : 264330708531

Option 2 ID : 264330708532

Option 3 ID : 264330708533

Option 4 ID : 264330708534

Status : Not Answered

Chosen Option : --

Q.3 निम्नलिखित में से कौन-सा सामान्यतः इस्तेमाल किया जाने वाला वर्ड प्रोसेसिंग पैकेज है?

- Ans
- ☒ 1. माइक्रोसॉफ्ट वर्ड
 - ☒ 2. माइक्रोसॉफ्ट एक्सेल
 - ☒ 3. एडोब फोटोशॉप
 - ☒ 4. गूगल क्रोम

Question ID : 264330174501

Option 1 ID : 264330684426

Option 2 ID : 264330684424

Option 3 ID : 264330684423

Option 4 ID : 264330684425

Status : Answered

Chosen Option : 1

Q.4 एमएस एक्सेल 365 (MS Excel 365) में, एमएस एक्सेल (MS Excel) स्प्रेडशीट (spreadsheet) को प्रिंट करने के लिए की-बोर्ड शॉर्टकट निम्नलिखित में से क्या होता है?

- Ans
- ☐ 1. Alt + P
 - ☐ 2. Ctrl + I
 - ☒ 3. Ctrl + P
 - ☐ 4. Alt + I

Question ID : 264330180401

Option 1 ID : 264330707571

Option 2 ID : 264330707574

Option 3 ID : 264330707572

Option 4 ID : 264330707573

Status : Answered

Chosen Option : 3

Q.5 एमएस एक्सेल 365 (MS Excel 365) में, निम्नलिखित में से किस रिबन टैब में पंक्तियाँ (rows) ऐड करने का विकल्प होता है?

- Ans
- ☐ 1. Home → File
 - ☐ 2. Home → Format
 - ☐ 3. Home → Edit
 - ☒ 4. Home → Insert

Question ID : 264330182769

Option 1 ID : 264330716850

Option 2 ID : 264330716847

Option 3 ID : 264330716849

Option 4 ID : 264330716848

Status : Answered

Chosen Option : 4

Q.6 वर्ड प्रोसेसिंग (word processing) सॉफ्टवेयर में मेनू बार के नीचे बटन या आइकन के समूह को _____ कहा जाता है।

- Ans
- ☒ 1. टूलबार (toolbars)
 - ☐ 2. मेनू (menus)
 - ☐ 3. स्टेटस बार (status bars)
 - ☐ 4. डायलॉग बॉक्स (dialog boxes)

Question ID : 264330178584

Option 1 ID : 264330700363

Option 2 ID : 264330700364

Option 3 ID : 264330700366

Option 4 ID : 264330700365

Status : Answered

Chosen Option : 1

Q.7 NetBIOS का पूर्ण रूप क्या है?

- Ans ☒ 1. Network Basic Input / Output System (नेटवर्क बेसिक इनपुट / आउटपुट सिस्टम)
- ☐ 2. Networking Binary Input / Output System (नेटवर्किंग बाइनरी इनपुट / आउटपुट सिस्टम)
- ☐ 3. Network Based Input / Output System (नेटवर्क बेस्ड इनपुट / आउटपुट सिस्टम)
- ☐ 4. Net Binary In / Out System (नेट बाइनरी इन / आउट सिस्टम)

Question ID : 264330171381

Option 1 ID : 264330672140

Option 2 ID : 264330672139

Option 3 ID : 264330672142

Option 4 ID : 264330672141

Status : Answered

Chosen Option : 1

Q.8 एमएस वर्ड 365 (MS Word 365) में पैराग्राफ इंडेंटेशन को बढ़ाने के लिए निम्नलिखित में से किस शॉर्टकट कुंजी (shortcut key) का उपयोग किया जाता है?

- Ans ☐ 1. Ctrl + Tab
- ☒ 2. Ctrl + M
- ☐ 3. Ctrl + I
- ☐ 4. Ctrl + L

Question ID : 264330176703

Option 1 ID : 264330693029

Option 2 ID : 264330693027

Option 3 ID : 264330693028

Option 4 ID : 264330693030

Status : Answered

Chosen Option : 2

Q.9 Which of the following is/are parts of the standard Structure of Electronic mail?

- Ans ☐ 1. Neither Header nor Body
- ☒ 2. Both Header and Body
- ☐ 3. Only Header
- ☐ 4. Only Body

Question ID : 264330176708

Option 1 ID : 264330693050

Option 2 ID : 264330693049

Option 3 ID : 264330693047

Option 4 ID : 264330693048

Status : Not Answered

Chosen Option : --

Q.10 इलेक्ट्रॉनिक मेल के प्रेषण तथा प्राप्ति हेतु सामान्यतः किस प्रौद्योगिकी का उपयोग किया जाता है?

- Ans ☐ 1. फ़ैक्स मशीन
- ☐ 2. डाक सेवाओं
- ☐ 3. टेलीफ़ोनी
- ☒ 4. इंटरनेट और ईमेल प्रोटोकॉल

Question ID : 264330173547

Option 1 ID : 264330680668

Option 2 ID : 264330680669

Option 3 ID : 264330680667

Option 4 ID : 264330680670

Status : Answered

Chosen Option : 4