

Constable Executive Male and Female in Delhi Police Examination 2023

Roll Number	
Candidate Name	
Venue Name	Maa Kamla Digital Center
Exam Date	17/11/2023
Exam Time	3:00 PM - 4:30 PM
Subject	Constable Executive Male and Female in Delhi Police Examination 2023

Section : General Knowledge

Q.1 रथ सप्तमी का सांस्कृतिक उत्सव मुख्य रूप से भारत के किस राज्य में मनाया जाता है?

- Ans ☒ 1. हिमाचल प्रदेश
☒ 2. आंध्र प्रदेश
☒ 3. पश्चिम बंगाल
☒ 4. बिहार

Question ID : 264330109611

Option 1 ID : 264330430724

Option 2 ID : 264330430723

Option 3 ID : 264330430722

Option 4 ID : 264330430721

Status : Not Attempted and Marked For Review

Chosen Option : --

Q.2 तदर्थ न्यायाधीशों की नियुक्ति करते समय भारत के मुख्य न्यायाधीश _____ से पूर्व अनुमति लेंगे।

- Ans ☒ 1. संसद
☒ 2. सर्वोच्च न्यायालय का कॉलेजियम
☒ 3. भारत के राष्ट्रपति
☒ 4. भारत के प्रधानमंत्री

Question ID : 264330120174

Option 1 ID : 264330470952

Option 2 ID : 264330470953

Option 3 ID : 264330470951

Option 4 ID : 264330470954

Status : Answered

Chosen Option : 3

Q.3 नानजियाम्मा को मलयालम फिल्म अय्यप्पनम कोशियुम के गीत कलक्कथा संदना के लिए राष्ट्रीय पुरस्कार, _____ से सम्मानित किया गया।

- Ans ☒ 1. 2021
☒ 2. 2019
☒ 3. 2018
☒ 4. 2020

Question ID : 264330114171

Option 1 ID : 264330448771

Option 2 ID : 264330448769

Option 3 ID : 264330448772

Option 4 ID : 264330448770

Status : Not Answered

Chosen Option : --

Q.4 क्षमादान देने की शक्ति किसके पास होती है?

- Ans ☒ 1. भारत के मुख्य न्यायाधीश
☒ 2. राष्ट्रपति
☒ 3. महान्यायवादी
☒ 4. मुख्यमंत्री

Question ID : 264330169051

Option 1 ID : 264330663010

Option 2 ID : 264330663008

Option 3 ID : 264330663009

Option 4 ID : 264330663007

Status : Answered

Chosen Option : 2

Q.5 उस मौर्य राजा का नाम बताइए जिसने अफगानिस्तान और बलूचिस्तान के रूप में उत्तर पश्चिम तक नियंत्रण बढ़ाया।

- Ans ☒ 1. चंद्रगुप्त मौर्य
☒ 2. सम्प्रति
☒ 3. दशरथ
☒ 4. बिन्दुसार

Question ID : 264330119470

Option 1 ID : 264330468164

Option 2 ID : 264330468163

Option 3 ID : 264330468166

Option 4 ID : 264330468165

Status : Answered

Chosen Option : 1

Q.6 निम्नलिखित में से किस तत्व का परमाणु क्रमांक सबसे अधिक है?

- Ans ☒ 1. लोहा
☒ 2. ताँबा
☒ 3. सोना
☒ 4. चांदी

Question ID : 264330173655

Option 1 ID : 264330681101

Option 2 ID : 264330681102

Option 3 ID : 264330681099

Option 4 ID : 264330681100

Status : Answered

Chosen Option : 3

Q.7 निम्नलिखित में से किस अनुच्छेद में यह उल्लेख किया गया है कि राज्य, भारत के क्षेत्र के भीतर किसी भी व्यक्ति को कानून के समक्ष समानता या कानूनों के समान संरक्षण से वंचित नहीं करेगा?

- Ans ☒ 1. अनुच्छेद 15
☒ 2. अनुच्छेद 12
☒ 3. अनुच्छेद 13
☒ 4. अनुच्छेद 14

Question ID : 264330180042

Option 1 ID : 264330706154

Option 2 ID : 264330706151

Option 3 ID : 264330706152

Option 4 ID : 264330706153

Status : Answered

Chosen Option : 4

Q.8 'ई-शक्ति' कार्यक्रम का उद्देश्य क्या है?

- Ans ☒ 1. बैंकों के लिए स्वयं सहायता समूह के विवरणों का डिजिटलीकरण करना
- ☐ 2. महिलाओं को क्रेडिट कार्ड उपलब्ध करवाना
- ☐ 3. महिला किसानों को बिजली प्रदान करना
- ☐ 4. ई-रिक्शा खरीदने के लिए ऋण प्रदान करना

Question ID : 264330111721

Option 1 ID : 264330438970

Option 2 ID : 264330438971

Option 3 ID : 264330438972

Option 4 ID : 264330438969

Status : Answered

Chosen Option : 2

Q.9 योजना आयोग को 2014 में इनमें से किसके द्वारा प्रतिस्थापित किया गया?

- Ans ☐ 1. स्टैंड अप इंडिया स्कीम
- ☐ 2. सेबी (SEBI)
- ☐ 3. नाबार्ड (NABARD)
- ☒ 4. नीति आयोग

Question ID : 264330110169

Option 1 ID : 264330432956

Option 2 ID : 264330432953

Option 3 ID : 264330432955

Option 4 ID : 264330432954

Status : Answered

Chosen Option : 4

Q.10 बिष्णुपुर मंदिर समूह भारत के किस राज्य में स्थित है?

- Ans ☐ 1. मध्य प्रदेश
- ☒ 2. पश्चिम बंगाल
- ☐ 3. बिहार
- ☐ 4. असम

Question ID : 264330109651

Option 1 ID : 264330430884

Option 2 ID : 264330430883

Option 3 ID : 264330430882

Option 4 ID : 264330430881

Status : Not Answered

Chosen Option : --

Q.11 नलवाड़ी मेला किस भारतीय राज्य में आयोजित किया जाता है?

- Ans ☒ 1. हिमाचल प्रदेश
- ☐ 2. पंजाब
- ☐ 3. हरियाणा
- ☐ 4. उत्तर प्रदेश

Question ID : 264330132418

Option 1 ID : 264330518767

Option 2 ID : 264330518768

Option 3 ID : 264330518769

Option 4 ID : 264330518770

Status : Not Answered

Chosen Option : --

Q.12 2011 की जनगणना के अनुसार, किस राज्य का लिंगानुपात सर्वाधिक है?

- Ans ☒ 1. केरल
☒ 2. उत्तर प्रदेश
☒ 3. महाराष्ट्र
☒ 4. पश्चिम बंगाल

Question ID : 264330131754

Option 1 ID : 264330516115

Option 2 ID : 264330516117

Option 3 ID : 264330516118

Option 4 ID : 264330516116

Status : Answered

Chosen Option : 1

Q.13 निम्नलिखित में से कौन-सा/से कथन सही है/हैं?

- a) भारत दुनिया का एकमात्र देश है जहां बाघ और शेर दोनों पाए जाते हैं।
b) भारतीय शेर का प्राकृतिक आवास गुजरात में गिर का जंगल है। बाघ मध्य प्रदेश के जंगलों, पश्चिम बंगाल के सुंदरवन और हिमालय क्षेत्र में पाए जाते हैं।

- Ans ☒ 1. a और b दोनों गलत हैं।
☒ 2. केवल b सही है।
☒ 3. केवल a सही है।
☒ 4. a और b दोनों सही हैं।

Question ID : 264330178105

Option 1 ID : 264330698486

Option 2 ID : 264330698484

Option 3 ID : 264330698483

Option 4 ID : 264330698485

Status : Answered

Chosen Option : 4

Q.14 गांधी-इरविन समझौते के परिणामस्वरूप गांधीजी ने _____ में भाग लिया था।

- Ans ☒ 1. भारत छोड़ो आंदोलन
☒ 2. दूसरे गोलमेज़ सम्मेलन
☒ 3. खिलाफ़त आंदोलन
☒ 4. पहले गोलमेज़ सम्मेलन

Question ID : 264330130557

Option 1 ID : 264330511341

Option 2 ID : 264330511342

Option 3 ID : 264330511340

Option 4 ID : 264330511339

Status : Answered

Chosen Option : 2

Q.15 विशेष रूप से 1988 में ऑपरेशन कैक्टस के बाद भारत ने किस देश को व्यापक सुरक्षा सहयोग की पेशकश की थी?

- Ans
- ☐ 1. नेपाल
 - ☐ 2. भूटान
 - ☐ 3. श्रीलंका
 - ☒ 4. मालदीव

Question ID : 264330130606
Option 1 ID : 264330511538
Option 2 ID : 264330511535
Option 3 ID : 264330511536
Option 4 ID : 264330511537
Status : Not Answered
Chosen Option : --

Q.16 ओलंपिक पदक जीतने वाली पहली भारतीय महिला कौन बनीं?

- Ans
- ☒ 1. कर्णम मल्लेश्वरी
 - ☐ 2. साक्षी मलिक
 - ☐ 3. साइना नेहवाल
 - ☐ 4. मैरी कॉम

Question ID : 264330119258
Option 1 ID : 264330467320
Option 2 ID : 264330467322
Option 3 ID : 264330467321
Option 4 ID : 264330467319
Status : Answered
Chosen Option : 1

Q.17 'पूर्ण स्वराज' का उद्देश्य कांग्रेस के 1929 के _____ अधिवेशन के दौरान अपनाया गया था।

- Ans
- ☐ 1. अमृतसर
 - ☒ 2. लाहौर
 - ☐ 3. लखनऊ
 - ☐ 4. पूना

Question ID : 264330118992
Option 1 ID : 264330466626
Option 2 ID : 264330466625
Option 3 ID : 264330466624
Option 4 ID : 264330466623
Status : Answered
Chosen Option : 2

Q.18 2022 में थॉमस कप के फाइनल में भारत ने किस देश को हराया था?

- Ans
- ☐ 1. पाकिस्तान
 - ☒ 2. इंडोनेशिया
 - ☐ 3. सिंगापुर
 - ☐ 4. मलेशिया

Question ID : 264330113740
Option 1 ID : 264330447048
Option 2 ID : 264330447047
Option 3 ID : 264330447046
Option 4 ID : 264330447045
Status : Answered
Chosen Option : 2

Q.19 पंडित राम दयाल शर्मा को 2022 में नौटंकी, स्वांग, भगत, _____ और रसिया रूपों के लिए पद्म श्री से सम्मानित किया गया था।

- Ans
- ☒ 1. फाग
 - ☒ 2. मटकी
 - ☒ 3. रासलीला
 - ☒ 4. खोरिया

Question ID : 264330111974
Option 1 ID : 264330439982
Option 2 ID : 264330439984
Option 3 ID : 264330439983
Option 4 ID : 264330439981
Status : Not Answered
Chosen Option : --

Q.20 भारत में कोविड-19 के कारण होने वाली कठिनाइयों को दूर करने के लिए पांच स्तंभों के आधार पर योजना की घोषणा की गई थी।

- Ans
- ☒ 1. आत्मनिर्भर भारत अभियान
 - ☒ 2. स्वच्छ भारत अभियान
 - ☒ 3. पीएम – जन आरोग्य योजना (PM-JAY)
 - ☒ 4. आयुष्मान भारत

Question ID : 264330110007
Option 1 ID : 264330432305
Option 2 ID : 264330432306
Option 3 ID : 264330432308
Option 4 ID : 264330432307
Status : Answered
Chosen Option : 3

Q.21 ब्रिटिश भारत के निम्नलिखित समाज सुधारकों में से किसे लोकहितवादी के नाम से जाना जाता था?

- Ans
- ☒ 1. वीरेशलिंगम पंतुलु
 - ☒ 2. नारायण गुरु
 - ☒ 3. ज्योतिबा फुले
 - ☒ 4. गोपाल हरि देशमुख

Question ID : 264330182742
Option 1 ID : 264330716742
Option 2 ID : 264330716740
Option 3 ID : 264330716739
Option 4 ID : 264330716741
Status : Answered
Chosen Option : 4

Q.22 2020 में, खेलो इंडिया यूनिवर्सिटी गेम्स का पहला संस्करण किस राज्य में आयोजित किया गया था?

- Ans
- ☒ 1. कर्नाटक
 - ☒ 2. ओडिशा
 - ☒ 3. हरियाणा
 - ☒ 4. असम

Question ID : 264330118458
Option 1 ID : 264330465236
Option 2 ID : 264330465234
Option 3 ID : 264330465233
Option 4 ID : 264330465235
Status : Answered
Chosen Option : 1

Q.23 राज्य विधायिका के पास भारत के संविधान की सातवीं अनुसूची की सूची _____ में वर्णित समवर्ती शक्तियां हैं।

- Ans
- ☒ 1. IV
 - ☒ 2. I
 - ☒ 3. III
 - ☒ 4. II

Question ID : 26433086864
Option 1 ID : 264330341100
Option 2 ID : 264330341097
Option 3 ID : 264330341099
Option 4 ID : 264330341098
Status : Answered
Chosen Option : 3

Q.24 शोवना नारायण निम्न में से किस नृत्य शैली से संबंधित हैं?

- Ans
- ☒ 1. कथकली
 - ☒ 2. मोहिनीअट्टम
 - ☒ 3. कथक
 - ☒ 4. भरतनाट्यम

Question ID : 264330109303
Option 1 ID : 264330429489
Option 2 ID : 264330429490
Option 3 ID : 264330429492
Option 4 ID : 264330429491
Status : Answered
Chosen Option : 3

Q.25 कोशिका आवरण में संरचनाओं की कितनी परतें पाई जाती हैं?

- Ans
- ☒ 1. दो
 - ☒ 2. चार
 - ☒ 3. तीन
 - ☒ 4. एक

Question ID : 264330113329
Option 1 ID : 264330445402
Option 2 ID : 264330445404
Option 3 ID : 264330445403
Option 4 ID : 264330445401
Status : Answered
Chosen Option : 1

Q.26 राष्ट्रीय आय की गणना करते समय अप्रत्याशित अभिलाभ को गणना में शामिल नहीं किया जाता है, क्योंकि _____।

- Ans
- ☒ 1. इसे पहले ही शामिल किया जा चुका होता है
 - ☒ 2. मूल्यवर्धन होता है
 - ☒ 3. उनसे जुड़ी कोई उत्पादक गतिविधि नहीं होती है
 - ☒ 4. कोई आय नहीं है

Question ID : 264330116513

Option 1 ID : 264330458140

Option 2 ID : 264330458139

Option 3 ID : 264330458137

Option 4 ID : 264330458138

Status : Not Attempted and
Marked For Review

Chosen Option : --

Q.27 'सिंहली' मानवजातीय समूह निम्नलिखित में से किस देश में पाया जाता है?

- Ans
- ☒ 1. नेपाल
 - ☒ 2. म्यांमार
 - ☒ 3. श्रीलंका
 - ☒ 4. इंडोनेशिया

Question ID : 264330119828

Option 1 ID : 264330469590

Option 2 ID : 264330469587

Option 3 ID : 264330469588

Option 4 ID : 264330469589

Status : Answered

Chosen Option : 3

Q.28 निम्नलिखित में से कौन कालबेलिया नृत्य शैली का प्रसिद्ध कलाकार है?

- Ans
- ☒ 1. वैजयंती काशी
 - ☒ 2. मिनाती मिश्रा
 - ☒ 3. गुलाबो सपेरा
 - ☒ 4. गीता महालिक

Question ID : 264330141361

Option 1 ID : 264330553782

Option 2 ID : 264330553780

Option 3 ID : 264330553779

Option 4 ID : 264330553781

Status : Not Attempted and
Marked For Review

Chosen Option : --

Q.29 नादिर शाह _____ का शासक था जिसने 1739 में दिल्ली शहर पर विजय प्राप्त करके इसे लूट लिया था।

- Ans
- ☒ 1. इराक
 - ☒ 2. मंगोलिया
 - ☒ 3. ईरान
 - ☒ 4. तुर्की

Question ID : 264330114089
Option 1 ID : 264330448441
Option 2 ID : 264330448443
Option 3 ID : 264330448444
Option 4 ID : 264330448442
Status : Answered
Chosen Option : 3

Q.30 वर्ष 2015 से पहले पंचवर्षीय योजनाओं को बनाने, लागू करने और विनियमित करने के लिए कौन-सा निकाय जिम्मेदार था?

- Ans
- ☒ 1. भारतीय रिजर्व बैंक
 - ☒ 2. वित्त मंत्रालय
 - ☒ 3. ग्रामीण विकास मंत्रालय
 - ☒ 4. योजना आयोग

Question ID : 264330117738
Option 1 ID : 264330462770
Option 2 ID : 264330462767
Option 3 ID : 264330462769
Option 4 ID : 264330462768
Status : Answered
Chosen Option : 4

Q.31 निम्नलिखित में से कौन-सी/सा ट्रॉफी/कप क्रिकेट से संबंधित है?

- Ans
- ☒ 1. डूरंड कप
 - ☒ 2. दलीप ट्रॉफी
 - ☒ 3. थॉमस कप
 - ☒ 4. संतोष ट्रॉफी

Question ID : 264330132554
Option 1 ID : 264330519314
Option 2 ID : 264330519311
Option 3 ID : 264330519313
Option 4 ID : 264330519312
Status : Answered
Chosen Option : 2

Q.32 नाटक 'मृच्छकटिक (Mrichchhakatika)' की रचना किसने की थी?

- Ans
- ☒ 1. कालिदास
 - ☒ 2. शूद्रक
 - ☒ 3. अतुल
 - ☒ 4. भांस

Question ID : 264330119728
Option 1 ID : 264330469189
Option 2 ID : 264330469188
Option 3 ID : 264330469190
Option 4 ID : 264330469187
Status : Answered
Chosen Option : 2

Q.33 निम्नलिखित विजयनगर शासकों में से किसने विजयनगर के पास नागलापुरम नामक एक उपनगरीय बस्ती की स्थापना की?

- Ans
- ☒ 1. सदाशिव राय
 - ☒ 2. अच्युत देव राय
 - ☒ 3. कृष्ण देव राय
 - ☒ 4. राम राय

Question ID : 264330179077
Option 1 ID : 264330702314
Option 2 ID : 264330702313
Option 3 ID : 264330702312
Option 4 ID : 264330702311
Status : Answered
Chosen Option : 3

Q.34 संविधान के 42वें संशोधन में कितने मौलिक कर्तव्यों को प्रगणित किया गया था?

- Ans
- ☒ 1. 18
 - ☒ 2. 12
 - ☒ 3. 8
 - ☒ 4. 10

Question ID : 264330116389
Option 1 ID : 264330457644
Option 2 ID : 264330457643
Option 3 ID : 264330457641
Option 4 ID : 264330457642
Status : Answered
Chosen Option : 4

Q.35 निम्नलिखित में से कौन-सा राज्य का नीति निर्देशक सिद्धांत है?

- Ans
- ☒ 1. व्यक्तिगत और सामूहिक गतिविधि के सभी क्षेत्रों में उत्कृष्टता की दिशा में प्रयास करना
 - ☒ 2. लोक कल्याण की अभिवृद्धि के लिए सामाजिक व्यवस्था बनाए रखना
 - ☒ 3. संविधान और उसके आदर्शों का पालन करना
 - ☒ 4. राष्ट्रीय संघर्ष के आदर्शों को संजोए रखना और उनका पालन करना

Question ID : 264330110128
Option 1 ID : 264330432789
Option 2 ID : 264330432792
Option 3 ID : 264330432790
Option 4 ID : 264330432791
Status : Answered
Chosen Option : 2

Q.36 _____ में, भुगतान के बकाये के संकट को हल करने के उपाय के रूप में, भारतीय रुपये को विदेशी मुद्राओं के विरुद्ध अवमूल्यित किया गया था।

- Ans
- ☒ 1. 1991
 - ☒ 2. 1981
 - ☒ 3. 1971
 - ☒ 4. 1961

Question ID : 264330111574
Option 1 ID : 264330438384
Option 2 ID : 264330438383
Option 3 ID : 264330438382
Option 4 ID : 264330438381
Status : Answered
Chosen Option : 1

Q.37 पादप कोशिकाओं में रसधानियाँ कोशिका के आयतन के कितने प्रतिशत तक व्याप्त हो सकती हैं?

- Ans
- ☐ 1. 60
 - ☐ 2. 20
 - ☒ 3. 90
 - ☐ 4. 40

Question ID : 264330131729

Option 1 ID : 264330516016

Option 2 ID : 264330516018

Option 3 ID : 264330516015

Option 4 ID : 264330516017

Status : Answered

Chosen Option : 3

Q.38 एशिया में सबसे बड़ा खारे पानी का लैगून कौन-सा है जिसे 1981 में 'रामसर साइट' के रूप में नामित किया गया था?

- Ans
- ☐ 1. लोकटक झील
 - ☒ 2. चिल्का झील
 - ☐ 3. तम्पारा झील
 - ☐ 4. हरिके झील

Question ID : 264330141745

Option 1 ID : 264330555301

Option 2 ID : 264330555302

Option 3 ID : 264330555300

Option 4 ID : 264330555299

Status : Answered

Chosen Option : 2

Q.39 सोनल मानसिंह को किस प्रकार के नृत्य के लिए संगीत नाटक अकादमी पुरस्कार मिला?

- Ans
- ☐ 1. मणिपुरी
 - ☐ 2. मोहिनीअट्टम
 - ☐ 3. कुचिपुड़ी
 - ☒ 4. ओडिसी

Question ID : 26433074871

Option 1 ID : 264330293574

Option 2 ID : 264330293573

Option 3 ID : 264330293572

Option 4 ID : 264330293575

Status : Answered

Chosen Option : 2

Q.40 प्रसिद्ध आत्मकथा 'बीकमिंग' ('Becoming') किसने लिखी है?

- Ans
- ☐ 1. स्टेफ़ी ग्राफ़
 - ☐ 2. आंद्रे अगासी
 - ☐ 3. जॉनी मार्र
 - ☒ 4. मिशेल ओबामा

Question ID : 26433071467

Option 1 ID : 264330280294

Option 2 ID : 264330280293

Option 3 ID : 264330280295

Option 4 ID : 264330280292

Status : Not Attempted and
Marked For Review

Chosen Option : --

Q.41 निम्नलिखित में से किस राज्य में हजार स्तंभ मंदिर स्थित है, जिसमें हजार स्तंभ निर्मित हैं?

- Ans
- ☐ 1. महाराष्ट्र
 - ☐ 2. तमिलनाडु
 - ☒ 3. तेलंगाना
 - ☐ 4. केरल

Question ID : 264330106250

Option 1 ID : 264330417301

Option 2 ID : 264330417302

Option 3 ID : 264330417303

Option 4 ID : 264330417304

Status : Answered

Chosen Option : 2

Q.42 निम्नलिखित में से कौन सा विकल्प राज्य के नीति निर्देशक सिद्धांतों में सूचीबद्ध नहीं है?

- Ans
- ☒ 1. कुछ मामलों में ट्रांसजेंडरों के लिए अधिकार
 - ☐ 2. समान कार्य के लिए समान वेतन
 - ☐ 3. नागरिकों के लिए समान नागरिक संहिता
 - ☐ 4. लोगों के कल्याण को बढ़ावा देना

Question ID : 264330130780

Option 1 ID : 264330512233

Option 2 ID : 264330512232

Option 3 ID : 264330512234

Option 4 ID : 264330512231

Status : Answered

Chosen Option : 1

Q.43 किस नदी बेसिन का जलग्रहण क्षेत्र 5,179 km² है, जो कर्नाटक के बेलगाम जिले से निकलती है और कारवार खाड़ी में गिरती है?

- Ans
- ☐ 1. भारतपुझा
 - ☐ 2. ब्राह्मणी
 - ☒ 3. काली नदी
 - ☐ 4. पालार

Question ID : 264330113533

Option 1 ID : 264330446217

Option 2 ID : 264330446219

Option 3 ID : 264330446218

Option 4 ID : 264330446220

Status : Answered

Chosen Option : 1

Q.44 भारत सरकार की किस पहल की विशेषताएँ निम्नलिखित हैं?

- a) इसे भारत को वैश्विक डिजाइन और विनिर्माण केंद्र में बदलने के लिए तैयार किया गया है।
b) इसमें निवेशक सुविधा प्रकोष्ठ है, जो विनियामक अनुमोदन प्राप्त करने, निवेश-पूर्व चरण में मार्गदर्शन सेवाएँ, निष्पादन और पश्च-देखभाल सहयोग प्रदान करने में निवेशकों की मदद करता है।
c) इसमें निवेश को सुविधाजनक बनाने, नवाचार को बढ़ावा देने, कौशल विकास के संवर्धन और सर्वोत्तम कोटि के विनिर्माण बुनियादी ढाँचे का निर्माण करने की इच्छा व्यक्त की गई है।

- Ans ☒ 1. स्टैंड अप इंडिया
☒ 2. स्टार्ट-अप इंडिया
☒ 3. मेक इन इंडिया
☒ 4. स्किल इंडिया

Question ID : 264330112498

Option 1 ID : 264330442077

Option 2 ID : 264330442079

Option 3 ID : 264330442078

Option 4 ID : 264330442080

Status : Not Attempted and
Marked For Review

Chosen Option : --

Q.45 विटामिन B का कौन सा प्राकृतिक रूप बच्चे के मस्तिष्क (अमस्तिष्कता) और द्विमेरुता (spina bifida) के कुछ प्रमुख जन्म दोषों को रोकने में मदद करता है?

- Ans ☒ 1. फोलेट (Folate)
☒ 2. कोबालेमिन (Cobalamin)
☒ 3. पैंटोथेनिक अम्ल (Pantothenic acid)
☒ 4. पाइरिडोक्सिन (Pyridoxine)

Question ID : 264330130987

Option 1 ID : 264330513060

Option 2 ID : 264330513059

Option 3 ID : 264330513061

Option 4 ID : 264330513062

Status : Not Attempted and
Marked For Review

Chosen Option : --

Q.46 आर्य समाज की स्थापना निम्नलिखित में से किस वर्ष में हुई थी और किसने की थी?

- Ans ☒ 1. 1875 में स्वामी विवेकानंद
☒ 2. 1785 में स्वामी विवेकानंद
☒ 3. 1875 में स्वामी दयानंद सरस्वती
☒ 4. 1785 में स्वामी दयानंद सरस्वती

Question ID : 264330118997

Option 1 ID : 264330466644

Option 2 ID : 264330466646

Option 3 ID : 264330466643

Option 4 ID : 264330466645

Status : Answered

Chosen Option : 3

Q.47 पद्म श्री पुरस्कार से सम्मानित _____ की माधुरी बर्धवाल एक प्रसिद्ध लोक गायिका हैं। वह आकाशवाणी की पहली महिला संगीतकार थीं।

- Ans
- ☐ 1. पंजाब
 - ☐ 2. हरियाणा
 - ☒ 3. उत्तराखंड
 - ☐ 4. उत्तर प्रदेश

Question ID : 264330111954

Option 1 ID : 264330439903

Option 2 ID : 264330439902

Option 3 ID : 264330439901

Option 4 ID : 264330439904

Status : Not Attempted and Marked For Review

Chosen Option : --

Q.48 निम्नलिखित में से कौन-सा पश्चिमी तट बंदरगाह का एक उदाहरण है?

- Ans
- ☐ 1. विशाखापट्टनम बंदरगाह
 - ☐ 2. तूतीकोरिन बंदरगाह
 - ☒ 3. कांडला बंदरगाह
 - ☐ 4. हल्दिया बंदरगाह

Question ID : 264330173603

Option 1 ID : 264330680891

Option 2 ID : 264330680893

Option 3 ID : 264330680894

Option 4 ID : 264330680892

Status : Answered

Chosen Option : 3

Q.49 'द टेस्ट ऑफ माई लाइफ: फ्रॉम क्रिकेट टू कैसर एंड बैक' किस प्रसिद्ध भारतीय क्रिकेटर की आत्मकथा है?

- Ans
- ☐ 1. सुरेश रैना
 - ☐ 2. आकाश चोपड़ा
 - ☐ 3. रॉबिन उथप्पा
 - ☒ 4. युवराज सिंह

Question ID : 264330112855

Option 1 ID : 264330443506

Option 2 ID : 264330443505

Option 3 ID : 264330443507

Option 4 ID : 264330443508

Status : Answered

Chosen Option : 4

Q.50 निम्नलिखित में से किस राज्य में, कॉफी, एक प्रमुख बागान फ़सल है?

- Ans ☒ 1. कर्नाटक
☐ 2. मध्य प्रदेश
☐ 3. हरियाणा
☐ 4. असम

Question ID : 264330173602

Option 1 ID : 264330680889

Option 2 ID : 264330680890

Option 3 ID : 264330680887

Option 4 ID : 264330680888

Status : Answered

Chosen Option : 1

Section : Reasoning

Q.1 एक निश्चित कूट भाषा में 'HAND' को '16' और 'ENTRY' को '20' लिखा जाता है। उस भाषा में 'AIRPORT' को कैसे लिखा जाएगा?

- Ans ☐ 1. 26
☒ 2. 28
☐ 3. 22
☐ 4. 24

Question ID : 26433089413

Option 1 ID : 264330351155

Option 2 ID : 264330351154

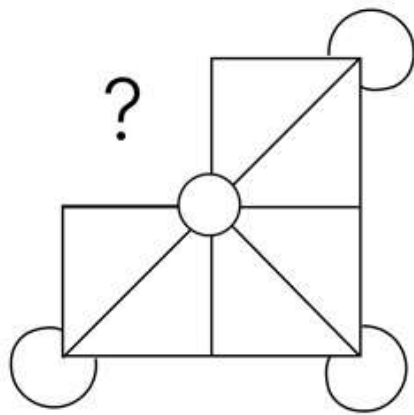
Option 3 ID : 264330351156

Option 4 ID : 264330351153

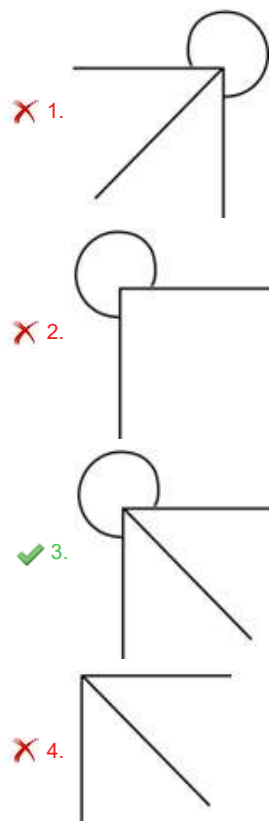
Status : Not Attempted and
Marked For Review

Chosen Option : --

Q.2 दिए गए विकल्पों में से उस आकृति का चयन करें जो पैटर्न को पूरा करने के लिए नीचे दी गई आकृति में प्रश्न चिह्न (?) का स्थान लेगी ताकि अंतिम छवि सममित हो जाए।



Ans



Question ID : 264330114728

Option 1 ID : 264330450999

Option 2 ID : 264330450998

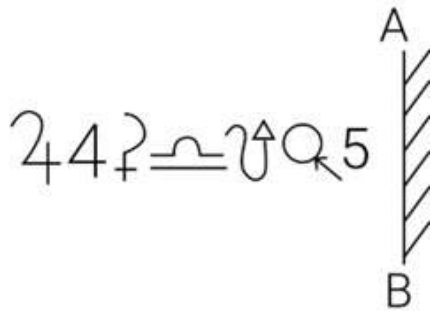
Option 3 ID : 264330451000

Option 4 ID : 264330450997

Status : Answered

Chosen Option : 3

Q.3 दर्पण को चित्र में दिखाए अनुसार 'AB' पर रखे जाने पर दी गई आकृति के सही दर्पण प्रतिबिम्ब का चयन करें।



Ans

- ✓ 1. 2 7 U = 5 Q 4
- ✗ 2. 2 Q U = 5 7 4
- ✗ 3. 5 7 U = 5 4 2
- ✗ 4. 2 7 U = 5 4 2

Question ID : 264330114693

Option 1 ID : 264330450858

Option 2 ID : 264330450859

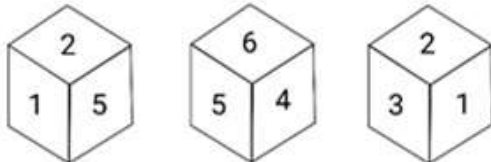
Option 3 ID : 264330450857

Option 4 ID : 264330450860

Status : Answered

Chosen Option : 1

Q.4 एक ही पासे की तीन भिन्न स्थितियों को दर्शाया गया है। संख्या '3' को दर्शाने वाले फलक के विपरीत फलक की संख्या ज्ञात कीजिए।



Ans

- ✗ 1. 1
- ✗ 2. 4
- ✓ 3. 5
- ✗ 4. 2

Question ID : 264330116959

Option 1 ID : 264330459919

Option 2 ID : 264330459917

Option 3 ID : 264330459920

Option 4 ID : 264330459918

Status : Answered

Chosen Option : 3

Q.5 निम्नलिखित श्रृंखला में पैटर्न को जारी रखने के लिए किस आकृति द्वारा प्रश्नवाचक चिह्न (?) को प्रतिस्थापित किया जाना चाहिए?

B	E	U	T	T	U	E	O	U	E	O	T	T	O	E	△	
7	↑	0	B	△	7	7	B	△	U	6	7					?
	△			↑			6			B						

Ans

✗ 1.

O	E	△	T
6	7		B
			U

✗ 2.

T	O	E	△
7	U		6
			☆

✓ 3.

O	E	△	T
7	U		6
			☆

✗ 4.

O	T	△	E
6	7		B
			U

Question ID : 264330129622

Option 1 ID : 264330507855

Option 2 ID : 264330507854

Option 3 ID : 264330507856

Option 4 ID : 264330507857

Status : Answered

Chosen Option : 3

Q.6 6 व्यक्ति एक गोल मेज के परितः मेज के केंद्र की ओर अभिमुख होकर बैठे हैं, तथा प्रत्येक व्यक्ति एक दूसरे व्यक्ति की ओर अभिमुख है। अंशु, रोहिन और सोनल के ठीक बीच में है। रोहिन, लीना के सामने है। फ़िज़ा, रोहिन की निकटतम पड़ोसी नहीं है। प्रभलीन के सामने कौन बैठा है?

Ans ✗ 1. फ़िज़ा

✗ 2. अंशु

✓ 3. सोनल

✗ 4. लीना

Question ID : 26433086246

Option 1 ID : 264330338679

Option 2 ID : 264330338677

Option 3 ID : 264330338680

Option 4 ID : 264330338678

Status : Answered

Chosen Option : 3

Q.7 दिए गए विकल्पों में से उस संख्या का चयन कीजिए जो निम्नलिखित श्रृंखला में प्रश्न चिह्न (?) के स्थान पर आ सकती है।
3, 6, 12, 24, ?, 96

Ans  1. 48

 2. 36

 3. 72

 4. 84

Question ID : 264330106386

Option 1 ID : 264330417846

Option 2 ID : 264330417845

Option 3 ID : 264330417847

Option 4 ID : 264330417848

Status : Answered

Chosen Option : 1

Q.8 उस विकल्प का चयन करें जो तीसरे पद से उसी प्रकार संबंधित है जिस प्रकार दूसरा पद पहले पद से संबंधित है और छठा पद पांचवें पद से संबंधित है।

23 : 92 :: 44 : ? :: 32 : 128

Ans  1. 176

 2. 160

 3. 172

 4. 204

Question ID : 264330102258

Option 1 ID : 264330401499

Option 2 ID : 264330401497

Option 3 ID : 264330401498

Option 4 ID : 264330401500

Status : Answered

Chosen Option : 1

Q.9 उस विकल्प का चयन कीजिए जो पांचवें अक्षर समूह से उसी तरह संबंधित है जिस तरह दूसरा अक्षर समूह पहले अक्षर समूह से संबंधित है और चौथा अक्षर समूह तीसरे अक्षर समूह से संबंधित है।
GBEJ : DGBO :: TJDG : QOAL :: BAHQ : ?

Ans  1. YFEV

 2. OJEH

 3. PLWM

 4. YFRM

Question ID : 26433074688

Option 1 ID : 264330292842

Option 2 ID : 264330292841

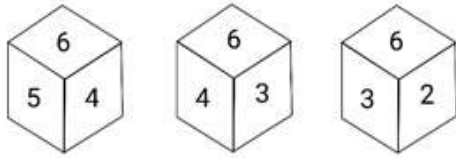
Option 3 ID : 264330292843

Option 4 ID : 264330292840

Status : Answered

Chosen Option : 1

Q.10 एक ही पासे की तीन भिन्न स्थितियों को दर्शाया गया है। संख्या '3' को दर्शाने वाले फलक के विपरीत फलक की संख्या ज्ञात कीजिए।



- Ans ☒ 1. 1
☒ 2. 5
☒ 3. 6
☒ 4. 4

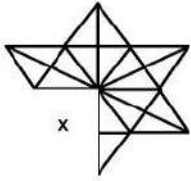
Question ID : 264330116957
 Option 1 ID : 264330459912
 Option 2 ID : 264330459911
 Option 3 ID : 264330459910
 Option 4 ID : 264330459909
 Status : Answered
 Chosen Option : 3

Q.11 गणितीय चिह्नों के उस सही संयोजन का चयन करें, जिसे * चिह्नों के स्थान पर क्रमिक रूप से रखे जाने पर दिया गया समीकरण संतुलित हो जाएगा।
 $8 * 14 * 3 * 24 * 7 = 168$

- Ans ☒ 1. ×, −, ×, +
☒ 2. ×, ×, −, ×
☒ 3. +, ×, −, +
☒ 4. +, ×, −, ×

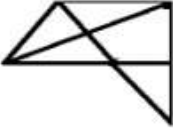
Question ID : 26433092502
 Option 1 ID : 264330363297
 Option 2 ID : 264330363299
 Option 3 ID : 264330363298
 Option 4 ID : 264330363300
 Status : Answered
 Chosen Option : 2

Q.12 दिए गए चार विकल्पों में से उस आकृति का चयन कीजिए, जो निम्न आकृति के रिक्त स्थान (x) पर रखने पर उस पैटर्न को पूर्ण करेगी।

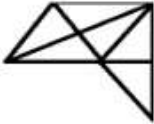


Ans

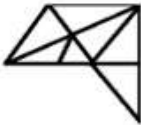
✗ 1.



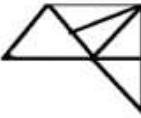
✓ 2.



✗ 3.



✗ 4.



Question ID : 264330102306

Option 1 ID : 264330401690

Option 2 ID : 264330401689

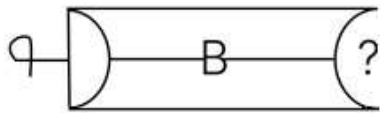
Option 3 ID : 264330401692

Option 4 ID : 264330401691

Status : Answered

Chosen Option : 1

Q.13 दिए गए विकल्पों में से उस आकृति का चयन करें जो पैटर्न को पूरा करने के लिए नीचे दी गई आकृति में प्रश्नचिह्न (?) का स्थान लेगी ताकि अंतिम छवि सममित हो जाए।



Ans

✗ 1.

✓ 2.

✗ 3.

✗ 4.

Question ID : 264330114724

Option 1 ID : 264330450983

Option 2 ID : 264330450981

Option 3 ID : 264330450984

Option 4 ID : 264330450982

Status : Answered

Chosen Option : 2

Q.14 यदि 'A' का अर्थ '+' है, 'B' का अर्थ 'x' है, 'C' का अर्थ '-' है और 'D' का अर्थ '÷' है, तो निम्नलिखित समीकरण में '?' के स्थान पर क्या आएगा?
 $80 C 4 B 5 A 20 = ?$

Ans

✗ 1. 40

✗ 2. 20

✓ 3. 80

✗ 4. 120

Question ID : 26433082475

Option 1 ID : 264330323736

Option 2 ID : 264330323733

Option 3 ID : 264330323734

Option 4 ID : 264330323735

Status : Answered

Chosen Option : 3

Q.15 दिए गए कथनों और निष्कर्षों को ध्यानपूर्वक पढ़ें। यह मानते हुए कि कथनों में दी गई जानकारी सत्य है, भले ही वह सामान्य रूप से ज्ञात तथ्यों से भिन्न प्रतीत होती हो, तय करें कि दिए गए निष्कर्षों में से कौन-सा/से निष्कर्ष कथनों का तार्किक रूप से अनुसरण करता है / करते हैं।

कथन:

कुछ गुब्बारे, कार हैं।

कुछ कार, रॉकेट हैं।

निष्कर्ष:

I. कुछ रॉकेट, गुब्बारे हैं।

II. सभी रॉकेट, गुब्बारे हैं।

- Ans
- ☒ 1. केवल निष्कर्ष I अनुसरण करता है
 - ☒ 2. निष्कर्ष I और II दोनों अनुसरण करते हैं
 - ☒ 3. न तो निष्कर्ष I अनुसरण करता है और न ही II अनुसरण करता है
 - ☒ 4. केवल निष्कर्ष II अनुसरण करता है

Question ID : 26433068292

Option 1 ID : 264330267680

Option 2 ID : 264330267682

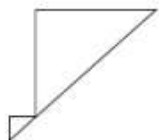
Option 3 ID : 264330267683

Option 4 ID : 264330267681

Status : Answered

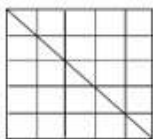
Chosen Option : 3

Q.16 उस विकल्प का चयन करें जिसमें दी गई आकृति सन्निहित है (आकृति को घुमाने की अनुमति नहीं है)।

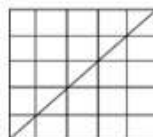


Ans

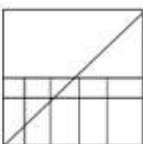
☒ 1.




☒ 2.



☒ 3.



☒ 4.



Question ID : 264330112983

Option 1 ID : 264330444019

Option 2 ID : 264330444020

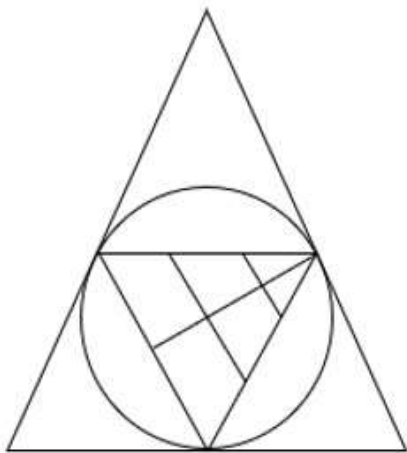
Option 3 ID : 264330444018

Option 4 ID : 264330444017

Status : Answered

Chosen Option : 2

Q.17 दी गई आकृति में कितने त्रिभुज हैं?



Ans ☒ 1. 13

☒ 2. 14

☒ 3. 11

☒ 4. 12

Question ID : 26433091708

Option 1 ID : 264330360200

Option 2 ID : 264330360197

Option 3 ID : 264330360198

Option 4 ID : 264330360199

Status : Answered

Chosen Option : 1

Q.18 निम्नलिखित श्रृंखला में पैटर्न को जारी रखने के लिए किस आकृति द्वारा प्रश्नवाचक चिह्न (?) को प्रतिस्थापित किया जाना चाहिए?

P	D	E	3	P	I	O	E	P	D	O	I	
3	O		O	D		D	3		3	E		?
	X	I		E	X		X	I		P	X	

Ans

✗ 1.

I	D	O
X	3	
	E	P

✗ 2.

3	I	X
E	D	
	O	P

✓ 3.

3	P	O
E	D	
	X	I

✗ 4.

E	P	D
X	O	
	E	I

Question ID : 264330129623

Option 1 ID : 264330507858

Option 2 ID : 264330507861

Option 3 ID : 264330507859

Option 4 ID : 264330507860

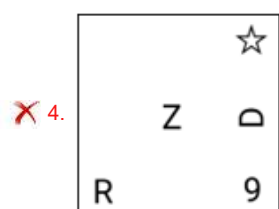
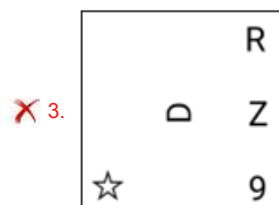
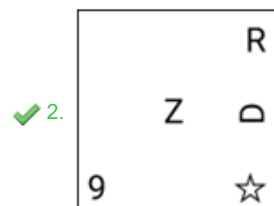
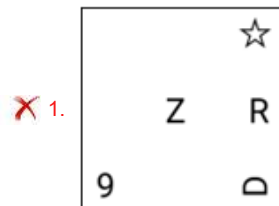
Status : Answered

Chosen Option : 3

Q.19 निम्नलिखित श्रृंखला में पैटर्न को जारी रखने के लिए किस आकृति द्वारा प्रश्नवाचक चिह्न (?) को प्रतिस्थापित किया जाना चाहिए?

☆	9	Z	⬇	
⬇ R	R ⬇	☆ 9	9 ☆	?
Z 9 ☆	Z R	⬇ Z	R	

Ans



Question ID : 264330129608

Option 1 ID : 264330507800

Option 2 ID : 264330507798

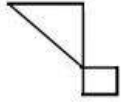
Option 3 ID : 264330507799

Option 4 ID : 264330507801

Status : Not Attempted and
Marked For Review

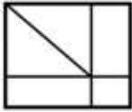
Chosen Option : --

Q.20 उस विकल्प का चयन करें जिसमें दी गई आकृति सन्निहित है (घुमाने की अनुमति नहीं है)।




Ans

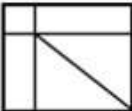
✓ 1.



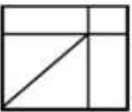
✗ 2.



✗ 3.



✗ 4.



Question ID : 264330101168

Option 1 ID : 264330397220

Option 2 ID : 264330397218

Option 3 ID : 264330397219

Option 4 ID : 264330397217

Status : Answered

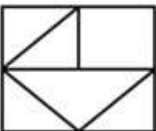
Chosen Option : 1

Q.21 उस विकल्प का चयन करें जिसमें दी गई आकृति सन्निहित है (घुमाने की अनुमति नहीं है)।

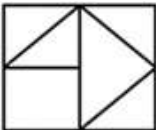


Ans

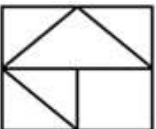
✗ 1.



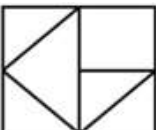
✓ 2.



✗ 3.



✗ 4.



Question ID : 264330101166

Option 1 ID : 264330397211

Option 2 ID : 264330397210



Option 3 ID : 264330397212

Option 4 ID : 264330397209

Status : Answered

Chosen Option : 2

Q.22 निम्नलिखित में से कौन-सा अक्षर समूह दी गई श्रृंखला में प्रश्न चिह्न (?) के स्थान पर आएगा और श्रृंखला को तार्किक रूप से पूर्ण करेगा?
TVU, QSS, NPQ, KMO, ?

- Ans  1. HKM
 2. HJM
 3. IKM
 4. HKL

Question ID : 264330102227

Option 1 ID : 264330401373

Option 2 ID : 264330401376

Option 3 ID : 264330401375

Option 4 ID : 264330401374

Status : Answered

Chosen Option : 2

Q.23 उस समुच्चय का चयन करें जिसमें संख्याएँ उसी प्रकार संबंधित हैं जिस प्रकार निम्नलिखित समुच्चयों की संख्याएँ संबंधित हैं।

(नोट: संख्याओं को उनके घटक अंकों में विभाजित किए बिना, पूर्ण संख्याओं पर गणितीय संक्रियाएँ की जानी चाहिए। उदाहरण के लिए 13 के मामले में - गणितीय संक्रियाएँ जैसे कि 13 में जोड़ना/घटाना/गुणा करना आदि केवल 13 पर की जा सकती हैं। 13 को 1 और 3 में विभाजित करने और फिर 1 और 3 पर गणितीय संक्रियाएँ करने की अनुमति नहीं है।)
(63, 9, 36)
(105, 15, 60)

- Ans  1. (133, 17, 74)
 2. (129, 19, 74)
 3. (133, 19, 76)
 4. (129, 17, 76)

Question ID : 264330175039

Option 1 ID : 264330686531

Option 2 ID : 264330686532

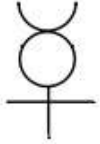
Option 3 ID : 264330686534

Option 4 ID : 264330686533

Status : Answered

Chosen Option : 3

Q.24 उस विकल्प का चयन करें जिसमें दी गई आकृति अंतर्निहित है (घुमाने की अनुमति नहीं है)।



Ans

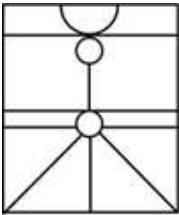
✗ 1.



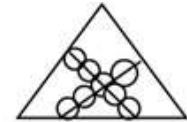
✓ 2.



✗ 3.



✗ 4.



Question ID : 264330111672

Option 1 ID : 264330438776

Option 2 ID : 264330438775

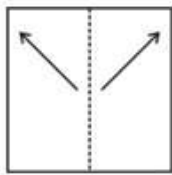
Option 3 ID : 264330438774

Option 4 ID : 264330438773

Status : Answered

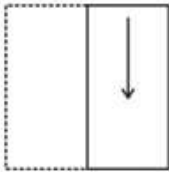
Chosen Option : 2

Q.25 दिए गए चित्र में एक पैटर्न वाली वर्गाकार पारदर्शी शीट दिखाई गई है। इस पारदर्शी शीट को बिंदीदार रेखा पर मोड़ने पर पैटर्न कैसा दिखाई देगा?

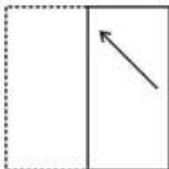


Ans


✗ 1.



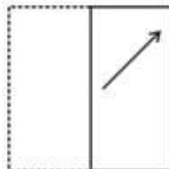
✗ 2.



✗ 3.



✓ 4.



Question ID : 264330117837

Option 1 ID : 264330463165

Option 2 ID : 264330463163

Option 3 ID : 264330463166

Option 4 ID : 264330463164

Status : Answered

Chosen Option : 4

Section : Numerical Ability

Q.1 राम और नरेश मिलकर एक कार्य को 20 दिन में तथा नरेश और श्याम मिलकर उस कार्य को 15 दिन में पूरा कर सकते हैं। तीनों मिलकर उस कार्य को 12 दिन में पूरा कर सकते हैं। राम और श्याम मिलकर उस कार्य को कितने दिन में पूरा कर सकते हैं?

Ans ✗ 1. 26

✗ 2. 28

✗ 3. 25

✓ 4. 20

Question ID : 264330104326

Option 1 ID : 264330409607

Option 2 ID : 264330409608

Option 3 ID : 264330409606

Option 4 ID : 264330409605

Status : Answered

Chosen Option : 4

Q.2 15 व्यक्तियों में से प्रथम 14 व्यक्तियों का औसत भार 80 kg है। 15वें व्यक्ति का भार सभी 15 व्यक्तियों के औसत भार से 42 kg अधिक है। 15वें व्यक्ति का भार (kg में) ज्ञात कीजिए।

- Ans
- ☒ 1. 121
 - ☒ 2. 123
 - ☒ 3. 125
 - ☒ 4. 127

Question ID : 264330131841
Option 1 ID : 264330516463
Option 2 ID : 264330516464
Option 3 ID : 264330516465
Option 4 ID : 264330516466
Status : Answered
Chosen Option : 3

Q.3 एक दुकानदार ₹4,000 अंकित मूल्य वाली शर्ट पर 10% की छूट देता है और फिर भी उसे 20% का लाभ होता है। क्रय मूल्य (₹ में) क्या है?

- Ans
- ☒ 1. 3,000
 - ☒ 2. 3,333
 - ☒ 3. 3,200
 - ☒ 4. 3,600

Question ID : 264330130002
Option 1 ID : 264330509241
Option 2 ID : 264330509240
Option 3 ID : 264330509242
Option 4 ID : 264330509239
Status : Answered
Chosen Option : 1

Q.4 एक आदमी 9 km/h की चाल से एक निश्चित दूरी तय करने में 40 मिनट का समय लेता है। यदि वह 12 km/h की चाल से चलता है, तो वह उतनी ही दूरी कितने समय में तय करेगा?

- Ans
- ☒ 1. 32 मिनट
 - ☒ 2. 30 मिनट
 - ☒ 3. 25 मिनट
 - ☒ 4. 28 मिनट

Question ID : 264330106014
Option 1 ID : 264330416360
Option 2 ID : 264330416359
Option 3 ID : 264330416357
Option 4 ID : 264330416358
Status : Answered
Chosen Option : 2

Q.5 एक व्यक्ति के पास प्रारंभ में कुछ राशि होती है। वह अपनी पत्नी को 30% राशि देता है। फिर शेष राशि में से वह अपने दोनों बेटों एवं एक बेटी को क्रमशः 20%, 20% और 15% देता है। अब शेष राशि में से, वह 1/3 राशि का भुगतान घर के किराए के रूप में करता है और शेष राशि ₹33,600 को वह बैंक में जमा करता है। उसकी प्रारंभिक राशि ज्ञात कीजिए।

- Ans
- ☒ 1. ₹1,00,000
 - ☒ 2. ₹1,40,000
 - ☒ 3. ₹1,60,000
 - ☒ 4. ₹1,20,000

Question ID : 264330129926

Option 1 ID : 264330508937

Option 2 ID : 264330508935

Option 3 ID : 264330508936

Option 4 ID : 264330508938

Status : Answered

Chosen Option : 3

Q.6 दीपा ने साधारण ब्याज पर एक बैंक में ₹10,000 जमा किए। 4 वर्ष बाद उसे ₹12,400 की राशि प्राप्त हुई। ब्याज दर ज्ञात कीजिए।

- Ans
- ☒ 1. 6.5% वार्षिक
 - ☒ 2. 5.5% वार्षिक
 - ☒ 3. 6% वार्षिक
 - ☒ 4. 7% वार्षिक

Question ID : 264330118082

Option 1 ID : 264330464144

Option 2 ID : 264330464146

Option 3 ID : 264330464145

Option 4 ID : 264330464143

Status : Answered

Chosen Option : 3

Q.7 4 वर्ष में ₹1,46,410 संचित करने के लिए आपको वार्षिक रूप से 10% चक्रवृद्धि ब्याज पर आज कितना निवेश करना चाहिए?

- Ans
- ☒ 1. ₹1,10,000
 - ☒ 2. ₹1,11,100
 - ☒ 3. ₹1,00,000
 - ☒ 4. ₹1,00,500

Question ID : 264330106011

Option 1 ID : 264330416345

Option 2 ID : 264330416348

Option 3 ID : 264330416347

Option 4 ID : 264330416346

Status : Answered

Chosen Option : 3

Q.8 आधार व्यास 8 cm और ऊँचाई 35 cm वाले बेलन का आयतन (cm^3 में) ज्ञात कीजिए।

($\pi = \frac{22}{7}$ मानिए)

- Ans
- ☐ 1. 1792
 - ☐ 2. 1731
 - ☐ 3. 1780
 - ☒ 4. 1760

Question ID : 264330112437
Option 1 ID : 264330441836
Option 2 ID : 264330441834
Option 3 ID : 264330441835
Option 4 ID : 264330441833
Status : Answered
Chosen Option : 4

Q.9 4 अंकों की सबसे बड़ी अभाज्य संख्या कौन-सी है?

- Ans
- ☐ 1. 9991
 - ☒ 2. 9973
 - ☐ 3. 9967
 - ☐ 4. 9983

Question ID : 264330104480
Option 1 ID : 264330410224
Option 2 ID : 264330410222
Option 3 ID : 264330410221
Option 4 ID : 264330410223
Status : Not Attempted and Marked For Review
Chosen Option : --

Q.10 अमित को उसका मासिक वेतन प्राप्त हुआ। उसके व्यय और बचत का अनुपात 3 : 2 है। उसने क्रमशः अपने वेतन का कितना प्रतिशत खर्च किया और उसके द्वारा कितना प्रतिशत बचाया गया?

- Ans
- ☒ 1. 60% और 40%
 - ☐ 2. 65% और 35%
 - ☐ 3. 70% और 30%
 - ☐ 4. 55% और 45%

Question ID : 264330104393
Option 1 ID : 264330409875
Option 2 ID : 264330409874
Option 3 ID : 264330409873
Option 4 ID : 264330409876
Status : Answered
Chosen Option : 1

Q.11 उन तरीकों की संख्या ज्ञात करें, जिनमें 960 को दो संख्याओं, जो एक-दूसरे के असहभाज्य हैं, के गुणनफल के रूप में लिखा जा सकता है।

Ans  1. 6

 2. 4

 3. 2

 4. 8

Question ID : 264330111447

Option 1 ID : 264330437875

Option 2 ID : 264330437874

Option 3 ID : 264330437873

Option 4 ID : 264330437876

Status : Answered

Chosen Option : 3

Q.12 61 वस्तुओं का विक्रय मूल्य 53 वस्तुओं के क्रय मूल्य के बराबर है। लाभ या हानि प्रतिशत (दशमलव के बाद दो स्थानों तक पूर्णांकित) की गणना करें।

Ans  1. 13.11% लाभ

 2. 13.11% हानि

 3. 8.25% लाभ

 4. 8.25% हानि

Question ID : 264330126514

Option 1 ID : 264330495730

Option 2 ID : 264330495731

Option 3 ID : 264330495728

Option 4 ID : 264330495729

Status : Answered

Chosen Option : 2

Q.13 उस समकोण त्रिभुज का क्षेत्रफल (वर्ग cm में) ज्ञात करें जिसकी ऊंचाई उसके आधार से 7 cm कम है और उसका कर्ण 17 cm है।

Ans  1. 84

 2. 48

 3. 72

 4. 60

Question ID : 264330130123

Option 1 ID : 264330509726

Option 2 ID : 264330509723

Option 3 ID : 264330509725

Option 4 ID : 264330509724

Status : Answered

Chosen Option : 4

Q.14 वह सबसे छोटी संख्या कौन सी है जिसे 5, 8 और 9 में से किसी संख्या से विभाजित करने पर शेषफल 3 प्राप्त होता है, लेकिन 11 से विभाजित करने पर कोई शेषफल प्राप्त नहीं होता है?

Ans  1. 363

 2. 663

 3. 563

 4. 463

Question ID : 264330104268

Option 1 ID : 264330409373

Option 2 ID : 264330409376

Option 3 ID : 264330409375


Option 4 ID : 264330409374


Status : Answered

Chosen Option : 1

Q.15 यदि $3y = A$ और $6A = 3B$ है, तो $\frac{y}{B}$ का मान ज्ञात कीजिए।

Ans  1. $\frac{1}{5}$

 2. $\frac{1}{3}$

 3. $\frac{6}{1}$

 4. $\frac{1}{6}$

Question ID : 264330130936

Option 1 ID : 264330512858

Option 2 ID : 264330512856

Option 3 ID : 264330512857


Option 4 ID : 264330512855


Status : Answered


Chosen Option : 4


Section : Computer Proficiency

Q.1 किसी ई-मेल का रिप्लाई देते समय, 'Reply' और 'Reply all' के बीच मुख्य अंतर क्या होता है?

Ans  1. 'Reply' विशिष्ट कांटेक्ट्स को ई-मेल फॉरवर्ड करता है, जबकि 'Reply all' एड्रेस बुक में सभी कांटेक्ट्स को मूल ई-मेल फॉरवर्ड करता है।

 2. 'Reply' केवल मूल सेंडर को जवाब भेजता है, जबकि 'Reply all' मूल ई-मेल के सभी रिसिपिएंट्स को जवाब भेजता है।

 3. 'Reply' आपको जवाब भेजने से पहले मूल ई-मेल के कंटेंट को एडिट करने की सुविधा देता है, जबकि 'Reply all' स्वतः रिसपांस में संपूर्ण मूल ई-मेल के कंटेंट को शामिल करता है।

 4. 'Reply' मूल ई-मेल से किसी भी फाइल को अटैच करता है, जबकि 'Reply all' जवाब में संपूर्ण मूल ई-मेल के कंटेंट के साथ-साथ किसी भी अटैचमेंट को शामिल कर सकता है।

Question ID : 264330176673

Option 1 ID : 264330692910

Option 2 ID : 264330692908

Option 3 ID : 264330692907

Option 4 ID : 264330692909

Status : Answered

Chosen Option : 1

Q.2 एमएस एक्सेल 365 (MS Excel 365) में, एमएस-एक्सेल (MS-Excel) में किसी वर्कबुक को सेव करने के लिए निम्नलिखित में से किस कीबोर्ड शॉर्टकट का उपयोग किया जाता है?

- Ans
- ☐ 1. Ctrl + Shift + S
 - ☐ 2. Shift + S
 - ☐ 3. Ctrl + Alt + S
 - ☒ 4. Ctrl + S

Question ID : 264330178259

Option 1 ID : 264330699092

Option 2 ID : 264330699094

Option 3 ID : 264330699093

Option 4 ID : 264330699091

Status : Not Answered

Chosen Option : --

Q.3 एमएस एक्सेल 365 (MS Excel 365) में, जब आप किसी सेल पर राइट-क्लिक करते हैं और 'फिल्टर (Filter)' को सेलेक्ट करते हैं, तो निम्नलिखित में से कौन-सा विकल्प विजिबल नहीं होता है?

- Ans
- ☐ 1. फिल्टर बाइ सेलेक्टेड सेल फॉन्ट (Filter by selected cell font)
 - ☐ 2. फिल्टर बाइ सेलेक्टेड सेल वैल्यूज (Filter by selected cell values)
 - ☒ 3. फिल्टर बाइ सेलेक्टेड सेल हाइट (Filter by selected cell height)
 - ☐ 4. फिल्टर बाइ सेलेक्टेड सेल कलर (Filter by selected cell colour)

Question ID : 264330182056

Option 1 ID : 264330714064

Option 2 ID : 264330714063

Option 3 ID : 264330714066

Option 4 ID : 264330714065

Status : Not Answered

Chosen Option : --

Q.4 एमएस वर्ड (MS Word) में टेक्स्ट के बीच से एक रेखा खींचने के लिए निम्नलिखित में से कौन-सा ऑप्शन सही है?

- Ans
- ☒ 1. स्ट्राइकथ्रू (Strikethrough)
 - ☐ 2. डैश (Dash)
 - ☐ 3. लाइन (Line)
 - ☐ 4. अंडरलाइन (Underline)

Question ID : 264330176723

Option 1 ID : 264330693107

Option 2 ID : 264330693110

Option 3 ID : 264330693109

Option 4 ID : 264330693108

Status : Not Answered

Chosen Option : --

Q.5 एमएस एक्सेल (MS Excel) 2007 में नई या मौजूदा स्प्रेडशीट खोलने के लिए किस विकल्प का उपयोग किया जाता है?

- Ans
- ☐ 1. फॉर्मेट (Format)
 - ☐ 2. इंसर्ट (Insert)
 - ☒ 3. ऑफिस बटन (Office button)
 - ☐ 4. होम (Home)

Question ID : 264330180684

Option 1 ID : 264330708706

Option 2 ID : 264330708704

Option 3 ID : 264330708705

Option 4 ID : 264330708703

Status : Not Answered

Chosen Option : --

Q.6 इंटरनेट आर्किटेक्चर मॉडल की किस लेयर के माध्यम से, नेटवर्कों के बीच पैकेटों की रूटिंग की जाती है?

- Ans
- ☐ 1. ट्रांसपोर्ट लेयर
 - ☒ 2. नेटवर्क लेयर
 - ☐ 3. एप्लीकेशन लेयर
 - ☐ 4. डेटा लिंक लेयर

Question ID : 264330178550

Option 1 ID : 264330700228

Option 2 ID : 264330700229

Option 3 ID : 264330700227

Option 4 ID : 264330700230

Status : Not Answered

Chosen Option : --

Q.7 माइक्रोसॉफ्ट वर्ड 2019 (Microsoft Word 2019) में, 'पैराग्राफ (Paragraph)' डायलॉग बॉक्स के 'इंडेंट्स एंड स्पेसिंग (Indents & Spacing)' और 'लाइन एंड पेज ब्रेक्स (Line & Page Breaks)' दोनों टैब में कौन-सा विकल्प उभयनिष्ठ (common) है?

- Ans
- ☒ 1. प्रीव्यू (Preview)
 - ☐ 2. टेक्स्टबॉक्स ऑप्शंस (Textbox options)
 - ☐ 3. इंडेंटेशन (Indentation)
 - ☐ 4. जनरल (General)

Question ID : 264330182755

Option 1 ID : 264330716792

Option 2 ID : 264330716793

Option 3 ID : 264330716794

Option 4 ID : 264330716791

Status : Not Answered

Chosen Option : --

Q.8 निम्नलिखित में से कौन-सा विकल्प, आपको एमएस वर्ड 365 (MS Word 365) में पैराग्राफ के भीतर अलग-अलग मार्जिन पर टेक्स्ट सेट करने की सुविधा देगा?

- Ans
- ☒ 1. पेज ब्रेक्स (Page breaks)
 - ☒ 2. लाइन स्पेसिंग (Line spacing)
 - ☒ 3. बॉर्डर (Border)
 - ☒ 4. इंडेंटिंग (Indenting)

Question ID : 264330180838

Option 1 ID : 264330709315

Option 2 ID : 264330709316

Option 3 ID : 264330709317

Option 4 ID : 264330709318

Status : Not Answered

Chosen Option : --

Q.9 निम्नलिखित में से कौन-सा ऑप्शन सेव (Save) और सेव एज (Save As) के बीच अंतर का वर्णन करता है?

- Ans
- ☒ 1. फाइल को लोकल कंप्यूटर में सेव करने के लिए 'Save' का उपयोग किया जाता है, जबकि क्लाउड पर इसे सेव करने के लिए 'Save As' का उपयोग किया जाता है।
 - ☒ 2. फाइल को केवल रीड ओनली फाइल के रूप में सेव करने के लिए 'Save' का उपयोग किया जाता है, जबकि इसे एडिटेबल फाइल के रूप में सेव करने के लिए 'Save As' का उपयोग किया जाता है।
 - ☒ 3. फाइल को कंप्रेस्ड रूप में सेव करने के लिए 'Save' का उपयोग किया जाता है, जबकि इसे उसी रूप में सेव करने के लिए 'Save As' का उपयोग किया जाता है।
 - ☒ 4. डॉक्यूमेंट को पहली बार सेव करने के लिए 'Save' का उपयोग किया जाता है, जबकि डॉक्यूमेंट को नए नाम या अलग फाइल फॉर्मेट के साथ सेव करने के लिए 'Save As' का उपयोग किया जाता है।

Question ID : 264330176718

Option 1 ID : 264330693088

Option 2 ID : 264330693087

Option 3 ID : 264330693090

Option 4 ID : 264330693089

Status : Answered

Chosen Option : 4

Q.10 एमएस वर्ड 365 (MS Word 365) में, निम्नलिखित में से कौन-से टूल का उपयोग किसी डॉक्यूमेंट के अन्य टेक्स्ट की फॉर्मेटिंग से मेल खाने के लिए, इस टेक्स्ट की फॉर्मेटिंग को बदलने के लिए किया जा सकता है?

- Ans
- ☒ 1. फॉर्मेट पेंटर (Format painter)
 - ☒ 2. स्मार्टआर्ट (SmartArt)
 - ☒ 3. चेंज स्टाइल (Change styles)
 - ☒ 4. पैराग्राफ एलाइनमेंट (Paragraph alignment)

Question ID : 264330175973

Option 1 ID : 264330690188

Option 2 ID : 264330690187

Option 3 ID : 264330690190

Option 4 ID : 264330690189

Status : Not Answered

Chosen Option : --