

Constable Executive Male and Female in Delhi Police Examination 2023

Roll Number	
Candidate Name	
Venue Name	Indraprastha Public School
Exam Date	14/11/2023
Exam Time	3:00 PM - 4:30 PM
Subject	Constable Executive Male and Female in Delhi Police Examination 2023

Section : General Knowledge

Q.1 पद्म श्री 2022 पुरस्कार से सम्मानित राम सहाय पांडे मध्य प्रदेश के बेदिया समुदाय के निम्नलिखित में से किस नृत्य शैली से संबंधित हैं?

- Ans
- ☒ 1. रावला
 - ☒ 2. राय
 - ☒ 3. कर्मा
 - ☒ 4. बधाई

Question ID : 26433071519
Option 1 ID : 264330280502
Option 2 ID : 264330280501
Option 3 ID : 264330280503
Option 4 ID : 264330280500
Status : Not Answered
Chosen Option : --

Q.2 चोल वंश के राजचिह्न में निम्नलिखित में से किस विकल्प का अंकन किया गया था?

- Ans
- ☒ 1. घोड़ा
 - ☒ 2. हाथी
 - ☒ 3. मछली
 - ☒ 4. बाघ

Question ID : 264330118981
Option 1 ID : 264330466582
Option 2 ID : 264330466581
Option 3 ID : 264330466579
Option 4 ID : 264330466580
Status : Not Answered
Chosen Option : --

Q.3 बुद्धचरित के लेखक अश्वघोष किस कुषाण राजा के दरबार के दार्शनिक थे?

- Ans
- ☒ 1. विमा कडफिसेस
 - ☒ 2. वासुदेव प्रथम
 - ☒ 3. हुविष्का
 - ☒ 4. कनिष्क प्रथम

Question ID : 264330120419
Option 1 ID : 264330471928
Option 2 ID : 264330471930
Option 3 ID : 264330471929
Option 4 ID : 264330471927
Status : Answered
Chosen Option : 4

Q.4 _____ is the final interpreter of the Constitution of India.

- Ans ☒ 1. Comptroller and Auditor General
☒ 2. Supreme Court
☒ 3. President of India
☒ 4. Attorney General

Question ID : 264330134562

Option 1 ID : 264330527203

Option 2 ID : 264330527205

Option 3 ID : 264330527206

Option 4 ID : 264330527204

Status : Answered

Chosen Option : 2

Q.5 उत्तरी भारतीय राज्य हिमाचल प्रदेश के उत्तर-पूर्वी भाग में कौन सा स्थान लोकप्रिय रूप से शीत मरुस्थल पर्वत के रूप में जाना जाता है?

- Ans ☒ 1. स्पीति घाटी
☒ 2. पार्वती घाटी
☒ 3. संगती घाटी
☒ 4. आलो घाटी

Question ID : 264330131014

Option 1 ID : 264330513170

Option 2 ID : 264330513169

Option 3 ID : 264330513168

Option 4 ID : 264330513167

Status : Not Answered

Chosen Option : --

Q.6 1929 में खुदाई खिदमतगार नामक अहिंसक क्रांतिकारियों का एक दल बनाने वाले स्वतंत्रता सेनानी का नाम बताइए।

- Ans ☒ 1. मोहम्मद यासीन खान
☒ 2. खान अब्दुल गफ्फार खान
☒ 3. अब्बास तैयबजी
☒ 4. के.एम. अशरफ

Question ID : 264330171708

Option 1 ID : 264330673436

Option 2 ID : 264330673438

Option 3 ID : 264330673435

Option 4 ID : 264330673437

Status : Not Answered

Chosen Option : --

Q.7 निम्नलिखित में से किस वर्ष में खानदेश को मुगल साम्राज्य में समाविष्ट किया गया था?

- Ans ☒ 1. 1601
☒ 2. 1598
☒ 3. 1603
☒ 4. 1600

Question ID : 264330171693

Option 1 ID : 264330673377

Option 2 ID : 264330673375

Option 3 ID : 264330673378

Option 4 ID : 264330673376

Status : Not Answered

Chosen Option : --

Q.8 निम्नलिखित में से कौन-सा राज्य खेलो इंडिया यूथ गेम्स 2023 में पदक तालिका में शीर्ष पर रहा?

- Ans ☒ 1. पंजाब
☒ 2. महाराष्ट्र
☒ 3. उत्तर प्रदेश
☒ 4. हरियाणा

Question ID : 264330176920
Option 1 ID : 264330693877
Option 2 ID : 264330693875
Option 3 ID : 264330693878
Option 4 ID : 264330693876
Status : Answered
Chosen Option : 2

Q.9 हिमाचल प्रदेश में हिडिम्बा देवी के सम्मान में निम्नलिखित में से कौन-सा उत्सव मनाया जाता है?

- Ans ☒ 1. माघी महोत्सव
☒ 2. डोंगरी महोत्सव
☒ 3. बिसुआ महोत्सव
☒ 4. शोराई महोत्सव

Question ID : 264330141782
Option 1 ID : 264330555449
Option 2 ID : 264330555447
Option 3 ID : 264330555448
Option 4 ID : 264330555450
Status : Answered
Chosen Option : 1

Q.10 सूर्य का प्रकाश _____ का मुख्य स्रोत है।

- Ans ☒ 1. विटामिन C
☒ 2. विटामिन D
☒ 3. विटामिन A
☒ 4. विटामिन B

Question ID : 264330120064
Option 1 ID : 264330470513
Option 2 ID : 264330470512
Option 3 ID : 264330470511
Option 4 ID : 264330470514
Status : Answered
Chosen Option : 2

Q.11 संगम ग्रंथों के अनुसार, शब्द उझावर (uzhavar) का क्या अर्थ है?

- Ans ☒ 1. साधारण हल चलाने वाले
☒ 2. दास
☒ 3. बड़े ज़मींदार
☒ 4. शिक्षक

Question ID : 264330119473
Option 1 ID : 264330468176
Option 2 ID : 264330468177
Option 3 ID : 264330468178
Option 4 ID : 264330468175
Status : Not Answered
Chosen Option : --

Q.12 उच्च न्यायालयों को भारतीय संविधान के किस अनुच्छेद के तहत रिट जारी करने की शक्ति प्राप्त है?

- Ans ☒ 1. अनुच्छेद 223
☒ 2. अनुच्छेद 226
☒ 3. अनुच्छेद 225
☒ 4. अनुच्छेद 222

Question ID : 264330110578
Option 1 ID : 264330434590
Option 2 ID : 264330434591
Option 3 ID : 264330434589
Option 4 ID : 264330434592
Status : Answered
Chosen Option : 2

Q.13 पंडित अयोध्या प्रसाद _____ से जुड़े हैं।

- Ans ☒ 1. वीना
☒ 2. पखावज
☒ 3. गिटार
☒ 4. बाँसुरी

Question ID : 264330111936
Option 1 ID : 264330439829
Option 2 ID : 264330439830
Option 3 ID : 264330439832
Option 4 ID : 264330439831
Status : Not Answered
Chosen Option : --

Q.14 स्वतंत्रता के बाद स्थापित उद्योगों पर पूर्ण नियंत्रण किसका था?

- Ans ☒ 1. अंग्रेजों का
☒ 2. विदेशी निवेशकों का
☒ 3. प्राइवेट सेक्टर का
☒ 4. सरकार का

Question ID : 264330174149
Option 1 ID : 264330683035
Option 2 ID : 264330683036
Option 3 ID : 264330683038
Option 4 ID : 264330683037
Status : Answered
Chosen Option : 4

Q.15 विजयादशमी को _____ के नाम से भी जाना जाता है।

- Ans ☒ 1. दिवाली
☒ 2. दशहरा
☒ 3. होली
☒ 4. गणेश चतुर्थी

Question ID : 264330109311
Option 1 ID : 264330429522
Option 2 ID : 264330429523
Option 3 ID : 264330429521
Option 4 ID : 264330429524
Status : Answered
Chosen Option : 2

Q.16 भारत की वर्ष 2011 की जनगणना के अनुसार, 2001-2011 के दशक में हिंदू जनसंख्या की वृद्धि दर थी।

Ans ☒ 1. 16.8%

☒ 2. 20.1%

☒ 3. 8.6%

☒ 4. 10.0%

Question ID : 264330179510

Option 1 ID : 264330704040

Option 2 ID : 264330704041

Option 3 ID : 264330704042

Option 4 ID : 264330704039

Status : Not Answered

Chosen Option : --

Q.17 लोकसभा में, _____ सीटें अनुसूचित जाति के सदस्यों के लिए आरक्षित हैं।

Ans ☒ 1. 84

☒ 2. 82

☒ 3. 73

☒ 4. 80

Question ID : 264330139438

Option 1 ID : 264330546186

Option 2 ID : 264330546184

Option 3 ID : 264330546183

Option 4 ID : 264330546185

Status : Answered

Chosen Option : 1

Q.18 किस सिंड्रोम के कारण कंधों के बीच एक मोटा कूबड़, एक गोल चेहरा और त्वचा पर गुलाबी या बैंगनी खिंचाव के निशान हो जाते हैं?

Ans ☒ 1. कुशिंग सिंड्रोम (Cushing syndrome)

☒ 2. मार्फन सिंड्रोम (Marfan syndrome)

☒ 3. एंजेलमैन सिंड्रोम (Angelman syndrome)

☒ 4. डाउन सिंड्रोम (Down syndrome)

Question ID : 264330130986

Option 1 ID : 264330513057

Option 2 ID : 264330513058

Option 3 ID : 264330513055

Option 4 ID : 264330513056

Status : Not Answered

Chosen Option : --

Q.19 कैशपोर माइक्रो क्रेडिट एक ऐसी कंपनी है, जो _____ के सबसे पिछड़े जिलों में काम नहीं करती है।

- Ans ☒ 1. बिहार
☒ 2. तेलंगाना
☒ 3. झारखंड
☒ 4. छत्तीसगढ़

Question ID : 264330116497
Option 1 ID : 264330458073
Option 2 ID : 264330458075
Option 3 ID : 264330458074
Option 4 ID : 264330458076
Status : Not Answered
Chosen Option : --

Q.20 निम्नलिखित में से किसे हरित क्रांति द्वारा प्रतिस्थापित किया गया था?

- Ans ☒ 1. सिंचाई के लिए भूजल का इस्तेमाल
☒ 2. सरकार द्वारा उपलब्ध कराए गए बीजों का इस्तेमाल
☒ 3. जैविक खाद का प्रयोग
☒ 4. अकार्बनिक खाद का प्रयोग

Question ID : 264330111765
Option 1 ID : 264330439147
Option 2 ID : 264330439148
Option 3 ID : 264330439145
Option 4 ID : 264330439146
Status : Answered
Chosen Option : 2

Q.21 पंडित हरिप्रसाद चौरसिया _____ के विश्व प्रसिद्ध प्रतिपादक हैं।

- Ans ☒ 1. तबला
☒ 2. सितार
☒ 3. बाँसुरी
☒ 4. सरोद

Question ID : 264330116420
Option 1 ID : 264330457766
Option 2 ID : 264330457768
Option 3 ID : 264330457765
Option 4 ID : 264330457767
Status : Answered
Chosen Option : 3

Q.22 महिला राष्ट्रीय खेल महोत्सव (National Sports Festival for Women) किस वर्ष में शुरू किया गया था?

- Ans ☒ 1. 1974 में
☒ 2. 1976 में
☒ 3. 1970 में
☒ 4. 1975 में

Question ID : 264330110368
Option 1 ID : 264330433750
Option 2 ID : 264330433752
Option 3 ID : 264330433749
Option 4 ID : 264330433751
Status : Not Answered
Chosen Option : --

Q.23 साख नियंत्रण के निम्नलिखित में से किस उपाय के लिए सुविक्तित मुद्रा बाजार की आवश्यकता है?

- Ans ☒ 1. खुला बाजार परिचालन (Open Market Operations)
- ☒ 2. बैंक दर नीति (Bank Rate Policy)
- ☒ 3. गुणात्मक उपाय (Qualitative Measures)
- ☒ 4. परिवर्तनीय कोष अनुपात (Variable Reserve Ratio)

Question ID : 264330112465

Option 1 ID : 264330441945

Option 2 ID : 264330441946

Option 3 ID : 264330441948

Option 4 ID : 264330441947

Status : Not Answered

Chosen Option : --

Q.24 कोणार्क का सूर्य मंदिर _____ के तट पर स्थित है।

- Ans ☒ 1. बंगाल की खाड़ी
- ☒ 2. लाल सागर
- ☒ 3. अरब सागर
- ☒ 4. हिंद महासागर

Question ID : 264330109649

Option 1 ID : 264330430874

Option 2 ID : 264330430876

Option 3 ID : 264330430875

Option 4 ID : 264330430873

Status : Answered

Chosen Option : 3

Q.25 नीचे ओजोन परत के बारे में कुछ कथन दिए गए हैं।

- कथन 1. यह समताप मंडल में पाई जाती है।
- कथन 2. क्लोरोफ्लोरोकार्बन (CFCs) ओजोन छिद्र के लिए जिम्मेदार हैं।
- कथन 3. ओजोन परत पृथ्वी की सतह से लगभग 15-30 km ऊपर पाई जाती है।
- कथन 4. ओजोन परत में अब और सुधार होने की उम्मीद नहीं है।
- इनमें से कौन-से कथन सही हैं?

- Ans ☒ 1. केवल कथन 1, 2 और 3
- ☒ 2. केवल कथन 3 और 4
- ☒ 3. केवल कथन 1 और 2
- ☒ 4. केवल कथन 2, 3 और 4

Question ID : 264330131802

Option 1 ID : 264330516307

Option 2 ID : 264330516309

Option 3 ID : 264330516308

Option 4 ID : 264330516310

Status : Answered

Chosen Option : 1

Q.26 निम्नलिखित में से किस समाज सुधारक ने सत्यशोधक समाज की स्थापना की थी?

- Ans
- ☒ 1. नारायण गुरु
 - ☒ 2. रामास्वामी नायकर-पेरियार
 - ☒ 3. ज्योतिबा फुले
 - ☒ 4. डॉ. बाबासाहेब अम्बेडकर

Question ID : 264330113595

Option 1 ID : 264330446467

Option 2 ID : 264330446468

Option 3 ID : 264330446465

Option 4 ID : 264330446466

Status : Answered

Chosen Option : 3

Q.27 जब खदान क्षेत्र के आसपास प्रेरित प्रतिबलों के कारण बड़े पैमाने पर चट्टानें माइन फेस (mine face) से विस्फोटक रूप से उड़ती हैं, जिससे भूकंपीय तरंगें उत्पन्न होती हैं, तब किस प्रकार का भूकंप आता है?

- Ans
- ☒ 1. विस्फोट भूकंप (Explosion earthquake)
 - ☒ 2. ज्वालामुखीय भूकंप (Volcanic earthquake)
 - ☒ 3. विवर्तनिक भूकंप (Tectonic earthquake)
 - ☒ 4. निपात भूकंप (Collapse earthquake)

Question ID : 264330141510

Option 1 ID : 264330554376

Option 2 ID : 264330554378

Option 3 ID : 264330554375

Option 4 ID : 264330554377

Status : Answered

Chosen Option : 3

Q.28 'पारो त्शेचु' ('Paro Tschechu') के नाम से जाना जाने वाला प्रसिद्ध त्योहार किस देश से संबंधित है?

- Ans
- ☒ 1. जापान
 - ☒ 2. बर्मा
 - ☒ 3. थाईलैंड
 - ☒ 4. भूटान

Question ID : 264330182980

Option 1 ID : 264330717652

Option 2 ID : 264330717653

Option 3 ID : 264330717655

Option 4 ID : 264330717654

Status : Answered

Chosen Option : 4

Q.29 मीन काम्फ (Mein Kampf) को निम्नलिखित में से किस राजनेता द्वारा लिखा गया है?

- Ans
- ☒ 1. हिरोहितो (Hirohito)
 - ☒ 2. बेनिटो मुसोलिनी (Benito Mussolini)
 - ☒ 3. एडोल्फ हिटलर (Adolf Hitler)
 - ☒ 4. क्लेमेंट एटली (Clement Attlee)

Question ID : 26433071507

Option 1 ID : 264330280454

Option 2 ID : 264330280452

Option 3 ID : 264330280453

Option 4 ID : 264330280455

Status : Not Answered

Chosen Option : --

Q.30 सूची I (आवर्त तत्व का नाम) को सूची II (आवर्ततत्व के प्रतीक) के साथ सुमेलित कीजिए और सही कोड का चयन कीजिए।
सूची I सूची II

- A. मैंगनीशियम i. Mn
B. बोरॉन ii. B
C. मैंगनीज iii. Ba
D. बेरियम iv. Mg

कोड:	A	B	C	D
I	iv	iii	i	ii
II	i	ii	iv	iii
III	iv	i	ii	iii
IV	iv	ii	i	iii

Ans  1. II
 2. I
 3. III
 4. IV

Question ID : 264330173658

Option 1 ID : 264330681112

Option 2 ID : 264330681111





Option 3 ID : 264330681113

Option 4 ID : 264330681114

Status : Answered

Chosen Option : 4

Q.31 'नागे वाज़ा' जूडो में इस्तेमाल की जाने वाली एक _____ की तकनीक है।

Ans  1. पकड़े रखने (होल्डिंग)
 2. जकड़ने (ग्रीपिंग)
 3. दूर हटाने (थ्रोइंग)
 4. दम घुटाने (चोकिंग)

Question ID : 264330118481

Option 1 ID : 264330465327

Option 2 ID : 264330465325

Option 3 ID : 264330465326

Option 4 ID : 264330465328

Status : Not Answered

Chosen Option : --

Q.32 किस संविधान संशोधन अधिनियम के तहत उद्देशिका में "धर्मनिरपेक्ष (secular)" शब्द जोड़ा गया था?

- Ans
- ☐ 1. 44वाँ संविधान संशोधन अधिनियम
 - ☐ 2. 43वाँ संविधान संशोधन अधिनियम
 - ☐ 3. 41वाँ संविधान संशोधन अधिनियम
 - ☒ 4. 42वाँ संविधान संशोधन अधिनियम

Question ID : 264330114481

Option 1 ID : 264330450012

Option 2 ID : 264330450011

Option 3 ID : 264330450009

Option 4 ID : 264330450010

Status : Answered

Chosen Option : 4

Q.33 आत्मकथा 'लॉन्ग वॉक टू फ्रीडम' _____ द्वारा लिखी गई है।

- Ans
- ☐ 1. रविंद्रनाथ टैगोर
 - ☐ 2. एम.के. गांधी
 - ☒ 3. नेल्सन मंडेला
 - ☐ 4. बी.आर. अम्बेडकर

Question ID : 26433072941

Option 1 ID : 264330285959

Option 2 ID : 264330285957

Option 3 ID : 264330285958

Option 4 ID : 264330285956

Status : Answered

Chosen Option : 3

Q.34 मानव के लिए एक जाति, एक धर्म, एक ईश्वर के दर्शन को किसने प्रतिपादित किया?

- Ans
- ☐ 1. महात्मा गांधी
 - ☐ 2. राजा राम मोहन राय
 - ☐ 3. सावित्रीबाई फुले
 - ☒ 4. श्री नारायण गुरु

Question ID : 264330114882

Option 1 ID : 264330451613

Option 2 ID : 264330451616

Option 3 ID : 264330451615

Option 4 ID : 264330451614

Status : Not Answered

Chosen Option : --

Q.35 वैश्वीकरण के संदर्भ में पीपीपी (PPP) का पूर्ण रूप क्या है?

- Ans
- ☐ 1. Purchasing par parity (पर्चेजिंग पार पैरिटी)
 - ☐ 2. Purchase power parity (पर्चेज पावर पैरिटी)
 - ☐ 3. Purchasing par parities (पर्चेजिंग पार पैरिटीज)
 - ☒ 4. Purchasing power parity (पर्चेजिंग पावर पैरिटी)

Question ID : 264330109581

Option 1 ID : 264330430603

Option 2 ID : 264330430602

Option 3 ID : 264330430604

Option 4 ID : 264330430601

Status : Not Answered

Chosen Option : --

Q.36 भारतीय संविधान का निम्नलिखित में से कौन-सा अनुच्छेद उच्च न्यायालय को रिट जारी करने का अधिकार प्रदान करता है?

- Ans
- ☐ 1. अनुच्छेद 223
 - ☐ 2. अनुच्छेद 220
 - ☐ 3. अनुच्छेद 230
 - ☒ 4. अनुच्छेद 226

Question ID : 264330177763

Option 1 ID : 264330697160

Option 2 ID : 264330697159

Option 3 ID : 264330697162

Option 4 ID : 264330697161

Status : Answered

Chosen Option : 4

Q.37 निम्नलिखित में से किस देश से भारत ने 'संविधान में संशोधन प्रक्रिया' को अपनाया?

- Ans
- ☐ 1. आयरलैंड
 - ☐ 2. फ्रांस
 - ☒ 3. दक्षिण अफ्रीका
 - ☐ 4. अमेरिका

Question ID : 264330133044

Option 1 ID : 264330521227

Option 2 ID : 264330521229

Option 3 ID : 264330521230

Option 4 ID : 264330521228

Status : Answered

Chosen Option : 3

Q.38 भारतीय संविधान के किस अनुच्छेद में कहा गया है कि सर्वोच्च न्यायालय के प्रत्येक न्यायाधीश को राष्ट्रपति द्वारा अपने हस्ताक्षर और मुहर के तहत वारंट द्वारा सर्वोच्च न्यायालय और राज्यों में उच्च न्यायालयों के न्यायाधीशों के परामर्श के बाद नियुक्त किया जाएगा, जैसा कि राष्ट्रपति इस उद्देश्य के लिए आवश्यक समझे?

- Ans
- ☐ 1. अनुच्छेद 142(2)
 - ☐ 2. अनुच्छेद 120 (2)
 - ☒ 3. अनुच्छेद 124 (2)
 - ☐ 4. अनुच्छेद 134 (2)

Question ID : 264330110826

Option 1 ID : 264330435583

Option 2 ID : 264330435582

Option 3 ID : 264330435584

Option 4 ID : 264330435581

Status : Answered

Chosen Option : 3

Q.39 होजागिरी निम्न में से किस राज्य की एक प्रसिद्ध नृत्य शैली है?

- Ans ☒ 1. त्रिपुरा
☐ 2. झारखंड
☐ 3. असम
☐ 4. पंजाब

Question ID : 264330109286

Option 1 ID : 264330429423

Option 2 ID : 264330429424

Option 3 ID : 264330429422

Option 4 ID : 264330429421

Status : Answered

Chosen Option : 2

Q.40 भारतीय राष्ट्रीय सर्वेक्षण 2022 के अनुसार, किस भारतीय राज्य में सर्वाधिक साक्षरता दर है?

- Ans ☐ 1. गोवा
☐ 2. महाराष्ट्र
☐ 3. कर्नाटक
☒ 4. केरल

Question ID : 264330177909

Option 1 ID : 264330697724

Option 2 ID : 264330697725

Option 3 ID : 264330697726

Option 4 ID : 264330697723

Status : Answered

Chosen Option : 4

Q.41 मल्लिका साराभाई निम्नलिखित में से किस नृत्य शैली की एक कुशल नर्तकी हैं?

- Ans ☐ 1. ओडिसी और कुचिपुड़ी
☐ 2. कथकली और ओडिसी
☐ 3. भरतनाट्यम और ओडिसी
☒ 4. कुचिपुड़ी और भरतनाट्यम

Question ID : 264330113797

Option 1 ID : 264330447273

Option 2 ID : 264330447276

Option 3 ID : 264330447274

Option 4 ID : 264330447275

Status : Answered

Chosen Option : 4

Q.42 निम्नलिखित में से कौन-सा कथन निजीकरण के बारे में सही है?

कथन:

- I. यह आर्थिक दक्षता को बढ़ावा देता है
- II. यह नौकरशाही के हस्तक्षेप को सीमित करता है
- III. यह बाज़ार की विफलता की ओर जाता है

- Ans
- ☒ 1. केवल कथन III
 - ☒ 2. केवल कथन I
 - ☒ 3. केवल कथन I और II
 - ☒ 4. केवल कथन II

Question ID : 26433066581

Option 1 ID : 264330260851

Option 2 ID : 264330260848

Option 3 ID : 264330260850

Option 4 ID : 264330260849

Status : Answered

Chosen Option : 3

Q.43 घूम मठ भारत के किस राज्य में स्थित है?

- Ans
- ☒ 1. कर्नाटक
 - ☒ 2. पश्चिम बंगाल
 - ☒ 3. अरुणाचल प्रदेश
 - ☒ 4. हिमाचल प्रदेश

Question ID : 264330109635

Option 1 ID : 264330430817

Option 2 ID : 264330430818

Option 3 ID : 264330430820

Option 4 ID : 264330430819

Status : Not Answered

Chosen Option : --

Q.44 निम्नलिखित में से किस वर्ष में क्रिप्स मिशन ने भारत को स्वतंत्र उपनिवेश (डोमिनियन स्टेट्स) की पेशकश की?

- Ans
- ☒ 1. 1942
 - ☒ 2. 1939
 - ☒ 3. 1945
 - ☒ 4. 1934

Question ID : 264330118600

Option 1 ID : 264330465651

Option 2 ID : 264330465653

Option 3 ID : 264330465652

Option 4 ID : 264330465654

Status : Answered

Chosen Option : 3

Q.45 भारत में चावल, गेहूँ और _____ का उत्पादन बढ़ाने के लिए वर्ष 2007-08 में राष्ट्रीय खाद्य सुरक्षा मिशन शुरू किया गया था।

- Ans ☒ 1. दालों
- ☐ 2. केसर
- ☐ 3. मोटे अनाजों
- ☐ 4. फलों

Question ID : 264330183060
Option 1 ID : 264330717972
Option 2 ID : 264330717975
Option 3 ID : 264330717974
Option 4 ID : 264330717973
Status : Answered
Chosen Option : 3

Q.46 द्रोणाचार्य पुरस्कार किसे प्रदान किया जाता है?

- Ans ☐ 1. सर्वश्रेष्ठ सैनिक
- ☐ 2. सर्वश्रेष्ठ खिलाड़ी
- ☐ 3. सर्वश्रेष्ठ शिक्षक
- ☒ 4. सर्वश्रेष्ठ कोच

Question ID : 264330110389
Option 1 ID : 264330433836
Option 2 ID : 264330433833
Option 3 ID : 264330433835
Option 4 ID : 264330433834
Status : Answered
Chosen Option : 4

Q.47 शब्द 'मानसून', किस विशिष्ट समयावधि के दौरान, पवन की दिशा में होने वाले मौसमी परिवर्तन को दर्शाता है?

- Ans ☒ 1. एक वर्ष
- ☐ 2. एक दिन
- ☐ 3. दो दशक
- ☐ 4. दो महीने

Question ID : 264330174344
Option 1 ID : 264330683796
Option 2 ID : 264330683795
Option 3 ID : 264330683798
Option 4 ID : 264330683797
Status : Not Answered
Chosen Option : --

Q.48 उस भारतीय व्यक्तित्व की पहचान करें जिसे मोहिनीअट्टम में उसके योगदान के लिए संगीत नाटक अकादमी पुरस्कार 2021 से सम्मानित किया गया।

- Ans
- ☐ 1. भुवन कुमार
 - ☐ 2. बिजय कुमार जेना
 - ☒ 3. नीना प्रसाद
 - ☐ 4. थोकचोम इबेमुबी देवी

Question ID : 264330130528
Option 1 ID : 264330511223
Option 2 ID : 264330511226
Option 3 ID : 264330511224
Option 4 ID : 264330511225
Status : Not Answered
Chosen Option : --

Q.49 एलईआरएमएस (LERMS) की नीति की घोषणा किस बजट में की गई थी?

- Ans
- ☐ 1. 1995-96
 - ☒ 2. 1992-93
 - ☐ 3. 1991-92
 - ☐ 4. 1990-91

Question ID : 264330109418
Option 1 ID : 264330429952
Option 2 ID : 264330429951
Option 3 ID : 264330429950
Option 4 ID : 264330429949
Status : Not Answered
Chosen Option : --

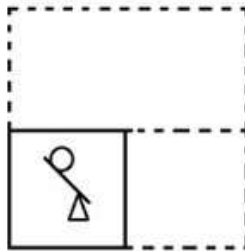
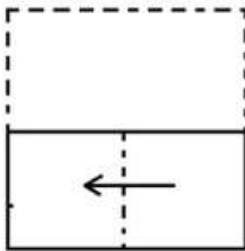
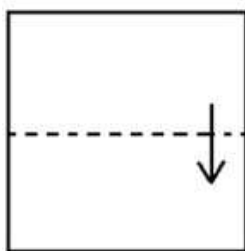
Q.50 वर्ष 2021-22 में, भारत में किस भाषा में सर्वाधिक समाचार पत्र प्रकाशित हुए?

- Ans
- ☒ 1. हिंदी
 - ☐ 2. उर्दू
 - ☐ 3. अंग्रेजी
 - ☐ 4. बंगाली

Question ID : 264330181434
Option 1 ID : 264330711660
Option 2 ID : 264330711661
Option 3 ID : 264330711659
Option 4 ID : 264330711662
Status : Answered
Chosen Option : 1

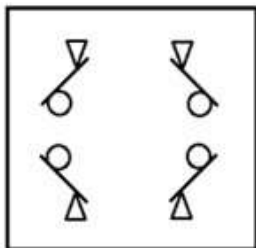
Section : Reasoning

Q.1 एक कागज के एक टुकड़े को मोड़ने का क्रम और मोड़े गए कागज को काटने का ढंग नीचे दिखाया गया है। उस आकृति का चयन करें, जो कागज के खुले हुए रूप से सबसे अधिक मिलती-जुलती हो।

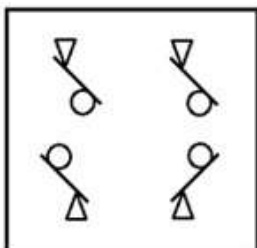


Ans

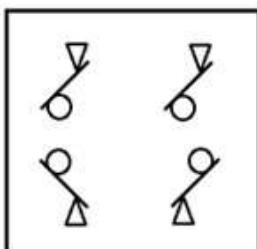
✓ 1.




✗ 2.



✗ 3.



✗ 4.



Question ID : 264330112315

Option 1 ID : 264330441348

Option 2 ID : 264330441346

Option 3 ID : 264330441347

Option 4 ID : 264330441345

Status : Answered

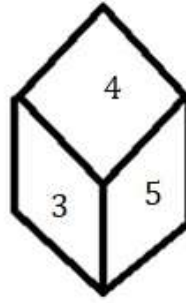
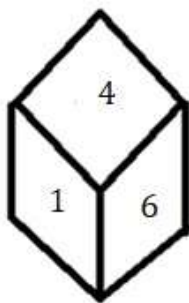
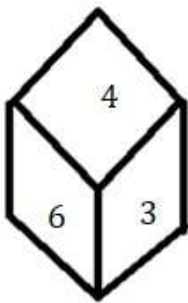
Chosen Option : 1

Q.2 छः विद्यार्थी एक वृताकार मेज के परितः मेज के केंद्र की ओर मुख करके बैठे हैं। लाल, सफेद के दाईं ओर चौथे स्थान पर बैठा है। नीला, स्लेटी के दाईं ओर दूसरे स्थान पर बैठा है। काला, गुलाबी के दाईं ओर तीसरे स्थान पर बैठा है। सफेद, स्लेटी और काला दोनों के ठीक बगल में बैठा है। लाल और गुलाबी दोनों के ठीक बगल में कौन बैठा है?

- Ans ☒ 1. काला
☒ 2. सफेद
☒ 3. नीला
☒ 4. स्लेटी

Question ID : 26433081654
 Option 1 ID : 264330320452
 Option 2 ID : 264330320451
 Option 3 ID : 264330320449
 Option 4 ID : 264330320450
 Status : Answered
 Chosen Option : 3

Q.3 एक ही पासे की तीन अलग-अलग स्थितियाँ दर्शाई गई हैं। '2' दर्शाने वाले फलक के विपरीत फलक पर कौन-सी संख्या होगी?



- Ans ☒ 1. 3
☒ 2. 1
☒ 3. 6
☒ 4. 4

Question ID : 264330113651
 Option 1 ID : 264330446691
 Option 2 ID : 264330446689
 Option 3 ID : 264330446690
 Option 4 ID : 264330446692
 Status : Answered
 Chosen Option : 4

Q.4 उस विकल्प आकृति का चयन करें जो पैटर्न पूरा करने के लिए नीचे दी गई आकृति में प्रश्नवाचक चिह्न (?) को प्रतिस्थापित करेगी।



Ans

✗ 1.



✗ 2.



✗ 3.



✓ 4.



Question ID : 26433089462

Option 1 ID : 264330351351

Option 2 ID : 264330351352

Option 3 ID : 264330351349

Option 4 ID : 264330351350

Status : Answered

Chosen Option : 4

Q.5 निम्नलिखित में से कौन-सा अक्षर समूह दी गई श्रृंखला में प्रश्न चिह्न (?) के स्थान पर आएगा और श्रृंखला को तार्किक रूप से पूर्ण करेगा?
JGI, HJG, FME, DPC, ?

- Ans
- ☐ 1. ASA
 - ☐ 2. BRB
 - ☐ 3. BSB
 - ☒ 4. BSA

Question ID : 264330102226

Option 1 ID : 264330401372

Option 2 ID : 264330401369

Option 3 ID : 264330401370

Option 4 ID : 264330401371

Status : Answered

Chosen Option : 4

Q.6 उस समुच्चय का चयन कीजिए जिसमें संख्याएँ आपस में उसी प्रकार संबंधित हैं जिस प्रकार निम्नलिखित समुच्चयों की संख्याएँ आपस में संबंधित हैं।

(नोट: गणितीय संक्रियाओं को संख्याओं को उसके घटक अंकों में विभाजित किए बिना पूर्ण संख्याओं पर किया जाना चाहिए। जैसे 13 - गणितीय संक्रियाएँ जैसे कि 13 में जोड़ना/घटाना/गुणा करना आदि केवल 13 पर की जा सकती हैं। 13 को 1 और 3 में तोड़ना और फिर 1 और 3 पर गणितीय संक्रियाएँ करने की अनुमति नहीं है)
(4, 42, 5), (3, 45, 7)

- Ans
- ☒ 1. (6, 32, 2)
 - ☐ 2. (6, 49, 3)
 - ☐ 3. (7, 42, 5)
 - ☐ 4. (7, 43, 4)

Question ID : 26433097192

Option 1 ID : 264330381465

Option 2 ID : 264330381467

Option 3 ID : 264330381468

Option 4 ID : 264330381466

Status : Answered

Chosen Option : 1

Q.7 दर्पण को नीचे दर्शाए अनुसार MN पर रखे जाने पर दिए गए चित्र के सही दर्पण प्रतिबिंब का चयन करें।



Ans

✓ 1. **kB847XyZ**

✗ 2. **kB847XyZ**

✗ 3. **kB847xyZ**

✗ 4. **kB847XyZ**

Question ID : 264330117300

Option 1 ID : 264330461259

Option 2 ID : 264330461260

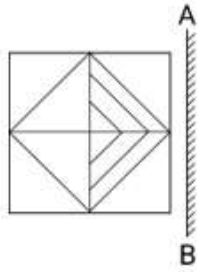
Option 3 ID : 264330461257

Option 4 ID : 264330461258

Status : **Answered**

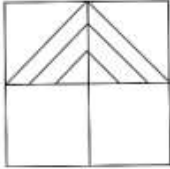
Chosen Option : 1

Q.8 चित्र के अनुसार जब दर्पण को 'AB' पर रखा जाता है तो दी गई आकृति के सही दर्पण प्रतिबिंब का चयन करें।

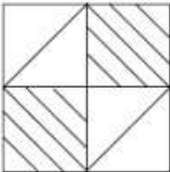


Ans

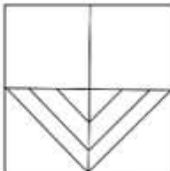
✗ 1.



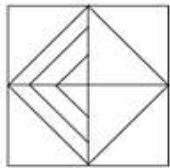
✗ 2.



✗ 3.



✓ 4.



Question ID : 264330114260

Option 1 ID : 264330449126

Option 2 ID : 264330449128

Option 3 ID : 264330449127

Option 4 ID : 264330449125

Status : Answered

Chosen Option : 4

Q.9 एक निश्चित कूट भाषा में 'BAE' को '512' और 'WIN' को '14923' लिखा जाता है। उस भाषा में 'HER' को कैसे लिखा जाएगा?

Ans

✓ 1. 1858

✗ 2. 1844

✗ 3. 1826

✗ 4. 1838

Question ID : 26433089414

Option 1 ID : 264330351160

Option 2 ID : 264330351159

Option 3 ID : 264330351157

Option 4 ID : 264330351158

Status : Answered

Chosen Option : 1

Q.10 उस शब्द-युग्म का चयन कीजिए जिसके शब्दों के बीच वही संबंध है, जो संबंध नीचे दिए गए शब्द-युग्म के शब्दों के बीच है।
(शब्दों को अंग्रेजी/हिंदी के अर्थपूर्ण शब्दों के रूप में माना जाना चाहिए और ये शब्द, अक्षरों की संख्या/ व्यंजनों/स्वरों की संख्या के आधार पर एक-दूसरे से संबंधित नहीं होने चाहिए।)
बाहर निकलना : छोड़ना

- Ans
- ☐ 1. भाग्य : उत्सव
 - ☐ 2. खाई : अणु
 - ☐ 3. शुरू : अंत
 - ☒ 4. चयन : चुनना

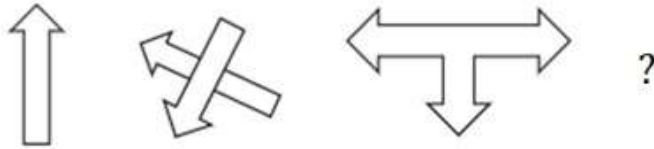
Question ID : 26433053231
Option 1 ID : 264330208229
Option 2 ID : 264330208227
Option 3 ID : 264330208226
Option 4 ID : 264330208228
Status : Answered
Chosen Option : 4

Q.11 निम्नलिखित समीकरण को सही बनाने के लिए किन दो चिह्नों को आपस में बदला जाना चाहिए?
 $29 - 23 + 42 \times 21 \div 2 = 10$

- Ans
- ☐ 1. + और +
 - ☒ 2. ÷ और ×
 - ☐ 3. - और +
 - ☐ 4. - और ×

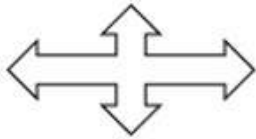
Question ID : 264330101076
Option 1 ID : 264330396852
Option 2 ID : 264330396850
Option 3 ID : 264330396849
Option 4 ID : 264330396851
Status : Answered
Chosen Option : 2

Q.12 उस आकृति का चयन करें जो निम्नलिखित आकृति श्रृंखला में प्रश्न चिह्न (?) के स्थान पर आएगी।



Ans

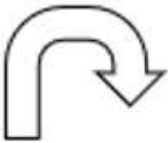
✓ 1.



✗ 2.



✗ 3.



✗ 4.



Question ID : 264330112033

Option 1 ID : 264330440218

Option 2 ID : 264330440217

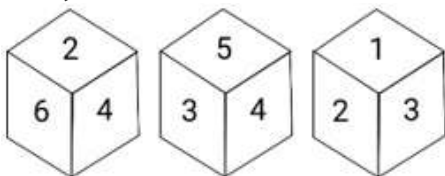
Option 3 ID : 264330440220

Option 4 ID : 264330440219

Status : Answered

Chosen Option : 1

Q.13 एक ही पासे की तीन अलग-अलग स्थितियां दर्शायी गई हैं। '3' दर्शाने वाले फलक के विपरीत फलक पर संख्या ज्ञात करें।



Ans

✗ 1. 2

✗ 2. 1

✗ 3. 5

✓ 4. 6

Question ID : 264330112035

Option 1 ID : 264330440225

Option 2 ID : 264330440226

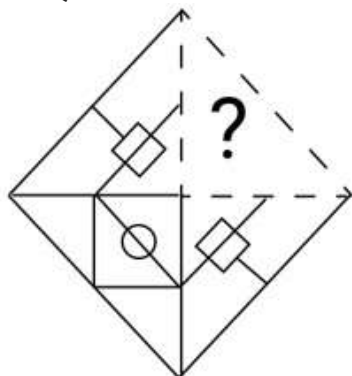
Option 3 ID : 264330440228

Option 4 ID : 264330440227

Status : Answered

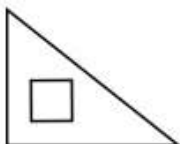
Chosen Option : 4

Q.14 विकल्पों में से उस आकृति का चयन करें, जो प्रश्न चिह्न (?) का स्थान लेकर दिए गए पैटर्न को पूरा कर सकती है।

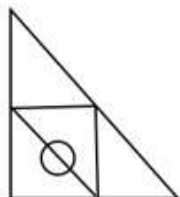


Ans

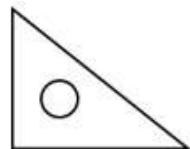
✗ 1.



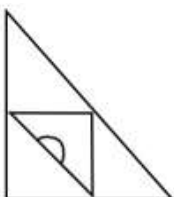
✓ 2.



✗ 3.



✗ 4.



Question ID : 264330106463

Option 1 ID : 264330418154

Option 2 ID : 264330418155

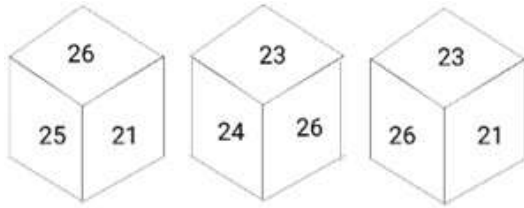
Option 3 ID : 264330418153

Option 4 ID : 264330418156

Status : Answered

Chosen Option : 2

Q.15 एक पासे के अलग-अलग फलकों पर छह संख्याएं 21, 22, 23, 24, 25 और 26 लिखी गई हैं। इस पासे की तीन स्थितियां यहां दर्शाई गई हैं। 21 संख्या वाले फलक के विपरीत फलक पर कौन-सी संख्या होगी?



- Ans
- ☒ 1. 25
 - ☒ 2. 22
 - ☒ 3. 24
 - ☒ 4. 23

Question ID : 264330106413

Option 1 ID : 264330417956

Option 2 ID : 264330417953

Option 3 ID : 264330417955

Option 4 ID : 264330417954

Status : Answered

Chosen Option : 3

Q.16 नीचे दो कथन और उसके बाद दो निष्कर्ष I और II दिए गए हैं। कथनों को सत्य मानते हुए, भले ही वे सामान्य रूप से ज्ञात तथ्यों से भिन्न प्रतीत होते हों, निर्णय लीजिए कि कौन-सा/से निष्कर्ष कथनों का तार्किक रूप से अनुसरण करता/करते है/हैं।

कथन:

सभी शर्ट कॉटन हैं।

कुछ शर्ट नेट हैं।

निष्कर्ष:

I. सभी नेट शर्ट हैं।

II. कुछ नेट कॉटन हैं।

- Ans
- ☒ 1. निष्कर्ष I और II दोनों अनुसरण करते हैं।
 - ☒ 2. केवल निष्कर्ष II अनुसरण करता है।
 - ☒ 3. न तो निष्कर्ष I और न ही II अनुसरण करता है।
 - ☒ 4. केवल निष्कर्ष I अनुसरण करता है।

Question ID : 26433076595

Option 1 ID : 264330300446

Option 2 ID : 264330300445

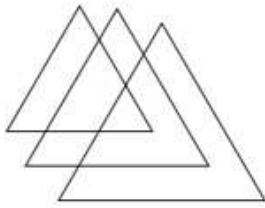
Option 3 ID : 264330300447

Option 4 ID : 264330300444

Status : Answered

Chosen Option : 2

Q.17 दी गई आकृति में कितने त्रिभुज हैं?



- Ans
- ☐ 1. 8
 - ☐ 2. 5
 - ☐ 3. 7
 - ☒ 4. 6

Question ID : 26433094985
Option 1 ID : 264330372764
Option 2 ID : 264330372761
Option 3 ID : 264330372763
Option 4 ID : 264330372762
Status : Answered
Chosen Option : 4

Q.18 उस विकल्प का चयन करें जो तीसरे पद से उसी प्रकार संबंधित है जिस प्रकार दूसरा पद पहले पद से और छठा पद पांचवें पद से संबंधित है।
400 : 200 :: 248 : ? :: 256 : 128

- Ans
- ☒ 1. 124
 - ☐ 2. 200
 - ☐ 3. 114
 - ☐ 4. 148

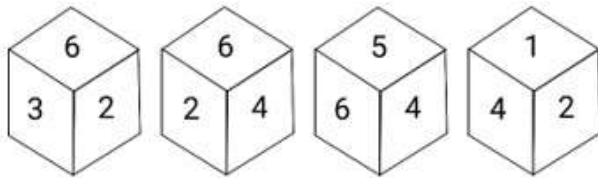
Question ID : 264330101043
Option 1 ID : 264330396717
Option 2 ID : 264330396720
Option 3 ID : 264330396718
Option 4 ID : 264330396719
Status : Answered
Chosen Option : 1

Q.19 गणितीय चिह्नों के उस सही संयोजन का चयन करें, जो * चिह्नों को क्रमिक रूप से प्रतिस्थापित कर सकता है और दिए गए समीकरण को संतुलित कर सकता है।
 $54 * 16 * 3 * 6 * 2 * 9$

- Ans
- ☒ 1. -, ×, +, ÷, =
 - ☐ 2. ÷, -, ×, +, =
 - ☐ 3. +, -, ×, ÷, =
 - ☐ 4. +, ×, -, ÷, =

Question ID : 26433079086
Option 1 ID : 264330310350
Option 2 ID : 264330310349
Option 3 ID : 264330310351
Option 4 ID : 264330310348
Status : Answered
Chosen Option : 1

Q.20 एक ही पासे की चार अलग-अलग स्थितियां नीचे दर्शायी गई हैं। '6' दर्शाने वाले फलक के विपरीत फलक पर कौन सी संख्या है?



- Ans ☒ 1. 2
☒ 2. 1
☒ 3. 4
☒ 4. 3

Question ID : 264330112039

Option 1 ID : 264330440242

Option 2 ID : 264330440241

Option 3 ID : 264330440244

Option 4 ID : 264330440243

Status : Answered

Chosen Option : 2

Q.21 दिए गए विकल्पों में से उस संख्या का चयन कीजिए जो निम्नलिखित श्रृंखला में प्रश्न चिह्न (?) के स्थान पर आ सकती है।

1, 2, 5, 26, 677, ?

- Ans ☒ 1. 3255
☒ 2. 24563
☒ 3. 458330
☒ 4. 45245

Question ID : 264330109759

Option 1 ID : 264330431316

Option 2 ID : 264330431315

Option 3 ID : 264330431314

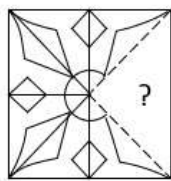
Option 4 ID : 264330431313

Status : Answered

Chosen Option : 3

Q.22 उस विकल्प आकृति का चयन करें जो नीचे दी गई आकृति में प्रश्नवाचक चिह्न

(?) के स्थान पर आएगी और पैटर्न को पूरा करेगी।



Ans

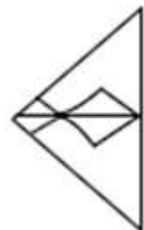
✓ 1.



✗ 2.



✗ 3.



✗ 4.



Question ID : 26433080836

Option 1 ID : 264330317279

Option 2 ID : 264330317277

Option 3 ID : 264330317280

Option 4 ID : 264330317278

Status : Answered

Chosen Option : 1

Q.23 यदि श्रृंखला को जारी रखना हो, तो प्रश्न चिह्न (?) के स्थान पर कौन-सी आकृति आनी चाहिए?

A	U	9	9	A	U	S	9	A	A	S	9	
	S			=		□			U			?
=				S		U			□			

Ans

✗ 1.

□	A	S
	U	
	9	

✓ 2.

□	A	S
	4	
	9	

✗ 3.

9	□	A
	S	
	U	

✗ 4.

S	9	□
	4	
	A	

Question ID : 264330130796

Option 1 ID : 264330512295

Option 2 ID : 264330512296

Option 3 ID : 264330512298

Option 4 ID : 264330512297

Status : Answered

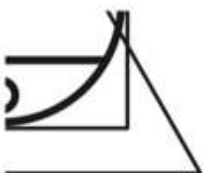
Chosen Option : 2

Q.24 निम्न में से कौन-सी विकल्प-आकृति नीचे दी गई आकृति में पैटर्न को पूरा करेगी?



Ans

✗ 1.



✗ 2.



✗ 3.



✓ 4.



Question ID : 26433089629

Option 1 ID : 264330352018

Option 2 ID : 264330352020

Option 3 ID : 264330352019

Option 4 ID : 264330352017

Status : Answered

Chosen Option : 2

Q.25 यदि निम्नलिखित आकृति श्रृंखला को जारी रखा जाए, तो दिए गए विकल्पों में से कौन-सी आकृति प्रश्नवाचक चिन्ह (?) को प्रतिस्थापित करेगी?

B	♡	┐	○	B	♡	○	♡	B	T	○	♡	?
○	V	8	V	8	┐	T	V	8	V	8	B	
T	=	X	T	X	=	X	=	┐	X	┐	=	

Ans

✗ 1.

V	T	○
8	B	♡
X	=	┐

✓ 2.

T	♡	○
X	V	8
┐	=	B

✗ 3.

T	♡	○
8	B	=
V	X	┐

✗ 4.

○	T	♡
X	V	8
┐	=	B

Question ID : 26433044934

Option 1 ID : 264330176173

Option 2 ID : 264330176172

Option 3 ID : 264330176174

Option 4 ID : 264330176171

Status : Not Answered

Chosen Option : --

Q.1 18 m और 24 m लंबे दो तारों को बराबर लंबाई के टुकड़ों में काटा जाना है। प्रत्येक टुकड़े की अधिकतम लंबाई (m में) ज्ञात कीजिए।

- Ans ☒ 1. 12
☒ 2. 6
☒ 3. 8
☒ 4. 18

Question ID : 264330118033
Option 1 ID : 264330463947
Option 2 ID : 264330463949
Option 3 ID : 264330463948
Option 4 ID : 264330463950
Status : Answered
Chosen Option : 2

Q.2 2.5 वर्ष की अवधि के लिए 4.5% वार्षिक दर से ₹2,52,500 की राशि (₹ में) कितनी होगी, यदि राशि का साधारण ब्याज पर निवेश किया जाता है?

- Ans ☒ 1. 2,80,906.25
☒ 2. 2,75,906.50
☒ 3. 2,78,906.25
☒ 4. 2,82,906.25

Question ID : 264330119932
Option 1 ID : 264330470006
Option 2 ID : 264330470005
Option 3 ID : 264330470004
Option 4 ID : 264330470003
Status : Answered
Chosen Option : 1

Q.3 एक त्रिभुज की अंतःत्रिज्या 7 cm और इसका क्षेत्रफल 343 cm^2 है। त्रिभुज का परिमाण क्या है?

- Ans ☒ 1. 88 cm
☒ 2. 68 cm
☒ 3. 98 cm
☒ 4. 49 cm

Question ID : 264330119359
Option 1 ID : 264330467724
Option 2 ID : 264330467725
Option 3 ID : 264330467723
Option 4 ID : 264330467726
Status : Not Answered
Chosen Option : --

Q.4 एक व्यक्ति अपनी संपत्ति को इस प्रकार बांटता है कि उसकी पत्नी के हिस्से और उसकी पुत्री के हिस्से का अनुपात तथा पुत्री के हिस्से और उसके पुत्र के हिस्से का अनुपात दोनों 1 : 4 है। यदि पत्नी को पुत्र से ₹5,000 कम मिलते हैं, तो पूरी संपत्ति का मूल्य (₹ में) क्या है?

- Ans
- ☐ 1. 5,000
 - ☐ 2. 8,000
 - ☐ 3. 6,000
 - ☒ 4. 7,000

Question ID : 264330129427
Option 1 ID : 264330507074
Option 2 ID : 264330507077
Option 3 ID : 264330507075
Option 4 ID : 264330507076
Status : Answered
Chosen Option : 4

Q.5 वह सबसे बड़ी संख्या ज्ञात कीजिए जो 90, 180 और 240 को पूर्णतः विभाजित करे।

- Ans
- ☐ 1. 15
 - ☒ 2. 30
 - ☐ 3. 60
 - ☐ 4. 20

Question ID : 264330109227
Option 1 ID : 264330429187
Option 2 ID : 264330429185
Option 3 ID : 264330429188
Option 4 ID : 264330429186
Status : Answered
Chosen Option : 2

Q.6 ₹8,000 की राशि पर चक्रवृद्धि ब्याज 18 महीनों में ₹1,261 हो जाता है। यदि ब्याज छमाही रूप से चक्रवृद्धि किया जाता है तो ब्याज दर ज्ञात कीजिए।

- Ans
- ☐ 1. 8%
 - ☒ 2. 10%
 - ☐ 3. 20%
 - ☐ 4. 12%

Question ID : 264330109256
Option 1 ID : 264330429303
Option 2 ID : 264330429301
Option 3 ID : 264330429304
Option 4 ID : 264330429302
Status : Answered
Chosen Option : 3

Q.7 एक पुस्तक का अंकित मूल्य ₹700 है लेकिन खुदरा विक्रेता को 20% की छूट मिलती है। यदि खुदरा विक्रेता पुस्तक को अंकित मूल्य पर बेचता है, तो लाभ प्रतिशत ज्ञात कीजिए।

- Ans
- ☒ 1. 22%
 - ☒ 2. 20%
 - ☒ 3. 25%
 - ☒ 4. 30%

Question ID : 264330130931

Option 1 ID : 264330512838

Option 2 ID : 264330512835

Option 3 ID : 264330512836

Option 4 ID : 264330512837

Status : Not Answered

Chosen Option : --

Q.8 एक 210 m लंबी ट्रेन, जो 97 km/h की चाल से चल रही है, 79 km/h की चाल से उसी दिशा में चल रही 240 m लंबी दूसरी ट्रेन के पीछे से आने और इसे पूरी तरह से पार करने में कितना समय लेगी?

- Ans
- ☒ 1. 90
 - ☒ 2. 96
 - ☒ 3. 100
 - ☒ 4. 84

Question ID : 264330122848

Option 1 ID : 264330481460

Option 2 ID : 264330481461

Option 3 ID : 264330481462

Option 4 ID : 264330481459

Status : Answered

Chosen Option : 1

Q.9 दो संख्याओं का लघुत्तम समापवर्त्य (LCM), उनके महत्तम समापवर्तक (HCF) का 12 गुना है। संख्याओं में से एक संख्या 8 है और महत्तम समापवर्तक (HCF) और लघुत्तम समापवर्त्य (LCM) का योग 52 है। दूसरी संख्या क्या है?

- Ans
- ☒ 1. 26
 - ☒ 2. 28
 - ☒ 3. 24
 - ☒ 4. 22

Question ID : 264330104149

Option 1 ID : 264330408899

Option 2 ID : 264330408900

Option 3 ID : 264330408898

Option 4 ID : 264330408897

Status : Answered

Chosen Option : 3

Q.10 एक व्यक्ति अपने धन का 18% खो देता है और शेष का 87% खर्च करने के बाद, उसके पास ₹122 बचते हैं। उसके पास मूल रूप से कितना धन था? (अनुमानित मान)

- Ans
- ☒ 1. ₹1,200
 - ☒ 2. ₹1,300
 - ☒ 3. ₹1,144.5
 - ☒ 4. ₹1,143.8

Question ID : 264330131828

Option 1 ID : 264330516411

Option 2 ID : 264330516413

Option 3 ID : 264330516412

Option 4 ID : 264330516414

Status : Answered

Chosen Option : 3

Q.11 यदि 4 पुरुष या 8 महिलाएँ किसी काम को 12 दिन में कर सकती हैं, तो 9 पुरुष और 6 महिलाएँ उसी काम को कितने दिन में कर सकती हैं?

- Ans
- ☒ 1. 5
 - ☒ 2. 6
 - ☒ 3. 4
 - ☒ 4. 3

Question ID : 264330104328

Option 1 ID : 264330409615

Option 2 ID : 264330409616

Option 3 ID : 264330409614

Option 4 ID : 264330409613

Status : Answered

Chosen Option : 3

Q.12 एक समकोण त्रिभुज के आधार में 60% की वृद्धि की जाती है। उसी क्षेत्रफल को बनाए रखने के लिए इसकी ऊँचाई कितनी कम की जानी चाहिए?

- Ans
- ☒ 1. 37.5%
 - ☒ 2. 30%
 - ☒ 3. 60%
 - ☒ 4. 45.2%

Question ID : 264330142526

Option 1 ID : 264330558384

Option 2 ID : 264330558383

Option 3 ID : 264330558386

Option 4 ID : 264330558385

Status : Answered

Chosen Option : 3

Q.13 32 वस्तुओं का विक्रय मूल्य 45 वस्तुओं के क्रय मूल्य के बराबर है। प्रत्येक वस्तु की बिक्री पर अर्जित लाभ प्रतिशत की गणना करें।

- Ans
- ☒ 1. 40.75%
 - ☒ 2. 40.5%
 - ☒ 3. 40.725%
 - ☒ 4. 40.625%

Question ID : 264330183824
Option 1 ID : 264330720972
Option 2 ID : 264330720973
Option 3 ID : 264330720974
Option 4 ID : 264330720975
Status : Answered
Chosen Option : 4

Q.14 5 क्रमागत विषम संख्याओं का औसत 63 है। इनमें से सबसे बड़ी संख्या कौन-सी है?

- Ans
- ☒ 1. 67
 - ☒ 2. 69
 - ☒ 3. 71
 - ☒ 4. 65

Question ID : 264330129988
Option 1 ID : 264330509184
Option 2 ID : 264330509185
Option 3 ID : 264330509186
Option 4 ID : 264330509183
Status : Answered
Chosen Option : 1

Q.15 एक समबाहु त्रिभुज की प्रत्येक भुजा 'a' इकाई है। इस त्रिभुज की ऊँचाई ज्ञात करें।

- Ans
- ☒ 1. $\frac{4a}{3}$
 - ☒ 2. $\frac{\sqrt{3} a}{\sqrt{2}}$
 - ☒ 3. $\frac{3a^2}{4}$
 - ☒ 4. $\frac{a\sqrt{3}}{2}$

Question ID : 264330104367
Option 1 ID : 264330409770
Option 2 ID : 264330409771
Option 3 ID : 264330409772
Option 4 ID : 264330409769
Status : Answered
Chosen Option : 4

Q.1 एमएस वर्ड 365 (MS Word 365) में किए गए अंतिम एक्शन को अनडू (undo) करने के लिए सामान्यतः किस आइकन का उपयोग किया जाता है?

- Ans
- ☒ 1. ट्रैश केन
 - ☒ 2. कैची युग्म
 - ☒ 3. पेंसिल
 - ☒ 4. बाईं ओर इंगित घुमावदार तीर

Question ID : 264330180862

Option 1 ID : 264330709414

Option 2 ID : 264330709411

Option 3 ID : 264330709413

Option 4 ID : 264330709412

Status : Answered

Chosen Option : 4

Q.2 एमएस एक्सेल 365 (MS Excel 365) में, निम्नलिखित में से कौन-सा एमएस एक्सेल (MS Excel) में चार्ट का एक प्रकार नहीं है?

- Ans
- ☒ 1. लाइन चार्ट (Line chart)
 - ☒ 2. स्पेस चार्ट (Space chart)
 - ☒ 3. पाई चार्ट (Pie chart)
 - ☒ 4. बार चार्ट (Bar chart)

Question ID : 264330178560

Option 1 ID : 264330700267

Option 2 ID : 264330700270

Option 3 ID : 264330700269

Option 4 ID : 264330700268

Status : Answered

Chosen Option : 2

Q.3 किसी फ़ाइल या दस्तावेज़ को ईमेल मैसेज में अटैच करने के लिए किस आइकन का उपयोग किया जाता है?

- Ans
- ☒ 1. पेपर क्लिप आइकन
 - ☒ 2. पेन आइकन
 - ☒ 3. ट्रैश केन आइकन
 - ☒ 4. स्माइली आइकन

Question ID : 264330182093

Option 1 ID : 264330714213

Option 2 ID : 264330714214

Option 3 ID : 264330714212

Option 4 ID : 264330714211

Status : Answered

Chosen Option : 2

Q.4 हम कर्सर को माइक्रोसॉफ्ट वर्ड 365 (Microsoft Word 365) डॉक्यूमेंट की शुरुआत में किस प्रकार ला सकते हैं?

- Ans
- ☒ 1. 'Ctrl + End' दबाकर
 - ☒ 2. 'Ctrl + Home' दबाकर
 - ☒ 3. 'Ctrl + PgUp' दबाकर
 - ☒ 4. 'Ctrl + PgDn' दबाकर

Question ID : 264330182073

Option 1 ID : 264330714132

Option 2 ID : 264330714131

Option 3 ID : 264330714133

Option 4 ID : 264330714134

Status : Answered

Chosen Option : 2

Q.5 एमएस एक्सेल 365 (MS Excel 365) में, यदि आप किसी वर्कबुक को भिन्न फाइल नेम के साथ अलग लोकेशन पर मैक्रो-सक्षम वर्कबुक के रूप में सेव करना चाहते हैं तो कौन-सा विकल्प चुना जाना चाहिए?

- Ans
- ☒ 1. सेव वर्कस्पेस (Save Workspace)
 - ☒ 2. सेव अ कॉपी (Save a Copy)
 - ☒ 3. सेव एज़ (Save As)
 - ☒ 4. सेव एक्सेल (Save Excel)

Question ID : 264330178084

Option 1 ID : 264330698402

Option 2 ID : 264330698400

Option 3 ID : 264330698399

Option 4 ID : 264330698401

Status : Answered

Chosen Option : 3

Q.6 एमएस एक्सेल 365 (MS Excel 365) में, नई पंक्ति (row) प्रविष्ट करने के लिए निम्नलिखित में से किस की-बोर्ड शॉर्टकट कुंजी का उपयोग किया जाता है?

- Ans
- ☒ 1. Ctrl + Alt + n
 - ☒ 2. Ctrl + shift + + (plus key)
 - ☒ 3. Ctrl + Alt + + (plus key)
 - ☒ 4. Ctrl + shift + n

Question ID : 264330179439

Option 1 ID : 264330703762

Option 2 ID : 264330703760

Option 3 ID : 264330703761

Option 4 ID : 264330703759

Status : Answered

Chosen Option : 3

Q.7 एमएस वर्ड 365 (MS Word 365) में केस को रिवर्स करने के लिए निम्नलिखित में से किसका उपयोग किया जाता है?

- Ans
- ☐ 1. चेंज केस (Change case)
 - ☐ 2. अल्टर केस (Alter case)
 - ☐ 3. रिवर्स केस (Reverse case)
 - ☒ 4. टॉगल केस (Toggle case)

Question ID : 264330176709

Option 1 ID : 264330693052

Option 2 ID : 264330693053

Option 3 ID : 264330693051

Option 4 ID : 264330693054

Status : Answered

Chosen Option : 3

Q.8 सर्च इंजन का मुख्य उद्देश्य क्या होता है?

- Ans
- ☐ 1. समाचार लेखों को एडिट करना
 - ☒ 2. इंटरनेट पर जानकारी ढूंढना
 - ☐ 3. ऑनलाइन गेम खेलना
 - ☐ 4. ई-मेल भेजना

Question ID : 264330180666

Option 1 ID : 264330708633

Option 2 ID : 264330708634

Option 3 ID : 264330708631

Option 4 ID : 264330708632

Status : Answered

Chosen Option : 2

Q.9 माइक्रोसॉफ्ट वर्ड 365 (Microsoft Word 365) में इन्सर्ट (Insert) टैब में निम्नलिखित में से कौन-सा ग्रुप हमें एक टेबल क्रिएट करने में सहायता करेगा?

- Ans
- ☐ 1. लिंक्स (Links)
 - ☒ 2. टेबल्स (Tables)
 - ☐ 3. इलस्ट्रेशंस (Illustrations)
 - ☐ 4. पेजेज (Pages)

Question ID : 264330182066

Option 1 ID : 264330714106

Option 2 ID : 264330714104





Option 3 ID : 264330714105

Option 4 ID : 264330714103

Status : Answered

Chosen Option : 2

Q.10 वर्ड प्रोसेसिंग एप्लीकेशन (word processing application) में मेनू बार के नीचे स्थित आइकनों को क्या कहा जाता है?

- Ans  1. शॉर्टकट आइकन्स (Shortcut icons)
 2. टूलबार आइकन्स (Toolbar icons)
 3. फॉर्मेट आइकन्स (Format icons)
 4. टूल आइकन्स (Tool icons)

Question ID : 264330173599

Option 1 ID : 264330680877

Option 2 ID : 264330680878

Option 3 ID : 264330680876

Option 4 ID : 264330680875

Status : Answered

Chosen Option : 2