

Constable Executive Male and Female in Delhi Police Examination 2023

Roll Number	
Candidate Name	
Venue Name	iON Digital Zone iDZ Prabandh Nagar
Exam Date	14/11/2023
Exam Time	12:00 PM - 1:30 PM
Subject	Constable Executive Male and Female in Delhi Police Examination 2023

Section : General Knowledge

Q.1 कजली (कजरी) तीज भारत के किस राज्य का सांस्कृतिक उत्सव है?

- Ans
- ☐ 1. गोवा
 - ☐ 2. पश्चिम बंगाल
 - ☐ 3. महाराष्ट्र
 - ☒ 4. राजस्थान

Question ID : 264330109608

Option 1 ID : 264330430710

Option 2 ID : 264330430712

Option 3 ID : 264330430709

Option 4 ID : 264330430711

Status : Answered

Chosen Option : 4

Q.2 निम्नलिखित में से कौन माइक्रोफाइनेंस क्षेत्र में एक प्रमुख घटक नहीं है?

- Ans
- ☐ 1. लघु वित्त बैंक
 - ☐ 2. क्षेत्रीय ग्रामीण बैंक
 - ☐ 3. वाणिज्यिक बैंक
 - ☒ 4. आईडीबीआई

Question ID : 264330119669

Option 1 ID : 264330468953

Option 2 ID : 264330468954

Option 3 ID : 264330468951

Option 4 ID : 264330468952

Status : Not Answered

Chosen Option : --

Q.3 झिल्ली प्रोटीन और लिपिड एवं उनकी गतिशीलता पर मौजूदा आंकड़ों की व्याख्या के लिए सिंगर और निकोलसन के तरल मोज़ेक मॉडल को आधारभूत मॉडल के रूप में कब स्वीकार किया गया था?

- Ans
- ☐ 1. 1942 में
 - ☐ 2. 1982 में
 - ☒ 3. 1972 में
 - ☐ 4. 1952 में

Question ID : 264330141717

Option 1 ID : 264330555190

Option 2 ID : 264330555189

Option 3 ID : 264330555187

Option 4 ID : 264330555188

Status : Not Answered

Chosen Option : --

Q.4 भारत ने पहली बार एशियाई खेलों की मेजबानी कब की थी?

Ans ☒ 1. 1951

☒ 2. 1990

☒ 3. 1954

☒ 4. 1962

Question ID : 264330119257

Option 1 ID : 264330467317

Option 2 ID : 264330467318

Option 3 ID : 264330467315

Option 4 ID : 264330467316

Status : Answered

Chosen Option : 1

Q.5 पानीपत की पहली लड़ाई बाबर और _____ के बीच लड़ी गई थी।

Ans ☒ 1. इब्राहिम लोदी

☒ 2. महाराणा प्रताप

☒ 3. मुहम्मद बिन तुगलक

☒ 4. सिकंदर लोदी

Question ID : 264330118984

Option 1 ID : 264330466593

Option 2 ID : 264330466594

Option 3 ID : 264330466592

Option 4 ID : 264330466591

Status : Answered

Chosen Option : 1

Q.6 निम्नलिखित में से कौन-सी भारत की संसदीय सरकार की विशेषता नहीं है?

Ans ☒ 1. बहुमत दल का शासन

☒ 2. विधायिका में मंत्रियों की सदस्यता

☒ 3. राज्यसभा का विघटन

☒ 4. नाममात्र और वास्तविक कार्यपालकों की उपस्थिति

Question ID : 264330114134

Option 1 ID : 264330448622

Option 2 ID : 264330448623

Option 3 ID : 264330448624

Option 4 ID : 264330448621

Status : Answered

Chosen Option : 3

Q.7 निम्नलिखित में से किसके द्वारा 'फास्टिंग, फ्रीस्टिंग' नामक एक परिवार की कहानी पर आधारित उपन्यास लिखा गया था?

Ans ☒ 1. किरण देसाई

☒ 2. अरविंद अडिगा

☒ 3. अनीता देसाई

☒ 4. अरुंधति रॉय

Question ID : 26433064228

Option 1 ID : 264330251505

Option 2 ID : 264330251506

Option 3 ID : 264330251507

Option 4 ID : 264330251504

Status : Not Answered

Chosen Option : --

Q.8 एलोरा गुफाओं में कितने मंदिर और मठ हैं?

- Ans ☒ 1. 29
☒ 2. 18
☒ 3. 23
☒ 4. 34

Question ID : 264330106253

Option 1 ID : 264330417313

Option 2 ID : 264330417314

Option 3 ID : 264330417315

Option 4 ID : 264330417316

Status : Answered

Chosen Option : 1

Q.9 संसद के प्रत्येक सदन के सचिवालय का प्रमुख कौन होता है?

- Ans ☒ 1. महासचिव
☒ 2. लोकसभाध्यक्ष
☒ 3. लोकसभा-उपाध्यक्ष
☒ 4. राष्ट्रपति

Question ID : 264330173533

Option 1 ID : 264330680612

Option 2 ID : 264330680611

Option 3 ID : 264330680613

Option 4 ID : 264330680614

Status : Answered

Chosen Option : 1

Q.10 हिंदी उपन्यास 'इंद्रजाल' के लेखक कौन हैं?

- Ans ☒ 1. नामवर सिंह
☒ 2. जयशंकर प्रसाद
☒ 3. हरिवंशराय बच्चन
☒ 4. रामधारी सिंह दिनकर

Question ID : 26433072947

Option 1 ID : 264330285981

Option 2 ID : 264330285983

Option 3 ID : 264330285982

Option 4 ID : 264330285980

Status : Answered

Chosen Option : 3

Q.11 भारत सरकार और एक या अधिक राज्यों के बीच या भारत सरकार और किसी राज्य या राज्यों के बीच कोई भी विवाद भारत के सर्वोच्च न्यायालय के _____ क्षेत्राधिकार के अंतर्गत आता है।

- Ans ☒ 1. सलाहकारी
☒ 2. अनन्य मूल
☒ 3. रिट
☒ 4. अपीलीय

Question ID : 264330130479

Option 1 ID : 264330511029

Option 2 ID : 264330511027

Option 3 ID : 264330511030

Option 4 ID : 264330511028

Status : Answered

Chosen Option : 1

Q.12 भारतीय संविधान का अनुच्छेद 39A _____ का विचार देता है।

- Ans
- ☒ 1. कुछ मामलों में काम, शिक्षा और सार्वजनिक सहायता का अधिकार
 - ☒ 2. समान न्याय और मुफ्त कानूनी सहायता
 - ☒ 3. काम की उचित और मानवीय स्थितियों के लिए प्रावधान
 - ☒ 4. श्रमिकों के लिए निर्वाह मजदूरी, ... आदि

Question ID : 264330110802

Option 1 ID : 264330435487

Option 2 ID : 264330435486

Option 3 ID : 264330435485

Option 4 ID : 264330435488

Status : Answered

Chosen Option : 1

Q.13 वालीबॉल के खेल में 'लिबेरो' एक _____ होता है।

- Ans
- ☒ 1. विशेषज्ञ डिफेंसिव खिलाड़ी
 - ☒ 2. विशेषज्ञ अटैकिंग खिलाड़ी
 - ☒ 3. स्मैशिंग विशेषज्ञ
 - ☒ 4. ब्लॉकिंग विशेषज्ञ

Question ID : 264330118484

Option 1 ID : 264330465337

Option 2 ID : 264330465340

Option 3 ID : 264330465338

Option 4 ID : 264330465339

Status : Answered

Chosen Option : 4

Q.14 निम्नलिखित में से किसने ब्रिटिश भारतीय सरकार को राजनीतिक गतिविधियों को दबाने के लिए अत्यधिक शक्तियाँ प्रदान कीं, और राजनीतिक कैदियों को बिना किसी मुकदमे के दो साल तक हिरासत में रखने की अनुमति दी?

- Ans
- ☒ 1. भारतीय गुलामी अधिनियम
 - ☒ 2. भारतीय अनुबंध अधिनियम
 - ☒ 3. रोलेट एक्ट
 - ☒ 4. परक्राम्य लिखत अधिनियम

Question ID : 264330119489

Option 1 ID : 264330468240

Option 2 ID : 264330468241

Option 3 ID : 264330468242

Option 4 ID : 264330468239

Status : Answered

Chosen Option : 3

Q.15 'स्वतंत्रता मेरा जन्मसिद्ध अधिकार है और मैं इसे लेकर रहूँगा'। निम्नलिखित में से किसने यह कहा?

- Ans
- ☒ 1. लाला लाजपत राय
 - ☒ 2. अरबिंदो घोष
 - ☒ 3. बाल गंगाधर तिलक
 - ☒ 4. बिपिन चंद्र पाल

Question ID : 264330114872

Option 1 ID : 264330451575

Option 2 ID : 264330451576

Option 3 ID : 264330451574

Option 4 ID : 264330451573

Status : Answered

Chosen Option : 3

Q.16 दक्षिण भारत के निम्नलिखित में से किस नृत्य को मयूर नृत्य कहा जाता है?

- Ans
- ☒ 1. गरदी
 - ☒ 2. पडायनी
 - ☒ 3. मयिलअट्टम
 - ☒ 4. कुम्मी

Question ID : 264330110423

Option 1 ID : 264330433972

Option 2 ID : 264330433969

Option 3 ID : 264330433970

Option 4 ID : 264330433971

Status : Answered

Chosen Option : 3

Q.17 संगीतकार भजन सोपौरी _____ घराने के एक संतूर वादक थे।

- Ans
- ☒ 1. मैहर
 - ☒ 2. सूफियाना
 - ☒ 3. पंजाब
 - ☒ 4. बनारस

Question ID : 264330112683

Option 1 ID : 264330442819

Option 2 ID : 264330442817

Option 3 ID : 264330442818

Option 4 ID : 264330442820

Status : Answered

Chosen Option : 2

Q.18 आर. सुथुकन्नमल को 2022 में पद्म श्री पुरस्कार से सम्मानित किया गया था। निम्नलिखित में से कौन सा उनका योगदान है?

- Ans
- ☒ 1. भरतनाट्यम की प्रारंभिक नृत्य शैली का संरक्षक होना
 - ☒ 2. भारत की नीली क्रांति को शक्ति प्रदान करने में महत्वपूर्ण भूमिका निभाना
 - ☒ 3. ओडिशा के गरीब और पिछड़े समुदायों के साथ काम करना
 - ☒ 4. भारतीय समाज के अध्ययन में विशेषज्ञता

Question ID : 26433091036

Option 1 ID : 264330357556

Option 2 ID : 264330357553

Option 3 ID : 264330357555

Option 4 ID : 264330357554

Status : Answered

Chosen Option : 1

Q.19 निम्नलिखित में से उत्तर भारत में रबी मौसम में उगाई जाने वाली फसल की पहचान करें।

- Ans
- ☒ 1. चना
 - ☒ 2. कपास
 - ☒ 3. चावल
 - ☒ 4. बाजरा

Question ID : 264330181455

Option 1 ID : 264330711746

Option 2 ID : 264330711744

Option 3 ID : 264330711743

Option 4 ID : 264330711745

Status : Answered

Chosen Option : 3

Q.20 भारत में परिवहन की कौन सी प्रणाली घर-घर तक सेवा प्रदान करती है?

- Ans
- ☐ 1. जल मार्ग
 - ☐ 2. रेल मार्ग
 - ☐ 3. हवाई मार्ग
 - ☒ 4. सड़क परिवहन

Question ID : 264330119885

Option 1 ID : 264330469816

Option 2 ID : 264330469815

Option 3 ID : 264330469817

Option 4 ID : 264330469818

Status : Answered

Chosen Option : 4

Q.21 भारत में अधिकांश पंचवर्षीय योजनाओं में दी गई वरीयता के संबंध में निम्नलिखित में से कौन-सा कथन सत्य है?

- Ans
- ☐ 1. कीमतों पर नियंत्रण
 - ☐ 2. वित्तीय क्षेत्र का विनियमन
 - ☐ 3. निजी क्षेत्र उद्यमिता का व्यापक संवर्धन
 - ☒ 4. बुनियादी और भारी उद्योगों में निवेश

Question ID : 264330113540

Option 1 ID : 264330446247

Option 2 ID : 264330446248

Option 3 ID : 264330446246

Option 4 ID : 264330446245

Status : Answered

Chosen Option : 3

Q.22 बेगमपुरी मस्जिद का निर्माण सुल्तान _____ के शासनकाल के दौरान किया गया था।

- Ans
- ☐ 1. जलालुद्दीन खिलजी
 - ☐ 2. गयासुद्दीन बलबन
 - ☒ 3. मुहम्मद बिन तुगलक
 - ☐ 4. कुतुबुद्दीन ऐबक

Question ID : 264330183098

Option 1 ID : 264330718124

Option 2 ID : 264330718127

Option 3 ID : 264330718125

Option 4 ID : 264330718126

Status : Not Answered

Chosen Option : --

Q.23 निम्नलिखित में से किसने मध्य भारत में चमड़ा श्रमिकों की बेहतरी के लिए सतनामी आंदोलन शुरू किया था?

- Ans
- ☐ 1. महात्मा गांधी
 - ☐ 2. स्वामी विवेकानंद
 - ☒ 3. गुरु घासीदास
 - ☐ 4. बी.आर. अंबेडकर

Question ID : 264330119024

Option 1 ID : 264330466752

Option 2 ID : 264330466753

Option 3 ID : 264330466754

Option 4 ID : 264330466751

Status : Answered

Chosen Option : 3

Q.24 भारत की जनगणना 2011 के अनुसार, निम्नलिखित में से किस धर्म की साक्षरता दर सर्वाधिक दर्ज की गई थी?

- Ans
- ☒ 1. हिंदू
 - ☒ 2. जैन
 - ☒ 3. सिख
 - ☒ 4. मुस्लिम

Question ID : 264330138114
Option 1 ID : 264330541064
Option 2 ID : 264330541063
Option 3 ID : 264330541066
Option 4 ID : 264330541065
Status : Answered
Chosen Option : 2

Q.25 धोलावीरा का हड़प्पा नगर कितने भागों में विभाजित था?

- Ans
- ☒ 1. 4
 - ☒ 2. 3
 - ☒ 3. 2
 - ☒ 4. 5

Question ID : 264330109641
Option 1 ID : 264330430843
Option 2 ID : 264330430842
Option 3 ID : 264330430841
Option 4 ID : 264330430844
Status : Answered
Chosen Option : 1

Q.26 निम्नलिखित में से कौन भारतीय ओलंपिक संघ (IOA) के पहले अध्यक्ष थे?

- Ans
- ☒ 1. राजा भालेंद्र सिंह
 - ☒ 2. डॉ. एजी नोहरेन
 - ☒ 3. सर दोराबजी टाटा
 - ☒ 4. महाराजा भूपिंदर सिंह

Question ID : 264330118442
Option 1 ID : 264330465172
Option 2 ID : 264330465169
Option 3 ID : 264330465171
Option 4 ID : 264330465170
Status : Answered
Chosen Option : 3

Q.27 भारतीय संविधान का निम्नलिखित में से कौन-सा अनुच्छेद कार्य और मातृत्व राहत के लिए न्यायसंगत और मानवीय परिस्थितियों के प्रावधान से संबंधित है?

- Ans
- ☒ 1. अनुच्छेद 42
 - ☒ 2. अनुच्छेद 44
 - ☒ 3. अनुच्छेद 43
 - ☒ 4. अनुच्छेद 45

Question ID : 264330180058
Option 1 ID : 264330706215
Option 2 ID : 264330706217
Option 3 ID : 264330706216
Option 4 ID : 264330706218
Status : Answered
Chosen Option : 3

Q.28 भारत की जनगणना 2011 के अनुसार, निम्नलिखित में से राज्यों के किस समूह में सबसे अधिक जनसंख्या दर्ज की गई?

- Ans
- ☐ 1. पश्चिम बंगाल और मध्य प्रदेश
 - ☐ 2. बिहार और पश्चिम बंगाल
 - ☒ 3. महाराष्ट्र और बिहार
 - ☐ 4. तमिलनाडु और कर्नाटक

Question ID : 264330167028

Option 1 ID : 264330655115

Option 2 ID : 264330655117

Option 3 ID : 264330655116

Option 4 ID : 264330655118

Status : Answered

Chosen Option : 3

Q.29 कटखल, जिरी, चिरी, मोधुरा, लोंगई, सोनाई, रुकनी और सिंगला किस नदी की प्रमुख सहायक नदियाँ हैं?

- Ans
- ☒ 1. बराक
 - ☐ 2. चंबल
 - ☐ 3. घाघरा
 - ☐ 4. दामोदर

Question ID : 264330113523

Option 1 ID : 264330446177

Option 2 ID : 264330446179

Option 3 ID : 264330446180

Option 4 ID : 264330446178

Status : Answered

Chosen Option : 2

Q.30 निम्नलिखित में से किस मंत्रालय ने एकलव्य स्कूल के शिक्षकों और प्रधानाचार्यों के लिए निष्ठा क्षमता-निर्माण कार्यक्रम के लिए एक संयुक्त मिशन पर एनसीईआरटी (NCERT) के साथ सहयोग किया?

- Ans
- ☐ 1. शिक्षा मंत्रालय
 - ☐ 2. अल्पसंख्यक कार्य मंत्रालय
 - ☒ 3. जनजातीय कार्य मंत्रालय
 - ☐ 4. कौशल विकास और उद्यमिता मंत्रालय

Question ID : 264330111589

Option 1 ID : 264330438442

Option 2 ID : 264330438443

Option 3 ID : 264330438444

Option 4 ID : 264330438441

Status : Answered

Chosen Option : 1

Q.31 भंजन, अपक्षय, विघटन, वर्षा और शिलीभवन प्रमुख भूवैज्ञानिक प्रक्रियाएँ हैं, जो निम्नलिखित में से किस चट्टान के निर्माण में योगदान करती हैं?

- Ans ☒ 1. उप-रूपांतरित चट्टान
☒ 2. रूपांतरित चट्टान
☒ 3. आग्नेय चट्टान
☒ 4. अवसादी चट्टान

Question ID : 264330131816

Option 1 ID : 264330516366

Option 2 ID : 264330516365

Option 3 ID : 264330516363

Option 4 ID : 264330516364

Status : Not Answered

Chosen Option : --

Q.32 ओजोन अणु का आणविक द्रव्यमान कितना होता है?

- Ans ☒ 1. 32
☒ 2. 16
☒ 3. 48
☒ 4. 18

Question ID : 264330177018

Option 1 ID : 264330694269

Option 2 ID : 264330694267

Option 3 ID : 264330694268

Option 4 ID : 264330694270

Status : Answered

Chosen Option : 3

Q.33 1932 में महात्मा गांधी और _____ ने पूना पैक्ट पर हस्ताक्षर किए थे।

- Ans ☒ 1. सी. नतेसा मुदलियार
☒ 2. रामास्वामी नायकर-पेरियार
☒ 3. तारावत माधवन नायर
☒ 4. डॉ. बाबासाहेब अम्बेडकर

Question ID : 264330114860

Option 1 ID : 264330451525

Option 2 ID : 264330451528

Option 3 ID : 264330451526

Option 4 ID : 264330451527

Status : Answered

Chosen Option : 4

Q.34 रैफलेसिया अर्नोल्डी किस बात के लिए प्रसिद्ध है?

- Ans ☒ 1. यह पादप जगत का सबसे लंबा पौधा है
☒ 2. पादप जगत में इसकी सबसे बड़ी पत्तियां हैं
☒ 3. इसका तना (ट्रंक) सबसे मोटा होता है
☒ 4. पादप जगत में इसका सबसे बड़ा पुष्प है

Question ID : 264330120904

Option 1 ID : 264330473831

Option 2 ID : 264330473834

Option 3 ID : 264330473833

Option 4 ID : 264330473832

Status : Not Answered

Chosen Option : --

Q.35 भारतीय रिजर्व बैंक (RBI) की स्थापना कब की गई थी?

- Ans
- ☐ 1. 1 अप्रैल 1955
 - ☐ 2. 1 अप्रैल 1945
 - ☐ 3. 1 अप्रैल 1925
 - ☒ 4. 1 अप्रैल 1935

Question ID : 264330110162

Option 1 ID : 264330432928

Option 2 ID : 264330432927

Option 3 ID : 264330432925

Option 4 ID : 264330432926

Status : Answered

Chosen Option : 4

Q.36 भारत में सरकार की संसदीय प्रणाली निम्नलिखित में से किस संसदीय सरकार के पैटर्न पर आधारित है?

- Ans
- ☒ 1. ब्रिटेन (British)
 - ☐ 2. अमेरिका (USA)
 - ☐ 3. कैनैडियन (Canadian)
 - ☐ 4. रूसी (Russian)

Question ID : 264330173469

Option 1 ID : 264330680358

Option 2 ID : 264330680355

Option 3 ID : 264330680356

Option 4 ID : 264330680357

Status : Answered

Chosen Option : 1

Q.37 प्रधानमंत्री आवास योजना-शहरी (PMAY-U) भारत सरकार द्वारा किस वर्ष शुरू की गई थी?

- Ans
- ☐ 1. 2019 में
 - ☐ 2. 2017 में
 - ☒ 3. 2015 में
 - ☐ 4. 2021 में

Question ID : 264330120480

Option 1 ID : 264330472173

Option 2 ID : 264330472172

Option 3 ID : 264330472171

Option 4 ID : 264330472174

Status : Answered

Chosen Option : 2

Q.38 दो फीफा (FIFA) फुटबॉल विश्व कपों के बीच _____ का अंतराल होता है।

- Ans
- ☐ 1. 5 वर्ष
 - ☐ 2. 6 वर्ष
 - ☐ 3. 3 वर्ष
 - ☒ 4. 4 वर्ष

Question ID : 264330134259

Option 1 ID : 264330526033

Option 2 ID : 264330526034

Option 3 ID : 264330526031

Option 4 ID : 264330526032

Status : Answered

Chosen Option : 4

Q.39 भारत ने किस वर्ष अंतरिम अवधि के लिए दोहरी विनिमय दर को अपनाया?

- Ans ☒ 1. 1990 में
☒ 2. 1992 में
☒ 3. 1994 में
☒ 4. 1996 में

Question ID : 264330109396

Option 1 ID : 264330429861

Option 2 ID : 264330429862

Option 3 ID : 264330429863

Option 4 ID : 264330429864

Status : Not Answered

Chosen Option : --

Q.40 ईसाई धर्म में मनाए जाने वाले त्योहारों के संबंध में निम्नलिखित में से कौन-से कथन सही हैं?

- A. ईस्टर 'यीशु मसीह के पुनरुत्थान' के लिए मनाया जाने वाला दिन है।
B. बाइबिल के अनुसार 'यीशु को सूली पर चढ़ाए जाने के तीन दिन बाद वह फिर से जीवित हो गए थे'।
C. गुड फ्राइडे ईसा मसीह के सूली पर चढ़ने के दिन को मनाने के लिए है।

- Ans ☒ 1. A, B और C
☒ 2. केवल A और B
☒ 3. केवल B और C
☒ 4. केवल A और C

Question ID : 264330119656

Option 1 ID : 264330468902

Option 2 ID : 264330468899

Option 3 ID : 264330468900

Option 4 ID : 264330468901

Status : Not Answered

Chosen Option : --

Q.41 उच्च न्यायालय के मुख्य न्यायाधीश की अनुपस्थिति में राज्यपाल किसकी उपस्थिति में शपथ लेता है या प्रतिज्ञान करता है?

- Ans ☒ 1. राज्य विधानमंडल के अध्यक्ष
☒ 2. राष्ट्रपति द्वारा मनोनीत न्यायाधीश
☒ 3. उच्च न्यायालय के उपलब्ध वरिष्ठतम न्यायाधीश
☒ 4. राज्य विधानमंडल के सचिव

Question ID : 26433069888

Option 1 ID : 264330274057

Option 2 ID : 264330274058

Option 3 ID : 264330274059

Option 4 ID : 264330274056

Status : Answered

Chosen Option : 3

Q.42 अजीता श्रीवास्तव _____ की एक प्रसिद्ध लोक गायिका हैं और उन्हें 2022 में पद्म श्री प्राप्त हुआ था।

- Ans
- ☒ 1. मध्य प्रदेश
 - ☒ 2. महाराष्ट्र
 - ☒ 3. गुजरात
 - ☒ 4. उत्तर प्रदेश

Question ID : 264330111960
Option 1 ID : 264330439925
Option 2 ID : 264330439927
Option 3 ID : 264330439928
Option 4 ID : 264330439926
Status : Not Answered
Chosen Option : --

Q.43 “झाली” कौन से भारतीय राज्य का लोक नृत्य है?

- Ans
- ☒ 1. हिमाचल प्रदेश
 - ☒ 2. मध्य प्रदेश
 - ☒ 3. बिहार
 - ☒ 4. उत्तर प्रदेश

Question ID : 264330141326
Option 1 ID : 264330553641
Option 2 ID : 264330553640
Option 3 ID : 264330553642
Option 4 ID : 264330553639
Status : Not Answered
Chosen Option : --

Q.44 स्वपोषी _____ का स्थिरीकरण कर सकते हैं।

- Ans
- ☒ 1. मेथेन
 - ☒ 2. कार्बन मोनोऑक्साइड
 - ☒ 3. कार्बन डाइऑक्साइड
 - ☒ 4. ऑक्सीजन

Question ID : 264330120070
Option 1 ID : 264330470538
Option 2 ID : 264330470536
Option 3 ID : 264330470537
Option 4 ID : 264330470535
Status : Not Answered
Chosen Option : --

Q.45 भारत में राष्ट्रीय निवेश कोष एक कॉर्पोरेट फंड है, जो _____ के माध्यम से अपनी वित्तीय प्राप्ति को जुटाता है।

- Ans
- ☒ 1. केंद्रीय सार्वजनिक क्षेत्र के उपक्रमों के लाभ से होने वाली आय
 - ☒ 2. केंद्रीय सार्वजनिक क्षेत्र के उपक्रमों के विनिवेश से होने वाली आय
 - ☒ 3. अंशदायी पेंशन योजना
 - ☒ 4. सामान्य भविष्य निधि की बचत

Question ID : 264330111786
Option 1 ID : 264330439232
Option 2 ID : 264330439231
Option 3 ID : 264330439229
Option 4 ID : 264330439230
Status : Not Answered
Chosen Option : --

Q.46 प्रधान मंत्री जन धन योजना का नारा क्या है?

- Ans ☒ 1. मेरा खाता, भाग्य विधाता
☐ 2. मेरा खाता, मेरा अधिकार
☐ 3. मेरा अधिकार, मेरा खाता
☐ 4. मेरा पैसा, मेरे बैंक में

Question ID : 26433059311
Option 1 ID : 264330232120
Option 2 ID : 264330232121
Option 3 ID : 264330232122
Option 4 ID : 264330232123
Status : Answered
Chosen Option : 2

Q.47 भारतीय नदी तंत्रों के बारे में, निम्नलिखित में से कौन-सा कथन सही है?

- Ans ☐ 1. महानदी नदी केवल छत्तीसगढ़ राज्य से होकर बहती है।
☐ 2. गोदावरी नदी, हरियाणा राज्य से होकर बहती है।
☐ 3. सोन नदी का उद्गम पंजाब से होता है।
☒ 4. यमुना नदी, गंगा नदी की सहायक नदी है।

Question ID : 264330174350
Option 1 ID : 264330683819
Option 2 ID : 264330683821
Option 3 ID : 264330683820
Option 4 ID : 264330683822
Status : Answered
Chosen Option : 4

Q.48 प्रसिद्ध दक्षिण भारतीय महाकाव्य "सिलप्पादिकारम (Silappadikaram)" मूल रूप से _____ भाषा में लिखा गया था।

- Ans ☐ 1. संस्कृत
☐ 2. तेलुगू
☐ 3. मलयालम
☒ 4. तमिल

Question ID : 264330119476
Option 1 ID : 264330468189
Option 2 ID : 264330468187
Option 3 ID : 264330468188
Option 4 ID : 264330468190
Status : Not Answered
Chosen Option : --

Q.49 मौर्य वंश की स्थापना के लिए चंद्रगुप्त मौर्य ने किसे हराया था?

- Ans ☐ 1. महापद्म नंद
☐ 2. बिम्बिसार
☒ 3. धना नंद
☐ 4. अजातशत्रु

Question ID : 264330119709
Option 1 ID : 264330469111
Option 2 ID : 264330469112
Option 3 ID : 264330469114
Option 4 ID : 264330469113
Status : Answered
Chosen Option : 3

Q.50 राम सहाय पांडे को बुंदेलखंड क्षेत्र से नृत्य रूप "राय" को बढ़ावा देने के लिए पद्म श्री प्राप्त हुआ। यह नृत्य शैली किस राज्य से संबंधित है?

- Ans ☒ 1. राजस्थान
☒ 2. मध्य प्रदेश
☒ 3. छत्तीसगढ़
☒ 4. बिहार

Question ID : 2643308666
Option 1 ID : 264330340308
Option 2 ID : 264330340305
Option 3 ID : 264330340306
Option 4 ID : 264330340307
Status : Answered
Chosen Option : 2

Section : Reasoning

Q.1 यदि श्रृंखला को जारी रखना हो, तो प्रश्न चिह्न (?) के स्थान पर कौन-सी आकृति आनी चाहिए?

O 8	8 =	X O	O A	
= A	O ▽	A 8	X ▽	?
X ▽	A X	= ▽	8 =	

Ans

- ☒ 1.

= 8
▽ X
A O
- ☒ 2.

= 8
O A
▽ X
- ☒ 3.

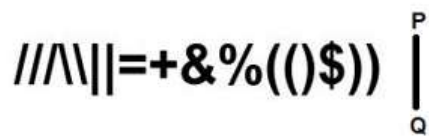
= 8
X O
A ▽
- ☒ 4.

= X
8 O
A ▽

Question ID : 264330130801
Option 1 ID : 264330512317
Option 2 ID : 264330512316
Option 3 ID : 264330512318
Option 4 ID : 264330512315
Status : Not Answered
Chosen Option : --

Q.2 जब दर्पण को रेखा PQ पर रखा जाता है, तो दी गई आकृति का सही दर्पण

प्रतिबिम्ब ज्ञात कीजिए।



Ans

- ✗ 1. (((\$()))\^{\circ}8+=||//\ \
- ✗ 2. (((\$)((\^{\circ}8+=||//\ \
- ✓ 3. (((\$()))\^{\circ}8+=||//\ \
- ✗ 4. (((\$()))\^{\circ}8+=//||\ \

Question ID : 26433082028

Option 1 ID : 264330321948

Option 2 ID : 264330321945

Option 3 ID : 264330321946

Option 4 ID : 264330321947

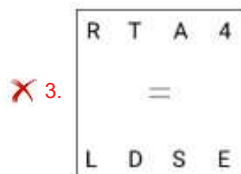
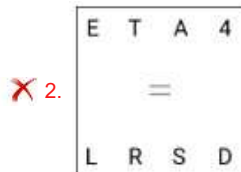
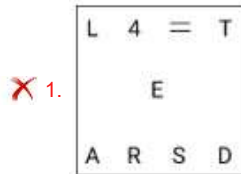
Status : Answered

Chosen Option : 3

Q.3 निम्नलिखित श्रृंखला को जारी रखने के लिए प्रश्न चिह्न (?) के स्थान पर कौन सी आकृति आनी चाहिए?

L O T R	R T = E	S R T =	= T E A	4 = T E	
=	O	E	R	A	?
M A D E	L D A M	O L D A	S D L O	R S D L	

Ans



Question ID : 264330103895

Option 1 ID : 264330407881

Option 2 ID : 264330407883

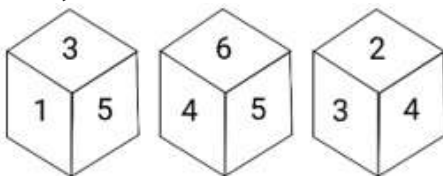
Option 3 ID : 264330407882

Option 4 ID : 264330407884

Status : Not Answered

Chosen Option : --

Q.4 एक ही पासे की तीन अलग-अलग स्थितियां दर्शायी गई हैं। '4' दर्शाने वाले फलक के विपरीत फलक पर संख्या ज्ञात करें।



Ans

✗ 1. 2

✗ 2. 5

✓ 3. 1

✗ 4. 6

Question ID : 264330112034

Option 1 ID : 264330440223

Option 2 ID : 264330440221

Option 3 ID : 264330440224

Option 4 ID : 264330440222

Status : Answered

Chosen Option : 3

Q.5 दिए गए विकल्पों में से उस संख्या का चयन कीजिए जो निम्नलिखित श्रृंखला में प्रश्न चिह्न (?) के स्थान पर आ सकती है।
40, 50, 30, 60, 20, ?

- Ans  1. 50
 2. 80
 3. 70
 4. 40

Question ID : 264330106384

Option 1 ID : 264330417839

Option 2 ID : 264330417837

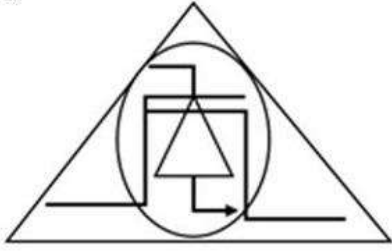
Option 3 ID : 264330417838

Option 4 ID : 264330417840

Status : Answered

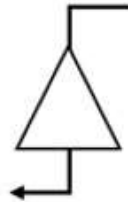
Chosen Option : 3

Q.6 उस विकल्प का चयन कीजिए, जो दी गई आकृति में अंतर्निहित है (घुमाने की अनुमति नहीं है)।

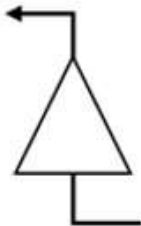


Ans

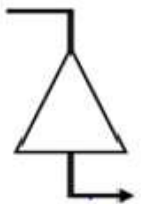
✗ 1.



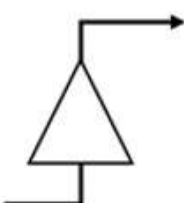
✗ 2.



✓ 3.



✗ 4.



Question ID : 26433082892

Option 1 ID : 264330325403

Option 2 ID : 264330325404

Option 3 ID : 264330325401

Option 4 ID : 264330325402

Status : Answered

Chosen Option : 3

Q.7 एक निश्चित कूट भाषा में 'WAR' को '39' और 'ZIP' को '30' लिखा जाता है। उस भाषा में 'YES' को कैसे लिखा जाएगा?

- Ans ☒ 1. 34
☒ 2. 32
☒ 3. 36
☒ 4. 37

Question ID : 26433089410
Option 1 ID : 264330351142
Option 2 ID : 264330351141
Option 3 ID : 264330351143
Option 4 ID : 264330351144
Status : Answered
Chosen Option : 2

Q.8 दर्पण को नीचे दिए गए चित्र के अनुसार PQ पर रखे जाने पर दी गई आकृति का दर्पण में निर्मित सही प्रतिबिंब चयनित कीजिए।



- Ans ☒ 1. J S D 6 H 9
☒ 2. J S D 6 H 9
☒ 3. G H 6 D 2 L
☒ 4. J S D 6 H 9

Question ID : 26433080771
Option 1 ID : 264330317018
Option 2 ID : 264330317019
Option 3 ID : 264330317017
Option 4 ID : 264330317020
Status : Answered
Chosen Option : 2

Q.9 उस समुच्चय का चयन करें जिसमें दी गई संख्याएं आपस में उसी प्रकार संबंधित हैं, जिस प्रकार प्रश्न में दिए गए समुच्चय की संख्याएं आपस में संबंधित हैं।
(ध्यान दें: संख्याओं को उनके घटक अंकों में तोड़े बिना, पूर्ण संख्याओं पर गणितीय संक्रियाएं की जानी चाहिए। जैसे, 13 के मामले में - गणितीय संक्रियाएं जैसे कि 13 में जोड़ना/घटाना/गुणा करना आदि केवल 13 पर की जा सकती हैं। लेकिन 13 को 1 और 3 में तोड़ने और फिर 1 और 3 पर गणितीय संक्रियाएं करने की अनुमति नहीं है।)
(39, 130, 13)
(45, 150, 15)

- Ans ☒ 1. (35, 125, 10)
☒ 2. (40, 75, 15)
☒ 3. (25, 60, 12)
☒ 4. (39, 120, 17)

Question ID : 26433097437
Option 1 ID : 264330382440
Option 2 ID : 264330382438
Option 3 ID : 264330382437
Option 4 ID : 264330382439
Status : Not Answered
Chosen Option : --

Q.10 दिए गए समीकरण को सही बनाने के लिए किन दो चिह्नों को आपस में बदला जाना चाहिए?
 $156 \div 12 - 4 \times 65 + 87 = 74$

- Ans ☒ 1. = और \times
☒ 2. \times और -
☒ 3. + और =
☒ 4. + और -

Question ID : 26433090221

Option 1 ID : 264330354364

Option 2 ID : 264330354362

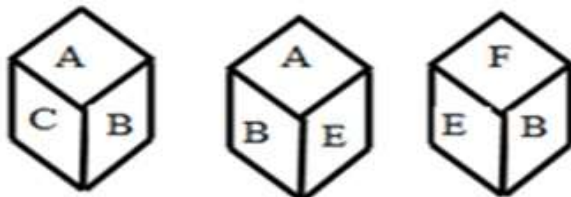
Option 3 ID : 264330354363

Option 4 ID : 264330354361

Status : Answered

Chosen Option : 2

Q.11 एक ही पासे की तीन अलग-अलग स्थितियाँ दिखाई गई हैं, जिसके फलकों पर अक्षर A, B, C, D, E और F अंकित हैं। 'D' अक्षर वाले फलक के विपरीत फलक पर अंकित अक्षर का चयन करें।



- Ans ☒ 1. F
☒ 2. A
☒ 3. B
☒ 4. C

Question ID : 264330117422

Option 1 ID : 264330461732

Option 2 ID : 264330461729

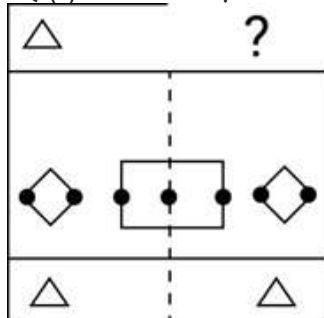
Option 3 ID : 264330461730

Option 4 ID : 264330461731

Status : Answered

Chosen Option : 3

Q.12 दिए गए विकल्पों में से उस आकृति का चयन करें जो पैटर्न पूरा करने के लिए नीचे दी गई आकृति में प्रश्न चिह्न (?) के स्थान पर आएगी।



Ans

- ☒ 1.
- ☒ 2.
- ☒ 3.
- ☒ 4.

Question ID : 264330116613

Option 1 ID : 264330458540

Option 2 ID : 264330458538

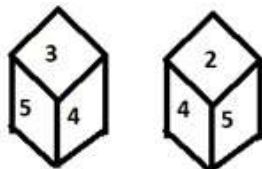
Option 3 ID : 264330458539

Option 4 ID : 264330458537

Status : Answered

Chosen Option : 4

Q.13 एक पासे के अलग-अलग फलकों पर छह संख्याएं 1, 2, 3, 4, 5 और 6 लिखी गई हैं। दिए गए चित्र में इस पासे की दो स्थितियां दर्शाई गई हैं। 2 दशाने वाले फलक के विपरीत वाले फलक पर कौन-सी संख्या होगी?



Ans

- ☒ 1. 4
- ☒ 2. 3
- ☒ 3. 6
- ☒ 4. 1

Question ID : 264330117893

Option 1 ID : 264330463388

Option 2 ID : 264330463389

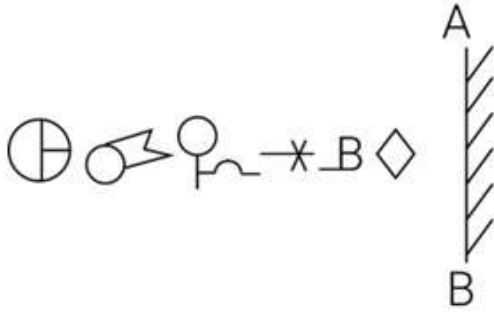
Option 3 ID : 264330463390

Option 4 ID : 264330463387

Status : Answered

Chosen Option : 2

Q.14 दर्पण को चित्र में दिखाए अनुसार 'AB' पर रखे जाने पर दी गई आकृति के सही दर्पण प्रतिबिम्ब का चयन करें।



Ans

- ✗ 1.
- ✗ 2.
- ✗ 3.
- ✓ 4.

Question ID : 264330114698

Option 1 ID : 264330450877

Option 2 ID : 264330450880

Option 3 ID : 264330450878

Option 4 ID : 264330450879

Status : Answered

Chosen Option : 4

Q.15 दिए गए कथनों और निष्कर्षों को ध्यानपूर्वक पढ़ें। यह मानते हुए कि कथनों में दी गई जानकारी सत्य है, भले ही वह सामान्य रूप से ज्ञात तथ्यों से भिन्न प्रतीत होती हो, तय करें कि दिए गए निष्कर्षों में से कौन-सा/से निष्कर्ष कथनों का तार्किक रूप से अनुसरण करता है / करते हैं।

कथन:

कुछ जूते, शर्ट हैं।

सभी शर्ट, जैकेट हैं।

निष्कर्ष:

I. कुछ जूते, जैकेट हैं।

II. सभी जैकेट, जूते हैं।

Ans

- ✗ 1. न तो निष्कर्ष I अनुसरण करता है और न ही II अनुसरण करता है
- ✗ 2. निष्कर्ष I और II दोनों अनुसरण करते हैं
- ✗ 3. केवल निष्कर्ष II अनुसरण करता है
- ✓ 4. केवल निष्कर्ष I अनुसरण करता है

Question ID : 26433068293

Option 1 ID : 264330267687

Option 2 ID : 264330267686

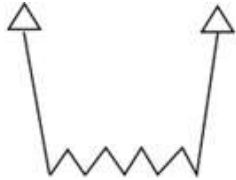
Option 3 ID : 264330267685

Option 4 ID : 264330267684

Status : Answered

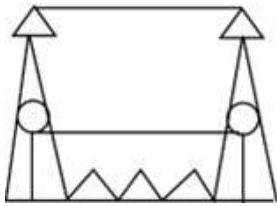
Chosen Option : 4

Q.16 उस विकल्प का चयन करें जिसमें दी गई आकृति अंतर्निहित है (घुमाने की अनुमति नहीं है)।

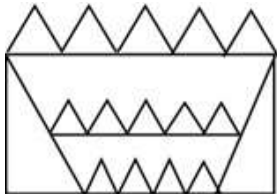


Ans

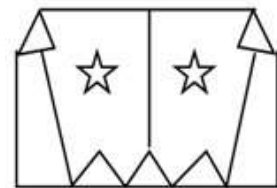
✗ 1.



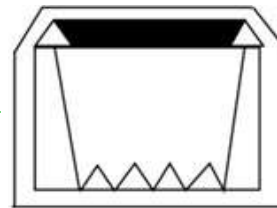
✗ 2.



✗ 3.



✓ 4.



Question ID : 264330111676

Option 1 ID : 264330438792

Option 2 ID : 264330438790

Option 3 ID : 264330438789

Option 4 ID : 264330438791

Status : Answered

Chosen Option : 4

Q.17 निम्नलिखित में से कौन सा पद (अक्षर-समूह) दी गई श्रृंखला में प्रश्न चिह्न (?) के स्थान पर आएगा?
MAF, PCG, SEH, ?, YIJ

Ans ✗ 1. RHI

✗ 2. WHI

✓ 3. VGI

✗ 4. UFI

Question ID : 264330102169

Option 1 ID : 264330401141

Option 2 ID : 264330401144

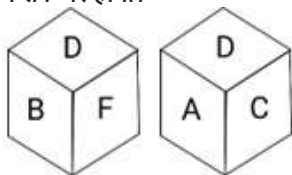
Option 3 ID : 264330401142

Option 4 ID : 264330401143

Status : Answered

Chosen Option : 3

Q.18 एक पासे के अलग-अलग फलकों पर छह अक्षर A, B, C, D, E और F लिखे गए हैं। इस पासे की दो अलग-अलग स्थितियां चित्र में दर्शाई गयी हैं। उस अक्षर का चयन करें जो E वाले फलक के विपरीत फलक पर होगा।



Ans ☒ 1. C

☒ 2. D

☒ 3. A

☒ 4. F

Question ID : 264330121788

Option 1 ID : 264330477325

Option 2 ID : 264330477323

Option 3 ID : 264330477324

Option 4 ID : 264330477326

Status : Answered

Chosen Option : 2

Q.19 निम्नलिखित श्रृंखला में पैटर्न को जारी रखने के लिए किस आकृति द्वारा प्रश्नवाचक चिह्न (?) को प्रतिस्थापित किया जाना चाहिए?

D	Z	V	<input type="checkbox"/>	D	V	V	<input type="checkbox"/>	D	=	V	D	?
=				Z			Z			<input type="checkbox"/>		
<input type="checkbox"/>				=			=			Z		

Ans

✗ 1.

D	=	V
		Z
		<input type="checkbox"/>

✗ 2.

=	Z	D
		V
		<input type="checkbox"/>

✓ 3.

D	=	V
		<input type="checkbox"/>
		Z

✗ 4.

D	Z	=
		V
		<input type="checkbox"/>

Question ID : 264330129629

Option 1 ID : 264330507885

Option 2 ID : 264330507884

Option 3 ID : 264330507882

Option 4 ID : 264330507883

Status : Answered

Chosen Option : 4

Q.20 गणितीय चिह्नों के उस सही संयोजन का चयन करें, जिन्हें दिए गए समीकरण में * चिह्नों के स्थान पर क्रमिक रूप से रखे जाने पर समीकरण संतुलित हो जाएगा।
 $13 * 7 * 32 * 56 * 4 * 73$

Ans ✗ 1. -, ×, +, +, =

✓ 2. ×, -, +, +, =

✗ 3. -, +, +, ×, =

✗ 4. +, ×, -, +, =

Question ID : 26433074788

Option 1 ID : 264330293243

Option 2 ID : 264330293240

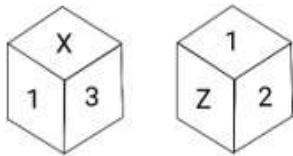
Option 3 ID : 264330293241

Option 4 ID : 264330293242

Status : Answered

Chosen Option : 2

Q.21 एक पासे के विभिन्न फलकों पर तीन संख्याएं, 1, 2 और 3 तथा तीन अक्षर X, Y और Z लिखे गए हैं। इस पासे की दो स्थितियां दी गई आकृति में दिखाई गई हैं। Y अक्षर वाले फलक के विपरीत फलक पर कौन सा/सी अक्षर/संख्या है?



- Ans
- ☒ 1. X
 - ☒ 2. Z
 - ☒ 3. 1
 - ☒ 4. 3

Question ID : 264330116608

Option 1 ID : 264330458520

Option 2 ID : 264330458519

Option 3 ID : 264330458517

Option 4 ID : 264330458518

Status : Answered

Chosen Option : 3

Q.22 दी गई आकृति में कितने त्रिभुज हैं?



- Ans
- ☒ 1. 32
 - ☒ 2. 30
 - ☒ 3. 28
 - ☒ 4. 24

Question ID : 26433080664

Option 1 ID : 264330316589

Option 2 ID : 264330316591

Option 3 ID : 264330316590

Option 4 ID : 264330316592

Status : Answered

Chosen Option : 1

Q.23 उस विकल्प का चयन कीजिए जो चौथी संख्या से उसी प्रकार संबंधित है जिस प्रकार पहली संख्या दूसरी संख्या से संबंधित है और पांचवीं संख्या छठी संख्या से संबंधित है।

17 : 69 :: ? : 109 :: 21 : 85

Ans ☒ 1. 40

☒ 2. 27

☒ 3. 31

☒ 4. 37

Question ID : 26433052023

Option 1 ID : 264330203397

Option 2 ID : 264330203394

Option 3 ID : 264330203395

Option 4 ID : 264330203396

Status : Answered

Chosen Option : 2

Q.24 छह दोस्त - A, B, C, D, E और F - एक वृत्ताकार मेज के परितः मेज के केंद्र की ओर मुख करके बैठे थे। वे एक दूसरे से समान दूरी पर बैठे थे। A, B के दाएं तीसरे स्थान पर बैठा था। E, D के ठीक बाएं बैठा था। A, F और D के ठीक बीच में बैठा था। निम्नलिखित में से कौन D के बाएं तीसरे स्थान पर बैठा था?

Ans ☒ 1. E

☒ 2. C

☒ 3. A

☒ 4. F

Question ID : 26433087005

Option 1 ID : 264330341663

Option 2 ID : 264330341661

Option 3 ID : 264330341664

Option 4 ID : 264330341662

Status : Answered

Chosen Option : 2

Q.25 उस विकल्प का चयन कीजिए जो पांचवें अक्षर समूह से उसी तरह संबंधित है जिस तरह दूसरा अक्षर समूह पहले अक्षर समूह से संबंधित है और चौथा अक्षर समूह तीसरे अक्षर समूह से संबंधित है।
YDVJ : PHMN :: FJBE : WNSI :: PXYS : ?

Ans ☒ 1. JFBT

☒ 2. GMNA

☒ 3. GBPW

☒ 4. PLEX

Question ID : 26433074692

Option 1 ID : 264330292857

Option 2 ID : 264330292859

Option 3 ID : 264330292858

Option 4 ID : 264330292856

Status : Answered

Chosen Option : 3

Q.1 यदि चाय की कीमत 28% बढ़ जाती है, तो इसकी खपत को कितने प्रतिशत (निकटतम पूर्णांक तक सही) कम किया जाना चाहिए, ताकि इस पर खर्च अपरिवर्तित रहे?

- Ans ☒ 1. 21%
☒ 2. 22%
☒ 3. 28%
☒ 4. 27%

Question ID : 264330118051
Option 1 ID : 264330464022
Option 2 ID : 264330464019
Option 3 ID : 264330464020
Option 4 ID : 264330464021
Status : Answered
Chosen Option : 2

Q.2 यदि k , $(k^2 + 3)$ और $(k^3 + 5)$ अभाज्य संख्याएँ हैं, तो k का मान क्या होगा?

- Ans ☒ 1. 3
☒ 2. 7
☒ 3. 2
☒ 4. 4

Question ID : 264330104277
Option 1 ID : 264330409411
Option 2 ID : 264330409409
Option 3 ID : 264330409412
Option 4 ID : 264330409410
Status : Answered
Chosen Option : 3

Q.3 यदि राम के धन का 45% सोहम के धन के 50% में जोड़ा जाता है, तो कुल राशि सोहम के धन का 86% हो जाएगी। सोहम के पास राम के धन का कितना प्रतिशत था?

- Ans ☒ 1. 125%
☒ 2. 85%
☒ 3. 137%
☒ 4. 95%

Question ID : 264330131332
Option 1 ID : 264330514440
Option 2 ID : 264330514439
Option 3 ID : 264330514442
Option 4 ID : 264330514441
Status : Not Answered
Chosen Option : --

Q.4 $\frac{0.061 \times 0.061 \times 0.061 + 0.031 \times 0.031 \times 0.031}{0.061 \times 0.061 - 0.061 \times 0.031 + 0.031 \times 0.031}$ का मान ज्ञात करें।

- Ans ☒ 1. 0.092
☒ 2. 1.8
☒ 3. 0.0081
☒ 4. 0.27

Question ID : 264330104342
Option 1 ID : 264330409669
Option 2 ID : 264330409672
Option 3 ID : 264330409670
Option 4 ID : 264330409671
Status : Answered
Chosen Option : 1

Q.5 5वीं अभाज्य संख्या और 100 से ठीक बाद वाली अभाज्य संख्या का गुणनफल ज्ञात करें।

- Ans ☒ 1. 1261
☒ 2. 1067
☒ 3. 1717
☒ 4. 1111

Question ID : 264330104345
Option 1 ID : 264330409683
Option 2 ID : 264330409681
Option 3 ID : 264330409684
Option 4 ID : 264330409682
Status : Answered
Chosen Option : 2

Q.6 यदि अंकित मूल्य, क्रय मूल्य से 75% अधिक है और अंकित मूल्य पर 40% की छूट दी जाती है, तो प्रतिशत लाभ क्या होगा?

- Ans ☒ 1. 8%
☒ 2. 3%
☒ 3. 5%
☒ 4. 7%

Question ID : 264330126187
Option 1 ID : 264330494421
Option 2 ID : 264330494422
Option 3 ID : 264330494423
Option 4 ID : 264330494420
Status : Answered
Chosen Option : 3

Q.7 अरुण ने ₹525 में 150 अमरुद खरीदे और उन्हें ₹36 प्रति दर्जन की दर से बेच दिया। अरुण का लाभ या हानि प्रतिशत ज्ञात करें। (दशमलव के बाद दो स्थानों तक गणना करें।)

- Ans ☒ 1. 14.29% हानि
☐ 2. 16.67% हानि
☐ 3. 14.29% लाभ
☐ 4. 16.67% लाभ

Question ID : 264330103952
Option 1 ID : 264330408110
Option 2 ID : 264330408112
Option 3 ID : 264330408109
Option 4 ID : 264330408111
Status : Answered
Chosen Option : 1

Q.8 8.3 m लंबे एक ऊर्ध्वाधर खंभे की छाया 4.15 m लंबी है। उस पेड़ की ऊंचाई (m में) ज्ञात कीजिए जिसकी समान परिस्थितियों में 40m लंबी छाया बनती है।

- Ans ☐ 1. 60
☐ 2. 70
☐ 3. 100
☒ 4. 80

Question ID : 264330168549
Option 1 ID : 264330661009
Option 2 ID : 264330661008
Option 3 ID : 264330661007
Option 4 ID : 264330661010
Status : Not Answered
Chosen Option : --

Q.9 24 cm, 17 cm और 9 cm की भुजाओं वाले त्रिभुज का क्षेत्रफल (cm² में) ज्ञात करें।

- Ans ☐ 1. $35\sqrt{2}$
☐ 2. $40\sqrt{3}$
☒ 3. $40\sqrt{2}$
☐ 4. $20\sqrt{2}$

Question ID : 264330126533
Option 1 ID : 264330495806
Option 2 ID : 264330495804
Option 3 ID : 264330495807
Option 4 ID : 264330495805
Status : Answered
Chosen Option : 3

Q.10 किसी देश की प्रारंभिक जनसंख्या 1,87,500 है। यदि जन्म और मृत्यु दर क्रमशः 13% और 9% है, तो 2 वर्ष बाद देश की जनसंख्या ज्ञात कीजिए।

- Ans
- ☒ 1. 2,02,700
 - ☒ 2. 2,03,000
 - ☒ 3. 2,02,800
 - ☒ 4. 2,02,900

Question ID : 264330106009

Option 1 ID : 264330416337

Option 2 ID : 264330416340

Option 3 ID : 264330416338

Option 4 ID : 264330416339

Status : Not Answered

Chosen Option : --

Q.11 एक व्यक्ति 4% वार्षिक साधारण ब्याज पर 2 वर्ष के लिए ₹5,000 उधार लेता है। वह तुरंत इसे दूसरे व्यक्ति को $\frac{25}{4}\%$ वार्षिक की दर पर 2 वर्ष के लिए उधार दे देता है। इस लेन-देन में उसके लाभ (₹ में) की गणना करें।

- Ans
- ☒ 1. 225
 - ☒ 2. 275
 - ☒ 3. 250
 - ☒ 4. 200

Question ID : 264330119421

Option 1 ID : 264330467971

Option 2 ID : 264330467974

Option 3 ID : 264330467972

Option 4 ID : 264330467973

Status : Answered

Chosen Option : 1

Q.12 A, B और C एक कार्य को क्रमशः 8, 10 और 12 दिन में पूरा कर सकते हैं। वे सभी एक साथ कार्य करते हुए उसी कार्य को कितने दिन में पूरा करेंगे?

- Ans
- ☒ 1. $\frac{123}{37}$ दिन
 - ☒ 2. $\frac{130}{37}$ दिन
 - ☒ 3. $\frac{128}{37}$ दिन
 - ☒ 4. $\frac{120}{37}$ दिन

Question ID : 264330103628

Option 1 ID : 264330406819

Option 2 ID : 264330406817

Option 3 ID : 264330406818

Option 4 ID : 264330406820

Status : Answered

Chosen Option : 4

Q.13 30 cm व्यास वाले तौबे के एक ठोस गोले को 10 cm व्यास वाले तार के रूप में खींचा जाता है। तार की लंबाई (cm में) ज्ञात कीजिए।

Ans ☒ 1. 180

☐ 2. 300

☐ 3. 120

☐ 4. 240

Question ID : 264330112445

Option 1 ID : 264330441868

Option 2 ID : 264330441867

Option 3 ID : 264330441865

Option 4 ID : 264330441866

Status : Answered

Chosen Option : 2

Q.14 प्रथम पाँच भाज्य संख्याओं का औसत ज्ञात कीजिए।

Ans ☐ 1. 8.2

☒ 2. 7.4

☐ 3. 6.8

☐ 4. 7.8

Question ID : 264330131439

Option 1 ID : 264330514862

Option 2 ID : 264330514860

Option 3 ID : 264330514859

Option 4 ID : 264330514861

Status : Answered

Chosen Option : 2

Q.15 किसी गंतव्य के लिए एक यात्रा निम्नलिखित तरीके से की जाती है:

- a) 55 km/h की औसत गति से ट्रेन द्वारा 550 km
 - b) 500 km/h की औसत गति से विमान द्वारा 4500 km
 - c) 25 km/h की औसत गति से नाव द्वारा 400 km
 - d) 35 km/h की औसत गति से ऑटो द्वारा 55 km
- पूरी यात्रा की औसत गति क्या है?

Ans ☐ 1. 9600 km/h

☒ 2. $150\frac{135}{256}$ km/h

☐ 3. 3300 km/h

☐ 4. $121\frac{64}{25}$ km/h

Question ID : 264330118133

Option 1 ID : 264330464348

Option 2 ID : 264330464347

Option 3 ID : 264330464350

Option 4 ID : 264330464349

Status : Answered

Chosen Option : 2

Q.1 Which of the following is the foundation of data communication on the web, enabling the transfer of web page content?

- Ans ☒ 1. Hypertext Transfer Protocol
- ☐ 2. Domain Name Server
- ☐ 3. Uniform Resource Locator
- ☐ 4. World Wide Web

Question ID : 264330180801

Option 1 ID : 264330709167

Option 2 ID : 264330709169

Option 3 ID : 264330709170

Option 4 ID : 264330709168

Status : Answered

Chosen Option : 1

Q.2 Which of the following is used to create a New Blank Document?

- Ans ☐ 1. MS-PowerPoint
- ☐ 2. MS-Excel
- ☒ 3. MS-Word
- ☐ 4. MS Outlook

Question ID : 264330178284

Option 1 ID : 264330699193

Option 2 ID : 264330699191

Option 3 ID : 264330699192

Option 4 ID : 264330699194

Status : Answered

Chosen Option : 3

Q.3 Which of the following shortcut keys is used in MS Excel 365 to make the cell in edit mode, allowing you to make changes?

- Ans ☐ 1. Ctrl + F2
- ☒ 2. F2
- ☐ 3. Ctrl + F1
- ☐ 4. F1

Question ID : 264330180413

Option 1 ID : 264330707619

Option 2 ID : 264330707620

Option 3 ID : 264330707622

Option 4 ID : 264330707621

Status : Answered

Chosen Option : 2

Q.4 In MS Excel 365, what is the term for the area that contains specific and formatted data in MS Excel for printing?

- Ans ☒ 1. Print area
- ☐ 2. Print margin
- ☐ 3. View
- ☐ 4. Print preview

Question ID : 264330182119

Option 1 ID : 264330714318

Option 2 ID : 264330714316

Option 3 ID : 264330714315

Option 4 ID : 264330714317

Status : Answered

Chosen Option : 4

Q.5 Which of the following functions in MS Excel 365 removes irregular spacing, leaving one space between each value?

- Ans
- ☐ 1. AVERAGE
 - ☐ 2. SUM
 - ☒ 3. TRIM
 - ☐ 4. VLOOKUP

Question ID : 264330180405

Option 1 ID : 264330707589

Option 2 ID : 264330707587

Option 3 ID : 264330707588

Option 4 ID : 264330707590

Status : Answered

Chosen Option : 3

Q.6 In MS-Word 365, which of the following options allows you to change the font size of selected text to the next larger size available in the font size list?

- Ans
- ☐ 1. Italics
 - ☒ 2. Increase Font Size
 - ☐ 3. Decrease Font Size
 - ☐ 4. Bold

Question ID : 264330173354

Option 1 ID : 264330679898

Option 2 ID : 264330679895

Option 3 ID : 264330679896

Option 4 ID : 264330679897

Status : Answered

Chosen Option : 2

Q.7 In MS word 365 Which of the following options is correct?

- 1) Ctrl + X is used for copying the document
- 2) Ctrl + V is used for moving the document

- Ans
- ☐ 1. Only (1)
 - ☐ 2. Both (1) and (2)
 - ☐ 3. Only (2)
 - ☒ 4. Neither (1) nor (2)

Question ID : 264330175969

Option 1 ID : 264330690171

Option 2 ID : 264330690173

Option 3 ID : 264330690172

Option 4 ID : 264330690174

Status : Answered

Chosen Option : 2

Q.8 Which of the following is a computer-based application for the exchange of messages between users?

- Ans** ☒ 1. Email
☐ 2. Mozilla
☐ 3. Bing
☐ 4. Chrome

Question ID : **264330180792**
Option 1 ID : **264330709131**
Option 2 ID : **264330709134**
Option 3 ID : **264330709133**
Option 4 ID : **264330709132**
Status : **Answered**
Chosen Option : **1**

Q.9 Which of the following is an example of a table style in Microsoft Word 365?

- Ans** ☐ 1. APA (American Psychological Association)
☐ 2. MLA (Modern Language Association)
☒ 3. Plain Grid
☐ 4. Chicago Manual of Style

Question ID : **264330174492**
Option 1 ID : **264330684388**
Option 2 ID : **264330684387**
Option 3 ID : **264330684390**
Option 4 ID : **264330684389**
Status : **Not Answered**
Chosen Option : **--**

Q.10 In MS Word 365 What is the primary purpose of using bullets and numbering in document formatting?

- Ans** ☐ 1. To indicate the importance of specific text.
☒ 2. To organize information into lists or sequences.
☐ 3. To highlight text with a different font or colour.
☐ 4. To adjust the margins and spacing of the document.

Question ID : **264330173328**
Option 1 ID : **264330679791**
Option 2 ID : **264330679792**
Option 3 ID : **264330679793**
Option 4 ID : **264330679794**
Status : **Not Answered**
Chosen Option : **--**