

## DSSSB Exam August 2025

Participant ID	[REDACTED]
Participant Name	[REDACTED]
Test Center Name	ION Digital Zone iDZ 2 Mathura Road
Test Date	23/08/2025
Test Time	9:00 AM - 11:00 AM
Subject	TGT Hindi

## Section : General intelligence and Reasoning Ability

Q.1 A, B, C, D, E और F किसी गोल मेज के परितः केंद्र की ओर अभिमुख होकर बैठे हैं। C, B के बाएं दूसरे स्थान पर बैठा है। A, B का निकटतम पड़ोसी है। D, B के ठीक दाएं पड़ोस में बैठा है। E, C के बाएं दूसरे स्थान पर बैठा है। F, E के ठीक दाएं पड़ोस में बैठा है। F के सापेक्ष A का स्थान कौन-सा है?

- Ans
- 1. ठीक दाएं पड़ोस में
  - 2. बाएं से तीसरा
  - 3. बाएं से दूसरा
  - 4. दाएं से दूसरा

Question ID : 441009801079  
Option 1 ID : 4410093158418  
Option 2 ID : 4410093158419  
Option 3 ID : 4410093158417  
Option 4 ID : 4410093158420

Q.2 यदि '+' का अर्थ '-' है, '-' का अर्थ 'x' है, 'x' का अर्थ '÷' है, और '÷' का अर्थ '+' है, तो निम्नलिखित समीकरण में प्रश्न-चिह्न (?) के स्थान पर क्या आएगा?

$$170 \times 5 \div 18 - 2 + 37 = ?$$

- Ans
- 1. 33
  - 2. 37
  - 3. 43
  - 4. 39

Question ID : 441009980541  
Option 1 ID : 4410093874644  
Option 2 ID : 4410093874645  
Option 3 ID : 4410093874643  
Option 4 ID : 4410093874642

Q.3 एक ही पंक्ति में, उत्तर दिशा की अभिमुख होकर खड़े 31 विद्यार्थियों में, सुमन बाएं सिरे से 13<sup>वें</sup> स्थान पर है। यदि डेविड, सुमन के दाएं 9<sup>वें</sup> स्थान पर है, तो डेविड पंक्ति के दाएं सिरे से किस स्थान पर है?

- Ans
- 1. 6<sup>वें</sup>
  - 2. 8<sup>वें</sup>
  - 3. 7<sup>वें</sup>
  - 4. 10<sup>वें</sup>

Question ID : 441009981597  
Option 1 ID : 4410093878854  
Option 2 ID : 4410093878856  
Option 3 ID : 4410093878855  
Option 4 ID : 4410093878857

Q.4 यदि 'P' का अर्थ '-' है, 'Q' का अर्थ '×' है, 'C' का अर्थ '÷' है और 'D' का अर्थ '+' है, तो दिए गए समीकरण में प्रश्न-चिह्न (?) के स्थान पर क्या आएगा?

27 D 16 C 8 Q 17 P 31 = ?

Ans ✓ 1. 30

✗ 2. 50

✗ 3. 40

✗ 4. 20

Question ID : 441009551422  
Option 1 ID : 4410092161002  
Option 2 ID : 4410092161003  
Option 3 ID : 4410092161005  
Option 4 ID : 4410092161004

Q.5 यह प्रश्न दिए गए शब्दों पर आधारित है।

RAT SIN OAK ARM

दाएं से दूसरे शब्द के दूसरे अक्षर और बाएं से दूसरे शब्द के तीसरे अक्षर के बीच अंग्रेजी वर्णमाला क्रम में कितने अक्षर हैं?

Ans ✓ 1. 12

✗ 2. 10

✗ 3. 13

✗ 4. 11

Question ID : 441009817909  
Option 1 ID : 4410093225759  
Option 2 ID : 4410093225762  
Option 3 ID : 4410093225760  
Option 4 ID : 4410093225761

Q.6 अंग्रेजी वर्णमाला क्रम पर आधारित, निम्नलिखित चार अक्षर-समूहों में से तीन निश्चित तरीके से एकसमान हैं और इस प्रकार एक गुप बनाते हैं। कौन-सा अक्षर-समूह, उस गुप से संबंधित नहीं है?

(नोट: असंगत अक्षर-समूह, व्यंजनों/स्वरों की संख्या या अक्षर-समूह में उनकी स्थिति पर आधारित नहीं है।)

Ans ✗ 1. JON

✗ 2. DIH

✓ 3. PTU

✗ 4. AFE

Question ID : 441009810500  
Option 1 ID : 4410093196124  
Option 2 ID : 4410093196126  
Option 3 ID : 4410093196125  
Option 4 ID : 4410093196123

Q.7 एक निश्चित कूट भाषा में, 'DINE' को '4619' के रूप में और 'EDIT' को '6412' के रूप में कूटबद्ध किया जाता है। दी गई कूट भाषा में, 'T' का कूट क्या होगा?

Ans ✗ 1. 6

✓ 2. 2

✗ 3. 4

✗ 4. 1

Question ID : 441009981586  
Option 1 ID : 4410093878813  
Option 2 ID : 4410093878810  
Option 3 ID : 4410093878812  
Option 4 ID : 4410093878811

Q.8 यह प्रश्न नीचे दी गई पाँच, तीन-अंक वाली संख्याओं पर आधारित है।

(बाएं) 843 863 810 809 821 (दाएं)

(उदाहरण: 697 - पहला अंक = 6, दूसरा अंक = 9 और तीसरा अंक = 7)

(नोट: सभी संक्रियाएँ बाएं से दाएं की जानी चाहिए।)

यदि सबसे बड़ी संख्या के दूसरे अंक को सबसे छोटी संख्या के तीसरे अंक में जोड़ा जाए, तो परिणाम क्या होगा?

Ans  1. 13

2. 15

3. 11

4. 16

Question ID : 441009806168

Option 1 ID : 4410093178796

Option 2 ID : 4410093178797

Option 3 ID : 4410093178795

Option 4 ID : 4410093178798

Q.9 अंग्रेजी वर्णमाला क्रम पर आधारित, निम्नलिखित चार अक्षर-समूह युग्मों में से तीन निश्चित तरीके से एकसमान हैं और इस प्रकार एक गुप बनाते हैं। कौन-सा अक्षर-समूह युग्म, उस गुप से संबंधित नहीं है?

(नोट: असंगत अक्षर-समूह युग्म, व्यंजनों/स्वरों की संख्या या अक्षर-समूह में उनकी स्थिति पर आधारित नहीं है।)

Ans  1. JM-FH

2. TW-PS

3. NQ-JL

4. QT-MO

Question ID : 441009817121

Option 1 ID : 4410093222610

Option 2 ID : 4410093222607

Option 3 ID : 4410093222609

Option 4 ID : 4410093222608

Q.10 दिए गए कथनों और निष्कर्षों को ध्यानपूर्वक पढ़िए। यह मानते हुए कि कथनों में दी गई जानकारी सत्य है, भले ही वह सामान्यतः ज्ञात तथ्यों से भिन्न प्रतीत होती हो, तय कीजिए कि दिए गए निष्कर्षों में से कौन-से निष्कर्ष कथनों का तार्किक रूप से अनुसरण करते हैं?

कथन:

सभी शेर, भालू हैं।

कुछ शेर, बाघ हैं।

कोई भी शेर, घोड़ा नहीं है।

निष्कर्ष:

I. सभी भालू, शेर हैं।

II. कोई भी बाघ, घोड़ा नहीं है।

Ans  1. केवल निष्कर्ष II अनुसरण करता है।

2. निष्कर्ष I और निष्कर्ष II दोनों अनुसरण करते हैं।

3. न तो निष्कर्ष I और न ही निष्कर्ष II अनुसरण करता है।

4. केवल निष्कर्ष I अनुसरण करता है।

Question ID : 441009815212

Option 1 ID : 4410093214973

Option 2 ID : 4410093214974

Option 3 ID : 4410093214971

Option 4 ID : 4410093214972

Q.11 नीचे संख्याओं के दो सेट दिए गए हैं। संख्याओं के प्रत्येक सेट में, पहली संख्या पर निश्चित गणितीय संक्रियाएं करके दूसरी संख्या प्राप्त की गई है। इसी प्रकार, दूसरी संख्या पर निश्चित गणितीय संक्रियाएं करके तीसरी संख्या प्राप्त की गई है, और इसी आधार पर आगे की संख्याएं भी प्राप्त की गई हैं। दिए गए विकल्पों में से कौन-सा विकल्प, दिए गए सेटों में अनुसरण किए गए, संक्रियाओं के समान सेट का अनुसरण करता है?

(नोट: संख्याओं को उनके घटक अंकों में तोड़े बिना संक्रियाएं, पूर्ण संख्याओं पर की जानी चाहिए। उदाहरण के लिए 13 लीजिए - 13 पर संक्रियाएं जैसे कि 13 में जोड़ना/घटाना/गुणा करना, की जा सकती हैं। 13 को 1 और 3 में तोड़ना तथा फिर 1 और 3 पर गणितीय संक्रियाएं करना अनुमत नहीं है।)

2 - 4 - 8 -16; 3 - 6 - 12 - 24

Ans  1. 5 - 10 - 20 - 40

2. 6 - 12 - 18 - 24

3. 7 - 14 - 35 - 42

4. 4 - 8 - 20 - 40

Question ID : 441009588585

Option 1 ID : 4410092309466

Option 2 ID : 4410092309467

Option 3 ID : 4410092309469

Option 4 ID : 4410092309468

Q.12 G, H, I, J, M, N और O में से प्रत्येक की परीक्षा, सोमवार से शुरू होकर उसी सप्ताह के रविवार को समाप्त होने वाले एक ही सप्ताह अलग-अलग दिन है। I और O के बीच केवल तीन व्यक्तियों की परीक्षा है। M और N के बीच केवल तीन व्यक्तियों की परीक्षा है। J की परीक्षा, O से पहले किसी दिन और H के बाद किसी दिन है। N से पहले केवल G की परीक्षा है। J से पहले कितने व्यक्तियों की परीक्षा है?

Ans  1. एक

2. तीन

3. चार

4. दो

Question ID : 441009981601

Option 1 ID : 4410093878870

Option 2 ID : 4410093878872

Option 3 ID : 4410093878873

Option 4 ID : 4410093878871

Q.13 अंग्रेजी वर्णमाला क्रम के आधार पर दी गई श्रृंखला में प्रश्न चिह्न (?) के स्थान पर क्या आना चाहिए?

PIM RKO TMQ VOS ?

Ans  1. XQU

2. XRV

3. XQV

4. XRU

Question ID : 4410091133749

Option 1 ID : 4410094470309

Option 2 ID : 4410094470312

Option 3 ID : 4410094470310

Option 4 ID : 4410094470311

Q.14 नीचे संख्याओं के दो सेट दिए गए हैं। संख्याओं के प्रत्येक सेट में, पहली संख्या पर निश्चित गणितीय संक्रियाएं करके दूसरी संख्या प्राप्त की गई है। इसी प्रकार, दूसरी संख्या पर निश्चित गणितीय संक्रियाएं करके तीसरी संख्या प्राप्त की गई है, और इसी आधार पर आगे की संख्याएं भी प्राप्त की गई हैं। दिए गए विकल्पों में से कौन-सा विकल्प, दिए गए सेटों में अनुसरण किए गए, संक्रियाओं के समान सेट का अनुसरण करता है?

(नोट - दो/तीन अंकों की संख्या को संक्रियाओं के लिए अलग-अलग अंकों में नहीं तोड़ा जा सकता है, उदाहरण के लिए, यदि 37 के बाद 10 आता है, तो संक्रिया 3 + 7 नहीं हो सकती है क्योंकि दो अंकों की संख्या को अलग-अलग अंकों में नहीं तोड़ा जा सकता है।)

10 - 17 - 102 - 93  
38 - 45 - 270 - 261

Ans  1. 45 - 52 - 312 - 303

2. 22 - 29 - 232 - 224

3. 41 - 49 - 294 - 286

4. 42 - 48 - 240 - 231

Question ID : 441009552220  
Option 1 ID : 4410092164194  
Option 2 ID : 4410092164197  
Option 3 ID : 4410092164195  
Option 4 ID : 4410092164196

Q.15 दिए गए कथनों और निष्कर्षों को ध्यानपूर्वक पढ़िए। यह मानते हुए कि कथनों में दी गई जानकारी सत्य है, भले ही वह सामान्यतः ज्ञात तथ्यों से भिन्न प्रतीत होती हो, तय कीजिए कि दिए गए निष्कर्षों में से कौन-से निष्कर्ष कथनों का तार्किक रूप से अनुसरण करते हैं?

कथन:

कुछ रेलगाड़ियाँ, दरवाजे हैं।

कुछ कारें, रेलगाड़ियाँ हैं।

कोई भी दरवाजा, सड़क नहीं है।

निष्कर्ष:

(I) कुछ कारें, दरवाजे हैं।

(II) कुछ कारें, सड़कें नहीं हैं।

Ans  1. निष्कर्ष (I) और निष्कर्ष (II) दोनों अनुसरण करते हैं।

2. न तो निष्कर्ष (I) और न ही निष्कर्ष (II) अनुसरण करता है।

3. केवल निष्कर्ष (I) अनुसरण करता है।

4. केवल निष्कर्ष (II) अनुसरण करता है।

Question ID : 441009796900  
Option 1 ID : 4410093141602  
Option 2 ID : 4410093141601  
Option 3 ID : 4410093141599  
Option 4 ID : 4410093141600

Q.16 अंग्रेजी वर्णमाला क्रम के आधार पर दी गई श्रृंखला में प्रश्न चिह्न (?) के स्थान पर क्या आना चाहिए?

OHM QJO SLQ UNS ?

Ans  1. WOV

2. WOU

3. WPV

4. WPU

Question ID : 4410091133747  
Option 1 ID : 4410094470304  
Option 2 ID : 4410094470303  
Option 3 ID : 4410094470302  
Option 4 ID : 4410094470301

Q.17 दी गई श्रृंखला में प्रश्न-चिह्न (?) के स्थान पर क्या आना चाहिए?

20, 34, 62, 104, 160, ?

- Ans
- 1. 231
  - 2. 233
  - 3. 232
  - 4. 230

Question ID : 4410091133736  
Option 1 ID : 4410094470258  
Option 2 ID : 4410094470260  
Option 3 ID : 4410094470259  
Option 4 ID : 4410094470257

Q.18 किसी निश्चित कूट भाषा में,

'A + B' का अर्थ है कि 'A, B का पुत्र है',  
'A - B' का अर्थ है कि 'A, B का भाई है',  
'A × B' का अर्थ है कि 'A, B की पत्नी है' और  
'A ÷ B' का अर्थ है कि 'A, B का पिता है'।

उपरोक्त के आधार पर, यदि 'D + F ÷ G - H × J' है, तो D का J से क्या संबंध है?

- Ans
- 1. पत्नी के पिता
  - 2. पिता
  - 3. पत्नी का भाई
  - 4. भाई

Question ID : 441009803745  
Option 1 ID : 4410093169104  
Option 2 ID : 4410093169106  
Option 3 ID : 4410093169103  
Option 4 ID : 4410093169105

Q.19 मयंक बिंदु A से गाड़ी चलाना शुरू करता है और दक्षिण की ओर 25 km गाड़ी चलाता है। फिर वह दाएँ मुड़ता है और 29 km गाड़ी चलाता है, फिर दाएँ मुड़ता है और 30 km गाड़ी चलाता है। फिर वह दाएँ मुड़ता है और 31 km गाड़ी चलाता है। अंत में वह दाएँ मुड़ता है और 5 km गाड़ी चलाता है और बिंदु P पर रुक जाता है। बिंदु A पर पुनः पहुँचने के लिए उसे कितनी दूरी (सबसे कम दूरी) और किस दिशा में गाड़ी चलानी चाहिए? (जब तक अन्यथा निर्दिष्ट न किया गया हो, सभी मोड़ केवल 90-डिग्री के मोड़ हैं।)

- Ans
- 1. 4 km, पश्चिम की ओर
  - 2. 2 km, पश्चिम की ओर
  - 3. 1 km, पश्चिम की ओर
  - 4. 3 km, पश्चिम की ओर

Question ID : 441009813140  
Option 1 ID : 4410093206686  
Option 2 ID : 4410093206684  
Option 3 ID : 4410093206683  
Option 4 ID : 4410093206685

Q.20 दी गई जानकारी को ध्यानपूर्वक पढ़ें और नीचे दिए गए प्रश्न का उत्तर दें। आपको दी गई सभी जानकारी को सत्य मानना होगा।

गांव E में जलजनित रोगों की घटनाओं में पिछले वर्ष की तुलना में तेजी से वृद्धि हुई है। एक जन स्वास्थ्य अन्वेषण ने इस वृद्धि को गांव के मुख्य जल स्रोत का सीवेज द्वारा संदूषित होने से जोड़ा है। स्वास्थ्य अधिकारी आगे संदूषण को रोकने के लिए गांव की सीवेज प्रणाली की तत्काल मरम्मत और अपग्रेडिंग की संस्तुति करते हैं।

दी गई जानकारी से निम्नलिखित में से कौन-सा निष्कर्ष निकाला जा सकता है?

- I. गांव E में सीवेज द्वारा जल स्रोत का संदूषण जलजनित रोगों को बढ़ावा देता है।  
II. गांव E के निवासी जल्द ही गांव खाली कर देंगे।

- Ans  1. न तो I और न ही II अनुसरण करता है।  
 2. I और II दोनों अनुसरण करते हैं।  
 3. केवल I अनुसरण करता है।  
 4. केवल II अनुसरण करता है।

Question ID : 441009477562  
Option 1 ID : 4410091865655  
Option 2 ID : 4410091865656  
Option 3 ID : 4410091865653  
Option 4 ID : 4410091865654

Section : General Awareness

Q.1 निम्नलिखित में से किस विपणन चैनल का संबंध आंध्र प्रदेश से है, जिसकी स्थापना वर्ष 1999 में उपभोक्ताओं और किसानों के बीच प्रत्यक्ष विपणन की सुविधा के लिए की गई थी?

- Ans  1. हाड़पसार मंडी (Hadaspar Mandi)  
 2. अपनी मनही (Apni Manhi)  
 3. रायथु बाज़ार (Rythu Bazars)  
 4. उझावरमंडी (Uzhavar Sandies)

Question ID : 441009628048  
Option 1 ID : 4410092466347  
Option 2 ID : 4410092466344  
Option 3 ID : 4410092466345  
Option 4 ID : 4410092466346

Q.2 SDG इंडिया इंडेक्स 2023-24 में, भारत में किस सतत विकास लक्ष्य में सबसे महत्वपूर्ण सुधार प्रदर्शित हुआ?

- Ans  1. शिक्षा की गुणवत्ता  
 2. लैंगिक समानता  
 3. शून्य भूख स्तर  
 4. जलवायु कार्रवाई

Question ID : 441009995640  
Option 1 ID : 4410093934583  
Option 2 ID : 4410093934582  
Option 3 ID : 4410093934584  
Option 4 ID : 4410093934581

Q.3 जिन कोशिकांग में अपना स्वयं का डीएनए (DNA) होता है, वे \_\_\_\_\_ हैं।

- Ans
- 1. गॉल्जीकाय और हरितलवक
  - 2. सूत्रकणिका और हरितलवक
  - 3. हरितलवक और अवर्णालवक
  - 4. सूत्रकणिका और गॉल्जीकाय

Question ID : 4410091050743  
Option 1 ID : 4410094152042  
Option 2 ID : 4410094152043  
Option 3 ID : 4410094152044  
Option 4 ID : 4410094152041

Q.4 भारत में, हिमालय के निम्नलिखित में से किस शिखर की ऊंचाई नंगा पर्वत से अधिक है?

- Ans
- 1. कंचनजंगा (Kanchenjunga)
  - 2. नंदा देवी (Nanda Devi)
  - 3. कामत (Kamet)
  - 4. नामचा बरवा (Namcha Barwa)

Question ID : 441009974964  
Option 1 ID : 4410093852900  
Option 2 ID : 4410093852898  
Option 3 ID : 4410093852899  
Option 4 ID : 4410093852897

Q.5 निम्नलिखित में से किस महान योद्धा और प्रशासक ने उत्तर में एक साम्राज्य स्थापित किया?

- Ans
- 1. करिकाल
  - 2. दन्तिदुर्ग
  - 3. पुलकेशिन द्वितीय
  - 4. हर्षवर्धन

Question ID : 441009972609  
Option 1 ID : 4410093843478  
Option 2 ID : 4410093843480  
Option 3 ID : 4410093843479  
Option 4 ID : 4410093843477

Q.6 1990 के दशक के सुधारों के बाद से उदारीकरण ने भारत में व्यापार नीतियों को कैसे प्रभावित किया?

- Ans
- 1. केवल घरेलू बाजारों पर ध्यान केंद्रित करके
  - 2. व्यापार बाधाओं को दूर करके और विदेशी निवेश को प्रोत्साहित करके
  - 3. सभी आयातों पर टैरिफ बढ़ाकर
  - 4. अंतर्राष्ट्रीय व्यापार पर प्रतिबंध लगाकर

Question ID : 44100921698  
Option 1 ID : 44100986541  
Option 2 ID : 44100986540  
Option 3 ID : 44100986542  
Option 4 ID : 44100986539

Q.7 मौलिक कर्तव्यों के संबंध में निम्नलिखित कथनों पर विचार करें और सही विकल्प का चयन करें।

A. मौलिक कर्तव्य भारतीय संविधान का हिस्सा हैं।

B. मौलिक कर्तव्यों को रिट अधिकारिता के माध्यम से अधिनियमित किया जा सकता है।

- Ans
- 1. A सही है लेकिन B सही नहीं है
  - 2. A और B दोनों सही हैं
  - 3. B सही है लेकिन A सही नहीं है
  - 4. न तो A और न ही B सही है

Question ID : 441009973799  
Option 1 ID : 4410093848237  
Option 2 ID : 4410093848239  
Option 3 ID : 4410093848238  
Option 4 ID : 4410093848240

Q.8 निम्नलिखित में से कौन-सा विकल्प, बीमारी के दौरान पोषणज देखभाल प्रक्रिया का हिस्सा नहीं है?

- Ans
- 1. पोषणज देखभाल परिणामों का मॉनिटर और मूल्यांकन
  - 2. पोषणज संबंधी आवश्यकताओं की उपेक्षा
  - 3. पोषणज संबंधी समस्याओं का निदान
  - 4. पोषणज संबंधी स्थिति का आकलन

Question ID : 4410091050466  
Option 1 ID : 4410094150936  
Option 2 ID : 4410094150935  
Option 3 ID : 4410094150934  
Option 4 ID : 4410094150933

Q.9 जम्मू और कश्मीर में लगभग 2.6 मिलियन लोगों द्वारा, निम्नलिखित में से कौन-सी भाषा बोली जाती है?

- Ans
- 1. पंजाबी
  - 2. उर्दू
  - 3. कश्मीरी
  - 4. डोगरी

Question ID : 441009232594  
Option 1 ID : 441009908809  
Option 2 ID : 441009908810  
Option 3 ID : 441009908807  
Option 4 ID : 441009908808

Q.10 कौन-सा वाद्य यंत्र आमतौर पर कथक संगीत से जुड़ा नहीं है?

- Ans
- 1. सारंगी
  - 2. पखवावज
  - 3. मृदंगम
  - 4. तबला

Question ID : 44100950389  
Option 1 ID : 441009200784  
Option 2 ID : 441009200785  
Option 3 ID : 441009200786  
Option 4 ID : 441009200783

Q.11 पेरिस पैरालंपिक 2024 में, भारत ने कुल कितने स्वर्ण पदक जीते?

- Ans  1. 11  
 2. 7  
 3. 9  
 4. 5

Question ID : 441009995658  
Option 1 ID : 4410093934656  
Option 2 ID : 4410093934654  
Option 3 ID : 4410093934655  
Option 4 ID : 4410093934653

Q.12 निम्नलिखित में से कौन-सी शास्त्रीय नृत्य शैली, पारंपरिक रूप से वैष्णववादी आंदोलन से संबंधित है, जिसकी उत्पत्ति असम में हुई है?

- Ans  1. ओडिसी  
 2. मणिपुरी  
 3. कथक  
 4. सत्रिया

Question ID : 441009232500  
Option 1 ID : 441009908432  
Option 2 ID : 441009908431  
Option 3 ID : 441009908433  
Option 4 ID : 441009908434

Q.13 भारत में राष्ट्रीय हरित हाइड्रोजन मिशन के संबंध में निम्नलिखित में से कौन-सा कथन सही नहीं है?

1. इस मिशन का लक्ष्य 2030 तक हरित हाइड्रोजन की 50 मिलियन टन प्रति वर्ष की लक्षित उत्पादन क्षमता प्राप्त कर लेना है।
2. इस योजना का नोडल मंत्रालय, नवीन और नवीकरणीय ऊर्जा मंत्रालय है।

- Ans  1. 1 और 2 दोनों  
 2. केवल 1  
 3. केवल 2  
 4. न तो 1 और न ही 2

Question ID : 441009228599  
Option 1 ID : 441009894048  
Option 2 ID : 441009894046  
Option 3 ID : 441009894047  
Option 4 ID : 441009894049

Q.14 निम्नलिखित में से कौन, चालुक्य वंश का शासक था?

- Ans  1. पुलकेशिन द्वितीय (Pulakeshin II)  
 2. भानुगुप्त (Bhanugupt)  
 3. यशोधर्मन (Yashodharman)  
 4. महापद्मनंद (Mahapadma Nanda)

Question ID : 441009972610  
Option 1 ID : 4410093843481  
Option 2 ID : 4410093843482  
Option 3 ID : 4410093843484  
Option 4 ID : 4410093843483

Q.15 बॉम्बे उच्च न्यायालय के पास, निम्नलिखित में से किन दो केंद्र शासित प्रदेशों का क्षेत्राधिकार है?

- Ans  1. दादरा और नगर हवेली तथा दमन और दीव  
 2. पुडुचेरी और लक्षद्वीप  
 3. दिल्ली और चंडीगढ़  
 4. कवरत्ती और पुडुचेरी

Question ID : 441009973619  
Option 1 ID : 4410093847517  
Option 2 ID : 4410093847519  
Option 3 ID : 4410093847520  
Option 4 ID : 4410093847518

Q.16 भारत में स्वतंत्रता संग्राम के दौरान सी.आर. दास और मोतीलाल नेहरू निम्नलिखित में से किस समूह से जुड़े थे?

- Ans  1. किसान मजदूर प्रजा पार्टी  
 2. ऑल इंडिया फॉरवर्ड ब्लॉक  
 3. अखिल भारत हिंदू महासभा  
 4. स्वराज पार्टी

Question ID : 441009973032  
Option 1 ID : 4410093845170  
Option 2 ID : 4410093845169  
Option 3 ID : 4410093845171  
Option 4 ID : 4410093845172

Q.17 वैश्वीकरण और वस्तुओं एवं सेवाओं की आवाजाही के बीच निम्नलिखित में से क्या संबंध है?

- Ans  1. वैश्वीकरण सीमाओं के पार वस्तुओं एवं सेवाओं की आवाजाही को सुगम बनाता है।  
 2. वैश्वीकरण का वस्तुओं एवं सेवाओं की आवाजाही पर कोई प्रभाव नहीं पड़ता है।  
 3. वैश्वीकरण केवल सेवाओं की आवाजाही को प्रभावित करता है, वस्तुओं की नहीं।  
 4. वैश्वीकरण, वस्तुओं एवं सेवाओं की आवाजाही को प्रतिबंधित करता है।

Question ID : 441009627937  
Option 1 ID : 4410092465902  
Option 2 ID : 4410092465901  
Option 3 ID : 4410092465903  
Option 4 ID : 4410092465900

Q.18 वर्ष 2019 में, निम्नलिखित में से किस राज्य में प्रति 1000 जीवित जन्मों पर शिशु मृत्यु दर सबसे निम्न (धनात्मक) थी?

- Ans  1. केरल  
 2. कर्नाटक  
 3. नागालैंड  
 4. गोवा

Question ID : 441009974871  
Option 1 ID : 4410093852526  
Option 2 ID : 4410093852527  
Option 3 ID : 4410093852525  
Option 4 ID : 4410093852528

Q.19 राष्ट्रीय हरित अधिकरण की स्थापना किस वर्ष की गई थी?

- Ans  1. 2000  
 2. 2010  
 3. 1989  
 4. 1990

Question ID : 441009973651  
Option 1 ID : 4410093847646  
Option 2 ID : 4410093847645  
Option 3 ID : 4410093847647  
Option 4 ID : 4410093847648

Q.20 भारत में, रानीगंज में वाणिज्यिक कोयला खनन किस वर्ष शुरू हुआ?

- Ans  1. 1804  
 2. 1774  
 3. 1770  
 4. 1780

Question ID : 441009235610  
Option 1 ID : 441009920870  
Option 2 ID : 441009920868  
Option 3 ID : 441009920867  
Option 4 ID : 441009920869

Section : Arithmetical and Numerical Ability

Q.1  $\frac{0.7 \times 0.7 \times 0.7 - 0.07 \times 0.07 \times 0.07}{7 \times 7 \times 7}$  को सरल कीजिए।<sup>129</sup>

- Ans  1. 0.999  
 2. 0.000999  
 3. 999  
 4. 0.0999

Question ID : 441009928521  
Option 1 ID : 4410093668058  
Option 2 ID : 4410093668060  
Option 3 ID : 4410093668057  
Option 4 ID : 4410093668059

Q.2  $0.\overline{678} \times 0.\overline{58}$  का मान ज्ञात कीजिए।

- Ans
- 1.  $\frac{13106}{65934}$
  - 2.  $\frac{13108}{32967}$
  - 3.  $\frac{13118}{32967}$
  - 4.  $\frac{26216}{32977}$

Question ID : 441009928536  
 Option 1 ID : 4410093668118  
 Option 2 ID : 4410093668117  
 Option 3 ID : 4410093668119  
 Option 4 ID : 4410093668120

Q.3 विराट ने 20% वार्षिक चक्रवृद्धि ब्याज दर पर ₹34,400 जमा किए। 2 वर्षों के बाद विराट को प्राप्त कुल राशि (₹ में) कितनी होगी?

- Ans
- 1. 49,536
  - 2. 49,707
  - 3. 49,456
  - 4. 49,508

Question ID : 441009184815  
 Option 1 ID : 441009730603  
 Option 2 ID : 441009730605  
 Option 3 ID : 441009730606  
 Option 4 ID : 441009730604

Q.4 फर्नीचर की तीन वस्तुओं का औसत मूल्य ₹17,760 है। यदि उनके मूल्यों का अनुपात 3 : 5 : 7 है, तो सबसे सस्ती वस्तु का मूल्य (₹ में) कितना है?

- Ans
- 1. 10,656
  - 2. 8,288
  - 3. 5,920
  - 4. 3,552

Question ID : 441009910479  
 Option 1 ID : 4410093596167  
 Option 2 ID : 4410093596170  
 Option 3 ID : 4410093596169  
 Option 4 ID : 4410093596168

Q.5 एक संख्या में 50% की वृद्धि करने पर 3990 प्राप्त होता है। संख्या ज्ञात कीजिए।

- Ans
- 1. 7980
  - 2. 1330
  - 3. 2660
  - 4. 5320

Question ID : 441009895619  
 Option 1 ID : 4410093536549  
 Option 2 ID : 4410093536548  
 Option 3 ID : 4410093536546  
 Option 4 ID : 4410093536547

Q.6 दो पाइप A और B, एक टैंक को क्रमशः 29 घंटे और 12 घंटे में भर सकते हैं। यदि दोनों पाइपों को एक साथ खोल दिया जाए, तो टैंक को भरने में कितना समय लगेगा?

- Ans
- 1.  $11\frac{20}{41}$  घंटे
  - 2.  $15\frac{20}{41}$  घंटे
  - 3.  $8\frac{20}{41}$  घंटे
  - 4.  $16\frac{20}{41}$  घंटे

Question ID : 441009913844  
 Option 1 ID : 4410093609628  
 Option 2 ID : 4410093609630  
 Option 3 ID : 4410093609627  
 Option 4 ID : 4410093609629

Q.7 एक संख्या में 60% की वृद्धि करने पर 2400 प्राप्त होता है। संख्या ज्ञात कीजिए।

- Ans
- 1. 4500
  - 2. 1500
  - 3. 3000
  - 4. 750

Question ID : 441009895618  
 Option 1 ID : 4410093536545  
 Option 2 ID : 4410093536542  
 Option 3 ID : 4410093536543  
 Option 4 ID : 4410093536544

Q.8 एक समचतुर्भुज के विकर्ण क्रमशः 71 cm और 52 cm हैं। समचतुर्भुज का क्षेत्रफल (cm<sup>2</sup> में) ज्ञात कीजिए।

- Ans
- 1. 1882
  - 2. 1828
  - 3. 1856
  - 4. 1846

Question ID : 441009593422  
 Option 1 ID : 4410092328807  
 Option 2 ID : 4410092328806  
 Option 3 ID : 4410092328808  
 Option 4 ID : 4410092328805

Q.9 एक कक्षा के 29 विद्यार्थियों की औसत आयु 15 वर्ष है। यदि शिक्षक की आयु भी शामिल कर ली जाए, तो संपूर्ण समूह की औसत आयु 16 वर्ष हो जाती है। शिक्षक की आयु (वर्ष में) ज्ञात कीजिए।

- Ans
- 1. 43
  - 2. 46
  - 3. 48
  - 4. 45

Question ID : 441009583018  
 Option 1 ID : 4410092287199  
 Option 2 ID : 4410092287200  
 Option 3 ID : 4410092287201  
 Option 4 ID : 4410092287198

Q.10 दो विद्यार्थी एक परीक्षा में शामिल हुए। उनमें से एक ने दूसरे से 4 अंक अधिक प्राप्त किए और उसके अंक उनके अंकों के योग का 58% था। उन दोनों के द्वारा प्राप्त अंकों का योग कितना था?

- Ans
- 1. 21
  - 2. 29
  - 3. 25
  - 4. 26

Question ID : 441009895474  
Option 1 ID : 4410093535968  
Option 2 ID : 4410093535969  
Option 3 ID : 4410093535966  
Option 4 ID : 4410093535967

Q.11 A किसी काम को 11 दिन में पूरा कर सकता है और B उसी काम को 29 दिन में पूरा कर सकता है। यदि पहले दिन काम की शुरुआत B से करते हुए वे एकांतर दिनों पर काम करते हैं, तो उन्हें काम पूरा करने में कितना समय (दिन में) लगेगा?

- Ans
- 1.  $15\frac{28}{29}$
  - 2.  $15\frac{1}{28}$
  - 3.  $14\frac{28}{29}$
  - 4.  $14\frac{1}{28}$

Question ID : 441009623753  
Option 1 ID : 4410092449144  
Option 2 ID : 4410092449147  
Option 3 ID : 4410092449145  
Option 4 ID : 4410092449146

Q.12 दो पाइप A और B, एक टंकी को क्रमशः 40 घंटे और 10 घंटे में भर सकते हैं। यदि दोनों पाइपों को एक साथ चालू कर दिया जाए, तो टंकी को भरने में लगने वाला समय ज्ञात कीजिए।

- Ans
- 1. 16 घंटे
  - 2. 26 घंटे
  - 3. 8 घंटे
  - 4. 2 घंटे

Question ID : 441009913843  
Option 1 ID : 4410093609625  
Option 2 ID : 4410093609626  
Option 3 ID : 4410093609623  
Option 4 ID : 4410093609624

Q.13 निम्नलिखित में से कौन-सी संख्या, 62 से विभाज्य है?

- Ans
- 1. 593526
  - 2. 591612
  - 3. 594818
  - 4. 594454

Question ID : 441009911667  
Option 1 ID : 4410093600919  
Option 2 ID : 4410093600921  
Option 3 ID : 4410093600922  
Option 4 ID : 4410093600920

Q.14 यदि ₹3,200 अंकित मूल्य वाली एक वस्तु को ₹480 में बेचा जाता है, तो छूट प्रतिशत कितना है?

- Ans
- 1. 83%
  - 2. 87%
  - 3. 84%
  - 4. 85%

Question ID : 441009893840  
Option 1 ID : 4410093529432  
Option 2 ID : 4410093529433  
Option 3 ID : 4410093529431  
Option 4 ID : 4410093529430

Q.15 x का वह मान ज्ञात कीजिए जो  $(5^x) \times (25^{18}) \times (125^4) = (625^{13})$  को संतुष्ट करता हो।

- Ans
- 1. 3
  - 2. 4
  - 3. 13
  - 4. -4

Question ID : 441009914366  
Option 1 ID : 4410093611716  
Option 2 ID : 4410093611715  
Option 3 ID : 4410093611717  
Option 4 ID : 4410093611718

Q.16 2133 m और 1357 m लंबी दो सुरंगों को एक ट्रेन क्रमशः 90 सेकंड और 60 सेकंड में पार करती है। ट्रेन की लंबाई (m में) कितनी है?

- Ans
- 1. 189 m
  - 2. 195 m
  - 3. 204 m
  - 4. 188 m

Question ID : 441009896963  
Option 1 ID : 4410093541924  
Option 2 ID : 4410093541922  
Option 3 ID : 4410093541925  
Option 4 ID : 4410093541923

Q.17 वस्तु X और वस्तु Y के क्रय मूल्यों का अनुपात 5 : 6 है। वस्तु X को बेचने पर एक व्यक्ति को 19% का लाभ होता है और वस्तु Y को बेचने पर 25% की हानि होती है। संपूर्ण लेन-देन में उसका लाभ/हानि प्रतिशत कितना है?

- Ans
- 1. लाभ, 5%
  - 2. लाभ, 6.5%
  - 3. हानि, 5%
  - 4. हानि, 4.5%

Question ID : 441009915182  
Option 1 ID : 4410093614982  
Option 2 ID : 4410093614980  
Option 3 ID : 4410093614979  
Option 4 ID : 4410093614981

Q.18 पाइप A अकेले एक खाली टंकी को 11 घंटे में भर सकता है और पाइप B अकेले उसी टंकी को 16 घंटे में भर सकता है। दोनों को एक साथ चालू करने पर टंकी का आधा भाग भरने में कितना समय लगेगा?

- Ans
- 1.  $4\frac{7}{27}$  घंटे
  - 2.  $7\frac{7}{27}$  घंटे
  - 3.  $6\frac{7}{27}$  घंटे
  - 4.  $3\frac{7}{27}$  घंटे

Question ID : 441009913399  
Option 1 ID : 4410093607849  
Option 2 ID : 4410093607848  
Option 3 ID : 4410093607850  
Option 4 ID : 4410093607847

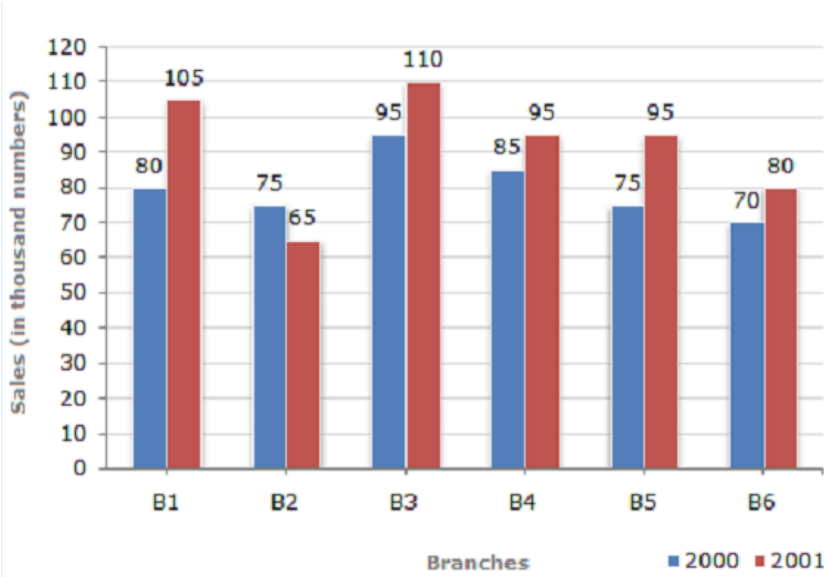
Q.19 एक समचतुर्भुज के विकर्ण क्रमशः 49 cm और 56 cm हैं। समचतुर्भुज का क्षेत्रफल (cm<sup>2</sup> में) ज्ञात कीजिए।

- Ans
- 1. 1340
  - 2. 1410
  - 3. 1372
  - 4. 1366

Question ID : 441009593424  
Option 1 ID : 4410092328814  
Option 2 ID : 4410092328816  
Option 3 ID : 4410092328813  
Option 4 ID : 4410092328815

Telegram - @TeachingExam

Q.20 नीचे दिया गया बार ग्राफ दो क्रमागत वर्षों 2000 और 2001 के दौरान एक पब्लिशिंग कंपनी की छह शाखाओं से पुस्तकों की बिक्री (हज़ार की संख्या में) दर्शाता है।  
2000 और 2001 में एक पब्लिशिंग कंपनी की छह शाखाओं - B1, B2, B3, B4, B5 और B6 से पुस्तकों की बिक्री (हज़ार की संख्या में) नीचे दी गई है।



संकेत: Sales (in thousand numbers) - बिक्री (हज़ारों की संख्या में), Branches- शाखाएं

दोनों वर्षों के लिए शाखाओं B1, B3 और B5 की कुल बिक्री (हज़ारों की संख्या में) कितनी है?

- Ans
- 1. 250
  - 2. 560
  - 3. 310
  - 4. 435

Question ID : 441009184768  
Option 1 ID : 441009730415  
Option 2 ID : 441009730418  
Option 3 ID : 441009730416  
Option 4 ID : 441009730417

Section : Test of English Language and Comprehension

Q.1 Select the correctly spelt word.

- Ans
- 1. Translocent
  - 2. Translucent
  - 3. Tranlucent
  - 4. Translusent

Question ID : 4410091013602  
Option 1 ID : 4410094006074  
Option 2 ID : 4410094006073  
Option 3 ID : 4410094006072  
Option 4 ID : 4410094006071

Q.2 Select the most appropriate meaning of the given idiom.

Mum's the word<sup>37</sup>

- Ans
- 1. Stay away from people
  - 2. Keep arguing over an issue
  - 3. Keep quiet and say nothing
  - 4. Loudly express an opinion

Question ID : 4410091052094  
Option 1 ID : 4410094157447  
Option 2 ID : 4410094157448  
Option 3 ID : 4410094157446  
Option 4 ID : 4410094157445

Q.3 Select the most appropriate and grammatically correct adjective to fill in the blank.

Lush \_\_\_\_\_ rainforests sadly turned into barren patches through deforestation.

- Ans
- 1. keen
  - 2. mean
  - 3. clean
  - 4. green

Question ID : 4410091005937  
Option 1 ID : 4410093975350  
Option 2 ID : 4410093975349  
Option 3 ID : 4410093975347  
Option 4 ID : 4410093975348

Q.4 Select the most appropriate option to fill in the blank.

Which is \_\_\_\_\_ largest desert in the world?

- Ans
- 1. an
  - 2. a
  - 3. no article required
  - 4. the

Question ID : 4410091006879  
Option 1 ID : 4410093979116  
Option 2 ID : 4410093979117  
Option 3 ID : 4410093979118  
Option 4 ID : 4410093979115

Q.5 Select the most appropriate ANTONYM of the underlined word in the given sentence.

Mr. Thakur took a deep breath to calm his nerves before the examination.

- Ans
- 1. cheap
  - 2. agitate
  - 3. classic
  - 4. awesome

Question ID : 4410091011991  
Option 1 ID : 4410093999630  
Option 2 ID : 4410093999628  
Option 3 ID : 4410093999629  
Option 4 ID : 4410093999627

Q.6 Select the most appropriate option to fill in the blank.

A large part of \_\_\_\_\_ Amazon has been polluted.

- Ans
- 1. a
  - 2. an
  - 3. the
  - 4. no article required

Question ID : 4410091006880  
Option 1 ID : 4410093979119  
Option 2 ID : 4410093979121  
Option 3 ID : 4410093979120  
Option 4 ID : 4410093979122

Q.7 Select the most appropriate meaning of the given idiom.

Bend over backwards

- Ans
- 1. To ignore someone's feelings completely and act recklessly
  - 2. To refuse to assist because it seems too difficult
  - 3. To deliberately obstruct or hinder someone's efforts
  - 4. To try very hard to do something good or helpful

Question ID : 4410091013431  
Option 1 ID : 4410094005390  
Option 2 ID : 4410094005387  
Option 3 ID : 4410094005388  
Option 4 ID : 4410094005389

Q.8 Select the most appropriate meaning of the given idiom.

A cup of tea<sup>397</sup>

- Ans
- 1. An expensive item
  - 2. A favourite or well-suited thing, activity, etc.
  - 3. Something very unusual
  - 4. A formal event or ceremony

Question ID : 4410091052454  
Option 1 ID : 4410094158885  
Option 2 ID : 4410094158888  
Option 3 ID : 4410094158886  
Option 4 ID : 4410094158887

Q.9 Select the most appropriate option to fill in the blank.

On the trip to the jungle, we were not able to find the road, it was so \_\_\_\_\_.

- Ans
- 1. straightforward
  - 2. convoluted
  - 3. amazing
  - 4. learning

Question ID : 44100986722  
Option 1 ID : 441009344624  
Option 2 ID : 441009344627  
Option 3 ID : 441009344625  
Option 4 ID : 441009344626

Q.10 Select the most appropriate option to fill in the blanks.

They built \_\_\_ model to demonstrate \_\_\_ principles of physics.2350

- Ans
- 1. the; a
  - 2. the; the
  - 3. No article required; the
  - 4. a; a

Question ID : 4410091010283  
Option 1 ID : 4410093992765  
Option 2 ID : 4410093992766  
Option 3 ID : 4410093992767  
Option 4 ID : 4410093992768

Q.11 Sentences of a paragraph are given below in jumbled order. Arrange the sentences in the correct order to form a meaningful and coherent paragraph.

- A. It's easy to imagine robot cleaners and factory workers, but some jobs need human connection and creativity.
- B. Also, some patients might feel more comfortable sharing personal information with a machine than a person.
- C. If you think of the jobs robots could never do, you would probably put doctors and teachers at the top of the list.
- D. In some cases, they already perform better than doctors at diagnosing illness.

- Ans
- 1. ABDC
  - 2. DBCA
  - 3. BCDA
  - 4. CADB

Question ID : 44100912967  
Option 1 ID : 44100951661  
Option 2 ID : 44100951664  
Option 3 ID : 44100951663  
Option 4 ID : 44100951662

Q.12 Select the most appropriate and grammatically correct adjective to fill in the blank.

Hot \_\_\_\_\_ lava started flowing down the slope as soon as the volcano erupted.

- Ans
- 1. frozen
  - 2. molten
  - 3. nippy
  - 4. damp

Question ID : 4410091005933  
Option 1 ID : 4410093975333  
Option 2 ID : 4410093975331  
Option 3 ID : 4410093975332  
Option 4 ID : 4410093975334

Q.13 Select the INCORRECTLY spelt word.

- Ans
- 1. Merrier
  - 2. Courier
  - 3. Entire
  - 4. Carreer

Question ID : 4410091013571  
Option 1 ID : 4410094005950  
Option 2 ID : 4410094005947  
Option 3 ID : 4410094005948  
Option 4 ID : 4410094005949

Q.14 Sentences of a paragraph are given below in jumbled order. Arrange the sentences in the correct order to form a meaningful and coherent paragraph.

- A. *It's a pleasant way to view leadership: you stand on the mountaintop, thinking strategically and attempting to inspire your people with visions, while managers do the grunt work.*
- B. *Who wouldn't want to have all the fun and glory while keeping their hands clean?*
- C. *Lots of business leaders like to think that the top dog is exempt from the details of actually running things.*
- D. *This idea creates a lot of aspirations for leadership, naturally.*

- Ans
- 1. CBAD
  - 2. ACDB
  - 3. ADBC
  - 4. CADB

Question ID : 4410096572  
Option 1 ID : 44100926042  
Option 2 ID : 44100926041  
Option 3 ID : 44100926040  
Option 4 ID : 44100926039

Q.15 Select the option that can be used as a one-word substitute for the highlighted group of words.

**A/an recurring symbol, image, or idea in prose reinforces thematic depth. Its repetitive use helps the authors create an immersive literary experience for their readers. An example is the 'green light' in Fitzgerald's The Great Gatsby.**

- Ans
- 1. motif
  - 2. allegory
  - 3. metaphor
  - 4. archetype

Question ID : 441009119839  
Option 1 ID : 441009476464  
Option 2 ID : 441009476463  
Option 3 ID : 441009476465  
Option 4 ID : 441009476466

**Comprehension:**

Read the given passage carefully and answer the questions that follow.

The scientist's latest experiment was a meticulous undertaking, involving a complex series of chemical reactions carefully documented in her well-worn lab journal. Each step demanded unwavering precision, from exact measurements to finely-tuned timing, all essential for achieving the desired outcome. Despite facing countless setbacks and repeated failures, her determination remained steadfast, her passion for discovery fueling every attempt. Now, on the edge of a long-awaited breakthrough, she identified an unexpected variable—a factor she hadn't considered—that had the potential to alter the entire direction of her research. The discovery sent a spark of excitement through the lab, filling the air with an almost tangible sense of anticipation. Her colleagues paused, watching as she prepared her apparatus and recalibrated her instruments, ready to test her new hypothesis. This moment held the weight of years of hard work, as the scientist approached the experiment with both caution and hope, eager to see where this new path would lead.

**SubQuestion No : 16**

**Q.16 What is the primary focus of the scientist's latest experiment?**

- Ans
- 1. Documenting natural phenomena
  - 2. Conducting complex chemical reactions
  - 3. Observing biological specimens
  - 4. Developing a new technology

Question ID : 4410091062557  
Option 1 ID : 4410094198279  
Option 2 ID : 4410094198281  
Option 3 ID : 4410094198280  
Option 4 ID : 4410094198278

**Comprehension:**

Read the given passage carefully and answer the questions that follow.

The scientist's latest experiment was a meticulous undertaking, involving a complex series of chemical reactions carefully documented in her well-worn lab journal. Each step demanded unwavering precision, from exact measurements to finely-tuned timing, all essential for achieving the desired outcome. Despite facing countless setbacks and repeated failures, her determination remained steadfast, her passion for discovery fueling every attempt. Now, on the edge of a long-awaited breakthrough, she identified an unexpected variable—a factor she hadn't considered—that had the potential to alter the entire direction of her research. The discovery sent a spark of excitement through the lab, filling the air with an almost tangible sense of anticipation. Her colleagues paused, watching as she prepared her apparatus and recalibrated her instruments, ready to test her new hypothesis. This moment held the weight of years of hard work, as the scientist approached the experiment with both caution and hope, eager to see where this new path would lead.

**SubQuestion No : 17**

**Q.17 What quality of the scientist is highlighted by her perseverance through failures?**

- Ans
- 1. Intelligence
  - 2. Creativity
  - 3. Patience
  - 4. Determination

Question ID : 4410091062558  
Option 1 ID : 4410094198285  
Option 2 ID : 4410094198282  
Option 3 ID : 4410094198283  
Option 4 ID : 4410094198284

**Comprehension:**

Read the given passage carefully and answer the questions that follow.

The scientist's latest experiment was a meticulous undertaking, involving a complex series of chemical reactions carefully documented in her well-worn lab journal. Each step demanded unwavering precision, from exact measurements to finely-tuned timing, all essential for achieving the desired outcome. Despite facing countless setbacks and repeated failures, her determination remained steadfast, her passion for discovery fueling every attempt. Now, on the edge of a long-awaited breakthrough, she identified an unexpected variable—a factor she hadn't considered—that had the potential to alter the entire direction of her research. The discovery sent a spark of excitement through the lab, filling the air with an almost tangible sense of anticipation. Her colleagues paused, watching as she prepared her apparatus and recalibrated her instruments, ready to test her new hypothesis. This moment held the weight of years of hard work, as the scientist approached the experiment with both caution and hope, eager to see where this new path would lead.

**SubQuestion No : 18**

**Q.18 What did the scientist discover that could change her research?**

- Ans
- 1. A new chemical element
  - 2. A crucial piece of equipment
  - 3. An unexpected variable
  - 4. A hidden formula

Question ID : 4410091062559  
Option 1 ID : 4410094198287  
Option 2 ID : 4410094198289  
Option 3 ID : 4410094198286  
Option 4 ID : 4410094198288

**Comprehension:**

Read the given passage carefully and answer the questions that follow.

The scientist's latest experiment was a meticulous undertaking, involving a complex series of chemical reactions carefully documented in her well-worn lab journal. Each step demanded unwavering precision, from exact measurements to finely-tuned timing, all essential for achieving the desired outcome. Despite facing countless setbacks and repeated failures, her determination remained steadfast, her passion for discovery fueling every attempt. Now, on the edge of a long-awaited breakthrough, she identified an unexpected variable—a factor she hadn't considered—that had the potential to alter the entire direction of her research. The discovery sent a spark of excitement through the lab, filling the air with an almost tangible sense of anticipation. Her colleagues paused, watching as she prepared her apparatus and recalibrated her instruments, ready to test her new hypothesis. This moment held the weight of years of hard work, as the scientist approached the experiment with both caution and hope, eager to see where this new path would lead.

**SubQuestion No : 19**

**Q.19 What was the atmosphere in the lab as the scientist prepared to test her hypothesis?**

- Ans
- 1. Tense
  - 2. Calm
  - 3. Excited
  - 4. Nervous

Question ID : 4410091062560  
Option 1 ID : 4410094198290  
Option 2 ID : 4410094198293  
Option 3 ID : 4410094198291  
Option 4 ID : 4410094198292

**Comprehension:**

Read the given passage carefully and answer the questions that follow.

The scientist's latest experiment was a meticulous undertaking, involving a complex series of chemical reactions carefully documented in her well-worn lab journal. Each step demanded unwavering precision, from exact measurements to finely-tuned timing, all essential for achieving the desired outcome. Despite facing countless setbacks and repeated failures, her determination remained steadfast, her passion for discovery fueling every attempt. Now, on the edge of a long-awaited breakthrough, she identified an unexpected variable—a factor she hadn't considered—that had the potential to alter the entire direction of her research. The discovery sent a spark of excitement through the lab, filling the air with an almost tangible sense of anticipation. Her colleagues paused, watching as she prepared her apparatus and recalibrated her instruments, ready to test her new hypothesis. This moment held the weight of years of hard work, as the scientist approached the experiment with both caution and hope, eager to see where this new path would lead.

**SubQuestion No : 20**

**Q.20 Which of the following best describes the scientist's documentation process?**

- Ans
- 1. Sporadic and incomplete
  - 2. Brief and summarised
  - 3. Detailed and meticulous
  - 4. Erratic and haphazard

Question ID : 4410091062561  
Option 1 ID : 4410094198294  
Option 2 ID : 4410094198297  
Option 3 ID : 4410094198295  
Option 4 ID : 4410094198296

**Section : Test of Hindi Language and Comprehension**

**Q.1 जब कविता में एक ही शब्द दो या दो अधिक बार आए और उसका अर्थ हर बार भिन्न हो वहाँ कौन सा अलंकार होता है -**

- Ans
- 1. विरोधाभास अलंकार
  - 2. उपमा अलंकार
  - 3. श्लेष अलंकार
  - 4. यमक अलंकार

Question ID : 4410091004279  
Option 1 ID : 4410093968702  
Option 2 ID : 4410093968701  
Option 3 ID : 4410093968700  
Option 4 ID : 4410093968699

**Q.2 उचित कारक का प्रयोग करते हुए वाक्य पूर्ण करें -  
ऋतंभरा \_\_\_\_\_ आँगन छोटा है।**

- Ans
- 1. से
  - 2. का
  - 3. में
  - 4. ने

Question ID : 4410091004798  
Option 1 ID : 4410093970776  
Option 2 ID : 4410093970775  
Option 3 ID : 4410093970778  
Option 4 ID : 4410093970777

Q.3 निम्नलिखित वाक्य को क्रम में लिखें।

- 1 दिन गवां
- 2 आजकल यँ ही
- 3 रहा है
- 4 बेरोजगारी में सुमित

Ans ✓ 1. 4213

✗ 2. 2341

✗ 3. 1234

✗ 4. 3412

Question ID : 4410091051464

Option 1 ID : 4410094154925

Option 2 ID : 4410094154926

Option 3 ID : 4410094154927

Option 4 ID : 4410094154928

Q.4 वह मेरी आत्मजा है।

वाक्य का रेखांकित शब्द किसका पर्यायवाची है ?

Ans ✗ 1. माता

✗ 2. बहन

✓ 3. पुत्री

✗ 4. पत्नी

Question ID : 4410091058019

Option 1 ID : 4410094181085

Option 2 ID : 4410094181086

Option 3 ID : 4410094181088

Option 4 ID : 4410094181087

Q.5 वर्तनी की दृष्टि से दिए गए वाक्य के किस अंश में त्रुटि है, पहचानें--  
कृष्ण भक्तिकाव्य की पीठीका में व्यापक वैष्णव आंदोलन उपस्थित है। 1083

Ans ✓ 1. पीठीका में व्यापक

✗ 2. उपस्थित है।

✗ 3. कृष्ण भक्तिकाव्य की

✗ 4. वैष्णव आंदोलन

Question ID : 4410091057868

Option 1 ID : 4410094180482

Option 2 ID : 4410094180484

Option 3 ID : 4410094180481

Option 4 ID : 4410094180483

Q.6 निम्नलिखित मुहावरे का सही अर्थ चिन्हित कीजिए।  
तेली का बैल होना

Ans ✗ 1. काम करना

✓ 2. बहुत काम करना

✗ 3. काम न करना

✗ 4. कम काम करना

Question ID : 4410091057785

Option 1 ID : 4410094180151

Option 2 ID : 4410094180149

Option 3 ID : 4410094180152

Option 4 ID : 4410094180150

Q.7 निम्नलिखित वाक्यांश हेतु सार्थक शब्द का चुनाव करें।  
जिसका प्रयोजन सिद्ध हो चुका हो621

- Ans
- 1. ऊसर
  - 2. अतींद्रिय
  - 3. कृतकार्य
  - 4. लोभी

Question ID : 4410091051455  
Option 1 ID : 4410094154892  
Option 2 ID : 4410094154891  
Option 3 ID : 4410094154889  
Option 4 ID : 4410094154890

Q.8 वर्तनी की दृष्टि से दिए गए वाक्य के किस अंश में त्रुटि है, पहचानें--  
जायसी के श्रंगार में मानसिक पक्ष प्रधान है, शारीरिक गौण है।1142

- Ans
- 1. प्रधान है,
  - 2. जायसी के श्रंगार
  - 3. में मानसिक पक्ष
  - 4. शारीरिक गौण है।

Question ID : 4410091057927  
Option 1 ID : 4410094180719  
Option 2 ID : 4410094180717  
Option 3 ID : 4410094180718  
Option 4 ID : 4410094180720

Q.9 सर्वनाम की दृष्टि से अशुद्ध वाक्य का चयन कीजिए-

- Ans
- 1. वह स्वयं यहाँ आना नहीं चाहती।
  - 2. अपने से बड़ों का आदर करना चाहिए।
  - 3. मैं तुम्हारा पत्र पढ़ रहा हूँ।
  - 4. मैं तेरे को घड़ी नहीं दूँगा।

Question ID : 4410091004430  
Option 1 ID : 4410093969306  
Option 2 ID : 4410093969305  
Option 3 ID : 4410093969303  
Option 4 ID : 4410093969304

Q.10 'ईद का चाँद होना' मुहावरे का सही अर्थ है -888

- Ans
- 1. चाँदनी रात में घूमना
  - 2. ईद मनाना
  - 3. बहुत दिनों बाद दिखाई देना
  - 4. ईद में चाँद का महत्व

Question ID : 4410091055434  
Option 1 ID : 4410094170747  
Option 2 ID : 4410094170745  
Option 3 ID : 4410094170746  
Option 4 ID : 4410094170748

Q.11 निम्नलिखित वाक्य में रेखांकित शब्द का पर्यायवाची बताइये।  
इस संसार में सब कुछ क्षणभंगुर है।

- Ans  1. निजी  
 2. नाशवान  
 3. निपुण  
 4. निमित्त

Question ID : 4410091058488  
Option 1 ID : 4410094182962  
Option 2 ID : 4410094182964  
Option 3 ID : 4410094182963  
Option 4 ID : 4410094182961

Q.12 उचित कारक का प्रयोग करते हुए वाक्य पूर्ण करें -  
यह ऐतिहासिक तलवार आल्हा \_\_\_\_ है।

- Ans  1. की  
 2. से  
 3. में  
 4. ने

Question ID : 4410091004799  
Option 1 ID : 4410093970780  
Option 2 ID : 4410093970779  
Option 3 ID : 4410093970781  
Option 4 ID : 4410093970782

Q.13 निम्नलिखित वाक्य को क्रम में लिखें।

- 1 नहीं करनी चाहिए, वरना
- 2 कि हमें कभी छोटे मुँह बड़ी बात
- 3 पछताना पड़ेगा
- 4 अध्यापक ने विद्यार्थियों को समझाया

- Ans  1. 1234  
 2. 4213  
 3. 3412  
 4. 2341

Question ID : 4410091051426  
Option 1 ID : 4410094154775  
Option 2 ID : 4410094154773  
Option 3 ID : 4410094154776  
Option 4 ID : 4410094154774

Q.14 निम्न में से कौन-सा अलंकार अर्थालंकार है?

- Ans  1. श्लेष अलंकार  
 2. वक्रोक्ति अलंकार  
 3. उपमा अलंकार  
 4. यमक अलंकार

Question ID : 4410091004414  
Option 1 ID : 4410093969242  
Option 2 ID : 4410093969241  
Option 3 ID : 4410093969239  
Option 4 ID : 4410093969240

Q.15 निम्नलिखित वाक्यांश हेतु सार्थक शब्द का चुनाव करें।  
पदार्थ को चखकर स्वाद का ज्ञान

- Ans
- 1. जूठा
  - 2. आस्वादन
  - 3. भोज्य
  - 4. स्वाद

Question ID : 4410091051424  
Option 1 ID : 4410094154767  
Option 2 ID : 4410094154765  
Option 3 ID : 4410094154768  
Option 4 ID : 4410094154766

**Comprehension:**

दिए गए गद्यांश के आधार पर निम्नांकित प्रश्नों के उत्तर दीजिए-  
नए जन्म के रूप में जीवन फिर क्षितिजों को नापने चल पड़ता है। यही क्रम समान स्तर पर बीज, अंकुरण, पौधा, फसल, फूल, बीज और पुनः अंकुरण के रूप में निरवधि चलता है। यह रचना क्षण-क्षण का इतिहास लिखने वाली काल के फलक पर जीवित कविता है। मानसून की पहली वर्षा के साथ ही बीजों की बुआई शुरू होती है। भारतीय किसान यह कार्य एक यज्ञ की तहर संपन्न करता है। बैलों के कंधों पर कर्म की 'तीफन' रखकर प्रिया सहित यह अनुष्ठान पूरा करता है। पाँव-पाँव सरकते वर्तमान की जमीन पर वह मधुरतम कामनाओं के बीज बोता है। वर्षा की बूँद के साथ ही उसकी देह पिघलती है। अंकुरों के गोड़ में वर्षा का पानी और किसान का पसीना एक साथ गिरते हैं। ताकि भविष्य लहलहाती फसलों के रूप में नाच सके। रूखे होठों पर हँसी बिरम सके। अभावों के कारण कुड़-मुड़ चेहरों की रंगत बदल सके। गोरी के पाँवों में महावर लग सके। बिटिया को हल्दी चढ़ सके। मुनुवा के बस्ता पट्टी सज सके चूल्हा चहके-थाली महके। पहरेदार बने बेईमान बहीखातों के नाशमिटे पत्रों पर लकीर फेर सके। बारूद टिकी हवेली के किवाड़ किरचे-किरचे हो सके।

SubQuestion No : 16

Q.16 उपरोक्त गद्यांश के लिए उपयुक्त शीर्षक चुनें।

- Ans
- 1. किसान, फसल और वर्षा
  - 2. देह, मन और मस्तिष्क
  - 3. देशभक्ति
  - 4. प्रांत, राज्य और राष्ट्र

Question ID : 4410091065534  
Option 1 ID : 4410094208359  
Option 2 ID : 4410094208360  
Option 3 ID : 4410094208362  
Option 4 ID : 4410094208361

**Comprehension:**

दिए गए गद्यांश के आधार पर निम्नांकित प्रश्नों के उत्तर दीजिए-  
नए जन्म के रूप में जीवन फिर क्षितिजों को नापने चल पड़ता है। यही क्रम समान स्तर पर बीज, अंकुरण, पौधा, फसल, फूल, बीज और पुनः अंकुरण के रूप में निरवधि चलता है। यह रचना क्षण-क्षण का इतिहास लिखने वाली काल के फलक पर जीवित कविता है। मानसून की पहली वर्षा के साथ ही बीजों की बुआई शुरू होती है। भारतीय किसान यह कार्य एक यज्ञ की तरह संपन्न करता है। बैलों के कंधों पर कर्म की 'तीफन' रखकर प्रिया सहित यह अनुष्ठान पूरा करता है। पाँव-पाँव सरकते वर्तमान की जमीन पर वह मधुरतम कामनाओं के बीज बोता है। वर्षा की बूँद के साथ ही उसकी देह पिघलती है। अंकुरों के गोड़ में वर्षा का पानी और किसान का पसीना एक साथ गिरते हैं। ताकि भविष्य लहलहाती फसलों के रूप में नाच सके। रूखे होठों पर हँसी बिरम सके। अभावों के कारण कुड़-मुड़ चेहरों की रंगत बदल सके। गोरी के पाँवों में महावर लग सके। बिटिया को हल्दी चढ़ सके। मुनुवा के बस्ता पट्टी सज सके चूल्हा चहके-थाली महके। पहरेदार बने बेईमान बहीखातों के नाशमिटे पत्रों पर लकीर फेर सके। बारूद टिकी हवेली के किवाड़ किरचे-किरचे हो सके।

**SubQuestion No : 17**

Q.17 उपरोक्त गद्यांश के आधार पर उत्तर दें।

लेखक के अनुसार बीजों की बुआई कब शुरू होती है?

Ans  1. मानसून से पहले की वर्षा के साथ

2. मानसून की पहली वर्षा के दो दिन बाद

3. मानसून की दूसरी वर्षा के साथ

4. मानसून की पहली वर्षा के साथ

Question ID : 4410091065535

Option 1 ID : 4410094208366

Option 2 ID : 4410094208364

Option 3 ID : 4410094208365

Option 4 ID : 4410094208363

**Comprehension:**

दिए गए गद्यांश के आधार पर निम्नांकित प्रश्नों के उत्तर दीजिए-  
नए जन्म के रूप में जीवन फिर क्षितिजों को नापने चल पड़ता है। यही क्रम समान स्तर पर बीज, अंकुरण, पौधा, फसल, फूल, बीज और पुनः अंकुरण के रूप में निरवधि चलता है। यह रचना क्षण-क्षण का इतिहास लिखने वाली काल के फलक पर जीवित कविता है। मानसून की पहली वर्षा के साथ ही बीजों की बुआई शुरू होती है। भारतीय किसान यह कार्य एक यज्ञ की तरह संपन्न करता है। बैलों के कंधों पर कर्म की 'तीफन' रखकर प्रिया सहित यह अनुष्ठान पूरा करता है। पाँव-पाँव सरकते वर्तमान की जमीन पर वह मधुरतम कामनाओं के बीज बोता है। वर्षा की बूँद के साथ ही उसकी देह पिघलती है। अंकुरों के गोड़ में वर्षा का पानी और किसान का पसीना एक साथ गिरते हैं। ताकि भविष्य लहलहाती फसलों के रूप में नाच सके। रूखे होठों पर हँसी बिरम सके। अभावों के कारण कुड़-मुड़ चेहरों की रंगत बदल सके। गोरी के पाँवों में महावर लग सके। बिटिया को हल्दी चढ़ सके। मुनुवा के बस्ता पट्टी सज सके चूल्हा चहके-थाली महके। पहरेदार बने बेईमान बहीखातों के नाशमिटे पत्रों पर लकीर फेर सके। बारूद टिकी हवेली के किवाड़ किरचे-किरचे हो सके।

**SubQuestion No : 18**

Q.18 उपरोक्त गद्यांश के आधार पर उत्तर दें।

'अंकुरों के गोड़ में वर्षा का पानी और किसान का पसीना एक साथ गिरते हैं।' वाक्य का अर्थ बताएं।

Ans  1. वर्षा के साथ-साथ किसान मेहनत में लग जाते हैं।

2. किसान की अच्छी फसल होती है।

3. गेहूँ की फसल वर्षा से खराब होती है।

4. वर्षा नहीं होने पर किसान परेशान होते हैं।

Question ID : 4410091065536

Option 1 ID : 4410094208367

Option 2 ID : 4410094208369

Option 3 ID : 4410094208370

Option 4 ID : 4410094208368

**Comprehension:**

दिए गए गद्यांश के आधार पर निम्नांकित प्रश्नों के उत्तर दीजिए-  
नए जन्म के रूप में जीवन फिर क्षितिजों को नापने चल पड़ता है। यही क्रम समान स्तर पर बीज, अंकुरण, पौधा, फसल, फूल, बीज और पुनः अंकुरण के रूप में निरवधि चलता है। यह रचना क्षण-क्षण का इतिहास लिखने वाली काल के फलक पर जीवित कविता है। मानसून की पहली वर्षा के साथ ही बीजों की बुआई शुरू होती है। भारतीय किसान यह कार्य एक यज्ञ की तहर संपन्न करता है। बैलों के कंधों पर कर्म की 'तीफन' रखकर प्रिया सहित यह अनुष्ठान पूरा करता है। पाँव-पाँव सरकते वर्तमान की जमीन पर वह मधुरतम कामनाओं के बीज बोता है। वर्षा की बूँद के साथ ही उसकी देह पिघलती है। अंकुरों के गोड़ में वर्षा का पानी और किसान का पसीना एक साथ गिरते हैं। ताकि भविष्य लहलहाती फसलों के रूप में नाच सके। रूखे होठों पर हँसी बिरम सके। अभावों के कारण कुड़-मुड़ चेहरों की रंगत बदल सके। गोरी के पाँवों में महावर लग सके। बिटिया को हल्दी चढ़ सके। मुनुवा के बस्ता पट्टी सज सके चूल्हा चहके-थाली महके। पहरेदार बने बेईमान बहीखातों के नाशमिटे पत्रों पर लकीर फेर सकें। बारूद टिकी हवेली के किवाड़ किरचे-किरचे हो सके।

**SubQuestion No : 19**

Q.19 निम्नलिखित विकल्पों में से वर्षा शब्द का पर्यायवाची शब्द पहचानें।

- Ans  1. मेघ  
 2. बरखा  
 3. अंबर  
 4. जलधर

Question ID : 4410091065537  
Option 1 ID : 4410094208373  
Option 2 ID : 4410094208371  
Option 3 ID : 4410094208374  
Option 4 ID : 4410094208372

**Comprehension:**

दिए गए गद्यांश के आधार पर निम्नांकित प्रश्नों के उत्तर दीजिए-  
नए जन्म के रूप में जीवन फिर क्षितिजों को नापने चल पड़ता है। यही क्रम समान स्तर पर बीज, अंकुरण, पौधा, फसल, फूल, बीज और पुनः अंकुरण के रूप में निरवधि चलता है। यह रचना क्षण-क्षण का इतिहास लिखने वाली काल के फलक पर जीवित कविता है। मानसून की पहली वर्षा के साथ ही बीजों की बुआई शुरू होती है। भारतीय किसान यह कार्य एक यज्ञ की तहर संपन्न करता है। बैलों के कंधों पर कर्म की 'तीफन' रखकर प्रिया सहित यह अनुष्ठान पूरा करता है। पाँव-पाँव सरकते वर्तमान की जमीन पर वह मधुरतम कामनाओं के बीज बोता है। वर्षा की बूँद के साथ ही उसकी देह पिघलती है। अंकुरों के गोड़ में वर्षा का पानी और किसान का पसीना एक साथ गिरते हैं। ताकि भविष्य लहलहाती फसलों के रूप में नाच सके। रूखे होठों पर हँसी बिरम सके। अभावों के कारण कुड़-मुड़ चेहरों की रंगत बदल सके। गोरी के पाँवों में महावर लग सके। बिटिया को हल्दी चढ़ सके। मुनुवा के बस्ता पट्टी सज सके चूल्हा चहके-थाली महके। पहरेदार बने बेईमान बहीखातों के नाशमिटे पत्रों पर लकीर फेर सकें। बारूद टिकी हवेली के किवाड़ किरचे-किरचे हो सके।

**SubQuestion No : 20**

Q.20 निम्नलिखित विकल्पों में से जमीन शब्द का विलोम शब्द पहचानें।

- Ans  1. अन्तरिक्ष  
 2. पाताल  
 3. धरती  
 4. आसमान

Question ID : 4410091065538  
Option 1 ID : 4410094208378  
Option 2 ID : 4410094208376  
Option 3 ID : 4410094208377  
Option 4 ID : 4410094208375

Q.1 शब्द-शक्तियों के अर्थ बोध कराने के संदर्भ में निम्नलिखित में से कौन-सा कथन सत्य है?

- Ans
- 1. लक्षणा शब्द-शक्ति व्यंजना पर आश्रित होती है।
  - 2. अभिधा शब्द-शक्ति लक्षणा पर आश्रित होती है।
  - 3. अभिधा शब्द-शक्ति लक्षणा व व्यंजना दोनों पर आश्रित होती है।
  - 4. लक्षणा एवं व्यंजना दोनों शब्द शक्तियाँ अभिधा पर आश्रित होती हैं।

Question ID : 44100999288  
Option 1 ID : 4410093948998  
Option 2 ID : 4410093948997  
Option 3 ID : 4410093948999  
Option 4 ID : 4410093949000

Q.2 किसकी भाषा के लिए आचार्य शुक्ल ने कहा है कि 'इसके कथोपकथन कई स्थलों पर नाटकीय न होकर वर्तमान गद्य-काव्य के खंड हो गए हैं'?

- Ans
- 1. जयशंकर प्रसाद
  - 2. सुमित्रानंदन पंत
  - 3. सूर्यकांत त्रिपाठी निराला
  - 4. महादेवी वर्मा

Question ID : 441009992079  
Option 1 ID : 4410093920466  
Option 2 ID : 4410093920467  
Option 3 ID : 4410093920468  
Option 4 ID : 4410093920469

Q.3 जयशंकर प्रसाद द्वारा रचित 'अजातशत्रु' नाटक का प्रकाशन वर्ष है-

- Ans
- 1. 1922
  - 2. 1941
  - 3. 1936
  - 4. 1930

Question ID : 441009989755  
Option 1 ID : 4410093911270  
Option 2 ID : 4410093911273  
Option 3 ID : 4410093911272  
Option 4 ID : 4410093911271

Q.4 एकांकी के वर्गीकरण की दृष्टि से 'मकड़ी का जाला' किस प्रकार की एकांकी है?

- Ans
- 1. ऐतिहासिक एकांकी
  - 2. राजनीतिक एकांकी
  - 3. सामाजिक एकांकी
  - 4. मनोवैज्ञानिक एकांकी

Question ID : 441009989727  
Option 1 ID : 4410093911160  
Option 2 ID : 4410093911159  
Option 3 ID : 4410093911161  
Option 4 ID : 4410093911158

Q.5 'बाणभट्ट की आत्मकथा' किस प्रकार का उपन्यास है?

- Ans
- 1. सामाजिक
  - 2. प्राकृतवादी
  - 3. स्वच्छंदतावादी
  - 4. मनोवैज्ञानिक

Question ID : 441009992066  
Option 1 ID : 4410093920416  
Option 2 ID : 4410093920415  
Option 3 ID : 4410093920414  
Option 4 ID : 4410093920417

Q.6 निम्नलिखित नाटकों को उनके प्रकाशन वर्ष के क्रमानुसार लिखें।  
अशोक, राक्षस का मंदिर, राजयोग, संन्यासी

- Ans
- 1. राक्षस का मंदिर, अशोक, राजयोग, संन्यासी
  - 2. अशोक, संन्यासी, राक्षस का मंदिर, राजयोग
  - 3. राक्षस का मंदिर, अशोक, राजयोग, संन्यासी.
  - 4. अशोक, राक्षस का मंदिर, संन्यासी, राजयोग

Question ID : 441009989744  
Option 1 ID : 4410093911228  
Option 2 ID : 4410093911226  
Option 3 ID : 4410093911227  
Option 4 ID : 4410093911229

Q.7 डॉ. विजयेंद्र स्नातक का निबंध-संग्रह नहीं है-

- Ans
- 1. विमर्श के क्षण
  - 2. विचार के क्षण
  - 3. मनन के क्षण
  - 4. चिंतन के क्षण

Question ID : 441009990381  
Option 1 ID : 4410093913706  
Option 2 ID : 4410093913705  
Option 3 ID : 4410093913704  
Option 4 ID : 4410093913703

Q.8 वाच्यार्थ और लक्ष्यार्थ दोनों के अतिरिक्त जिस अद्भुत अर्थ का बोध होता है, उसे क्या कहते हैं

- Ans
- 1. अभिधा
  - 2. लक्षणा
  - 3. व्यंजना
  - 4. लक्षणामूला

Question ID : 44100999287  
Option 1 ID : 4410093948994  
Option 2 ID : 4410093948993  
Option 3 ID : 4410093948995  
Option 4 ID : 4410093948996

Q.9 निम्नलिखित में से निषेधवाचक वाक्य की पहचान करें-

- Ans  1. भाषा का सीधा संबंध मनुष्य के सांस्कृतिक परिवेश के साथ नहीं है।  
 2. सात्विकता के लिए हम सदैव प्रयत्नशील रहे हैं।  
 3. भाषा के माध्यम से ही व्यक्ति संस्कारित होता है।  
 4. मनुष्य स्वभावतः कृतज्ञ प्राणी रहा है।

Question ID : 44100999266  
Option 1 ID : 4410093948909  
Option 2 ID : 4410093948912  
Option 3 ID : 4410093948911  
Option 4 ID : 4410093948910

Q.10 निम्नलिखित में से कौन-सा विकल्प उत्तर-आधुनिक गद्य की एक विशेषता नहीं है?

- Ans  1. अब न कोई विचारधारा है, न दर्शन।  
 2. यह सुधार और नैतिक मूल्यों की प्रतिष्ठा का युग है।  
 3. न जीवन-मूल्य जैसी कोई चीज है, न नैतिक बोध का अहसास।  
 4. इनमें आर्थिक भविष्यवाणियों और बाजार अध्ययन से लेकर धार्मिक पुनर्जागरण, फिल्म समारोह की समीक्षा, व्यक्ति-पूजा सब शामिल है।

Question ID : 441009992081  
Option 1 ID : 4410093920474  
Option 2 ID : 4410093920475  
Option 3 ID : 4410093920476  
Option 4 ID : 4410093920477

Q.11 हिन्दी के आरंभिक यात्रा-वृत्तांत किसके द्वारा लिखे गए?

1. भारतेन्दु हरिश्चन्द्र
2. महादेवी वर्मा
3. अजित कुमार
4. काका काकेलकर

- Ans  1. 2  
 2. 4  
 3. 1  
 4. 3

Question ID : 441009992184  
Option 1 ID : 4410093920887  
Option 2 ID : 4410093920889  
Option 3 ID : 4410093920886  
Option 4 ID : 4410093920888

Q.12 निम्नलिखित में से कौन-सा विकल्प हिन्दी गद्य के विकास का एक कारण नहीं है?

- Ans  1. ईसाई मिशनरियों का आगमन  
 2. समाज सुधार आंदोलन  
 3. नवीन आविष्कार  
 4. मैकाले की शिक्षा-नीति

Question ID : 441009992075  
Option 1 ID : 4410093920450  
Option 2 ID : 4410093920452  
Option 3 ID : 4410093920453  
Option 4 ID : 4410093920451

Q.13 आधुनिक हिंदी निबंध का सूत्रपात माना जा सकता है---

- Ans
- 1. द्विवेदी युग
  - 2. शुक्ल युग
  - 3. शुक्लोत्तर युग
  - 4. भारतेन्दु युग

Question ID : 441009990364  
Option 1 ID : 4410093913636  
Option 2 ID : 4410093913637  
Option 3 ID : 4410093913638  
Option 4 ID : 4410093913635

Q.14 सरदार पूर्ण सिंह के निबंधों की विशेषता निम्न में से थी--

- Ans
- 1. ओजपूर्ण तीखी एवं व्यंग्यात्मक शैली
  - 2. व्यक्तित्व-व्यंजक लाक्षणिक शैली
  - 3. खण्डन-मण्डन और प्रशंसात्मक शैली
  - 4. सजीव रोचक और आत्मव्यंजक शैली

Question ID : 441009990367  
Option 1 ID : 4410093913648  
Option 2 ID : 4410093913647  
Option 3 ID : 4410093913649  
Option 4 ID : 4410093913650

Q.15 निम्नलिखित में से कौन सी लक्षणा की शर्त नहीं है?

- Ans
- 1. मुखार्थ का बोध
  - 2. मुखार्थ में बाधा
  - 3. मुखार्थ व लक्षार्थ में संबंध
  - 4. रूढ़ि या प्रयोजन

Question ID : 441009999216  
Option 1 ID : 4410093948712  
Option 2 ID : 4410093948709  
Option 3 ID : 4410093948710  
Option 4 ID : 4410093948711

Q.16 हरिशंकर परसाई का निबंध-संग्रह नहीं है-

- Ans
- 1. पगडंडियों का ज़माना
  - 2. जैसे उनके दिन फिर
  - 3. कितने बजे है
  - 4. ठिठुरता हुआ गणतंत्र

Question ID : 441009990373  
Option 1 ID : 4410093913673  
Option 2 ID : 4410093913671  
Option 3 ID : 4410093913674  
Option 4 ID : 4410093913672

Q.17 हिंदी गद्य का जनक किसे माना जाता है-

- Ans
- 1. कालिदास
  - 2. प्रेमचंद
  - 3. भारतेन्दु
  - 4. मुक्तिबोध

Question ID : 441009992133  
Option 1 ID : 4410093920683  
Option 2 ID : 4410093920684  
Option 3 ID : 4410093920682  
Option 4 ID : 4410093920685

Q.18 निम्नलिखित में से एक राहुल सांकृत्यायन का यात्रा-वृत्त नहीं है-

1. मेरी यूरोप यात्रा
2. सागर की लहरों पर
3. रूस में पच्चीस वर्ष
4. मेरी तिब्बत यात्रा

- Ans
- 1. 2
  - 2. 4
  - 3. 1
  - 4. 3

Question ID : 441009992183  
Option 1 ID : 4410093920883  
Option 2 ID : 4410093920885  
Option 3 ID : 4410093920882  
Option 4 ID : 4410093920884

Q.19 आंचलिक उपन्यास की पृष्ठ भूमि आधारित होती है -

- Ans
- 1. देश विशेष पर
  - 2. शहर विशेष पर
  - 3. गाँव विशेष पर
  - 4. क्षेत्र विशेष पर

Question ID : 441009992125  
Option 1 ID : 4410093920651  
Option 2 ID : 4410093920652  
Option 3 ID : 4410093920650  
Option 4 ID : 4410093920653

Q.20 "बाँधा था विधु को किसने इन काली जंजीरों से"- जयशंकर प्रसाद की इस पंक्ति का अर्थ किस शब्द-शक्ति से ग्रहण होगा?

- Ans
- 1. अभिधा
  - 2. विशेषोक्ति
  - 3. लक्षणा
  - 4. व्यंजना

Question ID : 44100999284  
Option 1 ID : 4410093948981  
Option 2 ID : 4410093948984  
Option 3 ID : 4410093948983  
Option 4 ID : 4410093948982

Q.1 काव्य-संकलन और उसके प्रकाशन वर्ष का कौन-सा विकल्प सही है-

- Ans  1. आँगन के पार-1967  
 2. सतरंगिनी-1945  
 3. नए पत्ते-1947  
 4. दीपशिखा-1944

Question ID : 441009991788  
Option 1 ID : 4410093919312  
Option 2 ID : 4410093919309  
Option 3 ID : 4410093919310  
Option 4 ID : 4410093919311

Q.2 निम्नलिखित में से एक रेखाचित्र की विशेषता नहीं है-

1. रेखाचित्र में किसी व्यक्ति, वस्तु या संदर्भ का अंकन किया जाता है
2. रेखाचित्र में अंकन पूर्णता तटस्थ भाव से निर्लिप्त रहकर किया जाता है
3. रेखाचित्र में रेखाएँ बोलती हैं
4. रेखाचित्र में वस्तु का महत्त्व नहीं होता है

- Ans  1. 3  
 2. 4  
 3. 2  
 4. 1

Question ID : 441009992173  
Option 1 ID : 4410093920844  
Option 2 ID : 4410093920845  
Option 3 ID : 4410093920843  
Option 4 ID : 4410093920842

Q.3 पोयटिक्स' शब्द का हिन्दी रूपान्तरण क्या है?

1. नीतिशास्त्र
2. काव्यशास्त्र
3. भाषा विज्ञान
4. समाजशास्त्र

- Ans  1. 1  
 2. 3  
 3. 2  
 4. 4

Question ID : 441009991890  
Option 1 ID : 4410093919717  
Option 2 ID : 4410093919719  
Option 3 ID : 4410093919718  
Option 4 ID : 4410093919720

Q.4 निम्नलिखित कविता के रचयिता कौन है ?

में अकेला; देखता हूँ, आ रही मेरे दिवस की सान्ध्य बेला ।

- Ans  1. निराला  
 2. जयशंकर प्रसाद  
 3. सुमित्रानंदन पंत  
 4. महादेवी वर्मा

Question ID : 441009991778  
Option 1 ID : 4410093919269  
Option 2 ID : 4410093919271  
Option 3 ID : 4410093919272  
Option 4 ID : 4410093919270

Q.5 'मुर्दहिया' आत्मकथा के आत्मकथाकार कौन हैं?

1. तुलसीराम
2. रमणिका गुप्ता
3. मैत्रेयी पुष्पा
4. धर्मवीर भारती

Ans  1. 4  
 2. 3  
 3. 1  
 4. 2

Question ID : 441009992165  
Option 1 ID : 4410093920813  
Option 2 ID : 4410093920812  
Option 3 ID : 4410093920810  
Option 4 ID : 4410093920811

Q.6 चिंतामणि द्वारा रचित 'कविकुलकल्पतरु' का प्रकाशन वर्ष है-

Ans  1. 1650 ई.  
 2. 1750 ई.  
 3. 1600 ई.  
 4. 1700 ई.

Question ID : 441009991837  
Option 1 ID : 4410093919505  
Option 2 ID : 4410093919507  
Option 3 ID : 4410093919508  
Option 4 ID : 4410093919506

Q.7 'इतनी छोटी हो गई है दुनिया/एक नक्शे भर/जब आप आराम से खाना खा रहे है/तो बिलकुल पास में कोई भूख से दम तोड़ रहा है' समकालीन कविता की ये पंक्तियाँ किस कवि की हैं-

Ans  1. नरेश सक्सेना  
 2. मंगलेश डबराल  
 3. राजेश जोशी  
 4. अरुण कमल

Question ID : 441009991789  
Option 1 ID : 4410093919315  
Option 2 ID : 4410093919314  
Option 3 ID : 4410093919313  
Option 4 ID : 4410093919316

Q.8 हिन्दी में आधुनिकता और पुनर्जागरण के प्रवर्तक और पितामह किसे माना जाता है?

Ans  1. भारतेन्दु हरिश्चंद्र  
 2. महावीर प्रसाद द्विवेदी  
 3. हजारीप्रसाद द्विवेदी  
 4. रामचंद्र शुक्ल

Question ID : 441009991694  
Option 1 ID : 4410093918935  
Option 2 ID : 4410093918933  
Option 3 ID : 4410093918936  
Option 4 ID : 4410093918934

Q.9 आदिकाल को वीरगाथा काल किस विद्वान ने कहा है?

- Ans  1. रामचंद्र शुक्ल  
 2. मिश्रबंधु  
 3. हज़ारी प्रसाद द्विवेदी  
 4. राहुल सांकृत्यायन

Question ID : 441009991704  
Option 1 ID : 4410093918974  
Option 2 ID : 4410093918976  
Option 3 ID : 4410093918973  
Option 4 ID : 4410093918975

Q.10 'शब्द-शक्ति' का अध्ययन भारतीय काव्यशास्त्र के किस संप्रदाय के अंतर्गत किया जाता है?

- Ans  1. रस-संप्रदाय  
 2. वक्रोक्ति संप्रदाय  
 3. ध्वनि-संप्रदाय  
 4. अलंकार-संप्रदाय

Question ID : 441009991716  
Option 1 ID : 4410093919021  
Option 2 ID : 4410093919024  
Option 3 ID : 4410093919023  
Option 4 ID : 4410093919022

Q.11 'अकाल और उसके बाद' कविता के रचयिता कौन है ?

- Ans  1. मुक्तिबोध  
 2. नागार्जुन  
 3. त्रिलोचन  
 4. अज्ञेय

Question ID : 441009991777  
Option 1 ID : 4410093919267  
Option 2 ID : 4410093919265  
Option 3 ID : 4410093919266  
Option 4 ID : 4410093919268

Q.12 रीतिकाल को शृंगार काल नाम किसने दिया?

- Ans  1. रामचन्द्र शुक्ल  
 2. आ. विश्वनाथ प्रसाद मिश्र  
 3. गणपतिचंद्र गुप्त  
 4. हज़ारीप्रसाद द्विवेदी

Question ID : 441009991792  
Option 1 ID : 4410093919325  
Option 2 ID : 4410093919327  
Option 3 ID : 4410093919328  
Option 4 ID : 4410093919326

Q.13 काव्यानुशासन के रचयिता कौन हैं?

- Ans
- 1. रुद्रभट्ट
  - 2. उद्भट्ट
  - 3. कुंतक
  - 4. हेमचन्द्र

Question ID : 441009991750  
Option 1 ID : 4410093919158  
Option 2 ID : 4410093919160  
Option 3 ID : 4410093919159  
Option 4 ID : 4410093919157

Q.14 रामधारी सिंह दिनकर को उनकी किस रचना के लिए ज्ञानपीठ पुरस्कार से सम्मानित किया गया ?

- Ans
- 1. हुंकार
  - 2. रसवंती
  - 3. रश्मिरेथी
  - 4. उर्वशी

Question ID : 441009991806  
Option 1 ID : 4410093919383  
Option 2 ID : 4410093919384  
Option 3 ID : 4410093919382  
Option 4 ID : 4410093919381

Q.15 ' काव्यनुशासन ' के रचयिता कौन हैं?

- Ans
- 1. जयदेव
  - 2. विद्याधर
  - 3. पंडित राज जगन्नाथ
  - 4. हेमचन्द्र

Question ID : 441009991761  
Option 1 ID : 4410093919202  
Option 2 ID : 4410093919203  
Option 3 ID : 4410093919204  
Option 4 ID : 4410093919201

Q.16 छायावाद शब्द का प्रथम प्रयोक्ता किसे माना जाता है?

- Ans
- 1. जयशंकर प्रसाद
  - 2. निराला
  - 3. मुकुटधर पांडेय
  - 4. नंददुलारे वाजपेयी

Question ID : 441009991688  
Option 1 ID : 4410093918911  
Option 2 ID : 4410093918912  
Option 3 ID : 4410093918909  
Option 4 ID : 4410093918910

Q.17 अज्ञेय को उनकी किस रचना के लिए ज्ञानपीठ पुरस्कार से सम्मानित किया गया ?

- Ans
- 1. हरीघास पर क्षण भर
  - 2. कितनी नावों में कितनी बार
  - 3. इत्यलम
  - 4. बावरा अहेरी

Question ID : 441009991805  
Option 1 ID : 4410093919378  
Option 2 ID : 4410093919377  
Option 3 ID : 4410093919379  
Option 4 ID : 4410093919380

Q.18 निम्नलिखित कौन-सी काव्य-पंक्ति प्रयोगवादी काव्य-धारा से संबंधित है-

- Ans
- 1. वन फूलों में/ मैंने नए स्वप्न रंग दिए/ कल देखोगे
  - 2. बात है/ चुकती रहेगी/ एक दिन चूक जाएगी ही बात
  - 3. मेरे चपल यौवन-बाल!/ अचल अञ्चल में पड़ा सो, मचलकर मत साल
  - 4. खोल दूँ/ यह आज का दिन!/ जिसे मेरी देहरी के पास कोई रख गया है

Question ID : 441009991795  
Option 1 ID : 4410093919338  
Option 2 ID : 4410093919339  
Option 3 ID : 4410093919337  
Option 4 ID : 4410093919340

Q.19 निम्नलिखित कथनों के आधार पर सही विकल्प चुनिए-

A प्रगतिवाद ने काव्य को व्यक्तिवादी यथार्थ के बंद कमरे से निकाल कर जन-जीवन के बीच प्रवाहित कर दिया।  
B प्रगतिवाद प्रकृति और जीवन की काल्पनिक अभिव्यक्ति को ही रचना का उद्देश्य मानता है।

- Ans
- 1. कथन a सही है लेकिन कथन b गलत है
  - 2. कथन a और कथन b दोनों गलत हैं
  - 3. कथन a गलत है लेकिन कथन b सही है
  - 4. कथन a और कथन b दोनों सही हैं

Question ID : 441009991798  
Option 1 ID : 4410093919349  
Option 2 ID : 4410093919352  
Option 3 ID : 4410093919350  
Option 4 ID : 4410093919351

Q.20 भारतीय काव्यशास्त्र की रचना की शुरुआत किस भाषा में हुई।

- Ans
- 1. संस्कृत
  - 2. प्राकृत
  - 3. अपभ्रंश
  - 4. पाली

Question ID : 441009991759  
Option 1 ID : 4410093919193  
Option 2 ID : 4410093919195  
Option 3 ID : 4410093919196  
Option 4 ID : 4410093919194

Q.1 हिंदी भाषा किस लिपि में लिखी जाती है?

- Ans
- 1. ब्राह्मी लिपि
  - 2. मनसवी लिपि
  - 3. देवनागरी लिपि
  - 4. खरोष्ठी लिपि

Question ID : 441009997720  
Option 1 ID : 4410093942846  
Option 2 ID : 4410093942847  
Option 3 ID : 4410093942845  
Option 4 ID : 4410093942848

Q.2 निम्नलिखित किस शब्द में विसर्ग-संधि नहीं है-

- Ans
- 1. अंतःकारण
  - 2. विच्छेद
  - 3. मनोज
  - 4. निराशा

Question ID : 4410091004343  
Option 1 ID : 4410093968955  
Option 2 ID : 4410093968958  
Option 3 ID : 4410093968956  
Option 4 ID : 4410093968957

Q.3 निम्नलिखित एकांकी के लेखक कौन हैं?  
एक घूंट

- Ans
- 1. भुवनेश्वर
  - 2. उदयशंकर भट्ट
  - 3. सुदर्शन
  - 4. जयशंकर प्रसाद

Question ID : 441009989740  
Option 1 ID : 4410093911211  
Option 2 ID : 4410093911213  
Option 3 ID : 4410093911212  
Option 4 ID : 4410093911210

Q.4 निम्नलिखित में से कौन-सी रचना कंचनलता सब्बरवाल द्वारा लिखित है?

- Ans
- 1. तुगलक
  - 2. अनंता
  - 3. रीढ़ की हड्डी
  - 4. चन्द्रगुप्त

Question ID : 441009989736  
Option 1 ID : 4410093911197  
Option 2 ID : 4410093911194  
Option 3 ID : 4410093911195  
Option 4 ID : 4410093911196

Q.5 निम्नलिखित में से किस वाक्य में विशेषण सम्बन्धी अशुद्धि है -

- Ans  1. क्रिकेट खिलाड़ी सुनील गावस्कर को सम्मान मिला।  
 2. देवी अहिल्या विश्वविद्यालय, इंदौर में अनेक हिन्दी के व्याख्याता उपस्थित थे।  
 3. घनश्याम कपड़े का पुराना व्यापारी है।  
 4. साहित्य और जीवन में घनिष्ठ संबंध है।

Question ID : 4410091004346  
Option 1 ID : 4410093968970  
Option 2 ID : 4410093968967  
Option 3 ID : 4410093968969  
Option 4 ID : 4410093968968

Q.6 'जादू का कालीन' नाटक की लेखिका निम्न में से हैं--

- Ans  1. शांति मेहरोत्रा  
 2. मृदुला गर्ग  
 3. मन्मथ भंडारी  
 4. मीराकांत

Question ID : 441009989722  
Option 1 ID : 4410093911139  
Option 2 ID : 4410093911138  
Option 3 ID : 4410093911141  
Option 4 ID : 4410093911140

Q.7 दीर्घ साँस न लेहि दुख-सुख साँईहि न भूल।  
दई दई क्यों करत है, दई दई सु कबूल॥ दोहे में कौन-सा अलंकार है-

- Ans  1. कोई अलंकार नहीं  
 2. शब्दालंकार  
 3. अर्थालंकार  
 4. उभयालंकार

Question ID : 4410091004328  
Option 1 ID : 4410093968898  
Option 2 ID : 4410093968897  
Option 3 ID : 4410093968896  
Option 4 ID : 4410093968895

Q.8 'वाक् + मय' की संधि क्या है?

- Ans  1. वाक्यामय  
 2. वाङ्मय  
 3. वाकमय  
 4. वाङ्मय

Question ID : 4410091004418  
Option 1 ID : 4410093969257  
Option 2 ID : 4410093969256  
Option 3 ID : 4410093969255  
Option 4 ID : 4410093969258

Q.9 हजारीप्रसाद द्विवेदी का 'अशोक के फूल' निबंध किस शैली में लिखा गया है?

- Ans
- 1. भावात्मक
  - 2. ललित
  - 3. विवरणात्मक
  - 4. वर्णनात्मक

Question ID : 441009990377  
Option 1 ID : 4410093913690  
Option 2 ID : 4410093913689  
Option 3 ID : 4410093913688  
Option 4 ID : 4410093913687

Q.10 इनमें से कौन-सी विशेषता देवनागरी लिपि की नहीं है ?

- Ans
- 1. निश्चितता
  - 2. स्पष्टता
  - 3. ध्वन्यात्मकता
  - 4. नियतता

Question ID : 441009997717  
Option 1 ID : 4410093942834  
Option 2 ID : 4410093942836  
Option 3 ID : 4410093942835  
Option 4 ID : 4410093942833

Q.11 भारतेन्दु हरिश्चंद्र ने अपनी किस कविता में विदेशी वस्तुओं के बहिष्कार की प्रत्यक्ष रूप से प्रेरणा दी है-

- Ans
- 1. प्रबोधिनी
  - 2. भारत भिक्षा
  - 3. बसंत होली
  - 4. विजयिनी विजय वैजयंती

Question ID : 441009991801  
Option 1 ID : 4410093919361  
Option 2 ID : 4410093919362  
Option 3 ID : 4410093919364  
Option 4 ID : 4410093919363

Q.12 रचना और रचनाकार का कौन-सा विकल्प सही नहीं है-

- Ans
- 1. मिलन यामिनी-महादेवी वर्मा
  - 2. ठंडा लोहा-धर्मवीर भारती
  - 3. पांचाली-रांगेय राघव
  - 4. अतिमा-सुमित्रानंदन पंत

Question ID : 441009991787  
Option 1 ID : 4410093919305  
Option 2 ID : 4410093919307  
Option 3 ID : 4410093919306  
Option 4 ID : 4410093919308

Q.13 साहित्य अकादमी से पुरस्कृत समालोचना की पुस्तक 'कविता के नए प्रतिमान' के लेखक कौन हैं?

- Ans
- 1. इंद्रनाथ मदान
  - 2. रामधारी सिंह दिनकर
  - 3. नामवर सिंह
  - 4. नन्ददुलारे वाजपेयी

Question ID : 441009990371  
Option 1 ID : 4410093913663  
Option 2 ID : 4410093913665  
Option 3 ID : 4410093913666  
Option 4 ID : 4410093913664

Q.14 भारतेंदु युगीन निबंध की मुख्य विशेषता निम्न में से थी--

- Ans
- 1. उनके माध्यम से प्रकट होने वाला धार्मिक एवं आध्यात्मिक परिवेश
  - 2. उनके माध्यम से प्रकट होने वाली महापुरुषों की जीवनियाँ
  - 3. उनके माध्यम से प्रकट होने वाला व्यापक राष्ट्रीय सांस्कृतिक जागरण
  - 4. उनके माध्यम से प्रकट होने वाला अतीत का गौरव गान

Question ID : 441009990368  
Option 1 ID : 4410093913652  
Option 2 ID : 4410093913654  
Option 3 ID : 4410093913651  
Option 4 ID : 4410093913653

Q.15 हिंदी भाषा किस लिपि से सम्बंधित है?

- Ans
- 1. चित्र लिपि
  - 2. ध्वनि लिपि
  - 3. प्रतीक लिपि
  - 4. देवनागरी लिपि

Question ID : 441009997727  
Option 1 ID : 4410093942876  
Option 2 ID : 4410093942874  
Option 3 ID : 4410093942875  
Option 4 ID : 4410093942873

Q.16 डॉ. रामचन्द्र तिवारी ने किसे ठेठ ग्रामीण चेतना का अत्यंत संवेदनशील रचनाकार कहा है?

- Ans
- 1. शरद जोशी
  - 2. रमेशचंद्र शाह
  - 3. डॉ. कृष्णबिहारी मिश्र
  - 4. नरेंद्र कोहली

Question ID : 441009990379  
Option 1 ID : 4410093913697  
Option 2 ID : 4410093913696  
Option 3 ID : 4410093913695  
Option 4 ID : 4410093913698

Q.17 निम्नलिखित वाक्यों में से सही वाक्य का चयन कीजिए जिसमें संयुक्त क्रिया का प्रयोग नहीं हुआ है?

- Ans
- 1. स्वस्थ रहना है तो तुमको सैर करनी चाहिए।
  - 2. तुम प्रतिदिन पढ़ने आया करो।
  - 3. पक्षी उड़ते हैं।
  - 4. मेरे हाथ से गिलास गिरा और टूट गया।

Question ID : 4410091004426  
Option 1 ID : 4410093969289  
Option 2 ID : 4410093969290  
Option 3 ID : 4410093969288  
Option 4 ID : 4410093969287

Q.18 निम्नलिखित में से कौन-सा निबंध भारतेन्दु द्वारा नहीं लिखा गया है?

- Ans
- 1. रामायण का समय
  - 2. काश्मीर-कुसुम
  - 3. बंधुत्व किसे कहते हैं
  - 4. बादशाह दर्पण

Question ID : 441009990383  
Option 1 ID : 4410093913711  
Option 2 ID : 4410093913713  
Option 3 ID : 4410093913712  
Option 4 ID : 4410093913714

Q.19 'सोहन दिन \_\_\_ काम करता है।' उपर्युक्त रिक्त स्थान में उचित कारक का प्रयोग कीजिए-

- Ans
- 1. हे
  - 2. में
  - 3. से
  - 4. पर

Question ID : 4410091004789  
Option 1 ID : 4410093970739  
Option 2 ID : 4410093970742  
Option 3 ID : 4410093970741  
Option 4 ID : 4410093970740

Q.20 'पाटिल' से पाली की उत्पत्ति मानने वाले विद्वान हैं -

- Ans
- 1. आचार्य विधुशेखर
  - 2. मैक्स विल्सन
  - 3. वररुचि
  - 4. प्रो. स्लेगल

Question ID : 441009997744  
Option 1 ID : 4410093942943  
Option 2 ID : 4410093942941  
Option 3 ID : 4410093942942  
Option 4 ID : 4410093942944

Q.1 ब्रजभाषा कैसी बोली है?

- Ans
- 1. अकार बहुल
  - 2. इकार बहुल
  - 3. आकार बहुल
  - 4. ओकार बहुल

Question ID : 441009997704  
Option 1 ID : 4410093942781  
Option 2 ID : 4410093942783  
Option 3 ID : 4410093942784  
Option 4 ID : 4410093942782

Q.2 'छूट' के पर्याय से दिए गए वाक्य के रिक्त स्थान को पूर्ण करें---

महँगाई इतनी बढ़ गयी है गरीब बच्चों को स्कूल शुल्क में थोड़ी \_\_\_\_\_ मिलनी चाहिए।

- Ans
- 1. रिश्वत
  - 2. रियासत
  - 3. रिवायत
  - 4. रियायत

Question ID : 4410091057845  
Option 1 ID : 4410094180392  
Option 2 ID : 4410094180390  
Option 3 ID : 4410094180391  
Option 4 ID : 4410094180389

Q.3 भाववाचक संज्ञा की दृष्टि से सही वाक्य का चयन कीजिए-

- Ans
- 1. तुम तो लंदन में थे, भारत कब आए?
  - 2. सचिन तेंदुलकर खेल की दुनिया का प्रसिद्ध नाम है।
  - 3. प्रदूषण के कारण फल कम मीठे होते जा रहे हैं।
  - 4. बंगाल के रसगुल्लों की मिठास किसे पसंद नहीं आती।

Question ID : 4410091004432  
Option 1 ID : 4410093969314  
Option 2 ID : 4410093969313  
Option 3 ID : 4410093969311  
Option 4 ID : 4410093969312

Q.4 'असुर' के पर्याय से दिए गए वाक्य के रिक्त स्थान को पूर्ण करें---

आज के मनुष्य ने अपने कर्मों से ..... को भी लजा दिया है। 1124

- Ans
- 1. वाहस
  - 2. पाहुन
  - 3. आशर
  - 4. तिमिर

Question ID : 4410091057909  
Option 1 ID : 4410094180646  
Option 2 ID : 4410094180647  
Option 3 ID : 4410094180645  
Option 4 ID : 4410094180648

Q.5 हिंदी किस भाषा परिवार की भाषा है ?

- Ans
- 1. द्रविड़ परिवार
  - 2. भारोपीय परिवार
  - 3. दक्षिण पूर्व एशियाई परिवार
  - 4. चीनी - तिब्बती परिवार

Question ID : 441009997740  
Option 1 ID : 4410093942925  
Option 2 ID : 4410093942926  
Option 3 ID : 4410093942928  
Option 4 ID : 4410093942927

Q.6 उचित कारक का प्रयोग करते हुए रिक्त स्थान की पूर्ति करें -  
वह राधा \_\_\_ बगीचा है।

- Ans
- 1. से
  - 2. की
  - 3. ने
  - 4. का

Question ID : 4410091004801  
Option 1 ID : 4410093970788  
Option 2 ID : 4410093970790  
Option 3 ID : 4410093970787  
Option 4 ID : 4410093970789

Q.7 'अतुल रेल \_\_\_ प्रयागराज गया।' उपर्युक्त रिक्त स्थान में उचित कारक का प्रयोग कीजिए-

- Ans
- 1. द्वारा
  - 2. के लिए
  - 3. का
  - 4. पर

Question ID : 4410091004790  
Option 1 ID : 4410093970744  
Option 2 ID : 4410093970745  
Option 3 ID : 4410093970746  
Option 4 ID : 4410093970743

Q.8 रेखांकित शब्द का सही पर्याय अंकित कीजिए।  
मानव की उन्नति उसके सुविचारित कर्म एवं कार्यों का ही प्रतिफल है।

- Ans
- 1. खानापूर्ति
  - 2. प्रतिमूर्ति
  - 3. पूर्ति
  - 4. परिणाम

Question ID : 4410091057802  
Option 1 ID : 4410094180218  
Option 2 ID : 4410094180220  
Option 3 ID : 4410094180217  
Option 4 ID : 4410094180219

Q.9 हिंदी के मानक रूप का विकास किस बोली से हुआ है-

- Ans
- 1. निमाड़ी
  - 2. ब्रजभाषा
  - 3. बुन्देली
  - 4. खड़ी बोली

Question ID : 441009989402  
Option 1 ID : 4410093909861  
Option 2 ID : 4410093909862  
Option 3 ID : 4410093909863  
Option 4 ID : 4410093909864

Q.10 षडानन माता पार्वती के जेष्ठ पुत्र हैं।

वाक्य में प्रयुक्त शब्द 'षडानन' का पर्यायवाची दिए गए विकल्पों में से चुनें -1262

- Ans
- 1. गणेश
  - 2. कार्तिकेय
  - 3. दुर्गा
  - 4. काली

Question ID : 4410091058047  
Option 1 ID : 4410094181200  
Option 2 ID : 4410094181197  
Option 3 ID : 4410094181198  
Option 4 ID : 4410094181199

Q.11 'दृग उरझत दूटत कुट्टम जुरत चतुर चित्त प्रीति' में कौन-सा अलंकार है?

- Ans
- 1. विभावना
  - 2. असंगति
  - 3. दृष्टांत
  - 4. अतिशयोक्ति

Question ID : 4410091004412  
Option 1 ID : 4410093969232  
Option 2 ID : 4410093969233  
Option 3 ID : 4410093969231  
Option 4 ID : 4410093969234

Q.12 निम्नलिखित वाक्यों में से किस वाक्य में विशेषण का प्रयोग नहीं हुआ है?

- Ans
- 1. वह अच्छा आदमी था, लेकिन काम न आया।
  - 2. बच्चों ने खाना खाया।
  - 3. माँ ने गरमागरम खाना बनाया।
  - 4. गुलाब के फूल मुझे पसंद हैं।

Question ID : 4410091004427  
Option 1 ID : 4410093969294  
Option 2 ID : 4410093969291  
Option 3 ID : 4410093969292  
Option 4 ID : 4410093969293

Q.13 'तुम गंदे वस्त्र \_\_\_ अच्छे नहीं लगते।' उपर्युक्त रिक्त स्थान में उचित कारक का प्रयोग कीजिए-

- Ans  1. में  
 2. का  
 3. के लिए  
 4. पर

Question ID : 4410091004788  
Option 1 ID : 4410093970735  
Option 2 ID : 4410093970737  
Option 3 ID : 4410093970738  
Option 4 ID : 4410093970736

Q.14 'उज्ज्वल' शब्द में कौन-सी संधि है?

- Ans  1. अयादि संधि  
 2. व्यंजन संधि  
 3. स्वर संधि  
 4. वृद्धि संधि

Question ID : 4410091004419  
Option 1 ID : 4410093969262  
Option 2 ID : 4410093969259  
Option 3 ID : 4410093969260  
Option 4 ID : 4410093969261

Q.15 'निष्पाप' में कौन-सी संधि है?

- Ans  1. विसर्ग संधि  
 2. यण संधि  
 3. वृद्धि संधि  
 4. अयादि संधि

Question ID : 4410091004421  
Option 1 ID : 4410093969269  
Option 2 ID : 4410093969268  
Option 3 ID : 4410093969267  
Option 4 ID : 4410093969270

Q.16 दिए गए विकल्पों में 'उछाह' शब्द का तत्सम रूप है -

- Ans  1. उत्साह  
 2. उद्गत  
 3. उजास  
 4. उश्साह

Question ID : 4410091054443  
Option 1 ID : 4410094166782  
Option 2 ID : 4410094166784  
Option 3 ID : 4410094166783  
Option 4 ID : 4410094166781

Q.17 "संघ में शासकीय प्रयोजनों के लिए प्रयोग किए जाने के लिए तत्समय प्राधिकृत भाषा, एक राज्य और दूसरे राज्य के बीच तथा किसी राज्य और संघ के बीच पत्रादि की राजभाषा होगी, परंतु यदि दो या अधिक राज्य यह करार करते हैं कि उन राज्यों के बीच पत्रादि की राजभाषा, हिंदी भाषा होगी तो ऐसे पत्रादि के लिए उस भाषा का प्रयोग किया जा सकेगा।" यह भारतीय संविधान के किस अनुच्छेद में अंतर्निहित है -

- Ans
- 1. अनुच्छेद 346 में
  - 2. अनुच्छेद 120 में
  - 3. अनुच्छेद 210 में
  - 4. अनुच्छेद 348 में

Question ID : 441009989406  
Option 1 ID : 4410093909877  
Option 2 ID : 4410093909878  
Option 3 ID : 4410093909880  
Option 4 ID : 4410093909879

Q.18 'सुमुख' शब्द का विलोम है -

- Ans
- 1. दुर्गंध
  - 2. दुर्मुख
  - 3. दुर्लभ
  - 4. स्थूल

Question ID : 4410091054512  
Option 1 ID : 4410094167060  
Option 2 ID : 4410094167059  
Option 3 ID : 4410094167057  
Option 4 ID : 4410094167058

Q.19 भारत रत्न अटल बिहारी वाजपेयी जी ने, भारत के पहले व्यक्ति के रूप में, 4 अक्टूबर 1977 में आयोजित संयुक्त राष्ट्र संघ की महासभा के 32वें सत्र में अपना वक्तव्य किस भाषा में दिया -

- Ans
- 1. अंग्रेजी भाषा में
  - 2. मानक हिंदी भाषा में
  - 3. मलयालम भाषा में
  - 4. गुजराती भाषा में

Question ID : 441009989395  
Option 1 ID : 4410093909833  
Option 2 ID : 4410093909835  
Option 3 ID : 4410093909836  
Option 4 ID : 4410093909834

Q.20 निम्नलिखित में से कौन-सी एक शैली मानक हिन्दी की नहीं है -

- Ans
- 1. हिंदुस्तानी शैली
  - 2. रोमन शैली
  - 3. उर्दू शैली
  - 4. संस्कृतनिष्ठ हिन्दी शैली

Question ID : 441009989399  
Option 1 ID : 4410093909852  
Option 2 ID : 4410093909849  
Option 3 ID : 4410093909851  
Option 4 ID : 4410093909850

**Comprehension:**

निम्नलिखित गद्यांश को ध्यानपूर्वक पढ़ें और पूछे गए प्रश्नों के उत्तर दें।  
जेठ-आषाढ़ आते-आते नदी-नालों में चिलम की स्यापी भिगोने को भी पानी नहीं रहता। धरती की गरमगट छाती को खूँदता हुआ माँग्या बाजार जा रहा है। उसकी आँखों में दोनों बच्चे बैठे हुए हैं। किलोल करते बच्चे। आँखों में ऊधम मचाते बच्चे। सपनों से अनजाने बच्चे। गर्मी को ठेंगा दिखाते बच्चे। बबूल की छाया में खड़े होकर दूर से सेठ के खेत में पेड़ पर पकते आमों को देखते बच्चे। सूखे टिक्कड़ों पर पलते बच्चे। सिर्फ दाल-रोटी की चाहत में जीते बच्चे। उस रोटी के साथ भी दाल नहीं। देखते-देखते तमतमाते घाम में माँग्या की आँखें लाल हो जाती हैं। फड्क-फड्क पाँव धूल भरी गड़वाट और जोर से गिरने लगते हैं। उसे पच्चीस साल पहले के अपने बचपन और अपने बच्चों के बचपन में राई- रत्ती फर्क नजर नहीं आता है। ग्रीष्म के ताप और आतिश से ज़ख्मी धरती की देह पर आकाश बादलों के फाहे रख देता है, पर गरीबी से अधजली जिंदगियों को तो ताउम्र अरंडी के पेड़ की छाया भी नसीब नहीं होती। आजादी के सड़सठ सालों में तथा पुरानी शिक्षा-नई शिक्षा का ढोल पीटने के बाद भी यह सच है कि माँग्या के बच्चों की आँख ढोर चराते-चराते खुलती है।<sup>854</sup>

**SubQuestion No : 1**

**Q.1 उपरोक्त गद्यांश के आधार पर निम्नलिखित वाक्य का आशय स्पष्ट करें।**

**'आजादी के सड़सठ सालों में तथा पुरानी शिक्षा-नई शिक्षा का ढोल पीटने के बाद भी यह सच है कि माँग्या के बच्चों की आँख ढोर चराते-चराते खुलती है।'<sup>855</sup>**

- Ans**
- 1. आजादी के बाद माँग्या जैसे लोगों की स्थिति में सकारात्मक सुधार हुआ है।
  - 2. आजादी के इतने वर्ष बाद भी माँग्या जैसे लोगों की स्थिति में कोई सुधार नहीं है।
  - 3. आजादी के बाद माँग्या जैसे लोगों ने बहुत ढोर चराये है।
  - 4. आजादी के बाद माँग्या जैसे लोगों ने बहुत धन कमाया है।

Question ID : 4410091065726  
Option 1 ID : 4410094209000  
Option 2 ID : 4410094208999  
Option 3 ID : 4410094209002  
Option 4 ID : 4410094209001

**Comprehension:**

निम्नलिखित गद्यांश को ध्यानपूर्वक पढ़ें और पूछे गए प्रश्नों के उत्तर दें।  
जेठ-आषाढ़ आते-आते नदी-नालों में चिलम की स्यापी भिगोने को भी पानी नहीं रहता। धरती की गरमगट छाती को खूँदता हुआ माँग्या बाजार जा रहा है। उसकी आँखों में दोनों बच्चे बैठे हुए हैं। किलोल करते बच्चे। आँखों में ऊधम मचाते बच्चे। सपनों से अनजाने बच्चे। गर्मी को ठेंगा दिखाते बच्चे। बबूल की छाया में खड़े होकर दूर से सेठ के खेत में पेड़ पर पकते आमों को देखते बच्चे। सूखे टिक्कड़ों पर पलते बच्चे। सिर्फ दाल-रोटी की चाहत में जीते बच्चे। उस रोटी के साथ भी दाल नहीं। देखते-देखते तमतमाते घाम में माँग्या की आँखें लाल हो जाती हैं। फड्क-फड्क पाँव धूल भरी गड़वाट और जोर से गिरने लगते हैं। उसे पच्चीस साल पहले के अपने बचपन और अपने बच्चों के बचपन में राई- रत्ती फर्क नजर नहीं आता है। ग्रीष्म के ताप और आतिश से ज़ख्मी धरती की देह पर आकाश बादलों के फाहे रख देता है, पर गरीबी से अधजली जिंदगियों को तो ताउम्र अरंडी के पेड़ की छाया भी नसीब नहीं होती। आजादी के सड़सठ सालों में तथा पुरानी शिक्षा-नई शिक्षा का ढोल पीटने के बाद भी यह सच है कि माँग्या के बच्चों की आँख ढोर चराते-चराते खुलती है।<sup>854</sup>

**SubQuestion No : 2**

**Q.2 उपरोक्त गद्यांश के आधार पर रिक्त स्थान की पूर्ति करें।**

**उसे पच्चीस साल पहले के अपने \_\_\_\_\_ और अपने बच्चों के बचपन में राई- रत्ती फर्क नजर नहीं आता है।<sup>856</sup>**

- Ans**
- 1. बचपन
  - 2. प्रौढ़ावस्था
  - 3. बुढ़ापा
  - 4. जवानी

Question ID : 4410091065727  
Option 1 ID : 4410094209003  
Option 2 ID : 4410094209006  
Option 3 ID : 4410094209005  
Option 4 ID : 4410094209004

**Comprehension:**

निम्नलिखित गद्यांश को ध्यानपूर्वक पढ़ें और पूछे गए प्रश्नों के उत्तर दें।  
जेठ-आषाढ़ आते-आते नदी-नालो में चिलम की स्यापी भिगोने को भी पानी नहीं रहता। धरती की गरमगट छाती को खूँदता हुआ माँग्या बाजार जा रहा है। उसकी आँखों में दोनों बच्चे बैठे हुए हैं। किलोल करते बच्चे। आँखों में ऊधम मचाते बच्चे। सपनों से अनजाने बच्चे। गर्मी को ठेंगा दिखाते बच्चे। बबूल की छाया में खड़े होकर दूर से सेठ के खेत में पेड़ पर पकते आमों को देखते बच्चे। सूखे टिककड़ों पर पलते बच्चे। सिर्फ दाल-रोटी की चाहत में जीते बच्चे। उस रोटी के साथ भी दाल नहीं। देखते-देखते तमतमाते घाम में माँग्या की आँखें लाल हो जाती हैं। फड्क-फड्क पाँव धूल भरी गड़वाट और जोर से गिरने लगते हैं। उसे पच्चीस साल पहले के अपने बचपन और अपने बच्चों के बचपन में राई- रत्ती फर्क नजर नहीं आता है। ग्रीष्म के ताप और आतिश से ज़रखी धरती की देह पर आकाश बादलों के फाहे रख देता है, पर गरीबी से अधजली जिंदगियों को तो ताउग्र अरंडी के पेड़ की छाया भी नसीब नहीं होती। आजादी के सड़सठ सालों में तथा पुरानी शिक्षा-नई शिक्षा का ढोल पीटने के बाद भी यह सच है कि माँग्या के बच्चों की आँख ढोर चराते-चराते खुलती है।<sup>854</sup>

**SubQuestion No : 3**

**Q.3 उपरोक्त गद्यांश के आधार पर उत्तर दें। इतनी गर्मी में माँग्या कहाँ जा रहा था?857**

- Ans  1. खेत  
 2. बाज़ार  
 3. घर  
 4. विदेश

Question ID : 4410091065728  
Option 1 ID : 4410094209009  
Option 2 ID : 4410094209007  
Option 3 ID : 4410094209008  
Option 4 ID : 4410094209010

**Comprehension:**

निम्नलिखित गद्यांश को ध्यानपूर्वक पढ़ें और पूछे गए प्रश्नों के उत्तर दें।  
जेठ-आषाढ़ आते-आते नदी-नालो में चिलम की स्यापी भिगोने को भी पानी नहीं रहता। धरती की गरमगट छाती को खूँदता हुआ माँग्या बाजार जा रहा है। उसकी आँखों में दोनों बच्चे बैठे हुए हैं। किलोल करते बच्चे। आँखों में ऊधम मचाते बच्चे। सपनों से अनजाने बच्चे। गर्मी को ठेंगा दिखाते बच्चे। बबूल की छाया में खड़े होकर दूर से सेठ के खेत में पेड़ पर पकते आमों को देखते बच्चे। सूखे टिककड़ों पर पलते बच्चे। सिर्फ दाल-रोटी की चाहत में जीते बच्चे। उस रोटी के साथ भी दाल नहीं। देखते-देखते तमतमाते घाम में माँग्या की आँखें लाल हो जाती हैं। फड्क-फड्क पाँव धूल भरी गड़वाट और जोर से गिरने लगते हैं। उसे पच्चीस साल पहले के अपने बचपन और अपने बच्चों के बचपन में राई- रत्ती फर्क नजर नहीं आता है। ग्रीष्म के ताप और आतिश से ज़रखी धरती की देह पर आकाश बादलों के फाहे रख देता है, पर गरीबी से अधजली जिंदगियों को तो ताउग्र अरंडी के पेड़ की छाया भी नसीब नहीं होती। आजादी के सड़सठ सालों में तथा पुरानी शिक्षा-नई शिक्षा का ढोल पीटने के बाद भी यह सच है कि माँग्या के बच्चों की आँख ढोर चराते-चराते खुलती है।<sup>854</sup>

**SubQuestion No : 4**

**Q.4 निम्नलिखित विकल्पों में से बचपन शब्द का उचित पर्यायवाची शब्द बताएं।**

- Ans  1. प्रौढ़ावस्था  
 2. बाल्यावस्था  
 3. बुढ़ापा  
 4. जवानी

Question ID : 4410091065729  
Option 1 ID : 4410094209014  
Option 2 ID : 4410094209011  
Option 3 ID : 4410094209013  
Option 4 ID : 4410094209012

**Comprehension:**

निम्नलिखित गद्यांश को ध्यानपूर्वक पढ़ें और पूछे गए प्रश्नों के उत्तर दें।  
जेठ-आषाढ़ आते-आते नदी-नालों में चिलम की स्यापी भिगोने को भी पानी नहीं रहता। धरती की गरमगट छाती को खूँदता हुआ माँग्या बाजार जा रहा है। उसकी आँखों में दोनों बच्चे बैठे हुए हैं। किलोल करते बच्चे। आँखों में ऊधम मचाते बच्चे। सपनों से अनजाने बच्चे। गर्मी को ठेंगा दिखाते बच्चे। बबूल की छाया में खड़े होकर दूर से सेठ के खेत में पेड़ पर पकते आमों को देखते बच्चे। सूखे टिककड़ों पर पलते बच्चे। सिर्फ दाल-रोटी की चाहत में जीते बच्चे। उस रोटी के साथ भी दाल नहीं। देखते-देखते तमतमाते घाम में माँग्या की आँखें लाल हो जाती हैं। फडक-फडक पाँव धूल भरी गड़वाट और जोर से गिरने लगते हैं। उसे पच्चीस साल पहले के अपने बचपन और अपने बच्चों के बचपन में राई- रत्ती फर्क नजर नहीं आता है। ग्रीष्म के ताप और आतिश से ज़ख्मी धरती की देह पर आकाश बादलों के फाहे रख देता है, पर गरीबी से अधजली जिंदगियों को तो ताउग्र अरंडी के पेड़ की छाया भी नसीब नहीं होती। आजादी के सड़सठ सालों में तथा पुरानी शिक्षा-नई शिक्षा का ढोल पीटने के बाद भी यह सच है कि माँग्या के बच्चों की आँख ढोर चराते-चराते खुलती है।<sup>1854</sup>

**SubQuestion No : 5**

**Q.5 निम्नलिखित विकल्पों में से ताउग्र शब्द का उचित शब्दार्थ बताएं।<sup>1859</sup>**

- Ans  1. बचा हुआ जीवन  
 2. आधा जीवन  
 3. सम्पूर्ण जीवन  
 4. आने वाला समय

Question ID : 4410091065730  
Option 1 ID : 4410094209017  
Option 2 ID : 4410094209016  
Option 3 ID : 4410094209015  
Option 4 ID : 4410094209018

**Comprehension:**

निम्नलिखित गद्यांश को ध्यानपूर्वक पढ़कर पूछे गए प्रश्नों के लिए सही विकल्प चुनकर लिखें

विद्यार्थी-जीवन को मानव-जीवन की रीढ़ की हड्डी कहें तो कोई अतिशयोक्ति नहीं होगी। विद्यार्थी काल में बालक में जो संस्कार पड़े जाते हैं, जीवनभर वही संस्कार अमिट रहते हैं। इसीलिए यही काल मानव जीवन की आधारशिला कहा गया है। यदि यह नींव दृढ़ बन जाती है तो जीवन सुदृढ़ और सुखी बन जाता है। यदि इस काल में बालक कष्ट सहन कर लेता है, तो उसका स्वास्थ्य सुंदर बनता है। यदि मन लगाकर अध्ययन कर लेता है तो उसे ज्ञान मिलता है, उसका मानसिक विकास होता है। जिस वृक्ष को प्रारंभ से सुंदर सिंचन और खाद मिल जाती है, वह एवं पल्लवित पुष्पित होकर संसार को सौरभ देने लगता है। इसी प्रकार विद्यार्थी काल में जो बालक श्रम, अनुशासन एवं समय नियमन के साँचे में ढल जाता है, वह आदर्श विद्यार्थी बनकर सभ्य नागरिक बन जाता है। सभ्य नागरिक के लिए जिन-जिन गुणों की आवश्यकता है, उन गुणों के लिए विद्यार्थी काल ही एक सुंदर पाठशाला है। यहाँ पर अपने साथियों के बीच रहकर वे सभी गुण आ जाने आवश्यक हैं, जिनकी विद्यार्थी को अपने जीवन में आवश्यकता होती है। विद्यार्थी जीवन मानवीय गुणों को अंगीभूत करने का काल है। सुख-दुःख, हानि-लाभ, सरदी गरमी से परे होकर जब विद्यार्थी नित्य अध्ययनशील हो जाता है, तब उसका जीवन सफल हो जाता है। विद्या प्राप्ति के निमित्त कुछ कष्ट तो उठाने ही पड़ते हैं, आग में तपे बिना सोना शुद्ध नहीं होता। इसलिए आदर्श विद्यार्थी जीवन में सुख की चाह न रखते हुए केवल विद्या की चाह रखता है। वह धैर्य, साहस, ईमानदारी, लगनशीलता, गुरुभक्ति, स्वाभिमान जैसे गुणों को धारण करता हुआ जीवन-पथ पर बढ़ता ही चला जाता है। वह संयमित जीवन जीता है ताकि विद्यार्जन में बाधा उत्पन्न न हो। वह नियमबद्ध और अनुशासित रहता है। वह समय की पाबंदी पर विशेष ध्यान देता है।

**SubQuestion No : 6**

**Q.6 गद्यांश में आदर्श विद्यार्थी के किन गुणों की चर्चा की गई है?**

- Ans  1. नियमावली का पालन  
 2. व्यायाम  
 3. ज्ञान-प्राप्ति हेतु ध्यान की आवश्यकता  
 4. श्रम, अनुशासन एवं समय नियमन

Question ID : 441009185707  
Option 1 ID : 441009734124  
Option 2 ID : 441009734127  
Option 3 ID : 441009734126  
Option 4 ID : 441009734125

**Comprehension:**

निम्नलिखित गद्यांश को ध्यानपूर्वक पढ़कर पूछे गए प्रश्नों के लिए सही विकल्प चुनकर लिखें

विद्यार्थी-जीवन को मानव-जीवन की रीढ़ की हड्डी कहें तो कोई अतिशयोक्ति नहीं होगी। विद्यार्थी काल में बालक में जो संस्कार पड़ जाते हैं, जीवनभर वही संस्कार अमिट रहते हैं। इसीलिए यही काल मानव जीवन की आधारशिला कहा गया है। यदि यह नींव दृढ़ बन जाती है तो जीवन सुदृढ़ और सुखी बन जाता है। यदि इस काल में बालक कष्ट सहन कर लेता है, तो उसका स्वास्थ्य सुंदर बनता है। यदि मन लगाकर अध्ययन कर लेता है तो उसे ज्ञान मिलता है, उसका मानसिक विकास होता है। जिस वृक्ष को प्रारंभ से सुंदर सिंचन और खाद मिल जाती है, वह एवं पल्लवित पुष्पित होकर संसार को सौरभ देने लगता है। इसी प्रकार विद्यार्थी काल में जो बालक श्रम, अनुशासन एवं समय नियमन के साँचे में ढल जाता है, वह आदर्श विद्यार्थी बनकर सभ्य नागरिक बन जाता है। सभ्य नागरिक के लिए जिन-जिन गुणों की आवश्यकता है, उन गुणों के लिए विद्यार्थी काल ही एक सुंदर पाठशाला है। यहाँ पर अपने साथियों के बीच रहकर वे सभी गुण आ जाने आवश्यक हैं, जिनकी विद्यार्थी को अपने जीवन में आवश्यकता होती है। विद्यार्थी जीवन मानवीय गुणों को अंगीभूत करने का काल है। सुख-दुःख, हानि-लाभ, सरदी गरमी से परे होकर जब विद्यार्थी नित्य अध्ययनशील हो जाता है, तब उसका जीवन सफल हो जाता है। विद्या प्राप्ति के निमित्त कुछ कष्ट तो उठाने ही पड़ते हैं, आग में तपे बिना सोना शुद्ध नहीं होता। इसलिए आदर्श विद्यार्थी जीवन में सुख की चाह न रखते हुए केवल विद्या की चाह रखता है। वह धैर्य, साहस, ईमानदारी, लगनशीलता, गुरुभक्ति, स्वाभिमान जैसे गुणों को धारण करता हुआ जीवन-पथ पर बढ़ता ही चला जाता है। वह संयमित जीवन जीता है ताकि विद्यार्जन में बाधा उत्पन्न न हो। वह नियमबद्ध और अनुशासित रहता है। वह समय की पाबंदी पर विशेष ध्यान देता है।

**SubQuestion No : 7**

**Q.7 गद्यांश के आधार पर कहा जा सकता है कि-**

- Ans  1. कष्ट सहन करने से सेहत बनती है
2. विद्यार्थी - जीवन में व्यक्ति अनेक गुणों को धारण कर लेता है
3. वृक्षों को सींचना पर्यावरण के लिए आवश्यक है
4. विद्यार्थी जीवन के लिए सुंदर पाठशाला की आवश्यकता होती है

Question ID : 441009185708  
Option 1 ID : 441009734130  
Option 2 ID : 441009734129  
Option 3 ID : 441009734131  
Option 4 ID : 441009734128

**Comprehension:**

निम्नलिखित गद्यांश को ध्यानपूर्वक पढ़कर पूछे गए प्रश्नों के लिए सही विकल्प चुनकर लिखें

विद्यार्थी-जीवन को मानव-जीवन की रीढ़ की हड्डी कहें तो कोई अतिशयोक्ति नहीं होगी। विद्यार्थी काल में बालक में जो संस्कार पड़ जाते हैं, जीवनभर वही संस्कार अमिट रहते हैं। इसीलिए यही काल मानव जीवन की आधारशिला कहा गया है। यदि यह नींव दृढ़ बन जाती है तो जीवन सुदृढ़ और सुखी बन जाता है। यदि इस काल में बालक कष्ट सहन कर लेता है, तो उसका स्वास्थ्य सुंदर बनता है। यदि मन लगाकर अध्ययन कर लेता है तो उसे ज्ञान मिलता है, उसका मानसिक विकास होता है। जिस वृक्ष को प्रारंभ से सुंदर सिंचन और खाद मिल जाती है, वह एवं पल्लवित पुष्पित होकर संसार को सौरभ देने लगता है। इसी प्रकार विद्यार्थी काल में जो बालक श्रम, अनुशासन एवं समय नियमन के साँचे में ढल जाता है, वह आदर्श विद्यार्थी बनकर सभ्य नागरिक बन जाता है। सभ्य नागरिक के लिए जिन-जिन गुणों की आवश्यकता है, उन गुणों के लिए विद्यार्थी काल ही एक सुंदर पाठशाला है। यहाँ पर अपने साथियों के बीच रहकर वे सभी गुण आ जाने आवश्यक हैं, जिनकी विद्यार्थी को अपने जीवन में आवश्यकता होती है। विद्यार्थी जीवन मानवीय गुणों को अंगीभूत करने का काल है। सुख-दुःख, हानि-लाभ, सरदी गरमी से परे होकर जब विद्यार्थी नित्य अध्ययनशील हो जाता है, तब उसका जीवन सफल हो जाता है। विद्या प्राप्ति के निमित्त कुछ कष्ट तो उठाने ही पड़ते हैं, आग में तपे बिना सोना शुद्ध नहीं होता। इसलिए आदर्श विद्यार्थी जीवन में सुख की चाह न रखते हुए केवल विद्या की चाह रखता है। वह धैर्य, साहस, ईमानदारी, लगनशीलता, गुरुभक्ति, स्वाभिमान जैसे गुणों को धारण करता हुआ जीवन-पथ पर बढ़ता ही चला जाता है। वह संयमित जीवन जीता है ताकि विद्यार्जन में बाधा उत्पन्न न हो। वह नियमबद्ध और अनुशासित रहता है। वह समय की पाबंदी पर विशेष ध्यान देता है।

**SubQuestion No : 8**

**Q.8 विद्यार्थी जीवन को मानव जीवन की रीढ़ की हड्डी क्यों माना जाता है?**

- Ans  1. विद्यार्थी जीवन में ज्ञान मिलता है
2. जो संस्कार विद्यार्थी जीवन में पड़ जाते हैं, वे संस्कार स्थायी हो जाते हैं
3. पूरा जीवन विद्यार्थी जीवन पर चलता है
4. विद्यार्थी-जीवन सुखी जीवन होता है

Question ID : 441009185709  
Option 1 ID : 441009734135  
Option 2 ID : 441009734133  
Option 3 ID : 441009734132  
Option 4 ID : 441009734134

**Comprehension:**

निम्नलिखित गद्यांश को ध्यानपूर्वक पढ़कर पूछे गए प्रश्नो के लिए सही विकल्प चुनकर लिखे

विद्यार्थी-जीवन को मानव-जीवन की रीढ़ की हड्डी कहें तो कोई अतिशयोक्ति नहीं होगी। विद्यार्थी काल में बालक में जो संस्कार पड़ जाते हैं, जीवनभर वही संस्कार अमिट रहते हैं। इसीलिए यही काल मानव जीवन की आधारशिला कहा गया है। यदि यह नींव दृढ़ बन जाती है तो जीवन सुदृढ़ और सुखी बन जाता है। यदि इस काल में बालक कष्ट सहन कर लेता है, तो उसका स्वास्थ्य सुंदर बनता है। यदि मन लगाकर अध्ययन कर लेता है तो उसे ज्ञान मिलता है, उसका मानसिक विकास होता है। जिस वृक्ष को प्रारंभ से सुंदर सिंचन और खाद मिल जाती है, वह एवं पल्लवित पुष्पित होकर संसार को सौरभ देने लगता है। इसी प्रकार विद्यार्थी काल में जो बालक श्रम, अनुशासन एवं समय नियमन के साँचे में ढल जाता है, वह आदर्श विद्यार्थी बनकर सभ्य नागरिक बन जाता है। सभ्य नागरिक के लिए जिन-जिन गुणों की आवश्यकता है, उन गुणों के लिए विद्यार्थी काल ही एक सुंदर पाठशाला है। यहाँ पर अपने साथियों के बीच रहकर वे सभी गुण आ जाने आवश्यक हैं, जिनकी विद्यार्थी को अपने जीवन में आवश्यकता होती है। विद्यार्थी जीवन मानवीय गुणों को अंगीभूत करने का काल है। सुख-दुःख, हानि-लाभ, सरदी गरमी से परे होकर जब विद्यार्थी नित्य अध्ययनशील हो जाता है, तब उसका जीवन सफल हो जाता है। विद्या प्राप्ति के निमित्त कुछ कष्ट तो उठाने ही पड़ते हैं, आग में तपे बिना सोना शुद्ध नहीं होता। इसलिए आदर्श विद्यार्थी जीवन में सुख की चाह न रखते हुए केवल विद्या की चाह रखता है। वह धैर्य, साहस, ईमानदारी, लगनशीलता, गुरुभक्ति, स्वाभिमान जैसे गुणों को धारण करता हुआ जीवन-पथ पर बढ़ता ही चला जाता है। वह संयमित जीवन जीता है ताकि विद्यार्जन में बाधा उत्पन्न न हो। वह नियमबद्ध और अनुशासित रहता है। वह समय की पाबंदी पर विशेष ध्यान देता है।

**SubQuestion No : 9**

**Q.9 प्रस्तुत गद्यांश का उचित शीर्षक लिखिए।**

Ans  1. नौकरी

2. विद्यार्थी जीवन

3. व्यायाम

4. ज्ञान-प्राप्ति हेतु ध्यान की आवश्यकता

Question ID : 441009185710

Option 1 ID : 441009734139

Option 2 ID : 441009734137

Option 3 ID : 441009734138

Option 4 ID : 441009734136

**Comprehension:**

निम्नलिखित गद्यांश को ध्यानपूर्वक पढ़कर पूछे गए प्रश्नो के लिए सही विकल्प चुनकर लिखे

विद्यार्थी-जीवन को मानव-जीवन की रीढ़ की हड्डी कहें तो कोई अतिशयोक्ति नहीं होगी। विद्यार्थी काल में बालक में जो संस्कार पड़ जाते हैं, जीवनभर वही संस्कार अमिट रहते हैं। इसीलिए यही काल मानव जीवन की आधारशिला कहा गया है। यदि यह नींव दृढ़ बन जाती है तो जीवन सुदृढ़ और सुखी बन जाता है। यदि इस काल में बालक कष्ट सहन कर लेता है, तो उसका स्वास्थ्य सुंदर बनता है। यदि मन लगाकर अध्ययन कर लेता है तो उसे ज्ञान मिलता है, उसका मानसिक विकास होता है। जिस वृक्ष को प्रारंभ से सुंदर सिंचन और खाद मिल जाती है, वह एवं पल्लवित पुष्पित होकर संसार को सौरभ देने लगता है। इसी प्रकार विद्यार्थी काल में जो बालक श्रम, अनुशासन एवं समय नियमन के साँचे में ढल जाता है, वह आदर्श विद्यार्थी बनकर सभ्य नागरिक बन जाता है। सभ्य नागरिक के लिए जिन-जिन गुणों की आवश्यकता है, उन गुणों के लिए विद्यार्थी काल ही एक सुंदर पाठशाला है। यहाँ पर अपने साथियों के बीच रहकर वे सभी गुण आ जाने आवश्यक हैं, जिनकी विद्यार्थी को अपने जीवन में आवश्यकता होती है। विद्यार्थी जीवन मानवीय गुणों को अंगीभूत करने का काल है। सुख-दुःख, हानि-लाभ, सरदी गरमी से परे होकर जब विद्यार्थी नित्य अध्ययनशील हो जाता है, तब उसका जीवन सफल हो जाता है। विद्या प्राप्ति के निमित्त कुछ कष्ट तो उठाने ही पड़ते हैं, आग में तपे बिना सोना शुद्ध नहीं होता। इसलिए आदर्श विद्यार्थी जीवन में सुख की चाह न रखते हुए केवल विद्या की चाह रखता है। वह धैर्य, साहस, ईमानदारी, लगनशीलता, गुरुभक्ति, स्वाभिमान जैसे गुणों को धारण करता हुआ जीवन-पथ पर बढ़ता ही चला जाता है। वह संयमित जीवन जीता है ताकि विद्यार्जन में बाधा उत्पन्न न हो। वह नियमबद्ध और अनुशासित रहता है। वह समय की पाबंदी पर विशेष ध्यान देता है।

**SubQuestion No : 10**

**Q.10 मानव जीवन की आधारशिला क्या है?**

Ans  1. व्यायाम

2. विद्यार्थी काल

3. नौकरी

4. ज्ञान बखान

Question ID : 441009185711

Option 1 ID : 441009734143

Option 2 ID : 441009734141

Option 3 ID : 441009734140

Option 4 ID : 441009734142

Q.1 अधिगम के व्यवहारवादी सिद्धांतों के अनुसार, अधिगम का सर्वोत्तम रूप से वर्णन कैसे किया जाता है?

- Ans
- 1. आत्म-प्रत्यक्षीकरण और व्यक्तिगत विकास की एक प्रक्रिया के रूप में
  - 2. उद्दीपक अनुक्रिया अनुकूलन प्रक्रिया के परिणामस्वरूप व्यवहार में परिवर्तन के रूप में
  - 3. सामाजिक अंतःक्रिया और प्रेक्षण के माध्यम से अधिगम के रूप में
  - 4. आंतरिक प्रक्रमण के माध्यम से मानसिक संरचनाओं में परिवर्तन के रूप में

Question ID : 4410091079862  
Option 1 ID : 4410094256700  
Option 2 ID : 4410094256702  
Option 3 ID : 4410094256703  
Option 4 ID : 4410094256701

Q.2 अधिगम संसाधन विकास के संदर्भ में, अंतर्वस्तु वैधता (content validity) से क्या तात्पर्य है?

- Ans
- 1. संसाधन में प्रस्तुत जानकारी की सटीकता और सत्यनिष्ठा
  - 2. मानकीकृत परीक्षण में सहायता करने की संसाधन की अधिकतम सीमा
  - 3. विद्यार्थियों की अभिरुचियों के लिए संसाधन की प्रासंगिकता
  - 4. संसाधन की शिक्षार्थियों को संलग्न करने की क्षमता

Question ID : 441009998566  
Option 1 ID : 4410093946146  
Option 2 ID : 4410093946148  
Option 3 ID : 4410093946147  
Option 4 ID : 4410093946145

Q.3 पाठ योजना का कौन-सा उपागम उद्देश्य-आधारित शिक्षण और परीक्षण पर आधारित है?

- Ans
- 1. मॉरिसन (Morrison) का इकाई उपागम
  - 2. बी.एस. ब्लूम (BS Bloom) का मूल्यांकन उपागम
  - 3. हर्बर्टियन (Herbartian) उपागम
  - 4. परियोजना उपागम

Question ID : 4410091142438  
Option 1 ID : 4410094504685  
Option 2 ID : 4410094504686  
Option 3 ID : 4410094504684  
Option 4 ID : 4410094504687

Q.4 उद्देश्यों के विरुद्ध विषय वस्तु का विश्लेषण करना क्यों महत्वपूर्ण है?

- Ans
- 1. आकलन से बचने के लिए
  - 2. शिक्षण-अधिगम का संरेखण सुनिश्चित करने के लिए
  - 3. कक्षाओं को सजाने के लिए
  - 4. शिक्षण का समय कम करने के लिए

Question ID : 4410091142437  
Option 1 ID : 4410094504683  
Option 2 ID : 4410094504681  
Option 3 ID : 4410094504682  
Option 4 ID : 4410094504680

Q.5 बहुभाषीय शिक्षा, \_\_\_\_\_ को सपोर्ट करती है।

- Ans
- 1. सांस्कृतिक विविधता की उपेक्षा
  - 2. संज्ञानात्मक लचीलेपन और समावेशन
  - 3. एकभाषी प्राथमिकताओं
  - 4. प्रथम-भाषा विशिष्टता

Question ID : 4410091136076  
Option 1 ID : 4410094479551  
Option 2 ID : 4410094479549  
Option 3 ID : 4410094479550  
Option 4 ID : 4410094479548

Q.6 'सौंदर्यबोध (aesthetics)' शब्द की उत्पत्ति \_\_\_\_\_ शब्द से हुई है।

- A) ग्रीक
- B) फ्रेंच
- C) लैटिन
- D) स्पेनिश

- Ans
- 1. D
  - 2. A
  - 3. C
  - 4. B

Question ID : 441009989146  
Option 1 ID : 4410093908884  
Option 2 ID : 4410093908881  
Option 3 ID : 4410093908883  
Option 4 ID : 4410093908882

Q.7 फ्लिप कक्षा मॉडल (flipped classroom model) की मुख्य विशेषता क्या है?

- Ans
- 1. आकलन सहित सभी शिक्षण गतिविधियां कक्षा के बाहर आयोजित की जाती हैं।
  - 2. विद्यार्थी कक्षा के बाहर, शिक्षण सामग्री से जुड़ते हैं, जैसे कि वीडियो व्याख्यान के माध्यम से, और कक्षा के समय का उपयोग सक्रिय अधिगम और संकल्पनाओं के अनुप्रयोग के लिए करते हैं।
  - 3. विद्यार्थी को कक्षा के दौरान व्याख्यानों के माध्यम से ही नई विषय-वस्तु प्राप्त होती है।
  - 4. शिक्षक मुख्य रूप से पारंपरिक पाठ्यपुस्तकों और व्याख्यानों के माध्यम से प्रौद्योगिकी को शामिल किए बिना विषय-वस्तु प्रदान करते हैं।

Question ID : 44100998596  
Option 1 ID : 4410093946268  
Option 2 ID : 4410093946266  
Option 3 ID : 4410093946265  
Option 4 ID : 4410093946267

Q.8 एक समावेशी शिक्षक अनुच्छेद 25 के अनुरूप यह सुनिश्चित करता है कि \_\_\_\_\_।

- Ans
- 1. केवल शैक्षणिक रूप से होनहार विद्यार्थियों की ही सहायता की जाए
  - 2. सहायता केवल दृष्टिगत अशक्त बच्चों को दी जाए
  - 3. बच्चे की पृष्ठभूमि या माता-पिता की स्थिति की परवाह किए बिना सहायता प्रदान की जाए
  - 4. विशेषाधिकार प्राप्त पृष्ठभूमि के बच्चों पर अतिरिक्त ध्यान दिया जाए

Question ID : 4410091079177  
Option 1 ID : 4410094253990  
Option 2 ID : 4410094253993  
Option 3 ID : 4410094253991  
Option 4 ID : 4410094253992

Q.9 हर्बार्टियन दृष्टिकोण में, 'पूर्व ज्ञान का परीक्षण' चरण का उद्देश्य क्या है?

- Ans
- ✓ 1. प्रभावी योजना बनाने हेतु छात्र पहले से क्या जानते हैं यह निर्धारित करना
  - ✗ 2. पाठ्यक्रम के साथ पाठ्यपुस्तक के संरेखण की जाँच करना
  - ✗ 3. छात्रों के इनपुट के बिना नई विषयवस्तु प्रस्तुत करना
  - ✗ 4. विषय के बारे में शिक्षक के ज्ञान का परीक्षण करना

Question ID : 4410091142439

Option 1 ID : 4410094504690

Option 2 ID : 4410094504691

Option 3 ID : 4410094504689

Option 4 ID : 4410094504688

Q.10 शिक्षक, भाषा-बोध कला के अलावा अन्य विषयों में विद्यार्थियों के भाषा विकास में किस प्रकार से सहायता कर सकते हैं?

- Ans
- ✗ 1. विद्यार्थियों की भाषा के प्रयोग को सरल वाक्यांशों तक सीमित करके और जटिल वाक्यों का प्रयोग न करके
  - ✗ 2. भाषा अनुदेश का प्रयोग न करके और केवल अंतर्वस्तु ज्ञान पर फोकस करके
  - ✓ 3. विद्यार्थियों को विषय-विशिष्ट सामग्री पढ़ने, लिखने और चर्चा करने के लिए लगातार अवसर प्रदान करके
  - ✗ 4. बिना किसी मौखिक या लिखित स्पष्टीकरण के केवल दृश्यों और आरेखों का उपयोग करके

Question ID : 441009998591

Option 1 ID : 4410093946248

Option 2 ID : 4410093946246

Option 3 ID : 4410093946245

Option 4 ID : 4410093946247

Telegram - @TeachingExam

**DSSSB , KVS, CTET, EMRS, NVS , BPSC , RPSC , UPTET , AEES , AWES , CHANDIGRAH , ALL STATE TETs EXAM & Other Departments Related NTT PRT TGT & PGT सभी Teaching Jobs और Others Non-Teaching Govt. Jobs की Updates & FREE NOTES प्राप्त कर सकते हैं . Follow us on social media -**


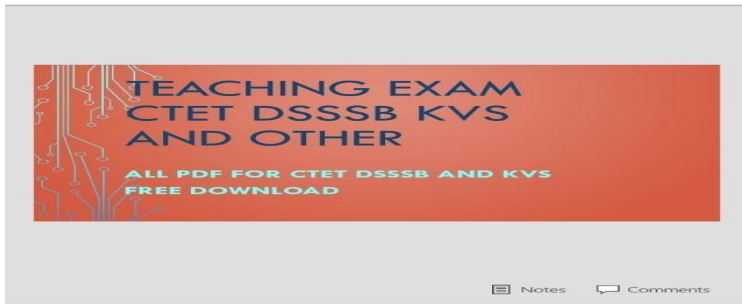
**FOR ALL TEACHING EXAM UPDATES & PDF - <https://t.me/Teachingexam>**

**FOR KVS NVS EMRS UPDATE & FREE NOTES - <https://t.me/forKVSexam>**

**CTET & All STATE TET EXAM- <https://t.me/CTETEXAM2024PREPARATION>**

**JOIN WHATSAPP CHANNEL FOR EVERY UPDATE LINK - <https://whatsapp.com/channel/0029Va8gvx7Fy72BDgJYIf1V>**

**CLICK HERE TO JOIN FOR FREE NOTES & PDF -**



**FOR - ALL TEACHING EXAM**

**CTET & STATE TETs**



**FOR - NVS**



**EMRS**



**KVS**



**DSSSB PREVIOUS YEAR PAPER - CLICK HERE**

**DSSSB , KVS, CTET, EMRS, NVS , BPSC , RPSC , UPTET , AEES , AWES , CHANDIGRAH , ALL STATE TETs EXAM & Other Departments Related NTT PRT TGT & PGT सभी Teaching Jobs और Others Non-Teaching Govt. Jobs की Updates प्राप्त कर सकते हैं . JOIN for FREE NOTES & PDF.**



**JOIN WHATSAPP CHANNEL - CLICK HERE**

