

## DSSSB Exam August 2025

Participant ID	[REDACTED]
Participant Name	[REDACTED]
Test Center Name	ION Digital Zone iDZ T Sector 62
Test Date	07/08/2025
Test Time	5:00 PM - 7:00 PM
Subject	LABORATORY ATTENDANT

### Section : General intelligence and Reasoning Ability

Q.1 यदि शब्द TRAINED के प्रत्येक अक्षर को अंग्रेजी वर्णमाला क्रम में उसके ठीक बाद आने वाले अक्षर से बदल दिया जाए, तो निम्नलिखित में से कौन-सा अक्षर, इस प्रकार बने अक्षरों के नए समूह में दाईं ओर से तीसरा होगा?

Ans  1. S

2. O

3. J

4. E

Question ID : 441009351841

Option 1 ID : 4410091373717

Option 2 ID : 4410091373716

Option 3 ID : 4410091373714

Option 4 ID : 4410091373715

Q.2 निम्नलिखित अक्षर, संख्या और प्रतीक श्रृंखला को देखिए और नीचे दिए गए प्रश्नों के उत्तर दीजिए। गणना केवल बाएँ से दाएँ की जानी है।

(बाएँ) % £ W @ D 7 8 R 4 G 3 E 8 & S A J 6 @ 1 A 5 K ^ L 3 ‡ D 4 † (दाएँ)

ऐसी कितनी संख्याएँ हैं जिनके ठीक बाद एक प्रतीक और ठीक पहले एक अक्षर है?

Ans  1. 5

2. 2

3. 3

4. 4

Question ID : 441009351764

Option 1 ID : 4410091373421

Option 2 ID : 4410091373418

Option 3 ID : 4410091373419

Option 4 ID : 4410091373420

Q.3 अंग्रेजी वर्णमाला क्रम के आधार पर, किसी निश्चित तरीके से KYUD का संबंध MBSA से है। उसी तरीके से, OEQX का संबंध QHOU से है। समान तर्क का अनुसरण करते हुए, SKMR का संबंध दिए गए विकल्पों में से किससे है?

- Ans
- 1. VMLO
  - 2. VOKN
  - 3. TOLP
  - 4. UNKO

Question ID : 441009351544  
Option 1 ID : 4410091372538  
Option 2 ID : 4410091372540  
Option 3 ID : 4410091372539  
Option 4 ID : 4410091372541

Q.4 O, J, Y, R, C, N और L में से प्रत्येक की नियुक्ति सोमवार से शुरू होकर रविवार को समाप्त होने वाले एक ही सप्ताह के अलग-अलग दिन होती है।  
C और R के बीच केवल दो व्यक्तियों की नियुक्ति है। Y की नियुक्ति L के ठीक बाद है। R के बाद केवल एक व्यक्ति की नियुक्ति है। O की नियुक्ति मंगलवार को है। N की नियुक्ति सप्ताह के अंतिम दिन नहीं है।  
N और Y के बीच कितने व्यक्तियों की नियुक्ति है?

- Ans
- 1. एक भी नहीं
  - 2. दो
  - 3. एक
  - 4. तीन

Question ID : 441009351681  
Option 1 ID : 4410091373086  
Option 2 ID : 4410091373088  
Option 3 ID : 4410091373087  
Option 4 ID : 4410091373089

Q.5 एक निश्चित कूट भाषा में, 'sky is white' को 'ch gk rw' के रूप में कूटबद्ध किया जाता है, 'how is film' को 'sx bz gk' के रूप में कूटबद्ध किया जाता है और 'blue is water' को 'gk dq jl' के रूप में कूटबद्ध किया जाता है।  
दी गई भाषा में 'is' को किस प्रकार कूटबद्ध किया जाता है?

- Ans
- 1. dq
  - 2. gk
  - 3. jl
  - 4. rw

Question ID : 441009351619  
Option 1 ID : 4410091372839  
Option 2 ID : 4410091372838  
Option 3 ID : 4410091372840  
Option 4 ID : 4410091372841

Q.6 A, B, C, W, X, U और V में से प्रत्येक की परीक्षा सोमवार से शुरू होकर रविवार को समाप्त होने वाले एक ही सप्ताह के अलग-अलग दिन होती है।  
X की परीक्षा बुधवार को होती है। U की परीक्षा X से पहले किसी दिन होती है लेकिन A से पहले नहीं होती है। X और B के बीच केवल V की परीक्षा होती है। W की परीक्षा B के ठीक बाद होती है।  
निम्नलिखित में से किसकी परीक्षा सप्ताह के अंतिम दिन होती है?

- Ans
- 1. C
  - 2. V
  - 3. B
  - 4. U

Question ID : 441009351673  
Option 1 ID : 4410091373056  
Option 2 ID : 4410091373055  
Option 3 ID : 4410091373057  
Option 4 ID : 4410091373054

Q.7 A, B, C, D, E और F एक ही परिवार के छह सदस्य हैं, जो एक गोल मेज के परितः एक-दूसरे के सम्मुख बैठकर भोजन कर रहे हैं। E, B के दाईं ओर ठीक पड़ोस में बैठा है। C और D, E के पड़ोसी नहीं हैं। D और C दोनों का निकटतम पड़ोसी A है। B के दाईं ओर दूसरे स्थान पर कौन बैठा है?

- Ans
- 1. C
  - 2. E
  - 3. F
  - 4. A

Question ID : 441009351328  
Option 1 ID : 4410091371676  
Option 2 ID : 4410091371677  
Option 3 ID : 4410091371674  
Option 4 ID : 4410091371675

Q.8 निम्नलिखित अक्षर, संख्या और प्रतीक श्रृंखला का संदर्भ लीजिए और नीचे दिए गए प्रश्न का उत्तर दीजिए। गिनती केवल बाएं से दाएं की जानी है।

(बाएं) 9 J W ! 5 A & f 3 X 5 € A W 7 £ F 4 4 E © (दाएं)

ऐसे कितने अक्षर हैं जिनके ठीक बाद एक प्रतीक और ठीक पहले एक संख्या है?

- Ans
- 1. 1
  - 2. 4
  - 3. 2
  - 4. 3

Question ID : 441009351765  
Option 1 ID : 4410091373422  
Option 2 ID : 4410091373425  
Option 3 ID : 4410091373423  
Option 4 ID : 4410091373424

Q.9 एक निश्चित कूट भाषा में, 'FOIL' को '7539' और 'ICED' को '4768' के रूप में कूटबद्ध किया जाता है। दी गई कूट भाषा में 'I' का कूट क्या होगा?

- Ans
- 1. 4
  - 2. 6
  - 3. 3
  - 4. 7

Question ID : 441009981990  
Option 1 ID : 4410093880428  
Option 2 ID : 4410093880429  
Option 3 ID : 4410093880427  
Option 4 ID : 4410093880426

Q.10 यदि CAPTION शब्द के प्रत्येक अक्षर को अंग्रेजी वर्णमाला क्रम में व्यवस्थित किया जाए, तो कितने अक्षरों की स्थिति अपरिवर्तित रहेगी?

- Ans
- 1. एक भी नहीं
  - 2. दो
  - 3. तीन
  - 4. एक

Question ID : 441009351650  
Option 1 ID : 4410091372962  
Option 2 ID : 4410091372964  
Option 3 ID : 4410091372965  
Option 4 ID : 4410091372963

Q.11 पाँच व्यक्ति A, B, C, D और E, एक पंक्ति में उत्तर दिशा की ओर अभिमुख होकर बैठे हैं। B और C के बीच केवल दो व्यक्ति बैठे हैं। C, B के बायीं ओर बैठा है। C पंक्ति के किसी भी छोर पर नहीं बैठा है। C या E का निकटतम पड़ोसी A नहीं है। पंक्ति के बायें छोर से B का स्थान क्या है?

- Ans
- 1. पांचवां
  - 2. चौथा
  - 3. पहला
  - 4. दूसरा

Question ID : 441009351732  
Option 1 ID : 4410091373291  
Option 2 ID : 4410091373290  
Option 3 ID : 4410091373292  
Option 4 ID : 4410091373293

Q.12 एक निश्चित कूट भाषा में,

'A + B' का अर्थ है कि 'A, B का पति है',  
'A - B' का अर्थ है कि 'A, B की बहन है',  
'A × B' का अर्थ है कि 'A, B की माता है' और  
'A ÷ B' का अर्थ है कि 'A, B की पुत्री है'।

यदि 'P + O ÷ M × N' है, तो P का N से क्या संबंध है?

- Ans
- 1. पुत्र
  - 2. पिता
  - 3. बहन का पति
  - 4. भाई

Question ID : 441009351778  
Option 1 ID : 4410091373476  
Option 2 ID : 4410091373477  
Option 3 ID : 4410091373474  
Option 4 ID : 4410091373475

Q.13 एक निश्चित कूट भाषा में,

'A = B' का अर्थ है कि 'A, B की माता है',  
'A \$ B' का अर्थ है कि 'A, B का भाई है',  
'A @ B' का अर्थ है कि 'A, B की पत्नी है' और  
'A \* B' का अर्थ है कि 'A, B का पिता है'।

यदि 'P \$ F = K @ S \* T' है, तो P का T से क्या संबंध है?

- Ans
- 1. माता के पिता
  - 2. माता का भाई
  - 3. माता की माता का भाई
  - 4. माता की माता के पिता

Question ID : 441009351272  
Option 1 ID : 4410091371453  
Option 2 ID : 4410091371452  
Option 3 ID : 4410091371450  
Option 4 ID : 4410091371451

Q.14 उस युग्म का चयन कीजिए, जो नीचे दिए गए दो युग्मों के समान पैटर्न का अनुसरण करता है। दोनों युग्म समान पैटर्न का अनुसरण करते हैं।

WAC - FJL  
OSU - XBD

- Ans
- 1. GKM - PTV
  - 2. ADE - IMO
  - 3. AEG - INO
  - 4. ADE - JNP

Question ID : 441009351422  
Option 1 ID : 4410091372050  
Option 2 ID : 4410091372053  
Option 3 ID : 4410091372051  
Option 4 ID : 4410091372052

Q.15 T, U, V, W, X, Y और Z में से प्रत्येक की परीक्षा सोमवार से शुरू होकर रविवार को समाप्त होने वाले एक ही सप्ताह के अलग-अलग दिन है। W और Z के बीच केवल 3 व्यक्तियों की परीक्षा है। T की परीक्षा V से ठीक पहले है। X की परीक्षा Y के ठीक बाद है। U की परीक्षा गुरुवार को है, जो X के ठीक बाद है। V की परीक्षा किस दिन है?

- Ans
- 1. मंगलवार
  - 2. गुरुवार
  - 3. शनिवार
  - 4. रविवार

Question ID : 441009351692  
Option 1 ID : 4410091373130  
Option 2 ID : 4410091373131  
Option 3 ID : 4410091373132  
Option 4 ID : 4410091373133

Q.16 एक निश्चित कूट भाषा में, 'HAIR' को '4628' के रूप में कूटबद्ध किया जाता है और 'BRED' को '5932' के रूप में कूटबद्ध किया जाता है। दी गई कूट भाषा में 'R' के लिए कूट क्या होगा?

- Ans
- 1. 2
  - 2. 9
  - 3. 5
  - 4. 8

Question ID : 441009981994  
Option 1 ID : 4410093880442  
Option 2 ID : 4410093880445  
Option 3 ID : 4410093880443  
Option 4 ID : 4410093880444

Q.17 दी गई संख्या और प्रतीक श्रृंखला का संदर्भ लीजिए और निम्नलिखित प्रश्न का उत्तर दीजिए। गिनती केवल बाएँ से दाएँ की जानी चाहिए।

(बाएँ) 3 1 7 7 5 1 @ # # 3 2 # 1 # (दाएँ)

ऐसे कितने प्रतीक लगातार रखे गए हैं जिनके बीच कोई संख्या नहीं है?

- Ans
- 1. तीन
  - 2. एक भी नहीं
  - 3. एक
  - 4. दो

Question ID : 441009351826  
Option 1 ID : 4410091373656  
Option 2 ID : 4410091373657  
Option 3 ID : 4410091373654  
Option 4 ID : 4410091373655

Join Telegram - @TeachingExam For PRT TGT PGT FREE PREPARATION

Q.18 निम्नलिखित त्रिकों में, प्रत्येक अक्षर-समूह एक निश्चित तर्क का अनुसरण करते हुए अगले अक्षर-समूह से संबंधित है। दिए गए विकल्पों में से उस विकल्प का चयन कीजिए जो समान तर्क का अनुसरण करता है।

BEAT - TBEA - ATBE  
RICE - ERIC - CERI

- Ans  1. TRAP - RTPA - ARTP  
 2. TRAP - PTR A - APTR  
 3. TRAP - PRAT - APTR  
 4. TRAP - APRT - PATR

Question ID : 441009351415  
Option 1 ID : 4410091372022  
Option 2 ID : 4410091372024  
Option 3 ID : 4410091372025  
Option 4 ID : 4410091372023

Q.19 यदि RAINBOW शब्द के प्रत्येक अक्षर को अंग्रेजी वर्णमाला क्रम में व्यवस्थित किया जाए, तो कितने अक्षरों की स्थिति अपरिवर्तित रहेगी?

- Ans  1. चार  
 2. दो  
 3. एक  
 4. तीन

Question ID : 441009351651  
Option 1 ID : 4410091372969  
Option 2 ID : 4410091372967  
Option 3 ID : 4410091372966  
Option 4 ID : 4410091372968

Q.20 99 व्यक्तियों की पंक्ति में, श्रीमान D दाएं छोर से 29<sup>वां</sup> स्थान पर हैं। बाएं छोर से उनका स्थान कौन-सा है?

- Ans  1. 72<sup>वां</sup>  
 2. 70<sup>वां</sup>  
 3. 71<sup>वां</sup>  
 4. 69<sup>वां</sup>

Question ID : 441009351664  
Option 1 ID : 4410091373020  
Option 2 ID : 4410091373018  
Option 3 ID : 4410091373019  
Option 4 ID : 4410091373021

Section : General intelligence and Reasoning Ability1

Q.1 निम्नलिखित श्रृंखला में से उस अक्षर-समूह की पहचान कीजिए जो असंगत है।

WVS, QPM, GED, LKH

- Ans  1. GED  
 2. WVS  
 3. QPM  
 4. LKH

Question ID : 441009351800  
Option 1 ID : 4410091373554  
Option 2 ID : 4410091373556  
Option 3 ID : 4410091373555  
Option 4 ID : 4410091373557

Q.2 यदि '+' और '-' को परस्पर बदल दिया जाए तथा 'x' और '÷' को परस्पर बदल दिया जाए, तो निम्नलिखित समीकरण में प्रश्न-चिन्ह (?) के स्थान पर क्या आएगा?

$$28 \div 5 + 12 \times 3 - 2 = ?$$

- Ans  1. 262  
 2. 218  
 3. 138  
 4. 116

Question ID : 441009350768  
Option 1 ID : 4410091369434  
Option 2 ID : 4410091369437  
Option 3 ID : 4410091369435  
Option 4 ID : 4410091369436

Q.3 दिए गए कथनों और निष्कर्षों को ध्यानपूर्वक पढ़िए। यह मानते हुए कि कथनों में दी गई जानकारी सत्य है, भले ही वह सामान्यतः ज्ञात तथ्यों से भिन्न प्रतीत होती हो, तय कीजिए कि दिए गए निष्कर्षों में से कौन-से निष्कर्ष कथनों का तार्किक रूप से अनुसरण करते हैं?

कथन:

कुछ टमाटर, जहाज हैं।  
कोई भी जहाज, बेंड नहीं है।

निष्कर्ष:

- (I) : कुछ टमाटर, बेंड हैं।  
(II) : कुछ जहाज, टमाटर हैं।

- Ans  1. केवल निष्कर्ष (I) अनुसरण करता है।  
 2. निष्कर्ष (I) और निष्कर्ष (II) दोनों अनुसरण करते हैं।  
 3. न तो निष्कर्ष (I) और न ही निष्कर्ष (II) अनुसरण करता है।  
 4. केवल निष्कर्ष (II) अनुसरण करता है।

Question ID : 441009351248  
Option 1 ID : 4410091371354  
Option 2 ID : 4410091371357  
Option 3 ID : 4410091371356  
Option 4 ID : 4410091371355

Q.4 निम्नलिखित शृंखला में प्रश्न-चिह्न (?) के स्थान पर कौन-सी संख्या आएगी?

3, 5, 10, 12, 24, 26, 52, ?

Ans  1. 78

2. 54

3. 104

4. 80

Question ID : 441009350945

Option 1 ID : 4410091370144

Option 2 ID : 4410091370143

Option 3 ID : 4410091370142

Option 4 ID : 4410091370145

Q.5 यदि '+' का अर्थ 'x' है, '-' का अर्थ '÷' है, 'x' का अर्थ '+' है तथा '÷' का अर्थ '-' है, तो निम्नलिखित समीकरण में प्रश्न-चिह्न (?) के स्थान पर क्या आएगा?

$18 + 15 \times 580 - 29 \div 22 = ?$

Ans  1. 257

2. 243

3. 268

4. 209

Question ID : 441009350910

Option 1 ID : 4410091370004

Option 2 ID : 4410091370005

Option 3 ID : 4410091370003

Option 4 ID : 4410091370002

Q.6 अंग्रेजी वर्णमाला क्रम के आधार पर, निम्नलिखित चार अक्षर-समूह युग्मों में से तीन एक निश्चित तरीके से एकसमान हैं और इस प्रकार वे एक ग्रुप बनाते हैं। कौन-सा अक्षर-समूह युग्म उस ग्रुप से संबंधित नहीं है? (नोट: असंगत अक्षर-समूह युग्म, उसमें व्यंजनों/स्वरों की संख्या या उनकी स्थिति पर आधारित नहीं है।)

Ans  1. XF - ZI

2. OB - QE

3. WE - YH

4. SJ - UL

Question ID : 441009351343

Option 1 ID : 4410091371734

Option 2 ID : 4410091371735

Option 3 ID : 4410091371736

Option 4 ID : 4410091371737

Q.7 दी गई शृंखला में प्रश्न-चिह्न (?) के स्थान पर क्या आना चाहिए?

5, 10, 40, 240, ?

Ans  1. 1950

2. 1920

3. 2000

4. 1890

Question ID : 441009350941

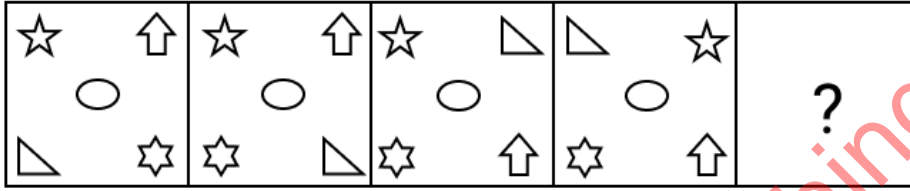
Option 1 ID : 4410091370129

Option 2 ID : 4410091370127

Option 3 ID : 4410091370128

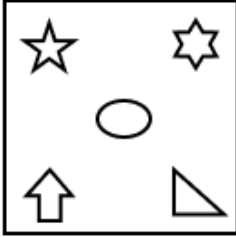
Option 4 ID : 4410091370126

Q.8 विकल्पों में दी गई उस आकृति की पहचान कीजिए, जिसे प्रश्न-चिह्न (?) के स्थान पर रखने पर श्रृंखला तार्किक रूप से पूर्ण हो जाएगी।

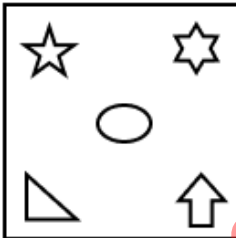


Ans

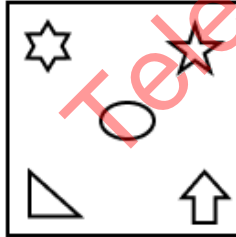
✗ 1.



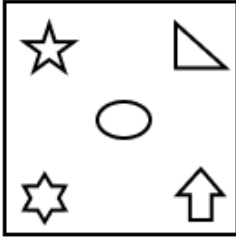
✗ 2.



✓ 3.



✗ 4.



Question ID : 441009351039  
 Option 1 ID : 4410091370519  
 Option 2 ID : 4410091370520  
 Option 3 ID : 4410091370521  
 Option 4 ID : 4410091370518

Q.9 संख्या 462981753 में प्रत्येक अंक बाएँ से दाएँ अवरोही क्रम में व्यवस्थित किया जाता है। मूल संख्या की तुलना में कितने अंकों की स्थिति अपरिवर्तित रहेगी?

- Ans
- 1. तीन
  - 2. एक
  - 3. दो
  - 4. एक भी नहीं

Question ID : 441009350980  
Option 1 ID : 4410091370285  
Option 2 ID : 4410091370283  
Option 3 ID : 4410091370284  
Option 4 ID : 4410091370282

Q.10 दिए गए कथनों और निष्कर्षों को ध्यानपूर्वक पढ़िए। दिए गए कथनों के आधार पर पहचानिए कि दिए गए निष्कर्षों में से कौन-सा/से निष्कर्ष, सत्य है/हैं।

कथन:

$$E > F, D = E, G < F, D \leq C$$

निष्कर्ष:

I.  $E > C$

II.  $D > G$

- Ans
- 1. केवल निष्कर्ष II सत्य है।
  - 2. या तो निष्कर्ष I या II सत्य है।
  - 3. केवल निष्कर्ष I सत्य है।
  - 4. निष्कर्ष I और II दोनों सत्य हैं।

Question ID : 441009351877  
Option 1 ID : 4410091373859  
Option 2 ID : 4410091373860  
Option 3 ID : 4410091373858  
Option 4 ID : 4410091373861

Q.11 निम्नलिखित शृंखला में प्रश्न-चिन्ह (?) के स्थान पर कौन-सी संख्या आएगी?

133, 160, 183, 210, 233, ?

- Ans
- 1. 250
  - 2. 260
  - 3. 270
  - 4. 265

Question ID : 441009350935  
Option 1 ID : 4410091370104  
Option 2 ID : 4410091370105  
Option 3 ID : 4410091370103  
Option 4 ID : 4410091370102

Q.12 उस सेट का चयन कीजिए जिसमें संख्याएँ उसी प्रकार संबंधित हैं जैसे निम्नलिखित समूह की संख्याएँ संबंधित हैं।  
(नोट: संख्याओं को उनके घटक अंकों में तोड़े बिना, संक्रियाएँ पूर्ण संख्याओं पर की जानी चाहिए। उदाहरण के लिए 13 लीजिए - 13 पर संक्रियाएँ, जैसे 13 में जोड़ना/घटाना/गुणा करना आदि, की जा सकती हैं। 13 को 1 और 3 में तोड़ना और फिर 1 और 3 पर गणितीय संक्रियाएँ करने की अनुमति नहीं है।)

(8, 192, 12)  
(6, 180, 15)

- Ans  1. (12, 192, 16)  
 2. (9, 162, 9)  
 3. (14, 169, 7)  
 4. (6, 144, 24)

Question ID : 441009350874  
Option 1 ID : 4410091369859  
Option 2 ID : 4410091369858  
Option 3 ID : 4410091369860  
Option 4 ID : 4410091369861

Q.13 निम्नलिखित श्रृंखला में से उस अक्षर-समूह की पहचान कीजिए जो असंगत है।

MPS, HKN, ILN, SVY

- Ans  1. SVY  
 2. ILN  
 3. MPS  
 4. HKN

Question ID : 441009351801  
Option 1 ID : 4410091373559  
Option 2 ID : 4410091373558  
Option 3 ID : 4410091373561  
Option 4 ID : 4410091373560

Q.14 नीचे एक कथन और उसके के बाद दो निष्कर्ष दिए गए हैं। दिए गए कथन के आधार पर पहचान कीजिए कि दिए गए निष्कर्षों में से कौन-से निष्कर्ष सत्य हैं।

कथन:

$$C = R \leq E < H > S$$

निष्कर्ष:

1.  $C < H$   
2.  $E \leq R$

- Ans  1. न तो निष्कर्ष 1 और न ही 2 सत्य है।  
 2. निष्कर्ष 1 और 2 दोनों सत्य हैं।  
 3. केवल निष्कर्ष 1 सत्य है।  
 4. केवल निष्कर्ष 2 सत्य है।

Question ID : 441009351353  
Option 1 ID : 4410091371777  
Option 2 ID : 4410091371776  
Option 3 ID : 4410091371774  
Option 4 ID : 4410091371775

Q.15 निम्नलिखित समीकरण को सही बनाने के लिए किन दो संख्याओं को परस्पर बदलना चाहिए?  
(नोट: पूरी संख्या को आपस में बदला जाना चाहिए, न कि किसी दी गई संख्या के अलग-अलग अंकों को।)

$$49 - 13 \times 2 + (27 \div 3) + 15 \times 4 - 72 = 80$$

Ans  1. 27 और 72

2. 49 और 72

3. 2 और 4

4. 13 और 15

Question ID : 441009350858

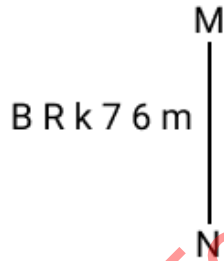
Option 1 ID : 4410091369794

Option 2 ID : 4410091369797

Option 3 ID : 4410091369795

Option 4 ID : 4410091369796

Q.16 यदि दर्पण को नीचे दिखाए गए अनुसार 'MN' पर रखा जाए, तो दिए गए संयोजन में से सही दर्पण प्रतिबिंब का चयन कीजिए।



Ans  1. B R k 7 6 m

2. m 6 7 k R B

3. m 6 7 k R B

4. m 6 7 k R B

Question ID : 441009351032

Option 1 ID : 4410091370493

Option 2 ID : 4410091370490

Option 3 ID : 4410091370491

Option 4 ID : 4410091370492

Q.17 निम्नलिखित समीकरण को सही बनाने के लिए किन दो चिह्नों को परस्पर बदलना चाहिए?

$$576 \div 6 + 99 - 120 \times 3 = 357$$

Ans  1. - और +

2.  $\div$  और  $\times$

3. - और  $\times$

4. + और  $\times$

Question ID : 441009350903

Option 1 ID : 4410091369975

Option 2 ID : 4410091369974

Option 3 ID : 4410091369976

Option 4 ID : 4410091369977

Q.18 निम्नलिखित संख्या युग्मों में, पहली संख्या पर कुछ गणितीय संक्रियाएँ करके दूसरी संख्या प्राप्त की जाती है। X और Y के स्थान पर कौन-सी संख्याएँ आएँगी ताकि :: के बाईं ओर की दो संख्याओं द्वारा अनुसरित पैटर्न :: के दाईं ओर के पैटर्न के समान हो?

(नोट: संख्याओं को उनके घटक अंकों में तोड़े बिना, संक्रियाएँ पूर्ण संख्याओं पर की जानी चाहिए। उदाहरण के लिए, 13 को लीजिए - 13 पर संक्रियाएँ, जैसे 13 में जोड़ना/घटाना/गुणा करना आदि, की जा सकती हैं। 13 को 1 और 3 में तोड़ना और फिर 1 और 3 पर गणितीय संक्रियाएँ करने की अनुमति नहीं है।)

X : 65 :: 5 : Y

- Ans
- 1. X = 8, Y = 24
  - 2. X = 9, Y = 24
  - 3. X = 8, Y = 26
  - 4. X = 9, Y = 20

Question ID : 441009350868  
Option 1 ID : 4410091369836  
Option 2 ID : 4410091369835  
Option 3 ID : 4410091369834  
Option 4 ID : 4410091369837

Q.19 दिए गए कथनों और निष्कर्षों को ध्यानपूर्वक पढ़िए। यह मानते हुए कि कथनों में दी गई जानकारी सत्य है, भले ही वह सामान्यतः ज्ञात तथ्यों से भिन्न प्रतीत होती हो, तय कीजिए कि दिए गए निष्कर्षों में से कौन-से निष्कर्ष कथनों का तार्किक रूप से अनुसरण करते हैं?

कथन:

सभी बेंड, बगीचे हैं।

कोई भी बेंड, हीटर नहीं है।

निष्कर्ष:

(I) : कुछ हीटर, बगीचे हैं।

(II) : सभी बगीचे, हीटर हैं।

- Ans
- 1. न तो निष्कर्ष (I) और न ही निष्कर्ष (II) अनुसरण करता है।
  - 2. केवल निष्कर्ष (II) अनुसरण करता है।
  - 3. केवल निष्कर्ष (I) अनुसरण करता है।
  - 4. निष्कर्ष (I) और निष्कर्ष (II) दोनों अनुसरण करते हैं।

Question ID : 441009351246  
Option 1 ID : 4410091371346  
Option 2 ID : 4410091371348  
Option 3 ID : 4410091371349  
Option 4 ID : 4410091371347

Q.20 उस युग्म का चयन करें जिसमें संख्याएँ उसी प्रकार संबंधित हैं जिस प्रकार निम्नलिखित युग्मों की संख्याएँ संबंधित हैं।

(नोट: संख्याओं को उनके घटक अंकों में तोड़े बिना, संक्रियाएँ पूर्ण संख्याओं पर की जानी चाहिए। उदाहरणार्थ, 13 को लीजिए - 13 पर संक्रियाएँ, जैसे 13 में जोड़ना/घटाना/गुणा करना आदि, की जा सकती हैं। 13 को 1 और 3 में तोड़ना तथा फिर 1 और 3 पर गणितीय संक्रियाएँ करना अनुमत नहीं है।)

(149, 298)  
(107, 214)

- Ans  1. (128, 256)  
 2. (152, 324)  
 3. (135, 240)  
 4. (113, 214)

Question ID : 441009350850  
Option 1 ID : 4410091369763  
Option 2 ID : 4410091369762  
Option 3 ID : 4410091369764  
Option 4 ID : 4410091369765

Section : General Awareness

Q.1 दूरसंचार और ICT क्षेत्र में स्टार्टअप के उद्देश्य से समर्थ इन्क्यूबेशन प्रोग्राम (Samarth Incubation Program), निम्नलिखित में से किस संस्थान की पहल है?

- Ans  1. भारतीय दूरसंचार नियामक प्राधिकरण (TRAI)  
 2. राष्ट्रीय सूचना विज्ञान केंद्र (NIC)  
 3. सेंटर फॉर डेवलपमेंट ऑफ टेलीमैटिक्स (C-DOT)  
 4. भारत संचार निगम लिमिटेड (BSNL)

Question ID : 441009393868  
Option 1 ID : 4410091540965  
Option 2 ID : 4410091540968  
Option 3 ID : 4410091540967  
Option 4 ID : 4410091540966

Q.2 मराठी भाषा दिवस \_\_\_\_\_ को मनाया जाता है।

- Ans  1. 15 मार्च  
 2. 2 जुलाई  
 3. 20 अप्रैल  
 4. 27 फरवरी

Question ID : 441009398784  
Option 1 ID : 4410091560591  
Option 2 ID : 4410091560593  
Option 3 ID : 4410091560592  
Option 4 ID : 4410091560590

Q.3 निम्नलिखित में से किस भारतीय राज्य ने आईबीए महिला विश्व मुक्केबाजी चैम्पियनशिप की मेजबानी की?

- Ans
- 1. महाराष्ट्र
  - 2. तमिलनाडु
  - 3. नई दिल्ली
  - 4. कर्नाटक

Question ID : 441009393953  
Option 1 ID : 4410091541305  
Option 2 ID : 4410091541307  
Option 3 ID : 4410091541306  
Option 4 ID : 4410091541308

Q.4 वर्ष \_\_\_\_\_ में कोलकाता स्थित सूक्ष्म ऋणदाता बंधन फाइनेंशियल सर्विसेज को सार्वत्रिक बैंक शुरू करने के लिए RBI द्वारा सैद्धांतिक मंजूरी दी गई थी।

- Ans
- 1. 2010
  - 2. 2018
  - 3. 2006
  - 4. 2014

Question ID : 441009394215  
Option 1 ID : 4410091542354  
Option 2 ID : 4410091542356  
Option 3 ID : 4410091542353  
Option 4 ID : 4410091542355

Q.5 धर्मराजिका स्तूप कहाँ स्थित है?

- Ans
- 1. तक्षशिला
  - 2. बोधगया
  - 3. सिंध
  - 4. सारनाथ

Question ID : 441009398883  
Option 1 ID : 4410091560987  
Option 2 ID : 4410091560989  
Option 3 ID : 4410091560986  
Option 4 ID : 4410091560988

Q.6 जुलाई 2024 तक की स्थिति के अनुसार, भारत सरकार के प्रधान वैज्ञानिक सलाहकार के रूप में कौन कार्यरत थे?

- Ans
- 1. अजय कुमार सूद
  - 2. राजीव सिंह बनोट
  - 3. पुष्पेंद्र भानु
  - 4. मनोज कुमार मिश्र

Question ID : 441009393983  
Option 1 ID : 4410091541425  
Option 2 ID : 4410091541428  
Option 3 ID : 4410091541427  
Option 4 ID : 4410091541426

Q.7 यदि किसी फर्म के उत्पादित आउटपुट (Y) में परिवर्तन और इनपुट (X) के उपयोग में परिवर्तन क्रमशः 28 kg और 7 kg है, तो इनपुट (X) का सीमांत उत्पाद क्या होगा?

- Ans  1. 4 kg  
 2. 35 kg  
 3. 19 kg  
 4. 0.25 kg

Question ID : 441009394172  
Option 1 ID : 4410091542184  
Option 2 ID : 4410091542183  
Option 3 ID : 4410091542182  
Option 4 ID : 4410091542181

Q.8 श्यामा प्रसाद मुखर्जी रूर्बन मिशन (SPMRM) का मुख्य लक्ष्य क्या है?

- Ans  1. ग्रामीण युवाओं को कौशल प्रशिक्षण देना  
 2. शहरी शैली की सुविधाओं के साथ ग्रामीण क्षेत्रों का विकास  
 3. प्रत्येक गाँव में बैंक खोलना  
 4. सभी गाँवों को बिजली उपलब्ध कराना

Question ID : 441009394149  
Option 1 ID : 4410091542090  
Option 2 ID : 4410091542091  
Option 3 ID : 4410091542092  
Option 4 ID : 4410091542089

Q.9 2025 पेरिस डायमंड लीग में किसने अपने पहले प्रयास में 88.16 m की श्रो के साथ शानदार जीत हासिल की, जो दो वर्षों में उनका पहला बड़ा खिताब है?

- Ans  1. नीरज चोपड़ा  
 2. विकास गौड़ा  
 3. रोहित यादव  
 4. शिवपाल सिंह

Question ID : 441009393905  
Option 1 ID : 4410091541115  
Option 2 ID : 4410091541113  
Option 3 ID : 4410091541116  
Option 4 ID : 4410091541114

Q.10 भारत में निम्नलिखित में से कौन-सा वित्तीय संस्थान मुख्य रूप से सूक्ष्म, लघु और मध्यम उद्यम (MSME) क्षेत्र के विकास पर केंद्रित है?

- Ans  1. भारतीय लघु उद्योग विकास बैंक (SIDBI)  
 2. भारतीय निर्यात-आयात बैंक (EXIM Bank)  
 3. भारतीय रिजर्व बैंक (RBI)  
 4. राष्ट्रीय आवास बैंक (NHB)

Question ID : 441009394133  
Option 1 ID : 4410091542027  
Option 2 ID : 4410091542028  
Option 3 ID : 4410091542025  
Option 4 ID : 4410091542026

Q.11 निम्नलिखित में से कौन-सा समुच्चय, राष्ट्रीय आय को सर्वोत्तम निरूपित करता है?

- Ans
- 1. बाजार मूल्यों पर सकल घरेलू उत्पाद
  - 2. कारक लागत पर निवल घरेलू उत्पाद
  - 3. कारक लागत पर निवल राष्ट्रीय उत्पाद
  - 4. बाजार मूल्यों पर सकल राष्ट्रीय उत्पाद

Question ID : 441009394207  
Option 1 ID : 4410091542321  
Option 2 ID : 4410091542322  
Option 3 ID : 4410091542323  
Option 4 ID : 4410091542324

Q.12 भारत में बेरोजगारी दर की गणना निम्नलिखित में से किसका उपयोग करके की जाती है?

- Ans
- 1. कुल जनसंख्या और नियोजित व्यक्तियों की संख्या के अनुपात
  - 2. कुल जनसंख्या में श्रमिक बल सहभागिता दर
  - 3. नियोजित व्यक्तियों और कुल जनसंख्या के अनुपात
  - 4. बेरोजगार व्यक्तियों और कुल श्रमिक बल के अनुपात

Question ID : 441009394152  
Option 1 ID : 4410091542101  
Option 2 ID : 4410091542102  
Option 3 ID : 4410091542104  
Option 4 ID : 4410091542103

Q.13 भारत सरकार ने केंद्रीय प्रत्यक्ष कर बोर्ड (CBDT) के अध्यक्ष के रूप में किस IRS अधिकारी का कार्यकाल जून 2026 तक बढ़ा दिया है?

- Ans
- 1. मोहन यादव
  - 2. रवि अग्रवाल
  - 3. नितिन गुप्ता
  - 4. सुशील चंद्रा

Question ID : 441009393801  
Option 1 ID : 4410091540699  
Option 2 ID : 4410091540700  
Option 3 ID : 4410091540697  
Option 4 ID : 4410091540698

Q.14 The Ministry of Heavy Industries, in collaboration with which department, launched the Electric Mobility Promotion Scheme in March 2024?

- Ans
- 1. Department of Financial Services
  - 2. Department of Expenditure
  - 3. Department of Economic Affairs
  - 4. Department of Public Enterprises

Question ID : 441009394046  
Option 1 ID : 4410091541678  
Option 2 ID : 4410091541677  
Option 3 ID : 4410091541680  
Option 4 ID : 4410091541679

Q.15 1922 के प्रसिद्ध मुकदमे के दौरान न्यायमूर्ति सी.एन. ब्रूमफील्ड ने किस प्रमुख व्यक्तित्व से कहा था, "इस तथ्य को नकारना असंभव होगा कि अपने लाखों देशवासियों की दृष्टि में आप एक महान देशभक्त और नेता हैं।"?

- Ans
- 1. चंद्रशेखर आज़ाद
  - 2. महात्मा गांधी
  - 3. जवाहरलाल नेहरू
  - 4. भगत सिंह

Question ID : 441009393506  
Option 1 ID : 4410091539517  
Option 2 ID : 4410091539520  
Option 3 ID : 4410091539518  
Option 4 ID : 4410091539519

Q.16 किस समाज सुधारक के अनुसार, सती प्रथा हत्या से कम नहीं थी और इसलिए कानून के तहत दंडनीय अपराध थी?

- Ans
- 1. राजा राममोहन राय
  - 2. रवींद्रनाथ टैगोर
  - 3. स्वामी दयानंद सरस्वती
  - 4. महादेव गोविंद रानाडे

Question ID : 441009393502  
Option 1 ID : 4410091539502  
Option 2 ID : 4410091539504  
Option 3 ID : 4410091539503  
Option 4 ID : 4410091539501

Q.17 रामकृष्ण परमहंस के अध्यापन से प्रेरित संगठन, रामकृष्ण मिशन के संस्थापक कौन थे?

- Ans
- 1. शारदा देवी
  - 2. स्वामी विवेकानंद
  - 3. शिवानंद सरस्वती
  - 4. पंडिता रमाबाई

Question ID : 441009393524  
Option 1 ID : 4410091539591  
Option 2 ID : 4410091539590  
Option 3 ID : 4410091539592  
Option 4 ID : 4410091539589

Q.18 निम्नलिखित में से किस लेखक/लेखक-द्वय द्वारा 'द लॉर्ड्स ऑफ द वानखेड़े - टैल्स बिटवीन टू टाइटल्स' पुस्तक लिखी गई है?

- Ans
- 1. के. कौशिक और एस. रमन
  - 2. डब्ल्यू.वी. रमन और आर. कौशिक
  - 3. एस. सचिन और वी. लक्ष्मण
  - 4. एस. सोमनाथ

Question ID : 441009393959  
Option 1 ID : 4410091541331  
Option 2 ID : 4410091541330  
Option 3 ID : 4410091541332  
Option 4 ID : 4410091541329

Q.19 किस संगठन द्वारा 2025 में बीमा ई-मार्केटप्लेस 'बीमा सुगम' के पहले चरण को लॉन्च करने का प्रस्ताव है?

- Ans
- 1. विज्ञान एवं प्रौद्योगिकी मंत्रालय
  - 2. गृह मंत्रालय
  - 3. भारतीय बीमा नियामक एवं विकास प्राधिकरण (Irdai)
  - 4. इलेक्ट्रॉनिक्स एवं सूचना प्रौद्योगिकी मंत्रालय

Question ID : 441009393788  
 Option 1 ID : 4410091540646  
 Option 2 ID : 4410091540648  
 Option 3 ID : 4410091540645  
 Option 4 ID : 4410091540647

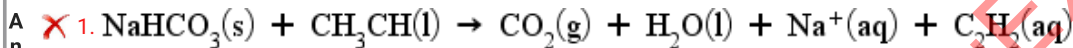
Q.20 1850 के दशक में बाल वधुओं (child brides) पर प्रतिबंध लगाने का किस समाज सुधारक का अभियान धीरे-धीरे आगे बढ़ा?

- Ans
- 1. ईश्वर चंद्र विद्यासागर
  - 2. के. श्रीधरलु नायडू
  - 3. केशव चंद्र सेन
  - 4. दादोबा पांडुरंग

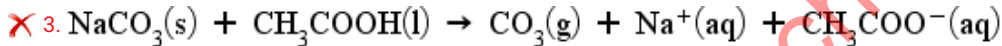
Question ID : 441009393501  
 Option 1 ID : 4410091539500  
 Option 2 ID : 4410091539497  
 Option 3 ID : 4410091539498  
 Option 4 ID : 4410091539499

Section : General Awareness1

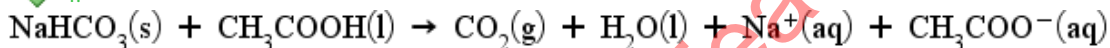
Q एक शेफ बेकिंग सोडा और सिरका मिला रहा है। पास बैठे उसके बेटे ने इसे रासायनिक अभिक्रिया के रूप में लिखकर उसे प्रभावित किया। सही रासायनिक समीकरण पहचानिए।



2.



4.



Question ID : 441009399004  
 Option 1 ID : 4410091561470  
 Option 2 ID : 4410091561472  
 Option 3 ID : 4410091561473  
 Option 4 ID : 4410091561471

Q.2 भारत के सर्वोच्च न्यायालय की प्राथमिक भूमिका क्या है?

- Ans
- 1. अंतर्राष्ट्रीय संधियों को प्रवर्तित करना
  - 2. संविधान की व्याख्या करना और उसे कायम रखना
  - 3. भारत के बजट को मंजूरी देना
  - 4. देश के लिए कानूनों का मसौदा तैयार करना

Question ID : 441009393575  
Option 1 ID : 4410091539796  
Option 2 ID : 4410091539793  
Option 3 ID : 4410091539795  
Option 4 ID : 4410091539794

Q.3 डोगरी (Dogri) किस केंद्र शासित प्रदेश की आधिकारिक भाषा के रूप में प्रयोग की जाती है?

- Ans
- 1. चंडीगढ़
  - 2. दिल्ली
  - 3. लक्षद्वीप
  - 4. जम्मू और कश्मीर

Question ID : 441009398789  
Option 1 ID : 4410091560613  
Option 2 ID : 4410091560610  
Option 3 ID : 4410091560612  
Option 4 ID : 4410091560611

Q.4 वह पहला व्यक्ति कौन था जिसने प्रयोगात्मक रूप से प्रदर्शित किया कि किण्वित पेय पदार्थ, जीवित खमीर द्वारा ग्लूकोज को एथेनॉल में रूपांतरित करने की क्रिया द्वारा निर्मित होते हैं?

- Ans
- 1. एंटोनी लेवोज़ियर (Antoine Lavoisier)
  - 2. विक्टर ग्रिग्नार्ड (Victor Grignard)
  - 3. लुई पाश्चर (Louis Pasteur)
  - 4. हेनरी मोयसन (Henri Moissan)

Question ID : 441009398983  
Option 1 ID : 4410091561389  
Option 2 ID : 4410091561388  
Option 3 ID : 4410091561386  
Option 4 ID : 4410091561387

Q.5 2021-22 के दौरान, भारत से विद्युत करघा (पावरलूम) का सबसे बड़ा आयातक देश कौन-सा था?

- Ans
- 1. जर्मनी
  - 2. अमेरिका
  - 3. नीदरलैंड
  - 4. चीन

Question ID : 441009399223  
Option 1 ID : 4410091562349  
Option 2 ID : 4410091562346  
Option 3 ID : 4410091562347  
Option 4 ID : 4410091562348

Q.6 जंतुओं में निम्नलिखित में से किस प्रकार की कोशिका का आकार बहुत लंबा होता है?

- Ans  1. तंत्रिका कोशिका  
 2. अस्थि कोशिका  
 3. वसा कोशिका  
 4. पेशी कोशिका

Question ID : 441009399016  
Option 1 ID : 4410091561518  
Option 2 ID : 4410091561521  
Option 3 ID : 4410091561520  
Option 4 ID : 4410091561519

Q.7 भारत का प्रमुख गेहूं उत्पादक राज्य, निम्नलिखित में से कौन-सा है?

- Ans  1. उत्तर प्रदेश  
 2. मणिपुर  
 3. तमिलनाडु  
 4. त्रिपुरा

Question ID : 441009399194  
Option 1 ID : 4410091562233  
Option 2 ID : 4410091562232  
Option 3 ID : 4410091562231  
Option 4 ID : 4410091562230

Q.8 किस ग्रंथ में अशोक द्वारा अनेक स्तूपों के निर्माण का उल्लेख है?

- Ans  1. दिव्यावदान (Divyavadana)  
 2. देवनामप्रिया (Devanampriya)  
 3. अशोकावदान (Ashokavadana)  
 4. त्रिपिटक (Tripitaka)

Question ID : 441009398893  
Option 1 ID : 4410091561027  
Option 2 ID : 4410091561029  
Option 3 ID : 4410091561028  
Option 4 ID : 4410091561026

Q.9 भारत में निम्नलिखित में से कौन-सा राज्य, एशियाई शेरों का घर है?

- Ans  1. राजस्थान  
 2. उत्तराखंड  
 3. ओडिशा  
 4. गुजरात

Question ID : 441009399151  
Option 1 ID : 4410091562059  
Option 2 ID : 4410091562060  
Option 3 ID : 4410091562061  
Option 4 ID : 4410091562058

Q.10 निम्नलिखित में से कौन-सा शब्द, उत्तरी मैदानों में बाढ़ प्रभावित मैदानों के ऊपर पाए जाने वाले पुराने जलोढ़ निक्षेप को संदर्भित करता है?

- Ans
- 1. तराई
  - 2. भांगर
  - 3. खादर
  - 4. भाबर

Question ID : 441009399131  
Option 1 ID : 4410091561981  
Option 2 ID : 4410091561980  
Option 3 ID : 4410091561978  
Option 4 ID : 4410091561979

Q.11 भारतीय संविधान का कौन-सा अनुच्छेद, सर्वोच्च न्यायालय को दिल्ली में या राष्ट्रपति और भारत के मुख्य न्यायमूर्ति द्वारा अनुमोदित किसी अन्य स्थान पर अधिविष्ट होने का प्रावधान करता है?

- Ans
- 1. अनुच्छेद 130
  - 2. अनुच्छेद 124
  - 3. अनुच्छेद 131
  - 4. अनुच्छेद 136

Question ID : 441009393642  
Option 1 ID : 4410091540062  
Option 2 ID : 4410091540061  
Option 3 ID : 4410091540064  
Option 4 ID : 4410091540063

Q.12 बौद्ध धर्म में, बोधि दिवस \_\_\_\_\_ का प्रतीक है।

- Ans
- 1. बुद्ध को ज्ञान प्राप्ति का दिन
  - 2. गौतम बुद्ध के जन्म दिवस
  - 3. बुद्ध की मृत्यु
  - 4. बौद्ध नव वर्ष

Question ID : 441009398903  
Option 1 ID : 4410091561067  
Option 2 ID : 4410091561069  
Option 3 ID : 4410091561066  
Option 4 ID : 4410091561068

Q.13 जिम्नोस्पर्म के संदर्भ में निम्नलिखित में से कौन-सा कथन सही है?

- Ans
- 1. ये पुष्पी पादप हैं, इनमें आवृत बीज होते हैं तथा इनकी प्रजनन संरचना, चपटी पत्तियां और पुष्प हैं।
  - 2. ये पुष्प रहित पादप हैं, इनमें बीज आवृत होते हैं तथा इनकी प्रजनन संरचना चपटी पत्तियां और शंकु होते हैं।
  - 3. ये पुष्प रहित पादप हैं जिनमें नग्न बीज होते हैं तथा इनकी प्रजनन संरचना सुईनुमा पत्तियां और शंकु हैं।
  - 4. ये पुष्पी पादप हैं जो बीजरहित होते हैं तथा इनकी प्रजनन संरचना, सुईनुमा पत्तियां और शंकु होते हैं।

Question ID : 441009399012  
Option 1 ID : 4410091561504  
Option 2 ID : 4410091561503  
Option 3 ID : 4410091561505  
Option 4 ID : 4410091561502

Q.14 'Sovereignty' in the Indian constitutional context generally means \_\_\_\_\_.

- Ans
- 1. the Head of the State is an elected person
  - 2. promoting social change to end all forms of inequalities
  - 3. complete political freedom and supreme authority
  - 4. the spirit of common brotherhood

Question ID : 441009393634  
Option 1 ID : 4410091540030  
Option 2 ID : 4410091540029  
Option 3 ID : 4410091540031  
Option 4 ID : 4410091540032

Q.15 भारतीय संविधान की 'संघीय प्रणाली' की विशेषता निम्नलिखित में से किस देश के संविधान से प्रेरित है?

- Ans
- 1. यूएसए
  - 2. कनाडा
  - 3. आयरलैंड
  - 4. यूनाइटेड किंगडम

Question ID : 441009393730  
Option 1 ID : 4410091540415  
Option 2 ID : 4410091540413  
Option 3 ID : 4410091540416  
Option 4 ID : 4410091540414

Q.16 2011 की जनगणना के अनुसार, निम्नलिखित में से किस राज्य/राज्यों और केंद्र शासित प्रदेशों के समूह में पुरुषों और महिलाओं के बीच साक्षरता दर में सबसे कम अंतर था?

- Ans
- 1. राजस्थान, झारखंड, दादरा और नगर हवेली
  - 2. बिहार, अरुणाचल प्रदेश, राजस्थान
  - 3. केरल, मिजोरम, मेघालय
  - 4. जम्मू और कश्मीर, उत्तर प्रदेश, छत्तीसगढ़

Question ID : 441009399112  
Option 1 ID : 4410091561905  
Option 2 ID : 4410091561902  
Option 3 ID : 4410091561904  
Option 4 ID : 4410091561903

Q.17 प्रकाश संश्लेषण के लिए पादप का कौन-सा भाग प्राथमिक रूप से उत्तरदायी है?

- Ans
- 1. तना
  - 2. मूल
  - 3. पुष्प
  - 4. पत्तियाँ

Question ID : 441009398944  
Option 1 ID : 4410091561231  
Option 2 ID : 4410091561230  
Option 3 ID : 4410091561233  
Option 4 ID : 4410091561232

Q.18 संसद की संयुक्त बैठक का आह्वान निम्नलिखित में से कौन कर सकता है?

- Ans  1. भारत का राष्ट्रपति  
 2. लोकसभा अध्यक्ष  
 3. भारत का प्रधानमंत्री  
 4. भारत का उपराष्ट्रपति

Question ID : 441009393670  
Option 1 ID : 4410091540174  
Option 2 ID : 4410091540173  
Option 3 ID : 4410091540176  
Option 4 ID : 4410091540175

Q.19 निम्नलिखित को सुमेलित करें।

राजनीतिक संगठन	संस्थापक
a. भारतीय राष्ट्रीय संघ	i. गजुला लक्ष्मीनारसु चेट्टी
b. इंडियन लीग	ii. दादाभाई नौरोजी
c. ईस्ट इंडिया एसोसिएशन	iii. शिशिर कुमार घोष
d. मद्रास नेटिव ऑर्गेनाइजेशन	iv. सुरेन्द्रनाथ बनर्जी

- Ans  1. a-i; b-iv; c-ii; d-iii  
 2. a-iii; b-iv; c-i; d-ii  
 3. a-ii; b-iv; c-i; d-iii  
 4. a-iv; b-iii; c-ii; d-i

Question ID : 441009393479  
Option 1 ID : 4410091539410  
Option 2 ID : 4410091539411  
Option 3 ID : 4410091539412  
Option 4 ID : 4410091539409

Q.20 असम में अहोम राजवंश (Ahom Dynasty) के मोइदम (Moidam), जिसे 2024 में UNESCO द्वारा विश्व धरोहर स्थल के रूप में सूचीबद्ध किया गया है, का उपयोग \_\_\_\_\_ के रूप में किया गया था।

- Ans  1. शाही टीला दफन स्थल  
 2. शाही खेल के मैदान  
 3. शाही प्रशिक्षण मैदान  
 4. शाही रसोई वाटिका

Question ID : 441009398759  
Option 1 ID : 4410091560492  
Option 2 ID : 4410091560490  
Option 3 ID : 4410091560493  
Option 4 ID : 4410091560491

Section : Arithmetical and Numerical Ability

Q.1 यदि  $x = 2 + \sqrt{3}, y = 2 - \sqrt{3}$  है, तो  $x^2 + y^2$  का मान ज्ञात कीजिए।

- Ans  1. 14  
 2. 35  
 3. 47  
 4. 33

Question ID : 441009374106  
Option 1 ID : 4410091462009  
Option 2 ID : 4410091462011  
Option 3 ID : 4410091462010  
Option 4 ID : 4410091462012

Q.2 फर्नीचर की तीन वस्तुओं की औसत कीमत ₹5,070 है। यदि उनकी कीमतें 3 : 5 : 7 के अनुपात में हैं, तो सबसे सस्ती वस्तु की कीमत (₹ में) ज्ञात कीजिए।

- Ans  1. 1,014  
 2. 7,098  
 3. 3,042  
 4. 5,070

Question ID : 441009374308  
Option 1 ID : 4410091462818  
Option 2 ID : 4410091462820  
Option 3 ID : 4410091462817  
Option 4 ID : 4410091462819

Q.3 निम्नलिखित को सरल कीजिए।

$$31 + 52 \div 13 - 6 \times 18$$

- Ans  1. -73  
 2. -76  
 3. -71  
 4. -68

Question ID : 441009374104  
Option 1 ID : 4410091462001  
Option 2 ID : 4410091462002  
Option 3 ID : 4410091462003  
Option 4 ID : 4410091462004

Q.4 2019 में अमित की आय ₹22,100 थी। उसकी आय में प्रतिवर्ष 10% की वृद्धि होती है। 2021 में उसकी आय (₹ में) कितनी थी?

- Ans  1. 22,100  
 2. 26,520  
 3. 24,310  
 4. 26,741

Question ID : 441009374260  
Option 1 ID : 4410091462628  
Option 2 ID : 4410091462627  
Option 3 ID : 4410091462626  
Option 4 ID : 4410091462625

Q.5 पल्लवी ने ₹22,00,000 साधारण ब्याज पर, ब्याज दर के संख्यात्मक मान के बराबर वर्षों के लिए उधार लिए। यदि उसने ऋण अवधि के अंत तक ₹10,78,000 ब्याज के रूप में चुकाए, तो वार्षिक ब्याज दर कितनी थी?

- Ans
- 1.8%
  - 2.7%
  - 3.5%
  - 4.6%

Question ID : 441009374376  
Option 1 ID : 4410091463089  
Option 2 ID : 4410091463090  
Option 3 ID : 4410091463092  
Option 4 ID : 4410091463091

Q.6 दी गई तालिका एक दुकान में 5 प्रकार की वस्तुओं के स्टॉक को दर्शाती है, जिसमें प्रत्येक प्रकार के वस्तु का औसत लागत भी दर्शाया गया है। निम्नलिखित आँकड़ों वाली तालिका को देखिए और नीचे दिए गए प्रश्न का उत्तर दीजिए।

	स्टॉक की संख्या	औसत लागत (₹ में)
मोबाइल फोन	48	13,000
कैमरा	52	22,000
TV	65	44,000
रेफ्रिजरेटर	76	52,000
AC	41	24,000

कुल स्टॉक का मूल्य (₹ लाख में) कितना है?

- Ans
- 1.87.23
  - 2.89.58
  - 3.95.64
  - 4.98.12

Question ID : 441009374237  
Option 1 ID : 4410091462533  
Option 2 ID : 4410091462534  
Option 3 ID : 4410091462535  
Option 4 ID : 4410091462536

Q.7 दी गई तालिका 2019 से 2023 तक एक कोचिंग संस्थान के व्यय (हज़ार रुपये में) को दर्शाती है। तालिका का अध्ययन कीजिए और नीचे दिए गए प्रश्न का उत्तर दीजिए।

वर्ष	वेतन	फर्नीचर	विज्ञापन	परिवहन
2019	280	180	90	70
2020	300	240	150	80
2021	350	220	120	100
2022	310	240	180	120
2023	290	210	200	150

वर्ष 2019 से 2023 के दौरान कोचिंग संस्थान द्वारा वार्षिक विज्ञापन व्यय की औसत राशि (₹ में) ज्ञात कीजिए।

- Ans
- 1. 136 हजार
  - 2. 113 हजार
  - 3. 128 हजार
  - 4. 148 हजार

Question ID : 441009374327  
Option 1 ID : 4410091462895  
Option 2 ID : 4410091462893  
Option 3 ID : 4410091462894  
Option 4 ID : 4410091462896

Q.8 दो संख्याओं का योग 85 है तथा उनका अंतर उन संख्याओं के योग का  $\frac{1}{17}$  है। दोनों संख्याओं का लघुत्तम समापवर्त्य ज्ञात कीजिए।

- Ans
- 1. 360
  - 2. 340
  - 3. 350
  - 4. 370

Question ID : 441009374494  
Option 1 ID : 4410091463563  
Option 2 ID : 4410091463561  
Option 3 ID : 4410091463562  
Option 4 ID : 4410091463564

Q.9 अतुल का वेतन ₹10,000 प्रति माह है। वह ₹6,000 मकान के किराए पर और ₹2,000 बिल पर खर्च करता है तथा शेष धनराशि की मासिक बचत करता है। यदि उसने अपने जन्मदिन वाले महीने में जन्मदिन मनाने के लिए अपनी पूरी मासिक बचत खर्च कर दी, तो एक वर्ष में उसकी बचत (₹ में) ज्ञात कीजिए।

- Ans
- 1. 20,000
  - 2. 22,000
  - 3. 18,000
  - 4. 24,000

Question ID : 441009374238  
Option 1 ID : 4410091462539  
Option 2 ID : 4410091462537  
Option 3 ID : 4410091462540  
Option 4 ID : 4410091462538

Q.10 ₹1,45,000 की धनराशि पर 6% वार्षिक साधारण ब्याज की दर से ₹52,200 ब्याज के रूप में प्राप्त करने में लगा समय ज्ञात कीजिए।

- Ans
- 1. 3 वर्ष
  - 2. 4 वर्ष
  - 3. 6 वर्ष
  - 4. 5 वर्ष

Question ID : 441009374377  
Option 1 ID : 4410091463096  
Option 2 ID : 4410091463093  
Option 3 ID : 4410091463095  
Option 4 ID : 4410091463094

Q.11 एक व्यक्ति का वेतन ₹8,000 से बढ़कर ₹9,900 हो गया है। उसके वेतन में कितने प्रतिशत की वृद्धि हुई?

- Ans
- 1.  $24\frac{3}{4}\%$
  - 2.  $21\frac{3}{4}\%$
  - 3.  $22\frac{3}{4}\%$
  - 4.  $23\frac{3}{4}\%$

Question ID : 441009373735  
Option 1 ID : 4410091460528  
Option 2 ID : 4410091460525  
Option 3 ID : 4410091460526  
Option 4 ID : 4410091460527

Q.12 फर्नीचर की तीन वस्तुओं का औसत मूल्य ₹5,095 है। यदि उनके मूल्यों का अनुपात 3:5:7 है, तो सबसे सस्ती वस्तु का मूल्य (₹ में) कितना है?

- Ans
- 1. 7,133
  - 2. 1,019
  - 3. 3,057
  - 4. 5,095

Question ID : 441009374303  
Option 1 ID : 4410091462800  
Option 2 ID : 4410091462798  
Option 3 ID : 4410091462797  
Option 4 ID : 4410091462799

Q.13 एक माध्यम में, पहले घंटे में बैक्टीरिया की संख्या में 20% की वृद्धि हुई, फिर दूसरे घंटे में 10% की कमी हुई और फिर तीसरे घंटे में 30% की वृद्धि हुई। यदि बैक्टीरिया की मूल संख्या 12,000 थी, तो शुरुआत से 3 घंटे बाद बैक्टीरिया की संख्या ज्ञात कीजिए।

Ans ✓ 1. 16848

✗ 2. 12960

✗ 3. 14400

✗ 4. 16800

Question ID : 441009374480

Option 1 ID : 4410091463508

Option 2 ID : 4410091463507

Option 3 ID : 4410091463506

Option 4 ID : 4410091463505

Q.14 प्रथम 28 प्राकृत संख्याओं के वर्गों का औसत ज्ञात कीजिए।

Ans ✗ 1. 274.5

✓ 2. 275.5

✗ 3. 277.5

✗ 4. 276.5

Question ID : 441009374289

Option 1 ID : 4410091462743

Option 2 ID : 4410091462741

Option 3 ID : 4410091462744

Option 4 ID : 4410091462742

Q.15 ₹12,500 पर 2% वार्षिक दर से एक वर्ष में चक्रवृद्धि ब्याज ज्ञात कीजिए, जबकि ब्याज अर्धवार्षिक रूप से संयोजित होता है।

Ans ✗ 1. ₹1,020.00

✗ 2. ₹1,060.00

✗ 3. ₹205.25

✓ 4. ₹251.25

Question ID : 441009374449

Option 1 ID : 4410091463382

Option 2 ID : 4410091463384

Option 3 ID : 4410091463381

Option 4 ID : 4410091463383

Q.16 विपुल अपनी आय का 40% व्यय करता है। यदि वह ₹96,000 बचाता है, तो उसकी आय (₹ में) कितनी है?

Ans ✗ 1. 38,400

✗ 2. 1,59,000

✓ 3. 1,60,000

✗ 4. 1,61,000

Question ID : 441009374252

Option 1 ID : 4410091462594

Option 2 ID : 4410091462595

Option 3 ID : 4410091462593

Option 4 ID : 4410091462596

Q.17 रमेश एक मेज मुकेश को 12% लाभ पर बेचता है और मुकेश उसे जयबिंद को 25% लाभ पर बेचता है। यदि जयबिंद इसके लिए ₹4,480 का भुगतान करता है, तो रमेश के लिए क्रय मूल्य (₹ में) कितना है?

- Ans
- 1. 2,400
  - 2. 3,170
  - 3. 2,550
  - 4. 3,200

Question ID : 441009374403  
Option 1 ID : 4410091463197  
Option 2 ID : 4410091463199  
Option 3 ID : 4410091463198  
Option 4 ID : 4410091463200

Q.18 प्रथम 23 प्राकृत संख्याओं के वर्गों का औसत कितना है?

- Ans
- 1. 187
  - 2. 190
  - 3. 188
  - 4. 189

Question ID : 441009374294  
Option 1 ID : 4410091462763  
Option 2 ID : 4410091462764  
Option 3 ID : 4410091462761  
Option 4 ID : 4410091462762

Q.19  $36 - 8[5 + 2(4 - 3(6 - 4) + 4) - 8] \div 4$  का मान ज्ञात कीजिए।

- Ans
- 1. 34
  - 2. 7
  - 3. 11
  - 4. 38

Question ID : 441009374482  
Option 1 ID : 4410091463515  
Option 2 ID : 4410091463513  
Option 3 ID : 4410091463514  
Option 4 ID : 4410091463516

Q.20 रमेश ने एक कुर्सी 16% लाभ पर बेची। यदि कुर्सी का क्रय मूल्य 12% कम होता और विक्रय मूल्य ₹288 अधिक होता, तो लाभ 40% होता। 32% का लाभ अर्जित करने के लिए, रमेश को कुर्सी किस मूल्य पर बेचनी चाहिए थी?

- Ans
- 1. ₹5,280
  - 2. ₹5,030
  - 3. ₹5,860
  - 4. ₹4,840

Question ID : 441009374333  
Option 1 ID : 4410091462919  
Option 2 ID : 4410091462918  
Option 3 ID : 4410091462920  
Option 4 ID : 4410091462917

Section : Arithmetical and Numerical Ability1

Q.1 किसी कार्य को P अकेले 24 दिनों में और Q अकेले 42 दिनों में पूरा कर सकता है। यदि R को P और Q द्वारा एकसाथ कार्य को पूरा करने में लिए गए समय का 11 गुना समय लगता है, तो Q और R को एकसाथ उसी कार्य को पूरा करने में कितना समय लगेगा?

- Ans
- 1.  $33\frac{2}{5}$  दिन
  - 2.  $33\frac{4}{5}$  दिन
  - 3.  $33\frac{1}{5}$  दिन
  - 4.  $33\frac{3}{5}$  दिन

Question ID : 441009374397  
Option 1 ID : 4410091463174  
Option 2 ID : 4410091463176  
Option 3 ID : 4410091463173  
Option 4 ID : 4410091463175

Q.2 एक जीप 80 km की दूरी 40 km/hr की चाल से तथा अगली 32 km की दूरी 16 km/hr की चाल से तय करती है। जीप की औसत चाल (km/hr में) ज्ञात कीजिए।

- Ans
- 1. 28
  - 2. 34
  - 3. 32
  - 4. 22

Question ID : 441009374003  
Option 1 ID : 4410091461597  
Option 2 ID : 4410091461600  
Option 3 ID : 4410091461599  
Option 4 ID : 4410091461598

Q.3 यदि बेलन के आधार का व्यास 8 cm और ऊँचाई 21 cm है, तो इसका आयतन ज्ञात कीजिए। ( $\pi = 22/7$  का उपयोग कीजिए)

- Ans
- 1.  $986 \text{ cm}^3$
  - 2.  $1056 \text{ cm}^3$
  - 3.  $528 \text{ cm}^3$
  - 4.  $4224 \text{ cm}^3$

Question ID : 441009374640  
Option 1 ID : 4410091464146  
Option 2 ID : 4410091464147  
Option 3 ID : 4410091464148  
Option 4 ID : 4410091464145

Q.4 P, Q और R एक साझेदारी करते हैं और उनके हिस्सों का अनुपात  $\frac{1}{3} : \frac{1}{4} : \frac{1}{5}$  है। 2 महीने बाद, P अपनी पूंजी का एक-चौथाई हिस्सा और R अपनी पूंजी का आधा हिस्सा निकाल लेता है। साझेदारी के पहले दिन से एक वर्ष बाद, ₹1,816 का लाभ उनके बीच बांटा जाता है। लाभ में R का हिस्सा (₹ में) ज्ञात कीजिए।

- Ans
- 1. 368
  - 2. 336
  - 3. 299
  - 4. 227

Question ID : 441009374176  
Option 1 ID : 4410091462292  
Option 2 ID : 4410091462290  
Option 3 ID : 4410091462291  
Option 4 ID : 4410091462289

Q.5 3 कुशल व्यक्तियों द्वारा एक दिन में किया गया कार्य, 4 अर्ध-कुशल व्यक्तियों द्वारा एक दिन में किए गए कार्य के बराबर है। 10 कुशल व्यक्ति किसी कार्य को 2 दिनों में पूरा कर सकते हैं। उसी कार्य को 3 कुशल और 4 अर्ध-कुशल व्यक्ति मिलकर \_\_\_\_\_ दिनों में पूरा कर सकते हैं।

- Ans
- 1.  $\frac{8}{3}$
  - 2.  $\frac{10}{3}$
  - 3.  $\frac{11}{3}$
  - 4.  $\frac{11}{4}$

Question ID : 441009374461  
Option 1 ID : 4410091463431  
Option 2 ID : 4410091463432  
Option 3 ID : 4410091463430  
Option 4 ID : 4410091463429

Q.6 पाइप A और B मिलकर एक पूर्णतः खाली टंकी को 2 मिनट में भर सकते हैं। यदि पाइप A द्वारा टंकी को भरने में B से 3 मिनट अधिक समय लगता है, तो पाइप A को अकेले उस टंकी का  $\frac{2}{3}$  भाग भरने में कितना समय (मिनट में) लगेगा?

- Ans
- 1. 6
  - 2. 4
  - 3. 2
  - 4. 3

Question ID : 441009374181  
Option 1 ID : 4410091462310  
Option 2 ID : 4410091462309  
Option 3 ID : 4410091462312  
Option 4 ID : 4410091462311

Q.7 यदि 352 केले तीन बंदरों के बीच  $\frac{1}{3} : \frac{1}{1} : \frac{1}{2}$  के अनुपात में वितरित किए गए, तो पहले बंदर को कितने केले मिले?

- Ans  1. 54  
 2. 64  
 3. 84  
 4. 94

Question ID : 441009373891  
Option 1 ID : 4410091461150  
Option 2 ID : 4410091461149  
Option 3 ID : 4410091461152  
Option 4 ID : 4410091461151

Q.8 18 और 50 का माध्यानुपाती ज्ञात कीजिए।

- Ans  1. 33  
 2. 28  
 3. 29  
 4. 30

Question ID : 441009373820  
Option 1 ID : 4410091460867  
Option 2 ID : 4410091460868  
Option 3 ID : 4410091460866  
Option 4 ID : 4410091460865

Q.9 3 cm त्रिज्या वाली तांबे की एक गेंद पर सोने की परत चढ़ाई जानी है। यदि तांबे और सोने का आयतन समान है, तो सोने की परत की मोटाई कितनी होगी? ( $\sqrt[3]{2} = 1.26$  लीजिए)

- Ans  1. 1.26 cm  
 2. 0.78 cm  
 3. 3.78 cm  
 4. 2.52 cm

Question ID : 441009374611  
Option 1 ID : 4410091464030  
Option 2 ID : 4410091464032  
Option 3 ID : 4410091464031  
Option 4 ID : 4410091464029

Q.10 पाइप A और B एक टंकी को क्रमशः 15 मिनट और 20 मिनट में भर सकते हैं। दोनों पाइप एक साथ खोल दिए जाते हैं, लेकिन 5 मिनट बाद, पाइप A को बंद कर दिया जाता है। टंकी को भरने में कुल कितना समय लगेगा?

- Ans
- 1. 13 min 40 sec
  - 2. 12 min 40 sec
  - 3. 13 min 20 sec
  - 4. 12 min 20 sec

Question ID : 441009374374  
Option 1 ID : 4410091463084  
Option 2 ID : 4410091463082  
Option 3 ID : 4410091463083  
Option 4 ID : 4410091463081

Q.11 यदि 19, 57, 81, और y समानुपात में हैं, तो y का मान ज्ञात कीजिए।

- Ans
- 1. 243
  - 2. 252
  - 3. 248
  - 4. 249

Question ID : 441009373936  
Option 1 ID : 4410091461329  
Option 2 ID : 4410091461331  
Option 3 ID : 4410091461332  
Option 4 ID : 4410091461330

Q.12 एक दुकानदार एक लैपटॉप को उसके अंकित मूल्य पर 25% की छूट पर बेचकर 50% का लाभ अर्जित करता है। लैपटॉप के अंकित मूल्य और क्रय मूल्य का अनुपात ज्ञात कीजिए।

- Ans
- 1. 2 : 1
  - 2. 7 : 4
  - 3. 3 : 2
  - 4. 5 : 3

Question ID : 441009374209  
Option 1 ID : 4410091462422  
Option 2 ID : 4410091462421  
Option 3 ID : 4410091462424  
Option 4 ID : 4410091462423

Q.13 यदि एक लड़का 6 km/hr की चाल से दौड़ता है, तो उसे 100 मीटर भुजा वाले एक वर्गाकार मैदान का एक पूर्ण चक्कर लगाने में कितने सेकंड लगेंगे?

- Ans
- 1. 230
  - 2. 250
  - 3. 240
  - 4. 220

Question ID : 441009374004  
Option 1 ID : 4410091461603  
Option 2 ID : 4410091461604  
Option 3 ID : 4410091461601  
Option 4 ID : 4410091461602

Q.14 एक सेल के दौरान, 50% वस्तुओं को 27% लाभ पर बेचा जाता है, शेष में से 40% वस्तुओं को 32% लाभ पर और उसके बाद शेष वस्तुओं को 23% हानि पर बेचा जाता है। यदि कुल लाभ  $x\%$  है, तो  $x$  का मान ज्ञात कीजिए।

- Ans
- 1. 13.5
  - 2. 13
  - 3. 14
  - 4. 12.5

Question ID : 441009373786  
Option 1 ID : 4410091460730  
Option 2 ID : 4410091460729  
Option 3 ID : 4410091460731  
Option 4 ID : 4410091460732

Q.15 एक दुकानदार अपनी दुकान में शर्ट के अंकित मूल्य पर 20% की छूट देता है और 60% का लाभ अर्जित करता है। शर्ट का अंकित मूल्य ₹6,400 है। शर्ट का लागत मूल्य ज्ञात कीजिए।

- Ans
- 1. ₹4,000
  - 2. ₹3,200
  - 3. ₹3,600
  - 4. ₹4,200

Question ID : 441009374205  
Option 1 ID : 4410091462408  
Option 2 ID : 4410091462405  
Option 3 ID : 4410091462406  
Option 4 ID : 4410091462407

Q.16 180 m लंबी एक ट्रेन, 7 km/hr की चाल से (समान दिशा में) गतिमान एक व्यक्ति को 36 सेकंड में पार कर जाती है। इस ट्रेन को विपरीत दिशा में 47 km/hr की चाल से गतिमान 220 m लंबी एक अन्य ट्रेन को पूरी तरह से पार करने में कितना समय (सेकंड में) लगेगा?

- Ans
- 1. 38
  - 2. 20
  - 3. 19
  - 4. 31

Question ID : 441009373901  
Option 1 ID : 4410091461190  
Option 2 ID : 4410091461189  
Option 3 ID : 4410091461191  
Option 4 ID : 4410091461192

Q.17 घनाभ के एक शीर्ष से संलग्न 3 फलकों का पृष्ठीय क्षेत्रफल क्रमशः  $120 \text{ cm}^2$ ,  $90 \text{ cm}^2$  और  $48 \text{ cm}^2$  है। घनाभ का आयतन ज्ञात कीजिए।

- Ans
- 1.  $520 \text{ cm}^3$
  - 2.  $640 \text{ cm}^3$
  - 3.  $840 \text{ cm}^3$
  - 4.  $720 \text{ cm}^3$

Question ID : 441009374581  
Option 1 ID : 4410091463909  
Option 2 ID : 4410091463910  
Option 3 ID : 4410091463912  
Option 4 ID : 4410091463911

Q.18 एक गोले का पृष्ठीय क्षेत्रफल  $452 \frac{4}{7} \text{ cm}^2$  है। इसका आयतन ज्ञात कीजिए।

$(\pi = \frac{22}{7} \text{ लीजिए})$

- Ans
- 1.  $905 \frac{4}{7} \text{ cm}^3$
  - 2.  $905 \frac{6}{7} \text{ cm}^3$
  - 3.  $905 \text{ cm}^3$
  - 4.  $905 \frac{1}{7} \text{ cm}^3$

Question ID : 441009374637  
Option 1 ID : 4410091464136  
Option 2 ID : 4410091464134  
Option 3 ID : 4410091464133  
Option 4 ID : 4410091464135

Q.19 मैं  $10 \text{ km/hr}$  की चाल से चलता हूँ और 2 घंटे में अपने गंतव्य तक पहुंचता हूँ। यदि मुझे अपनी चाल  $2 \text{ km/hr}$  बढ़ानी पड़े, तो मैं गंतव्य पर कितने समय पहले पहुंच जाऊंगा?

- Ans
- 1. 20 मिनट
  - 2. 29 मिनट
  - 3. 39 मिनट
  - 4. 35 मिनट

Question ID : 441009373991  
Option 1 ID : 4410091461549  
Option 2 ID : 4410091461552  
Option 3 ID : 4410091461550  
Option 4 ID : 4410091461551

Q.20 जब एक गिटार का विक्रय मूल्य ₹19,000 है, तो दुकानदार को 5% की हानि होती है। 24% का लाभ अर्जित करने के लिए उस गिटार का विक्रय मूल्य (₹ में) कितना होना चाहिए?

- Ans
- 1. 21,304
  - 2. 24,800
  - 3. 20,000
  - 4. 21,404

Question ID : 441009374170  
Option 1 ID : 4410091462267  
Option 2 ID : 4410091462265  
Option 3 ID : 4410091462266  
Option 4 ID : 4410091462268

Section : Test of English Language and Comprehension

Q.1 Select the most appropriate option to fill in the blank.

I need someone I can rely \_\_\_\_\_.

- Ans
- 1. about
  - 2. of
  - 3. on
  - 4. at

Question ID : 441009349212  
Option 1 ID : 4410091363257  
Option 2 ID : 4410091363256  
Option 3 ID : 4410091363255  
Option 4 ID : 4410091363254

Q.2 Parts of the following sentence are given as options. Select the part that contains a grammatical error.

She is studying at a Delhi University and will graduate next year.

- Ans
- 1. and will graduate
  - 2. at a Delhi University
  - 3. next year
  - 4. She is studying

Question ID : 441009220266  
Option 1 ID : 441009863784  
Option 2 ID : 441009863783  
Option 3 ID : 441009863785  
Option 4 ID : 441009863782

Q.3 Select the most appropriate option to fill in the blank.

The \_\_\_\_\_ talent for playing the piano left the audience spellbound, earning her a standing ovation at the concert.

- Ans
- 1. prodigious
  - 2. shoddy
  - 3. floundering
  - 4. basal

Question ID : 441009349044  
Option 1 ID : 4410091362583  
Option 2 ID : 4410091362582  
Option 3 ID : 4410091362585  
Option 4 ID : 4410091362584

Q.4 Select the most appropriate option to fill in the blank.

Manas seems to \_\_\_\_\_ the trip to Maldives.

- Ans
- 1. had enjoyed
  - 2. be enjoyed
  - 3. have enjoyed
  - 4. has enjoyed

Question ID : 441009349220  
Option 1 ID : 4410091363289  
Option 2 ID : 4410091363286  
Option 3 ID : 4410091363287  
Option 4 ID : 4410091363288

Q.5 Select the most appropriate option that can substitute the underlined segment in the given sentence.

The sunny day made the otherwise snowy weather feel scorchy and swelter hot and uncomfortable, causing confusion among the residents who had dressed for colder temperatures.

- Ans
- 1. scorcher and sweltering hot
  - 2. scorcher and swelter hot
  - 3. scorchy and sweltering hot
  - 4. scorching and sweltering hot

Question ID : 441009349127  
Option 1 ID : 4410091362917  
Option 2 ID : 4410091362914  
Option 3 ID : 4410091362916  
Option 4 ID : 4410091362915

Q.6 The following sentence has been split into four segments. Identify the segment that contains a grammatical error.

I have bought / a book about / the mysteries / of world.

- Ans
- 1. I have bought
  - 2. a book about
  - 3. of world
  - 4. the mysteries

Question ID : 441009220270  
Option 1 ID : 441009863798  
Option 2 ID : 441009863799  
Option 3 ID : 441009863801  
Option 4 ID : 441009863800

Q.7 Parts of a sentence are given below. Arrange the parts in the correct order to form a meaningful and coherent sentence.

- A. had vanished
- B. when she turned back,
- C. into the swirling mist
- D. the figure she had been chasing

- Ans
- 1. BDAC
  - 2. ADBC
  - 3. BADC
  - 4. CBDA

Question ID : 441009964762  
Option 1 ID : 4410093812349  
Option 2 ID : 4410093812348  
Option 3 ID : 4410093812350  
Option 4 ID : 4410093812351

Q.8 Select the most appropriate article to fill in the blank. If no article is needed, select 'No article required'.

A curious student brought an interesting book to \_\_\_\_ science fair and impressed the judges.

- Ans
- 1. a
  - 2. the
  - 3. an
  - 4. No article required

Question ID : 441009349141  
Option 1 ID : 4410091362970  
Option 2 ID : 4410091362971  
Option 3 ID : 4410091362972  
Option 4 ID : 4410091362973

Q.9 Select the most appropriate option to fill in the blank.

Among all cities, Delhi experiences \_\_\_\_\_ traffic congestion.

- Ans
- 1. more heavy
  - 2. much heavy
  - 3. heavier
  - 4. the heaviest

Question ID : 441009349080  
Option 1 ID : 4410091362727  
Option 2 ID : 4410091362728  
Option 3 ID : 4410091362729  
Option 4 ID : 4410091362726

Q.10 Select the most appropriate option to fill in the blanks.

An audacious traveller decided to discover \_\_\_\_ hidden trail deep in \_\_\_\_ forest.

- Ans
- 1. an, a
  - 2. a, the
  - 3. the, no article required
  - 4. no article required, a

Question ID : 441009348956  
Option 1 ID : 4410091362231  
Option 2 ID : 4410091362233  
Option 3 ID : 4410091362232  
Option 4 ID : 4410091362230

Q.11 Parts of a sentence are given below. Arrange the parts in the correct order to form a meaningful and coherent sentence.

- A. that reshaped the coastline permanently
- B. unleashed a massive storm surge
- C. the hurricane, which made landfall overnight,
- D. and caused unprecedented flooding

- Ans
- 1. BCDA
  - 2. CBDA
  - 3. BCAD
  - 4. DBAC

Question ID : 441009964767  
Option 1 ID : 4410093812369  
Option 2 ID : 4410093812368  
Option 3 ID : 4410093812371  
Option 4 ID : 4410093812370

Q.12 Select the most appropriate form of the verb to fill in the blank.

If she \_\_\_\_\_ the train on time, she will reach the meeting by noon.

- Ans
- 1. catching
  - 2. caught
  - 3. catches
  - 4. had caught

Question ID : 441009348897  
Option 1 ID : 4410091361997  
Option 2 ID : 4410091361996  
Option 3 ID : 4410091361995  
Option 4 ID : 4410091361994

Q.13 Select the option that will improve the underlined part of the given sentence.

She was the most fastest runner on the track.

- Ans
- 1. faster
  - 2. fastest
  - 3. fast
  - 4. much fast

Question ID : 441009349147  
Option 1 ID : 4410091362994  
Option 2 ID : 4410091362995  
Option 3 ID : 4410091362997  
Option 4 ID : 4410091362996

Q.14 Select the most appropriate option that can substitute the underlined segment in the given sentence.

With her eccentric fashion sense and captivating personality, she felt very unique and stood apart from everyone else in the room.

- Ans
- 1. much unique
  - 2. most unique
  - 3. more unique
  - 4. unique

Question ID : 441009349129  
Option 1 ID : 4410091362925  
Option 2 ID : 4410091362923  
Option 3 ID : 4410091362922  
Option 4 ID : 4410091362924

Q.15 Select the most appropriate verb to fill in the blank.

The company has introduced some new measures to \_\_\_\_\_ the organisation.

- Ans
- 1. impede
  - 2. retrograde
  - 3. rejuvenate
  - 4. resurge

Question ID : 441009348874  
Option 1 ID : 4410091361904  
Option 2 ID : 4410091361905  
Option 3 ID : 4410091361902  
Option 4 ID : 4410091361903

**Comprehension:**

Read the given passage carefully and answer the questions that follow.

Charles Darwin's theory of evolution says that living things change slowly over time. These changes happen because of small differences between individuals. Some of these differences help them live better in their surroundings. The ones that survive can have babies and pass these helpful traits to them.

Darwin wrote about this idea in his famous book 'On the Origin of Species'. His thoughts were new at the time and different from what most people believed. He said that new species are formed when groups of animals or plants live in different places or face different problems. Over time, these changes add up and create new types of living things.

Scientists have found proof of this theory in fossils, genes, and how living things are built. Darwin's idea is a big part of modern science. It helps us understand how all living things are connected and how they keep changing with time.

SubQuestion No : 16

Q.16 Select the most appropriate title for the passage.

- Ans
- 1. Charles Darwin's Journey to Africa
  - 2. Life and Death in the Animal World
  - 3. Understanding Genes in Science
  - 4. Darwin's Theory of Evolution

Question ID : 441009380619  
Option 1 ID : 4410091488258  
Option 2 ID : 4410091488257  
Option 3 ID : 4410091488260  
Option 4 ID : 4410091488259

**Comprehension:**

Read the given passage carefully and answer the questions that follow.

Charles Darwin's theory of evolution says that living things change slowly over time. These changes happen because of small differences between individuals. Some of these differences help them live better in their surroundings. The ones that survive can have babies and pass these helpful traits to them.

Darwin wrote about this idea in his famous book 'On the Origin of Species'. His thoughts were new at the time and different from what most people believed. He said that new species are formed when groups of animals or plants live in different places or face different problems. Over time, these changes add up and create new types of living things.

Scientists have found proof of this theory in fossils, genes, and how living things are built. Darwin's idea is a big part of modern science. It helps us understand how all living things are connected and how they keep changing with time.

**SubQuestion No : 17**

Q.17 Select the most appropriate ANTONYM for the word 'connected' as used in the passage.

- Ans  1. Joined  
 2. Separate  
 3. Limited  
 4. Determined

Question ID : 441009380620  
Option 1 ID : 4410091488261  
Option 2 ID : 4410091488263  
Option 3 ID : 4410091488264  
Option 4 ID : 4410091488262

**Comprehension:**

Read the given passage carefully and answer the questions that follow.

Charles Darwin's theory of evolution says that living things change slowly over time. These changes happen because of small differences between individuals. Some of these differences help them live better in their surroundings. The ones that survive can have babies and pass these helpful traits to them.

Darwin wrote about this idea in his famous book 'On the Origin of Species'. His thoughts were new at the time and different from what most people believed. He said that new species are formed when groups of animals or plants live in different places or face different problems. Over time, these changes add up and create new types of living things.

Scientists have found proof of this theory in fossils, genes, and how living things are built. Darwin's idea is a big part of modern science. It helps us understand how all living things are connected and how they keep changing with time.

**SubQuestion No : 18**

Q.18 Which of the following can be inferred from the passage about living things?

- Ans  1. Living things have always been the same.  
 2. All living things are perfect and cannot change.  
 3. Living things cannot survive outside their homes.  
 4. Living things can slowly change and adapt.

Question ID : 441009380621  
Option 1 ID : 4410091488268  
Option 2 ID : 4410091488265  
Option 3 ID : 4410091488267  
Option 4 ID : 4410091488266

**Comprehension:**

Read the given passage carefully and answer the questions that follow.

Charles Darwin's theory of evolution says that living things change slowly over time. These changes happen because of small differences between individuals. Some of these differences help them live better in their surroundings. The ones that survive can have babies and pass these helpful traits to them.

Darwin wrote about this idea in his famous book 'On the Origin of Species'. His thoughts were new at the time and different from what most people believed. He said that new species are formed when groups of animals or plants live in different places or face different problems. Over time, these changes add up and create new types of living things.

Scientists have found proof of this theory in fossils, genes, and how living things are built. Darwin's idea is a big part of modern science. It helps us understand how all living things are connected and how they keep changing with time.

**SubQuestion No : 19**

Q.19 What is the tone of the passage?

- Ans  1. Informative  
 2. Humorous  
 3. Sarcastic  
 4. Persuasive

Question ID : 441009380622  
Option 1 ID : 4410091488271  
Option 2 ID : 4410091488269  
Option 3 ID : 4410091488270  
Option 4 ID : 4410091488272

**Comprehension:**

Read the given passage carefully and answer the questions that follow.

Charles Darwin's theory of evolution says that living things change slowly over time. These changes happen because of small differences between individuals. Some of these differences help them live better in their surroundings. The ones that survive can have babies and pass these helpful traits to them.

Darwin wrote about this idea in his famous book 'On the Origin of Species'. His thoughts were new at the time and different from what most people believed. He said that new species are formed when groups of animals or plants live in different places or face different problems. Over time, these changes add up and create new types of living things.

Scientists have found proof of this theory in fossils, genes, and how living things are built. Darwin's idea is a big part of modern science. It helps us understand how all living things are connected and how they keep changing with time.

**SubQuestion No : 20**

Q.20 According to the passage, how do helpful traits pass on?

- Ans  1. Through teaching  
 2. By changing body structure quickly  
 3. By copying other species  
 4. From parents to children

Question ID : 441009380623  
Option 1 ID : 4410091488273  
Option 2 ID : 4410091488276  
Option 3 ID : 4410091488274  
Option 4 ID : 4410091488275

Section : Test of English Language and Comprehension1

Q.1 Select the most appropriate meaning of the given proverb.

The early bird catches the worm.

- Ans  1. A person who goes for a walk early in the morning has the best chance of success.
2. Starting early gives you an advantage.
3. A person who sleeps early in the night has the best chance of success.
4. If you want to catch birds, go to the jungle early in the morning.

Question ID : 441009989376  
Option 1 ID : 4410093909759  
Option 2 ID : 4410093909757  
Option 3 ID : 4410093909758  
Option 4 ID : 4410093909760

Q.2 Select the most appropriate meaning of the given proverb.

Practice makes perfect.

- Ans  1. Effort alone guarantees success.
2. Overconfidence leads to failure.
3. Skills improve with repeated effort.
4. Perfection is impossible to achieve.

Question ID : 441009349904  
Option 1 ID : 4410091365879  
Option 2 ID : 4410091365878  
Option 3 ID : 4410091365881  
Option 4 ID : 4410091365880

Q.3 Select the most appropriate meaning of the given proverb.

The early bird catches the worm.

- Ans  1. One should not delay meals for better productivity.
2. Birds that eat early stay healthier.
3. Success comes to those who act promptly or start early.
4. People who rise early feel more energetic throughout the day.

Question ID : 441009940710  
Option 1 ID : 4410093716500  
Option 2 ID : 4410093716499  
Option 3 ID : 4410093716498  
Option 4 ID : 4410093716497

Q.4 Select the option that can be used as a one-word substitute for the given group of words.

Full of energy and enthusiasm<sup>199</sup>

- Ans
- 1. Candid
  - 2. Versatile
  - 3. Vibrant
  - 4. Intrepid

Question ID : 441009827957  
Option 1 ID : 4410093265451  
Option 2 ID : 4410093265450  
Option 3 ID : 4410093265449  
Option 4 ID : 4410093265452

Q.5 Select the option that can be used as a one-word substitute for the given phrase.

A person who loves and collects books

- Ans
- 1. Bibliophile
  - 2. Calligrapher
  - 3. Philanthropist
  - 4. Bibliopole

Question ID : 44100933237  
Option 1 ID : 441009132133  
Option 2 ID : 441009132135  
Option 3 ID : 441009132132  
Option 4 ID : 441009132134

Q.6 Select the correct spelling of the underlined incorrectly spelt word in the given sentence.

Despite the tumoltous weather, the hikers persevered and reached the summit.

- Ans
- 1. tumuoltous
  - 2. tumeltous
  - 3. tumoulteas
  - 4. tumultuous

Question ID : 441009349888  
Option 1 ID : 4410091365814  
Option 2 ID : 4410091365815  
Option 3 ID : 4410091365817  
Option 4 ID : 4410091365816

Q.7 Parts of a sentence are given below in jumbled order. Arrange the parts in the correct order to form a meaningful sentence.

- A. based on the natural factors, such as rains and heat,
- B. and that is why the farmers have to suffer losses
- C. India should focus more on developing alternate
- D. every year resulting in farmer suicides across the country
- E. techniques for agriculture, which is currently mainly

Ans ✓ 1. CEABD

✗ 2. BDCEA

✗ 3. EADCB

✗ 4. BDECA

Question ID : 441009150397

Option 1 ID : 441009596831

Option 2 ID : 441009596830

Option 3 ID : 441009596829

Option 4 ID : 441009596828

Q.8 Select the most appropriate synonym of the given word.

Coherent

Ans ✗ 1. Ignorant

✓ 2. Rational

✗ 3. Final

✗ 4. Cultured

Question ID : 441009350107

Option 1 ID : 4410091366690

Option 2 ID : 4410091366691

Option 3 ID : 4410091366692

Option 4 ID : 4410091366693

Q.9 Select the most appropriate ANTONYM of the given word.

Always

Ans ✓ 1. Never

✗ 2. Regular

✗ 3. Constant

✗ 4. Often

Question ID : 441009350121

Option 1 ID : 4410091366746

Option 2 ID : 4410091366748

Option 3 ID : 4410091366749

Option 4 ID : 4410091366747

Q.10 Select the most appropriate synonym of the given word.

Reminiscence

- Ans  1. Memory  
 2. Nuisance  
 3. Mercy  
 4. Harmony

Question ID : 441009350076  
Option 1 ID : 4410091366568  
Option 2 ID : 4410091366567  
Option 3 ID : 4410091366569  
Option 4 ID : 4410091366566

Q.11 Select the option that can be used as a one-word substitute for the given group of words.

A person who can endure pain or hardship without showing their feelings<sup>228</sup>

- Ans  1. Stoic  
 2. Fatalist  
 3. Taciturn  
 4. Spartan

Question ID : 441009827986  
Option 1 ID : 4410093265567  
Option 2 ID : 4410093265565  
Option 3 ID : 4410093265566  
Option 4 ID : 4410093265568

Q.12 Identify the INCORRECTLY spelt word in the given sentence.

After a long journey, they finally reached their destinaton.

- Ans  1. reached  
 2. finally  
 3. journey  
 4. destinaton

Question ID : 441009349958  
Option 1 ID : 4410091366096  
Option 2 ID : 4410091366095  
Option 3 ID : 4410091366094  
Option 4 ID : 4410091366097

Q.13 Select the most appropriate synonym of the given word.

Stupendous

- Ans
- 1. Useful
  - 2. Painful
  - 3. Fruitful
  - 4. Wonderful

Question ID : 441009350105  
Option 1 ID : 4410091366683  
Option 2 ID : 4410091366685  
Option 3 ID : 4410091366682  
Option 4 ID : 4410091366684

Q.14 Select the most appropriate meaning of the given proverb.

Beggars can't be choosers.

- Ans
- 1. People should never accept lesser than what they are eligible for.
  - 2. Success comes to those who wait patiently.
  - 3. You must accept an offer if it is the only one available to you.
  - 4. Always accept what you are given kindly.

Question ID : 441009349903  
Option 1 ID : 4410091365874  
Option 2 ID : 4410091365876  
Option 3 ID : 4410091365875  
Option 4 ID : 4410091365877

Q.15 Select the most appropriate one-word substitute for the underlined segment in the given sentence.

The company was accused of dishonest and fraudulent behaviour to deceive customers.

- Ans
- 1. transparency
  - 2. deception
  - 3. sincerity
  - 4. integrity

Question ID : 44100930472  
Option 1 ID : 441009121386  
Option 2 ID : 441009121385  
Option 3 ID : 441009121387  
Option 4 ID : 441009121384

**Comprehension:**

Read the given passage and answer the questions that follow.

The morning sun peeked over the horizon, casting a gentle light across the dew-covered fields. Birds began their morning songs, creating a symphony of chirps and tweets that welcomed the new day. Farmers started their daily routine, tending to the crops with care and dedication. The scent of freshly turned earth filled the air, mingling with the sweet aroma of blooming flowers. A sense of anticipation and promise hung in the air, as the village slowly came to life. Children hurried to school, their laughter echoing down the streets. It was a picture of rural life, where each day brought new hope and the simple joys of nature and community.

**SubQuestion No : 16**

**Q.16 Which word best describes the tone of the passage?**

- Ans  1. Melancholic  
 2. Suspenseful  
 3. Reflective  
 4. Optimistic

Question ID : 441009349658  
Option 1 ID : 4410091364942  
Option 2 ID : 4410091364945  
Option 3 ID : 4410091364943  
Option 4 ID : 4410091364944

**Comprehension:**

Read the given passage and answer the questions that follow.

The morning sun peeked over the horizon, casting a gentle light across the dew-covered fields. Birds began their morning songs, creating a symphony of chirps and tweets that welcomed the new day. Farmers started their daily routine, tending to the crops with care and dedication. The scent of freshly turned earth filled the air, mingling with the sweet aroma of blooming flowers. A sense of anticipation and promise hung in the air, as the village slowly came to life. Children hurried to school, their laughter echoing down the streets. It was a picture of rural life, where each day brought new hope and the simple joys of nature and community.

**SubQuestion No : 17**

**Q.17 What would be an appropriate title for the passage?**

- Ans  1. The Farmers' Market  
 2. Night Time in the Village  
 3. The Morning Symphony  
 4. A Day in the City

Question ID : 441009349656  
Option 1 ID : 4410091364937  
Option 2 ID : 4410091364936  
Option 3 ID : 4410091364934  
Option 4 ID : 4410091364935

**Comprehension:**

Read the given passage and answer the questions that follow.

The morning sun peeked over the horizon, casting a gentle light across the dew-covered fields. Birds began their morning songs, creating a symphony of chirps and tweets that welcomed the new day. Farmers started their daily routine, tending to the crops with care and dedication. The scent of freshly turned earth filled the air, mingling with the sweet aroma of blooming flowers. A sense of anticipation and promise hung in the air, as the village slowly came to life. Children hurried to school, their laughter echoing down the streets. It was a picture of rural life, where each day brought new hope and the simple joys of nature and community.

**SubQuestion No : 18**

**Q.18 Select the most appropriate ANTONYM of the word 'anticipation' as used in the passage.**

- Ans
- 1. Surprise
  - 2. Expectation
  - 3. Dread
  - 4. Calm

Question ID : 441009349660  
Option 1 ID : 4410091364951  
Option 2 ID : 4410091364950  
Option 3 ID : 4410091364953  
Option 4 ID : 4410091364952

**Comprehension:**

Read the given passage and answer the questions that follow.

The morning sun peeked over the horizon, casting a gentle light across the dew-covered fields. Birds began their morning songs, creating a symphony of chirps and tweets that welcomed the new day. Farmers started their daily routine, tending to the crops with care and dedication. The scent of freshly turned earth filled the air, mingling with the sweet aroma of blooming flowers. A sense of anticipation and promise hung in the air, as the village slowly came to life. Children hurried to school, their laughter echoing down the streets. It was a picture of rural life, where each day brought new hope and the simple joys of nature and community.

**SubQuestion No : 19**

**Q.19 What is the central theme of the passage?**

- Ans
- 1. The daily life and beauty of a rural morning
  - 2. The excitement of school children
  - 3. The hard work of farmers
  - 4. The variety of morning bird songs

Question ID : 441009349657  
Option 1 ID : 4410091364939  
Option 2 ID : 4410091364938  
Option 3 ID : 4410091364940  
Option 4 ID : 4410091364941

**Comprehension:**

Read the given passage and answer the questions that follow.

The morning sun peeked over the horizon, casting a gentle light across the dew-covered fields. Birds began their morning songs, creating a symphony of chirps and tweets that welcomed the new day. Farmers started their daily routine, tending to the crops with care and dedication. The scent of freshly turned earth filled the air, mingling with the sweet aroma of blooming flowers. A sense of anticipation and promise hung in the air, as the village slowly came to life. Children hurried to school, their laughter echoing down the streets. It was a picture of rural life, where each day brought new hope and the simple joys of nature and community.

**SubQuestion No : 20**

**Q.20 Which fact is mentioned in the passage?**

- Ans
- 1. The village is in the mountains.
  - 2. Children are going to school.
  - 3. The fields are covered in snow.
  - 4. Farmers are selling produce at the market.

Question ID : 441009349659  
Option 1 ID : 4410091364946  
Option 2 ID : 4410091364948  
Option 3 ID : 4410091364947  
Option 4 ID : 4410091364949

**Section : Test of Hindi Language and Comprehension**

**Q.1 निम्नलिखित मुहावरों का कौन सा एक विकल्प-युग्म शुद्ध है?**

- Ans
- 1. पगड़ी रखना-सम्मान बचाना
  - 2. पानी फेर देना-अच्छा कर देना
  - 3. पत्ता काटना-सम्बन्ध निभाना
  - 4. नीला-पीला होना-प्रश्न करना

Question ID : 441009354448  
Option 1 ID : 4410091384032  
Option 2 ID : 4410091384035  
Option 3 ID : 4410091384033  
Option 4 ID : 4410091384034

**Q.2 'जो दिखाई न देता हो' वाक्यांश के लिए सार्थक शब्द का विकल्पों में से चयन कीजिए।**

- Ans
- 1. अदृश्य
  - 2. अनंत
  - 3. दूरदर्शी
  - 4. अनुपम

Question ID : 441009354613  
Option 1 ID : 4410091384692  
Option 2 ID : 4410091384694  
Option 3 ID : 4410091384693  
Option 4 ID : 4410091384695

Q.3 वाक्यांश के लिए सार्थक शब्द का चयन करें  
'जिसकी गर्दन सुन्दर हो'

- Ans
- 1. सुगर्व
  - 2. कपोत
  - 3. सुग्रीव
  - 4. मयूर

Question ID : 441009354578  
Option 1 ID : 4410091384552  
Option 2 ID : 4410091384555  
Option 3 ID : 4410091384554  
Option 4 ID : 4410091384553

Q.4 निम्नलिखित वाक्य को पूर्ण करने के लिए उचित परिमाणवाचक विशेषण का चयन करें-  
छात्रों ने \_\_\_\_\_ पाठ मन लगाकर याद कर लिया।

- Ans
- 1. पहला
  - 2. सारा
  - 3. कठिन
  - 4. इनका

Question ID : 441009934467  
Option 1 ID : 4410093691600  
Option 2 ID : 4410093691602  
Option 3 ID : 4410093691601  
Option 4 ID : 4410093691599

Q.5 वाक्य विन्यास की दृष्टि से निम्न में से कौन-सा वाक्य शुद्ध है-

- Ans
- 1. अनुसार कोसांबी के सबसे अधिक स्वर्ण मुद्राएँ प्राप्त हुई हैं गुप्तकाल की।
  - 2. कोसांबी के अनुसार सबसे अधिक स्वर्ण मुद्राएँ हुई हैं प्राप्त गुप्तकाल की।
  - 3. कोसांबी के अनुसार गुप्तकाल की सबसे अधिक स्वर्ण मुद्राएँ प्राप्त हुई हैं।
  - 4. प्राप्त हुई हैं स्वर्ण मुद्राएँ सबसे अधिक गुप्तकाल की कोसांबी के अनुसार।

Question ID : 441009354662  
Option 1 ID : 4410091384890  
Option 2 ID : 4410091384889  
Option 3 ID : 4410091384888  
Option 4 ID : 4410091384891

Q.6 निम्न में से अतिरिक्त वाक्य पहचाने--

1. दिल्ली में कुतुबमीनार के साथ लौह स्तम्भ है।
2. यह लौह स्तम्भ भारतीय धातुकर्म की मिसाल है।
3. इसका निर्माण सम्भवतः चंद्रगुप्त विक्रमादित्य ने करवाया था।
4. स्तम्भ की ऊँचाई लगभग सात मीटर की है।
5. मीनार को लाल बलुआ पत्थर से बनाया गया है।

- Ans
- 1. 3
  - 2. 1
  - 3. 5
  - 4. 2

Question ID : 44100944985  
Option 1 ID : 441009179163  
Option 2 ID : 441009179161  
Option 3 ID : 441009179164  
Option 4 ID : 441009179162

Q.7 निम्नलिखित वाक्य को पूर्ण करने के लिए उचित परिमाणवाचक विशेषण का चयन करें-  
कवि ने \_\_\_\_\_ जीवन साहित्य को समर्पित कर दिया।

- Ans
- 1. साहित्यिक
  - 2. अपना
  - 3. पूरा
  - 4. एक

Question ID : 441009934470  
Option 1 ID : 4410093691612  
Option 2 ID : 4410093691614  
Option 3 ID : 4410093691611  
Option 4 ID : 4410093691613

Q.8 निम्नलिखित मुहावरों का कौन सा एक विकल्प-युग्म अशुद्ध है?

- Ans
- 1. गले का हार होना-अति प्रिय होना
  - 2. गहरा हाथ मारना-बहुत कुछ पा जाना
  - 3. गड़े मुरदे उखाड़ना-नई बात उजागर करना
  - 4. कान लगाना-ध्यान देकर सुनना

Question ID : 441009354446  
Option 1 ID : 4410091384026  
Option 2 ID : 4410091384027  
Option 3 ID : 4410091384024  
Option 4 ID : 4410091384025

Q.9 उचित विकल्प का चयन कर वाक्य को पूर्ण करें।  
आजकल बारिश बहुत ज़्यादा हो रही है। रेखांकित वाक्य \_\_\_\_\_ है।

- Ans
- 1. क्रिया विशेषण
  - 2. विधेय विशेषण
  - 3. प्रविशेषण
  - 4. गुणवाचक विशेषण

Question ID : 441009948308  
Option 1 ID : 4410093746738  
Option 2 ID : 4410093746740  
Option 3 ID : 4410093746739  
Option 4 ID : 4410093746737

Q.10 दिए गए प्रश्न में, विभिन्न खंडों में विभाजित एक कथन दिया गया है। एक सुसंगत कथन बनाने के लिए सभी खंडों को पुनर्व्यवस्थित करें।  
में जल्दी न (घ)/ चल रही थी (ख)/ उठ सका (ग)/ ठंडी हवा(ङ) / इसलिए (क)/।

- Ans
- 1. क ड घ ग ख
  - 2. क घ ड ग ख
  - 3. ड ख क घ ग
  - 4. क ख ग ड घ

Question ID : 441009381281  
Option 1 ID : 4410091490882  
Option 2 ID : 4410091490884  
Option 3 ID : 4410091490881  
Option 4 ID : 4410091490883

Q.11 'इतना सामान ..... रहेगा', इस वाक्य को पूर्ण करने के लिए उचित क्रिया-विशेषण चुनें -

- Ans
- 1. पर्याप्त
  - 2. अत्यधिक
  - 3. अत्यल्प
  - 4. लगभग

Question ID : 441009950766  
Option 1 ID : 4410093756465  
Option 2 ID : 4410093756466  
Option 3 ID : 4410093756467  
Option 4 ID : 4410093756468

Q.12 निम्नलिखित वाक्य खंड क्रम से लिखें।

1. के पास ले जाओ
2. से बहुत खराब
3. दादी की तबीयत कल
4. है, उन्हें डॉक्टर

Ans  1. 1432

2. 3214

3. 3241

4. 4213

Question ID : 441009354536

Option 1 ID : 4410091384386

Option 2 ID : 4410091384387

Option 3 ID : 4410091384384

Option 4 ID : 4410091384385

Q.13 निम्नलिखित वाक्य को शुद्ध करें।

पेड़ के पत्ते पीले लगे पतझड़ में होकर गिरने।

Ans  1. पत्ते में पेड़ पतझड़ के पीले होकर गिरने लगे।

2. पतझड़ होकर में पेड़ के पत्ते लगे पीले गिरने।

3. पत्ते पीले पतझड़ में होकर पेड़ के गिरने लगे।

4. पतझड़ में पेड़ के पत्ते पीले होकर गिरने लगे।

Question ID : 441009354645

Option 1 ID : 4410091384822

Option 2 ID : 4410091384821

Option 3 ID : 4410091384823

Option 4 ID : 4410091384820

Q.14 उचित विकल्प का चयन कर वाक्य को पूर्ण करें।

बंदना झा के यहाँ भोज है, आप यथासमय उपस्थित हो जाना। रेखांकित शब्द\_\_\_\_\_ है।

Ans  1. सर्वनामिक

2. गुणवाचक

3. क्रिया विशेषण

4. विशेष्य

Question ID : 441009948209

Option 1 ID : 4410093746340

Option 2 ID : 4410093746339

Option 3 ID : 4410093746337

Option 4 ID : 4410093746338

Q.15 निम्नलिखित विकल्पों में से एक भिन्न अतिरिक्त वाक्य का चयन करें।

- Ans
- 1. जो अपना कर्तव्य पालन करता है वह अपने कर्मों और वचनों में सत्यता भी रखता है
  - 2. वह सही समय पर उचित रूप से अच्छे कामों को करता है
  - 3. जिस भाषा से अनुवाद किया जा रहा है उसे स्रोत भाषा अथवा मूल भाषा कहते हैं
  - 4. कर्तव्य पालन और सत्यनिष्ठता में घनिष्ठ संबंध है

Question ID : 4410091096352

Option 1 ID : 4410094322798

Option 2 ID : 4410094322799

Option 3 ID : 4410094322800

Option 4 ID : 4410094322797

**Comprehension:**

इस गद्यांश को पढ़कर पूछे गए प्रश्नों के उत्तर चुनिए -

"जो हिंदी भारत में आज बोली जाती है, उसका साहित्यिक और प्रचलित नाम खड़ी बोली है। कुछ विद्वानों का मानना है कि उत्तर प्रदेश के आसपास के इलाके में यह बोली जाती थी और बिलकुल खरी-खरी बात कहने के कारण अथवा अक्खड़ भाषा होने के कारण संभवतः इसे खड़ी बोली कहा जाने लगा हो। स्थिति जो भी हो, परंतु आज भारत में यही खड़ी बोली बोली जाती है, जिसमें देशी-विदेशी दोनों प्रकार के शब्द व्यवहार में आते हैं। इसमें संस्कृत, प्राकृत, पालि, अपभ्रंश, राजस्थानी, ब्रज, अवधी, अंग्रेजी, फ्रेंच, उर्दू आदि भाषाओं के शब्दों का प्रयोग किया जाता है। यही संपर्क-भाषा भी कही जाती है। जो भाषा वैचारिक, सांस्कृतिक एवं भाषायिक स्तर पर जोड़ने का कार्य करे, उसे संपर्क-भाषा कहते हैं। भारत में हिंदी और अंतरराष्ट्रीय स्तर पर अंग्रेजी संपर्क-भाषा का काम कर रही है। भारत के अलग-अलग भाषा-भाषी प्रांतों के लोग जिस भाषा में एक-दूसरे से विचारों का आदान-प्रदान करते हैं, वह भी संपर्क-भाषा कहलाती है; जैसे - उत्तर भारत के निवासी दक्षिण, पश्चिम या पूर्वी भारत में जाकर एक-दूसरे से हिंदी भाषा में ही संपर्क स्थापित करते हैं।"

**SubQuestion No : 16**

Q.16 दिए गए गद्यांश के लिए सबसे उपयुक्त शीर्षक क्या हो सकता है?

- Ans
- 1. खड़ी बोली का महत्त्व
  - 2. भाषा का प्रसार
  - 3. भाषा का स्वरूप
  - 4. संपर्क भाषा की भूमिका

Question ID : 441009966344

Option 1 ID : 4410093818577

Option 2 ID : 4410093818579

Option 3 ID : 4410093818578

Option 4 ID : 4410093818576

**Comprehension:**

इस गद्यांश को पढ़कर पूछे गए प्रश्नों के उत्तर चुनिए -

"जो हिंदी भारत में आज बोली जाती है, उसका साहित्यिक और प्रचलित नाम खड़ी बोली है। कुछ विद्वानों का मानना है कि उत्तर प्रदेश के आसपास के इलाके में यह बोली जाती थी और बिलकुल खरी-खरी बात कहने के कारण अथवा अक्खड़ भाषा होने के कारण संभवतः इसे खड़ी बोली कहा जाने लगा हो। स्थिति जो भी हो, परंतु आज भारत में यही खड़ी बोली बोली जाती है, जिसमें देशी-विदेशी दोनों प्रकार के शब्द व्यवहार में आते हैं। इसमें संस्कृत, प्राकृत, पालि, अपभ्रंश, राजस्थानी, ब्रज, अवधी, अंग्रेजी, फ्रेंच, उर्दू आदि भाषाओं के शब्दों का प्रयोग किया जाता है। यही संपर्क-भाषा भी कही जाती है। जो भाषा वैचारिक, सांस्कृतिक एवं भाषायिक स्तर पर जोड़ने का कार्य करे, उसे संपर्क-भाषा कहते हैं। भारत में हिंदी और अंतरराष्ट्रीय स्तर पर अंग्रेजी संपर्क-भाषा का काम कर रही है। भारत के अलग-अलग भाषा-भाषी प्रांतों के लोग जिस भाषा में एक-दूसरे से विचारों का आदान-प्रदान करते हैं, वह भी संपर्क-भाषा कहलाती है; जैसे - उत्तर भारत के निवासी दक्षिण, पश्चिम या पूर्वी भारत में जाकर एक-दूसरे से हिंदी भाषा में ही संपर्क स्थापित करते हैं।"

**SubQuestion No : 17**

**Q.17 दिए गए गद्य की संरचना किस प्रकार की है?**

- Ans  1. वर्णनात्मक  
 2. प्रतीकात्मक  
 3. आलंकारिक  
 4. बिंबात्मक

Question ID : 441009966345  
Option 1 ID : 4410093818580  
Option 2 ID : 4410093818581  
Option 3 ID : 4410093818583  
Option 4 ID : 4410093818582

**Comprehension:**

इस गद्यांश को पढ़कर पूछे गए प्रश्नों के उत्तर चुनिए -

"जो हिंदी भारत में आज बोली जाती है, उसका साहित्यिक और प्रचलित नाम खड़ी बोली है। कुछ विद्वानों का मानना है कि उत्तर प्रदेश के आसपास के इलाके में यह बोली जाती थी और बिलकुल खरी-खरी बात कहने के कारण अथवा अक्खड़ भाषा होने के कारण संभवतः इसे खड़ी बोली कहा जाने लगा हो। स्थिति जो भी हो, परंतु आज भारत में यही खड़ी बोली बोली जाती है, जिसमें देशी-विदेशी दोनों प्रकार के शब्द व्यवहार में आते हैं। इसमें संस्कृत, प्राकृत, पालि, अपभ्रंश, राजस्थानी, ब्रज, अवधी, अंग्रेजी, फ्रेंच, उर्दू आदि भाषाओं के शब्दों का प्रयोग किया जाता है। यही संपर्क-भाषा भी कही जाती है। जो भाषा वैचारिक, सांस्कृतिक एवं भाषायिक स्तर पर जोड़ने का कार्य करे, उसे संपर्क-भाषा कहते हैं। भारत में हिंदी और अंतरराष्ट्रीय स्तर पर अंग्रेजी संपर्क-भाषा का काम कर रही है। भारत के अलग-अलग भाषा-भाषी प्रांतों के लोग जिस भाषा में एक-दूसरे से विचारों का आदान-प्रदान करते हैं, वह भी संपर्क-भाषा कहलाती है; जैसे - उत्तर भारत के निवासी दक्षिण, पश्चिम या पूर्वी भारत में जाकर एक-दूसरे से हिंदी भाषा में ही संपर्क स्थापित करते हैं।"

**SubQuestion No : 18**

**Q.18 भारत में कौन सी भाषा संपर्क भाषा के रूप में प्रयुक्त हो रही है?**

- Ans  1. संस्कृत  
 2. ब्रजभाषा  
 3. हिन्दी  
 4. अंग्रेजी

Question ID : 441009966346  
Option 1 ID : 4410093818586  
Option 2 ID : 4410093818587  
Option 3 ID : 4410093818585  
Option 4 ID : 4410093818584

**Comprehension:**

इस गद्यांश को पढ़कर पूछे गए प्रश्नों के उत्तर चुनिए -

"जो हिंदी भारत में आज बोली जाती है, उसका साहित्यिक और प्रचलित नाम खड़ी बोली है। कुछ विद्वानों का मानना है कि उत्तर प्रदेश के आसपास के इलाके में यह बोली जाती थी और बिलकुल खरी-खरी बात कहने के कारण अथवा अक्खड़ भाषा होने के कारण संभवतः इसे खड़ी बोली कहा जाने लगा हो। स्थिति जो भी हो, परंतु आज भारत में यही खड़ी बोली बोली जाती है, जिसमें देशी-विदेशी दोनों प्रकार के शब्द व्यवहार में आते हैं। इसमें संस्कृत, प्राकृत, पालि, अपभ्रंश, राजस्थानी, ब्रज, अवधी, अंग्रेजी, फ्रेंच, उर्दू आदि भाषाओं के शब्दों का प्रयोग किया जाता है। यही संपर्क-भाषा भी कही जाती है। जो भाषा वैचारिक, सांस्कृतिक एवं भाषायिक स्तर पर जोड़ने का कार्य करे, उसे संपर्क-भाषा कहते हैं। भारत में हिंदी और अंतरराष्ट्रीय स्तर पर अंग्रेजी संपर्क-भाषा का काम कर रही है। भारत के अलग-अलग भाषा-भाषी प्रांतों के लोग जिस भाषा में एक-दूसरे से विचारों का आदान-प्रदान करते हैं, वह भी संपर्क-भाषा कहलाती है; जैसे - उत्तर भारत के निवासी दक्षिण, पश्चिम या पूर्वी भारत में जाकर एक-दूसरे से हिंदी भाषा में ही संपर्क स्थापित करते हैं।"

**SubQuestion No : 19**

Q.19 गद्यांश में प्रयुक्त 'आदान' शब्द का विलोम क्या है?

- Ans
- 1. सम्प्रदान
  - 2. प्रदान
  - 3. उपादान
  - 4. प्रतिदान

Question ID : 441009966347  
Option 1 ID : 4410093818589  
Option 2 ID : 4410093818588  
Option 3 ID : 4410093818590  
Option 4 ID : 4410093818591

**Comprehension:**

इस गद्यांश को पढ़कर पूछे गए प्रश्नों के उत्तर चुनिए -

"जो हिंदी भारत में आज बोली जाती है, उसका साहित्यिक और प्रचलित नाम खड़ी बोली है। कुछ विद्वानों का मानना है कि उत्तर प्रदेश के आसपास के इलाके में यह बोली जाती थी और बिलकुल खरी-खरी बात कहने के कारण अथवा अक्खड़ भाषा होने के कारण संभवतः इसे खड़ी बोली कहा जाने लगा हो। स्थिति जो भी हो, परंतु आज भारत में यही खड़ी बोली बोली जाती है, जिसमें देशी-विदेशी दोनों प्रकार के शब्द व्यवहार में आते हैं। इसमें संस्कृत, प्राकृत, पालि, अपभ्रंश, राजस्थानी, ब्रज, अवधी, अंग्रेजी, फ्रेंच, उर्दू आदि भाषाओं के शब्दों का प्रयोग किया जाता है। यही संपर्क-भाषा भी कही जाती है। जो भाषा वैचारिक, सांस्कृतिक एवं भाषायिक स्तर पर जोड़ने का कार्य करे, उसे संपर्क-भाषा कहते हैं। भारत में हिंदी और अंतरराष्ट्रीय स्तर पर अंग्रेजी संपर्क-भाषा का काम कर रही है। भारत के अलग-अलग भाषा-भाषी प्रांतों के लोग जिस भाषा में एक-दूसरे से विचारों का आदान-प्रदान करते हैं, वह भी संपर्क-भाषा कहलाती है; जैसे - उत्तर भारत के निवासी दक्षिण, पश्चिम या पूर्वी भारत में जाकर एक-दूसरे से हिंदी भाषा में ही संपर्क स्थापित करते हैं।"

**SubQuestion No : 20**

Q.20 खड़ी बोली के सम्बन्ध में कौन सा विकल्प असत्य है?

- Ans
- 1. खड़ी बोली में बहुत सी भाषाओं के शब्द हैं।
  - 2. खड़ी बोली ही आज हिन्दी का आधार है।
  - 3. खड़ी बोली अक्खड़ है।
  - 4. खड़ी बोली मधुर है।

Question ID : 441009966348  
Option 1 ID : 4410093818595  
Option 2 ID : 4410093818594  
Option 3 ID : 4410093818593  
Option 4 ID : 4410093818592

Q.1 दिए गए विकल्पों में से कौन-सा विकल्प 'ऋण' शब्द के अनेक अर्थों में से एक नहीं है?

- Ans
- 1. घटाने का चिह्न
  - 2. कर्ज
  - 3. उपकार
  - 4. धातु

Question ID : 441009354331  
Option 1 ID : 4410091383567  
Option 2 ID : 4410091383564  
Option 3 ID : 4410091383566  
Option 4 ID : 4410091383565

Q.2 'एक आँख से देखना' मुहावरे का सही अर्थ क्या है ?

- Ans
- 1. सबको बराबर समझना
  - 2. कम दिखाई देना
  - 3. चालाकी करना
  - 4. भेद करना

Question ID : 441009354436  
Option 1 ID : 4410091383984  
Option 2 ID : 4410091383986  
Option 3 ID : 4410091383987  
Option 4 ID : 4410091383985

Q.3 'खेत खाय गदहा, मार खाय जोलहा' लोकोक्ति का अर्थ निम्न में से है--

- Ans
- 1. गुस्सेवाला व्यक्ति दूसरों पर अपना गुस्सा निकालता है
  - 2. अपराध किसी का दंड किसी को
  - 3. गदहे के खेत खाने पर जुलाहे को मार पड़ती है
  - 4. नौकर के अपराध का दंड मालिक भुगतता है

Question ID : 441009354200  
Option 1 ID : 4410091383043  
Option 2 ID : 4410091383041  
Option 3 ID : 4410091383040  
Option 4 ID : 4410091383042

Q.4 निम्न वाक्य को शुद्ध कीजिए।

मुफ्त की चीज़ जैसी भी हो सभी को अच्छी लगती है।

- Ans
- 1. मुफ्त की चीज जैसी भी हो सभी को अच्छी लगती है।
  - 2. मुफ्त की चीज जैसी भी हो सभी को अच्छि लगती है।
  - 3. मुफ्त की चीज़ जैसी भी हो सभी को अच्छी लगती है।
  - 4. मुफत की चीज जैसी भी हो सभी को अच्छी लगती है।

Question ID : 441009683190  
Option 1 ID : 4410092686740  
Option 2 ID : 4410092686738  
Option 3 ID : 4410092686739  
Option 4 ID : 4410092686737

Q.5 नीचे दिए गए विकल्पों में से 'सज्जन' के पर्यायवाची शब्द का चयन करें।

- Ans
- 1. पल्लव
  - 2. मुखिया
  - 3. महाशय
  - 4. पुष्पासव

Question ID : 441009683014  
Option 1 ID : 4410092686034  
Option 2 ID : 4410092686036  
Option 3 ID : 4410092686033  
Option 4 ID : 4410092686035

Q.6 दिये गए वाक्य के रेखांकित शब्द का सबसे उपयुक्त विलोम शब्द चुनिए -

दुर्घटना देखकर सभी यात्रियों को अनायास मूर्छा आने लगी।

- Ans
- 1. आभास
  - 2. आयस
  - 3. सायास
  - 4. विपर्यास

Question ID : 441009354046  
Option 1 ID : 4410091382424  
Option 2 ID : 4410091382426  
Option 3 ID : 4410091382425  
Option 4 ID : 4410091382427

Q.7 दिए गए विकल्पों में से कौन-सा शब्द तत्सम शब्द नहीं है?

- Ans
- 1. अग्नि
  - 2. गाय
  - 3. कूप
  - 4. अमृत

Question ID : 441009354333  
Option 1 ID : 4410091383574  
Option 2 ID : 4410091383573  
Option 3 ID : 4410091383575  
Option 4 ID : 4410091383572

Q.8 निम्नलिखित में से कौन सा शब्द तद्भव नहीं है -

- Ans
- 1. तलवार
  - 2. झरना
  - 3. डंक
  - 4. दाह

Question ID : 441009354360  
Option 1 ID : 4410091383681  
Option 2 ID : 4410091383680  
Option 3 ID : 4410091383683  
Option 4 ID : 4410091383682

Q.9 दिए गए वाक्य के किस भाग में त्रुटि है। अशुद्ध वर्तनी के विकल्प का चयन करें।  
इस बार परीक्षा में बहुत अधिक अभ्यर्थी आ गये थे।

- Ans
- 1. इस बार
  - 2. अभ्यर्थी
  - 3. बहुत अधिक
  - 4. परीक्षा

Question ID : 441009354310  
Option 1 ID : 4410091383480  
Option 2 ID : 4410091383483  
Option 3 ID : 4410091383482  
Option 4 ID : 4410091383481

Q.10 यहाँ मीठे पानी का एक कूआँ है।  
दिए गए वाक्य के किस शब्द में वर्तनी संबंधी अशुद्धि है- -

- Ans
- 1. मीठे
  - 2. यहाँ
  - 3. कूआँ
  - 4. पानी का

Question ID : 441009354390  
Option 1 ID : 4410091383801  
Option 2 ID : 4410091383800  
Option 3 ID : 4410091383803  
Option 4 ID : 4410091383802

Q.11 निम्नलिखित वाक्य के किस भाग में त्रुटि है ?-  
'वह शहर से कपण लाकर बेचता है'

- Ans
- 1. वह शहर
  - 2. बेचता है
  - 3. से कपण
  - 4. लाकर

Question ID : 441009354185  
Option 1 ID : 4410091382980  
Option 2 ID : 4410091382983  
Option 3 ID : 4410091382981  
Option 4 ID : 4410091382982

Q.12 'अंतर पट खुलना' मुहावरे का अर्थ है

- Ans
- 1. प्रशंसा करना
  - 2. ज्ञान प्राप्त करना
  - 3. अपमानित करना
  - 4. भेद खोलना

Question ID : 441009354230  
Option 1 ID : 4410091383160  
Option 2 ID : 4410091383162  
Option 3 ID : 4410091383163  
Option 4 ID : 4410091383161

Q.13 निम्नलिखित में से कौन सा शब्द 'मूंगा' का पर्यायवाची नहीं है ?

- Ans
- 1. प्रवाल
  - 2. विद्रुम
  - 3. सीपिज
  - 4. अंगारकमणि

Question ID : 441009354273  
Option 1 ID : 4410091383332  
Option 2 ID : 4410091383334  
Option 3 ID : 4410091383333  
Option 4 ID : 4410091383335

Q.14 'कपोत' का पर्यायवाची है -

- Ans
- 1. शुक
  - 2. रक्तलोचन
  - 3. कल्पवृक्ष
  - 4. मयूख

Question ID : 441009354372  
Option 1 ID : 4410091383731  
Option 2 ID : 4410091383729  
Option 3 ID : 4410091383730  
Option 4 ID : 4410091383728

Q.15 'अक्षत' का अर्थ नहीं है

- Ans
- 1. समूचा
  - 2. निर्विघ्न
  - 3. बिना घाव
  - 4. कच्चा चावल

Question ID : 441009354216  
Option 1 ID : 4410091383104  
Option 2 ID : 4410091383107  
Option 3 ID : 4410091383106  
Option 4 ID : 4410091383105

**Comprehension:**

नीचे दिए गए गद्यांश के आधार पर निम्नांकित प्रश्नों के उत्तर दीजिए-

साहस की जिंदगी सबसे बड़ी जिन्दगी होती है। ऐसी जिन्दगी की सबसे बड़ी पहचान यह है कि यह बिल्कुल निडर और बेखौफ होती है। साहसी मनुष्य की पहली पहचान यह है कि वह इस बात की चिन्ता नहीं करता कि तमाशा देखने वाले लोग उसके बारे में क्या सोच रहे हैं। जनमत की उपेक्षा करके जीने वाला आदमी दुनिया की असली ताकत होता है और मनुष्यता को प्रकाश भी उसी आदमी से मिलता है। अड़ोस - पड़ोस को देखकर चलना, यह साधारण जीव का काम है। क्रांति करने वाले लोग अपने उद्देश्य की तुलना न तो पड़ोसी के उद्देश्य से करते हैं, और न अपनी चाल को पड़ोसी की चाल देखकर मद्धिम बनाते हैं। साहसी मनुष्य उन सपनों में भी रस लेता है, जिन सपनों का कोई व्यवहारिक अर्थ नहीं है। साहसी मनुष्य सपने उधार नहीं लेता वह अपने विचारों में रमा हुआ अपनी ही किताब पढ़ता है। झुंड में चलना और झुंड में चरना, यह भैंस और भेड़ का काम है। सिंह तो बिल्कुल अकेला होने पर भी मगन रहता है। अर्नाल्ड बेनेट ने एक जगह लिखा है कि जो आदमी यह महसूस करता है कि किसी महान निश्चय के समय वह साहस से काम नहीं ले सका, जिन्दगी की चुनौती को कबूल नहीं कर सका, वह सुखी नहीं हो सकता

**SubQuestion No : 16**

**Q.16 साहस की जिन्दगी की सबसे बड़ी पहचान क्या है?**

- Ans
- 1. वह बेकार होती है
  - 2. वह निर्मम होती है
  - 3. वह निष्पाप व निडर होती है
  - 4. वह निडर तथा बेखौफ होती है

Question ID : 441009365130  
Option 1 ID : 4410091426696  
Option 2 ID : 4410091426695  
Option 3 ID : 4410091426694  
Option 4 ID : 4410091426697

**Comprehension:**

नीचे दिए गए गद्यांश के आधार पर निम्नांकित प्रश्नों के उत्तर दीजिए-

साहस की जिंदगी सबसे बड़ी जिन्दगी होती है। ऐसी जिन्दगी की सबसे बड़ी पहचान यह है कि यह बिल्कुल निडर और बेखौफ होती है। साहसी मनुष्य की पहली पहचान यह है कि वह इस बात की चिन्ता नहीं करता कि तमाशा देखने वाले लोग उसके बारे में क्या सोच रहे हैं। जनमत की उपेक्षा करके जीने वाला आदमी दुनिया की असली ताकत होता है और मनुष्यता को प्रकाश भी उसी आदमी से मिलता है। अड़ोस - पड़ोस को देखकर चलना, यह साधारण जीव का काम है। क्रांति करने वाले लोग अपने उद्देश्य की तुलना न तो पड़ोसी के उद्देश्य से करते हैं, और न अपनी चाल को पड़ोसी की चाल देखकर मद्धिम बनाते हैं। साहसी मनुष्य उन सपनों में भी रस लेता है, जिन सपनों का कोई व्यवहारिक अर्थ नहीं है। साहसी मनुष्य सपने उधार नहीं लेता वह अपने विचारों में रमा हुआ अपनी ही किताब पढ़ता है। झुंड में चलना और झुंड में चरना, यह भैंस और भेड़ का काम है। सिंह तो बिल्कुल अकेला होने पर भी मगन रहता है। अर्नाल्ड बेनेट ने एक जगह लिखा है कि जो आदमी यह महसूस करता है कि किसी महान निश्चय के समय वह साहस से काम नहीं ले सका, जिन्दगी की चुनौती को कबूल नहीं कर सका, वह सुखी नहीं हो सकता

**SubQuestion No : 17**

**Q.17 झुंड में चरना और चलना किसका काम है?**

- Ans
- 1. भैंस और भेड़ का
  - 2. हाथी और भैंस का
  - 3. शेर और बाघ का
  - 4. भैंस और गाय का

Question ID : 441009365133  
Option 1 ID : 4410091426708  
Option 2 ID : 4410091426707  
Option 3 ID : 4410091426706  
Option 4 ID : 4410091426709

**Comprehension:**

नीचे दिए गए गद्यांश के आधार पर निम्नांकित प्रश्नों के उत्तर दीजिए-

साहस की जिंदगी सबसे बड़ी जिन्दगी होती है। ऐसी जिन्दगी की सबसे बड़ी पहचान यह है कि यह बिल्कुल निडर और बेखौफ़ होती है। साहसी मनुष्य की पहली पहचान यह है कि वह इस बात की चिन्ता नहीं करता कि तमाशा देखने वाले लोग उसके बारे में क्या सोच रहे हैं। जनमत की उपेक्षा करके जीने वाला आदमी दुनिया की असली ताकत होता है और मनुष्यता को प्रकाश भी उसी आदमी से मिलता है। अड़ोस - पड़ोस को देखकर चलना, यह साधारण जीव का काम है। क्रांति करने वाले लोग अपने उद्देश्य की तुलना न तो पड़ोसी के उद्देश्य से करते हैं, और न अपनी चाल को पड़ोसी की चाल देखकर मद्धिम बनाते हैं। साहसी मनुष्य उन सपनों में भी रस लेता है, जिन सपनों का कोई व्यवहारिक अर्थ नहीं है। साहसी मनुष्य सपने उधार नहीं लेता वह अपने विचारों में रमा हुआ अपनी ही किताब पढ़ता है। झुंड में चलना और झुंड में चरना, यह भैंस और भेड़ का काम है। सिंह तो बिल्कुल अकेला होने पर भी मगन रहता है। अर्नाल्ड बेनेट ने एक जगह लिखा है कि जो आदमी यह महसूस करता है कि किसी महान निश्चय के समय वह साहस से काम नहीं ले सका, जिन्दगी की चुनौती को कबूल नहीं कर सका, वह सुखी नहीं हो सकता

**SubQuestion No : 18**

**Q.18 दुनिया की वास्तविक शक्ति कौन होता है?**

- Ans  1. लोगों की परवाह न करने वाला  
 2. लोगों के वोट से जीता हुआ व्यक्ति।  
 3. दुनिया को साथ लेकर चलने वाला।  
 4. लोगों से डर के चलना

Question ID : 441009365132  
Option 1 ID : 4410091426702  
Option 2 ID : 4410091426704  
Option 3 ID : 4410091426703  
Option 4 ID : 4410091426705

**Comprehension:**

नीचे दिए गए गद्यांश के आधार पर निम्नांकित प्रश्नों के उत्तर दीजिए-

साहस की जिंदगी सबसे बड़ी जिन्दगी होती है। ऐसी जिन्दगी की सबसे बड़ी पहचान यह है कि यह बिल्कुल निडर और बेखौफ़ होती है। साहसी मनुष्य की पहली पहचान यह है कि वह इस बात की चिन्ता नहीं करता कि तमाशा देखने वाले लोग उसके बारे में क्या सोच रहे हैं। जनमत की उपेक्षा करके जीने वाला आदमी दुनिया की असली ताकत होता है और मनुष्यता को प्रकाश भी उसी आदमी से मिलता है। अड़ोस - पड़ोस को देखकर चलना, यह साधारण जीव का काम है। क्रांति करने वाले लोग अपने उद्देश्य की तुलना न तो पड़ोसी के उद्देश्य से करते हैं, और न अपनी चाल को पड़ोसी की चाल देखकर मद्धिम बनाते हैं। साहसी मनुष्य उन सपनों में भी रस लेता है, जिन सपनों का कोई व्यवहारिक अर्थ नहीं है। साहसी मनुष्य सपने उधार नहीं लेता वह अपने विचारों में रमा हुआ अपनी ही किताब पढ़ता है। झुंड में चलना और झुंड में चरना, यह भैंस और भेड़ का काम है। सिंह तो बिल्कुल अकेला होने पर भी मगन रहता है। अर्नाल्ड बेनेट ने एक जगह लिखा है कि जो आदमी यह महसूस करता है कि किसी महान निश्चय के समय वह साहस से काम नहीं ले सका, जिन्दगी की चुनौती को कबूल नहीं कर सका, वह सुखी नहीं हो सकता

**SubQuestion No : 19**

**Q.19 गद्यांश के अनुसार साहसी मनुष्य किन सपनों में भी रस ले लेता है?**

- Ans  1. जिन सपनों का कोई व्यवहारिक अर्थ नहीं  
 2. जिन कर्मों में डर है।  
 3. जो बेखौफ़ है।  
 4. जिन कार्यों का कोई मूल्य नहीं

Question ID : 441009365134  
Option 1 ID : 4410091426710  
Option 2 ID : 4410091426711  
Option 3 ID : 4410091426713  
Option 4 ID : 4410091426712

**Comprehension:**

नीचे दिए गए गद्यांश के आधार पर निम्नांकित प्रश्नों के उत्तर दीजिए-

साहस की जिंदगी सबसे बड़ी जिन्दगी होती है। ऐसी जिन्दगी की सबसे बड़ी पहचान यह है कि यह बिल्कुल निडर और बेखौफ़ होती है। साहसी मनुष्य की पहली पहचान यह है कि वह इस बात की चिन्ता नहीं करता कि तमाशा देखने वाले लोग उसके बारे में क्या सोच रहे हैं। जनमत की उपेक्षा करके जीने वाला आदमी दुनिया की असली ताकत होता है और मनुष्यता को प्रकाश भी उसी आदमी से मिलता है। अड़ोस - पड़ोस को देखकर चलना, यह साधारण जीव का काम है। क्रांति करने वाले लोग अपने उद्देश्य की तुलना न तो पड़ोसी के उद्देश्य से करते हैं, और न अपनी चाल को पड़ोसी की चाल देखकर मद्धिम बनाते हैं। साहसी मनुष्य उन सपनों में भी रस लेता है, जिन सपनों का कोई व्यवहारिक अर्थ नहीं है। साहसी मनुष्य सपने उधार नहीं लेता वह अपने विचारों में रमा हुआ अपनी ही किताब पढ़ता है। झुंड में चलना और झुंड में चरना, यह भैंस और भेड़ का काम है। सिंह तो बिल्कुल अकेला होने पर भी मगन रहता है। अर्नाल्ड बेनेट ने एक जगह लिखा है कि जो आदमी यह महसूस करता है कि किसी महान निश्चय के समय वह साहस से काम नहीं ले सका, जिन्दगी की चुनौती को कबूल नहीं कर सका, वह सुखी नहीं हो सकता

**SubQuestion No : 20**

Q.20 'जनमत की उपेक्षा' से लेखक का क्या तात्पर्य है?

- Ans
- 1. लोगों की सहमति से चलना
  - 2. लोगों से वोट की उम्मीद करना
  - 3. लोगों की राय की परवाह न करना
  - 4. लोगों से डर के चलना

Question ID : 441009365131  
Option 1 ID : 4410091426699  
Option 2 ID : 4410091426698  
Option 3 ID : 4410091426700  
Option 4 ID : 4410091426701

**DSSSB , KVS, CTET, EMRS, NVS , BPSC , RPSC , UPTET , AEES , AWES , CHANDIGRAH , ALL STATE TETs EXAM & Other Departments Related NTT PRT TGT & PGT सभी Teaching Jobs और Others Non-Teaching Govt. Jobs की Updates & FREE NOTES प्राप्त कर सकते हैं . Follow us on social media -**

**FOR ALL TEACHING EXAM UPDATES & PDF - <https://t.me/Teachingexam>**

**FOR KVS NVS EMRS UPDATE & FREE NOTES - <https://t.me/forKVSexam>**

**CTET & All STATE TET EXAM- <https://t.me/CTETEXAM2024PREPARATION>**

**JOIN WHATSAPP CHANNEL FOR EVERY UPDATE LINK - <https://whatsapp.com/channel/0029Va8gvx7Fy72BDgJYIf1V>**

**CLICK HERE TO JOIN FOR FREE NOTES & PDF -**



**FOR - ALL TEACHING EXAM**

**CTET & STATE TETs**



**FOR - NVS**

**EMRS**

**KVS**



**DSSSB PREVIOUS YEAR PAPER - CLICK HERE**

**DSSSB , KVS, CTET, EMRS, NVS , BPSC , RPSC , UPTET , AEES , AWES , CHANDIGRAH , ALL STATE TETs EXAM & Other Departments Related NTT PRT TGT & PGT सभी Teaching Jobs और Others Non-Teaching Govt. Jobs की Updates प्राप्त कर सकते हैं . JOIN for FREE NOTES & PDF.**



**JOIN WHATSAPP CHANNEL - CLICK HERE**  
Telegram - @TeachingExam

